

지학사 초등 사회 교과서 맞춤 학습서

쑥쑥 활동 풀이집

초등 사회 6-1

알찬 활동 풀이 + 평가 문제로 학습력 향상



쑥쑥 활동

풀이집

초등 사회 6-1

1 평화 통일을 위한 노력, 민주화와 산업화

주제	공부할 내용
① 평화 통일을 위한 노력	단원 시작하기 / 스스로 계획해요
	생각을 열어요 / 분단으로 나타난 문제점을 알아볼까요
	전쟁이나 분단과 관련된 장소를 평화의 장소로 만들려는 노력을 알아볼까요
	남북통일은 어떻게 이루어야 할까요
	평화 통일을 이루기 위한 다양한 노력을 알아볼까요 / 주제 마무리
② 민주화와 산업화로 달라진 생활 문화	생각을 열어요 / 우리나라의 민주화를 위하여 노력한 사람들의 모습을 알아볼까요
	민주화로 달라진 우리 사회의 모습을 살펴볼까요
	우리나라의 산업화는 어떻게 이루어졌을까요
	산업화로 달라진 생활 문화를 알아볼까요 / 주제 마무리
단원 마무리	정리 콕콕 / 역량 쑥쑥

단원 시작하기

1

평화 통일을 위한 노력, 민주화와 산업화

1 평화 통일을 위한 노력
분단으로 나타난 문제점과 평화 통일을 위하여 우리가 할 수 있는 일을 탐색해 볼까요?

2 민주화와 산업화로 달라진 생활 문화
민주화와 산업화로 달라진 생활 문화를 알아볼까요?

▶ 양산의 평화누리 공원(경기도 파주시)

▶ **스스로 계획해요**

* 아는 단어에 / 표를 하고, 공부하고 싶은 내용을 써 봅시다.

○ 분단 ○ 평화 ○ 통일 ○ 민주화 ○ 산업화 ○ 생활 문화



- 아는 단어에 √표를 하고, 공부하고 싶은 내용을 써 봅시다.
- 분단 ✓ 평화 ✓ 통일 ○ 민주화 ○ 산업화 ○ 생활 문화

예시

평화 통일을 이루기 위하여 남한과 북한이 무슨 노력을 하고 있는지 알아보고 싶습니다.

① 평화 통일을 위한 노력



하나가 된 코리아 팀

1991년 세계 탁구 선수권 대회에 코리아(Korea) 팀이 등장하였습니다. 분단 이후 남한과 북한이 처음으로 단일팀을 꾸려 국제 대회에 나갔던 것입니다. 여자 단체전 결승에 오른 코리아 팀은 우승 후보였던 중국 팀과의 열띤 경기 끝에 우승하였습니다. 시상식에서는 아리랑이 울려 퍼졌고, 한반도기가 걸렸습니다.



시상대에 오른 남북 단일팀 선수들은 어떤 기분이 들었는지 이야기해 봅시다.

예시

남과 북이 힘을 모아 이루어 낸 결과에 가슴이 벅차올랐을 것 같습니다.

1 분단으로 나타난 문제점을 알아보까요



분단으로 사람들이 겪는 어려움 탐구하기

◎ ㉠과 ㉡를 보고 분단으로 사람들이 겪는 어려움을 짚과 함께 이야기해 봅시다.

<p>가</p> <p>이산가족 찾기 신청자</p> <p>생존자 39,593명 (30%)</p> <p>전체 133,984명</p> <p>- 『통일 백서』 2024</p>	<p>1988년부터 2023년까지 통일부에 등록된 이산가족 생존자 중 80세 이상인 사람들이 약 65 %이다. 분단 이후 70년이 넘는 동안 가족을 만나지 못하고 죽는 사람들이 점차 늘고 있다.</p> <p>2021년에 정부가 이산가족들에게 어떤 정책이 필요한지 물었다. 1위로 꼽힌 정책은 북한에 있는 가족이 살아 있는지, 죽었는지를 확인할 수 있는 제도였다.</p>
<p>나</p> <p>비무장 지대의 남방 한계선 남쪽에는 민간인 통제선(민통선)이 있다. 비무장 지대 밖이지만, 군사 분계선과 가까운 곳이므로 민간인이 드나드는 것을 통제하고자 만든 선이다.</p> <p>이곳에는 특별한 허가를 받아 만들어진 마을들이 있다. 다만 민간인이 통제선 안쪽에 있는 마을로 들어가려면, 이곳을 지키는 군 부대장의 허가와 군인의 검문을 받아야 한다.</p>	<p>▲ 민간인 통제선에서 차량을 검문하는 군인</p>

예시

남북을 자유롭게 오고 갈 수 없습니다.



- 1953년에 정전 협정을 맺은 뒤, 남북한은 오늘날까지 분단 상태를 유지하고 있다. (, X)
- 분단 이후 남북한에 흩어진 (이산가족)이 자유롭게 만나지 못하고 있다.

2

전쟁이나 분단과 관련된 장소를 평화의 장소로 만들려는 노력을 알아볼까요

활동해요

◎ 사람들이 노근리 평화 공원을 찾는 까닭이 무엇일지 이야기해 봅시다.

예시


역사적 비극과 희생자의 아픔을 잊지 않기 위해서입니다.

활동해요

전쟁이나 분단과 관련된 장소를 평화의 장소로 만들어 보기

◎ 6·25 전쟁이나 분단과 관련된 장소를 답사(조사)해 보고, 이 장소를 평화의 장소로 만들 수 있는 방법을 생각해 봅시다.

예시

장소	한강 대교
관련 있는 사건	6·25 전쟁이 일어나고 3일 뒤, 정부가 북한군의 침입을 막으려고 한강의 여러 다리를 폭파하였다.
남아 있는 전쟁이나 분단의 흔적	 <p>한강 대교 아래에 6·25 전쟁 때 생긴 총탄 자국이 남아 있다.</p>
평화의 장소로 만들 수 있는 방법	<ul style="list-style-type: none"> • 평화를 바라는 마음을 담아 한강 대교의 새로운 이름을 만들어 본다. • 한강 대교가 지나는 노들섬에서 6·25 전쟁 때 희생되었던 사람들을 기리는 평화 음악회를 연다.
느낀 점	평화의 소중함을 느꼈고, 다시는 전쟁이 일어나지 않으면 좋겠다는 생각이 들었다.

확인해요

- 전쟁과 분단의 아픔이 남아 있는 장소를 (**평화**)의 장소로 바꾸려는 노력이 이어지고 있다.
- 임진각 관광지에는 북한 땅에 고향이 있는 사람들이 모여 제사를 지내는 공간이 있어 분단의 아픔을 느낄 수 있다. (X)

3 남북통일은 어떻게 이루어야 할까요



바람직한 남북통일 방식 생각해 보기

1. 독일, 베트남, 예멘의 통일 방식과 통일 이후 각 나라에서 나타난 문제점을 써 봅시다.

예시

독일	<ul style="list-style-type: none"> • 통일 방식: 교류와 협력 방법을 논의하며 통일의 기반을 다졌으나, 동독 정부의 몰락으로 갑작스럽게 통일을 맞이하였습니다. • 통일 이후 나타난 문제점: 과거 동독과 서독 사람들 사이에 경제적 차이가 좁혀지지 않습니다.
베트남	<ul style="list-style-type: none"> • 통일 방식: 전쟁을 하여서 통일을 이루었습니다. • 통일 이후 나타난 문제점: 베트남 정부는 과거 남베트남 사람들이 북베트남 체제를 받아들일도록 강제로 교육하기도 하였습니다.
예멘	<ul style="list-style-type: none"> • 통일 방식: 첫 번째 통일은 남북 정상 합의로 이루었으나, 두 번째 통일은 전쟁으로 이루었습니다. • 통일 이후 나타난 문제점: 국민들 사이에 갈등이 계속되고 있습니다.

2. 자료를 읽고 우리나라가 지향하는 통일 방식을 찾아 ○표를 해 봅시다.

대한민국 헌법(1987. 10. 29. 개정)

제4조 대한민국은 통일을 지향하며, 자유민주적 기본 질서에 입각한 **평화적**

통일 정책을 수립하고 이를 추진한다.

제66조 ③ 대통령은 조국의 **평화적 통일**을 위한 성실한 의무를 진다.

3. 1~2를 참고하여 남북통일 과정에서 준비하거나 고려해야 할 점을 이야기해 봅시다.

예시

남북통일을 어떻게 이룰 것인지에 관하여 남북한 사람들이 충분히 대화하고 합의하여야 합니다.

확인
해요

- 다른 나라의 통일 사례는 남북통일에 도움이 되지 않는다. (○ X)
- 우리나라 헌법에서는 (**평화 통일**)을/를 지향하고 있다.

4

평화 통일을 이루기 위한 다양한 노력을 알아볼까요



평화 통일을 위한 초등학생들의 활동 조사하기

- ◎ 평화 통일을 바라는 마음으로 다양한 활동을 하는 초등학생들의 사례를 모둠 친구들과 함께 조사해 봅시다.

예시

기사 제목과 출처	세종시 교육청, '초등 평화 통일 이야기 한마당' 개최 - 『충청일보』, 2023. 11. 26.
기사 내용	2023 초등 평화 통일 이야기 한마당에서 ○○ 초등학교 1학년 학생들은 '내가 생각하는 평화란 무엇인지에 대하여 이야기 나누는 뮤지컬 공연'을 선보였다. △△ 초등학교 2학년 학생들은 평화를 사랑하는 마음을 담아 중창 무대를 펼쳤다.
초등학생들의 활동이 평화 통일을 이루는데 주는 도움	우리 사회에 통일에 관한 다양한 관점과 생각이 있음을 이해하는 데 도움이 된다. 나아가 우리가 어른이 되어 남북통일을 준비하는 과정에서나 남북통일이 된 후 문제가 생겼을 때 합리적인 해결 방안을 제시하는 데 도움이 될 수 있다.

확인
해요

- 남북한은 평화 통일의 기반을 다지고자 다양한 분야에서 (교류)과/와 협력을 이어나가고 있다.
- 남북한이 서로 (대립, 존중)하는 태도로 통일을 준비한다면 평화 통일을 맞이할 수 있다.

주제 마무리

◎ O, X 문제를 풀어서 평화 통일 기차 승차권의 빈칸을 채워 봅시다.

The illustration shows a blue and white high-speed train on tracks. In the foreground, two children are holding a pink train ticket. To the right, a yellow sign contains five O/X questions and their corresponding answers in a table format.

❶ 남북이 분단되었지만 남북한 사회의 모습은 차이가 없다.	<input type="radio"/> O	부산
	<input checked="" type="radio"/> X	서울
❷ 오늘날에는 분단과 관련된 장소를 평화의 장소로 바꾸고자 노력한다.	<input type="radio"/> O	개성
	<input checked="" type="radio"/> X	평양
❸ 우리나라 헌법에서는 평화 통일을 지향하고 있다.	<input type="radio"/> O	베를린
	<input checked="" type="radio"/> X	모스크바
❹ 분단 이후 남북한은 사회, 문화 분야에서 교류하지 않는다.	<input type="radio"/> O	2
	<input checked="" type="radio"/> X	6
❺ 평화 통일을 이루기 위하여 어린이가 실천할 수 있는 일은 없다.	<input type="radio"/> O	3A
	<input checked="" type="radio"/> X	5D

평화 통일 기차 승차권			
출발	서울	좌석 번호	
경유	개성	6	승차
도착	베를린	5D	승선

☆ 스스로 점검해요

• 분단으로 나타난 문제점을 알고 있나요?	<input type="checkbox"/> <input type="checkbox"/> <input type="checkbox"/>
• 전쟁이나 분단과 관련된 장소를 평화의 장소로 만드는 방법을 소개할 수 있나요?	<input type="checkbox"/> <input type="checkbox"/> <input type="checkbox"/>
• 평화 통일을 위하여 내가 할 수 있는 일을 실천하려는 마음을 가지게 되었나요?	<input type="checkbox"/> <input type="checkbox"/> <input type="checkbox"/>

② 민주화와 산업화로 달라진 생활 문화



한강의 기적

우리나라는 6.25 전쟁을 겪으며 온 국토가 폐허가 되었고, 매우 가난해져 다른 나라들로부터 도움을 받아야 했습니다. 그러나 정부, 기업, 노동자의 노력과 끈기를 바탕으로 산업화에 힘쓴 결과, 우리나라는 불과 30여 년 만에 세계적인 경제 강국으로 성장하였습니다. 이러한 눈부신 성장을 일컬어 '한강의 기적'이라고 합니다.



한강의 기적을 이루는 데 사람들은 어떤 노력을 하였을지 이야기해 봅시다.

예시

- 정부 관계자들은 정책을 마련하였습니다.
- 기업들은 기술 개발에 힘썼습니다.
- 노동자들은 열심히 일하였습니다.

1

우리나라의 민주화를 위하여 노력한 사람들의 모습을 알아보까요



5·18 민주화 운동이 사람들에게 미친 영향 탐구하기

◎ 5·18 민주화 운동을 지켜본 초등학생이 쓴 일기를 보고 물음에 답해 봅시다.

1. 일기를 보고 알 수 있는 사실을 써 봅시다.

예시

5월 18일에 대학생들이 시내에서 시위를 벌였다.

5월 19일에 시민들이 도청에서 시위를 벌였는데, 군인들이 시위에 참여한 사람들을 때렸습니다.

2. 5·18 민주화 운동을 지켜본 초등학생의 마음이 어떠하였는지 이야기해 봅시다.

예시

시위에 참여하였던 많은 사람이 죽거나 다쳐서 매우 슬프고 두려웠을 것 같습니다.

3. 5·18 민주화 운동이 우리나라의 민주화에 어떤 영향을 미쳤는지 이야기해 봅시다.

예시

정부가 시민들을 무력으로 탄압하는 것이 잘못되었다는 점을 많은 사람이 알게 되었을 것 같습니다.

1 우리나라의 민주화를 위하여 노력한 사람들의 모습을 알아보아요



6월 민주 항쟁 현장 속 사람들의 모습 살펴보기

1. 6월 민주 항쟁에 참여한 사람들의 모습을 찾아서 모둠 친구들에게 소개해 봅시다.



2. 모둠 친구가 소개한 사진을 보고 드는 생각이나 느낀 점을 이야기해 봅시다.

예시

당시 많은 시민이 민주화를 원하였던 것 같습니다.

확인
해요

- 이승만 정부의 독재와 부정 선거에 반발한 시민들은 5·18 민주화 운동을 일으켰다. ()
- 6월 민주 항쟁 이후 우리 사회에 (**민주주의**)이/가 뿌리내려 갔다.

2 민주화로 달라진 우리 사회의 모습을 살펴볼까요

활동해요

- ◎ 교과서에 소개된 방법 외에 시민들이 사회 공동의 문제 해결을 위하여 노력하는 방법에 관하여 알고 있는 것을 이야기해 봅시다.

예시

시청이나 구청, 군청에 건의 사항을 전달합니다.

활동해요

시민들의 사회 참여 사례 탐구하기

- ◎ 사회 공동의 문제를 해결하려는 시민들의 사회 참여 사례를 보고 물음에 답해 봅시다.
1. 신문 기사에서 시민들이 해결하려는 사회 공동의 문제와 그 문제를 해결해야 하는 까닭을 찾아 써 봅시다.

예시

해결하려는 사회 공동의 문제	시민들이 해결하려는 사회 공동의 문제는 소득의 양극화 문제입니다.
해결해야 하는 까닭	시민들이 소득의 양극화 문제를 해결하려는 까닭은 현재 최저 임금이 노동자들의 기본적인 생활을 보장하기에는 부족하고, 소득의 양극화 문제가 심해지고 있기 때문입니다.

2. 시민들의 사회 참여가 우리 사회를 민주적으로 만들어 나가는 데 어떤 역할을 하는지 모둠 친구들과 이야기해 봅시다.

예시

그동안 사회 공동의 문제에 주목하지 않았던 사람들이 이 문제에 주의를 기울일 수 있습니다.

확인해요

- 1987년 개헌 이후 대통령 (직선제)과/와 지방 자치 제도가 우리 사회에 자리 잡았다.
- 오늘날에도 시민들은 사회 공동의 문제에 관한 의견을 내며 (민주화, 양극화)를 위하여 노력한다.

3 우리나라의 산업화는 어떻게 이루어졌을까요



우리나라 산업화의 성과와 한계 탐구하기

1. 두 그래프를 보고 ㉠~㉢에 알맞은 말에 ○표를 해 봅시다.

1970년대 이후 우리나라의 산업 구조는 ㉠ (**경공업**, 중화학 공업)에서 ㉡ (경공업, **중화학 공업**) 중심으로 바뀌었고, 수출액도 크게 ㉢ (감소, **증가**) 하였다.

2. 글과 사진을 보고 산업화 과정에서 노동자가 겪은 어려움을 짝과 함께 이야기해 봅시다.

예시

굶주림과 어려운 생활을 이겨 내려고 오랜 시간 일하면서도 낮은 임금을 받아야 하는 어려움을 참고 버티는 노동자가 많았던 것 같습니다.

확인
해요

- 6·25 전쟁 이후 우리나라는 전쟁 피해를 복구하고 (**산업**)을/를 발전시키고자 노력하였다.
- 산업화 과정에서 노동자의 권리를 보장하는 법이 철저히 지켜졌다. (○ **X**)

4

산업화로 달라진 생활 문화를 알아볼까요



산업화로 달라진 사람들의 생활 모습 탐구하기

◎ 그림을 살펴보고 물음에 답해 봅시다.

1. 산업화 이전과 이후의 지역 모습을 살펴보고 차이점을 이야기해 봅시다.

예시

산업화 이전에는 논과 밭, 초가집, 포장되지 않은 도로 등이 보이지만, 산업화 이후에는 다양한 교통수단과 가게, 건물 등이 보입니다.

2. 1에서 찾은 차이점을 바탕으로, 산업화로 사람들의 생활 모습이 어떻게 달라졌는지 써 봅시다.

예시

- 도시에 있는 회사에 다닙니다

- 버스뿐만 아니라 지하철과 승용차를 타고 이동합니다.

3. 산업화로 달라진 사람들의 생활 모습에는 무엇이 더 있을지 모둠 친구들과 이야기해 봅시다.

예시

대가족이 줄고 핵가족이 늘어났습니다.

확인
해요

- 산업화 과정에서 많은 사람이 일자리를 찾으려고 농촌에서 도시로 이주하였다. (○, X)
- 텔레비전 등 대중 매체가 보급되면서 (대중문화)이 발달하기 시작하였다.

주제 마무리

◎ 설명이 맞으면 O, 틀리면 아래쪽 X로 따라가서 길을 찾아가 봅시다.



스스로
점검해요

• 민주화를 위한 사람들의 노력을 알고 있나요?	● ● ●
• 산업화로 달라진 생활 문화를 보여 주는 자료를 탐구할 수 있나요?	● ● ●
• 민주화와 산업화로 달라진 생활 문화에 관심을 가지게 되었나요?	● ● ●

단원 마무리

정리 꼭꼭

◎ 빈칸에 알맞은 말을 채워 생각 그물을 완성해 봅시다.

- ① 이산가족 ② 비무장 지대 ③ 평화 통일 ④ 남북 정상 회담
 ⑤ 부정 선거 ⑥ 지방 자치 제도 ⑦ 경공업 ⑧ 중화학 공업
 ⑨ 도시화

역량 쑥쑥

1. 1단원에서 배운 내용 중 중요하다고 생각하는 내용을 <보기>에서 한 가지 골라 ○표를 하고, 그 까닭을 써 봅시다.

<보기>

- 평화 통일을 위한 노력: 판문점, 비무장 지대
- 민주화: 4·19 혁명, 5·18 민주화 운동, 6월 민주 항쟁
- 산업화: 경공업, 중화학 공업, 도시화, 소비 증가, 대중문화 성장

예시

5·18 민주화 운동이 6월 민주 항쟁으로 이어지는 과정에서 우리나라의 민주화에 밑거름이 되었다고 생각하기 때문입니다.

단원 마무리

역량 **심사숙독**

2. 1에서 고른 내용에 관한 자료를 조사해 봅시다.

예시

- 1979년 12월 12일, 전두환과 일부 군인들이 무력으로 정권을 차지하였습니다.
- 군인들이 정권을 잡은 것에 반발하여 민주화를 요구하는 시위가 전국에서 일어났습니다.
- 1980년 5월 17일, 정권을 잡은 군인들은 비상계엄을 전국으로 확대 실시하였습니다.
- 비상계엄령이 내려졌지만, 전라남도 광주에서는 학생들이 계속하여 민주화를 요구하는 시위를 벌였습니다.
- 전두환은 광주에 계엄군을 보내 시위를 폭력적으로 진압하기 시작하였습니다.
- 학생을 비롯한 광주 시민들은 금남로에 모여 민주화를 요구하는 시위를 벌였고, 계엄군의 폭력에 맞서 시민군을 조직하였습니다.

3. 2에서 조사한 내용을 바탕으로 우리나라 역사 사진첩을 만들어 봅시다.

예시



4. 다른 모둠의 사진첩을 감상하며 새롭게 알게 된 점이나 느낀 점을 써 봅시다.

예시

비무장 지대 사진첩을 보고 이곳에 여러 동식물이 살고 있다는 것을 알게 되었습니다. 통일이 되면 이곳이 더 평화로워질 수 있겠다는 생각이 들었습니다.

2 민주주의와 시민 참여

주제	공부할 내용
① 민주주의와 선거	단원 시작하기 / 스스로 계획해요
	생각을 열어요 / 선거의 의미와 중요성을 알아보까요
	선거는 어떤 역할을 할까요
	민주적인 선거의 원칙을 살펴볼까요
	현명하게 대표자를 선택하는 방법은 무엇일까요
	선거에 주체적으로 참여해 볼까요 / 주제 마무리
② 국가기관의 역할과 권력 분립	생각을 열어요 / 우리나라에서 국가 권력은 어떻게 나뉘어 있나요
	국회에서 하는 일을 알아보까요
	행정부에서 하는 일을 알아보까요
	법원에서 하는 일을 알아보까요
	권력 분립이 이루어져야 하는 까닭은 무엇일까요 / 주제 마무리
③ 민주주의 사회에서 미디어의 역할과 이용	생각을 열어요 / 민주주의 사회에서 미디어를 이용하는 모습을 살펴볼까요
	민주주의 사회에서 미디어의 역할을 알아보까요
	미디어의 내용을 비판적으로 받아들여야 하는 까닭은 무엇일까요
	미디어를 올바르게 이용해 볼까요 / 주제 마무리
단원 마무리	정리 콕콕 / 역량 쑥쑥

단원 시작하기



스스로 계획해요

● 아는 단어에 √표를 하고, 공부하고 싶은 내용을 써 봅시다.

- 선거 국회 행정부 법원 미디어

예시

- 선거와 미디어가 무엇인지 알고 싶습니다.
- 국회, 행정부, 법원에서 하는 일에 대해 알고 싶습니다.

① 민주주의와 선거



우주 투표소

2020년 미국에서는 고도 400 km 상공의 우주 정거장에 투표소를 두었습니다. 우주에서는 전자 투표 방식을 활용하여 암호화된 투표용지에 투표를 하고, 투표용지는 항공 우주국과 관제 센터를 거쳐 전달되었습니다. 우주에서도 소중한 선거 참여가 이루어진 것입니다.



다양한 투표 장소가 생기는 까닭은 무엇일지 이야기해 봅시다.

예시

모든 국민이 선거에 참여할 수 있도록 하기 위함입니다.

1 선거의 의미와 중요성을 알아볼까요



선거가 중요한 까닭 알아보기

1. 빈칸을 채워 선거의 의미를 완성해 봅시다.

선거란?

- 선거란 국민이 자신의 뜻을 대신 전달할 (**대표**)을/를 뽑는 일이다.
- 선거는 국민이 나라의 주인으로서 직접 (**주권**)을/를 행사하는 일이므로 중요한 의미를 지닌다.

2. 선거가 없다면 어떤 일이 일어날지 상상하여 써 봅시다.

예시

많은 국민이 서로 의견을 좁히지 못해 사회가 혼란스러워질 것 같습니다.

3. 선거가 중요한 까닭을 쓰고, 투표 참여를 약속하는 서명을 해 봅시다.

선거가 중요한 까닭

선거는 나라의 주인으로서 권리를 행사하는 일이므로 중요합니다.

약속해요!

저도 18세 이상이 되면 꼭 투표에 참여하겠습니다.

이름: 김○○

확인 해요

- 민주주의 국가에서 (**선거**)은/는 국민의 뜻을 반영할 대표자를 뽑는 일이다.
- 국민이 선거에 관심을 가져야 국민이 바라는 좋은 정책이 나올 수 있다. (X)

2 선거는 어떤 역할을 할까요



선거의 역할을 알리는 카드 뉴스 만들기

1. 선거의 역할을 알 수 있는 사례를 떠올려 주제를 정해 봅시다.

예시

선거를 통해 뽑힌 대표자가 실현한 정책이나 법안이 우리 생활에 변화를 불러온 사례, 현재 뽑힌 대표자의 공약을 바탕으로 이루어질 일을 상상한 사례, 선거의 역할이 잘 나타난 사례

2. 1에서 정한 주제를 효과적으로 표현하는 글과 그림을 4장면으로 구성하여 카드 뉴스를 만들어 봅시다.

예시



확인
해요

- 선거의 가장 기본적인 역할은 (**대표자**)을/를 뽑는 일이다.
- 선거로 뽑힌 대표자는 나라의 중요한 일을 결정할 수 있는 정당성을 가진다. (, X)

3 민주적인 선거의 원칙을 살펴볼까요

활동해요

◎ 선거의 원칙을 지켜야 하는 까닭은 무엇인지 이야기를 나눠 봅시다.

예시

선거에 참여하는 사람들이 자유롭게 평등하게 자신의 권리를 행사하도록 하기 위해서입니다.

활동해요

민주 선거의 원칙이 지켜져야 하는 까닭 토의하기

◎ 사례를 보고 물음에 답해 봅시다.

1. 밑줄 친 부분은 어떤 선거의 원칙이 지켜지지 않았는지 써 봅시다.

직접 선거의 원칙

2. 사례와 같이 선거의 원칙이 잘 지켜지지 않는다면 어떤 일이 생길지 써 봅시다.

예시

다른 사람이 대신 투표해 주는 일들이 생겨 국민의 뜻을 제대로 반영하기 어려울 것 같습니다.

3. 민주 선거의 원칙을 지켜야 하는 까닭을 토의해 봅시다.

확인 해요

- 우리나라는 보통 선거, 평등 선거, (직접) 선거, 비밀 선거의 원칙을 보장하고 있다.
- 누구나 한 사람당 한 표씩만 행사할 수 있는 선거의 원칙은 (보통, 평등) 선거의 원칙이다.

4

현명하게 대표자를 선택하는 방법은 무엇일까요



현명하게 대표자 선택해 보기

◎ 후보자들의 공약을 보고 현명하게 대표자를 선택해 봅시다.

1. 대표자를 선택할 때 어떤 점을 중요하게 생각하는지 써 봅시다.

예시

후보자가 내세운 정책과 공약, 속해 있는 정당, 후보자의 됬됨이입니다.

2. 대표자를 선택해 보고 그 후보자를 대표자로 선택한 까닭을 써 봅시다.

예시

기호 □번 박조심 후보자를 선택하였습니다. 건강검진 항목을 늘리겠다고 한 공약이 실현 가능성이 높으며 적절하다고 생각했기 때문입니다. 후보자 자신이 의사 면허증을 가진 전문가라는 점도 선택의 기준이 되었습니다.

확인
해요

- 현명하게 대표자를 선택하려면 후보자가 내세우는 (**공약**), 속해 있는 정당 등을 살펴봐야 한다.
- 대표자를 선택할 때는 선거 벽보를 보지 않고 정해야 한다. (O, **X**)

5 선거에 주체적으로 참여해 볼까요



모의 선거에 주체적으로 참여해 보기

◎ 우리 지역의 대표를 뽑는 모의 선거를 해 봅시다.

1. 선거에서 후보자를 홍보할 포스터를 만들어 전시해 봅시다.

예시



2. 전시된 홍보 포스터를 보고 원하는 후보자에게 투표해 봅시다.

3. 선거에 참여한 자신의 태도를 점검하며 느낀 점을 적어 봅시다.

예시

공약, 정당, 후보자의 됴됨이 등을 따져 보며 대표자를 선택하려고 노력한 것이 뿌듯했습니다.

확인
해요

- 선거 과정에서 후보자들은 당선되기 위하여 모든 방법을 동원하여 선거 운동을 해도 된다. (O, X)
- 시민들이 선거에 주체적으로 참여하여야 민주주의가 제대로 실현될 수 있다. (O, X)

주제 마무리

- ◎ ①~⑤ 중에서 설명이 올바른 게시판에 있는 단어들을 차례대로 나열하여 현수막 문구를 완성해 봅시다.



5.5.1
정검해요

• 선거의 의미와 역할이 무엇인지 알고 있나요?	● ● ●
• 선거의 원칙에 대하여 탐색하고 토론할 수 있나요?	● ● ●
• 선거 과정에 바람직한 태도로 참여하려는 자세를 가지게 되었나요?	● ● ●

② 국가기관의 역할과 권력 분립



숲마을의 평화를 지키는 힘

숲마을에는 사자와 올빼미 그리고 거북이가 살고 있습니다. 사자는 힘이 세서 외부의 위협으로부터 동물들을 보호하였고, 올빼미는 머리가 뛰어나 마을의 중요한 결정을 내릴 때 상황을 분석하여 해결 방안을 마련하였습니다. 그리고 거북이는 느리지만 신중한 판단력을 지녔습니다. 그러던 어느 날, 사자는 오직 자신의 힘만 믿고 자신이 원하는 대로 결정하고 행동하였습니다. 더 이상 올빼미의 지혜로운 결정을 따르지 않고 거북이의 판단을 듣지도 않았습니다. 그러자 숲마을의 동물들은 더 이상 평화롭지도 행복하지도 않았습니다.



숲마을의 평화를 지키는 힘은 무엇이었는지 이야기해 봅시다.

예시


모두가 마을의 일을 나누어 맡고 자신이 맡은 일에 최선을 다하는 것입니다.

1 우리나라에서 국가 권력은 어떻게 나뉘어 있나요



사례 속에서 국가기관이 하는 일 알아보기

1. 국가기관과 그 기관이 하는 일을 연결해 봅시다.

<div data-bbox="454 689 790 913"> <p>국회</p>  </div>		<p>새롭게 만들어진 「어린이 식생활 안전 관리 특별법」을 지키지 않는 판매 업소에 대하여 재판을 통해 처벌을 내렸다.</p>
<div data-bbox="454 929 790 1153"> <p>행정부</p>  </div>		<p>「어린이 식생활 안전 관리 특별법」을 개정하였다. 이 법안은 구체적으로 학교 주변 구역을 어린이 식품 안전 보호 구역으로 지정하여 관리하도록 하는 내용이다.</p>
<div data-bbox="454 1176 790 1433"> <p>법원</p>  </div>		<p>식품 의약품 안전처에서는 「어린이 식생활 안전 관리 특별법」에 따라 고열량, 저영양 식품에 대하여 텔레비전 광고를 제한하도록 하였다.</p>

2. 위 노력들을 참고해서 국가기관이 하는 일이 일상생활에 어떤 영향을 주는지 써 봅시다.

예시

전동 킥보드 사고가 급증하자, 행정부가 전동 킥보드의 속도를 시속 25 km로 제한하는 안전 기준을 마련했습니다. 그 결과 사람들은 전동 킥보드를 시속 25 km 이하로 탑니다.



- 국가 권력을 각각 다른 국가기관이 나누어 맡는 것을 (**권력 분립**)이라고 한다.
- 우리나라 국가기관 중 법에 따라 나라의 살림을 맡는 기관은 (**행정부**, 법원)이다.

2 국회에서 하는 일을 알아볼까요

활동해요

◎ 그림에서 국회가 만든 법이 아이들의 생활에 어떤 영향을 미칠지 이야기해 봅시다.

예시

어린이들이 고열량 식품을 덜 먹게 되어 살이 덜 찌 것 같습니다.

활동해요

법을 제안해 보기

◎ 우리 학교나 지역을 살펴보고 사람들이 안전하게 생활하는 데 필요한 법을 만들어 봅시다.

예시

법률 제안서	
법률 이름	점자 블록 유지·보수에 관한 법률
제안한 까닭	파손된 점자 블록이 많아 점자 블록이 설치되어 있어도 역할을 제대로 하지 못하고 있습니다. 따라서 점자 블록 유지·보수에 관한 법률을 제안하고자 합니다.
주요 내용	점자 블록의 유지·보수에 관한 점검을 1년에 2회 할 것을 제안한다. ① 점자 블록을 유지·보수하여 시각 장애인들의 안전한 이동을 돕는 것을 목적으로 한다. ② 기존에 있던 점자 블록이 훼손되어 시각 장애인들이 인식하는 데 어려움이 있다. 이에 시각 장애인들의 피해를 줄이려는 데 목적이 있다.

확인해요

- 법을 만드는 국가기관은 (**국회**) (으)로 입법부라고도 부른다.
- 국회는 행정부가 법에 따라 일을 잘하고 있는지 살피고자 매년 (**국정 감사**, 인사 청문회) 를 한다.

3 행정부에서 하는 일을 알아보까요



행정부에서 하는 일 탐구하기

1. <보기>에서 ㉠~㉣의 빈칸에 알맞은 '부'를 골라 써 봅시다.

<보기>	통일부, 환경부, 과학 기술 정보 통신부, 행정 안전부
------	--------------------------------

가 환경부

환경을 보호하고 유지하기 위한 정책을 세우고, 환경 보호를 실천하게 홍보한다.

나 통일부

이산가족 실태를 파악하여 체계적인 관리 제도를 마련하였다.

다 과학 기술 정보 통신부

인공지능 분야를 개발하는 데 투자를 확대하고, 지속적인 지원을 위한 논의를 한다.

라 행정 안전부

안전하고 편리한 모바일 신분증 이용 대상을 확대하였다.

2. 행정부에서 하는 일이 우리 생활에 어떤 영향을 주는지 써 봅시다.

예시

우리가 더욱 행복하고 안전하게 생활할 수 있도록 해 줍니다.



- (**행정부**)은/는 법에 따라 나라의 살림을 하는 국가기관이다.
- 행정부의 여러 부는 국민의 안전과 행복을 위하여 다양한 정책을 펼친다. (**○**, X)

4 법원에서 하는 일을 알아볼까요



흑부리 영감 이야기 판단해 보기

◎ 흑부리 영감 이야기에서 누구의 주장이 옳은지 판단해 보고 판결문을 적어 봅시다.

- 판단할 때 생각해야 할 점: 거짓말로 재물을 얻어 내었어야 사기죄로 처벌을 받습니다. 사기죄는 고의가 없으면 처벌받지 않습니다.

예시

- 판결 내용: 흑부리 영감은 사기죄로 처벌받지 않아도 됩니다.
- 판결 이유: 깨비는 흑부리 영감이 자기들을 속여서 도깨비방망이를 얻었다고 주장하지만, 당시 상황에서 흑부리 영감은 도깨비방망이를 얻기 위해서 고의로 거짓말을 한 것이 아니라 살기 위해서 거짓말을 한 것으로 보입니다. 흑부리 영감이 도깨비방망이를 얻을 목적으로 거짓말을 한 것이 아니기 때문에 사기죄로 처벌받지 않아도 됩니다.

확인 해요

- (**법원**)은/는 법에 따라 다툼을 해결하는 국가기관이다.
- 공정한 재판을 위하여 한 사건에 대하여 원칙적으로 (**3년**, 4년)까지 재판을 받을 수 있다.

5 권력 분립이 이루어져야 하는 까닭은 무엇일까요

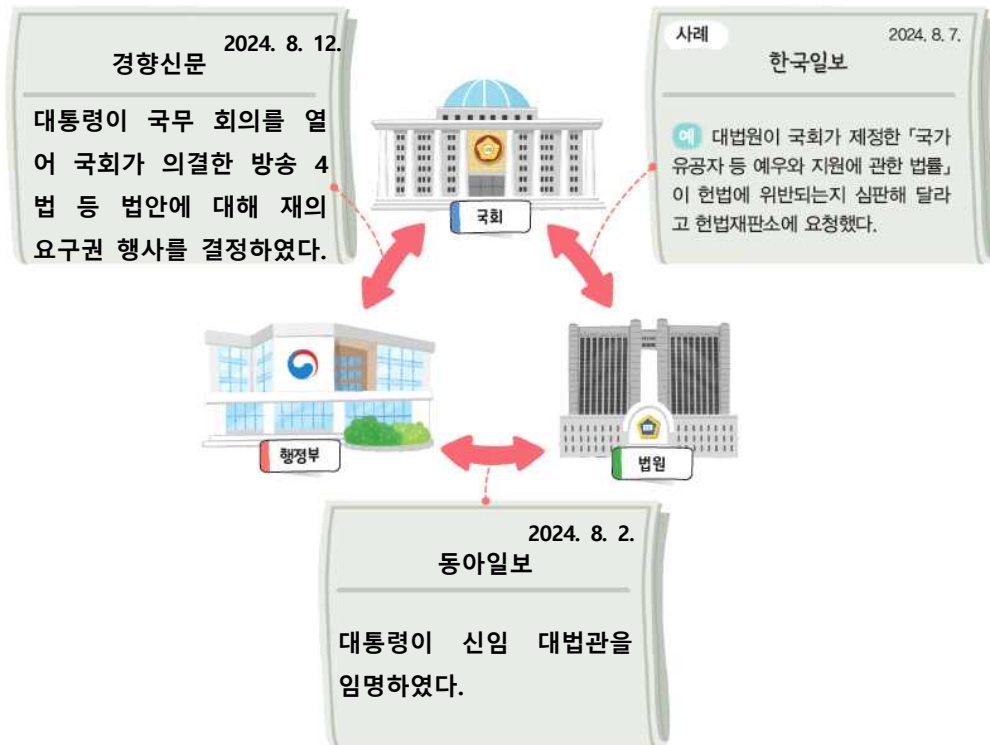


국가기관 사이에 상호 견제 사례 찾아보기

◎ 권력 분립이 실현되고 있는 모습을 신문 기사에서 찾아 봅시다.

1. 국회, 행정부, 법원이 서로를 견제하는 모습이 나타난 신문 기사를 찾아 정리해 봅시다.

예시



2. 국회, 행정부, 법원이 서로를 견제하며 균형을 이루어야 하는 까닭이 무엇인지 친구들과 이야기해 봅시다.

국민의 자유와 권리를 보호하기 위해서입니다. / 국가기관이 함부로 권력을 행사하지 못하도록 하기 위해서입니다. / 잘못된 결정을 내리는 것을 막기 위해서입니다.

확인
해요

- 민주 국가에서는 국가기관이 권력을 나누어 갖고 서로를 (**견제**)하고 균형을 이루도록 한다.
- 국민의 자유와 권리를 보호하기 위해서는 국가 권력이 한 곳에 집중되어야 한다. (**○ X**)

주제 마무리

◎ ①~⑤ 중에서 옳은 설명이 적힌 카드의 글자를 차례대로 적어 봅시다.



정경해요

• 국회, 행정부, 법원이 하는 일을 알고 있나요?	☪ ☻ 🌻
• 권력을 분립하는 까닭과 중요성을 사례를 바탕으로 탐색할 수 있나요?	☪ ☻ 🌻
• 국가기관이 하는 일과 권력 분립의 중요성을 인식하게 되었나요?	☪ ☻ 🌻

③ 민주주의 사회에서 미디어의 역할과 이용



용기내 챌린지

'용기내 챌린지'는 음식 배달이나 포장으로 발생하는 쓰레기를 줄이자는 캠페인입니다. 챌린지에 참여하는 방법은 식재료나 음식을 여러 번 쓸 수 있는 용기에 포장해 온 후, 사회 관계망 서비스에 포장 사진을 해시태그와 함께 게시하는 것입니다. 용기내 챌린지가 이어지면서 이전보다 환경에 관심을 가지고 환경 보호를 실천하는 사람들이 많아졌습니다.



용기내 챌린지를 사회 관계망 서비스에 올리는 까닭을 이야기해 봅시다.

예시

사회 관계망 서비스를 통해 용기내 챌린지를 접한 사람들이 환경에 관심을 가질 수 있기 때문입니다.

1 민주주의 사회에서 미디어를 이용하는 모습을 살펴볼까요



미디어와 함께하는 '나'의 모습 탐구하기

◎ 여러 가지 미디어를 활용하는 민주 시민인 '나'의 모습을 써 봅시다.

예시

<p>미디어: 인터넷</p> <p>미디어를 이용하여 무엇을 하였나요?</p> <p>인터넷에서 최근 우리나라의 문제를 찾아보았습니다.</p>	<p>나는 인터넷을/를 이용하여</p> <p>인터넷을 통해 최근 환경 문제가 심각하며, 정부가 환경 보호를 위한 대책을 마련한다는 것을 알게 되었 습니다.</p>
--------------------------------------------------------------------------------------------	-----------------------------------------------------------------------------------------------------------------------------------

확인
해요

- 민주주의 사회에서 (**미디어**)은/는 정보를 전달하여 공동체 구성원의 의사 결정을 돕는 중요한 도구이다.
- 사람들은 미디어를 통해 활발하게 소통하고 적극적으로 사회에 참여할 수 있다.

(O, X)

2

민주주의 사회에서 미디어의 역할을 알아보까요



민주주의 사회에서 미디어의 역할 표현하기

◎ 민주주의 사회에서 미디어의 역할을 글이나 그림으로 표현해 봅시다.

예시

미디어는 사회의 문제를 드러내고 여론을 형성하는 데 영향을 미칩니다. 이를 통해 미디어는 사회의 공정성과 투명성을 증진하는 데 도움을 주고 있습니다.

확인
해요

- 미디어는 사회 문제 등 사회에서 일어나는 일에 대한 (**정보**)을/를 제공한다.
- 미디어는 시민들이 공동체의 일에 활발하게 참여하지 못하게 막는 역할을 한다.
(**O, X**)

3 미디어의 내용을 비판적으로 받아들여야 하는 까닭은 무엇일까요



미디어의 내용에 대한 비판적 분석의 중요성 알아보기

◎ 기사를 보고 물음에 답해 봅시다.

1. 기사 내용을 받아들인다면 선거에서 박근혜 후보에게 투표할지 말지 나의 생각을 써 봅시다.

예시

쓰레기통을 발로 차는 것은 도덕적으로 보이지 않아 투표하고 싶지 않습니다.

2. 전문 기관에서 기사 사진이 합성된 것이라고 발표한다면, 1의 의사 결정이 바뀔지 나의 생각을 써 봅시다.

예시

후보자의 본래의 모습이 어떨지 다시 알아볼 것 같습니다.

3. 미디어의 내용을 비판적으로 받아들여야 하는 까닭을 이야기해 봅시다.

예시

잘못된 정보를 있는 그대로 받아들일 경우 상황을 오해하거나 편견이 생길 수 있기 때문입니다.

**확인
해요**

- 미디어가 전달하는 내용은 항상 다양한 사람의 생각을 반영한 것이다. (O X)
- 미디어의 내용을 (비판)적으로 받아들여야 올바른 의사 결정을 할 수 있다.

4 미디어를 올바르게 이용해 볼까요



미디어의 내용을 비판적으로 분석하기

◎ 뉴스 기사를 읽고 비판적으로 분석하여 표를 채워 봅시다.

예시

기사를 작성한 언론사는 어디인가?	이투데이
본문의 내용은 무엇인가?	초등학교 주변 교통안전, 유해 환경, 식품 안전, 제품 안전, 불법 광고물 등 5개 분야에 대한 단속이 실시될 예정이라는 내용입니다.
기자의 의견이 반영되지 않은 객관적인 사실인가?	초등학교 주변 위해 요소를 집중 점검한다는 사실을 전달하고 있습니다.
이 기사를 만든 목적은 무엇인가?	사회에서 일어나는 일에 대해 사람들에게 정보를 제공하기 위함입니다.

4 미디어를 올바르게 이용해 볼까요

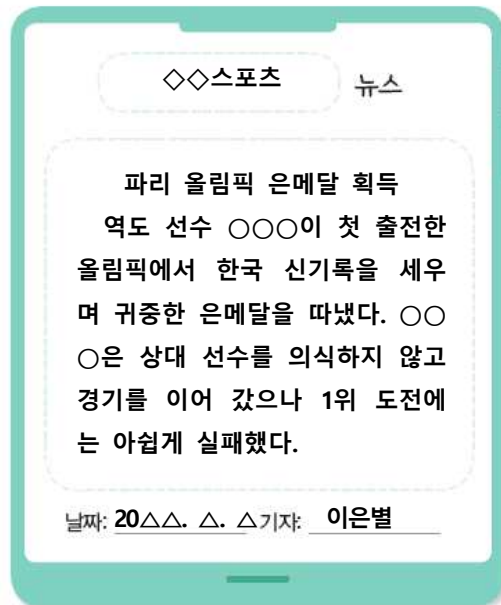


뉴스 만들어 보기

◎ 최근 알게 된 사건이나 정보를 전달하는 나만의 뉴스를 만들어 봅시다.

1. 나만의 뉴스를 만들어 친구들에게 스마트폰으로 전달해 봅시다.

예시



2. 내가 만든 뉴스를 아래 질문을 보고 점검해 봅시다.

- 이 뉴스를 만든 목적은 무엇인가요?
- 이 뉴스를 본 사람들은 어떤 생각을 하게 될까요?
- 정확하고 신뢰할 수 있는 자료를 사용하였나요?

확인
해요

- 미디어의 내용을 살펴볼 때는 제목만 보고 내용을 판단해야 한다. (O X)
- 정보를 받아들일 때는 내용의 출처와 정보를 확인하여 (누가) 제공하는지 확인해
야 한다.

주제 마무리

- ◎ ①~⑤ 중에서 올바른 내용이 적힌 번호를 차례대로 조합하여 선거 방송 채널 번호를 알아봅시다.



• 민주주의 사회에서 미디어의 의미와 역할을 설명할 수 있나요?	● ● ●
• 미디어의 내용을 비판적으로 분석할 수 있나요?	● ● ●
• 미디어를 올바르게 이용하는 태도를 기르게 되었나요?	● ● ●

단원 마무리

정리 콕콕

◎ 빈칸에 알맞은 말을 채워 생각 그물을 완성해 봅시다.

- ① 주권 ② 정당성 ③ 직접 ④ 권력 분립
 ⑤ 국회 ⑥ 미디어

역량 싹싹

1. 모의 정부와 모의 국회의 구성원을 살펴보고 역할을 나누어 봅시다.

- 나는 문화 체육 관광부 장관입니다.
- 국회의원입니다.

2. 모의 정부에서 각 부에 알맞은 예산을 편성해 봅시다.

예시

- 1순위는 학교 체육 물품으로 하면 좋겠습니다. 예산은 5만 원 정도 필요합니다.
- 2순위는 학급 칠판을 꾸밀 준비물이 좋겠습니다. 예산은 3만 원 정도 배분하면 되겠습니다.
- 3순위는 친구의 날 운영 예산입니다. 1만 원 정도에서 운영할 수 있도록 예산을 주면 될 것 같습니다.

3. 구성된 모의 국회에서 편성된 예산안을 최종 심의해 봅시다.

예시

친구의 날에 친구들에게 칭찬하는 말을 다섯 번 이상 하면 포상하는 규칙을 정하면 좋겠습니다.

3 지구, 대륙 그리고 국가들

주제	공부할 내용
① 다양한 공간 자료와 위치 표현	단원 시작하기 / 스스로 계획해요
	생각을 열어요 / 세계를 표현하는 공간 자료를 알아볼까요
	위도를 알아볼까요
	경도를 알아볼까요
	위도와 경도를 활용하여 위치를 표현해 볼까요 / 주제 마무리
② 대륙, 대양과 세계 여러 나라	생각을 열어요 / 세계의 대륙과 대양을 살펴볼까요
	각 대륙에는 어떤 나라들이 있을까요
	세계 여러 나라의 영토에는 어떤 특징이 있을까요
	우리나라의 위치와 영역을 살펴볼까요
	우리나라와 밀접한 관계를 맺고 있는 나라를 살펴볼까요 / 주제 마무리
단원 마무리	정리 콕콕 / 역량 쑥쑥

단원 시작하기



스스로 계획해요

● 아는 단어에 √표를 하고, 공부하고 싶은 내용을 써 봅시다.

- 지구본 세계 지도 ○ 디지털 영상 지도 ○ 대륙 대양 나라

예시

- 위치를 표현하는 방법을 알고 싶습니다.
- 위도와 경도에 대해 알고 싶습니다.
- 세계의 대륙과 대양 그리고 나라들이 어떻게 위치해 있는지 알고 싶습니다.

① 다양한 공간 자료와 위치 표현



해외여행의 길잡이

사용하는 언어가 달라 막막할 수 있는 해외여행을 쉽게 할 수 있도록 도와주는 것이 있습니다. 그것은 바로 스마트폰의 지도 애플리케이션입니다. 지도 애플리케이션은 내가 원하는 위치에서 여행지로 가는 경로를 안내해 주고, 이용 가능한 대중교통과 승하차 위치, 도보로 이동하는 경로 등을 상세히 알려 줍니다. 이뿐만 아니라 주변 음식점과 예약 가능한 숙소, 편의 시설, 여행지 정보 등을 안내하여 편안한 여행을 할 수 있도록 도와줍니다.



지도 애플리케이션을 사용한 경험이 있는지 이야기해 봅시다.

예시

여행지로 가는 경로를 검색해 본 적이 있습니다.

1 세계를 표현하는 공간 자료를 알아보까요



세계를 표현하는 공간 자료 알아보기

◎ (가)~(다)에 들어갈 알맞은 공간 자료의 이름을 <보기>에서 찾아 써 봅시다.

<보기>	· 디지털 영상 지도 · 세계 지도 · 지구본
------	---------------------------------



1 세계를 표현하는 공간 자료를 알아볼까요

활동해요

- ◎ 지구본에서 우리나라를 찾고, 우리나라의 반대편에 있는 나라를 찾아봅시다.
우리나라의 반대편에 있는 나라는 우루과이입니다.

활동해요

- ◎ 세계 지도는 지구본과 비교하여 어떤 장단점이 있는지 찾아봅시다.

예시

- 장점: 세계의 모습을 한눈에 볼 수 있습니다.
- 단점: 둥근 지구를 평면으로 펼쳤기 때문에 실제와 다른 부분도 생기게 됩니다.

1 세계를 표현하는 공간 자료를 알아볼까요

활동해요

◎ 디지털 영상 지도로 여러 나라의 장소나 거리를 살펴봅시다.

예시

프랑스 파리의 에펠 탑을 찾아보고 싶습니다.

활동해요

세계를 표현한 다양한 공간 자료 활용하기

◎ 각 상황에 따라 지구본, 세계 지도, 디지털 영상 지도 중 활용할 수 있는 공간 자료와 활용 방법을 써 봅시다.

예시

서울에서 출발하여 도쿄를 경유한 뒤 뉴욕에 가는 비행경로를 확인하고 싶을 때

- 활용할 수 있는 공간 자료: 세계 지도
- 활용 방법: 각 도시의 위치를 표시하여 이동 경로를 한눈에 파악합니다.

인도와 그린란드의 크기와 모양을 비교해 보고 싶을 때

- 활용할 수 있는 공간 자료: 지구본
- 활용 방법: 지구의 실제 모습을 작게 줄인 모형인 지구본으로 나라 간 크기를 비교해 봅니다.

파리의 에펠 탑 근처에 있는 음식점, 숙소에 대한 정보가 필요할 때

- 활용할 수 있는 공간 자료: 디지털 영상 지도
- 활용 방법: 여행지 주변 식당과 숙소에 대해 검색하여 정보를 확인합니다.

확인해요

- (**지구본**)은/는 실제 지구의 모습을 작게 줄인 모형이다.
- 세계 지도는 둥근 지구를 평면에 펼쳤기 때문에 실제 모습과 다른 점이 나타나기도 한다. (**○**, X)

2 위도를 알아볼까요



◎ 적도에서 지구의 양극으로 갈수록 위도의 값(숫자)이 어떻게 변화하는지 이야기해 봅시다.

예시

적도에서 양극으로 갈수록 위도의 값이 커집니다.

2 위도를 알아볼까요



위도에 따른 위치와 계절 살펴보기

◎ 지도를 보고 물음에 답해 봅시다.

1. 위 지도에서 적도를 찾아 선을 그어 봅시다.



2. 위 지도에서 우리나라와 위도가 비슷한 나라를 찾아 이름을 써 봅시다.

예시

중국, 이란, 튀르키예, 에스파냐, 미국 등입니다.

3. 다음 위도를 지나는 나라를 각각 세 개씩 찾고, 그 나라의 현재 계절을 써 봅시다.

예시

구분	북위 45°	남위 30°
나라	프랑스, 중국, 미국	남아프리카 공화국, 오스트레일리아, 아르헨티나
현재 계절	여름	겨울

확인
해요

• 지구본이나 지도에 그려진 가로선인 위선의 값을 (위도)(이)라고 한다.

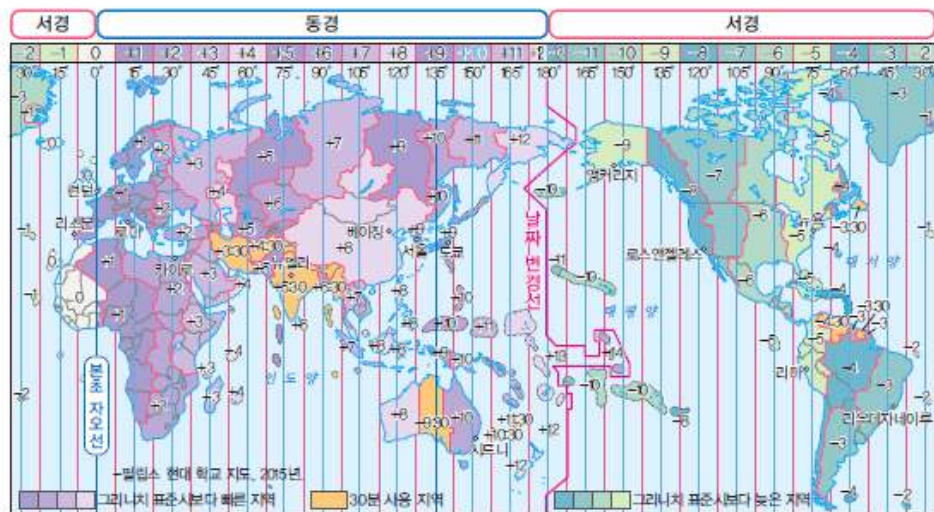
• 고위도 지역은 저위도 지역보다 기온이 높은 편이다. (O, X)

3 경도를 알아볼까요



경도에 따른 위치와 시차 알아보기

◎ 지도를 보고 물음에 답해 봅시다.



1. 위 지도에서 다음에 해당하는 도시를 찾아 써 봅시다.

동경 135° 근처에 있는 도시	서울, 도쿄	서경 75° 근처에 있는 도시	뉴욕, 라마
----------------------	--------	---------------------	--------

2. <보기>의 도시를 시간대가 이른 순서대로 이야기해 봅시다.

<보기> · 런던 · 카이로 · 서울 · 시드니 · 로스앤젤레스 · 뉴욕 · 리우데자네이루
시드니 → 서울 → 카이로 → 런던 → 리우데자네이루 → 뉴욕 → 로스앤젤레스

3. 지도를 보고 서울이 오후 7시일 때, 지민이와 재원이의 가상 통화를 완성해 봅시다.

예시

· 지민(12살, 서울에 거주): 재원아, 나는 가족들과 저녁을 먹으러 가고 있어.
너는 뭐해?

· 재원(12살, 런던에 거주): 나는 아침 먹고 산책하려고 공원에 가는 길이야.

확인
해요

· 경도의 기준은 (**본초 자오선**)이다.

· 표준 경선은 세계 각 나라나 지역의 시간을 정하는 기준이 되는 경선이다. (○, X)

4 위도와 경도를 활용하여 위치를 표현해 볼까요



위도와 경도를 활용하여 나라나 지역의 위치 및 특징 파악하기

◎ 지도를 보고 물음에 답해 봅시다.



1. 위 지도에 표시된 (가), (나), (다), (라) 지역의 위치를 위도와 경도로 나타내 봅시다.

- (가): (북위: 30°, 동경: 45°)
- (나): (남위 30°, 동경 120°)
- (다): (남위: 30°, 서경: 60°)
- (라): (북위 45°, 서경 120°)

2. 우리나라가 8월, 화요일 아침 10시일 때, (나)~(라) 지역의 계절과 시간대를 <보기>에서 골라 아래 예시와 같이 추리해 봅시다(우리나라의 표준 경선은 동경 135°이다).

예시

계절	여름, 겨울
시간대	아침, 저녁, 밤

예 (가) 지역: 계절은 여름이고, 시간대는 화요일 새벽일 것이다.

(나) 지역	계절은 겨울이고, 시간대는 아침일 것이다.
(다) 지역	계절은 겨울이고, 시간대는 밤일 것이다.
(라) 지역	계절은 여름이고, 시간대는 저녁일 것이다.

4 위도와 경도를 활용하여 위치를 표현해 볼까요



위도와 경도를 활용하여 나라나 지역의 위치 및 특징 파악하기

3. 지구촌 뉴스와 관련된 장소의 위치를 찾아 기사 내용과의 관련성을 추리해 봅시다.

예시

① 관심 있는 나라의 뉴스를 검색합니다.



② 장소를 검색해 위치를 확인합니다.



③ 뉴스 제목과 장소, 위치를 적고, 위치와 기사 내용의 관련성을 추리합니다.

뉴스 제목	크리스마스 앞두고 가장 바쁜 '핀란드 산타 마을'
관련된 장소	핀란드 산타 마을
위치	북위 66°, 동경 25° 부근
위치와 기사 내용의 관련성 추리하기	고위도 지역으로 눈이 많이 내려 눈썰매를 타고 다니는 산타와 관련된 마을이 생겨난 것 같다.

뉴스 제목	브라질, 세계 습지에서 화재 이어져
관련된 장소	브라질 판타나우
위치	남위 17°, 서경 57° 부근
위치와 기사 내용의 관련성 추리하기	판타나우는 저위도이기 때문에 고온 현상과 가뭄이 나타나 화재가 발생한 것 같다.

확인
해요

- 위도와 경도는 위치를 나타내는 데 중요하게 쓰인다. (○, X)
- 위도와 경도를 알면 어떤 나라나 장소의 (위치)을/를 쉽게 찾을 수 있다.

② 대륙, 대양과 세계 여러 나라



기네스북에 등재된 대륙과 대양

기네스북은 세계 각종 기록을 모아 놓은 책입니다. 여기에는 대륙과 대양이 가진 흥미로운 내용이 등재되어 있기도 합니다.



아래에 제시된 내용 외에 세계의 주요 대륙과 대양의 흥미로운 점을 찾아봅시다.

예시

- 북극해는 대부분이 얼음으로 덮여 있습니다.
- 남극 대륙은 대부분이 빙하로 덮여 있습니다.

1 세계의 대륙과 대양을 살펴볼까요



세계의 대륙과 대양 알아보기

1. 퍼즐을 활용하여 세계 지도를 완성해 봅시다.
2. 1에서 완성한 세계 지도를 보고, 대양 주변에 어떤 대륙이 있는지 이야기해 봅시다.

예시

- 태평양 주변에는 아시아, 오세아니아, 남아메리카, 북아메리카 대륙이 있습니다.
- 대서양 주변에는 남아메리카, 북아메리카, 유럽, 아프리카 대륙이 있습니다.
- 인도양 주변에는 아시아, 오세아니아, 아프리카 대륙이 있습니다.



- ◎ 각 대륙의 특징을 더 조사해 봅시다.

예시

- 아시아 대륙에는 가장 많은 인구가 살고 있습니다.
- 유럽 대륙에는 가장 작은 나라인 바티칸 시국이 있습니다.
- 북아메리카에는 세계에서 가장 긴 협곡인 그랜드 캐니언이 있습니다.
- 남아메리카에는 세계에서 가장 긴 산맥인 안데스산맥이 있습니다.
- 오세아니아 안에는 크고 작은 섬이 있습니다.



- 바다로 둘러싸인 큰 땅덩어리는 대륙이라고 하고, 넓고 큰 바다는 대양이라고 한다.
 (○) X)
- (태평양)은/는 가장 큰 바다로 아시아, 오세아니아, 남·북아메리카 대륙과 접해 있다.

2 각 대륙에는 어떤 나라들이 있을까요



각 대륙에 있는 나라 알아보기

1. 지도의 빈칸에 알맞은 나라의 이름을 써 봅시다.



2 각 대륙에는 어떤 나라들이 있을까요



각 대륙에 있는 나라 알아보기

1. 지도의 빈칸에 알맞은 나라의 이름을 써 봅시다.



2. 대륙 세 곳의 나라를 하나씩 정하여 아래 예시와 같이 나라 카드를 만들어 붙여 봅시다.

확인
해요

- 대륙마다 나라의 수는 (같다, 다르나)
- 세계 여러 나라는 서로 다른 위치에 있다. (○, X)

3 세계 여러 나라의 영토에는 어떤 특징이 있을까요



◎ 사회과 부도를 활용하여 세계 여러 나라 중 영토 면적이 비슷한 나라를 찾아봅시다.

예시

- 아르헨티나와 카자흐스탄의 면적이 비슷합니다.
- 콩고 민주 공화국과 사우디아라비아의 면적이 비슷합니다.
- 남수단 공화국과 프랑스의 면적이 비슷합니다.
- 스웨덴과 우즈베키스탄의 면적이 비슷합니다.
- 베트남과 핀란드의 면적이 비슷합니다.
- 오스트리아와 아랍 에미리트의 면적이 비슷합니다.

3 세계 여러 나라의 영토에는 어떤 특징이 있을까요



세계 여러 나라의 영토 특징 알아보기

◎ 자료를 보고 물음에 답해 봅시다.

1. 위에 제시된 나라의 영토 모양을 살펴보고 특징을 이야기해 봅시다.

예시

- 인도네시아: 크고 작은 많은 섬으로 이루어져 있습니다.
- 프랑스: 모양이 주전자 같습니다.
- 베트남: 남북으로 길게 뻗어 있습니다.
- 러시아: 동서로 넓게 뻗어 있습니다.

2. 위에 제시된 나라 외에 영토 모양이 독특한 나라를 찾아 써 봅시다.

예시


남아프리카 공화국: 영토 안에 동그란 구멍이 뚫려 있습니다.

3. 영토의 모양은 나라와 사람들의 생활에 어떤 영향을 미칠지 써 봅시다.

예시

영토가 동서로 넓게 펼쳐져 있어 지역마다 표준시가 다른 경우, 약속을 정할 때는 한 지역의 표준시를 기준으로 시간을 맞추어야 합니다.

확인
해요

- 영토가 넓을수록 다양한 (**자연환경**)이/가 나타난다.
- 세계 여러 나라의 영토 모양은 다양하다. ()

4 우리나라의 위치와 영역을 살펴볼까요



우리나라의 위치 설명하기

◎ 지도를 보고 물음에 답해 봅시다.



1. 위 지도의 빈칸에 우리나라 주변에 있는 나라의 이름을 써 봅시다.

2. 위 지도를 보고 우리나라의 위치를 설명해 봅시다.

- 우리나라는 아시아 대륙의 (동)쪽에 있고, 반도적 위치의 나라이다.
- 우리나라는 대략적으로 북위 (30)°~(45)°, 동경 (120)°~(135)° 사이에 있다.

4 우리나라의 위치와 영역을 살펴볼까요

활동해요

◎ 사회과 부도를 참고하여 우리나라 영토의 동, 서, 남, 북 끝을 찾아봅시다.



확인해요

- 우리나라는 아시아 대륙의 동쪽에 위치하며 대서양과 닿아 있다. (X)
- 영역은 (영토), (영해), (영공)을/를 모두 포함한다.

5 우리나라와 밀접한 관계를 맺고 있는 나라를 살펴볼까요



우리나라와 밀접한 관계를 맺고 있는 나라 조사하기

1. 우리나라와 밀접한 관계를 맺고 있는 나라를 찾아 우리나라와의 관계, 위치와 영토의 특징 등을 조사해 봅시다.

예시

나라 이름	페루	수도	리마
속한 대륙	남아메리카		
우리나라와의 관계	양국은 1963년에 수교하였으며 통상 협정, 경제 화학 협정 등을 맺음		
면적	약 128만 km ²		
위치	<ul style="list-style-type: none"> • 위도: 0°~북위 20° 정도 • 경도: 서경 68°~81° 정도 • 위치적 특성: 바다와 육지에 접하여 해양과 대륙 진출에 유리합니다. 		
영토의 특성	말 또는 토끼 모양입니다.		
특색 있는 자연 환경	다른 적도 국가와 달리 열대 기후만 있는 것은 아닙니다(한대, 온대 열대 기후 분포).		
특색 있는 인문환경	잉카 문명을 간직한 유적지로 유명한 마추픽추가 있습니다.		

2. 친구들의 발표를 들으면서 새롭게 알게 된 점이나 느낀 점을 써 봅시다.

예시

영국이 대체로 여름에는 신선하고, 겨울에는 온난하다는 것을 알게 되었습니다.

확인
해요

- 우리나라와 지리적으로 가까운 이웃 나라에는 (**일본**), (**중국**), (**러시아**)이/가 있다.
- 우리나라는 아시아 대륙의 나라들과만 교류하며 협력하고 있다. ()

주제 마무리

◎ 문제를 풀어 정답에 해당하는 나라를 순서대로 찾아 세계 일주 경로를 찾아봅시다.



스스로
점검해요

• 세계의 주요 대륙과 대양을 파악하였나요?	● ● ●
• 세계 여러 나라와 우리나라의 위치와 영토의 특징을 탐색할 수 있나요?	● ● ●
• 세계 여러 나라에 대해 관심을 갖게 되었나요?	● ● ●

단원 마무리

정리 콕콕

◎ 빈칸에 알맞은 말을 채워 생각 그물을 완성해 봅시다.

- ① 지구본
- ② 디지털 영상 지도
- ③ 적도
- ④ 본초 자오선
- ⑤ 오세아니아
- ⑥ 태평양
- ⑦ 반도
- ⑧ 중국
- ⑨ 사막

역량 쏙쏙

◎ 2~4명이 함께 세계여행 놀이를 하며 대륙별 여러 나라에 대해 알아봅시다.

이름:	이름:	이름:	이름:	이름:	이름:	이름:	이름:
아프리카 수도: 카이로(북위 30, 동경 30°) 면적: 3020만 ㎢ 인구: 12억 7천만 명	아시아 수도: 베이징(북위 40, 동경 116°) 면적: 4450만 ㎢ 인구: 45억 2천만 명	북아메리카 수도: 오타와(북위 45, 서경 75°) 면적: 2470만 ㎢ 인구: 3억 7천만 명	남아메리카 수도: 브라질리아(남위 15, 서경 47°) 면적: 1780만 ㎢ 인구: 2억 3천만 명	유럽 수도: 브뤼셀(북위 50, 동경 10°) 면적: 1018만 ㎢ 인구: 7억 4천만 명	오세아니아 수도: 캔버라(남위 35, 서경 149°) 면적: 769만 ㎢ 인구: 2,600만 명	북아메리카 수도: 오타와(북위 45, 서경 75°) 면적: 2470만 ㎢ 인구: 3억 7천만 명	남아메리카 수도: 브라질리아(남위 15, 서경 47°) 면적: 1780만 ㎢ 인구: 2억 3천만 명

- 구글 지도 / 국가 데이터서, 2023. / 세계 인구, 2023. / 19년 통계청, 2023.

① 평화 통일을 위한 노력

01 남북한은 오늘날까지 분단 상태를 유지하여 ()이/가 자유롭게 만나지 못하고 있다.

02 우리나라는 전쟁의 두려움을 지니고 살아가며 해마다 적은 국방비를 지출한다. (O, X)

03 ()은/는 군사 분계선에서 남쪽으로 약 7 km 떨어진 곳에 있는 평화관광지이다.

04 우리나라 헌법에서는 평화적인 통일을 지향합니다. (O, X)

05 동독과 서독은 ()이/가 무너지고 동독이 몰락하면서 갑작스러운 통일을 맞이하였다.

06 개성 공단 운영은 평화 통일을 이루기 위한 노력 중 (정치적, 경제적) 노력에 해당한다.

07 빈칸에 들어갈 알맞은 말을 쓰시오.

우리나라는 1950년 6월 25일 전쟁이 일어난 이후, 3년이 지난 해인 1953년 7월 ()을/를 맺은 뒤, 남북한은 오늘날까지 분단 상태를 유지하고 있다.

()

08 6·25 전쟁과 분단으로 나타난 우리 사회의 문제점으로 알맞은 것은 어느 것입니까?

()

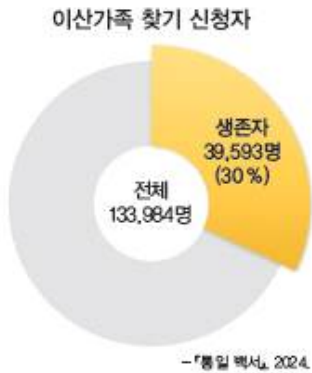
- ① 북한에 있는 유적지를 언제든지 보러 갈 수 있다.
- ② 북한 이탈 주민들은 고향에 자유롭게 갈 수 있다.
- ③ 분단 이후에도 한반도의 생태환경이 잘 보존되어 있다.
- ④ 지금도 군사적 대립으로 긴장 관계가 이어져 오고 있다.
- ⑤ 남한과 북한의 언어와 생활 방식이 같아 서로를 이해하는 데 어렵지 않다.

주제 평가

1. 평화 통일을 위한 노력, 민주화와 산업화

① 평화 통일을 위한 노력

09 그래프를 보고 이산가족에 대해 잘못 이야기 한 친구의 이름을 쓰시오.



한비: 여전히 이산가족의 아픔이 해결 되지 않고 있어.

경도: 이산가족 찾기 신청자 중 생존자가 절반 이상이야.

승연: 북한에 있는 가족이 살아 있는지, 죽었는지를 확인할 수 있는 제도가 필요해.

()

10 전쟁이나 분단과 관련된 장소로 알맞지 않은 것은 어느 것입니까? ()

- ① 개성 공단
- ② 임진각 관광지
- ③ 노근리 평화 공원
- ④ 비무장 지대(DMZ)
- ⑤ 매항리 평화 생태 공원

11 매항리 평화 생태 공원에 대한 설명으로 알맞은 것은 어느 것입니까? ()

- ① 남북한이 함께 이곳의 생태계를 조사하고 있다.
- ② 남북한의 교류와 협력의 공간으로 주목 받고 있다.
- ③ 수많은 지뢰가 묻혀 있어 분단의 상징과도 같은 곳이다.
- ④ 가족과 고향을 잃은 사람들의 아픔을 보여 주는 전시물이 있다.
- ⑤ 6·25 전쟁 이후 군인들이 훈련하는 사격장이 만들어진 곳이었다.

12 빈칸에 들어갈 알맞은 말을 쓰시오.

정부는 6·25 전쟁의 비극과 분단의 아픔이 남아 있는 몇몇 장소를 () (으)로 지정하여 이곳을 오가는 사람들에게 평화의 중요성을 생각해 볼 기회를 제공한다.

()

주제 평가

1. 평화 통일을 위한 노력, 민주화와 산업화

① 평화 통일을 위한 노력

13 남북통일을 이루는 방법에 대한 생각으로 알맞은 것은 어느 것입니까? ()

- ① 강제로 통일에 대한 생각을 맞춘다.
- ② 갈등을 해결하지 않고 통일부터 이룬다.
- ③ 충분히 대화하고 합의하는 과정을 거친다.
- ④ 우리나라만의 독자적인 문제로 생각한다.
- ⑤ 한 나라가 통일로 인한 모든 피해를 책임진다.

14 다음 글에서 설명하는 나라를 쓰시오.

- 2차 세계 대전 이후 동독과 서독으로 분단되었다.
- 여러 차례 교류와 협력 방법을 논의하며 통일의 기반을 다졌다.
- 베를린 장벽이 무너져 갑작스럽게 통일을 맞이하였다.

()

15 예멘의 통일 과정에 대해 잘못 이야기한 친구의 이름을 쓰시오.

민기: 남북 정상이 합의하여 첫 번째 통일을 이루었어.

효민: 나라의 권력을 나누는 과정에서 갈등이 깊어져 전쟁이 일어났어.

영진: 북예멘이 전쟁에서 승리하여 두 번째 통일을 이루고 갈등이 해결되었어.

()

16 빈칸에 공통으로 들어갈 말로 알맞은 것은 어느 것입니까? ()

대한민국 헌법(1987. 10. 29. 개정)
제4조 대한민국은 ()을/를 지향하며, 자유민주적 기본 질서에 입각한 평화적 () 정책을 수립하고 이를 추진한다.

제66조 ③ 대통령은 조국의 평화적 ()을/를 위한 성실한 의무를 진다.

- ① 분단 ② 통일 ③ 상봉
- ④ 갈등 ⑤ 승리

주제 평가

1. 평화 통일을 위한 노력, 민주화와 산업화

① 평화 통일을 위한 노력

17 남북한이 발표한 남북 기본 합의서에 대한 설명으로 알맞은 것은 어느 것입니까?

()

- ① 1972년에 발표하였다.
- ② 남북한의 정상이 만났다.
- ③ 서울과 평양에서 동시에 발표하였다.
- ④ 남북 화해, 평화, 교류와 협력 등의 내용을 합의하였다.
- ⑤ 자주, 평화, 민족 대단결이라는 통일 원칙을 내세웠다.

18 평화적 통일을 이루기 위한 남북한의 다양한 노력을 알맞게 선으로 연결해 보시오.

- | | | | | | |
|-----|-------------------|---|---|---|----------|
| (1) | 남북 정상 회담 | • | • | ㉠ | 경제적 노력 |
| (2) | 『겨레말큰 사전』 공동 편찬 | • | • | ㉡ | 사회문화적 노력 |
| (3) | 남북 철도 연결 구간 시험 운행 | • | • | ㉢ | 정치적 노력 |

19 빈칸에 들어갈 알맞은 지역을 쓰시오.



만월대는 ()에 있는 고려의 궁터로, 2007년부터 2018년까지 남북한의 문화유산 발굴 조사단이 청자와 기와 조각 등을 발굴하였다.

()

20 평화 통일을 위해 초등학생들이 할 수 있는 일로 알맞지 않은 것은 어느 것입니까?

()

- ① 초등학생 통일 행사에 참여한다.
- ② 통일 문제에 꾸준한 관심을 갖는다.
- ③ 이산가족의 자유로운 만남을 추진한다.
- ④ 분단과 평화와 관련된 장소를 답사한다.
- ⑤ 남북한의 사회적 차이를 이해하려고 노력한다.

01 () (으)로 이승만은 시민들의 요구를 받아들여 대통령 자리에서 물러났다.

02 전두환을 중심으로 한 군인들은 전라남도 광주에서 일어난 시위를 평화적으로 막았다. (O, X)

03 6월 민주 항쟁으로 노태우는 시민들의 요구를 받아들여 대통령 (간선제, 직선제)을/를 포함한 개헌이 이루어졌다.

04 헌법에서 보장하는 권리가 국가에 의하여 침해되면 ()에 문제를 제기할 수 있다.

05 1960년대에는 자본이나 기술력에 비하여 노동력이 많이 필요한 (경공업, 중화학 공업) 이/가 발전하였다.

06 사람들이 일자리를 찾거나 교육을 받으려고 도시에서 농촌으로 이주하였다. (O, X)

07 3·15 부정 선거에 대한 설명으로 알맞은 것을 <보기>에서 모두 골라 기호를 쓰시오.

- <보기>
- ㉠ 전라남도 광주에서 시위가 크게 일어났다.
 - ㉡ 대통령 직선제를 포함한 개헌이 이루어졌다.
 - ㉢ 초대 대통령이었던 이승만이 일으킨 사건이다.
 - ㉣ 정·부통령을 뽑는 선거에서 투표용지를 조작하는 등의 방법으로 승리하였다.

()

08 다음 글에서 설명하는 인물은 누구입니까? ()

- 1961년 일부 군인들과 무력으로 정권을 차지하였다.
- 1972년 대통령에게 많은 권력이 집중되게끔 헌법을 바꾸었다.
- 1979년 측근에게 피살당하였다.

- ① 이승만 ② 박정희 ③ 전두환
- ④ 김영삼 ⑤ 김대중

주제 평가

1. 평화 통일을 위한 노력, 민주화와 산업화

② 민주화와 산업화로 달라진 생활 문화

09 5·18 민주화 운동의 과정을 순서대로 나열한 것은 어느 것입니까? ()

- ㉠ 계엄령을 강화하자 전라남도 광주에서 시위가 크게 일어났다.
- ㉡ 전두환과 군인들은 계엄군을 보내 시위를 폭력적으로 진압하였다.
- ㉢ 전두환과 일부 군인들이 정권을 잡은 것에 반발한 시위가 전국에서 일어났다.

- ① ㉠ → ㉡ → ㉢
- ② ㉠ → ㉢ → ㉡
- ③ ㉡ → ㉠ → ㉢
- ④ ㉢ → ㉡ → ㉠
- ⑤ ㉢ → ㉠ → ㉡

10 빈칸에 들어갈 알맞은 인물을 쓰시오.



▲ 서울 명동 성당 앞에 모여 시위하는 사람들

1987년 6월 시민들은 전두환 정부의 독재에 반대하고 대통령 직선제를 요구하며 시위를 벌였다. 결국 당시 여당의 대표 ()은/는 시민들의 민주화 요구를 받아들일겠다고 발표하였다.

()

11 밑줄 친 '이 제도'에 대한 내용으로 알맞은 것은 어느 것입니까? ()

민주화 과정을 거치면서 우리 사회에는 민주적인 질서와 제도가 자리를 잡았다. 오늘날 지역의 주민들은 이 제도를 통해 그 지역을 대변하는 대표자를 직접 뽑고 있다.

- ① 정전 협정
- ② 대통령 간선제
- ③ 대통령 직선제
- ④ 지방 자치 제도
- ⑤ 헌법 소원 심판

12 국가 인권 위원회의 노력으로 알맞은 것은 어느 것입니까? ()

- ① 자유로운 언론 활동
- ② 인권 침해 사례 조사
- ③ 헌법재판소에 문제 제기
- ④ 다양한 정보 취재와 전달
- ⑤ 권력을 이용한 억압과 통제

주제 평가

1. 평화 통일을 위한 노력, 민주화와 산업화

② 민주화와 산업화로 달라진 생활 문화

13 사회 공동의 문제를 해결하기 위한 시민의 사회 참여 방식이 아닌 것을 <보기>에서 모두 고른 것은 어느 것입니까? ()

<보기>

㉠ 투표	㉡ 양극화
㉢ 1인 시위	㉣ 폭력 진압

- ① ㉠, ㉡ ② ㉠, ㉢ ③ ㉡, ㉣
 ④ ㉡, ㉣ ⑤ ㉢, ㉣

15 2000년대 이후에 발전한 산업에 대해 잘못 이야기한 친구의 이름을 쓰시오.

세종: 항공과 우주, 생명 공학 등의 첨단 산업이 발전하였다. 태인: 컴퓨터와 가전제품 등에 필요한 반도체 산업이 발전하였다. 도윤: 관광이나 금융 등 사람들에게 편리함과 즐거움을 주는 서비스 산업이 발전하였다.

()

14 시기와 우리나라 주요 수출품을 알맞게 선으로 연결해 보시오.

(1)	1960년대	•		•	㉠ 가발, 신발, 옷
(2)	1970년대	•		•	㉡ 기계, 전자, 자동차
(3)	1980년대	•		•	㉢ 선박, 철강, 석유 화학

16 산업화 과정에서 나타난 문제점으로 알맞지 않은 것은 어느 것입니까? ()

- ① 환경 오염 문제가 나타났다.
 ② 수입을 늘리는 정책을 추진하게 되었다.
 ③ 노동자의 권리를 보장하는 법이 지켜지지 않기도 하였다.
 ④ 우리나라의 경제가 다른 나라의 경제 상황에 크게 영향을 받게 되었다.
 ⑤ 정부와 기업이 가지고 있던 달러가 모자라 돈을 갚지 못할 위기에 처하였다.

주제 평가

1. 평화 통일을 위한 노력, 민주화와 산업화

② 민주화와 산업화로 달라진 생활 문화

17 밑줄 친 '그들'에 해당하는 사람들을 <보기>에서 모두 찾아 기호를 쓰시오.



위 사진은 외화를 벌기 위해 해외에 있는 광산에 간 광부들이 휴식을 취하고 있는 모습입니다. 그들처럼 해외로 떠난 노동자들은 낯선 환경에서도 열심히 일하였고, 그들이 번 외화는 우리나라의 산업화에 큰 도움이 되었습니다.

<보기>

- ㉠ 독일 병원에 취업한 간호사들
- ㉡ 이란에서 조선소를 건설하는 노동자들
- ㉢ 1970년대 지하철로 출퇴근하는 사람들
- ㉣ 1960년대 공업 고등학교에서 실습하는 학생들

()

18 빈칸에 들어갈 알맞은 말을 쓰시오.

산업화 과정에서 도시에 일자리가 늘어나면서 많은 사람이 도시로 이주하였다. 이를 () (이)라고 하며, 짧은 시간 동안 많은 인구가 도시로 몰려들자, 여러 가지 문제도 발생하였다.

()

19 산업화로 달라진 생활 문화에 대한 설명으로 알맞지 않은 것은 어느 것입니까? ()

- ① 교육의 확대로 교육비는 감소되었다.
- ② 대중 매체의 보급으로 대중문화가 발달하였다.
- ③ 가정의 소득이 늘어나 소비 수준이 높아졌다.
- ④ 도시 변두리에는 달동네라고 불리는 마을이 형성되었다.
- ⑤ 도시화 과정으로 우리나라 인구의 대부분이 도시에 거주하고 있다.

20 산업화 과정에서 달라진 가족 형태에 대한 글에서 ㉠, ㉡에 들어갈 말로 알맞게 짝지어진 것은 어느 것입니까? ()

산업화로 가족의 형태가 변화하였는데, 여러 세대가 함께 사는 (㉠) 형태가 점차 줄어들고, 부모와 (㉡) 자녀로 구성된 가족 형태가 늘어났다.

- | | | |
|---|-------|----|
| | ㉠ | ㉡ |
| ① | 대가족 | 기혼 |
| ② | 대가족 | 비혼 |
| ③ | 핵가족 | 기혼 |
| ④ | 핵가족 | 비혼 |
| ⑤ | 1인 가구 | 비혼 |

01 ㉠, ㉡에 들어갈 말로 알맞게 짝지어진 것은 어느 것입니까? ()

우리나라는 (㉠) 전쟁을 겪고, 1953년 7월 정전 협정을 맺은 뒤, 남북한은 오늘날까지 (㉡) 상태를 유지하고 있다.

- | | |
|--------|----|
| ㉠ | ㉡ |
| ① 4·19 | 분단 |
| ② 4·19 | 통일 |
| ③ 5·18 | 분단 |
| ④ 6·25 | 통일 |
| ⑤ 6·25 | 분단 |

02 6·25 전쟁과 분단으로 나타난 우리 사회의 문제점으로 알맞지 않은 것은 어느 것입니까? ()

- ① 이산가족들이 고향에 가지 못한다.
- ② 매년 많은 예산을 국방비로 사용한다.
- ③ 남북의 언어와 문화가 달라져 혼란스러워진다.
- ④ 육지를 통해 다른 나라와 자유롭게 교류할 수 있다.
- ⑤ 사람들이 남북한 사이에 다시 전쟁이 일어나지 않을까 두려움을 가지며 산다.

03 빈칸에 들어갈 알맞은 장소를 쓰시오.

()은/는 정전 협정 이후로 군사 행위가 금지된 곳으로, 수많은 지뢰가 묻혀 있어 분단의 상징과도 같은 곳이다. 하지만 오늘날 이곳은 남북한의 교류와 협력의 공간으로 주목받고 있다.

()

04 노근리 평화 공원에 대해 잘못 이야기한 친구는 누구입니까? ()

- ① 수진: 충청북도 영동군에 있어.
- ② 영운: 전쟁이나 분단과 관련된 장소야.
- ③ 민지: 군인들이 훈련하는 사격장이었어.
- ④ 용수: 희생된 피란민들을 기억하고자 평화 공원을 만들었어.
- ⑤ 경민: 미군이 피란민 속에 북한군이 숨어 있다고 생각하여 총을 쏘았어.

05 우리나라가 바람직한 남북통일을 생각할 때 참고할 수 있는 나라로 알맞은 것을 <보기>에서 모두 고른 것은 어느 것입니까? ()

<보기>

㉠ 독일	㉡ 프랑스
㉢ 베트남	㉣ 남아프리카 공화국

- | | | |
|--------|--------|--------|
| ① ㉠, ㉡ | ② ㉠, ㉢ | ③ ㉡, ㉣ |
| ④ ㉡, ㉣ | ⑤ ㉢, ㉣ | |

06 평화 통일을 이루기 위한 정치적 노력의 과정을 순서대로 쓰시오.

- ㉠ 남북 정상 회담
- ㉡ 7·4 남북 공동 성명
- ㉢ 남북 기본 합의서 채택

→ →

07 ㉠, ㉡에 들어갈 알맞은 단어를 쓰시오.

남북한은 2007년에 서울과 신의주를 연결한 (㉠)과/와 동해안을 따라 놓인 (㉡) 철도를 복원하여 시험 운행하였다.

㉠: (), ㉡: ()

08 다음 글에서 설명하는 내용으로 알맞은 것은 어느 것입니까? ()

• 2005년부터 시작되었다.
• 남북한의 국어학자들이 언어를 통일하기 위하여 만들고 있다.

- ① 남북 정상 회담
- ② 남북 기본 합의서
- ③ 개성 만월대 공동 발굴
- ④ 올림픽 선수단 동시 입장
- ⑤ 『겨레말큰사전』 공동 편찬

09 다음 글과 관련된 사건으로 알맞은 것은 어느 것입니까? ()

시간이 없는 관계로 어머니를 뵙지 못하고 떠납니다. 끝까지 부정 선거에 항의하겠습니다. …… 저와 제 친구들 그리고 대한민국 모든 학생이 민주주의를 위하여 싸웁니다. 어머니, 시위에 나선 저를 탓하지 말아 주세요. 우리가 아니면 누가 하겠습니까?

- 한성 여자 중학교 학생 진영숙이 쓴 편지

- ① 4·19 혁명
- ② 6월 민주 항쟁
- ③ 남북 정상 회담
- ④ 5·18 민주화 운동
- ⑤ 6·29 민주화 선언

10 5·18 민주화 운동에 대한 설명으로 알맞은 것은 어느 것입니까? ()

- ① 박정희 정부 때 일어난 일이다.
- ② 시민들이 계엄군에 맞서 싸웠다.
- ③ 3·15 부정 선거가 계기가 되었다.
- ④ 대통령 직선제를 포함한 개헌이 이루어졌다.
- ⑤ 이 사건으로 이승만은 대통령 자리에서 물러났다.

① 민주주의와 선거

01 ()은/는 민주주의 국가에서 국가의 모든 일을 결정하는 힘인 주권이 국민에게 있다는 것을 말한다.

02 선거는 대표자들에게 국민을 대신하여 국가의 정책을 결정할 수 있는 정당성을 준다.
(O, X)

03 (보통 선거, 직접 선거)는 선거일 기준으로 18세 이상의 국민이면 누구나 투표할 수 있는 원칙이다.

04 공약은 ()이/가 어떤 일을 실천하겠다고 약속하는 것이다.

05 선거의 과정에서 후보자들은 일관된 방법으로 선거 운동을 하여 자신의 정책이나 공약을 알린다.
(O, X)

06 개표 후 표를 가장 (적게, 많이) 얻은 후보자가 당선이 된다.

07 빈칸에 들어갈 알맞은 말을 쓰시오.

()의 가장 기본적인 역할은 대표자를 뽑는 일이다. 이것을 통해 국민의 뜻을 대신할 대표자를 뽑아 국가를 운영한다.

()

08 선거의 중요성으로 알맞은 것을 <보기>에서 모두 고른 것은 어느 것입니까? ()

- <보기> —
- ㉠ 대표자를 뽑아 자신의 뜻을 정치에 반영할 수 있다.
 - ㉡ 선거를 통해서만 국민이 바라는 정책과 법이 실현되지는 않는다.
 - ㉢ 나라의 주인인 국민이 선거에 관심을 가져야 좋은 정책이 나올 수 있다.
 - ㉣ 선거로 뽑힌 대표자는 국가의 중요한 일을 결정하지만, 우리 생활에는 영향을 미치지 않는다.

- ① ㉠, ㉡ ② ㉠, ㉣ ③ ㉡, ㉣
- ④ ㉡, ㉣ ⑤ ㉣, ㉣

09 선거의 역할로 알맞지 않은 것은 어느 것입니까? ()

- ① 국민들을 정치에 참여하게 한다.
- ② 선거를 통하여 뽑힌 대표자를 평가한다.
- ③ 국민의 뜻을 잘 반영할 수 있는 대표자를 뽑는다.
- ④ 항상 새로운 대표자를 뽑아 국민의 뜻을 반영한다.
- ⑤ 국민들의 지지와 동의를 받은 대표자에게 정당성을 부여한다.

10 빈칸에 들어갈 알맞은 말을 쓰시오.

선거의 가장 기본적인 역할은 대표자를 뽑는 일이다. 선거를 통해 국민의 뜻을 대신할 대표자를 뽑아 국가를 운영하게 하고 있으며, 선거는 대표자들에게 국민을 대신하여 국가의 정책을 결정할 수 있는 ()을/를 부여한다.

()

11 밑줄 친 '노력'으로 알맞지 않은 것은 어느 것입니까? ()

선거는 국민 주권을 실현하는 중요한 일이므로, 우리나라는 선거 참여율을 높이기 위해 다양한 노력을 하고 있다.

- ① 사전 투표
- ② 재외 선거 제도
- ③ 선상 투표 제도
- ④ 청년 일자리 정책
- ⑤ 수요일 선거일 지정

12 민주적인 선거의 원칙에 대해 잘못 이야기 한 친구의 이름을 쓰시오.

건희: 투표는 다른 사람이 대신할 수도 있어.
 용민: 선거일 기준으로 18세 이상의 국민이면 누구나 투표할 수 있어.
 영지: 어느 후보자에게 투표하였는지 다른 사람이 알지 못하도록 비밀로 해야 해.

()

13 다음 글에서 보장하고 있는 민주적 선거의 원칙은 어느 것입니까? ()

투표는 다른 사람이 대신할 수 없고, 선거권을 가진 사람이 직접 투표소에 가서 투표해야 한다.

- ① 보통 선거 ② 일반 선거
- ③ 직접 선거 ④ 평등 선거
- ⑤ 비밀 선거

14 민주적인 선거의 원칙과 그에 대한 설명을 알맞게 선으로 연결해 보시오.

(1) 보통 선거	•	① 재산, 성별, 학력 등과 관계없이 누구나 한 표씩만 투표할 수 있다.
(2) 평등 선거	•	㉠ 선거일 기준으로 18세 이상의 국민이면 누구나 투표할 수 있다.
(3) 비밀 선거	•	㉡ 어느 후보자에게 투표하였는지 다른 사람이 알지 못하도록 해야 한다.

15 다음 글에서 위반한 선거의 원칙으로 알맞은 것은 어느 것입니까? ()

갑국은 18세 이상의 성인에게 투표권을 주었지만, 65세 이상이 넘는 노인에게는 투표권을 주지 않았다.

- ① 평등 선거 ② 일반 선거
- ③ 직접 선거 ④ 보통 선거
- ⑤ 비밀 선거

16 빈칸에 공통으로 들어갈 알맞은 말을 쓰시오.



()은/는 후보자가 어떤 일을 실천하겠다고 약속하는 것이다. 후보자가 제안한 ()의 목표가 적절하고 방법이 구체적인지, 실천할 수 있는지 등을 확인한다.

()

- ② 국가기관의 역할과 권력 분립 ~
- ③ 민주주의 사회에서 미디어의 역할과 이용

01 우리나라의 국가기관은 국회, 행정부, 법원으로 나뉜다. (O, X)

02 우리나라의 행정부는 (대통령, 대법원장)을 중심으로 국무총리와 여러 부, 처, 청 등으로 구성된다.

03 ()은/는 군사적 위협과 외부의 침략으로부터 국가를 지키는 등 국가 방위에 관한 일을 한다.

04 법원은 한 사건에 대해 급이 다른 법원에서 두 번까지 재판받을 수 있도록 하고 있다. (O, X)

05 ()은/는 정보를 전달하여 공동체 구성원의 의사 결정을 돕는 중요한 도구이다.

06 (사회 관계망 서비스, 신문)을/를 통해 자신의 생각을 자유롭게 주고받고, 다양한 정보를 교환하기도 한다.

07 빈칸에 들어갈 알맞은 말을 쓰시오.

민주주의 국가에서는 국민의 자유와 권리를 보호하기 위하여 국가 권력을 여러 국가기관이 서로 나누어 맡게 하고 있는데, 이를 () (이)라고 한다.

()

08 우리나라의 권력 분립에 대한 설명으로 알맞지 않은 것은 어느 것입니까? ()

- ① 법에 따라 집행하는 곳은 행정부이다.
- ② 나라의 법을 만드는 일은 국회가 한다.
- ③ 법에 따라 잘잘못을 가리는 일은 법원이 맡고 있다.
- ④ 국가기관은 대통령으로부터 국가 권력을 나누어 맡는다.
- ⑤ 국가기관은 서로 조화를 이루며 국민이 일상생활에서 행복한 삶을 누릴 수 있도록 한다.

주제 평가

2. 민주주의와 시민 참여

- ② 국가기관의 역할과 권력 분립 ~
- ③ 민주주의 사회에서 미디어의 역할과 이용

17 빈칸에 공통으로 들어갈 알맞은 말을 쓰시오.

()은/는 사회 구성원의 지지를 받고 있다고 인정되는 여러 가지 의견을 말한다. 미디어는 ()을/를 형성하여 국가의 정책을 결정하는 데에 영향을 끼치기도 한다.

()

18 미디어의 내용을 비판적으로 받아들여야 하는 까닭으로 알맞지 않은 것은 어느 것입니까? ()

- ① 여론을 조작하여 민주주의를 위협할 수 있다.
- ② 거짓 정보나 잘못된 사실로 인한 피해가 발생할 수 있다.
- ③ 한쪽의 입장과 주장만을 보면 공정한 판단을 내릴 수 없다.
- ④ 올바른 정보만을 많이 얻을 수 있어 정확한 판단을 내릴 수 있다.
- ⑤ 편견이 포함된 미디어를 그대로 받아들여 편견이나 혐오가 발생할 수 있다.

19 ㉠, ㉡에 들어갈 말로 알맞게 짝지어진 것은 어느 것입니까? ()

미디어의 정보를 올바르게 이용할 때 나와 다른 사람의 개인 정보를 (㉠)하지 않도록 주의하고, 의사소통 과정에서 다른 사람에게 (㉡)적인 언어를 사용하지 않도록 주의한다.

- | | | |
|---|----|----|
| | ㉠ | ㉡ |
| ① | 침해 | 폭력 |
| ② | 침해 | 친화 |
| ③ | 보호 | 폭력 |
| ④ | 보호 | 친화 |
| ⑤ | 비판 | 폭력 |

20 나만의 영상을 만들어 정보를 제공할 때 주의해야 할 점으로 잘못 이야기한 친구는 누구입니까? ()

- ① 소영: 메시지가 간결하고 정확해야 해.
- ② 태진: 정확하고 신뢰할 수 있는 자료를 이용해야 해.
- ③ 문석: 개인적인 의견은 의견일 뿐이므로 살펴볼 필요는 없어.
- ④ 성은: 다른 사람의 권리를 침해하였는지 꼼꼼히 확인해야 해.
- ⑤ 보나: 내 생각을 가장 효과적으로 전달하는 방법을 고민해야 해.

01 빈칸에 들어갈 말로 알맞은 것은 어느 것입니까? ()

민주주의 국가에서 국민은 국가의 모든 일을 결정하는 힘인 주권을 가진다. 이 힘을 ()라고 한다.

- ① 미디어 ② 민주주의 ③ 국민 주권
- ④ 권력 분립 ⑤ 보통 선거

02 선거의 중요성으로 알맞지 않은 것은 어느 것입니까? ()

- ① 선거를 통해 국민이 바라는 정책과 법이 실현된다.
- ② 대표자를 뽑아 자신의 뜻을 정치에 반영할 수 있다.
- ③ 참여하는 국민이 적을수록 우리의 삶은 더 나아진다.
- ④ 나라의 주인인 국민이 선거에 관심을 가져야 좋은 정책이 나올 수 있다.
- ⑤ 선거로 뽑힌 대표자는 국가의 중요한 일을 결정하고, 우리 생활에 영향을 미친다.

03 선거의 역할에 대해 잘못 이야기한 친구의 이름을 쓰시오.

기훈: 선거를 통해 대표자를 뽑아.
 은지: 선거는 뽑은 대표자에게 정당성을 부여해.
 준혁: 선거를 한다고 해서 정치에 참여할 수 있는 건 아니야.

()

04 학생이 설명하는 제도로 알맞은 것은 어느 것입니까? ()

투표율을 높이고자 다른 나라에 살고 있는 우리 국민이 해외에서도 투표할 수 있는 제도를 시행하고 있습니다.



- ① 재외 선거 제도
- ② 선상 투표 제도
- ③ 지방 자치 제도
- ④ 헌법 소원 심판
- ⑤ 비공개 재판 제도

05 (가), (나)에 해당하는 민주적 선거의 원칙으로 알맞게 짝지어진 것은 어느 것입니까?

()

(가) 선거일 기준으로 18세 이상의 국민이면 누구나 투표할 수 있다.
 (나) 어느 후보자에게 투표하였는지 다른 사람이 알지 못하도록 해야 한다.

- | | (가) | | (나) |
|---|-------|--|-------|
| ① | 보통 선거 | | 비밀 선거 |
| ② | 보통 선거 | | 평등 선거 |
| ③ | 보통 선거 | | 직접 선거 |
| ④ | 직접 선거 | | 비밀 선거 |
| ⑤ | 직접 선거 | | 평등 선거 |

06 빈칸에 들어갈 알맞은 말을 쓰시오.

()은/는 정치적 주장이나 의견이 같은 사람들이 모여 정권을 잡고 정치적 이상을 실현하기 위하여 조직한 단체를 말한다.

()

07 우리나라 선거의 과정에 대한 내용으로 알맞지 않은 것은 어느 것입니까? ()

- ① 합법적인 선거 운동을 한다.
- ② 후보로 나오는 사람들은 국회에 후보자 등록을 한다.
- ③ 개표 후 표를 가장 많이 얻은 투표자가 당선자가 된다.
- ④ 지역마다 선거권자를 확인하는 선거인 명부를 작성한다.
- ⑤ 공동체 구성원과 활발하게 토론하며 충분히 고민한 후 투표한다.

08 권력 분립에 대한 설명으로 알맞은 것을 <보기>에서 모두 골라 기호를 쓰시오.

<보기>

- ㉠ 법원은 법을 만든다.
- ㉡ 국회는 법에 따라 재판한다.
- ㉢ 행정부는 법에 따라 나라 살림을 한다.
- ㉣ 국가 권력을 나누어 맡은 국가기관은 서로 조화를 이루어야 한다.

()

09 다음 사진과 관련된 일을 하는 국가기관은 어느 것입니까? ()



다음 사진은 고위 공무원 후보자에 대한 인사 청문회를 통하여 후보자의 능력이나 도덕적인 자질을 심사하는 장면이다.

- ① 법원 ② 병원 ③ 국회
- ④ 행정부 ⑤ 헌법재판소

10 행정부에 대한 설명으로 알맞은 것은 어느 것입니까? ()

- ① 법에 따라 재판하여 잘못을 가려 준다.
- ② 법을 지키지 않은 사람을 처벌하여 사회 질서를 유지한다.
- ③ 국회의원들이 모여 국민의 뜻에 따라 나라의 중요한 일을 결정한다.
- ④ 대통령을 중심으로 국무총리와 여러 부, 처, 청 등으로 구성되어 있다.
- ⑤ 국정 감사를 통해 나랏일을 법률에 따라 제대로 처리하고 있는지 확인한다.

11 ㉠, ㉡에 들어갈 행정 각부로 알맞은 것은 어느 것입니까? ()

(㉠)은/는 우리나라에 있는 이산가족의 실태를 파악하여 체계적인 관리 제도를 마련한다. (㉡)은/는 군사적 위협과 외부의 침략으로부터 국가를 지키는 등 국가 방위에 관한 일을 한다.

- | | |
|-------|--------|
| ㉠ | ㉡ |
| ① 외교부 | 교육부 |
| ② 외교부 | 국방부 |
| ③ 통일부 | 행정 안전부 |
| ④ 통일부 | 교육부 |
| ⑤ 통일부 | 국방부 |

12 우리나라의 행정 각부와 그 역할에 대해 잘못 짚지은 것은 어느 것입니까? ()

- ① 교육부 - 국가의 교육 계획을 세우는 일을 맡는다.
- ② 행정 안전부 - 범죄를 저지른 사람을 관리하여 법질서를 유지한다.
- ③ 보건 복지부 - 예방 접종이나 복지 서비스 등을 통해 국민의 건강을 지킨다.
- ④ 문화 체육 관광부 - 문화, 예술, 체육, 관광 등과 관련된 업무를 맡는다.
- ⑤ 기후 에너지 환경부 - 인공지능 분야를 개발하는 데 투자를 확대한다.

13 법원에서 하는 일에 대해 알맞게 이야기한 친구의 이름을 쓰시오.

민선: 사람들 사이의 다툼을 해결해.
 호연: 개인과 국가 사이의 다툼만 해결해.
 현수: 국민에게 재판 과정을 비밀로 하면서 공정한 재판을 해.

()

14 다음 글에서 알 수 있는 국가기관 사이의 상호 견제로 알맞은 것은 어느 것입니까?

()

대통령이 국무 회의를 열어 국회가 의결한 법안에 대해 재의 요구권 행사를 결정하였다.

- ① 법원이 국회를 견제하고 있다.
- ② 법원이 행정부를 견제하고 있다.
- ③ 행정부가 국회를 견제하고 있다.
- ④ 행정부가 법원을 견제하고 있다.
- ⑤ 국회가 행정부를 견제하고 있다.

15 다음 글에서 설명하는 것은 무엇인지 쓰시오.

• 정보를 전달하여 공동체 구성원의 의사 결정을 돕는 중요한 도구이다.
 • 사람들의 정보나 생각을 주고받기 위하여 활용하는 의사소통 매체나 수단이다.

()

① 다양한 공간 자료와 위치 표현

01 ()은/는 실제 지구의 모습을 작게 줄인 모형이다.

02 지구본이나 지도에 일정한 간격으로 그려진 가로선들을 위선이라고 하고, 각 위선의 값을 적도라고 한다. (O, X)

03 겨울철 북반구에서는 저위도에서 고위도로 갈수록 낮의 길이는 (길어진다, 짧아진다).

04 경도의 기준은 본초 자오선이다. (O, X)

05 지구가 자전하면서 낮과 밤이 생기고 경도에 따라 ()이/가 생긴다.

06 우리나라는 북위 33°~43°, (동경, 서경) 124°~132° 사이에 위치한다.

07 세계 지도의 특징으로 알맞지 않은 것을 <보기>에서 모두 골라 기호를 쓰시오.

<보기>

- ㉠ 가지고 다니며 사용하기에 편리하다.
- ㉡ 전 세계의 모습을 한눈에 살펴보기 어렵다.
- ㉢ 스마트폰이나 컴퓨터 등의 디지털 기기가 필요하다.
- ㉣ 평면에 펼쳤기 때문에 실제 모습과 다른 점이 나타나기도 한다.

()

08 ㉠, ㉡에 들어갈 말로 알맞은 것은 어느 것입니까? ()

디지털 영상 지도를 이용하면 현재 나의 (㉠)을/를 확인할 수 있다. 궁금한 장소를 (㉡)하여 그곳의 여러 가지 정보를 얻을 수 있으며, 이동 경로도 탐색할 수 있다.

- | | |
|------|----|
| ㉠ | ㉡ |
| ① 위치 | 답사 |
| ② 위치 | 검색 |
| ③ 위치 | 방문 |
| ④ 상태 | 답사 |
| ⑤ 상태 | 검색 |

주제 평가

3. 지구, 대륙 그리고 국가들

① 다양한 공간 자료와 위치 표현

09 공간 자료와 공간 자료의 활용 목적을 알맞게 선으로 연결해 보시오.

- | | | | | |
|---------------|---|---|---|-------------------------------------|
| (1) 지구본 | • | • | ㉠ | 자세한 지리 정보를 파악할 때 편리하게 이용한다. |
| (2) 세계 지도 | • | • | ㉡ | 각 나라의 크기나 도시 간의 거리를 비교할 때 이용한다. |
| (3) 디지털 영상 지도 | • | • | ㉢ | 여러 지리 정보를 전체적으로 한눈에 파악하고 싶을 때 이용한다. |

10 위도에 대하여 잘못 이야기한 친구는 누구 입니까? ()

- ① 승훈: 위도의 기준은 적도야.
- ② 영은: 저위도 지역은 일 년 내내 기온이 높아.
- ③ 호산: 각 나라는 반드시 하나의 위도에만 걸쳐 있어.
- ④ 지울: 위도는 범위에 따라 저위도, 중위도, 고위도로 나뉘어.
- ⑤ 새아: 적도를 중심으로 북쪽의 위도를 북위, 남쪽의 위도를 남위라고 해.

11 빈칸에 공통으로 들어갈 알맞은 말을 쓰시오.

()은/는 태양의 복사 에너지가 땅에 닿는 양을 의미한다. 저위도 지역에서 고위도로 가면서 ()이/가 점점 줄어든다.

()

12 지도에서 볼 때 대한민국과 위도가 비슷한 나라는 어디입니까? ()



- | | |
|-------------|-----------|
| ① 캐나다 | ② 튀르키예 |
| ③ 아르헨티나 | ④ 오스트레일리아 |
| ⑤ 남아프리카 공화국 | |

주제 평가

3. 지구, 대륙 그리고 국가들

① 다양한 공간 자료와 위치 표현

13 사진과 같이 두 국가의 계절별 모습이 다르게 나타나는 까닭으로 알맞은 것은 어느 것입니까? ()



▲ 8월의 대한민국

▲ 8월의 오스트레일리아

- ① 대한민국이 오스트레일리아보다 더 덥기 때문이다.
- ② 오스트레일리아의 겨울이 대한민국보다 더 길기 때문이다.
- ③ 오스트레일리아가 대한민국보다 고위도에 위치하기 때문이다.
- ④ 저위도에서 고위도로 갈수록 낮의 길이가 길어지기 때문이다.
- ⑤ 지구가 적도를 기준으로 북반구와 남반구의 계절이 반대로 나타나기 때문이다.

14 밑줄 친 '이 선'은 무엇인지 쓰시오.

- 이 선은 영국의 런던을 지난다.
- 이 선은 경도의 기준이 되는 세로선이다.
- 이 선을 기준으로 동쪽의 경도를 동경, 서쪽의 경도를 서경이라고 한다.

()

15 경선과 경도에 대한 설명으로 알맞은 것을 <보기>에서 모두 고른 것은 어느 것입니까? ()

<보기>

- ㉠ 경도에 따라 시차가 생긴다.
- ㉡ 우리나라의 표준 경선은 서경 135° 선이다.
- ㉢ 본초 자오선을 기준으로 동쪽으로 15°씩 갈수록 1시간이 빨라진다.
- ㉣ 지구의 공전으로 지구상에는 낮과 밤이 생기고 지역별로 경도에 따라 시간이 달라진다.

- ① ㉠, ㉡ ② ㉠, ㉣ ③ ㉡, ㉣
- ④ ㉡, ㉣ ⑤ ㉢, ㉣

16 시차가 우리 생활에 미치는 영향으로 알맞지 않은 것은 어느 것입니까? ()

- ① 시차를 활용하여 업무를 연속해서 할 수 있다.
- ② 농작물 수확 시기가 달라 농산물 교역을 활발하게 한다.
- ③ 국제 경기에 참여하는 선수들은 미리 가서 적응 훈련을 한다.
- ④ 날짜 변경선과 가까운 곳에 있는 나라들은 이를 관광 산업으로 활용한다.
- ⑤ 다른 나라의 학생이어도 비슷한 시간대에 온라인상으로 수업을 할 수 있다.

② 대륙, 대양과 세계 여러 나라

01 ()은/는 대륙 중에서 가장 크고, 세계 면적의 약 30 %를 차지한다.

02 인도양은 우리나라와 인접해 있는 가장 큰 대양으로 지구 전체 바다의 약 50 %를 차지한다.

(O, X)

03 (러시아, 바티칸 시국)의 면적은 우리나라의 경북궁보다 약간 큰 0.44 km²이다.

04 유럽의 ()은/는 영토가 장화 모양을 닮았다.

05 우리나라의 동쪽에는 중국, 서쪽에는 일본이 있다.

(O, X)

06 (베트남, 사우디아라비아) (으)로부터 가장 많은 원유를 수입하며, 경제적 협력을 유지하고 있다.

07 세계의 대륙과 대양에 대해 알맞은 것은 어느 것입니까? ()

- ① 아프리카는 북반구와 남반구에 걸쳐 있다.
- ② 유럽은 대륙 중에서 가장 크며, 우리나라가 속해 있다.
- ③ 북아메리카에는 세계에서 두 번째로 긴 아마존강이 있다.
- ④ 아시아에는 여러 나라에 걸쳐 있는 알프스 산맥이 있다.
- ⑤ 오세아니아는 북반구에 위치하며, 태평양, 대서양, 북극해와 닿아 있다.

08 해양과 그 위치에 대해 잘못 이야기한 친구의 이름을 쓰시오.

상희: 인도양은 남·북아메리카, 유럽, 아프리카 대륙과 접해 있어.

현호: 북극해는 북극 주변에 있는 바다로, 대부분 얼음에 덮여 있어.

가인: 태평양은 아시아, 오세아니아, 남·북 아메리카 대륙과 접해 있어.

()

주제 평가

3. 지구, 대륙 그리고 국가들

② 대륙, 대양과 세계 여러 나라

09 빈칸에 들어갈 알맞은 대륙을 쓰시오.

()은/는 대륙 중에서 가장 작 으며, 대부분 남반구에 있다. 또, 코알라 나 캥거루 등 다른 대륙에는 없는 동물 들이 많이 살고 있다.

()

11 밑줄 친 '이 대륙'에 속하지 않는 나라로 알맞은 것은 어느 것입니까? ()

이 대륙은 대륙 중에서 가장 크며, 우리나라가 속해 있다. 또, 이 대륙에는 지구에서 가장 높은 산인 에베레스트 산이 있다.

- ① 인도 ② 몽골
- ③ 뉴질랜드 ④ 아프가니스탄
- ⑤ 사우디아라비아

10 각 대륙과 속한 나라를 알맞게 선으로 연결 해 보시오.

(1) 유럽 • • ㉠ 핀란드

(2) 아프리카 • • ㉡ 브라질

(3) 남아메리카 • • ㉢ 알제리

12 세계 여러 나라의 면적에 대한 설명으로 알맞지 않은 것은 어느 것입니까? ()

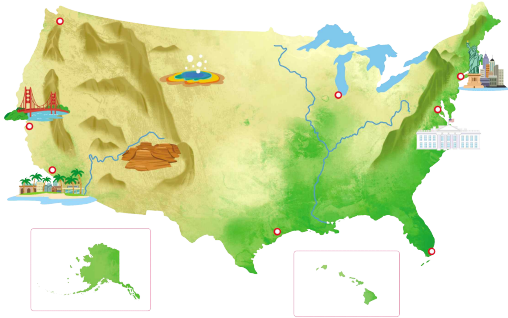
- ① 우리나라의 영토 면적은 약 22만 km²이다.
- ② 세계에서 영토 면적이 가장 넓은 나라는 캐나다이다.
- ③ 영토가 넓으면 사회를 통합하는 데 어려움이 있을 수도 있다.
- ④ 우리나라와 영토 면적이 비슷한 나라로는 벨라루스, 가나 등이 있다.
- ⑤ 영토가 넓을수록 다양한 자연환경과 풍부한 자원을 가질 가능성이 크다.

주제 평가

3. 지구, 대륙 그리고 국가들

② 대륙, 대양과 세계 여러 나라

13 다음에서 설명하는 나라의 이름을 쓰시오.



- 북아메리카에 위치해 있다.
- 영토의 면적이 세계에서 세 번째로 넓다.
- 다른 나라를 사이에 두고 영토가 떨어져 있다.

()

14 칠레의 영토 모양과 특징으로 알맞은 것은

어느 것입니까? ()

- ① 해안선이 복잡하다.
- ② 남북으로 길게 뻗어 있다.
- ③ 영토가 원 모양에 가깝다.
- ④ 영토가 장화 모양을 닮았다.
- ⑤ 국경선이 단조롭고 더듬이 모양이다.

15 우리나라의 위치에 대한 설명으로 알맞은 것을 <보기>에서 모두 고른 것은 어느 것입니까? ()

<보기>

- ㉠ 아시아 대륙의 동쪽에 있다.
- ㉡ 우리나라의 영토는 한반도만 있다.
- ㉢ 우리나라의 영해는 기선으로부터 12해리까지가 범위이다.
- ㉣ 가장 큰 대양인 대서양과 닿아 있는 반도적 위치의 나라이다.

- ① ㉠, ㉡
- ② ㉠, ㉢
- ③ ㉡, ㉣
- ④ ㉡, ㉣
- ⑤ ㉢, ㉣

16 빈칸에 공통으로 들어갈 알맞은 말을 쓰시오.

우리나라 영토, 영해, 영공을 모두 합쳐 () (이)라고 한다. () 은/는 한 나라의 주권이 미치는 범위를 뜻한다.

()

주제 평가

3. 지구, 대륙 그리고 국가들

② 대륙, 대양과 세계 여러 나라

17 그림에서 우리나라 주변에 있는 나라가 아닌 나라는 어디입니까? ()



- ① 일본 ② 중국 ③ 몽골
④ 러시아 ⑤ 아르헨티나

18 우리나라와 밀접한 관계를 맺고 있는 나라와 그 나라의 수도가 알맞게 짝지어진 것은 어느 것입니까? ()

- ① 중국 - 도쿄
② 일본 - 베이징
③ 미국 - 워싱턴D.C
④ 베트남 - 모스크바
⑤ 사우디아라비아 - 하노이

19 일본에 대한 설명으로 알맞은 것을 <보기>에서 모두 골라 기호를 쓰시오.

<보기>

- ㉠ 우리나라의 북쪽에 위치한다.
㉡ 아시아에서 영토 면적이 가장 넓은 나라이다.
㉢ 네 개의 큰 섬과 3,000개가 넘는 작은 섬들로 이루어져 있다.
㉣ 태평양 연안을 따라 대도시와 대규모의 공업 지역이 형성되어 있다.

()

20 ㉠, ㉡에 들어갈 나라로 알맞게 짝지어진 것은 어느 것입니까? ()

우리나라는 세계 여러 나라와 정치, 경제, 문화 등 다양한 문화에서 교류하고 있다. 그중 우리나라는 (㉠) (으)로부터 가장 많은 원유를 수입하고, 경제적 협력을 유지하고 있다. 또, (㉡) 은/는 동남아시아 나라 중에서 경제·문화 면에서 가장 긴밀한 관계를 맺고 있다.

㉠

㉡

- | | |
|-----------|---------|
| ① 미국 | 러시아 |
| ② 미국 | 베트남 |
| ③ 미국 | 사우디아라비아 |
| ④ 사우디아라비아 | 러시아 |
| ⑤ 사우디아라비아 | 베트남 |

06 ㉠, ㉡에 들어갈 알맞은 말로 짝지어진 것은 어느 것입니까? ()

지구본이나 지도에 일정한 간격으로 그려진 세로선을 경선이라고 하고, 각 경선의 값을 (㉠)이라고 한다. 또, 경도의 기준은 (㉡)이라고 한다.

- | | |
|------|--------|
| ㉠ | ㉡ |
| ① 경도 | 적도 |
| ② 경도 | 본초 자오선 |
| ③ 경도 | 날짜 변경선 |
| ④ 위도 | 적도 |
| ⑤ 위도 | 본초 자오선 |

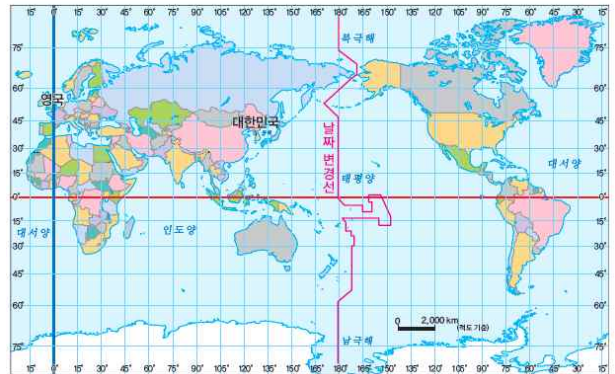
07 시차가 우리 생활에 미치는 영향으로 알맞은 것을 <보기>에서 모두 골라 기호를 쓰시오.

— <보기> —

㉠ 해외여행을 할 때 적응이 필요하다.
 ㉡ 계절의 차이를 관광 산업에 활용한다.
 ㉢ 다른 나라 사람과 연락을 주고받을 때 고려해야 한다.
 ㉣ 농작물 수확 시기가 달라 농산물 교역을 활발하게 한다.

()

08 지도에서 대한민국과 영국의 시차는 몇 시간입니까(우리나라의 표준 경선은 동경 135°이다)? ()



- | | | |
|-------|--------|-------|
| ① 6시간 | ② 7시간 | ③ 8시간 |
| ④ 9시간 | ⑤ 10시간 | |

09 세계의 대륙에 속하지 않는 것은 어느 것입니까? ()

- | | |
|---------|---------|
| ① 태평양 | ② 아시아 |
| ③ 아프리카 | ④ 오세아니아 |
| ⑤ 남아메리카 | |

10 빈칸에 들어갈 알맞은 대양을 쓰시오.

()은/는 세계에서 두 번째로 넓은 대양으로 북아메리카와 남아메리카, 유럽, 아프리카 대륙에 둘러싸여 있다.

()

11 각 대륙과 대륙에 속한 나라가 알맞게 짝지어진 것은 어느 것입니까? ()

- ① 유럽 - 이집트
- ② 아시아 - 뉴질랜드
- ③ 아프리카 - 노르웨이
- ④ 북아메리카 - 멕시코
- ⑤ 남아메리카 - 튀르키예

12 다음에서 설명하는 나라로 알맞은 것은 어느 것입니까? ()

- 북아메리카 북쪽에 위치한다.
- 동쪽으로는 대서양에 접해 있다.
- 주변에 있는 나라로는 미국이 있으며, 세계에서 면적이 두 번째로 크다.

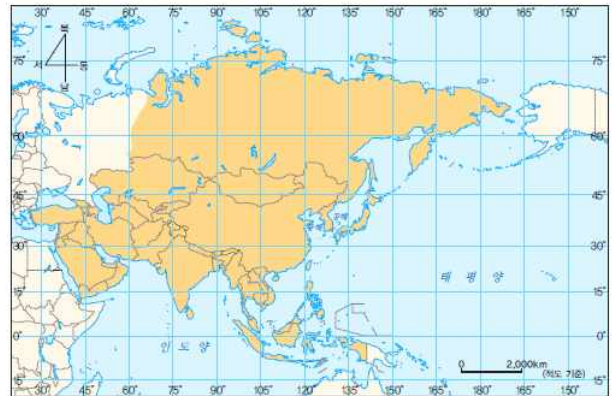
- ① 인도 ② 러시아
- ③ 캐나다 ④ 아르헨티나
- ⑤ 사우디아라비아

13 이탈리아에 대한 설명으로 알맞은 것을 <보기>에서 모두 골라 기호를 쓰시오.

- <보기>
- ㉠ 유럽에 위치한다.
 - ㉡ 영토가 원 모양에 가깝다.
 - ㉢ 영토가 장화 모양을 닮았다.
 - ㉣ 세계에서 가장 작은 나라이다.

()

14 지도를 보고 우리나라의 특징으로 알맞지 않은 것은 어느 것입니까? ()



- ① 우리나라는 아시아 대륙의 동쪽에 있다.
- ② 우리나라의 서쪽에는 중국, 동쪽에는 일본이 있다.
- ③ 주변에 있는 나라로는 사우디아라비아, 인도 등이 있다.
- ④ 가장 큰 대양인 태평양과 닿아 있는 반도적 위치의 나라이다.
- ⑤ 우리나라는 대략적으로 북위 33°~43°, 동경 124°~132° 사이에 있다.

15 ㉠, ㉡에 들어갈 알맞은 단어를 쓰시오.

우리나라의 (㉠)은/는 한반도와 부속 섬으로 이루어져 있으며, 한 나라의 주권이 미치는 땅을 말한다. 그 주변의 바다를 말하는 (㉡)은/는 기선으로부터 12해리까지가 범위이다.

㉠: (), ㉡: ()

16 중국에 대한 설명으로 알맞은 것은 어느 것입니까? ()

- ① 서쪽으로는 태평양과 접해 있다.
- ② 동쪽에는 고원과 산지가 분포한다.
- ③ 아시아에서 영토 면적이 가장 좁다.
- ④ 우리나라의 남동쪽에 위치한 섬나라이다.
- ⑤ 우리나라가 수출과 수입을 가장 많이 하는 나라이다.

17 밑줄 친 '이 나라'는 어느 것입니까? ()

- 이 나라는 세계에서 영토 면적이 가장 넓은 나라이다.
- 이 나라의 동부는 주로 고원과 산악 지대, 서부는 평원이 넓게 펼쳐져 있다.

- ① 미국 ② 일본
- ③ 몽골 ④ 러시아
- ⑤ 베트남

18 우리나라와 밀접한 관계를 맺고 있는 나라들에 대해 잘못 이야기한 친구의 이름을 쓰시오.

유연: 미국은 우리나라의 주요 무역 상대국이야.

수빈: 사우디아라비아는 이슬람교를 믿는 사람이 많아.

영민: 베트남으로부터 가장 많은 원유를 수입하고 있어.

()

19 세계를 표현하는 공간 자료 중 세계 지도의 특징에 대하여 쓰시오.



▲ 세계 지도

20 나라의 영토가 넓을수록 나타나는 장단점에 대해서 각각 쓰시오.



정답과 풀이

1. 평화 통일을 위한 노력, 민주화와 산업화

1 평화 통일을 위한 노력

주제 평가

66~69쪽

- 01 이산가족 02 X 03 임진각 관광지
 04 O 05 베를린 장벽 06 경제적 07 정전 협정
 08 ④ 09 경도 10 ① 11 ⑤
 12 국가유산 13 ③ 14 독일 15 영진
 16 ② 17 ④ 18 (1)-㉠, (2)-㉡, (3)-㉢
 19 개성 20 ③

풀이

- 01 이산가족은 전쟁 등으로 구성원이 서로 만나지 못하는 가족을 말합니다. 분단이 오랫동안 이어지면서 남북한에 흩어진 이산가족들이 자유롭게 만나지 못하고 있습니다.
- 02 우리나라는 전쟁의 두려움을 지니고 살아가며, 해마다 많은 국방비를 지출하고 있습니다.
- 03 경기도 파주시에 있는 임진각 관광지는 군사 분계선에서 남쪽으로 약 7 km 떨어진 곳에 있는 평화 관광지입니다.
- 04 대한민국 헌법에는 대한민국은 자유민주적 기본 질서에 바탕을 둔 평화적 통일을 지향하고, 대통령은 조국의 평화적 통일을 위한 성실한 의무를 진다는 항목이 명시되어 있습니다.
- 05 동독과 서독을 가로막던 베를린 장벽이 무너지면서 동독은 몰락하였고, 통일의 기반을 다지고 있던 독일은 갑작스러운 통일을 맞이하였습니다.

- 06 남북한이 협력한 평화 통일을 이루기 위한 경제적 노력으로는 개성 공단 운영과 남북 철도 연결 구간 시험 운행 등이 있습니다.
- 07 우리나라는 1950년 6월 25일 6.25 전쟁이 발발하고 3년이 지난 해인 1953년 7월 정전 협정을 맺었습니다. 그 뒤로 남북한은 오늘날까지 분단 상태를 유지하고 있습니다.
- 08 전쟁과 분단으로 인하여 남북한은 지금도 군사적 대립으로 긴장 관계를 이어 오고 있습니다.

틀린 답 피하기

- ② 북한 이탈 주민들은 분단으로 인하여 고향에 자유롭게 갈 수 없습니다.

- 09 그래프를 보면 이산가족 찾기 신청자 중 생존자는 30 %이므로, 절반 이하입니다.
- 10 전쟁이나 분단과 관련된 장소로는 임진각 관광지, 노근리 평화 공원, 비무장 지대(DMZ), 매향리 평화 생태 공원 등이 있습니다.

틀린 답 피하기

- ① 개성 공단은 남북한이 평화적 통일을 위한 노력으로 세운 공업 단지입니다.

- 11 매향리 평화 생태 공원은 6.25 전쟁 이후 군인들이 훈련하는 사격장이 폐쇄되고 주민의 아픔을 치유하고자 만든 공원입니다.
- 12 정부는 6.25 전쟁의 비극과 분단의 아픔이 남아 있는 몇몇 장소를 국가유산으로 지정하였습니다.



1. 평화 통일을 위한 노력, 민주화와 산업화

- 13 남북통일을 이루기 위해서는 다른 나라의 통일 사례를 참고하여 남북한이 충분히 대화하고 합의하는 과정이 필요합니다.
- 14 제2차 세계 대전을 일으켰던 독일은 전쟁 패배 후, 동독과 서독으로 분단되었습니다. 동독과 서독은 서로 여러 차례 교류를 하던 중, 가로막던 베를린 장벽이 붕괴되며 갑작스러운 통일을 맞이하였습니다.
- 15 예멘은 남북 정상이 합의하여 첫 번째 통일을 이루었습니다. 그러나 나라의 권력을 나누는 과정에서 전쟁이 일어나 다시 분단되었고, 북예멘의 승리로 두 번째 통일을 이루었습니다. 그러나 국민들 사이에서 갈등은 여전히 지속되고 있습니다.
- 16 대한민국 헌법 제4조에는 대한민국은 통일을 지향하고, 평화적 통일 정책을 수립하고 추진한다는 내용이 있습니다. 헌법 제66조에는 대통령은 조국의 평화적 통일을 위한 성실한 의무를 진다는 항목이 명시되어 있습니다.
- 17 남북 기본 합의서는 남북한의 평화적 통일을 위한 정치적 노력 중 하나로, 1991년에 남북 화해, 평화, 교류와 협력 등의 내용을 합의하였습니다.

틀린 답 피하기

①, ③, ⑤ 7·4 남북 공동 성명의 내용입니다.
 ② 남북 정상 회담의 내용입니다.

- 18 남북한은 평화 통일을 이루기 위하여 다양한 분야에서 교류와 협력하는 등의 노력을 하였습니다. 그중 정치적 노력으로는 7·4 남북 공동 성명, 남북 기본 합의서, 남

- 북 정상 회담 등이 있습니다. 경제적 노력으로는 개성 공단 운영과 남북 철도 연결 구간 시험 운행 등이 있습니다. 사회·문화적 노력으로는 개성 만월대 공동 발굴, 올림픽 선수단 동시 입장 등이 있습니다.
- 19 만월대는 개성에 있는 고려의 궁터입니다. 남북한은 평화적 통일을 위한 사회·문화적 노력으로 2007년부터 2018년까지 남북한의 문화유산 발굴 조사단이 청자와 기와 조각 등을 발굴하였습니다.
- 20 평화 통일을 위해 초등학생은 통일 문제에 꾸준한 관심을 갖고 통일 행사 등에 참여합니다. 또, 분단과 평화와 관련된 장소를 답사하거나 남북한의 사회적 차이를 이해하려고 노력합니다.

틀린 답 피하기

③ 이산가족의 자유로운 만남을 추진하는 일은 정부의 노력입니다.



1. 평화 통일을 위한 노력, 민주화와 산업화

2 민주화와 산업화로 달라진 생활 문화

주제	평가	70~73쪽
01 4·19 혁명	02 X	03 직선제
04 헌법 재판소	05 경공업	06 X
07 ㉠, ㉡	08 ㉢	09 ㉣
10 노태우	11 ㉤	12 ㉥
13 ㉦	14 (1)-㉧, (2)-㉨, (3)-㉩	15 태인
16 ㉪	17 ㉫, ㉬	18 도시화
19 ㉭	20 ㉮	

풀이

- 01 초대 대통령이었던 이승만은 3·15 부정 선거로 당선되었으나, 4·19 혁명으로 대통령 자리에서 물러났습니다.
- 02 전두환은 전라남도 광주에서 시위가 크게 일어나자 계엄군을 보내 시위를 폭력적으로 진압하였습니다.
- 03 6월 민주 항쟁으로 당시 여당의 대표였던 노태우는 시민들의 민주화 요구를 받아들일 것이라고 발표하였습니다.
- 04 헌법재판소의 헌법 소원 심판을 통해 국가가 헌법에서 보장하는 권리 침해를 막을 수 있습니다.
- 05 6·25 전쟁 이후 우리나라는 전쟁 피해를 복구하고 산업을 발전시키고자 노력하였습니다. 1960년대에는 자본이나 기술력에 비하여 노동력이 많이 필요한 경공업이 발전하였습니다.
- 06 산업화 과정에서 도시에 일자리가 늘어나면서 사람들이 일자리를 찾거나 교육을 받기 위하여 농촌에서 도시로 이주하였습니다.

- 07 3·15 부정 선거는 초대 대통령이었던 이승만이 부정한 방법을 써서 선거에서 승리한 사건입니다. 이승만은 정·부통령을 뽑는 선거에서 투표용지를 조작하는 등의 방법으로 승리하였습니다.

틀린 답 피하기

- ㉠ 전라남도 광주에서 시위가 크게 일어난 사건은 5·18 민주화 운동입니다.
- ㉡ 대통령 직선제를 포함한 개헌이 이루어진 시기는 6월 민주 항쟁 이후입니다.

- 08 1961년 박정희는 일부 군인들과 무력으로 정권을 차지한 후, 1972년에는 대통령에게 많은 권력이 집중되게끔 헌법을 바꾸었습니다. 시민들은 헌법 폐지를 요구하며 서명 운동과 시위를 벌였고, 1979년 박정희는 측근에게 피살당하였습니다.
- 09 전두환이 일부 군인들과 무력으로 정권을 차지하자 다시금 군인들이 정권을 잡은 것에 국민들은 반발하였습니다. 전두환이 계엄령을 강화하여 시위를 잠재우려고 하였으나, 전라남도 광주에서 시위가 크게 일어났습니다. 전두환은 계엄군을 보내 시위를 폭력적으로 진압하였습니다.
- 10 전두환이 대통령 간선제로 독재를 이어가려고 하자 시민들은 대통령 직선제를 요구하며 시위를 벌였습니다. 결국 당시 여당 대표 노태우는 시민들의 대통령 직선제를 포함한 민주화 요구를 받아들일 것이라고 발표하였습니다.
- 11 우리나라는 대통령 직선제와 지방 자치 제도를 통해 시민들은 자기 뜻을 대변하는



1. 평화 통일을 위한 노력, 민주화와 산업화

대표자를 직접 뽑고 있습니다. 지방 자치 제도는 지역 주민이 직접 뽑은 대표가 주민의 의견을 바탕으로 그 지역의 일을 스스로 처리하는 제도입니다.

- 12 국가 인권 위원회는 인권 침해 사례를 조사하여 피해자를 돕고, 인권 관련 정책을 연구하여 나라에 권고하는 기관입니다.
- 13 사회 공동의 문제를 해결하기 위한 시민의 사회 참여 방식으로 촛불 집회, 캠페인, 투표, 서명 운동, 1인 시위 등이 있습니다.
- 14 우리나라의 1960년대에는 경공업이 발전하여 가발, 신발, 옷 등을 수출하였습니다. 1970년대에는 중화학 공업 중심으로 발전하기 시작하여 선박과 자동차, 석유 화학 등을 수출하였습니다. 1980년대에는 중화학 공업이 더욱 발전하여 자동차, 정밀 기계, 텔레비전 등을 수출하였습니다.
- 15 2000년대 이후에는 항공·우주 개발, 생명공학 등 높은 기술력이 필요한 첨단 산업과 의료, 관광, 금융 등의 서비스 산업이 성장하였습니다.

틀린 답 피하기
태인 컴퓨터와 가전제품 등에 필요한 반도체 산업이 발전한 시기는 1990년대입니다.

- 16 우리나라는 산업화 과정을 거치며 다양한 문제점이 나타났습니다.

틀린 답 피하기
 ② 우리나라는 산업화 과정을 거치며 수출을 늘리는 정책을 추진하게 되었습니다.

- 17 산업화에 필요한 돈을 마련하고자 정부는 해외로 노동자들을 보내 외화를 벌고자 하였습니다. 독일로 떠난 광부와 간호사들, 중동으로 떠난 건설 노동자들이 열심히 해외에서 일한 덕분에 우리나라의 산업화에 큰 도움이 되었습니다.
- 18 산업화 과정에서 도시에 일자리가 늘어나면서 많은 사람이 도시로 이주하기 시작한 현상을 도시화라고 합니다.
- 19 산업화로 일자리가 늘고, 가정의 소득이 늘어나면서 소비가 증가하였습니다. 또, 대중문화가 성장하였으며 가족 형태 등 다양한 변화가 이루어졌습니다.

틀린 답 피하기
 ① 산업화로 인해 교육이 확대되면서 교육비는 늘어났습니다.

- 20 산업화로 인하여 부모와 비혼 자녀로 구성된 핵가족이 일반적인 가족 형태로 자리 잡았습니다.



1. 평화 통일을 위한 노력, 민주화와 산업화

단원 평가	74~77쪽
01 ⑤ 02 ④ 03 비무장 지대(DMZ) 04 ③ 05 ② 06 ㉠, ㉡, ㉢ 07 ㉠ 경의선, ㉡ 동해선 08 ⑤ 09 ① 10 ② 11 대통령 직선제 12 ③ 13 양극화 14 ① 15 ② 16 전태일 17 ② 18 한류 19 풀이 참조 20 풀이 참조	

풀이

01 우리나라는 1950년 6·25 전쟁을 겪고, 1953년 7월 정전 협정을 맺었습니다. 그 후, 남북한은 오늘날까지 분단 상태를 유지하고 있습니다.

02 전쟁과 분단으로 인해 남북한에서는 다양한 분야에서 문제가 나타났습니다. 남북한 사람들은 오늘날까지도 분단으로 여러 가지 어려움을 겪고 있습니다.

틀린 답 피하기

④ 분단으로 남한은 북한을 지나갈 수 없기 때문에 육지를 통해서도 다른 나라와 교류할 수 없습니다.

03 비무장 지대(DMZ)는 정전 협정 이후 군사행위가 금지된 곳으로, 수많은 지뢰가 묻혀 있어 분단의 상징과 같은 곳이었습니다. 그러나 이곳은 남북한이 함께 생태계를 조사하거나 전쟁 전사자의 유해 발굴 계획을 의논하는 등 교류와 협력의 공간으로 주목받고 있습니다.

04 노근리 평화 공원은 충청북도 영동군에 있는 전쟁과 분단 관련 장소입니다. 미군

이 피란민 속에 북한군이 숨어 있다고 생각하여 총을 쏘는 사건의 희생자를 기억하고자 만든 평화 공원입니다.

05 우리나라가 바람직한 통일을 생각할 때 다른 나라의 통일 방식을 참고해야 합니다. 분단에서 통일로 이어진 나라는 독일, 베트남, 예멘 등이 있습니다.

틀린 답 피하기

㉠ 프랑스는 분단 국가가 아닙니다.
 ㉡ 남아프리카 공화국은 분단 국가가 아니라 극심한 인종 차별이 문제였던 나라입니다.

06 남북한은 평화 통일을 이루기 위한 정치적 노력으로 1972년 7·4 남북 공동 성명을 발표하였고, 1991년 남북 기본 합의서를 발표하였습니다. 또, 2000년 이후로 세 번의 남북 정상 회담이 있었습니다.

07 남북한은 2007년에 서울과 신의주를 잇는 경의선과 동해안을 따라 놓인 동해선 철도를 복원하여 시험 운행하였습니다.

08 2005년부터 남북한의 국어학자들은 남북한의 언어를 통일하기 위하여 『겨레말큰사전』을 협력하여 만들고 있습니다.

09 부정 선거에 항의하고 대한민국의 모든 학생이 민주주의를 위한 시위에 참여하겠다는 편지로, 이와 관련된 사건은 3·15 부정 선거에 항의하는 4·19 혁명입니다.

10 5·18 민주화 운동은 전두환과 일부 군인들이 정권을 잡은 것에 반발하여 일어났습니다. 전두환은 시위를 막으려고 계엄령을 강화하자 전라남도 광주에서 크게 시위가



1. 평화 통일을 위한 노력, 민주화와 산업화

일어났고, 전두환은 계엄군을 보내 시위를 폭력적으로 진압하였습니다.

틀린 답 피하기

③, ⑤ 4-19 혁명과 관련된 내용입니다.

- 11 대통령 직선제는 6·29 민주화 선언 이후 시행된 국민이 대통령을 직접 뽑는 제도로, 민주화 과정을 거치면서 자리 잡은 민주적인 제도입니다.
- 12 민주화가 진행되면서 사람들은 자기 생각을 말과 글로 자유롭게 표현할 수 있게 되었으며, 인권을 보호하기 위한 제도도 마련되었습니다.
- 13 양극화는 어떤 사회에 살아가는 사람들 사이에 경제나 문화적 수준 차이가 커지면서 둘로 나뉘는 현상으로, 오늘날 우리가 해결해야 할 사회 공동의 문제 중 하나입니다.
- 14 우리나라는 1960년대에 노동력이 많이 필요한 경공업이 발전하였고, 1970년대 들어 정부는 많은 자본과 높은 기술력이 필요한 중화학 공업 발전에 힘썼습니다.
- 15 우리나라는 정부 주도로 빠르게 산업화가 이루어졌습니다. 하지만 그 과정에서 여러 가지 문제점도 나타났는데, 수질 오염과 토양 오염, 대기 오염 등 환경 오염은 산업화의 대표적인 문제점 중 하나입니다.
- 16 산업화가 이루어지며 노동자의 근무 시간과 임금, 근무 환경 등 노동자의 권리를 보장하는 법이 지켜지지 않는 경우가 발생하였습니다. 1970년 노동자의 권리를 보장하는 법을 지키라며 대통령에게 편지

를 쓰고 자신의 몸을 불태운 사람은 전태일입니다.

- 17 산업화로 우리나라는 많은 생활 문화가 달라졌습니다. 급격한 도시화로 많은 사람들이 도시에 거주하게 되었으며, 교육이 확대되고 대중문화가 성장하였습니다. 가족 형태도 부모와 비혼 자녀로 구성된 핵가족이 일반적인 형태로 자리 잡았습니다.

틀린 답 피하기

② 산업화로 일자리가 늘고, 가정의 소득이 늘어나면서 소비 수준도 높아졌습니다.

- 18 대중문화가 발달하면서 오늘날에는 한류라는 이름으로 우리나라의 대중문화가 세계적인 인기를 얻게 되었습니다.
- 19 예시 답안 남북한이 평화 통일을 이루기 위해 실행하는 사회·문화적 노력으로는 남북한 문화유산 발굴단의 개성 만월대 공동 발굴, 남북한 국어학자들의 『겨레말큰사전』 공동 편찬 등이 있습니다.
- 20 예시 답안 전라남도 광주에서 벌어진 5·18 민주화 운동에서 계엄령에 반발한 전남대학교 학생들이 정문 앞에 모여 시위를 하였고, 시장 상인들은 주먹밥 등의 음식을 만들어 시민군에게 나누어 주었습니다.



1 민주주의와 선거

주제 평가		78~81쪽
01 국민 주권	02 O	03 보통 선거
04 후보자	05 X	06 많이
07 선거	08 ㉠	09 ㉡
10 정당성	11 ㉢	12 건희
13 ㉣	14 (1)-㉤, (2)-㉥, (3)-㉦	15 ㉧
16 공약	17 ㉨, ㉩	18 ㉪
19 ㉫, ㉬, ㉭	20 ㉮	

풀이

- 01 민주주의 국가에서 국민은 국가의 모든 일을 결정하는 힘인 주권을 가지는데 이를 국민 주권이라고 합니다.
- 02 선거는 대표자들에게 국민을 대신하여 국가의 정책을 결정할 수 있는 정당성을 줍니다. 정당성은 이치에 맞아 올바르고 정의로운 성질을 뜻합니다.
- 03 민주적인 선거에서 선거일 기준으로 18세 이상의 국민이면 누구나 투표할 수 있는 보통 선거의 원칙을 보장합니다.
- 04 대표자를 현명하게 선택하려면 후보자가 어떤 일을 실천하겠다고 약속하는 공약을 비교하고 분석하여야 합니다.
- 05 선거의 과정에서 후보자들은 다양한 방법으로 선거 운동을 하여 자신의 정책이나 공약을 알립니다.
- 06 선거의 마지막 과정에서 개표 후 표를 가장 많이 얻은 후보자가 당선이 됩니다.
- 07 선거의 가장 기본적인 역할은 대표자를 뽑

는 일입니다. 선거를 통해 국민의 뜻을 대신할 대표자를 뽑아 국가를 운영합니다.

- 08 선거가 중요한 까닭은 대표자를 뽑아 자신의 뜻을 정치에 반영할 수 있고, 나라의 주인인 국민이 선거에 관심을 가져야 좋은 정책이 나올 수 있기 때문입니다.

틀린 답 피하기

- ㉠ 선거를 통해 국민이 바라는 정책과 법이 실현됩니다.
- ㉡ 선거로 뽑힌 대표자는 국가의 중요한 일을 결정하고, 우리 생활에 영향을 미칩니다.

- 09 국민들은 선거를 통해 대표자를 평가할 수 있습니다. 대표자가 일을 제대로 하지 못하면 다음 선거에서 새로운 대표자를 뽑아 대표자들이 국민의 뜻을 잘 반영하게 합니다.

틀린 답 피하기

- ㉢ 선거는 국민의 뜻을 반영하는 수단이지만, 결과적으로 항상 새로운 대표자가 뽑히는 것은 아닙니다.

- 10 선거는 대표자들에게 국민을 대신하여 국가의 정책을 결정할 수 있는 정당성을 부여합니다.
- 11 우리나라는 선거 참여율을 높이기 위해 해외에서도 투표할 수 있는 재외 선거 제도, 선원들이 배에서 투표하는 선상 투표 제도, 사전 투표와 수요일에 선거일을 지정하는 등 다양한 노력을 하고 있습니다.
- 12 우리나라의 선거는 보통 선거, 평등 선거,



2. 민주주의와 시민 참여

직접 선거, 비밀 선거의 원칙을 제도적으로 보장합니다.

틀린 답 피하기

건희 우리나라는 직접 선거의 원칙을 보장하고 있으므로, 선거권을 가진 사람만이 직접 투표해야 합니다.

- 13** 우리나라의 선거는 다른 사람이 대신 투표할 수 없으며, 선거권을 가진 사람이 직접 투표해야 하는 직접 선거의 원칙을 보장하고 있습니다.
- 14** 우리나라는 선거일 기준으로 18세 이상의 국민이면 누구나 투표할 수 있는 보통 선거, 누구나 한 표씩만 투표할 수 있는 평등 선거, 누구에게 투표하였는지 다른 사람이 알지 못하도록 해야 하는 비밀 선거의 원칙을 제도적으로 보장하고 있습니다.
- 15** 갑국은 65세 이상의 노인에게 투표권을 부여하지 않았으므로 누구나 한 표씩만 투표할 수 있는 평등 선거의 원칙을 위반하였습니다.
- 16** 대표자를 현명하게 선택하려면 공약, 정당, 됴됨이 등을 비교하고 분석하여야 합니다. 그중 후보자가 어떤 일을 실천하겠다고 약속하는 것은 공약입니다.
- 17** 대표자를 현명하게 선택하려면 공약, 정당, 됴됨이 등을 비교하고 분석하여야 합니다. 정당은 후보자가 속해 있는 정치이상을 실현하기 위하여 조직한 단체이고, 됴됨이는 사람으로서 지니고 있는 품성이나 인격을 말합니다.
- 18** 유권자는 선거에 참여하여 국민의 주권을

행사하여야 하고, 선거의 과정에서 후보자들은 다양한 방법으로 선거 운동을 하여 자신의 정책이나 공약을 알립니다.

- 19** 선거의 과정은 지역마다 선거권자를 확인하는 선거인 명부 작성으로부터 시작합니다. 후보로 나오는 사람들은 선거 관리 위원회에 후보자 등록을 한 후, 합법적인 선거 운동을 진행합니다. 사람들은 충분히 고민한 후 투표를 하고, 개표할 때 가장 많이 표를 얻은 후보자가 당선됩니다.
- 20** 선거 홍보 포스터에서는 공약과 정당, 후보자의 됴됨이 등을 따져 보며 자신이 원하는 후보자에게 투표해야 합니다.

틀린 답 피하기

㉟ 친분과 관계없이 자신이 생각한 공약과 맞는 사람을 투표해야 합니다.



2~3 국가기관의 역할과 권력 분립 ~ 민주주의 사회에서 미디어의 역할과 이용

주제	평가	82~85쪽
01	○	02 대통령
03	국방부	04 X
05	미디어	06 사회 관계망 서비스
07	권력 분립	08 ④
09	법원	10 ②
11	③	12 경섭
13	(1)-㉠, (2)-㉡, (3)-㉢	14 ㉠, ㉡
15	③	16 ⑤
17	여론	18 ④
19	①	20 ③

풀이

- 01 우리나라의 국가기관은 국회, 행정부, 법원으로 나누어집니다. 국가기관은 서로 조화를 이루며 국민이 일상생활에서 행복한 삶을 누릴 수 있도록 합니다.
- 02 우리나라의 행정부는 법에 따라 나라 살림을 맡아 하는 기관으로, 대통령을 중심으로 국무총리와 여러 부, 처, 청 등으로 구성되어 있습니다.
- 03 행정 각부에서는 많은 공무원이 국민의 안전과 행복을 위해 여러 가지 일을 하는데, 그중 국방부는 국가 방위에 관한 일을 합니다.
- 04 법원은 3심 제도를 두어 한 사건에 대해 급이 다른 법원에서 세 번까지 재판받을 수 있도록 하고 있습니다.
- 05 미디어는 사람들이 정보나 생각을 주고받기 위하여 활용하는 의사소통 매체나 수단으로, 정보를 전달하여 공동체 구성원의 의사 결정을 돕는 중요한 도구입니다.

- 06 사회 관계망 서비스(SNS)는 실시간으로 자신의 생각이나 정보를 자유롭게 주고받을 수 있는 오늘날의 미디어입니다.
- 07 민주주의 국가에서는 국민의 자유와 권리를 보호하기 위하여 국가 권력을 여러 국가기관이 서로 나누어 맡게 하고 있는데, 이를 권력 분립이라고 합니다.
- 08 우리나라의 국가기관은 법을 만드는 권한은 국회, 법을 집행하는 권한은 행정부, 법에 따라 잘잘못을 가리는 권한은 법원이 가지고 있습니다.

틀린 답 피하기
 ④ 국가기관은 국민으로부터 국가 권력을 나누어 맡습니다.

- 09 우리나라의 국가기관 중에서 법에 따라 잘잘못을 가리는 권한은 법원이 가지고 있습니다.
- 10 국회에서는 국회의원들이 법률안을 발의한 이후, 국회에서 심사를 거쳐 국회의 본회의에서 의결 순서를 거칩니다.
- 11 국회는 정부가 한 해 동안 나라 살림에 필요한 예산안을 확정하고, 매년 국정 감사를 진행하여 행정부의 나랏일 수행을 살핍니다. 또, 행정부와 같은 다른 국가기관이 하는 일을 감시하고 견제하며, 인사 청문회를 통하여 고위 공무원을 심사하기도 합니다.

틀린 답 피하기
 ③ 국민의 안전과 행복을 위해 여러 가지 일을 하는 국가기관은 행정부입니다.



2. 민주주의와 시민 참여

- 12 우리나라의 행정부는 법에 따라 나라의 살림을 맡아 하는 기관으로, 국가를 대표하는 사람이자 행정부의 최고 책임자인 대통령을 중심으로 많은 공무원으로 구성되어 다양한 행정 활동을 하고 있습니다.
- 13 우리나라의 행정 각부가 하는 일은 국민의 모든 일상생활과 관련되어 있습니다.
- 14 우리나라의 법원은 공정한 재판을 위해 3심 제도, 법관의 독립, 공개 재판 제도 등 여러 가지 제도를 시행하고 있습니다.
- 15 국가기관이 권력을 나누어 갖고 서로 견제하며 균형을 이루어야 국민의 자유와 권리를 보호할 수 있습니다. 그렇지 않고 한쪽으로 권력이 치우친다면 국민의 자유와 권리가 침해될 수 있습니다.
- 16 미디어는 정보를 전달하여 공동체 구성원의 의사 결정을 돕는 중요한 역할을 합니다. 특히 오늘날에는 인터넷 등 새로운 미디어가 발달하면서 사람들은 더욱 활발하게 소통하고 적극적으로 사회에 참여할 수 있게 되었습니다.
- 17 여론은 사회 구성원의 지지를 받고 있다고 인정되는 여러 가지 의견입니다. 미디어는 여론을 형성하여 사람들의 생각에 영향을 미치고 사회 참여를 끌어내기도 합니다.
- 18 미디어에서 정보가 쏟아지면서 잘못된 정보도 많아지고 있습니다. 미디어의 내용을 비판적으로 받아들이지 않으면 혐오가 발생하고 공정한 판단을 내릴 수 없게 됩니다.

틀린 답 피하기

- ④ 미디어를 통해 올바른 정보를 얻을 수 있으나, 잘못된 정보도 많기 때문에 비판적으로 받아들여야 합니다.

- 19 미디어의 정보를 올바르게 이용하려면 다른 사람의 개인 정보를 침해하지 않도록 주의하고, 의사소통 과정에서는 다른 사람에게 폭력적인 언어를 사용하지 않도록 주의해야 합니다.
- 20 기존의 뉴스를 제공하거나 나만의 영상이나 자료를 만들어 정보를 제공할 때는 미디어의 영향력을 생각하며 올바른 정보를 만들고 전달하도록 노력해야 합니다.

틀린 답 피하기

- ③ 개인적인 의견일지라도 정확하고 신뢰할 수 있는 자료인지 살펴봐야 합니다.



2. 민주주의와 시민 참여

단원 평가					86~89쪽
01 ③	02 ③	03 준혁	04 ①	05 ①	
06 정당	07 ②	08 ㉠, ㉡	09 ③	10 ④	
11 ⑤	12 ⑤	13 민선	14 ③	15 미디어	
16 ㉠, ㉡	17 ②	18 ④	19 풀이 참조		

풀이

- 01 민주주의 국가에서 국민은 국가의 모든 일을 결정하는 힘인 주권을 가지는데, 이 힘을 국민 주권이라고 합니다.
- 02 국민은 선거에 참여하여 대표자를 뽑으며 자신의 뜻을 정치에 반영하기 때문에 선거에 관심을 가지고 참여해야 좋은 정책이 나옵니다. 많은 국민이 참여할수록 우리의 삶은 더 나아질 수 있습니다.
- 03 선거의 가장 기본적인 역할은 대표자를 뽑는 일입니다. 선거는 대표자들에게 국민을 대신하여 국가의 정책을 결정할 수 있는 정당성을 부여합니다.
- 04 우리나라는 선거의 참여율을 높이고자 다양한 노력을 하고 있습니다. 다른 나라에 살고 있는 우리 국민이 해외에서 투표할 수 있는 재외 선거 제도를 비롯하여 선원들이 배에서 투표하는 선상 투표 제도, 별도의 신고 없이 사전 투표 기간에 사전 투표소에서 투표할 수 있는 사전 투표 등을 시행하고 있습니다.
- 05 우리나라는 보통 선거, 평등 선거, 직접 선거, 비밀 선거의 원칙을 제도적으로 보장하고 있습니다.

- 06 정당은 정치적 주장이나 의견이 같은 사람들이 모여 정권을 잡고 정치적 이상을 실현하기 위하여 조직한 단체입니다. 후보자가 속해 있는 정당을 잘 살펴보고 대표자를 선택해야 합니다.
- 07 선거의 과정에서 후보자들은 다양한 방법으로 선거 운동을 하며, 유권자들은 후보자들이 내세우는 공약을 보고 자신이 투표할 후보자를 선택합니다.

틀린 답 피하기
 ② 후보로 나오는 사람들은 선거 관리 위원회에 후보자 등록을 합니다.

- 08 권력 분립은 국민의 자유와 권리를 보호하기 위하여 국가 권력을 여러 국가기관이 나누어 맡은 것을 말합니다. 국회는 법을 만들고, 행정부는 법을 집행하며, 법원은 그에 따라 잘못을 가립니다. 이 세 기관은 국민이 행복한 삶을 누릴 수 있게 조화를 이루어야 합니다.
- 09 국회는 입법부로 법을 만들거나 다른 국가기관이 하는 일을 감시하고 견제합니다. 또, 국회는 인사 청문회로 고위 공무원 후보자의 능력이나 도덕적인 자질을 심사합니다.
- 10 행정부는 법에 따라 나라의 살림을 맡아 하는 기관으로, 우리나라의 행정부는 대통령을 중심으로 국무총리와 여러 부, 처, 청 등으로 구성되어 다양한 행정 활동을 합니다.
- 11 우리나라의 행정부에는 국민의 안전과 행복을 위해 다양한 행정 각부가 있습니다.



그중 통일부는 우리나라에 있는 이산가족 실태를 파악하거나 통일 관련 업무를 하며, 국방부는 군사적 위협과 외부의 침략으로부터 국가를 지키는 일을 합니다.

- 12 우리나라의 행정 각부는 장관과 차관을 비롯하여 많은 공무원이 여러 가지 일을 하고 있습니다.

틀린 답 피하기

- ㉓ 기후 에너지 환경부는 환경을 보호하고 유지하기 위한 정책을 세웁니다.

- 13 법원은 법에 따라 재판하며 잘잘못을 가려 주는 국가기관입니다. 법원에서는 개인이나 개인과 기관 사이에 생기는 다툼을 해결합니다.
- 14 한 국가기관이 모든 국가 권력을 다 가지면 국민의 자유와 권리는 지켜지기 어렵습니다. 따라서 국가기관이 권력을 나누어 갖고 서로를 견제하며 균형을 이루어야 합니다. 대통령은 행정부의 최고 책임자이므로 국회에 재의 요구권 행사는 행정부가 국회를 견제하고 있는 것입니다.
- 15 미디어는 정보를 전달하여 공동체 구성원의 의사 결정을 돕는 중요한 수단입니다. 사람들이 정보나 생각을 주고받기 위하여 활용하기도 합니다.
- 16 사람들은 미디어를 이용해 공동체 구성원으로서 자기 생각을 표현할 수 있습니다. 인터넷이나 스마트폰처럼 새로운 미디어가 발달하면서 사람들은 더 활발하게 소통하고 적극적으로 사회에 참여할 수 있게 되었습니다.

- 17 민주주의 사회에서 미디어는 여러 가지 사회 문제에 대한 시민들의 의사 결정에 영향을 줍니다.

틀린 답 피하기

- ㉒ 사회에 대한 여러 가지 정보를 전달하여 사람들이 사실을 파악하도록 합니다.

- 18 미디어에서 정보가 쏟아지면서 거짓 정보나 잘못된 정보가 많아졌습니다. 미디어의 내용을 살펴볼 때는 이런 것들을 따져 보며 비판적으로 수용해야 올바른 의사 결정을 할 수 있습니다. 그러기 위해서는 정보 제공자의 전달하는 목적과 의도가 분명한지를 파악해야 합니다.
- 19 예시 답안 대통령은 우리나라를 대표하는 사람이자 행정부의 최고 책임자로 국가의 중요한 정책을 결정합니다. 국무총리는 대통령이 특별한 이유로 맡은 일을 할 수 없을 때, 대통령을 대신해서 나랏일을 합니다.
- 20 예시 답안 미디어를 비판적으로 받아들이지 않으면 가짜 뉴스로 인한 피해가 발생할 수 있습니다. 한쪽의 입장이나 주장만을 보는 경우에는 공정한 판단을 내릴 수 없습니다.



1 다양한 공간 자료와 위치 표현

주제 평가

90~93쪽

- 01 지구본 02 X 03 짧아진다 04 O
- 05 시차 06 동경 07 ㉠, ㉡ 08 ㉢ 09 (1)-㉠, (2)-㉡, (3)-㉢
- 10 ㉣ 11 일사량
- 12 ㉤ 13 ㉥ 14 본초 자오선 15 ㉦
- 16 ㉧ 17 수영 18 ㉨ 19 ㉩ 20 ㉪ 극야, ㉫ 백야

풀이

- 01 세계를 표현하는 공간 자료 중 지구본은 실제 지구의 모습을 작게 줄인 모형입니다.
- 02 지구본이나 지도에 일정한 간격으로 그려진 가로선은 위선이라고 하며, 각 위선의 값은 위도라고 합니다.
- 03 저위도에서 고위도로 가면서 일사량은 점점 줄어들기 때문에 겨울철 북반구에서는 저위도에서 고위도로 갈수록 낮의 길이는 짧아지고 밤의 길이는 길어집니다.
- 04 지구본이나 지도에 그어져 있는 일정한 간격의 세로선을 경선이라고 하며, 그 경선의 값을 경도라고 합니다. 또, 경도의 기준은 경도 0°인 본초 자오선입니다.
- 05 지구의 자전으로 낮과 밤이 생기며 경도에 따라 시간의 차이인 시차가 발생합니다. 그래서 나라마다 시간을 정하는 기준인 표준 경선이 있습니다.
- 06 지구본이나 세계 지도를 볼 때, 우리나라는 북위 33°~43°, 동경 124°~132° 사이에

위치합니다.

- 07 세계를 표현하는 공간 자료 중 세계 지도는 둥근 지구를 평면에 나타낸 지도로, 전 세계의 모습을 한눈에 파악하기 쉽고 가지고 다니며 사용하기에 편리합니다.

틀린 답 피하기

- ㉠ 세계 지도는 전 세계의 모습을 한눈에 살펴보기 쉽습니다.
- ㉡ 스마트폰이나 컴퓨터 등의 디지털 기기가 필요한 공간 자료는 디지털 영상 지도입니다.

- 08 디지털 영상 지도를 이용하면 현재 나의 위치를 확인할 수 있습니다. 또, 궁금한 장소를 검색하여 그곳의 여러 가지 정보를 얻을 수 있으며, 이동 경로까지도 탐색할 수 있습니다.
- 09 세계를 표현하는 공간 자료에는 지구본, 세계 지도, 디지털 영상 지도 등이 있습니다. 이러한 자료들의 특징을 활용하여 육지와 바다의 분포나 세계 여러 나라의 위치와 영토의 특징 등을 알 수 있습니다.
- 10 지구본이나 지도에 그려진 일정한 간격의 가로선을 위선이라고 하고, 그 위선의 값을 위도라고 합니다.

틀린 답 피하기

- ㉢ 모든 국가는 일정한 면적을 가진 영토이므로, 하나의 선이 아닌 특정 위도 범위에 걸쳐 있습니다.

- 11 일사량은 태양의 복사 에너지가 땅에 닿는 양을 말합니다. 일사량으로 인해서 위



3. 지구, 대륙 그리고 국가들

도 지역에 따른 기온이나, 밤과 낮의 길이가 달라지기도 합니다.

- 12 우리나라와 위도가 비슷한 나라로는 튀르키예, 중국, 이란, 에스파냐, 미국 등이 있습니다.
- 13 적도를 기준으로 북반구와 남반구는 계절이 반대로 나타납니다. 그래서 북반구가 여름이면, 남반구는 겨울이 됩니다. 대한민국은 북반구, 오스트레일리아는 남반구에 위치하는 나라이므로 계절이 반대로 나타나게 됩니다.
- 14 경도의 기준은 경도 0°인 본초 자오선입니다. 본초 자오선은 영국의 런던을 지나며, 이 선을 기준으로 동쪽의 경도를 동경, 서쪽의 경도를 서경이라고 합니다.
- 15 지구본이나 지도에 그어져 있는 일정한 간격의 세로선을 경선이라고 하며, 그 경선의 값을 경도라고 합니다.

틀린 답 피하기

- ㉠ 우리나라의 표준 경선은 동경 135° 선입니다.
- ㉡ 지구의 공전이 아닌 자전으로 지구상에는 낮과 밤이 생깁니다.

- 16 사람들의 생활 범위가 세계로 넓어지면서 시차는 우리 생활에 다양한 영향을 끼치게 되었습니다. 농산물의 수확 시기가 달라진 까닭은 계절이 다르기 때문입니다. 따라서 활발한 농산물 교역은 위도의 차이가 끼치는 영향입니다.
- 17 위도와 경도로 위치를 나타내는 방법으로는 우선 지구본이나 세계 지도에서 나라

나 지역을 찾고, 적도를 기준으로 북쪽과 남쪽의 위치를 확인합니다. 그 이후, 본초 자오선을 기준으로 동쪽에 있는지 서쪽에 있는지를 확인합니다.

- 18 지도에서 우리나라는 북위 33°~43°, 동경 124°~132° 사이에 위치한 것을 알 수 있습니다.
- 19 지도에서 (다)는 남반구, (라)는 북반구에 위치하고 있습니다.
- 20 극지방 가까이에서는 해가 뜨지 않는 극야와 해가 지지 않는 백야가 나타납니다. 우리나라가 여름일 때 북반구에는 백야, 남반구에는 극야가 찾아오고, 우리나라가 겨울일 때 북반구에는 극야, 남반구에는 백야가 찾아옵니다.



2 대륙, 대양과 세계 여러 나라

주제 평가	94~97쪽
01 아시아	02 X
03 바티칸 시국	04 이
탈리아	05 X
06 사우디아라비아	07 ①
08 상희	09 오세아니아
10 (1)-㉠, (2)-㉡, (3)-㉢	11 ③
12 ②	13 미국
14 ②	15 ②
16 영역	17 ⑤
18 ③	19 ㉢,
㉡	20 ⑤

풀이

- 01 아시아는 대륙 중에서 가장 크며, 우리나라가 속해 있다. 또, 아시아는 세계 면적의 약 30 %를 차지합니다.
- 02 태평양은 우리나라와 인접해 있는 가장 큰 대양으로 지구 전체 바다의 약 50 %를 차지합니다.
- 03 세계에서 가장 작은 나라인 바티칸 시국의 면적은 우리나라의 경복궁보다 약간 큰 0.44 km²입니다.
- 04 세계의 여러 나라는 영토 모양이 다양한데, 그중 유럽의 이탈리아는 영토가 장화모양을 닮았습니다.
- 05 우리나라는 아시아 대륙의 동쪽에 있으며 가장 큰 대양인 태평양과 닿아 있습니다. 또, 우리나라의 서쪽에는 중국, 동쪽에는 일본이 있습니다.
- 06 우리나라는 사우디아라비아와 밀접한 관계에 있으며, 사우디아라비아로부터 가장 많은 원유를 수입하고 있습니다.

- 07 아프리카는 아시아 다음으로 큰 대륙이며, 북반구와 남반구가 걸쳐 있는 대륙입니다. 아프리카에는 세계에서 최대의 사막인 사하라 사막이 있습니다.
- 08 대양에는 태평양, 대서양, 인도양, 북극해, 남극해가 있습니다.

틀린 답 피하기
 상희 인도양은 아프리카, 아시아, 오세아니아 대륙과 접해 있습니다.

- 09 오세아니아는 대륙 중에서 가장 작으며, 대부분은 남반구에 있습니다. 코알라와 캥거루 등 다른 대륙에는 없는 동물이 많이 살고 있습니다.
- 10 세계 각 대륙에는 크고 작은 여러 나라가 있습니다. 핀란드는 유럽, 브라질은 남아메리카, 알제리는 아프리카에 위치한 나라입니다.
- 11 아시아는 대륙 중에서 가장 큰 대륙이며 우리나라가 속해 있습니다. 가장 높은 산인 에베레스트 산이 있는 대륙이기도 합니다.

틀린 답 피하기
 ③ 뉴질랜드는 오세아니아에 있는 나라입니다.

- 12 세계 여러 나라의 영토 크기는 다양합니다. 우리나라는 영토 면적이 약 22만 km²이며, 벨라루스와 가나 등과 크기가 비슷합니다. 영토가 넓을수록 다양한 자연환경과 풍부한 자원을 가질 가능성이 큽니다. 그



러나 사회를 통합하는 데 어려움이 있을 수도 있습니다.

틀린 답 피하기

㉔ 세계에서 영토의 면적이 가장 넓은 나라는 러시아입니다.

- 13 미국은 북아메리카에 위치해 있으며, 영토의 면적이 러시아와 캐나다 다음으로 세 번째로 넓은 나라입니다. 또, 다른 나라들 사이에 두고 영토가 떨어져 있다는 특징이 있습니다.
- 14 세계의 여러 나라는 영토 모양이 다양합니다. 그중 남아메리카에 있는 칠레는 남북으로 길게 뻗어 있는 나라입니다.
- 15 우리나라는 아시아 대륙의 동쪽에 있으며 한반도와 부속 섬으로 이루어져 있는 나라입니다. 우리나라의 영해는 영토 주변의 바다를 말하며, 기선으로부터 12해리까지가 범위입니다. 가장 큰 대양인 태평양과 닿아 있는 반도적 위치의 나라입니다.
- 16 영역은 영토, 영해, 영공으로 구성되며, 한 나라의 주권이 미치는 범위를 말합니다.
- 17 우리나라의 주변에 있는 나라로는 일본과 중국, 러시아, 몽골이 있습니다.
- 18 우리나라는 세계 여러 나라와 밀접한 관계를 맺고 있습니다. 중국의 수도는 베이징, 일본의 수도는 도쿄이며, 미국의 수도는 워싱턴D.C입니다. 또, 베트남의 수도는 하노이이며, 사우디아라비아의 수도는 라야드입니다.
- 19 일본은 우리나라와 교류하는 나라 중 거

리가 가까운 이웃 나라에 속해 있습니다. 일본은 네 개의 큰 섬과 3,000개가 넘는 작은 섬들로 이루어져 있으며, 태평양 연안을 따라 대도시와 대규모의 공업 지역이 형성되어 있습니다.

틀린 답 피하기

- ㉓ 일본은 우리나라의 남동쪽에 위치한 나라입니다.
- ㉒ 아시아에서 영토 면적이 가장 넓은 나라는 중국입니다.

20 우리나라는 사우디아라비아로부터 가장 많은 원유를 수입하고, 경제적 협력을 유지하고 있습니다. 또, 베트남은 동남아시아 나라 중에서 우리나라와 경제·문화 면에서 가장 긴밀한 관계를 맺고 있습니다.



3. 지구, 대륙 그리고 국가들

단원 평가		98~101쪽	
01 지구본	02 ㉓	03 적도	04 ㉑
05 ㉑	06 ㉒	07 ㉑, ㉒	08 ㉒
09 ㉑	10 대서양	11 ㉒	12 ㉓
13 ㉑, ㉒	14 ㉓	15 ㉑ 영토, ㉒ 영해	16 ㉑
17 ㉒	18 영민	19 풀이 참조	20 풀이 참조

풀이

- 01 지구본은 실제 지구의 모습을 작게 줄인 모형의 공간 자료입니다. 세계 여러 나라의 위치와 영토 모양 등을 알 수 있으며, 둥근 모양이기 때문에 전 세계의 모습을 한눈에 보기는 어렵습니다.
- 02 디지털 영상 지도는 위성 영상이나 항공 사진을 지도 형식으로 바꾸고, 전자 기기에서 이용할 수 있도록 디지털 정보로 표현한 지도입니다.

틀린 답 피하기

㉓ 세계의 모습을 한눈에 파악하기 쉽고, 가지고 다닐 수 있는 공간 자료는 세계 지도입니다.

- 03 지구본이나 지도에 일정한 간격으로 그려진 가로선을 위선이라고 하며, 각 위선의 값을 위도라고 합니다. 위도의 기준이 되는 선은 적도이며, 위도 0°를 지나는 선입니다.
- 04 위도의 기준인 적도를 중심으로 북쪽의 위도를 북위, 남쪽의 위도를 남위라고 합니다. 어떤 나라는 저위도, 중위도, 고위도 중 두 개 이상 걸쳐 있기도 합니다.

- 05 적도를 기준으로 북반구와 남반구는 계절이 반대로 나타납니다. 6~8월에는 북반구에 위치한 대한민국은 여름이며, 12~2월에는 겨울입니다. 또, 오스트레일리아는 남반구에 있어 대한민국과 계절이 반대로 나타납니다.
- 06 지구본이나 지도에 일정한 간격으로 그려진 세로선은 경선이며, 그 값을 경도라고 합니다. 경도의 기준은 경도 0°인 본초 자오선입니다.
- 07 경도의 차이로 인해 시차가 발생합니다. 사람들의 생활 범위가 넓어지면서 시차는 우리의 생활과 밀접한 관계를 갖게 되었습니다.

틀린 답 피하기

㉑, ㉒ 계절의 차이와 농작물 수확 시기는 경도가 아닌 위도의 영향입니다.

- 08 영국의 런던은 본초 자오선이 지나며, 우리나라의 표준 경선은 동경 135° 선입니다. 본초 자오선을 기준으로 15°씩 갈수록 1시간의 시차가 발생하기 때문에 우리나라는 영국의 런던과 9시간의 시차가 생깁니다.
- 09 세계에는 아시아, 유럽, 아프리카, 북아메리카, 남아메리카, 오세아니아와 남극 대륙이 있습니다.

틀린 답 피하기

㉑ 태평양은 세계의 대양에 해당합니다.

- 10 세계의 대양에는 태평양, 대서양, 인도양, 북극해, 남극해가 있습니다. 대서양은 세계



3. 지구, 대륙 그리고 국가들

에서 두 번째로 넓은 대양이자 북아메리카와 남아메리카, 유럽, 아프리카 대륙에 둘러싸인 대양입니다.

- 11 세계의 각 대륙에는 크고 작은 여러 나라가 있습니다. 이집트는 아프리카, 뉴질랜드는 오세아니아, 노르웨이는 유럽, 튀르키예는 아시아에 속해 있으며, 멕시코는 북아메리카 대륙에 속해 있습니다.
- 12 캐나다는 북아메리카 북쪽에 위치하고 동쪽으로는 대서양에 접해 있습니다. 세계에서 면적이 두 번째로 크고 주변 나라로는 미국이 있습니다.
- 13 유럽에 위치한 이탈리아는 영토가 장화 모양을 닮았습니다.

틀린 답 피하기

- ㉠ 영토가 원 모양에 닮은 나라는 짐바브웨입니다.
- ㉡ 세계에서 가장 작은 나라는 바티칸 시국입니다.

- 14 우리나라는 아시아 대륙의 동쪽에 있으며, 서쪽에는 중국, 동쪽에는 일본이 있습니다. 가장 큰 대양인 태평양과 닿아 있는 반도적 위치의 나라로 대략 북위 33°~43°, 동경 124°~132° 사이에 있습니다.
- 15 우리나라의 영토는 한반도와 부속 섬으로 이루어져 있습니다. 또, 영해는 영토 주변의 바다를 말하며 기선으로부터 12해리까지입니다.
- 16 중국은 아시아에서 영토 면적이 가장 넓은 나라입니다. 동쪽으로는 넓은 평야가 발달하였고, 서쪽으로는 높은 고원과 산지

가 분포하는데, 우리나라가 수출과 수입을 가장 많이 하는 나라입니다.

- 17 러시아는 세계에서 영토 면적이 가장 넓은 나라이며, 동부는 주로 고원과 산악 지대, 서부는 평원이 넓게 펼쳐져 있습니다.
- 18 우리나라와 밀접한 관계를 맺고 있는 나라로는 중국, 일본, 미국, 사우디아라비아 등이 있습니다. 미국은 우리나라의 주요 무역 상대국이며, 우리나라는 이슬람교를 믿는 사람이 많은 사우디아라비아로부터 가장 많은 원유를 수입하고 있습니다.
- 19 예시 답안 세계 지도는 둥근 지구를 평면에 나타낸 지도로, 전 세계의 모습을 한눈에 파악하기 쉽고, 가지고 다니며 사용하기에 편리합니다. 그러나 둥근 지구를 평면에 펼쳤기 때문에 실제 모습과 다른 점이 나타나기도 합니다.
- 20 예시 답안 나라의 영토가 넓을수록 다양한 자연환경과 풍부한 자원을 가질 가능성이 크기 때문에 국력을 강화하는 데 유리합니다. 그러나 사회를 통합하는 데 어려움이 있을 수도 있습니다.