



정답과
해설

I

인권 보장과 헌법

1. 인권의 의미와 현대 사회의 인권

STEP 1 기본 개념 확인 문제

10쪽

- 1 (1) 인권 (2) 보편성, 천부성, 불가침성, 항구성 (3) 저항권
 2 (1) × (2) × (3) ○ 3 (1) ⊕ (2) ⊖ 4 (1) ≡ (2) ⊃ (3) ⊂ (4) ⊄

STEP 2 내신 대비 실력 문제

10~13쪽

- 01 ③ 02 ⑤ 03 ③ 04 ① 05 ④ 06 ⑤ 07 ① 08 ⑤
 09 ③ 10 ②

11 (1) 보편성, 불가침성 (2) | 예시 답안 | 두 조항은 인간의 존엄, 생명, 자유 등 본질적인 인권을 규정하고 있는데, 이는 근대 서구의 시민 혁명의 사상적 배경이었던 계몽사상, 사회 계약설 등과 관련된다.

12 (1) (가) 안전권, (나) 환경권 (2) | 예시 답안 | 안전권을 보장하기 위해 안전 관리 체계를 확립하고, 산업 안전 및 보건에 관한 기준을 마련하여 산업 재해를 예방한다. 환경권을 보장하기 위해 환경 영향 평가제와 같은 적극적인 환경 정책을 도입한다.

01 인권의 특징

제시문은 인권의 특성을 설명한 것으로, (가)는 항구성, (나)는 천부성, (다)는 불가침성에 관한 설명이다.

02 권리 장전

제시문은 영국 명예혁명의 결과로 의회의 요청에 따라 승인한 권리 장전의 주요 내용이다. 권리 장전은 왕권을 제한하고 의회를 중심으로 국정의 중요 사안을 결정하는 통치 질서를 확립한 문서이다. ⑤ 권리 장전의 승인으로 의회의 권한이 강화되었고, 투표를 통해 구성된 의회에 의해 의사를 결정하는 대의 민주주의의 기반이 마련되었다.

오답 풀이

- ① 사회적 약자의 생존권을 보장하는 계기가 된 문서는 바이마르 헌법이다.
 ② 권리 장전의 승인으로 왕의 권한을 억제하고 의회의 권한을 우위에 두었다.
 ③ 권리 장전은 절대 왕정의 권력 행사를 뒷받침하는 근거가 되지 않았다.
 ④ 입법권과 행정권의 분립을 강조하는 것은 미국의 통치 구조이다. 권리 장전은 국왕의 자의적인 권한 행사를 금지하고 입법권의 확립을 추구한 문서이다.

03 미국 독립 선언서

미국 독립 선언서는 1776년 미국 독립 혁명 과정에서 발표된 문서이다. ‘권리를 확보하기 위해 인류가 정부를 조직했다’는 내용에서 국민 주권 사상이 드러나고, ‘조물주는 양도할 수 없는 권리를 부여했다’는 내용에서 불가침성과 천부성을 알 수 있다. ‘인민이 정부를 변혁 내지 폐지할 수 있다’는 내용으로 저항권을 인정하였음을 알 수 있다. ③ 최소한의 인간다운 삶의 보장을 요구하는 권리는 사회권이다. 미국 독립 선언서에는 사회권을 명시하지 않았다.

04 시민 혁명 당시 발표된 인권 관련 문서

(가)는 미국 독립 혁명 과정에 발표된 미국 독립 선언서, (나)는 프랑스 혁명 과정에서 발표된 인간과 시민의 권리 선언이다. ① 두 문서는 모두 부당한 권력에 대해 시민이 저항할 권리를 인정하는 내용을 명시하였다.

오답 풀이

- ② 제시된 자료는 정부나 의회의 부당한 권력 행사에 대한 저항권을 공통으로 강조하였다.
 ③ 두 문서 모두 직접 민주제의 필요성을 강조하지는 않았다.
 ④ 사유 재산 제도와 사적 이익 추구는 (나)에서만 확인할 수 있다.
 ⑤ 인간다운 생활 보장을 위해 국가의 적극적인 역할을 요구하는 권리는 사회권이다. 사회권은 바이마르 헌법에서 처음 명시되었다.

이 단원에서 꼭 알아야 하는 자료

시민 혁명 당시 발표된 인권 관련 문서

• 미국 독립 선언서

모든 사람은 평등하게 태어났고, 조물주는 몇 개의 양도할 수 없는 권리를 부여했으며, 그 권리 중에는 생명, 자유, 행복의 추구가 있다. 이 권리를 확보하기 위해 인류는 정부를 조직했으며, 이 정부의 권력은 인민의 동의로부터 유래한다. 이러한 목적을 파괴할 때 인민은 새로운 정부를 조직할 수 있다.

• 인간과 시민의 권리 선언

제1조 인간은 자유롭고, 그리고 평등한 권리를 누리게 태어나고 또 그렇게 생존한다. 사회적 차별은 오직 공공의 이익에 입각하는 때에만 가능하다.

제2조 모든 정치적 결사의 목적은 인간의 자연적이고 침해할 수 없는 권리를 보전함에 있다. 그 권리란 자유, 소유, 안전 그리고 압제에의 저항 등이다.

자료 풀이 | 미국 독립 선언서는 미국이 영국의 식민 지배에 반발하여 독립 전쟁을 일으킨 후 발표한 문서로 천부 인권, 인민 주권, 저항권 등을 명시하였다. 인간과 시민의 권리 선언은 프랑스 혁명 과정에서 발표된 문서로 신체·사상·종교의 자유와 평등의 가치, 재산권, 저항권 등을 명시하였다. 두 문서는 모두 사회 계약론과 계몽사상의 영향을 받아 작성되었다.

05 영국의 선거법 개정

제시된 자료는 영국에서 선거권이 확대된 과정을 보여 준다. 영국은 1928년 이후에야 본격적으로 보통 선거 제도가 도입되었다. ㄴ. 1918년까지 영국은 일부 직업을 가진 남성에게만 선거권을 제한적으로 부여하였다. ㄷ. 명예혁명 이후 오랜 세월을 걸쳐 여러 차례 선거법이 개정되면서 노동자부터 여성까지 참정권이 확대되었다.

오답 풀이

- ㄱ. 1832년에는 산업 자본가 계층에만 참정권이 인정되었으므로 모든 계층에 보통 선거가 확립되지 않았다.
- ㄷ. 영국에서는 20세기인 1928년에 들어서 여성의 정치 참여가 비로소 인정되었다.

더 알아보기 | 차티스트 운동

1838년부터 1848년까지 영국에서 노동자들이 저임금과 빈곤 탈출을 위해 21세 이상 남성의 보통 선거권 보장 등을 주장하며 벌인 대규모의 노동자 정치 운동이다. 비록 차티스트 운동은 당시에 큰 성과를 얻지 못했으나, 이후 영국의 선거법 개정과 참정권 확대에 큰 영향을 미쳤다.

06 바이마르 헌법

제시된 자료는 바이마르 헌법의 일부 조항이다. ⑤ 바이마르 헌법은 국민의 인간다운 삶을 보장하기 위한 국가의 개입을 요구하는 권리인 사회권을 최초로 명시하였다.

오답 풀이

- ① 프랑스 혁명 과정에서 발표된 문서는 인간과 시민의 권리 선언이다.
- ② 바이마르 헌법은 사회권을 최초로 명시하였다.
- ③ 두 차례의 세계 대전 이후 발표된 문서는 세계 인권 선언으로 인권 보장을 위한 국제 사회의 연대권을 강조하였다.
- ④ 인권을 보장하기 위한 지구촌 구성원의 연대를 강조한 문서는 세계 인권 선언이다.

이 단원에서 꼭 알아야 하는 자료

바이마르 헌법

제151조 ① 경제생활의 질서는 …… 정의의 원칙에 적합하여야 한다. 각자의 경제상의 자유는 이 한계 내에서 보장된다.

제157조 ① 노동력은 국가의 특별한 보호를 받는다.

② 국가는 표준적인 노동법을 정한다.

제163조 ② 모든 국민에게는 노동할 기회가 주어진다. 적절한 일 자리를 얻지 못한 국민은 필요한 생계비를 지원받을 수 있다.

자료 풀이 | 독일의 바이마르 헌법은 최초로 사회권을 헌법에 명시하여 모든 국민이 인간다운 생활을 누릴 수 있도록 보장하였다. 바이마르 헌법은 현대 복지 국가의 이념을 취한 20세기 현대 헌법의 전형이 되었다.

07 인권의 의미

제시된 자료는 세계 인권 선언의 일부이다. ① 세계 인권 선언은 지구촌 구성원 모두에게 적용되는 보편적인 인권 개념을 제시하였다는 평가를 받는다.

오답 풀이

- ② 인권은 어느 사회에서나 인정되어야 하는 권리이다.
- ③ 세계 인권 선언은 인권을 보장하기 위해 지구촌 구성원의 노력이 필요함을 명시하였다.
- ④ 인권은 국가 형성 이전부터 존재한 자연법상의 권리이다.
- ⑤ 인권은 사회 발전 과정에서 의미가 구체화되고 확장되었다.

08 주거권

제시된 자료는 주거 빈곤 가구에 거주하는 아동이 건강과 정서에 문제를 겪을 수 있음을 지적하고 있다. ⑤ 자료를 통해 주거 빈곤 가구 아동에게 안전하고 위생적인 주거 환경을 보장해야 하는 주거권이 보장되어야 함을 알 수 있다.

오답 풀이

- ① 주거권은 국가의 적절한 개입을 통해 보장되는 적극적 성격의 권리이다.
- ② 인권은 인류 모두에게 적용되는 보편적인 권리이다.
- ③ 누구나 차별없이 문화생활을 향유할 권리는 문화권이다.
- ④ 각종 자연재해로부터 안전을 위협받는 취약 계층의 안전을 보장할 권리는 안전권이다.

09 현대 사회에 확장된 인권

(가)는 감염병 확산을 막기 위한 국제적인 노력으로 안전권을 보장하기 위한 조치이고, (나)는 각국의 문화를 보호하여 문화권을 보장하고자 하는 협약이다. ㄴ. 안전권은 국민의 건강과 생명의 안전을 보호받을 권리이다. ㄷ. 문화권은 문화적 정체성 유지와 타 문화를 이해하기 위해 보장해야 하는 권리이다.

오답 풀이

- ㄱ. 주거 이전의 자유를 보장하는 권리는 자유권이다.
- ㄷ. 시민 혁명으로 확보한 권리로는 자유권, 평등권 등이 있다. 안전권과 문화권은 현대 사회에서 확장된 권리이다.

10 개인 정보의 자기 결정권

제시된 자료는 인터넷 자기 게시물 접근 배제 요청과 개인 정보 지우개 서비스 등에 관한 내용이다. ② 이는 정보 사회에서 부각되는 개인 정보의 자기 결정권을 보장하기 위한 제도이다.

오답 풀이

- ① 선천적 차이로 인한 불합리한 차별 금지는 평등권을 보장하기 위한 내용이다.
- ③ 모든 사람이 정치에 참여할 권리는 참정권이다.
- ④ 국민의 인간다운 주거 생활을 위한 최저 기준을 설정하여 보

장하는 권리는 주거권이다.

- ⑤ 국가의 간섭을 최소화하여 시민의 자유와 권리를 보장하는 권리는 자유권이다.

11 인권의 특징

자료는 인권의 보편성과 불가침성을 보여 주는 대한민국과 미국의 헌법 조항이다. 이는 사회 계약설과 계몽사상 등을 사상적 배경으로 하는 시민 혁명 이후 명문화되었다.

| 채점 기준 |

상	두 헌법 조항에 공통적으로 드러난 인권의 특성을 쓰고, 사상적 배경을 적절하게 서술하였다.
중	두 헌법 조항에 공통적으로 드러난 인권의 특성을 쓰지 못하고, 사상적 배경을 적절하게 서술하였다.
하	두 헌법 조항에 공통적으로 드러난 인권의 특성을 쓰고, 사상적 배경을 서술하지 못하였다.

12 현대 사회에 확장된 인권

(가)는 「재난 및 안전 관리 기본법」, (나)는 「환경 정책 기본법」이다. 두 법률은 각각 안전권과 환경권을 보장하기 위한 국민의 권리와 의무, 정부의 책무 등을 규정하고 있다.

| 채점 기준 |

상	각 법률이 보장하고자 하는 인권을 쓰고, 이를 실현하기 위한 방안을 적절하게 서술하였다.
중	각 법률이 보장하고자 하는 인권을 쓰지 못하고, 이를 실현하기 위한 방안을 적절하게 서술하였다.
하	각 법률이 보장하고자 하는 인권을 쓰고, 이를 실현하기 위한 방안을 서술하지 못하였다.

STEP 3 실력 완성 문제

14~15쪽

01 ③ 02 ③ 03 ⑤ 04 ④ 05 ④ 06 ② 07 ③ 08 ③

01 인간과 시민의 권리 선언

제시문은 프랑스 혁명 과정에서 발표된 인간과 시민의 권리 선언이다. 인간과 시민의 권리 선언은 인권의 천부성과 항구성을 명시하였고, 개인의 신체, 사상, 종교의 자유를 보장하였다. ③ 인간과 시민의 권리 선언은 인권의 불가침성을 원칙적으로 존중하지만 타인의 권리를 침해하지 않기 위한 최소한의 제한은 허용하였다.

알아 두기 | 자연권 사상

자연권 사상은 인간이 태어날 때부터 국가나 법률에 관계없이 당연히 가지는 보편적이고 양도 불가능한 권리, 즉 천부 인권이 존재한다는 사상이다.

02 세계 인권 선언

제시문은 세계 인권 선언의 주요 내용이다. 세계 인권 선언은 인권의 천부성을 명시하고, 자유권, 참정권, 연대권, 사회권 등을 명시하였다. ③ 참정권은 시민 혁명 직후 소수의 중산층 계급에만 주어졌고 20세기 이후에 모든 계층에게 보장되었다.

알아 두기 | 세계 인권 선언

두 차례의 세계 대전 이후 인권 문제를 해결하기 위한 인류 공동의 노력이 필요하다는 공감대가 형성되었다. 이에 1948년 국제 연합 총회에서 세계 인권 선언이 채택되었다. 이 선언에는 인간의 자유 및 평등에 관한 기본적 권리와 사회권, 인권 문제 해결을 위해 지구촌 구성원이 협력해야 한다는 연대권 등을 명시하였다.

03 시민 혁명 당시 발표된 인권 관련 문서

(가)는 인간과 시민의 권리 선언, (나)는 권리 장전, (다)는 미국 독립 선언서에 대한 설명이다. ⑤ 세 문서 모두 시민의 자유와 권리를 증진하는 데 기여하였다는 평가를 받는다.

오답 풀이

- ① 프랑스 혁명 이후 프랑스에 공화정이 정착되었다.
- ② 권리 장전은 왕권을 제한하고 의회의 권한을 강화하는 내용이 명시되었다. 시민의 저항권은 인간과 시민의 권리 선언, 미국 독립 선언서에 명시되었다.
- ③ 사회권이 최초로 명시된 문서는 바이마르 헌법이다.
- ④ 권리 장전 → 미국 독립 선언서 → 인간과 시민의 권리 선언 순서로 발표되었다.

04 인권의 특징

‘인민 현장에서 강조된 권리인가?’에 ‘예’라고 답한 A는 참정권이다. 인민 현장은 영국 성인 남성의 참정권을 요구하기 위해 발표된 문서이다. (가)에 따라 B와 C가 달라진다. ④ (가)에 ‘자본주의의 문제점을 해결하기 위해 등장한 권리인가?’가 들어가면 B는 사회권이다.

오답 풀이

- ① 자유권, 참정권, 사회권 중 가장 먼저 확보된 인권은 자유권이다.
- ② 프랑스 혁명 직후 소수의 자본가에게만 참정권이 주어졌다.
- ③ 바이마르 헌법에 처음 명시된 권리는 사회권이므로 B에는 자유권이 들어갈 수 없다.
- ⑤ 국가의 간섭으로부터 국민을 보호하기 위한 권리는 자유권이므로 C에는 자유권이 들어갈 수 없다.

05 인권 3세대론

제시문은 카렐 바작이 제시한 인권 3세대론에 관한 내용이다. ㄴ, ㄷ은 1세대 인권, ㄹ은 2세대 인권, ㄱ은 3세대 인권을 보장하는 우리나라의 헌법 조항이다.

06 인권 3세대론

제시문은 카렐 바작의 인권 3세대론에 관한 내용이다. 1세대 인권은 자유권, 2세대 인권은 사회권, 3세대 인권은 연대권이다. ② 사회권은 자본주의 발달에 따른 문제점을 해결하는 과정에서 사회적 약자의 인간다운 삶을 보장하기 위해 등장한 권리이다.

오답 풀이

- ① 자유권은 국가의 개입을 배제할 때 보장되는 권리이다.
- ③ 연대권은 국가에 의한 정책적 지원을 배제하지 않는다.
- ④ 자유권과 사회권은 모두 천부성을 지니는 권리이다.
- ⑤ 인권 보장을 위한 국제적 연대를 강조하는 권리는 3세대 인권인 연대권이다.

더 알아두기 | 인권 3세대론의 유형

1세대 인권 (자유권)	신체의 자유, 사상·양심·종교의 자유, 집회·결사의 자유, 표현의 자유 등
2세대 인권 (사회권)	근로의 권리, 교육에 대한 권리, 문화에 대한 권리, 사회 보장을 받을 권리, 인간다운 생활을 할 권리, 쾌적한 환경에서 생활할 권리 등
3세대 인권 (연대권)	자결권, 발전의 권리, 평화에 대한 권리, 재난으로부터 구제받을 권리, 지속가능한 환경에 대한 권리 등

07 현대 사회에 확장된 인권

갑은 문화권, 을은 주거권에 관한 내용을 발표하였다. C는 안전권이며, (가)에는 안전권에 관한 내용이 들어가면 안 된다. ③ 안전권은 국민이 각종 위험으로부터 안전을 보장받을 권리이다.

오답 풀이

- ① 저소득층에 대한 주거비 지원 정책은 주거권을 보장하기 위한 방안 중 하나이다.
- ② 개인이 인터넷에서 개인 정보 삭제를 요청하는 근거가 되는 권리는 개인 정보 자기 결정권이다.
- ④ 주거권, 문화권, 안전권은 우리나라 헌법에 명시되어 있다.
- ⑤ 산업 안전 및 보건에 관한 기준을 마련하여 보장할 수 있는 권리는 안전권이다. (가)에는 안전권에 관한 내용이 들어갈 수 없으므로 옳지 않다.

08 환경권

밑줄 친 '이 법'은 「기후 위기 대응을 위한 탄소중립·녹색 성장 기본법」이다. ③ 이 법은 국민이 건강하고 쾌적한 환경에서 살아갈 권리인 환경권을 보장하기 위해 제정되었다.

오답 풀이

- ① 산업 재해를 예방하는 것은 국민의 안전권을 보장하기 위한 조치이다.
- ② 국민의 문화 향유 수준을 고양하는 것은 문화권을 보장하기 위한 조치이다.

- ④ 빈부 격차를 완화하기 위한 정책은 사회권을 보장하기 위한 조치이다.
- ⑤ 정보 사회에서 개인 정보 자기 결정권을 강화하는 것은 환경권과 관계없다.

2. 인권 보장을 위한 헌법과 시민 참여

STEP 1 기본 개념 확인 문제

17쪽

- 1 (1) 기본권 (2) 참정권 (3) 평등권 2 (1) ○ (2) ○ (3) ×
3 (1) ㉠ (2) ㉡ (3) ㉢ 4 (1) ㄷ (2) ㄴ (3) ㄱ (4) ㄹ

STEP 2 내신 대비 실력 문제

18~20쪽

- 01 ① 02 ② 03 ④ 04 ⑤ 05 ② 06 ⑤ 07 ④ 08 ④

09 (1) 평등권 (2) 예시 답안 | 헌법재판소는 코로나바이러스감염증-19로 인한 경제적 피해가 모두에게 발생한 상황에서 난민 인정자만을 긴급재난지원금 지급 대상에서 제외한 것은 합리적 이유 없는 차별에 해당하여 난민 인정자의 평등권을 침해했다고 판단하였다.

10 (1) 예시 답안 | ㉠ 탄핵 소추권, 국정 감사권 등, ㉡ 위헌 법률 심판 제청권 등 (2) 예시 답안 | 권력 분립을 통해 국가 권력의 남용을 방지하여 국민의 인권을 보장할 수 있기 때문이다.

01 헌법의 의의

제시문은 헌법의 의의에 관한 내용이다. 헌법은 국가의 최고 규범으로 국민의 권리를 보호하고 국가 기관의 역할과 책임을 규정하며 사회 통합의 규범적 틀을 제시한다. ① 헌법이 이러한 사항을 규정하는 것은 국민의 인권을 보장하기 위함이다.

오답 풀이

- ② 우리나라는 헌법 제37조 ①에 따라 헌법에 명시되지 않은 권리도 보장한다.
- ③ 우리나라는 국가 권력을 입법, 사법, 행정으로 분리하여 상호 견제하도록 헌법에 명시하였다.
- ④ 헌법은 사회 환경의 변화를 반영하여 개정될 수 있다.
- ⑤ 입헌주의에 따르면 헌법은 국가 권력의 독점을 방지하고 국민의 자유와 권리 보장을 추구한다.

더 알아두기 | 입헌주의

입헌주의는 국가 권력의 자의적 행사를 막고 국민의 기본권과 자유를 보장하기 위해 최고법인 헌법에 기초하여 국가를 통치하는 원리이다. 근대 시민 혁명에서 유래하여 권력 분립과 법치주의를 통해 통치자의 권한을 제한하고, 국민의 합의에 기반한 민주적 절차를 중시한다.

02 기본권

제11조는 평등권, 제17조는 자유권, 제26조와 제27조는 청구권, 제35조는 사회권을 규정한 헌법 조항이다. ② 자유권은 소극적이고 방어적인 성격을 가지는 기본권이다.

오답 풀이

- ① 국가에의 자유를 실현하는 것을 목적으로 하는 권리는 자유권이다.
- ③ 다른 기본권 보장의 전제가 되는 기본권은 평등권이다.
- ④ 복지 국가 실현을 위해 등장한 현대적인 권리는 사회권이다.
- ⑤ 사회권은 국가의 존재를 전제로 하는 권리이다.

이 단원에서 꼭 알아야 하는 자료

우리나라 헌법에 명시된 기본권

제11조 ① 모든 국민은 법 앞에 평등하다. 누구든지 성별·종교 또는 사회적 신분에 의하여 정치적·경제적·사회적·문화적 생활의 모든 영역에 있어서 차별을 받지 아니한다.

제17조 ① 모든 국민은 사생활의 비밀과 자유를 침해받지 아니한다.

제26조 ① 모든 국민은 법률이 정하는 바에 의하여 국가 기관에 문서로 청원할 권리를 가진다.

제27조 ① 모든 국민은 헌법과 법률이 정한 법관에 의하여 법률에 의한 재판을 받을 권리를 가진다.

제35조 ① 모든 국민은 건강하고 쾌적한 환경에서 생활할 권리를 가지며, 국가와 국민은 환경 보전을 위하여 노력하여야 한다.

자료 풀이 | 우리나라는 헌법에 인권을 명시하여 국가에 이를 보장할 의무를 부여하였다. 이를 기본권이라고 한다. 헌법 제11조는 평등권, 제17조는 자유권, 제26조와 제27조는 청구권, 제35조는 사회권을 명시하여 보장하고 있다.

03 기본권의 특징

‘국가의 존재를 전제로 하는 권리인가?’에 ‘아니요’라고 답한 B는 자유권이다. (가)에 따라 A와 C가 달라진다. ④ (가)에 ‘다른 기본권 보장을 위한 수단적 권리인가?’가 들어가면 ‘아니요’라고 답한 A는 사회권, ‘예’라고 답한 C는 청구권이다.

오답 풀이

- ① 소극적이고 방어적인 성격의 권리는 자유권이다.
- ② 다른 기본권 구제를 위한 수단적 권리는 청구권이다.
- ③ 자유권, 청구권, 사회권은 모두 헌법에 명시된 권리이다.
- ⑤ (가)에 ‘실질적 평등을 실현하기 위해 등장한 권리인가?’가 들어가면 C는 사회권이다. 국가 배상 제도는 청구권을 보장하기 위한 제도이다.

04 기본권의 특징

‘기본권 보장을 위한 기본권인가?’에 ‘예’라고 답한 A는 청구권이다. (가)에 따라 B와 C가 달라진다. ⑤ (가)에 ‘사유 재산권 보장을 통해 실현되는 권리인가?’에 ‘예’라고 답한 C는 자유권이다. B

는 참정권으로 국민 주권의 원리를 실현하기 위한 기본권이다.

오답 풀이

- ① 역사적으로 가장 먼저 등장한 기본권은 자유권이다.
- ② 다른 기본권 침해를 구제하는 수단이 되는 권리는 청구권이다.
- ③ 소극적·방어적 성격을 갖는 권리는 자유권이다. 자유권은 외국인에게도 인정되는 권리이므로 (가)에 해당 질문이 들어갈 수 없다. 외국인에게 원칙적으로 인정되지 않는 권리는 참정권이다.
- ④ 복수 정당제를 통해 실현되는 권리에는 참정권, 자유권 등이 있다. 따라서 해당 질문은 (가)에 들어갈 수 없다.

05 권력 분립

제시된 자료는 입법부와 행정부의 권력 분립을 나타낸다. ㉠은 입법부가 행정부를 견제하는 권한으로 국정 감사권, 탄핵 소추권, 대법원장 임명 동의권 등이 있고, ㉡은 행정부가 입법부를 견제하는 권한으로 법률안 거부권 등이 있다.

06 기본권의 제한

제시문은 헌법재판소가 유치장에 수용되는 자에 대한 과도한 신체검사가 과잉 금지 원칙에 위배된다고 판단한 사례(헌법재판소 선고 2002헌마327)이다. ㄴ. 헌법재판소는 유치장에 수용되는 자에 대한 신체검사는 타당하다고 인정하였다. ㄷ, ㄹ. 헌법재판소는 신체검사의 수단과 방법이 최소한의 범위를 벗어나 수용자의 인권을 침해했다고 판단하였다.

오답 풀이

- ㄱ. 헌법재판소는 수용자에 대한 신체검사가 수단과 방법에 있어서 수용자의 기본권을 과도하게 제한했다고 보았다.

07 헌법 소원 심판

제시문은 태아의 성 감별 고지 금지에 대한 헌법 소원 심판 사례이다. ㄴ. 헌법 소원 심판은 입법부인 국회를 사법부인 헌법재판소가 견제하는 제도이다. ㄷ. 헌법 소원 심판은 공권력의 행사 또는 불행사로 개인의 기본권이 침해되었을 때 개인이 직접 청구하여 구제받을 수 있도록 하는 심판이다.

오답 풀이

- ㄱ, ㄷ. 법원의 청구로 재판의 전제가 되는 법률의 위헌 여부를 판단하는 심판은 위헌 법률 심판이다.

08 시민불복종

제시문은 시민불복종의 사례인 간디의 소금법 거부 운동이다. 시민불복종은 정의롭지 않은 법이나 정책을 바로잡기 위해 의도적으로 이를 위반하는 행위이다. 이것이 정당화되기 위해서는 공익을 위해야 하며 비폭력적인 방식을 사용해야 한다. 또한 행위에 대한 처벌도 감수해야 한다. ④ 시민불복종은 합법적인 방법을 모두 사용한 후 최후의 수단으로 사용되는 위법한 행동이다.

09 기본권 보장을 위한 헌법상 제도

제시된 자료는 코로나바이러스감염증-19에 따른 긴급재난지원금 지급 대상에서 난민 인정자를 제외한 조항이 청구인의 평등권을 침해하였다는 헌법재판소의 결정문(헌법재판소 선고 2020헌마1079)이다.

| 채점 기준 |

상	㉠에 들어갈 기본권을 쓰고, 기본권이 침해되었다고 판단한 까닭을 적절하게 서술하였다.
중	㉠에 들어갈 기본권을 쓰지 못하고, 기본권이 침해되었다고 판단한 까닭을 적절하게 서술하였다.
하	㉠에 들어갈 기본권을 쓰고, 기본권이 침해되었다고 판단한 까닭을 서술하지 못하였다.

10 권력 분립

권력 분립은 국가 권력을 입법, 행정, 사법으로 나누어 맡게 하여 상호 견제를 하도록 하는 제도이다. 이는 국가 권력의 남용을 방지하여 국민의 기본권을 보호하려는 것이다.

| 채점 기준 |

상	㉠, ㉡에 해당하는 제도를 쓰고, 권력 분립이 필요한 까닭을 적절하게 서술하였다.
중	㉠, ㉡에 해당하는 제도를 쓰지 못하고, 권력 분립이 필요한 까닭을 적절하게 서술하였다.
하	㉠, ㉡에 해당하는 제도를 쓰지 못하고, 권력 분립이 필요한 까닭을 서술하지 못하였다.

STEP 3 실력 완성 문제

21쪽

01 ⑤ 02 ② 03 ② 04 ⑤

01 인권과 기본권의 특징

제시문은 인권이 천부성을 지닌 자연권인 동시에 실정법의 성격을 가짐으로써 그 보장 수준이 높아졌다는 내용이다. ⑤ 자연권으로 인정받는 인권이라도 타인이나 권력에 의해 침해될 수 있지만 실정법과 같은 명문화된 규정으로 확실히 보장받을 수 있다.

오답 풀이

- ① 인권이 자연 상태에서 전혀 보장되지 않는다고 보기 어렵다.
- ② 국가 성립 이후에 등장한 권리도 인권에 해당한다.
- ③ 인권은 그 자체로 보장해야 하는 권리이다.
- ④ 실정법으로 규정되지 않는 권리도 인권으로 인정될 수 있다.

02 기본권의 특징

‘소극적 성격의 권리인가?’에 ‘아니요’라고 답하고, ‘수단적·절차적 성격의 권리인가?’에 ‘아니요’라고 답한 C는 사회권이다. ‘수단적·절차적 성격의 권리인가?’에 ‘예’라고 답한 B는 청구권이

다. 따라서 A는 자유권이다. ② 자유권은 국가 권력에 의한 침해를 배제하는 방어적·소극적 성격의 권리이다.

오답 풀이

- ① ㉠은 ‘예’, ㉡, ㉢은 ‘아니요’이다.
- ③ 실질적 평등 실현을 위해 등장한 현대적 권리는 사회권이다.
- ④ 자유권과 청구권은 헌법에 열거되어 보장되는 권리이다.
- ⑤ 청구권과 사회권은 국가의 행위를 요구하는 적극적 권리이므로 해당 질문은 (가)에 들어갈 수 있다.

03 권력 분립

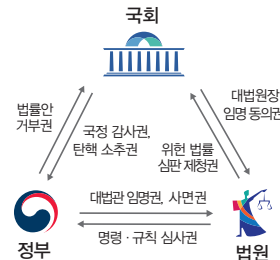
제시된 자료는 권력 분립을 명시한 우리나라 헌법 조항이다. ㄱ. 국정 감사권은 입법부가 행정부를 견제하는 기능이다. ㄴ. 위헌 법률 심판 제청권은 사법부가 입법부를 견제하는 기능이다.

오답 풀이

- ㄴ. 명령·규칙 심사권은 사법부가 행정부를 견제하는 기능이다.
- ㄷ. 법률안 거부권은 입법부에 대한 행정부의 견제 장치로 우위를 입증하는 제도는 아니다.

이 단원에서 꼭 알아야 하는 자료

권력 분립



자료 풀이 | 우리나라는 권력 분립을 헌법에 명시하고, 이를 실현할 수 있는 여러 제도를 마련하여 실행하고 있다. 이를 통해 국가 권력의 남용으로부터 국민의 기본권을 보호한다.

04 시민 참여

제시된 자료는 시민 참여 사례이다. ㄴ. 정당 활동은 인권 보장 및 공익 실현에 기여할 수 있다. ㄷ. 개인적이고 비정기적인 1인 시위에 비해 정당 활동은 지속적이고 체계적이다.

오답 풀이

- ㄱ. 1인 시위와 정당 활동은 시민불복종이 아니다.
- ㄴ. 1인 시위는 개인적인 정치 참여이다.

다 알아두기 | 다양한 시민 참여 유형

선거	대의 민주주의의 체제에서 시민이 대표자 선출이나 중요 안건에 대한 의사를 표현하는 행위
이익 단체	이해관계를 같이 하는 사람들이 공동의 특수 이익을 실현하기 위해 결성한 단체
시민 단체	공익 실현을 목적으로 시민들이 자발적으로 참여해 구성한 단체
정당	같은 정치적 견해를 가진 사람들이 정치적 이상을 실현하기 위해 조직한 단체

3. 인권 문제의 양상과 해결 방안

STEP 1 기본 개념 확인 문제

22쪽

- 1 (1) 사회적 소수자 (2) 인권 감수성 (3) 인권 지수 2 (1) ○ (2) ×
3 (1) ㉠ (2) ㉡ 4 (1) ㉢ (2) ㉣ (3) ㉤ (4) ㉥

STEP 2 내신 대비 실력 문제

23~24쪽

- 01 ① 02 ④ 03 ④ 04 ② 05 ④ 06 ④ 07 ① 08 ③

01 사회적 소수자의 특징

제시문은 남아프리카 공화국의 넬슨 만델라 대통령이 사회적 소수자인 흑인 차별 문제를 개선한 사례이다. ① 남아프리카 공화국에서 흑인은 전체 인구의 80% 정도를 차지하였음에도 백인으로부터 차별을 받았던 사회적 소수자였다.

오답 풀이

- ② 제시문은 정책 철폐를 통한 사회적 소수자 차별 문제를 해결한 사례이다.
- ③ 제시문에서는 수적 열세가 아니라 권력의 열세에 의해 사회적 소수자가 규정되었다.
- ④ 제시문은 사회적 소수자 차별 문제를 정치적으로 해결한 사례이다.
- ⑤ 사회적 소수자가 될 가능성이 있는 집단이 많을수록 사회 통합이 어려울 수 있다.

02 사회적 소수자의 특징

(가)는 갑이 이주 노동자로서 겪은 어려움을, (나)는 을이 이주 노동자인 동시에 여성으로서 겪은 어려움을 보여 준다. ④ 을은 이주 노동자, 여성이라는 두 개의 사회적 소수자 집단에 중첩되어 속한다.

오답 풀이

- ① 역차별은 사회적 소수자를 보호하기 위한 정책으로 주류 집단이 피해를 보는 것이다. 제시문에 역차별 사례는 나타나지 않는다.
- ② 갑은 주류 집단이 아닌 사회적 소수자이다.
- ③ 여성은 선천적 요인에 따라 정의된 사회적 소수자이다.
- ⑤ (가), (나) 모두 사회적 소수자의 판별 기준이 시대와 장소에 따라 달라짐을 보여 준다.

03 사회적 소수자의 특징

갑은 장애인의 이동권 보장을, 을은 비정규직 노동자와 정규직 노동자의 동등한 권리 보장을 요구하고 있다. 장애인과 비정규직 노동자는 모두 사회적 소수자이다. ④ 을은 노동 분야의 사회적 소수자인 비정규직 노동자에 대한 평등한 처우를 강조한다.

오답 풀이

- ① 갑은 제도 개선을 통한 사회적 소수자 차별 문제 해결을 주장한다.
- ② 장애인과 비정규직 노동자는 모두 권력의 열세에 놓여 있다.
- ③ 고용 형태에 따른 차이는 선천적 요인에 의해 발생한 차별 문제가 아니다.
- ⑤ 갑, 을의 주장과 거리가 먼 진술이다.

04 사회적 소수자 차별 문제

제시문은 우리나라의 노인 빈곤 문제에 관한 내용이다. ② 노인 빈곤 문제를 해결하기 위한 제도적 방안으로 소득이 낮은 노인에게 대한 연금 지원 확대가 있다.

오답 풀이

- ① 노인 연령 기준의 하향 조정은 노인 빈곤 문제의 해결 방안으로 적절하지 않다.
- ③, ⑤ 제시문과 관계없는 진술이다.
- ④ 노인의 취미 활동 및 여가생활을 지원하는 것은 노인의 문화권을 보장하기 위한 것이다.

05 청소년 노동권의 특징

제시문은 청소년의 노동 실태에 관한 내용이다. 이를 통해 청소년 노동권이 침해되는 경우가 많다는 것을 알 수 있다. ④ 청소년도 「근로 기준법」에 따라 성인과 동일하게 노동권을 보호하고 있지만 지켜지지 않는 경우가 많다.

오답 풀이

- ① 제시문은 나이에 따른 차별 사례이다.
- ② 주휴 수당은 1주 근로 시간이 15시간 이상이고, 근로 계약으로 정한 근무일을 모두 채운 근로자에게 1주 1회 이상 지급하는 유급 휴일 수당이다.
- ③ 주휴 수당 미지급이 청소년의 단독 근로 계약 체결에서 비롯되었다고 보기는 어렵다.
- ⑤ 청소년도 근로 계약서 작성 여부와 관계없이 부당한 대우에 대한 보상을 받을 수 있다.

06 청소년 노동권의 특징

청소년은 「근로 기준법」에 별도의 규정을 두어 노동권을 보호받고 있다. ④ 연소 근로자의 근로 시간은 원칙적으로 1일 7시간, 1주 35시간을 초과하지 못하며, 당사자 간에 합의로 1일 1시간, 1주 5시간을 한도로 연장 근로가 가능하다.

오답 풀이

- ① 15세 미만인 미성년자가 근로 계약을 하기 위해서는 고용노동부 장관의 인가가 필요하다.
- ② 청소년이 근로 계약을 할 때 사용자는 연소자 증명서와 친권자의 동의서를 반드시 확인하고 사업장에 비치해야 한다.
- ③ 청소년도 「최저 임금법」에 따라 성인과 동일한 최저 임금을

받아야 한다.

- ③ 청소년이 야간 근로를 하기 위해서는 연소 근로자의 동의와 고용노동부 장관의 인가를 받아야 한다.

더 알아보기 | 「근로 기준법」에 명시된 청소년 노동권

제43조(임금 지급) ① 임금은 통화(通貨)로 직접 근로자에게 그 전액을 지급하여야 한다. …….

제54조(휴게) ① 사용자는 근로 시간이 4시간인 경우에는 30분 이상, 8시간인 경우에는 1시간 이상의 휴게 시간을 근로 시간 도중에 주어야 한다.

제66조(연소자 증명서) 사용자는 18세 미만인 사람에 대하여는 그 연령을 증명하는 가족 관계 기록 사항에 관한 증명서와 친권자 또는 후견인의 동의서를 사업장에 갖추어 두어야 한다.

제69조(근로 시간) 15세 이상 18세 미만인 사람의 근로 시간은 1일에 7시간, 1주에 35시간을 초과하지 못한다. 다만, 당사자 사이의 합의에 따라 1일에 1시간, 1주에 5시간을 한도로 연장할 수 있다.

07 세계의 인권 문제

제시문은 탈레반 정권에 의해 인권 침해를 당하고 있는 아프가니스탄 여성 및 여자의 상황에 관한 내용이다. ① 이 사례를 통해 종교나 관습으로 성차별 문제가 발생하였음을 알 수 있다.

오답 풀이

- ② 자연재해와 무관하다.
- ③ 언론 자유의 문제와 관계없다.
- ④ 전쟁으로 인한 난민 문제와 관계없다.
- ⑤ 노동에 따른 아동 인권 문제와 관계없다.

08 세계의 인권 문제

(가)는 노예 제도 금지, (나)는 난민의 권리, (다)는 고문 및 비인도적인 처우 금지를 규정하고 있다. ㄱ. 노예 제도를 관습적으로 시행하는 특정국의 문제를 비판하기에 (가)가 적절하다. ㄴ. 난민 보호와 관련하여 (나)는 난민에 대한 적극적인 보호 조치를 요구하는 근거가 될 수 있다.

오답 풀이

ㄷ. (다)는 민주주의 정치 체제를 가진 국가의 형벌 제도에 대한 평가 기준이 될 수 있다.

STEP 3 실력 완성 문제 25쪽

01 ⑤ 02 ⑤ 03 ④ 04 ①

01 사회적 소수자의 특징

(가)는 라틴 아메리카 지역에 거주하는 아프리카계 후손이 겪는 불이익, (나)는 개방적인 문화를 가진 타이에서 성 소수자들이

겪는 어려움에 관한 사례이다. ⑤ 두 사례 모두 사회적 소수자가 일상생활에서 불합리한 차별을 겪고 있음을 보여 준다.

오답 풀이

- ① 인종, 민족은 선천적 특성에 해당한다.
- ② (가), (나)는 주류 집단에 의한 차별을 경험한 사회적 소수자이다.
- ③ 사회적 소수자는 시대와 장소에 따라 다르게 규정되는 상대적 개념이다.
- ④ (나)에는 사회적 소수자에 대한 우대 정책에 따른 역차별 문제는 나타나지 않는다.

02 사회적 소수자의 특징

제시문에 따르면 갑은 이주 노동자인 동시에 하층민이고, 을은 비정규직 노동자인 동시에 소수 종교 신도이다. 사회적 소수자는 그 수에 상관없이 주류 집단과 구별되는 신체적 또는 문화적 특징을 가져 차별을 받는다고 느끼는 사람들의 집단이다. 사회적 소수자를 판별하는 기준은 시대와 장소에 따라 가변적이며, 한 개인이 여러 사회적 소수자 집단에 중첩되어 속할 수 있다. ⑤ 사회적 소수자 차별 문제를 해결하기 위해서는 개인과 국가 차원의 노력이 동시에 이루어져야 한다.

03 청소년 노동권

제시된 자료는 청소년 근로자의 근로 계약서이다. ④ 청소년도 「근로 기준법」에 따라 최저 임금 이상의 금액을 전액 통화로 지급받아야 한다.

오답 풀이

- ① 근로 시간이 4시간 이상인 경우에는 30분 이상, 8시간 이상인 경우에는 1시간 이상의 휴게 시간을 근로 시간 도중에 부여해야 한다.
- ② 15세 이상 18세 미만의 미성년자도 「근로 기준법」에 의해 근로 계약을 체결할 수 있다.
- ③ 연소 근로자의 1일 최대 근로 시간은 원칙적으로 7시간이다.
- ⑤ 미성년자는 친권자의 동의서와 연소자 증명서를 사업장에 비치해야 근로할 수 있다.

04 인권 지수

제시된 자료는 인권 지수의 한 종류인 글로벌 성 격차 지수를 나타낸 것이다. 2020년에 비해 2025년에 A 국과 B 국은 성평등 수준이 높아졌고, C 국은 낮아졌다. ㄱ. 글로벌 성 격차 지수는 인종 차별에 대한 정확한 수준을 파악할 수 없는 인권 지수이다.

오답 풀이

- ㄴ. 2020년에 여성 인권 상황이 가장 열악한 국가는 C 국이다.
- ㄷ. 2025년에 B 국의 성 격차 지수는 C 국보다 높지만 경제, 교육, 건강, 정치 참여 등을 종합하여 산출한 점수이므로 두 국가의 여성 교육 수준 차이를 단순 비교하기는 어렵다.

- 01 ② 02 ⑤ 03 ② 04 ⑤ 05 ④ 06 ③ 07 ④ 08 ②
09 ③ 10 ② 11 ① 12 ② 13 ② 14 ⑤ 15 ④ 16 ②

01 인권의 특징

제시된 자료는 인권 침해 사례에 대한 분석으로 ㉠은 불가침성이고, ㉡은 항구성이다. ㉢ 항구성은 국가 성립과 관계없이 존재하는 인권의 특성이다.

오답 풀이

- ① 불가침성은 자연법적 속성에 해당한다.
- ③ 불가침성과 항구성은 누구에게나 인권이 동일하게 적용되는 근거가 된다.
- ④ 불가침성과 항구성은 근대 이전 시기부터 등장하였다.
- ⑤ 두 특성 모두 국적에 관계없이 누구에게나 적용된다.

02 시민 혁명 당시 발표된 인권 관련 문서

제시된 자료는 미국 독립 선언서와 프랑스의 인간과 시민의 권리 선언이다. ㉤ 두 문서 모두 국가 권력의 부당한 행사에 대한 국민의 저항권을 인정하였다.

오답 풀이

- ① 인권은 시대에 따라 변하지 않는 고유한 권리이다.
- ② 인간의 존엄성은 국가 성립 이전부터 인정되었다.
- ③ 두 문서는 모두 연대권을 명시하지 않았다. 연대권은 세계 인권 선언에 명시되었다.
- ④ 국민의 인간다운 생활을 보장하기 위해 국가의 개입을 요구하는 권리는 사회권이다. 사회권은 바이마르 헌법에 최초로 명시되었다.

더 **알아 두기** | **저항권**

저항권은 민주적 기본 질서를 침해하는 공권력에 맞서 국민이 행사하는 권리로 권력 남용으로부터 국민의 자유와 권리를 지킬 수 없는 극단적인 상황에서 인정된다. 그러나 남용될 경우 국가 질서를 파괴할 위험이 있어 엄격한 요건하에서만 인정된다.

03 인권 보장의 역사

(가)는 영국의 차티스트 운동, (나)는 뉴질랜드의 여성 참정권 운동, (다)는 미국의 흑인 민권 운동이다. ㉢ 여성 참정권 운동은 여성의 투표권을 보장받게 하여 여성 인권을 향상시켰다.

오답 풀이

- ① 사회적 약자의 생존권 보장과 관련된 권리는 사회권으로 바이마르 헌법에 최초로 명시되었다.
- ③ 흑인 민권 운동은 인종 차별을 중단하기 위한 것으로 신분 제도 철폐와는 거리가 멀다.

- ④ 차티스트 운동과 뉴질랜드의 여성 참정권 운동은 보통 선거 제도 확립에 기여하였다.
- ⑤ (나)와 (다)는 모두 인권 보장 대상을 확대하는 데 기여하였다.

더 **알아 두기** | **참정권 운동**

차티스트 운동	영국 노동자 계급의 참정권 요구 운동으로 성인 남성의 보통 선거권 보장, 비밀 선거 실시, 선거구 획정 등의 요구 사항을 담은 '인민 헌장'을 발표함.
여성 참정권 운동	참정권을 보장받지 못한 여성들이 영국, 오스트레일리아, 뉴질랜드 등에서 참정권을 요구하는 운동을 전개함.

04 바이마르 헌법

제시된 자료는 바이마르 헌법의 주요 조항으로 (가)는 사회 보험 제도, (나)는 의무 교육과 무상 교육 제도를 명시하였다. ㉤ 사회 보험 제도는 우리나라의 사회 보장 제도, 의무 교육과 무상 교육은 우리나라의 공교육 제도와 맥락을 같이 한다.

오답 풀이

- ① 사회 보험 제도는 국제적인 연대 및 협력과 무관하다.
- ② 사회권은 인종 차별과 무관한 제도이다.
- ③ 두 제도 모두 국가에 적극적인 역할을 요구한다.
- ④ 두 제도 모두 국민의 최소한의 인간다운 생활의 보장에 기여한다.

05 현대 사회에 확장된 인권

값은 주거권, 을은 안전권, 병은 환경권에 관한 설명을 하고 있다. 주거권은 쾌적하고 안정적인 주거 환경에서 인간다운 주거 생활을 할 권리며, 안전권은 국민이 각종 재해와 위협으로부터 안전을 보호받을 권리이다. 환경권은 건강하고 쾌적한 생활에 필요한 모든 조건이 충족된 환경을 누릴 권리이다. ㉣ 주거권과 안전권은 국적에 관계없이 인간이라면 누구나 보장받을 수 있는 권리이다.

06 개인 정보의 자기 결정권

제시문은 인공지능 프로그램이 개인 정보를 무분별하게 수집하고 유출시키는 문제에 관한 내용이다. ㉢ 이 문제를 해결하기 위해서는 개인 정보의 자기 결정권을 보호하는 법률을 제정할 필요가 있다.

오답 풀이

- ① 온라인상에서 개인 정보의 유출 문제를 해결하기 위해 국가의 책임있는 규제가 필요하다.
- ② 정보 취약 계층의 정보 접근성 향상은 정보 격차 해소에 도움이 되는 조치로 개인 정보의 자기 결정권 보장과는 거리가 멀다.
- ④ 제시문은 사회적 소수자의 인권 보호와 관계없다.

- ⑤ 정보 인프라 확충만으로 개인 정보 무단 수집 및 유출 문제가 해결된다고 보기는 어렵다.

07 인권과 기본권

제시된 자료는 우리나라 헌법과 세계 인권 선언으로 인권의 천부성과 불가침성 등이 드러난다. ④ 우리나라 헌법에 국가가 인권을 보장할 의무를 진다고 명시한 것은 법치주의를 통해 인권을 보장한다는 것을 의미한다.

오답 풀이

- ① 인간으로서의 존엄과 가치는 타인에게 양도 불가능한 본질적인 권리이다.
- ② 행복 추구권은 그 자체로 목적인 권리이다.
- ③ 불가침의 기본적 인권은 자연인이 가지는 권리이다.
- ⑤ 세계 인권 선언에서 인간의 존엄과 권리가 동등하다고 규정한 것은 선천적 차이로 인한 차별에 대해서도 적용된다.

08 형식적 평등과 실질적·상대적 평등

같은 형식적 평등을 중시하며 결과로서의 불평등을 당연한 것으로 여기고, 이른 실질적·상대적 평등을 중시한다. ② 사회권 보장, 사회 보장 제도 등 사회적 약자를 보호하기 위한 현대 복지 국가의 정책은 실질적·상대적 평등 실현을 목적으로 한다.

오답 풀이

- ① 사회적 소수자를 배려하는 정책은 실질적·상대적 평등을 실현하기 위한 것으로 이로 인한 역차별 문제를 간과한 사람은 아니다.
- ③ 갑과 을은 모두 법 앞의 평등에 동의한다.
- ④ 을은 실질적·상대적 평등을 중시하므로 성별, 신분, 능력에 따른 차이를 인정하고 이를 평등 실현에 고려해야 한다고 본다.
- ⑤ 고소득자가 더 높은 소득세를 부담하는 것에 대해 을이 동의할 것이다.

09 기본권의 특징

‘인간다운 생활의 보장을 위한 권리인가?’에 ‘예’라고 답한 A는 사회권이다. ‘국가의 의사 결정에 참여할 수 있는 권리인가?’에 ‘예’라고 답한 B는 ‘참정권’이고, ‘아니요’라고 답한 C는 ‘자유권’이다. ③ 참정권은 국민 주권의 원리를 실현하는 기본권이다.

오답 풀이

- ① 다른 기본권 구제를 위한 수단적 권리는 청구권이다.
- ② 복지 국가의 이념 실현에 관련된 기본권은 사회권이다.
- ④ 자유권은 국가 성립 이전부터 존재한 권리 중 하나이다.
- ⑤ 사회권은 자유권, 참정권보다 늦게 등장한 권리이다.

10 기본권의 특징

‘소극적 성격의 권리인가?’의 질문으로 구분할 수 있는 A, B 중 자유권이 있음을 알 수 있고, ‘현대 복지 국가의 이념 실현에 핵

심적인 권리인가?’의 질문으로 구분할 수 없는 B, C는 각각 자유권과 청구권 중 하나이다. 따라서 A는 사회권, B는 자유권, C는 청구권이다. ② 청구권은 국가의 권한 행사를 통해 실현되는 권리이다.

오답 풀이

- ① 다른 기본권 보장을 위한 수단적 권리는 청구권이다.
- ③ 청구권과 사회권은 모두 헌법에 명시되어 보장되는 권리이다.
- ④ 국민이 국가 기관의 형성에 참여할 수 있는 권리는 참정권이다.
- ⑤ 사회권과 청구권은 적극적 성격의 권리이다.

11 위헌 법률 심판과 헌법 소원 심판

‘개인이 청구하는가?’에 ‘아니요’라고 답한 A는 위헌 법률 심판이고, ‘예’라고 답한 B는 헌법 소원 심판이다. ① 위헌 법률 심판은 재판의 전제가 되는 법률에 대해 법원이 직접 청구하는 심판이다.

오답 풀이

- ② 재판의 전제가 되는 법률이 헌법에 어긋나는지 여부를 심판하는 제도는 위헌 법률 심판이다.
- ③ A는 위헌 법률 심판, B는 헌법 소원 심판이다.
- ④ ‘공권력으로 인한 기본권 침해 여부를 판단하는 심판인가?’는 헌법 소원 심판을 묻는 질문으로 (가)에 들어갈 수 없다.
- ⑤ 위헌 법률 심판과 헌법 소원 심판은 모두 위헌 판결이 나오면 그 즉시 법률의 효력이 사라진다.

더 알아보기 | 위헌 법률 심판과 헌법 소원 심판

위헌 법률 심판	재판의 전제가 되는 법률의 위헌 여부를 법원의 제청으로 헌법재판소가 판단하는 심판
헌법 소원 심판	공권력의 행사 또는 불행사로 헌법상 보장된 기본권을 침해당한 국민이 직접 헌법재판소에 공권력의 취소 혹은 위헌 여부 확인을 구하는 심판

12 시민 참여

갑은 선거, 을은 1인 시위, 병은 이익 단체 활동의 시민 참여를 하고 있다. ㄱ. 선거는 대의제에서 시민이 정치에 참여하는 가장 기본적인 시민 참여 방법이다. ㄴ. 이익 단체는 공통된 특수 목적을 가진 사람들이 모여 결성한 단체이다.

오답 풀이

- ㄴ. 1인 시위는 개별적인 성격의 정치 참여 방법이다.
- ㄷ. 갑, 을, 병 모두 정기적으로 시민 참여 활동을 하고 있다.

13 시민불복종

제시문은 수단의 독재 정권에 저항한 시민의 노력으로 권력 공유 협정을 체결한 사례와 미얀마 군부의 탄압에 저항하는 국민의 저항 운동 사례이다. ② 두 사례 모두 시민이 인권 보장을 위해 부당한 국가 권력에 불복종하였다.

오답 풀이

- ① 시민불복종은 시민이 인권을 침해하는 부당한 권력이나 법에 저항하여 의도적으로 법을 어기는 행위이다.
- ③ 시민불복종은 합법적인 방법을 사용한 후 최후의 수단으로 사용하는 비합법적인 방식의 시민 참여이다.
- ④ 시민불복종은 고의로 법률을 위반하는 행위이다.
- ⑤ 시민은 부당한 국가 권력에 대한 복종을 거부하기 위해 시민 불복종을 전개할 수 있다.

14 사회적 소수자 차별 문제

제시문은 다양한 사회적 소수자의 유형에 관한 내용이다. ⑤ 사회적 소수자를 규정하는 기준이 시대와 사회적 상황에 따라 달라짐을 보여 준다.

오답 풀이

- ① 제시문은 후천적 요인에 의해 사회적 소수자가 된 사례이다.
- ② 제시문에는 역차별에 관한 내용은 언급되지 않았다.
- ③ 제시문에는 사회적 소수자 차별 문제의 해결 방안에 관한 내용은 언급되지 않았다.
- ④ 제시문에는 두 개 이상의 사회적 소수자 집단에 속한 사례가 언급되지 않았다.

15 청소년 노동권

④ 청소년 근로자도 「최저 임금법」에 따라 최저 임금 제도의 적용을 받는다. 틀린 답안을 작성하였으므로 ㉠은 '0점', 총점은 '1점'이다.

오답 풀이

- ① 청소년은 근로 계약 시 친권자의 동의서와 연소자 증명서가 필요하다. 틀린 답안을 작성하였으므로 ㉠은 '0점'이다.
- ② 청소년의 근로 시간은 원칙적으로 1일 7시간, 1주 35시간을 초과할 수 없다.
- ③ 청소년 근로자는 사용자와 합의를 통해 하루 최대 1시간까지 연장 근로를 할 수 있다.
- ⑤ 고용노동부 장관의 취직 인허증은 15세 미만 청소년이 근로할 때 필요하다.

16 세계의 인권 문제

제시된 자료는 세계 자유 지수에 관한 내용이다. ㄴ. 아프리카 문화권에는 '자유롭지 않은 국가'의 수가 더 많은 반면 앵글로아메리카 문화권에는 '완전히 자유로운 국가'의 수가 더 많으므로 앵글로아메리카 문화권에서 상대적으로 자유가 더 보장된다고 볼 수 있다.

오답 풀이

- ㄱ. 완전히 자유로운 국가라고 하더라도 인권 문제가 전혀 발생하지 않는다고 볼 수 없다.
- ㄷ. 세계의 인권 문제를 해결하기 위해서는 국가 간의 협력이 필요하다.

II 사회정의와 불평등

1. 정의의 의미와 실질적 기준

STEP 1 기본 개념 확인 문제

34쪽

- 1 (1) 정의 (2) 공동선 (3) 능력 (4) 필요
- 2 (1) × (2) ○ (3) ○ (4) × 3 (1) □ (2) ▽ (3) △

STEP 2 내신 대비 실력 문제

34~37쪽

- 01 ③ 02 ③ 03 ③ 04 ⑤ 05 ④ 06 ④ 07 ④ 08 ⑤
- 09 ② 10 ①

11 (1) | 예시 답안 | 첫째, 질서 있는 공동체를 유지할 수 있다. 둘째, 인간다운 삶의 실현을 가능하게 한다. (2) | 예시 답안 | 시대나 사회마다 적용되는 규범이 다르고, 사람마다 옳고 그름에 대한 신념과 가치관이 다르기 때문이다.

12 (1) | 예시 답안 | 첫째, 서로 다른 업적의 가치를 측정하는 기준을 마련하기 어렵다는 점, 둘째, 사회적 약자의 처지를 더욱 악화할 우려가 있다는 점 (2) | 예시 답안 | 첫째, 모든 사람의 필요와 욕구를 충족하는 데 한계가 있다는 점, 둘째, 일하고자 하는 동기를 약화하여 경제적 효율성을 저하할 수 있다는 점

01 정의의 의미

제시문은 정의의 의미에 관해 설명하고 있다. 아리스토텔레스는 정의란 각자가 자기의 것을 취하며 법이 정하는 바대로 하는 덕이라고 보았다.

오답 풀이

- ① 정의는 단순히 법률 같은 외적 규범만이 아니라, 도덕적 덕목이기도 하다.
- ② 정의는 개인의 내적 성찰에 머무르지 않고 사회적 관계 속에서 드러나는 덕목으로 실현된다.
- ④ 정의는 보편적이고 객관적인 사회적 가치로 개인의 주관적 가치와는 다른 규범이다.
- ⑤ 정의는 소수의 이익이 아니라 구성원 모두의 균형 있는 분배와 공정성을 보장하는 원리이다.

02 분배적 정의

제시문은 부와 소득의 분배에 대한 서로 다른 견해를 제시하고 있다. 부와 소득을 평등하게 분배해야 한다고 주장하는 입장은 결과의 평등을 중시하고, 분배적 정의의 기준으로 필요에 따른 분배를 주장할 가능성이 높다. 부와 소득을 불평등하게 분배해도 된다고 주장하는 입장은 능력이나 업적에 따른 분배를 주장

할 가능성이 높다. 두 입장 모두 기본적 자유의 평등한 보장을 중시한다. ㉓ ㉔은 차등 배분을 옹호하고 있으므로 모든 구성원이 동등한 몫을 가져야 한다고 강조하지 않는다.

03 교정적 정의

제시문은 차등 벌금 제도에 대해 설명하고 있다. 차등 벌금 제도란 범죄자의 소득 수준에 따라 벌금 액수를 차등적으로 부과하는 제도로 동일한 범죄라도 소득이 높은 사람에게는 더 많은 금액을, 소득이 낮은 사람에게는 상대적으로 더 적은 금액을 부과하는 것을 말한다.

오답 풀이

- ㄱ. 차등 벌금 제도는 법 앞의 실질적 평등을 실현하기 위한 제도이다.
- ㄴ. 차등 벌금 제도는 행위의 위법성뿐만 아니라 경제적 능력을 고려해야 실질적 형평성이 보장된다고 본다.

더 알아보기 | 차등 벌금 제도와 총액 벌금 제도

구분	차등 벌금 제도	총액 벌금 제도
벌금 부과 방식	소득 수준을 반영하여 차등 부과	범죄 행위의 종류, 중대성만을 기준으로 일률적으로 부과
형평성	실질적 평등 실현	형식적 평등 실현
장점	억지력 유지, 사회적 공정성 확보	단순·명확하고 행정 처리가 용이
단점	소득 조사 필요, 제도 운영이 복잡	부자에게는 제재 효과가 미흡하고, 서민에게는 과도한 부담을 줄 수 있음.

04 정의의 필요성

제시문은 정의가 제대로 작동되지 못하는 사회의 모습을 보여주고 있다. 이러한 사회에서는 구성원 간의 갈등과 불만이 증폭되어 공동체의 유대가 약화된다.

오답 풀이

- ① 정의는 사회의 불의와 불평등을 바로잡아 변화와 개선을 이끄는 원리이지, 변화를 억제하는 힘이 아니다.
- ② 정의는 모든 상황에서 절대적 평등만을 지향하는 것이 아니라 각자의 상황에 맞는 공정한 평등을 지향한다.
- ③ 정의는 공동선을 일방적으로 강요하지 않고 개인선과 공동선의 조화를 추구한다.
- ④ 정의는 권력의 집중을 막고 국가 권력이 공정하게 행사되도록 한다.

05 아리스토텔레스의 정의관

아리스토텔레스는 정의를 일반적 정의, 특수한 정의(분배적 정

의, 교정적 정의)로 구분하였다. (가)는 분배적 정의, (나)는 교정적 정의, (다)는 일반적 정의에 대한 사례이다.

더 알아보기 | 아리스토텔레스의 정의

아리스토텔레스는 정의를 일반적 정의와 특수한 정의로 구분하였다. 일반적 정의는 사회 구성원이 법과 규범을 지키며 공동선을 추구하는 덕목으로, 사회 질서를 유지하고 조화를 이루는 포괄적 의미의 정의를 뜻한다. 이에 비해 특수한 정의는 구체적인 관계 속에서 형평을 실현하는 정의로, 분배적 정의와 교정적 정의로 나눌 수 있다. 분배적 정의는 명예, 부 등을 각자의 가치에 따라, 즉 같은 것은 같게, 다른 것은 다르게 분배하는 것을 의미한다. 반면 교정적 정의는 범죄나 우연한 손해와 같이 불균형이 발생한 경우 이를 시정하여 가해자와 피해자 사이의 불평등을 바로잡는 것을 말한다. 이처럼 아리스토텔레스의 정의론은 일반적 차원에서는 공동선의 실현을, 특수적 차원에서는 공정한 분배와 시정을 강조한다.

06 분배적 정의의 실질적 기준

제시문에서 분배의 기준으로 준서는 업적에 따른 분배를, 지수는 능력에 따른 분배를, 현수는 필요에 따른 분배를 제시하고 있다.

오답 풀이

- ㄴ. 현수는 필요에 따른 분배를 통해 결과적 평등을 실현하고자 하지만, 준서와 지수는 이와 관련이 없다.

07 분배적 정의의 실질적 기준

제시문에서 (가)는 분배의 기준으로 업적을 강조하고, (나)는 필요를 강조한다. (가)에 비해 (나)는 '성취동기를 강조하는 정도(X)'는 낮고, '사회 통합에 기여하는 정도(Y)'는 높으며, '효율성을 강조하는 정도(Z)'는 낮다.

08 왈처의 복합 평등론

제시문에서 ㉔은 왈처이다. 왈처는 사회적 가치는 공동체의 역사적·문화적 특수성에 따라 다른 사회적 의미를 담고 있으므로 단일한 분배 기준과 절차에 따라 분배가 이루어지는 것이 아니라 특수한 사회적 의미에 맞게 다양한 기준에 따라 분배가 이루어져야 정의롭다고 주장하였다.

오답 풀이

- ① 왈처가 말하는 복합 평등은 서로 다른 영역의 가치가 서로 다른 기준에 의해 분배되는 것이다.
- ② 왈처는 부의 축적이 교육·정치권력까지 지배해서는 안 된다고 보았다.
- ③ 왈처는 사회적 가치가 다양한 기준에 의해 분배될 때 복합 평등이 실현된다고 보았다.
- ④ 왈처는 정의로운 사회에서는 다양한 기준에 따라 사회적 가치의 분배가 이루어진다고 주장하였다.

더 알아보기 | 왈처의 복합 평등론

왈처는 단순 평등이 아니라 복합 평등을 지향하였다. 그는 동일한 가치를 동일하게 소유하는 것, 즉 모두가 동일한 양의 돈, 동일한 수입과 부를 갖는 상태를 단순 평등이라고 보았다. 복합 평등이란 누군가 부나 권력을 불평등하게 가지고 있을 수는 있지만, 어떤 사회적 가치도 결코 지배의 수단으로 이용되지 않는 상태, 혹은 이용될 수 없는 상태를 말한다.

09 마르크스의 필요에 따른 분배

제시문에서 ㉠에 들어갈 말은 '필요'이다. 공산주의 사회에서 정의로운 분배 원리는 능력에 따라 일하고, 필요에 따라 분배받는 것이다.

오답 풀이

- ㄴ. 필요에 따른 분배는 개인 간 능력 향상을 위한 경쟁심을 고취하는 것보다 공동체의 안정과 통합에 기여한다.
- ㄷ. 필요에 따른 분배는 성과와 업적이 아니라 사람이 처한 상황과 요구에 따라 분배할 때 공정성을 높일 수 있다고 본다.

10 벤담의 교정적 정의

제시문의 사상가는 벤담이다. 벤담은 공리주의 관점에서 교정적 정의를 설명하고 있다. 공리주의에서는 형벌이 고통을 주기 때문에 그 자체로는 악이지만 범죄를 예방하여 공동체 전체의 행복을 증진한다면 허용될 수 있다고 보았다. ① 공리주의에서 형벌의 정당성은 그 자체의 응보적 성격이 아니라 사회적 유용성에 따라 결정된다.

더 알아보기 | 교정적 정의에 관한 두 가지 관점

구분	공리주의	응보주의
정당화 기준	사회 전체의 행복 증진(결과주의)	범죄 자체에 대한 응보(의무론)
형벌의 성격	필요악(더 큰 선을 위한 수단)	도덕적 당위(정의 실현 그 자체)
목적	범죄 억제, 교정, 사회 안전	정의 실현, 응보, 책임 부과

11 정의의 필요성

정의가 필요한 이유는 사회 구성원 간의 질서를 유지하고 안정적인 공동체를 형성할 수 있게 하며, 나아가 인간다운 삶의 실현을 가능하게 한다는 데 있다. 만약 사람들이 자신이 받아야 할 몫보다 더 많이 차지하거나 오히려 덜 받게 된다면, 그로 인해 갈등이 발생하고 사회적 혼란이 초래될 수 있다. 따라서 이러한 갈등을 예방하고 조화를 이루기 위해서는 공정한 분배 기준으로 정의가 필수적이다. 한편 '합당한 몫'의 기준은 고정된 것이 아니라, 시대와 사회에 따라 적용되는 규범이 다르고, 개인마다

옳고 그름에 대한 신념과 가치관이 다르기 때문에 다양하게 나타난다고 볼 수 있다.

| 채점 기준 |

상	정의의 필요성과 '합당한 몫'에 대한 기준이 다른 이유에 대해 모두 구체적으로 서술하였다.
중	정의의 필요성과 '합당한 몫'에 대한 기준이 다른 이유에 대해 대략적으로 서술하였다.
하	정의의 필요성과 '합당한 몫'에 대한 기준이 다른 이유에 대해 서술하지 못하였다.

12 분배적 정의의 실질적 기준

제시문은 업적에 따른 분배와 필요에 따른 분배에 대한 설명이다. 업적에 따른 분배는 개인이 더 큰 성과를 이루도록 동기를 부여하여 생산성을 높이고 사회 발전에 기여한다는 장점이 있다. 하지만 서로 다른 업적의 가치를 측정하는 기준을 마련하기 어렵고 사회적 약자의 처지를 더욱 악화할 우려가 있다는 한계점이 있다. 필요에 따른 분배는 사회적 약자를 보호하고 복지와 안전망을 통해 불평등을 완화할 수 있다는 장점이 있다. 하지만 모든 사람의 필요와 욕구를 충족하는 데는 한계가 있고 일하고자 하는 동기를 약화하여 경제적 효율성을 저하할 수 있다는 한계점이 있다.

| 채점 기준 |

상	업적에 따른 분배와 필요에 따른 분배의 한계점에 대해 모두 구체적으로 서술하였다.
중	업적에 따른 분배와 필요에 따른 분배의 한계점에 대해 대략적으로 서술하였다.
하	업적에 따른 분배와 필요에 따른 분배의 한계점에 대해 서술하지 못하였다.

STEP 3 실력 완성 문제 38~39쪽

01 ⑤ 02 ④ 03 ② 04 ⑤ 05 ③ 06 ② 07 ⑤ 08 ④

01 아리스토텔레스의 정의관

제시문의 사상가는 아리스토텔레스이다. 아리스토텔레스는 정의란 각자가 자기의 것을 취하며 법이 정하는 바대로 하는 미덕이라고 보았다.

오답 풀이

- ㄱ. 아리스토텔레스는 분배에서 공적에 따른 비례를 주장하였다. 산술적 평등은 교정적 정의의 방식이다.

02 정의의 특징과 역할

제시문은 정의의 특징과 역할에 대한 학생들의 답변이다.

오답 풀이

- 갑: 정의의 실현은 공동체의 질서 유지와 매우 밀접한 관련이 있다.
- 을: 정의는 공동선과 개인선을 동시에 실현하는 것을 목표로 한다.
- 병: 정의는 단순히 개인의 권리 보장에만 머무르지 않고 사회 질서 유지와 공동선 실현 등 다양한 역할을 한다.
- 무: 정의는 사회적 효율성 달성보다 도덕적 기준 제공에 초점을 두어야 한다.

03 벤담과 칸트의 교정적 정의

갑은 벤담, 을은 칸트이다. 벤담은 공리주의 입장에서 형벌을 정당화하였고, 칸트는 응보주의 입장에서 형벌을 정당화하였다.

오답 풀이

- ㄴ. 형벌을 범죄자의 존엄성을 실현하는 수단으로 본 사상가는 칸트이다.
- ㄹ. 칸트는 형벌의 정당성을 응보의 원리에서 찾았으며 결과주의적 관점에서 바라보지 않았다.

이 단원에서 꼭 알아야 하는 자료

교정적 정의에 대한 두 사상가의 입장

- 형벌은 결코 범죄자 자신이나 시민 사회의 선을 촉진하기 위한 수단으로 가해질 수 없고, 오직 범죄자가 범죄를 저질렀기 때문에 가해져야 한다. - 칸트, 『윤리 형이상학』
- 모든 처벌은 그 자체로서 악이다. 처벌은 더욱 큰 악을 없애는 것을 보장하는 한에서만 인정해야 한다. 입법자의 일차적이고 가장 바람직한 목적은 가능하고 적합한 범위 안에서 모든 종류의 위법 행위를 예방하는 것이다. - 벤담, 『도덕과 입법의 원리 서설』

자료 풀이 | 칸트는 응보주의 관점에서 형벌은 범죄자가 범죄를 저질렀다는 이유만으로 부과되어야 한다고 주장하였다. 벤담은 처벌의 목적이 범죄자를 교화하고, 그 외의 일반인에게 두려움을 줌으로써 사회 구성원 모두의 행위를 통제하는 것이라고 보았다. 특히 본보기를 통해 일반인에게 두려움을 줌으로써 일반인의 행위를 통제하는 것이 가장 중요한 처벌의 목적이라고 주장하였다.

04 필요에 따른 분배

제시문은 필요에 따른 분배의 의미, 장점, 한계점을 제시하고 있다.
⑤ 필요에 따른 분배 시 경제적 효율성은 저하되지만 경제적 형평성은 좋아질 수 있다.

05 아리스토텔레스의 교정적 정의

제시문의 사상가는 아리스토텔레스이다. 아리스토텔레스는 개인 간 손해와 이익의 불균형을 조정하여 산술적 평등을 회복하는 것을 교정적 정의의 핵심으로 보았다.

오답 풀이

- ① 아리스토텔레스는 법 집행의 차등성이 아니라 당사자를 균등

하게 간주하고 손해의 차이에 주목하여 불균형을 조정해야 한다는 점을 강조하였다.

- ② 롤스의 분배적 정의에 해당하며 개인 간 손해의 불균형을 조정해야 한다는 아리스토텔레스의 입장과는 구별된다.
- ④ 칸트의 의무론적 윤리관에 해당하며 결과로 나타난 손해의 불균형을 조정해야 한다는 아리스토텔레스의 입장과 다르다.
- ⑤ 공리주의의 입장에 해당하며 개인 간 손해의 차이를 조정하여 평등을 회복해야 한다는 아리스토텔레스의 관점과는 구분된다.

06 정의의 의미와 역할

자료는 두 종류의 정의의 여신상의 모습을 통해 정의의 의미와 역할에 대해 설명하고 있다.

오답 풀이

- ① (가)는 결과적 정의가 아니라 원칙 중심의 보편적 정의를 강조하고, (나)는 형식적 평등이 아니라 상황에 따른 맥락적 고려를 중요시한다.
- ③ (나)는 법의 기계적 적용이 아니라 맥락적 고려를 강조한다.
- ④ (나)는 개인적 감정에 따른 판결이 아니라 구체적 사실과 맥락을 고려한 판단을 정당화한다.
- ⑤ (가)는 보편성과 객관적 원칙을 강조하지만 (나)는 구체적인 상황적인 정의를 강조한다.

07 왈처의 복합 평등론

제시문은 왈처의 복합 평등론에 대해 설명하고 있다. 복합 평등론은 각 사회적 가치마다 고유한 분배 원칙을 적용하여, 어느 한 가치가 다른 영역을 지배하지 못하도록 함으로써 다차원적 평등을 실현해야 한다는 이론이다.

오답 풀이

- ① 복합 평등이 실현된 사회에서는 결과의 평등이 아니라, 서로 다른 기준에 따라 다른 방식으로 분배하는 것을 강조한다.
- ② 복합 평등이 실현된 사회에서는 분배 시 능력, 업적, 필요, 공동체 기여 등 다양한 가치 기준을 인정한다.
- ③ 복합 평등이 실현된 사회에서는 다양한 분배 원칙을 통한 사회적 가치의 분배를 지향한다.
- ④ 복합 평등이 실현된 사회에서는 필요를 포함하되, 그것이 유일한 기준이 될 수 없으며 영역별로 적절한 기준을 따로 적용해야 한다고 본다.

08 분배적 정의의 실질적 기준

제시문은 코로나바이러스감염증-19 백신을 어떻게 분배하면 좋을지에 대한 학생들의 대화이다.

오답 풀이

- ㄹ. 갑은 업적, 병은 필요에 따른 분배 원리를 강조하고 있다.

2. 다양한 정의관의 특징과 적용

STEP 1 기본 개념 확인 문제

43쪽

- 1 (1) 노직 (2) 샌델 (3) 상호 보완적 2 (1) ○ (2) × (3) ○ (4) ×
3 (1) ㄷ (2) ㄹ (3) ㄴ (4) ㄱ

STEP 2 내신 대비 실력 문제

43~47쪽

- 01 ② 02 ③ 03 ④ 04 ⑤ 05 ⑤ 06 ② 07 ④ 08 ②
09 ④ 10 ⑤ 11 ④ 12 ① 13 ④ 14 ⑤

15 (1) | 예시 답안 | ㉠은 자유주의적 정의관, ㉡은 공동체주의적 정의관이다. 자유주의적 정의관은 인간이 독립적이고 자율적인 존재이며, 개인의 권리와 자유는 최우선적으로 존중받아야 한다고 본다. 공동체주의적 정의관은 인간이 공동체 속에서 관계를 맺으며 정체성과 가치를 형성하는 사회적 존재이며, 개인선은 공동선의 실현 속에서 의미를 지닌다고 본다. (2) | 예시 답안 | 자유주의적 정의관은 개인의 자유 존중에 치중한 나머지 사회적 불평등과 공동선 실현을 간과할 수 있다는 한계점이 있다. 공동체주의적 정의관은 공동체의 가치에 치중한 나머지 개인의 자유와 다양성을 억압할 위험이 있다는 한계점이 있다.

16 (1) | 예시 답안 | 갑은 애덤 스미스, 을은 아리스토텔레스이다. 애덤 스미스는 개인의 사익 추구가 곧 공익 실현으로 이어진다고 보았다. 아리스토텔레스는 국가 공동체를 떠난 개인의 이익이나 행복 추구, 즉 공익을 떠난 사익 추구는 불가능하다고 보았다. (2) | 예시 답안 | 사익과 공익은 상호 보완적 관계임을 인식해 사익을 추구하면서도 공동선을 고려하며 행동해야 한다.

01 자유주의적 정의관

제시문은 자유주의적 정의관의 의미에 대해 설명하고 있다. 자유주의적 정의관은 모든 개인이 독립적으로 존재하며 각자는 자신이 원하는 삶을 스스로 선택할 수 있는 자유를 지니고 있다고 보는 자유주의 사상을 바탕으로 한다. 자유주의적 정의관에 따르면, 개인은 독립적 자아로 사회에 우선하고, 공동선보다 개인선과 개인의 독립성 및 자율성이 우선한다.

오답 풀이

- ㄴ. 자유주의적 정의관에서는 개인적 자유라고 해서 무조건적인 보장을 강조하는 것이 아니라 다른 사람에게 해악을 끼치지 않는다는 조건하에서만 자유가 보장되어야 한다고 주장한다.
ㄷ. 사회정의의 핵심을 공동선의 실현으로 보는 것은 공동체주의적 정의관의 특징이다.

02 롤스의 자유주의적 정의관

제시문의 사상가는 롤스이다. 롤스는 모든 사람이 기본적인 자유를 최대한 누릴 수 있는 평등한 권리를 가져야 하며, 사회적 약

자의 이익을 증진해야 한다고 주장하였다.

오답 풀이

- ① 롤스는 필요에 따른 분배가 아니라 절차의 공정성에 따른 분배가 정의로운 사회를 실현할 수 있다고 보았다.
② 공동체 전통의 유지를 강조하는 것은 공동체주의적 정의관의 입장이다.
④ 롤스는 선천적으로 우월한 재능을 지니고 태어난 것은 자연적 사실로 그 자체는 정의롭지도 부정의하지도 않다고 보았다.
⑤ 모든 사회적 가치는 각각의 고유한 영역에서 독립적으로 분배되어야 한다고 본 사상가는 알처이다.

이 단원에서 꼭 알아야 하는 자료

롤스의 정의론

롤스는 정의를 사회 제도의 제1원리로 보았으며 정의로운 사회란 모든 사람이 동의할 수 있는 공정한 규칙에 의해 운영되는 사회라고 보았다. 그는 '원초적 입장'과 '무지의 베일'이라는 가상적 상황을 설정하여, 사람들이 자신의 지위와 능력을 모른 채 합의한다면 합리적으로 수용할 수 있는 원칙이 도출된다고 설명하였다. 그 결과, 첫째, 모든 사람에게 동등한 기본적 자유를 보장해야 하고, 둘째, 사회·경제적 불평등은 가장 불리한 처지에 있는 사람에게 이익이 되고 기회가 공정하게 보장되는 경우에만 정당화될 수 있다고 주장하였다. 이를 통해 롤스는 자유와 평등을 조화하는 정의의 원칙을 제시하였으며 현대 민주 사회의 정의론에 중요한 이론적 토대를 제공하였다.

03 자유주의적 정의관과 공동체주의적 정의관

갑은 공동체주의적 정의관의 입장을, 을은 자유주의적 정의관의 입장을 취하고 있다. 공동체주의적 정의관은 공동선을 중시하고, 자유주의적 정의관은 개인선을 중시한다.

오답 풀이

- ㄹ. 갑은 공동체의 전통을, 을은 개인의 독립성을 강조한다.

04 자유주의와 공동체주의

제시문은 자유주의와 공동체주의의 특징과 차이점에 대한 학생들의 대화이다. 자유주의는 개인을 독립적 자아, 무연고적 자아로 보는 반면 공동체주의는 개인을 연고적 자아로 본다. ⑤ 개인의 원자화는 공동체적 유대를 약화하는 요인으로 작용한다. 이러한 특징은 자유주의에서 나타난다.

05 노직의 자유주의적 정의관

제시문의 사상가는 노직이다. 노직은 자유주의적 정의관에 따라 절차적 정당성만 확보된다면 불평등이 발생해도 괜찮다고 보았다.

오답 풀이

- ① 노직은 국가가 개입하여 사회적 약자에 대한 기회를 우선적으로 확대하는 것에 반대하였다.

- ② 노직은 재분배를 위한 세금 징수는 강제 노동과 유사한 것이라고 비판하였다.
- ③ 노직은 분배 결과의 불평등을 줄이기 위한 제도적 개입에 반대하였다.
- ④ 노직은 공동체의 전통보다 개인의 자유와 권리를 중요하게 여겼다.

06 샌델의 공동체주의

제시문은 샌델의 공동체주의에 대해 설명하고 있다. 샌델은 개인의 정체성이 공동체에 의해 정의된다는 점에서 개인은 무연고적 자아가 아니라 연고적 자아라고 강조하였다.

오답 풀이

- ① 샌델은 개인이 언제나 역사·문화·공동체적 맥락 속에서 정체성과 가치관을 형성한다고 보았다.
- ③ 공동체주의 입장에서는 공동체적 선의 추구를 중요하게 여기기 때문에 국가 개입의 적극성을 인정한다.
- ④ 쾌락의 양적 계산을 통해 사회 전체의 행복을 극대화해야 한다는 점을 강조한 사상은 공리주의이다.
- ⑤ 사회·경제적 불평등이 최소 수혜자에게 이익이 될 때만 정당하다고 본 사상은 자유주의적 정의관을 주장한 롤스이다.

더 알라두기 | 샌델의 공동체주의

샌델은 자유주의가 전제하는 원자적 개인관과 가치 중립적 국가관을 비판하면서, 개인은 사회적 관계와 공동체적 전통 속에서 정체성을 형성한다고 보았다. 그는 공동체가 공유하는 선과 도덕적 가치가 정치적 논의에서 배제될 수 없으며, 국가는 이러한 공공선을 논의하고 실현하는 역할을 해야 한다고 강조하였다. 따라서 정의는 단순히 절차적 합의나 개인의 권리 보장에 머무는 것이 아니라, 공동체의 역사와 문화, 그리고 구성원이 함께 추구하는 선을 반영해야 실현할 수 있다고 보았다.

07 공동체주의적 정의관

제시문은 공동체주의적 정의관의 의미에 대해 설명하고 있다. 공동체주의적 정의관은 개인이 공동체의 구성원으로서 존재하며, 공동체가 추구하는 가치와 목적의 영향 아래 사회적 책임과 의무를 다해야 한다고 보는 공동체주의 사상을 바탕으로 한다. 공동체주의적 정의관에 따르면, 개인은 연고적 자아로 살아가며, 구성원이 공유하는 가치를 바탕으로 한 공동선의 증진이 중요하다.

오답 풀이

- ㄹ. 사회·경제적 불평등은 최소 수혜자에게 최대의 이익이 돌아갈 때만 정당화된다고 본 사상은 롤스이다.

08 노직의 자유주의적 정의관

제시문의 사상은 노직이다. 노직은 롤스와 마찬가지로 분배의

실질적 결과가 아니라 절차의 정당성 여부에 따라 분배 결과의 정당성이 결정된다고 보는 절차적 정의를 주장하였다.

오답 풀이

- ① 노직은 분배 결과가 아니라 절차의 공정성이 중요하다고 보았다.
- ③ 노직은 국가가 최소한의 역할만을 수행해야 한다고 보았다.
- ④ 노직은 사회적 약자의 복지를 위해 국가가 적극적으로 개입하는 것은 개인의 자유와 소유권을 침해하는 것이므로 정의롭지 않다고 보았다.
- ⑤ 차등의 원칙에 따라 사회적 약자에게 최대 이익을 주어야 한다고 주장한 사상가는 롤스이다.

09 자유주의적 정의관

제시문은 양심적 병역 거부자에 대한 대체 복무 제도에 관해 설명하고 있다. 자유주의적 정의관의 입장에서는 대체 복무 제도를 정당화하는 근거로 양심의 자유를 제시할 것이다.

오답 풀이

- ① 공동선 실현을 위한 개인의 권리 제한의 정당성을 주장하는 것은 공동체주의적 정의관의 입장이다.
- ② 공동체 전통의 유지를 위해 개인의 양심적 결정을 제한해야 한다고 주장하는 것은 공동체주의적 정의관의 입장이다.
- ③ 사회적 약자에게 최대 이익을 주어야 한다는 주장은 경제적 불평등 해소와 관련된 입장이므로 양심적 병역 거부 문제와 직접적인 관련이 없다.
- ⑤ 병역 제도에 대한 국가의 개입을 부정하는 내용은 대체 복무 제도를 정당화하는 근거로 맥락상 맞지 않다.

10 권리와 의무의 조화

제시문은 운수 회사 노동자들의 권리와 회사의 대중교통을 안정적으로 제공해야 할 의무 간의 충돌 상황에 대해 설명하고 있다.

오답 풀이

- ① 시민의 권리가 중요한 만큼 노동자들의 권리도 중요하기 때문에 해결 방안으로 적절하지 않다.
- ② 노동자의 권리와 시민의 권리는 모두 중요한 가치와 의미를 지니기 때문에 해결 방안으로 적절하지 않다.
- ③ 국가가 나서서 일방적으로 강제 해결하는 것은 다툼과 분쟁을 야기할 수 있으므로 적절한 해결 방안이라고 볼 수 없다.
- ④ 사회적 혼란을 피하기 위해 권리보다 안정적 의무 이행을 항상 앞세우는 것은 노동자의 권리를 제대로 보호하지 못하는 결과를 초래하기 때문에 적절한 해결 방안이라고 볼 수 없다.

11 사익과 공익의 조화

갑은 애덤 스미스, 을은 아리스토텔레스이다. 애덤 스미스는 개인의 사적 이익 추구가 사회 전체의 이익으로 이어진다고 보았

다. 아리스토텔레스는 인간은 정치적 동물로 공동체적 삶을 통해 행복을 실현할 수 있다고 보았다.

오답 풀이

나. 애덤 스미스는 도덕 감정과 시장 질서의 자생적 조화를 강조한 것이지, 유용성의 원리를 토대로 사회 전체의 최대 행복을 추구하지는 않았다.

더 알아 두기 | 아리스토텔레스와 애덤 스미스

구분	아리스토텔레스	애덤 스미스
인간관	인간은 공동체 속에서만 완전한 존재	인간은 사익을 추구하는 합리적 존재
사익과 공익의 관계	공익이 우선이며, 사익은 공동선 속에서 정당화됨.	사익 추구가 결과적으로 공익을 실현함.

12 노직과 매킨타이어의 정의관

값은 노직, 을은 매킨타이어이다. 노직에 비해 매킨타이어는 '절차적 평등을 강조하는 정도(X)'는 낮고, '국가의 역할과 간섭의 정도(Y)'는 높으며, '공공선을 중시하는 정도(Z)'도 높다.

13 사익과 공익의 조화

제시문은 쓰레기 소각장 건설을 둘러싸고 지역 주민들의 사익과 사회 전체의 공익이 충돌하는 상황을 다루고 있다.

오답 풀이

- ① 집단 이기주의의 문제를 해결하기 위해서는 개인의 사익과 공익이 조화를 이룰 수 있는 방안을 찾아야 한다.
- ② 공익 실현만을 일방적으로 고려하는 것은 집단 이기주의의 문제의 적절한 해결 방안이라고 볼 수 없다.
- ③ 사익 추구는 정당한 권리 행사이므로 억제되어서는 안 되고, 문제가 발생했을 때 공동선을 고려해 협상하고 타협함으로써 공익 추구하고 조화를 이루어야 한다. 따라서 적절한 해결 방안이라고 볼 수 없다.
- ⑤ 공익 실현일지라도 개인의 자유와 권리를 고려하지 않으면 정당화될 수 없으므로 적절한 해결 방안이라고 볼 수 없다.

14 국민의 알권리와 국익의 조화

제시문은 국민의 알권리와 국가의 이익, 언론의 자유와 국가 안보 간의 갈등 상황을 설명하고 있다.

오답 풀이

ㄱ. 국가의 이익을 위해 언론의 자유를 전적으로 제한하면 언론의 자유를 훼손하고 국익에도 안 좋은 영향을 끼칠 수 있으므로 ㉠과 ㉡의 조화 방안으로 적절하지 않다.

15 자유주의적 정의관과 공동체주의적 정의관

㉠은 자유주의적 정의관이고, ㉡은 공동체주의적 정의관이다.

자유주의적 정의관은 개인을 자율적이고 독립적인 존재이자 스스로 선택하고 판단할 수 있는 능력을 지닌 존재로 이해한다. 따라서 개인의 선택을 존중하는 것이 정의 실현의 핵심이며, 국가는 개인의 자유와 권리를 최대한 보장하는 데 목적을 두어야 한다고 본다. 그러나 이러한 관점은 개인의 자유 존중에 치중한 나머지 사회적 불평등 개선과 공동선 실현을 간과할 수 있다는 한계점이 있다. 공동체주의적 정의관은 인간을 공동체 속에서 정체성을 형성하는 관계적 존재로 파악한다. 개인의 가치와 정체성은 공동체의 전통과 규범 속에서 형성되며, 공동선의 실현을 통해 개인의 삶도 함께 보장된다고 본다. 그러나 이러한 관점은 공동체의 가치에 치중한 나머지 개인의 자유와 다양성을 억압할 위험이 있다는 한계점이 있다.

| 채점 기준 |

상	각각의 정의관에서 바라본 인간관과 한계점을 모두 구체적으로 서술하였다.
중	각각의 정의관에서 바라본 인간관과 한계점에 대해 대략적으로 서술하였다.
하	각각의 정의관에서 바라본 인간관과 한계점에 대해 서술하지 못하였다.

16 사익과 공익의 관계

값은 애덤 스미스, 을은 아리스토텔레스이다. 애덤 스미스는 개인이 자신의 이익을 추구하는 과정이 자연스럽게 사회 전체의 이익으로 이어진다고 보았다. 이러한 관점은 개인의 자율성과 시장의 기능을 신뢰하지만, 사익 추구가 공익으로 이어지지 않는 경우에는 불평등이나 사회적 문제를 초래할 수 있다는 한계점이 있다. 아리스토텔레스는 인간이 법과 정의를 통해서만 올바른 존재가 될 수 있다고 보며, 공익을 실현하는 정치 공동체의 역할을 강조하였다. 이러한 관점은 공동체의 규범이 지나치게 강조될 경우 개인의 자유가 제한될 수 있다는 한계점이 있다. 사익과 공익이 충돌할 경우 조화를 이루기 위해서는 사익을 추구하면서도 그 결과가 공익에 부합하도록 조정하는 균형적 접근이 요구된다.

| 채점 기준 |

상	사익과 공익의 관계 및 조화를 이룰 수 있는 방안에 대해 모두 구체적으로 서술하였다.
중	사익과 공익의 관계 및 조화를 이룰 수 있는 방안에 대해 대략적으로 서술하였다.
하	사익과 공익의 관계 및 조화를 이룰 수 있는 방안에 대해 서술하지 못하였다.

STEP 3 실력 완성 문제

48~49쪽

- 01 ④ 02 ④ 03 ② 04 ② 05 ① 06 ④ 07 ③ 08 ④

01 롤스의 자유주의적 정의관

(가)의 사상가는 자유주의적 정의관을 주장한 롤스이다. 롤스는 정의의 원칙을 통해 사회의 모든 구성원은 기본적 자유들을 최대한 누릴 평등한 권리를 가져야 한다고 보았다. (나)에서 [가로 열쇠] A에 들어갈 말은 '정직'이고 B에 들어갈 말은 '합의'이다. 따라서 [세로 열쇠] A에 들어갈 말은 '정의'이다.

오답 풀이

- ① 사회 전체의 최대 행복을 실현하는 원리는 공리주의 입장에 해당한다.
- ② 공동체의 전통과 가치를 계승하여 유지하는 것을 중시하는 입장은 공동체주의이다.
- ③ 역사적 획득과 정당한 이전 과정을 존중하는 것은 노직의 정의관에 해당한다.
- ⑤ 능력과 업적에 따라 차등적으로 보상하는 것은 롤스의 정의 개념에 부합하지 않는다.

02 노직의 자유주의적 정의관

제시문의 사상가는 노직이다. 노직은 정의로운 과정을 거쳐 발생한 소유 상태는 정의롭다고 보았고, 소유의 정당성은 소유의 역사가 정당했는지에 따라 결정된다고 보았다. 또한 개인의 소유권을 침해하지 않고 개인의 권리를 보호하는 역할만을 수행하는 최소 국가를 정당한 국가 형태로 보았다.

오답 풀이

- ① 사회적 약자에게 최대의 이익을 보장해야 한다는 것은 롤스의 입장에 해당한다.
- ② 필요에 따른 분배로 평등한 사회를 실현해야 한다는 것은 마르크스의 공산주의 입장에 해당한다.
- ③ 사회 전체의 행복을 극대화하는 분배가 정의로운 분배라고 보는 사상은 공리주의이다.
- ⑤ 사회적 가치의 고유한 영역을 구분하여 복합 평등을 추구해야 한다고 본 사상가는 왈처이다.

03 자유주의적 정의관과 공동체주의적 정의관

제시문은 개인과 공동체의 관계 속에서 정의를 바라보는 두 관점인 자유주의적 정의관과 공동체주의적 정의관에 대해 설명하고 있다. ② 정의의 정당성을 역사적 서사나 목적론적 질서에서 찾는 것은 공동체주의적 정의관의 입장에 해당한다.

04 공동체주의적 정의관

제시문은 재개발 사업 과정에서 발생한 갈등 사례를 제시하고 있다.

오답 풀이

- ㄴ. 개인의 소유권을 중심으로 형식적 권리 보장을 우선한다는 것은 결과적으로 일부 주민들의 막대한 이익 보장을 우선한

다는 것이다. 따라서 상호 연대와 책임을 강조하는 공동체주의적 정의관의 입장에서 제시할 수 있는 해결 방안으로 적절하지 않다.

- ㄷ. 개발 이익을 사적 권리로 환원하여 개인의 권리를 강화하면 지역 공동체의 갈등이 더욱 심화된다. 따라서 공동체주의적 정의관의 입장에서 제시할 수 있는 해결 방안으로 적절하지 않다.

05 매킨타이어와 노직의 정의관

갑은 공동체주의적 정의관을 주장한 매킨타이어이고, 을은 자유주의적 정의관을 주장한 노직이다. 매킨타이어는 공동체가 공유하는 덕이 개인의 행동을 지도하고 판단하는 기준이자 정의를 위한 토대가 된다고 보았다. 노직은 정당한 과정을 통한 소유물에 대해 개인은 배타적·절대적 권리를 지니므로, 개인의 소유권리는 국가를 포함한 어느 누구도 침해할 수 없다고 보았다.

오답 풀이

- ㄷ. 사회 전체의 행복 극대화를 정의의 최우선 원리로 보는 사상은 공리주의이다.
- ㄹ. 노직은 결과의 평등을 실현하기 위한 제도적 장치는 개인의 소유권을 침해한다고 보았다.

06 사익과 공익의 조화

제시문은 갈등 상황을 통해 사익과 공익의 조화를 위한 방안에 대해 묻고 있다. ④ 공익 보장을 위해 사익을 전면 배제해서는 안 되고 사익과 공익의 조화 방안을 찾아야 한다.

07 롤스와 노직의 정의관

갑은 롤스, 을은 노직이다. 롤스는 무지의 베일 아래에서 정의의 원칙에 합의할 때 공정한 원칙을 세울 수 있고, 이를 통해 정의를 실현할 수 있다고 보았다. 노직은 개인의 자연적 자산, 즉 타고난 재능이나 최초의 사회적 지위에 대한 소유 권리는 개인에게 있다고 보았다.

오답 풀이

- ㄱ. 평등한 자유의 보장은 롤스, 노직이 모두 중시하는 내용이다.
- ㄴ. 롤스는 사회적 불평등을 원천적으로 금지하지 않았으며 공정한 기회균등의 원칙과 차등의 원칙이 충족된 사회적 불평등은 인정하였다.

08 자유주의와 공동체주의

A는 자유주의, B는 공동체주의이다. 자유주의는 모든 개인이 독립적이고 자율적으로 존재한다고 본다. 반면 공동체주의는 개인을 공동체의 문화와 역사의 영향을 받으며 자신의 정체성을 형성하는 연고적 자아로 본다. ④ 개인의 권리를 보호하기 위해 국가는 최소한의 역할만을 해야 한다고 주장한 사상가는 자유주의 사상가인 노직이다.

3. 사회 및 공간 불평등 현상과 개선 방안

STEP 1 기본 개념 확인 문제

51쪽

- 1 (1) 사회 계층 (2) 사회적 약자 (3) 적극적 평등 실현 조치
2 (1) ○ (2) × (3) × (4) ○ 3 (1) ㉠ (2) ㉠ (3) ㉠

STEP 2 내신 대비 실력 문제

51~53쪽

- 01 ① 02 ③ 03 ③ 04 ② 05 ⑤ 06 ④

07 (1) | 예시 답안 | 사회 계층의 양극화란 사회 계층 중 중층이 점점 감소하면서 사회 계층이 양극단으로 쏠리는 현상을 말한다.

(2) | 예시 답안 | 사회 계층의 양극화를 개선하기 위한 제도적 차원의 해결 방안으로는 사회적 약자를 보호할 수 있는 사회 복지 제도를 실시하는 것, 저소득층을 지원하는 정책을 실시하는 것 등이 있다. 시민적 차원의 해결 방안으로는 정부의 정책 시행을 감시하는 것, 납세의 의무를 성실히 이행하는 것, 자발적으로 기부 활동을 추진하는 것 등이 있다.

08 (1) | 예시 답안 | 첫째, 지역 간에 생활 환경의 불평등이 발생한다. 둘째, 국토의 효율적 이용을 저해하여 균형적이고 안정적인 국가 발전을 어렵게 한다. (2) | 예시 답안 | 수도권과 비수도권 간의 공간 불평등을 개선하기 위한 제도적 차원의 해결 방안으로는 지역 격차 완화 정책을 시행하는 것, 수도권에 모여 있는 공공 기관을 지방으로 분산하는 것, 수도권에서 지방으로 이전하는 기업에게 세금 감면 등의 혜택을 제공하는 것 등이 있다. 시민적 차원의 해결 방안으로는 지방 자치 단체 활동에 적극적으로 참여하는 것, 지역 축제 등 지역 경쟁력을 강화할 수 있는 활동에 주민 참여를 독려하는 것 등이 있다.

01 사회 계층의 양극화

제시문은 사회 계층의 양극화 현상을 보여 주는 수저 계급론에 대해 설명하고 있다.

오답 풀이

- 나. 수저 계급론이 발생하게 된 원인은 능력과 노력만으로 계층 이동이 용이하지 않기 때문이다.
르. 사회 구성원 간 기회의 평등이 충분히 보장되지 못하고 있기 때문에 수저 계급론이 등장하였다.

더 알아 두기 | 수저 계급론

수저 계급론은 현대 한국 사회에서 나타나는 신분·계층 문제를 설명하는 비유적 개념이다. '수저'라는 표현은 부모로부터 물려받은 경제적 자산과 사회적 배경을 의미하며, 태어날 때부터 개인의 사회적 지위와 기회가 달라진다는 점을 강조한다. 금수저, 은수저, 흙수저와 같이 구분하는 것은 부모의 재산과 학력, 사회적 네트워크 등 세습적 요인이 개인의 미래에 큰 영향을 미친다는 사회적 현실을 드러낸다.

02 사회적 약자

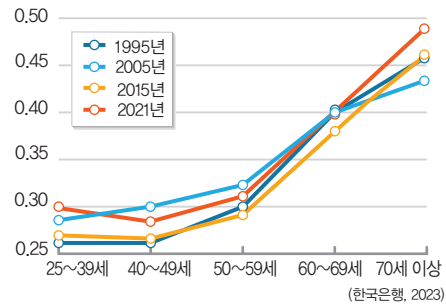
㉠에 들어갈 말은 '사회적 약자'이다. 제시문은 사회적 약자의 의미에 대해 설명하고 있다. ㉢ '국가는 국가 안보를 위해 국민의 기본권을 제한할 수 있다.'라는 조항은 국가의 존립과 안전을 보장하기 위한 조항이므로 사회적 약자 보호와는 관련이 없다.

03 소득 불평등

제시된 자료는 2023년 6월 한국은행이 발표한 「우리나라의 인구 고령화와 소득 불평등」 자료이다. ㉢ 그래프는 1995년 이후 모든 연령대에서 불평등도가 점차 심화되는 양상을 보여 준다.

이 단원에서 꼭 알아야 하는 자료

소득 불평등 지수



연령대별 지니 계수 변화 추이

자료 풀이 | 이 자료는 연령대별 지니 계수 변화 추이를 나타낸 것이다. 지니 계수는 소득 분배의 불평등 정도를 수치화한 지표로, 0에서 1 사이의 값을 가지며 1에 가까울수록 불평등이 심하다는 것을 의미한다. 이 자료에서 보면 젊은 층은 상대적으로 균등한 소득 분포를 보이는 반면, 고령층으로 갈수록 소득 양극화가 심해지고 있다. 이는 은퇴 이후 안정적인 소득원이 부족하거나, 노후 준비 수준에 따라 소득 격차가 크게 벌어지기 때문이라고 해석할 수 있다.

04 소득 불평등

㉠에 들어갈 말은 '공간 불평등'이다. 제시문은 공간 불평등을 해결하기 위한 방안에 대해 설명하고 있다. ㉡ 공간 불평등은 특정 지역에 자원, 인구, 산업이 과도하게 집중되거나 반대로 소외되는 현상을 초래해 국토의 효율성을 떨어뜨리고 지역 간 격차를 심화하며 사회적 갈등과 불평등을 확대한다.

05 사회 복지 제도

제시문은 사회 계층의 양극화 현상을 개선하기 위한 방안으로 사회 복지 제도에 대해 설명하고 있다.

오답 풀이

- ㄱ. 사회 복지 제도의 목적은 모든 계층 간의 경제적 격차를 완전히 제거하는 것이 아니라 기본적 생활 보장과 최소한의 인간다운 삶을 실현하는 것이다.

06 적극적 평등 실현 조치

제시문은 사회적 약자를 보호하기 위한 방안으로 적극적 평등 실현 조치에 대해 설명하고 있다.

오답 풀이

ㄴ. 개인의 능력과 업적만을 기준으로 사회적 자원을 배분할 경우 오히려 사회 불평등이 더욱 심화하여 사회적 약자를 보호하지 못하게 된다.

07 사회 계층의 양극화

사회 계층의 양극화는 소득, 자산, 교육 등의 측면에서 상위 계층과 하위 계층 간 격차가 점점 확대되어 중간 계층이 약화하는 현상을 의미한다. 이는 단순한 차이를 넘어 기회의 불평등으로 이어지며, 특히 교육과 취업 기회의 격차가 세대 간에 대물림됨으로써 사회 이동성을 저해하고 구조적 불평등을 심화한다는 특징을 지닌다. 그 결과 사회 구성원 간 위화감과 갈등이 증대하고, 사회 통합이 약화하여 사회의 건전한 발전 동력이 줄어들 수 있다는 문제가 발생한다. 이러한 양극화 현상을 개선하기 위해 제도적 차원에서는 공정한 교육의 기회를 보장하고, 조세 및 복지 정책을 실시하여 저소득층을 지원하며, 사회적 약자를 보호하는 등 적극적인 재분배 정책이 필요하다. 또한 시민적 차원에서는 사회적 약자에 대한 연대 의식과 공감 능력을 바탕으로 공정한 납세, 자발적 기부 등의 노력이 필요하다.

| 채점 기준 |

상	사회 계층의 양극화의 의미 및 개선 방안에 대해 모두 구체적으로 서술하였다.
중	사회 계층의 양극화의 의미 및 개선 방안에 대해 대략적으로 서술하였다.
하	사회 계층의 양극화의 의미 및 개선 방안에 대해 서술하지 못하였다.

08 공간 불평등

수도권과 비수도권 간의 공간 불평등은 인구, 자본, 산업, 교육·의료·문화 시설 등이 특정 지역에 집중되면서 지역 간 생활 여건과 기회의 격차가 확대되는 현상을 의미한다. 특히 수도권에 자원이 집중되면서 지방은 인구 유출과 고령화가 가속화되고, 지역 경제가 침체되는 악순환이 발생한다. 이는 단순한 지역 격차를 넘어 국가 전체의 균형 발전을 저해하고, 사회적 비효율과 갈등을 초래한다는 점에서 문제의 심각성이 크다. 이러한 문제를 개선하기 위해 제도적 차원에서는 공공 기관과 기업의 지방 이전, 지역 거점 대학 및 산업 육성, 교통·의료·교육 인프라 확충 등을 통한 지역 격차 완화 정책이 필요하다. 한편 시민적 차원에서는 지방 자치 단체 활동에 대한 주민 참여를 통해 경쟁력을 강화하고 지역의 다양성과 균형 발전의 중요성을 인식하는 태도가 요구된다.

| 채점 기준 |

상	공간 불평등이 초래하는 문제점과 개선 방안에 대해 구체적으로 서술하였다.
중	공간 불평등이 초래하는 문제점과 개선 방안에 대해 대략적으로 서술하였다.
하	공간 불평등이 초래하는 문제점과 개선 방안을 서술하지 못하였다.

STEP 3 실력 완성 문제

54~55쪽

01 ④ 02 ④ 03 ④ 04 ⑤ 05 ⑤ 06 ③ 07 ③ 08 ④

01 사회 계층의 양극화

신문 기사는 세계불평등연구소에서 발간한 「세계 불평등 보고서」의 내용을 다루고 있다. 사회 계층의 양극화 문제를 해결하기 위해서는 국가의 적극적인 재분배 정책이 필요하다.

오답 풀이

- ① 모든 계층의 세금을 일률적으로 감면하는 것은 소득 및 부의 불평등 문제를 개선하기 위한 적절한 방법이 아니다.
- ② 상위 계층의 소득세를 인하할 경우 소득 및 부의 불평등은 더 확대될 수 있다.
- ③ 공공 서비스와 복지 지출을 축소할 경우 사회적 약자의 삶이 더욱 어려워져 불평등한 구조가 확대될 것이다.
- ⑤ 소득 격차를 시장 논리에 맡길 경우 소득 및 부의 불평등은 더 확대될 것이다.

02 사회적 약자

㉠에 들어갈 말은 '사회적 약자'이다. 제시문은 사회적 약자의 의미에 대해 설명하고 있다.

오답 풀이

ㄴ. 사회적 약자라고 해서 동일한 문화적 특징을 공유하는 것은 아니며 사회적 소수 집단에만 해당되지도 않는다.

더 알아보기 | 사회적 약자의 특징

사회적 약자는 구성원의 수와는 무관하며 사회에서 권리 보장이나 기회 획득에 어려움을 겪는 사람을 일컫는다. 사회적 약자의 특징으로는 경제적 취약성, 권리 보호의 어려움, 사회적 자원 접근의 어려움, 실질적 평등 보장의 필요성 등을 들 수 있다.

03 사회 복지 제도

제시문은 복지 사각지대를 낳는 주요 원인에 대해 설명하고 있다. 부양 의무자 기준에 의한 복지 사각지대 문제를 해결하기 위해서는 부양 의무자 기준을 완화하거나 축소하여 공공 부조의 실효성을 높이는 방향으로 제도를 개선해야 한다.

오답 풀이

- ① 사회 보험은 가입자가 납부한 보험료를 기반으로 하는 제도로, 국민 기초 생활 보장 제도와 같은 공공 부조와는 다른 제도이다. 오히려 적용 대상을 축소하면 사회적 안전망이 약화하여 문제를 해결할 수 없다.
- ② 가족의 부양 책임을 강화하면 국가의 부담은 줄어들 수 있으나, 오히려 더 많은 사람을 지원에서 배제하여 복지 사각지대를 확대하는 결과를 초래할 수 있다.
- ③ 차등 급여로 격차를 확대하는 것은 부양 의무자 기준으로 인한 복지 사각지대 문제를 해결하는 데 있어서 적절한 해결 방안이라고 볼 수 없다.
- ⑤ 민간 기부는 보조적 역할을 할 수는 있으나, 공공 부조와 같은 국가적 책무를 대체할 수는 없다.

04 소득 불평등

제시된 자료는 소득 수준별 우울 증상 위험 비율에 대해 보여 주는 그래프이다. 그래프에 따르면 소득 수준이 낮을수록 우울 증상 위험이 높으며, 한 구간을 제외하고는 여성이 남성보다 우울 증상 위험이 높다. ⑤ 소득 수준이 올라가면 우울 위험이 감소하는 경향을 보이는 건 맞지만 고소득층에서 우울 증상 위험이 완전히 사라지는 것은 아니다.

05 공간 불평등

제시된 자료는 혁신 도시로의 공공 기관 이전에 대해 설명하고 있다. ⑤ 혁신 도시로 공공 기관을 이전하는 것은 수도권으로 경쟁력을 집중하는 효과가 있는 것이 아니라 분산을 통해 지역 발전 및 국가 성장을 도모하는 효과가 있다.

06 사회적 약자

㉠에 들어갈 말은 '장애인 의무 고용 제도'이다. ③ 단순히 의무 고용률만 충족된다고 고용 평등이 실현되는 것은 아니며, 제도가 실효성을 거두기 위해서는 시민 개개인이 사회적 약자를 배려하는 마음의 적극적인 실천과 다양한 제도적 보완이 함께 실행되어야 한다.

07 재분배 정책에 대한 롤스와 노직의 입장

갑은 노직, 을은 롤스이다. 노직은 사회적 약자를 위한 국가의 재분배 정책에 반대했던 반면, 롤스는 적극적으로 찬성하였다.

오답 풀이

- ㄱ. 노직은 소득 재분배 정책에 대해 반대하였다.
- ㄷ. 롤스는 불평등 자체를 원천적으로 부정하지는 않았다. 사회적 약자를 고려하는 차등의 원칙이 지켜지는 한에서 불평등을 인정하였다.

08 사회 복지 제도

제시문은 사회 복지 제도의 종류인 사회 보험, 공공 부조, 사회

서비스의 사례에 대해 설명하고 있다.

오답 풀이

- ㄷ. 공공 부조는 소득·재산 심사를 거쳐야 하므로 심사와 무관하게 자동적으로 제공된다는 설명은 틀리다.

대단원 평가 문제

56~59쪽

- 01 ② 02 ⑤ 03 ① 04 ④ 05 ③ 06 ④ 07 ① 08 ④
- 09 ③ 10 ⑤ 11 ⑤ 12 ③ 13 ③ 14 ① 15 ③ 16 ④

01 신자유주의에서 바라본 분배적 정의

제시문에서 ㉠에 들어갈 말은 '신자유주의'이다. 프리드먼과 하이에크는 경제학에서 신자유주의 사상을 주장한 대표적인 사상가이다.

오답 풀이

- ㄴ. 신자유주의는 분배 정의가 공동체의 가치와 연대에 의해서가 아니라 자율적 시장 원리에 따라 구현된다고 보았다.
- ㄷ. 신자유주의 사상가들은 필요가 아닌 시장의 원리에 따라 분배가 이루어져야 한다고 보았다.

더 알아 두기 | 프리드먼과 하이에크

프리드먼	프리드먼은 자유로운 시장 경쟁을 통해 자원이 효율적으로 배분된다고 보았다. 그는 분배 정의를 공동체적 가치나 연대에서 찾지 않고, 개인의 자유로운 교환에서 찾았다. 따라서 국가는 기본적인 법과 질서를 유지하는 역할에 한정되어야 하며, 적극적인 재분배 정책은 시장의 기능을 저해하고 개인의 자유를 침해한다고 비판하였다.
하이에크	하이에크는 사회가 스스로 형성하는 자생적 질서를 중시하였다. 그는 '사회적 정의'라는 개념을 환상이라고 보며, 정의는 결과가 아니라 공정한 규칙에 따른 절차적 경쟁에서 실현된다고 주장하였다. 따라서 공동체적 가치나 연대를 이유로 분배를 인위적으로 조정하는 것은 자유 질서를 왜곡하는 행위라고 비판하였다.

02 분배적 정의의 실질적 기준

제시문에서 학생들은 업적, 능력, 필요 등 분배적 정의의 실질적 기준에 대해 설명하고 있다.

오답 풀이

- 갑: 필요에 따른 분배는 개인의 성취동기를 약화할 우려가 있다.
- 을: 업적과 능력에 따른 분배는 결과의 평등이 아닌 기회의 평등을 추구한다.
- 병: 필요에 따른 분배는 개인의 노력과 성과를 제대로 고려하지 못한다는 한계점이 있다.

정: 업적에 따른 분배는 사회적 약자를 제대로 보호할 수 없다는 한계점이 있다.

03 칸트의 교정적 정의

제시문의 사상가는 칸트이다. 칸트는 응보주의 관점에서 사법적 형벌은 범죄 예방이나 사회적 효과를 위한 수단이 아니라 범죄자가 범죄를 저질렀다는 이유만으로 부과되어야 한다고 주장하였다.

오답 풀이

- ② 칸트는 범죄 억제 효과와 무관하게 단지 범죄 사실 자체로 인해 형벌이 정당화된다고 보았다.
- ③ 칸트는 응보적 측면에서 살인자에 대한 사형 제도는 반드시 필요하다고 보았다.
- ④ 칸트는 형벌의 목적을 사회적 효과가 아니라 범죄 자체의 응보적 처벌에 두어야 한다고 보았다.
- ⑤ 칸트는 피해자의 고통을 치유하고 공동체의 안정을 회복하기 위해서가 아니라 범죄에 상응하는 형벌을 부과하기 위해 사형 제도를 허용해야 한다고 주장하였다.

04 자유주의와 공동체주의

같은 자유주의, 이른 공동체주의 입장을 취하고 있다.

오답 풀이

ㄴ. 개인의 정체성이 공동체적 가치와 전통에 의해 형성된다고 보는 입장은 공동체주의이다.

05 롤스와 노직의 정의관

같은 노직, 이른 롤스이다. 노직은 소유 권리로서의 정의를 강조하였고, 롤스는 공정으로서의 정의를 강조하였다. 롤스는 노직에 비해 '국가의 역할과 간섭의 정도(X)'는 높고, '소유 권리를 강조하는 정도(Y)'는 낮으며, '재분배를 강조하는 정도(Z)'는 높다.

06 정의의 필요성

제시문에서 학생들은 정의의 필요성에 대해 대화하고 있다. ④ 정의를 실현하기 위해서는 공동선을 고려하는 동시에 개인의 기본적 권리 보장도 함께 고려해야 한다.

07 샌델의 공동체주의적 정의관

제시문의 사상가는 샌델이다. 샌델은 자유주의적 자아관이 인간을 사회적 관계로부터 분리된 무연고적 자아로 보아, 도덕적 연대나 공동체적 책무를 설명하지 못한다고 지적하였다. 그는 자유주의가 개인의 선택과 권리를 강조하지만, 실제 인간의 자아는 공동체적 관계와 도덕적 연대 속에서 형성된다고 보았다. 따라서 연대, 의무, 공공선 같은 도덕적 책무를 설명하려면 인간을 이미 특정 공동체와 가치 속에 속한 연고적 자아로 이해해야 한다고 주장하였다.

오답 풀이

- ② 개인의 권리 보장만을 정의의 원칙의 기준으로 삼아야 한다고 주장한 사상은 자유주의적 정의관이다.
- ③ 샌델은 연고적 자아를 강조하였으므로 틀린 입장이다.
- ④ 개인은 원초적 입장에서 공동체와 무관하게 합리적 선택을 한다고 주장한 사상가는 롤스이다.
- ⑤ 정의를 개인의 자유 보호를 위한 장치로 보는 사상은 자유주의이다.

08 노직의 자유주의적 정의관

제시문의 사상가는 노직이다. 노직은 정당한 과정을 통해 얻은 소유물에 대해 개인은 절대적·배타적 권리를 지니므로 국가를 포함한 어느 누구도 개인의 소유 권리를 침해할 수 없다고 주장하였다. 따라서 부자에게 더 많은 세금을 거두어 가난한 사람을 돕는 재분배 정책은 개인의 소유 권리를 침해하므로 정당하지 않다고 주장하였다.

오답 풀이

- ① 노직은 재분배를 개인의 소유권 침해로 보았다.
- ② 노직은 취득 및 이전의 절차가 정당할 경우 결과적 불평등을 인정하였다.
- ③ 노직은 불평등을 바로잡기 위한 국가의 개입에 반대하였으며 최소 국가론을 주장하였다.
- ⑤ 노직은 국가는 국방과 치안 같은 최소 역할만 수행해야 하며 약자의 처지를 개선하기 위해 개입해서는 안 된다고 보았다.

09 아리스토텔레스의 분배적 정의

제시문의 사상가는 아리스토텔레스이다. 아리스토텔레스에게 분배적 정의는 각자의 가치에 따라 권력, 명예, 재화 등을 분배하는 것, 즉 '같은 것은 같게, 다른 것은 다르게' 분배하는 것으로, 기하학적 비례의 동등함을 추구하는 것이다.

오답 풀이

- ① 아리스토텔레스는 차별 없이 동일한 장학금을 지급하는 것이 아니라 공헌도에 따라 비례적으로 분배하는 것을 선호할 것이다.
- ② 아리스토텔레스는 공헌도에 따른 차등 분배를 주장할 것이다.
- ④ 연령을 분배의 기준으로 삼는 것은 아리스토텔레스의 분배 원리에 부합하지 않는다.
- ⑤ 사회적 약자 보호는 아리스토텔레스의 분배적 정의와 관련이 없다.

10 니부어의 사회 윤리

제시문의 사상가는 니부어이다. 니부어는 개인 간의 문제는 도덕적이고 합리적인 조정과 설득으로 해결할 수 있지만, 집단 간의 문제는 윤리적이기보다 정치적이므로 강제력이 요구된다고 주장하면서 개인 윤리와 사회 윤리를 구분하였다. 또한 개인 윤리가

추구하는 최고의 도덕적 이상은 사랑, 즉 이타성의 실현이고, 사회 윤리가 추구하는 최고의 도덕적 이상은 정의라고 보았다.

오답 풀이

- ① 니부어는 집단 간의 문제는 윤리적이기보다는 정치적이라고 보았다.
- ② 니부어는 집단 갈등의 필연성은 인정했지만 갈등을 조정할 수 있는 정의 실현 역시 강조하였다.
- ③ 니부어는 국가의 개입을 통해 집단의 이기성을 조절해야 한다고 보았다.
- ④ 니부어는 사회 윤리가 추구하는 최고의 도덕적 이상은 이타성이 아니라 정의라고 보았다

더 알아 두기 | 니부어의 사회 윤리

니부어는 개인과 집단의 도덕성을 구분하면서 사회 윤리의 필요성을 강조하였다. 그는 개인은 이웃 사랑과 같은 기독교적 윤리를 따를 수 있으나, 집단은 본래 자기 이익을 우선시하기 때문에 사랑의 윤리가 사회 속에서 직접 실현되기 어렵다고 보았다. 그는 정의가 단순한 도덕적 호소가 아니라 권력의 균형과 제도적 장치를 통해 구현되어야 한다고 보았으며, 이를 통해 집단 이기심으로부터 사회적 약자를 보호하고 공동체의 안정과 질서를 유지할 수 있다고 설명하였다.

11 롤스의 자유주의적 정의관

(가)의 사상가는 롤스이다. 롤스는 공정한 기회균등의 원칙과 차등의 원칙이 지켜진다면 사회·경제적 불평등이 허용될 수 있다고 보았다.

오답 풀이

- ① 롤스는 절차의 공정성을 토대로 한 불평등에 대해서는 인정하였다.
- ② 롤스는 재능을 응분의 몫이 아니라 도덕적으로 우연한 요소로 보았다.
- ③ 롤스는 시장 수요에 따른 결과도 정의의 원칙에 의해 규제받아야 한다고 보았다.
- ④ 롤스는 개인의 능력만으로 불평등을 정당화하지 않았으며 사회적 약자에게 이익이 되는가를 고려해야 한다고 보았다.

12 왈처의 복합 평등론

제시문의 사상가는 왈처이다. 왈처는 사회적 가치를 단일한 분배 기준과 절차에 따라 분배하는 것이 아니라, 그 특수한 의미에 맞게 서로 다른 기준에 의해 분배해야 한다는 복합 평등론을 주장하였다. ③ 왈처는 각 사회적 가치는 그 가치의 고유한 의미와 분배 원칙에 따라 분배되어야 한다고 강조하였다.

13 공간 불평등

제시문은 수도권과 비수도권, 도시와 농어촌 간의 공간 불평등에 대해 설명하고 있다.

오답 풀이

- ㄱ. 지역 공헌도에 비례해 투자를 집중할 경우 수도권과 비수도권, 도시와 농어촌 간의 격차는 더 벌어질 수 있다.
- ㄴ. 공공시설 건설을 시장의 자율적 기능에 맡길 경우 재정적 기반이 약한 지역은 기본적 생활권을 보호받지 못하게 된다.

14 양성평등 채용 목표 제도

제시문에서 ㉠에 들어갈 말은 ‘양성평등 채용 목표 제도’이다. 양성평등 채용 목표 제도는 적극적 평등 실현 조치 중 하나로, 특별히 여성만을 위한 제도가 아니라 어떤 성별이든 차별 없이 채용할 수 있도록 하는 평등과 균형을 목표로 한다. ① 양성평등 채용 목표 제도는 형식적 평등의 한계를 극복하여 실질적 평등을 실현하고자 하는 제도이다.

15 사익과 공익의 갈등

제시문은 쓰레기 처리 문제로 인한 지방 자치 단체와 주민 간의 갈등 사례를 설명하고 있다.

오답 풀이

- ① 쓰레기 문제는 지역 사회 전체의 공익과 직결되는 사안으로 단순히 주민 자율에 맡길 경우 해결되지 않는다.
- ② 공익만 강조하고 절차적 정당성을 무시하는 것은 정의로운 해결책이라고 볼 수 없다.
- ④ 정의로운 해결이란 공익과 사익의 조화를 추구하는 것이다.
- ⑤ 공익 문제는 어디서든 발생할 수 있으므로 보상, 지원 등 조화로운 대안책을 마련해야 한다.

더 알아 두기 | 집단 이기주의(넌비와 핼피)

넌비 현상	넌비 현상은 'Not In My BackYard(내 뒷마당에는 안 된다.)'의 약자로, 사회 전체의 이익을 위해 필요한 시설임에도 해당 지역 주민들이 자기 생활 환경의 악화를 이유로 설치를 반대하는 현상을 말한다. 주민들이 반대하는 대표적인 시설로는 쓰레기 소각장, 하수 처리장, 원자력 발전소, 교도소 등이 있다.
핼피 현상	핼피 현상은 'Please In My Front Yard(내 앞마당에 설치해 달라.)'의 약자로, 지역 발전에 도움이 되는 시설이나 사업을 자기 지역에 적극적으로 유치하려는 현상을 의미한다. 예를 들어 첨단 산업 단지, 연구소, 교통 인프라, 대학 캠퍼스 등은 지역의 경제 활성화와 생활 수준 향상에 기여하므로 주민들이 앞다투어 유치 경쟁을 벌이는 경우가 많다.

16 사회 계층

제시문은 사회 계층의 의미에 대해 설명하고 있다.

오답 풀이

- ㄴ. 사회 계층은 개인의 노력, 교육, 사회적 기회에 따라 변화할 수 있으며 이동이 가능하다.

III 시장경제와 지속가능발전

1. 자본주의 시장경제의 발전

STEP 1 기본 개념 확인 문제

65쪽

- 1 (1) 자본주의, 생산 수단 (2) 케인스, 대공황 (3) 신자유주의
 2 (1) O (2) X (3) X 3 (1) ㉠ (2) ㉡ 4 (1) ㄱ (2) ㄷ (3) ㄴ

STEP 2 내신 대비 실력 문제

65~69쪽

- 01 ⑤ 02 ② 03 ② 04 ① 05 ⑤ 06 ⑤ 07 ⑤ 08 ③
 09 ④ 10 ① 11 ③ 12 ④ 13 ④ 14 ⑤

15 (1) (가) 대공황, (나) 석유 파동 (2) | 예시 답안 | (가)는 애덤 스미스가 주창한 자유방임주의의 한계가 드러난 사건이다. 이후 미국은 케인스의 수정 자본주의를 토대로 대공황을 극복하기 위해 노력하였다. (나)는 수정 자본주의의 한계가 드러난 사건으로 이후 신자유주의가 발흥하는 계기가 되었다.

16 (1) ㉠ 자유와 창의 ㉡ 경제의 민주화 (2) | 예시 답안 | 우리나라 헌법 제119조 ①은 우리나라 경제 체제가 시장경제를 기본으로 함을 천명하고 있다. 그러나 상황에 따라 제23조 ②에 의거하여 사유 재산권을 규제하거나, 제119조 ②에 의거하여 시장에 개입할 수 있음을 나타내고 있다. 즉 우리나라 경제 체제는 시장경제 원리를 근간으로 계획경제의 요소를 가미한 혼합 경제 체제임을 알 수 있다.

01 자본주의의 특징

자본주의는 토지, 공장, 기계 등의 생산 수단을 민간의 개인이나 기업이 소유해야 한다는 이념에 근거한 경제 운용 방식이다. ㄱ. 자본주의는 일반적으로 시장 원리를 바탕으로 하는 시장경제 체제와 결합되어 있다. ㄴ. 노동의 대상이나 수단이 되는 모든 생산 요소를 '생산 수단'이라고 하며 이를 '자본'이라고도 한다. ㄷ. 생산 수단을 소유한 사람을 '자본가'라고 한다.

02 자본주의의 역사적 전개 과정

자유방임주의에 따라 경제를 운용한 결과 생산력이 비약적으로 증대하며 산업 혁명이 일어났지만 시장의 불균형이 심화되며 대공황이 발생하였다. ② 각국 정부는 대공황을 극복하기 위해 케인스의 경제 이론에 근거하여 적극적으로 시장에 개입하였고 이는 수정 자본주의 시대가 도래하는 계기가 되었다.

오답 풀이

- ① 자본주의의 역사적 전개 과정은 산업 혁명 → 대공황 → 석유 파동 → 세계 금융 위기 순이다.
 ③ 뉴딜 정책은 대공황을 극복하는 과정에서 등장하였다.


- ④ 석유 파동은 케인스 경제학의 영향력이 약화하고 신자유주의가 발흥하는 계기가 되었다.
 ⑤ 세계 금융 위기는 신자유주의 정책이 약화하는 계기가 되었다.

03 자본주의의 역사적 전개 과정

신항로 개척 이후 유럽의 절대 왕정 국가들은 중상주의에 따라 시장에 깊이 간여하였다. 애덤 스미스는 『국부론』을 통해 국가가 상업을 보호하고 무역을 통제하는 중상주의를 비판하며 자유로운 경제활동을 강조하였다. 애덤 스미스의 자유방임주의에 따라 경제를 운용한 결과 생산력이 비약적으로 발전하며 산업 혁명이 일어났다. 그러나 이후 거대 독점 기업들이 등장하고 생산과 소비의 불균형이 심화되며 대공황이 발생하였다. 대공황을 극복하기 위해 미국의 루스벨트 대통령은 케인스의 경제 이론을 바탕으로 뉴딜 정책을 실시하였고 이를 계기로 수정 자본주의 시대가 도래하였다. 그러나 1970년대 석유 파동으로 그 한계가 드러나며 다수의 국가에서 신자유주의 정책이 도입되기 시작하였다.

이 단원에서 꼭 알아야 하는 자료

자본주의의 역사적 전개 과정



자료 풀이 | 애덤 스미스는 시장의 가격 기능을 '보이지 않는 손'으로 비유하며 개인의 자유로운 경제활동과 국가 개입의 최소화를 강조하는 자유방임주의를 주장하였다. 1929년 대공황이 발생하자 케인스는 경제 위기를 극복하기 위해 공공사업 추진, 사회보장 강화 등 정부가 시장에 적극적으로 개입해야 한다는 수정 자본주의를 주장하였다. 그러나 1970년대 두 차례의 석유 파동 이후 하이에크, 프리드먼 등은 수정 자본주의를 비판하며 정부 규제 철폐 및 완화, 공기업 민영화, 노동 시장의 유연화 등을 골자로 하는 신 자유주의를 주장하였다.

04 자유방임주의

제시문은 애덤 스미스가 주장한 분업의 효과를 설명하고 있다. ㄱ. 애덤 스미스는 『국부론』을 통해 자유방임주의를 주장하였다. ㄴ. 애덤 스미스는 『국부론』에서 시장의 가격 기능을 '보이지 않는 손'에 비유하며 개인의 자유로운 경제활동과 국가 간섭의 최소화가 보장될 때 자원이 효율적으로 배분된다고 설명하였다.

오답 풀이

- ㄷ. 생산 수단을 소유한 자는 자본가이다. 노동자는 노동을 제공하고 임금을 받는 사람을 말한다.
- ㄹ. 귀금속을 축적하는 것이 국부(國富)를 증대하는 길이라는 주장은 중상주의에 해당한다. 애덤 스미스는 중상주의를 비판하며 자유방임주의를 주창하였다.

05 수정 자본주의

경제학자 A는 케인스이다. ⑤ 케인스는 경제가 침체된 상황에서 정부가 시장에 적극적으로 개입해야 한다는 수정 자본주의를 지향하였다.

오답 풀이

- ① A는 케인스이다. 하이에크는 신자유주의를 주창한 학자이다.
- ② 중상주의를 비판한 학자는 애덤 스미스이다.
- ③ 뉴딜 정책은 수정 자본주의 정책이다.
- ④ 석유 파동은 1970년대 발생한 사건으로 루스벨트 대통령의 재임 시기 이후이다.

06 신자유주의

경제사상 A는 신자유주의이다. 프리드먼과 하이에크가 주장하여 수정 자본주의의 대안으로 등장하였고, 정부의 시장 개입 축소와 시장의 자유 보장을 강조하며, 1980년대 미국의 레이건 정부와 영국의 대처 정부에 의해 강력하게 추진되었다는 ㉠~㉢의 진술에서 도출할 수 있다. ㉣ 2008년을 전후하여 발생한 서브프라임 모기지 사태와 세계 금융 위기는 신자유주의의 영향력이 약화하는 계기가 되었다.

더 알아 두기 | 서브프라임 모기지 사태

서브프라임 모기지 사태(subprime mortgage crisis)란 2007년 미국의 초대형 투자 은행인 리먼 브라더스사가 파산하며 국제 금융 시장의 연쇄적인 경제 위기를 초래한 사건을 의미한다. 서브프라임(subprime)은 은행의 고객 분류 등급 중 비우량 대출자, 모기지(mortgage)는 주택 담보 대출을 뜻한다. 금융 회사가 높은 수익을 좇아 신용도가 일정 기준 이하인 저소득층, 신용 불량자 등에게도 주택 담보 대출을 허용하였으나 해당 대출자들이 대출 금액을 갚지 못하면서 금융 회사가 줄지어 파산하였고 이는 2008년 세계 금융 위기를 야기하였다.

07 신자유주의와 수정 자본주의

A는 신자유주의, B는 수정 자본주의에 대한 설명이다. 같은 카드 A와 C를 가져갔으므로 C가 신자유주의에 대한 설명이면 승리한다. 을은 카드 B와 D를 가져갔으므로 D가 수정 자본주의에 대한 설명이면 승리한다. ㄷ. '대공황 직후 확립되었다.'는 수정 자본주의에 대한 설명이므로 을이 승리할 수 있다. ㄹ. '세계화

와 자유 무역 확대의 사상적 바탕이 되었다.'는 신자유주의에 대한 설명이므로 을이 승리할 수 없다.

오답 풀이

- ㄱ. C가 신자유주의에 대한 설명이면 갑이 승리할 수 있다.
- ㄴ. '복지 축소를 지향한다.'는 신자유주의에 대한 설명이므로 갑이 승리할 수 있다.

08 시장과 정부의 관계

갑과 을은 정부의 시장 개입에 대하여 대화하고 있다. ㄱ. 갑은 정부의 시장 개입 필요성을 주장하는 수정 자본주의 입장에 해당하므로 시장의 한계를 강조할 것이다. ㄷ. 을은 시장에 대한 정부 개입의 문제점을 지적하는 자유방임주의 또는 신자유주의의 입장에 해당하므로 정부 실패를 경계할 것이다.

오답 풀이

- ㄴ. 공기업의 방만한 경영은 정부 실패의 사례이므로 '공기업은 방만한 경영을 할 가능성이 높기 때문이야.'는 (나)에 들어갈 수 있다.

09 신자유주의

제시문은 공기업 민영화에 대한 대화이다. ㄴ. 공기업 민영화는 신자유주의에 부합하는 정책으로 을의 설명은 옳지 않다. 교사의 평가에 따라 을을 제외한 갑, 병, 정은 모두 옳게 답하였음을 알 수 있다. ㄷ. (가)에는 옳은 진술이 들어가야 하므로 '수정 자본주의에 반발한 신자유주의 정책이라고 할 수 있습니다.'가 들어갈 수 있다.

오답 풀이

- ㄱ. 케인스는 수정 자본주의를 주창한 경제학자로 공기업 민영화와는 거리가 멀다.

10 시장경제 체제

제시문은 생필품 부족 문제가 시장 원리에 의해 자연스럽게 해소되는 상황을 나타내고 있다. ① 자유로운 시장에서 공급을 초과하는 수요가 발생할 경우 해당 재화의 시장 가격이 상승한다. 시장 가격의 상승은 공급자에게는 해당 재화의 공급을 늘리라는 신호, 소비자에게는 해당 재화의 소비를 줄이려는 신호로 작용한다. 이를 통해 시장 가격은 필요한 재화가 적절하게 공급되는 자원의 효율적 배분 상태를 달성한다.

오답 풀이

- ② 제시문은 민간의 사적 이익 추구를 통해 자원의 효율적 배분을 달성한 사례로 부도덕한 행위와는 거리가 멀다.
- ③ 제시문은 생산물의 가격이 생산 요소의 투입을 조절하여 생산물의 분배를 결정한 사례이다.
- ④ 제시문은 정부의 개입 없이 시장 원리에 따라 자원이 적절하게 배분된 사례이다.

- ⑤ 어떤 재화의 가격 상승은 소비자에게 그 재화의 소비를 줄이라는 신호로 작동한다.

11 시장경제 체제

제시된 자료는 시장경제 체제의 원리와 특징을 나타내고 있다. 시장경제 체제는 사유 재산 제도를 기반으로 개인과 기업의 사적 이익 추구하고 자유로운 경쟁을 보장한다. 또한 시장 가격이 신호역할을 하여 수요자와 공급자의 소비와 생산 활동의 유인이 되어 자원이 효율적으로 배분된다고 본다.

오답 풀이

- ①, ②, ④, ⑤ 경제 체제의 개념, 자본주의의 장점과 단점, 계획경제 체제의 역할과 한계, 혼합경제 체제의 의미와 영향은 제시된 자료의 주제와 거리가 멀다.

12 시장경제 체제와 계획경제 체제

(가), (나)의 질문에 따라 경제 체제 A, B를 구분할 수 있다. ④ (나)에 '국가의 단거적 정책 목표 달성에 유리한가?'가 들어가면 '예'라고 답한 A는 계획경제 체제, '아니요'라고 답한 B는 시장경제 체제가 된다. 시장경제 체제는 사적 이익 추구를 보장한다.

오답 풀이

- ① A가 시장경제 체제라면 A가 '아니요'라고 답한 (가)에는 '사유 재산권을 인정하는가?'가 들어갈 수 없다.
- ② B가 계획경제 체제라면 B가 '아니요'라고 답한 (나)에는 '정부의 계획과 명령에 따라 자원이 배분되는가?'가 들어갈 수 없다.
- ③ (가)에 '시장 원리에 따른 자원 배분을 추구하는가?'가 들어가면 '아니요'라고 답한 A는 계획경제 체제이다.
- ⑤ 자원의 희소성으로 인해 발생하는 경제 문제(생산물의 결정, 생산 방법의 결정, 분배 방식의 결정)는 효율성과 형평성을 고려하여 결정되며 시장경제 체제와 계획경제 체제에서 공통적으로 나타난다. 따라서 시장경제 체제와 계획경제 체제는 모두 효율적인 생산을 추구한다.

13 계획경제 체제

제시문은 자국의 경제 체제에 대하여 명시한 ○○국의 헌법 내용을 나타내고 있다. 사회주의 경제, 국가의 경제활동 제한 등의 내용을 통해 계획경제 체제를 바탕으로 함을 알 수 있다. 계획경제 체제는 사적 이익 추구 활동을 보장하지 않는다.

오답 풀이

- ㄱ. 계획경제 체제는 정부의 명령이나 통제하에 경제가 운용되므로 큰 정부를 지향한다.
- ㄴ. 자원의 배분은 경제 문제와 관련이 있다. 경제 문제는 효율성과 형평성을 고려하여 결정되며 시장경제 체제와 계획경제 체제에서 공통적으로 나타나므로 시장경제 체제와 계획경제 체제는 모두 자원 배분의 효율성을 추구한다.

14 계획경제 체제

제시문은 계획경제 체제의 한계를 설명하고 있다. ⑤ 계획경제 체제에서는 개인과 기업의 이익 추구 동기가 약하고 정부의 규율과 통제를 우선시하므로 효율적인 자원 배분이 이루어지기 어렵다.

오답 풀이

- ①, ② 제시문의 내용과 거리가 멀다. 제시문은 계획경제 체제에서 비효율성이 발생하는 원인에 대해 설명하고 있다.
- ③ 시장경제 체제는 계획경제 체제보다 급격한 경기 변동이 나타날 수 있으나 제시문의 내용과는 거리가 멀다.
- ④ 계획경제 체제는 시장경제 체제보다 정책 목표 달성에 효과적이나 제시문의 내용과는 거리가 멀다.

15 자본주의의 역사적 전개 과정

(가)는 대공황, (나)는 석유 파동이다. 대공황은 애덤 스미스의 자유방임주의에 따라 경제를 운용한 결과 발생한 사건으로 이를 극복하는 과정에서 케인스의 수정 자본주의가 주류화되었다. 석유 파동은 케인스의 수정 자본주의에 따라 경제를 운용하던 중 발생한 사건으로 세계 각국에 스태그플레이션을 불러일으켰다. 석유 파동 당시 각국 정부는 케인스의 이론에 따라 시장에 적극 개입하였으나 스태그플레이션을 타개하지 못하였고 이는 신자유주의가 발흥하는 계기가 되었다.

채점 기준

상	(가), (나)의 사건을 옳게 작성하고, 두 사건이 자본주의의 역사적 전개 과정에 미친 영향을 <조건>을 모두 만족하도록 서술하였다.
중	(가), (나)의 사건을 옳게 작성하고, 두 사건이 자본주의의 역사적 전개 과정에 미친 영향을 <조건>을 일부 만족하도록 서술하였다.
하	(가), (나)의 사건을 작성하지 못하고, 두 사건이 자본주의의 역사적 전개 과정에 미친 영향을 <조건>을 만족하도록 서술하지 못하였다.

16 시장과 정부의 관계

우리나라 헌법 제23조 및 제119조는 우리나라의 경제 체제가 시장경제 원리를 기반으로 계획경제의 요소를 가미한 혼합경제 체제라는 것을 보여 준다.

채점 기준

상	㉠, ㉡에 들어갈 말을 옳게 작성하고, 우리나라 경제 체제의 특징과 운용 방식을 <조건>을 모두 만족하도록 서술하였다.
중	㉠, ㉡에 들어갈 말을 옳게 작성하고, 우리나라 경제 체제의 특징과 운용 방식을 <조건>을 일부 만족하도록 서술하였다.
하	㉠, ㉡에 들어갈 말을 작성하지 못하고, 우리나라 경제 체제의 특징과 운용 방식을 <조건>을 만족하도록 서술하지 못하였다.

01 ③ 02 ③ 03 ① 04 ② 05 ③ 06 ② 07 ⑤ 08 ④

01 자본주의의 역사적 전개 과정

그림은 자본주의의 역사적 전개 과정을 나타내고 있다. 애덤 스미스는 귀금속 보유량을 증대하는 것이 곧 국부를 증대하는 것이라고 여긴 중상주의를 비판하며 자유방임주의를 주창하였다. 나. 자유방임주의의 결과 산업 혁명이 일어나며 생산력이 비약적으로 증대하였으나 독점 기업의 등장, 생산과 소비의 불균형 등으로 대공황이 발생하였다. 다. 대공황을 극복하기 위해 케인스는 수정 자본주의를 주창하였고 세계 각국에서 수정 자본주의에 기반한 정책이 실시되었다. 그러나 1970년대 석유 파동으로 케인스 이론의 영향력이 약화되며 신자유주의가 발흥하였다.

오답 풀이

- ㄱ. 중상주의는 귀금속 보유량의 증대를 목표로 하였다. 실물 생산량의 증대를 중시한 것은 자유방임주의이다.
- ㄴ. 신자유주의는 1970년대 석유 파동을 계기로 발흥하였다. 대공황을 계기로 주류화된 것은 수정 자본주의이다.

더 알아 두기 | 케인스의 유효 수요 이론

1929년 미국의 주가 폭락을 계기로 대공황이 발생하였다. 다수의 경제학자는 실업으로 인한 경제 위기가 임금과 이자율의 하락을 통해 자연스럽게 해결될 것이라고 믿었다. 그러나 케인스는 생산물을 실제로 구매할 수 있는 수요인 유효 수요의 부족으로 대공황이 발생하였다고 보고 정부가 시장에 적극적으로 개입하여 유효 수요를 창출해야 한다고 강조했다.

02 자본주의의 역사적 전개 과정

(가), (나)의 질문에 따라 A~C를 구분할 수 있다. ㄱ. (가)에 '루스벨트 대통령이 뉴딜 정책을 실시한 배경이 되는가?'가 들어가면 '예'라고 답한 A는 대공황이 된다. 나. (나)에 '정부 개입의 필요성을 인식하게 한 사건인가?'가 들어가면 '아니요'라고 답한 B는 석유 파동이 된다.

오답 풀이

- ㄴ. 대공황, 석유 파동, 세계 금융 위기 중 서브프라임 모기지 사태로 촉발된 것은 세계 금융 위기뿐이므로 A와 C가 모두 '예'라고 답한 (나)에는 '서브프라임 모기지 사태로 촉발되었는가?'가 들어갈 수 없다.

03 자본주의의 역사적 전개 과정

자유방임주의와 신자유주의는 모두 정부 개입의 필요성을 강조하지 않는다. A와 B는 '정부 개입의 필요성을 강조하는가?'라는 질문으로 구분할 수 없으므로 자유방임주의 또는 신자유주의이다.

따라서 C는 수정 자본주의가 된다. 자유방임주의와 수정 자본주의는 모두 1970년대 석유 파동 이전 강한 영향력을 지녔던 경제 사상이다. B와 C는 '1970년대 석유 파동 이후 영향력이 강화되었는가?'라는 질문으로 구분할 수 없고 C는 수정 자본주의이므로 B는 자유방임주의, A는 신자유주의가 된다.

오답 풀이

- 나. 애덤 스미스의 『국부론』은 자유방임주의의 바탕이 되었다.
- ㄴ. 자유방임주의는 대공황 이전, 수정 자본주의와 신자유주의는 대공황 이후에 대두된 사상이다.

더 알아 두기 | 스태그플레이션

스태그플레이션(stagflation)은 경기 침체를 뜻하는 스태그네이션(stagnation)과 물가 상승을 뜻하는 인플레이션(inflation)의 합성어로 경기 침체와 물가 상승이 동시에 나타나는 현상을 말한다. 스태그플레이션은 주로 공급측 요인에 의해 나타난다. 국제 원유 가격의 상승이 각국 경제의 총공급을 감소시켜 스태그플레이션을 유발한 1970년대 석유 파동이 그 예이다. 케인스의 수정 자본주의에 따르면 정부는 수요측 요인을 조절하여 경기 침체 시에는 경기 부양(고용 증대)을, 경기 과열 시에는 물가 안정을 유도할 수 있다. 그러나 스태그플레이션 상황에서는 정부가 경기 부양 정책을 시행할 경우 더욱 심한 물가 상승을 초래하고, 물가 안정 정책을 시행할 경우 더욱 심한 경기 침체를 유발하며 정부의 개입이 위기를 심화하는 결과를 낳았다.

04 자본주의의 역사적 전개 과정

A는 옳은 진술, B는 틀린 진술이다. 갑이 A, 을이 B를 가져간 상태이므로 다음 차례에서 갑은 승리할 가능성이 있지만 을은 승리할 가능성이 없다. 나. C의 진술이 '자유방임주의는 산업 혁명을 가능하게 하였지만 대공황으로 이어졌다.'이면 이는 옳은 진술이다. 갑이 C를 가져가면 옳은 진술의 카드 두 장을 가지게 되므로 승리할 수 있다.

오답 풀이

- ㄱ. 옳은 진술의 카드를 가져간 것은 갑이다. 대공황을 계기로 발흥한 사상은 수정 자본주의이다.
- ㄴ. 뉴딜 정책은 수정 자본주의에 기반한 정책이므로 '뉴딜 정책은 신자유주의에 기반한 정책이다.'는 틀린 진술이다. '2008년 세계 금융 위기는 신자유주의를 약화하는 계기가 되었다.'는 옳은 진술이다. 따라서 갑이 승리하기 위해서는 D를 가져가야 한다.

05 시장경제 체제와 계획경제 체제

'보이지 않는 손에 의한 자원 배분을 중요시 하는가?'라는 질문에 '아니요'라고 답한 A는 계획경제 체제, '예'라고 답한 B는 시장경제체제이다. ③ 시장경제 체제는 계획경제 체제에 비해 급격한 경기 변동이 발생하기 쉽다.

오답 풀이

- ① A는 계획경제 체제이다.
- ② '이익 추구 동기의 약화로 인한 개인의 근로 의욕 저하'가 부작용으로 지적되는 것은 계획경제 체제이다.
- ④ 시장 가격의 신호등 역할을 중시하는 것은 시장경제 체제이다. B가 '아니오'라고 답한 (가)에는 '시장 가격의 신호등 역할을 중시하는가?'가 들어갈 수 없다.
- ⑤ 시장경제 체제와 계획경제 체제는 모두 경제 문제의 합리적 해결을 추구한다. 따라서 A와 B가 모두 '예'라고 답한 (나)에는 '경제 문제의 합리적 해결을 추구하는가?'가 들어갈 수 있다.

이 단원에서 꼭 알아야 하는 자료

보이지 않는 손

우리가 저녁 식사를 기대할 수 있는 것은 정육점 주인, 양조장 주인, 빵집 주인의 자비심 덕분이 아니라 그들이 자기 이익을 중시하기 때문이다. 개인은 공공의 이익을 의도적으로 증진하려고 하지 않으며, 얼마나 증진할 수 있는지도 알지 못한다. 개인은 바로 그 때 '보이지 않는 손'에 이끌려 자신이 의도하지 않았던 목표를 달성할 수 있게 된다. 자신의 이익을 추구함으로써 개인은 더 효율적으로 사회의 이익을 증진할 수 있다. - 애덤 스미스, 『국부론』

자료 풀이 | 애덤 스미스는 자원이 효율적으로 배분되는 시장의 기능을 '보이지 않는 손'에 비유하였다. 그는 재화에 대한 수요와 공급이 시장 가격을 형성하고 이는 생산자와 소비자에게 생산 또는 소비를 증감하도록 알려 주는 신호등 역할을 한다고 설명하였다.

06 시장경제 체제와 계획경제 체제

'효율성을 추구한다.'는 A와 B 모두에 해당하는 특징이므로 'B에만 해당하는 특징'으로 적절하지 않다. 따라서 (나)에는 반드시 옳은 진술이 들어가야 한다. ② (가)에 '정부의 명령과 통제에 따라 경제 문제를 해결한다.'가 들어가면 (가)와 '사유 재산 보장을 중시한다.' 중 하나만 옳으므로 제시된 점수에 부합한다.

오답 풀이

- ① (가)에 '자유로운 경쟁을 보장한다.'가 들어가면 'A에만 해당하는 특징'의 점수가 0점 또는 2점이 되어야 하므로 제시된 점수에 부합하지 않는다.
- ③ (나)에 '개인과 기업의 자유로운 경제활동을 보장한다.'가 들어가면 A는 계획경제 체제, B는 시장경제 체제가 된다. (가)에 계획경제 체제에만 해당하는 특징이 들어가면 제시된 점수에 부합하는 상황이 될 수 있다.
- ④ (나)에 '개인의 생산 동기가 부족하다는 비판을 받는다.'가 들어가면 A는 시장경제 체제, B는 계획경제 체제가 된다. (가)에 시장경제 체제에만 해당하는 특징이 아닌 것이 들어가면 제시된 점수에 부합하는 상황이 될 수 있다.
- ⑤ A, B는 정해짐이 없이 (가), (나)의 진술에 따라 유동적으로 바뀔 수 있으므로 '우리나라의 경제 체제는 A를 바탕으로 B

의 요소를 일부 도입한 혼합경제 체제이다.'라고 단정할 수 없다.

07 시장경제 체제와 계획경제 체제

갑의 답변과 채점 결과를 토대로 노동 생산성의 증대를 추구하는 A는 계획경제 체제, 노동 생산성 증대와 사익 추구, 자유로운 경쟁을 보장하는 B는 시장경제 체제임을 알 수 있다. ⑤ 갑이 '아니오'라고 답한 (가)에는 틀린 진술이 들어가야 한다. 시장의 기능을 중시하는 것은 시장경제 체제이므로 'B와 달리 A는 시장의 기능을 중시하는가?'는 (가)에 들어갈 수 있다.

오답 풀이

- ① A는 계획경제 체제이다.
- ② B는 시장경제 체제로 작은 정부를 지향한다.
- ③ 1점을 받은 병의 (가)에 대한 답변이 갑의 답변과 같으므로 ①에는 틀린 답변이 들어가야 한다. 갑이 '예'라고 답하였으므로 ①에 들어갈 답변은 '아니오'이다.
- ④ 우리나라는 시장경제 원리를 바탕으로 계획경제의 요소를 가미한 혼합경제 체제를 채택하고 있다.

08 여러 국가의 경제 체제

(가)는 동일한 혼합경제 체제라 하더라도 국가마다 구체적인 운용 양상이 다를 수 있음을 보여 준다. (나)는 한 국가 내, 동일한 혼합경제 체제라도 시기에 따라 추구하는 방향이 다르게 나타날 수 있음을 보여 준다. ④ 동일한 혼합경제 체제라 하더라도 구체적인 모습은 국가별 또는 한 국가의 시기별 상황에 따라 다르게 구현될 수 있음을 보여 준다.

오답 풀이

- ① 제시문의 내용과 거리가 멀다. 복지 제도의 강화는 일반적으로 혼합경제 체제에서 나타난다.
- ②, ③ 제시문의 내용과 거리가 멀다.
- ⑤ 제시문의 내용과 거리가 멀다. 오늘날 대부분의 국가는 시장경제 원리를 기반으로 계획경제 요소를 가미한 혼합경제 체제를 채택하고 있다.

2. 경제 주체의 합리적 선택과 역할

STEP 1 기본 개념 확인 문제

75쪽

- 1 (1) 자원의 희소성 (2) 편익 (3) 기회비용 (4) 매출 비용
- 2 (1) ○ (2) ○ 3 (1) ㉠ (2) ㉡ 4 (1) ㉢ (2) ㉣ (3) ㉤ (4) ㉥

- 01 ③ 02 ⑤ 03 ② 04 ⑤ 05 ③ 06 ⑤ 07 ① 08 ⑤
09 ⑤ 10 ③ 11 ① 12 ⑤ 13 ② 14 ②

15 (1) 300억 원 (2) | 예시 답안 | 신제품 개발을 지속할 경우의 편익은 550억 원, 기회비용은 350억 원(250억 원+100억 원)이다. 순편익이 양(+의) 값을 가지므로 개발을 지속하는 것이 합리적 선택이다.

16 (1) 숨페터 (2) 단결권 · 단체 교섭권 · 단체 행동권 (3) | 예시 답안 | 기업은 노동자를 통해 생산물을 얻고 노동자는 기업을 통해 임금을 얻는다. 기업과 노동자는 상호 의존적 관계이므로 상생의 자세를 갖고 기업의 생산성 향상과 노동자의 근로 조건 개선을 위해 서로 협력해야 한다.

01 재화와 서비스

인간의 노동력이 투입되어 생산된 물건은 재화, 인간의 지속적 인 노동력이 투입되는 행위 또는 활동은 서비스에 해당한다.

오답 풀이

- ① ‘택시 기사의 운전’은 서비스의 예이다.
- ② 자동차는 재화의 예이다.
- ④ 재화와 서비스는 모두 이용할 수 있는 가치를 지닌다.
- ⑤ 재화와 서비스는 모두 생산 활동의 객체(대상)이다.

02 자원의 희소성

제시문은 자원의 희소성에 대해 설명하고 있다. ㄱ. 인간의 욕구에 비해 상대적으로 그 양이 적은 특성을 자원의 희소성이라고 한다. 자원의 희소성은 절대적 양이 적음이 아니라 수요에 비해 공급이 적음을 의미한다. ㄴ. 독버섯은 희귀성이 있지만 독버섯을 원하는 수요자가 없기 때문에 희소성이 없다. ㄷ. 희소성은 상황에 따라 사라지거나 생겨날 수 있다.

03 기회비용

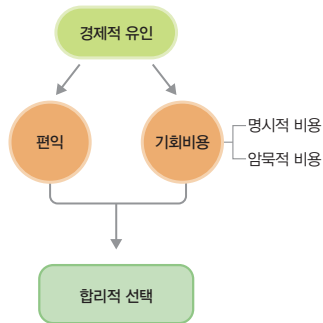
기회비용은 명시적 비용과 암묵적 비용으로 구성된다. 미술관 관람을 위한 명시적 비용은 관람료 10,000원이고, 암묵적 비용은 미술관 관람 시간 동안 얻을 수 있었던 아르바이트 수입 30,000원(2시간×15,000원)이다. 따라서 미술관 관람에 따른 기회비용은 명시적 비용과 암묵적 비용을 합한 40,000원이다.

04 기회비용

기회비용은 명시적 비용과 암묵적 비용으로 구성된다. 영화 관람을 위한 명시적 비용은 영화 티켓 7,000원, 팝콘 2,000원, 음료수 1,000원의 값을 합한 10,000원이고, 암묵적 비용은 영화 관람 시간 동안 얻을 수 있었던 아르바이트 수입 30,000원(2시간×15,000원)이다. 따라서 영화 관람에 따른 기회비용은 명시적 비용과 암묵적 비용을 합한 40,000원이다.

이 단원에서 꼭 알아야 하는 자료

기회비용과 합리적 선택



자료 풀이 | 합리적 선택을 위해서는 비용을 최소화하고 편익을 최대화해야 한다. 편익이 기회비용보다 큰 경우 합리적 선택이 이루어졌다고 보지만 편익이 기회비용보다 작은 경우 합리적 선택이 이루어지지 못하였다고 판단한다.

05 매물 비용

매물 비용은 이미 지출하여 회수가 불가능한 비용으로 어떤 선택을 할 때 매물비용을 기회비용으로 간주해서는 안 된다. 값은 매물 비용(이미 지불하여 회수 불가능한 4D 영화 티켓 비용)을 기회비용으로 간주하여 합리적 선택을 하지 못하였다.

오답 풀이

- ① 제시문에서 값이 선택할 수 있었던 생산 활동은 제시되어 있지 않다.
- ② 합리적 소비는 편익을 최대화하는 소비가 아니라 순편익(편익-기회비용)이 양(+의) 값이 되도록 하는 소비이다.
- ④ 암묵적 비용과 명시적 비용의 대소관계와 무관하게 이를 합한 기회비용이 편익보다 작다면 합리적 선택이다.
- ⑤ 제시문의 내용과 거리가 멀다.

더 알아 두기 | 기회비용과 매물 비용

기회비용을 산정하는 이유는 어떤 선택을 할 때 희생하는 것의 가치를 알기 위해서이다. 기회비용은 어떤 것을 선택할 때 포기하여야 하는 비용이지만, 매물 비용은 무엇을 선택하는가와 관계없이 지급할 수밖에 없고 회수할 수도 없는 비용이다. 이미 지급된 매물 비용에 대해서는 더 이상 아무것도 선택할 수 없고 이로 인해 현재 시점에서 아무것도 포기하지 않기 때문에 매물 비용과 관련된 기회비용은 영(0)이다. 따라서 경제적 의사 결정이나 선택을 할 때 매물 비용은 무시되어야 한다.

06 합리적 선택

제시문은 합리적 선택에 대해 설명하며 빵과 과자 사이의 선택을 예로 들고 있다. 예에서는 1,000원으로 빵 또는 과자를 살 수 있고 빵은 1,500원, 과자는 1,300원의 편익을 준다. ㉠ 빵으로 1,500원의 편익을 얻기 위해서는 명시적 비용 1,000원과 암묵적 비용 300원을 합한 1,300원의 기회비용을 치러야 한다. 암묵적 비용은 명시적 비용 1,000원을 투입하여 과자를 샀을 때 추가로 얻을 수 있는 만족감인 300원을 의미한다.

07 시장 실패

독점 및 과점, 외부 효과, 공공재 부족, 정보의 비대칭성은 시장 실패의 유형이다.

오답 풀이

- ②, ③, ④, ⑤ 정부 실패의 요인, 시장 실패의 예방, 정부 실패의 대안, 시장 실패와 정부 실패의 공통점은 제시된 자료의 주제와 거리가 멀다.

더 알아보기 | 정부 실패

정부 실패는 시장 실패를 교정하기 위한 정부의 시장 개입과 규제가 자원 배분의 비효율성을 초래하는 상황을 말한다. 정부가 선의를 가지고 시장에 개입하는 경우에도 그 결과가 의도했던 대로 나온다는 보장이 없기 때문에 시장이 실패할 수 있는 것처럼 정부도 실패할 수 있다. 정부 실패가 일어나는 원인으로는 규제자의 제한된 정보와 지식, 규제 수단의 불안정성, 정치적인 제약, 관료 조직의 문제 등을 들 수 있다. 정부 실패를 방지하기 위해서는 정부 정책의 투명성 강화, 관료 조직의 비대화 방지, 비효율적인 제도 개혁, 경제적 유인 제공과 경쟁 체제의 도입을 통해 효율성을 재고할 필요가 있다.

- KDI 경제교육·정보센터

08 독점 및 과점

시장 실패란 개인과 기업의 자유로운 경제활동의 결과 나타나는 비효율적 자원 배분 상황을 의미한다. ⑤ 독점은 독점 기업, 과점은 담합한 소수의 거대 기업이 독점적 이윤을 추구하여 소비자의 이익을 침해하고 비효율적 자원 배분을 유발하므로 시장 실패의 유형에 해당한다.

오답 풀이

- ① 독점이나 과점의 발생 원인은 독점이나 과점이 시장 실패로 분류되는 까닭과 관계가 없다. 독점이나 과점은 자연 발생적으로 나타나기도 하지만 정책 등에 의해 인위적으로 발생하기도 한다.
- ② 독점이나 과점 상황에서는 경쟁이 제한적이므로 상품의 효율적 생산을 저해할 수 있다.
- ③ 독점이나 과점은 시장 실패의 유형으로 정부의 개입을 통해 자유로운 경쟁 체제를 유지함으로써 문제를 개선할 수 있다.
- ④ 과점 상황에서는 소수의 거대 기업이 담합하여 재화나 서비스의 효율적 배분을 저해할 수 있다.

09 외부 효과

외부 효과는 시장 실패의 유형으로 긍정적 외부 효과(외부 경제)와 부정적 외부 효과(외부 불경제)로 나눌 수 있다. 긍정적 외부 효과의 사례로는 감염병 예방 접종, 부정적 외부 효과의 사례로는 환경 오염이 있다. ⑤ 외부 효과는 사회적 최적 수준보다 과다 또는 과소 생산·소비되며 유형에 관계없이 모두 비효율적 자원 배분이 일어난다.

더 알아보기 | 외부 효과

구분	긍정적 외부 효과 (외부 경제)	부정적 외부 효과 (외부 불경제)
의미	제삼자에게 이익을 주고 대가를 받지 않는 경우	제삼자에게 손해를 주고 대가를 지급하지 않는 경우
사례	감염병 예방 접종	환경 오염
생산 및 소비	사회적 최적 수준보다 과소 생산, 과소 소비	사회적 최적 수준보다 과다 생산, 과다 소비
정부의 대응	보조금 지급	세금 부과(피구세)

10 공공재

제시문은 공공재의 특징에 대해 설명하고 있다. 공공재는 대가를 지불하지 않고도 소비할 수 있는 비배제성, 한 사람의 소비가 다른 사람이 소비할 수량을 감소시키지 않는 비경합성을 특징으로 한다. 이러한 특징으로 인해 공공재는 무임승차 문제가 발생하고 시장에서 필요한 만큼 충분히 공급되지 않는 시장 실패가 나타난다.

오답 풀이

- 나. 공공재는 비배제성과 비경합성을 특징으로 한다.

더 알아보기 | 재화의 속성

구분	경합성	비경합성
배제성	사적 재화 예) 학용품	인위적인 희소성 재화 예) 유료 케이블 TV 서비스
비배제성	공유 자원 예) 공해 상의 어족 자원	공공재 예) 국방, 가로등

11 정부의 역할

제시된 자료는 정부의 경제적 역할을 나타내고 있다. 정부는 수요자로서 소비의 주체가 되기도 하고 공급자로서 생산의 주체가 되기도 한다. 정부는 시장의 공정한 경쟁을 유도하고 소득 재분배 정책을 시행하며 경기 상황에 따라 경제 안정화 정책을 실시한다.

오답 풀이

- ②, ③, ④, ⑤ 기업의 사회적 책임, 가계의 윤리적 소비, 수요와 공급의 변동 요인, 생산물 시장과 생산 요소 시장의 차이는 제시된 자료의 주제와 거리가 멀다.

12 기업의 역할

제시문은 기업과 기업가의 역할에 대해 설명하고 있다. 기업가 정신을 처음으로 주창한 사람은 조지프 슐페타이므로 을은 옳지 않다. 교사의 평가에 따라 을을 제외한 갑, 병, 정은 모두 옳게

답하였음을 알 수 있다. 기업은 가게로부터 생산 요소를 구입하는 주체이며 기업가가 새로운 생산 방식을 도입하여 생산성을 향상하는 것은 기업이 정신이 발현된 사례로 볼 수 있다. 또한 기업은 본질적으로 이윤을 추구한다. ⑤ (가)에는 옳은 진술이 들어가야 한다. 기업의 생산 증대는 고용 증대 및 임금 상승으로 이어져 가게 소득 증가를 이끌 수 있다.

13 노동자의 역할

제시문은 노동자의 역할에 대해 설명하고 있다. ㄱ. 노동자는 기업에 노동을 제공하고 그 대가로 임금을 받는 주체이다. ㄴ. 노동 삼권은 헌법과 노동 관련 법률에 따라 보장된 권리로 단결권, 단체 교섭권, 단체 행동권을 포함한다.

오답 풀이

- ㄴ. 사용자는 노동력을 사용하는 주체로 노동자를 고용하는 기업에 해당한다. 기업은 재화와 서비스를 생산하는 주체이다.
- ㄷ. 노동자와 기업은 상호 의존적인 관계이므로 (가)에는 '서로 협력하여 상생을 도모해야 한다.'가 들어갈 수 있다.

14 소비자의 역할

제시문은 소비자의 역할에 대해 설명하고 있다. ㄱ. 합리적 소비는 비용과 편익을 고려하여 순편익이 양(+)의 값이 되도록 하는 소비를 말한다. ㄴ. 윤리적 소비는 비용과 편익 외에도 인권, 환경, 시장 질서 등을 고려한 소비이다. 공정 무역 제품의 소비는 윤리적 소비의 사례가 될 수 있다.

오답 풀이

- ㄴ. 소비자는 합리적 소비 또는 윤리적 소비를 통해 기업의 생산 활동에 영향을 줄 수 있다. 소비자 불매 운동 등은 윤리적 소비의 대표적 사례로 기업이 생산 활동을 하며 사회적 책임을 다하도록 하는 효과를 갖는다.
- ㄷ. 소비자는 합리적 소비와 더불어 윤리적 소비를 해야 한다. 합리적 소비는 기업이 혁신을 통해 적은 비용으로 높은 품질의 제품을 생산하도록 하고, 윤리적 소비는 기업의 사회적 책임을 제고하는 효과가 있다.

15 합리적 선택

매물 비용은 선택을 하는 시점에서 어떤 선택을 하든 회수할 수 없는 비용을 말한다. 따라서 선택을 하는 시점과 선택할 수 있는 대안을 파악하는 것이 중요하다. 선택을 하는 시점에서 회수할 수 없는 비용이라면 이는 매물 비용이지만, 이미 투입한 비용이라도 다른 대안을 선택하였을 때 회수 가능한 비용이라면 이는 매물 비용이 아니다. 제시된 상황에서 신제품 개발을 중단하면 이미 지출한 400억 원 중 100억 원은 회수가 가능하므로 이는 매물 비용이 아니다.

| 채점 기준 |

상	신제품 개발 중단 시 매물 비용을 옳게 구하고, A 기업의 합리적 선택을 <조건>을 모두 만족하도록 서술하였다.
중	신제품 개발 중단 시 매물 비용을 옳게 구하고, A 기업의 합리적 선택을 <조건>을 일부 만족하도록 서술하였다.
하	신제품 개발 중단 시 매물 비용을 구하지 못하고, A 기업의 합리적 선택을 <조건>을 만족하도록 서술하지 못하였다.

16 기업과 노동자의 역할

기업은 재화와 서비스를 생산하기 위하여 노동자가 필요하고 노동자는 안정적인 삶을 누리기 위하여 기업이 필요하다. 따라서 기업과 노동자는 협력을 통해 상생할 수 있는 방법을 찾아야 한다.

| 채점 기준 |

상	㉠, ㉡을 옳게 작성하고, 기업과 노동자의 바람직한 관계를 <조건>을 모두 만족하도록 서술하였다.
중	㉠, ㉡을 옳게 작성하고, 기업과 노동자의 바람직한 관계를 <조건>을 일부 만족하도록 서술하였다.
하	㉠, ㉡을 작성하지 못하고, 기업과 노동자의 바람직한 관계를 <조건>을 만족하도록 서술하지 못하였다.

STEP 3 실력 완성 문제

80~81쪽

01 ④ 02 ③ 03 ② 04 ① 05 ① 06 ③ 07 ⑤ 08 ③

01 기회비용과 매물 비용

매물 비용은 이미 지출하여 회수가 불가능한 비용으로 합리적 선택 시 기회비용으로 간주해서는 안 된다. 기회비용은 명시적 비용과 암묵적 비용으로 구성된다. <선택 상황>에서 빵 선택시 명시적 비용은 1,000원이고, 기회비용은 명시적 비용 1,000원과 암묵적 비용 2,000원(5,000원-3,000원)의 합인 3,000원이다. ④ 밥 선택 시 암묵적 비용은 1,000원(2,000원-1,000원)이다.

02 합리적 선택

제시문은 합리적 선택 상황을 다루고 있다. ㄱ. 비행기 티켓과 숙박비는 값이 A 지역 여행으로 편익을 누리기 위해 치러야 하는 비용이다. 단, 여행의 진행 여부를 선택하는 시점에서 이미 지불한 비용(비행기 티켓과 숙박비) 중 환불이 불가능한 부분은 매물 비용임에 유의해야 한다. ㄴ. 비행기 티켓 10만 원은 환불이 불가하므로 여행의 진행 여부를 선택하는 시점에서 10만원은 전액 매물 비용이다.

오답 풀이

- ㄴ. A 지역 여행을 진행할 경우의 편익이 15만 원이라면 여행을 취소했을 때 환불받을 수 있는 절반의 숙박비 10만 원을 기

회비용으로 치르더라도 순편익이 양(+)의 값을 가지므로 여행을 진행하는 것이 합리적이다.

03 합리적 선택

갑과 을은 모두 합리적 선택을 하므로 갑은 A, 을은 B를 선택하였을 때 순편익이 양(+)의 값을 가진다. ㄱ. 갑은 합리적 선택을 하고 B보다 가격(명시적 비용)이 높은 A를 선택하였으므로 A 선택의 편익이 B 선택의 편익보다 크다. A 선택의 편익이 B 선택의 편익보다 작거나 같다면 갑은 가격(명시적 비용)이 낮은 B를 선택하는 것이 합리적이다. ㄷ. 여러 대안이 있는 선택 상황에서 한 대안의 순편익이 양(+)의 값을 가지면 나머지 대안의 순편익은 음(-)의 값을 가진다. 을은 B 선택의 순편익이 양(+)의 값을 가지므로 A 선택의 순편익은 음(-)의 값을 가진다.

오답 풀이

- ㄴ. A, B의 명시적 비용은 각각 50,000원, 40,000원이다. A 선택의 편익이 B 선택의 편익과 같은 경우에도 B를 선택하는 것이 합리적이므로 을의 A 선택의 편익이 B 선택의 편익보다 작다고 단정할 수 없다.
- ㄷ. 기회비용은 명시적 비용과 암묵적 비용의 합이다. A, B의 명시적 비용은 각각 50,000원, 40,000원으로 A가 크나 암묵적 비용은 A, B 선택의 편익이 제시되어 있지 않아 알 수 없다. 따라서 갑의 선택에 따른 기회비용이 B가 A보다 크다고 단정할 수 없다.

04 합리적 선택

세 가지 이상의 대안 가운데 선택을 하는 상황에서 암묵적 비용은 다른 두 가지 대안의 편익에서 명시적 비용을 뺀 값 중 더 큰 값이 된다. 표에는 기회비용이 명시되어 있지 않으므로 ㉠, ㉡은 각각 명시적 비용과 암묵적 비용 중 하나이며 ㉠+㉡은 기회비용이 됨을 알 수 있다. 이때 (나)의 순편익이 -3,000원이므로 ㉢은 13,000원이 된다. (다)의 순편익이 3,000원이므로 ㉣+㉤은 24,000원이 된다. ㉠이 암묵적 비용, ㉡이 명시적 비용이면 ㉢이 14,000원, ㉣이 10,000원이 되어야 하는데, 이 경우 암묵적 비용 ㉢의 값이 대안 (가), (나)를 통해 도출할 수 있는 암묵적 비용과 일치하지 않으므로 ㉠은 암묵적 비용이 될 수 없다. 따라서 ㉠은 명시적 비용, ㉡은 암묵적 비용이며 이때 ㉢은 13,000원, ㉣은 14,000원, ㉤은 10,000원이 된다.

05 외부 효과

(가)는 긍정적 외부 효과(외부 경제), (나)는 부정적 외부 효과(외부 불경제)를 나타낸다. ㄱ. 독감 예방 접종은 자신은 물론 다른 사람이 독감에 걸릴 확률을 낮추지만 대가를 받지 못하므로 사회적 최적 수준보다 과소 생산, 과소 소비된다. 이는 긍정적 외부 효과의 사례에 해당한다.

오답 풀이

- ㄴ. 긍정적 외부 효과와 부정적 외부 효과는 모두 시장 실패의 유형에 해당한다.
- ㄷ. 정보의 비대칭성은 외부 효과와 마찬가지로 시장 실패의 유형 중 하나이며 외부 효과의 원인이 아니다.

더 알아보기 | 정보의 비대칭성

정보의 비대칭성은 경제 행위에서 거래 당사자가 가진 정보의 양이 서로 다른 경우를 말한다. 정보의 비대칭성은 감추어진 특성과 감추어진 행동의 두 가지 유형으로 나눌 수 있다.

감추어진 특성	<ul style="list-style-type: none"> • 계약 이전의 숨겨진 상태 • 거래 상품의 품질, 거래 상대방의 특성 등에 대해 한 거래 당사자는 잘 알고 있는 반면 다른 거래 당사자는 잘 모르는 상황 • 역선택 야기
감추어진 행동	<ul style="list-style-type: none"> • 계약 이후의 행위 • 한 거래 당사자의 행동을 다른 거래 당사자가 관찰할 수 없을 때 나타나는 상황 • 도덕적 해이 유발

06 시장 실패

(가)는 과점 시장, (나)는 정보의 비대칭성, (다)는 공공재 부족의 사례이다. ㄷ. ○○ 서비스, 양질의 유기농 농산물은 시장에서 유통되는 일반적인 경제재로서 배제성과 경합성을 지니는 반면 가로등은 배제성과 경합성이 없는 공공재이다. ㄷ. 대가를 지불하지 않아도 누구나 사용할 수 있는 것은 비배제성, 한 사람의 소비가 다른 사람의 소비를 감소시키지 않는 것은 비경합성을 의미한다.

오답 풀이

- ㄱ. (가)는 과점 시장, (나)는 정보의 비대칭성 사례에 해당한다.
- ㄴ. (가)~(다)는 모두 시장 실패의 유형이다.

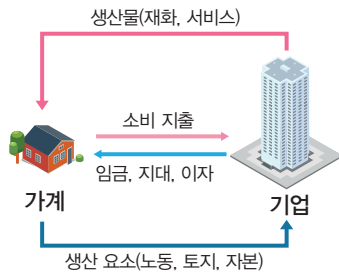
07 기업가와 소비자의 역할

그림은 민간 경제의 주체인 가계와 기업 간의 상호 관계를 나타낸다. 생산물과 생산 요소의 이동 방향을 볼 때 A는 가계, B는 기업에 해당한다. ㄷ. 기업은 이윤을 추구하는 주체이지만 윤리 경영, 친환경 경영, 공정 경쟁 등 사회적 책임도 요구되고 있다. ㄷ. 노동자의 역할은 가계에서 노동력을 제공하는 방식으로 이루어지고 사용자의 역할은 기업에서 노동력을 활용하여 재화와 서비스를 생산하는 방식으로 수행된다.

오답 풀이

- ㄱ. 기업이 정신은 기업이 생산물의 양과 질을 개선하게 하는 원동력이 된다.
- ㄴ. 단결권, 단체 교섭권, 단체 행동권은 노동 삼권으로 가계의 노동자가 행사할 수 있는 권한이다.

민간 경제의 순환



자료 풀이 | 민간 경제의 생산물 시장에서 가계는 소비자로서 기업이 생산한 생산물을 구입하여 소비 지출을 한다. 기업은 공급자로서 소비자가 지불한 생산물에 대한 대가를 받아 이익을 창출한다. 한편 노동 시장에서 가계는 기업에 노동을 제공하고, 기업은 노동을 구매한 대가로 가계에 임금을 지불한다. 이처럼 민간 경제의 주체인 가계와 기업은 상호 의존적 관계에 놓여 있다.

08 소비자의 역할

(가)는 소비자가 불매 운동을 통해 인체에 해로운 제품을 판매한 기업의 변화를 이끌어낸 사례이다. (나)는 소비자가 윤리적 소비를 통해 아동 노동을 착취한 기업의 변화를 이끌어낸 사례이다. ③ (가), (나)는 모두 소비자가 소비자 주권을 통해 기업이 지속가능발전에 기여하도록 유도한 사례이다.

오답 풀이

- ① 편익-비용 분석을 통한 합리적 소비의 필요성은 (가), (나)를 통해 도출할 수 있는 결론과 거리가 멀다.
- ② 윤리적 소비는 소비자가 기업의 생산 활동을 바람직한 방향으로 이끄는 방안이다. 소비자의 효용 극대화는 합리적 소비와 관련이 있다.
- ④ 소비자의 소비 지출을 통한 국민 경제의 활성화는 (가), (나)를 통해 도출할 수 있는 결론과 거리가 멀다.
- ⑤ 소비자가 구입한 상품에서 발생한 위험으로부터 안전하게 보호받을 권리를 가진다는 것은 (가)를 통해 도출할 수 있지만 (나)와는 관련이 없으므로 (가), (나)를 통해 도출할 수 있는 결론으로 적절하지 않다.

3. 미래 준비를 위한 자산 관리와 금융 생활 설계

STEP 1 기본 개념 확인 문제

84쪽

- 1 (1) 요구불 예금 (2) 주식 (3) 채권 2 (1) × (2) ○ (3) ○
3 (1) ㉠ (2) ㉡ 4 (1) ㉢ (2) ㉣ (3) ㉤ (4) ㉥

STEP 2 내신 대비 실력 문제

84~87쪽

- 01 ③ 02 ① 03 ④ 04 ⑤ 05 ③ 06 ⑤ 07 ③ 08 ④
09 ③ 10 ②

11 (1) A 주식, B 채권, C 예금 (2) 예시 답안 | 주식과 채권은 시세 차익을 얻을 수 있다는 점에서 공통점이 있으며, 채권과 예금은 이자 수익을 얻을 수 있다는 점에서 공통점이 있다.

12 (1) 유동성, 보유한 자산을 팔아 현금화하는 과정이 얼마나 쉬운지의 정도 (2) 예시 답안 | 값은 예금을 더 선호할 것이다. 왜냐하면 값은 안전성과 유동성을 더 중시하기 때문이다. 예금은 주식보다 안전성과 유동성이 높은 금융 자산이다. 올은 주식을 더 선호할 것이다. 올은 안전성과 유동성보다 수익성을 더 중시하기 때문이다.

01 금융 자산의 특징

③ 정기 예금과 정기 적금은 저축성 예금의 종류이다.

더 알아 두기 | 저축성 예금의 종류

구분	정기 예금	정기 적금
의미	계약 기간 동안 목돈을 맡기고 만기 시 원금과 이자를 받는 금융 자산	계약 기간 동안 일정 금액을 정기적으로 납입하고 만기 시 원금과 이자를 받는 금융 자산
특징	목돈으로 이자를 얻는 데 유리함.	목돈을 마련하는 데 유리함.

02 금융 자산의 특징

ㄱ. 원리금은 원금과 이자를 합한 금액이다. 연 4%의 이자율이 적용되는 ○○은행의 적금을 만기에 찾을 때의 원리금이 1천만 원이므로 이자를 제외한 원금은 1천만 원 미만이다.

오답 풀이

- ㄴ. 일반적으로 주식은 채권보다 안전성이 낮다.
- ㄷ. 채권은 예금자 보호 제도의 보호 대상이 아니다.

03 단리와 복리

A는 매년 원금에 이자 10%가 붙는 단리가 적용되는 상품이고, B는 매년 원리금에 이자 10%가 붙는 복리가 적용되는 상품이다. ㄱ. A는 단리 상품이므로 매년 원금 100만 원의 10%인 10만 원의 이자가 붙는다. ㄴ. B는 복리 상품이므로 3년차에 추가로 발생하는 이자는 2년차 때 원리금인 121만 원의 10%인 12.1만 원이다. ㄷ. A와 B의 원리금 차이는 2년 후 1만 원, 3년 후 3.1만 원, 7년 후 24.9만 원으로 격차가 점점 더 커진다.

오답 풀이

ㄷ. A는 단리, B는 복리를 적용한 예금 상품이다.

04 금융 자산의 특징

이자 수익을 기대할 수 있지만 배당 수익과 시세 차익을 기대할 수 없는 금융 자산 A는 예금이다. 이자 수익은 기대할 수 없지만 배당 수익과 시세 차익을 기대할 수 있는 금융 자산 B는 주식이고, 이자 수익과 시세 차익을 기대할 수 있는 금융 자산 C는 채권이다. ⑤ 채권은 배당 수익을 기대할 수 없다.

오답 풀이

- ① A는 예금이다.
- ② B는 주식이다.
- ③ 주주는 주식을 소유한 사람을 이르는 말이다.
- ④ 일반적으로 안전성은 예금>채권>주식 순으로 높다.

이 단원에서 꼭 알아야 하는 자료

금융 자산별 기대할 수 있는 수익의 종류

구분	예금	주식	채권
이자 수익	있음	없음	있음
배당 수익	없음	있음	없음
시세 차익	없음	있음	있음

자료 풀이 | 예금과 채권은 이자 수익을 기대할 수 있다. 주식과 채권은 시장에서 거래를 통한 시세 차익을 기대할 수 있다. 주식은 회사의 경영 성과에 따른 배당 수익이 발생하기도 한다.

05 금융 자산과 자산 관리 방법

제시문은 효과적인 자산 관리 방법에 대한 질문과 답변이다. 채권은 이자 수익과 시세 차익을 기대할 수 있는 금융 자산이고, 정기 적금은 매월 일정 금액을 납입하여 목돈을 만드는 금융 자산이다. 주식은 수익성이 가장 높은 금융 자산이며 시세 차익과 배당 수익을 기대할 수 있다. 합리적으로 금융 자산을 관리하기 위해서는 수익성, 안전성, 유동성을 모두 고려해야 한다. ③ 예금은 예금자 보호 제도를 적용받는 금융 자산으로 1인당 금융 기관별로 최대 1억 원까지 원리금을 보장받을 수 있다.

06 자산 관리의 원칙

‘원금에 비해 얼마나 더 많은 이익을 얻을 수 있는지의 정도(A)’는 수익성이다. ⑤ ‘원금에서 손실을 가져올 가능성이 적은 정도’는 안전성이다. 금융 자산 중 안전성은 예금>채권>주식 순으로 높다.

오답 풀이

- ① 일반적으로 주식은 예금에 비해 수익성이 높다.
- ② 예금자 보호 제도는 안전성을 높이는 효과를 가진다.
- ③ 채권은 주식에 비해 안전성이 높다.
- ④ ‘필요할 때 현금으로 전환할 수 있는 가능성의 정도’는 유동성이다. 따라서 C는 안전성이다.

07 수익성과 안전성의 관계

A는 수익성은 낮지만 안전성이 높은 정기 예금이다. B는 수익성은 높지만 안전성이 낮은 주식이다. 정기 예금은 예금자 보호 제도를 적용받아 안전성이 높으며, 만기가 존재하는 금융 상품이다. 주식을 소유한 사람은 주주로서 주식을 소유한 회사의 경영에 관여할 수 있다. ③ 배당 수익을 기대할 수 있는 금융 자산은 주식이다.

08 포트폴리오 투자

‘모든 달걀을 한 바구니에 담지 말라.’는 포트폴리오 투자에 관한 격언이다. ④ 포트폴리오 투자는 위험을 줄이고 투자 수익을 극대화하기 위해 여러 금융 상품에 자산을 분산 투자하는 기법이다.

오답 풀이

- ① 유동성을 우선적으로 고려하는 것은 포트폴리오 투자 방식과 맞지 않다.
- ②, ③ 포트폴리오 투자는 수익성, 안전성, 유동성을 모두 고려해야 한다.
- ⑤ 은행 대출 등을 활용해 주식 등 다른 금융 자산에 투자하여 수익을 극대화하는 것은 안전성은 고려하지 않고 수익성만 고려한 투자 방식이다.

09 금융 의사 결정에 영향을 미치는 요인

제시문은 물가나 금리의 변화와 같은 경제적 환경 변화에 따른 금융 의사 결정에 관한 내용이다. ㄴ. 물가 상승률이 금리보다 높다면 만기에 이자를 받아도 수익률이 물가 상승률에 미치지 못하므로 실질적인 이자 수입은 음(-)의 값이 된다. ㄷ. 기준 금리는 중앙은행이 일반 은행과 같은 금융 기관에 적용하는 이자율로 시중 금리에 영향을 미친다.

오답 풀이

- ㄱ. 물가가 상승하면 일반적으로 화폐 가치는 하락한다.
- ㄷ. 기준 금리는 경제 상황에 따라 중앙은행이 정책적으로 결정한다. 따라서 시중 금리가 하락하거나 변동이 없어도 기준 금리는 상승할 수 있다.

10 금융 생활 설계

제시문은 생애 주기에 따른 금융 생활 설계에 관한 내용이다. ㄴ. 일반적으로 자녀 양육과 부모 부양을 위해 비용 지출이 늘어나는 시기는 중장년기이다.

오답 풀이

- ㄱ. 일반적으로 청년기는 취업, 결혼 등을 준비하는 단계로, 결혼 자금 등을 마련하기 위해 대출을 받기도 한다.
- ㄷ. 일반적으로 노년기에는 가족 부양 의무는 벗어나지만 은퇴 이후 소득이 급격히 줄어들면서 지출이 소득보다 많아진다.

11 금융 자산의 특징

A는 주식, B는 채권, C는 예금이다. 주식과 채권은 시세 차익을 기대할 수 있고, 채권과 예금은 이자 수익을 기대할 수 있는 금융 자산이다.

| 채점 기준 |

상	각 금융 자산을 정확히 쓰고, 금융 자산 간의 공통점을 적절하게 서술하였다.
중	각 금융 자산을 쓰지 못하고, 금융 자산 간의 공통점을 적절하게 서술하였다.
하	각 금융 자산을 정확히 쓰고, 금융 자산 간의 공통점을 서술하지 못하였다.

12 자산 관리의 원칙과 금융 자산의 특징

자산 관리의 원칙에는 안전성, 수익성, 유동성이 있다. (가)는 유동성이다. 일반적으로 주식은 수익성이 가장 높으며, 예금은 안전성과 유동성이 높은 금융 자산이다.

| 채점 기준 |

상	(가)에 들어갈 용어를 정확히 쓰고, 갑과 을이 선호할 금융 자산의 종류와 선택한 까닭을 적절하게 서술하였다.
중	(가)에 들어갈 용어를 쓰지 못하고, 갑과 을이 선호할 금융 자산의 종류와 선택한 까닭을 적절하게 서술하였다.
하	(가)에 들어갈 용어를 정확히 쓰고, 갑과 을이 선호할 금융 자산의 종류와 선택한 까닭을 서술하지 못하였다.

STEP 3 실력 완성 문제

88~89쪽

01 ② 02 ④ 03 ② 04 ③ 05 ⑤ 06 ④ 07 ④ 08 ③

01 금융 자산의 특징

‘시세 차익을 기대할 수 있는가?’로 구분할 수 없는 A, B는 각각 주식, 채권 중 하나이다. ‘이자 수익을 기대할 수 있는가?’로 구분할 수 있는 B와 C는 각각 주식과 요구불 예금 혹은 채권 중 하나이므로 C는 요구불 예금, B는 주식, A는 채권이다. 일반적으로 유동성은 요구불 예금이 가장 높다.

오답 풀이

- ㄴ. 배당 수익을 기대할 수 있는 금융 자산은 주식이다.
- ㄷ. 요구불 예금은 만기가 존재하지 않지만 채권은 만기가 존재하는 금융 자산이다.

02 금융 자산의 특징

‘만기가 있는가?’에 ‘아니요’라고 답한 A는 주식이다. 따라서 (가)에 따라 B와 C는 각각 채권과 저축성 예금 중 하나이다. 주식, 채권과 달리 저축성 예금은 시세 차익을 기대할 수 없다. 저축성 예금은 정기 예금과 정기 적금으로 분류할 수 있다. 채권은

기업, 정부, 지방 자치 단체가 자금 조달을 위해 발행하는 일종의 차용 증서이다. ④ 저축성 예금과 채권은 모두 이자 수익을 기대할 수 있는 금융 자산이므로 (가)에는 ‘이자 수익을 기대할 수 있는가?’가 들어갈 수 없다.

03 예금자 보호 제도

예금자 보호 제도는 금융 기관이 영업 정지가 되거나 파산하는 경우 예금보험공사가 대신하여 예금에 대한 일정 한도의 원리금을 예금자에게 지급하는 제도이다. ㄴ. 2026년 기준 금융 기관 별로 각각 1인당 최대 1억 원까지 보호받는다.

오답 풀이

- ㄱ. 예금자 보호 제도는 예금에만 적용된다.
- ㄷ. 예금자 보호 제도는 원금과 이자를 합하여 최대 1억 원까지 보호한다.

04 단리와 복리

표에 따르면 B의 2년 후 이자는 1년차의 원리금 1,200만 원의 20%인 440만 원이므로 복리 상품임을 알 수 있다. ㄱ. A는 단리를 적용하는 상품이다. ㄴ. 단리 상품인 A의 4년 후 누적 이자는 1,000만 원(250만 원×4년)이다. 4년 후 B의 누적 이자(1,073.6만 원)가 더 크므로 B에 투자하는 것이 합리적이다.

오답 풀이

- ㄷ. 예치 후 3년까지 A의 이자가 B의 이자보다 크므로 3년까지는 A에 투자하는 것이 더 합리적이다.

05 금융 자산과 자산 관리 원칙

교사의 질문에 갑과 을은 옳은 답변을 하였으므로 병은 옳지 않은 답변을 해야 한다. ⑤ ‘금융 자산은 실물 자산에 비해 유동성이 낮은 편입니다.’는 옳지 않은 진술이므로 (가)에 들어갈 수 있다.

오답 풀이

- ① 갑과 을이 옳은 내용을 발표하였으므로 옳지 않은 내용을 발표한 학생은 병이다.
- ② 요구불 예금은 주식보다 안전성과 유동성이 높은 금융 자산이다.
- ③ 주식은 채권보다 수익성은 높고, 안전성은 낮은 금융 자산이다.
- ④ 일반적으로 유동성과 수익성은 상관관계가 없다.

06 금융 자산의 특징

ㄱ. 회사채는 채권의 일종으로 만기가 존재하지만 주식은 만기가 없는 금융 자산이다. ㄴ. 일반적으로 실물 자산보다 금융 자산의 유동성이 더 높다. ㄷ. 회사채와 주식은 모두 시장에서 자유로운 거래를 통한 시세 차익을 기대할 수 있다.

오답 풀이

- ㄴ. 갑과 달리 을은 실물 자산인 빌라를 보유하고 있다.

더 알아두기 | 금융 자산과 실물 자산

구분	금융 자산	실물 자산
의미	미래의 현금 흐름을 요구할 수 있는 권리를 나타내는 무형의 자산	그 자체로 가질 수 있고 누구나 볼 수 있으며 만질 수 있는 유형의 자산
특징	<ul style="list-style-type: none"> • 실물 자산에 비해 유동성이 높음. • 거래가 간편하고 빠름. 	<ul style="list-style-type: none"> • 금융 자산에 비해 유동성이 낮음. • 관리 비용이 발생할 수 있음.

07 금융 자산의 특징

④ 주사위 눈금이 2가 나왔을 때 각 모듬의 금융 자산별 금액은 아래 표와 같다.

(단위: 만 원)

구분	예금	채권	주식	합계
A 모듬	515	140	270	925
B 모듬	206	210	450	866

오답 풀이

- A 모듬은 B 모듬보다 예금의 비중이 더 높다. 따라서 B 모듬 보다는 A 모듬이 안전성을 더 중시하고 있음을 알 수 있다.
- 배당 수익을 기대할 수 있는 금융 자산은 주식이다. A 모듬의 주식 비중은 30%이다.
- 시세 차익을 기대할 수 있는 금융 자산은 주식과 채권이다. B 모듬의 주식과 채권의 비중 합은 80%이다.
- 주사위 눈금 3이 나왔을 때 각 모듬의 금융 자산별 금액은 아래 표와 같으므로 B 모듬의 수익률이 높다.

(단위: 만 원)

구분	예금	채권	주식	합계
A 모듬	515	210	360	1,085
B 모듬	206	315	600	1,121

08 금융 의사 결정에 영향을 미치는 요인

(가) 시기에는 지속적인 물가 상승(인플레이션)이 발생하고 있으며, (나) 시기는 기준 금리가 인상되는 추세가 이어지고 있다.
 ㄱ. 물가가 상승하면 상대적으로 화폐의 가치는 하락한다.
 ㄴ. 중앙은행이 기준 금리를 인상하면 일반적으로 시중 은행의 금리도 인상되므로 대출 규모를 늘릴 경우 이자 부담을 감당하기 어려울 수 있다.

오답 풀이

- 일반적으로 실질 이자율은 명목 이자율에서 물가 상승률을 뺀 것으로 (가) 시기는 물가가 상승하고 있으므로 실질 이자율을 높이는 요인이 아니다.

4. 국제 무역과 지속가능발전

STEP 1 기본 개념 확인 문제

91쪽

- 1 (1) 분업 (2) 생산비 (3) 지속가능발전 2 (1) ○ (2) ×
 3 (1) ⊖ (2) ⊕ 4 (1) ㄷ (2) ㄹ (3) ㄱ (4) ㄴ

STEP 2 내신 대비 실력 문제

92~95쪽

- 01 ④ 02 ④ 03 ④ 04 ⑤ 05 ④ 06 ② 07 ③ 08 ②
 09 ④ 10 ④ 11 ④ 12 ⑤

13 (1) ㉠ 물고기 1/2개, ㉡ 코코넛 2개, ㉢ 물고기 4/3개, ㉣ 코코넛 3/4개 (2) | 예시 답안 | 갑은 물고기와 코코넛 생산에 모두 절대 우위를 가지고 있지만, 갑과 을이 더 적은 기회비용으로 생산할 수 있는 재화를 특화하여 교환하면 갑, 을 모두 이익을 볼 수 있다. 따라서 갑은 코코넛, 을은 물고기를 특화하여 교환하면 이익을 얻을 수 있다.

14 (1) (가) 지속가능발전 목표, (나) 공정 무역 (2) | 예시 답안 | 공정 무역은 개발 도상국의 생산자에게 더 좋은 무역 조건을 제공하고, 노동자에게는 생산에 투입한 정당한 대가를 제공함으로써 빈곤 문제를 해결하여 지속가능발전에 기여할 수 있다.

01 분업의 특징

밀줄 친 '이것'은 분업이다. ㄱ. 분업은 전문 분야를 특화하여 생산하는 것으로 생산의 효율성을 높인다. ㄴ. 분업은 국제적 차원에서 나타나는 현상이다. 분업을 통해 생산한 물품을 국가 간에 거래하는 것을 무역이라고 한다.

오답 풀이

- 분업은 기업 내부의 생산 활동에서만 나타나는 것이 아니라 기업 간에도 나타난다.

02 국제 분업과 무역의 필요성

국제 분업과 무역은 소비자와 기업에 긍정적인 영향을 미친다. ㄱ. 국제 분업과 무역은 소비자에게 다양한 상품을 저렴하게 소비할 수 있는 기회를 제공한다. ㄴ. 기업의 입장에서 국제 분업과 무역은 더 넓은 국제 시장을 확보하는 수단이 된다. ㄷ. 자유 무역 협정은 국제 분업과 무역의 효과를 극대화할 수 있는 국제 협정으로 주로 개별 국가 간에 체결된다.

오답 풀이

- 세계 무역 기구는 모든 회원국에 차별없는 동등한 무역 환경을 제공하는 국제기구로 자유로운 무역을 촉진한다.

03 국제 분업과 무역의 발생 원인

- 국제 분업과 무역은 자원, 노동, 자본 등 생산 요소의 차이, 국가 간 기술의 차이나 생산비의 차이로 인해 나타난다.

04 국제 분업과 무역

⑤ 자원, 노동, 자본의 지역적 분포 및 그에 따른 생산비의 차이는 각국의 비교 우위 상품을 결정하는 요인이 되며, 이는 곧 국제 분업과 무역을 발생시킨다.

오답 풀이

- ① 각국은 생산에 유리한 상품을 특화하여 무역에 참여하였다. 특화하여 국제 무역에 참여할 상품은 상황에 따라 바뀔 수 있다.
- ② '노동력이 풍부한 나라는 노동 집약적인 산업에 집중해야 한다.'라는 내용은 B 국의 사례에만 해당한다.
- ③ A 국은 '커피'라는 농산물에 특화한 사례이다.
- ④ C 국의 경우 자본 또는 기술력에 의해 반도체 분야에 비교 우위를 가지게 된 것으로 볼 수 있다.

05 무역의 발생 원리

주어진 자료를 토대로 갑국과 을국의 X재와 Y재 1개 생산에 대한 기회비용을 계산하면 아래 표와 같다.

구분	X재 1개 생산의 기회비용	Y재 1개 생산의 기회비용
갑국	Y재 2/3개	X재 3/2개
을국	Y재 3/2개	X재 2/3개

ㄴ. X재 1개 생산의 기회비용은 갑국이 Y재 2/3개, 을국이 Y재 3/2개이다. ㄷ. 갑국과 을국은 각각 X재와 Y재 생산에 비교 우위를 가지므로 해당 재화를 각각 특화하여 무역하면 이익을 볼 수 있다.

오답 풀이

ㄱ. 갑국은 X재, 을국은 Y재에 절대 우위를 가지므로 절대적 생산비의 차이로도 무역의 발생을 설명할 수 있다.

더 알아 두기 | 절대 우위와 비교 우위

절대 우위	<ul style="list-style-type: none"> • 의미: 특정 상품의 생산비가 타국보다 적은 경우 • 무역의 발생: 다른 나라에 비해 절대 우위를 가지는 상품을 생산하여 수출하고, 다른 나라에 비해 절대 우위가 없는 물건을 수입함. • 한계: 한 국가가 모든 재화에 절대 우위를 갖는 경우 무역이 발생하는 원리를 설명하지 못함.
비교 우위	<ul style="list-style-type: none"> • 의미: 특정 상품 생산의 기회비용이 타국보다 적은 경우 • 무역의 발생: 두 나라가 서로 기회비용이 적은 상품을 수출하고, 기회비용이 큰 상품을 수입함. • 의의: 한 나라가 모든 상품에 절대 우위를 가진 경우에도 국제 무역이 발생하는 원리를 설명할 수 있음.

06 무역의 발생 원리

주어진 자료를 토대로 갑국과 을국의 X재와 Y재 1개 생산에 대

한 기회비용을 계산하면 아래 표와 같다.

구분	X재 1개 생산의 기회비용	Y재 1개 생산의 기회비용
갑국	Y재 1개	X재 1개
을국	Y재 1/2개	X재 2개

ㄱ. Y재 1개 생산의 기회비용은 갑국이 을국보다 적으므로 갑국은 Y재 생산에 비교 우위가 있다. ㄷ. 갑국은 동일한 노동력으로 X재와 Y재 모두 을국보다 더 많이 생산할 수 있으므로 절대 우위를 가진다.

오답 풀이

- ㄴ. 을국의 X재 1개 생산의 기회비용은 Y재 1/2개이다.
- ㄹ. 무역에 따른 이익이 발생하기 위해서는 수입하는 재화의 양이 특화한 재화의 기회비용보다 커야 한다. 양국이 비교 우위를 갖는 재화를 특화하여 1:1의 비율로 교역하면 갑국은 특화하는 Y재 1개 생산의 기회비용인 X재 1개와 같은 양을 받으므로 무역에 따른 이익이 발생하지 않는다.

07 무역의 발생 원리

주어진 자료를 토대로 갑국과 을국의 X재와 Y재 1단위 생산에 대한 기회비용을 계산하면 아래 표와 같다.

구분	X재 1단위 생산의 기회비용	Y재 1단위 생산의 기회비용
갑국	Y재 5/6단위	X재 6/5단위
을국	Y재 4/3단위	X재 3/4단위

③ 을국의 Y재 1단위 생산의 기회비용은 X재 3/4단위이다.

오답 풀이

- ① 갑국은 X재, Y재 생산에 절대 우위가 있다.
- ② X재 1단위 생산의 기회비용은 갑국이 을국보다 적다.
- ④ 양국은 비교 우위를 가지는 재화를 특화하여 교역해야 이익을 볼 수 있으므로, 갑국은 X재, 을국은 Y재를 특화할 것이다.
- ⑤ 양국이 1:1의 비율로 교역을 한다면 갑국은 X재 1단위 생산의 기회비용인 Y재 5/6단위보다 많은 Y재 1단위를 수입할 수 있다. 을국은 Y재 1단위 생산의 기회비용인 X재 3/4단위보다 많은 X재 1단위를 수입할 수 있다. 따라서 양국 모두 이익을 본다.

08 무역의 발생 원리

주어진 자료를 토대로 갑국과 을국의 X재와 Y재 1단위 생산의 기회비용을 계산하면 아래 표와 같다.

구분	X재 1단위 생산의 기회비용	Y재 1단위 생산의 기회비용
갑국	Y재 4/5단위	X재 5/4단위
을국	Y재 1/2단위	X재 2단위

ㄱ. 갑국은 X재와 Y재 모두 을국보다 더 적은 비용으로 생산할

수 있으므로 두 재화 생산에 절대 우위를 가진다. **ㄷ**, 을국의 X재 1단위 생산의 기회비용은 Y재 1/2단위이다.

오답 풀이

- ㄴ. 을국은 X재 생산에 비교 우위가 있으므로 X재를 특화할 것이다.
- ㄹ. X재로 표시한 Y재 1단위 생산의 기회비용은 갑이 X재 5/4단위, 을이 X재 2단위이므로 Y재 1단위 생산의 기회비용은 을국이 갑국의 2배 이상이 아니다.

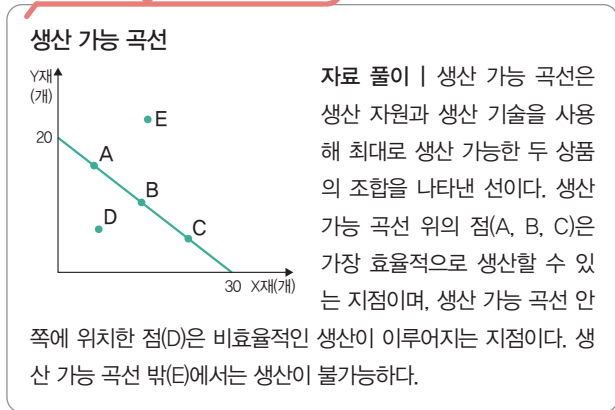
09 생산 가능 곡선

자료는 생산 가능 곡선을 나타낸다. 생산 가능 곡선은 생산 자원과 생산 기술을 사용해 최대 생산 가능한 두 상품의 조합을 나타낸 선이다. **ㄴ**, 생산 가능 곡선 위에 있는 점 A, B, C에서는 모두 효율적인 생산이 가능하다. **ㄷ**, D는 생산 가능 곡선 안쪽에 있으므로 생산은 가능하지만 비효율적인 생산이 이루어진다. **ㄹ**은 생산 가능 곡선 밖에 있으므로 생산이 불가능하다.

오답 풀이

- ㄱ. 갑이 X재 30개를 생산할 때 포기해야 하는 Y재는 20개이다. 따라서 X재 1개 생산의 기회비용은 Y재 2/3개이다.

이 단원에서 꼭 알아야 하는 자료



10 생산 가능 곡선

생산 가능 곡선을 바탕으로 갑국과 을국의 X재와 Y재의 최대 생산량을 정리하면 아래 표와 같다.

(단위: 개)

구분	X재	Y재
갑국	15	10
을국	10	5

양국의 각 재화 1개 생산의 기회비용은 아래 표와 같다.

구분	X재 1개 생산의 기회비용	Y재 1개 생산의 기회비용
갑국	Y재 2/3개	X재 3/2개
을국	Y재 1/2개	X재 2개

④ 갑국은 Y재, 을국은 X재에 비교 우위를 가지므로 양국은 이를 특화하여 교역하면 이익을 얻을 수 있다.

오답 풀이

- ① 갑국과 을국이 비교 우위를 가지는 상품을 각각 특화하여 교역하면 양국 모두 이익을 볼 수 있다.
- ② 갑국의 X재 1개 생산의 기회비용은 Y재 2/3개이다.
- ③ 을국의 Y재 1개 생산의 기회비용은 X재 2개이다.
- ⑤ 갑국은 X재와 Y재 모두 절대 우위를 가지므로 을국에 비해 절대적인 생산비가 더 적게 발생한다.

11 공정 무역

ㄱ. 제시된 자료는 공정 무역 10원칙으로 ①에는 공정 무역이 들어간다. **ㄴ**, 공정 무역은 개발 도상국의 생산자에게 더 나은 생산 조건을 제공해 지속가능발전을 촉진한다. **ㄷ**, 소비자가 공정 무역 제품을 소비하는 것은 지속가능발전에 기여하는 활동이다.

오답 풀이

ㄷ, 공정 무역은 국제 무역에서 더욱 공평하고 정의로운 관계를 추구하는 국제적 수준의 사회 운동이다.

12 지속가능발전과 국제 무역

제시문은 국제 연합이 제시한 지속가능발전 목표에 관한 내용이다. **갑**, 지속가능발전 목표는 빈곤 퇴치, 기아 종식, 건강과 웰빙 등 총 17개의 세부 목표로 나뉜다. **을**, RE 100 캠페인은 기업의 소비 전력 100%를 재생 에너지로 조달하도록 유도하는 민간 차원의 캠페인이다. **병**, 유럽 연합에서 화석 에너지 의존도를 줄인 기업의 상품만 수입하겠다는 결정을 내리면서 여러 기업이 유럽으로 수출하기 위해 생산과 무역 과정에서 화석 에너지 의존도를 줄여 나가고 있다.

13 무역의 발생 원리

비교 우위는 특정 상품을 생산할 때의 기회비용이 더 적은 경우를 의미한다. 한 국가가 모든 재화 생산에 절대 우위를 갖는 경우에도 비교 우위를 갖는 상품을 특화하여 교역하면 모두 이익을 얻을 수 있다.

| 채점 기준 |

상	①~③을 정확히 쓰고, 비교 우위 개념을 활용하여 무역이 발생하는 까닭을 적절하게 서술하였다.
중	①~③을 쓰지 못하고, 비교 우위 개념을 활용하여 무역이 발생하는 까닭을 적절하게 서술하였다.
하	①~③을 정확히 쓰고, 비교 우위 개념을 활용하여 무역이 발생하는 까닭을 서술하지 못하였다.

14 지속가능발전과 국제 무역

지속가능발전 목표는 국제 연합이 제시한 전 세계 모든 사람이 2030년까지 함께 달성해야 할 17가지 목표이다. 공정 무역은 대

화와 투명성, 존중에 기초하여 국제 무역에서 더욱 공평하고 정의로운 관계를 추구하는 국제적 수준의 사회 운동이다. 공정 무역은 국제 무역을 통해 빈곤 퇴치, 기아 종식, 성평등, 기후 행동, 양질의 일자리와 경제 성장 등의 지속가능발전 목표를 달성하는 데 도움을 준다.

| 채점 기준 |

상	(가), (나)를 정확히 쓰고, 제시된 단어를 모두 사용하여 공정 무역이 지속가능발전에 기여할 수 있는 방안을 서술하였다.
중	(가), (나)를 잘못 쓰고, 제시된 단어를 모두 사용하여 공정 무역이 지속가능발전에 기여할 수 있는 방안을 서술하였다.
하	(가), (나)를 정확히 쓰고, 제시된 단어를 모두 사용하여 공정 무역이 지속가능발전에 기여할 수 있는 방안을 서술하지 못하였다.

STEP 3 실력 완성 문제

96~97쪽

01 ④ 02 ① 03 ④ 04 ① 05 ④ 06 ④ 07 ② 08 ③

01 국제 분업과 무역의 필요성

갑. 국내에서 생산할 수 있는 제품이라도 다른 국가가 더 효율적으로 생산을 할 수 있다면 그 나라에서 수입하는 것이 더 유리하다. 을. 무역을 통해 소비자는 다양한 상품을 저렴하게 소비할 수 있다. 병. 기업의 입장에서 무역은 넓은 국제 시장을 확보하는 기회가 된다.

오답 풀이

정: 기업은 무역을 통해 규모의 경제를 가능하게 한다. 규모의 경제란 생산량을 늘릴수록 단위당 생산비가 감소하는 것을 이르는 용어이다.

02 세계 무역 기구와 자유 무역 협정

제시문은 세계 무역 기구와 자유 무역 협정에 관한 내용이다. ㄱ. 세계 무역 기구는 국가 간 무역 장벽을 최대한 낮춰 자유롭고 개방적인 국제 무역을 지향하는 국제기구이다. ㄴ. 우리나라는 미국과 자유 무역 협정을 체결한 결과 대미 수출 증대 효과를 누렸다.

오답 풀이

ㄷ. 세계 무역 기구와 자유 무역 협정 모두 자유 무역을 추구한다는 공통점이 있다.
ㄹ. 세계 무역 기구는 다자간 협상을 통해, 자유 무역 협정은 양자 간 협상을 통해 합의가 이루어진다.

03 무역의 발생 원리

(가) 시기 갑국과 을국의 각 재화 1개 생산의 기회비용은 다음 표와 같다.

구분	X재 1개 생산의 기회비용	Y재 1개 생산의 기회비용
갑국	Y재 2/3개	X재 3/2개
을국	Y재 3/2개	X재 2/3개

(나) 시기 갑국과 을국의 각 재화 1개 생산의 기회비용은 아래 표와 같다.

구분	X재 1개 생산의 기회비용	Y재 1개 생산의 기회비용
갑국	Y재 2개	X재 1/2개
을국	Y재 3개	X재 1/3개

(가) 시기는 갑국과 을국이 절대 우위가 있는 상품이 다르다. 이 경우 양국의 절대 우위 상품이 비교 우위 상품이라고도 할 수 있다. (나) 시기는 갑국에 X재와 Y재 모두에서 절대 우위가 있지만, 비교 우위는 X재에만 있다. ④ (나) 시기에 갑국과 을국이 1:1의 비율로 교역할 때 갑국이 X재를 특화하여 얻는 Y재 1개는 X재 1개 생산의 기회비용인 Y재 2개보다 적으므로 갑국은 이익이 발생하지 않는다.

04 무역의 발생 원리

제시문에서 A 국과 B 국이 비교 우위 이론에 따라 무역을 하고 있으므로 A 국은 스마트폰, B 국은 의류 생산이 비교 우위가 있다. ① ㉠이 '36'이면 B 국이 비교 우위를 가지는 상품은 의류가 아니라 스마트폰이 된다.

오답 풀이

- ② B 국의 의류 1벌 생산에 대한 비용이 정확하게 제시되지 않았으므로 A 국은 의류 생산에서 절대 우위를 가질 수도 있고, 가지지 않을 수도 있다.
- ③ A 국에서 의류 1벌 생산의 기회 비용은 스마트폰 6/5대이다.
- ④ B 국은 의류 생산에 특화하였으므로 의류 생산에서 비교 우위를 가진다.
- ⑤ B 국은 의류 생산에서도 A 국보다 절대적인 생산비가 더 클 수 있다. 예를 들어 ㉠이 '15'이면 B 국은 의류에 비교 우위가 있기 때문에 의류 생산에 특화하는 상황이 된다.

05 무역의 발생 원리

A 국과 B 국의 텔레비전 1대와 쌀 10kg 생산에 대한 기회비용은 아래 표와 같다.

구분	텔레비전 1대 생산의 기회비용	쌀 10kg 생산의 기회비용
A 국	쌀 100/㉠kg	텔레비전 ㉠/100대
B 국	쌀 ㉡/200kg	텔레비전 200/㉡대

④ ㉠이 200, ㉡이 150인 경우 A 국은 텔레비전 생산, B 국은 쌀 생산에 비교 우위를 가지므로 각각 특화하여 교역하면 이익을 얻을 수 있다.

오답 풀이

- ① ㉠이 100 이상이더라도 ㉡에 따라 A 국은 비교 우위 상품은 달라질 수 있다.
- ② ㉡이 100보다 크다면 B 국은 텔레비전 생산에 A 국보다 더 많은 생산비를 투입하게 되므로 절대 열위에 있다.
- ③ ㉠이 150, ㉡이 300이라도 A 국과 B 국은 각각 비교 우위를 갖는 상품에 특화하여 교환하면 이득이 발생한다.
- ⑤ ㉠이 150, ㉡이 50이면 A 국은 쌀에, B 국은 텔레비전에 절대 우위를 가지므로 무역의 발생을 설명할 수 있다.

06 생산 가능 곡선

A 국과 B 국의 자동차와 선박의 최대 생산량을 정리하면 아래 표와 같다.

(단위: 대)

구분	자동차	선박
A 국	70	10
B 국	100	10

양국의 자동차와 선박 1대 생산의 기회비용은 아래 표와 같다.

구분	자동차 1대 생산의 기회비용	선박 1대 생산의 기회비용
A 국	선박 1/7대	자동차 7대
B 국	선박 1/10대	자동차 10대

ㄱ. A 국이 선박 1대를 생산하기 위해 포기해야 하는 자동차는 7대이다. ㄴ. 비교 우위는 더 적은 기회비용으로 생산할 수 있는 재화에 있으므로 A 국은 선박, B 국은 자동차 생산에 비교 우위를 가진다.

오답 풀이

ㄴ. B 국은 자동차 생산에 대해 절대 우위와 비교 우위를 가진다.

07 지속가능발전과 국제 무역

ㄱ. 공정 무역은 개발 도상국의 생산자와 노동자에게 더 나은 조건을 제공하여 공평하고 정의로운 국제 무역을 추구하는 사회 운동이다. 이는 지속가능발전 목표 중 빈곤 퇴치, 기아 종식, 양질의 일자리와 경제 성장 등에 기여한다. ㄴ. RE 100 캠페인은 기업 소비 전력의 100%를 재생 에너지로 조달하도록 유도하는 민간 차원의 캠페인이다.

오답 풀이

- ㄴ. 지속가능발전 목표는 전 세계 모든 사람이 지속가능발전을 이루기 위해 국제 연합이 설정한 17개의 목표이다.
- ㄹ. 갑과 을은 모두 옳은 내용을 발표하였다.

08 지속가능발전과 국제 무역

‘국제 분업은 효율적인 생산에 기여한다.’는 옳은 진술이고, ‘공정 무역은 지속가능발전을 저해한다.’는 옳지 않은 진술이다.

ㄱ. 을은 B와 D를 가져갔으므로 D가 옳은 진술이라 하더라도 B 때문에 승리할 수 없다. ㄴ. ‘절대 열위에 있는 상품이라도 비교 우위가 있을 수 있다.’는 옳은 진술이다. A와 C는 모두 옳은 진술이므로 갑은 승리한다.

오답 풀이

ㄴ. ‘지속가능발전을 위한 환경 기준이 무역 장벽이 될 수 있다.’는 옳은 진술이다. 그러나 B가 이미 틀린 진술이므로 을은 승리할 수 없다.

98~101쪽

대단원 평가 문제

01 ㉢ 02 ㉣ 03 ㉣ 04 ㉠ 05 ㉣ 06 ㉤ 07 ㉠ 08 ㉠
09 ㉣ 10 ㉢ 11 ㉤ 12 ㉤ 13 ㉤ 14 ㉣ 15 ㉢ 16 ㉣

01 자유방임주의와 신자유주의

(가)는 자유방임주의, (나)는 신자유주의에 대한 설명이다. ㄴ. 정부는 소득 재분배 및 경제 안정화 정책을 실행하는 주체로 이를 통해 지속가능발전에 기여할 수 있다. ㄹ. 1970년대 석유 파동 이후 나타난 자유주의 사상을 애덤 스미스의 자유방임주의와 구별하여 ‘신자유주의’라고 부른다.

오답 풀이

- ㄱ. 과점 시장은 시장 실패의 유형에 해당한다.
- ㄴ. 1970년대 석유 파동은 케인스 경제학의 영향력을 약화하는 계기가 되었다.

02 합리적 선택

대안 1의 명시적 비용은 구독료 1만 원이고 암묵적 비용은 대안 2 선택 시 얻을 수 있었던 편익 3만 원(5만 원-2만 원)이다. 대안 2의 명시적 비용은 구독료 2만 원이고 암묵적 비용은 대안 1 선택 시 얻을 수 있었던 편익 2만 원(3만 원-1만 원)이다. ④ 순편익은 ‘편익-기회 비용’이므로 대안 1의 순편익은 -1만 원(3만 원-4만 원), 대안 2의 순편익은 +1만 원(5만 원-4만 원)이다.

03 합리적 선택

현 시점에서 이미 지출하였고 회수가 불가능한 100억 원은 매몰 비용에 해당하므로 합리적 선택 시 고려하지 않는다. 현 시점에서 추가로 80억 원의 기회비용을 투입할 경우 150억 원의 수입을 올릴 수 있으므로 개발을 지속해야 한다.

오답 풀이

- ㄱ. 현 시점에서 개발 진행 시 기회비용은 80억 원, 편익은 150억 원이므로 개발을 지속하는 것이 합리적이다.
- ㄴ. 이윤은 전체 판매 수입에서 생산 및 판매를 위해 투입된 비용을 뺀 금액이다. ㉠은 전체 판매 수입을 의미한다.

04 시장 실패

'배제성과 경합성이 없는 재화인가?'에 '예'라고 답한 C는 공공재이다. A와 B는 (가)의 질문에 따라 달라진다. 정보의 비대칭성은 역선택 또는 도덕적 해이를 유발하는 요인이다. 따라서 A가 '정보의 비대칭성'이면 A가 '예'라고 답한 (가)에는 '역선택'이나 '도덕적 해이를 유발하는 요인인가?'가 들어갈 수 있다.

오답 풀이

- ㄷ. 감염병 예방 접종 사례는 외부 효과에 해당한다. B가 '외부 효과'이면 B가 '아니요'라고 답한 (가)에는 '감염병 예방 접종 사례를 통해 설명할 수 있는가?'가 들어갈 수 없다.
- ㄹ. (가)에 '제삼자에게 의도하지 않은 이익이나 손해를 주고 대가를 받거나 지불하지 않는 경우를 의미하는가?'가 들어가면 '예'라고 답한 A는 '외부 효과'가 된다. 반면 '아니요'라고 답한 B는 '독과점' 또는 '정보의 비대칭성'이 되므로 '독과점'이라고 단정할 수 없다.

더 알아 두기 | 역선택과 도덕적 해이

역선택	<ul style="list-style-type: none"> • 거래가 일어나기 전의 상황 • 거래 상품의 품질이나 거래 상대방에 대한 정보가 없거나 부족할 때 바람직하지 않은 상대방과 거래를 하게 되는 현상
도덕적 해이	<ul style="list-style-type: none"> • 거래가 일어난 후의 상황 • 거래가 이루어진 이후 거래 당사자가 자신이 해야 할 최선의 의무를 다하지 않고 소홀히 하는 현상

05 각 경제 체제의 비효율성

(가)는 시장경제 체제, (나)는 계획경제 체제의 비효율성을 보여주는 사례이다.

오답 풀이

- ① (가)는 시장경제 체제에서 과다 생산이 발생하기 쉽다는 것을 보여주는 사례이다.
- ② (나)는 계획경제 체제에서 경제적 의사 결정은 정부에 의해 주도되어 효율적 생산 활동이 저해된다는 것을 보여주는 사례이다.
- ③ 시장경제 체제와 계획경제 체제 모두 효율적인 생산을 추구한다.
- ⑤ (가), (나)는 각각 시장경제 체제의 비효율성과 계획경제 체제의 비효율성을 보여주는 사례로 (가), (나)를 통해 두 경제 체제 사이의 우열을 판단하기 어렵다.

06 시장 참여자의 역할

'공공재를 공급하는 주체인가?'라는 질문에 '예'라고 답한 A는 정부이다. B와 C는 기업과 노동자 중 하나이며 (가)의 질문에 따라 달라진다. ⑤ B가 기업이라면 B가 '예'라고 답한 (가)는 '창의적인 태도로 혁신을 추구하는 정신이 필요한 주체인가?'가 될 수 있다.

오답 풀이

- ① 민간 경제에서 생산 활동의 주체는 기업이다.
- ② 임금을 받는 주체는 노동자이다. (가)가 '임금을 받는 주체인가?'가 될 경우 '예'라고 답한 B는 노동자, '아니요'라고 답한 C는 기업이 되므로 (가)는 '임금을 받는 주체인가?'가 될 수 있다.
- ③ 생산 요소 시장에서 공급의 주체는 노동자이고, 생산물 시장에서 공급의 주체는 기업이다. C가 노동자라면 C가 '아니요'라고 답한 (가)는 '생산 요소 시장에서 공급의 주체인가?'가 될 수 없다.
- ④ (가)가 '노동 삼권을 가진 주체인가?'이면 '예'라고 답한 B는 노동자이다. 민간 경제에서 일자리를 제공하는 주체는 기업이다.

더 알아 두기 | 창조적 파괴



미국의 경제학자 슈페터(Schumpeter, J.)는 혁신적인 변화를 이끌어 내는 창조적 파괴의 중요성을 강조하였다. 창조적 파괴란 미래의 불확실성 속에서 장래를 정확하게 예측하고 변화를 모색하여 새로운 것을 창조하는 혁신을 통해 기존의 질서나 기술, 기업이 사라지고 새로운 것이 탄생하는 과정을 의미한다. 슈페터는 이를 '끊임없는 혁신의 순환 과정'으로 정의하며 혁신(창조)에 성공한 기업은 시장에서 승리하고, 혁신에 성공하지 못한 경쟁 기업들은 시장에서 퇴출된다고 설명하였다.

07 경제 체제

시장경제 체제와 계획경제 체제는 모두 희소성에 따른 경제 문제가 발생하므로 두 번째 질문에 대한 답은 '아니요'이어야 한다. 두 번째 질문에 '예'라고 답하고 2점을 받은 갑은 첫 번째 질문과 세 번째 질문에 모두 옳은 답을 해야 한다. 경제적 유인이란 경제 주체의 행동을 특정 방향으로 유도하거나 바꿀 수 있도록 동기를 부여하는 요인으로 시장경제 체제에서 강조된다. 따라서 A는 시장경제 체제, B는 계획경제 체제임을 알 수 있다. ① 1점을 받은 을은 첫 번째 질문에서 틀린 답, 세 번째 질문에서 옳은 답을 하였으므로 (가)는 틀린 답인 '예'이어야 한다.

오답 풀이

- ② A는 시장경제 체제이다.
- ③ B는 계획경제 체제이다. 1930년대 대공황을 계기로 주류화된 것은 수정 자본주의이다.
- ④ 상대적으로 분배의 형평성을 강조하는 것은 계획경제 체제이다.
- ⑤ 상대적으로 경쟁의 필요성을 강조하는 것은 시장경제 체제이다.

08 경제 주체의 역할

(가)는 소비자 주권의 사례, (나)는 시장경제 체제의 장점, (다)는 부정적 외부 효과의 사례를 보여 준다. ㄱ. (가)에서 소비자는 윤리적 소비를 통해 A사의 생산 활동에 영향을 주었다.

오답 풀이

- ㄴ. (나)의 B 국은 경제 성장을 위해 개인과 기업의 이익 추구 동기 강화 등 시장경제 체제의 장점을 활용하여 효율을 극대화하였다.
- ㄷ. (다)는 의도하지 않은 피해에 대하여 대가를 지불하지 않을 경우 효율적인 자원 배분이 일어나지 않는다는 것을 보여 준다.

09 금융 자산의 특징

A는 정기 예금, B는 주식, C는 채권이다. ④ 주식은 시세 차익을 기대할 수 있지만 정기 예금은 이자 수익만 기대할 수 있는 금융 자산이다.

오답 풀이

- ① A는 정기 예금이다.
- ② 정기 예금은 주식보다 안전성이 높은 금융 자산이다.
- ③ 정기 예금과 채권은 모두 만기가 있는 금융 자산이다.
- ⑤ 전문 운용 기관이 운용하는 간접 투자 상품은 펀드이다.

더 알아두기 | 다양한 금융 자산의 종류

펀드	투자 회사 등 전문 운용 기관이 고객의 투자금을 주식, 채권 등에 투자하고 운용 결과에 따라 수익을 주는 간접 투자 상품
연금	노후 생활의 안정을 위해 소득의 일부를 적립하였다가 은퇴 후에 일정 기간 동안 특정 금액을 받는 금융 상품
보험	일상의 위험, 재해나 사고에 대비하여 정기적으로 보험료를 내고, 사고가 발생하였을 때 보험 회사로부터 보험금을 받는 금융 상품

10 금융 의사 결정에 영향을 미치는 요인

제시문은 기준 금리 인상과 환율 상승에 관한 내용이다. 을, 원/달러 환율이 상승한다는 것은 달러의 가치가 오르는 것을 의미한다. 따라서 미국의 기준 금리가 인상되는 상황에서 달러화로 가입하는 예금액을 늘리는 것이 합리적 금융 의사 결정이다. 병, 기준 금리가 인상되면 시중 금리도 인상될 가능성이 크다. 따라서 변동 금리가 적용된 대출 상품의 이자 부담이 증가하므로 금리 대출액을 줄이는 것이 합리적인 금융 의사 결정이다.

오답 풀이

- 갑: 기준 금리가 인상되면 시중 금리도 인상될 가능성이 높다. 변동 금리로 가입한 예금 상품의 이자가 증가할 것이므로 변동 금리가 적용된 예금 상품을 해지하는 것은 비합리적인 금융 의사 결정이다.
- 정: 원/달러 환율의 상승은 해외 채무의 비중이 큰 기업의 채무 상환 부담이 커지므로 기업 수익을 악화시키는 요인이다. 수익 악화가 예상되는 기업의 주식을 사두는 것은 비합리적인 금융 의사 결정이다.

11 금융 생활 설계

제시된 그림은 소득과 지출 수준을 개인의 생애 주기에 따라 나타낸 것이다. ⑤ t+1 시점 이후에는 지출 수준은 일정하나 소득 수준이 감소하고 있다. 따라서 소득 대비 지출의 비율은 증가하는 구간이다.

오답 풀이

- ① A는 소득보다 지출이 많으므로 부채, B는 지출보다 소득이 많으므로 저축에 해당한다.
- ② 각 시기 지출액은 일정하게 유지되므로 누적 지출액은 증가한다.
- ③ 일반적으로 자녀 양육과 부모 부양을 하는 시기는 소득 수준이 가장 높은 (나) 구간에 해당한다.
- ④ 노후 준비를 위한 대책을 세워야 하는 구간은 (나) 구간이다.

12 국제 분업과 무역의 특징

제시문은 국제 분업과 무역이 발생하는 까닭과 소비자나 기업에 미치는 영향에 관한 내용이다. ⑤ 생산자인 기업은 무역을 통해 넓은 국제 시장을 확보할 수 있고, 생산량을 늘려 단위당 생산 비용을 낮출 수 있다.

오답 풀이

- ① 규모의 경제는 생산량이 증가함에 따라 생산비가 감소하는 현상으로 생산자인 기업이 무역으로 얻는 긍정적 영향이다.
- ② 생산량을 늘려 일자리를 만들어내는 것은 생산자 측면의 긍정적 영향이다.
- ③ 무역을 한다고 해서 모든 기업의 이윤이 증대되는 것은 아니다. 비교 우위가 없는 제품을 생산하고 있던 기업은 손해를 볼 수 있다.
- ④ 다양한 상품에 대한 저렴한 소비 생활을 누릴 수 있다는 것은 소비자가 무역으로 누리는 긍정적 영향이다.

13 무역의 발생 원리

갑국과 을국의 각 재화 1단위 생산의 기회비용은 아래 표와 같다.

구분	반도체 1단위 생산의 기회비용	철강 1단위 생산의 기회비용
갑국	철강 2/3단위	반도체 3/2단위
을국	철강 1단위	반도체 1단위

ㄷ. 을국이 철강 생산에 절대 우위를 가지고 있지만 반도체는 갑국과 을국 모두 같은 생산 비용으로 생산이 가능하다. 따라서 을국은 무역을 할 필요가 없어 절대 우위 이론으로 갑국과 을국의 무역을 설명할 수 없다. ㄹ. 반도체와 철강을 5:4 비율로 교환한다면 갑국은 반도체 1단위 생산의 기회비용인 철강 2/3단위보다 많은 반도체 1단위당 철강 4/5단위를 얻으므로 이익을 본다. 을국은 철강 1단위 생산의 기회비용인 반도체 1단위보다 많은 철강 1단위당 반도체 5/4단위를 얻으므로 이익을 본다.

오답 풀이

- ㄱ. 갑국의 철강 1단위 생산의 기회비용은 반도체 3/2단위이다.
- ㄴ. 을국은 철강 생산에 비교 우위가 있다.

14 무역의 발생 원리

갑국과 을국의 각 재화 1단위 생산의 기회비용은 아래 표와 같다.

구분	X재 1단위 생산의 기회비용	Y재 1단위 생산의 기회비용
갑국	Y재 1/2단위	X재 2단위
을국	Y재 2/3단위	X재 3/2단위

ㄴ. 갑국은 최대 생산할 수 있는 X재와 Y재의 수가 을국보다 많으므로 모든 재화에 절대 우위를 가진다. ㄷ. 을국 Y재 1단위 생산의 기회비용은 X재 3/2단위이다.

오답 풀이

- ㄱ. 갑국은 X재 생산에 비교 우위가 있다.
- ㄷ. 갑국의 X재 1단위 생산의 기회비용은 Y재 1/2단위이다.

15 금융 의사 결정 요인과 지속가능발전을 위한 무역의 방안

A. 기준 금리가 인상되면 시중 은행의 대출 금리도 상승할 가능성이 크므로 대출 규모를 줄이는 것이 합리적이다. B. 지속가능발전 목표는 국제 연합이 설정한 것으로 옳지 않은 진술이다. C. 합리적 소비는 자원의 낭비를 막아 주고, 윤리적 소비는 환경 보호, 아동 노동 근절, 양질의 일자리와 경제 성장 등에 기여하므로 두 가지 소비 형태 모두 지속가능발전에 기여한다. D. 채권과 주식은 모두 시세 차익을 기대할 수 있는 금융 자산이다. 채권은 이자 수익을 기대할 수 있지만, 주식은 배당 수익을 기대할 수 있다.

16 지속가능발전에 기여하는 무역

탄소 국경 조정 제도는 유럽에 수출하고자 하는 기업이 탄소 배출량을 줄이도록 하는 유인이 된다. ④ 탄소 국경 조정 제도는 무역 과정에서 발생하는 탄소 배출량을 줄이도록 하여 지속가능발전에 기여한다.

오답 풀이

- ① 탄소 국경 조정 제도는 탄소 배출량을 근거로 관세를 설정하여 보호 무역을 장려하는 수단이라는 비판을 받기도 한다.
- ② 탄소 국경 조정 제도에 따라 유럽으로 수출하고자 하는 기업은 탄소 배출량을 줄이는 노력을 해야 한다. 이는 기업이 지속가능발전을 지향하도록 하는 유인이다.
- ③ 제시문은 해외 시장을 공략하려면 지속가능발전에 기여하는 무역의 흐름에 대비해야 한다는 것을 나타낸다.
- ⑤ 기업이 환경 규제가 느슨한 동남아시아 지역에 생산 시설을 지어도 생산 과정에서 탄소 배출량을 줄이지 못하면 유럽 연합 역내로 수출하는 데 어려움을 겪을 것이다.

IV 세계화와 평화

1. 세계화와 양상과 미래

STEP 1 기본 개념 확인 문제

106쪽

- 1 (1) 세계화 (2) 지역화 (3) 세계도시 2 (1) ○ (2) ○ (3) ○
- 3 (1) ㉠ (2) ㉡ 4 (1) ㉢ (2) ㉣ (3) ㉤

STEP 2 내신 대비 실력 문제

106~109쪽

- 01 ⑤ 02 ② 03 ③ 04 ① 05 ① 06 ④ 07 ② 08 ④
- 09 ④ 10 ②

11 (1) 다국적 (2) 예시 답안 | 다국적 기업이 미국과 같은 선진국에 생산 공장을 짓는 이유는 관세 부과 등의 무역 장벽을 극복하기 위함이다.

12 (1) 보편 윤리 (2) 예시 답안 | 세계화 과정에서 보편 윤리와 특수 윤리 간의 갈등이 발생한다. 과거 우리 사회는 개 식용을 특수 윤리로 존중했으나, 세계화로 반려동물권이라는 보편 윤리가 확산되면서 두 가치가 충돌하였고 현재는 보편 윤리를 수용하는 방향으로 문화가 변화하고 있다.

01 다국적 기업의 현지화 전략

(가), (나)는 모두 세계적인 커피 전문점 S 사의 매장 모습이다. (가)는 한옥에서 볼 수 있는 기와지붕을 통해 대한민국임을, (나)는 아라베스크 문양을 통해 아랍 에미리트임을 알 수 있다. ⑤ (가)와 (나)의 매장 모두 지역의 전통을 반영하고 있다.

오답 풀이


- ① 우리나라는 동아시아에 위치한다.
- ② 아랍 에미리트에서는 커피가 생산되지 않는다.
- ③, ④ 자료를 통해 매장의 매출액, 현지화 전략 정도를 알 수 없다.

이 단원에서 꼭 알아야 하는 자료

다국적 기업의 현지화 전략



○ 대한민국 경주



○ 아랍 에미리트 두바이

자료 풀이 | 미국의 다국적 커피 전문점 S 사는 진출 지역의 문화적 특성이 차별화된 경험과 관련하여 다양한 모습의 매장을 열어 현지 시장을 공략하고 있다. 다국적 기업은 대표적인 경제적 세계화의 사례이지만, 이러한 다국적 기업의 현지화 전략도 이해해야 한다.

02 경제적 세계화와 문화적 세계화

경제적 세계화는 생산 요소의 국제 이동이 이전보다 활발해지면서 여러 나라가 협력하여 상품을 생산하는 형태로 나타난다. 문화적 세계화는 활발한 교류를 통해 세계 여러 지역의 문화 요소가 국가나 민족의 경계를 뛰어넘어 전 세계적인 문화로 발전하는 사례가 대표적이다.

03 지역화 전략

세계화 시대에 각 지역은 경쟁력을 확보하기 위해 장소 마케팅, 지역 브랜드화, 지리적 표시제와 같은 지역화 전략을 구사하고 있다. 충청남도 보령시 캐릭터는 지역 브랜드화의 사례로, 지역 브랜드화는 지역의 상품, 축제 등을 브랜드로 만들어 지역을 활성화하는 전략이다. 에스파냐의 빌바오에 위치한 구겐하임 미술관은 장소 마케팅의 사례로, 장소 마케팅은 지역의 특정 장소가 하나의 상품으로 인식되도록 이미지와 정체성 등을 개발하는 것이다. 지리적 표시제는 특정 지역에서 생산된 농산물·가공품의 품질·명성·특성이 지리적 환경에 기인할 경우, 해당 지역의 명칭을 상표로 보호하는 제도이다.

04 세계도시

세계도시는 경제활동, 연구·개발, 문화 교류, 정보 교류, 접근성, 거주 환경 등 다양한 요소가 종합적으로 발달하였다. 현재 대표적인 세계도시로는 런던, 뉴욕, 도쿄, 파리 등이 있다.

더 알아두기 | 세계도시의 의미와 선정 기준

- 의미: 세계화 시대에 국가의 경계를 넘어 세계적인 중심지 역할을 수행하는 대도시, 전 세계의 경제활동을 조절하고 통제할 수 있는 중심지, 세계적 교통·통신망의 핵심적인 결절, 세계의 자본이 집중되고 축적되는 장소
- 세계도시 선정 기준

구분	주요 지표
경제적 측면	다국적 기업의 본사 수, 금융 기관 수, 법률 회사 수 등
정치적 측면	국제회의 수, 국제기구의 본부 수 등
문화적 측면	세계적으로 유명한 문화·예술 기관 수, 영향력 있는 대중 매체 수, 교육 기관 수 등

05 다국적 기업의 공간적 분업

다국적 기업은 생산비를 절감하고 원료 및 현지 시장을 확보하기 위해 공간적 분업을 하고 있다. 다국적 기업의 본사는 대체로 본국의 대도시에 위치하는 경우가 많다. 반면 생산 공장은 노동비를 포함한 제품 생산비를 절감할 수 있는 개발 도상국에 주로 입지하는데, 최근에는 무역 장벽을 극복하기 위해 생산 공장이 선진국에 입지하는 경우도 있다.

06 세계화에 따른 문화의 획일화와 소멸

세계화에 따른 문제점은 문화의 획일화와 소멸, 빈부 격차의 심화, 보편 윤리와 특수 윤리 간 갈등 등이 있다. 전 세계 M 햄버거 매장의 비슷한 메뉴, 영어 사용 증가와 소수 민족의 언어 소멸, 할리우드 영화의 발달로 각국의 영화 제작 편수 감소는 문화 획일화와 소멸의 대표적인 사례이다.

오답 풀이

ㄷ. 지역 특산물을 활용한 축제는 지역 고유의 정체성이 독자적인 가치를 지닌 지역화의 사례이다.

07 빈부 격차의 심화

세계화로 국가 간 분업이 이루어지면서 선진국과 개발 도상국 간의 빈부 격차가 커지고 있다. 빈부 격차 정도를 파악하기 위해서 살펴봐야 하는 지표로는 1인당 국내 총생산, 하루 2달러 미만으로 사는 사람의 비율 등이 있다.

오답 풀이

ㄴ, ㄷ. 성비, 인구 1,000만 명 이상의 도시 수는 선진국과 개발도상국 간의 빈부 격차와 일정한 관계를 갖는다고 보기 어렵다.

08 세계화에 따른 문제점

세계화는 오늘날 교통·통신이 발달하고 국가 간 교류가 확대되어 상호 의존성이 커지면서 정치, 경제, 사회, 문화 등의 활동 범위가 전 세계로 확대되는 현상을 말한다. 세계화로 인해 문화의 획일화와 소멸, 빈부 격차의 심화, 보편 윤리와 특수 윤리 간 갈등과 같은 문제가 나타나고 있다.

오답 풀이

ㄹ. 극단적 문화 상대주의 경향의 약화는 세계화의 장점이다.

이 단원에서 꼭 알아야 하는 자료

세계화로 인한 문제

세계화는 오늘날 교통·통신이 발달하고 국가 간 교류가 확대되어 상호 의존성이 커지면서 정치, 경제, 사회, 문화 등의 활동 범위가 전 세계로 확대되는 현상을 말한다. 세계화는 여러 분야에 걸쳐 다양한 양상으로 나타나고 있다. 세계화는 세계 여러 나라의 경제 성장, 문화 교류, 기술 발전 등에 기여한다. 그러나 세계화로 인해 문화적 획일화와 소멸, 빈부 격차의 심화, 보편 윤리와 특수 윤리 간 갈등과 같은 문제가 나타나고 있다.

자료 풀이 | 세계화는 세계의 경제 발전, 문화 교류 확대, 기술 혁신과 협력 강화 등을 가져왔지만, 문화적 획일화와 소멸, 빈부 격차 심화, 보편 윤리와 특수 윤리 간 갈등과 같은 문제점도 초래하였다. 이러한 문제를 해결하기 위해 문화 다양성 증진을 위한 노력과 선진국과 개발 도상국 모두의 경제 상황을 고려하여 지구촌 분배 정의 실현을 구현하려는 노력이 필요하다. 또한 세계시민으로서의 자세를 가지고 지구 전체의 문제에 관심을 기울이는 태도를 가져야 한다.

09 보편 윤리와 특수 윤리 간 갈등

세계화 과정에서 인권이나 자유와 같은 보편적 가치를 중시해야 한다는 보편 윤리와 특정 국가의 이익이나 관습 등을 우선해야 한다는 특수 윤리 간의 갈등이 발생할 수 있다. 싱가포르의 태형, 아프리카 소녀들의 조흔, 이슬람 국가에서 발생하는 명예 살인, 프랑스 공립학교의 이슬람계 여학생 부르카 착용 금지 등은 보편 윤리와 특수 윤리 간 갈등 사례로 볼 수 있다. ④ 우리 정부가 공공장소에서 흡연하는 것을 금지하는 것은 혐연권 보장을 위한 것이므로, 이를 보편 윤리와 특수 윤리 간 갈등이라고 보기 어렵다.

10 문화 다양성 협약

자료는 유네스코가 채택한 문화 다양성 협약의 내용으로, 문화 다양성이 인류 공동의 유산임을 확인하고 각국이 문화적 표현의 다양성을 보호 및 증진하기 위한 조치를 취하도록 규정하고 있다.

11 다국적 기업

다국적 기업은 본사, 연구소, 생산 공장이 여러 국가에 걸쳐 위치하는 기업이다. 다국적 기업은 대체로 생산비를 절감하기 위해 임금 수준이 낮은 국가에 생산 공장을 짓는다. 그런데 관세 부과 등의 무역 장벽을 극복하기 위해 임금 수준이 높은 선진국에 생산 공장을 짓는 경우가 있으며 그 과정에서 진출 국가의 정부나 지방 정부로부터 세금 감면 등의 혜택을 받기도 한다.

| 채점 기준 |

상	관세 부과 등 무역 장벽 관련 내용을 포함하여 서술하였다.
하	무역 장벽 관련 내용을 포함하여 서술하지 못하였다.

이 단원에서 꼭 알아야 하는 자료

다국적 기업의 공간적 분업



자료 풀이 | 다국적 기업은 본사, 연구소, 생산 공장이 여러 국가에 걸쳐 입지하여 공간적 분업을 이룬 기업을 말한다. 본사의 경우 기업이 위치한 국가의 대도시에서 주로 입지하는 반면, 연구소는 세계 각 지역의 전문 기술 인력을 확보할 수 있는 지역에 입지한다. 한편 생산 공장의 경우 대체로 노동비를 절감하기 위해 개발도상국에 입지하지만 최근에는 무역 장벽을 극복하기 위해 선진국에 입지하기도 한다. 스포츠 신발과 의류를 주로 생산 및 판매하는 미국의 N 사는 생산 공장을 일본 → 우리나라 → 중국 → 동남아시아 국가로 이전했는데, 이는 생산비를 절감하기 위해서였다.

12 보편 윤리와 특수 윤리 간 갈등

인류 공동체가 모두 지켜야 할 윤리를 보편 윤리라고 한다. 세계화의 문제점 중 하나는 보편 윤리와 특수 윤리 간 갈등이다. 조선 시대 사람들은 단백질 공급원으로 개고기를 먹었다. 오늘날 반려동물을 키우는 인구가 늘고 동물 복지 인식이 개선되면서 개 식용을 금지하게 되었다.

| 채점 기준 |

상	세계화에 따른 보편 윤리와 특수 윤리 간 갈등이라는 측면에서 과거의 문화적 특수성과 현재 수용된 보편 윤리의 충돌 및 변화 과정을 논리적으로 서술하였다.
하	갈등의 원인에 대한 분석 없이 단순히 보편 윤리에 따라 개 식용 문화가 사라졌다는 결과만을 서술하였다.

STEP 3 실력 완성 문제

110~111쪽

01 ② 02 ⑤ 03 ② 04 ② 05 ④ 06 ④ 07 ② 08 ①

01 글로벌라이제이션 사례

세계인이 즐겨 먹는 햄버거는 지역 고유의 음식 문화와 결합하여 지역마다 다양한 종류의 햄버거가 만들어졌다. 이러한 햄버거는 글로벌라이제이션의 대표적인 사례라고 할 수 있다. 일상에서 소시지를 많이 소비하는 독일에서는 햄버거 패티 대신 소시지를 넣은 햄버거가, 우리나라에서는 불고기 양념을 가미한 패티를 넣은 햄버거가, 튀르키예에서는 꼬치에 끼워 구운 케밥을 넣은 햄버거가 판매되고 있다.

오답 풀이

소고기가 금기시 되는 인도에서는 소고기 대신 닭고기를 넣은 햄버거가, 쌀 생산량이 많은 필리핀, 타이 등지에서는 햄버거 빵 대신 밥을 이용한 메뉴가 판매되고 있다.

이 단원에서 꼭 알아야 하는 자료

글로벌라이제이션

세계화로 서로 다른 지역의 문화가 만나 각 지역의 지역성을 반영한 새로운 문화와 가치가 창조된다. 세계화(Globalization)와 지역화(Localization)를 합성한 용어인 글로벌라이제이션(Glocalization)은 세계화를 추구하면서도 각 지역의 고유한 의식, 문화, 행동 양식 등을 존중하는 전략이다. 지역 고유의 음식 문화와 결합하여 만들어진 지역의 특색을 반영한 햄버거는 글로벌라이제이션의 대표적인 사례이다.

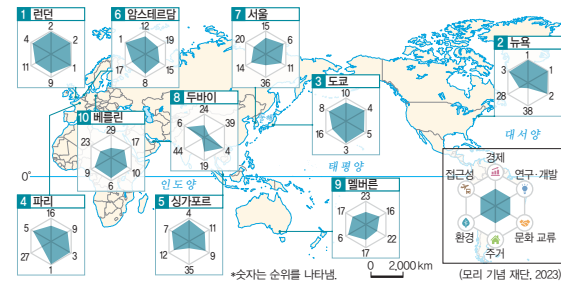
자료 풀이 | 글로벌라이제이션은 세계화 추세 속에서도 지역 문화와 특성을 존중하며 국제 경쟁력을 갖추기 위한 경영 전략이다. 세계화라는 큰 흐름 안에서 자국 중심주의를 극복하고 모든 나라가 보편성과 특수성을 조화시켜 공존할 수 있는 새로운 패러다임이라고 할 수 있다.

02 세계도시

세계화 시대에 국가의 경계를 넘어 세계의 중심지 역할을 수행하는 세계도시가 등장하였다. 세계도시는 세계 여러 지역과 국가의 경계를 하나로 통합하는 세계 경제의 중심지로서, 다양한 정보·기술·문화를 생산하고 전달하는 핵심적인 기능을 한다. 선진국이 많은 유럽은 개발 도상국이 많은 아프리카보다 세계도시가 많고, 인구 및 경제가 집중된 북반구에 세계도시가 많다. 세계도시 순위는 런던, 뉴욕, 도쿄 순이며, 세계도시 중 경제적 위상은 뉴욕이 가장 높다. ⑤ 세계도시 순위 1위인 런던이 세계 도시 순위 10위인 베를린보다 세계도시의 성격이 뚜렷하다.

이 단원에서 꼭 알아야 하는 자료

세계도시 순위



자료 풀이 | 모리 기법 재단에서 발표한 2024년 세계도시 순위이다. 세계 주요 도시를 경제, 연구·개발, 문화 교류, 주거, 환경, 접근성 항목에서 평가한 것이다. 세계도시는 발표 기관에 따라 그 순위가 다르게 나타나는데, 이는 평가 항목이 다르기 때문이다.

03 지역화 전략

지역화 전략에는 지리적 표시제, 장소 마케팅, 지역 브랜드화가 있다. (가)는 지리적 표시제, (나)는 지역 브랜드화에 대한 설명이다. 콜롬비아의 커피는 지리적 표시제의 사례이고, 미국 뉴욕의 'I ♥ NY'은 지역 브랜드화의 사례이다.

오답 풀이

ㄴ. 이탈리아 로마의 콜로세움은 장소 마케팅의 사례이다.

04 문화의 획일화와 소멸에 대한 대책

제시된 자료는 언어 소멸 위험에 관한 것이다. 세계화로 인해 지역 간 교류가 증가하면서 소수 민족의 언어가 도태되고 있다. 이러한 문제점을 해결하기 위해 유네스코(UNESCO)는 문화 다양성 협약을 체결하였다.

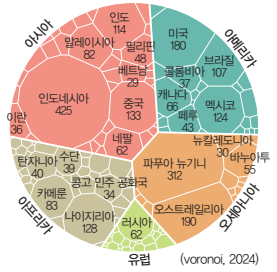
오답 풀이

- ① 지리적 표시제는 지역화 전략에 해당한다.
- ③, ⑤ 소수 민족 언어 교육을 의무화하거나 소멸 위기 언어를 공용어로 채택하는 것은 현실적으로 어려움이 많다.
- ④ 다국적 기업의 경제활동을 제한하는 것은 세계화의 흐름에 역행하는 것이다.

이 단원에서 꼭 알아야 하는 자료

세계화와 언어 소멸 위기

2023년 현재 세계의 3,078개 언어가 소멸 위험에 처해 있다. 상위 25개 국가에 2,484개의 언어가 소멸 위험에 처해 있는데, 국가별로는 인도네시아가 425개 언어로 가장 많고, 파푸아 뉴기니, 오스트레일리아, 미국, 중국 등이 뒤를 잇는다.



자료 풀이 | 언어 소멸은 특정 언어가 더 이상 일상적 소통 수단으로 사용되지 않아 사라지는 현상이다. 언어 소멸의 주요 원인은 세계화와 공용어 확산, 정책적 억압 등이다. 최근 유네스코는 '언어 다양성 선언'을 통해 소수 언어 보호 정책을 권고하고 있다.

05 세계화와 지역화

지구촌 분배 정의 추구를 위해 소비자가 개발 도상국의 생산자에게 정당한 대가를 지불하는 공정 무역 제품을 소비하는 것이 바람직하다. 공정 무역 제품을 이용하면 개발 도상국 노동자의 소득이 늘어날 수 있다.

오답 풀이

- ① 보호 무역 정책은 국제 교역량을 감소시킨다.
- ② 다국적 기업의 생산 공장은 주로 개발 도상국에 위치한다.
- ③ 지역 축제는 축제를 통해 지역을 홍보하는 데 초점을 두면 장소 마케팅에, 축제가 지역의 고유한 정체성을 담아 지속가능한 가치를 지닌 하나의 브랜드로 확립되면 지역 브랜드화에 해당한다.
- ⑤ 문화의 획일화가 세계 빈부 격차를 약화시킨다고 보기는 어렵다.

06 세계화에 따른 문제

프랑스의 공립학교에서 이슬람계 여학생들의 종교적 복장을 금지하여 논란이 발생하고 있다. 종교적 복장 착용 반대 입장은 보편 윤리를 강조하고, 찬성 입장은 특수 윤리를 주장한다.

오답 풀이

- ① 프랑스 공립학교의 종교적 복장 착용 논란은 문화의 획일화와 소멸과는 직접적인 관련이 없다.
- ②, ③, ⑤ 제시된 자료와는 무관한 내용이다.

07 세계화와 언어 소멸

고유 언어가 사라지는 위기는 문화의 획일화와 소멸을 가져온다.

오답 풀이

- ① 모국어 사용자는 중국어 > 에스파냐어 > 영어 순으로 많다.
- ③ 제주어는 우리나라의 표준어가 아니다.

- ④ 언어 소멸을 막기 위해 활동하는 국제기구는 유네스코이다.
- ⑤ 인공지능은 제4차 산업 혁명의 핵심 기술에 해당한다.

08 세계화에 따른 빈부 격차의 심화

세계 인구의 8%가 세계 부의 86%를 점유하며, 그중 극소수 초 부유층(인구의 0.7%)이 45.6%를 차지한다. 반면 세계 인구 73%가 가진 부는 2.4%에 불과한 것을 통해 세계의 빈부 격차가 크다는 것을 파악할 수 있다.

오답 풀이

- ② 선진국에 대해 부과되는 개발 도상국의 관세를 없애면 선진국과 개발 도상국 간 빈부 격차는 확대된다.
- ③ 인류의 보편 가치를 침해하는 행위를 비판적으로 성찰하는 것은 세계화로 인한 특수 윤리와 보편 윤리 간의 갈등과 관련이 깊다.
- ④ 지역 문화의 고유성을 인정하고 보존하려는 태도는 세계화로 인한 문화의 획일화와 소멸과 관련이 깊다.
- ⑤ 신재생 에너지의 개발과 사용 확대는 환경 보호와 관련이 깊다.

2. 국제 사회의 모습과 평화를 위한 노력

STEP 1 기본 개념 확인 문제

113쪽

- 1 (1) 평화 (2) 국제기구 (3) 비정부 기구 2 (1) × (2) × (3) ×
 (4) ○ 3 (1) ㄴ (2) ㄱ (3) ㄷ

STEP 2 내신 대비 실력 문제

114~116쪽

- 01 ⑤ 02 ① 03 ③ 04 ① 05 ③ 06 ④ 07 ④ 08 ②

09 (1) | 예시 답안 | 소극적 평화란 전쟁이나 테러와 같은 직접적 폭력이 없는 상태이다. 적극적 평화란 직접적 폭력뿐만 아니라 한 사회의 구조나 문화에 의해 발생하는 폭력까지 모두 제거된 상태이다. (2) | 예시 답안 | 평화 실현은 인류의 안전과 생존을 유지하고 삶의 질을 높일 수 있다. 사회 발전과 공동체 안정을 유지할 수 있다. 국제 협력과 인류 공동 번영을 위한 기반을 마련할 수 있다.

10 (1) | 예시 답안 | 국제기구는 중재자 역할을 하여 평화 협상을 주선하고, 필요 시 평화 유지군을 파견해 충돌 확대를 방지한다. 국제기구는 국제법과 국제 규범을 적용해 분쟁 해결의 틀을 제공한다. (2) | 예시 답안 | 비정부 기구는 전쟁 피해 민간인을 긴급 구호할 수 있다. 인권 침해 사례를 국제 사회에 알리고, 인도적 지원이 지속될 수 있도록 국제 여론을 형성할 수 있다.

01 평화의 의미와 중요성

제시문은 내전으로 인한 민간인의 희생, 생활 기반 시설의 마비, 교육 기회의 상실, 난민의 발생 등에 대해 설명하고 있다.

오답 풀이

- ① 제시문에 나와 있는 것처럼 평화는 국제 사회의 협력 및 지원과 밀접하게 연관되어 있다.
- ② 경제 성장이 있어도 내전과 같은 폭력이 존재하면 평화는 보장받지 못한다.
- ③ 내전으로 인해 삶의 질이 심각하게 떨어진 모습을 통해 평화는 삶의 질과 매우 밀접하게 연관되어 있음을 알 수 있다.
- ④ 군비 경쟁과 무력 증강은 갈등을 격화시키며 제시문에서처럼 전쟁이 지속되는 한 평화는 보장받지 못한다.

02 평화의 중요성

제시문은 갈등의 폭력과 평화에 대한 관점을 설명하고 있다.

오답 풀이

- ㄴ. 갈등은 평화란 단순히 전쟁이나 분쟁이 없는 상태만을 의미하는 것이 아니라 모든 종류의 폭력이 사라진 상태라고 정의하였다.
- ㄷ. 사회 구조나 문화에 의해 발생하는 폭력까지 제거된 상태는 적극적 평화이다.

이 단원에서 꼭 알아야 하는 자료

갈등의 평화론

갈등은 우리 눈으로 직접 보게 되는 불화라고 할 수 있는 직접적 폭력보다 훨씬 범위가 넓다. 폭력은 사회 구조 속에 달라붙어 있기도 하고 폭력을 정당화하는 문화 속에 스며들어 있기도 하다. 어떤 집단 사이의 갈등을 변형하기 위해서는 새로운 관계 구축 이상의 노력이 필요하며, 집단들은 갈등이 영원히 재생산되지 않도록 변화해야 한다. 대부분의 집단 간 갈등에는 집단 내적인 측면이 존재한다.

자료 풀이 | 노르웨이의 사회학자 갈통은 평화를 단순히 전쟁이나 폭력이 없는 상태로 보지 않았다. 그는 폭력을 눈에 보이는 직접적 폭력뿐만 아니라 사회 구조 속 불평등이나 차별에서 비롯되는 구조적 폭력, 특정 문화가 폭력을 정당화하는 문화적 폭력으로 나누어 설명하였다. 또한 그는 평화를 '소극적 평화'와 '적극적 평화'로 구분하였다. 소극적 평화는 전쟁이나 물리적 충돌이 없는 상태를 의미하고, 적극적 평화는 사회적 정의와 인권이 보장되고 인간다운 삶이 실현되는 상태를 뜻한다. 이러한 평화론을 토대로 갈통은 평화를 단순히 무력 충돌의 부재로 한정하지 않고, 폭력의 다양한 원인을 해소하며 인간의 삶의 질을 높이는 과정으로 이해하였다.

03 국제 사회의 행위 주체

제시문은 코로나바이러스감염증-19 팬데믹에 대응하기 위해 국제 사회가 연대하여 공공재인 백신을 공평하게 배분하고자 한

국제 협력의 실천 사례에 대해 설명하고 있다. ③ 국제 협력은 주권 국가의 이해관계와 무관하게 자연적으로 이루어지는 것이 아니라, 주권 국가의 동의와 이해를 토대로 이루어진다.

04 국제기구

제시문은 국제기구인 국제 연합, 유럽 연합, 세계 무역 기구에 대해 설명하고 있다.

더 알아보기 국제기구	
국제 연합 (UN)	제2차 세계 대전 이후 국제 평화와 안전을 유지하고 인권을 보장하며 경제·사회적 협력을 증진하기 위해 설립된 국제기구
유럽 연합 (EU)	유럽 지역 국가들이 경제적 통합과 정치적 협력을 바탕으로 공동체적 이익을 추구하기 위해 형성한 지역 연합체
세계 무역 기구(WTO)	다자간 협상을 통해 무역 장벽을 낮추고 자유롭고 공정한 국제 무역 질서를 확립하는 것을 목적으로 하는 기구
국제 통화 기금(IMF)	국제 통화 질서를 안정시키고 회원국의 경제 위기 극복을 지원하기 위해 설립된 금융 기구

05 국제적 갈등 시 행위 주체의 역할

제시문은 나고르노-카라바흐 지역의 국제적 갈등 사례를 설명하고 있다. 정부, 국제기구, 비정부 기구, 세계시민 모두 갈등 해결을 위한 각각의 역할을 수행할 수 있다. ③ 국제 사면 위원회는 군사력을 보유하거나 무력 개입을 할 수 없는 비정부 기구이다.

06 비정부 기구

제시문에서 ㉠은 비정부 기구이다. ㉡ 비정부 기구는 국제 사회의 공공 이익을 추구한다.

07 세계 평화를 위한 세계시민으로서의 기여 방안

제시문은 갈등의 평화론을 토대로 세계시민으로서 세계 평화를 위한 기여 방안에 대해 학생들이 답한 내용이다. ㉣ 갈등은 평화를 무력 개입으로 강제할 수 없다고 보았으며 무력 개입은 오히려 폭력의 악순환을 초래한다고 보았다.

08 국제 관계에 대한 다양한 입장

제시문에서 갑은 국제 관계에 대한 이상주의 입장, 을은 현실주의 입장에 대해 설명하고 있다.

오답 풀이

- ① 국제 질서가 세력 균형에 의해 유지된다고 보는 것은 을의 입장에 해당한다.
- ③ 을은 평화 유지에 있어 국제법보다는 힘의 균형과 국익 중심의 외교를 강조한다.
- ④ 을은 제도적 협력만으로 전쟁을 막을 수는 없으며 세력 균형

이 평화 유지의 중요한 조건이라고 본다.

- ⑤ 국제기구를 통한 평화 유지의 필요성을 강조한 것은 갑의 입장에 해당한다.

09 평화의 의미와 평화 실현의 효과

평화는 직접적 폭력이 없는 상태인 소극적 평화와 사회 구조나 문화에 의한 폭력까지 제거된 적극적 평화를 모두 포함한다.

| 채점 기준 |

상	소극적 평화와 적극적 평화의 의미를 이해하고 평화 실현 시 나타나는 긍정적 효과를 두 가지 이상 서술하였다.
중	소극적 평화와 적극적 평화의 의미를 이해하고 평화 실현 시 나타나는 긍정적 효과를 한 가지만 서술하였다.
하	소극적 평화와 적극적 평화의 의미만 서술하였다.

10 평화를 위한 각 행위 주체의 역할

국제기구는 세계 각국의 정부로 구성되는 국제 사회의 행위 주체로서 평화 유지, 경제·사회 협력 등 국제적 목적을 달성하기 위해 구성된 조직체이다. 세계 평화를 위해 국제기구는 국제법을 바탕으로 가입국 간 합의를 통해 의사를 결정하고 행동한다. 비정부 기구는 개인이나 민간단체가 가입하여 자발적으로 활동하는 국제 사회의 행위 주체로, 보편적 가치를 추구하며 인권, 환경, 평화 등의 분야에서 공공의 이익을 실현하기 위해 노력한다.

| 채점 기준 |

상	평화를 위한 국제기구의 역할과 비정부 기구의 역할을 각각 두 가지 이상 서술하였다.
중	평화를 위한 국제기구의 역할과 비정부 기구의 역할을 각각 한 가지씩만 서술하였다.
하	국제기구와 비정부 기구 중 한 주체의 평화를 위한 역할만을 두 가지 이상 서술하였다.

STEP 3 실력 완성 문제

117쪽

01 ① 02 ④ 03 ② 04 ①

01 갈등의 평화론

제시문은 갈등의 평화론에 대해 설명하고 있다. ① 갈등은 세력 균형만으로는 평화를 설명할 수 없으며 구조적, 문화적 폭력까지 해결해야 진정한 평화가 가능하다고 보았다.

02 국제 사회 행위 주체의 역할

갑은 국제기구, 을은 비정부 기구에 대해 설명하고 있다.

오답 풀이

- 나. 비정부 기구는 정부에 의해 설립되거나 법적 강제력을 갖춘 기관이 아니라, 개인과 민간단체의 자발적 참여와 비영리적 목적을 바탕으로 형성된다.

03 평화 실현을 위해 길러야 할 세계시민으로서의 역량

제시문은 세계시민으로서 평화 실현을 위해 길러야 할 역량을 설명하고 있다. 가. 인지적 역량은 정보를 받아들여 비판적으로 분석하고 합리적으로 사고하는 능력이다. 나. 유네스코는 인지적·사회 감성적·행동 실천 역량을 균형 있게 갖추 것을 강조한다.

04 국제 관계에 대한 입장

제시문에서 갑은 국제 관계에 대한 이상주의 입장, 을은 현실주의 입장에 대해 설명하고 있다. 갑에 비해 을은 '국제기구의 역할을 강조하는 정도(X)'는 낮고, '평화 유지를 위해 힘의 균형을 강조하는 정도(Y)'는 높으며, '국력 강화를 강조하는 정도(Z)'도 높다.

더 알아 두기 | 이상주의와 현실주의

이상주의	이상주의는 인간의 이성과 도덕성을 신뢰하여, 국가 간의 협력과 제도적 장치를 통해 국제 평화를 달성할 수 있으며, 국제기구, 국제법을 통해 국가 간 분쟁을 해결할 수 있다고 본다. 즉, 국가 간 상호 의존과 도덕적 책임을 바탕으로 국제 사회의 평화와 질서를 유지할 수 있다는 입장이다.
현실주의	현실주의는 인간이 본질적으로 이기적이며 국가도 자신의 생존과 이익을 우선시한다고 본다. 따라서 국제 사회는 무정부 상태에 가까운 힘의 투쟁의 장이며, 평화는 힘의 균형을 통해 유지될 수 있기 때문에 국제기구나 국제법보다 국가의 군사력과 국력이 더 중요하다고 본다.

3. 남북 분단 및 동아시아 역사 갈등과 세계 평화를 위한 노력

STEP 1 기본 개념 확인 문제

119쪽

- 1 (1) 균정 (2) 동북공정 (3) 내선일체론 2 (1) ○ (2) × (3) ○ (4) × 3 (1) ㄹ (2) ㄱ (3) ㄴ (4) ㄷ

STEP 2 내선 대비 실력 문제

120~122쪽

- 01 ④ 02 ⑤ 03 ④ 04 ⑤ 05 ④ 06 ② 07 ④ 08 ⑤

09 (1) | 예시 답안 | 민족의 동질성을 회복하고 더 나아가 경제적 발전과 번영을 이룰 수 있기 때문이다. 한반도에 평화가 정착되면 세계 평화를 실현하는 데 기여할 수 있기 때문이다. (2) | 예시 답안 | 통일에 대한 올바른 가치관을 형성하고 확산하는 노력을 기울여야 한다. 생활 속에서 작은 실천을 통해 평화적 태도를 함양하는 노력을 기울여야 한다.

10 (1) (가) 중국이 동북공정으로 고구려와 발해 역사를 중국 역사에 편입시킨, (나) 센카쿠 열도(다오위다오)의 영유권과 오키나와 역사 해석을 둘러싼 갈등과 대립 (2) | 예시 답안 | 한·중·일 역사를 공통으로 인식하기 위한 소통 공간을 확대한다. 문화 교류의 장을 활성화하고 상호 협력하는 동반자로서의 신뢰를 형성한다.

01 통일의 필요성

제시문은 학교 통일 교육 실태 조사 결과에 대해 설명하고 있다.

④ 남북 교류 확대와 경제적 협력 가능성을 긍정적으로 평가한 결과는 통일의 필요성을 강조하는 입장에 해당된다.

02 평화 통일을 위한 노력

제시문은 남북 간의 대화와 협력이 평화 통일을 준비하는 과정에서 왜 중요한지에 대한 교사와 학생 간의 대화이다. 무. 남북 간의 대화와 협력을 통한 평화 통일의 중요성에 대한 질문에서 동아시아에서의 주도권 확보와 군사력 강화는 적절한 내용이라고 볼 수 없다.

03 평화 통일을 위한 노력

제시문은 통일의 필요성을 제시하고 이러한 평화 통일을 위해 어떠한 노력을 해야 하는지에 대해 묻고 있다.

오답 풀이

ㄴ. 평화 통일을 이루기 위해서는 통일 문제는 민족 문제이면서 동시에 국제 문제임을 인식해야 한다.

04 동아시아 역사 갈등

제시문은 중국의 동북공정에 대해 설명하고 있다.

오답 풀이

- ① 동북공정은 경제 전략이 아니라 역사·학술 프로젝트로, 평화 정책과 무관하다.
- ② 중국이 한반도 전체를 통합하려 한 것은 아니며, 고구려·발해를 자국 지방사로 편입하려는 역사 왜곡 시도이다.
- ③ 동북공정은 중국 정부 산하 기관이 주도한 연구 사업이다.
- ④ 동아시아 국가 간 교류 강화가 아닌 중국 중심의 역사 해석을 정당화하려는 목적으로 추진되었다.

더 알아 두기 | 동북공정

중국은 2002년부터 동북공정(東北工程) 프로젝트를 추진하였다. 동북공정은 중국 동북 지방의 역사와 문화를 중국사 속에서 체계적으로 정리하려는 시도였다. 이 과정에서 고구려와 발해의 역사를 중국사의 일부로 편입하려 하였고, 이는 한국 고대사의 독자성과 주체성을 훼손하는 문제를 낳았다. 이러한 시도는 한국 사회의 강한 반발을 불러일으켰으며, 한·중 간의 역사 갈등으로 이어졌다. 더 나아가 역사 왜곡은 국제 사회에서도 우려를 자아내어, 객관적인 공동 역사 연구의 필요성이 제기되었다.

05 동아시아 역사 갈등

제시문은 한국, 중국, 일본의 역사 갈등에 대해 설명하고 있다.

오답 풀이

ㄴ. 역사 갈등을 해결하기 위해서는 과거의 역사적 잘못을 부정해서는 안 되며 잘못에 대한 깊이 있는 성찰과 반성이 있어

야만 협력적 방안을 구축할 수 있다.

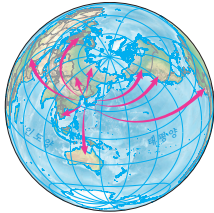
06 한반도의 지정학적 위치

제시문은 한반도의 지정학적 위치 특성에 대해 설명하고 있다.

② 한반도는 지정학적으로 주변국과의 상호 작용이 활발하여 독자적인 발전보다는 끊임없는 교류, 간섭, 갈등이 발생하는 특성을 지니고 있다.

이 단원에서 꼭 알아야 하는 자료

한반도의 지정학적 위치



자료 풀이 | 한반도는 유라시아 대륙의 동쪽에 자리하여 태평양과 접한 지리적 요충지이다. 북쪽으로는 중국과 러시아를 거쳐 유럽 대륙으로 이어지고, 남쪽으로는 태평양을 통해 세계 각국과 연결된다. 이러한 위치 특성으로 인해 한반도는 역사적으로 대륙 세력과 해양 세력이 만나는 접점이자 교류의 통로 역할을 하였다. 그 결과 다양한 문화와 기술을 받아들였으나 동시에 주변 강대국의 침략과 간섭을 받기도 하였다. 따라서 한반도의 지정학적 위치는 교류와 발전의 기회를 제공하는 동시에 갈등과 충돌의 위험도 함께 지니고 있다.

07 세계 평화를 위한 노력

제시문은 한국국제협력단의 활동에 대해 설명하고 있다.

오답 풀이

- ① 한국국제협력단 활동과 군사적 개입은 관련이 없다.
- ② 제시된 한국국제협력단 활동은 개발 도상국의 경제 자립을 돕는 활동으로 과거 식민지 지배를 정당화하는 문제와는 관련이 없다.
- ③ 제시된 한국국제협력단 활동은 특정 국가의 정치 체제를 변경하기 위한 목적으로 무력 개입을 하는 활동과는 관련이 없다.
- ⑤ 제시된 한국국제협력단 활동은 자국 중심의 보호 무역과는 관련이 없다.

08 평화 지수

제시문은 「2023년 세계 평화 지수 보고서」에 의한 평화로운 나라의 순위에 대해 설명하고 있다.

오답 풀이

- ① 군사비 지출이 많으면 군사적 긴장 요인이 커지므로 평화 지수에 부정적인 영향을 준다.
- ② 평화 지수는 단순한 경제 규모보다 사회적 안정, 삶의 질, 인권 보장 등에 더 큰 영향을 받는다.
- ③ 분쟁 위험이 크고 군사적 갈등이 많으면 평화 지수는 낮아진다.
- ④ 민주적 자유와 인권 보장이 미흡하면 평화 지수는 낮아진다.

09 통일의 필요성과 통일을 이루기 위한 노력

한반도 통일은 민족의 동질성을 회복하고 경제적 발전을 이룰 수 있으며 한반도의 평화는 동아시아를 넘어 세계 평화에 이바지할 수 있다. 이를 위해 학생들은 통일의 필요성을 인식하고 일상생활에서 평화적 태도를 함양해야 한다.

채점 기준

상	통일의 필요성과 평화 통일을 위한 학생으로서의 노력을 각각 두 가지 이상 서술하였다.
중	통일의 필요성과 평화 통일을 위한 학생으로서의 노력을 각각 한 가지씩만 서술하였다.
하	통일의 필요성과 평화 통일을 위한 학생으로서의 노력 중 하나만 두 가지 이상 서술하였다.

10 동아시아 역사 갈등

동아시아의 한국, 중국, 일본은 새로운 세계 질서 재편 과정에서 협력과 공존이 필요한 상황이지만 역사적·공간적 측면에서 상호 대립과 갈등을 겪고 있다.

채점 기준

상	동아시아 역사 갈등 사례와 역사 갈등의 해결 방안을 각각 두 가지 이상 서술하였다.
중	동아시아 역사 갈등 사례와 역사 갈등의 해결 방안을 각각 한 가지씩만 서술하였다.
하	동아시아 역사 갈등 사례와 역사 갈등의 해결 방안 중 하나만 두 가지 이상 서술하였다.

STEP 3 실력 완성 문제

123쪽

01 ③ 02 ② 03 ④ 04 ④

01 남북 분단의 배경

제시문은 남북 분단의 대내적·대외적 배경에 대한 교사와 학생 간의 대화 내용이다. ③ 모스크바 3국 외상 회의에서는 한반도의 임시 민주 정부 수립과 이를 돕기 위한 최대 5년간의 신탁 통치 방안을 논의했을 뿐, 즉각적인 총선거와 단일 정부 수립을 결정하지는 않았다.

더 알아보기 | 모스크바 3국 외상 회의

1945년 12월, 제2차 세계 대전 종전 직후 모스크바에서는 미국, 영국, 소련 3국의 외무 장관이 회의를 열었다. 이 회의에서 한반도의 정치적 장래가 논의되었으며 그 주요 결정 사항은 다음과 같았다. 첫째, 한국에 민주적인 임시 정부를 수립한다. 둘째, 임시 정부 수립을 돕기 위해 미·소 공동 위원회를 설치한다. 셋째, 한국을 독립시킬 준비가 완료될 때까지 최대 5년간 신탁 통치를 실시한다.

02 통일에 대한 관점

제시문에서 갑은 통일의 가치와 장기적 이익을 강조하고, 을은 점진적 통일의 필요성을 강조하고 있다.

오답 풀이

- ① 갑은 통일에 대해 국제 문제만을 강조한 것이 아니고, 을도 통일을 민족 내부 문제만으로 한정하지 않았다.
- ③ 갑은 분단의 지속을 바람직하다고 보지 않았으며, 을도 즉각적인 통일을 주장하지 않았다.
- ④ 갑이 통일의 과정에서 발생할 사회적 갈등을 경시했다는 내용에 대해서는 알 수 없으며, 을은 통일에 따른 단기적 위험을 경계했을 뿐 장기적 이익을 전면 부정하지 않았다.
- ⑤ 경제적 부담 때문에 점진적 공존을 강조한 것은 을의 입장에 해당된다.

03 남북 통일의 방안

제시문에서 갑은 갈등, 을은 모젠소의 입장에 대해 설명하고 있다.

오답 풀이

ㄹ. 모젠소의 현실주의 입장에서는 국제기구의 역할보다는 자국의 힘과 안보 중심 접근을 중시한다.

04 동아시아 역사 갈등

제시문은 한·중 간의 역사 갈등에 대해 설명하고 있다.

오답 풀이

- ① 동북공정의 주장에 타협하여 고구려와 발해를 중국사 일부로 수용하는 것은 한국 고대사의 정체성을 포기하는 것이며 역사 왜곡을 인정하는 것이다.
- ② 단기적 외교 갈등 회피를 위해 역사적 진실을 외면하면 역사 왜곡을 고착화하여 장기적으로 더 큰 문제가 발생하게 된다.
- ③ 자국의 역사만을 강조하여 타국의 연구를 전면 배제하는 것은 배타적 태도로 국제적 신뢰를 얻기 어렵고 객관적인 학술 연구가 이루어지기 어렵다.
- ⑤ 연구를 중단하면 역사 왜곡을 바로잡을 근거가 사라지고 정치적 협상만으로는 역사 문제를 해결하는 데 한계가 있다.

대단원 평가 문제

124~127쪽

- 01 ③ 02 ④ 03 ① 04 ② 05 ② 06 ⑤ 07 ③ 08 ②
09 ④ 10 ① 11 ④ 12 ④ 13 ② 14 ⑤ 15 ② 16 ③

01 지리적 표시제

제주 한라봉, 이탈리아의 고르곤졸라 치즈처럼 상품의 품질이나 명성이 지역의 지리적 특성에서 비롯되는 경우 그 지역의 생산품임을 증명하고 표시하는 제도를 지리적 표시제라고 한다.

210 정답과 해설

더 알아 두기 | 지역화 전략

지리적 표시제	상품의 특성과 품질 등에 특정 지역의 기후·지형·토양 등의 지리적 특성이 반영된 경우, 해당 지역에서 생산·제조·가공된 상품임을 표시할 수 있도록 인정해주는 제도
장소 마케팅	특정 장소를 상품으로 인식하고 사람들이 선호하는 이미지를 개발하여 지역의 가치를 상승시키는 홍보 전략
지역 브랜드화	지역의 상품, 축제 등을 브랜드로 만들어 지역을 활성화하는 전략

02 세계도시 뉴욕

맨해튼섬, 엠파이어 스테이트 빌딩, 국제 연합(UN) 본부 등과 관련이 깊은 세계도시는 미국 북동부에 위치한 뉴욕이다. A는 영국의 런던, B는 남아프리카 공화국의 요하네스버그, C는 일본의 도쿄, D는 미국의 뉴욕, E는 브라질의 리우데자네이루이다.

이 단원에서 꼭 알아야 하는 자료

세계도시, 뉴욕



자료 풀이 | 뉴욕은 미국 북동부 뉴욕주 최남단에 위치한 세계도시로, 경제·문화·패션·외교의 중심지이다. 뉴욕은 타임스 스퀘어, 센트럴 파크, 엠파이어 스테이트 빌딩, 자유의 여신상, 브루클린 다리 등의 랜드마크로 유명하며, 국제 연합 본부와 월스트리트가 있다.

03 다국적 기업의 공간적 분업

다국적 기업은 국경을 넘어 세계적으로 생산·유통·판매 활동을 하는 기업으로, 기업의 규모가 커지면서 경영의 효율성을 높여 경쟁력을 확보하고 이윤을 극대화하기 위해 기업의 각 기능이 공간적으로 분리되는 공간적 분업이 나타난다. 다국적 기업은 본사, 연구소, 생산 공장 등을 분리하여 각 기능을 수행하기에 가장 적합한 지역에 배치한다. ① 지도에 표시된 ○○ 사는 자동차를 생산하는 우리나라에 본사를 둔 다국적 기업이다.

04 세계의 빈부 격차

제시된 그래프는 세계 최상위 20개 부국의 1인당 국내 총생산과 세계 최하위 20개 빈국의 1인당 국내 총생산을 비교한 것으로 1980년 53배에서 2023년 106배로 증가한 것을 알 수 있다. 이는 빈부 격차가 확대되었음을 의미한다. 국가 간 빈부 격차를 줄이기 위해서는 선진국의 공적 원조를 늘려야 한다.

오답 풀이

ㄴ. 그래프를 통해 최하위 20개 빈국의 1인당 국내 총생산이 1980년 303달러에서 2023년 688달러로 증가한 것을 알 수 있다.

리. 세계의 부국들이 빈국들보다 제4차 산업 혁명을 통해 경제적 이익을 취하게 될 가능성이 높다.

05 세계화에 따른 문제점과 해결

세계화에 따른 문제점 중 문화의 획일화와 소멸에 대응하기 위해 유네스코는 '문화 다양성 협약'을 체결하였다.

오답 풀이

- ㄱ. 유네스코는 국제 연합(UN) 산하의 국제기구이다.
- ㄴ. 사투리를 줄이기 위한 캠페인 실시는 고유문화를 지키려는 노력에 해당하지 않는다.

06 공정 여행

공정 여행은 여행자에게 현지 문화를 체험하는 의미 있는 경험을 주고, 현지인에게는 실질적인 경제적 혜택이 돌아가게 하는 여행 방식이다. ⑤ 현지 문화를 존중하며 체험하기 위해서는 우리말을 가르쳐 주기보다 여행지의 말을 배우는 것이 바람직하다.

더 알아보기 | 공정 여행 수칙

- 텀블러와 재사용품 사용하기: 일회용 컵·플라스틱 사용을 줄여 환경 오염 방지
- 현지 음식 남기지 않기: 음식물 쓰레기를 줄이고, 현지 농가의 노력을 존중
- 사회관계망(SNS)으로 현지인과 소통하기: 현지 문화를 배우고, 지역 상점이나 서비스를 홍보
- 단거리 이동 수단 선택하기: 탄소 배출을 줄이기 위해 비행기보다 기차나 자전거를 이용
- 현지 상품 구매하기: 대기업 체인점이 아닌 지역 상점에서 기념품이나 음식을 구매
- 자연과 문화유산 보호하기: 생태계 훼손을 막기 위해 지정된 탐방로를 벗어나지 않고, 역사적 장소에서 소음을 줄임.
- 공정 무역 제품 선택하기: 커피, 초콜릿 등 공정 무역 인증을 받은 제품을 구매해 생산자에게 정당한 대가를 지급

07 갈등의 평화론

(가) 사상가는 갈등이다. 갈등은 평화를 직접적 폭력뿐만 아니라 구조적·문화적 폭력까지 사라진 상태로 보았다.

오답 풀이

- ㄱ. 권위주의적 정치 체제는 표현과 참여의 자유를 억압하여 구조적·문화적 폭력을 낳으므로 갈등의 평화론에 적합하지 않다.
- ㄴ. 체제 안정을 위한 국제 사회의 인권 개입 배제는 구조적 폭력을 심화할 수 있으므로 갈등의 평화론에 적합하지 않다.

08 구조적 폭력

제시된 사례는 구조적 폭력에 대한 것이다. 구조적 폭력은 특정 개인이나 집단이 사회 구조나 제도 속에서 제약을 받음으로써 기본적인 욕구를 충족하지 못하는 상황을 말한다. 이는 누군가

의 고의적인 폭력 행위가 없어도, 불평등하게 설계된 제도나 구조로 인해 사람들이 차별과 배제를 경험할 때 발생한다.

오답 풀이

- ① 직접적 폭력은 폭행, 전쟁처럼 겉으로 드러나는 물리적 폭력을 말한다.
- ③ 문화적 폭력은 가치, 이념, 종교, 전통 등을 통해 폭력을 정당화하는 것이다.
- ④ 물리적 폭력은 직접적 폭력과 유사하게 신체에 물리적 피해를 주는 것을 뜻한다.
- ⑤ 개인적 폭력은 개인 간 갈등에서 발생하는 폭력이나 협박을 뜻한다.

09 국제 사회의 행위 주체

㉠에 들어갈 비정부 기구는 국제 사면 위원회이다. 국제 사면 위원회는 전 세계 인권 보호를 위한 활동을 한다.

오답 풀이

- ① 법적 강제력을 바탕으로 국제법을 제정하는 기구는 국제 연합과 같은 국제기구이다.
- ② 국제 사면 위원회는 비영리 단체로 이윤 창출과는 관련이 없다.
- ③ 국제 사면 위원회는 군사력이나 경제력이 아닌 여론과 시민 참여를 통해 영향력을 발휘한다.
- ⑤ 국제 사면 위원회는 정부와 상관없이 독립적으로 활동하는 비정부 기구이다.

더 알아보기 | 국제 사면 위원회

국제 사면 위원회는 1961년에 설립된 비정부 기구(NGO)로, 전 세계 인권 보호를 목적으로 활동한다. 이 단체는 정치적 신념이나 사상, 종교, 인종 등을 이유로 수감된 양심수를 석방하기 위한 운동을 전개하고 고문과 사형 제도의 철폐, 난민과 소수자 인권 보호, 표현과 결사의 자유 보장 등 다양한 인권 문제를 다루고 있다.

10 국제 사회의 행위 주체

(가)에 들어갈 국제기구는 국제 연합이고, (나)에 들어갈 국제기구는 유럽 연합이다.

11 국제 관계에 대한 다양한 입장

제시문의 사상가는 국제 정치에서 이상주의 입장을 대표하는 칸트이다. <문제 상황>은 선진국이 배출한 온실가스로 피해를 겪는 개발 도상국에 대한 지원 방안의 필요성을 설명하고 있다. ④ 국의 보호에 따라 자국의 피해 최소화에 집중하는 것은 현실주의 입장에 해당한다.

12 비정부 기구

제시문은 비정부 기구가 갖추어야 할 조건에 대해 설명하고 있

다. ④ 비정부 기구는 비영리 조직이기 때문에 회원에게 금전적 이익을 분배하지 않는다.

13 헌법에 반영된 통일관

제시문은 우리 헌법의 통일 관련 조항에 대해 설명하고 있다.

오답 풀이

- ㄴ. 통일 과정에서 국제 사회와의 협력을 배제하는 것은 헌법 정신과 충돌하는 것이므로 적합하지 않다.
- ㄷ. 헌법상에서 평화적 통일을 명시하고 있으므로 무력이나 물리적 수단을 통한 통일은 헌법 정신에 어긋난다.

14 통일을 위한 노력

제시문은 남북 간의 대화와 협력 사례에 대해 설명하고 있다.

오답 풀이

- ① 합의한 내용은 군사적 긴장 완화를 지향하므로 무력 충돌 가능성을 낮춘다고 볼 수 있다.
- ② 합의한 내용은 남북한이 자주적 원칙과 평화적 합의를 확인한 사례이므로 외세 개입 확대와는 관련이 없다.
- ③ 합의한 내용은 군사적 긴장 완화와 평화 체제 구축을 추구하므로 대결 구조를 고착화하는 것이 아니라 대결 구조를 해소한다고 볼 수 있다.
- ④ 합의한 내용은 평화적 통일을 전제하고 있으므로 강압적 수단과는 관련이 없다.

15 남북 분단의 배경

제시문은 남북 분단의 배경에 대한 교사와 학생 간의 대화 내용이다.

오답 풀이

- ① 일본의 침략과 식민지 지배 정책은 분단의 직접적 원인이라기보다는 광복 이전의 국가가 처한 상황이다.
- ③ 국제 연합의 개입이 있었지만 합의점을 이루지 못해서 분단이 되었으므로 적합한 설명이 아니다.
- ④ 국내 정치적 요인은 일부 원인이지만, 냉전이라는 대외적 배경을 무시했으므로 적합한 설명이 아니다.
- ⑤ 미국의 영향은 컸지만, 소련의 정책과 냉전 구도가 함께 작용했으므로 적합한 설명이 아니다.

16 동아시아 역사 갈등

제시된 지도는 동아시아의 역사 갈등 사례를 보여 준다.

오답 풀이

- ㄱ. 동아시아 갈등은 역사 해석의 차이에서만 비롯된 것이 아니라 자원, 안보, 정치 요소 등이 결합되어 발생하였다.
- ㄴ. 동북공정은 과거 역사를 통해 현재의 영토와 국가 정체성을 강화하려는 중국의 국가 전략으로, 군사 행동을 수행한 사례가 아니다.

V 미래와 지속가능한 삶

1. 인구 문제의 양상과 해결 방안

STEP 1 기본 개념 확인 문제

133쪽

- 1 (1) 온대 (2) 자연적, 사회적 (3) 아프리카 2 (1) ○ (2) ○ (3) ×
3 (1) ㉠ (2) ㉡ 4 (1) ㄹ (2) ㄷ (3) ㄴ (4) ㄱ

STEP 2 내신 대비 실력 문제

133~137쪽

- 01 ④ 02 ④ 03 ④ 04 ② 05 ② 06 ② 07 ③ 08 ②
09 ⑤ 10 ⑤ 11 ⑤ 12 ② 13 ① 14 ①

15 (1) 해수면 (2) | 예시 답안 | 인구의 이동에는 경제적 이동, 정치적 이동, 환경적 이동이 있는데, 해수면 상승으로 투발루 국민이 이주하는 것은 환경적 이동에 해당한다.

16 (1) 저출산·고령화 (2) | 예시 답안 | 저출산 문제에 대응하기 위해서는 자녀 양육 수당을 지급할 수 있고, 고령화 문제에 대응하기 위해서는 노인 일자리 프로그램을 시행할 수 있다.

01 중국과 인도의 인구 변화

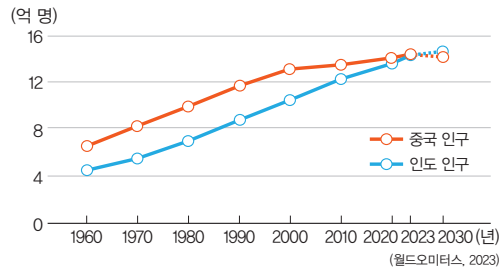
2023년 기준 인구 12억 명을 넘는 두 국가는 중국과 인도이다. 2020년 즈음까지도 세계에서 인구가 가장 많았던 국가는 중국이었으나, 최근 인도가 중국의 인구를 추월하였다. 따라서 A는 중국, B는 인도이다.

오답 풀이

미국의 인구는 약 3억 3,680만 명이다.

이 단원에서 꼭 알아야 하는 자료

중국과 인도의 인구 변화



자료 풀이 | 세계 인구 약 80억 명 중에 약 30억 명 정도의 인구가 인도와 중국에 거주한다. 2023년 기준 인도의 인구는 약 14억 3,806만 명이고, 중국의 인구는 약 14억 1,071만 명이다. 원래 중국이 인구 1위 국가였으나, 중국의 한자녀 정책 결과 인도가 인구 1위 국가가 되었다. 인도의 합계 출산율은 1.98명으로 중국의 1.00명에 비해 두 배 가까이 높으므로, 앞으로 인도와 중국의 인구 격차는 더 커질 전망이다.

02 세계의 인구 분포

세계에서 자연환경의 여건이 인간 거주에 유리하거나 상공업이 발달한 지역은 인구 밀도가 높은 반면, 자연환경의 여건이 인간 거주에 불리한 지역은 인구 밀도가 낮다. 중국 동부 지역은 서부 지역보다 인구 밀도가 높는데, 이는 동부 지역이 서부 지역보다 농업을 비롯하여 제조업과 서비스업이 발달했기 때문이다.

오답 풀이

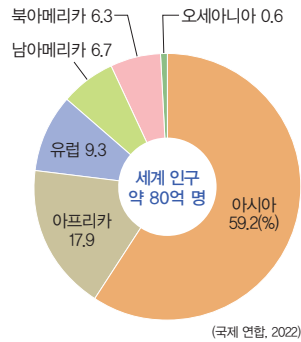
- ① 캐나다는 미국보다 인구 밀도가 낮다.
- ② 북부 아프리카 지역은 사하라 사막이 분포하여 인구가 희박하다.
- ③ 대도시는 인구 조밀 지역에 주로 위치한다.
- ⑤ 오스트레일리아는 해안 지역이 내륙 지역보다 인구 밀도가 높다.

03 지역(대륙)별 인구 비중

세계에서 인구가 가장 많은 지역(대륙)은 아시아이고, 아시아 다음으로 아프리카, 유럽 순으로 인구가 많다. 따라서 A는 아시아, B는 아프리카, C는 유럽이다.

이 단원에서 꼭 알아야 하는 자료

지역(대륙)별 인구 비중



자료 풀이 | 세계 인구를 지역(대륙)별로 보면 세계 인구의 약 60% 정도를 아시아가 차지하고 있으며, 아프리카, 유럽의 순으로 인구가 많다. 인구 증가율을 고려할 때 세계 인구에서 아프리카가 차지하는 비중은 점차 높아질 전망이다 반면, 유럽이 차지하는 비중은 점차 낮아질 전망이다.

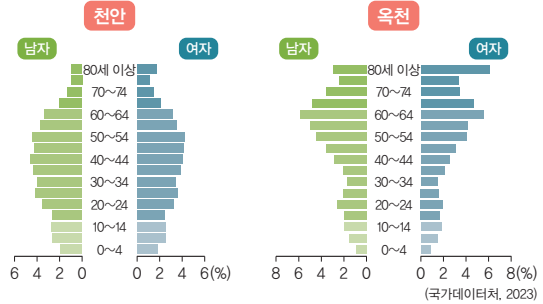
04 선진국과 개발 도상국의 인구 구조

두 국가 중 (가)는 유소년층 인구 비율이 상대적으로 높은 개발 도상국이고, (나)는 노년층 인구 비율이 상대적으로 높은 선진국이다. 개발 도상국과 비교할 때 선진국은 출생 시 기대 수명이 길고, 인구 100,000명당 의사 수가 많다.

오답 풀이

- ㄴ. 선진국은 개발 도상국보다 1인당 국내 총생산이 많다.
- ㄹ. 선진국은 개발 도상국보다 총인구에서 유소년층 인구가 차지하는 비율이 낮다.

더 알아보기 | 도시와 촌락의 인구 피라미드



도시 지역은 노년층 인구 비율이 낮고, 촌락 지역은 노년층 인구 비율이 높다. 즉, 촌락 지역은 도시 지역에 비해 고령화 현상이 심각하여 노년층 인구 비율이 높다. 이를 토대로 할 때 천안은 도시 지역이고, 옥천은 촌락 지역임을 알 수 있다.

05 인구이동의 유형

인구이동은 대체로 경제적·정치적 요인에 의해 발생한다. 경제적 이동은 주로 개발 도상국의 인구가 경제 수준이 높은 선진국으로 이동하는 경우이고, 정치적 이동은 국가 간의 전쟁, 국내의 정치적 분쟁 등의 이유로 국경을 넘어 인구가 이동하는 경우이다. 이 밖에도 환경의 변화에 따라 인구가 이동하는 환경적 이동이 있다. 따라서 ㉠은 경제적 이동이고, ㉡은 정치적 이동이다.

오답 풀이

- ①, ③, ④ 종교적 이동은 종교적 박해를 피해 다른 지역으로 이주하는 것을 말한다.

06 세계의 인구이동


지도를 통해 세계의 인구이동에서 경제적 이동이 정치적 이동보다 활발한 것을 알 수 있고, 이주 노동자가 많이 유입되는 것으로 보아 서남아시아의 여러 국가가 노동력 부족 현상을 겪고 있음을 알 수 있다. 우리나라로의 이주는 경제적 이동이 주를 이루므로 난민 및 망명 신청자보다 이주 노동자의 수가 많고, 경제적 이동은 대체로 개발 도상국에서 선진국으로 인구가 이동함을 알 수 있다. ② 지도를 보면 경제적 이동은 거리와 직접적인 관련이 없지만, 정치적 이동은 인접국으로 이동하는 경우가 많아 평균 이동 거리가 짧음을 알 수 있다.

07 지역(대륙)별 인구의 순이동

그래프의 A~C는 아시아, 아프리카, 앵글로아메리카 중 하나인데, 이들 중 선진국의 비율이 높은 앵글로아메리카는 인구 순유입이 나타나므로 C이다. 아프리카와 아시아 중에서는 인구 규모가 큰 아시아가 아프리카보다 인구 순유출이 많으므로 B는 아시아이고, A는 아프리카이다.

이 단원에서 꼭 알아야 하는 자료

지역(대륙)별 인구 순이동



자료 풀이 | 인구 순이동이란 유입 인구에서 유출 인구를 뺀 것으로, 인구 순이동이 '+'이면 이동에 의해 인구가 증가한 것을 의미하고, '-'이면 이동에 의해 인구가 감소한 것을 의미한다. 앵글로 아메리카, 유럽, 오세아니아는 인구 순이동이 '+'이고, 아프리카, 아시아, 라틴 아메리카는 인구 순이동이 '-'이다.

08 선진국의 인구 문제

합계 출산율과 유소년층 부양비가 낮고, 기대 수명은 길며, 노령화 지수가 높은 국가는 선진국이다. 선진국은 세대 간 일자리 경쟁이 심하고, 노인 부양에 대한 재정적 부담이 커지고 있다.

오답 풀이

- 나. 유소년층 인구 비율이 낮아지고 있다.
- 다. 저출산으로 인해 초등학교의 학급별 학생 수가 줄어들고 있다.

더 알아 두기 | 인구 관련 주요 개념

- **합계 출산율**: 한 여성이 가임 기간에 낳을 것으로 기대되는 아이의 수로, 선진국은 낮고 개발 도상국은 높은 편임.
- **기대 수명**: 0세 출생자가 앞으로 생존할 것으로 기대되는 평균 생존 연수로, 선진국은 높고 개발 도상국은 낮은 편임.
- **유소년층 부양비**: 유소년층 인구를 청장년층 인구로 나눈 후 100을 곱한 값으로, 선진국은 낮고 개발 도상국은 높은 편임.
- **노령화 지수**: 노년층 인구를 유소년층 인구로 나눈 후 100을 곱한 값으로, 선진국은 높고 개발 도상국은 낮은 편임.

09 개발 도상국의 인구 특성

제시된 포스터에는 '더 나은 삶을 위해 가족계획을 하세요.'라는 메시지가 담겨 있는데, 이를 통해 해당 국가가 합계 출산율이 높은 개발 도상국임을 알 수 있다. 개발 도상국은 도시화 속도가 빠르기 때문에 인구 과잉에 따른 도시 문제가 심각하다. 또한 개발 도상국은 유소년층 부양비가 노년층 부양비보다 높다.

오답 풀이

- ㄱ. 개발 도상국은 인구가 증가하고 있다.
- 나. 개발 도상국은 경제 발전 수준이 낮기 때문에 경제적 이유로 유입된 인구가 많다고 보기 어렵다.

10 선진국과 개발 도상국의 인구 특성

그림에서 (가)는 소득 수준이 높은 선진국이고, (나)는 소득 수준이 낮은 개발 도상국이다. 개발 도상국은 선진국에 비해 합계 출산율과 유아 사망자 비율이 높게 나타난다.

오답 풀이

- ㄱ. 개발 도상국은 선진국보다 의료 수준이 낮아 기대 수명이 짧다.
- 나. 개발 도상국은 선진국보다 노년층 인구 비율이 적기 때문에 노년층 부양비가 낮다.

11 덩크족과 다자녀 대가족

(가)는 일하는 부부로 이루어진 덩크족이고, (나)는 자녀가 두 명 이상인 다자녀 대가족이다. 최근에는 다자녀 대가족보다 덩크족이 늘고 있다.

오답 풀이

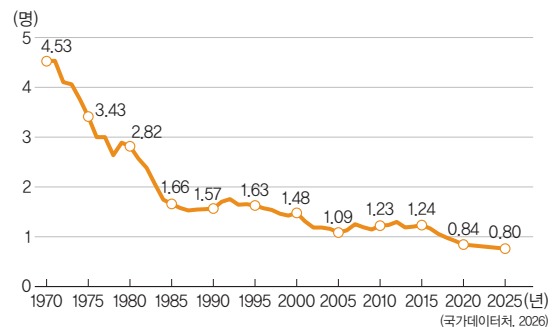
- ① 덩크족은 자녀를 가지지 않는다.
- ② 덩크족보다 다자녀 대가족의 가족 구성원 수가 많다.
- ③ 아파트 청약 시 혜택은 다자녀 대가족에게 많이 주어진다.
- ④ 덩크족은 주로 도시에서 볼 수 있고, 다자녀 대가족은 도시와 촌락 모두에서 보기 어려워졌다.

12 합계 출산율의 하락

그래프를 보면 저출산으로 인해 합계 출산율이 지속적으로 낮아져, 1980년대 중반을 넘어서면서 합계 출산율이 대체 출산율 아래로 떨어졌다. 저출산으로 인해 생산 가능 인구가 감소하면서 노동력 부족 문제가 발생하고 있다. 또한 고령화 문제가 가속화하고 있고, 국가의 잠재 성장률 하락과 같은 현상이 나타나고 있다. ② 의료 및 보건 기술의 발달로 기대 수명은 증가하고 있다.

이 단원에서 꼭 알아야 하는 자료

우리나라의 저출산 현상



자료 풀이 | 우리나라는 2025년 기준 한 여성이 0.80명을 낳고 있는데, 남성이 아이를 낳지 못하는 것과 아이들이 성장 과정에서 사고나 질병 등으로 죽는 것을 감안하면 한 여성이 2.1명 이상은 낳아야 인구가 유지될 수 있다. 인구의 사회적 증감을 고려하지 않는다면 현재의 합계 출산율을 유지할 경우, 우리나라는 앞으로 인구가 줄어들고 소멸할 가능성이 있다.

13 우리나라의 저출산·고령화 현상

우리나라는 합계 출산율이 세계 최저 수준인데, 합계 출산율은 한 여성이 가임 기간 동안 낳을 것으로 기대되는 아이의 수이다. 고령화율은 세계 최고 수준에 이를 것으로 예상되는데, 고령화율은 전체 인구에서 고령 인구가 차지하는 비율이다.

오답 풀이

- ㉔. 합계 출산율은 출산 장려 정책에도 불구하고 낮아지는 추세이고, 고령화율은 기대 수명이 늘면서 높아지고 있는 추세이다.
- ㉕. 남성 육아 휴직제는 출산 장려 정책이다.

14 우리나라의 인구 분포 불균형

우리나라는 수도권과 비수도권, 도시와 촌락 간 인구 분포의 불균형 문제가 나타난다.

오답 풀이

- ② 제시문을 통해 무허가 건축물의 증가를 파악할 수 없다.
- ③ 제시문을 통해 고급 인력의 해외 유출을 파악할 수 없다.
- ④ 제시문에는 청장년층과 노년층 간의 갈등이 나타나 있지 않다.
- ⑤ 제시문에서 지방의 생활 기반 시설 확충을 언급하고 있기는 하지만, 핵심 내용은 인구 분포의 불균형에 대한 것이다.

더 알아 두기 | 수도권의 인구 집중 해소 방안

- 비수도권 거점 도시 육성: 광역시를 글로벌 경쟁력을 가진 도시로 발전시켜 청년층의 지역 정착을 유도해야 함.
- 일자리와 교육 인프라 개선: 지방 기업의 연구 개발 투자 확대와 지역 특화 산업 육성을 통해 양질의 일자리를 창출해야 함.
- 교통망 확충: 수도권과 지방을 연결하는 고속 철도와 광역 교통망을 강화해 물리적 거리를 줄여야 함.

15 기후변화와 인구이동

지구 온난화로 인해 빙하가 녹으면서 해수면이 상승하고 있다. 이 때문에 섬나라인 투발루는 국토가 침수되면서 국민이 이주하고 있는데, 이는 환경적 이동에 해당한다.

| 채점 기준 |

상	인구의 이동 유형을 구분하고, 이를 바탕으로 투발루 국민의 이주를 환경적 이동이라고 서술하였다.
중	투발루 국민의 이주를 환경적 이동이라고만 서술하였다.
하	투발루 국민의 이동 유형을 서술하지 못하였다.

16 우리나라의 인구 문제

우리나라는 세계에서 합계 출산율이 가장 낮은 나라 중 하나이고, 고령화 진행 속도가 가장 빠른 나라 중 하나이다. 저출산 문제에 대응하기 위해서는 출산 장려 정책을 적극적으로 시행해야 하고, 고령화 문제에 대응하기 위해서는 노인 복지 정책을 적극적으로 시행해야 한다.

| 채점 기준 |

상	저출산·고령화 문제에 대한 대응 방안을 모두 서술하였다.
중	저출산·고령화 문제에 대한 대응 방안을 한 가지만 서술하였다.
하	저출산·고령화 문제에 대한 대응 방안을 서술하지 못하였다.

STEP 3 실력 완성 문제

138~139쪽

01 ③ 02 ⑤ 03 ② 04 ② 05 ⑤ 06 ① 07 ⑤ 08 ⑤

01 세계의 인구 성장

산업화가 비교적 늦게 시작된 개발 도상국에서는 제2차 세계 대전 이후인 20세기 중반부터 인구가 빠르게 늘었으므로, 앞으로는 아시아와 아프리카 등지의 개발 도상국이 세계의 인구 증가를 주도하게 될 전망이다.

오답 풀이

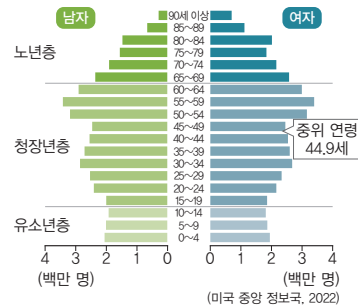
- ㉔. ㉕. 유럽과 북아메리카는 산업화가 비교적 일찍 이루어져 선진국의 비율이 높다.

02 선진국의 인구 문제

선진국에 해당하는 독일의 인구 구조는 유소년층의 인구 비율이 낮고 노년층의 인구 비율이 높다. 독일은 여성의 활발한 사회 진출과 자녀에 관한 가치관 변화 등으로 인해 출생률이 낮고, 경제 생활 수준이 높고 의료 기술이 발달하여 기대 수명이 길고 중위 연령이 높다.

이 단원에서 꼭 알아야 하는 자료

독일의 인구 구조



자료 풀이 | 독일은 저출산으로 인해 인구가 감소하고 있는 국가이다. 독일의 저출산은 여성의 활발한 사회 진출과 자녀에 대한 가치관 변화와 관련이 깊으며, 고령화는 의료 기술 발달과 높은 경제생활 수준과 관련이 깊다. 독일은 일찍부터 부족한 생산 가능 인구를 튀르키예와 동유럽의 여러 국가로부터 확보해 왔다.

03 세계의 인구 분포

전 세계 인구는 북반구에 많이 거주하며, 인도와 중국이 위치한

아시아에 절반 이상이 집중되어 있다. 따라서 ㉔에는 아시아가 들어갈 수 있다.

오답 풀이

- ① 북반구가 남반구보다 육지 면적이 넓다.
- ③ 벼의 기원지는 동남아시아인 것으로 알려져 있다.
- ④ 산업 혁명은 공장제 기계 공업의 발달에서 비롯되었다.
- ⑤ 아마존 분지는 남아메리카에 위치한다.

04 인구 변천 모형

인구 변천 모형에서 1단계는 산업화 이전의 전통 사회에서 주로 나타나며, 출생률과 사망률이 모두 높아 인구 증가율이 낮다. 산업화가 진전되면서 인구 증가율이 높아졌으나, 고도의 산업화가 이루어진 4단계에 들어서면서 출생률과 사망률이 모두 낮아져 인구 증가율은 낮아진다. 따라서 ㉓은 1단계, ㉔은 4단계에 해당한다.

05 인구 분포의 지역 차

지도의 (가)는 건조 기후가 나타나는 몽골의 초원이고, (나)는 온대 기후가 나타나는 중국의 상하이이다. 대도시인 중국의 상하이는 몽골의 초원 지역보다 2·3차 산업 종사자 비율이 높다.

오답 풀이

- ① 몽골의 초원 지역은 중국의 상하이보다 인구 밀도가 낮다.
- ② 몽골의 초원 지역은 건조 기후가 나타나고, 중국의 상하이는 온대 기후가 나타난다.
- ③ 대도시인 중국의 상하이가 다른 지역과의 경제 교류가 활발하다.
- ④ 건조 기후가 나타나는 몽골의 초원 지역이 연 강수량이 적다.

06 우리나라의 인구 문제

영국의 인구학자 콜먼에 따르면 경제 성장을 이룬 동아시아 국가들의 합계 출산율이 낮은 원인으로 과도한 업무 문화, 가부장적 가족주의, 낮은 양성평등 지수, 경쟁 중심의 교육 환경 등을 지적하였다. ① 잦은 자연재해를 저출산 현상의 원인이라고 보기는 어렵다.

07 주요 국가의 합계 출산율 변화

그래프에 제시된 국가 모두 저출산 현상을 겪고 있다. 그래프를 통해 일본은 프랑스보다 1950~2022년 합계 출산율의 감소 폭이 큰 것을 알 수 있다.

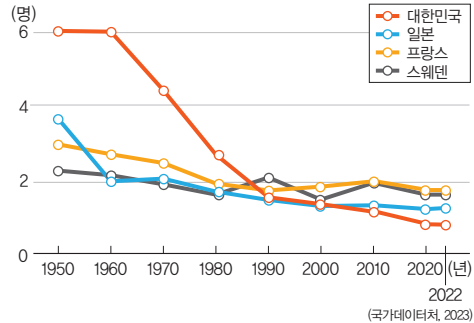
오답 풀이

- ① 네 국가 중 고령화 속도는 우리나라가 가장 빠르다.
- ② 1인당 국내 총생산과 합계 출산율은 직접적으로 관련짓기 어렵다.
- ③ 이주민의 유입이 없다면 네 국가 모두 인구의 자연 감소가 나타날 것으로 전망된다.

④ 네 국가 중 1950년의 합계 출산율은 우리나라가 가장 높았다.

이 단원에서 꼭 알아야 하는 자료

선진국의 저출산 현상



자료 풀이 | 우리나라와 더불어 일본, 프랑스, 스웨덴 등에서는 저출산 현상이 심화하고 있다. 저출산 현상은 선진국에서 보편적으로 나타나는데, 최근에는 우리나라를 비롯한 일본, 싱가포르 등 아시아의 선진국에서 두드러지게 나타나 관심의 대상이 되고 있다.

08 고령화 대책

2025년 우리나라는 65세 이상 인구가 20%를 돌파하여 고령 사회로 접어든 지 7년 만에 초고령 사회로 진입할 것으로 예상된다. 이와 관련하여 정부는 노인을 위한 고용과 일자리를 지원하고 노령 연금 지급 등 복지 시스템을 확충해야 한다.

오답 풀이

- ㄱ. 정부와 기업은 정년을 연장하여 노년층 인구의 고용을 보장해야 한다.
- ㄴ. 대도시에 보육 시설을 확충하는 것은 저출산 대책이다.

㉔ 알아 두기 | 우리나라의 저출산·고령화 대책

정부는 저출산에 따른 문제를 해결하기 위해 각종 출산 장려 정책을 시행하고 있다. 정부는 출산 및 양육 지원금을 주고 보육 시설을 확충하고 있으며, 육아 휴직 제도를 실시하고 있다. 또한 정부는 기초 연금 등 노인 복지 제도를 통해 고령화에 대응하고 있다. 정부는 정년 연장 및 재취업 기회 확대를 통해 노인들의 경제적 기회를 확대하고 있다.

2. 자원 소비와 지속가능한 발전

STEP 1 기본 개념 확인 문제

143쪽

- 1 (1) 자원 (2) 재생 (3) 유한성, 편재성 2 (1) ○ (2) ○ (3) ○
- 3 (1) ㉔ (2) ㉔ 4 (1) ㄷ (2) ㄴ (3) ㄱ

- 01 ③ 02 ① 03 ① 04 ④ 05 ⑤ 06 ③ 07 ⑤ 08 ①
 09 ② 10 ③ 11 ② 12 ④ 13 ① 14 ③

15 (1) 석유 (2) 예시 답안 | 석유는 세계 에너지 소비 구조에서 차지하는 비율이 가장 높는데, 석유의 과다한 사용은 환경 파괴를 가져오며 자원 고갈의 위험도 유발할 수 있다.

16 (1) 지속가능발전 목표 (2) 예시 답안 | 7번째 목표인 '모두를 위한 에너지 보장'이 에너지와 관련된 목표이다. 이 목표를 달성하기 위해서는 적절한 가격의 신뢰할 수 있는 지속가능한 에너지의 제공을 보장해야 한다.

01 전기 자동차의 증가에 따른 변화

제시된 자료에 따르면 전체 자동차 대수에서 전기 자동차가 차지하는 비율이 2020년 2%에서 2040년 60%를 넘을 것으로 전망된다. 전기 자동차 대수가 늘어나면서 전기 자동차의 충전 시설이 증가할 것이고, 내연 자동차의 생산 및 판매량이 감소할 것이다.

오답 풀이

- ㄱ. 전기 자동차가 증가하면 석유 연료에 대한 의존도가 낮아질 것이다.
- ㄴ. 전기 자동차의 증가로 내연 자동차가 줄면서 자동차에서 배출되는 대기 오염 물질이 감소할 것이다.

02 자원의 특성

자원은 과학기술의 발달과 사회적·문화적 배경에 따라 그 가치가 달라지는 가변성이 있고, 매장량에 한계가 있어서 고갈될 수 있는 유한성을 가지고 있으며, 특정 지역에 치우쳐 분포하는 편재성을 지닌다. 따라서 ㉠은 가변성, ㉡은 유한성, ㉢은 편재성이다.

03 화석 에너지

화석 에너지 자원은 오래전에 땅속에 묻힌 동식물의 유해로 만들어진 화석에서 얻은 연료이다. 인류가 많이 사용하는 화석 에너지 자원에는 석유, 석탄, 천연가스가 있다.

오답 풀이

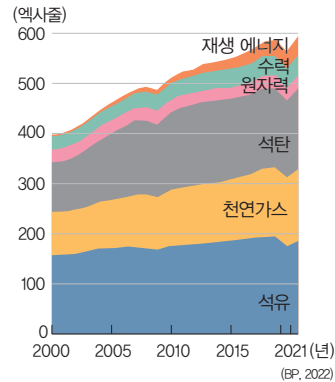
- ㄷ, ㄹ. 수력과 풍력은 재생 에너지이다.

04 세계의 에너지 소비 구조

세계의 에너지 소비 구조에서 소비량 1~3위를 차지하는 것은 모두 화석 에너지이다. 석탄, 석유, 천연가스 중에서 소비량이 가장 많은 (다)는 석유이고, 석유 다음으로 소비량이 많은 (가)는 석탄이며, 나머지 (나)는 천연가스이다.

이 단원에서 꼭 알아야 하는 자료

세계 에너지 소비 구조



자료 풀이 | 세계 에너지 자원의 소비 구조는 석유>석탄>천연가스>재생 에너지>수력>원자력 순인데, 최근 재생 에너지의 비율이 빠른 속도로 높아지고 있다.

05 석탄의 생산과 이동

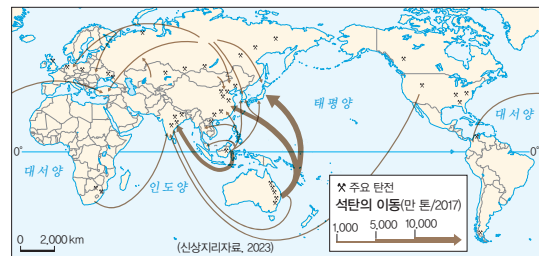
주요 수출국에 인도네시아와 오스트레일리아가 있고, 주요 수입국에 동아시아 3개국이 포함되어 있는 에너지 자원은 석탄이다. 석탄은 산업 혁명에 주요 에너지 자원으로 이용되었다.

오답 풀이

- ①, ②, ④ 석유에 대한 설명이다.
- ③ 원자력에 대한 설명이다.

이 단원에서 꼭 알아야 하는 자료

석탄의 분포와 이동



자료 풀이 | 석탄은 18세기 산업 혁명 이후 증기 기관의 연료로 사용되었으며, 현재에도 제철 공업이나 화력 발전의 에너지원으로 많이 이용된다. 석탄은 유럽, 북아메리카, 중국, 인도, 오스트레일리아 등에 많이 매장되어 있는데, 석유보다 비교적 널리 분포하고 있다. 주요 석탄 소비국은 중국, 인도, 미국, 일본 등이다.

06 석유와 천연가스

화석 에너지 중에서 석탄은 중국의 생산량과 소비량이 가장 많고, 석유와 천연가스는 미국의 생산량과 소비량이 가장 많다. 석유와 천연가스 중 러시아가 생산량 및 소비량 상위권을 차지하는 (나)는 천연가스이고, 사우디아라비아가 상위권을 차지하는

(가)는 석유이다. 석유는 세계에서 소비량이 가장 많은 에너지 자원이고, 천연가스는 냉동 액화 기술의 발달로 소비량이 급증하였다.

오답 풀이

- ㄱ. 고체 상태로 주로 매장되어 있는 화석 에너지 자원은 석탄이다.
- ㄴ. 산업 혁명기에 증기 기관의 연료로 많이 이용된 화석 에너지 자원은 석탄이다.

07 북극해의 자원을 둘러싼 갈등

최근 기후변화로 북극의 빙하가 녹으면서 북극해 주변에 매장되어 있는 에너지 자원에 대한 관심이 커지고 있다. 이를 두고 미국, 러시아, 캐나다, 덴마크, 노르웨이 등 북극해 연안 국가가 영유권 싸움을 벌이고 있다. ⑤ 인도네시아는 북극해의 자원 개발과 관련이 없는 국가이다.

08 신재생 에너지

지도에서 중국의 생산량이 가장 많고, 러시아, 노르웨이, 캐나다, 브라질 등에서 활발히 생산되는 A는 수력이다. 서부 유럽에 위치한 독일, 영국 등에서 국가 내 생산량 비율이 높은 B는 풍력이다. 나머지 C는 태양광·열에 해당한다.

이 단원에서 꼭 알아야 하는 자료

신재생 에너지

발전량(천 GWh) 2,000, 500, 100, 50

종류: 바이오, 수력, 풍력, 태양광·열

(국제 재생 에너지 기구, 2023)

자료 풀이 | 신재생 에너지를 판별할 때는 특정 에너지의 생산량 비율이 높은 국가를 주목하는 것이 좋다. 노르웨이, 러시아, 캐나다, 브라질은 수력의 비중이 높다. 지열의 경우 수력, 풍력, 태양광·열에 비해 전체적으로 비율이 낮는데, 튀르키예에서 상대적으로 높게 나타난다. 풍력과 태양광·열의 경우 영국과 독일을 통해 판별하는 것이 좋다. 편서풍이 강하게 부는 영국과 독일의 경우 전체 신재생 에너지의 약 50% 정도를 풍력에 의존한다. 지도에 나타나 있지 않지만 아이슬란드는 지열에 대한 의존도가 매우 높고, 덴마크의 경우 풍력에 대한 의존도가 매우 높으며, 북부 아프리카 등지는 태양광·열에 대한 의존도가 매우 높다.

09 지구 온난화의 대책

제시문은 화석 에너지 사용에 따른 지구 기온 상승에 대해 서술하고 있다. 지구 기온 상승을 완화하기 위해서는 온실가스 배출

량을 감소시키는 것이 가장 중요하다. 이를 위해 화석 에너지 자원의 소비를 줄이고, 친환경 신재생 에너지의 사용을 늘리려고 노력해야 한다.

오답 풀이

- ㄴ. 지구의 기온 상승을 완화하기 위해서는 냉난방용 가전 기기의 이용을 줄이는 것이 바람직하다.
- ㄷ. 지구의 기온 상승을 완화하기 위해서는 화석 연료를 사용하는 내연 기관 자동차에 대한 의존도를 낮추고 전기 자동차 등을 이용하는 것이 바람직하다.

10 지속가능한 발전을 위한 친환경 농업

기후변화에 대응하고 인간 중심의 농업에서 자연 중심의 농업으로 전환하기 위해 대안 농업이 관심을 받고 있다. 대안 농업은 석유를 이용한 농기계 작동이나 석유를 이용해 만드는 화학 비료 및 살충제 등의 사용을 최소화하는 것을 목표로 한다. 따라서 ㉠에 들어갈 에너지 자원은 석유이다.

오답 풀이

- ① 석탄은 제철 공업이나 화력 발전의 에너지원으로 이용된다.
- ②, ④ 수력과 풍력은 재생 에너지이다.
- ⑤ 원자력은 원자핵이 붕괴할 때 생기는 열에너지로 전기를 얻는다.

11 지속가능한 발전과 국가의 역할

제시문의 탄소중립 선언, 환경 개선 부담금 부과 등은 국가가 할 수 있는 역할에 해당한다. 태양광·열, 풍력, 수소 등의 신재생 에너지 자원은 고갈의 위험이 없다.

오답 풀이

- ㄴ. 염화 플루오린화 탄소는 오존층 파괴를 직접적으로 유발하는 화학 물질로 프레온 가스가 대표적이다. 탄소중립은 화석 에너지 사용의 최소화를 통해 탄소의 실질 배출량을 '0'으로 만드는 것을 목표로 한다.
- ㄷ. 환경 개선 부담금은 환경 오염을 유발한 기업이나 개인에게 부과한다.

12 지속가능한 발전을 위한 개인의 노력

지속가능한 발전을 위해 개인은 일상생활에서 에너지를 절약하고 일회용품의 사용을 줄이며 재사용이 가능한 제품을 소비하는 습관을 길러야 한다. 또한 자원의 효율적 사용을 위해 폐기물의 양을 줄이고, 재활용품 분리배출 및 수거에 적극적으로 참여해야 한다.

오답 풀이

- ㄴ. 종이 타월 대신에 손수건을 사용하는 것이 지속가능한 발전을 위해 바람직하다.

13 자원의 가변성

자원은 가변성을 가지고 있는데 자연물 중 하나였던 은행잎에서 추출한 천연 물질이 혈액 순환 개선제로 사용되기 시작한 것은, 자연이 기술적 의미의 자원을 거쳐 경제적 의미의 자원으로 바뀐 사례이다. 자료의 A가 이에 해당한다.

14 자원의 분류

재생 자원의 사례로는 태양광, 풍력 등이 있고, 비재생 자원의 사례로는 석유, 석탄 등이 있다.

더 알아두기 | 재생 가능성에 따른 자원의 분류

- 재생 불가능한 자원(비재생 자원, 고갈 자원): 인간이 사용함에 따라 점차 고갈되며 재생이 거의 불가능하거나 생성 속도가 매우 느린 자원 **예** 석유, 석탄, 천연가스 등
- 재생 가능한 자원(재생 자원, 순환 자원): 인간의 사용량과 상관 없이 지속적으로 공급되거나 순환되는 자원 **예** 수력, 조력, 지열, 풍력, 태양광·열 등
- 사용량과 투자 정도에 따라 재생 수준이 달라지는 자원: 사용량 조절 및 재활용 여부에 따라 재생 가능성이 달라지는 자원 **예** 구리, 철광석 등

15 석유의 특성

가방, 신발, 바지, 필기구, 스마트폰 등을 만드는 데 이용되는 자원은 석유이다. 석유는 오늘날 세계에서 가장 많이 사용되는 에너지 자원으로, 석유의 과도한 사용은 자원 고갈과 함께 환경 오염을 유발할 수 있다.

| 채점 기준 |

상	석유가 세계 에너지 소비 구조에서 차지하는 위상과 석유의 과다 사용에 따른 문제점을 모두 서술하였다.
중	석유가 세계 에너지 소비 구조에서 차지하는 위상과 석유의 과다 사용에 따른 문제점을 서술하였으나 미흡하다.
하	석유가 세계 에너지 소비 구조에서 차지하는 위상과 석유의 과다 사용에 따른 문제점 중 하나만 서술하였다.

16 지속가능발전 목표

지속가능발전 목표 중 7번째 목표인 ‘모두를 위한 에너지 보장’이 에너지와 관련된 목표이다. 이 목표를 달성하기 위해서는 화석 에너지의 효율성을 높이고 수력, 태양광·열, 풍력, 폐기물, 바이오 등의 신재생 에너지 사용을 늘려야 한다.

| 채점 기준 |

상	에너지 관련 목표를 찾고, 목표 달성을 위한 방안을 구체적으로 서술하였다.
중	에너지 관련 목표를 찾고, 목표 달성을 위한 방안을 서술하였으나 미흡하다.
하	에너지 관련 목표만 서술하였다.

STEP 3 실력 완성 문제

148~149쪽

01 ④ 02 ③ 03 ③ 04 ③ 05 ⑤ 06 ① 07 ② 08 ①

01 풍력 발전

제시된 사진의 발전 시설은 풍력 발전이다. 풍력 발전소는 바람이 많이 부는 지역에 주로 입지한다.

오답 풀이

- ① 우리나라에도 제주도, 대관령 등에 풍력 발전소가 위치한다.
- ② 원자력 발전에 대한 설명이다.
- ③ 수력 발전에 대한 설명이다.
- ⑤ 재생 에너지를 이용한 발전은 개발 도상국보다 선진국에서 활발히 이루어진다.

02 석탄과 석유

화석 에너지 자원 중 가장 먼저 상용화된 에너지 자원으로, 주로 고생대 지층에 매장되어 있는 ㉠은 석탄이다. 석탄은 세계 에너지 소비 구조에서 차지하는 비율이 석유 다음으로 높다. 국제 이동량이 많고, 페르시아만 주변에 많이 분포하며, 자동차 보급으로 수요가 급격하게 증가한 ㉡은 석유이다. 석유는 세계 에너지 소비량에서 차지하는 비중이 가장 크다. 따라서 석탄은 B, 석유는 A이다.

오답 풀이

C는 석유, 석탄 다음으로 소비량이 많은 천연가스이다.

03 석유와 천연가스의 분포와 이동

페르시아만 일대에 많이 매장되어 있고, 서남아시아 여러 국가의 수출량이 많은 (가)는 석유이고, 러시아로부터 서부 유럽으로의 이동이 많고 카타르, 오스트레일리아, 캐나다 등이 주요 수출국에 속하는 (나)는 천연가스이다. 천연가스는 냉동 액화 기술의 발달로 수요가 급증하였으며, 연소 시 대기 오염 물질의 발생량이 다른 화석 에너지에 비해 적다.

오답 풀이

ㄱ, ㄴ. 석유에 대한 설명이다.

04 북극해를 둘러싼 갈등

제시된 그림은 미국, 캐나다, 러시아, 노르웨이, 덴마크가 북극해 일대를 둘러싸고 갈등을 보이는 모습이다. 지구 온난화로 북극해 일대의 빙하가 녹으면서 자원 개발 가능성이 증대되었고, 그에 따라 북극해를 둘러싸고 갈등이 커지고 있다.

오답 풀이

- ① 이스라엘-이란 간 분쟁과 관련이 없다.
- ② 화석 에너지의 가채 연수는 대체로 감소하고 있다.
- ④ 그린란드섬을 둘러싼 미국-덴마크 간 갈등은 북극해를 둘러

싼 갈등의 부각과 직접적인 관련이 없다.

⑤ 중국의 파나마 대체 운하 건설과 관련이 없다.

이 단원에서 꼭 알아야 하는 자료

북극해의 자원 개발을 둘러싼 갈등



자료 풀이 | 북극해에는 대량의 석유와 천연가스는 물론 인화석, 니켈, 구리, 티타늄과 같은 다양한 광물이 매장되어 있는 것으로 알려져 있다. 최근 북극해의 자원 개발을 둘러싸고 연안국 간 갈등이 나타나고 있는데, 그림에 제시된 미국, 캐나다, 덴마크, 노르웨이, 러시아 외에도 핀란드, 스웨덴 등도 자원권을 주장하고 있다. 중국의 경우 '북극 강대국 구상'을 통해 러시아와의 협력을 증진하고 있으며, 우리나라, 일본, 유럽 연합 등도 자원 개발 과정에서 나타날 수 있는 경제적 이익을 얻기 위해 주목하고 있다.

05 기후변화에 대응하기 위한 국제 사회의 노력

기후변화에 대응하기 위해 기후변화 협약(1992년)을 맺은 후 교토 의정서(1997년)를 통해 선진국의 온실가스 감축을 도모하였으며, 파리 기후변화 협약(2015년)을 통해 선진국과 개발 도상국 모두에게 온실가스 감축 의무를 제시하였다. 따라서 ㉠에는 교토, ㉡에는 파리가 들어가야 한다. 지도에서 A는 런던, B는 파리, C는 교토이다.

오답 풀이

지도의 A는 런던 협약이 체결된 런던이다. 런던 협약은 해양 오염 방지를 위해 폐기물 및 기타 물질의 투기를 규제하는 국제 협약이다.

06 탄소중립을 위한 노력

온실가스 배출권 거래제 실시와 열대림 보전을 둘러싼 국제 사회의 노력은 모두 탄소중립을 위한 노력에 해당한다.

오답 풀이

- ② 온실가스 배출권 거래제는 국가 및 기업의 주도로 이루어진다.
- ③ 이상 기후 현상의 발생 원인과 관련이 없다.
- ④ 열대림의 중요성은 [자료 2]에만 관련된다.
- ⑤ 기후변화가 세계 경제에 미친 영향은 제시된 자료와는 직접적인 관련이 없다. 다만 [자료 1]의 온실가스 배출권 거래제

를 통해 온실가스를 과도하게 배출하는 기업의 경우 지출이 늘어날 것을 예상할 수 있다.

07 지속가능한 발전을 위한 개인의 노력

지속가능한 발전을 위해 대중교통을 이용하고, 윤리적 소비를 하는 것이 바람직하다. 버스나 지하철과 같은 대중교통을 이용하면 자원 및 에너지 소비를 줄일 수 있고, 국내산 과일과 같은 로컬 푸드를 구매하면 자원 및 에너지 소비를 줄일 수 있다. 공정 무역 제품은 생산자에게 정당한 노동의 대가를 지불하는 제품이고, 지속가능한 발전은 현세대의 삶과 미래 세대의 삶을 함께 고려한다. ② 윤리적 소비는 경제적인 효율성보다는 형평성을 추구한다.

더 알아 두기 | 지속가능한 발전을 위한 노력

- 국제적 차원: 리우 선언 및 의제 21 채택, 기후변화에 관한 정부 간 협의체(IPCC)를 통한 기후 감시 등
- 국가적 차원: 탄소 배출권 거래제, 탄소중립 포인트 제도, 환경 개선 부담금 제도 실시 등
- 개인적 차원: 에너지 절약, 대중교통 이용, 윤리적 소비, 로컬 푸드 구매, 공정 무역 제품 이용 등

08 지속가능한 발전을 위한 기업의 노력

'RE 100'은 재생 에너지 100%를 뜻하는데, 이는 기업 활동에 필요한 전력의 100%를 태양광, 풍력 등의 재생 에너지를 통해 확보하는 기업 중심의 캠페인이다.

이 단원에서 꼭 알아야 하는 자료

RE 100 캠페인



자료 풀이 | RE 100은 기업이 사용하는 전력의 100%를 재생 에너지(태양광, 풍력 등)로 충당하겠다는 글로벌 계획으로, 2050년까지 탄소중립을 달성하기 위한 자발적 캠페인이다. 2014년 국제 비영리 단체인 클라이밋 그룹과 탄소 공개 프로젝트(CDP)가 공동으로 발족했으며, 정부 주도적 정책이 아닌 기업의 자발적 참여로 진행된다는 점이 특징이다.

3. 미래 사회와 세계시민으로서의 삶

STEP 1 기본 개념 확인 문제

150쪽

- 1 (1) 미래학 (2) 요나스 (3) 자아실현 2 (1) × (2) ○ (3) × (4) ○
3 (1) ㉠ (2) ㉡

01 ④ 02 ⑤ 03 ④ 04 ③ 05 ③ 06 ② 07 ④ 08 ②

01 정보 혁명

제시문의 ㉠에 들어갈 내용은 정보 혁명이다. 정보 혁명은 공간적 제약을 줄여 전 세계적 소통과 협력을 촉진하고, 노동의 자동화와 일자리 구조 변화를 가져오며, 디지털 기술의 발전과 결합해 새로운 사회적·경제적 구조를 만들어 내고 있다.

오답 풀이

ㄴ. 정보 혁명은 기술 발전의 속도를 늦추는 것이 아니라 가속화하는 요인으로 작용한다.

02 요나스의 책임 윤리

제시된 주장을 한 사상가는 요나스이고, 공포의 발견술을 통한 책임 윤리에 대해 설명하고 있다. 요나스는 과학기술이 발전함에 따라 새로운 책임 윤리가 필요하다고 보았다.

오답 풀이

- ① 요나스는 자연을 단순한 자원으로 간주하는 것을 비판하면서 자연에 대한 책임을 강조하였다.
- ② 요나스는 공포가 행동을 하지 못 하게 막는 것이 아니라, 미래의 위험을 인식하게 하고 책임 있는 행위를 촉구하는 적극적인 기능을 한다고 보았다.
- ③ 요나스는 전통 윤리만으로는 과학기술의 거대한 힘과 장기적 영향을 감당할 수 없다고 보았다.
- ④ 요나스는 책임의 범위를 현대에 국한하지 않고 미래 세대와 자연 생태계까지 확장해야 한다고 보았다.

더 알아 두기 | 책임 윤리

요나스는 과거의 윤리가 주로 인간과 동시대 사람들 사이의 관계에 초점을 두었다고 보았다. 그러나 현대의 과학기술 문명은 그 영향력이 매우 커져서 미래 세대와 자연 전체에까지 영향을 미치게 되었다. 따라서 그는 기존의 윤리만으로는 충분하지 않으며, 새로운 차원의 윤리가 필요하다고 주장하였다.

03 미래 사회의 모습

제시된 자료는 미래 사회의 모습에 대한 학생들의 발표 내용이다. ④ 미래 사회에서는 생태계 파괴 및 기후 위기로 인해 다양한 종이 멸종 위기에 처할 가능성이 크기 때문에, 생물 다양성은 감소할 것이다.

04 미래학의 필요성

제시문에서는 인류가 급격하게 변화하는 상황 속에서 미래학이 필요한 이유에 대해 설명하고 있다. 미래학은 다양한 학문적 접

근을 통해 미래를 체계적으로 예측해 여러 가능성과 대안을 탐색한다.

오답 풀이

- ① 미래학은 미래를 확정적으로 예측하는 것이 아니라, 다양한 가능성을 분석하고 여러 대안을 제시한다.
- ② 미래학은 과거와 현재의 자료, 추세, 데이터를 분석하는 데 기반한다.
- ④ 미래학은 긍정적 전망뿐만 아니라 위기, 위험도 함께 전망한다.
- ⑤ 미래학은 미래 세대와 지속가능성을 중요하게 고려한다.

05 제4차 산업 혁명 사회의 모습

제시된 자료는 제4차 산업 혁명 사회가 초래할 모습에 대한 학생들의 발표 내용이다. ③ 제4차 산업 혁명 시대에는 디지털 격차 문제로 인해 정보 소외 계층이 늘어날 수 있고, 이것은 사회적 불평등과 공동체 분열을 심화시킬 수 있다.

더 알아 두기 | 제4차 산업 혁명

제4차 산업 혁명은 디지털 기술을 기반으로 인공지능, 빅데이터, 사물 인터넷, 로봇 공학, 바이오 기술 등 다양한 첨단 기술이 융합되면서 사회 전반에 혁신을 가져오는 변화를 말한다. 이는 단순한 기술적 발전에 그치지 않고, 생산과 소비, 노동과 교육, 일상생활 전반에 이르기까지 폭넓은 영향을 미친다. 제4차 산업 혁명의 긍정적 효과로는 생산성과 효율성의 향상, 새로운 산업과 일자리 창출, 삶의 편리성 증대 등을 들 수 있다. 그러나 동시에 노동 구조 변화로 인한 고용 불안, 개인 정보 보호 문제, 인공지능의 윤리적 사용과 같은 새로운 사회적 과제도 발생한다. 따라서 제4차 산업 혁명은 단순히 기술적 진보로만 이해될 수 없으며, 그에 따른 사회적·경제적 변화를 균형 있게 바라보고, 인류 공동체가 직면할 윤리적 책임과 지속가능한 발전의 방향을 함께 모색해야 한다.

06 세계시민에게 요구되는 삶의 자세

제시문에서는 오늘날 세계시민으로서 살아가는 모습에 대해 설명하고 있다. 우리는 세계시민으로서 인류의 보편적 가치를 실현을 중요시해야 하고, 세계를 위해 공동의 책임을 수용하는 태도를 가져야 한다.

오답 풀이

- ① 자기 공동체의 이익을 절대시하는 것은 배타적 태도로, 세계 시민에게 요구되는 삶의 자세로 적합하지 않다.
- ③ 세계시민은 기후 위기, 난민, 전쟁 등 국제 문제를 적극적으로 인식하고 참여해야 하므로, 무관심한 태도는 세계시민에게 요구되는 삶의 자세로 적합하지 않다.
- ④ 환경 오염, 분쟁 등과 같은 문제는 국가 단위를 넘어 전 지구적 협력이 필요하므로, 개별 국가 차원에서 대응해야 한다는 생각은 세계시민에게 요구되는 삶의 자세로 적합하지 않다.
- ⑤ 세계시민은 지역의 정체성을 포기하는 것이 아니라, 그것을

기반으로 다른 지역과 상호 존중 및 협력을 지향해야 하므로 세계시민에게 요구되는 삶의 자세로 적합하지 않다.

07 싱어의 해외 원조론

제시된 주장은 싱어의 해외 원조론이다. 싱어는 해외 원조를 인류 전체의 복지 증진을 위한 도덕적 의무라고 보았다.

오답 풀이

- ① 싱어는 원조를 선택적 자선이 아니라 도덕적 의무로 보았다.
- ② 싱어는 도덕적 책임의 범위는 국경을 초월한다고 주장하였다.
- ③ 싱어는 원조를 단순히 권장되는 선행이 아니라, 마땅히 지켜야 할 도덕적 의무라고 보았다.
- ⑤ 싱어는 세계시민적 책임으로서 개인의 적극적 역할을 강조하였다.

08 세계시민으로서의 직업적 역할

제시된 자료는 세계시민으로서의 직업적 역할에 대한 학생들의 대화 내용이다. 세계시민은 공동의 문제에 책임을 가져야 하므로, 사이버 평판 관리자는 개인의 이미지 보호를 넘어 온라인 환경에서 인권 보장에 기여해야 한다.

오답 풀이

- ① 농업 드론 조종사가 국내 농산물 생산의 효율화에만 기여하는 것은 세계시민으로서의 바람직한 자세가 아니다.
- ③ 유전자 분석가가 특정 기업의 이익만을 극대화하는 것은 세계시민적 가치에 어긋난다.
- ④ 공인 탐정은 사회 정의와 법적 안전을 지향해야 하며, 특정 개인의 이익만을 극대화하는 것은 세계시민적 가치에 어긋난다.
- ⑤ 지속가능 경영은 환경 보존, 사회적 책임, 장기적 공익을 지향하는 것이 핵심이므로 단기적 기업 이익을 우선시하는 것은 세계시민적 가치에 어긋난다.

STEP 3 실력 완성 문제

153쪽

- 01 ④ 02 ② 03 ④ 04 ③

01 미래학의 유형

제시된 자료에서는 미래학의 유형 중 실천적 미래학에 대해 설명하고 있다.

오답 풀이

- ① 탐색적 미래학은 현재의 추세와 자료를 분석해 미래를 예측하는 것이다.
- ② 규범적 미래학은 바람직한 미래의 모습을 설정하고, 그 목표를 달성하기 위한 방안을 모색하는 것이다.
- ③ 비판적 미래학은 기존의 미래 전망이 가진 한계나 편견을 비판

적으로 검토하고, 다양한 관점에서 대안을 탐색하는 것이다.

- ⑤ 시스템적 미래학은 사회, 경제, 환경, 기술 등 여러 영역이 서로 긴밀히 연결되어 있다는 점을 강조하면서 미래를 전체적·통합적으로 탐구하는 것이다.

02 요나스의 책임 윤리

제시된 주장은 요나스의 책임 윤리이다. ② 요나스의 핵심 주장은 책임을 단순한 인과적 책임이나 법적 책임으로 한정할 수 없다는 것이며, 예방적 책임과 존재론적 책임까지 포함해 미래 세대의 생존 조건까지 고려해야 한다는 것이다.

03 누스바움의 세계 시민주의

제시된 주장은 누스바움의 세계 시민주의이다. 누스바움의 입장에서 볼 때 도덕적 연민은 국경을 넘어 확대될 수 있고, 출생지는 도덕적 고려의 본질적 기준이 아니며, 모든 아동은 세계시민으로서의 지위를 갖는다.

오답 풀이

- ㄴ. 도덕적 책임이 자국민에게 우선적으로 한정된다는 것은 국가주의 입장으로, 세계 시민주의 입장에 부합하지 않는다.

04 해외 원조에 대한 노직과 싱어의 입장

같은 노직, 음은 싱어의 입장이다. 노직은 해외 원조를 개인의 선택에 따른 자선 행위로 보았지만, 싱어는 해외 원조를 인류 전체의 복지 증진을 위한 도덕적 의무라고 보았다. 노직에 비해 싱어는 '세계시민으로서의 도덕적 책임을 강조하는 정도(X)'는 높고, '소유권 보호를 강조하는 정도(Y)'는 낮으며, '인류 전체의 복지를 강조하는 정도(Z)'는 높다.

대단원 평가 문제

154~157쪽

- 01 ② 02 ② 03 ⑤ 04 ① 05 ① 06 ② 07 ④ 08 ①
09 ④ 10 ③ 11 ① 12 ⑤ 13 ① 14 ② 15 ② 16 ③

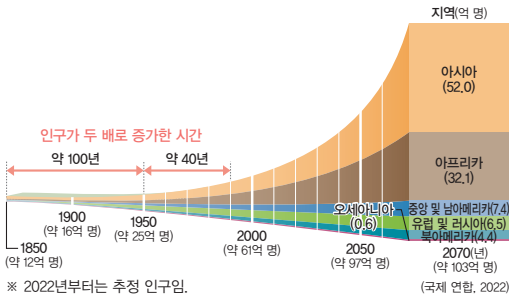
01 세계의 지역(대륙)별 인구 변화

자료에서 세계의 여러 지역(대륙) 중 인구 비중이 가장 큰 (가)는 아시아이고, 아시아 다음으로 비중이 큰 (나)는 아프리카이다. 인구 대국인 중국과 인도는 아시아에 위치한다.

오답 풀이

- ㄴ. 아프리카에는 냉대 기후보다 열대 기후와 건조 기후가 넓게 분포한다.
- ㄷ. 자료를 통해 세계 인구가 두 배로 증가하는 데 걸린 시간이 줄어들었음을 알 수 있다.

세계의 인구 성장



자료 풀이 | 자료에서 인구 비율이 가장 높은 지역(대륙)은 아시아이고, 아시아 다음으로 인구 비율이 높은 지역(대륙)은 아프리카이다. 인구가 두 배로 증가한 기간을 흔히 인구의 배가 년도라고 하는데, 인구의 배가 년도는 산업 혁명 이후 짧아지고 있다.

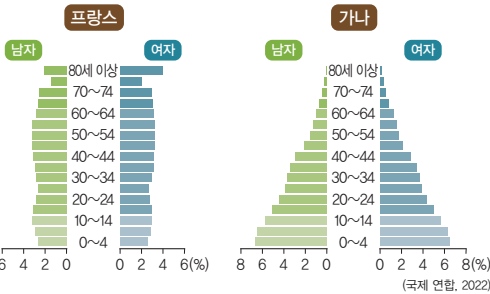
02 선진국과 개발 도상국의 인구 구조

연령 및 성별에 따른 인구 구조는 인구 피라미드를 통해 나타낼 수 있다.

오답 풀이

- ① 인구 구조는 문화적 특성보다 경제 수준을 많이 반영한다.
- ③ 저출산 문제를 겪고 있는 선진국은 개발 도상국보다 합계 출산율이 낮다.
- ④ 개발 도상국은 선진국보다 인구 증가율이 높은 편이다.
- ⑤ 개발 도상국에서 유소년층 인구를 줄이기 위해 실시하고 있는 인구 정책은 출산 억제 정책이다.

더 알아보기 | 선진국과 개발 도상국의 인구 구조



선진국은 연령대별 인구가 비슷한 중형 또는 방추형 인구 피라미드가 나타나고, 개발 도상국은 유소년층 인구가 많고 노년층 인구가 적은 피라미드형 인구 피라미드가 나타난다.

03 인구 관련 주요 개념

유소년층 인구 100명에 대한 노년층 인구 비율은 노령화 지수이고, 청장년층 인구 100명에 대한 유소년층과 노년층을 합한 인구 비율은 인구 부양비이며, 전체 인구를 연령순으로 일렬로 세웠을 때 한가운데 있는 사람의 나이는 중위 연령이다. 따라서 (가)는 노령화 지수, (나)는 인구 부양비, (다)는 중위 연령이다.

04 난민 수용을 둘러싼 찬반 의견

우리나라 국민은 난민 수용에 대한 찬성 의견보다 반대 의견이 많다. 난민 수용에 대해 찬성하는 사람은 난민의 경제적 상황 및 인권 상황이 심각함을 강조한다. 반면 난민 수용에 대해 반대하는 사람은 난민이 우리 문화에 쉽게 동화되기 어렵다는 점과 난민 수용에 따른 경제적 부담을 강조한다.

05 저출산·고령화에 따른 사회 변화

제시문은 저출산·고령화에 따라 어린이집이 요양원 등의 노인 복지 시설로 바뀌고 있다는 내용이다. 저출산·고령화 현상이 진행됨에 따라 중위 연령이 높아지고 있다.

오답 풀이

- ② 우리나라의 수도권 인구는 꾸준히 증가하고 있다.
- ③ 저출산으로 인해 합계 출산율이 낮아지고 있다.
- ④ 산업화 및 도시화와 가치관의 변화에 따라 1인 가구의 비율이 높아지고 있다.
- ⑤ 노동력 부족으로 외국인 노동력의 유입이 활발하다.

06 인구 증가의 영향

인구 증가는 국내 총생산과 소비 시장을 확대시켜 경제 규모의 성장으로 이어질 수 있다.

오답 풀이

- ① 사망자 수가 출생아 수에 비해 많을 때는 인구의 자연 감소가 발생한다.
- ③ 인구 과잉 상태에서는 일자리 부족 현상이 나타난다.
- ④ 촌락 인구가 대도시로 이주하면 도시화율은 높아진다.
- ⑤ 인구의 빠른 증가를 둔화시키기 위해서는 출산 억제 정책을 시행해야 한다.

07 자원의 가변성

(가)에 근거할 때 경쟁력 없는 석탄 광산을 폐쇄하는 것은 경제적 의미의 자원이 기술적 의미의 자원으로 바뀌는 것을 의미한다. 자료의 D가 해당 내용을 잘 나타내고 있다.

08 신재생 에너지의 국가별 생산량

수력, 풍력, 지열 중 브라질, 캐나다 등이 상위권에 위치한 A는 수력이다. 풍력, 지열 중 환태평양 조산대와 알프스-히말라야 조산대에 위치한 인도네시아, 필리핀, 튀르키예 등에서 에너지 생산량이 많은 C는 지열이다. 나머지 B는 풍력에 해당한다.

09 석탄과 석유

두 화석 에너지 중에서 페르시아만이 위치한 서남아시아 지역의 매장량 비중이 큰 (나)는 석유이고, 아시아·오세아니아의 매장량 비중이 큰 (가)는 석탄이다. 석탄은 석유보다 연소 시 대기 오염 물질의 배출량이 많다.

오답 풀이

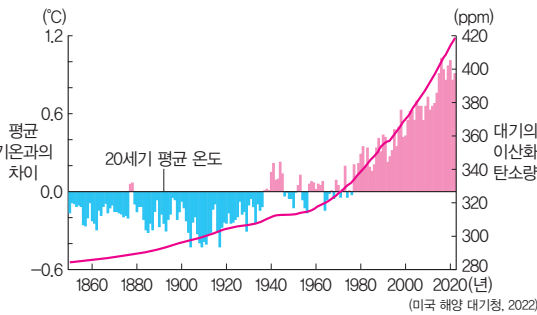
- ① 자동차, 항공기, 선박 등의 주요 연료로 이용되는 것은 석유이다.
- ② 산업 혁명기에 주요 에너지 자원으로 이용된 것은 석탄이다.
- ③ 화석 에너지는 모두 고갈의 위험성이 크다.
- ⑤ 국제 이동량은 석유가 석탄보다 많다.

10 지구 온난화에 따른 변화

지구 온난화로 극지방과 고산 지대의 빙하가 감소하며, 해수면 상승으로 해안 저지대가 침수된다. 또한 동식물의 서식지 환경이 변화하면서 개체 수가 줄어들고, 이상 기후 발생이 늘어나고 있다. ③ 지구의 기온이 상승하면 우리나라 중부 지방의 냉방 기간은 길어지는 반면, 난방 기간은 짧아진다.

이 단원에서 꼭 알아야 하는 자료

이산화 탄소가 지구 기온에 미치는 영향



자료 풀이 | 대기권에 이산화 탄소가 지나치게 많아지는 경우, 지표면에서 반사된 태양 에너지가 대기권 밖으로 방출되지 못해 지구의 기온이 올라가게 된다. 지구의 기온이 올라가면 극지방의 빙하가 녹아 해수면이 상승하거나 이상 기후 현상이 증가하는 등 다양한 문제가 나타난다.

11 지속가능발전 목표

빈곤 퇴치, 기아 종식 등과 관련이 깊은 것은 사회 발전이고, 경제 성장과 양질의 일자리, 불평등 감소와 관련이 깊은 것은 경제 개발이며, 해양 생태계 보전 및 육상 생태계 보전과 관련이 깊은 것은 환경 보호이다. 따라서 (가)는 사회 발전, (나)는 경제 개발, (다)는 환경 보호이다.

12 탄소중립 포인트 제도

탄소중립 포인트 제도는 일상생활에서 전기 및 가스 에너지를 절약하거나 전자 영수증 발급, 다화용 컵 이용 등을 실천하면 그에 상응하는 이익을 주는 제도이다. 이 제도를 실시하는 이유는 국민의 탄소중립을 위한 실천 문화를 확산하기 위함이다.

13 누스바움의 세계 시민주의

제시문의 사상가는 세계 시민주의를 주장한 누스바움이고, <문제 상황>은 인구 급증으로 인해 발생하는 식량 및 자원 부족 문제를 제시하고 있다. 누스바움의 입장에서 볼 때 국제 사회는 개

발 도상국에 대한 지원을 확대해야 하고, 세계시민으로서 상호 의존성을 인식하고 문제 해결에 동참해야 한다.

오답 풀이

- ㄷ. 누스바움의 세계 시민주의는 상호 연대와 책임을 강조하므로 국제 사회의 개입을 배제한다는 입장은 적합하지 않다.
- ㄹ. 누스바움의 세계 시민주의에 의하면 인구 문제는 구조적·지속적 성격을 지니므로, 단기적 처방보다는 장기적이고 포괄적인 해결책이 필요하다.

14 세계시민으로서 지녀야 할 자세

제시문은 세계시민으로서 지녀야 할 삶의 자세에 대해 설명하고 있다. 세계시민은 타인의 권리와 다양성을 존중하고, 세계를 위해 공동의 책임을 수용하는 태도를 가져야 한다.

오답 풀이

- ① 공동체의 이익만을 우선시하는 것은 세계시민으로 지녀야 할 삶의 자세로 적합하지 않다.
- ③ 자국의 이익만을 언제나 강조하는 태도는 세계시민으로서 지녀야 할 삶의 자세로 부적절하다.
- ④ 세계시민은 지구적 과제 해결을 위해 특정 국가의 임무만을 강조하는 것이 아니라, 지구적 공동체의 협력에 의해 해결 방안을 찾고자 노력해야 한다.
- ⑤ 세계시민은 지역적 정체성을 존중하면서도 보편적 가치와 연대를 추구하기에, 배타성을 강화하는 것은 세계시민이 지녀야 할 삶의 자세로 적합하지 않다.

15 제4차 산업 혁명의 사회적 영향

제시문은 제4차 산업 혁명이 초래할 모습에 대해 설명하고 있다. 제4차 산업 혁명으로 과학기술이 발달하면서 개인 정보 유출과 감시 사회로 이어질 위험이 커지고 있다.

오답 풀이

- ① 자국 중심의 발전적 전략은 국가 정책 차원의 대안일 뿐, 제4차 산업 혁명의 사회적 영향이라고 볼 수 없다.
- ③ 제4차 산업 혁명은 개인 정보 보호 문제, 윤리적 논란과 같은 부정적 측면도 있기에 적합하지 않다.
- ④ 제4차 산업 혁명은 노동 구조, 사회 제도, 문화적 가치관까지 변화시키므로 사회 구조와 문화에 직접적 영향을 끼친다고 볼 수 있다.
- ⑤ 제4차 산업 혁명에 따른 자동화와 인공지능 발전은 오히려 일자리 감소와 고용 불안을 심화시킬 수 있으므로 고용 불안을 해소한다는 것은 적합하지 않다.

16 과학기술 만능주의와 과학기술 혐오주의

같은 과학기술 만능주의, 이른 과학기술 혐오주의의 입장이다. ③ 과학기술 만능주의 입장에서는 부작용을 고려하지 않으므로 부작용을 최소화할 균형적 태도를 요구하지 않는다.