

우능품

정답과 해설

2022 개정 교육과정
통합사회

01강	인간, 사회, 환경에 대한 관점과 행복	002
02강	자연환경과 인간 생활	007
03강	인간과 자연의 관계와 환경 문제	015
04강	다양한 문화권의 특징과 삶의 방식	023
05강	문화 변동과 전통문화	029
06강	문화 상대주의와 보편 윤리 및 다문화 사회	033
07강	산업화와 도시화	038
08강	교통·통신 및 과학기술의 발달과 지역의 공간 변화	043
09강	인권의 의미와 현대 사회의 인권	049
10강	인권 보장을 위한 헌법과 시민 참여 및 인권 문제	053
11강	정의의 의미와 실질적 기준	058
12강	다양한 정의관의 특징과 불평등 현상	064
13강	자본주의 시장경제의 발전	072
14강	합리적 선택과 경제 주체의 역할	077
15강	자산 관리와 금융 생활 설계	082
16강	국제 분업과 무역	086
17강	세계화의 양상과 미래	089
18강	평화 실현과 통일을 위한 노력	093
19강	세계의 인구와 인구 문제	098
20강	자원 소비와 지속가능한 발전 및 세계시민으로서의 삶	106

통합사회 1

I. 통합적 관점 ~ II. 인간, 사회, 환경과 행복

01

인간, 사회, 환경에 대한 관점과 행복

기출 동형 문제

11쪽

01-① ⑤

01-② ③

02-① ⑤

02-② ②

01-① 통합적 관점

출제 예상 포인트 인간, 사회, 환경을 바라보는 다양한 관점은 2022 개정 교육과정에서 강조하고 있으므로 반복적으로 출제될 가능성이 높다. 따라서 각 관점의 핵심 내용을 정확히 구분하고, 그에 맞는 탐구 질문을 파악하는 연습이 필요하다.

통합적 관점이란 시간적 관점, 공간적 관점, 사회적 관점, 윤리적 관점 등을 종합적으로 고려하여 사회 현상이나 사회 문제를 균형 잡힌 시각으로 이해하는 것이다. 이러한 통합적 관점을 통해 사회 현상이나 사회 문제의 원인과 해결 방안을 다각적으로 모색할 수 있다.

[선지 분석]

- ㉠ 스마트폰 사용 시간이 연도별로 어떻게 변화하였는지 분석하는 것은 시간적 관점에 해당한다.
- ㉡ 사회 문제를 예방하기 위해 도덕규범을 탐구하는 것은 윤리적 관점에 해당한다. 공간적 관점은 장소와 지역, 지리적 상호 작용을 통해 사회 현상을 살펴보는 것이다.
- ㉢ 사회 제도나 정책을 통해 문제 해결을 모색하는 것은 사회적 관점에 해당한다.
- ㉣ 사회 문제 해결을 위해 올바른 가치관과 도덕적 태도를 탐구하는 것은 윤리적 관점에 해당한다.

01-② 통합적 관점에서 사회 문제 바라보기

합계 출산율이란 가임기 여성 한 명이 평생 낳을 것으로 예상되는 평균 출생아 수를 말한다. 우리나라의 저출산 문제를 해결하기 위해서는 통합적 관점에서 문제를 분석하고 해결 방안을 모색해야 한다.

[선지 분석]

- ㉠ 사회 문제를 도덕적 규범과 가치에 따라 바람직한 해결 방안을 탐구하는 것은 윤리적 관점에 해당한다.
- ㉡ 사회 문제와 관련한 위치와 장소 등의 공간적 맥락을 탐구하는 것은 공간적 관점에 해당한다.
- ㉢ 사회 문제와 관련한 제도와 정책을 탐구하는 것은 사회적 관점에 해당한다.
- ㉣ 사회 문제와 관련한 시대적 배경과 맥락을 탐구하는 것은 시간적 관점에 해당한다.

02-① 행복한 삶을 실현하기 위한 조건

제시문의 사상은 소크라테스이다. 소크라테스는 '음미하지 않는 삶은 살아갈 가치가 없다.'라고 하면서 자신의 삶을 성찰하는 자세가 행복을 실현하는 조건이라고 보았다.

[선지 분석]

- ㉠ 소크라테스는 감정이 아닌 이성에 토대를 둔 도덕적 실천이 필요하다고 보았다.
- ㉡ 소크라테스는 욕망과 충동을 절제하고 이성 따라 살아가는 삶을 참된 삶으로 여겼으며, 본능적으로 쾌락을 추구하는 삶은 반성이 없는 삶이라고 보았다.
- ㉢ 소크라테스는 자신의 무지를 자각하고 타인의 인정을 좇는 삶이 아닌, 진정한 자기 자신을 성찰하는 삶이 중요하다고 보았다.
- ㉣ 소크라테스는 사회적 통념이나 관습을 비판 없이 수용하는 삶을 무지한 삶으로 간주하고, 그러한 삶은 도덕적 성찰이 결여된 삶이라고 보았다.
- ㉤ 소크라테스는 자신의 삶을 이성적으로 성찰하고 참된 삶에 가까이 다가가려는 태도를 도덕적 삶의 출발점으로 보았으며, 이를 통해 삶의 가치와 행복을 실현할 수 있다고 보았다.

고득점을 위한 핵심 자료

도덕적 성찰을 강조하는 소크라테스

자신이 모르면서도 알고 있다고 믿는 것이 인간이 가진 무지 중에서 가장 큰 무지입니다. 내가 대다수 사람과 다른 점이 있다면, 그것은 바로 나는 내가 무지하다는 것을 알고 있다는 것입니다. 나는 아테네 시민들을 찾아다니면서 신체나 재산이 아니라 각자의 영혼을 최상의 상태로 가꾸라고 설득할 것입니다. - 플라톤, 『소크라테스의 변론』

소크라테스는 인간의 무지를 악행의 원인으로 보았다. 따라서 그는 참된 삶의 추구하고 더불어 끊임없는 도덕적 성찰을 통해 행복을 실현할 수 있다고 강조하였다.

02-② 행복에 대한 공자와 석가모니의 관점

(가)의 갑은 유교 사상가인 공자, 을은 불교 사상가인 석가모니이다. 유교에서는 하늘로부터 부여받은 도덕적 본성을 보존하고 함양하면서 인(仁)을 실현하는 것을 행복이라고 보고, 불교에서는 수행을 통해 고통의 원인인 무지와 집착에서 벗어나 해탈의 경지에 이르는 것을 행복이라고 본다.

[선지 분석]

- ㉠ 공자는 자기를 이기고 예로 돌아가 인을 실현해야 한다고 주장하였다. 이를 통해 인간의 도덕적 본성을 함양하고 행복에 이를 수 있다고 보았다.
- ㉡ 인위적 규범을 버리고 자연에 따라야 한다는 주장은 도가 사상의 입장이다. 공자는 인과 예와 같은 규범을 중시하였다.
- ㉢ 석가모니는 수행을 통해 진리를 깨달을 때 무지와 집착에서 벗어나 해탈의 경지에 이를 수 있다고 보았다.
- ㉣ 공자는 인간이 하늘이 부여한 도덕적 본성을 지닌 존재라고 보았다. 인간의 본성을 이기적이라고 본 사상은 순자이다.

수능 기본 문제

12~13쪽

01 ③

02 ⑤

03 ①

04 ⑤

05 ④

06 ③

07 ②

08 ①

01 시간적 관점

제시문은 A 지역의 변화 과정을 시간의 흐름에 따라 서술하고 있다. 이처럼 과거, 현재, 미래를 연결하여 사회 현상의 변화 양상이나 역사적 맥락을 이해하는 방식은 시간적 관점에 해당한다. 시간

적 관점은 시간의 흐름에 따라 자료를 다각도로 수집하고, 과거와 현재의 관계를 파악하여 미래 방향을 예측하도록 돕는다.

[선지 분석]

- ☒ 사회적 관점에 대한 설명이다. 제시문은 사회 구조나 제도보다는 시간의 흐름에 따른 지역의 변화를 중심으로 설명하고 있다.
- ☒ 공간적 관점에 대한 설명이다. 제시문은 여러 지역 간 비교나 분포가 아닌, 시간의 흐름에 따른 한 지역의 변화를 다루고 있다.
- ☒ 시간적 관점에 대한 설명이다. 제시문은 A 지역의 과거, 현재, 미래를 순차적으로 제시하고 있다.
- ☒ 사회적 관점에 대한 설명이다.
- ☒ 윤리적 관점에 대한 설명이다. 제시문에는 규범적 판단이나 가치 평가 요소가 포함되어 있지 않다.

02 공간적 관점

제시된 내용들은 모두 자연환경(강수량, 해안) 또는 인문환경(고속도로, 통근 방법 등)과 같은 공간적 특성에 따라 사회 현상이 어떻게 나타나는지를 탐구하고 있다. 이처럼 공간적 관점은 장소, 지역 및 공간적 상호 작용 등을 중심으로 사회 현상을 해석하는 관점이다.

[선지 분석]

- ☒ 시간의 흐름에 따라 사회 현상을 탐구하는 것은 시간적 관점에 해당한다.
- ☒ 도덕규범이나 윤리적 가치에 따라 사회 현상을 판단하는 것은 윤리적 관점에 해당한다.
- ☒ 사회 제도나 정책적 측면에서 사회 현상을 바라보는 것은 사회적 관점에 해당한다.
- ☒ 도덕적 가치 판단을 토대로 사회 문제와 현상에 접근하고 사회의 바람직한 방향에 대해 탐구하는 것은 윤리적 관점에 해당한다.
- ☒ 제시된 내용들은 모두 특정 지역의 자연환경과 인문환경, 그리고 공간적 상호 작용을 중심으로 사회 현상을 설명하고 있으므로 공간적 관점에 해당한다.

고득점을 위한 핵심 자료

인간, 사회, 환경을 바라보는 다양한 관점

관점	특징
시간적 관점	시간의 흐름에 따라 자료를 다각도로 수집하여 과거와 현재의 관계를 파악하고 미래의 방향을 예측
공간적 관점	위치와 장소, 분포 양상과 형성 과정, 이동과 네트워크 등의 공간적 맥락에서 인간, 사회, 환경 간의 상호 관계를 분석하고 이해
사회적 관점	사회 현상이 나타난 배경을 사회의 구조적·제도적·정책적 측면에서 살펴보고 개선해야 할 문제를 파악하여 해결책을 모색
윤리적 관점	다양한 사회 현상을 도덕적 가치와 도덕규범에 따라 평가하고 사회가 나아갈 바람직한 방향을 제시

03 통합적 관점을 통한 사회 현상 탐구

고령화 현상에 따른 문제를 근본적으로 해결하기 위해서는 시간적 관점, 공간적 관점, 사회적 관점, 윤리적 관점 등 통합적 관점에서 접근할 필요가 있다.

[선지 분석]

- ☒ 고령화 현상의 역사적인 전개 과정과 미래 변화 탐구는 시간적 관점에 부합하는 탐구 주제이다.

- ☒ 고령 인구의 지역별 분포와 의료 시설 접근성의 차이는 공간적 상호 작용을 탐구하는 것이므로 공간적 관점에 부합하는 탐구 주제이다.
- ☒ 시간의 흐름에 따른 변화 양상에 초점을 두고 있으므로 시간적 관점에 해당한다.
- ☒ 사회 현상에 대해 제도나 정책적 관점에서 접근하는 것은 사회적 관점에 해당한다. 윤리적 관점은 도덕적 가치 판단이 포함되어야 한다.

감각 있는 풀이 TIP

다양한 관점에서 사회 문제를 분석하기 위해 시간적, 공간적, 사회적, 윤리적 관점을 정확히 구별하고, 각 관점에 맞는 탐구 주제를 올바르게 제시할 수 있어야 한다. 이를 위해 선지에 포함된 핵심어가 어떤 관점과 연결되는지를 정확히 파악해야 한다.

04 통합적 관점을 통한 사회 문제 분석

신문 기사는 환경 오염을 발생시키는 일회용품 쓰레기의 증가 문제에 대해 설명한다. 이러한 문제의 근본적인 해결 방안을 모색하기 위해서는 시간적 관점, 공간적 관점, 사회적 관점, 윤리적 관점 등 다양한 관점에서 접근할 필요가 있다.

[선지 분석]

- ☒ 일회용품 쓰레기 문제가 집중된 지역을 묻고 있으므로 공간적 관점에 해당하는 질문이다.
- ☒ 일회용품 쓰레기 문제의 시간적 변화를 묻고 있으므로 시간적 관점에 해당하는 질문이다.
- ☒ 사회적 관점은 사회 문제에 대해 제도, 정책 등 사회 구조적 해결 방식을 중심으로 탐구한다.
- ☒ 윤리적 관점은 사회 문제에 대해 가치 판단과 도덕적 기준을 중심으로 탐구한다.

감각 있는 풀이 TIP

시간적, 공간적, 사회적, 윤리적 관점이 각각 어떤 질문으로 드러나는지를 정확히 구분해야 한다. 예를 들어 '어디'를 묻는 질문은 공간적 관점, '언제'를 묻는 질문은 시간적 관점, '필요한 제도나 정책'을 묻는 질문은 사회적 관점, 그리고 '바람직한 가치관'처럼 옳고 그름의 가치 판단을 포함하는 질문은 윤리적 관점에 해당한다. 이처럼 질문 속 키워드를 통해 어느 관점에 해당하는지를 빠르게 파악해야 한다.

05 통합적 관점을 통한 사회 문제 이해

제시문은 인권 침해의 대표적인 사례인 아동 노동 문제를 통합적 관점에서 분석하고 해결 방안을 모색해야 한다고 설명한다.

[선지 분석]

- ☒ ㉠은 사회 문제에 대해 종합적인 관점에서 접근해야 한다고 설명하므로 통합적 관점에 해당한다.
- ☒ ㉡은 산업화 이전과 이후의 변화 양상을 살펴봐야 한다고 설명하므로 시간의 흐름에 따라 변화하는 사회 현상을 탐구하는 시간적 관점에 해당한다.
- ☒ ㉢은 지역과 국가마다 사회 문제가 어떻게 드러나는지에 대해 다루고 있기 때문에 공간적 관점에 해당한다.
- ☒ ㉣은 사회적 관점에서 '사회 계층 간 불평등'과 '교육 기회의 차이'라는 사회 구조와 제도적 차이에 주목하고 있으므로 사회적 관점에 해당한다. 시대 배경과 역사적 맥락에서 문제를 분석하고자 하는 관점은 시간적 관점이다.
- ☒ ㉤은 보편적 가치를 기준으로 사회 문제를 어떻게 판단해야 할지를 다루고 있으므로 윤리적 관점에 해당한다.

06 아리스토텔레스의 행복론

출제 예상 포인트 아리스토텔레스의 행복론은 통합사회 8종 교과서에 모두 수록된 내용이다. 따라서 그가 제시한 행복의 개념과 특징, 관련 내용에 대해 꼼꼼하게 학습해야 한다.

가장 편지를 쓴 사상가는 아리스토텔레스이다. 그는 인간의 모든 행위가 어떤 '선(좋은)'을 추구한다고 보았고, 이 가운데 가장 궁극적인 목적, 즉 최고선은 바로 '행복'이라고 주장하였다. 아리스토텔레스에 따르면, 행복은 덕에 따르는 영혼의 활동을 통해 실현된다.

[선지 분석]

- ❌ 아리스토텔레스에 따르면, 명예, 쾌락, 부 등은 모두 다른 목적을 위한 수단이며, 그 자체로 추구되는 최고선은 행복이다.
- ❌ 아리스토텔레스는 도덕적인 덕이 본성적으로 타고나는 것이 아니라 습관을 통해 형성된다고 보았다.
- ③ 아리스토텔레스는 이성이 인간 고유의 기능이며, 이성에 따라 덕을 실천하는 삶이 곧 행복한 삶이라고 보았다.
- ❌ 아리스토텔레스는 행복이란 현실 세계에서 이성적이고 덕 있는 활동을 통해 실현되는 것이라고 보았다.
- ❌ 아리스토텔레스는 감각적 쾌락을 인간의 최고선으로 보지 않았다. 아리스토텔레스에 따르면, 최고선은 행복이며, 행복은 곧 이성의 기능을 탁월하게 발휘하는 도덕적인 삶이다.

고득점을 위한 핵심 자료

아리스토텔레스의 행복론

행복은 모든 것 가운데 가장 바람직한 것이요, 여러 선 중에서 최고의 선이다. 따라서 행복은 궁극적이고 자족적이며, 모든 행동의 목적이라고 할 수 있다. 무엇이 행복인지를 알려면 인간의 기능에 대해 생각해 보아야 한다. 인간만이 지닌 특별한 기능은 정신의 이성적 활동 능력이다. 인간의 기능을 훌륭하게 수행하는 것은 바로 이성적 활동을 잘 수행하는 것이다. 어떠한 활동을 잘 수행하는 것은 그것에 알맞은 덕을 가지고 수행할 때이다. 그러므로 행복이란 덕과 일치하는 정신의 활동이라고 할 수 있다. - 아리스토텔레스, 『니코마코스 윤리학』

- 행복: 인간 행위의 궁극적인 목적이자 최고선이며, 덕에 따르는 정신(영혼)의 활동
- 덕(탁월성): 인간의 고유한 기능인 이성이 탁월하게 발휘되는 영혼의 상태

덕의 종류	획득 방법
지적인 덕	교육
품성적인 덕	중용에 해당하는 행동의 반복적 실천

07 에피쿠로스의 쾌락

출제 예상 포인트 에피쿠로스의 행복론은 통합사회 8종 교과서에서 모두 다루는 내용이다. 따라서 대수학능력시험에 출제될 가능성이 매우 높으므로 관련 내용에 대한 심화 학습이 반드시 필요하다.

제시문의 내용을 주장한 사상가는 에피쿠로스이다. 에피쿠로스는 고통의 부재로서의 쾌락을 추구하였으며, 궁극적으로는 모든 고통이 제거된 상태가 지속됨으로써 주어지는 쾌락을 추구하였다.

[선지 분석]

- ㉠ 에피쿠로스가 긍정의 대답을 할 질문이다. 에피쿠로스는 쾌락이란 모든

가치를 평가하는 최고선이며, 행복한 삶의 시작이자 끝이라고 주장하면서 모든 쾌락은 그 자체로 좋은 것이라고 보았다.

- ❌ 에피쿠로스가 부정의 대답을 할 질문이다. 에피쿠로스는 감각적이고 순간적인 쾌락은 멀리하고 정신적이고 지속적인 쾌락을 추구할 것을 강조하였다.

- ㉡ 에피쿠로스가 긍정의 대답을 할 질문이다. 에피쿠로스는 이성을 통해 인간의 욕구를 분별하여 추구해야 참된 쾌락을 누릴 수 있다고 보았다.

- ❌ 에피쿠로스가 부정의 대답을 할 질문이다. 에피쿠로스에 따르면, 육체적인 쾌락을 무분별하게 추구하다 보면 오히려 더 큰 고통을 초래할 수 있기 때문에 정신적이고 지속적인 쾌락을 추구해야 한다.

감각 있는 풀이 TIP

에피쿠로스가 말하는 쾌락은 '고통의 부재'를 의미한다. 에피쿠로스는 육체적이고 감각적인 쾌락을 지속적으로 추구하다 보면 오히려 고통을 초래할 수 있기 때문에 이러한 쾌락을 절제해야 한다고 보았다.

08 민주주의의 발전과 행복

제시문은 정치가 소수의 특권이 아니라 모든 사람의 권리임을 보여주는 사례로, 민주주의가 발전할수록 시민의 자기 결정권이 확대되고 만족감이 증가하여 행복도가 높아질 수 있음을 보여 준다.

[선지 분석]

- ① 제시문은 주민들의 정치 참여가 공동체에 대한 주인의식을 높여 준다고 설명하고 있으므로, 민주주의의 발전이 시민의 행복한 삶으로 이어질 수 있다는 점을 알 수 있다.
- ❌ 제시문은 권위주의가 아니라 모든 주민이 동등하게 참여하는 민주주의 제도를 긍정적으로 설명하고 있다.
- ❌ 제시문은 주민들의 참여가 시민들로 하여금 공동체의 주인이라는 의식을 강화한다는 내용이다.
- ❌ 제시문은 모든 주민이 동등한 권리를 가지고 참여하는 것이 중요함을 강조하고 있다.
- ❌ 제시문은 정치적 결정에 대해 소수가 아닌 다수 주민의 참여와 권리 보장을 강조하고 있다.

1등급 완성 문제

14~15쪽

01 ① 02 ③ 03 ⑤ 04 ② 05 ④ 06 ④
07 ① 08 ②

01 다문화 사회에 대한 통합적 관점

제시문은 서로 다른 문화를 있는 그대로 인정하고 존중하는 다문화주의적 태도의 필요성을 강조하며, 문제 상황의 근본적 해결을 위해 시간적, 공간적, 사회적, 윤리적 관점에서 다각적으로 접근할 필요가 있다고 주장한다.

[선지 분석]

- ❌ 서로 다른 문화를 있는 그대로 인정하고 존중할 것을 강조하는 것은 다문화주의의 입장이다. 융광로 이론으로 대표되는 동화주의는 다양한 문화를 하나로 융합해야 한다는 관점으므로 ㉠의 취지에 부합하지 않는다.
- ② 시간적 관점은 역사적 배경과 시대적 맥락에 초점을 두고 사회 현상을 살펴보는 관점이다.
- ③ 공간적 관점은 장소와 지역 및 공간적 상호 작용에 중점을 두고 사회 현상을 살펴보는 관점이다.

- ④ 사회적 관점은 사회 구조와 사회 제도를 중심으로 사회 현상을 탐구하고 대안을 살펴보는 관점이다.
- ⑤ 윤리적 관점은 도덕적 가치와 규범을 바탕으로 사회 현상을 해석하고 문제점을 찾아 바람직한 삶의 모습을 살펴보는 관점이다.

고득점을 위한 핵심 개념

다문화에 대한 다양한 입장

동화주의	이민자가 출신국의 언어, 문화, 사회적 특성을 포기하고 주류 사회의 일원이 되도록 주류 문화로 편입시켜야 한다고 보는 입장
샐러드 볼 이론	다른 맛을 가진 채소와 과일들이 서로 조화를 이루어 샐러드가 완성되듯이, 다양한 문화가 서로 대등하게 조화를 이루어야 한다고 보는 입장
국수 대접 이론	국수가 주된 역할을 하고 고명이 부수적인 역할을 하여 맛을 내듯이, 주류 문화를 중심으로 비주류 문화를 조화시켜야 한다고 보는 입장

02 맹자의 향산(恒産)과 향심(恒心)

출제 예상 포인트 맹자의 사상은 통합사회 8종 교과서에서 모두 다루고 있으므로 대학수학능력시험에 출제될 가능성이 높다. 따라서 맹자가 제시한 행복한 삶을 위한 조건에 대해 명확히 이해해야 한다.

제시문의 스승은 맹자이다. 맹자는 일반 백성이 도덕적인 마음을 유지하기 위해서는 군주가 백성들의 생업을 보장하기 위해 노력해야 한다고 주장하였다. 이러한 맹자의 관점은 행복한 삶을 위해 경제적 안정이 선행되어야 한다고 강조하는 것이다.

[선지 분석]

- ⓧ 맹자는 민주적인 정치 제도의 확립이 아닌 민본주의에 바탕을 둔 백성의 생계 보장을 강조하였다.
- ⓧ 맹자는 도덕적 삶을 위한 물질적 가치의 필요성을 인정하였다.
- ③ 맹자에 따르면, 일반 백성은 일정한 생업[恒産]이 있어야 도덕심[恒心]을 유지할 수 있다.
- ⓧ 맹자는 군주가 백성들의 생업을 보장하기 위한 책임을 다해야 한다고 보았다.
- ⓧ 맹자에 따르면, 도덕적인 마음을 유지하기 위해서는 경제적 안정이 필요하지만, 도덕적인 마음이 경제적 안정을 위한 수단은 아니다.

고득점을 위한 핵심 자료

향산(恒産)과 향심(恒心)

향산이 없어도 향심을 지니는 것은 오직 선비만이 할 수 있는 일이다. 일반 백성은 향산이 없으면 향심을 지닐 수 없다. 향심이 없으면 방탕하고 편벽되며 간사하고 사치스러워서 못 하는 짓이 없게 된다. 그렇기 때문에 현명한 군주는 백성들의 생업을 관장할 때 반드시 위로는 부모를 봉양하고 아래로는 처자식을 부양하기에 부족함이 없게 해 준다.

- 맹자, 『맹자』

맹자에 따르면, 일반 백성들은 일정한 생업[恒産]이 있어야 변치 않는 도덕심[恒心]을 유지할 수 있으며, 오직 선비만이 향산이 없어도 향심을 유지할 수 있다. 이러한 맹자의 사상은 행복을 실현하기 위해서는 경제적 안정이 필요하며, 이러한 경제적 안정을 토대로 자아실현과 도덕적 삶, 그리고 진정한 행복이 가능하다는 점을 보여 준다.

03 도덕적 성찰의 중요성

신문 칼럼은 도덕적 성찰의 중요성에 대해 이야기하고 있다. 도덕적 성찰이란 생활 속에서 자신의 마음가짐과 행동 또는 자신의 정체성과 가치관에 관해 도덕적 관점에서 깊이 있게 반성하고 살피는 태도이다.

[선지 분석]

- ⓧ 칼럼은 외부 전문가의 조언에 의존해야 한다는 내용이 아니라, 스스로 옳고 그름을 판단하고 자신의 삶을 되돌아보는 태도를 가져야 한다고 말한다.
- ⓧ 칼럼은 결과나 효율보다 올바른 삶에 대한 고민과 삶을 점검하는 태도를 강조한다.
- ⓧ 칼럼은 도덕적 삶을 위해 자신을 돌아보는 태도를 강조하고 있으며, 타인을 위한 배려에 대해서는 언급하고 있지 않다.
- ⓧ 칼럼은 타인의 판단 기준이 아니라 스스로의 판단과 책임 있는 행동이 중요하다고 강조한다.
- ⑤ 칼럼은 소크라테스의 말을 인용하여 자신의 생각과 행동을 되짚고 점검하는 도덕적 성찰의 중요성을 강조한다.

04 아리스토텔레스와 에피쿠로스의 행복

출제 예상 포인트 행복에 대한 아리스토텔레스의 사상은 통합사회 8종 교과서에 모두 수록된 개념이므로 심화 학습이 필요하다. 제시문과 같이 에피쿠로스와 함께 출제될 수도 있고, 공자, 노자, 석가모니 등 동양 사상가와 짝을 이루어 출제될 가능성도 있다.

갑은 아리스토텔레스, 을은 에피쿠로스이다. 아리스토텔레스는 인간 행위의 궁극적인 목적이 행복이라고 보고, 행복이란 덕에 따르는 영혼의 활동이라고 주장하였다. 에피쿠로스는 쾌락이 모든 가치를 평가하는 최고선이며, 참된 쾌락은 몸의 고통과 마음의 불안이 모두 소멸한 상태, 즉 평정심의 상태라고 주장하였다.

[선지 분석]

- ㉠ 아리스토텔레스는 인간 행위의 궁극적 목적이 행복이며, 이는 인간의 고유한 기능인 이성을 탁월하게 발휘하는 영혼의 상태, 즉 덕을 갖출 때 실현될 수 있다고 보았다.
- ⓧ 아리스토텔레스에 따르면, 품성적 덕은 습관을 통해 형성되지만 지성적 덕은 교육을 통해 완성된다.
- ⓧ 에피쿠로스는 쾌락을 삶의 목적이라고 보았다. 다만 그는 정신적이고 지속적인 쾌락을 추구해야 하며, 순간적이고 감각적 쾌락은 멀리해야 한다고 주장하였다.
- ㉡ 아리스토텔레스는 이성이 인간 고유의 기능이라고 보면서 행복은 이성을 탁월하게 발휘할 때 실현된다고 보았다. 에피쿠로스 역시 이성적 숙고를 통해 유익한 쾌락과 해로운 쾌락을 구분해야 한다고 보았다.

고득점을 위한 핵심 자료

에피쿠로스가 제시한 욕구의 종류

에피쿠로스는 참된 행복인 평정심에 이르기 위해서는 자연적이고 필수적인 욕구만을 최소한으로 충족하는 소박한 삶과 이성을 통해 욕구를 분별하고 절제하는 검소한 삶을 살아야 한다고 강조하였다.

욕구의 구분	사례
자연적이고 필수적인 욕구	의식주에 대한 기본적인 욕구
자연적이지만 필수적이지 않은 욕구	성적인 욕구
자연적이지도 필수적이지도 않은 욕구	부, 명예, 권력에 대한 욕구

05 행복에 대한 벤담과 밀의 입장

출제 예상 포인트 벤담과 밀은 공리주의 사상가로 인간이 행복과 쾌락을 추구하는 존재임을 강조한 사상가이다. 하지만 그들이 주장한 공리주의 사상에는 차이점이 있으므로 벤담과 밀이 주장한 공리주의 사상의 공통점과 차이점을 반드시 파악해야 한다.

갑은 벤담, 을은 밀이다. 벤담은 도덕의 목적이 행복 증진에 있다고 보았으며, 개인의 행복과 사회 전체의 행복을 조화해야 한다고 보았다. 또한 모든 쾌락에는 질적인 차이가 없고 양적인 차이만 있다는 양적 공리주의를 주장하였다. 반면에 밀은 최대 다수의 최대 행복이 도덕과 입법의 원리라는 벤담의 입장을 수용하면서도, 쾌락에는 질적인 차이가 있으며 쾌락의 양뿐만 아니라 질적 차이도 고려해야 한다는 질적 공리주의를 주장하였다. 밀은 질적으로 높은 쾌락은 낮은 쾌락보다 양과 무관하게 더 가치 있으며, 정상적인 인간이라면 누구나 질적으로 높고 고상한 쾌락을 추구할 것이라고 보았다.

[선지 분석]

- ㉠ 벤담은 양적 공리주의 입장에서 모든 쾌락에는 오로지 양적인 차이만이 있다고 보았으며, 어떤 행위가 산출하는 쾌락의 총량이 클수록 더 도덕적인 행위라고 보았다.
- ㉡ 밀은 감각적 쾌락보다 정신적 쾌락이 질적으로 우월한 쾌락임을 강조하고, 인간의 품위와 존엄성을 해치지 않는 쾌락을 추구해야 한다고 보았다.
- ㉢ 밀은 최대 다수의 최대 행복을 주장한 벤담의 사상을 계승하여 많은 사람에게 유익한 결과를 주는 행위가 도덕적으로 옳은 행위라고 보았다.
- ✕ 벤담과 밀은 모두 사회 전체의 행복이 구성원 개개인의 행복의 총합이라고 보았다.

고득점을 위한 핵심 자료

벤담과 밀의 공리주의 사상 비교

	벤담	밀
공통점	<ul style="list-style-type: none"> • '최대 다수의 최대 행복'을 도덕의 기본 원리로 봄. • 인간은 누구나 쾌락을 추구하고 고통을 피하려고 함. • 쾌락은 선이고 고통은 악이며, 행복이 삶의 목적임. 	
차이점	<ul style="list-style-type: none"> • 양적 공리주의: 모든 쾌락에는 질적인 차이가 없고 양적인 차이만 존재 • 쾌락의 양을 계산하는 기준: 강도, 지속성, 확실성, 근접성, 다산성, 순수성, 범위 	<ul style="list-style-type: none"> • 질적 공리주의: 쾌락에는 질적인 차이가 있으며 쾌락의 양뿐만 아니라 질적 차이에 대한 고려도 필요 • 질적으로 낮은 쾌락이란 단순한 감각적 쾌락이며, 질적으로 높은 쾌락은 정신적 쾌락 • 정상적인 인간이라면 누구나 질적으로 높고 고상한 쾌락을 추구

06 행복에 대한 아리스토텔레스와 노자의 입장

갑은 아리스토텔레스, 을은 노자이다. 아리스토텔레스는 인간의 행복이 감각적 쾌락이나 부의 추구가 아니라, 덕을 갖춘 삶을 통해 가능하다고 주장하였다. 노자는 인위적인 것을 버리고 자연의 순리에 따라 살아가는 무위자연(無爲自然)의 삶을 통해 행복에 이를 수 있다고 보았다.

[선지 분석]

- ✕ 아리스토텔레스는 경제적 가치를 부정하지 않았으며, 어느 정도의 외적 조건(재물, 건강, 친구 등)은 행복을 위해 필요하다고 보았다.
- ㉡ 아리스토텔레스에 따르면, 품성적 덕은 선천적으로 부여되는 것이 아니라 습관과 반복적 실천을 통해 형성된다.

✕ 노자는 인위적인 도덕규범을 경계하고, 자연스러운 삶과 소박함을 따를 때 참된 행복에 이를 수 있다고 보았다.

- ㉢ 아리스토텔레스는 도덕적 덕목 중 하나로 절제를 제시하였다. 노자 역시 무욕(無欲)의 삶을 강조하였다.

감각 있는 풀이 TP

제시문에서 '덕에 따르는 영혼의 활동'이라는 키워드를 통해 갑 사상가는 아리스토텔레스임을 추론할 수 있다. 그리고 '현명한 사람을 숭상하지 않으면'과 '재물을 귀하게 여기지 않으면' 등 전체적으로 인위적인 규범이나 욕심을 버리는 삶을 강조한다는 점을 통해 을 사상가가 노자임을 추론할 수 있다. 이처럼 제시문의 핵심 용어나 표현을 통해 사상가를 알아내기 위해서는 여러 사상가와 관련된 핵심 개념이나 용어를 정확히 정리해야 한다.

고득점을 위한 핵심 자료

동양 사상가들의 행복론

사상가	행복
공자	<ul style="list-style-type: none"> • 인(仁)과 예(禮)와 같은 도덕규범을 따르는 삶을 통해 행복을 실현할 수 있음. • 대동 사회(大同社會): 인륜이 구현되고 인재가 중용되며, 재화가 고르게 분배되고 사회적 약자가 보살핌을 받는 평화롭고 도덕적인 공동체가 실현되면 모두가 행복한 삶을 살아갈 수 있음.
노자	<ul style="list-style-type: none"> • 인위적인 도덕규범에서 벗어나 무위자연(無爲自然)의 삶을 살아야 함. • 무위자연(無爲自然): 사람의 인위적 힘이 더해지지 않은 스스로 그러한 상태를 말함. • 무위의 삶을 살기 위해 무지(無知), 무욕(無欲)의 덕을 갖추어야 함. • 소국과민(小國寡民): 나라(영토)가 작고 인구가 적은 나라를 의미하며 노자에 따르면, 인위적 문명의 발달이 없는 무위와 무욕의 사회에서 모두가 행복을 실현할 수 있음.
석가모니	<ul style="list-style-type: none"> • 인간의 삶은 고통이며 생각, 말, 행동으로 짓는 업(業)으로 인해 고통의 세계를 윤회(輪廻)함. • 수행을 통해 진리를 깨달아 열반(涅槃)에 이를 때 고통에서 벗어나 행복을 실현할 수 있음.

07 질 높은 정주 환경에 대한 이중환의 입장

출제 예상 포인트 이중환의 『택리지』는 조선 시대의 관점이라는 한계가 있지만, 여전히 행복 실현을 위한 조건 중 '질 높은 정주 환경'의 중요성을 강조하는 데에 있어 시사점이 크고, 현대 사회에도 유의미하게 적용될 수 있다.

제시문은 이중환이 『택리지』에서 설명한 인간이 살기 좋은 곳의 조건들이다. 지리는 풍수지리적 명당을 말하며, 생리는 그 땅에서 생산되는 이익을 말한다. 인심은 넉넉하고 좋은 이웃 간의 정을 말하며, 산수는 빼어난 경치를 말한다. 이러한 이중환의 주장은 오늘날 질 높은 정주 환경에 대한 많은 시사점을 제공한다.

[선지 분석]

- ㉠ 좋은 지리는 풍수지리적 명당을 말한다. 땅의 기복이 심하지 않고, 물과 바람의 흐름이 순하며, 지세가 안정된 곳이 이에 해당한다.
- ㉡ 생리는 토지에서 산출되는 이익으로, 전답이 기름지고 시장과 가까우며 물자와 땀값이 풍부한 것을 의미한다.
- ✕ 아름다운 경치는 산수에 해당한다.
- ✕ 이웃 간의 정은 인심에 해당한다.

고득점을 위한 핵심 자료

‘생리(生利)’의 의미

- 위로는 조상과 부모를 받들고, 아래로는 처자와 노비를 거두어야 하므로 재산을 경영하여 살림을 넓히지 않을 수가 없다.
- 인간이 한세상 살아가고, 또 죽은 자를 보내는 데에도 모두 재물의 도움이 필요하다. 그런데 재물이라는 것은 결코 하늘에서 그냥 내리거나 땅에서 솟아나지 않는다.

이중환은 『택리지』에서 사람이 살 만한 조건으로 지리(地理), 생리(生利), 산수(山水), 인심(人心) 등의 네 가지 요소를 제시하였다. 여기서 ‘생리’는 좁은 의미에서 ‘땅에서 나는 이익’을 뜻하지만, 넓은 의미에서는 ‘모든 경제활동과 그 이익’을 의미한다.

08 행복한 삶을 실현하기 위한 조건

갑은 행복한 삶을 위해서는 경제적으로 안정되어야 하며, 경제적 여건이 마련되어야 자아실현과 행복이 가능하다는 입장이다. 을은 경제적 안정의 필요성은 인정하지만 그것만으로는 충분하지 않으며, 타인에 대한 배려와 도덕적 가치를 실천할 때 행복한 삶이 실현될 수 있다는 입장이다.

[선지 분석]

- ✕ 갑과 을 모두 도덕적 성찰의 필요성을 인정하므로 갑과 을 모두 부정의 대답을 할 질문이다.
- ② 갑은 긍정, 을은 부정의 대답을 할 질문이다. 갑은 경제적 기반이 행복 실현의 핵심이라는 입장이며, 을은 도덕적 실천이 더 중요하다는 입장이다.
- ✕ 갑과 을 모두 부정의 대답을 할 질문이다. 갑과 을 모두 배려의 필요성을 인정한다.
- ✕ 갑과 을 모두 부정의 대답을 할 질문이다. 갑과 을 모두 공동체적 가치 실천이 필요하다는 입장이다.
- ✕ 갑이 부정의 대답을 할 질문이다. 갑은 생활 기반이 없으면 자아실현이 어렵다는 입장이다.

III. 자연환경과 인간

02 자연환경과 인간 생활

기출 동형 문제

19쪽

01-① ⑤ 01-② ② 02-① ③ 02-② ③

01-① 온대 기후와 열대 기후의 특성 비교

지도에 표시된 두 지역은 이탈리아 시칠리아섬에 위치한 메시나와 싱가포르이다. 메시나는 지중해성 기후에 해당하며, 싱가포르는 열대 우림 기후에 해당한다. 제시된 그래프에서 A는 서울과의 월평균 기온 차이에서 겨울은 크고 여름은 작다. 또한 서울과의 월 강수량 차이에서 겨울은 높고 여름은 낮다. 따라서 A는 월평균 기온이 연중 높으며, 월 강수량은 연중 고른 열대 우림 기후에 해당하는 싱가포르이다. B는 A에 비해 겨울 기온이 상대적으로 낮으며, 겨울에 강수량이 많고 여름에 강수량이 적다. 따라서 B는 여름이 고온 건조한 지중해성 기후에 해당하는 메시나이다.

[선지 분석]

- ✕ 올리브, 포도 등을 재배하는 수목 농업은 여름철이 고온 건조한 지중해성 기후 지역에서 주로 행해지는 농업이다. 싱가포르의 열대 우림 기후 지역이다.
- ✕ 지중해성 기후 지역인 메시나는 여름이 고온 건조하기 때문에 여름에 강수가 집중하는 서울보다 여름 강수 집중률이 낮다.
- ✕ 고상 가옥은 열대 우림 기후 지역의 전통 가옥이다. 지중해성 기후 지역인 메시나에서는 전통 가옥의 특징으로 흰색 계열의 벽, 푸른 지붕, 좁은 골목 등이 나타난다.
- ✕ 메시나는 여름에 아열대 고압대의 영향을 받기 때문에 여름이 건조하다. 이에 비해 열대 우림 기후 지역인 싱가포르는 연중 적도 수렴대의 영향을 받기 때문에 강수가 일 년 내내 60mm 이상으로 고르게 나타난다.
- ⑤ 서울과의 월평균 기온 차이에서 A, B 모두 양의 값을 나타내고 있으므로 A와 B는 모두 서울보다 연평균 기온이 높다.

고득점을 위한 핵심 자료

온대 기후의 다양성

서안 해양성 기후	<ul style="list-style-type: none"> • 연중 편서풍의 영향을 받아 강수량이 고르고 기온의 연교차가 작으며, 혼합 농업·낙농업이 발달 • 편서풍의 영향을 받는 대륙 서안의 남·북위 40~60°에 주로 분포
지중해성 기후	<ul style="list-style-type: none"> • 여름에 아열대 고압대의 영향으로 고온 건조하며, 수목 농업(올리브, 포도, 코르크 등)이 발달 • 겨울에 편서풍의 영향으로 온난 습윤하며, 곡물 농업(밀, 보리 등)이 발달 • 서안 해양성 기후 지역보다 위도가 낮은 북위 30~40°에 주로 분포
대륙 동안의 기후	<ul style="list-style-type: none"> • 여름에 습윤한 바람이 해양에서 대륙으로 불어 강수량이 많아 벼농사가 발달 • 겨울에 건조한 바람이 대륙에서 해양으로 불어 강수량이 적음. • 대륙 동안의 남·북위 20~40°에 주로 분포

감각 있는 풀이 TIP

이러한 문항을 해결하기 위해서는 기후 값 차이의 개념을 정확하게 이해하고 있어야 한다. 서울의 월별 기온 및 강수량 특성을 파악한 후에 서울과의 상대적 특성을 그래프를 통해 파악해야 한다. 이와 유사한 형식의 문항이 편차 개념을 적용한 문항이다. 기존 세계지리 과목의 기후 문제에 편차 개념을 적용한 문항이 많으니 기후 문제 풀이를 통해 본 문항과 유사한 형식의 문항에 대한 적응력을 기르는 연습이 필요하다.

01-② 온대 기후 지역의 특성 비교

출제 예상 포인트 본 문항은 수능 예시 문항에서 출제된 유형이기 때문에 익숙한 특정 지역의 기후 값을 기준으로 세계의 다양한 지역의 기후 특징을 파악할 수 있도록 여러 지역을 적용해 보는 연습이 필요하다.

지도에 표시된 지역은 런던, 상하이, 퍼스이다. 세 지역 중 연 강수량이 가장 많은 지역은 상하이로 B이며, 상하이는 7월이 1월보다 강수량이 많으므로 (가)는 1월, (나)는 7월이다. 런던은 서안 해양성 기후로 연중 강수가 고르기 때문에 A이며, C는 지중해성 기후가 나타나는 퍼스이다. 1월에 서울과 기온 차이가 가장 큰 ①은 1월이 여름인 남반구의 퍼스이다. 7월에 서울과 기온 차이가 가장 작은 ②은 대륙 동안에 위치한 상하이이며, ③은 런던이다.

[선지 분석]

- ❌ 1월에 수목 농업이 이루어지는 지역은 남반구의 지중해성 기후 지역인 퍼스이다.
- ② 7월에는 여름에 해당하고 대륙 동안에 위치한 상하이가 겨울에 해당하는 퍼스보다 벼농사에 유리하다.
- ❌ 런던은 A, ㉠, 상하이는 B, ㉡, 퍼스는 C, ㉢이다.
- ❌ 퍼스는 여름에는 아열대 고압대의 영향을 받고 겨울에는 편서풍의 영향을 받지만 런던은 일 년 내내 편서풍의 영향을 받는다.
- ❌ 시기별 강수량 및 연 강수량 그래프에서 퍼스는 상하이보다 연 강수량이 적음을 확인할 수 있다.

02-1 화산 지형과 카르스트 지형

(가)는 화산 지형, (나)는 카르스트 지형이다. 화산 지형은 지각 활동이 활발한 조산대와 대양저의 해령을 따라 집중적으로 분포한다. 탐 카르스트는 석회암의 용식으로 형성된 지형이다.

[선지 분석]

- ❌ 화산 지형이 나타나는 지역에서는 지각에 축적된 열을 이용하여 지열 발전이 이루어지고 있다.
- ㉠ 화산 지형은 조산대를 따라 주로 분포하는데, 특히 한태평양 조산대에 화산이 많이 분포한다. 또한 대서양 중앙 해령에서 화산 활동이 활발하다.
- ㉡ 탐 카르스트는 중국의 구이린, 베트남의 할롱베이이 대표적이다.
- ❌ 카르스트 지형은 기반암인 석회암이 빗물이나 지하수 등의 용식 작용을 받아 형성된다.

02-2 관광 자원으로서의 탐 카르스트 지형 특징

출제 예상 포인트 자료와 관련된 내용은 통합사회 5종 교과서에 제시되어 있으므로 지형과 관련된 단원에서는 중요한 평가 요소에 해당한다. 따라서 할롱베이뿐만 아니라 관광 자원으로 활용되고 있는 다른 카르스트 지형도 위치를 국가와 함께 정리해 둘 필요가 있다.

제시된 자료는 베트남 북부에 위치한 할롱베이의 경관과 주민 생활을 나타낸 것이다. 할롱베이는 바다 위에 형성된 카르스트 지형으로 중국의 구이린과 함께 탐 카르스트 지형이 나타나는 대표적인 지역이다.

[선지 분석]

- ① 탐 카르스트는 석회암이 빗물, 하천, 해수의 차별적인 용해 및 침식(용식) 작용을 받는 과정에서 남게 된 탐 모양의 봉우리이며, 주로 고온 다습한 지역에서 발달한다. 할롱베이는 수많은 탐 카르스트가 바다 위에 솟아 있어 유명해졌다.
- ② 할롱베이를 이루는 암석은 대부분 석회암으로 고생대 초기에 얕은 바다에서 형성된 퇴적암이다.
- ❌ ㉢에 들어갈 국가는 베트남으로, 베트남은 동남아시아 문화권에 포함된다. 동남아시아 문화권은 인도차이나반도의 여러 국가와 인도네시아, 필리핀 등의 섬나라를 포함한다. 동아시아 문화권은 한자, 젓가락 등을 공유하는 국가로 대한민국, 중국, 일본 등이 있다.
- ④ ㉡은 각종 탐 카르스트가 모여 형성된 거대한 카르스트 지형으로, 탄산 칼슘으로 구성된 석회암이 약산성의 빗물이나 이산화 탄소의 함유량이 많은 지하수에 의한 용식 작용으로 형성된다.
- ⑤ 할롱베이가 있는 지역의 주민은 전통적으로 어업에 종사했지만, 할롱베이가 유명 관광지로 알려지면서 이곳을 방문하는 관광객을 대상으로 각종 서비스업에 종사하는 주민의 비율이 빠르게 증가하였다.

수능 기본 문제

20~23쪽

01 ③	02 ②	03 ③	04 ②	05 ①	06 ③
07 ①	08 ②	09 ③	10 ④	11 ③	12 ①
13 ④	14 ④	15 ③	16 ②		

01 세계의 기후

출제 예상 포인트 기후는 인간 생활에 많은 영향을 미치기 때문에 기후 패턴과 기후와 관련된 생활 문화 사례는 대학수학능력 시험에 출제될 가능성이 높다.

세계의 기후는 대체로 쾨펜의 기후 구분 기준에 따라 적도에서 극지방으로 가면서 열대, 건조, 온대, 냉대, 한대 기후 순으로 나타난다. 해발 고도가 높아짐에 따라 기온이 하강하기 때문에 열대 기후 지역에 위치한 높은 산지에서는 기후대가 수직적으로 다양하게 나타난다.

[선지 분석]

- ❌ 위도와 강수량은 상관관계가 크지 않고 일반적으로 강수량은 대기 대순환과 관계가 깊다. 적도 주변에는 적도 수렴대로 인해 강수량이 많고 고위도 지역은 한대 전선대로 인해 강수량이 많은 편이다. 이에 비해 중위도는 아열대 고압대로 인해 강수량이 매우 적다.
- ❌ 적도 주변은 남북에서 불어오는 습윤한 무역풍이 수렴대를 형성하여 상승 기류가 형성된다. 이로 인해 스콜 등과 같은 대류성 강수가 자주 발생하여 연 강수량이 많은 편이다. 따라서 적도 주변은 연 강수량이 연 증발량보다 많다.
- ③ 열대 기후 지역은 기온과 습도가 높고, 불래지수가 높아 다양한 풍토병이 발생하기 때문에 인간 거주에 불리하다. 그러나 해발 고도가 높아짐에 따라 기온이 하강하여 적당한 해발 고도의 지역은 인간 거주에 적합하다. 그래서 남아메리카 안데스산맥에는 해발 고도가 높은 고산 지대에 고대 문명이 발달하기도 하였다.
- ❌ 세계의 기후는 쾨펜의 기후 구분에 따라 기온과 강수량을 기준으로 열대, 건조, 온대, 냉대, 한대 기후로 구분한다.
- ❌ 냉대 기후는 한대 기후보다 분포의 평균 위도가 낮다. 한대 기후는 최남월 평균 기온이 10℃ 미만으로 극지방과 그 주변에 분포한다.

02 열대 기후 지역과 건조 기후 지역의 전통 가옥

출제 예상 포인트 기후 지역의 전통 가옥은 대학수학능력 시험 빈출 소재이다. 기후 특징이 전통 가옥 구조의 형태에 어떤 영향을 미쳤는지, 주민들은 전통 가옥에서 어떻게 생활하고 있는지에 대한 내용을 묻는 문항이 자주 출제된다. 열대 기후와 한대 기후에 모두 나타나는 고상 가옥, 건조 스텝 기후의 이동식 가옥 등 지역별 독특한 전통 가옥과 형태를 정리해 둘 필요가 있다.

(가)는 열대 기후 지역의 전통 가옥, (나)는 건조 기후 지역의 전통 가옥이다. 열대 기후는 기온이 높고 강수량이 많기 때문에 전통 가옥은 바닥을 지면으로부터 띄워서 짓고 지붕의 경사가 급하다. 건조 기후는 강수량이 적고 기온의 일교차가 크기 때문에 전통 가옥은 흙벽돌을 이용하여 짓고 벽이 두껍고 창문이 작다.

[선지 분석]

- ㉠ 열대 기후는 적도를 중심으로 분포하며 최한월 평균 기온이 18℃ 이상이다. 건조 기후의 사막은 낮에는 기온이 높게 올라가지만 밤에는 기온이

낮아져 기온의 일교차가 크다. 따라서 연평균 기온은 열대 기후가 건조 기후보다 높다.

- ✕ 건조 기후는 열대 기후보다 식생 밀도가 낮아서 열대 기후만큼 태양 복사 에너지를 흡수하지 못한다. 따라서 낮에는 기온이 높게 올라가고 밤에는 기온이 낮게 떨어져 기온의 일교차가 매우 크게 나타난다.
- ㉔ 건조 기후는 푼펜의 기후 구분을 기준으로 연 강수량 500mm 미만이며, 특히 사막 기후는 연 강수량 250mm 미만에 해당한다. 이에 비해 열대 기후는 적도 수렴대의 영향을 받아 연 강수량이 많다.
- ✕ 플랜테이션은 선진국의 기술과 자본이 원주민의 저렴한 노동력과 결합하여 상품 작물을 대규모로 재배하는 경작 방식이다. 주로 열대 기후 지역에서 커피, 바나나, 카카오, 차 등이 플랜테이션으로 재배된다.

03 세계의 기후 지역 구분

출제 예상 포인트 세계의 기후 구분은 자연환경에서 가장 기본적인 개념이기 때문에 앞에 정리된 푼펜의 기후 구분을 참고하여 열대 기후부터 한대 기후까지 기준과 분포 지역을 숙지해야 한다.

지도의 A는 열대 기후, B는 건조 기후, C는 온대 기후, D는 냉대 기후, E는 한대 기후이다.

[선지 분석]

- ㉑ 열대 기후는 최한월 평균 기온 18℃ 이상인 지역으로 연중 월평균 기온이 20~30℃에서 일정하게 유지된다. 따라서 기온의 연교차가 기온의 일교차보다 작다.
- ㉒ 건조 기후 지역의 주민들은 물이 부족하므로 오아시스 주변에서 건조한 기후에 잘 견디는 대추야자, 밀 등을 재배하면서 생활한다.
- ✕ 온대 기후는 중위도 대륙 서안과 동안에 주로 나타나는데 서안은 편서풍과 해양의 영향이 강하고 동안은 계절풍의 영향이 강하다. 대륙 동안의 여름은 강수량이 풍부하고 기온이 높아서 벼농사에 유리하다.
- ㉔ 냉대 기후 지역은 북반구의 온대 기후와 한대 기후 지역 사이에 동서로 넓게 분포하는데, 이 지역에는 타이가라고 불리는 상록 침엽수림대가 넓게 나타난다.
- ㉕ 한대 기후 지역의 주민들은 농사를 짓지 못하기 때문에 주로 순록 유목, 수렵이나 어로 등을 하며 생활한다.

04 열대 기후 지역과 냉대 기후 지역의 전통 음식

출제 예상 포인트 기후는 의식주 모두에 영향을 주고 특히 음식 문화 발달과 밀접한 관련이 있다. 기후로 인해 발달한 다양한 음식과 관련된 내용은 통합사회 8종 교과서에서 다루고 있으며 대학수학능력시험에 출제될 가능성이 높다.

(가)는 인도네시아의 전통 음식인 나시고렝, (나)는 스웨덴의 전통 음식인 스튜이다. 인도네시아는 열대 기후, 스웨덴은 냉대 기후 지역에 위치한다. 나시고렝은 향신료가 들어간 볶음밥으로, 열대 기후 지역은 기후가 덥고 습하기 때문에 음식이 잘 상한다. 따라서 이를 방지하기 위해 음식에 향신료를 첨가하고 기름에 볶아서 요리하는 문화가 발달하였다. 스튜는 물과 여러 음식 재료를 섞어서 만드는 수프와 흡사한 요리 형태로, 기후가 추운 냉대 기후 지역에서 열량이 높은 음식을 섭취하여 추위를 이겨 내기 위해 발달한 음식이다.

[선지 분석]

- ㉒ (가)는 열대 기후 지역인 A, (나)는 냉대 기후 지역인 D에서 주로 먹는다.

05 온대 기후 지역의 다양한 주민 생활

출제 예상 포인트 온대 기후는 세계에서 인구 밀도가 가장 높은 기후 지역으로 사람들의 생활 모습도 다채롭다. 따라서 문항 출제 소재도 다양하고 북반구와 남반구에 대칭으로 발달하기 때문에 기후 값을 활용한 고난도 문항이 자주 출제되어 가장 기본적인 개념부터 정리해야 한다.

온대 기후는 온화하여 인구 밀도가 가장 높으며, 대륙의 서안과 동안에 기후가 서로 다르게 나타난다. 중위도에 위치하기 때문에 계절의 변화가 뚜렷하고 대륙의 서안은 편서풍과 아열대 고압대의 영향으로, 대륙의 동안은 계절풍의 영향으로 전통 가옥, 농업 등에서 독특한 문화가 나타난다.

[선지 분석]

- ✕ 지중해성 기후는 여름에 고온 건조하고 겨울에는 온난 습윤하다. 전통 가옥의 창문이 작은 이유는 여름이 뜨겁고 건조하기 때문이다. 벽이 흰색인 이유도 햇빛을 반사하기 위함이다.
- ㉒ 수목 농업은 지중해 연안 지역의 여름철 고온 건조한 날씨를 견딜 수 있는 잎이 작고 단단한 경엽수림을 재배하는 농업이다. 대표적인 작물로는 올리브, 포도, 오렌지, 코르크 등이 있다.
- ㉓ 혼합 농업은 서안 해양성 기후가 나타나는 북서 유럽에서 여름이 서늘하여 초기 조성에 유리하고, 밀, 보리 등의 식량 작물 재배와 목축업을 함께 하는 농업 방식이다.
- ㉔ 대륙의 동안은 여름과 겨울에 부는 계절풍의 특성이 반영된 생활 문화가 발달한다. 여름에는 해양에서 불어오는 무더운 바람, 겨울에는 대륙에서 불어오는 차가운 바람으로 인해 기온의 연교차가 매우 크다. 따라서 전통 가옥은 더위와 추위에 모두 대비하는 형태가 발달하게 되었다.
- ㉕ 온대 기후 지역의 대륙 동안은 여름철에 기온이 높고 강수량이 집중되기 때문에 열대성 작물인 벼를 재배하기에 적절하다. 이에 비해 대륙 서안의 서안 해양성 기후는 기온이 높지 않아서, 지중해성 기후는 여름에 기온은 높지만 강수량이 적어서 벼농사에 불리하다.

06 온대 기후와 냉대 기후의 특성

출제 예상 포인트 제시된 그래프는 월별 기온과 강수량을 나타낸 가장 기본적인 기후 그래프이다. 이러한 기후 그래프를 기후 종류별로 북반구와 남반구를 구분하여 정리해 두면 응용 문항을 풀 때 많은 도움이 된다. 특히 건기와 우기가 나타나는 사바나 기후와 지중해성 기후 그래프를 북반구와 남반구를 구분하여 꼭 정리해 두어야 한다.

(가)는 최한월 평균 기온이 -3~18℃에 해당하므로 온대 기후 지역, (나)는 최한월 평균 기온이 -3℃ 미만, 최난월 평균 기온이 10℃ 이상이므로 냉대 기후 지역이다. 위도는 냉대 기후 지역이 온대 기후 지역보다 높다. (가)는 7월이 겨울, 1월이 여름이기 때문에 남반구에 위치하고 (나)는 북반구에 위치한다. 따라서 7월 낮 길이는 북반구가 여름에 해당하는 (나)가 겨울에 해당하는 (가)보다 길다. 연간 육류 생산량은 대규모 목축업이 이루어지고 있는 남반구 온대 기후 지역인 (가)가 (나)보다 많다. (나)의 기후는 겨울이 춥고 길며 여름이 짧아서 목축업에 적절하지 않다. (나)에는 타이가라고 불리는 냉대 침엽수림이 넓게 분포하여 임업이 발달하였다. 따라서 그림의 A~E 중 (나)의 상대적 특성은 C이다.

고득점을 위한 핵심 자료

(가), (나) 기후의 심층적 분석

(가)	<ul style="list-style-type: none"> 강수량: 최소우월 강수량 30mm 이상 → 연중 습윤한 기후(f) 기온: 최한월 평균 기온 22℃ 이상 → 여름 기온이 높은 대륙 동안의 기후(a) 괴편의 기후 구분 기후형: 온난 습윤 기후(Cfa)
(나)	<ul style="list-style-type: none"> 기온: 최한월 평균 기온 -3℃ 미만, 최한월 평균 기온 10℃ 이상 → 냉대 기후(D) 강수량: 최소우월 강수량 30mm 이상 → 연중 습윤한 기후(f) 괴편의 기후 구분 기후형: 냉대 습윤 기후(Df)

07 건조 기후 지역의 기후 특성 및 주민 생활

출제 예상 포인트 건조 기후 지역은 인간 거주에 불리하므로 주민들은 이를 극복하기 위해 다양한 방법을 사용한다. 불리한 기후를 극복하기 위한 주민들의 생활 문화도 출제 소재로 자주 활용된다. 이동식 가옥뿐만 아니라 카나트와 같은 관개 시설, 타진과 같은 물을 사용하지 않는 전통 음식 등이 대표적인 사례이다.

제시된 사진에서 천막 형태의 가옥과 쌍봉낙타를 볼 수 있다. 천막 형태의 가옥은 몽골의 이동식 가옥인 게르이며, 쌍봉낙타는 사막이 넓게 분포하는 몽골에서 유용한 가축이다. 따라서 제시된 경관을 통해 건조 기후 지역임을 알 수 있다.

[선지 분석]

- ㉠ 건조 기후는 연 강수량 500mm 미만으로 연 증발량이 연 강수량보다 많다.
- ㉡ 몽골의 스텝 기후는 긴 건기와 짧은 우기가 나타나며, 짧은 우기에 일시적으로 풀이 자라기 때문에 유목을 하는 주민들은 가축을 이끌고 풀을 찾아 주기적으로 이동하는 생활을 한다.
- ㉢ 이동식 화전 농업으로 작물을 재배하는 지역은 열대 기후 지역이다. 열대 기후 지역에서는 주식 작물인 카사바, 양 등을 이동식 화전 농업으로 재배한다.
- ㉣ 건조 기후 지역에서는 유목 생활을 하므로 주로 염소나 양을 길러 고기나 유제품을 먹는다. 기름에 튀겨서 요리하는 지역은 기후가 덥고 습한 열대 기후 지역이다.

08 사바나 기후와 지중해성 기후의 공통점

출제 예상 포인트 건기와 우기가 뚜렷한 사바나 기후와 지중해성 기후는 북반구와 남반구에 두 기후가 모두 나타나기 때문에 기후 그래프를 변형하면 두 기후 지역을 지도에서 찾기가 매우 까다로워 고난도 문항의 단골 소재이다. 남반구에 위치하는 사바나 기후 지역으로는 오스트레일리아의 다윈, 브라질의 브라질리아, 탄자니아의 다르에스살람 등이, 지중해성 기후 지역으로는 남아프리카 공화국의 케이프타운, 오스트레일리아의 퍼스 등이 자주 출제된다.

(가)는 풀을 찾아 이동하는 야생 동물이 서식하는 사바나 기후 지역의 모습이며, (나)는 흰 벽과 푸른 지붕이 특징인 지중해 연안의 전통 가옥의 모습이다.

[선지 분석]

- ㉠ 사바나 기후는 여름에 적도 수렴대의 영향을 받아 강수가 집중하며, 겨울에 아열대 고압대의 영향을 받아 건조하다. 지중해성 기후는 여름에 아열대 고압대의 영향을 받아 건조하고 겨울에 편서풍의 영향을 받아 비가 자주 내린다.

㉡ 계절풍은 대체로 대륙의 동쪽에 영향을 미친다. 지중해성 기후는 편서풍의 영향을 받는 대륙의 서쪽에 나타난다.

㉢ 사바나 기후는 겨울에 아열대 고압대의 영향을 받고, 지중해성 기후는 여름에 아열대 고압대의 영향을 받는다. 아열대 고압대는 사바나 기후 분포 지역과 지중해성 기후 분포 지역 사이에서 오르내리면서 영향을 미치는 데, 영향을 받는 시기에는 건기가 나타난다.

㉣ 1년 중 기온이 높은 달은 여름에 해당한다. 사바나 기후는 여름에 적도 수렴대의 영향을 받아 비가 많이 내리지만, 지중해성 기후는 여름에 아열대 고압대의 영향을 받아 비가 거의 내리지 않는다.

09 열대 기후, 건조 기후, 온대 기후의 특징 비교

출제 예상 포인트 기후 지역별 재배 작물은 통합사회 5종 교과서에 제시되어 있으므로 대학수학능력시험 출제 소재로 적합하다. 따라서 개념을 확장하여 열대, 건조, 지중해성 기후 지역뿐만 아니라 다른 기후 지역의 재배 작물도 정리해 두면 좋을 것이다.

(가)는 카사바, 카카오 등이 재배되는 열대 기후 지역, (나)는 대추야자 등이 재배되는 건조 기후 지역, (다)는 올리브, 오렌지 등이 재배되는 온대 기후 지역 중 지중해성 기후 지역이다.

[선지 분석]

- ㉠ 열대 기후 지역은 건조 기후 지역보다 기온의 일교차가 작다. 사막 등이 분포하는 건조 기후 지역은 세계의 기후 지역 중 기온의 일교차가 가장 크다.
- ㉡ 세계의 기후는 적도에서 위도가 높아질수록 대체로 열대, 건조, 온대, 냉대, 한대 기후 순으로 나타난다. 따라서 온대 기후 지역이 건조 기후 지역보다 분포의 평균 위도가 높다.
- ㉢ 계절의 변화는 위도와 관련이 깊다. 적도 부근의 열대 기후 지역은 계절의 변화가 거의 없으며 적도에서 위도가 높아질수록 계절의 변화가 뚜렷해지다가 중위도를 지나 고위도, 극지방으로 가게 되면 계절은 여름과 겨울 두 계절로 바뀌게 된다. 따라서 중위도에 위치한 온대 기후 지역이 적도 부근의 열대 기후 지역보다 계절의 변화가 뚜렷하다.
- ㉣ (가)~(다) 중 연 강수량은 열대 기후 지역인 (가)가 가장 많다.
- ㉤ ㉠에는 열대 기후 지역에서 재배되는 작물이 들어가야 하며, ㉡에는 지중해성 기후 지역에서 재배되는 작물이 들어가야 한다. 따라서 ㉠에는 커피, 바나나, 사탕수수 등이, ㉡에는 포도, 코르크 등이 들어갈 수 있다.

고득점을 위한 핵심 자료

기후대별 주요 재배 작물 및 가축

기후 지역	농업 및 재배 작물	
열대	이동식 화전 농업	카사바, 양, 감자, 옥수수 등
	플랜테이션	커피, 카카오, 천연고무, 차, 바나나 등
건조	사막	관개 농업으로 대추야자, 밀 등
	스텝	구대륙 관개 농업으로 밀, 목화 등
		신대륙 대규모 상업적 농업으로 밀 재배
온대	서안 해양성 기후	혼합 농업, 낙농업, 화훼 농업
	지중해성 기후	여름 올리브, 포도, 코르크, 오렌지 등
		겨울 곡물(밀, 보리 등)
	대륙 동안	몬순 아시아 벼, 차 등
		북아메리카 기업적 농업(밀, 목화, 옥수수 등), 목축업
	남아메리카	기업적 목축과 대규모 밀 재배

10 세계 주요 산지의 특징

출제 예상 포인트 통합사회 교과서에서는 산지 지역을 매우 간략하게 다루고 있지만, 기후와 관련된 수능 예시 문항이 매우 어려운 수준으로 개념이 확장되었기 때문에 지형 단원도 개념 확장이 이루어질 것으로 예상된다. 그래서 세계의 주요 산맥 명칭과 특징은 정리해 두어야 한다.

A는 스칸디나비아산맥, B는 알프스산맥, C는 히말라야산맥, D는 로키산맥, E는 안데스산맥이다. 스칸디나비아산맥은 비교적 해발고도가 낮고 완만한 산맥이며, 스칸디나비아산맥을 제외하면 모두 높고 험준한 산맥이다.

[산지 분석]

- ① 스칸디나비아산맥은 노르웨이와 스웨덴의 국경을 이루고 있으며, 노르웨이 쪽 대서양 연안은 급경사를 이루고 스웨덴 쪽은 경사가 완만하다. 따라서 노르웨이 쪽에 깊은 계곡이 형성되었으며, 최종 빙기에 이를 따라 빙하가 흐르면서 U자형의 계곡이 형성된 후 후빙기 해수면이 상승하면서 깊고 긴 협만인 피오르가 형성되었다.
- ② 지중해 연안은 지중해성 기후가 나타나기 때문에 여름이 매우 덥고 건조하다. 이 지역은 여름이면 가장 더운 시간대에 일시적으로 휴식 시간을 갖는 풍습이 있으며, 일반적인 농업이나 야외 활동이 어렵다. 여름이 너무 더우므로 예로부터 목동이 가축을 몰고 지대가 높은 알프스산맥으로 이동해서 목축업을 하였다. 추운 겨울이 되면 다시 낮은 지역으로 이동한다.
- ③ 히말라야산맥은 세계에서 가장 높은 산맥으로, 중국 문화권과 인도 문화권의 경계가 된다. 높고 험준한 산지는 사람들의 교류를 차단하는 역할을 하여 생활권을 구분하는 경계가 된다.
- ✕ D는 로키산맥이며, 고대 잉카 문명의 유적은 남아메리카의 안데스산맥에 남아 있다.
- ⑤ 안데스산맥은 베네수엘라 볼리바르에서 시작하여 태평양을 따라 남쪽으로 적도를 지나 칠레 남쪽까지 뻗어 있는 세계에서 가장 긴 산맥이다. 적도 주변의 안데스산맥 일대에는 연중 봄과 같은 날씨가 지속되는 열대 고산 기후가 나타난다. 고산 기후는 기온이 적당하여 인간 거주에 유리하기 때문에 라파스, 키토, 보고타, 쿠스코 등 인구가 많은 고산 도시가 분포한다.

11 지형에 따른 인간 생활

육지는 해발 고도와 경사 등을 고려하여 기복에 따라 산지, 평야, 해안으로 분류할 수 있다.

[산지 분석]

- ① ㉠은 해발 고도가 높고 경사가 급한 산지, ㉡은 해발 고도가 낮고 지표면이 편평한 평야, ㉢은 육지와 바다가 만나는 해안이다.
- ② 하천은 산지에서 발원하여 중력 방향으로 흘러 바다나 호수로 유입된다. 따라서 산지 → 평야 → 해안 순으로 흐른다.
- ✕ 시 스택은 암석 해안의 절벽인 해식애가 침식으로 후퇴할 때 차별 침식의 결과로 단단한 암석 부분이 남아 형성된 바위기둥으로, 해안에서 볼 수 있다.
- ④ 평야는 경지로 조성하여 식량 작물을 재배할 수 있으므로 산지보다 농업 생산성이 높아 많은 인구를 부양할 수 있다. 따라서 평야에는 크고 작은 도시가 발달하여 산지보다 인구 밀도가 높다.
- ⑤ 다른 국가와의 무역 활동은 대체로 해안의 항구를 통해 이루어진다. 따라서 해안이 평야보다 무역할 수 있는 여건이 유리하다.

12 화산 지형과 빙하 지형

출제 예상 포인트 화산 지형과 빙하 지형은 특수 지형으로 분류되며, 통합사회 교과서에서는 관광 자원으로 활용되는 지형으로 소개되고 있다. 특수 지형은 관광 자원으로서의 희소 가치가 매우 높아 여행기 또는 다큐멘터리 스토리보드 형태의 자료로 출제되기도 한다. 따라서 뉴질랜드, 아이슬란드, 필리핀, 일본 등의 화산 지형과 아이슬란드, 노르웨이 등의 빙하 지형이 발달한 국가와 지형의 특성을 정리해 두어야 한다.

지도의 A는 아이슬란드, B는 노르웨이, C는 에스파냐, D는 독일, E는 우크라이나이다. (가)의 지열 발전소와 온천은 화산 지형에서 볼 수 있다. 지열 발전소는 지구 내부 에너지가 풍부한 지역에서 지하 깊은 곳의 뜨거운 열을 이용하여 발전하는 방식이며, 뜨거운 열이 바닷물을 데워 해수 온천이 형성되기도 한다. (나)의 피오르는 최종 빙기에 빙하의 침식 작용으로 형성된 U자형 계곡이 후빙기 해수면 상승으로 바닷물에 잠긴 긴 협만이다. 따라서 피오르는 과거에 빙하의 영향을 받았던 지역에서 볼 수 있다. 화산 활동이 활발하고 과거 빙하의 영향을 받았던 국가는 아이슬란드이다.

13 안데스산맥의 주민 생활

출제 예상 포인트 고산 기후와 관련된 내용은 통합사회 8종 교과서 모두에 제시되어 있어서 대학수학능력시험에 출제될 가능성이 크다. 고산 기후 지역은 기후 개념과 지형 개념을 함께 설명하기 위한 좋은 학습 자료이며 특히 안데스산맥의 열대 고산 기후 지역은 라틴 아메리카 문화권을 설명하기에 좋은 사례 지역이다.

사진은 안데스 산지 원주민의 전통 의상과 라마, 알파카 등의 가축 모습이다. 지도에 표시된 지역은 안데스산맥을 따라 남북으로 뻗어 있는 고산 기후 지역이다.

[산지 분석]

- ㉠ 지도에 표시된 지역은 라틴 아메리카 문화권에 해당한다. 라틴 아메리카 문화권은 과거 에스파냐, 포르투갈 등 남부 유럽의 식민 지배를 받았기 때문에 언어, 종교 등이 남부 유럽과 유사하다. 라틴 아메리카 문화권 대부분의 주민은 가톨릭을 믿으며, 브라질은 포르투갈어, 나머지 대부분의 국가는 에스파냐어를 사용한다.
- ✕ 열대 고산 기후는 연중 월평균 기온이 우리나라의 봄 날씨와 같이 유지되어 기온의 연교차가 매우 작지만, 산지 지역이기 때문에 하루 중 기온 변화가 크다. 따라서 이 지역은 기온의 일교차가 기온의 연교차보다 크다.
- ㉢ 열대 고산 기후 지역은 연중 월평균 기온이 10~20℃ 사이에서 일정하게 유지되는 우리나라의 봄 날씨와 같은 기후가 지속된다. 이런 이유로 이 지역의 기후를 '상춘 기후'라고 부른다.
- ㉡ 세계에서 유량이 가장 많은 아마존강은 안데스산맥에서 발원하며, 안데스산맥의 고산 기후 지역에서는 고대 잉카 문명이 화려하게 꽃을 피웠다. 현재의 원주민들도 과거 잉카인의 후예들이다.

14 해안 지형의 특성

출제 예상 포인트 사진이 아닌 미술 작품을 소재로 삼아 자연환경의 특성을 묻는 기출 문제가 많다. 지형, 기후, 문화 등에서 자주 출제되기 때문에 교과서에 나오는 미술 작품을 유형별로 나누어서 정리해 두면 많은 도움이 될 것이다.

모네의 작품 「에트르타: 해변과 팔레스 다몽」에는 해안 지형이, 몽크의 작품 「절규」에는 피오르가 잘 나타나 있다. ㉠은 시 아치, ㉡은 사빈, ㉢은 피오르이다.

[선지 분석]

- ① ㉠은 코끼리의 긴 코가 늘어져 있는 모습으로 시 아치이며, 파랑의 침식 작용으로 형성된 아치 모양의 지형이다. ㉡은 시 아치 등이 침식되는 과정에서 분리된 물질들이 파랑 에너지가 분산되는 해안에 쌓여 형성된 사빈이다.
- ② 바다로 돌출된 지형을 콧(串), 육지 쪽으로 바다가 들어간 지형을 만(灣)이라고 한다. 콧에서는 파랑 에너지가 집중하여, 해식애, 시 스택, 시 아치 등 해안 침식 지형이 잘 형성되고, 만에서는 파랑 에너지가 분산되어 사빈, 해안 사구, 사주, 갯벌 등이 잘 형성된다.
- ③ 시 아치는 파랑의 침식, 사빈은 파랑이나 연안류의 퇴적으로 형성된다.
- ❌ 피오르는 최종 빙기에 빙하의 침식으로 형성된 U자형 계곡이 후빙기 해수면 상승으로 바닷물이 침수되면서 형성되었다. 따라서 피오르는 후빙기 해수면 상승 이후에 형성된 지형이다.
- ⑤ 거대한 곡방하에 의해 침식된 U자형 계곡은 골짜기가 매우 깊다. 여기에 해수면 상승으로 바닷물이 들어와 형성된 만은 폭은 좁지만, 길이가 수백 km에 이를 정도로 규모가 크다. 피오르에서는 대형 크루즈 관광선이 운행되며 관광객들은 크루즈에서 피오르 양안에 떨어지는 폭포를 볼 수 있다.

감각 있는 풀이 TIP

명화에서 지형을 다룰 때 대부분의 소재는 유럽 지역에서 볼 수 있는 지형과 기후 특징이다. 이런 특징을 참고하여 그림에 표시된 지점이 나타내는 지형을 이해하면 된다. 특히 고호는 지중해성 기후를 매우 사랑한 화가였다.

15 가뭄, 지진, 홍수의 특징

출제 예상 포인트 최근 자연재해의 피해 규모가 점점 커지는 경향이 있으므로 대학수학능력시험 문항의 출제 소재로 많이 활용된다. 수시로 신문이나 방송을 통해 확인할 수 있는 각종 자연재해를 사례별로 정리해 두어야 한다.

(가)는 홍수로 인한 피해 모습, (나)는 가뭄으로 인한 피해 모습, (다)는 지진으로 인한 피해 모습이다.

[선지 분석]

- ① 홍수는 기후적 요인에 의한 자연재해이다. 홍수를 비롯한 가뭄, 폭설, 열대 저기압 등은 기후적 요인에 의한 자연재해이며, 화산, 지진, 지진 해일 등은 지형적 요인에 의해 자연재해이다.
- ② 가뭄은 장기간 비가 내리지 않을 때 주로 발생하며, 세계적으로 사막의 주변 지역에서 발생 빈도가 높으므로 사막화의 주요 원인이 되기도 한다.
- ❌ 우리나라는 가뭄보다 홍수로 인한 피해 규모가 크다. 우리나라는 강수의 계절적 변동이 크기 때문에 댐, 보, 저수지 등을 건설하여 유동적인 강수 특성을 극복하고 있다. 따라서 장기간 비가 내리지 않아도 저수 시설을 통해 물을 공급함으로써 가뭄 피해를 최소화하고 있다.
- ④ 홍수는 기상 관측으로 인해 비구름의 특성과 이동 속도, 방향 등을 예측할 수 있으므로 예보를 통해 대응할 수 있지만, 지진은 기상 현상만큼 예보를 정확하게 내릴 수가 없다.
- ⑤ 가뭄은 속도는 느리지만, 발생이 시작되면 피해 범위가 급속하게 확산한다. 반면 지진은 여진이 추가로 발생하지만 피해 범위는 거의 변하지 않는다.

16 우리나라의 주요 자연재해

출제 예상 포인트 우리나라에 발생하는 자연재해 관련 문항은 최근 10년간 누적 피해액 통계를 다양한 형식으로 가공하여 자료로 제공한다. 자료 해석을 요구하는 문항으로 고난도 문항으로 출제되는 빈도가 높다. 1등급을 받기 위해서는 반드시 거쳐야 할 과정이므로 지역별·원인별·시설별 자연재해 피해액을 명확하게 구분해 놓아야 한다.

〈원인별·시설별 피해액 비율〉에서 D는 선박이나 농경지보다 건물에 대한 피해액 비율이 높은 지진이다. A는 상대적으로 농경지에 대한 피해액 비율이 높은 호우, B는 상대적으로 선박에 대한 피해액 비율이 높은 태풍이다. 나머지 C는 대설이다. 〈원인별 피해액 비율〉에서 호우>태풍>대설>지진 순으로 피해액 비율이 높다.

[선지 분석]

- ① 제주특별자치도는 태풍이 지나가는 길목에 있어서 호우보다 태풍에 의한 피해액이 많다.
- ❌ 태풍은 강한 바람과 폭우를 동반하기 때문에 대설보다 발생 시기에 평균 풍속이 강하다.
- ③ 대설은 대기 중 수증기가 응결하고 눈으로 바뀐 후 지상에 과도하게 내려서 발생하는 자연재해이다. 대기의 현상에 의해 발생하기 때문에 기후적 요인에 의한 자연재해이다.
- ④ 지진은 지구 내부 에너지로 인해 발생하기 때문에 발생 시기를 예측하기 어렵다. 이에 비해 대설은 대기 현상에 의해 발생하기 때문에 관측 장비와 인공위성 등을 통해 대기의 움직임과 특성을 파악할 수 있다. 따라서 발생 시기는 대설이 지진보다 예측이 유리하다.
- ⑤ 풍수해 보험은 태풍, 홍수, 호우, 해일, 강풍, 풍랑, 대설, 지진 등으로 건물, 시설, 집기 등이 피해를 보았을 때 그 피해를 보상해 주는 보험이며, 정부가 보험료의 70~100%를 지원한다.

1등급 완성 문제

24~25쪽

01 ① 02 ③ 03 ⑤ 04 ③ 05 ④ 06 ③
07 ⑤ 08 ④

01 오스트레일리아의 기후 특성과 주요 해안 지형

오스트레일리아는 남회귀선이 대륙의 중심부를 동서로 지나가기 때문에 면적의 대부분이 건조 기후에 해당한다. 건조 기후를 기준으로 북쪽은 열대 기후, 남쪽은 온대 기후가 나타난다. A는 사바나 기후가 나타나는 다윈, B는 지중해성 기후가 나타나는 퍼스, C는 서안 해양성 기후가 나타나는 멜버른이다. ㉠은 시 스택, ㉡은 해식애이다.

[선지 분석]

- ① 지중해 연안은 북반구이고, 오스트레일리아는 남반구이기 때문에 계절이 반대이므로 지중해 연안이 겨울일 때 퍼스는 여름이다. 여름에 고온 건조한 지중해성 기후가 나타나는 퍼스에서는 포도, 올리브 등을 재배하는 수목 농업이 발달한다.
- ❌ 사바나 기후는 기온이 가장 높은 달에 적도 수렴대의 영향을 받아 강수가 집중되며, 지중해성 기후는 기온이 가장 높은 달에 아열대 고압대의 영향을 받아 건조하다.

- ❌ 서안 해양성 기후 지역인 멜버른은 연중 편서풍의 영향을 받지만, 위도가 다윈보다 높으므로 기온의 연교차가 크다. 기온의 연교차는 위도가 높을 수록, 해안에서 내륙으로 갈수록 대체로 커진다.
- ❌ ①은 빅토리아주의 12사도 바위로 석회암으로 이루어진 지형이지만 형성 과정은 파랑의 차별적인 침식 작용이다. 파랑의 침식 과정에서 해식애가 후퇴하면서 상대적으로 단단한 부분만 남은 시 스택이다.
- ❌ 시간이 지나면 시 스택과 해식애 간의 간격은 파랑의 침식으로 인해 점차 멀어진다.

고득점을 위한 핵심 자료

오스트레일리아의 기후



- 열대 기후
- 사바나 기후
- 건조 기후
- 스텝 기후
- 사막 기후
- 온대 기후
- 온난 습윤 기후
- 서안 해양성 기후
- 지중해성 기후

오스트레일리아에는 열대 기후, 건조 기후, 온대 기후가 나타나며, 냉대 및 한대 기후는 나타나지 않는다. 국토의 대부분이 사막과 스텝으로 이루어진 건조 기후이며, 열대 기후는 북부 지역에 일부 분포하는데, 사바나 기후이다. 온대 기후는 남동부와 남서부에 주로 분포하는데, 남서부는 지중해성 기후(퍼스), 남동부는 서안 해양성 기후(멜버른)와 온난 습윤 기후가 나타난다. 오스트레일리아의 내부는 대부분 사막이며, 사막은 아열대 고압대의 영향으로 형성된다. 사막이라 물을 구하기 어려워서 예로부터 주민들은 땅속에서 솟아 나오는 찬정을 개발하여 활용하였는데, 이 지역을 대찬정 분지라고 한다.

02 열대 기후 지역의 특성

지도에 표시된 세 지역은 말레이시아의 쿠알라룸푸르, 오스트레일리아의 다윈, 콜롬비아의 보고타이다. 그래프에서 (가)는 1월, 7월 모두 기온이 매우 높지만 1월에 강수량이 많은 사바나 기후 지역으로, 1월이 7월보다 기온이 높으므로 남반구에 위치하는 오스트레일리아의 다윈이다. (나)는 적도 주변에 위치하지만 1월, 7월 기온이 모두 15℃ 미만으로 해발 고도가 높은 지역임을 알 수 있다. 따라서 (나)는 열대 고산 기후 지역으로, 안데스산맥의 고산 지대에 위치한 콜롬비아의 보고타이다. (다)는 1월, 7월 모두 기온이 높고 강수량도 많은 열대 우림 기후 지역으로, 말레이시아의 쿠알라룸푸르이다.

[선지 분석]

- ❌ (가)의 원주민은 오스트레일리아 원주민인 애버리지니의 후예이다. 잉카 문명을 이룬 민족(종족)의 후예는 (나)의 원주민이다.
- ❌ (나)는 열대 고산 기후 지역이며, 기름야자를 재배하는 플랜테이션은 동남아시아 열대 우림 기후 지역인 (다)에서 주로 이루어진다.
- ③ 날씨가 덥고 습한 열대 우림 기후 지역의 주민들은 음식이 상하지 않도록 향신료를 많이 사용하고 기름에 볶아서 요리한다.
- ❌ (다)의 기후는 열대 우림 기후로 기온도 높고 강수량도 많아 울창한 숲이 형성되어 있다. (나)의 고산 기후는 해발 고도가 높아 기온이 낮기 때문에 울창한 숲이 형성되지 않는다. 따라서 (다)가 (나)보다 식생 밀도가 높다.
- ❌ 열대 우림 기후 지역인 (다)는 연중 강수가 고른 반면, 사바나 기후 지역인 (가)는 여름에 강수가 집중된다. 따라서 연 강수량 대비 여름 강수량 비중인 여름 강수 집중률은 (가)가 (다)보다 높다.

03 서안 해양성 기후와 지중해성 기후의 특성 비교

(가)는 흐린 날씨가 나타나는 런던의 템스강의 풍경이다. (나)는 강렬한 태양 아래의 올리브나무의 풍경이다. 따라서 (가)의 배경은 서안 해양성 기후 지역, (나)의 배경은 지중해성 기후 지역이다.

[선지 분석]

- ❌ (가)의 서안 해양성 기후는 연중 강수가 고르고, (나)의 지중해성 기후는 여름에 건조하고 겨울에 강수가 집중된다. 따라서 연 강수량에서 겨울 강수량이 차지하는 비율은 겨울 강수량의 비중이 높은 지중해성 기후가 서안 해양성 기후보다 높다.
- ① 운하는 하천을 통해 상품을 운반할 수 있는 배를 운용할 수 있는 시설이다. 따라서 연중 강수량이 고른 (가)의 배경 지역이 유량이 일정하므로 겨울에만 강수가 집중되는 (나)의 배경 지역보다 운하를 통한 내륙 수운 발달에 유리하다. 실제로 유럽에는 라인강, 다뉴브강 등을 활용한 운하가 발달해 있다.
- ② 아열대 고압대는 지중해성 기후 지역의 여름에 영향을 미쳐 건조한 기후의 원인이 된다. 서안 해양성 기후는 연중 편서풍의 영향을 받지만 지중해성 기후는 여름에는 아열대 고압대의 영향을 받고 겨울에는 편서풍의 영향을 받기 때문에 (나)가 (가)보다 아열대 고압대의 영향을 많이 받는다.
- ③ 서안 해양성 기후 지역에는 곡물 재배와 목축업을 함께하는 혼합 농업이 발달하고 지중해성 기후 지역에는 여름의 건조한 기후에 적합한 작물을 재배하는 수목 농업이 발달하였다.

04 세계의 다양한 기후와 주민 생활

출제 예상 포인트

기후와 관련된 문항은 반드시 주민들의 생활을 묻는다는 사실을 기억해야 한다. 지도에 표시된 지역의 주민 생활, 기후 값 특성(기온의 연교차, 연 강수량, 연 증발량 등)을 꼼꼼하게 정리해 두어야 한다.

지도에 표시된 지역은 프랑스의 파리, 러시아의 덕슨, 몽골의 울란바토르, 인도네시아의 발릭파판, 미국의 샌프란시스코, 중국의 칭다오이다. A는 툰드라 기후로 고산 가옥이 나타나는 덕슨, B는 건조 스텝 기후로 양, 염소 등을 유목하며 게르에서 생활하는 울란바토르, C는 열대 우림 기후로 연중 덥고 습한 발릭파판, D는 대륙 동안의 온대 기후 지역으로 계절풍의 영향을 받는 칭다오, E는 지중해성 기후로 여름이 건조한 샌프란시스코, F는 서안 해양성 기후로 연중 강수가 고른 파리이다.

[선지 분석]

- ❌ A는 툰드라 기후 지역으로 주민들은 혹한의 기후를 견딜 수 있는 순록을 유목하며 생활한다. 양이나 염소 등은 건조 스텝 기후 지역인 B 지역 주민들이 유목하는 가축이다.
- ❌ B는 건조 기후가 나타나기 때문에 연 증발량이 연 강수량보다 많다.
- ③ C는 열대 우림 기후가 나타나는 지역이다. 열대 우림 기후 지역의 주민들은 전통적으로 화전 농업을 통해 카사바, 암 등을 재배하였다. 최근 이 지역에서는 선진국의 기술과 자본을 이용하여 상품 작물을 플랜테이션 형식으로 재배한다.
- ❌ D는 중국의 칭다오, E는 미국의 샌프란시스코이다. 1인당 지역 내 총생산은 미국의 샌프란시스코가 중국의 칭다오보다 많다.
- ❌ 세계의 시간 기준은 영국의 런던을 기준으로 동쪽은 표준시가 빠르고 서쪽은 표준시가 느리다. 따라서 샌프란시스코는 런던의 서쪽에, 파리는 런던의 동쪽에 위치하기 때문에 파리의 주민들이 샌프란시스코의 주민들보다 새해 일출을 먼저 맞이한다.

05 스칸디나비아산맥, 히말라야산맥, 안데스산맥의 주민 생활

(가)는 스칸디나비아산맥으로, 노르웨이와 스웨덴의 국경을 이룬다. 스칸디나비아반도는 과거 최종 빙기에 빙하로 덮여 있었으며, 빙하의 침식과 퇴적 작용으로 다양한 지형이 형성되어 있다. (나)는 세계에서 가장 높은 산맥인 히말라야산맥으로, 중국과 인도의 국경을 이루고 중국과 인도 반도로 흐르는 대하천의 발원지이기도 하다. (다)는 세계에서 가장 긴 산맥인 안데스산맥으로, 적도 부근의 열대 기후 지역에서 태평양 연안을 따라 남쪽의 한대 기후 지역까지 뻗어 있다.

[선지 분석]

- ㉠ 스칸디나비아산맥은 대서양 쪽으로 급경사를 이루고 있어 과거 하천에 의해 형성된 V자형 계곡에 빙하가 천천히 흐르면서 침식 작용으로 U자형 계곡을 만든 후 바닷물이 들어와 피오르라는 독특한 지형이 만들어졌다. 피오르는 경관이 아름답고 수심이 깊으므로 관광 자원으로 활용도가 높다.
- ✗ 열대 고산 도시는 열대 기후 지역을 지나는 산맥인 안데스산맥에 주로 분포한다.
- ㉡ 안데스산맥의 주민들은 라마를 활용하여 물건을 운반하고 알파카의 털을 활용하여 전통 의복을 제작한다.
- ㉢ (가)는 유럽 문화권, (다)는 라틴 아메리카 문화권에 속한다. 크리스티교는 유럽 주민의 대부분이 믿고 있으며, 문화의 토대를 이루고 있다. 과거 유럽의 여러 나라에 의해 식민 지배를 받았던 남아메리카 지역은 유럽의 영향으로 크리스티교를 믿고 에스파냐어, 포르투갈어 등을 공용어로 사용한다.

고득점을 위한 핵심 자료

세계의 주요 산지

구분	고기 습곡 산지	신기 습곡 산지
형성 시기	고생대 조산 운동으로 형성	중생대 말~신생대 조산 운동으로 형성
특징	해발 고도가 낮고 경사가 완만하며 산지의 연속성이 낮음.	• 해발 고도가 높고 험준하며 산지의 연속성이 뚜렷함. • 지각이 불안정해 지진과 화산 활동이 활발함.
주요 자원	석탄 매장량이 많음.	구리, 주석, 석유, 천연가스 등의 매장량이 많음.
사례	스칸디나비아산맥, 우랄산맥, 애팔래치아산맥 등	로키산맥, 안데스산맥, 알프스산맥, 히말라야산맥 등

06 세계 주요 하천의 특성

출제 예상 포인트 세계의 대하천은 인류 문명의 발상지이면서 현재에도 많은 인구를 부양하는 지형이다. 따라서 인간 생활과 밀접한 관련을 맺고 있으므로 생활 밀착형 소재로 출제 가능성이 높다. 인류의 4대 문명 발상지 하천, 세계적으로 규모가 큰 하천의 상류와 하류의 기후 특성을 연계시켜 정리해 두면 지형과 기후의 결합형 문항에 대비할 수 있다.

㉠은 아프리카의 나일강, ㉡은 유럽의 라인강, ㉢은 중국의 장강(양쯔강), ㉣은 남아메리카의 아마존강이다.

[선지 분석]

- ㉠ 아프리카 문화권과 건조 문화권의 경계는 사하라 사막이다. 나일강은 아프리카 중부의 열대 기후 지역에서 발원하여 북쪽의 사하라 사막을 지나 지중해로 유입된다. 따라서 나일강은 아프리카 문화권과 건조 문화권을 모두 지나다.

- ㉡ 창장강 하류는 대륙 동안의 온대 기후 지역으로 계절풍의 영향을 많이 받는다. 겨울에는 대륙에서 차갑고 건조한 바람이 불고, 여름에는 해양에서 덥고 습한 바람이 불어온다. 따라서 여름철에 기온이 높고 강수량이 많으므로 열대성 작물인 벼를 재배하기에 적합한 조건이 된다.
- ✗ 라인강의 하류는 서안 해양성 기후가 나타나며, 창장강의 하류는 대륙 동안의 온대 기후가 나타난다. 대륙 동안의 온대 기후는 여름철에 강수가 집중하기 때문에 여름철 강수량은 창장강 하류가 라인강 하류보다 많다.
- ㉣ 창장강 하류는 전통적으로 벼농사가 이루어져 왔기 때문에 농업 생산력이 높아 인구가 밀집되어 있다. 이에 비해 아마존강 하류는 열대 우림 기후가 나타나기 때문에 인간 거주에 적합하지 않다. 따라서 인구 밀도는 창장강 하류가 아마존강 하류보다 높다.
- ㉤ 유럽은 산업 혁명이 시작된 대륙으로 라인강은 그 중심을 흐른다. 따라서 네 하천 중 라인강 유역의 산업화 시기가 가장 이르다.

07 강원, 경북, 제주, 충북의 주요 자연재해 피해액 비율

지도에 표시된 지역은 강원, 경북, 제주, 충북이다. 그래프에는 지역이 명시되어 있지 않고 (가)~(라) 자연재해만 제시되어 있다. 자연재해의 특성을 이용하여 지역을 찾고 지역을 통해 자연재해의 유형을 찾아야 한다. 지진은 경북만 해당하기 때문에 세 번째 지역이 경북이며, (라)는 지진이다. 경북에서 피해액이 가장 적은 (다)는 대설이다. (가), (나)는 태풍, 호우 중 하나인데, 경북은 호우보다 태풍의 피해액이 많다. 따라서 (가)는 태풍, (나)는 호우이다. 태풍의 피해액 비율이 가장 높은 두 번째 지역은 제주이며, 호우의 피해액 비율이 높은 첫 번째 지역이 충북이다. 네 번째 지역은 강원이다.

[선지 분석]

- ✗ 태풍은 대체로 장마 시기가 지난 후에 우리나라에 도달한다. 장마 전선이 오래 정체할 때 주로 발생하는 자연재해는 호우이다.
- ✗ (나)는 호우이며, 열대성 저기압은 태풍이다.
- ✗ 대설은 겨울, 호우는 여름에 발생한다. 따라서 주로 발생하는 시기의 평균 기온은 호우가 대설보다 높다.
- ✗ 기후적 요인으로 발생하는 자연재해는 태풍, 호우, 대설이며, 지진은 지형적 요인으로 발생한다.
- ㉤ 총피해액은 호우 > 태풍 > 대설 > 지진 순으로 많다.

08 주요 자연재해 피해액 상위 3개 지역

(가)는 경북, 경남, 강원에서 피해액이 많은 태풍, (나)는 경북, 부산, 울산에서 피해액이 많은 지진, (다)는 경북, 전북, 충남에서 피해액이 많은 대설, (라)는 경기, 충북, 충남에서 피해액이 많은 호우이다.

[선지 분석]

- ✗ 태풍은 주로 여름과 가을에 우리나라에 도달한다. 북서 계절풍의 영향이 강한 시기는 겨울이며, 이 시기는 대설과 관련이 깊다.
- ✗ 지진에 대비하기 위해서는 각종 건축물에 내진 설계를 강화해야 한다. 염화칼슘이나 모래 등을 준비하는 것은 대설에 대비하는 방안이다.
- ✗ 호우로 인한 피해를 줄이기 위해서는 배수 시설 정비, 녹색 댐, 저수 시설 확충 등이 있다.
- ㉣ 우리나라 연 강수량에 미치는 영향은 호우가 대설보다 크다. 우리나라 연 강수량의 대부분은 강수량이며, 강설량으로 인한 강수량 비율은 극히 낮다.
- ✗ 우리나라 자연재해 중 총피해액이 가장 많은 것은 호우이다. 따라서 우리나라 국민 1인당 피해액은 호우가 가장 많다.

03

인간과 자연의 관계와 환경 문제

기출 동형 문제

29쪽

01-① ③

01-② ②

02-① ①

02-② ③

01-① 베이컨과 레오폴드의 자연관

출제 예상 포인트 베이컨의 인간 중심주의와 레오폴드의 생태 중심주의는 통합사회 8종 교과서에서 모두 다루는 내용이므로 대 학습능력시험에 출제될 가능성이 높다. 베이컨과 레오폴드는 전국연합학력평가에서도 자주 등장하는 사상가이므로 사상의 특징을 명확하게 알아 두어야 한다.

같은 베이컨, 음은 레오폴드이다. 베이컨은 인간의 이익을 위해 자연을 수단으로써 최대한 활용할 수 있다고 보았고, 레오폴드는 인간 또한 생태계의 한 구성원일 뿐이며 자연을 이용할 때는 경제적 관점뿐만 아니라 윤리적 관점에서도 고려해야 한다고 주장하였다.

[선지 분석]

- ❌ 베이컨과 레오폴드 모두 인간이 내재적 가치를 지닌 존재임을 인정하였으므로 B에 해당하는 진술이다.
- ❌ 인간이 생태계 전체를 도덕적으로 고려해야 한다고 강조하는 것은 레오폴드만의 입장이므로 C에 해당하는 진술이다.
- ③ 베이컨은 인간이 필요에 따라 자연을 얼마든지 이용할 수 있다고 강조하였고, 레오폴드는 인간이 필요에 따라 이용할 수 있으나 경제적 관점뿐만 아니라 윤리적·심미적 관점에서도 자연을 고려해야 한다고 주장하였다. 따라서 베이컨과 레오폴드가 모두 긍정할 진술이므로 B에 해당하는 진술이다.
- ❌ 인간을 포함한 자연 전체를 하나의 살아 있는 유기체로 보고 생태계의 상호 의존성을 강조하는 것은 레오폴드만의 입장이므로 C에 해당하는 진술이다.
- ❌ 레오폴드는 인간이 자연의 정복자가 아니라 생명 공동체를 구성하는 평범한 구성원이라고 강조하였다. 따라서 C에 해당하지 않는 진술이다.

고득점을 위한 핵심 개념

베이컨(인간 중심주의)과 레오폴드(생태 중심주의)의 공통점

- 인간은 내재적 가치를 지닌 존재이다.
- 인간은 필요에 따라 자연을 이용할 수 있다.
- 인간이 생태계에 개입하는 것이 정당화되는 경우가 있다.

감각 있는 풀이 TIP

베이컨과 레오폴드는 매우 상반되는 입장을 취하고 있어 공통점이 전혀 없을 것처럼 보이지만, 두 사상가의 공통점을 파악하고 있어야 대 학습능력시험에서 고득점이 가능하다. 기출 문제에서는 벤 다이어그램, 순서도 등의 문제 유형을 통해 각 사상가의 주장과 함께 두 사상가의 공통점을 반드시 다루기 때문이다.

01-② 베이컨과 레오폴드의 자연관

같은 레오폴드, 음은 베이컨이다. 레오폴드는 대지를 지배와 이용의 대상으로만 바라보는 시각에서 벗어나 공동체 그 자체의 가치를

존중해야 한다고 보았고, 베이컨은 자연에 대한 지식을 확장하여 최대한 자연을 인간의 이익을 위해 활용해야 한다고 주장하였다.

[선지 분석]

- ㉠ 레오폴드는 모든 생명체가 자연의 일부이며 인간 역시 다른 존재보다 우월한 존재가 아니라 자연을 이루는 평범한 구성원이라고 보았다.
- ❌ 레오폴드는 인간에게 대지 그 자체가 지닌 내재적 가치를 존중해야 할 도덕적 의무가 있다고 보았다.
- ❌ 베이컨은 자연을 인간에게 이용도록 활용하기 위해 자연에 대한 지식을 확장해야 한다고 보았을 뿐, 자연에 대한 책임과 도덕적 의무를 주장하지는 않았다.
- ㉡ 레오폴드와 베이컨 모두 인간이 생태계에 개입하는 것이 정당화되는 경우가 있다는 데에 동의한다. 레오폴드는 전일론적 관점에서 생태계 전체의 안정성과 통합성을 유지하는 것이 개별 생명체를 보호하는 것보다 우선한다고 보았다. 따라서 생태계의 안정성과 통합성을 위해 인간이 생태계에 개입하는 것이 정당화될 수 있다고 보았다. 한편 베이컨은 자연을 정복과 이용의 대상으로 인식하므로 인간이 생태계에 개입하는 것이 정당화된다고 보았다.

고득점을 위한 핵심 자료

레오폴드의 생태 중심주의

지금까지 진화된 모든 윤리는 하나의 공통된 전제를 지니고 있다. 즉 개인은 상호 의존적인 부분들로 이루어진 공동체의 한 구성원이라는 것이다. 개인의 본능은 그에게 공동체 내에서 자기 자리를 차지하기 위해 경쟁하라고 촉구한다. 그러나 그의 윤리는 그에게 협동도 하라고 촉구한다. 대지 윤리는 단순히 이 공동체의 범위를 토양, 물, 식물과 동물, 곤 포괄하여 대지를 포함하도록 확장하는 것이다.

- 레오폴드, 『모래 군의 열두 달』

레오폴드는 그동안 인간 공동체로만 한정하던 윤리적 논의의 대상을 대지라는 공동체와 그 공동체의 구성원(인간을 포함한 동 식물, 무생물 등 자연의 모든 존재)으로까지 확장하는 새로운 공동체의 개념을 제시하였다.

02-① 환경 문제 해결을 위한 국제 협약

(가)는 사막화 방지 협약이다. 사막화 방지 협약은 1994년 프랑스 파리에서 채택되었으며, 심각한 가뭄이나 사막화를 겪는 국가의 사막화를 방지하고 가뭄 피해를 완화하기 위한 국제 협약이다. 사막화를 겪는 대표적인 지역은 사하라 사막 남쪽의 사헬 지대와 아랄해 일대이다. (나)는 몬트리올 의정서이다. 몬트리올 의정서는 1987년 캐나다 몬트리올에서 채택되었으며, 오존층 파괴 물질의 생산 및 소비를 규제하여 오존층을 보호하기 위한 국제 협약이다. 대표적인 오존층 파괴 물질에는 염화 플루오린화 탄소가 있다.

[선지 분석]

- ① 사막화는 사막의 주변 지역에서 주로 발생한다. 세계 최대의 사막인 사하라 사막의 남쪽에는 건조한 스텝 지역이 동서로 넓게 분포하는데, 이를 사헬 지대라고 한다. 사헬 지대는 오랜 가뭄과 과도한 방목 등으로 사막화가 빠르게 진행되고 있다. 중앙아시아 카스피해 주변의 아랄해 일대는 목화를 재배하기 위한 관개 농업으로 인해 호수로 흘러드는 물이 감소하고 증발량이 많아 소금만 남게 되어 심각한 사막화가 진행되고 있다.
- ❌ 지구 대기의 상층을 덮고 있는 오존층은 태양으로부터 오는 자외선을 흡수하여 지구의 생물을 보호하는 역할을 한다. 오존층이 파괴되면 지구로

수능 기본 문제

01 ④	02 ②	03 ③	04 ③	05 ①	06 ③
07 ⑤	08 ④	09 ④	10 ②	11 ②	12 ①
13 ①	14 ④	15 ⑤	16 ③		

도달하는 자외선이 증가하여 피부암·백내장 등의 질병을 유발하고, 플랑크톤의 감소로 해양 생태계가 파괴되며, 농작물의 성장이 저해된다.

❌ 오존층 파괴의 주요 원인은 염화 플루오린화 탄소의 사용량 증가이다. 장기간 가뭄, 과도한 방목 및 개간 등은 사막화의 주요 원인이다.

❌ 사막화와 오존층 파괴 문제를 해결하기 위해서는 인간과 자연이 하나라고 생각하는 전일론적 관점이 필요하다.

❌ (가)는 사막화 방지 협약, (나)는 몬트리올 의정서이다.

02-2 환경 문제 해결을 위한 국제 협약

습지 보호를 위한 국제 협약인 ㉠은 람사르 협약이다. 세계 해양의 날은 1992년 브라질 리우데자네이루에서 열린 리우 회의에서 캐나다 정부가 제안한 기념일로, 지구 표면의 70% 이상을 덮고 있는 바다의 소중함을 일깨우기 위해 지정되었다.

[선지 분석]

① 람사르 협약은 1971년 이란의 카스피해 연안에 위치한 람사르에서 채택되었으며, 습지를 국제적으로 중요한 생태계로 인식하고 습지 보호를 위한 국제 협력을 증진하는 것을 목표로 하는 국제 협약이다.

② 람사르 협약은 물새 서식지로 가치가 있는 습지가 대상이며, 내륙 습지와 해안 습지가 모두 포함된다. 우리나라의 람사르 습지 중에는 우포늪과 같은 내륙 습지와 순천만 습지와 같은 해안 습지가 있다.

❌ 몬트리올 의정서는 오존층 파괴 물질인 염화 플루오린화 탄소의 사용 규제를 위한 국제 협약이며, 해양 오염 방지를 위한 대표적인 국제 협약으로는 런던 협약이 있다.

④ 1992년 브라질의 리우데자네이루에서 열린 리우 회의에서는 '의제 21', '기후변화 협약', '생물 다양성 협약' 등이 채택되었다.

⑤ 국제 연합은 범국가적인 국제기구로, 현재 전 세계 190개국 이상이 가입되어 있으며 전 지구적 환경 문제, 국제 분쟁 등을 해결하기 위해 노력하고 있다.

고득점을 위한 핵심 개념

환경 문제 해결을 위한 주요 국제 협약

람사르 협약(1971)	• 철새 및 물새 서식지로서 국제적으로 중요한 습지에 관한 협약 • 습지의 보호와 지속가능한 이용
런던 협약(1972)	폐기물의 해양 투기로 인한 해양 오염 방지
제네바 협약(1979)	산성비 문제 해결을 위해 국경을 넘어 이동하는 대기 오염 물질의 감축 및 통제
몬트리올 의정서(1987)	• 오존층을 보호함으로써 지구 생태계 및 동식물의 피해를 방지 • 염화 플루오린화 탄소와 같은 오존층 파괴 물질의 사용 규제를 명시
바젤 협약(1989)	• 유해 폐기물의 국가 간 이동에 관한 규제 • 2021년 개정으로 플라스틱 폐기물 추가
사막화 방지 협약(1994)	국제적 노력을 통해 사막화를 방지하고, 사막화를 겪고 있는 개발 도상국을 재정·기술적으로 지원
교토 의정서(1997)	미국, 유럽, 일본 등 선진국 38개국의 온실가스 감축 목표를 구체적으로 제시하고, 탄소 배출권 거래제를 도입(2020년 만료)
스톡홀름 협약(2001)	다이옥신, DDT 등 인체와 동물, 환경에 유해한 12개 유독성 화학 물질의 사용을 금지
파리 협정(2015)	교토 의정서를 대신하는 기후변화 협약으로, 선진국과 개발 도상국 모두 온실가스 감축을 포함한 포괄적인 대응에 동참하도록 규정

01 생태 중심주의 자연관

생태 중심주의 자연관은 인간과 자연의 조화와 균형을 위해 인간이 자연에 대한 윤리적 책임과 의무를 다할 것을 강조한다. 또한 인간을 포함한 생명체뿐만 아니라 무생물과 생태계 자체도 도덕적 지위를 가지므로 도덕적으로 대우해야 한다고 주장한다.

[선지 분석]

❌ 인간과 자연을 분리하여 바라보는 이분법적 세계관은 인간 중심주의 자연관의 토대이다. 생태 중심주의 자연관은 인간이 생명 공동체의 일부이며, 인간과 자연이 상호 의존적으로 존재한다고 보는 전일론적 관점을 취한다.

㉠ 생태 중심주의 자연관은 모든 생명체가 자연의 일부이며, 인간이 자연의 정복자가 아니라 생명 공동체의 평범한 구성원이라고 본다.

❌ 자연을 인간의 생존과 복지를 위한 도구로 인식하는 것은 인간 중심주의 자연관의 특징이다.

㉡ 생태 중심주의 자연관은 개별 생명체의 보호보다는 생태계의 안정과 온전함을 강조하기 때문에 인간의 이익보다는 생태계 전체의 균형과 안정을 먼저 고려한다.

고득점을 위한 핵심 개념

생태 중심주의 자연관

의미	인간을 포함한 생명체뿐만 아니라 자연물과 생태계 자체도 도덕적 지위를 지니므로 도덕적으로 대우해야 한다고 보는 관점
대표적 사상가	레오폴드
특징	• 자연은 인간, 동물, 식물, 환경 등 다양한 구성원이 유기적으로 연결되어 있는 생명 공동체를 의미(전일론적 관점) • 자연은 인간과 무관하게 그 자체로 가치를 지니고 있으므로 인간의 이익을 위한 수단으로만 고려해서는 안 된다고 강조(자연 그 자체의 내재적 가치 인정)
도덕적 고려	무생물을 포함한 생태계 전체가 대상

02 인간 중심주의 자연관과 생태 중심주의 자연관

출제 예상 포인트 사상가를 중심으로 인간 중심주의 자연관과 생태 중심주의 자연관을 비교하는 문항이 출제될 수도 있지만, 환경과 관련된 사례를 제시하고 인간 중심주의 자연관의 특징과 생태 중심주의 자연관의 특징을 비교하는 문항이 출제될 수도 있다. 따라서 고득점을 받기 위해서는 베이컨이나 레오폴드와 같은 사상가에 대한 정리와 함께 인간 중심주의 자연관과 생태 중심주의 자연관 자체의 특징에 대한 정리도 필요하다.

같은 인간 중심주의 자연관, 이른 생태 중심주의 자연관의 입장이 다. 인간과 자연의 관계에서 인간 중심주의 자연관은 인간을 가장 가치 있는 존재로 여기고 인간의 행복과 이익을 중시하는 반면, 생태 중심주의 자연관은 인간을 자연의 일부로 여기고 인간을 포함한 자연 전체의 균형과 안정을 중시한다.

[선지 분석]

- ❌ ㉠ 같은 인간 중심주의 자연관의 입장에서 인간이 자연의 다른 존재보다 우월하다고 본다.
- ② 같은 인간 중심주의 자연관의 입장에서 자연이 인간의 삶에 얼마나 기여했는지, 인간의 삶에 얼마나 유용한지에 따라 자연의 가치가 결정된다고 본다.
- ❌ ㉢ 같은 생태 중심주의 자연관의 입장에서 인간에게는 무생물을 포함한 자연 자체를 존중해야 할 의무가 있다고 본다.
- ❌ 환경과 관련된 선택을 할 때 자연이 인간에게 어떤 영향을 미치는지만 고려하는 것은 인간 중심주의 자연관에 해당한다.
- ❌ 인간과 자연이 유기적으로 연결된 상호 의존적인 관계라고 인식하는 자연관은 생태 중심주의 자연관이다. 따라서 ㉤의 입장에만 해당한다.

03 레오폴드의 생태 중심주의 자연관

가상 편지의 사상가는 레오폴드이다. 레오폴드는 대지를 인간을 포함한 모든 존재가 어울려 살아가는 생명 공동체로 보았고, 인간은 대지의 지배자가 아니라 구성원일 뿐이라고 주장하였다. 따라서 레오폴드의 관점에서 환경 문제를 해결하기 위해서는 생태계 자체가 지닌 가치를 도덕적으로 존중해야 한다.

[선지 분석]

- ❌ 레오폴드는 인간이 아닌 존재, 즉 동물, 식물, 무생물까지 모두 직접적인 도덕적 고려의 대상이 된다고 보았다.
- ❌ 레오폴드는 인류의 장기적 이익을 위해서가 아니라 생태계 자체가 지닌 내재적 가치를 도덕적으로 존중하기 위해 생태계에 대한 책임 의식을 가져야 한다고 보았다.
- ③ 레오폴드는 생태계 전체의 통합성과 안정성을 최우선으로 삼기 때문에 생태계 전체의 선을 위해 개별 생명체의 희생이 정당화될 수 있다고 보았다.
- ❌ 레오폴드는 생태계의 모든 존재, 즉 생태계 전체를 도덕적 고려의 대상으로 삼았다. 따라서 레오폴드에 따르면 무생물 또한 도덕적 고려의 대상이다.
- ❌ 레오폴드의 입장에서 모든 생명체가 내재적 가치를 지니는 것은 맞지만, 레오폴드가 고려하는 도덕적 대상에는 흙, 물 등 무생물도 포함되기 때문에 오직 생명을 기준으로 도덕적 지위를 부여한다고 할 수 없다.

고득점을 위한 핵심 개념

생태 중심주의와 온건한 인간 중심주의

생태 중심주의	<ul style="list-style-type: none"> • 자연은 인간의 이익과 무관하게 그 자체로 가치를 지니고 있으므로 자연의 가치를 있는 그대로 존중해야 한다고 주장 • 생태계 전체를 도덕적 고려의 대상으로 보고, 인간에게 생태계 전체에 대한 도덕적 의무가 있다고 주장
온건한 인간 중심주의	<ul style="list-style-type: none"> • 현재대를 포함한 인류의 장기적 이익을 위해 생태계에 대한 책임을 다해야 한다고 주장 • 인간을 다른 존재보다 우월하고 가치 있다고 보지만, 인간의 이익을 위해서라도 자연에 대한 존중과 책임을 다해야 한다고 주장

생태 중심주의와 온건한 인간 중심주의는 자연에 대한 존중과 책임을 강조한다는 점에서는 공통적이나 자연을 존중하는 목적이 다르다는 점에서는 차이가 있다. 생태 중심주의는 자연 그 자체의 가치를 존중하기 위해서인 반면, 온건한 인간 중심주의는 인간의 장기적인 이익을 위해서이다.

04 환경 문제 해결을 위한 국제적 협력

전 지구적인 환경 문제의 해결을 위해 국제 사회는 다양한 협약과 의정서를 체결하며 적극적으로 협력하고 있다. 환경 문제 관련 협

약 및 의정서는 국가 간에 환경에 대한 책임과 의무를 부여하고 감시하는 역할을 담당한다.

[선지 분석]

- ① 자료는 환경 문제 해결을 위한 국제적 협력 사례를 나타낸 것으로, 이를 통해 환경 문제가 특정 국가의 노력만으로는 해결이 어렵다는 것을 알 수 있다.
- ② 자료는 환경 문제를 해결하기 위한 협약, 의정서 등의 체결을 통해 국가 간에 협력이 이루어진다는 것을 보여 준다.
- ❌ 환경 관련 협약 및 의정서는 국가에서 발생하는 환경 오염을 예방하기 위한 다양한 규제를 주요 내용으로 하고 있다. 이는 환경 문제에 관해 국가 간 이해관계의 대립이 나타나기 때문에 규제나 합의를 통해 국가 간에 환경에 대한 책임과 의무를 부여하는 것이 필요함을 보여 준다.
- ④ 환경 관련 국제 협약 및 의정서 등 환경 문제에 대한 국제적인 공동 대응을 통해 효과적인 해결책을 모색하고 있음을 알 수 있다.
- ⑤ 자료를 통해 사막화, 온실가스 증가, 오존층 파괴, 폐기물 해양 투기 등 다양한 환경 문제가 발생하고 있으며, 이를 해결하기 위한 국제 사회의 협력이 필요함을 알 수 있다.

05 베이컨의 인간 중심주의 자연관

제시문의 사상가는 베이컨이다. 베이컨은 인간을 위해 자연을 지배하고 활용해야 한다고 주장하였으며, 자연을 잘 활용하기 위해서는 자연에 관한 지식이 필요하다고 보았다.

[선지 분석]

- ① 베이컨은 인간이 자연을 지배하고 이용할 수 있는 권한과 능력을 가진 존재라고 보았다.
- ❌ 베이컨은 인간이 자연의 사용자이자 해석자이므로 자연계에 존재하는 것 중에 인간이 가장 우월하다는 인간 중심주의 관점에서 자연을 바라보았다. 자연을 동등한 존재로 존중하는 입장은 생태 중심주의이다.
- ❌ 베이컨은 자연이 인간에게 유용성을 주는 도구적·수단적 가치만을 가지고 있다고 보았다.
- ❌ 베이컨은 인간 이외의 존재와 달리 오직 이성을 지닌 인간만이 자연을 지배하고 이용할 수 있는 능력이 있다고 주장하였다.
- ❌ 베이컨은 자연을 인간의 이익에 봉사하도록 해야 한다고 주장하였다. 즉 베이컨은 인간의 이익을 위해 자연에 대한 존중이나 도덕적 고려 없이 자연을 지배하고 이용할 수 있다고 보았다.

고득점을 위한 핵심 자료

베이컨의 인간 중심주의 자연관

지식은 곧 힘이다. 자연이 인간에게 이롭도록 지식을 활용해야 한다. 방황하고 있는 자연을 사냥해서 노예로 만들어 인간의 이익에 봉사하도록 해야 한다.

— 베이컨, 『신기관』

베이컨은 인간이 자연을 의도에 맞게 변형하여 자연에 대한 지배력을 강화하는 데 지식이 유용하다고 보았다. 또한 관찰이나 경험을 토대로 한 자연 과학적 지식을 활용하여 자연을 정복하고 물질적 혜택과 복지를 증진해야 한다고 보았다.

06 기후변화에 관한 미래 시나리오

그래프는 기후변화에 관한 정부 간 협의체(IPCC)가 제시한 보고서 내용을 토대로 미래 세대가 현재대보다 극심한 폭염, 지구 온난화에 따른 해수면 상승, 남극 빙산 붕괴, 생물 다양성 손실 등의 환경 문제를 더 많이 겪게 될 것임을 보여 준다. 2020년 이전은 산업화 이전 대비 현재까지의 지구 온난화 경향을 나타낸 것이고, 2020년 이후에는 각 온실가스 배출 시나리오별 온난화 경향을 표현하였다.

[선지 분석]

- ⊗ 그래프에 따르면 앞으로 태어날 미래 세대는 온실가스로 인한 피해를 더 크게 입게 된다.
- ⊗ 그래프에 따르면 2060년 이후에도 온실가스 배출이 증가하고, 2100년 이후에도 지구 온난화가 지속된다.
- ③ 그래프에 따르면 기후변화에 대한 책임이 가장 적은 미래 세대가 온실가스로 인한 피해를 가장 크게 입는다. 지구 평균 기온 상승을 특정 수준 이하로 제한하기 위해 대기 중에 추가로 배출할 수 있는 이산화 탄소의 최대 허용량을 의미하는 탄소 예산이 거의 남아 있지 않아서 미래 세대는 배출할 수 있는 이산화 탄소의 양이 현저히 적기 때문이다.
- ⊗ 그래프에 따르면 2020년생이 1950년생보다 지구 온난화로 인한 기후변화를 더 많이 겪게 된다.
- ⊗ 그래프에 따르면 2050년에 70살인 사람이 2020년에 70살인 사람보다 폭염에 따른 질병에 노출될 가능성이 더 높다.

고득점을 위한 핵심 개념

기후 정의

의미	기후변화가 초래하는 비윤리적이고 정의롭지 못한 점을 인식하고 그것을 줄이기 위해 노력하는 것
사례	산업화를 이룬 시기에 겪은 선진국이 지금까지 많은 양의 탄소를 배출하였는데 환경이 오염된 결과는 전 세계가 함께 감당하는 것

07 베이컨과 레오폴드의 자연관

갑은 베이컨, 을은 레오폴드이다. 베이컨은 자연을 관찰하여 얻은 지식을 통해 인간의 삶을 향상할 수 있다고 보았고, 레오폴드는 대지가 상호 의존적으로 연결되어 있는 생명 공동체이며 인간의 이해와 관계없이 도덕적 가치를 지닌다고 주장하였다.

[선지 분석]

- ⊗ 베이컨과 레오폴드 모두 인간은 도덕적으로 행위할 수 있는 주체임을 인정하므로 적절한 비판이 될 수 없다.
- ⊗ 레오폴드는 생태계 전체의 도덕적 가치를 인정하였고, 베이컨도 인간 이외의 존재가 인간에게 유용한 수단적·도구적 가치를 지닌다고 보았기 때문에 적절한 비판이 될 수 없다.
- ⊗ 베이컨은 자연을 경제적 관점에서 이용하는 것을 긍정하였다. 레오폴드 또한 자연을 경제적 관점에서 이용할 수 있다고 보았다. 다만 그는 경제적 관점에서 이용하되 동시에 윤리적·심미적 관점에서도 고려해야 한다고 강조하였다. 따라서 적절한 비판이 될 수 없다.
- ⊗ 레오폴드는 생태계의 안정과 보전을 최우선으로 삼았기 때문에 생태계의 안정을 위해 개별 생명체를 해치는 행위가 정당화될 수 있다고 보았다. 따라서 적절한 비판이 될 수 없다.
- ⑤ 레오폴드는 인간이 생명 공동체를 구성하는 평범한 구성원일 뿐 다른 생명체에 비해 우월한 존재가 아니라고 보았다. 그리고 그는 이성이 어떤 존재의 도덕적 고려 여부를 결정하는 기준이 아니라고 주장하였다. 그러나 베이컨은 이성을 지닌 인간만이 도덕적 고려의 대상이라고 주장하였기 때문에 레오폴드가 베이컨에게 제기할 수 있는 적절한 비판이 될 수 있다.

08 레오폴드의 생태 중심주의

출제 예상 포인트 레오폴드는 통합사회 8종 교과서에서 모두 다루고 있는 사상가이기 때문에 출제 가능성이 매우 높다. 레오폴드는 사상이 문제로 출제될 수도 있지만, 환경과 관련된 다른 사례와 연계하여 출제될 수도 있다.

(가)의 사상가는 생태 중심주의 사상가인 레오폴드이다. (나)는 마오리족의 삶의 터전인 황가누이강에 인간과 동등한 법적 권리와 지위를 부여하는 뉴질랜드의 법안에 대해 다루고 있다. 레오폴드는 (나)의 자료를 보고 강에 대한 도덕적 고려가 필요하다고 주장할 것이다.

[선지 분석]

- ⊗ 레오폴드는 자연을 경제적 관점에서 사용하는 것 자체를 반대하지 않았다. 다만 경제적 관점뿐만 아니라 윤리적·심미적 관점에서도 고려할 것을 강조하였다.
- ⊗ 레오폴드는 인간뿐만 아니라 강과 같은 무생물 또한 도덕적 지위를 갖춘 존재라고 보았다.
- ⊗ 레오폴드가 강에 대한 책임을 강조하는 이유는 인간 이익의 극대화를 위해서가 아니라, 강 자체가 내재적 가치를 지닌 도덕적 고려의 대상이기 때문이다.
- ④ 레오폴드는 생명이 없더라도 강은 그 자체로 내재적 가치를 지니므로 인간이 도덕적으로 고려하는 것이 정당하다고 보았다.
- ⊗ 레오폴드는 생명 공동체의 개별 구성원을 보존하는 것보다 생태계 자체의 통합성과 안정성을 유지하는 것을 우선으로 삼았다.

감각 있는 풀이 Tip

자연 자체의 도덕적 가치를 인정한 레오폴드의 입장을 환경 관련 사례에 적용하여 선지의 진위를 파악할 수 있어야 한다. 레오폴드는 자연을 경제적 관점에서 이용하는 것을 반대하지 않았다는 점, 개별 생명체의 이익보다 생태계 자체의 안정성과 통합성을 중시했다는 점을 알고 있어야 한다.

09 칸트와 베이컨의 인간 중심주의 자연관

갑은 칸트, 을은 베이컨이다. 칸트는 이성적 존재인 인간만이 자율적으로 행동하는 도덕적 주체가 될 수 있지만, 동물을 폭력적으로 대하는 것은 인간의 도덕적 소질을 약화할 수 있으므로 인간성 실현을 위해 동물에 대한 고려가 필요하다고 주장하였다. 베이컨은 인간의 힘이 자연을 관찰하고 분석함으로써 얻은 지식을 통해 생겨난다고 보았고, 자연을 인간의 이익을 위한 수단으로 인식하였다.

[선지 분석]

- ⊗ 칸트는 오직 인간만이 도덕적 지위를 지닌 존재이며, 동물은 이성이 없어 도덕적 지위가 없고 도덕적 권리의 대상이 될 수 없다고 보았다.
- ㉠ 칸트는 인간의 도덕성 실현을 저해한다는 이유로 동물을 폭력적이거나 잔학하게 대우하는 것에 반대하였다.
- ⊗ 베이컨은 자연을 정복하고 인간의 이익을 확대하기 위해 자연에 대한 지식이 필요하다고 보았다.
- ㉡ 칸트와 베이컨은 모두 인간 중심주의 자연관을 토대로 인간만이 도덕적 지위를 지닌 도덕적 행위 주체이며, 이성적 능력을 기준으로 도덕적 지위를 결정하는 것이 정당하다고 보았다.

고득점을 위한 핵심 개념

칸트와 베이컨의 공통점과 차이점

	칸트	베이컨
공통점	• 이성을 지닌 인간만이 도덕적 지위를 지닌 우월한 존재 • 동물이나 자연은 도덕적 권리가 없으며, 오직 인간만이 도덕적 존중의 대상	
차이점	인간의 도덕성 실현을 위해 동물이나 자연에 대한 고려를 인정	동물이나 자연을 인간의 이익을 위한 도구로 인식

감각 있는 풀이 TIP

칸트와 베이컨은 모두 인간 중심주의 자연관의 입장에서 이성을 지닌 인간이 다른 존재보다 우월한 존재이며, 인간만이 도덕적 지위를 지닌 존재임을 인정하였다. 그런데 칸트는 인간 중심주의를 토대로 하면서도 동물에 대한 폭력적인 대우나 자연에 대한 파괴적인 성향이 인간의 도덕적 소질을 약화할 수 있다는 이유로 그러한 것들에 대해 반대하였다. 이에 대한 명확한 이해가 필요하다.

10 싱어의 동물 중심주의와 레오폴드의 생태 중심주의

갑은 싱어, 을은 레오폴드이다. 싱어는 도덕적 고려의 기준을 쾌락과 고통을 느끼는 능력인 쾌고 감수 능력으로 보고, 쾌고 감수 능력을 지닌 동물을 도덕적으로 고려해야 한다고 보았다. 레오폴드는 무생물을 포함한 생태계 전체를 도덕적 고려의 대상으로 여기고, 인간 또한 생태계의 일부라고 주장하였다.

[선지 분석]

- ❌ 싱어는 쾌고 감수 능력을 기준으로 도덕적 고려의 대상을 판단하기 때문에 쾌고 감수 능력을 지닌 동물만이 도덕적 고려의 대상이라고 보았다. 따라서 쾌고 감수 능력을 지니지 못한 동물이나 식물은 생명체임에도 도덕적 고려의 대상이 될 수 없다.
- ② 싱어는 쾌고 감수 능력 여부가 도덕적 고려의 대상을 결정하는 유일한 기준이라고 보기 때문에 쾌고 감수 능력이 없는 존재는 도덕적으로 고려할 필요가 없다고 보았다.
- ❌ 싱어는 동물 중심주의, 레오폴드는 생태 중심주의 자연관의 입장을 취하고 있기 때문에, 두 사상이 모두 인간을 자연의 주인으로 인식하지 않았다. 인간을 자연의 주인으로 인식하는 것은 인간 중심주의 자연관에 해당한다.
- ❌ 싱어는 쾌고 감수 능력 여부를 기준으로 도덕적 존중의 대상을 판단하기 때문에 생태계 자체를 도덕적 존중의 대상으로 보지 않았다. 반면 레오폴드는 생태계 자체의 내재적 가치를 인정하여 도덕적 존중의 대상이라고 보았다. 따라서 C에 들어가는 것이 적절한 진술이다.
- ❌ 싱어는 인간뿐만 아니라 쾌고 감수 능력을 지닌 동물까지 도덕적으로 고려해야 한다고 주장하였다. 레오폴드는 인간뿐만 아니라 동물, 식물, 무생물을 포함한 생태계 전체를 도덕적으로 고려해야 한다고 주장하였다. 즉 싱어와 레오폴드는 모두 인간만이 도덕적 고려의 대상인 것은 아니라고 보았다. 따라서 B에 들어가는 것이 적절한 진술이다.

감각 있는 풀이 TIP

싱어는 동물 중심주의 관점에서 쾌고 감수 능력을 지닌 동물의 이익을 평등하게 고려해야 한다고 주장하였다. 이때 평등하게 고려한다는 것의 의미는 인간과 쾌고 감수 능력을 갖춘 동물을 동등하게 대우한다는 것이 아니라, 각자의 이익에 맞게 고려하는 것을 의미한다. 또한 싱어는 동물 중심주의, 레오폴드는 생태 중심주의에 해당하기 때문에 공통점이 없는 것처럼 보이지만, '인간만이 도덕적 고려의 대상인 것은 아니다.' 혹은 '쾌고 감수 능력이 있는 존재를 도덕적으로 고려해야 한다.'와 같은 진술은 싱어와 레오폴드가 모두 긍정할 수 있으므로 고득점을 얻기 위해서는 두 사상가의 공통점 역시 명확하게 이해할 필요가 있다.

11 동양의 자연관

출제 예상 포인트 동양의 자연관은 통합사회 4종 교과서에서 다루는 내용이다. 동양의 자연관은 사상가만을 제시하여 출제할 수도 있지만, 환경 관련 사례와 연결해서도 출제될 수 있다. 그러므로 유교는 '천인합일'을 중심으로, 불교는 '연기'를 중심으로, 도가는 '무위자연'을 중심으로 명확하게 알고 있어야 한다.

갑은 유교의 자연관의 입장, 을은 불교의 자연관의 입장, 병은 도가의 자연관의 입장을 취하고 있다. 유교의 자연관에서는 인간과 자연이 조화를 이루는 천인합일의 경지를 지향하고, 불교의 자연관에서는 모든 존재가 상호 의존적으로 연결되어 있다는 연기설을 강조한다. 또한 도가의 자연관에서는 인위적인 것이 없는 자연 그대로의 상태인 무위자연을 지향함으로써 자연의 질서를 존중한다. 이처럼 동양의 자연관은 모두 인간과 자연의 유기적 관계를 강조한다.

[선지 분석]

- ❌ 유교의 자연관의 입장에서는 인간과 자연의 조화를 추구하지만, 인간과 자연이 동등한 권리를 지닌 존재라고 보지는 않는다.
- ② 불교의 자연관의 입장에서는 연기설에 따라 인간과 자연이 서로 영향을 주고받는 상호 의존적 존재임을 강조한다.
- ❌ 도가의 자연관의 입장에서는 인간이 인위적으로 행하는 것을 부정적으로 인식하기 때문에 기술의 발전에 대해서도 부정적이다.
- ❌ 유교의 자연관과 불교의 자연관은 모두 인간과 자연의 연계와 조화를 강조한다.
- ❌ 불교의 자연관과 도가의 자연관은 모두 자연을 인간의 이익을 위한 도구로 인식하지 않고, 인간과 함께 공존해야 할 중요한 존재로 인식한다.

고득점을 위한 핵심 자료

동양의 자연관

- 공자께서는 낚시질은 하셨으며 그물질은 하지 않으셨으며, 활쏘기는 하셨으며 잡자는 새는 쏘아 맞치지 않으셨다. -『논어』
- 모든 중생이 다 나의 아버지요 어머니거늘, 그들을 잡아서 먹거나 해치는 것은 나의 부모를 죽이거나 해치는 것이며, 또 나의 옛 몸을 먹는 것이다. 모든 땅과 물은 나의 옛 몸이고, 모든 불과 바람은 나의 본래 몸이다. -『법방경』
- 사람은 땅을 본받고, 땅은 하늘을 본받고, 하늘은 도를 본받고, 도는 자연을 본받는다. -『도덕경』
- 천지는 나와 함께 살고 만물은 나와 더불어 하나이다. -『장자』

동양의 자연관은 자연을 살아 있는 유기체로 보며 인간과 자연의 조화를 추구한다. 또한 자연을 단순히 극복과 착취의 대상으로 보는 것이 아니라 공존의 대상으로 인식하고 인간과 자연의 화해를 추구한다.

12 세계의 환경 문제

출제 예상 포인트 환경 문제는 현재 정치, 경제, 사회 모든 분야에서 관심을 가지고 이에 대응하기 위해 다양한 정책을 추진하는 뜨거운 주제이기 때문에 출제될 가능성이 높다.

지구 온난화는 산업화와 도시화로 인해 대기로 배출되는 온실가스가 빠르게 증가하면서 지구의 평균 기온이 상승하는 현상으로, 이상 기후 현상, 해수면 상승, 동식물의 서식지 이동 등 전 지구적으로 영향을 미치고 있다. 또한 오염 물질의 배출은 산성비, 오존층 파괴 등을 유발하고, 사막화와 열대림 파괴는 생물종 다양성 보존에 큰 위협이 되고 있다.

[선지 분석]

- ① 지구 온난화가 지속되면 북극해의 빙하가 녹아 바다로 유입되는 담수의 양이 많아지므로 북극해의 평균 염도는 낮아질 것이다.
- ❌ 화석 에너지는 석유, 석탄, 천연가스를 의미한다. 이 중 연소 과정에서 온실가스 배출량은 석탄 > 석유 > 천연가스 순으로 많다. 석탄이 천연가스

보다 온실가스 배출량 증가에 큰 영향을 미친다.

- ❌ 산성비는 산업화와 도시화 등으로 인해 대기로 배출되는 오염 물질이 빗물에 섞여 내리는 현상이다. 산성비 피해는 산업과 도시가 발달한 유럽, 북아메리카 등이 개발 도상국인 많은 아프리카보다 심각하다.
- ❌ 사막화 현상은 사막의 주변 지역에 분포하는 스텝 기후 지역에서 주로 발생한다. 대표적인 사례 지역으로 사하라 사막의 남쪽에 분포하는 사헬 지대, 중앙아시아의 아랄해 일대가 있다.
- ❌ 열대림 파괴의 주요 원인은 목축업의 발달로 인한 벌목, 플랜테이션 농장 확대, 화전 농업 등이다. 염화 플루오린화 탄소의 사용 증가는 오존층 파괴의 주요 원인이다.

13 환경 문제 해결을 위한 국제적 협력

제시문은 '세계 사막화 방지의 날'과 '세계 오존층 보호의 날'을 통해 환경 문제 해결을 위한 노력으로 국제적 협력의 필요성을 보여 준다.

[선지 분석]

- ① 제시문은 사막화 방지 협약 채택을 기념하는 '세계 사막화 방지의 날'과 몬트리올 의정서 수립을 기념하는 '세계 오존층 보호의 날'을 통해 환경 문제 해결을 위한 국제적인 공동 대응과 협력의 중요성을 보여 준다.
- ❌ 제시문은 국내에서 발생하는 환경 문제 해결을 위한 기업의 노력을 보여주지 않는다.
- ❌ 제시문은 일상생활에서 생태 전환적 사고를 갖추고 행동하는 생태시민의 노력을 보여주지 않는다.
- ❌ 제시문은 국내에서 발생하는 환경 문제로 인한 갈등을 해결하려는 정부의 노력을 보여주지 않는다.
- ❌ 제시문은 정부나 기업 활동이 환경에 미치는 영향을 검토하는 시민 사회의 노력을 보여주지 않는다.

고득점을 위한 핵심 개념

환경 문제 해결을 위한 각 주체의 노력

정부	<ul style="list-style-type: none"> • 환경과 관련한 계획 및 정책을 수립하고 환경 분쟁 및 갈등 조정 • 전 지구적 환경 문제의 해결을 위해 국제기구 및 다른 국가와 협력하여 해결 방안 모색
기업	<ul style="list-style-type: none"> • 제품의 생산, 유통, 소비 과정에서 환경에 미치는 부정적 영향 최소화 • 지속가능한 성장을 위한 ESG 경영 실천
시민 사회	<ul style="list-style-type: none"> • 정부나 기업이 추진하는 정책이나 사업이 환경에 어떤 영향을 끼치는지 감시 및 견제 • 시민을 대상으로 환경 보호의 중요성과 실천 방안 교육 및 환경 운동 전개
생태시민	<ul style="list-style-type: none"> • 생태 소양을 토대로 생활 속에서 자원과 에너지를 절약하는 습관을 지니고 녹색 소비 실천 • 지역 사회의 환경 문제와 전 지구적 환경 문제를 해결하기 위해 적극적으로 행동
국제적 협력	전 지구적 환경 문제 해결을 위해 세계 각국이 협력하고 대응하여 환경 협약 체결 및 실천

14 사막화, 열대림 파괴, 해양 오염 방지를 위한 국제 협약

A는 북부 아프리카의 사하라 사막의 남북 주변 지역, 아라비아반도, 중앙아시아, 몽골, 오스트레일리아 등에서 발생하고 있는 것으로 보아 사막화 현상이다. 사막화 방지를 위한 국제 협약은 1994년에 채택된 사막화 방지 협약이다. B는 적도를 중심으로 주변에 넓

게 발생하고 있는 것으로 보아 열대림 파괴이다. 열대림에는 수많은 생물종이 서식하고 있어서 열대림이 파괴되면 생물종 다양성이 감소하게 된다. 따라서 열대림 파괴를 방지하기 위한 국제 협약은 생물 다양성 협약이다. C는 해안을 따라 발생하는 해양 오염이다. 해양 오염을 방지하기 위한 국제 협약은 런던 협약으로, 폐기물 투기에 의한 해양 오염 방지를 위해 1972년에 채택되었다.

15 산성비 피해의 국제적 분포

A는 유럽과 북아메리카에서 피해 지역이 넓게 나타나고 있는 것으로 보아 산성비이다. 산성비는 공업과 도시 발달 과정에서 산성을 띠는 아황산가스, 질산, 질소 산화물 등이 대기 중으로 배출된 후 빗물에 섞여 내리는 현상이다.

[선지 분석]

- ❌ 산성비의 원인 물질 배출 지역은 대체로 산업이 발달한 지역이지만, 피해 지역은 원인 물질 배출 지역에서 동쪽으로 치우쳐 있다. 이는 오염 물질이 편서풍을 타고 동쪽으로 이동했기 때문이다.
- ㉠ 산성비의 원인은 공장, 자동차 배기가스 등에서 배출되는 아황산가스, 질소 산화물 등이다. 따라서 산성비 원인 물질 배출 지역은 유럽, 북아메리카, 중국 동부 등 산업이 발달한 지역이다.
- ㉡ 산성비 피해를 방지하기 위한 국제 협약으로 제네바 협약이 채택되었다. 제네바 협약은 대기 오염의 장거리 국경 이동에 관한 협약으로 심각한 산성비 문제를 해결하고 대기 오염 물질의 이동을 통제하기 위해 유럽 지역의 국가를 중심으로 1979년 스위스 제네바에서 체결되었다.
- ㉢ 대리석으로 이루어진 고대 유럽의 로마 유적 등이 산성비에 녹아 훼손되기도 한다.

감각 있는 풀이 Tip

전 지구적 환경 문제 중 유럽을 중심으로 원인 물질 발생 지역과 피해 지역이 차이를 보이는 것은 산성비 피해이다.

16 환경 문제 해결을 위한 다양한 노력

환경 문제는 한 국가만의 문제가 아닌, 국제 사회가 공유하는 문제이기 때문에 이를 극복하기 위해서는 전 지구적 차원의 협력이 필요하다. 정부는 국제 협약을 준수하고 국제기구와 협력 관계를 유지해야 한다. 시민 사회는 정부의 친환경 정책에 의견을 제시하거나 기업이 경제적 이익을 추구하기 위해 환경을 파괴·훼손하는 활동을 감시하고 견제한다. 기업은 환경 윤리에 따라 기업을 운영해야 하며, 개인은 생태시민으로서 생태 전환적 사고에 기반하여 인간과 자연의 관계를 바라봐야 한다.

[선지 분석]

- ① 정부는 환경 문제 해결을 위해 국내적으로 「환경 정책 기본법」 등 환경 관련 법과 제도를 마련하고 환경 영향 평가 제도를 실시한다.
- ② 시민 사회는 환경 문제 해결을 위해 정부와 기업의 활동을 감시하는 역할을 하고, 비정부 기구를 설립하여 환경 보호 활동을 하기도 한다.
- ❌ 기업은 소비자의 욕구 파악을 통해 재화나 서비스를 생산하여 이윤을 추구하며, 이 과정에서 환경 문제를 유발할 수 있다. ESG 등 지속가능한 발전을 추구하는 경영 방식은 기업의 본질적 목표인 이윤 극대화와는 거리가 멀다.
- ④ 1992년 브라질의 리우데자네이루에서 개최된 기후변화 협약은 기후변화에 대응하기 위한 기본 원칙을 담고 있다.
- ⑤ 몬트리올 의정서는 오존층 파괴 물질인 염화 플루오린화 탄소의 생산 및 사용을 단계적으로 감축하기 위해 채택한 국제 협약이다.

01 ② 02 ⑤ 03 ④ 04 ② 05 ③ 06 ⑤
07 ④ 08 ④

01 인간 중심주의와 생태 중심주의

A는 인간 중심주의, B는 생태 중심주의이다. 인간 중심주의는 인간과 자연의 관계에서 이분법적 세계관을 지향하고, 자연은 인간에게 이익을 주는 한에서만 가치를 지닌다고 본다. 생태 중심주의는 인간과 자연의 관계에서 전일론적 관점을 지향하고, 자연은 인간의 이익과 무관하게 그 자체로서 가치를 지닌다고 본다.

[선지 분석]

- ㉠ 인간 중심주의는 자연에 관한 행위의 옳고 그름이 자연 그 자체에 있는 것이 아니라 인간에게 얼마만큼의 유용성을 주는가에 달려 있다고 본다.
- ✕ 생태 중심주의는 생태계를 구성하는 개별 생명체의 보존보다 생태계 자체의 안정성을 더 우선한다.
- ㉡ 생태 중심주의는 인간과 자연의 관계를 이분법적으로 분리해서 바라보지 않고, 인간을 포함한 자연 전체를 하나로 보는 전일론적 관점으로 바라보기 때문에 첫 번째 질문에 대해 ㉠에 '아니요'라고 답할 것이다. 또한 '인간 이외의 존재에게는 어떠한 가치도 부여되지 않는가?'라는 두 번째 질문에 대해 인간 중심주의와 생태 중심주의 모두 '아니요'라고 대답할 것이다. 왜냐하면 인간 중심주의 관점에서는 자연이 인간을 위한 도구적·수단적 가치를 지닌다고 보고, 생태 중심주의 관점에서는 자연이 그 자체로 내재적 가치를 지닌다고 보기 때문이다.
- ✕ '자연은 인간의 이익과 무관하게 그 자체로 가치를 지니고 있는가?'라는 질문은 인간 중심주의 입장에서 '아니요', 생태 중심주의 입장에서 '예'라고 대답할 질문이므로 (가)에 들어갈 수 없다.

고득점을 위한 핵심 개념

인간 중심주의 자연관과 생태 중심주의 자연관

	인간 중심주의	생태 중심주의
공통점	인간 이외의 존재에게 가치가 부여될 수 있음. 인간 중심주의의 경우 자연이 도구적·수단적 가치를 지닌다고 보고, 생태 중심주의의 경우 자연이 그 자체로 내재적 가치를 지닌다고 봄.	
차이점	<ul style="list-style-type: none"> 이분법적 세계관을 중심으로 인간과 자연을 분리함. 자연은 인간의 이익을 위한 도구적 가치만을 지님. 인간의 이익이나 행복을 자연보다 우선 고려함. 	<ul style="list-style-type: none"> 전일론적 관점에 따라 인간을 자연의 일부로 인식함. 자연은 인간의 이익과 무관하게 내재적 가치를 지님. 생태계 자체의 통합성과 안정성을 우선 고려함.

02 생태 중심주의

(가)는 생태 중심주의 관점이다. 생태 중심주의는 인간의 이익보다는 인간을 포함한 생태계 전체의 통합성과 안정성을 우선하는 전일론적 관점을 토대로 생태계 자체에 대한 도덕적 존중을 강조한다. (나)는 ○○산 관광 열차 개발을 둘러싸고 □□시와 환경 단체들 간에 입장 차이가 발생하는 사례이다.

[선지 분석]

- ✕ □□시는 자연의 내재적 가치를 존중하기보다는 관광 개발로 경제적 이익을 얻는 것, 즉 도구적 가치를 강조한다.
- ㉠ ○○산 산악 열차는 자연에 대한 인간의 도덕적 책임보다 산악 열차 운영에 따른 경제적 이익, 지역 경제 활성화 등을 강조한 것이다.

- ㉡ 환경 단체들은 ○○산 산악 열차 개발로 인해 일어날 수 있는 산림 훼손과 반달가슴곰의 서식지 피해를 근거로 들어 산악 열차 개발에 반대한다. 이는 (가)의 입장에서 인간과 자연의 공존과 조화를 위한 방안을 모색하고자 하는 시도로 평가할 수 있다.
- ㉢ 반달가슴곰의 서식지에 피해를 준다는 것은 생태계의 안정성을 저해하는 요소이므로 (가)의 입장에서는 생태계의 안정성을 지키기 위해 해결해야 할 문제라고 평가할 것이다.

03 베이컨과 레오폴드의 자연관

갑은 베이컨, 을은 레오폴드이다. 베이컨은 자연을 인류의 복지를 위한 수단으로 보고, 자연에 관한 지식의 활용을 통해 자연을 지배하는 힘을 확장할 수 있다고 보았다. 레오폴드는 무생물을 포함한 생태계 자체의 가치를 존중하며 개별 생명체의 가치보다 생태계 전체의 통합성과 안정성이 우선한다고 보았다.

[선지 분석]

- ✕ 베이컨은 인간의 이익과 유용성을 위해 자연을 활용할 수 있다고 보았기 때문에 인간이 생태계에 개입하는 것이 정당화되는 경우가 있다고 보았다. 레오폴드 또한 인간이 살아가기 위해서 자연을 활용할 수 있다고 보았고, 생태계의 안정성과 통합성의 유지 측면에서 인간이 생태계의 보존을 위해 생태계에 개입하는 것이 정당화될 수 있다고 보았다. 따라서 베이컨과 레오폴드가 모두 긍정의 대답을 할 질문이다.
- ㉠ 베이컨은 도덕적 행위 능력이 있는 존재, 즉 인간만이 내재적 가치를 지닌다고 보았다.
- ✕ 베이컨은 인간 중심주의 관점에서 오직 인간만이 도덕적 지위를 갖춘 존재이며, 도덕적 지위를 갖춘 인간의 이익을 위해 자연을 최대한 활용해야 한다고 보았다. 이에 따라 베이컨은 쾌고 감수 능력을 지녔다 하더라도 동물은 도덕적 지위를 가지지 못한 존재라고 볼 것이다.
- ㉡ 레오폴드는 생태 중심주의 관점에서 인간에게 무생물을 포함한 생태계의 모든 존재와 생태계 자체의 도덕적 가치를 존중해야 할 의무가 있다고 주장하였다. 따라서 레오폴드는 어떤 존재가 생명을 지닌 개체가 아니어도, 즉 무생물이어도 도덕적 지위를 가질 수 있다고 보았다.

고득점을 위한 핵심 개념

베이컨의 인간 중심주의와 레오폴드의 생태 중심주의

	베이컨	레오폴드
기본 입장	인간의 이익을 위해 자연을 지배하고 활용하려면 자연에 관한 지식이 필요	개별 생명체의 가치보다 전체로서의 생태계 자체의 안정성과 통합성이 중요
도덕적 고려	이성을 지닌 인간만이 도덕적 고려의 대상	무생물을 포함한 생태계 전체가 도덕적 고려의 대상
공통점	<ul style="list-style-type: none"> 인간은 자연을 자원으로 사용할 수 있음. 인간이 생태계에 개입하는 것이 정당화되는 경우가 있음. 	

감각 있는 풀이 TIP

순서도 문제는 고난도 문제로 출제될 가능성이 높다. 순서도 문제에서는 갑, 을에게 공통적으로 물었을 때 대답이 같리는 질문을 판별하는 것이 중요하다. 갑, 을의 차이점을 물을 수도 있고 공통점을 물을 수도 있다는 점에 유의해야 한다.

04 레오폴드의 생태 중심주의

레오폴드는 개별 생명체의 가치보다 생태계 자체의 가치를 우선하는 전일론적 관점에서 대지를 수많은 존재가 서로 균형을 맞추며 살아가는 공동체로 파악하고 이를 존중해야 한다고 보았다.

[선지 분석]

입장 1 레오폴드는 인간이 대지의 지배자나 정복자가 아닌 다른 존재와 평등한 구성원이라고 보았다.

입장 2 레오폴드는 전일론적 관점에서 개별 생명체의 가치보다 생명 공동체 자체의 통합성과 안정성을 유지하는 것이 우선한다고 주장하였다.

입장 3 레오폴드는 인간뿐만 아니라 동물, 식물, 무생물을 포함한 생태계 자체의 도덕적 가치를 존중하였다. 인간만이 지닌 이성적 능력을 기준으로 도덕적 지위가 결정되지 않는다고 보았기 때문이다.

입장 4 레오폴드는 인간이 자연을 자원으로 활용할 수 있다고 보았다. 다만 경제적 관점뿐만 아니라 윤리적·심미적 관점에서도 고려하여 옳은 지 판단해야 한다고 강조하였다.

감각 있는 풀이 TIP

‘이성적 능력을 지닌 존재’, ‘도덕적 행위 주체’는 인간을 의미한다. 따라서 직접적으로 ‘인간’이라고 제시되지 않아도 이성적 능력을 지닌 존재나 도덕적 행위 주체로 표현된다면 인간을 의미하므로 ‘입장 3’과 같은 경우, ‘인간인지의 여부가 어떤 존재의 도덕적 지위를 결정하지 않는다.’와 같은 의미를 이해해야 한다.

05 환경 문제 해결을 위한 생태시민으로서의 실천

출제 예상 포인트 환경 문제와 관련한 생태시민의 자질은 전 지구적 환경 문제와 연관될 수 있는 주제이므로 생태시민의 자질과 국제 사회의 행위 주체의 역할을 구분하여 이해할 수 있어야 한다.

칼럼은 기후변화 및 환경 문제 해결을 위해 미래 세대와 환경에 대한 책임감을 가지고 생태시민의 자질을 함양해야 한다고 주장한다. 칼럼은 생태시민이 생태 전환적 사고를 토대로 일상의 행동을 변화시키고, 정부가 시행하는 환경 정책과 제도에 관심을 가져야 한다고 주장한다. 또한 지역 사회의 문제와 전 지구적 환경 문제 해결을 위해 적극적으로 참여해야 한다고 본다.

[선지 분석]

① 칼럼에서는 생태시민이 자신의 행동이 자연과 긴밀하게 연결되어 있음을 이해하는 생태적 민감성을 토대로 환경 문제 해결에 적극적으로 참여하는 자세를 가져야 한다고 주장한다.

② 칼럼에서는 생태시민이 자신의 행동과 자연이 밀접하게 연결되어 있음을 인식해야 한다고 강조한다.

ⓧ 칼럼에서는 생태시민이 전 지구적 환경 문제 해결을 위해 적극적으로 행동해야 한다고 강조하지만, 국제 사회의 주체로서 국가 간의 협력을 주도해야 한다고 주장하지는 않는다.

④ 칼럼에서는 생태시민이 환경 문제 해결을 위해 적극적으로 행동하고 일상 속에서 생태 활동을 실천해야 한다고 강조한다.

⑤ 칼럼에서는 생태시민이 일상에서의 자신의 행동을 성찰함은 물론 정부가 시행하는 다양한 환경 정책과 제도에 적극적으로 참여해야 한다고 주장한다.

감각 있는 풀이 TIP

생태시민은 지역의 환경 문제뿐만 아니라 전 지구적인 환경 문제 해결을 위해 노력해야 하지만, 국제 사회의 주체가 되어 국가 간의 협력을 주도하기는 어렵다. 국제 사회의 행위 주체로서 국가 간의 협력을 통해 환경 문제 해결을 위해 노력하는 주체는 국제기구이다.

06 온건한 인간 중심주의

(가)는 인간의 이익을 위해 댐을 건설함으로써 아랄해가 점차 파괴

되는 과정을 보여 준다. (나)는 인간만이 도덕적 지위를 지니지만, 인간의 이익 실현을 위해서라도 자연 보전의 실천이 필요하다는 온건한 인간 중심주의의 입장을 보여 준다.

[선지 분석]

ⓧ 자연을 인간을 위한 도구로 인식하고 자연을 최대한 활용할 수 있다고 보는 관점은 강경한 인간 중심주의이다.

ⓧ 자연에 대한 인간의 착취를 정당하다고 보고 아랄해 개발을 더욱 확대해야 한다고 보는 관점은 강경한 인간 중심주의이다.

ⓧ 아랄해와 같은 무생물까지 도덕적 지위가 있다고 보고, 도덕적 고려의 대상으로 삼는 관점은 생태 중심주의이다.

ⓧ 인간과 무생물인 아랄해가 동등한 내재적 가치를 지닌다고 보는 관점은 생태 중심주의이다.

⑤ 현재세대와 미래 세대, 즉 인간의 삶의 질 향상을 위해 아랄해 보존에 대한 생태적 관심을 가져야 한다고 보는 관점은 온건한 인간 중심주의이다.

고득점을 위한 핵심 개념

강경한 인간 중심주의와 온건한 인간 중심주의

강경한 인간 중심주의	자연을 인간의 필요를 충족하기 위한 도구로만 여기며, 인간이 자연을 최대한 활용할 수 있다고 보는 관점
온건한 인간 중심주의	인간만이 도덕적 지위를 지니며 인간이 자연을 이용할 수 있다고 여기지만, 인간의 이익 실현을 위해서는 자연과 관련된 책임을 져야 하고 현재세대와 미래 세대를 위해 생태적 관심을 가져야 한다고 보는 관점

감각 있는 풀이 TIP

인간 중심주의는 자연보다 인간을 우월한 존재로 인식하고, 도덕적 고려의 대상을 인간으로 한정한다는 특징이 있다. 자연을 최대한 활용해야 한다는 입장인 강경한 인간 중심주의와, 인간의 이익을 위해서라도 자연을 보호해야 할 책임이 있다고 보는 입장인 온건한 인간 중심주의로 세부적인 관점이 구분되므로 이에 대한 명확한 이해가 필요하다.

07 탄소중립 녹색 성장 정책과 오존층 파괴

(가)는 대기 중으로 배출되는 온실 기체의 양이 흡수되는 온실 기체의 양보다 많아 대기 중에 이산화 탄소 농도가 증가하고 있는 시기이다. (나)는 배출되는 온실 기체의 양과 흡수되는 온실 기체의 양이 동일하여 대기 중에 이산화 탄소 증가량이 0인 상태인 탄소중립 시기이다. (다)는 대기 중에 오존 농도가 상대적으로 높은 과거(1979년)이며, (라)는 오존층이 파괴되어 남극 상공에 큰 구멍이 만들어져 있는 현재(2022년)에 해당한다.

[선지 분석]

ⓧ (가)가 지속되면 대기 중 이산화 탄소 농도가 증가하기 때문에 지구 온난화 현상이 심화된다. 이에 따라 한반도 기온이 상승하여 농작물 재배의 북한계선이 북상하고, 우리나라의 고랭지 농업 면적은 축소된다. 고랭지 농업은 서늘한 기후에서 잘 재배되는 고랭지 배추 등을 재배하는 농업이다.

ⓧ (가)는 (나)보다 대기 중으로 배출되는 온실 기체량이 많으므로 온실 기체에 해당하는 탄소 배출량이 많다.

ⓧ (라)는 오존층이 파괴되면서 발생한 구멍의 크기가 (다)보다 크기 때문에 오존층 파괴가 심한 것을 알 수 있다. 따라서 오존층 파괴의 주원인인 염화 플루오린화 탄소 배출량은 (라)가 (다)보다 많다.

④ 오존홀이 발생하면 자외선 투과량이 많아지므로 백내장, 피부암 등을 겪는 질환자 수가 많아진다. 따라서 피부 질환자 수는 오존홀이 큰 (라)가 (다)보다 많다.

❌ 탄소중립 녹색 성장은 정부의 노력, 오존층 파괴 방지를 위한 국제 협약인 몬트리올 의정서는 국제 사회의 노력에 해당한다.

고득점을 위한 핵심 개념

환경 문제 해결을 위한 기업 및 시민 사회의 노력

기업	RE100	기업이 사용하는 전력량의 100%를 2050년까지 풍력, 태양 에너지 등의 재생 에너지로 대체하겠다는 목표를 세운 국제 캠페인
	ESG 경영	환경(Environment), 사회(Social), 지배 구조(Governance)의 머리글자를 딴 것으로, 기업의 성과를 평가하는 기준으로써 환경 측면에서는 지속가능성에 대한 기업의 의지와 환경에 미치는 영향에 초점을 맞춤. 세부 계획에는 탄소 배출량 감축, 에너지 효율 증대, 폐기물 관리, 자원 절약 등에 관한 계획이 포함됨.
시민 사회	그린피스	1971년에 캐나다에서 결성된 국제 환경 보호 단체로, 건강하고 평화로운 미래를 위해 환경 문제에 대한 해결책을 연구하여 홍보하고 직접 행동함.
	세계 자연 기금	1961년 스위스에서 설립된 세계 최대 규모의 국제 비정부 자연 보전 기구로, 목표는 인류와 자연이 조화를 이루며 사는 미래를 만드는 것임. 기후, 에너지, 해양, 야생 동물, 식량, 담수, 삼림에 이르기까지 다양한 분야에서 자연 보전 운동을 벌이고 있음.
	지구의 벗	그린피스, 세계 자연 기금과 함께 세계 3대 환경 보호 단체 중 하나로, 지구 온난화 방지, 산림 보존, 생물 다양성의 보존 등 전통적인 자연 보호를 넘어서서 지속적인 발전과 경제에 대해서 문제를 제기함. 최근에는 인권 보호에도 힘쓰고 있음.

08 지역(대륙)별 생태 발자국 지수와 인간 개발 지수

생태 발자국 지수가 높을수록 인간의 삶을 위한 비용이 많고 인간 개발 지수도 높은 편이다. 생태 발자국 지수가 높다는 것은 그만큼 환경에 영향을 더 많이 끼친다는 의미이다. A는 세 지역(대륙) 중 생태 발자국 지수와 인간 개발 지수가 모두 가장 낮은 아프리카이다. C는 세 지역(대륙) 중 생태 발자국 지수와 인간 개발 지수가 가장 높은 북아메리카·유럽 연합에 해당한다. 나머지 B는 남아메리카이다.

[선지 분석]

- ❌ 아프리카의 사헬 지대는 오랜 가뭄과 과도한 경작지 확대 등으로 빠르게 사막화가 이루어지고 있다. 이에 비해 남아메리카는 열대 우림이 차지하는 비율이 높아 아프리카보다 사막화로 인한 피해 규모가 작은 편이다.
- ❌ 아프리카는 북아메리카·유럽 연합보다 생태 발자국 지수가 낮다.
- ❌ 1인당 지역 내 총생산은 선진국이 많은 북아메리카·유럽 연합이 개발도상국이 많은 남아메리카보다 많다.
- ④ 교토 의정서는 선진국 38개국이 온실가스 감축을 위해 가입한 국제협약이기 때문에 북아메리카·유럽 연합이 아프리카보다 교토 의정서에 가입한 국가의 수가 많다.
- ❌ 환경 사회 기업 지배 구조(ESG) 경영은 친환경 경제 정책을 표방하는 선진국의 기업을 중심으로 이루어진다. 따라서 북아메리카·유럽 연합이 환경 사회 기업 지배 구조(ESG) 경영을 표방하는 기업의 수가 가장 많다.

04

다양한 문화권의 특징과 삶의 방식

기출 동형 문제

01-① ④

01-② ③

39쪽

01-① 세계의 문화권

출제 예상 포인트 각 문화권에 대한 설명을 묻는 방식은 수능 예시 문항에 출제된 유형이다. 문화권은 자원, 인구, 자연환경 등 여러 분야와 연계되어 있기도 하므로 각 문화권의 주요 특징 및 다른 단원에서 연관된 개념을 함께 알아 두어야 한다.

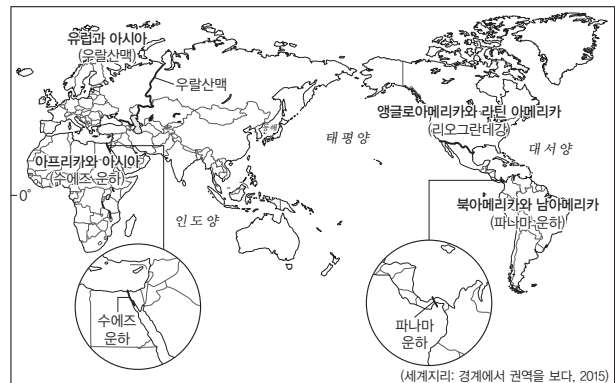
건조 문화권은 북부 아프리카, 서남아시아, 중앙아시아를 포함하는 지역으로, 공통적으로 이슬람교를 믿으며 건조 기후가 널리 나타난다. A는 유럽 문화권, B는 동아시아 문화권, C는 앵글로아메리카 문화권, D는 라틴 아메리카 문화권이다.

[선지 분석]

- ❌ 바드기르는 서남아시아 지역에서 공기를 정화해 주는 탑 모양의 건축물이다.
- ❌ 아랍 에미리트는 건설 수요 증가로 인한 청장년층 남성 노동력 유입으로 성비가 높게 나타난다.
- ❌ 건조 문화권에서 신자 비율이 가장 높은 종교는 이슬람교이며, 유럽 문화권에서 신자 비율이 가장 높은 종교는 그리스도교이다.
- ④ 동아시아 문화권에서는 유교, 불교, 한자, 젓가락 등의 문화 요소가 나타난다.
- ❌ 앵글로아메리카와 라틴 아메리카를 구분하는 경계는 리오그란데강이다.

고득점을 위한 핵심 자료

지역(대륙)의 경계 구분



01-② 오세아니아 문화권과 아프리카 문화권

출제 예상 포인트 제시문의 내용인 원주민 애버리지니 차별, 아프리카 민족 간 갈등은 통합사회 8종 교과서에서 해당 문화권을 설명하는 핵심 개념이므로 숙지해야 한다.

㉠은 오스트레일리아의 백호주의와 원주민 차별이 있던 문화권인 오세아니아 문화권으로, 지도의 B에 해당한다. ㉡은 르완다의 투치족과 후투족의 갈등이 있던 문화권인 아프리카 문화권으로, 지도의 A에 해당한다. C는 라틴 아메리카 문화권이다.

고득점을 위한 핵심 자료

아프리카 국가들의 주요 분쟁

르완다	다수인 후투족과 소수이지만 지배층을 형성해 온 투치족 간의 갈등으로 내전이 발생함.
수단과 남수단	이슬람교를 주로 믿으며 아랍계 주민이 많은 수단과 크리스트교와 토속 신앙을 주로 믿으며 아프리카계 주민이 많은 남수단 간 분쟁이 발생하였으며, 2011년 남수단이 수단으로부터 독립함.
남아프리카 공화국	과거 유색 인종을 차별하는 인종 차별 정책(아파르트헤이트)이 시행되었고, 넬슨 만델라의 대통령 당선 이후 1994년에 완전히 폐지되었지만, 민족(인종) 갈등과 빈부 격차 문제가 지속됨.

수능 기본 문제

40~43쪽

01 ⑤	02 ②	03 ③	04 ⑤	05 ②	06 ④
07 ④	08 ④	09 ③	10 ③	11 ①	12 ④
13 ④	14 ④	15 ⑤	16 ②		

01 문화권의 특징

문화권은 자연환경과 인문환경의 영향을 받아 형성되며, 사하라 사막, 리오그란데강 등 지형적인 요소를 경계로 구분되기도 한다. 경계에서는 양쪽의 문화권 특징이 섞여 나타나는 점이 지대가 나타나기도 한다.

[선지 분석]

- ✗ 이슬람교도가 하루 다섯 번 예배를 드리는 모습은 종교의 교리에 따른 것이므로 인문환경의 영향이다.
- ㉠ 힌두교도가 갠지스강을 신성하게 여기는 것은 종교적 영향이므로 인문환경의 영향이다.
- ㉡ 앵글로아메리카와 라틴 아메리카의 경계는 리오그란데강이다.
- ㉢ 지역의 경계에서는 두 지역의 특징이 섞여 나타나는 지대인 점이 지대가 나타난다.

고득점을 위한 핵심 개념

점이 지대

의미	경계를 두고 나뉜 두 지역의 특징이 함께 나타나는 지역으로, 두 지역의 경계에 위치함.
사례	건조 문화권과 아프리카 문화권의 경계에 위치한 나이지리아, 수단-남수단 등에서는 건조 문화권에서 주로 믿는 종교인 이슬람교와 아프리카 문화권에서 주로 믿는 종교인 크리스트교가 함께 나타나며, 이러한 영향으로 이들 지역에서는 종교 갈등이 나타나기도 함.

02 여러 국가의 문화적 특성

출제 예상 포인트 지도에 제시된 국가와 선지로 제시된 내용인 뉴질랜드 마오리족의 전통 춤 하카와 페루의 마추픽추는 통합사회 4종 교과서의 자료이므로 대학수학능력시험의 자료 또는 선지에서 다른 지리 정보와 함께 다루어질 가능성이 있다.

지도의 A는 아프리카 문화권의 콩고 민주 공화국, B는 건조 문화권의 사우디아라비아, C는 남부 아시아 문화권의 인도, D는 오세아니아 문화권의 뉴질랜드, E는 라틴 아메리카 문화권의 페루이다.

[선지 분석]

- ㉠ 아프리카 문화권인 콩고 민주 공화국에서는 이동식 화전 농업으로 카사바, 암 등을 재배하는 모습을 볼 수 있다.
- ✗ 건조 문화권인 사우디아라비아는 강수량이 적어 벼농사가 어려우며, 동양 문화권의 계절풍의 영향을 받는 지역에서 주로 벼농사가 이루어진다.
- ㉢ 남부 아시아 문화권인 인도에서는 많은 신의 모습이 새겨진 사원에서 신자들이 참배하는 모습을 볼 수 있다.
- ㉣ 오세아니아 문화권인 뉴질랜드에서는 원주민인 마오리족의 전통 춤인 하카를 추는 모습을 스포츠 경기 등에서 볼 수 있다.
- ㉤ 라틴 아메리카 문화권인 페루에서는 잉카 문명의 유적지인 마추픽추를 볼 수 있다.

감각 있는 풀이 Tip

개별 국가의 문화적 특성을 물어보는 문항은 해당 국가가 어떤 문화권에 속해 있는 국가인지를 먼저 파악하는 것이 중요하다.

03 유럽 문화권의 특징

출제 예상 포인트 유럽 문화권의 세 지역은 통합사회 8종 교과서에서 주요 개념으로 비교하여 다루고 있으므로 관련 개념을 명확히 알아 두어야 한다.

유럽 문화권은 크리스트교의 영향을 크게 받았으며, 산업 혁명이 가장 먼저 시작되어 일찍 산업화를 이룬 지역이다. 기후와 위치에 따라 북서부 유럽, 남부 유럽, 동부 유럽으로 나뉘며, 민족, 언어, 기후적 특징이 다르게 나타난다.

[선지 분석]

- ✗ 이동식 화전 농업과 플랜테이션이 발달한 곳은 아프리카 문화권이다.
- ✗ 계절풍의 영향으로 넓은 평야에서 벼농사가 발달한 곳은 동양 문화권이다.
- ㉢ 유럽 문화권은 산업 혁명이 가장 먼저 시작되어 일찍 산업화를 이루었다.
- ✗ 유럽인 진출의 영향으로 에스파냐어나 포르투갈어를 공용어로 사용하는 곳은 라틴 아메리카 문화권이다.
- ✗ 인간 거주에 불리한 기후로 순록을 유목하거나 어로 활동 등을 하며 생활하는 곳은 북극 문화권이다.

고득점을 위한 핵심 자료

유럽 문화권의 세 지역 비교

구분	북서부 유럽	남부 유럽	동부 유럽
대표적 국가	영국, 네덜란드, 독일 등	에스파냐, 포르투갈, 이탈리아 등	러시아, 폴란드, 슬로베니아 등
기후	서안 해양성 기후	지중해성 기후	온대 겨울 건조 기후, 냉대 기후 등
민족	게르만족	라틴족	슬라브족
종교	개신교	가톨릭	그리스 정교
주요 도시	• 런던(최상위 세계 도시) • 브뤼셀(유럽 연합 본부 위치)	• 밀라노(세계 패션 산업의 중심) • 로마(고대 유적지 분포)	• 모스크바(러시아의 수도) • 프라하(관광 산업 발달)

04 라틴 아메리카 문화권의 특징

출제 예상 포인트 제시문은 라틴 아메리카 문화권의 주요 특징을 언어, 종교를 중심으로 설명하고 있다. 이 내용은 해당 단원의 핵심 개념이며, 특히 브라질 리우데자네이루 예수상은 통합사회 3종 교과서에서 다루고 있는 자료이므로 숙지해야 한다.

라틴 아메리카 문화권은 남부 유럽 국가인 에스파냐와 포르투갈의 식민 지배를 받아 에스파냐어, 포르투갈어를 사용하며 가톨릭을 믿는 사람들이 많다. 이러한 영향으로 주요 도시의 중심부에서는 유럽식의 큰 광장과 함께 성당이 들어서 있는 모습을 볼 수 있다. 따라서 ㉠에 들어갈 내용은 라틴 아메리카이며, 지도의 E에 해당한다. A는 유럽 문화권, B는 동아시아 문화권, C는 동남아시아 문화권, D는 앵글로아메리카 문화권이다.

05 세계의 주식 문화

세계의 주식 문화는 자연환경 조건에 따라 다양하게 나타난다. 동아시아, 동남아시아, 남부 아시아에 주로 분포하는 A는 계절풍 지대의 축적 평야에서 많이 생산되는 쌀이다. 유럽, 중앙아시아, 북아프리카에 주로 분포하는 B는 내한성과 내건성이 상대적으로 우수한 밀이다.

[선지 분석]

- ㉠ 계절풍의 영향을 받아 여름철 강수량이 풍부한 지역에서 많이 생산되는 작물은 쌀이다.
- ✗ 유럽 문화권보다 동양 문화권에서 주로 주식으로 이용되는 작물은 쌀이다.
- ㉡ 밀은 유럽의 지중해성 기후 지역에서 여름철보다 겨울철에 주로 재배된다. 여름철에는 주로 포도, 올리브 등이 재배된다.
- ✗ 건조한 환경에서도 상대적으로 잘 재배되는 작물은 밀이다.

06 보편 종교의 전파

보편 종교인 그리스도교, 이슬람교, 불교는 기원지와 전파 경로에 따라 서로 다른 지역에 분포한다. 그리스도교는 1세기경 서남아시아의 예루살렘에서 기원하여 유럽으로 전파되었으며, 신행로 개척 및 식민 지배를 거치며 아메리카, 오세아니아, 사하라 이남 아프리카 지역으로 전파되었다. 이슬람교는 7세기경 서남아시아의 메카에서 기원하여 북부 아프리카와 중앙아시아로 전파되었으며, 상업 활동의 확대와 함께 동남아시아의 섬 지역으로 주로 전파되었다. 불교는 기원전 6세기경 남부 아시아의 부다가야에서 기원하여 동아시아와 동남아시아의 반도 지역으로 주로 전파되었다. 따라서 A는 그리스도교, B는 이슬람교, C는 불교이다.

[선지 분석]

- ✗ 술과 돼지고기를 금기시하는 종교는 이슬람교이다.
- ✗ 갠지스강을 신성하게 여기는 종교는 힌두교이다.
- ✗ 메카 성지 순례를 의무로 하는 종교는 이슬람교이다.
- ㉠ 그리스도교는 이슬람교보다 세계 신자 수가 많다.
- ✗ 이슬람교의 기원지는 서남아시아이며, 불교의 기원지는 남부 아시아이다.

07 전통 가옥의 특징

출제 예상 포인트 전통 가옥은 각 문화권의 자연환경과 관련 있는 문화 요소이므로 문화권의 특징을 제시할 때 자료 또는 선지로 제시할 가능성이 높다.

(가)는 사막 기후 지역의 전통 가옥인 흙벽돌로 만든 가옥, (나)는 유목 생활을 하는 스텝 기후 지역의 전통 가옥인 이동식 가옥, (다)는 열대 우림 기후 지역의 전통 가옥인 고상 가옥이다.

[선지 분석]

- ✗ 벼농사는 여름 강수량이 풍부한 기후 지역에서 주로 이루어진다. 사막 기후 지역에서는 오아시스 농업, 관개 농업이 주로 이루어진다.
- ✗ 스텝 기후 지역은 열대 우림 기후 지역보다 대체로 최한월 평균 기온이 낮다.
- ✗ 고상 가옥이 나타나는 지역에는 주로 열대림이 분포한다.
- ㉠ 건조 문화권에서는 흙벽돌로 만든 가옥, 이동식 가옥이 나타난다.
- ✗ 세 가옥 구조는 사막 기후, 스텝 기후, 열대 우림 기후와 같은 자연환경의 영향으로 독특한 형태가 만들어졌다.

고득점을 위한 핵심 자료

건조 기후 지역과 한대 기후 지역의 이동식 가옥



㉠ 중앙아시아의 유르트



㉡ 북극해의 춤(네네츠족)

건조 기후 지역과 한대 기후 지역은 정착 생활에 불리한 기후 환경으로 주민들은 전통적으로 유목 생활을 해왔다. 건조 기후 지역에서는 넓은 초원에서 건조한 기후에 잘 견디는 양 등을 유목하였으며, 한대 기후 지역에서는 추운 기후에 잘 견디는 순록 등을 유목하였다. 유목 생활과 함께 동물의 뼈대에 가죽 등을 둘러 만든 이동식 가옥이 발달하였는데, 건조 기후 지역에서는 게르(몽골), 유르트(중앙아시아) 등으로 불리는 이동식 가옥이 발달하였고, 한대 기후 지역에서는 춤 등의 이동식 가옥이 발달하였다.

08 인도의 종교 경관

지도의 A는 이탈리아, B는 이집트, C는 사우디아라비아, D는 인도, E는 타이이다. 인도는 힌두교를 주로 믿는 국가이지만, 불교의 성지가 있는 곳이기도 하다. 인도 북부에는 불교의 창시자인 석가 모니의 행적이 남아 있는 룸비니, 부다가야 등의 불교 성지가 있다. 인도 남부에는 힌두교의 대표적 사원인 스리미낙시 사원이 있으며, 사원에는 여러 신의 조각이 화려하게 장식되어 있다. 따라서 자료에서 말하는 이 국가는 인도이다.

09 인도네시아의 종교 경관

출제 예상 포인트 자료는 종교별 주요 사원을 사례로 종교를 찾은 후 해당 종교의 특징을 묻고 있다. 종교별 주요 사원은 통합사회 8종 교과서에서 자료로 제시하고 있으므로 대학수학능력 시험에 자료로 출제될 가능성이 높다.

인도네시아는 이슬람교 신자 비율이 높은 국가로, 세계에서 이슬람 신자 수가 가장 많은 국가이면서 동남아시아 최대의 모스크가 있는 국가이기도 하다. 아라베스크 문양으로 사원 내부가 장식되어 있고, 하루 다섯 번의 기도를 해야 하는 종교인 ㉠은 이슬람교이다. 사원 내에 수많은 탑과 불상이 있는 종교인 ㉡은 불교이다.

[선지 분석]

- ✖ 스테인드글라스, 십자가 등은 크리스티교의 주요 경관이다.
- ✖ 할랄 산업이 발달한 문화권은 이슬람교를 주로 믿는 건조 문화권이다.
- ③ 기원후 7세기경 기원한 이슬람교는 기원전 6세기경 기원한 불교보다 발생 시기가 늦다.
- ✖ 불교는 이슬람교보다 세계 신자 수가 적다.
- ✖ 이슬람교는 서남아시아에서, 불교는 남부 아시아에서 기원하였다.

고득점을 위한 핵심 자료

세계 주요 종교 사원의 특징

크리스티교	십자가와 종탑, 스테인드글라스가 주요 경관으로, 건축 양식에 따라 뾰족하고 높은 지붕 장식이 있는 경우도 있음.
이슬람교	모스크로 불리는 사원에는 둥근 지붕과 첨탑, 아라베스크 문양 장식이 있음.
불교	석가모니의 사리가 봉안된 탑, 불상이 주요 경관으로, 지역에 따라 탑의 재료가 나무, 돌, 벽돌 등 다양함.
힌두교	사원에 수많은 신의 모습이 새겨져 있음.

10 브라질, 타이, 이란의 종교 특징

출제 예상 포인트 자료는 국가별 종교 신자 비율을 그래프로 나타낸 것으로, 종교 인구 비율 통계 자료는 지도와 함께 제시되는 경우도 많다. 문화권을 중심으로 특정 종교 비율이 높게 나타나는 국가를 기억해 두어야 한다.

라틴 아메리카 문화권에 속한 브라질에서 가장 많이 믿는 A는 크리스티교이다. 동남아시아 문화권에 속한 타이에서 가장 많이 믿는 B는 불교이다. 건조 문화권에 속한 이란에서 가장 많이 믿는 C는 이슬람교이다.

[선지 분석]

- ✖ 우상 숭배를 금지하는 교리의 영향을 받아 식물 모양 또는 기하학적 문양인 아라베스크 무늬로 사원을 장식하는 종교는 이슬람교이다.
- ✖ 불교의 종파로는 대승 불교, 상좌부 불교가 있다. 개신교, 가톨릭, 그리스 정교는 크리스티교의 종파이다.
- ③ 이슬람교 신자들은 교리에 따라 라마단 기간에 낮 동안 금식을 한다.
- ✖ 기원후 1세기경 발생한 크리스티교는 기원전 6세기경 발생한 불교보다 발생 시기가 늦다.
- ✖ 예루살렘은 크리스티교와 이슬람교의 성지이다.

감각 있는 풀이 TIP

국가의 종교 신자 비율은 해당 국가가 어떤 문화권에 속해 있는지를 먼저 파악하면, 그 문화권에서 많이 믿는 종교를 중심으로 유추할 수 있다.

11 건조 문화권, 오세아니아 문화권, 라틴 아메리카 문화권의 특징

출제 예상 포인트 건조 문화권, 오세아니아 문화권, 라틴 아메리카 문화권은 언어와 종교가 서로 다른 지역이므로 특징을 비교해서 묻기 적절한 지역이다. 순서도를 통해 개념 간 비교를 하도록 하는 문항 유형이 최근에 출제되고 있으므로 공통점과 차이점을 확실히 파악해 두면 문제를 푸는 데 도움이 된다.

(가)에 들어갈 질문은 건조 문화권에는 해당하지만, 오세아니아 문화권과 라틴 아메리카 문화권에는 해당하지 않는 질문이다. (나)에 들어갈 질문은 오세아니아 문화권에는 해당하지만, 라틴 아메리카

문화권에는 해당하지 않는 질문이다. 주로 아랍어를 사용하고 이슬람교를 믿는 문화권은 건조 문화권이며, 주로 영어를 사용하고 개신교의 비율이 높은 문화권은 오세아니아 문화권이고, 주로 포르투갈어나 에스파냐어를 사용하고 가톨릭 신자의 비율이 높은 문화권은 라틴 아메리카 문화권이다. 따라서 (가)에는 ㄱ이, (나)에는 ㄴ이 들어갈 수 있다.

12 말레이시아의 다양한 종교

출제 예상 포인트 제시문은 말레이시아의 종교 경관에 대해 언급하고 있다. 다양한 종교를 인정하는 사례 국가로는 싱가포르와 함께 이 문항에서 제시된 말레이시아가 대표적이다. 통합사회 교과서에서도 자료로 다루고 있어서 종교별 특징을 파악해 두면 도움이 될 것이다.

이슬람교 신자 비율이 높은 말레이시아는 이슬람교뿐만 아니라 다른 종교의 기념일을 법정 공휴일로 지정하며 포용성을 보여 주고 있다. 말레이시아에서 가장 높은 신자 비율을 가지며 라마단과 관련 있는 (가)는 이슬람교, 여러 신을 인정하는 종교인 (나)는 힌두교, 크리스마스가 중요한 기념일인 (다)는 크리스티교이다. ㉠은 서로 다른 종교를 존중하는 태도로, 각 문화는 고유한 의미를 지니며 이해하려는 태도인 문화 상대주의적 태도라고 볼 수 있다.

[선지 분석]

- ✖ 불상과 탑이 대표적인 종교 경관인 것은 불교이다.
- ✖ '허용된 것'이라는 의미의 할랄 식품을 많이 소비하는 종교는 이슬람교이다.
- ✖ 갠지스강을 신성하게 여기는 종교는 힌두교이다.
- ④ 이슬람교와 크리스티교는 유일신 신앙을 갖고 있다.
- ✖ ㉠에서는 문화 상대주의적 태도가 나타난다.

고득점을 위한 핵심 개념

할랄 식품

할랄(halal)이란 '허용된 것'이라는 의미로, 이슬람교에서 교리에 따라 도축 또는 가공된 음식을 말한다. 과일, 채소, 곡류 등 식물성 음식과 어패류 등 해산물은 허용된 음식이며, 도축된 고기(주로 염소, 닭, 소) 등도 할랄 식품에 속한다. 반면 돼지고기, 술 등 이슬람교도에게 금지된 음식은 '하람(haram) 푸드'라고 한다.

13 국가별 문화적 특징

지도의 A는 니제르, B는 카자흐스탄, C는 인도네시아와 파푸아뉴기니가 있는 뉴기니섬, D는 멕시코이다. A와 B는 건조 문화권에 속하며, C에서는 동남아시아 문화권과 오세아니아 문화권이 함께 나타난다. D는 라틴 아메리카 문화권에 속한다.

[선지 분석]

- ㄱ 니제르는 건조 문화권에 속한다.
- ㄴ 카자흐스탄은 건조 초원인 스텝에서 전통적으로 유목 생활을 하는 문화가 나타난다.
- ㄷ 뉴기니섬은 인도네시아와 파푸아뉴기니 국경을 경계로 동남아시아 문화권과 오세아니아 문화권으로 나뉜다.
- ✖ 앵글로아메리카와 라틴 아메리카의 경계가 되는 강은 리오그란데강으로, 멕시코의 북쪽에 있다.

고득점을 위한 핵심 자료

중앙아시아 국가들의 특징

카자흐스탄	<ul style="list-style-type: none"> • 중앙아시아 국가 중 영토가 가장 크며, 아랄해와 카스피해에 닿아 있음. • 스텝인 카자흐초원이 널리 분포해 유목 생활이 나타남.
우즈베키스탄	<ul style="list-style-type: none"> • 아랄해로 흘러드는 두 하천 유역에서 과도한 관개 농업 등으로 인해 아랄해의 사막화가 일어남. • 동서 무역의 경로였던 실크로드의 중심 도시인 사마르칸트가 있음.
키르기스스탄	전통적인 유목 생활이 나타나며, '유르트'라는 이동식 가옥이 있음.
타지키스탄	
투르크메니스탄	천연가스 생산이 많음.

14 앵글로아메리카 문화권과 라틴 아메리카 문화권

출제 예상 포인트 앵글로아메리카와 라틴 아메리카는 원주민이 거주하던 땅에 유럽계가 식민 지배를 위해 들어오면서 언어와 민족 등의 변화가 많았던 곳이고, 리오그란데강을 중심으로 양상이 다르게 나타났기 때문에 두 지역을 구분하는 자료나 선지가 자주 다루어지는 편이다. 그러므로 두 문화권의 서로 다른 특징과 구분 경계를 명확히 알고 있어야 다른 문화권과 함께 물어보는 문항에서도 실수하지 않는다.

A는 앵글로아메리카 문화권, B는 라틴 아메리카 문화권이다.

[선지 분석]

- ㉠ 라틴 아메리카는 에스파냐와 포르투갈의 식민 지배의 영향으로 브라질은 포르투갈어를, 그 외 국가는 에스파냐어를 공용어로 사용한다.
- ✗ 미국, 캐나다가 있는 앵글로아메리카는 멕시코, 브라질, 아르헨티나, 칠레 등이 있는 라틴 아메리카보다 국가 수가 적다.
- ㉡ 앵글로아메리카 문화권은 개신교 신자 비율이 높고, 라틴 아메리카 문화권은 가톨릭 신자 비율이 높다.
- ㉢ 라틴 아메리카 문화권은 유럽계의 진출, 아프리카계 노동력의 유입 등으로 혼혈 인종 비율이 높다.

15 브라질의 리우 카니발과 타이의 송끄란 축제

㉠은 브라질의 리우 카니발이다. 세계적인 축제인 리우 카니발은 라틴 아메리카에 유입된 아프리카계 흑인 노예들의 음악 문화에 크리스트교의 사순절 의식이 결합하여 만들어진 축제이다. ㉡은 타이의 송끄란 축제이다. 전통적인 새해의 시작으로 여기는 4월 중순 건기가 끝나고 우기가 시작되는 시기를 기념하여 불상에 묻은 먼지를 물로 씻어내고 서로에게 축복의 의미로 물을 뿌리는 의식에서 비롯되었다. 지도의 A는 타이, B는 오스트레일리아, C는 브라질이다. 따라서 ㉠은 C, ㉡은 A이다.

16 건조 문화권의 특징

출제 예상 포인트 화폐에 담긴 요소는 그 국가를 대표하는 것으로 여겨지기 때문에 화폐로 문화권의 특징을 묻는 문항은 자주 출제되는 유형으로, 대학수학능력시험에서도 출제될 가능성이 있다. 화폐에 담긴 요소를 문화권의 특징과 연관지을 수 있어야 한다.

지도의 A는 북극 문화권, B는 건조 문화권, C는 동남아시아 문화권, D는 오세아니아 문화권, E는 앵글로아메리카 문화권이다. 자료에 제시된 두 화폐는 모두 건조 문화권의 전통 의복과 종교를 나타내고 있다. 왼쪽 화폐에는 온몸을 감싼 옷을 입은 사람들이 『쿠란』을 읽는 모습이 담겨 있고, 오른쪽 화폐에는 뜨거운 햇빛으로부터 머리를 보호하기 위해 두른 천의 모습이 담겨 있다.

감각 있는 풀이 TIP

이슬람교와 관련된 화폐 요소는 이슬람교 신자 비율이 높은 건조 문화권 국가의 화폐에서 잘 나타나는 편이다. 따라서 이슬람교와 관련된 화폐 요소가 나온다면 건조 문화권 국가를 먼저 생각해 보는 것도 좋다.

1등급 완성 문제

44~45쪽

01 ③ 02 ④ 03 ④ 04 ③ 05 ① 06 ⑤
07 ② 08 ④

01 자연환경과 문화적 특성의 관계

출제 예상 포인트 문화권은 자연환경의 영향을 받아 형성된 특징이 많아서 기후 그래프와 연계하여 문화권의 특징을 물어볼 수 있다. 그러므로 해당 문화권의 대표적인 기후 특징을 그래프와 연계하여 학습할 필요가 있다.

(가)는 남반구의 지중해성 기후 지역인 오스트레일리아 퍼스이다. (나)는 북반구의 서안 해양성 기후 지역인 영국 런던이다. (다)는 북반구의 온난 습윤 기후 지역인 중국 난징이다. 지중해성 기후 지역에서는 겨울철 강수가 집중되어 밀 재배가 이루어지며, 서안 해양성 기후 지역은 혼합 농업과 목축업 등이 이루어진다. 아시아의 온난 습윤 기후 지역에서는 계절풍의 영향으로 벼농사가 널리 이루어진다.

[선지 분석]

- ✗ 남반구의 지중해성 기후 지역은 6~8월이 겨울이며, 이 시기에 식량 작물인 밀을 주로 재배한다.
- ✗ 오아시스를 중심으로 오아시스 농업이 발달하는 지역은 사막 기후 지역이다.
- ㉢ 아시아의 계절풍 지역에서는 여름철의 풍부한 강수량을 이용해 벼농사가 널리 이루어진다.
- ✗ 지중해성 기후 지역은 여름철에 고온 건조하여 서안 해양성 기후 지역보다 여름철 강수 집중률이 낮다.
- ✗ 온난 습윤 기후 지역은 계절풍의 영향으로 여름철에 강수가 집중되어 연중 강수량이 비슷한 서안 해양성 기후 지역보다 수운 교통 발달에 불리하다.

02 인도네시아와 인도의 문화적 특성

(가)는 인도네시아이다. 인도네시아는 동남아시아 문화권에 속한 국가로, 열대 기후의 영향으로 전통 음식인 nasi goreng과 같은 볶음밥 요리가 나타나며, 이슬람교 신자가 많고 여성들은 대부분 히잡을 착용한다. (나)는 인도이다. 인도는 남부 아시아 문화권에 속한 국가로, 열대 기후의 영향으로 향신료를 사용한 요리가 많고, 카레와 난은 인도의 전통 음식 중 하나이며, 힌두교 신자가 많고 갠지스강을 신성하게 여겨 목욕을 하는 모습을 볼 수 있다.

[선지 분석]

- ✕ 인도네시아는 적도 부근에 걸쳐 있어 국토 대부분 지역에서 열대 기후가 나타난다.
- ㉠ 카슈미르 지역은 인도와 파키스탄의 접경지에 있는 지역으로, 인도와 파키스탄이 종교적 원인에 기인한 영토 분쟁을 겪고 있는 곳이다.
- ✕ 인구가 약 2억 8천만 명인 인도네시아는 인구가 약 14억 명인 인도보다 총인구가 적다.
- ㉡ 인도네시아는 동남아시아 문화권, 인도는 남부 아시아 문화권에 속한다.

03 국가별 문화적 특징

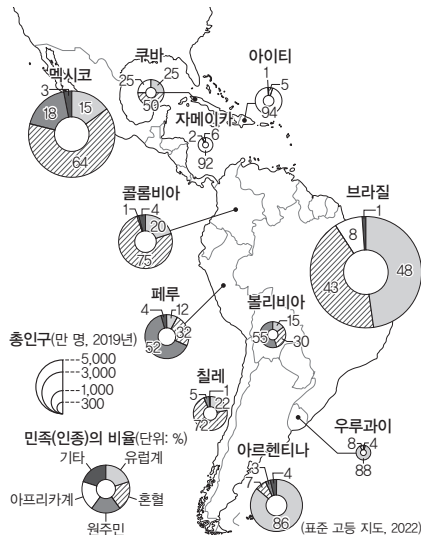
지도의 A는 키르기스스탄, B는 일본, C는 뉴질랜드, D는 멕시코이다. 키르기스스탄은 건조 문화권, 일본은 동아시아 문화권에 속하며, 뉴질랜드는 오세아니아 문화권, 멕시코는 라틴 아메리카 문화권에 속한 국가이다.

[선지 분석]

- ㉠ 키르기스스탄은 건조 기후가 나타나 전통적으로 유목이 발달하였으며 이동식 전통 가옥이 나타난다. 이 지역의 이동식 전통 가옥은 유르트라고 불린다.
- ㉡ 일본은 대한민국, 중국과 함께 동아시아 문화권에 속하며 한자, 젓가락 등의 공통적 문화 요소를 갖고 있다.
- ✕ 뉴질랜드의 원주민은 마오리족이며, 애버리지니는 오스트레일리아의 원주민이다.
- ㉢ 멕시코를 비롯한 라틴 아메리카의 국가들은 유럽인의 식민 지배의 영향을 받아 혼혈족 등 복잡한 인종 구성을 갖게 되었다.

고득점을 위한 핵심 자료

라틴 아메리카 문화권의 민족(인종) 분포



라틴 아메리카 국가들은 원래 거주하던 원주민과 함께 16세기 식민 지배를 위한 유럽인의 진출, 노동력 확보를 위한 아프리카계 노예 유입으로 혼혈족의 비율이 높다. 국가별로는 멕시코, 콜롬비아 등에서 혼혈 비율이 높으며, 산맥 내륙에 위치하여 유럽인의 진출이 어려웠던 볼리비아는 원주민의 비율이 상대적으로 높다. 온대 기후가 나타나는 아르헨티나, 우루과이 등은 유럽계의 비율이 높다. 플랜테이션 농장으로 유입된 아프리카계가 많았던 브라질 등은 흑인 비율이 상대적으로 높게 나타난다.

04 아프리카 문화권과 북극 문화권의 특징

(가)는 열대 우림 기후 지역에서 이동식 화전 농업과 플랜테이션이 이루어지고, 다양한 부족이 분포해 언어 및 종교가 다양하게 나타나므로 아프리카 문화권에 대한 설명이다. (나)는 한랭한 기후가 나

타하며 주민들이 순록 유목, 어업 등에 종사하고, 이동식 가옥인 춤 등에서 생활하며 이누이트, 네네츠족이 거주하므로 북극 문화권에 대한 설명이다. 지도의 A는 북극 문화권, B는 아프리카 문화권, C는 라틴 아메리카 문화권이다. 따라서 (가)는 B, (나)는 A이다.

고득점을 위한 핵심 자료

북극해 연안의 전통 부족

북극해 연안의 툰드라 기후 지역에 거주하는 전통 부족으로 네네츠족, 이누이트 등이 있다. 네네츠족은 러시아 북부 지방에 주로 분포하며, 네네츠 자치구를 중심으로 거주한다. 이들은 순록을 유목하고 춤 등의 이동식 가옥에서 생활한다. 이누이트는 캐나다 북부 지방, 알래스카 등에 주로 분포하며 캐나다 누나부트 준주를 중심으로 거주한다. 사냥을 위해 이동할 때 이글루라는 임시 거처를 만들기도 한다.

05 크리스티교, 이슬람교, 불교의 특징

㉠은 크리스티교로, 창시자인 예수가 활동하였던 베들레헴, 예루살렘, 가톨릭의 중심인 바티칸 등이 대표적인 성지이다. ㉡은 이슬람교로, 창시자인 무함마드가 탄생한 메카, 주로 활동한 메디나 등이 대표적인 성지이다. ㉢은 불교로, 창시자인 석가모니가 태어난 룸비니, 깨달음을 얻은 장소인 부다가야 등이 대표적인 성지이다.

[선지 분석]

- ㉠ 크리스티교는 서남아시아에서 기원하였다.
- ㉡ 이슬람교는 상인들의 무역 활동과 함께 동남아시아의 섬 지역으로 전파되었다.
- ✕ 불교가 창시된 곳은 현재 인도의 북부 지역으로, 인도에서는 힌두교 신자 비율이 가장 높게 나타난다.
- ✕ 바티칸은 크리스티교의 성지이며, 이슬람교의 성지가 아니다.

고득점을 위한 핵심 자료

세계 주요 종교의 성지

크리스티교	이스라엘의 예루살렘과 베들레헴, 바티칸 등
이슬람교	사우디아라비아의 메카와 메디나, 이스라엘의 예루살렘 등
불교	인도 북동부의 룸비니, 부다가야, 쿠시나가르 등
힌두교	인도의 갠지스강, 바라나시 등

06 네팔, 나이지리아, 미얀마, 이탈리아의 종교 특징

출제 예상 포인트 문제는 국가별 종교 신자 비율을 제시한 후 그 나라의 종교 특징을 묻고 있다. 이와 같이 국가별 종교 신자 비율을 그래프로 나타내고, 각 문화권의 종교적 특징을 대표하는 국가가 사례 지역으로 제시되어 출제될 수 있다. 따라서 어느 문화권에 속해 있는지를 확인하고 해당 종교를 파악할 수 있도록 각 문화권의 특징과 주요 국가들을 기억해 두어야 한다.

크리스티교의 비율이 가장 높은 A는 유럽에 위치한 이탈리아이다. 크리스티교와 이슬람교의 비율이 비슷하게 나타나는 B는 아프리카에 위치한 나이지리아이다. 힌두교의 비율이 가장 높은 C는 남부 아시아에 위치한 네팔이며, 불교의 비율이 가장 높은 D는 동남아시아에 위치한 미얀마이다.

[선지 분석]

- ㉠ 남부 유럽에 위치한 이탈리아는 가톨릭 종파의 비율이 높다.
- ㉡ 나이지리아의 남부에는 주로 크리스티교도가, 북부에는 주로 이슬람교도

- 가 거주하며, 남부의 크리스티교와 북부의 이슬람교 간 갈등이 있다.
- ③ 네팔은 남쪽으로 인도와 국경을 접하고 있다.
- ④ 미얀마에서는 이슬람교를 믿는 로힝야족이 정부와 갈등을 빚고 있다.
- ✕ A는 유럽, B는 아프리카에 위치한다.

07 지역(대륙)별 종교 분포

출제 예상 포인트 지역(대륙)별 종교 신자 비율은 각 지역(대륙)이 속한 문화권의 인문적 특징을 잘 나타내 주는 자료이므로 대 학습능력시험에 자료로 활용되어 출제될 가능성이 높다. 문화권의 종교 특징을 바탕으로 지역(대륙)별 종교 신자 비율을 명확히 파악해 두어야 한다.

아시아-태평양은 종교 분포가 다양하게 나타나며, 다른 지역(대륙)에 비해 힌두교와 불교의 비율이 높다. 서남아시아 및 북부 아프리카는 이슬람교의 비율이 압도적으로 높다. 유럽은 크리스티교의 영향이 큰 지역으로 종교 신자 비율도 크리스티교가 높게 나타나며, 인구 이동의 영향으로 이슬람교도가 나타난다. 따라서 A는 불교, B는 크리스티교, C는 이슬람교이다.

감각 있는 풀이 TIP

아시아-태평양은 인구가 많고 종교도 다양하기 때문에 다른 지역(대륙)에 비해 한 가지의 종교 비율이 크게 나타나지 않는다. 아시아-태평양에는 대부분의 불교 신자와 힌두교 신자가 있으므로 아시아-태평양에만 높은 비율로 있는 경우에는 불교와 힌두교라고 생각하면 좋으며, 불교보다는 힌두교 신자가 많으므로 비율도 힌두교가 더 높다.

08 캐나다의 문화적 특징

지도의 A는 노르웨이, B는 이란, C는 오스트레일리아, D는 캐나다, E는 아르헨티나이다. 북반구 고위도에 있는 캐나다는 영어로아메리카 문화권과 북극 문화권이 함께 분포하는 국가이다. 서부 유럽 국가의 식민 지배의 영향으로 크리스티교의 비율이 높고 주로 영어를 사용하지만, 퀘벡과 같은 일부 지역에서는 프랑스어를 사용한다. 세계적인 밀 생산 국가로 밀이 주식 작물이고, 북극과 가까운 지역에서는 한대 기후가 나타나며 전통 부족으로 이누이트가 거주한다.

고득점을 위한 핵심 자료

캐나다 퀘벡 지역



캐나다의 퀘벡주는 과거 프랑스계의 정착이 활발하였던 지역으로, 지역 내 프랑스어 사용 비율이 높다. 이와 같은 특성 때문에 최근까지도 독립운동을 주장하기도 하였다.

감각 있는 풀이 TIP

국가의 문화적 특징을 통해 지도에서 해당 국가를 고르는 문항의 경우, 해당 국가는 그 국가가 속한 문화권의 큰 특징을 공유한다. 그러므로 지도에 표시된 국가들이 소속된 문화권의 대표적인 특징을 먼저 확인하고, 그것을 문항의 자료와 대조해 보면 정답을 찾는 데 도움이 된다.

05 문화 변동과 전통문화

기출 동침 문제

49쪽

01-① ④

01-② ⑤

02-① ④

02-② ⑤

01-① 문화 변동의 요인과 양상

출제 예상 포인트 문화 변동의 요인, 문화 접변, 문화 변동의 양상은 대 학습능력시험 및 전국연합학력평가에서 자주 등장하는 평가 요소이므로 구분하여 알아 두어야 한다.

(가)에는 문화 변동의 요인으로 직접 전파, 문화 변동의 양상으로 문화 병존이 나타났다. (나)에는 문화 변동의 양상으로 강제적 문화 접변과 문화 동화가 나타났다.

[선지 분석]

✕ (가)에는 갑국이 을국의 기술자들을 초빙하였으므로 외재적 요인에 의한 문화 변동이 나타났다.

㉠ (나)에는 지배에 따른 접촉, 즉 외재적 요인에 의한 문화 변동이 나타났다.

✕ (가)에는 갑국이 을국의 기술자들을 초빙하여 사람 간의 직접적인 교류에 의한 문화 변동이 나타났다. 따라서 (가)에는 직접 전파에 의한 문화 변동이 나타났다.

㉡ (가)에는 문화 병존, (나)에는 문화 동화가 나타났다.

01-② 문화 변동의 요인과 양상

(가)에는 문화 변동의 요인으로 직접 전파, 문화 변동의 양상으로 문화 병존이 나타났다. (나)에는 문화 변동의 양상으로 강제적 문화 접변과 문화 동화가 나타났다.

[선지 분석]

✕ (가), (나) 모두 다른 사회의 문화 체계와의 접촉이나 교류의 결과 다른 문화 요소가 전해져 문화 변동을 초래하는 외재적 요인에 의한 문화 변동 사례에 해당한다.

✕ ㉠은 사람 간의 직접적인 교류를 통해 문화 요소가 전파되는 직접 전파의 사례이다. 매개체를 통해 간접적으로 문화 요소가 전파되는 것은 간접 전파이다.

✕ ㉡은 기존 문화 요소와 외래문화 요소가 공존하는 문화 병존의 사례이다. 두 문화 요소가 결합하여 새로운 제3의 문화 요소를 창조하는 것은 문화 융합이다.

✕ ㉢은 지배적인 위치에 있는 사회의 문화 요소가 피지배 사회에 강압적으로 이식되는 강제적 문화 접변의 사례이다. 스스로 다른 사회의 문화 요소를 받아들이는 것은 자발적 문화 접변이다.

㉤ ㉢은 병국의 지배를 받으며 정국의 언어가 정체성을 상실하고 병국 언어로 대체되는 문화 동화의 사례이다.

02-① 문화 변동의 요인과 양상

(가)에는 문화 변동의 요인으로 직접 전파, 문화 변동의 양상으로 문화 융합이 나타나 있다. (나)에는 문화 변동의 양상으로 문화 융합과 문화 병존이 나타나 있다.

[선지 분석]

✕ (가)에는 일본에서 조리법을 배운 요리사에 의해 완탕 조리법이 직접적으로 우리나라에 전해졌으므로 직접 전파가 나타나 있다. 간접 전파는 인쇄물, 인터넷과 같은 매개체를 통해 간접적으로 문화 요소가 전파되는 현상이다.

㉠ (가)에는 문화 병존을 알 수 있는 사례가 나타나 있지 않다. 반면 (나)에는 카레 우동과 가츠 카레가 기존의 우동, 돈가스와 함께 큰 사랑을 받고 있다는 점에서 문화 병존의 사례가 나타나 있다.

㉡ (가)에는 완탕, (나)에는 카레 우동과 가츠 카레가 각각 문화 융합의 사례이다.

02-2 문화 변동의 요인과 양상

(가)에는 문화 변동의 요인으로 직접 전파, 문화 변동의 양상으로 문화 융합이 나타나 있다. (나)에는 문화 변동의 양상으로 문화 융합과 문화 병존이 나타나 있다.

[선지 분석]

✕ (가)에는 일본에서 조리법을 배운 요리사에 의해 완탕 조리법이 직접적으로 우리나라에 전해졌으므로 직접 전파의 사례가 나타나 있다.

✕ 완탕은 일본의 완탕과 우리나라의 멸치·다시마 육수가 융합된 문화 융합의 사례이다. 한의원과 서양식 병원이 함께 존재하는 것은 문화 병존의 사례이다.

✕ 식민지 인도를 통치하였던 영국 총독 일행이 지배국인 영국으로 카리를 가져간 것은 강제적 문화 접변의 사례에 해당하지 않는다.

✕ 카레 우동과 가츠 카레가 기존의 우동, 돈가스와 함께 큰 사랑을 받고 있으므로 문화 병존의 사례에 해당한다.

㉤ '국수처럼 멸치와 다시마로 육수를 내고 피가 일본식보다 얇다.'라는 것은 두 문화 요소가 결합하여 새로운 제3의 문화 요소가 창출된 사례이다. 이는 카레 우동, 가츠 카레와 함께 문화 융합의 사례에 해당한다. ㉠과 ㉡은 모두 기존 문화의 성격과 정체성을 상실하지 않고 유지하고 있다.

수능 기본 문제

50~51쪽

01 ③ 02 ③ 03 ⑤ 04 ④ 05 ④ 06 ⑤
07 ③ 08 ①

01 문화 변동의 요인

출제 예상 포인트 문화 변동의 요인은 통합사회 5종 교과서에서 공통적으로 설명하는 개념이므로 대학수학능력시험에 출제될 가능성이 높다. 수능 모의평가와 전국연합학력평가에도 자주 등장하는 평가 요소이므로 명확하게 알아 두어야 한다.

문화 변동의 요인에는 내재적 요인과 외재적 요인이 있다. 내재적 요인은 발명과 발견으로, 외재적 요인은 직접 전파와 간접 전파, 자극 전파로 구분할 수 있다. 각각의 의미와 특징에 따르면 A는 발명, B는 발견, C는 자극 전파, D는 직접 전파, E는 간접 전파이다.

[선지 분석]

㉢ A와 B는 문화 변동의 내재적 요인이므로 각각 발명과 발견 중 하나이다. 그런데 A와 달리 B는 이미 존재하는 요소를 찾아낸 것이라는 특징을 가지므로 A는 발명, B는 발견이다. C~E는 문화 변동의 외재적 요인이므로 각각 간접 전파, 직접 전파, 자극 전파 중 하나이다. C는 다른 문화 요소에서

아이디어를 얻거나 자극을 받아 새로운 문화 요소가 만들어지므로 자극 전파이다. E는 매개체를 통해 문화 요소가 전달되므로 간접 전파이고 D는 직접 전파이다.

02 우리나라의 문화 변동의 사례

출제 예상 포인트 우리나라의 문화 변동의 사례는 대학수학능력시험에서 출제될 가능성이 있고 난도 역시 높지 않을 것으로 예상되는 평가 요소이다.

(가)는 대한성공회 강화성당으로 문화 융합의 사례이고, (나)는 한국 내 차이타운으로 문화 병존의 사례이다.

[선지 분석]

✕ (가)에서는 문화 융합, (나)에서는 문화 병존이 나타났다.

✕ 문화 융합이 나타난 것은 (가)이다.

㉡ 문화 융합과 문화 병존은 모두 다른 문화와의 접촉을 통해 발생하는 외재적 요인에 의한 문화 변동에 해당한다.

03 문화 변동의 요인과 양상

(가)에는 직접 전파에 의한 문화 변동이 나타났다. (나)에는 한 사회 내에서 여러 문화가 공존하는 문화 병존이 나타났다. (다)에는 매개체를 통해 간접적으로 문화 요소가 전달되는 간접 전파가 나타났다.

[선지 분석]

✕ (가)에는 선교사 등 사람 간의 교류를 통해 외래문화가 전파되는 직접 전파에 의한 문화 변동이 나타났다.

✕ (나)에는 미국 내에서 한국 문화와 미국 문화가 공존하는 문화 병존이 나타났다.

✕ (다)에는 인터넷 등의 매개체를 통해 문화가 전파되는 간접 전파에 의한 문화 변동이 나타났다.

✕ (가)에는 직접 전파에 의한 문화 변동, (나)에는 문화 병존이 나타났다.

㉤ (가)에는 직접 전파, (다)에는 간접 전파에 의한 문화 변동이 나타났다.

04 문화 변동의 양상

'자국 문화의 고유성 유지'는 문화 융합의 특징에 해당한다. 따라서 A는 문화 동화, B는 문화 융합이다. (가)에는 문화 동화만의 특징이 들어갈 수 있고, (나)에는 문화 동화와 문화 융합의 공통점이 들어갈 수 있다.

[선지 분석]

✕ A는 문화 동화, B는 문화 융합이다.

㉠ '문화의 다양성 저해'는 문화 동화의 특징이므로 (가)에 들어갈 수 있다.

✕ '외재적 요인에 의한 문화 변동'은 문화 동화와 문화 융합의 공통 사항이므로 (나)에 들어갈 수 있다.

㉢ '기존 문화 요소가 외래문화 요소로 완전히 대체'는 기존 문화의 정체성이 상실되었음을 의미하므로 (나)가 아닌 (가)에 들어갈 수 있다.

05 문화 변동의 요인과 양상

갑국의 사례에는 을국의 식민지 지배로 인한 직접 전파와 외재적 변동이 나타나 있다. 병국의 사례에는 정국의 군대로부터 식재료를 구하였다는 점에서 직접 전파와 외재적 변동, 정국의 식재료와 병국의 전통 음식을 결합한 음식을 만들었다는 점에서 문화 융합이 나타나 있다.

[선지 분석]

- ✕ 문화 융합은 병국에만 나타나 있다.
- ㉠ 직접 전파는 갑국과 병국 모두 나타나 있다.
- ✕ 문화 병존은 갑국과 병국 모두 나타나 있지 않다.
- ㉡ 외재적 변동은 갑국과 병국 모두 나타나 있다.

06 문화 변동의 요인과 양상

A는 전통문화와 외래문화가 공존하는 문화 병존, B는 전통문화가 외래문화에 흡수되어 사라진 문화 동화, C는 전통문화와 외래문화가 결합하여 새로운 제3의 문화를 형성한 문화 융합을 나타낸다.

[선지 분석]

- ✕ 전통문화와 외래문화 간의 교류는 간접 전파와 직접 전파에서 모두 나타날 수 있다.
- ✕ A~C로의 변동 모두 외재적 요인에 의한 문화 변동이다.
- ✕ A로의 변동은 전통문화와 외래문화가 공존하는 문화 병존이므로 전통문화의 정체성은 유지된다.
- ✕ B로의 변동은 외래문화의 유입으로 전통문화의 정체성이 상실되고 소멸하는 문화 동화이다.
- ㉤ C로의 변동은 전통문화와 외래문화가 결합하는 문화 융합이다. 이를 통해 새로운 제3의 문화 요소가 생성되지만 전통문화의 정체성은 남아 있다.

07 문화 변동의 양상

출제 예상 포인트 문화 변동의 양상은 각 개념의 의미와 차이점을 묻는 문항이 출제되고 있다. 대학수학능력시험과 전국연합학력평가에도 출제될 가능성이 높은 평가 요소이다.

‘북아메리카 원주민이 이주해 온 유럽인의 문화와 접촉하면서 자기 문화를 상실한 사례에 해당하는가?’에 ‘예’라고 답한 B는 문화 동화이다. (가)의 질문 내용에 따라 A, C는 각각 문화 병존과 문화 융합 중 하나가 된다.

[선지 분석]

- ✕ 서구형 이목구비의 간다라 불상은 문화 융합의 사례에 해당한다.
- ㉠ 문화 융합과 문화 병존은 모두 외부의 다른 문화 요소와 접촉하여 변동한 외재적 요인에 의한 문화 접변의 양상이다.
- ㉡ 기존 문화 요소와 외래문화 요소가 결합하여 새로운 제3의 문화를 형성하는 것은 문화 융합이므로 ‘예’라고 답한 C는 문화 융합이다.
- ✕ 흑인 음악과 백인 음악이 결합한 재즈는 문화 융합의 사례이다. 문화 융합과 문화 병존은 모두 문화의 다양성에 기여한다.

08 전통문화의 기능

사진은 우리나라의 전통적인 줄다리기의 모습이다. 줄다리기는 사회 구성원 간의 공동체 의식 함양과 유대감의 강화, 사회 통합 등을 기원하는 의미가 담겨 있다.

[선지 분석]

- ㉠ 전통문화는 사회 통합과 사회 구성원의 유대감 강화에 기여할 수 있다.
- ✕ 전통문화는 부가 가치가 높은 문화 산업 육성에 기여할 수 있다.
- ✕ 전통문화는 문화적 자긍심을 고취하여 문화의 고유성과 정체성을 유지하는데 기여할 수 있다.
- ✕ 전통문화는 국가 이미지 상성에 기여할 수 있다.
- ✕ 전통문화는 세계 문화의 다양성 증진에 기여할 수 있다.

1등급 완성 문제

52~53쪽

01 ⑤ 02 ② 03 ⑤ 04 ③ 05 ④ 06 ①
07 ③ 08 ④

01 문화 변동의 요인

출제 예상 포인트 문화 변동의 요인은 통합사회 8종 교과서에서 모두 다루는 내용으로 대학수학능력시험에 출제될 가능성이 높다. 수능 예시 문항과 전국연합학력평가에서도 등장하는 평가 요소이므로 각각의 사례와 함께 알아 두어야 한다.

문화 변동의 요인 중 발명과 발견은 내재적 요인이고, 직접 전파, 간접 전파, 자극 전파는 외재적 요인이다. 이전에 존재하지 않았던 것을 새롭게 만들어 냈다면 발명, 이전에 존재하였으나 알려지지 않았던 것을 찾아냈다면 발견이다. 또한 문화 요소가 사람 간의 직접적 접촉을 통해 전파되는 것은 직접 전파, 매개체를 통해 간접적으로 전달되는 것은 간접 전파, 다른 사회의 문화 요소에서 아이디어를 얻어 새로운 문화 요소가 만들어지는 것은 자극 전파이다.

[선지 분석]

- ✕ 발견은 내재적 요인에 해당한다.
- ✕ 지하자원은 이미 존재하였지만 알려지지 않았던 것을 찾아낸 것이므로 발견에 해당한다.
- ✕ 동영상 플랫폼은 매개체에 해당하므로 이를 통해 전파된 콘텐츠는 간접 전파에 해당한다.
- ✕ 문익점이 원나라에서 들여온 목화씨는 사람 간 직접 교류를 통해 전파된 것이므로 직접 전파에 해당한다.
- ㉤ 한자의 영향을 받아 만들어진 이두의 사례는 외래문화 요소에서 아이디어를 얻어 새로운 문화 요소를 만든 것이므로 자극 전파에 해당한다.

02 문화 변동의 양상

출제 예상 포인트 문화 변동의 양상은 각 개념의 의미와 사례를 연결 지어 묻는 문항이 자주 출제되고 있다. 대학수학능력시험과 전국연합학력평가에도 출제될 가능성이 높은 평가 요소이다.

문화 접변에는 기존 문화 요소가 정체성을 상실하고 외래문화 요소에 동화되는 문화 동화, 기존 문화 요소와 외래문화 요소가 공존하는 문화 병존, 기존 문화 요소와 외래문화 요소가 결합하여 새로운 제3의 문화를 형성하는 문화 융합이 있다.

[선지 분석]

- ㉡ (가) 우리나라에 불교, 그리스도교, 유교 등 다양한 종교가 공존하는 것은 문화 병존에 해당한다. (나) 포르투갈의 지배를 받으며 브라질의 전통 신앙이 사라지고 국민 대다수가 가톨릭을 믿게 되며 전통 신앙이 사라진 것은 문화 동화에 해당한다. (다) 대한성공회 강화성당이 우리나라의 전통적인 한옥 양식과 서양의 그리스도교 양식이 결합하여 새로운 형태로 만들어진 것은 문화 융합에 해당한다.

03 문화 변동의 요인

A는 발명, B는 발견, C는 직접 전파, D는 간접 전파, E는 자극 전파이다. A의 발명과 B의 발견은 문화 변동의 내재적 요인에 해당하고, C~E의 직접 전파, 간접 전파, 자극 전파는 문화 변동의 외재적 요인에 해당한다.

[선지 분석]

- ✗ 발명, 발견은 모두 문화 변동의 내재적 요인에 해당한다.
- ✗ 자동차는 존재하지 않았던 기술을 새롭게 만들어 낸 것이므로 발견이 아닌 발명의 사례에 해당한다.
- ✗ 인터넷을 통한 K-pop(케이팝) 문화의 확산은 간접 전파의 사례에 해당한다.
- ✗ 크리스마스 문화의 전파는 선교사들이 직접 해당 지역에서 사람들과 만나 선교 활동을 펼친 것이므로 직접 전파의 사례에 해당한다.
- ⑤ 영어의 알파벳에서 착안하여 제작한 체로키 문자는 자극 전파의 사례에 해당한다.

04 문화 변동의 양상

(가)의 사례에는 한 사회 내에서 서로 다른 문화가 나란히 존재하는 문화 병존이 나타난다. (나)의 사례에는 다른 사회에서 유입된 외래 문화 요소가 기존 문화 요소와 결합하여 제3의 문화를 형성하는 문화 융합이 나타난다. (다)의 사례에는 지배적인 위치에 있는 사회의 문화 요소가 피지배 사회에 강제적으로 이식되어 기존 문화 요소가 정체성을 상실하고 외래문화 요소에 동화되는 강제적 문화 접변과 문화 동화가 나타나고 있다.

[선지 분석]

- ✗ 문화 병존과 문화 융합 모두 기존 문화 요소의 정체성이 유지된다.
- ✗ 기존의 문화 요소가 사라지는 현상은 문화 동화에만 해당하는 특징이다.
- ㉡ (가)에는 문화 병존이 나타나지만 강제적 문화 접변이 나타났다고 볼 수 없다. (다)에는 강제적 문화 접변과 문화 동화가 나타나고 있다.
- ㉢ 기존 문화 요소가 외래문화 요소로 대체되는 현상은 문화 동화에 해당하는 특징이다.

고득점을 위한 핵심 개념

문화 변동의 양상 비교

구분	새로운 문화 요소의 창조	외래문화 변형	기존 문화 정체성
문화 동화	없음	없음	상실
문화 병존			유지
문화 융합	있음	있음	

05 문화 변동의 양상

‘전통문화 요소와 외래문화 요소가 문화 체계 속에서 나란히 존재하는가?’에 ‘예’라고 답한 C는 문화 병존이다. ‘문화 다양성을 저해하는가?’에 ‘예’라고 답한 A는 문화 동화이다. 따라서 B는 문화 융합이다. 문화 동화는 자문화의 정체성을 상실하므로 문화 다양성을 저해하고, 문화 융합과 문화 병존은 자문화 요소의 성격을 유지하면서 새로운 문화를 창조하므로 문화 다양성에 기여한다. (가)에는 문화 융합과 문화 병존이 모두 ‘예’라고 답하였으므로 두 문화 변동의 공통적인 특징을 묻는 질문이 들어갈 수 있다.

[선지 분석]

- ① A는 문화 동화, B는 문화 융합, C는 문화 병존이다.
- ② 직접 전파와 간접 전파는 모두 문화 동화의 발생 요인이다.
- ③ 문화 동화, 문화 융합, 문화 병존 모두 외재적 요인에 의해 나타난다.
- ✗ 자문화 요소의 성격이 유지되는 것은 문화 융합과 문화 병존의 공통적인 특징이므로 ‘자문화 요소의 성격을 지니는가?’라는 질문은 (가)에 들어갈 수 있다.

- ⑤ A~C의 문화 동화, 문화 융합, 문화 병존 모두 외래문화 수용에 의해 나타나므로 해당 질문은 (가)에 들어갈 수 없다. (가)에는 문화 융합과 문화 병존의 공통점만 들어갈 수 있다.

06 문화 변동의 요인

출제 예상 포인트 불의 발견과 증기 기관의 발명을 비교하는 사례처럼 문화 변동의 내재적 요인을 다루는 문제가 대학수학능력 시험에 출제될 가능성이 높다.

(가)는 불의 발견이고, (나)는 증기 기관의 발명이다. 발견은 이미 존재하였으나 알려지지 않은 사물 혹은 원리 등을 찾아내는 행위나 결과물을 의미하고, 발명은 존재하지 않았던 기술 혹은 사물 등을 새롭게 만들어 내는 행위나 결과물을 의미한다. 발견과 발명은 모두 내재적 요인에 의한 문화 변동이다.

[선지 분석]

- ㉠ ①은 발견이다. 발견은 이미 존재하였으나 알려지지 않았던 원리 등을 찾아내는 행위나 결과물이다.
- ㉡ ②은 발명이다. 발명은 존재하지 않았던 새로운 것을 만드는 행위나 결과물이다.
- ✗ (가), (나)는 모두 내재적 요인에 의한 문화 변동 사례이다. 간접 전파는 외부에서 다른 문화 요소가 유입되어 나타나는 외재적 요인에 해당한다.
- ✗ (가), (나)는 모두 내재적 요인에 의한 문화 변동 사례이다. 다른 문화 체계와의 접촉을 통한 문화 변동은 외재적 요인에 의한 문화 변동이다.

07 문화 변동의 양상

(가)는 문화 동화, (나)는 문화 융합, (다)는 문화 병존이다. (가)~(다) 모두 외재적 요인에 의한 문화 변동이다. 갑과 을 중에서 한 명만 옮겨 발표하였고 갑의 발표 내용이 옳으므로 ㉠에는 옳지 않은 발표 내용이 들어가야 한다.

[선지 분석]

- ✗ (가)는 외래문화만 남았으므로 문화 동화, (나)는 새로운 문화 요소가 창조되었으므로 문화 융합, (다)는 두 문화 모두 공존하므로 문화 병존이다.
- ✗ 문화 동화는 강제적 문화 접변에 의해 나타날 수 있다. 전쟁, 식민지 지배 등에 의한 언어 전파로 모국어를 상실한 경우가 그 예이다. 따라서 이는 옳지 않은 발표 내용으로 ㉠에 들어갈 수 있다.
- ㉡ 한국의 차이나타운은 문화 융합이 아닌 문화 병존의 사례이다. 따라서 이는 옳지 않은 발표 내용으로 ㉠에 들어갈 수 있다.
- ㉢ 문화 동화는 전통문화의 요소가 상실되지만, 문화 융합과 문화 병존은 전통문화의 성격이 유지된다. 따라서 이는 옳은 발표 내용으로 ㉠에 들어갈 수 없다.

08 전통문화의 창조적 계승

1~3에서 공통적으로 파악할 수 있는 내용은 전통문화의 창조적 계승이다.

[선지 분석]

- ④ 전통문화의 현대적 재해석과 새로운 문화와의 조화를 위한 재구성, 외래 문화의 비판적 수용을 통해 전통문화를 창조적으로 계승할 수 있다. 전통 문화의 역기능 파악, 맹목적 추종, 외래문화로의 대체, 전통문화를 원형 그대로 고수하는 것은 1~3에서 공통적으로 파악할 수 있는 내용과 직접적인 관련이 없다.

06

문화 상대주의와 보편 윤리
및 다문화 사회

기출 동형 문제

57쪽

01-① ③

01-② ④

02-① ①

02-② ⑤

01-① 문화 상대주의와 보편 윤리

갑은 자문화 중심주의, 을은 극단적 문화 상대주의, 병은 보편 윤리 관점에 기초한 문화 상대주의의 관점에서 문화를 이해하고 있다.

[선지 분석]

- ⊗ 갑의 문화 이해 태도는 자문화 중심주의이다. 문화가 형성되는 맥락의 이해를 중시하는 것은 문화 상대주의이다.
- ⊗ 을의 문화 이해 태도는 극단적 문화 상대주의이다. 자문화의 정체성을 상실할 우려가 있는 태도는 문화 상대주의이다.
- ③ 병은 인권은 국가를 초월하여 반드시 지켜져야 하는 가치이므로 보편적 기준에 근거하여 문화를 성찰해야 한다고 주장한다.
- ⊗ 국수주의에 빠질 우려가 있는 입장은 자문화 중심주의이다.
- ⊗ 을은 문화의 보편적 기준을 강조하지 않고 있다.

고득점을 위한 핵심 개념

자문화 중심주의와 문화 상대주의

자문화 중심주의	<ul style="list-style-type: none"> • 순기능: 자기 문화에 대한 자부심과 집단 내의 일체감을 강화하여 사회 통합에 기여, 고유한 전통문화 계승 및 보전에 유리 • 역기능: 국수주의에 빠져 국제적 고립을 초래, 제국주의적 문화 이식 시도로 문화적 마찰 야기, 타 문화에 대한 무지와 배척
문화 상대주의	<ul style="list-style-type: none"> • 순기능: 자기 문화의 낙후성 개선, 선진 문물의 수용에 기여 • 역기능: 자기 문화의 정체성 및 주체성 상실 우려, 고유 문화가 소멸되거나 외래문화에 종속될 위험 존재

감각 있는 풀이 TIP

이 유형의 문항은 문화 상대주의와 보편주의 간 입장 차이를 파악하는 것이 핵심이다. 각 인물이 강조하는 가치가 개인의 권리인지, 문화의 맥락인지, 혹은 두 관점을 절충하려는 시도인지도 글을 통해 분석해야 한다. 이를 위해서는 각 관점의 핵심 개념을 정확히 알고 비교하는 연습이 중요하다.

01-② 자문화 중심주의와 극단적 문화 상대주의

출제 예상 포인트 문화 이해의 태도는 통합사회 8종 교과서에서 모두 다루는 내용이므로 대학수학능력시험에 출제될 가능성이 높다. 수능 예시 문항과 전국연합학력평가에서도 등장하는 평가 요소이므로 각각의 특징을 구분하여 알아 두어야 한다.

갑은 인도의 사티 풍습을 미개하며 비인간적이라 단정하고, 인도도 우리나라처럼 인권과 평등을 중시하는 문화를 받아들여야 한다고 주장하고 있으므로 자문화 중심주의이다. 반면 을은 사티가 인간의 신체와 생명에 위해를 가하는 풍습임에도 외부인의 시선이 아닌 역사적·사회적 맥락 속에서 이해해야 한다고 주장하므로 극단적 문화 상대주의이다.

[선지 분석]

- ⊗ 갑의 문화 이해 태도는 자문화 중심주의로, 이는 문화를 이해가 아닌 평가의 대상으로 바라보는 관점이다.
- ⊗ 을의 문화 이해 태도는 극단적 문화 상대주의이다. 문화 제국주의로 변질될 수 있다는 비판을 받는 것은 자문화 중심주의이다.
- ⊗ 타 문화에 대한 긍정적 인식에서 비롯된 것은 을의 문화 이해 태도이다.
- ④ 을의 문화 이해 태도는 극단적 문화 상대주의로, 이는 문화 상대주의를 기반으로 한다. 문화 상대주의는 각 문화가 해당 사회의 맥락에서 갖는 고유한 의미를 존중하므로 각 사회의 문화가 동등한 가치를 지닌다고 본다.
- ⊗ 갑, 을이 언급하고 있는 국가는 인도로, 인도가 속한 문화권은 남부 아시아 문화권이다. 남부 아시아 문화권에서는 여러 종교 중 힌두교 신자의 비율이 가장 높다.

02-① 보편 윤리 차원에서의 문화 이해

출제 예상 포인트 보편 윤리에 근거한 문화 성찰은 통합사회 8종 교과서에서 모두 다루는 내용이므로 대학수학능력시험에 출제될 가능성이 높다. 수능 예시 문항과 전국연합학력평가에서도 등장하는 평가 요소이므로 문화 이해의 올바른 태도와 보편 윤리 원칙을 정확히 파악할 필요가 있다.

제시문에서는 문화를 올바르게 이해하기 위해 인간 존엄성 등을 기준으로 하는 보편 윤리 차원에서 문화를 성찰해야 함을 강조하고 있다.

[선지 분석]

- ① 문화를 존중해야 하지만 인권보다 우선시 되어서는 안 된다는 점에서 제시문의 입장에 부합한다. → ㉠ 정, 무
- ② 자문화 중심주의를 경계하고, 자기 문화 역시 비판적 관점에서 바라보는 태도를 강조한다는 점에서 제시문의 입장에 부합한다. → ㉡ 정
- ⊗ 이질적 문화에 대한 배타적 태도를 정당화하며, 문화 간 대화와 존중보다는 자기 문화의 고수를 강조한다는 점에서 제시문의 입장에 부합하지 않는다. → ㉢ 정
- ⊗ 한 사회의 전통이나 문화가 보편적 가치인 개인의 자유를 침해하는 경우에도 무비판적으로 존중해야 한다는 주장은 보편 윤리를 강조하는 제시문의 입장에 부합하지 않는다. → ㉣ 정

고득점을 위한 핵심 개념

극단적 문화 상대주의

의미	문화의 특수성 및 상대성을 지나치게 강조한 나머지 인류의 보편적 가치를 무시하는 문화마저도 해당 사회에서 고유한 의미와 가치가 있다는 이유로 인정하는 태도
문제점	<ul style="list-style-type: none"> • 윤리적 성찰이 없이 자문화 혹은 타 문화를 방관적이고 무관심한 태도로 바라보게 함. • 인류의 보편적 가치를 훼손함. • 문화의 질적 발전을 저해함.
사례	식인, 명예 살인, 이슬람 무장 단체의 테러 등은 인류의 보편적 가치에 어긋나는 행위로, 이를 인정하는 태도는 극단적 문화 상대주의에 해당함.

감각 있는 풀이 TIP

이 유형의 문항은 문화 상대주의와 보편 윤리 사이의 균형을 파악하는 것이 핵심이다. 단순히 문화의 다양성을 존중하는 데 그치지 않고, 그 문화가 개인의 자유와 인권을 침해하는지 여부를 판단해야 한다. 따라서 각 진술이 인간 존엄과 보편 윤리를 기준으로 삼고 있는지를 중심으로 선별하는 것이 핵심이다.

02-2 보편 윤리의 필요성

전족은 아름다움을 위해 신체를 기형적으로 변형하는 풍습이다. 이는 생명 존중, 인권, 자유 등 인류가 보편적으로 추구하는 도덕과 가치에 부합하지 않는 것으로, 보편 윤리에 어긋나는 행위이다.

[선지 분석]

- ⓧ 전족은 문화 변동의 요인 중 발명에 해당한다.
- ⓧ 명·청나라는 동아시아 문화권에 속한다. 오아시스 농업이나 관개 농업이 발달한 곳은 건조 문화권이다.
- ⓧ 보편 윤리는 시대와 사회를 초월하여 모든 사람이 존중하고 따라야 할 행위의 원칙을 의미한다.
- ⓧ '전족을 해당 사회의 역사적 맥락을 고려하여 이해할 필요가 있다.'라는 주장은 보편 윤리를 고려하지 않은 극단적 문화 상대주의의 입장에 해당하므로 (가)에 들어갈 수 없다.
- ⑤ 전족이 인간의 존엄성을 침해하는 문화라는 점을 명확히 지적하며 보편 윤리의 관점에서 비판하는 진술로, 교사의 요구와 일치한다.

고득점을 위한 핵심 자료

문화와 보편 윤리적 성찰

인도의 대법원은 남성이 '탈라크(이혼을 뜻하는 아랍어)'라고 세 번 외치는 것으로 이혼할 수 있는 쉬운 이혼 방식인 '트리플 탈라크'가 헌법에 어긋난다고 판결하였다. 대법원은 '트리플 탈라크'가 법 앞의 평등을 규정한 인도 헌법 제14조를 위반해 여성의 기본권을 침해한다고 밝혔다. 인도에서는 남편이 부부싸움을 하다 화기에 탈라크를 세 번 외쳐 줄지에 이혼이 성립하거나 화상 전화나 페이스북 메신저 등을 이용해 탈라크를 외치고 이혼하는 사례도 종종 벌어졌었다.

'트리플 탈라크'는 이집트, 아랍 에미리트, 파키스탄, 방글라데시 등 대부분의 무슬림 국가에서 금지되었으나 인도 내의 무슬림 신자 사이에서 관습적으로 시행되어 왔다. 그러나 2019년 인도의 대법원은 '트리플 탈라크'가 여성의 인권을 침해하는 제도이므로 위헌이라는 판결을 내렸다. 이는 종교적 관습에서 비롯된 문화일지라도 인류의 보편 윤리에 어긋나서는 안 된다는 점을 시사한다.

수능 기본 문제

58~59쪽

- 01 ② 02 ① 03 ③ 04 ⑤ 05 ② 06 ③
07 ② 08 ④

01 문화 이해의 태도

A는 자문화 중심주의이다. 자문화 중심주의는 자기 문화의 우수성을 지나치게 강조한 나머지 다른 문화를 부정적으로 여기고 낮게 평가하는 태도를 말한다.

[선지 분석]

- ⓧ A는 자문화 중심주의이다.
- ② 자문화 중심주의는 문화 절대주의로서 문화에 대한 우열 비교가 가능하다고 본다.
- ⓧ 자문화 중심주의는 자기 문화만을 우수하다고 보는 입장으로 '자문화의 정체성 약화'와는 관련이 없다.
- ⓧ A가 국수주의에 빠질 가능성에 초점을 두는 학생은 갑이다.
- ⓧ 극단적 문화 상대주의는 인간의 존엄성, 생명 존중 등 보편적 가치의 실현을 저해할 위험이 있는 태도로 제시문과 관련이 없다.

고득점을 위한 핵심 자료

문화 제국주의

문화 제국주의는 주로 강대국이 주변의 약소국들을 문화적으로 지배하는 것을 의미한다. 문화 제국주의 경향을 가진 강대국은 세계를 대상으로 자국 문화의 우월함을 드러내거나 문화 산업을 통해 경제적·문화적 지배력을 행사하고자 한다.

02 문화 이해의 태도

'자문화의 정체성 약화 우려'에 대한 질문에 '예'로 응답한 C는 문화 상대주의이다. '이해의 대상으로서의 문화'에 대한 질문에 '예'로 응답한 A는 문화 상대주의이다. 따라서 B는 자문화 중심주의이다.

[선지 분석]

- ① 두 번째 질문을 통해 A가 문화 상대주의임을 파악할 수 있다.
- ⓧ 자문화 중심주의는 자문화의 우월성에 빠져 타 문화를 배척하는 국수주의와 주변 약소국을 문화적으로 지배하려는 문화 제국주의를 초래할 가능성이 높다.
- ⓧ 타 문화에 대한 거부감이 강한 것은 자문화 중심주의이다. 자문화 중심주의는 자문화의 우수성을 지나치게 강조하여 국수주의나 문화 제국주의로 나아갈 위험이 있다.
- ⓧ 자문화 중심주의는 자기 문화의 관점에서 다른 문화를 열등하거나 비합리적인 것으로 생각하는 태도로 자기 문화에 대한 객관적 이해에 기여한다고 보기 어렵다.
- ⓧ 자문화 중심주의와 문화 상대주의 모두 문화 절대주의적 시각에서 문화를 바라보므로 (가)에는 해당 질문이 들어갈 수 없다.

고득점을 위한 핵심 자료

문화 상대주의와 자문화 중심주의

(가) 우리 조국은 조종(임금의 시조) 때부터 내려오면서 지성스럽게 대국(大國)을 섬기어 한결같이 중화(中華)의 제도를 준행하였는데, 이제 글을 같이하고 법도를 같이하는 때를 당하여 언문을 창작하신 것은 보고 듣기에 놀라움이 있습니다. …… 만일 중국에라도 흘러 들어가서 혹시라도 비난하여 말하는 자가 있사오면, 어찌 대국을 섬기고 중화를 사모하는 데에 부끄러움이 없사오리까. → **최만리의 중화사상에서 문화 상대주의를 엿볼 수 있다.**

- 훈민정음 창제에 반대하는 최만리 등의 상소문, 『조선왕조실록』

(나) 이란 영화 「씨민과 나테르의 별거」가 이란 역사상 처음으로 아카데미상(외국어 영화상)을 받아 이란 전역이 들떴다. 이란 국영 언론들은 「씨민과 나테르의 별거」의 수상 소식을 전하며 이스라엘에 대한 이란 문화의 우월성을 증명한 것이라고 일제히 보도하였다. 함께 외국어 영화상 후보였던 이스라엘의 「각주」를 꺾었기 때문이었다. 이스라엘의 동맹인 미국의 대표적인 영화상을 받았다는 점에 크게 고무된 모습을 보였다. → **이란 국영 언론들의 태도는 자문화 중심주의에서 비롯되었다. 영화제에서 이란 영화 한 편의 수상을 확대 해석하여 이스라엘보다 자국의 문화가 우월하다는 인식은 자문화 중심주의에 해당한다.**

03 문화 상대주의

출제 예상 포인트 문화 상대주의는 세계의 다양한 문화권과 문화 이해의 태도를 결합하여 대학수학능력시험에서 출제될 가능성이 있는 평가 요소이므로 그 특징을 명확하게 알아 두어야 한다.

A는 문화 상대주의이다. 문화 상대주의는 각 사회의 문화를 그 사회의 특수한 환경과 맥락 속에서 이해하려는 태도이다. 갑이 조사하는 ○○국은 아프리카 북부 지역이므로 건조 문화권에 해당한다.

[선지 분석]

- ① 문화 상대주의는 각 사회의 문화를 존중하므로 문화의 다양성을 보존하는 데 기여한다.
- ② 문화 상대주의는 문화 간에는 우열이 없다고 본다.
- ③ 문화 상대주의는 다른 문화를 존중하고 수용할 수 있게 해 준다.
- ④ 문화 상대주의는 다른 문화를 그 사회 구성원의 입장에서 이해할 수 있도록 한다.
- ⑤ ○○국이 속한 문화권은 건조 문화권으로 주로 유목과 오아시스 농업이 이루어진다.

고득점을 위한 핵심 개념

건조 문화권의 특징

주로 서남아시아, 북부 아프리카, 중앙아시아에 위치하고, 주민들은 대부분 아랍어를 사용하며 이슬람교를 믿는다. 서남아시아 지역은 전통적으로 유목과 오아시스 농업을 하였으나, 오늘날에는 풍부한 석유 자원이 매장된 지역을 중심으로 자원 개발이 활발하게 이루어지고 있다. 이에 따라 석유 자원을 바탕으로 건설한 도시에 정착하는 모습으로 생활양식이 변화하고 있다.

04 극단적 문화 상대주의와 보편 윤리

을의 문화 이해 태도는 극단적 문화 상대주의이다. 값이 제시한 사례처럼 인권을 침해하고 인간의 존엄성을 훼손하는 행위는 시대와 장소를 초월하여 언제나 존중되어야 하는 보편 윤리에 어긋나므로 문화로 인정해서는 안 된다.

[선지 분석]

- ⓧ 을은 극단적 문화 상대주의적 태도를 가지고 있다.
- ⓧ 극단적 문화 상대주의는 문화의 상대성을 극단적으로 추구하는 태도로 문화를 평가의 대상으로 바라보지 않는다.
- ⓧ 자신의 문화만을 우월하게 여기는 태도는 자문화 중심주의이다. 자문화 중심주의는 국수주의나 문화 제국주의로 나아갈 위험이 있다.
- ⓧ 다른 문화에 대한 지나친 동경으로 자문화의 정체성을 상실할 우려가 있는 태도는 문화 상대주의이다.
- ⑤ 극단적 문화 상대주의는 보편 윤리에 어긋나는 문화도 인정하려는 태도이므로 바람직하지 않다.

감각 있는 풀이 TIP

어떤 문화이든 나름의 이유와 고유한 의미가 있으니 이해해야 한다는 태도는 극단적 문화 상대주의이며, 이는 인류의 보편적 가치에 어긋나는 문화 또한 옹호한다는 점에 유의하여야 한다.

05 다문화 사회의 갈등

다문화 사회에서는 문화적 차이에 대한 무지와 이해 부족, 다른 문화에 대한 편견과 사회적 차별 등으로 인해 갈등이 발생한다.

[선지 분석]

- ① 원주민과 이주민 사이의 갈등은 사회 불안의 요인으로 작용할 수 있다.
- ⓧ 제노포비아는 자신의 문화를 기준으로 다른 문화를 열등하게 여기는 자문화 중심주의와 관련이 깊다.
- ③ 제노포비아는 타 집단에 대한 이해가 부족할 때 발생할 수 있다.
- ④ 제노포비아는 주류 집단이 소수 집단인 외국인을 무시할 때 더 쉽게 나타날 수 있다.
- ⑤ 부족한 사회적 희소가치를 두고 경쟁을 하는 과정에서 주류 집단이 소수 집단을 경계하고 차별하기도 한다.

고득점을 위한 핵심 자료

제노포비아의 사례

저는 행정 복지 센터에 가는 걸 싫어해요. 행정 복지 센터에 갈 때마다 한 직원이 저를 보고 “난민 왔어!”라고 큰소리를 치거든요. 주변 사람들도 같이 웃고요. 하루는 회사 사람과 함께 행정 복지 센터에 갔는데, 사람들이 또 저를 보고 웃었어요. 그때 회사 사람이 왜 웃냐고 화를 내니까 처음으로 미안하다고 사과하였어요.

— 국가 인권 위원회 누리집

위 사례는 전형적인 ‘제노포비아(Xenophobia)’이다. 제노포비아는 낯선 이방인이라는 까닭으로 외국인이나 다른 문화권에서 온 사람을 혐오하는 것을 말한다.

06 다문화 사회로의 변화

출제 예상 포인트

우리나라의 외국인 주민 비중 증가 자료는 통합사회 8종 교과서에서 모두 다루는 내용이므로 대학수학능력 시험에 출제될 가능성이 높다. 수능 예시 문항과 전국연합학력 평가에서도 등장하는 자료이므로 이로 인해 나타날 수 있는 사회 현상과 연결하여 알아 두어야 한다.

제시된 자료를 통해 우리나라에 거주하는 외국인 주민 수와 비중이 증가하고 있으며 우리 사회가 다문화 사회로 접어들었음을 알 수 있다. 세계화로 인해 인종, 언어, 문화적 배경이 서로 다른 다양한 집단이 하나의 공동체 안에서 함께 살아가는 사회를 다문화 사회라고 한다.

[선지 분석]

- ⓧ 다문화 사회로 변화함에 따라 국제결혼 가정이 늘어나고 있다.
- ㉠ 다른 나라의 종교가 유입되며 주변에서 다양한 종교를 접할 수 있게 되었다.
- ㉡ 국내에 거주하는 외국인 중에는 외국인 노동자도 존재하는데, 다문화 사회가 심화되면서 외국인 노동자와 관련된 문제가 발생할 수 있다.
- ⓧ 다문화 사회로 변화함에 따라 사회 구성원 사이에 다양한 가치관이 유입되고 있다.

07 다문화 사회의 갈등 해결 방안

다문화 사회에서 일어날 수 있는 갈등을 해결하기 위해서는 ㉠ 개인적 차원과 ㉡ 사회적 차원의 노력이 필요하다.

[선지 분석]

- ㉠ 개방적인 자세를 가지는 것은 ㉠ 개인적 차원의 해결 방안에 해당한다.
- ㉡ 세계시민 의식을 함양하는 것은 ㉡ 개인적 차원의 해결 방안에 해당한다.
- ㉢ 법으로 다문화 사회의 갈등을 방지하고 해결하려는 입장은 ㉡ 사회적 차원의 해결 방안에 해당한다.
- ㉣ 다문화 정책을 수립하는 것은 ㉡ 사회적 차원의 해결 방안에 해당한다.

고득점을 위한 핵심 개념

다문화 사회에서 문화 다양성을 존중하기 위한 노력

개인적 차원	<ul style="list-style-type: none"> • 다른 문화에 대한 깊이 있는 이해 • 관용과 문화 상대주의적 태도 함양 • 개방적인 자세 및 세계시민 의식 함양
사회적 차원	<ul style="list-style-type: none"> • 다문화 교육 강화 • 다문화 가족 지원법, 외국인 근로자의 고용 등에 관한 법률 등 관련 법률 정비 • 다문화 가족 지원 정책 등 사회적 지원책 확대

감각 있는 풀이 TIP

〈보기〉의 내용이 개인적 실천 또는 노력에 의해 실현 가능한 것인지, 국가나 정부 차원에서의 정책적 노력으로 실현 가능한 것인지 파악한다.

08 다문화 사회의 갈등 해결을 위한 노력

출제 예상 포인트 제시된 자료는 통합사회 5종 교과서에서 공통적으로 설명하는 자료이므로 대학수학능력시험에 출제될 가능성이 높다.

제시된 자료는 국립민속박물관에서 발간한 『우리 안의 다문화』 시리즈 중 일부로, ‘서울·경기 무슬림의 생활 문화’, ‘춘천 외국인 유학생들의 생활 문화’, ‘부산·경남 러시아어권 이주민들의 생활 문화’ 등을 다룬 책자이다. 이 자료는 단일 민족·단일 문화 중심의 시각에서 벗어나, 우리 사회 안에 존재하는 다양한 문화적 정체성과 생활양식을 이해하고 공존하는 태도를 기르기 위한 교육 목적을 지닌다. 특히 이주민이나 외국인 유학생들의 문화를 이질적이거나 배척해야 할 것이 아닌, 함께 살아가는 공동체 구성원의 고유한 문화로 인식하도록 유도하는 데 중점을 두고 있다.

[선지 분석]

- ⓧ 자료의 취지가 문화적 이해와 공존의 필요성을 강조하는 데 있다는 점에서 갈등이 해결되었다고 볼 수 없다.
- ⓧ 자료는 문화의 다양성과 고유성 존중을 강조하여 문화적 차이로 인한 갈등을 방지하고자 하므로 문화의 획일화 현상이 심화되었다고 보기 어렵다.
- ⓧ 제시된 자료와는 거리가 먼 진술이다.
- ④ 자료가 종교적 소수자, 외국인 유학생, 이주민의 사례를 다루고 있으며 문화 간 접촉과 다른 문화에 대한 이해의 필요성을 시사한다는 점에서 적절한 진술이다.
- ⓧ 제시된 자료와는 거리가 먼 진술이다.

감각 있는 풀이 TIP

제시된 자료가 다문화 사회와 어떤 관련이 있는지 파악하고, 해당 자료가 우리 사회에 등장하게 된 계기를 중심으로 생각해 본다.

1등급 완성 문제

60~61쪽

- | | | | | | |
|------|------|------|------|------|------|
| 01 ② | 02 ② | 03 ⑤ | 04 ① | 05 ③ | 06 ④ |
| 07 ② | 08 ④ | | | | |

01 문화 이해의 태도

제시문에서 필자는 문화를 이해할 때 모든 사회에 보편적으로 적용할 수 있는 도덕적 기준이나 가치의 필요성을 인정하지 않는 극단적 문화 상대주의의 태도를 취하고 있다.

[선지 분석]

- ⓧ 문화 상대주의는 문화 간에 우열이 있음을 인정하지 않는다.
- ② 문화 상대주의가 극단적으로 나아갈 경우 보편 윤리에 근거한 문화 성찰의 필요성을 부정한다는 비판을 받을 수 있다.
- ⓧ 문화 상대주의는 문화가 이해의 대상이며 평가의 대상이 아니라고 본다.

- ⓧ 문화 상대주의는 자기 문화의 입장에서 다른 문화를 평가하는 것을 거부한다.
- ⓧ 문화 상대주의는 각 문화의 가치를 존중하므로 문화의 다양성 보존에 적합하다.

02 문화 이해의 태도

출제 예상 포인트 자문화 중심주의, 문화 상대주의, 문화 상대주의는 통합사회 8종 교과서에서 모두 다루는 내용이므로 대학수학능력시험에 출제될 가능성이 높다.

○ ○국의 목욕 문화를 바라보는 갑의 태도는 자문화 중심주의이고, 을의 태도는 문화 상대주의이다.

[선지 분석]

- ⓧ 문화의 다양성 보존에 기여하는 문화 이해의 태도는 문화 상대주의이다.
- ② 자문화 중심주의는 자기 문화만을 가장 뛰어난 것으로 믿고 다른 문화를 배척하는 국수주의로 변질될 수 있다는 비판을 받는다.
- ⓧ 자문화의 정체성을 상실할 우려가 있는 문화 이해의 태도는 문화 상대주의이다.
- ⓧ 서로 다른 문화 간에 우열이 존재함을 전제하는 것은 자문화 중심주의이다. 문화 상대주의는 서로 다른 문화 간에 우열이 존재하지 않는다고 본다.
- ⓧ 자문화 중심주의는 문화를 이해가 아닌 평가의 대상으로 보고, 문화 상대주의는 문화를 평가가 아닌 이해의 대상으로 본다.

고득점을 위한 핵심 개념

자문화 중심주의와 문화 상대주의의 공통점

자문화 중심주의와 문화 상대주의는 특정 문화를 기준으로 다른 문화를 평가하려는 태도이다. 이처럼 절대적 기준을 가지고 문화의 우열을 가리려고 한다는 점에서 문화 상대주의와 비교하여 ‘문화 절대주의’라고 한다. 문화 절대주의는 특정 문화를 추종하거나 배척하여 문화 간 갈등을 초래할 수 있다.

03 문화 이해의 태도

갑이 4점을 얻었으므로 갑의 응답은 모두 옳고, 을은 2점을 얻었으므로 ㉠과 ㉡에는 옳은 응답이 들어가야 한다. 표의 첫 번째 진술을 통해 B는 문화 상대주의임을 알 수 있으므로, A와 C는 각각 문화 상대주의와 자문화 중심주의 중 하나이다.

[선지 분석]

- ⓧ 문화 상대주의는 문화의 다양성 보존에 기여한다. 따라서 ㉠과 ㉡은 모두 ‘○’이다.
- ⓧ 문화 상대주의와 자문화 중심주의는 모두 문화를 평가의 대상으로 본다. 따라서 ‘A는 문화를 평가가 아닌 이해의 대상으로 본다.’가 (가)에 들어가면 ㉢과 ㉣은 모두 ‘×’이다.
- ⓧ ‘B는 자기 문화의 가치만을 중시한다.’가 (가)에 들어가면 ㉢은 ‘×’이고, ㉣은 ‘○’이므로 ㉢과 ㉣의 응답은 서로 다르다.
- ⓧ (나)에는 옳지 않은 진술이 들어가야 한다. 문화 상대주의는 자문화의 정체성을 상실할 우려가 있다는 비판을 받지 않으므로 해당 진술은 (나)에 들어갈 수 있다.
- ⑤ (나)에는 옳지 않은 진술이 들어가야 한다. ‘C는 A와 달리 자문화가 열등하다고 본다.’가 (나)에 들어가면 옳지 않은 진술이 되므로 A는 문화 상대주의, C는 자문화 중심주의이다. 자문화 중심주의는 국수주의로 변질될 수 있다는 비판을 받는다.

감각 있는 풀이 TIP

갑과 을의 채점 결과를 보고 각각 옳은 응답이 몇 개인지 파악한다. 그 후 A~C 중 특징되는 문화 이해의 태도가 무엇인지 확인하고 각 선지의 진위 여부를 판단한다.

04 극단적 문화 상대주의와 보편 윤리

출제 예상 포인트 극단적 문화 상대주의와 보편 윤리는 통합사회 8종 교과서에서 모두 다루는 내용으로 대학수학능력시험에 출제될 가능성이 높다. 수능 예시 문항과 전국연합학력평가에서도 등장하는 평가 요소이므로 사례와 함께 알아 두어야 한다.

A는 극단적 문화 상대주의이다. 극단적 문화 상대주의는 인류의 보편적 가치를 훼손하는 문화마저도 해당 사회에서 고유한 의미와 가치가 있다는 이유로 인정하는 태도이다.

[선지 분석]

- ㉠ A는 극단적 문화 상대주의에 해당한다.
- ㉡ 명예 살인은 시대와 사회를 초월하여 모든 사람이 존중하고 따라야 할 행위의 원칙인 보편 윤리에 어긋난다.
- ㉢ 극단적 문화 상대주의는 모든 문화를 인정하지는 태도이므로 문화를 비판적으로 성찰할 수 없도록 한다.
- ㉣ 극단적 문화 상대주의는 윤리적 성찰이 없이 자문화와 타 문화를 방관적이고 무관심한 태도로 바라보게 하여 문화의 발전을 저해할 수 있다.

고득점을 위한 핵심 개념

관용의 자세

문화 다양성을 지향하는 사회에는 서로 다른 전통과 문화, 종교, 가치관을 지닌 사람을 이해하고자 노력하는 관용의 정신이 요구된다. 관용이란 본래 가지지 못한 자에게 베푸는 가진 자의 덕목을 뜻하였다. 유럽의 종교 전쟁 이후 관용은 종교의 자유를 의미하였으나 근대 이후 의미가 여러 영역으로 확장되어 일반적인 도덕 원리로 인식되기 시작하였다.

관용의 역설

관용의 역설이란 무제한적으로 관용을 베풀면 관용 자체를 부정하는 사상이나 태도까지 인정하게 되며 결과적으로 관용이 불관용에 의해 설 자리를 잃게 되는 모순적 상황을 말한다. 영국의 철학자 칼 포퍼는 “아무런 제약이 없는 무제한적 관용이 궁극적으로 관용의 소멸을 불러온다.”라고 보았다.

관용의 범위

문화 다양성을 존중하기 위해서는 문화 상대주의가 필요하다. 그러나 극단적인 문화 상대주의와 윤리 상대주의로 치우쳐 반인륜적인 행위마저 인정하는 방향으로 나아가서는 안 된다. 인간의 생명과 존엄성을 훼손하는 등 도덕적 해악에 대해서까지 관용이 필요한 것은 아니다. 인류가 지향하는 도덕적 가치와 보편 윤리를 수용하며, 타인의 인권과 자유를 침해하지 않고 사회 질서를 훼손하지 않는 범위 내에서 관용하는 자세가 필요하다.

05 문화 이해의 태도 비교

A는 자신의 문화에 우월감을 느끼며 타 문화를 평가 절하하는 자문화 중심주의의 태도를 가지고 있다. B는 다른 문화와 대면할 때 자기 문화의 입장에서가 아니라 해당 사회의 입장에서 이해하려고 하는 문화 상대주의의 태도를 가지고 있다.

[선지 분석]

- ㉠ 자문화 중심주의는 타 문화를 낮게 평가하고 자기 문화의 우수성을 지나치게 내세움으로써 자기 문화에 대한 객관적 이해를 어렵게 한다.
- ㉡ 문화 상대주의는 문화가 우열을 가리는 평가의 대상이 아니라 해당 사회의 맥락에서 이해해야 할 대상이라고 본다.
- ㉢ 문화 상대주의는 문화를 평가의 대상이 아닌 이해의 대상으로 여기며 각각의 문화는 서로 다른 사회가 처한 사회적 상황을 반영한 결과라고 본다. 반면 자문화 중심주의는 문화의 다양성을 문화 발전 수준의 차이라고 보아 자기 문화는 발전된 문화이고 타 문화는 발전하지 못한 문화로 치부한다.
- ㉣ 자문화 중심주의는 국수주의를 초래하거나 문화 제국주의적 침략으로 문화적 마찰을 발생시킬 수 있다. 자문화의 정체성 상실을 초래할 수 있는 것은 문화 상대주의이다.

고득점을 위한 핵심 개념

문화 상대주의와 타 문화의 수용

문화 상대주의가 타 문화의 고유한 의미와 가치를 인정한다고 해서 무조건 타 문화의 수용에 적극적인 자세를 보이는 것은 아니다. 타 문화와 마찬가지로 자기 문화도 고유한 가치를 지닌다고 보기 때문이다. 문화 상대주의는 타 문화가 자기 사회의 맥락에서 적합성이 충분히 인정될 때 사회 구성원의 자발성에 기초하여 자연스럽게 수용되는 것이 바람직하다고 생각한다.

06 보편 윤리에 따른 문화 성찰

갑은 문화 상대주의를 인정하나 인류의 보편적인 가치를 훼손하는 문화에 대해서는 문화 상대주의를 적용해서는 안 된다고 주장한다. 을은 인류의 보편적인 가치에 대한 존중이 필요함을 인정하지만 보편적인 가치를 강조할 때 발생할 수 있는 문제점을 지적한다.

[선지 분석]

- ㉠ 갑은 보편적인 가치를 훼손하는 일부 문화에 한해 절대적인 기준을 적용하여 평가해야 한다는 입장이다.
- ㉡ 갑은 원칙적으로 문화 상대주의의 입장을 지지한다.
- ㉢ 을은 보편적 가치를 존중해야 할 필요성을 인정한다. 즉 갑과 마찬가지로 문화 상대주의를 극단적으로 적용하는 것에 대해 반대한다.
- ㉣ 을은 보편적 가치를 강조하는 태도가 자기 문화의 특수한 가치를 보편적인 가치인 것처럼 위장하여 다른 사회의 문화를 억압하는 태도로 이어지는 것을 경계하고 있다. 즉, 보편적 가치를 강조하는 태도가 자문화 중심주의를 옹호하는 수단이 될 수 있음을 우려하고 있다.
- ㉤ 갑과 을은 모두 문화를 이해하는 데 원칙적으로 문화 상대주의가 적용되어야 하고, 보편적 가치를 침해하는 문화에 대해 보편적 가치에 따라 평가하는 태도가 적용되어야 한다고 본다. 따라서 갑과 을은 모두 문화 상대주의와 보편적 가치를 강조하는 태도가 양립 가능하다고 본다.

감각 있는 풀이 TIP

이 문항은 문화 상대주의와 보편적 가치의 긴장 관계를 묻는 대표적인 융합 사고형 문제이다. 문항의 핵심은 갑과 을이 문화 상대주의와 보편적 가치를 존중하면서도 둘 중 어디에 더 무게를 두고 있는지 판단하는 것이다. 갑은 인권과 같은 보편적 가치를 더 우선시하며, 문화 상대주의가 그것을 침해해서는 안 된다고 주장한다. 반면 을은 문화 상대주의의 입장에서 자문화 중심주의에 빠지지 않도록 경계하며 다른 문화의 고유한 의미를 인정하자고 강조한다. 따라서 갑과 을 모두 보편성과 상대성을 동시에 고려하고 있으나 강조점이 각각 다를 것을 간파하는 것이 이 문항의 핵심 포인트이다.

07 다문화 사회의 이민자 정책

같은 용광로 정책, 이른 샐러드 볼 정책에 근거하여 다문화 사회를 바라보고 있다.

[선지 분석]

- ⓧ 갑과 을 모두 새로운 문화의 창조에 대해 언급하지 않는다.
- ② 갑은 문화의 차이를 제거하여 모두가 하나의 문화로 동화될 때 진정한 사회 통합이 가능하다는 입장이다. 을은 이주민 문화가 갖는 차이점을 인정하고 존중할 때 진정한 사회 통합이 가능하다는 입장이다.
- ⓧ 갑과 을 모두 긍정의 대답을 할 질문으로, 토론의 쟁점으로 적절하지 않다.
- ⓧ 갑과 을 모두 문화에 대한 평가를 언급하지 않는다.
- ⓧ 갑과 을 모두 주류 문화와 다른 문화를 가진 이주민의 입국을 제한해야 한다고 주장한다고 볼 수 없다.

고득점을 위한 핵심 개념

다문화 사회의 이민자 정책과 캐나다의 모자이크 정책

다문화 사회의 이민자 정책	용광로 정책	용광로에 들어간 여러 가지 광석이 한 덩어리가 되듯 한 사회 내의 다양한 문화를 동질적인 문화적 정체성을 갖는 문화로 만들려는 정책 ㉠ 중국 정부는 한족 중심의 정책을 펼치며 중국 내 소수 민족의 문화를 전체에 융합시키려고 함.
	샐러드 볼 정책	본연의 재료가 유지되면서 조화를 이루는 샐러드처럼 다양한 문화가 각각의 문화적 정체성을 유지하면서도 조화를 이루는 문화를 만들려는 정책 ㉡ 미국은 세계 각국에서 온 이민자들이 자신의 문화를 유지하며 미국 특유의 문화를 만들어 냄.
캐나다의 모자이크 정책		캐나다는 1971년 세계 최초로 다문화주의를 선언하고 다양한 민족의 정체성과 문화를 인정하며 공존을 추구하는 다문화 정책을 추진

08 다문화 사회의 이민자 정책

출제 예상 포인트 다문화 사회의 이민자 정책(동화주의, 다문화주의)을 3차원 그래프(XYZ축) 형태로 시각화한 자료는 과거 기출에서 유사한 방식으로 출제된 바 있어 대학수학능력시험에서도 고난도 판단형 문항으로 출제 가능성이 높다.

갑은 동화주의, 을은 다문화주의의 관점에 해당한다. 동화주의는 이민자가 출신국의 언어, 문화, 사회적 특성을 포기하고 주류 사회의 일원이 되도록 주류 문화로 편입시켜야 한다고 본다. 다문화주의는 다른 맛을 가진 채소와 과일들이 조화를 이루어 샐러드를 만들 듯 다양한 문화가 서로 대등하게 조화를 이루어야 한다고 본다.

[선지 분석]

- ④ 동화주의와 비교해 볼 때 다문화주의는 '문화 간의 위계를 강조하는 정도'는 낮고(㉠, ㉡, ㉢, ㉣), '이민자의 고유한 정체성을 인정하는 정도'는 높으며(㉠, ㉡, ㉢, ㉣), '단일성을 기반으로 문화 통합을 강조하는 정도'는 낮다(㉢, ㉣). 따라서 이를 모두 종합하면 공통적인 ㉢이 된다.

고득점을 위한 핵심 개념

다문화 사회 정책 모델의 장단점

동화주의	• 장점: 사회 혼란과 갈등 방지, 사회적 연대감과 결속력 강화 • 한계: 주류 문화의 일방적 수용 강요
다문화주의	• 장점: 타 문화 존중, 문화 다양성 확보 • 한계: 사회적 연대감과 결속력 부족, 사회적 통합의 어려움

07

산업화와 도시화

기출 동형 문제

65쪽

01-① ⑤

01-② ①

02-① ⑤

02-② ⑤

01-① 선진국과 개발 도상국의 도시화율과 도시 인구

출제 예상 포인트 선진국과 개발 도상국의 도시화 특성을 비교할 때 지도와 도시화 특성을 나타낸 표를 제시하여 국가를 파악하고 비교하는 문제는 과거 세계지리 대학수학능력시험에서 자주 출제되었기 때문에 통합사회 대학수학능력시험에도 출제될 가능성이 높다.

지도의 국가는 유럽의 독일, 아시아의 베트남, 라틴 아메리카의 멕시코이다. 일찍부터 산업화, 도시화가 진행된 선진국은 도시화율이 높고 도시 인구 증가율이 낮다. 반면 개발 도상국은 도시화율이 선진국보다 낮지만 도시 인구 증가율이 높다. 따라서 (가)는 멕시코, (나)는 독일, (다)는 베트남이다.

[선지 분석]

- ⓧ 멕시코는 도시화율이 80.7%로 도시화 과정의 종착 단계에 있다. 도시화 초기 단계는 도시화율이 0~20% 구간을 의미한다.
- ⓧ 중주 도시화 현상은 인구가 하나의 대도시로 집중되면서 1위 도시 인구가 2위 도시 인구나 두 배 이상 차이가 나는 현상으로 주로 개발 도상국에서 나타난다. 독일은 오랜 기간 도시화가 진행되어 중주 도시화 현상이 나타나지 않는다.
- ⓧ 베트남은 세 국가 중 도시화율이 가장 낮은 국가로 1차 산업 종사자 비율이 가장 높다.
- ⓧ 개발 도상국인 멕시코는 선진국인 독일보다 1인당 국내 총생산(GDP)가 적다.
- ⑤ 독일은 도시화율이 약 77.5%로, 전체 인구의 약 4분의 3이 도시에 거주한다는 의미이다. 따라서 나머지 약 4분의 1이 촌락에 거주하므로, 도시 인구가 약 6,400만 명일 때 촌락 인구는 약 1,900만 명 정도이다. 반면 베트남은 도시화율이 약 37.3%로, 전체 인구의 약 3분의 1이 도시에 거주한다는 의미이다. 따라서 나머지 약 3분의 2가 촌락에 거주하므로, 도시 인구가 약 3,700만 명일 때 촌락 인구는 약 6,100만 명 정도이다. 독일의 촌락 인구가 베트남보다 적다.

고득점을 위한 핵심 자료

도시화 과정

초기 단계	• 인구의 대부분이 촌락에 거주하여 1차 산업 종사자 비율이 높음. • 주로 개발 도상국이 해당함.
가속화 단계	• 촌락의 인구가 도시로 이동하면서 도시화율이 급증함. • 중주 도시화 현상이 나타남. • 경제 개발이 활발한 개발 도상국이 해당함.
종착 단계	• 인구의 대부분이 도시에 거주하고, 2·3차 산업 종사자 비율이 높음. • 교외화: 도심의 과밀 해소를 위해 외곽으로 주거와 산업이 확산 • 역도시화 현상: 일부 선진국에서는 대도시권 밖으로 인구와 기능이 이동함.

감각 있는 풀이 TIP

이러한 문항을 해결하기 위해서는 도시화율과 도시 인구 증가율을 함께 분석해야 한다. 도시화율이 높다고 해서 무조건 선진국인 것은 아니다. 도시화율은 높지만 도시 인구 증가율이 높다면 일찍부터 산업화된 국가가 아니라는 것을 반드시 알아야 한다.

01-2 선진국과 개발 도상국의 도시화율과 도시 인구

출제 예상 포인트 선진국과 개발 도상국의 도시화율을 제시하고 국가의 특징을 묻는 문항이 자주 출제되고 있으며, 대학수학능력 시험에 출제될 가능성이 높다. 수능 예시 문항과 전국연합학력평가에서도 자주 등장하는 자료이므로 두 지역의 특징을 비교하여 알아 두어야 한다.

1950년에 도시화율이 가장 높고, 2020년에도 도시화율도 가장 높은 (다)는 에스파냐이다. 반면, 1950년 도시화율이 가장 낮고, 2020년 도시화율도 가장 낮은 (가)는 탄자니아이다. 따라서 (나)는 콜롬비아이다.

[선지 분석]

- ㉠ 탄자니아가 콜롬비아보다 1950년 도시화율이 낮은 것으로 보아 도시화의 가속화 진입 시기가 늦다.
- ㉡ 1950년에 탄자니아의 총인구 7,6백만 명에서 7.3%가 도시에 거주하고, 콜롬비아의 총인구 11,5백만 명 중 32%가 도시에 거주하므로 콜롬비아가 탄자니아보다 1950년 도시 인구가 많다.
- ㉢ 에스파냐는 탄자니아보다 도시화율이 높아 도시에 거주하는 사람이 많으므로, 탄자니아보다 1차 산업 종사자 비율이 낮다.
- ㉣ 2020년 탄자니아의 도시화율은 34%로 50%를 넘지 않기 때문에 총락 인구가 도시 인구보다 많다.

02-1 선진국과 개발 도상국의 도시화

출제 예상 포인트 선진국과 개발 도상국의 도시와 총락의 인구 특징을 제시하고 해당 국가의 특징을 묻는 문항이 자주 출제되고 있다. 수능 예시 문항과 전국연합학력평가에서도 자주 등장하는 유형이므로 선진국과 개발 도상국의 도시화율과 인구 특성을 함께 알아 두어야 한다.

산업화와 도시화가 진행되면서 도시 인구는 지속적으로 증가하고 총락 인구는 정체 및 감소한다. 따라서 지속적으로 증가하는 (가)는 도시, (나)는 총락이다. 선진국이 많은 앵글로아메리카, 유럽, 오세아니아는 도시화율이 높지만, 개발 도상국이 많은 아프리카, 아시아는 상대적으로 도시화율이 낮다. 따라서 총락 인구 비중이 가장 높은 A는 아프리카, 도시 인구 비중이 높은 C는 유럽, 나머지 B는 아시아이다.

[선지 분석]

- ㉠ (가)는 도시, (나)는 총락이다.
- ㉡ 2020년 총락 인구가 약 30억 명, 도시 인구가 약 45억 명 이상으로 도시 인구가 더 많다.
- ㉢ 최상위 세계 도시는 영국의 런던, 미국의 뉴욕, 일본의 도쿄이다. 아프리카에는 최상위 계층의 도시가 없다.
- ㉣ 산업화와 도시화가 최근에 진행된 아시아는 도시화의 역사가 긴 유럽보다 도시 거주 인구 비율이 적어 도시화율이 낮다.
- ㉤ 유럽은 아프리카보다 도시 거주 인구 비율이 높아 3차 산업 종사자 비율이 높다.

고득점을 위한 핵심 자료

지역(대륙)별 도시화율 비교

앵글로아메리카 > 라틴 아메리카 > 유럽 > 오세아니아 > 아시아 > 아프리카

지형과 기후 특징으로 다른 대륙에 비해 도시화율이 높아.

감각 있는 풀이 TIP

두 선진국 캐나다와 미국만 포함하는 앵글로아메리카의 도시화율이 가장 높다. 그러나 다음으로 도시화율이 높은 대륙은 선진국이 많은 유럽이나 오세아니아가 아니라 라틴 아메리카라는 사실을 반드시 알고 있어야 한다.

02-2 선진국과 개발 도상국의 도시화율과 유소년층 비율

(가)는 산업화와 도시화의 시작 시기가 늦어 도시화율이 낮고, 세계에서 인구가 가장 많으며 유소년층 비율이 높은 인도이다. (나), (다)는 미국과 브라질 중 하나인데, (나)는 도시화율이 두 번째로 높지만 유소년층 비율이 가장 낮은 미국이다. 따라서 (다)는 유소년층 인구 비율이 미국보다 높고, 도시화율이 가장 높은 브라질이다. 브라질의 도시화율이 높은 이유는 기후와 지형적 조건 때문이다. 열대 기후로 열대 우림이 넓게 분포하기 때문에 내륙보다는 해안 지역에 도시가 발달하고, 해안가를 중심으로 인구와 산업이 집중되면서 도시화율이 매우 높아졌다.

[선지 분석]

- ㉠ 인도는 남부 아시아에 위치한다.
- ㉡ 노년 부양비 공식은 '노년 부양비 = $\frac{\text{노년층 인구}}{\text{청장년층 인구}} \times 100$ '으로, 노년층 인구에 비례하고 청장년층 인구에 반비례한다. 인도는 출생률이 높아 유소년층 비율이 높으며, 미국과 비교하였을 때 노년 부양비가 낮다.
- ㉢ 미국은 브라질보다 1인당 국내 총생산(GDP)이 많다.
- ㉣ 총인구는 인도 > 미국 > 브라질 순으로 많다.
- ㉤ 선진국일수록 3차 산업(서비스업)의 비중이 높다. 따라서 미국의 서비스업 종사자 비율이 가장 높다.

감각 있는 풀이 TIP

선진국이라고 해서 무조건 도시화율이 가장 높은 것은 아니다. 라틴 아메리카의 브라질, 우루과이, 아르헨티나 등의 국가는 유럽이나 미국보다 도시화율이 높은 경우가 있다. 따라서 자료에 제시되는 다른 요소를 함께 분석한 후 판단해야 한다.

수능 기보 문제

66~67쪽

- 01 ④ 02 ③ 03 ② 04 ③ 05 ④ 06 ④
07 ④ 08 ④

01 우리나라 도시화율과 산업 구조

우리나라는 1차 산업 중심에서 2·3차 산업 중심으로 변화되었고, 1990년 이후 도시화 과정은 도시화율 80% 이상으로 종착 단계에 이르렀다. 1970년부터 도시 인구가 총락 인구보다 많아졌다.

[선지 분석]

- ㉠ 1970년에는 도시화율이 50.2%로 도시 인구가 총락 인구보다 많아지기 시작하였다.
- ㉡ 우리나라는 과거 농업 등의 1차 산업 중심에서 공업과 서비스업 등의 2·3차 산업 중심으로 변화하였다.

- ✕ 1990년 우리나라의 도시화율은 82.7%로 도시화 과정 중 중착 단계에 해당한다.
- ㉔ 2022년 도시화율이 91.3%로, 이는 전체 인구 중 91.3%가 도시에 거주함을 의미한다.

02 지역(대륙)별 도시화율

출제 예상 포인트 지역(대륙)별 도시화율을 통해 선진국이 많은 대륙과 개발 도상국이 많은 대륙의 차이를 인구 구조와 통합하여 선지를 구성하였다. 이는 기존 세계지리 대학수학능력시험에서 자주 출제되었으므로 통합사회에서도 변별 문항으로 대학수학능력시험에 출제될 가능성이 높다.

세계 평균보다 낮은 지역(대륙)은 아시아와 아프리카이며, 아시아가 아프리카보다 높으므로 A는 아시아, C는 아프리카이다. 세계 평균보다 높지만, 앵글로아메리카와 라틴 아메리카보다 낮은 B는 유럽이다.

[선지 분석]

- ① 최상위 세계 도시는 영국의 런던, 미국의 뉴욕, 일본의 도쿄이다. 아시아에는 1개의 최상위 세계 도시가 분포하지만 아프리카에는 없으므로 아시아는 아프리카보다 최상위 계층의 도시가 많다.
- ② 유럽은 아프리카보다 유소년층 비중이 낮고 노년층 비중이 높다. 노령화 지수는 유소년층 대비 노년층 인구의 비율이므로 유럽은 아프리카보다 노령화 지수가 높다.
- ✕ 2022년 도시화율은 아시아는 60%, 유럽은 75% 정도로 유럽이 훨씬 높다. 그러나 아시아의 인구수가 약 45억 명, 유럽의 인구수가 약 8억 명이므로 도시 거주 인구수는 아시아가 약 27억 명, 유럽은 약 6억 명으로 아시아의 도시 거주 인구가 유럽보다 많다.
- ④ 2022년 세계 평균 도시화율이 50% 이상이므로 세계 인구의 절반 이상이 도시에 거주한다.
- ⑤ 유럽, 앵글로아메리카, 오세아니아 등 산업화 과정을 일찍 시작한 대륙에서 도시화율이 대체로 높다. 이와 별개로 라틴 아메리카는 지형과 기후의 영향으로 도시화율이 높다.

고득점을 위한 핵심 자료

노령화 지수와 노년 인구 부양비

노령화 지수	유소년층 인구 대비 노년층 인구의 비율을 의미함. $\frac{\text{노년층 인구}}{\text{유소년층 인구}} \times 100$
노년 인구 부양비	생산 가능 인구 대비 노년층 인구의 비율을 의미함. $\frac{\text{노년층 인구}}{\text{생산 가능 인구}} \times 100$

03 국가별 도시화율 변화와 산업별 인구 구성

출제 예상 포인트 여러 국가의 도시화율을 비교하면서 선진국과 개발 도상국의 특징을 묻는 문항이다. 지도에 제시된 국가가 어떤 국가인지도 파악해야 하고, 선진국과 개발 도상국의 산업 구조도 이해를 해야 하는 문항으로 다소 난도 높은 문항으로 출제 가능성이 높으므로 문제 풀이 방식을 익혀야 한다.

지도에 표시된 국가는 일본, 타이, 네팔이다. 도시화율 변화 그래프에서 도시화율이 가장 높은 순서대로 (가)는 일본, (나)는 타이, (다)는 네팔이다. 국내 총생산 비율에서 농업·임업 비율이 가장 높은

순서대로 C는 네팔, A는 타이, B는 일본이다.

[선지 분석]

- ✕ 세 국가 중 총인구가 가장 많은 국가는 일본이다.
- ② 도시화 가속화 단계에 해당하는 타이는 중착 단계에 해당하는 일본보다 2000~2022년 도시화율 증가 폭이 크다.
- ✕ 2022년의 도시화율을 살펴보면, 일본은 약 90%가 넘고 네팔은 약 20%로, 일본이 네팔보다 높다.
- ✕ 제조업 비율이 약 27%인 타이는 제조업 비율이 약 5%인 네팔보다 연간 제조업 생산액이 많다.
- ✕ (가)는 B, (나)는 A, (다)는 C이다.

고득점을 위한 핵심 자료

선진국과 개발 도상국의 도시화율 차이

선진국	<ul style="list-style-type: none"> 도시 발달의 역사가 깊음. 오랫동안 높은 도시화율을 보임. 산업별 인구 구성에서 3차 산업의 비율이 가장 높음.
개발 도상국	<ul style="list-style-type: none"> 도시화율이 급격하게 증가함. 1·2차 산업의 비율이 선진국에 비해 대체로 높음.

04 선진국과 개발 도상국의 도시화율

출제 예상 포인트 여러 국가의 도시화율을 비교하면서 선진국과 개발 도상국의 특징을 묻는 문항이다. 우리나라뿐만 아니라 세계의 다양한 국가의 특징을 묻는 문항이 자주 등장하기 때문에 국가별 대략적 특징을 알아 두어야 한다.

(가)는 일찍부터 도시화율이 높은 영국이며, (나)는 빠르게 도시화를 이룬 멕시코, (다)는 경제 발전 정도가 낮은 말리이다.

[선지 분석]

- ✕ 영국은 유럽에 위치한다.
- ✕ 멕시코는 1990년 도시화율이 약 70%로 가속화 단계에 있다. 대체로 도시화율이 0~20%일때 초기 단계에 있다고 본다.
- ③ 말리는 2020년 도시화율이 약 45%이다. 도시 거주 인구가 전체 인구의 약 45%이므로 촌락 인구가 도시 인구보다 많다.
- ✕ 영국은 멕시코보다 산업화가 시작된 시기가 이른다.
- ✕ 말리는 영국보다 3차 산업 종사자 비율이 낮다.

감각 있는 풀이 Tip

지도에 표시된 영국이나 멕시코의 위치는 반드시 알아 두어야 한다. 다만, 아프리카의 국가는 국가명은 몰라도 개발 도상국이라는 사실 정도는 파악하고 있으면 문제를 풀 수 있다.

05 산업화와 도시화에 따른 변화

산업화와 도시화로 도시가 성장하면서 도시 내부는 접근성에 따라 업무·상업·주거·공업 지역 등으로 분화된다. 이와 동시에 도시에 많은 사람과 기능이 집중됨에 따라 공간을 효율적으로 사용하기 위해 고층 건물이 밀집하면서 토지는 더욱 집약적으로 이용된다. 생활양식으로는 공동체보다는 개인의 자유와 권리를 중시하는 개인주의 가치관이 확산하였으며, 도시인들은 효율성, 합리성, 자율성을 추구하며, 주로 2차적 인간관계를 맺는다. 이러한 도시성은 산업화와 도시화가 진행되면서 주변 지역으로 점차 확산한다.

[선지 분석]

- ㉠ 도시화가 진행되면서 개인의 자유와 권리를 중시하는 개인주의 가치관이 확산하였다.
- ✕ 산업화로 새로운 직업이 많이 생기고, 같은 직종 내에서도 직업이 세분화, 전문화되면서 도시에 사는 사람들은 다양한 직업을 선택할 수 있게 되었다.
- ㉡ 도시인은 효율성, 합리성, 자율성을 추구하며 주로 2차적 인간관계를 맺는다.
- ㉢ 도시가 성장하면서 접근성에 따라 상업, 공업, 주거 등의 기능이 분화된다.

고득점을 위한 핵심 자료

산업화 및 도시화에 따른 생활양식의 변화

직업의 분화	<ul style="list-style-type: none"> 산업화로 새로운 직업이 많이 생김. 같은 직종 내에서도 직업이 세분화, 전문화되면서 도시에 사는 사람들은 다양한 직업을 선택할 수 있게 됨.
개인주의적 가치관의 확산	<ul style="list-style-type: none"> 산업화와 도시화로 가족은 점차 핵가족화되었고, 1인 가구의 비율도 증가함. 공동체보다는 개인의 자유와 권리를 중시하는 개인주의 가치관이 확산함.
도시성의 확산	도시에는 가치관, 소득 수준 등이 서로 다른 사람들이 함께 생활하면서 삶의 방식도 다양해짐.

06 산업화와 도시화에 따른 생활공간 및 생활양식의 변화

산업화와 도시화가 이루어지면서 과거 염전과 갯벌이 간척되어 산업 단지가 조성되었으며 농경지와 삼림 지역이 주택 단지로 변화하였다.

[선지 분석]

- ㉠ 공장, 주택 단지 등이 건설된 것으로 보아 산업화와 도시화가 이루어졌다.
- ㉡ 염전, 갯벌 등이 산업 단지 및 주거지로 변화하면서 토지가 집약적으로 이용되고 있다.
- ㉢ 과거보다 직업이 세분화되고 전문화된다. 새로운 기술과 산업이 등장하면서 생산 활동에서 요구하는 노동력이 변화되어 새로운 직업이 출현하고 직업의 수가 증가하였다.
- ✕ 도시성의 확산으로 효율성과 합리성을 추구하는 사람이 늘어나고, 특정한 목적을 위해 형성된 2차적 인간관계가 많아지면서 사회적 유대감이 약해졌다.
- ㉤ 산업화와 도시화로 개인의 가치와 성취, 자유와 권리를 중요시하는 개인주의적 가치관이 확산되었다.

07 산업화와 도시화에 따른 문제점

우리나라는 산업 구조가 1차 산업에서 2·3차 산업 중심으로 변화하고, 도시화율이 90% 이상으로 총인구의 90% 이상이 도시에 거주하고 있다. 또한 대가족에서 핵가족화되면서 가구 구성원 수가 감소하고 1인 가구 비율이 지속적으로 증가하고 있다.

[선지 분석]

- ㉠ 산업 시설과 가정 등에서 오폐수, 쓰레기, 배기가스, 미세 먼지 등 다양한 오염 물질을 배출하면서 하천과 지하수가 오염되고 대기질이 악화된다.
- ✕ 산업화와 도시화에 따른 직종의 다양성은 산업화와 도시화의 문제점으로 볼 수 없다.
- ㉡ 산업화에 따른 기계화, 분업화, 자동화로 인간 소외 현상이 나타나고 1인 가구의 증가로 고독사 문제가 나타난다.
- ㉢ 도시의 한정된 공간에 인구가 밀집하면 주택이 부족해지고 집값이 상승하며, 소득 수준에 따라 주거 지역이 분리되기도 한다.

고득점을 위한 핵심 자료

산업화와 도시화에 따른 문제점

주택 및 교통 문제	<ul style="list-style-type: none"> 도시의 한정된 공간에 인구가 밀집하면 주택이 부족해지고 집값이 상승함. 자동차 증가로 교통량이 늘어나 교통 체증이 심화할 뿐만 아니라 교통사고, 소음 발생, 주차난 등의 문제도 발생함.
환경 문제	산업 시설과 가정 등에서 오폐수, 쓰레기, 배기가스, 미세 먼지 등 다양한 오염 물질을 배출하면서 하천과 지하수가 오염되고 대기질이 악화됨.
노동 간의 지역 격차	도시에 각종 시설과 자본이 집중하면서, 그 영향으로 농촌의 경제 기반이 약화되어 도시와 농촌 간의 지역 격차가 심각해짐.
인간 소외 현상	산업화에 따른 기계화, 분업화, 자동화로 인간이 생산 활동의 수단으로 전락하는 인간 소외 현상이 나타나기도 함.

08 산업화와 도시화에 따른 문제의 해결 방안

산업화와 도시화로 인한 문제를 해결하기 위해서는 지역 주민의 의견을 충분히 청취하고 국가와 지방 자치 단체가 협력하여 추진해야 한다.

[선지 분석]

- ㉠ 환경 오염 문제를 해결하기 위한 방안이다.
- ✕ 주민들의 동의를 받고 주민, 지역, 국가가 함께 재개발을 통해 낙후된 정주 환경을 개선하고, 지역 특성을 고려한 도시 재생 사업도 추진해야 한다.
- ㉡ 주민이 상호 배려하고 협력하는 공동체 문화를 조성해야 한다.
- ㉢ 산업화와 도시화로 1인 가구가 늘면서 나타나는 고독사와 사회적 고립 문제를 해결하기 위해 상담 프로그램을 확대 및 지원하는 방안이다.

감각 있는 풀이 TIP

산업화, 도시화에 따른 문제점을 파악하고 있으면 문제점을 해결하기 위한 방안도 자연스럽게 도출할 수 있다.

1등급 완성 문제

68~69쪽

01 ③ 02 ③ 03 ④ 04 ③ 05 ① 06 ③
07 ③ 08 ③

01 대륙별 도시화율과 인구 증가율

대륙별 도시화율은 미국과 캐나다가 포함된 앵글로아메리카가 가장 높고, 다음으로 라틴 아메리카, 유럽, 아시아, 아프리카 순으로 높다. 인구의 자연 증가율(출생률-사망률)은 선진국에서는 낮고 개발 도상국은 높게 나타난다. 따라서 2020년에 앵글로아메리카 다음으로 도시화율이 높으며, 인구의 자연 증가율이 높은 B는 라틴 아메리카이다. 2020년 도시화율은 높고 인구의 자연 증가율이 낮은 A는 유럽이다. 2020년 도시화율이 가장 낮고, 인구의 자연 증가율이 가장 높은 D는 아프리카이다. 나머지 C는 아시아이다.

[선지 분석]

- ✕ 유럽은 아시아보다 1차 산업 종사자 비율이 낮다.
- ㉠ 출생률이 높고 노년층 비중이 낮은 개발 도상국이 많은 아프리카는 라틴 아메리카보다 중위 연령이 낮다.

- ㉔ 선진국이 많은 유럽의 도시는 개발 도상국이 많은 아프리카의 도시보다 토지 이용의 집약도가 높다.
- ✕ 유럽은 약 50%에서 73%, 라틴 아메리카는 약 40%에서 80%, 아시아는 약 17%에서 49%, 아프리카는 약 13%에서 40%로 증가하였다. 따라서 라틴 아메리카의 도시화를 증가 폭이 가장 크다.

감각 있는 풀이 TIP

하나의 그래프에서 도시화율, 인구의 자연 증가율을 지역(대륙)별로 제시하기 때문에 많은 정보로 혼란스러울 수 있다. 이럴 때는 이름이 제시된 앵글로아메리카의 값을 통해서 그래프의 맥락을 파악할 수 있다. 예를 들어 앵글로아메리카는 1950년보다 2020년에 도시화율이 더 높으며, 인구의 자연 증가율은 감소하였다는 것을 파악하여 앵글로아메리카와 같은 방향으로 움직이는 지역(대륙)은 같은 경향의 인구 및 도시화를 변화가 있을 것이라고 유추할 수 있다.

02 지역(대륙)별 도시화를 변화

출제 예상 포인트 지역(대륙)별 도시화율과 도시 인구 모두를 알고 있어야 풀 수 있는 난도가 높은 문항으로, 변별을 위한 문항으로 대입수학능력시험에 출제될 가능성이 높다. 전국연합학력평가에서도 자주 등장하는 자료이므로 잘 알아 두어야 한다.

2022년 지역(대륙)별 도시화율은 앵글로아메리카 > 라틴 아메리카 > 유럽 > 오세아니아 > 아시아 > 아프리카 순으로 높다. 따라서 A는 라틴 아메리카, B는 유럽, C는 아프리카이다. 일찍부터 산업화가 진행되어 1950년에 도시 인구가 가장 많은 (나)가 유럽이고, 1950년 도시 인구가 가장 적은 (가)는 개발 도상국이 많은 아프리카이다. 나머지 (다)는 라틴 아메리카이다. 따라서 A는 (다), B는 (나), C는 (가)이다.

[선지 분석]

- ✕ A는 (다), B는 (나), C는 (가)이다.
- ✕ 아프리카는 1950년 도시화율이 가장 낮고 2020년에도 가장 낮다.
- ㉓ 유럽은 2020년 아시아보다 도시화율이 높다.
- ✕ 최상위 세계 도시는 영국의 런던, 미국의 뉴욕, 일본의 도쿄로 라틴 아메리카에는 최상위 세계 도시가 없다.
- ✕ 아프리카는 산업화가 일찍 이루어진 유럽보다 도시화 가속화 단계에 진입한 시기가 늦다.

감각 있는 풀이 TIP

지역(대륙)별 도시 인구 변화에서 2020년 유럽, 라틴 아메리카, 아프리카의 도시 인구가 비슷하므로 1950년과 비교하여 문제를 풀어야 한다. 1950년에 도시 인구가 가장 많은 지역(대륙)은 유럽, 도시 인구가 가장 적은 지역(대륙)은 아프리카인 것을 알아야 한다.

03 선진국과 개발 도상국의 도시화율 및 인구 구조

도시 인구와 촌락 인구를 합친 인구는 해당 국가의 총인구가 된다. 따라서 (가)~(다) 중 가장 인구가 많은 (다)는 중국이다. 영국은 도시 인구가 촌락 인구보다 많아 도시화율이 높다. 따라서 도시 인구가 촌락 인구보다 많은 (나)는 영국이고, 촌락 인구가 도시 인구보다 많은 (가)는 에티오피아이다. 연령층별 인구 비중에서 노년층 인구 비중이 가장 높은 (나)는 영국, 유소년층 비중이 가장 높은 (가)는 에티오피아이다. 나머지 (다)는 중국이다.

[선지 분석]

- ✕ 에티오피아는 촌락 인구가 도시 인구보다 많으므로 2차 산업보다 1차 산업 종사자 수가 많다.

- ㉒ 영국은 에티오피아보다 도시 인구 비중이 높으므로 도시화율이 높다.
- ✕ 중국은 영국보다 산업화에 진입한 시기가 늦다. 영국은 산업 혁명의 발상지이며, 이후 유럽으로 확산되었으므로 유럽 대륙의 산업화 시기는 다른 대륙보다 이른다.
- ㉒ 영국은 유럽, 중국은 아시아에 위치한다.

고득점을 위한 핵심 자료

선진국과 개발 도상국의 연령층별 인구 구조

선진국	<ul style="list-style-type: none"> 저출산·고령화 현상이 나타남. 유소년층 인구 비중이 낮고, 노년층 인구 비중이 높음. 방추형 인구 구조가 나타남.
개발 도상국	<ul style="list-style-type: none"> 출생률이 높음. 유소년층 인구 비중이 높고, 노년층 인구 비중이 낮음. 피라미드형 인구 구조가 나타남.

04 국가별 도시와 촌락 거주 인구 비율 변화

A는 영국, B는 말리, C는 사우디아라비아이다. (가)는 촌락 인구가 약 1,100만 명, 도시 인구가 약 900만 명으로 도시화율이 50%를 넘지 않는다. (나)는 촌락 인구 1,100만 명, 도시 인구가 약 5,600만 명으로 도시화율이 약 84%이다. (다)는 촌락 인구가 약 600만 명, 도시 인구가 약 3,000만 명으로 도시화율이 약 84%이다. 도시화율이 가장 낮은 (가)는 개발 도상국인 아프리카의 말리이다. (나), (다)는 영국과 사우디아라비아 중 각각 한 곳인데, 모두 도시화율이 84%로 비슷하지만, 인구는 영국이 사우디아라비아보다 많기 때문에 (나)는 영국이고, (다)는 사우디아라비아이다.

감각 있는 풀이 TIP

모든 국가의 인구수를 알 수는 없지만 기본적인 국가의 인구수는 알고 있는 것이 문제 풀이에 도움이 많이 된다. 세계에서 인구가 가장 많은 5개 정도 국가와 인구수는 알고 있어야 한다. 2024년 기준 인구 순위는 인도(14.4억 명) - 중국(14.2억 명) - 미국(3.4억 명) - 인도네시아(2.8억 명) - 파키스탄(2.5억 명) 순이다.

05 국가별 도시화율, 도시 인구, 총인구 비교

출제 예상 포인트 여러 국가의 도시화율을 비교하면서 선진국과 개발 도상국의 특징을 묻는 문항이다. 세 국가의 도시화율과 인구 특성을 파악해야 하는 문항으로 세계지리 대입수학능력시험에서 자주 출제된 문항이고 통합사회 대입수학능력시험에도 출제 가능성이 높다.

도시화율이 가장 높은 (가)는 독일, 도시화율이 두 번째로 높고 도시 인구가 8억 명이 넘는 (다)는 중국, 도시화율이 가장 낮은 (나)는 케냐이다.

[선지 분석]

- ㉒ 독일은 케냐보다 1차 산업 종사자 비율이 낮으며, 3차 산업 종사자 비율이 높다.
- ㉒ 일찍부터 산업화된 독일은 중국보다 도시화 가속화 단계에 진입한 시기가 이른다.
- ✕ 총인구 약 5천만 명인 케냐의 도시화율은 약 30%로 전체 인구의 70%가 촌락에 거주하고, 총인구 약 14억 명인 중국의 도시화율은 약 60%로 전체 인구의 40%가 촌락에 거주한다. 따라서 총인구에 촌락 거주 인구 비율을 곱하면 중국의 촌락 인구가 케냐의 촌락 인구보다 월등히 많다.
- ✕ (가)는 유럽, (나)는 아프리카, (다)는 아시아에 위치한다.

06 산업화와 도시화에 따른 생활공간 및 생활양식의 변화

임야와 논밭의 면적이 감소하고 대지와 도로의 면적이 증가한 것으로 보아 산업화, 도시화가 이루어졌다는 것을 알 수 있다. 산업화와 도시화로 인해 도시의 제한된 공간을 효율적으로 이용하기 위해 토지 이용의 집약도가 높아지고, 기능들이 점차 분화된다.

[선지 분석]

- ㉠ 많은 사람과 기능이 집중됨에 따라 공간을 효율적으로 사용하기 위해 고층 건물이 밀집하면서 토지는 더욱 집약적으로 이용된다.
- ㉡ 도시가 성장하면서 도시 내부는 접근성에 따라 업무·상업·주거·공업 지역 등으로 분화된다.
- ㉢ 도시화가 진행되면서 개인적 가치가 중요해지고, 개인주의적 가치관이 증가한다.
- ㉣ 산업화로 새로운 직업이 많이 생기고, 같은 직종 내에서도 직업이 세분화·전문화되면서 직업이 다양해지고 전문성이 증가하였다.

07 산업화와 도시화에 따른 생활양식의 변화

1980년 항공 사진에는 삼림의 면적이 비교적 넓게 나타나는데 2022년 항공 사진에는 기존 삼림이었던 지역까지 시가지가 확장된 모습이 보인다. 산업화와 도시화가 진행되면서 촌락 지역이 도시로 변모하였음을 알 수 있다.

[선지 분석]

- ㉠ 2차적 인간관계를 맺는 사람이 많아지면 사회적 유대감이 약해진다.
- ㉡ 도시성의 확산으로 효율성과 합리성을 추구하는 사람들이 늘어나면 2차적 인간관계를 맺는 사람들이 많아진다.
- ㉢ 산업화와 도시화가 진행되면서 중심 산업이 1차 산업에서 2·3차 산업으로 변화한다.
- ㉣ 산업화와 도시화로 개인의 가치와 성취, 자유와 권리를 중요시하는 개인주의적 가치관이 확산된다.

08 도시화에 따른 문제점

도시화가 진행되면서 도시의 생활공간은 콘크리트 건물, 아스팔트 포장 등과 같은 인공 구조물로 덮이게 된다. 이처럼 인공 구조물로 덮여 있는 면적을 불투수 면적이라 하는데, 도시화가 진행되면 그 면적이 점차 늘어난다. 불투수 면적이 차지하는 비율이 높을수록 강수 현상이 나타났을 때 빗물이 토양층에 잘 흡수되지 못하고 지표면 위를 흐르다가 도시 내 하천으로 빠르게 흘러든다. 따라서 (가)는 짧은 시간에 하천의 수위가 올라가고 있으므로 도시화 이후의 하천 수위 변화이고, (나)는 하천 수위가 천천히 올라갔다가 천천히 내려가므로 도시화 이전의 하천 수위 변화이다.

[선지 분석]

- ㉠ 도시화 이후 하천 수위 변화 속도가 빨라졌다.
- ㉡ 침수 피해는 짧은 시간 동안 하천 수위가 빠르게 올라가는 (가)일 때 크게 나타난다.
- ㉢ 하천 수위가 빠르게 올라간다는 것은 불투수 면적이 넓어 지표의 빗물이 잘 스며들지 못하기 때문이다.
- ㉣ (가)는 도시화 이후, (나)는 도시화 이전의 하천 수위 변화이다.

감각 있는 풀이 TIP

짧은 시간에 하천 수위가 높아지면 침수의 위험이 커진다는 사실과 도시화 과정에서 불투수 면적이 넓어진다는 것을 알아야 한다.

08

교통·통신 및 과학기술의 발달과 지역의 공간 변화

73쪽

기출 동형 문제

01-① ④

01-② ③

02-① ①

02-② ③

01-① 교통의 발달과 정보화에 따른 변화

교통의 발달과 정보화로 인해 긍정적·부정적인 변화가 모두 나타나고 있다. 교통의 발달로 인해 개인의 일상생활 범위가 확대되었지만, 도로 건설로 인해 야생 동물의 이동 통로가 단절되는 경우도 발생한다. 정보화로 인해 전자 상거래가 활성화되면서 시·공간적 제약이 줄어들었지만, 정보화 기기의 접근이 어려운 노년층, 저소득층, 농민층에서 정보 격차가 발생하기도 한다.

[선지 분석]

- ㉠ 교통의 발달은 더 넓은 공간 범위까지 이동할 수 있게 하여 개인의 일상생활 범위를 확대시켰다.
- ㉡ 생태환경 변화의 대표적인 사례로 교통로 건설에 따른 야생 동물의 이동 통로 단절을 이야기할 수 있다. 이를 해결하기 위해 생태 통로를 건설하거나 대체 서식지를 조성하고 있다.
- ㉢ 전자 상거래 활성화로 인해 소비 활동의 공간적 제약이 줄어들었다.
- ㉣ 정보 격차로 인해 계층 간의 격차를 더욱 확대하는 문제가 나타날 수 있다. 특히, 저소득층, 노년층, 농민층과 같이 정보화 기기 접근이 어려운 층에서 발생 가능성이 높다.

고득점을 위한 핵심 자료

교통·통신 및 정보화 발달에 따른 문제점

지역 격차 및 정보 격차	• 교통의 발달한 지역과 그렇지 못한 지역 간의 빨대 효과가 나타나 지역 간 격차가 더 커지는 문제가 발생함. • 개인마다 정보 기술에 대한 접근성과 활용 역량의 차이로 인해 정보 격차에 따른 사회 문제가 나타남.
생태계의 교란	• 새로운 교통망을 건설하는 과정에서 동식물의 서식지가 고립되거나 파괴됨. • 교통수단에서 배출되는 오염 물질은 대기 환경의 질을 떨어뜨릴 수 있음. • 외래 생물종 유입에 따른 생태환경 교란이 심각해짐.
노동 시장의 양극화	• 지식 및 기술 집약적인 직종의 중요성이 더욱 커짐. • 기존 제조업에 고용된 많은 노동력이 기계로 대체됨.

감각 있는 풀이 TIP

이러한 문항을 해결하기 위해서는 교통과 정보화의 발달에 따른 변화와 문제점을 함께 이해해야 한다.

01-② 교통 발달에 따른 변화

출제 예상 포인트 교통 발달에 따라 나타날 수 있는 변화를 반드시 이해해야 한다. 교통 발달로 접근성이 개선된 지역과 그렇지 않은 지역을 구분하여 알아 두어야 한다.

도로나 철도, 정보 통신망과 같은 교통·통신 기술이 발달한 지역은 다른 지역과의 연결성이 높아지면서 인구가 집중되어 지역 경제가 활성화될 가능성이 커진다. 반대로 그렇지 못한 지역은 다른 지역

과의 연결성이 낮아지면서 인구 유출로 지역 경제가 침체할 가능성이 커진다. 또한 새로운 도로나 철도 노선이 만들어지면 접근성이 좋은 대도시 지역이 사람을 끌어들이면서 지역 간 격차가 더 커지는 문제가 발생하기도 하는데, 이를 빨대 효과라 한다.

[선지 분석]

- ✗ 서울로의 접근성이 좋아지면서 고차 의료 서비스를 제공하는 서울의 대학 병원 기능이 강화된다.
- ㉠ 교통 발달에 따라 물류의 평균 이동 시간이 감소한다.
- ㉡ 교통이 발달하면서 서울-춘천 간 통근·통학 비율은 증가한다.
- ✗ 고속 철도 건설은 인간 중심주의 자연관에서 비롯된 것이다.

감각 있는 풀이 Tip

주의해야 할 점은 교통로 발달에 따라 모든 지역이 발달하는 것이 아니라 교통로로 연결된 두 도시로 각종 기능이 집중되면서(빨대 효과) 기존의 다른 지역은 쇠퇴하게 되는 현상이 나타난다는 것을 인지하고 있어야 한다.

02-① 정보화에 따른 문제점과 해결 방안

디지털 기기 및 정보의 소유와 접근성, 역량 측면에서 일반 국민과 정보 취약 계층 간에 차이가 나타나는 정보 격차가 심화하고 있다. 정보 격차는 소득 불평등으로 이어져 경제적·사회적·문화적 격차를 심화하는 요인이 되기도 한다. 정보 취약 계층의 디지털 정보화 접근 수준은 정부의 디지털 기기 및 서비스 보급 정책으로 많이 개선되었으나 역량 수준은 여전히 낮다. 정부에서 정보 취약 계층에게 정보화 교육을 제공해야 하며, 쉬운 언어와 디자인 등을 사용하여 누구나 쉽게 쓸 수 있는 디지털 환경을 만들도록 노력해야 한다.

[선지 분석]

- ㉠ 정보 통신 기기, 역량 등의 문제로 정보 격차 문제에 대한 자료이다.
- ✗ 사생활 침해는 개인의 동의 없이 사생활 정보를 노출하거나 악용하는 문제로 자료와 거리가 멀다.
- ✗ 저작권 침해는 다른 사람의 저작권을 허가 없이 함부로 사용하면서 나타나는 문제로 자료와 거리가 멀다.
- ✗ 인터넷 중독은 인터넷을 과도하게 사용하는 문제로 자료와 거리가 멀다.
- ✗ 허위 정보 유포는 부정확한 정보를 유포하면서 나타나는 문제이다.

고득점을 위한 핵심 자료

정보 격차 문제

우리나라 정보 격차 현황을 살펴보면, 일반 국민의 수준을 100으로 놓았을 때 장애인, 저소득층, 고령층, 농어민층은 정보 취약 계층으로 100보다 낮다. 이 중에서 고령층의 정보화 기기 접근과 역량, 활용도 등이 가장 낮다.

02-② 정보화에 따른 변화와 문제점

출제 예상 포인트 정보화에 따른 변화로 인해 나타날 수 있는 문제점을 묻는 문항은 교통 발달과 더불어 수능 예시 문항과 전국 연합학력평가에서도 자주 등장하는 자료이다.

㉠은 정보 사회, ㉡은 산업 사회이다. ㉠은 ㉡보다 정보 통신이 발달하여 재택근무 비중이 증가하면서(A, B, C), 시·공간적 제약이 약화하였다(C, E). 그러나 디지털 기기 및 정보의 소유와 접근성, 역량 측면에서 일반 국민과 정보 취약 계층 간에 차이가 나타나는 정보 격차가 심화하고 있다(B, C, E). 따라서 모든 조건을 만족하는 것은 C이다.

감각 있는 풀이 Tip

정보화라고 해서 무조건 긍정적인 측면만 있는 것이 아니라는 사실을 인지해야 한다. 정보화가 진행되면서 누가 얼마나 더 많은 정보를 쉽게 얻고 빠르게 소유하느냐에 따라 소득의 기준이 될 수 있으며, 정보 격차는 소득 불평등으로 이어져 경제적, 사회적, 문화적 격차를 심화하는 요인이 된다는 사실을 알아 두어야 한다.

수능 기본 문제

74~77쪽

01 ②	02 ④	03 ②	04 ③	05 ④	06 ①
07 ⑤	08 ⑤	09 ⑤	10 ①	11 ⑤	12 ②
13 ③	14 ④	15 ④	16 ⑤		

01 교통 발달에 따른 변화

고속 철도(KTX) 강릉선 개통에 따라 이동 시간이 단축되면서 서울로의 통학·통근이 확대되면서 일상생활의 범위가 넓어졌다. 이동 시간의 단축과 이동의 편리함으로 강원 지역을 찾는 관광객도 증가하여 지역 경제가 활성화되었다.

[선지 분석]

- ㉠ 새로운 도로나 철도 노선이 만들어지면 접근성이 좋은 대도시 지역이 사람을 끌어들이면서 지역 간 격차가 더 커지는 문제가 발생하기도 한다.
- ✗ 철도 노선이 지나가는 지역 중 역과 인접한 지역에서는 인구가 증가하고 기능이 집중될 수 있지만, 역과 먼 지역은 인구가 감소할 수 있다.
- ㉡ 고속 철도(KTX)의 발달로 강원 지역을 찾는 관광객이 증가하여 지역 경제 활성화에 도움이 된다.
- ✗ 동물의 이동 경로가 단절되면서 자연 중심주의 자연관의 중요성이 주목 받았다.

02 교통·통신 발달에 따른 변화

출제 예상 포인트 자료는 교통·통신의 발달을 한눈으로 시각화하여 시·공간의 수렴화를 제시한 것이다. 지리에서 교통 발달에서는 반드시 언급되는 자료이고, 자주 등장하기 때문에 반드시 알아 두어야 한다.

그림은 교통·통신의 발달에 따른 시·공간의 수렴화를 나타낸 것으로, (가)는 우마차 및 범선 시대, (나)는 비행기 시대이다. (나) 시대는 (가) 시대보다 교통이 발달하여 시·공간의 제약이 줄어들었고(C, D, E), 생활권의 범위가 확대되었으며(B, D, E), 물류의 이동량이 증가하였다(A, C, D). 따라서 모든 조건을 만족하는 것은 D이다.

03 교통·통신 발달에 따른 변화

(가) 시기는 수도권역의 철도 노선이 발달하기 이전인 1980년이고, (나) 시기는 수도권역의 철도 노선이 발달한 2020년이다. (나) 시기는 (가) 시기에 비해 교통의 발달 정도가 높고(A, B, C), 생활권의 범위가 넓으며(B, C, E), 생태계 파괴 정도가 심하다(A, B, D). 따라서 모든 조건을 만족하는 것은 B이다.

04 교통·통신 발달로 나타나는 생활양식의 변화

교통·통신의 발달로 생활공간이 변화하면서 생활양식에도 변화가 나타났다. 국제 교역의 증가로 소비자는 다른 국가에서 생산된 다

양한 상품을 쉽게 구매할 수 있게 되었고, 전화나 인터넷, 스마트폰 등을 이용한 전자 상거래가 발달하여 일정한 점포 없이 생산자와 소비자가 직접 상품을 거래할 수 있는 무점포 상점이 증가하였다. 이로 인해 대면 접촉보다는 비대면 접촉이 증가하였다. 또한, 여가 활동과 문화 교류의 기회도 증가하였다. 항공 교통을 이용하여 국내의 지역이나 해외로 여행을 갈 기회가 많아졌고, 다른 문화를 쉽게 접할 수 있게 되었다.

[선지 분석]

- ✕ 교통·통신의 발달로 개인 정보 유출에 대한 사생활 침해가 증가한 것은 위 그래프를 통해 알 수 없다.
- ㉠ 2010년대에 내국인 해외여행객 수가 빠르게 증가하였다.
- ㉡ 교통·통신이 발달하면서 인터넷 쇼핑, 여가 활동 증가 등과 같은 생활양식의 변화가 나타나고 있다.
- ✕ 인터넷 쇼핑 시장이 커지면서 대면 접촉의 빈도가 감소하였다.

05 교통 발달에 따른 변화

영국과 프랑스 간의 긴 해협 터널이 개통되면서 영국, 프랑스, 벨기에 모두 생활권이 확대되었고, 국가 간의 접근성이 향상되었다. 과거 특급 열차와 고속 페리보다 시간이 단축되면서 이용객도 많아졌다. 그러나 고속 철도의 발달은 런던, 브뤼셀, 파리와 같은 대도시 외 다른 지역까지 경제적 파급 효과가 미치지 못하였다.

[선지 분석]

- ㉠ 교통의 발달로 인해 영국, 프랑스, 벨기에 모두 생활권이 확대되었다.
- ㉡ 해협 터널 완공으로 영국과 프랑스 간의 접근성이 좋아졌다.
- ✕ 빨대 효과가 나타나 고속 철도 주변의 도시들 모두 경제가 활성화되지 못하고 오히려 쇠퇴하는 경우가 발생하였다.
- ㉢ 런던과 브뤼셀 간 이동 소요 시간이 기존의 특급 열차와 고속 페리보다 짧아졌다.

고득점을 위한 핵심 자료

교통 발달에 따른 변화

일상생활 범위의 확대	교통·통신의 발달로 이동에 필요한 시간과 비용이 감소하면서 지역 간 접근성이 향상되어 통근과 쇼핑 등 일상생활이 이루어지는 범위가 넓어짐.
경제활동 범위의 확대	항공기와 선박 등 교통수단의 발달로 상품과 노동력이 국경을 넘나들며 이동할 수 있게 됨.
여가 공간의 확대	기차와 항공기 등을 이용하여 신속한 장거리 이동이 가능해 국내외 여행이 증가함.
생태환경의 변화	도로와 철도 등의 교통망과 통신 시설을 건설하는 과정에서 생태계가 파괴되고 동식물의 서식 환경이 악화되기도 함.

06 교통·통신 발달에 따른 문제

교통·통신의 발달로 생활이 편리해졌지만, 생활공간이 확대되고 생활양식이 변화하는 과정에서 여러 문제가 발생하기도 한다. 교통·통신이 발달한 지역과 그렇지 않은 지역 간의 지역 격차가 발생한다. 또한 새로운 교통로 건설 과정에서 생태환경이 파괴되고, 세계 여러 국가 간의 교류가 확대되면서 외래종의 유입과 감염병의 빠른 확산이 나타나기도 한다.

[선지 분석]

- ㉠ 갑, 을, 병의 공통적인 주제는 교통 발달에 따른 새로운 사회 문제이다.
- ✕ 갑, 을, 병 발표는 관광 산업을 통한 지역 경제 활성화와는 거리가 멀다.

✕ 갑은 교통 발달에 따른 지역 격차를 말하고 있다.

✕ 수은 교통 발달로 인한 외래 생물종 유입은 을의 발표이다.

✕ 교통 발달에 따른 지역 경제에 미치는 영향에 대한 내용은 갑의 발표이다.

고득점을 위한 핵심 자료

교통 발달에 따른 문제점

지역 격차 확대	교통수단이 발달하고 도로망이 잘 구축되어 접근성이 높은 지역과 그렇지 않은 지역 간의 격차가 발생함.
감염병 확산	교통이 발달하면서 세계 각지로 사람들의 신속한 이동이 가능해져 감염병의 확산이 더 빠르게 나타남.
생태환경 파괴	• 선박과 항공기 등을 통해 사람과 물자의 이동이 활발해지면서 해외에서 유입된 동식물이 토종 동식물의 생태계를 위협하는 생태환경 교란이 발생함. • 새로운 도로 건설 시 동식물의 서식지가 파괴됨.

07 교통 발달에 따른 생활공간과 생활양식의 변화

제시된 글은 고속 철도 강릉선의 개통에 따른 긍정적 측면과 부정적 측면을 제시하고 있다. 고속 철도 강릉선은 교통의 발달에 따라 강릉까지의 소요 시간이 단축되었으며 접근성이 향상되면서 생활권의 범위가 확대되었다. 그러나 고속 철도역이 위치한 지역은 상권이 발달하고 관광객이 증가하였지만, 과거의 버스 노선이나 고속 철도가 지나지 않는 지역에서는 사람들이 빠져나가고 상권이 크게 위축되는 빨대 효과가 나타나고 있다.

[선지 분석]

- ✕ 제시된 글은 고속 철도 강릉선 개통에 따른 긍정적, 부정적 효과를 모두 언급하고 있다. 따라서 ㉠에는 '고속 철도 강릉선 개통에 따른 양면성'이 적절하다.
- ✕ ㉡은 교통의 발달에 해당한다.
- ㉢ 교통의 발달에 따라 접근성이 향상되면서 통근·통학의 범위가 넓어지고 일상생활의 범위가 확대된다.
- ㉣ 교통의 발달로 인해 대도시는 더욱 성장하지만 그렇지 않은 지역에서는 인구가 대도시로 유입되고 상권이 쇠퇴하는 빨대 효과가 나타난다.

08 정보화에 따른 문제점

정보 격차는 경제적, 사회적, 지역적, 신체적 여건 등으로 나타나는 정보의 불평등 현상이다. 디지털 소외 계층은 상대적으로 경제적 능력이 부족하고 신체적으로 불편하거나 정보 활용 능력이 떨어져 정보 기기에 대한 접근과 이용에 어려움을 느낀다. 이러한 문제를 해소하기 위해 정부는 디지털 소외 계층이 관련 서비스에 쉽게 접근하고 이용할 수 있는 기술을 개발하고 관련 제품을 제공해야 한다. 또 정보 격차 해소 교육을 통해 삶의 질을 향상할 수 있도록 지원해야 한다.

[선지 분석]

- ✕ 정보 사회에서 나타날 수 있는 사이버 범죄, 사이버 폭력, 저작권 침해 등을 해결하기 위한 방안이다.
- ✕ 정보화 기기 사용으로 인해 나타날 수 있는 개인 정보 유출에 대한 문제점을 해결하기 위한 방안이다.
- ✕ 정보 공개를 제한하여 오히려 정보 접근성을 낮추는 방안으로, 정보 격차를 해소하기에는 부적절하다.
- ✕ 지나치게 정보화 기기를 오랫동안 사용함으로써 나타날 수 있는 문제점을 해결하기 위한 방안이다.
- ㉤ 정보 소외 계층의 정보 격차를 해소하기 위한 방안이다.

09 정보화에 따른 문제점

출제 예상 포인트 자료는 디지털 정보 격차에 대한 글과 함께 여러 계층의 수치를 표와 함께 제시한 것이다. 이런 줄글과 표, 그래프 등을 함께 제시하여 분석에 시간을 많이 소요하는 방식의 문제가 수능 예시 문항에서 출제되었다. 어떤 단위에서도 등장할 수 있는 유형이므로 자료에 집중해서 문제를 풀어야 한다.

장애인, 고령층, 저소득층, 농어민과 같은 정보 취약 계층의 종합 수치가 조금씩 개선되고 있다. 한편 개인마다 정보 기술에 대한 접근성과 활용 역량의 차이로 인해 정보 격차와 같은 사회 문제가 나타나기도 한다. 예를 들어 정보 기기를 활용한 개인 정보 유출, 해킹 등에 따른 피해는 정보 기술 활용 역량이 낮은 계층에서 발생할 우려가 크다. 나아가 정보 격차로 인해 계층 간의 격차를 더욱 확대하는 문제가 나타날 수 있다.

[선지 분석]

- ✕ 2018~2022년 모든 구간에서 정보화에 가장 취약한 계층은 고령층이다.
- ✕ 정보 취약 계층의 종합 수치가 증가하는 추세를 보인다.
- ㉠ 고령층의 정보화 수준은 2018년 63.1에서 2022년 69.9로 6.8 증가하여 가장 적게 증가하였다.
- ㉡ 정보 격차로 인해 계층 간의 격차를 더욱 크게 하는 문제를 해결하기 위해서는 정보화 교육이 필요하다.

고득점을 위한 핵심 자료

과학기술 발달에 따른 문제점과 해결 방안

문제점	해결 방안
정보 격차 발생	<ul style="list-style-type: none"> 디지털 소외 계층이 관련 서비스에 쉽게 접근하고 이용할 수 있는 기술을 개발하고 관련 제품을 제공해야 함. 정보 격차 해소 교육을 통해 삶의 질을 향상시킬 수 있도록 지원해야 함.
노동 시장의 양극화	<ul style="list-style-type: none"> 산업 구조의 변화에 따른 미래의 유망 직업이나 기술을 예측하여 필요한 노동력을 양성해야 함. 기존 노동력의 재취업을 위한 직업 훈련을 지원해야 함.

감각 있는 풀이 TIP

표에 제시된 수치가 높을수록 정보화 수준이 높다는 것을 인지해야 한다. 최근에는 표나 그래프를 분석하는 능력을 요구하는 문항이 지리 단위에서는 자주 출제되고 있다.

10 정보화에 따른 정보 격차와 해결 방안

디지털 기기 및 정보의 소유와 접근성, 역량 측면에서 일반 국민과 정보 취약 계층(저소득층, 장애인, 농어민, 고령층) 간의 정보 격차가 심화하고 있다. 정보 격차는 소득 불평등으로 이어져 경제적·사회적·문화적 격차를 심화하는 요인이 되기도 한다. 이를 해결하기 위해 정부에서는 정보 취약 계층에게 정보화 교육을 제공해야 하며, 쉬운 언어와 디자인 등을 사용하여 누구나 쉽게 쓸 수 있는 디지털 환경을 만들도록 노력해야 한다.

[선지 분석]

- ㉠ 일반 국민과 취약 계층 간에 정보 격차가 나타나고 있다. 이를 극복하기 위해서는 소외 계층에 대한 정보 기기 지원 및 교육이 필요하다.
- ✕ 그래프는 사생활 침해에 대한 것이 아니다. 사생활 침해 해결을 하기 위한 방안으로는 사이버 예절 교육 강화가 필요하다.

- ✕ 제시된 그래프는 사이버 폭력에 대한 것이 아니다. 사이버 폭력에 대한 대안으로는 정보 통신 윤리 교육의 강화가 필요하다.
- ✕ 제시된 그래프는 인터넷 중독에 대한 자료가 아니다. 인터넷 중독의 대안으로는 중독 예방 및 치료 시설 확대가 필요하다.
- ✕ 제시된 그래프는 개인 정보 유출에 대한 자료가 아니다. 개인 정보 유출의 대안으로는 개인 정보 보호 관련 법률을 정비해야 한다.

11 정보화에 따른 문제점

과학기술 발달에 따른 정보화와 4차 산업 혁명은 우리 삶에 긍정적인 변화를 가져왔지만, 다양한 사회 문제를 불러오기도 하였다. 디지털 기기를 통해 개인 정보가 유출되어 사생활 침해 사례가 늘어나고 있으며, 가상 공간의 익명성을 이용한 사이버 폭력이나 해킹, 사이버 사기와 금융 범죄, 사이버 저작권 침해 등의 범죄도 증가하고 있다.

[선지 분석]

- ✕ 주어진 자료를 통해서 알 수 없다.
- ✕ 최근 사이버 범죄의 발생 건수가 빠르게 증가하는 추세이다.
- ㉠ 사생활 침해 및 사이버 범죄를 해결하기 위한 방법으로 정보 통신 윤리 교육이 필요하다.
- ㉡ 사이버 범죄의 원인 중 하나가 가상 공간의 익명성이다.

감각 있는 풀이 TIP

2018년부터 사이버 범죄 건수가 상승하는 추세이며, 2022년 사이버 범죄 중 사기, 명예 훼손·모욕 등 가상 공간의 익명성을 기반으로 한 범죄가 성행하고 있으므로 정보 통신 윤리와 연결하여 이해한다.

12 지역 조사 과정

지역 조사 과정은 첫 번째로 지역 문제가 발생한 지역의 조사 계획을 수립하고, 두 번째로 조사 지역에 대한 지역 정보를 수집한다. 세 번째로 수집된 정보를 분석 및 정리하고, 마지막으로 정리된 정보를 근거로 조사 보고서를 작성한다.

[선지 분석]

- ㉠ 지역 문제가 발생하면 이를 조사하기 위한 전체적인 계획을 수립한다.
- ✕ (나)는 지역 정보 수집에 해당한다.
- ㉢ 면담, 설문 조사, 관찰, 실측, 촬영 등과 같은 야외 조사를 한다.
- ㉣ 실내 조사, 야외 조사로 수집한 지역 정보를 분석하고 정리한다.
- ㉤ 지역 정보 분석 및 정리 단계가 끝나면 조사 보고서를 작성한다.

감각 있는 풀이 TIP

실내 조사와 야외 조사는 지리 정보 수집의 방법이며, 실내 조사와 야외 조사의 다양한 사례를 알고 있어야 한다.

13 지역 조사 과정

지역 조사 과정은 첫 번째로 지역 문제가 발생한 지역의 조사 계획을 수립하고, 두 번째로 조사 지역에 대한 지역 정보를 수집한다. 세 번째로 수집된 정보를 분석하고 정리하고, 마지막으로 정리된 정보를 근거로 조사 보고서를 작성한다. 이러한 과정을 통해서 지역 문제를 파악하고 그 해결 방안을 모색할 수 있다. ㉠은 조사 계획 수립 단계로 지역 조사에 앞서 조사 주제와 조사 지역을 선정하고 조사 내용, 조사 항목 및 조사 방법을 구상한다. ㉡은 수집된 정보를 분석하고 정리하는 단계이다. ㉢은 지역 정보를 수집하는 단계로 실내 조사에 해당한다. 실내 조사 단계에서는 도서관이나 인

터넷을 이용하여 지도, 위성 영상, 문헌, 통계 자료 등을 수집할 수 있다.

14 지역 조사 과정

지역 문제 조사 과정은 첫 번째로 지역 문제가 발생한 지역의 조사 계획을 수립하고, 두 번째로 조사 지역에 대한 지역 정보를 수집한다. 세 번째로 수집된 정보를 분석하고 정리하고, 마지막으로 정리된 정보를 근거로 조사 보고서를 작성한다. 이러한 과정을 통해서 지역 문제를 파악할 수 있다. (가)는 수집된 정보를 정리 및 분석하는 단계이다. (나)는 조사 계획 수립 단계로 첫 번째 단계이다. (다)는 조사 계획 수립 단계 이후 정보 수집 단계 중 실내 조사에 해당하고, (라)는 정보 수집 단계의 야외 조사에 해당한다. 야외 조사는 실내 조사 이후에 진행하기 때문에 지역 조사 단계는 (나)→(다)→(라)→(가) 순으로 이루어진다.

감각 있는 풀이 TIP

조사 지역에 대한 정보 수집 단계는 실내 조사와 야외 조사가 있는데, 먼저 실내 조사가 이루어진 후 현장에서 직접 가서 야외 조사가 이루어진다는 것을 반드시 알아 두어야 한다.

15 우리 지역의 공간 변화

지역 정보 수집 과정에서 시화 지구 개발 전과 개발 후의 모습을 비교한 것이다. 개발 전과 비교한 개발 후의 상대적인 특징은 경지 면적은 감소하였고(C, D, E), 토지 이용의 집약도는 증가하였으며(A, C, D), 아파트 거주 인구 비중은 높게 나타났다(B, D, E). 따라서 모든 조건을 만족하는 것은 D이다.

16 우리 지역의 변화

출제 예상 포인트 기존 농촌 지역이 도시로 변화한 사례와 관련된 인구, 산업, 토지 이용 통계를 제시하고, 변화 모습을 묻는 문제가 출제될 수 있다. 통합사회 5종 교과서에서 공통적으로 설명하는 자료이므로 대학수학능력시험에 출제될 가능성이 높으므로 반드시 알아 두어야 한다.

제시된 그래프 용도별 토지 이용에서 밭, 논, 임야가 감소한 반면, 대지, 공장 용지, 학교 용지가 증가하였으며, 농림어업 및 광공업 취업자 비중이 감소하고 사회 간접 자본 및 기타 서비스업 비중이 증가한 것으로 보아 이 지역은 촌락에서 산업화와 도시화가 진행된 지역임을 알 수 있다. 산업화와 도시화가 진행되면 1차 산업 종사자 비중은 감소하고, 도시적 생활양식과 개인주의적 가치관이 증가한다.

[선지 분석]

- ✗ 도시화가 진행되면서 공동체 의식이 감소한다.
- ✗ 공장, 주거지 등이 증가하면서 토지 이용의 집약도가 증가한다.
- ㉠ 밭, 논이 감소하고 공장, 학교 용지가 증가하면서 1차 산업 종사자 비중이 감소하였다.
- ㉡ 산업화와 도시화로 도시적 생활양식과 개인주의적 가치관이 증가한다.

감각 있는 풀이 TIP

통계에서 논, 밭, 임야의 비율이 높거나 농림어업 종사자 비율이 높다면 농촌이고, 대지, 공장 용지, 학교 용지의 비율이 높거나 광공업, 사회 간접 자본 및 기타 서비스업 종사자 비율이 높다면 도시이다. 통계가 의미하는 내용이 무엇인지 파악하는 것이 문제를 푸는 첫걸음이다.

1등급 완성 문제

78~79쪽

01 ㉢ 02 ㉣ 03 ㉢ 04 ㉠ 05 ㉢ 06 ㉣
07 ㉣ 08 ㉣

01 교통 발달에 따른 지역 변화

부산, 울산, 대구를 잇는 광역 전철의 개통으로 지역 간 접근성이 향상되고 역 주변의 상권이 활성화될 것으로 예상된다. 그러나 교통의 발달은 모든 지역의 경제를 활성화하는 것이 아니라, 오히려 새로운 교통수단이 발달한 지역으로 인구와 경제가 흡입되면서 주변 지역의 상권이 쇠퇴하는 결과를 초래하기도 한다.

[선지 분석]

- ㉠ 새로운 교통수단(광역 전철) 주변의 상권은 활성화된다.
- ㉡ 교통수단의 발달로 지역 간 이동되는 평균 소요 시간은 단축된다.
- ㉢ 광역 전철망이 연결되는 지역의 사람들은 접근성이 향상되면서 생활권의 범위는 확대된다.
- ✗ 새로운 교통수단이 등장하면 접근성이 좋은 대도시 지역이 사람을 끌어들이면서 기존 지역이 쇠퇴해 지역 간 격차가 더 커지는 문제가 발생한다.

감각 있는 풀이 TIP

새로운 교통수단의 등장은 역 주변의 상권과 교통수단이 연결된 대도시의 경제 활성화에 기여하지만, 빨대 효과가 나타나 기존 교통이 지나는 곳에 위치한 지역의 쇠퇴를 가지고 온다는 것을 알고 있어야 한다.

02 과학기술 발달에 따른 변화

과학기술의 발달로 사회 전반에서 정보 통신 기술을 활용하는 정보화가 이루어졌고, 지식과 정보가 중요한 자원이 되어 부가 가치를 창출하는 정보화 사회를 맞이하였다. 그러나 과학기술의 발달은 정보 격차 문제, 노동 시장의 양극화가 심각해지는 문제를 초래하였다. 새로운 사회 문제들은 국민의 사회적·경제적 격차를 일으킬 수 있기 때문에 개인적 차원을 넘어 국가적 차원에서 적절한 해결 방안을 마련하고 실천하는 것이 중요하다.

[선지 분석]

- ㉠ 과학기술의 발달로 사회 전반에서 정보 통신 기술을 활용하는 정보화가 이루어졌다.
- ㉡ 새롭게 등장한 현대 사회의 문제로는 정보 격차, 인간의 노동이 기계로 대체되면서 일자리 감소와 노동 시장의 양극화가 있다.
- ㉢ 새로운 사회 문제는 개인적 차원을 넘어 국가적 차원에서 해결 방안을 마련해야 한다.
- ✗ 연도별 자율 주행 자동차의 구입 현황 비교하기는 시간적 관점에 해당한다.
- ㉤ '자율 주행 자동차에 적합한 교통 제도를 수립하고 제도의 변화가 사회에 미칠 영향 예측하기'는 사회적 관점에 해당한다.

감각 있는 풀이 TIP

1단원 통합적 관점과 융합된 문항으로 어떤 사례가 제시되어도 어느 관점에 해당하는 것인지 잘 파악해야 한다.

03 교통·통신의 발달에 따른 지역 변화

교통·통신의 발달은 지역 간의 접근성을 향상시켜 많은 사람이 유입되어 지역 경제 활성화에 이바지한다. 그러나 많은 사람의 유입은 쓰레기 배출 증가와 같은 환경 문제를 유발하기도 한다. 통신의

발달로 인해 언제 어디서든 전자 상거래를 통해 물건을 구입할 수 있어 대면 접촉보다 비대면 접촉이 증가하고 시·공간의 제약이 감소하였다.

[선지 분석]

- ✕ 새로 개통된 거가대교로 인해 부산과 거제도 간 접근성은 향상되었다.
- ㉠ 접근성이 향상되면서 많은 관광객이 거제도를 찾아 지역 경제 활성화에 이바지한다.
- ㉡ 교통이 발달하면서 관광객이 증가하면 쓰레기 무단 투기, 생활 폐기물 증가와 같은 환경 문제가 나타난다.
- ✕ 스마트폰을 통한 전자 상거래의 등장으로 상품 구입에 대한 시·공간적 제약이 감소하였다.

감각 있는 풀이 TIP

‘접근성이 낮아진다’는 의미와 ‘시·공간적 제약이 강화’된다는 의미를 정확하게 파악하고 있어야 한다.

04 교통·통신 및 과학기술 발달에 따른 지역 변화

(가)는 수운 교통이 발달하였던 강경 지역이 철도 교통의 발달로 쇠퇴한 사례이다. (나)는 고속 국도 개통으로 춘천은 발달하고 경춘 국도 주변 지역은 쇠퇴한 사례이다. (다)는 정보 통신의 발달로 다양한 의사소통 공간이 확대된 사례이다. (라)는 정보 통신의 발달로 시·공간적 제약이 완화된 사례이다.

[선지 분석]

- ㉠ 수운 교통에서 철도 교통으로 변화하면서 쇠퇴 지역과 발달한 지역을 설명하고 있다.
- ✕ ㉡ (나)는 서울과 춘천을 잇는 고속 국도의 개통으로 인한 춘천의 발달과 경춘 국도 지역의 쇠퇴를 다루고 있어 춘천의 관광객 증가를 주제로 선정하기에 적절하지 않다.
- ✕ ㉢ (다)는 비대면적 인간관계가 강화되는 모습이 나타난다.
- ✕ ㉣ (라)는 정보 교류의 공간적 제약이 축소되는 현상을 보여 준다.
- ✕ (가), (나)는 교통 발달에 따른 지역 변화, (다), (라)는 정보 통신 기술(정보화) 발달에 따른 생활양식의 변화를 설명하고 있다.

감각 있는 풀이 TIP

교통 발달에 따라 모든 지역이 발전하는 것이 아니라, 반대로 쇠퇴하는 지역도 발생한다는 사실을 인지하고 있어야 한다. 그리고 정보 통신 기술의 발달(정보화)을 통해서 시·공간의 제약이 완화되고, 비대면 접촉이 확대된다는 사실도 함께 알아 두면 문제를 푸는 데 유리하다.

05 정보화에 따른 문제점과 해결 방안

정보화가 진행됨에 따라 사이버 사기, 사이버 명예 훼손·모욕, 사이버 금융 범죄 등 각종 사이버 범죄가 발생하고 있다. 이를 해결하기 위해서는 개인 정보의 중요성 인식 교육과 정보 통신 윤리 교육의 확대가 필요하다.

[선지 분석]

- ㉠ 상대방에 대한 명예 훼손, 모욕 등을 해결하기 위해서는 정보 통신 윤리 교육이 필요하다.
- ㉡ 사이버 사기 및 금융 범죄를 막기 위해서는 개인 정보의 중요성 인식 교육이 필요하다.
- ㉢ 금융 사기, 사이버 사기, 저작권 침해 등의 범죄를 막기 위해서는 기업과 정부의 감시망 구축도 필요하다.

✕ 정보화 시대에 꼭 필요한 교육이지만 제시된 정보 사회의 문제점의 해결 방안에는 해당하지 않는다.

감각 있는 풀이 TIP

〈보기〉의 선지는 모두 정보화로 인한 문제점 해결 방안으로 모두 옳은 내용일 수 있지만, 제시문에 해당하는 문제점의 해결 방안만을 찾을 수 있어야 한다.

06 지역 조사 과정

지역 문제 조사 과정은 첫 번째로 지역 문제가 발생한 지역의 조사 계획을 수립하고, 두 번째로 조사 지역에 대한 지역 정보를 수집한다. 세 번째로 수집된 정보를 분석 및 정리하고, 마지막으로 정리된 정보를 근거로 조사 보고서를 작성한다.

[선지 분석]

- ✕ (가)는 지역 조사 계획을 수립하는 단계이다. 지역의 지도와 통계 자료를 수집하는 것은 지역 정보 수집 단계이다.
- ㉠ (나)는 지역 정보를 수집하는 단계이다. 지도와 문헌을 활용한 실내 조사와 면담, 설문 조사와 같은 야외 조사를 통해 지역 정보를 수집한다.
- ✕ (다)는 수집된 정보를 분석하고 정리하는 단계이다. 주민을 대상으로 면담을 실시하는 것은 정보 수집의 야외 조사 활동에 해당한다.
- ㉡ (라)는 조사 보고서를 작성하는 마지막 단계이다. 조사 목적, 방법, 결과 등을 체계적으로 정리하여 조사 보고서를 작성한다.

07 지역 조사 과정

지역 문제 조사 과정은 첫 번째로 지역 문제가 발생한 지역의 조사 계획을 수립하고, 두 번째로 조사 지역에 대한 지역 정보를 수집한다. 세 번째로 수집된 정보를 분석 및 정리하고, 마지막으로 정리된 정보를 근거로 조사 보고서를 작성한다.

[선지 분석]

- ㉠ 수집된 정보를 분석하고 정리하는 ㉡에 해당한다.
- ㉢ 지역 정보를 수집하는 실내 조사로 ㉣에 해당한다.
- ㉣ 지역 정보를 수집하는 야외 조사로 ㉡에 해당한다.

08 우리 지역의 공간 변화 양상

지역은 산업화와 도시화, 교통·통신과 과학기술의 발달에 따라 변화하는데, 이 과정에서 문제점이 나타나기도 한다. 지역의 변화 모습과 문제점을 파악하기 위해서는 다양한 지역 정보를 수집, 분석, 종합하는 지역 조사가 필요하다. 토지 이용 변화에서는 논, 밭, 삼림의 비율이 감소하고 건축 및 공장 용지가 증가하였다. 산업 구조와 직업 변화에서는 농림어업, 광공업 종사자 비율이 감소하고 사회 간접 자본 및 기타 서비스업 종사자 비중이 증가하였다.

[선지 분석]

- ✕ 토지 이용 변화를 통해 논밭 비율이 감소하고 공장 건축 용지가 증가하였다. 이는 자연 상태의 토지에서 인공 건축물이 들어선 것으로 토지 이용의 집약도가 높아진 것을 알 수 있다.
- ㉠ 농림어업 종사자 비율이 1998년 0.9%에서 2021년에는 0.1%로 비율이 감소하였다.
- ✕ 논, 밭, 삼림의 비율의 합이 1998년 79%에서 2021년에는 64%로 비율이 감소하였다.
- ㉡ 산업 구조의 변화에서 농림어업과 광공업 종사자 비율은 감소하고 사회 간접 자본 및 기타 서비스업 종사자 비율이 증가하면서 직업의 다양성이 증가한 것을 알 수 있다.

09

인권의 의미와 현대 사회의 인권

기출 동형 문제

85쪽

01-① ①

01-② ④

02-① ②

02-② ④

01-① 인권 발달의 역사

출제 예상 포인트 영국 명예혁명, 미국 독립 혁명, 프랑스 혁명 등 시민 혁명에 관한 자료를 제시하고 함께 발표된 인권 관련 문서의 내용을 묻는 문항이 출제될 가능성이 높다.

자료는 영국 국왕이 의회의 동의 없이 인권을 침해하는 정책을 시행하자 이에 반발하여 귀족 세력의 저항이 일어났음을 보여 준다. 귀족 세력은 제임스 2세를 폐위하고 윌리엄과 메리를 공동 왕으로 세우는 명예혁명을 일으켰으며 의회에 의해 왕권을 제한하는 내용이 담긴 권리 장전을 승인하였다.

[선지 분석]

- ① 권리 장전의 승인으로 국왕의 권력이 의회에 의해 제한되었다.
- ✗ 사회권은 독일의 바이마르 헌법에 처음으로 규정되었다.
- ✗ 국민 주권과 저항권은 미국 독립 선언문과 인간과 시민의 권리 선언에 포함되었다.
- ✗ 재산권, 자유권, 평등권 보장은 프랑스 혁명 당시 발표된 인간과 시민의 권리 선언에 명시되었다.
- ✗ 차티스트 운동, 여성 참정권 운동 이후 20세기 들어서 모든 사회 구성원의 참정권이 보장되었다.

감각 있는 풀이 TIP

자료에 '국왕의 정책에 불만', '공동 왕 추대', '의회의 요구', '권리 장전 승인' 등의 표현이 나오면, 영국 명예혁명과 권리 장전 승인에 따른 입헌 군주제 도입 및 의회에 의한 국왕의 권력 제한을 떠올려야 한다.

01-② 인권 발달의 역사

자료는 명예혁명 당시의 상황을 설명한 것으로 A 국은 영국, ①에 따라 승인된 문서는 권리 장전이다.

[선지 분석]

- ✗ ①으로 승인된 문서인 권리 장전은 자유권을 강조하였다. 연대권을 강조한 문서는 세계 인권 선언이다.
- ✗ 인간과 시민의 권리 선언은 프랑스 혁명 과정에서 발표되었다.
- ✗ 2세대 인권은 사회권으로 독일 바이마르 헌법에서 최초로 명시되었다.
- ④ 영국의 시민 혁명은 비교적 큰 유혈 사태 없이 진행되었다는 점에서 '명예혁명'이라고 불린다.
- ✗ 영국이 속한 문화권은 북서부 유럽 문화권이다. 북서부 유럽 문화권은 게르만족이 주를 이루며 대부분 개신교를 믿는다. 또한 산업 혁명의 발생지로 상공업이 발달하였다. 종족과 국경이 일치하지 않아 분쟁이 자주 발생하는 문화권은 아프리카 문화권이다.

02-① 사회권

출제 예상 포인트 사회권이 바이마르 헌법에서 최초로 명시되었다는 내용은 통합사회 8종 교과서에서 모두 다루는 내용이므로 대학수학능력시험 및 전국연합학력평가에 출제될 가능성이 높다.

자료는 산업 혁명 시기에 발생한 빈부 격차 문제를 해결하고자 국가에 인간다운 생활을 요구하였다는 내용으로 ①은 사회권이다.

[선지 분석]

- ① 사회권에는 교육받을 권리, 노동할 권리 등이 있다.
- ✗ 시민 혁명으로 확보된 인권은 자유권, 평등권이다.
- ② 사회권은 1919년 독일의 바이마르 헌법에 처음 명시되었다.
- ✗ 프랑스 혁명을 주도한 시민들은 인간과 시민의 권리 선언을 발표하고 재산권 보장과 자유권, 평등권을 주장하였다.

02-② 사회권

제시문은 산업 혁명 이후 산업 자본주의가 발달하여 삶은 풍요로워졌지만 빈부 격차, 생존권의 위협과 같은 문제가 발생한 당시 상황을 보여 준다. 이런 문제 인식 속에서 국가가 국민의 인간다운 생활을 보장해야 한다는 요구가 강조되어 사회권이 등장하였다.

[선지 분석]

- ✗ 산업 혁명 이후 등장한 자본주의는 산업 자본주의이다.
- ① 시장경제 체제에서는 사유 재산 제도와 사적 이익 추구, 자유로운 경쟁을 보장한다.
- ✗ 세계 인권 선언에서 명시된 인권은 연대권으로 자신이 소속되어 있는 공동체에서 더 나아가 국제적인 연대와 협력을 중시하는 권리이다. 사회권이 처음 명시된 문서는 바이마르 헌법이다.
- ② 사회권은 국민의 인간다운 삶을 보장하기 위해 국가의 개입을 요구하는 적극적 성격의 권리이다.

고득점을 위한 핵심 자료

사회권

의미	모든 국민의 인간다운 생활 보장과 실질적 평등의 실현을 국가에 요구할 수 있는 권리
등장 배경	<ul style="list-style-type: none"> • 자본주의 경제의 급속한 성장으로 사회 불평등 심화 → 모든 사회 구성원의 최소한의 인간다운 생활과 실질적 평등을 보장해야 할 필요성 대두 • 1919년 독일의 바이마르 헌법에서 사회권을 처음으로 규정 → 이후 여러 나라 헌법에 사회권을 명시하여 현대 복지 국가의 법적 근거를 마련
성격	<ul style="list-style-type: none"> • 가장 최근에 등장한 현대적 권리 중 하나 • 국가의 적극적인 개입으로 보장되는 적극적 권리 • 복지 국가와 밀접한 연관이 있는 권리
내용	인간다운 생활을 할 권리, 교육을 받을 권리, 근로의 권리, 근로(노동) 3권(단결권, 단체 교섭권, 단체 행동권), 환경권, 보건권 등

사회권은 국가의 개입을 통해 보장되는 적극적인 성격의 권리이다. 바이마르 헌법에서 최초로 사회권을 명시한 이후 세계 여러 나라는 사회권을 헌법에 명시하여 이를 보장하고 있다.

감각 있는 풀이 TIP

'자본주의의 발전 → 빈부 격차 발생 → 생존권 위협 → 국가 책임 요구 강화 → 사회권 등장'의 흐름을 기억하고, 앞뒤 문장에서 문제 의식과 대안을 연결해서 추론해야 한다.

- 01 ④ 02 ② 03 ③ 04 ① 05 ⑤ 06 ②
07 ② 08 ②

01 인권의 특징

출제 예상 포인트 인권의 네 가지 특징은 통합사회 8종 교과서에서 모두 다루는 내용으로 대입수학능력시험과 전국연합학력평가에 출제될 가능성이 높다.

사람은 누구나 인격적 존재로서 오직 인간이라는 이유만으로 자신의 존엄성을 보장받으며 행복하게 살아갈 권리를 지니는데, 이러한 권리를 인권이라고 한다. 인권은 보편성, 천부성, 불가침성, 항구성의 특징을 가진다.

[선지 분석]

- Ⓐ 천부성은 태어나면서부터 자연스럽게 가지게 되는 당연한 권리를 의미한다.
- Ⓑ 항구성은 일정 기간에만 보장되는 것이 아니라 영구히 보장되는 권리를 의미한다.
- Ⓒ 보편성은 인종, 성별, 종교, 신분 등에 관계없이 인간이라면 누구나 갖는 권리를 의미한다.
- Ⓓ 불가침성은 그 누구도 뺏거나 빼앗길 수 없으며 타인에게 양도할 수 없는 권리를 의미한다.

02 인간과 시민의 권리 선언

출제 예상 포인트 시민 혁명 당시 등장한 문서들은 통합사회 8종 교과서에서 모두 다루는 내용으로 각 문서의 주요 내용과 특징을 구분하여 알아 두어야 한다.

자료는 프랑스 혁명 당시 채택된 인간과 시민의 권리 선언의 일부 내용이다. 이 선언에는 천부 인권, 자연권 사상, 재산권 보장, 국민 주권주의, 권력 분립, 법치주의 등의 근대 시민 혁명의 핵심 이념을 담고 있다.

[선지 분석]

- Ⓐ 제1조에서 천부 인권을 확인할 수 있다.
- Ⓑ 인간과 시민의 권리 선언에는 여성의 인권을 별도로 언급하지 않는다.
- Ⓒ 프랑스 혁명은 사회 계약설과 계몽사상의 영향을 받은 시민 계급이 일으켰다.
- Ⓓ 인간과 시민의 권리 선언에는 재산권, 국민 주권, 자유와 평등의 가치 등을 명시하였으나 사회권은 명시하지 않았다. 사회권은 독일 바이마르 헌법에 최초로 명시되었다. 연대권은 세계 인권 선언에 명시되었다.

고득점을 위한 핵심 개념

시민 혁명 과정에서 등장한 문서

권리 장전	영국 명예혁명을 계기로 승인된 문서로 의회의 입법권, 의회의 승인 없는 과세 금지, 의회에서의 발언의 자유, 인신의 자유 등을 규정
미국 독립 선언문	영국의 식민 지배에 반발하여 미국이 독립 전쟁을 일으키고 발표한 문서로 천부 인권, 인민 주권, 저항권 등을 명시
인간과 시민의 권리 선언	프랑스 혁명 과정에서 발표된 문서로 재산권을 신성한 권리로 선포하고, 신체·사상·종교의 자유와 평등의 가치를 명시

03 인민 헌장

자료는 영국 차티스트 운동 당시 노동자 계급의 참정권 보장 요구를 담은 인민 헌장의 주요 내용이다. 이를 통해 당시에는 부유한 소수에게만 참정권 부여, 유권자 수에 비례하지 않는 불평등한 선거구 획정 문제 등이 존재하였다는 점을 파악할 수 있다.

[선지 분석]

- Ⓐ 차티스트 운동이 전개되던 당시 여성의 참정권은 제한되었다.
- Ⓑ 사회권이 헌법에 명시되어 보장된 것은 바이마르 헌법이 제정된 1919년 이후의 일이다. 차티스트 운동은 1838년에 시작되었다.
- Ⓒ 차티스트 운동이 전개된 당시에는 중산층 이상의 남성에게만 참정권이 보장되었다.
- Ⓓ 국제 사회 차원에서 연대권이 강조된 것은 1948년 세계 인권 선언이 채택된 이후의 일이다.
- Ⓔ 의회의 권력이 국왕에 의해 제한되어 있던 것은 영국 명예혁명 이전의 일이다.

감각 있는 풀이 Tip

재산 자격 폐지, 보통 선거권 인정, 비밀 투표 보장 요구는 곧 기존 정치의 폐쇄성과 기득권 중심의 정치 구조가 나타나고 있음을 의미한다. 해당 문항은 참정권 보장 요구가 등장한 배경을 묻고 있음에 유의해야 한다.

04 사회권

출제 예상 포인트 바이마르 헌법에 사회권이 최초로 명시되었다는 내용은 통합사회 8종 교과서에서 모두 다루는 내용이다. 이는 자본주의의 역사적 전개 과정과 결합하여 출제될 가능성이 있으므로 관련 내용을 꼼꼼히 파악해야 한다.

자료는 바이마르 헌법의 일부 조항이다. 1919년에 제정된 바이마르 헌법은 사회권을 최초로 명시한 헌법이다. 19세기 후반 산업 혁명으로 산업 자본주의가 확산하면서 공장이나 기업과 같은 생산 수단을 소유한 자본가들은 이익을 위하여 노동자에게 혹독한 노동을 시키고 적은 임금을 지급하였다. 이에 노동자는 노동조합을 결성하여 권리를 주장하고, 사회적 약자 보호와 국민의 기본적 생활 보장을 국가에 요구하였다. 그 결과 독일의 바이마르 헌법에 처음으로 국가가 모든 국민에게 최소한의 인간다운 삶을 보장해야 한다는 내용인 사회권이 명시되었다.

05 세계 인권 선언

자료는 1948년 국제 연합(UN) 총회에서 제정한 세계 인권 선언의 주요 내용이다. 세계 인권 선언은 천부 인권, 자유권, 평등권, 연대권 등을 명시하였다. 세계 인권 선언은 인권이 인류의 보편적 가치임을 천명하고 이를 보호하기 위해 국제 사회가 협력해야 함을 강조한 선언이다.

[선지 분석]

- Ⓐ 제1조의 '태어날 때부터 자유로우며 누구에게나 동등한 존엄성과 권리가 있다.'라는 표현에서 천부 인권을 파악할 수 있다.
- Ⓑ 제2조의 '모든 사람은 모든 자유와 권리를 누릴 자격이 있다.'라는 표현에서 인권의 보편성이 나타나 있지만 특수성은 드러나 있지 않다.
- Ⓒ 세계 인권 선언은 인권이 인류의 보편적 가치임을 천명한 선언이다.
- Ⓓ 제28조에 연대권이 나타나 있다. 연대권은 자신이 소속되어 있는 공동체에서 더 나아가 국제적인 연대와 협력을 중시하는 권리로써 자결권, 평화의 권리, 재난으로부터 구제받을 권리 등이 포함된다.

06 인권의 확장 과정

자료는 카렐 바작이 제시한 인권 3세대론의 구체적인 내용을 설명한 것이다. 1세대 인권은 근대 시민 혁명 이후 보장된 자유권을 우선시하며, 2세대 인권은 사회권을 중시한다. 3세대 인권은 국경을 넘어서는 연대권을 중시한다.

[선지 분석]

- ㉠ 주거 이전의 자유와 집회 및 결사의 자유는 자유권이므로 1세대 인권에 해당한다.
- ✕ 시민 혁명의 주된 목적은 자유권을 중심으로 한 1세대 인권을 보장하기 위함이었다.
- ㉡ 자결권과 평화에 대한 권리는 3세대 인권인 연대권에 해당한다.
- ✕ 복지 국가를 지향하는 나라일수록 국민의 인간다운 삶을 보장하기 위해 2세대 인권인 사회권을 더욱 강조한다.

고득점을 위한 핵심 개념

인권 3세대론

체코 출신의 프랑스 법학자 카렐 바작(K. Vasak)은 1979년 인권을 3세대로 구분하여 제시하였다. 1세대 인권은 자유권을 가장 우선시하며 국가의 개입을 최소화하고자 한다. 2세대 인권은 사회권을 중심으로 국가의 개입을 요구한다. 3세대 인권은 인권을 보장하지 못하는 개인과 집단을 위한 전 지구적 연대를 강조한다.

1세대 인권 (자유권)	신체의 자유, 사상·양심·종교의 자유, 집회·결사의 자유, 표현의 자유 등
2세대 인권 (사회권)	근로의 권리, 교육에 대한 권리, 문화에 대한 권리, 사회보장을 받을 권리, 인간다운 생활을 할 권리, 쾌적한 환경에서 생활할 권리 등
3세대 인권 (연대권)	자결권, 발전의 권리, 평화에 대한 권리, 재난으로부터 구제받을 권리, 지속가능한 환경에 대한 권리 등

07 주거권

출제 예상 포인트 현대 사회에 확장된 인권 중 주거권은 통합사회 5종 이상의 교과서에서 공통적으로 다루고 있는 내용이므로 주거권의 의미와 이를 보장하는 법을 알아 두어야 한다.

자료는 국가와 지방 자치 단체의 주거 환경 정비, 노후 주택 개선, 주거 약자 지원 등으로 국민의 주거 안정과 삶의 질 향상을 도모하기 위해 제정된 주거 기본법이다. 이는 현대 사회에 확장된 권리인 주거권을 보장하기 위한 법률 중 하나이다.

[선지 분석]

- ✕ 역사적으로 가장 오래된 권리는 자유권이다.
- ㉠ 주거권은 쾌적하고 안정적인 주거 환경에서 인간다운 주거 생활을 할 권리이다.
- ✕ 각종 환경 문제로 등장한 권리는 환경권이다.
- ✕ 국제적 연대를 통해 보장받을 수 있는 권리는 연대권이다.
- ✕ 시민 혁명을 계기로 보장되기 시작한 권리에는 평등권과 자유권, 재산권, 저항권 등이 있다.

08 잊힐 권리

자료는 디지털 공간에서 자신의 과거 기록을 지우고자 하는 사람을 돕는 직업인 디지털 장의사에 대한 설명이다. 디지털 장의사는 온라인상에서 자신과 관련된 정보의 삭제나 확산 방지를 요구할 수 있는 자기 결정권인 잊힐 권리가 등장하면서 새롭게 생긴 직업이다.

[선지 분석]

- ✕ 주택 부족, 주거비 증가 등으로 인한 주거 생활 불안정을 해결하기 위해 등장한 권리는 주거권이다.
- ㉠ 잊힐 권리는 개인의 민감 정보를 스스로 통제할 수 있는 권리를 보장해야 한다는 인식이 확산되면서 등장하였다.
- ✕ 건강하고 쾌적한 생활에 필요한 모든 조건이 충족된 환경을 누릴 권리는 환경권이다.
- ✕ 각종 자연재해로 위협받고 있는 국민의 안전을 보장받아야 한다는 인식이 확산되면서 등장한 권리는 안전권이다.
- ✕ 계층·민족·문화적 배경에 상관 없이 누구나 문화생활에 참여하고, 자신의 문화적 정체성을 유지할 권리는 문화권이다.

1등급 완성 문제

88~89쪽

01 ② 02 ⑤ 03 ⑤ 04 ⑤ 05 ② 06 ③
07 ⑤ 08 ⑤

01 시민 혁명 당시 발표된 인권 관련 문서

출제 예상 포인트 인권의 확장 과정에서 등장한 문서를 제시하여 문서에서 강조하고 있는 인권의 종류와 성격을 물어볼 수 있고, 문서가 등장한 시대적 배경에 관한 내용을 물어볼 수 있으므로 각 문서의 등장 배경과 어떠한 인권을 강조하였는지 연결 지어 알아 두어야 한다.

(가)는 프랑스 혁명 과정에서 발표된 인간과 시민의 권리 선언, (나)는 미국 독립 혁명 과정에서 발표된 미국 독립 선언문이다.

[선지 분석]

- ㉠ 인간과 시민의 권리 선언과 미국 독립 선언문은 태어날 때부터 인권이 주어져다는 천부 인권을 명시하였다.
- ✕ 인간과 시민의 권리 선언은 신분제 폐지를 이끌었으나, 미국 독립 혁명은 보통 선거의 확립을 가져 오지 않았다. 보통 선거는 참정권 보장 운동으로 20세기 이후에 확립되었다.
- ✕ 인간과 시민의 권리 선언과 미국 독립 선언문은 모두 사회 계약설과 계몽사상의 영향을 받아 작성되었다.
- ㉡ 인간과 시민의 권리 선언은 전제 군주로부터의 해방, 미국 독립 혁명은 영국의 지배로부터의 해방을 주장하며 자유와 평등을 강조하였다.

고득점을 위한 핵심 개념

사회 계약설에 대한 다양한 학자의 견해

홉스	국가를 '만인의 만인에 대한 투쟁' 상태에서 벗어나기 위한 계약의 산물로 보고, 국가는 시민의 생명과 재산을 보호하고 시민은 국가에 복종해야 한다고 주장
로크	국가는 개인의 생명, 자유, 재산을 보호해야 하고 시민은 법률에 복종할 의무가 있다고 주장
루소	자연 상태에서 인간은 자유롭고 평등하지만, 사회적 불평등이 발생하므로 국가는 공통의 이익만을 생각하는 일반 의지에 따라 운영되어야 한다고 주장

02 프랑스 혁명

18세기 후반에 일어난 프랑스 혁명은 시민의 자유와 기본권을 보장하는 계기가 되었고, 시민 혁명이 전개되는 과정에서 인간과 시민의 권리 선언이 발표되었다.

[선지 분석]

- ✕ 프랑스 혁명 직후 의원 내각제가 아닌 공화정이 실시되었다. 의원 내각제 실시에 영향을 준 시민 혁명은 영국 명예혁명이다.
- ✕ 프랑스 혁명의 결과로 신분 제도가 폐지되었다.
- ㉔ 프랑스 혁명으로 신분 제도가 폐지되고 시민의 자유와 평등, 재산권 등이 보장되었으나, 여성과 노동자의 참정권은 제한되었다. 이에 차티스트 운동, 여성 참정권 운동 등 참정권을 요구하는 운동이 일어났다.
- ㉒ 프랑스 혁명 과정에서 인간과 시민의 권리 선언이 발표되었다.

고득점을 위한 핵심 개념

계몽사상이 시민 혁명에 끼친 영향

계몽사상은 합리주의를 바탕으로 한 인간의 이성을 통해 사회의 불합리한 제도와 전통의 개혁을 이룰 수 있다는 사상이다. 이에 영향을 끼친 로크는 국가가 계약에 의해 성립되었다는 사회 계약설을 통해 절대 왕정에 대한 시민의 견제를 주장하였다. 사회 계약론과 계몽사상은 절대 왕정을 비판하는 이론적 배경이 되어 미국 독립 혁명과 프랑스 혁명에 영향을 주었다. 프랑스 혁명 당시 발표된 인간과 시민의 권리 선언은 국민 주권 등을 명시해 절대 왕정의 종식을 가져왔다.

03 인권 보장 역사의

(가)는 흑인 민권 운동, (나)는 여성 참정권 운동의 사례이다.

[선지 분석]

- ✕ (가), (나)는 흑인과 여성이라는 사회적 약자의 참정권 보장 운동이다.
- ✕ (나)는 참정권 보장을 위해 투쟁한 사례이다.
- ✕ 여성 인권 향상을 위한 노력은 (나)에만 해당한다.
- ✕ (가), (나) 모두 평등한 사회 실현에 기여하였다.
- ㉔ (가), (나) 모두 법적·제도적 차별을 겪던 사회적 약자가 인권을 보장받기 위해 투쟁한 사례이다.

감각 있는 풀이 TIP

제시문에 서로 다른 시대, 국가, 대상이 등장하더라도 인권, 참정권, 평등권 등 공통된 사회적 의미를 중심으로 추론하는 것이 핵심이다.

04 인권의 확장에 영향을 미친 사건

자료는 인권이 확장되는 과정에 영향을 미쳤던 주요 사건과 문서를 정리한 것이다. 프랑스 혁명 당시 발표된 인간과 시민의 권리 선언은 자유권과 평등권, 재산권 보장 등을 명시하였고, 차티스트 운동은 시민 혁명 이후 정치 영역에서 노동자에 대한 차별이 계속되어 일어난 참정권 보장 운동이다. 바이마르 헌법은 국가가 국민의 인간다운 삶을 보장해야 한다는 사회권을 최초로 명시한 헌법이다.

[선지 분석]

- ✕ 프랑스 혁명 과정에서 인간과 시민의 권리 선언이 발표되었다. 권리 장전은 영국 명예혁명 당시 승인되었다.
- ✕ 차티스트 운동으로 성인 남성 노동자의 참정권이 인정되었다. 여성의 참정권은 여성 참정권 운동이 벌어진 후 20세기 들어서 보장되기 시작하였다.
- ✕ 바이마르 헌법에서는 2세대 인권인 사회권이 강조되었다. 3세대 인권은 연대권으로 세계 인권 선언에서 강조된 권리이다.
- ✕ 역사적으로 프랑스 혁명(1789) → 차티스트 운동(1838~1848) → 바이마르 헌법(1919) 순으로 전개되었다.
- ㉔ 1919년에 제정된 독일의 바이마르 헌법은 처음으로 헌법에 사회권을 규정하였다.

고득점을 위한 핵심 자료

인권을 보장하기 위해 등장한 문서

인간과 시민의 권리 선언	제1조 인간은 태어나면서부터 자유로우며 평등한 권리를 가진다. 제2조 모든 정치적 결사의 목적은 자유, 재산, 안전, 압제에 저항 등 인간의 소멸할 수 없는 권리를 보전함에 있다.
바이마르 헌법	제163조 ② 모든 국민에게는 노동할 기회가 주어진다. 적절한 일 자리를 얻지 못한 국민은 필요한 생계비를 지원받을 수 있다.
국제 연합 아동 권리 협약	제24조 ① 당사국은 아동이 최상의 건강 수준을 유지할 권리와 질병 치료 및 건강의 회복을 위한 시설을 이용할 권리를 인정한다. ④ 당사국은 이 조에서 인정하는 권리의 완전한 실현을 점진적으로 달성하기 위해 국제 협력을 증진하고 장려해야 한다.

프랑스 혁명 당시 발표된 인간과 시민의 권리 선언에는 국가의 간섭으로부터 자유롭게 생활할 권리인 자유권과 부당하게 차별을 받지 않을 권리인 평등권이 명시되었다. 산업 혁명 이후 사회적 약자들은 최소한의 인간다운 생활조차 유지하기 어려웠다. 이에 따라 바이마르 헌법에 처음으로 사회권이 명시되었다. 제2차 세계 대전 이후 여성이나 아동, 장애인, 난민 등 사회적 약자의 인권을 보호해야 한다는 인식이 확대되었다. 이에 따라 국제 연합(UN) 아동 권리 협약 등에서 국제적인 연대와 협력을 중시하는 연대권을 강조하고 있다.

05 인권의 확장 과정

자료는 프랑스 법학자 카렐 바작이 인권의 발전 과정을 구분한 인권 3세대론이다. (가)는 1세대 인권, (나)는 2세대 인권, (다)는 3세대 인권이다.

[선지 분석]

- ㉔ 1세대 인권은 자유를 기 위해 국가로부터의 불간섭을 요구하는 권리이다.
- ✕ 국가로부터 간섭을 받지 않는 것은 1세대 인권인 자유권의 특징이다.
- ㉔ 2세대 인권은 인간다운 삶을 보장받기 위해 국가가 적극적으로 개입할 것을 요구하는 권리이다.
- ✕ 모든 인권의 바탕에는 인간의 존엄성이 있다.

06 인권의 역사적 발전

출제 예상 포인트 질문을 통해 인권의 특징을 묻는 문제는 고난도 문항 출제 시 활용될 가능성이 높다. 각 인권의 특징을 파악하여 질문에 적합한 인권을 판별하는 것이 중요하다.

인민 헌장에서 강조된 권리인 A는 참정권이며, (가)의 내용에 따라 B와 C는 각각 사회권과 연대권 중 하나이다.

[선지 분석]

- ✕ 참정권은 능동적·적극적 권리이다.
- ✕ 참정권은 차티스트 운동, 여성 참정권 운동 이후 20세기에 들어 모든 사람에게 보장되었다.
- ㉔ 사회권은 자본주의의 확산으로 발생한 문제를 해결하기 위해 등장한 권리이다.
- ✕ 연대권은 두 차례의 세계 대전 이후 인권을 누리지 못하는 개인과 집단에 대한 인식이 확대되면서 등장한 권리이므로 (가)에는 선지의 질문이 들어갈 수 없다.
- ✕ (가)에 '바이마르 헌법에서 처음으로 명시된 권리인가?'가 들어가면 B는 사회권이다. 인도주의적 재난으로부터 구제받을 권리는 연대권이다.

출제 예상 포인트 실제 사례를 제시하여 현대 사회에서 새롭게 강조되는 인권을 유추하는 문항이 출제될 수 있으므로 제시문의 상황이 침해하는 권리를 파악하는 것이 중요하다.

자료는 ○○아파트 단지 재건축으로 주변 주택에 사는 주민들이 일조권을 침해당한 사례이다. 일조권 침해는 쾌적한 주거 환경에서 살 권리인 주거권을 침해당하는 것이라고 볼 수 있다.

[선지 분석]

- ☒ 주거 이전의 자유는 자유권으로 자료에서는 해당 내용을 찾을 수 없다.
- ☒ 문화권은 자유롭게 공동체의 문화생활에 참여하고 문화적 정체성을 유지할 권리로 자료에서는 해당 내용을 찾을 수 없다.
- ☒ 정보 사회의 확산으로 등장한 권리에는 자기 정보 결정권, 잊힐 권리 등으로 자료에서는 해당 내용을 찾을 수 없다.
- ☒ 일조권과 주거권은 현대 사회에 들어 새롭게 등장한 권리이다. 시민 혁명에서부터 강조된 권리에는 자유권, 평등권 등이 있다.
- ☒ 법원은 ○○아파트 단지 재건축이 주변 주민이 쾌적하고 안정적인 주거 환경에서 거주할 권리인 주거권을 침해하였다고 판단하였다.

고득점을 위한 핵심 자료

일조권을 보장하기 위한 법률

건축법 시행령

제86조(일조 등의 확보를 위한 건축물의 높이 제한 관련)

- ① 전용 주거 지역이나 일반 주거 지역에서 건축물을 건축하는 경우에는 법 제61조 제1항에 따라 건축물의 각 부분을 정북(正北) 방향으로의 인접 대지 경계선으로부터 다음 각 호의 범위에서 건축 조례로 정하는 거리 이상을 띄어 건축하여야 한다.
1. 높이 9미터 이하인 부분: 인접 대지 경계선으로부터 1.5미터 이상
 2. 높이 9미터를 초과하는 부분: 인접 대지 경계선으로부터 해당 건축물 각 부분 높이의 2분의 1 이상

일조권을 보장하는 것은 타인의 재산권을 제한한다. 그럼에도 일조권이 대두되는 것은 그만큼 환경권이나 주거권이 중요하다는 것을 나타낸다.

08 안전권

제시문은 세계 각국이 재해, 재난, 사고 등의 위협으로부터 생명, 신체, 재산상의 안전을 보호받을 권리인 안전권을 보장하는 방안에 관한 내용이다.

[선지 분석]

- ☒ 주거 생활의 불안정성이 높아져 등장한 권리는 주거권이다.
- ☒ 각종 환경 문제와 생태계 변화 등으로 등장한 권리는 환경권이다.
- ☒ 개인 정보 유출로 인한 사생활 침해 문제가 발생하여 등장한 권리는 잊힐 권리이다.
- ☒ 문화적 정체성 유지와 타 문화 이해를 위해 보장하는 권리는 문화권이다.
- ☒ 국민이 각종 위협으로부터 생명, 건강, 재산상의 안전을 보호받을 권리는 안전권이다.

감각 있는 풀이 TIP

‘각종 위험’, ‘재해 예방’, ‘생명, 건강, 재산 보호’와 같은 표현은 안전권에 관한 키워드이다. 최근 들어 안전권은 적극적인 국가 개입을 요구하는 권리로 중요성이 강조되고 있다.

10

인권 보장을 위한 헌법과 시민 참여 및 인권 문제

기출 등현 문제

93쪽

01-① ③

01-② ①

02-① ①

02-② ⑤

01-① 기본권의 특징

출제 예상 포인트 기본권의 특징과 종류는 통합사회 8종 교과서에서 모두 다루고 있다. 대학수학능력시험 및 전국연합학력평가에 출제될 가능성이 높으므로 반드시 알아 두어야 한다.

종교 활동을 자유롭게 할 수 있는 기본권은 자유권이고, 능력에 따라 균등하게 교육받을 수 있는 기본권은 사회권이다.

[선지 분석]

- ☒ 다른 기본권 보장의 전제 조건이 되는 권리는 평등권이다.
- ☒ 사회권은 실질적 평등을 실현하기 위한 현대적 권리이다.
- ☒ 자유권은 자유로운 국가 권력의 간섭이나 침해를 배제하는 소극적 성격의 권리이다. 사회권은 국가의 개입으로 보장되는 적극적 성격의 권리이다.
- ☒ 자유권과 사회권은 모두 헌법에 명시된 기본권이다.

고득점을 위한 핵심 개념

기본권의 성격 비교

자유권은 역사상 가장 오래된 기본권이다. 참정권과 사회권, 청구권은 국가의 존재를 전제로 인정되지만 자유권은 국적과 관계 없이 모든 사람에게 인정된다. 사회권은 사회 보장이나 교육, 노동 분야에서 국가의 다양한 사회 보장 제도나 정책이 마련되어야 실현되므로 국가의 적극적 노력이 필요한 권리이다.

감각 있는 풀이 TIP

기본권의 특징을 물어보는 문제는 기본권의 종류를 먼저 파악해야 한다. 이후 해당 권리의 성격, 보장 방식, 특징 등을 비교하면 정답을 쉽게 찾을 수 있다.

01-② 기본권의 특징

국가 권력에 의해 침해되지 않음으로써 보장되는 소극적인 성격을 가진 권리인 A는 자유권이고, 실질적 평등의 실현을 목적으로 하는 기본권 B는 사회권이다.

[선지 분석]

- ☒ 자유권은 헌법에 열거되지 않더라도 보장되는 포괄적 성격의 권리이다.
- ☒ 국민이 국가 기관의 형성에 참여할 수 있는 권리는 참정권이다.
- ☒ 자유권은 1세대 인권, 사회권은 2세대 인권이다.
- ☒ 산업 자본주의의 문제점을 해결하는 과정에서 등장한 권리는 사회권이다.
- ☒ 다른 기본권을 보장하기 위한 수단적 권리는 청구권이다.

02-① 시민불복종

출제 예상 포인트 시민불복종에 대한 학자의 견해는 고난도 문항으로 출제될 가능성이 있다. 물스, 소로, 싱어 등 주요 학자의 시민불복종에 대한 입장을 정리해 두어야 한다.

제시문은 시민불복종에 대한 롤스의 견해이다. 롤스는 정책이나 법이 다수의 정의관에 어긋나는 경우 최후의 수단으로 시민불복종이 가능하다고 보았다.

[선지 분석]

- ㉠ 롤스는 시민불복종이 합법적인 수단을 모두 사용한 후 최후의 수단이 되어야 한다고 주장하였으므로, 긍정의 답을 할 것이다.
- ㉡ 롤스는 시민불복종을 통해 공동 사회의 다수가 가지는 정의감을 드러내야 한다고 주장하였으므로, 긍정의 답을 할 것이다.
- ✕ 롤스는 부정적인 법이나 정책을 변혁하는 시민불복종이 도덕적으로 정당화될 수 있으나 법에 대한 충실성의 한계 내에서 처벌을 감수해야 한다고 주장하였으므로, 부정의 답을 할 것이다.
- ✕ 롤스는 사회적 다수에 의해 공유된 정의관이 불복종의 기준이 되어야 한다고 주장하였으므로, 부정의 답을 할 것이다.

02-2 시민불복종

제시문은 시민불복종에 대한 소로의 주장이다. 소로는 법에 대한 존경심보다 정의에 대한 존경심을 우선해야 하며, 개인의 양심을 근거로 정의롭지 못한 법에 대해 불복종해야 한다고 주장하였다.

[선지 분석]

- ✕ 소로는 법에 근거한 통치가 정의로운 정부를 보장할 수는 없으므로, 양심에 어긋나는 모든 법에 대해 불복종해야 한다고 보았다.
- ㉠ 소로는 정부의 부정적인 법과 정책에 대해 시민이 거부할 권리가 있다고 보았다.
- ㉡ 소로는 시민불복종의 근거를 개인의 양심에 두었다.
- ㉢ 소로는 다수가 지지하는 법이라도 그 법이 정의롭지 않다면 불복종해야 한다고 주장하였으며, 집단의 강요대로 살지 않아도 정의로운 삶을 살 수 있다고 보았다.

고득점을 위한 핵심 개념

시민불복종에 대한 다양한 관점

소로	<ul style="list-style-type: none"> • 법보다 정의에 대한 존경심이 더 중요함. • 악법에 대한 불복종은 도덕적이고 정의로운 행동임. • 양심에 따라 부정의에 대해 적극적으로 불복종해야 함.
롤스	<ul style="list-style-type: none"> • 사회적 다수에 의해 공유된 정의관이 불복종의 근거가 되어야 함. • 거의 정의로운 사회에서 부정적인 법과 정책의 변화를 위해 전개되어야 함.
싱어	<ul style="list-style-type: none"> • 시민불복종이 산출할 이익과 손해를 계산해 보아야 함. • 불복종 행위의 성공 가능성을 고려해야 함.
드워킨	<ul style="list-style-type: none"> • 헌법이 정치 도덕의 근본을 형성함. • 헌법을 어기는 법이 있다면 헌법 정신에 비추어 그 정당성을 의심받게 되므로 시민이 저항할 수 있음.

소로는 양심에 따라 부정의에 대해 적극적으로 불복종할 것을 주장하였고, 롤스는 사회적 다수에 의한 공유된 정의관을 바탕으로 불복종해야 한다고 주장하였다. 싱어는 공리주의적 관점에서 시민불복종이 산출할 이익과 손해를 비교하여 불복종 여부를 결정해야 한다고 주장하였다. 드워킨은 정치 도덕의 근본이 헌법이므로, 이를 어기는 법이 있다면 불복종할 수 있다고 주장하였다.

01 헌법과 인권의 관계

자료는 우리나라 헌법 제10조로 인간의 존엄 및 가치와 행복 추구권에 관한 내용이다. 인간의 존엄 및 가치는 인간이라는 이유만으로 존엄성과 가치를 존중받을 권리며, 행복 추구권은 인간으로서 물질적·정신적으로 안락하고 만족스러운 삶을 살 수 있는 모든 자유와 권리이다.

[선지 분석]

- ✕ 기본권 제한에 관한 내용은 헌법 제37조 ②에 명시되어 있다.
- ✕ 헌법 제10조는 인간의 존엄성을 명시하고 있다. 이는 인간은 그 자체로 존엄한 존재라는 의미로, 특정 목적을 달성하는 과정에 유용할 때만 존엄한 것이 아니다.
- ㉠ 헌법의 근본 취지는 국민의 자유와 권리를 보호하는 것으로 헌법 제10조는 이를 보장한다.
- ㉡ 헌법 제10조는 국가가 개인이 가지고 있는 인권을 확인하고 보장할 의무를 지닌다고 명시하고 있다.

고득점을 위한 핵심 자료

기본권 제한의 근거

헌법 제37조 ② 국민의 모든 자유와 권리는 국가 안전 보장·질서 유지·공공복리를 위하여 필요한 경우에 한하여 법률로써 제한할 수 있으며, 제한하는 경우에도 자유와 권리의 본질적인 내용을 침해할 수 없다.

우리나라 헌법은 국민의 기본권을 보장해야 함을 명시하였지만, 개인이 기본권을 행사하는 과정에서 타인의 기본권을 해치거나 공동체의 이익을 저해할 수 있다. 이에 필요한 경우에 한해서만 국민의 기본권을 제한할 수 있도록 헌법에 명시하였다.

02 기본권의 특징

출제 예상 포인트 기본권의 유형에 관한 내용은 통합사회 8종 교과서에서 모두 다루고 있다. 사례를 제시한 후 부각된 기본권의 특징을 묻는 형식으로 출제될 가능성이 높다.

㉠은 자유권, ㉡은 청구권이다. 자유권은 개인의 자유로운 생활에 대해 국가의 간섭이나 침해받지 않을 권리고, 청구권은 국가에 대해 일정한 행위를 요구하거나 기본권이 침해되었을 경우 구제를 요청할 수 있는 권리이다.

[선지 분석]

- ✕ 불합리한 이유로 차별받지 않을 권리는 평등권이다.
- ✕ 국가의 개입을 전제로 하는 적극적 권리는 청구권이다. 자유권은 국가의 개입이 최소화될 때 보장되는 소극적 성격의 권리이다.
- ✕ 국가로부터 간섭받지 않고 자유롭게 생활할 권리는 자유권이다.
- ㉣ 청구권은 다른 기본권을 보장하기 위한 절차적이고 수단적인 권리이다.
- ✕ 자유권과 청구권은 모두 헌법에 명시된 기본권이다.

고득점을 위한 핵심 개념

청구권의 종류

청원권	국가 기관이 국민의 권리를 침해하였을 때 그에 대한 구제를 요청하거나, 국가 기관의 권한에 속하는 사항에 대해 문서로 의견을 진술하고 적절한 처리를 요구할 수 있는 권리
재판 청구권	헌법과 법률이 정하는 법원에 의해 공정하고 신속한 재판을 받을 수 있는 권리

수능 기본 문제

94~95쪽

- 01 ⑤ 02 ④ 03 ③ 04 ⑤ 05 ① 06 ⑤
07 ① 08 ④

범죄 피해자 구조 청구권	타인의 범죄 행위로 생명이나 신체에 대한 피해를 입은 국민이 국가에 구조를 요청할 수 있는 권리
형사 보상 청구권	형사 피의자 또는 형사 피고인으로 구금되었던 자가 법률이 정하는 불기소 처분을 받거나 무죄 판결을 받을 경우, 법률이 정하는 바에 따라 국가에 정당한 보상을 청구할 수 있는 권리
국가 배상 청구권	공무원의 직무상 불법 행위나 공공시설의 설치 또는 관리의 잘못으로 손해를 입은 국민이 법률이 정하는 바에 의하여 국가 또는 공공 단체에 정당한 배상을 청구할 수 있는 권리

03 사회권

출제 예상 포인트 사회권은 법률과 제도 등 국가의 적극적인 개입으로 보장되는 권리이므로 실제 법률이나 제도를 제시한 후 사회권을 추론하는 형식으로 출제될 수 있다.

자료는 사회적 약자인 노인의 복지 증진 등을 위해 국가와 지방자치 단체가 노력해야 한다고 규정한 노인 복지법이다. 이는 국가가 국민이 인간답게 살 권리를 보장해야 한다는 사회권을 실현하기 위한 법률이다. 국가는 노인, 여성, 장애인 등 사회적 약자의 최소한의 인간다운 삶을 보장하기 위해 여러 법률을 제정한다.

[선지 분석]

- ❌ 정치적 기본권은 참정권이다.
- ❌ 사회권은 국가의 개입을 전제로 하는 적극적 성격의 권리이다. 국가의 개입을 배제하는 소극적 성격의 권리는 자유권이다.
- ③ 사회권은 복지 국가 실현에 필수적인 요소이다.
- ❌ 사회권은 국가의 개입으로 보장되는 적극적 성격의 권리이다. 국가의 간섭이 최소화됨으로써 실현될 수 있는 기본권은 자유권이다.
- ❌ 사회권은 실질적 평등을 실현하기 위해 각 사람이 처한 상황이나 여건을 고려하므로, 일체의 차별적 대우를 부정한다고 보기 어렵다.

고득점을 위한 핵심 자료

우리나라 헌법에 명시된 사회권

- 제31조 ① 모든 국민은 능력에 따라 균등하게 교육을 받을 권리를 가진다.
- 제32조 ① 모든 국민은 근로의 권리를 가진다. 국가는 사회적·경제적 방법으로 근로자의 고용의 증진과 적정 임금의 보장에 노력하여야 하며, 법률이 정하는 바에 의하여 최저 임금제를 시행하여야 한다.
- 제33조 ① 근로자는 근로 조건의 향상을 위하여 자주적인 단결권·단체 교섭권 및 단체 행동권을 가진다.
- 제34조 ① 모든 국민은 인간다운 생활을 할 권리를 가진다.
② 국가는 사회 보장·사회 복지의 증진에 노력할 의무를 진다.
- 제35조 ① 모든 국민은 건강하고 쾌적한 환경에서 생활할 권리를 가지며, 국가와 국민은 환경 보전을 위하여 노력하여야 한다.
- 제36조 ③ 모든 국민은 보건에 관하여 국가의 보호를 받는다.

04 시민불복종

출제 예상 포인트 시민불복종은 통합사회 8종 교과서에서 모두 다루는 내용이므로 대학수학능력시험 및 전국연합학력평가에 출제될 가능성이 높다. 시민불복종이 정당화될 수 있는 조건을 정확히 알고 있어야 한다.

제시문은 인도의 간디가 영국의 소금법 시행에 불복하여 전개한 소금 행진에 관한 내용으로 시민불복종의 대표적인 사례이다. 시민불복종은 정의롭지 않은 법이나 정책을 바로잡기 위해 의도적으로 법을 위반하는 행위이다.

[선지 분석]

- ① 간디가 전개한 소금 행진은 비폭력적인 방식을 사용하였다.
- ② 간디가 전개한 소금 행진은 인도인의 소금 제조 및 판매를 금지하였던 영국의 법을 거부한 행위이므로 시민불복종이다.
- ③ 시민불복종은 법 질서를 존중하는 자세로 위법 행위에 대한 처벌을 감수해야 한다.
- ④ 간디의 소금 행진은 인도인이 영국으로부터 소금을 제조하고 판매할 수 있는 권리를 되찾기 위한 운동이다.
- ❌ 시민불복종은 시민의 자유와 권리를 침해하는 법이나 국가 정책에 대해 저항하는 것으로 정당성을 갖는다.

고득점을 위한 핵심 자료

시민불복종의 역할

적절한 제한 조건과 건실한 판단을 통해서 이용되는 시민불복종은 법에 대한 충실성의 한계 내에서 부정의에 항거함으로써 정의로부터의 이탈을 방지하고, 그런 일이 일어났을 때는 그것을 교정하는 데 도움이 된다.

- 롤스, 『정의론』

시민불복종은 공익을 수호하려는 목적에서 기본권을 침해하는 부당한 법이나 정책에 대하여 양심적으로 행하는 의도적인 위법 행위이다. 다만 정당한 이유가 없는 시민불복종은 사회적 혼란을 가져올 수 있으므로 신중하게 이루어져야 한다. 또한 법을 위반하는 행위이므로 처벌을 감수해야 하며, 모든 합법적인 절차를 거친 후에 비폭력적인 방식을 사용하는 최후의 수단이어야 한다.

05 사회적 소수자

사회적 소수자는 한 사회에서 신체적 또는 문화적 특징 때문에 다른 구성원에게 차별을 받으며, 스스로 차별받는 집단에 속해 있다는 의식을 가진 사람이다. (가)는 거주지가 바뀌어 사회적 소수자가 된 사례이고, (나)는 사회적 소수자가 정치적으로 차별받고 있는 상황이다.

[선지 분석]

- ❌ 사회적 소수자를 위해 사회적 강자나 주류 집단이 차별받는 것은 역차별이다.
- ② 자국에서 우수한 인재로 대우받던 사람이 다른 나라에서 차별을 겪는 사례를 통해 당사자가 속한 사회에 따라 사회적 소수자가 다르게 규정됨을 알 수 있다.
- ③ 사회적 소수자가 정치 권력에서 배제되고 있다는 내용을 통해 정치적으로 차별받고 있음을 알 수 있다.
- ④ C 국은 사하라 사막 이남에 있는 국가이므로 아프리카 문화권에 속한다. 아프리카 문화권에서는 플랜테이션과 이동식 화전 농업이 발달하였다.
- ⑤ 사회적 소수자는 한 사회에서 신체적 또는 문화적 특징 때문에 다른 구성원에게 차별받고 있다고 느끼는 집단에 속해 있다는 의식을 가진 사람이므로, (가)와 (나)는 모두 사회적 소수자의 사례이다.

감각 있는 풀이 TIP

사회적 소수자에 관한 문제가 나올 때 역차별에 대한 선지가 자주 등장한다. 역차별은 소수자 우대 정책을 시행한 결과 사회적 강자나 주류 집단이 오히려 차별을 받는 상황을 이르는 개념이다.

06 청소년의 노동권

17세는 근로 기준법상 연소자에 해당한다. 연소 근로자는 성인 근로자와 마찬가지로 근로 기준법의 적용을 받으며 근로 시간, 근로 할 수 있는 업종 등에서 특별한 보호를 받는다.

[선지 분석]

- ✗ 법정 최저 임금은 연소 근로자와 성인 근로자 모두 적용된다.
- ✗ 연소 근로자의 노동 착취를 방지하기 위해 근로 기준법에서는 친권자나 후견인의 동의를 받지 않고 근로자가 독자적으로 근로에 대한 임금을 청구할 수 있도록 규정하고 있다.
- ㉠ 연소 근로자는 성인 근로자와 달리 노래방, 술집, 유흥업소 등 도덕상 또는 보건상 유해하거나 위험한 사업장에서 근로할 수 없다.
- ㉡ 연소 근로자의 법정 근로 시간은 연장 근로를 제외하고 1일 최대 7시간, 1주 35시간을 넘기지 못한다. 성인 근로자는 1일 최대 8시간, 1주 40시간을 초과하지 못한다.

07 세계의 인권 문제

제시문은 세계의 인권 문제를 해결하기 위해 여러 국제기구가 노력하는 내용이다.

[선지 분석]

- ㉠ 두 국제기구 모두 세계의 인권 문제 해결을 목표로 활동하고 있으며, 이는 인권 문제 해결을 위한 국제적 차원의 노력이다.
- ✗ 두 국제기구와 모두 상관 없는 내용이다.
- ✗ 제시문은 국제기구의 인도주의적 역할에 대한 내용이다.
- ✗ 세계 식량 계획에만 해당하는 내용이다.

08 인권 지수

출제 예상 포인트 문해력이 강조되고 있는 최근의 흐름에 따라 길이가 긴 제시문을 주고 결론을 찾거나 제시문의 입장에 부합하는 진술을 찾는 문항이 출제될 가능성이 있다.

제시문은 우리나라의 성 격차 지수 순위와 성 불평등 지수 순위가 큰 차이가 난다는 내용이다. 이를 통해 각 인권 지수에 반영된 지표마다 포함된 항목과 측정 방식이 다르므로 단순한 순위 비교가 아니라 지표의 특성을 고려한 해석이 필요하다는 점을 알 수 있다.

[선지 분석]

- ✗ 제시문은 지수에 반영된 각 지표의 성격을 고려해야 함을 강조한다.
- ✗ 제시문은 인권 지수의 지표 해석에 주의가 필요하다는 것으로 인권 지수와 인권 수준이 무관하다는 입장을 취하고 있지 않다.
- ✗ 인권 지수는 측정 지표에 따라 순위가 다르게 나타나므로 단순히 순위가 높다고 신뢰하는 것은 타당하지 않다.
- ㉣ 인권 지수 측정에 활용하는 지표를 다각도로 분석하는 것은 제시문이 강조하는 핵심 내용으로, 지표의 반영 항목과 기준을 파악하여 인권 수준을 해석해야 한다는 논지에 부합한다.
- ✗ 제시문을 통해 각 인권 지수가 객관적 통계 지표를 참고하여 산출되고 있음을 알 수 있다.

1등급 완성 문제

96~97쪽

- 01 ㉠ 02 ㉣ 03 ㉢ 04 ㉣ 05 ㉢ 06 ㉢
07 ㉣ 08 ㉣

01 인권 보장을 위한 헌법의 역할

오늘날 국가는 개인의 인권이 침해되지 않도록 인권 보장을 위한 법과 제도를 마련할 의무를 지는데, 그 토대가 되는 것이 헌법이다. 헌법에 규정한 인권을 기본권이라고 한다.

[선지 분석]

- ㉠ 헌법은 국가의 최고 규범으로 헌법에 위배되는 법률은 효력이 인정되지 않는다.
- ✗ 헌법은 국민의 기본권을 규정하고 있다. 헌법에 열거되지 않은 기본권은 헌법 제37조 ①에 따라 보장한다.
- ㉢ ㉢은 입헌주의로 국민의 기본권 보장을 목적으로 한다.
- ✗ 복지 국가의 원리와 가장 관련 있는 기본권은 사회권이다. 사회권은 국가 권력의 개입을 필요로 하는 적극적 성격의 권리이다.

고득점을 위한 핵심 개념

인권과 헌법

헌법	국가의 최고 규범으로서 그 주요 내용은 국민의 기본적 인권에 대한 보장과 국가의 정치 조직 구성 및 정치 작용의 원칙을 포함함.
입헌주의	헌법에 의한 통치를 의미하며 국민의 자유와 권리가 국가 권력에 의해서 부당하게 침해당하지 않도록 국가 권력을 헌법에 구속하도록 하는 것

02 기본권의 제한과 한계

자료는 우리나라 헌법 제37조 ②에 명시된 기본권 제한의 요건과 한계이다. 이 조항에 따라 타인의 기본권 침해 예방 및 사회 전체의 안전과 질서 유지를 위해 필요한 경우에 한하여 법률에 따라 국민의 기본권을 제한한다.

[선지 분석]

- ✗ 우리나라 헌법 제37조 ②에 따라 필요한 경우에 한하여 국민의 기본권을 제한할 수 있다.
- ✗ 개인의 기본권이 공공복리를 위해 일부 제한될 수는 있지만 그 경우에도 제한에 한계가 있다는 점에서 개인의 기본권과 공공복리는 어느 정도 조화를 이룬다고 볼 수 있다.
- ✗ 국민의 기본권을 제한하는 경우에도 자유와 권리의 본질적인 내용을 침해할 수는 없다.
- ㉣ 기본권을 제한할 때는 국가 안전 보장, 질서 유지, 공공복리 등 그 목적이 정당해야 한다.
- ✗ 적법한 절차를 따랐어도 내용의 정당성이나 형식이 자유와 권리의 본질적인 내용을 훼손하면 안 된다.

고득점을 위한 핵심 개념

기본권 제한의 요건

목적	• 국가 안전 보장: 국가의 독립, 영토의 보존, 헌법에 설치된 국가 기관의 유지를 의미함. • 질서 유지: 사회 안정을 위한 현존 질서 유지를 의미함. • 공공복리: 사회 구성원 전체에 공통되는 복지나 이익을 위한.
형식	국민의 대표 기관인 국회가 제정한 법률에 따라 국민의 기본권이 함부로 국가에 의해 침해되지 않도록 보장함.
방법	기본권을 제한할 때는 정당한 목적을 달성하는 데 필요한 범위 안에서만 제한하여야 함.
한계	자유와 권리의 본질적인 내용 침해 금지 → 개별 기본권이 기본권으로서의 기능을 상실하게 될 정도로 본질적인 내용을 침해 불가
의의	헌법에 제시된 목적, 방법, 한계에 부합하지 않게 기본권을 제한하는 것을 막아 국민의 기본권을 보장하기 위한.

03 인권을 보장하기 위한 헌법상 제도적 장치

출제 예상 포인트 위헌 법률 심판과 헌법 소원 심판은 통합사회 8종 교과서에서 모두 다루는 내용이다. 두 심판의 차이점을 묻는 문항이 출제될 가능성이 높으므로 각 심판의 청구 주체, 신청 요건 등의 특징을 파악해야 한다.

제시문은 갑이 균등하게 교육받을 권리인 사회권을 침해당해 헌법재판소에 헌법 소원 심판을 청구한 사례이다. 따라서 ㉠은 사회권, (가)는 헌법 소원 심판, (나)는 헌법재판소이다. 헌법재판소는 법률이나 공권력이 국민의 기본권을 침해할 때 이를 구제하는 역할을 하는 국가 기관이다.

[선지 분석]

- ❌ 사회권은 적극적 성격의 권리이다.
- ❌ 헌법 소원 심판은 공권력의 행사 또는 불행사로 국민의 기본권이 침해되었을 경우 이를 구제하기 위한 심판이다. 대의 민주주의의 한계를 보완하기 위한 직접 민주적 요소는 국민 투표 제도, 국민 소환 제도 등이 있다.
- ❌ 재판의 전제가 되는 법률이 헌법에 위반되는지 여부를 판단하는 심판은 위헌 법률 심판이다.
- ❌ 재판을 통해 개인 간의 권리 침해에 대한 구제 방안을 제시하는 국가 기관은 법원이다.
- ⑤ 헌법재판소는 국가 권력 및 법률로부터 국민의 기본권을 보호하는 국가 기관이다.

고득점을 위한 핵심 개념

위헌 법률 심판과 헌법 소원 심판

위헌 법률 심판	<ul style="list-style-type: none"> • 의미: 법률의 위헌 여부가 재판의 전제가 되었을 때, 법원의 제청으로 헌법재판소가 해당 법률의 위헌 여부를 판단하는 심판 • 요건: 소송 당사자의 신청 또는 법원의 직권으로 심판 제청 • 효력: 위헌 결정이 내려지면 해당 법률은 그 결정이 있는 날부터 효력 상실
헌법 소원 심판	<ul style="list-style-type: none"> • 권리 구제형 헌법 소원: 공권력의 행사 또는 불행사로 헌법상 보장된 기본권을 침해당한 국민이 직접 헌법재판소에 그 공권력의 취소 또는 위헌 여부 확인을 구하는 심판 • 위헌 심사형 헌법 소원: 재판 당사자가 법원에 위헌 법률 심판 제청을 신청하였으나 법원이 이를 받아들이지 않았을 때, 당사자가 직접 헌법재판소에 해당 법률의 위헌 확인을 구하는 심판 • 요건: 헌법 소원을 청구하기 전에는 반드시 법률에 정해진 기본권 구제 절차를 거쳐야 함.

04 시민 참여

교사는 사회 관계망 서비스(SNS)를 통한 시민 참여의 영향을 묻고 있다. 시민 참여는 시민이 국가의 정책이나 사회 문제에 관심을 갖고 다양한 방식을 활용하여 적극적으로 의견을 개진하는 등 일정한 행동을 하는 것이다.

[선지 분석]

- ❌ 사회 관계망 서비스는 시민들의 정보 통신 매체의 활용 기회를 증대시킨다.
- ❌ 사회 관계망 서비스를 통해 현실 공간에서만 아니라 인터넷 등 가상 공간에서도 시민들이 다양한 의견을 자유롭게 제시할 수 있다.
- ❌ 사회 관계망 서비스를 통해 시민들이 사회 전반에 참여할 수 있는 기회가 늘어나며 절차는 간소화된다.

- ④ 사회 관계망 서비스가 등장하여 시민 참여 방법에 있어 시간과 공간의 제약이 완화될 수 있는 여건이 마련된다.
- ❌ 사회 관계망 서비스를 통해 시민들이 직접 사회 전반에 참여할 수 있게 되어 선출된 대표가 의사 결정을 하는 대의 민주주의의 한계점이 보완된다.

고득점을 위한 핵심 개념

다양한 시민 참여 방법

선거	대의 민주주의 체제하에서 시민이 정치에 참여하는 가장 기본적인 방법으로, 대표자 선출이나 중요 안건에 대한 의사를 표현
정당	시민이 특정 정당에 지지를 표명하거나 정당 주최 집회나 토론회 등에 참여 및 당원으로 가입하여 활동
이익 집단	이해관계를 같이 하는 사람들이 공동의 특수한 이익을 실현하기 위해 결성한 집단으로 정책 건의, 시위 및 집회 등의 활동 전개
시민 단체	공공선과 공익 실현을 목적으로 시민들이 자발적으로 참여해 구성된 단체로 공익 캠페인, 교육 및 홍보 활동 등 전개
언론	언론 매체를 통해 독자 투고, 제보 등의 방법으로 자신의 견해를 밝히거나 매체가 전달하는 정보를 비판적으로 검토 및 평가
인터넷	인터넷 등을 이용해 정보를 교류하거나 누리집에 의견을 게시
주민 참여 예산 제도	주민이 지방 자치 단체의 예산 편성 과정에 참여하여 사업 제안 등 의견을 제시할 수 있는 제도
주민 조례 청구 제도	주민이 직접 지방 의회에 조례의 제정, 개정, 폐지를 직접 청구할 수 있는 제도

05 사회적 소수자 차별 문제

제시된 대화는 사회적 소수자인 시각 장애인 이 대학 입학 시험을 응시할 때 겪는 어려움을 해결하기 위한 방안에 대한 내용이다. 갑은 시각 장애인을 위해 특별한 시험지를 만드는 것은 자원을 낭비하는 일이며, 시험 시간이 긴 것은 역차별로써 불평등하다고 주장한다. 을은 사회적 소수자인 시각 장애인이 겪는 문제를 공감하며 사회적 차원의 노력으로 해결하자는 입장이다.

[선지 분석]

- ❌ 을은 사회적 소수자인 시각 장애인을 배려하는 조치를 취해야 한다는 입장을 가진다.
- ㉠ 점자 시험지 제공, 시험 응시 시간 연장 등은 실질적 평등을 실현하기 위한 방안으로 을은 이러한 제도의 필요성을 강조하고 있다.
- ㉡ 을은 시험 시간 연장, 점자 시험지 제공을 주장하는데 이는 사회적 소수자 차별을 일으키는 법과 제도를 정비하는 사회적 차원의 노력에 해당한다.
- ❌ 을은 사회적 소수자의 처지를 고려해야 함을 강조하고 있다.

06 사회적 소수자 차별 문제

자료는 유리 천장과 유리 벽의 사례를 통해 여성이 사회적 소수자임을 설명한다. 이는 여성에 대한 차별이 사회적·구조적 문제임을 나타낸다.

[선지 분석]

- ❌ 유리 벽 현상은 특정 개인의 문제가 아닌 성에 따른 차별이므로 사회적·구조적 문제이다.
- ㉠ 직장 내 양성평등 문화 확산은 유리 천장을 완화하는 데 기여한다.
- ㉡ 성차별은 특정 성별에 대해 이루어진다는 점에서 개인적 능력에 따른 차별이 아닌 구조적 차별에 해당한다.

- ㉔ 여성에 대한 보이지 않는 차별이 제거되면 남성과 여성 간 사회적 희소 가치의 배분 과정에서 기회의 공정성을 높일 수 있다.

감각 있는 풀이 TIP

제시문에서 '여성에게 상담·인사·인간관계 관련 업무만 맡긴다.', '핵심 업무에서 배제된다.'라는 표현은 성별에 따른 조직 내 역할 분리, 즉 기회의 불평등을 의미한다. 이는 '자격은 있지만 올라갈 수 없는 구조'를 뜻하므로 '기회의 불평등'이 핵심 키워드라는 것을 알아야 한다.

07 청소년 노동권의 특징

출제 예상 포인트 청소년 노동권의 특징은 통합사회 8종 교과서에서 모두 다루는 내용이다. 대수학능력시험 및 전국연합학력평가에 출제될 가능성이 높으므로 근로 기준법에서 보장하는 연소 근로자의 권리를 성인과 비교하여 알아 두어야 한다.

우리나라 헌법은 청소년의 근로에 대한 특별한 보호가 필요함을 규정하고 있는데, 근로 기준법은 이러한 헌법 정신을 반영하여 연소자의 근로 계약 체결, 근로 시간, 휴게 시간 등의 근로 조건에 대하여 청소년을 보호하기 위한 사항을 규정하고 있다.

[선지 분석]

- ① 청소년이 신체적·정신적으로 근로를 감당할 능력이 부족하다는 점은 청소년 근로에 있어 보호가 필요한 중요한 근거가 된다.
- ② 근로 기준법에 따르면 연소 근로자에 대한 노동 착취 문제를 예방하기 위해 친권자 또는 후견인의 미성년자 근로 계약에 대한 대리는 금지되며, 당사자가 직접 근로 계약서를 작성해야 한다.
- ③ 근로 기준법에 따르면 18세 미만 청소년은 유흥 주점, 노래방 등 도덕상 또는 보건상 유해하거나 위험한 사업장에 고용되어 근로할 수 없다.
- ✗ 사회적 소수자는 한 사회에서 신체적·문화적 차이로 인해 자신이 속한 집단이 불평등한 대우를 받는다고 느끼는 사람으로 단순히 수적 열세에 의해 규정되는 것은 아니다.
- ⑤ 근로 기준법에 따르면 15세 이상 18세 미만인 사람의 근로 시간은 원칙적으로 1일 7시간을 초과하여 근무하지 못한다.

감각 있는 풀이 TIP

빈칸에 들어갈 내용을 추론하는 문제는 글의 목적에 주목해야 한다. '보호하기 위해', '안전과 건강', '소수자로 인정' 등 각각이 어떤 법적 보호 장치와 연결되는지 유추해야 한다.

08 인권 지수

자료는 세계 기아 지수를 나타낸 지도이다. 세계 기아 지수는 세계적인 기아 상황을 다양한 지표로 산출하여 가장 필요한 곳에 식량 지원이 이루어질 수 있도록 돕기 위해 국제 인도주의 전문 기관인 컨선 월드 와이드와 구호 전문 비정부 기구인 세계 기아 원조가 공동으로 조사하여 발표하는 지수이다.

[선지 분석]

- ✗ 인도는 '심각' 수준에 해당하며, 남부 아시아 문화권에 위치한 국가이다.
- ㉔ 동아시아 문화권은 대부분 '보통' 수준인 반면, 아프리카 문화권은 '위험' 수준인 국가가 많다. 따라서 동아시아 문화권에 비해 아프리카 문화권에서 기아 문제의 심각성이 높다고 볼 수 있다.
- ✗ 자료에 따르면 앵글로아메리카는 세계 기아 지수 측정 대상국이 아니다. 따라서 해당 지역에서 기아 문제가 발생하지 않는다고 볼 수 없다.
- ㉔ 기아 문제를 해결하기 위해서는 국제기구를 통해 문제를 겪고 있는 국가에 경제적 지원을 할 수 있다.

11

정의의 의미와 실질적 기준

기출 유형 문제

101쪽

01-① ②

01-② ④

02-① ①

02-② ⑤

01-① 업적에 따른 분배와 필요에 따른 분배

같은 업적에 따른 분배, 같은 필요에 따른 분배를 주장한다. 업적에 따른 분배는 어떠한 목적 달성에 이바지한 성과와 실적 정도에 따라 분배하는 것이고, 필요에 따른 분배는 인간의 기본적인 욕구 충족을 기준으로 분배하는 것이다. 업적에 따른 분배와 필요에 따른 분배 모두 사회적 가치를 공정하게 분배하여 각자가 각자의 몫을 받도록 하는 것을 목적으로 한다.

[선지 분석]

- ㉔ 업적에 따른 분배는 각자가 달성한 결과를 객관화·수량화할 수 있어 평가와 측정이 쉽고 주관적 편견을 배제하여 공정성을 확보할 수 있다는 장점이 있다.
- ✗ 사회적 약자를 우선적으로 배려하여 기회의 평등을 넘어 결과의 평등을 추구하는 것은 필요에 따른 분배이다.
- ✗ 개인의 능력에 비례하여 능력이 탁월한 사람에게 더 많이 분배해야 한다는 것은 능력에 따른 분배이다.
- ㉔ 업적에 따른 분배와 필요에 따른 분배 모두 분배적 정의의 실질적 기준으로, 사회적 가치를 공정하게 분배하여 각자에게 각자의 몫이 돌아가게 하는 것을 목적으로 삼는다.

고득점을 위한 핵심 개념

업적에 따른 분배와 필요에 따른 분배

업적에 따른 분배	의미	각자가 성취한 업적과 기여도에 따라 분배하는 것
	장점	<ul style="list-style-type: none"> 성취한 결과에 대한 객관적 평가가 용이함. 사회 구성원의 성취동기가 증대함.
필요에 따른 분배	단점	<ul style="list-style-type: none"> 서로 종류가 다른 업적의 양과 질을 비교하는 것이 어려움. 경쟁이 과열되어 구성원의 갈등이 심화됨. 어려운 환경에 놓인 사회적 약자에게 불리함.
	의미	모든 사람이 기본적 욕구를 충족하고 인간다운 삶을 살 수 있도록 분배하는 것
필요에 따른 분배	장점	<ul style="list-style-type: none"> 사회적 약자를 보호할 수 있음. 사회 구성원의 인간다운 삶을 보장할 수 있음.
	단점	<ul style="list-style-type: none"> 재화가 한정적이라서 모든 사람의 필요를 충족하기 어려움. 성취동기가 약해져 경제적 비효율성이 증가함.

감각 있는 풀이 TIP

분배적 정의가 정당한 몫을 분배받기 위해서라는 출발점에서 시작하므로 업적에 따른 분배, 능력에 따른 분배, 필요에 따른 분배 모두 사회적 가치를 공정하게 분배하여 각자가 각자의 몫을 받도록 하는 것이 목적이다.

01-② 필요에 따른 분배의 사례

자료는 필요에 따른 분배와 맥락을 같이 하는 국민기초생활보장법을 제시하고 있다. 국민기초생활보장법은 인간다운 삶을 위한 기본

적인 욕구를 충족하기 위해 국가가 사회적 약자를 지원하는 법이다. 이 법의 목적은 저소득 계층의 최저 생활을 보장하고 자활을 돕는 것이다.

[선지 분석]

- ㉠ ㉡은 생활이 어려운 사람의 최저 생활을 보장하고 자활을 돕는 것으로 필요에 따른 분배가 지향하는 방향처럼 기본적인 욕구 충족을 지원하여 국민의 인간다운 삶을 보장하고자 하는 법이다.
- ㉢ ㉣은 국민이 건강하고 문화적인 생활을 유지하기 위해 필요한 최소한의 생활로 인간다운 삶을 위한 사회적 안전망 역할을 한다.
- ㉤ ㉥은 수급자 자신의 노력을 통해 생활을 개선하는 것을 기본 원칙으로 삼고 있으므로, 수급자의 노력 여부에 따라 상황이 개선·향상될 수 있기 때문에 국민기초생활보장법의 대상 또한 달라질 수 있다.
- ✕ ㉦은 국민기초생활보장법의 중요한 기본 원칙으로 국민의 기초 생활을 국가가 전적으로 책임지는 것이 아니라, 국민 개개인이 자신의 생활을 유지·향상하기 위하여 최대한 노력하는 것을 전제로 국가가 지원하고 보충하는 것을 원칙으로 한다.

02-① 업적에 따른 분배

출제 예상 포인트 업적에 따른 분배는 통합사회 8종 교과서에서 모두 다루는 내용이므로 대학수학능력시험에 출제될 가능성이 높다. 분배적 정의의 실질적 기준에 대해 이해할 때는 특징뿐만 아니라 각 기준의 장점과 문제점, 사례를 함께 알아 두면 문제를 푸는 데 도움이 된다.

자료에 제시된 것처럼 성적이 높은 학생에게 장학금을 지급하고 자동차를 많이 판매한 사원이나 메달을 딴 운동선수에게 보상을 제공하는 것은 업적에 따른 분배에 해당한다. 업적에 따른 분배는 성취 동기를 북돋워 생산성을 향상할 수 있으나 과도한 경쟁을 유발할 수 있다는 문제점이 있다.

[선지 분석]

- ㉠ 업적에 따른 분배는 업적과 기여 정도에 따라 분배함으로써 개인의 성취 동기를 자극하여 생산성을 높일 수 있다.
- ✕ 사회 안전망을 마련하여 사회 불평등을 개선할 수 있는 분배는 필요에 따른 분배이다.
- ✕ 개인의 능력에 비례하여 적절한 보상이 이루어지는 분배는 능력에 따른 분배이다.
- ✕ 업적에 따른 분배는 성과를 객관화·수량화할 수 있어 평가 기준이 명확하다는 장점이 있다.
- ✕ 사회적 약자를 보호하여 많은 사람의 인간다운 삶을 보장할 수 있는 분배는 필요에 따른 분배이다.

고득점을 위한 핵심 개념

능력과 업적의 관계

능력에 따른 분배	신체적·정신적 능력이 뛰어난 사람에게 더 많은 분배와 보상이 이루어져야 함.
업적에 따른 분배	각자가 성취한 업적과 기여도에 따라 분배가 이루어져야 함.
능력과 업적의 관계	타고난 능력이 뛰어나더라도 능력을 갈고닦지 않거나 능력을 발휘할 환경에 있지 않으면 업적을 이루기 어려우므로 능력과 업적이 항상 비례하는 것은 아님.(능력이 뛰어나면 뛰어난 업적을 세울 확률이 높지만, 능력이 반드시 업적이라는 결과와 비례하는 것은 아님.)

02-② 수도권에 나타난 의료 불평등과 지역 조사

출제 예상 포인트 지리 영역에서 '지역 조사'의 순서에 대한 내용은 매우 중요하게 다루어진다. 따라서 명확하게 각 순서에 대해 이해하고 있어야 어떤 주제가 나와도 해결할 수 있다. 특히 '자연환경과 인간' 또는 '사회정의와 불평등' 단원에서 함께 출제될 수 있으므로 유의해야 한다.

수도권에 나타난 의료 불평등에 대한 지역 조사는 주제 및 지역을 선정하고 실내 조사, 야외 조사를 포함하여 지역 정보를 폭넓게 수집한 뒤, 수집한 지역 정보를 분석하여 보고서를 작성하는 순서로 진행된다.

[선지 분석]

- ✕ 수도권 의료 불평등에 대한 논문 및 연구 자료를 수집하는 것은 '실내 조사' 단계에 해당한다.
- ✕ 수도권 의료 불평등이 나타나는 지역을 답사하고 촬영하는 것은 '야외 조사' 단계에 해당한다.
- ✕ 수도권 의료 불평등에 대해 보도한 신문 기사를 스크랩하는 것은 '실내 조사' 단계에 해당한다.
- ✕ 수도권에 살고 있는 의료 취약 계층 주민과의 인터뷰를 실시하는 것은 '야외 조사' 단계에 해당한다.
- ㉤ 수도권에 나타난 의료 불평등에 대한 통계 수치를 그래프로 제작하는 것은 '지역 정보 분석' 단계에 해당한다.

고득점을 위한 핵심 개념

수도권과 지방의 의료 불평등

- 건강권은 모든 국민이 평등하게 누려야 할 기본적인 권리임에도 수도권과 지방 사이에 의료 격차가 크며, 이는 지역 간 건강 불평등을 유발함.
- 의료 접근성의 차이는 질병 예방과 치료, 삶의 질에 이르는 전반적인 건강에 영향을 미치기 때문에 매우 중요한 문제임.

수능 기본 문제

102~103쪽

- 01 ⑤ 02 ② 03 ④ 04 ④ 05 ③ 06 ④
07 ③ 08 ③

01 아리스토텔레스의 정의

출제 예상 포인트 제시문은 통합사회 6종 교과서에서 공통적으로 다루는 자료이고 전국연합학력평가에서도 자주 등장하는 자료이므로 대학수학능력시험에 출제될 가능성이 높다. 특히 아리스토텔레스가 구분한 일반적 정의, 분배적 정의, 교정적 정의에 대해서는 명확하게 이해해야 한다.

제시문의 사상가는 아리스토텔레스이다. 아리스토텔레스는 정의를 일반적 정의와 특수적 정의로 구분하고, 특수적 정의를 다시 분배적 정의, 교환적 정의, 교정적 정의로 구분하였다. 일반적 정의는 법을 지키는 것이고, 분배적 정의는 각 사람의 가치에 따라 사회적 가치를 분배하는 것이다. 교환적 정의는 교환의 결과를 동등하게 하는 것이며, 교정적 정의는 서로 간에 동등하지 않은 것을 바로잡는 것이다.

[선지 분석]

- ① 아리스토텔레스는 정의를 일반적 정의와 특수적 정의로 구분하였고, 일반적 정의는 법을 준수하는 것이라고 보았다.
- ② 아리스토텔레스는 분배적 정의란 각 사람의 가치에 따라 재화, 권력, 명예와 같은 사회적 가치가 공정하게 분배되는 것이라고 보았다.
- ③ 아리스토텔레스는 교정적 정의에 따라 타인에게 해를 끼쳤을 때는 그만큼 보상하게 하는 것이 정의롭다고 보았다.
- ④ 아리스토텔레스는 타인에게 해를 끼쳤으면 그만큼 보상하게 하거나 처벌하고, 이익을 주었으면 그만큼 돌려받게 함으로써 서로 동등하지 않은 것을 바로잡는 것이 교정적 정의라고 주장하였다.
- ⓧ 아리스토텔레스는 정의를 실현함으로써 사회적 갈등을 해결할 수 있다고 보았다. 아리스토텔레스에 따르면, 정의는 모든 사람에게 동일한 몫이 분배되는 것이 아니라 각자가 가진 가치에 비례하여 분배되는 것이다.

고득점을 위한 핵심 자료

아리스토텔레스의 『니코마코스 윤리학』

당사자들이 동등함에도 동등하지 않은 몫을, 혹은 동등하지 않은 사람들이 동등한 몫을 분배받아 갖게 되면 싸움과 불평이 생겨난다. 또한 분배에서 정의로운 것은 어떤 가치에 따라 이루어져야 한다. 그럼에도 모든 사람이 동일한 것을 가치로 주장하는 것은 아니다. 그러므로 정의로운 것은 일종의 비례적인 것으로서, 수학자들은 이러한 비례를 기하학적 비례라고 부른다.

교정적 정의는 자발적인 교섭과 비자발적인 교섭 둘 다에서 발생한다. 상호 교섭에서 정의로운 것은 어떤 종류의 동등함이며, 이때의 동등함은 산술적 비례에 따르는 것이다. 법은 손해의 차이에만 주목하며 당사자들은 모두 동등한 사람으로 간주한다.

아리스토텔레스에게 분배적 정의는 가치와 업적에 비례하여 명예나 보수 등을 분배해야 한다는 것이고, 교정적 정의는 타인에게 해를 끼쳤으면 그만큼 보상해 주고, 이익을 주었으면 그만큼 돌려받아야 한다는 것이다. 이때, 분배적 정의는 기하학적 비례를 따르고, 교정적 정의는 산술적 비례를 따른다.

02 필요에 따른 분배와 업적에 따른 분배

출제 예상 포인트 분배적 정의의 실질적 기준의 특징에 대한 문제뿐만 아니라 업적, 능력, 필요에 따른 분배의 기준과 함께 구체적인 사례와 연결하는 문제가 출제될 수도 있다. 따라서 다양한 분배 기준을 실제 상황과 연결하여 판단하는 연습이 필요하다.

같은 필요에 따른 분배, 혹은 업적에 따른 분배를 지지하는 입장이 있다. 필요에 따른 분배는 모든 사람이 기본적 욕구를 충족하고 인간다운 삶을 살 수 있도록 하는 분배이다. 업적에 따른 분배는 각자가 성취한 업적과 기여도에 따라 이루어지는 분배이다.

[선지 분석]

- ⓧ 노인이 성취한 업적과 기여도에 따라 지하철 무료 이용 여부를 결정해야 한다는 것은 업적에 따른 분배의 입장에 해당하므로 옳지 않다.
- ② 노인의 기본적 필요를 충족할 수 있는 방향으로 지하철 무료 이용 여부를 결정해야 한다는 것은 같이 지지하는 필요에 따른 분배의 입장에 해당한다.
- ⓧ 노인들의 삶의 질 향상을 위해 교통 관련 다양한 복지 제도를 수립해야 한다는 것은 필요에 따른 분배의 입장에 해당하므로 옳지 않다.
- ⓧ 혹은 업적에 따른 분배를 주장하고 있다. 즉 사회적 효율성을 위해 노인들의 지하철 무료 이용 여부를 판단하는 것이 아니라, 노인들의 성취도나 기여도 등에 따라 지하철 무료 이용 여부를 판단해야 한다고 주장할 것이다.

ⓧ 노인들이 가진 능력을 기준으로 지하철 무료 이용 여부를 판단하는 것은 능력에 따른 분배의 입장에 해당하므로 옳지 않다.

03 분배적 정의의 실질적 기준

A는 필요에 따른 분배, B는 업적에 따른 분배, C는 능력에 따른 분배이다. 필요에 따른 분배는 높은 업적이나 성취를 낳을 수는 없지만 사회적 약자를 보호하고 불평등을 해소할 수 있다. 업적에 따른 분배는 명확하고 객관적으로 측정할 수 있지만, 과열된 경쟁으로 인해 사회 갈등을 초래할 수 있다. 능력에 따른 분배는 명확하고 객관적인 측정 기준은 없지만, 잠재력을 계발하여 사회 발전에 이바지할 수 있다.

[선지 분석]

- ⓧ 각자가 지닌 육체적·정신적 능력을 기준으로 분배하는 것은 능력에 따른 분배인 C이다.
- ⓧ 사회적 안전망을 마련하고 불평등을 완화하는 역할을 하는 것은 필요에 따른 분배인 A이다.
- ⓧ 객관적 평가와 측정이 쉽다는 점은 업적에 따른 분배인 B의 장점이다.
- ④ 필요에 따른 분배는 업적에 따른 분배와 달리 사회 구성원의 인간다운 삶을 보장하는 것을 우선한다.
- ⓧ 자연적으로 타고난 자질이나 부모의 사회적·경제적 지위로부터 영향을 받는 것은 능력에 따른 분배인 C이다.

감각 있는 풀이 Tip

업적에 따른 분배만이 높은 업적이나 성취도를 낳는 것이 아니라, 능력에 따른 분배 역시 높은 업적이나 성취도를 낳을 가능성이 높다. 다만 능력이 탁월하다고 해서 반드시 높은 업적이나 성취도로 연결되지는 않는다는 점을 기억할 필요가 있다.

04 칸트와 베카리아의 교정적 정의

같은 칸트, 혹은 베카리아이다. 칸트는 형벌의 본질이 범죄 행위에 대한 응당한 보복을 가하는 것이라고 보고, 살인자에 대한 사형의 정당성을 주장하였다. 베카리아는 형벌이 사회적 이익을 증진하기 위한 수단이라고 보고, 범죄 예방 효과의 극대화를 위해 살인자에 대한 형벌은 사형보다 종신 노역형이 더 정당하다고 보았다.

[선지 분석]

- ⓧ 칸트는 사형 제도란 범죄자가 자신이 저지른 범죄에 대해 자율적으로 책임을 지게 함으로써 인간을 목적 그 자체로 대우하는 정당한 형벌이라고 보았다.
- ⓧ 칸트는 범죄자가 형벌받기를 원해서 형벌을 받는 것이 아니라, 범죄를 저질렀다는 오직 그 이유로 형벌을 받는 것이라고 보았다.
- ⓧ 베카리아는 형벌이 정당화되기 위해서는 강도보다는 지속성이 우선되어야 한다고 보았다. 또한 형벌이 정당화되기 위해서는 범죄자를 교화하고 범죄를 예방하기에 충분한 정도의 강도만을 가지면 된다고 주장하였다.
- ④ 베카리아는 사형보다 범죄 예방 효과가 더 높은 종신 노역형이 바람직하다고 보았다.
- ⓧ 칸트는 살인이라는 범죄 행위에 대한 응당한 형벌은 사형이라고 주장하였지만, 베카리아는 사형보다 종신 노역형이 범죄 예방에 보다 효과적인 형벌이라고 주장하였다.

05 아리스토텔레스의 정의관

아리스토텔레스에게 일반적 정의는 법을 준수하는 것, 교정적 정의는 서로 간에 동등하지 않음을 바로잡는 것, 분배적 정의는 각자가

지닌 가치에 따라 분배하는 것을 의미한다.

[선지 분석]

- ☒ 아리스토텔레스는 일반적 정의를 법을 준수하는 것으로 보았고, 법을 지키는 사람은 정의로운 사람, 법을 어기는 사람은 부정한 사람이라고 보았다. 따라서 '예'에 체크해야 한다.
- ☒ 아리스토텔레스는 분배적 정의가 각자의 가치에 따라 권력, 명예, 재화를 분배함으로써 공정함을 실현하는 것이라고 보았다. 따라서 '예'에 체크해야 한다.
- ☒ 아리스토텔레스는 분배적 정의가 모든 사람이 동일한 것을 가지는 것이 아니라, 각자가 지닌 가치에 비례하여 분배하는 것이라고 보았다. 따라서 '아니오'에 체크해야 한다.
- ☒ 아리스토텔레스는 교정적 정의가 서로 간에 동등하지 않음을 바로잡는 것이라고 보았다. 따라서 '예'에 체크해야 한다.

고득점을 위한 핵심 개념

아리스토텔레스의 일반적 정의와 특수적 정의

특수적 정의	일반적 정의	시민이 공익을 지향하는 법을 준수하여 공동체를 행복하게 만드는 것
	분배적 정의	각자의 가치에 따라 권력, 명예, 재화를 분배함으로써 공정함을 실현하는 것
	교정적 정의	다른 사람에게 해를 끼치면 그만큼 보상하게 하고, 다른 사람에게 이익을 주었으면 그만큼 받게 함으로써 서로 간에 동등하지 않음을 바로잡는 것
	교환적 정의	같은 가치를 지닌 두 물건을 교환하게 함으로써 교환의 결과를 공정하게 하는 것

06 능력에 따른 분배의 공정성

자료는 학생의 능력을 중심으로 입학생을 선발하는 미국 입시 제도의 공정성 문제를 다루고 있다. 자료를 통해 부모의 소득이 높을수록 명문대 입학에 위한 다양한 지원이 가능하고, 실제로 소득이 높은 부모가 있는 사람의 명문대 입학률이 높다는 사실을 알 수 있다.

[선지 분석]

- ☒ 자료는 입시 제도에 대한 관심이 높은 고소득 부모의 지원이 많을수록 자녀의 명문대 입학률이 높다는 점을 보여 주지만 사설의 제목으로 삼기에는 적절하지 않다.
- ☒ 자료는 업적에 따른 입시 제도로 인한 입시 경쟁의 과열 양상을 다루고 있지 않다.
- ☒ 자료는 능력을 기준으로 학생을 선발하는 입시 제도의 공정성 문제에 대해 다루고 있다.
- ☒ 자료는 능력에 근거한 입시 제도가 과연 공정한 것인가에 대해 사실과 그래프를 바탕으로 성찰하고 있다.
- ☒ 자료는 입시 제도에서 능력이라는 기준이 제대로 기능하지 못하고 있는 현실의 모습을 다루고 있다.

감각 있는 풀이 TIP

자료는 능력주의가 가지고 있는 함정을 보여 주고 있다. 많은 사람이 능력이라는 분배의 기준은 공정하다고 생각하고, 능력 있는 사람이 마땅히 보상을 받아야 한다고 여기지만, 능력이라는 기준 또한 부모의 사회·경제적 지위와 같은 우연적 요소가 작용할 수 있으므로 무조건 공정한 기준이라고 보아서는 안 된다.

07 부모와 자녀의 사회·경제적 지위 이동성과 정의

자료는 부모와 자녀의 상대적 사회·경제적 지위 이동성에 대한 그

래프이다. 그래프를 통해 30대보다 20대가 부모보다 사회·경제적 지위가 하락할 가능성이 높으며, 전체적으로도 부모보다 사회·경제적 지위가 하락하는 자녀의 비율이 가장 높다는 점을 알 수 있다.

[선지 분석]

- ☒ 그래프를 보면 전체적으로 부모보다 사회적 지위가 상승한 자녀 비율보다 부모보다 사회적 지위가 하락한 자녀 비율이 더 높다.
- ☒ 20대는 11.8%, 30대는 38.5%로 20대보다 30대가 부모보다 사회·경제적 지위가 상승할 가능성이 높다.
- ☒ 20대는 30대보다, 부모보다 사회·경제적 지위가 상승할 가능성은 낮고, 부모보다 사회·경제적 지위가 하락할 가능성이 압도적으로 높기 때문에 20대가 30대보다 사회·경제적 어려움을 겪을 가능성이 높다.
- ☒ 전체는 23.4%, 30대는 25.5%로 30대는 전체보다 부모와 사회·경제적 지위가 일치하는 경우가 더 높다.

감각 있는 풀이 TIP

그래프를 해석하는 문항은 통합사회 시험에서 자주 출제되는 문항 중 하나이다. 일반사회, 지리, 윤리, 역사 등 다양한 분야에 대한 그래프가 등장할 수 있고, 이를 해석하는 문제가 출제될 수 있으므로 그래프를 정확하게 분석하는 연습이 필요하다.

08 교정적 정의에 대한 응보주의와 공리주의 관점 비교

출제 예상 포인트 제시문은 통합사회 4종 교과서에서 공통적으로 다루는 자료이므로 대학수학능력시험 및 전국연합학력평가에서 출제 가능성이 높다. 교정적 정의는 칸트나 벤담, 베카리아 같은 사상이 중심으로도 공부해야 하지만, 교정적 정의라는 큰 테두리 안에서 응보주의와 공리주의 자체에 대한 문항이 출제될 수도 있으므로 사상 자체의 특징 역시 공부할 필요가 있다.

A는 응보주의, B는 공리주의이다. 응보주의는 형벌의 본질이 범죄 행위에 대한 응당한 보복을 가하는 것이라고 보고, 범죄 행위에 상응하는 동등한 형벌을 부과해야 한다고 주장한다. 공리주의는 형벌이 사회적 이익을 증진하기 위한 수단이라고 보고, 형벌의 사회적 효과를 강조한다.

[선지 분석]

- ☒ A 관점은 교정적 정의를 실현하는 형벌에 관한 응보주의 관점이다.
- ☒ B 관점은 교정적 정의를 실현하는 형벌에 관한 공리주의 관점이다.
- ☒ 응보주의 관점은 형벌의 본질이 범죄 행위에 비례하여 응당한 보복을 가하는 것이라고 주장한다.
- ☒ 응보주의와 공리주의 모두 교정적 정의가 범죄로 인한 부정의를 바로잡는 것이라고 본다.
- ☒ 형벌을 사회적 이익을 증진하기 위한 수단으로 보는 것은 공리주의에만 해당되는 입장이다.

고득점을 위한 핵심 개념

교정적 정의에 대한 두 가지 관점

응보주의	<ul style="list-style-type: none"> 처벌의 본질은 범죄에 상응하는 응당한 보복을 가하는 것 범죄 행위에 상응하는 동등한 형벌 부과 예 살인자에 대한 형벌 → 사형
공리주의	<ul style="list-style-type: none"> 처벌은 범죄자 교화, 범죄 예방 등 사회적 이익을 증진하기 위한 수단 정당한 형벌: 범죄로 인한 이익 < 처벌로 인한 손해(효과적인 범죄 예방의 조건) 예 살인자에 대한 형벌 → 사회적 유용성을 고려하여 결정

감각 있는 풀이 TIP

응보주의와 공리주의는 다른 관점을 가지고 있지만, 두 가지의 관점 모두 교정적 정의를 추구한다는 점에서는 동일하다. 교정적 정의에 대한 두 가지 관점 모두에 공통되는 부분이 있다는 것이다. 교정적 정의는 범죄로 인한 부정의를 바로잡기 위한 목적을 가지고 있다는 것, 교정적 정의가 사적 처벌이 아니라 공적 처벌의 형태로 이루어져야 한다는 것 등은 응보주의와 공리주의 모두 동의하는 주장이다.

1등급 완성 문제

104~105쪽

- 01 ② 02 ④ 03 ① 04 ④ 05 ① 06 ④
07 ③ 08 ④

01 아리스토텔레스의 정의론

출제 예상 포인트 아리스토텔레스가 말하는 정의의 의미와 정의의 구분은 통합사회 8종 교과서에서 모두 중요하게 다루는 내용이므로 대학수학능력시험에 출제될 가능성이 높다.

아리스토텔레스는 정의를 일반적 정의와 특수적 정의로 구분하고, 특수적 정의를 다시 분배적 정의, 교환적 정의, 교정적 정의로 구분하였다. 아리스토텔레스는 정의가 동등하다면 동등한 몫을, 동등하지 않다면 동등하지 않은 몫을 받는 것이라고 표현하였다.

[선지 분석]

- ㉠ 아리스토텔레스는 정의를 동등하다면 동등한 몫을, 동등하지 않다면 동등하지 않은 몫을 받는 것으로 보았다.
 ✖ 아리스토텔레스는 법을 준수하는 것을 일반적 정의라고 주장하였기 때문에 첫 번째 입장은 틀리다. 또한 아리스토텔레스는 분배적 정의를 각자가 지닌 가치에 따라 분배하는 것이라고 주장하였기 때문에 두 번째 입장은 맞다. '교정적 정의는 서로 간의 동등하지 않음을 바로잡는 것이다.'라는 진술은 아리스토텔레스의 입장으로 적절하기 때문에 맞는 답안이므로, ㉠이 2점이라면 들어갈 수 있다.
 ㉡ 아리스토텔레스는 분배적 정의는 기하학적 비례를 따르는 것이고, 교정적 정의는 산술적 비례를 따르는 것이라고 보고, 정의로운 것은 일종의 비례를 따르는 것이라고 주장하였기 때문에 맞는 입장이다. 따라서 현재 자료에 제시된 입장을 모두 합하면 1점이고, (가)에 맞는 입장이 들어가 1점이 추가되었으므로 ㉡은 2점이 된다.
 ✖ 아리스토텔레스는 정의가 일반적 정의와 특수적 정의로 분류된다고 보았기 때문에 맞는 입장이다. 현재 자료에 제시된 입장을 모두 합하면 1점이고, (가)에 맞는 입장이 들어가 1점이 추가되었으므로 ㉢은 2점이 된다.

고득점을 위한 핵심 개념

아리스토텔레스의 정의와 비례

기하학적 비례	분배적 정의는 기하학적 비례의 동등함을 추구하여 각 사람의 가치에 따라 명예, 돈 등 사회적 가치를 분배하는 것 예 서로 다른 직업을 가진 사람들이 동일한 시간을 노동하였다 하더라도 그 직업의 특성에 맞게 다른 임금을 분배하는 것
산술적 비례	교정적 정의는 산술적 비례의 동등함을 추구하여 상대방에게 해를 끼쳤으면 그만큼 보상해 주고, 상대방에게 이익을 주었으면 그만큼 돌려받는 것 예 각각의 범죄 행위의 정도에 따라 처벌의 정도가 다른 것, 다른 사람에게 손해를 입힌 만큼 보상을 하는 것

02 아리스토텔레스의 정의

아리스토텔레스는 일반적 정의가 법을 지키는 것이라고 보고, 법을 지키는 사람은 정의롭고 법을 지키지 않는 사람은 부정의하다고 보았다. 또한 특수적 정의를 분배적 정의와 교환적 정의, 교정적 정의로 구분하였는데, 분배적 정의는 각 사람의 가치에 따라 재화, 권력, 명예와 같은 사회적 가치를 공정하게 분배하는 것이고, 교환적 정의는 교환의 결과를 동등하게 하는 것이라고 보았다. 교정적 정의는 타인에게 손해를 끼친 만큼 보상하고, 이익을 준 만큼 돌려받을 수 있도록 서로 동등하지 않은 것을 바로잡는 것이라고 보았다. (가)에는 아리스토텔레스가 생각하는 분배적 정의에 대한 입장이 들어가야 한다.

[선지 분석]

- ✖ 아리스토텔레스는 일반적 정의가 합법적인 것으로서의 정의를 의미한다고 보았다.
 ✖ 아리스토텔레스는 서로 동등하지 않은 상태를 동등한 상태로 바로잡는 것을 교정적 정의라고 보았다.
 ✖ 아리스토텔레스는 분배적 정의가 각자가 지닌 가치에 따라, 즉 기하학적 비례에 따라 분배받는 것이라고 주장하였다.
 ㉣ 아리스토텔레스는 분배적 정의가 재화나 명예를 각자가 지닌 가치에 따라 분배하는 것이라고 보았다.
 ✖ 아리스토텔레스는 교정적 정의가 행위로 인한 이익과 손해의 차이에 주목하여 이익과 손해를 동등하게 만드는 것이라고 보았다.

감각 있는 풀이 TIP

아리스토텔레스의 입장에서 분배적 정의는 결과적으로 동일하거나 동등하게 만드는 것이 아니라, 각자가 지닌 가치에 비례하여 분배하는 것인데 반해, 교정적 정의는 결과적으로 동등하지 않은 것을 동등하게 바로잡는 것임을 기억해야 한다.

03 칸트와 벤담의 교정적 정의

갑은 칸트, 을은 벤담이다. 칸트는 처벌의 본질이 응보에 있다고 보고, 응보주의를 바탕으로 교정적 정의를 실현해야 한다고 강조하였다. 벤담은 처벌의 본질이 사회적 이익의 증대에 있다고 보고, 공리주의를 바탕으로 교정적 정의를 실현해야 한다고 강조하였다.

[선지 분석]

- ㉠ 칸트는 형벌의 목적이 응보에 있으며, 범죄 행위에 대한 응당한 보복이 형벌의 본질이라고 보았다. 따라서 A에 들어갈 진술로 적절하다.
 ✖ 칸트와 벤담 모두 교정적 정의가 범죄 행위에 대한 처벌을 통해 부정의를 바로잡을 때 실현될 수 있다고 보았다. 따라서 B에 들어가야 할 진술이다.
 ✖ 살인에 대한 교정적 정의가 사형을 통해서만 실현될 수 있다고 보는 것은 칸트만의 입장에 해당한다. 벤담은 사회적 유용성을 고려하여 조건부적으로 사형 여부를 판단해야 한다고 보았다. 따라서 A에 들어가야 할 진술이다.
 ✖ 형벌이 범죄자 교화와 범죄 예방이라는 사회적 이익의 측면에서 집행되어야 한다는 것은 벤담만의 입장이다. 칸트는 형벌이 범죄자 자신이나 시민 사회의 다른 선을 위한 수단으로서 가해질 수 없다고 주장하였으므로 해당 진술은 C에 들어가야 할 진술이다.
 ✖ 벤담은 형벌의 사회적 효과를 강조하며 처벌이 사회적 이익을 증진하기 위한 수단이라고 주장하였으므로 벤담의 주장으로 적절하지 않고 칸트의 입장에 해당한다. 따라서 A에 들어가야 할 진술이다.

고득점을 위한 핵심 개념

칸트와 벤담의 교정적 정의

	칸트	벤담
기본 입장	형벌의 본질은 범죄 행위에 대한 응당한 보복을 가하는 것	형벌의 본질은 범죄자 교화와 범죄 예방을 통한 사회적 이익 증진
사형에 대한 입장	응보주의 관점에서 살인에 대한 사형은 정당함.	공리주의 관점에서 살인에 대한 사형은 사회에 미치는 영향을 고려하여 조건부적으로 결정해야 함.
공통점	형벌은 공적 차원에서 집행되어야 하며, 교정적 정의는 범죄 행위에 대한 처벌을 통해 불균형과 부정의를 바로잡는 것	

감각 있는 풀이 TIP

벤 다이어그램 형태의 문항은 대학수학능력시험이나 전국연합학력평가에서 고득점 문항으로 출제되는 경우가 많다. 이 문항에서 주의해야 할 점은 A가 갑 사상가만의 입장인지, C가 을 사상가만의 입장인지에 대해 정확하게 판단해야 한다는 것이다. 갑의 입장이 맞더라도 을에게도 해당되는 내용이라면 갑만의 입장이라 할 수 없으므로 A에 들어갈 수 없다는 것을 기억해야 한다.

04 베카리아의 교정적 정의

제시문의 사상가는 베카리아이다. 베카리아는 공리주의적 관점에서 처벌의 사회적 효과를 강조하며 살인을 저지른 범죄자에 대한 정당한 형벌은 종신 노역형이라고 보았다. 그는 범죄 예방과 사회 전체의 이익 증진에 부합하는 종신 노역형이 사형보다 범죄 예방 효과가 더 높다고 주장하였다.

[선지 분석]

- ⓧ 베카리아는 살인에 대한 가장 효과적인 형벌은 사형이 아니라 종신 노역형이라고 보았다.
- ⓧ 베카리아는 사형이 범죄 예방 효과가 전혀 없는 형벌은 아니지만, 형벌의 효과 면에서 강도보다 지속성이 우선되므로 강도는 세지만 일시적인 효과만 있는 사형보다는 지속적인 효과를 가지고 있는 종신 노역형이 더 효과적이라고 주장하였다.
- ⓧ 칸트는 범죄에 비례하여 동등성의 원리를 토대로 형벌의 경중을 결정해야 한다고 주장하였으므로 칸트가 간과하고 있는 내용이 아니다.
- ④ 칸트는 살인에 대한 정당한 형벌은 오직 사형뿐이라고 주장하였지만, 베카리아는 범죄 예방의 효과 면에서 일시적인 강도만 가지는 사형보다 지속적인 효과를 낳는 종신 노역형이 더 효과적이라고 주장하였다. 따라서 베카리아가 칸트에게 할 수 있는 비판으로 적절하다.
- ⓧ 베카리아는 형벌의 목적이 사회적 이익, 즉 공동체 전체의 행복 증진에 있다고 보았다.

감각 있는 풀이 TIP

베카리아가 사형의 효과가 전혀 없다고 주장하였던 것은 아니다. 사형보다 종신 노역형이 범죄 예방 측면에서 더 효과가 있음을 강조하였을 뿐이다.

05 칸트와 벤담의 교정적 정의

갑은 벤담, 을은 칸트이다. 벤담은 공리주의적 관점에서 형벌의 목적을 범죄 예방으로 보고, 범죄자 교화 및 일반 시민들의 범죄 예방을 위해 교정적 정의가 실현되어야 한다고 보았다. 칸트는 응보주의적 관점에서 형벌의 목적을 응보로 보고, 범죄에 비례하여 형벌의 경중을 결정해야 한다고 보았다.

[선지 분석]

- ① 벤담은 형벌이 사회적 이익을 증진하기 위해 가해져야 한다고 보았다. 반면 칸트는 형벌이 사회적 이익을 증진하기 위해 가해져서는 안 되며, 오직 범죄를 저질렀다는 이유만으로 가해져야 한다고 주장하였다. 따라서 벤담이 칸트에게 제기할 수 있는 비판으로 적절하다.
- ⓧ 칸트는 형벌의 본질이 범죄 행위에 대한 응보에 있다고 보았다. 따라서 벤담이 칸트에게 제기할 수 있는 비판으로 적절하지 않다.
- ⓧ 칸트와 벤담은 모두 범죄 행위에 대한 처벌을 통해 부정의를 바로잡는 교정적 정의를 실현해야 한다고 주장하였다. 따라서 벤담이 칸트에게 제기할 수 있는 비판으로 적절하지 않다.
- ⓧ 칸트와 벤담은 모두 형벌이 공적 차원에서 이루어져야 한다고 주장하였다. 따라서 칸트가 벤담에게 제기할 수 있는 비판으로 적절하지 않다.
- ⓧ 칸트는 범죄자가 사회적 이익을 위해 수단시되어서는 안 된다고 보았고, 벤담은 형벌이 범죄 예방과 같은 사회적 이익을 위해 집행되어야 한다고 주장하였다. 따라서 칸트가 벤담에게 제기할 수 있는 비판으로 적절하지 않다.

06 분배적 정의의 실질적 기준

A는 업적에 따른 분배, B는 능력에 따른 분배, C는 필요에 따른 분배이다. 업적에 따른 분배는 각자가 성취한 업적과 기여도에 따라 분배가 이루어지는 것을 말하고, 능력에 따른 분배는 잠재력과 재능, 신체적·정신적 능력이 있는 사람에게 더 많은 가치가 분배되는 것을 말한다. 필요에 따른 분배는 모든 사람이 기본적 욕구를 충족하고 인간다운 삶을 살 수 있도록 분배가 이루어지는 것을 말한다.

[선지 분석]

- ⓧ A는 업적에 따른 분배이다.
- ⓧ B는 능력에 따른 분배이다. 모든 사람의 필요를 충분히 충족하는 것이 불가능하다는 문제점을 가지고 있는 것은 필요에 따른 분배이다.
- ⓧ C는 필요에 따른 분배이다. 개인의 성취동기를 자극하여 사회적 생산성을 높일 수 있는 분배는 업적에 따른 분배이다.
- ④ 업적에 따른 분배와 능력에 따른 분배는 모두 개인의 성취동기 자극과 잠재력 계발을 통해 결과적으로 높은 업적을 도출할 수 있다는 공통점이 있다.
- ⓧ 개인의 잠재력을 실현할 수 있는 기회를 더 많이 포함하는 것은 필요에 따른 분배가 아니라 능력에 따른 분배이다.

고득점을 위한 핵심 개념

분배적 정의의 실질적 기준

업적에 따른 분배	더 큰 업적을 쌓으려는 성취동기를 자극하여 생산성이 높아져 사회가 발전할 수 있음.
능력에 따른 분배	능력이 뛰어난 사람이 자신의 재능을 마음껏 발휘할 수 있는 기회를 제공함으로써 개인의 성취동기를 높이고 사회 발전에도 기여할 수 있음.
필요에 따른 분배	사회적 약자를 위한 다양한 복지 제도와 사회 안전망을 마련하여 사회적 불평등을 개선할 수 있음.

감각 있는 풀이 TIP

능력에 따른 분배와 업적에 따른 분배는 서로 다른 특징을 가지고 있지만, 두 가지 분배 기준 모두 개인의 성취동기를 자극하여 높은 업적을 도출할 수 있다는 공통점을 가지고 있다.

07 분배적 정의의 실질적 기준

A는 업적에 따른 분배, B는 필요에 따른 분배이다. 업적에 따른 분

12

다양한 정의관의 특징과 불평등 현상

기출 유형 문제

109쪽

01-① ③

01-② ④

02-① ⑤

02-② ④

01-① 롤스와 노직의 분배적 정의

출제 예상 포인트 롤스와 노직의 정의관은 통합사회 8종 교과서에서 모두 다루는 내용이므로 대학수학능력시험이나 전국연합학력평가에 출제될 가능성이 높다. 롤스와 노직의 원전을 중심으로 정의관의 특징뿐만 아니라 두 사상가의 공통점도 함께 알아 두면 고득점 문제에 대비할 수 있다.

같은 노직, 옳은 롤스이다. 노직은 재화의 취득과 이전의 과정이 정당하다면 그 과정을 통해 얻은 소유물에 대한 개인의 절대적 소유권이 보장되어야 한다고 보았다. 롤스는 모든 사람이 기본적 자유를 최대한 누릴 수 있는 평등한 권리를 가져야 하며, 사회적 약자의 이익을 증진하는 것이 정의롭다고 주장하였다.

[선지 분석]

㉠ 노직은 국가의 역할을 개인의 소유권을 보호하는 것에 국한하는 최소 국가를 지향하였다. 그러나 취득이나 이전의 과정에서 개인의 소유물에 대한 부정의함이 발견된다면 개인의 소유권을 보호하기 위해 국가가 개입할 수 있다고 보았다.

㉡ 노직은 개인의 소유물에 대한 권리는 배타적·절대적으로 보장되어야 한다고 보고, 개인의 소유물을 세금으로 걷어 사회적 약자를 위한 정책을 시행하는 것은 정의롭지 않다고 보았다.

㉢ 롤스는 최소 수혜자의 최대 이익이 될 때 정의가 실현된다고 보지만, 이러한 차등의 원칙을 최우선으로 삼은 것은 아니다. 롤스는 정의의 원칙들 간에도 서열이 있다고 보고, 평등한 자유의 원칙과 공정한 기회균등의 원칙이 보장된 이후 차등의 원칙을 보장해야 한다고 주장하였다. 다시 말해 최소 수혜자의 이익보다 개인의 기본적 자유 보장이 더 우선하므로 최소 수혜자의 이익을 위해서라도 개인의 기본적 자유는 제한되어서는 안 된다고 보았던 것이다.

㉣ 롤스와 노직은 모두 분배의 과정이 정당하다면 분배의 결과 또한 정의롭다는 절차적 정의를 주장하였다.

고득점을 위한 핵심 개념

롤스와 노직의 정의의 원칙

노직	① 정당한 최초 취득의 원칙 ② 양도의 원칙(교환, 상속, 증여 등) ③ 교정의 원칙(정당한 최초 취득의 원칙이나 양도의 원칙에 부정의가 발견되었을 경우 국가가 개입할 수 있음.)
롤스	① 평등한 자유의 원칙 ② 공정한 기회균등의 원칙 ③ 차등의 원칙 *원칙들은 축차적 서열에 따라 ①-②-③의 순서로 적용됨.

롤스와 노직은 모두 위와 같은 정의의 원칙을 따르는 정의로운 과정을 거치면 결과의 정의가 보장된다는 절차적 정의를 주장하였다.

배는 성과와 실적에 따라 분배하는 것으로 객관적으로 평가하고 측정하는 것이 비교적 쉽고, 열심히 노력하려는 동기를 제공하여 사회 발전에 이바지할 수 있다. 필요에 따른 분배는 인간다운 삶을 위한 기본적인 욕구를 충족할 수 있도록 분배하는 것으로 사회적 약자를 위해 더 많은 재화를 사용함으로써 사회 구성원의 인간다운 삶을 보장하고 사회적 불평등을 완화할 수 있다.

[선지 분석]

㉠ 사회적 안전망의 보장을 통해 사회적 불평등 해소를 지향하는 것은 필요에 따른 분배에 해당한다.

㉡ 필요에 따른 분배는 인간다운 삶을 위한 기본적인 욕구를 충족할 수 있도록 하는 분배를 지향한다.

㉢ 업적에 따른 분배는 객관적으로 평가하고 측정하기가 비교적 쉽다는 장점이 있다.

㉣ 업적에 따른 분배와 필요에 따른 분배는 모두 사회적 가치를 공정하게 분배하여 각자에게 각자의 몫을 부여하고자 한다. 단지 분배의 기준이 다를 뿐이다.

감각 있는 풀이 TIP

모든 분배적 정의가 지향하는 것은 인간이 살아가는 데 필요한 사회적 가치를 공정하게 분배하여 각자에게 각자의 몫이 돌아가도록 하는 것이다. 다만 적절한 분배 기준이 무엇인지를 놓고 업적, 능력, 필요 등으로 구분되는 것뿐이다.

08 분배적 정의의 실질적 기준

자료는 고등학교 입시와 관련된 신입생 모집 요강이다. 자료에 제시된 ㉠은 필요에 따른 분배, ㉡은 능력에 따른 분배와 관련이 있다. 기회 균형 전형은 사회적 약자에게 고른 기회를 부여하기 위한 제도이므로 필요에 따른 분배에 해당하고, 영재성이 높은 지원자를 선발하는 것은 개인의 잠재력과 능력을 기준으로 입학 자격을 분배하는 것이므로 능력에 따른 분배에 해당한다.

[선지 분석]

㉠ 기회 균형 전형은 교육 급여 수급자, 차상위 계층, 한 부모·이주 배경 학생 등 사회적 약자들의 요구와 필요를 충족하기 위한 것으로, 필요에 따른 분배에 해당한다.

㉡ 자료에 따르면 기회 균형 전형의 모집 인원은 28명으로 2021학년도부터 2023학년도까지 모두 동일하다.

㉢ 자료에 따르면 2021학년도에는 지원 인원이 33명, 2022학년도에는 지원 인원이 53명, 2023학년도에는 68명으로 기회 균형 전형의 경쟁률은 점점 높아지고 있는 추세이다.

㉣ 영재성이 높다고 판단한 지원자를 입학생으로 선발하는 것은 개인이 가진 탁월한 능력을 기준으로 선발하는 것이기 때문에 능력에 따른 분배에 해당한다.

㉤ 능력에 따른 분배는 필요에 따른 분배보다 사회 구성원의 성취동기를 높이고 잠재력을 계발할 동기를 적극적으로 자극하여 사회 발전에 이바지할 수 있다.

감각 있는 풀이 TIP

분배적 정의의 실질적 기준을 이해하기 위해서는 업적·능력·필요에 따른 분배에 대한 특징과 함께 각각에 해당하는 사례를 이해하는 것이 도움이 된다. 업적에 따른 분배의 대표적 사례는 업무 성과에 따라 보상을 부여하는 성과급, 능력에 따른 분배의 대표적 사례는 능력을 갖춘 학생을 선발하는 입시 제도이다. 또한 필요에 따른 분배의 대표적 사례는 복지 정책을 통해 경제적 상황이 어려운 저소득 계층을 지원하는 것, 재난을 당한 사람들에게 생활필수품을 지원하는 것이다.

01-② 고령화에 따른 노인의 소득 불평등 문제

출제 예상 포인트 다양한 분야의 불평등과 개선 방안에 대한 문항은 사례와 함께 대학수학능력시험에서 출제될 가능성이 높다.

자료는 우리나라의 인구 고령화와 소득의 차이로 인해 경제적 불평등이 나타나는 현상을 보여 준다. 이러한 현상을 해결하기 위해서는 다양한 사회 복지 제도가 필요하다.

[선지 분석]

진술 1: 자료의 그래프는 인구 고령화에 따른 소득 불평등을 보여 준다. 이러한 소득 불평등은 사회 계층의 양극화 현상이나 사회적 약자에 대한 차별 현상과 관련이 있다. 공간 불평등은 지역 간에 경제적·사회적·문화적 수준의 차이가 나타나는 현상을 의미한다.

진술 2: 자료의 그래프를 보면 50세 이상부터 집단 내 소득 불평등도가 급격히 상승하고 있음을 알 수 있다.

진술 3: 자료의 그래프에 따르면 2015년의 소득 불평등 정도가 2021년의 소득 불평등 정도보다 낮다.

02-① 자유주의적 정의관과 공동체주의적 정의관

‘나’는 공동체주의적 정의관의 입장, ‘어떤 사람들’은 자유주의적 정의관의 입장에 해당한다. 공동체주의적 정의관은 공동체의 유지와 발전을 위해 개인이 공동체의 구성원으로서 책임과 의무를 다할 것을 강조한다. 자유주의적 정의관은 개인의 자유로운 선택을 강조하며 개인의 권리 보장과 자유 실현을 최우선의 목표로 여긴다. (가)에는 공동체주의적 정의관의 입장에서 자유주의적 정의관의 입장에 대해 제기할 비판으로 적절한 진술이 들어가야 한다.

[선지 분석]

☒ 국가가 개인의 자유와 권리를 최대한 보장해야 한다고 주장하는 것은 자유주의적 정의관의 입장이다.

☒ 공동체의 선보다 개인의 독립성과 자율성이 우선한다고 주장하는 것은 자유주의적 정의관의 입장이다.

☒ 국가가 개인에게 공동체의 특정한 가치를 강요해서는 안 되며 개인 스스로의 자유로운 선택을 존중해야 한다고 주장하는 것은 자유주의적 정의관의 입장이다.

☒ 개인의 자유와 권리 보호를 최우선으로 삼아야 하며, 국가나 사회는 개인의 자유와 권리를 보호하기 위한 수단일 뿐이라고 주장하는 것은 자유주의적 정의관의 입장이다.

☒ 공동체에서 요구하는 책임과 의무를 성실히 이행하는 것이 정의라고 주장하는 것은 공동체주의적 정의관의 입장이다. 따라서 공동체주의적 정의관의 입장에서 자유주의적 정의관의 입장에 대해 제기할 비판으로 적절하다.

고득점을 위한 핵심 개념

자유주의적 정의관과 공동체주의적 정의관

	자유주의적 정의관	공동체주의적 정의관
기본 입장	개인의 자유와 권리를 중시하고 개인 스스로의 자유로운 선택을 존중	공동체의 유지와 발전을 위해 공동체 구성원으로서 개인의 책임과 의무를 강조
국가에 대한 입장	국가의 개입은 개인의 권리를 침해할 수 있으므로 최소화해야 함.	공동선을 위해 국가가 개인의 삶에 일정 부분 개입할 수 있음.
자아	공동체에 매여 있지 않은 개별적·독립적 자아	공동체에 소속되어 역할과 책임을 부여받고 전통과 규범을 따르는 연고적 자아

02-② 공동체주의적 정의관과 자유주의적 정의관

출제 예상 포인트 자유주의적 정의관과 공동체주의적 정의관을 비교하는 문제는 대학수학능력시험에서 출제될 가능성이 매우 높다. 표, 순서도, 벤 다이어그램, 상호 비판 등 다양한 형식으로 출제될 수 있기 때문에 다양한 형식의 문항을 많이 접해 보는 것이 좋다.

A는 공동체주의적 정의관, B는 자유주의적 정의관이다. 공동체주의적 정의관은 개인의 좋은 삶은 그가 속한 공동체와 분리될 수 없으며, 개인의 선택만으로는 어떤 삶이 좋은 삶인지 결정할 수 없다고 본다. 자유주의적 정의관은 개인은 어떤 삶이 좋은 삶인지 결정할 수 있는 주체이며, 개인의 좋은 삶은 공동체와 분리될 수 있다고 본다.

[선지 분석]

☒ 자유주의적 정의관은 개인의 좋은 삶이 공동체와 분리될 수 있다고 보기 때문에 ㉠에는 ‘아니요’가 들어가야 한다.

☒ 개인의 자유와 권리 보장을 정의와 연결하여 이해하는 것은 자유주의적 정의관이다.

☒ 사회적 유대감, 배려와 같은 공동체적 가치의 함양을 강조하는 것은 공동체주의적 정의관이다.

☒ 자유주의적 정의관은 공동체주의적 정의관과 달리 공동체가 개인에게 특정한 가치를 강요해서는 안 된다고 본다.

☒ 개인이 공동체의 영향을 받으며 정체성을 형성하는 존재임을 강조하는 것은 공동체주의적 정의관에만 해당한다.

수능 기본 문제

110~113쪽

01 ③	02 ⑤	03 ②	04 ⑤	05 ⑤	06 ②
07 ③	08 ⑤	09 ①	10 ④	11 ③	12 ③
13 ②	14 ⑤	15 ⑤	16 ④		

01 자유주의적 정의관과 공동체주의적 정의관

(가)는 자유주의적 정의관, (나)는 공동체주의적 정의관이다. 자유주의적 정의관은 모든 인간이 자유롭고 존엄하며, 자신이 원하는 삶을 자율적으로 결정할 수 있는 자유와 권리를 지니고 있으므로 공동체가 개인의 자유와 권리를 최대한 보장해야 한다고 본다. 공동체주의적 정의관은 인간은 공동체와 무관하게 존재할 수 없으며 공동체 속에서 소속감을 느끼며 정체성을 형성해 나가는 존재라고 본다.

[선지 분석]

☒ 자유주의적 정의관은 행복한 삶을 실현하는 데 있어서 공동선보다 개인선이 우선한다고 본다.

☒ 개인이 공동체의 구성원으로서 공동체의 덕목을 실천하며 살아가는 존재라고 보는 것은 공동체주의적 정의관이다.

☒ 공동체주의적 정의관은 개인이 공동체 속에서 정체성을 형성하는 존재라고 보고, 좋은 삶도 공동체와 무관하지 않다고 주장한다.

☒ 공동체주의적 정의관은 국가가 바람직한 삶과 공동선을 위해 개인의 삶에 개입할 수 있다고 본다.

☒ 본배의 기준을 공동체 구성원들이 공유하는 가치에 찾고자 하는 것은 공동체주의적 정의관에만 해당하는 입장이다.

02 자유주의적 정의관과 공동체주의적 정의관

A는 자유주의적 정의관, B는 공동체주의적 정의관이다. 자유주의적 정의관은 개인을 공동체와 구분되는 독립적인 자아로 이해하고, 개인의 자유를 다른 무엇보다 중요한 가치로 인식한다. 공동체주의적 정의관은 개인이 연고적 자아로서 공동체 내에서 자신에게 부여된 책임과 역할을 온전히 수행함으로써 정체성을 형성한다고 본다.

[선지 분석]

- ❌ 공동체주의적 정의관은 공동체가 발전함으로써 개인의 행복한 삶도 가능하다고 주장하므로 '개인은 사회에 우선하며 공동체는 개인들의 총합일 뿐인가?'라는 질문에 '아니요'라고 답할 것이다.
- ❌ 자유주의적 정의관은 타인의 자유를 함부로 침해하는 것을 허용하지 않는다는 점에서 극단적 이기주의와 구분된다. 따라서 '타인의 자유를 침해하지 않는 한'이라는 제한을 전제로 개인의 자유를 중요한 가치로 여긴다.
- ❌ 개인 스스로의 선택과 책임을 강조하며 공동체와 구분되는 독립적·개별적 자아를 중시하는 것은 자유주의적 정의관이다.
- ❌ 개인이 사익을 추구하면 자연스럽게 공동체의 이익도 증가한다고 보는 관점은 자유주의적 정의관이다.
- ⑤ 자유주의적 정의관과 공동체주의적 정의관은 대립하는 것처럼 보이지만 두 가지 관점 모두 개인과 공동체의 바람직한 관계가 필요함을 강조한다는 점에서 공통점이 있다.

감각 있는 풀이 TIP

자유주의적 정의관과 공동체주의적 정의관은 모두 개인과 공동체의 바람직한 관계의 필요성을 강조한다. 다만 개인의 자유와 사익을 더 우선하는지, 공동체가 추구하는 가치와 공동선을 더 우선하는지의 차이가 있을 뿐이다.

03 자유주의적 정의관과 공동체주의적 정의관

갑은 자유주의적 정의관, 을은 공동체주의적 정의관의 입장을 취하고 있다. 자유주의적 정의관은 개인의 자유와 권리를 중시하므로 부유세 부과에 반대할 것이고, 공동체주의적 정의관은 공동선 실현을 중시하므로 부유세 부과에 찬성할 것이다.

[선지 분석]

- ❌ 자유주의적 정의관은 개인 간의 자유로운 경쟁을 추구하므로 초부유층에게 걷는 부유세는 정당하지 않다고 볼 것이다.
- ② 자유주의적 정의관은 부유세를 통해 빈곤국을 돕는다고 하더라도 세금을 걷는 것은 개인의 소유물을 강제로 이용하는 행위이므로 정당하지 않다고 볼 것이다.
- ❌ 공동체주의적 정의관은 개인선보다 공동선을 우선하므로 사회 전체에 이익이 되는 부유세가 정당하다고 볼 것이다.
- ❌ 공동체주의적 정의관은 개인의 경제적 자유를 존중하는 것보다 공동체 보호가 더 중요하다고 본다.
- ❌ 개인이 자유롭게 이익을 추구하면 사회 전체의 부 역시 자연스럽게 증가한다고 보는 입장은 자유주의적 정의관에만 해당한다.

고득점을 위한 핵심 개념

부유세를 바라보는 관점

부유세란 경제적 부가 한쪽으로 편중되는 것을 억제하기 위해 채택한 세금 제도를 말한다.

	자유주의적 정의관	공동체주의적 정의관
입장	개인의 경제적 부의 소유권과 사용권은 개인에게 있으므로 부유세 부과 반대	개인보다 공동의 가치와 공동선 실현이 우선되므로 부유세 부과 찬성

04 매킨타이어의 공동체주의적 정의관

출제 예상 포인트 매킨타이어의 공동체주의적 정의관은 통합사회 8종 교과서에서 모두 다루는 내용으로 대학수학능력시험에 출제될 가능성이 높다. 특히 자유주의적 정의관을 강조하는 롤스나 노직과 비교하여 출제되거나 구체적인 사례와 연계하여 출제될 수 있기 때문에 명확한 이해가 필요하다.

제시문의 사상가는 매킨타이어이다. 매킨타이어는 인간의 삶이 항상 공동체 속에서 이루어진다고 보았고, 개인은 사회적 역할을 통해 자신의 정체성을 형성하며, 공동체의 역사적 흐름 속에서 이상적 삶을 구성할 수 있다고 주장하였다.

[선지 분석]

- ❌ 선거 참여율을 높이는 것이 공동체를 위한 것이므로 매킨타이어는 공동체 구성원으로서 개인의 역할을 강조할 것이다.
- ❌ 매킨타이어는 의무 투표제가 선거라는 공동체의 목적을 달성하기 위해 이루어져야 한다고 볼 것이다.
- ❌ 매킨타이어는 의무 투표제 시행이 공동체를 위해 필요하며 공동선을 추구하면 자연스럽게 개인의 자유 및 사익이 보장될 수 있다고 볼 것이다.
- ❌ 매킨타이어는 의무 투표제가 민주주의라는 공동체의 목표 실현을 위해 필요하다고 볼 것이다.
- ⑤ 매킨타이어는 개인이 공동체에 소속되어 자신의 역할을 담당할 때 의미 있는 삶을 살 수 있다고 보았다. 따라서 개인이 공동체 구성원으로서 지니는 의무를 다해야 한다고 주장할 것이다.

고득점을 위한 핵심 자료

매킨타이어의 공동체주의적 정의관

덕은 습득된 인간의 자질로서, 그것을 소유하고 실행하면 우리는 실천에 내재된 선을 성취할 수 있고, 그것이 없으면 우리가 그런 선을 성취하는 것이 제지된다. 핵심적인 덕성이 없다면 우리가 실천에 내재된 선으로 다가가는 것이 봉쇄된다. 나는 개인이라는 자격만으로 결코 선을 추구하거나 미덕을 실천할 수 없다. — 매킨타이어, 『덕의 상실』

매킨타이어는 공동체의 전통과 역사에 주목하여 도덕적 판단에서 구체적이고 맥락적인 사고를 강조하였다. 그는 공동체가 공유하는 덕이 개인의 행동을 지도하고 판단하는 기준이자 공동선을 위한 토대가 된다고 보았다.

05 샌델의 공동체주의적 정의관

그림의 강연자는 공동체주의자인 샌델의 입장을 취하고 있다. 샌델은 개인이 특정한 공동체의 문화와 역사 등의 영향을 받으며 자신의 정체성을 형성하는 연고적 자아라고 보고, 책임 의식을 가지고 공동선 증진에 기여할 것을 강조하였다.

[선지 분석]

- ① 샌델은 공동체주의적 정의관의 관점에서 공동체가 개인들의 합 이상의 의미를 가지고 있으며 개인의 정체성을 형성하는 데 중요한 역할을 한다고 강조하였다.
- ② 샌델은 개인의 정체성 자체가 공동체에 의해서 정의될 수 있으므로 공동체가 발전함으로써 개인도 행복한 삶을 영위할 수 있다고 보았다.
- ③ 샌델은 개인이 공동체 속에서 사회적 책임, 유대감, 협력 등의 공동체적 가치를 내면화하며 살아가야 한다고 주장하였다.
- ④ 샌델은 개인을 연고적 자아로 보고, 공동체를 떠나 개인만의 독립성과 자율성을 강조하는 태도는 옳지 못하다고 보았다.

✕ 샌델은 공동체가 추구하는 가치를 실현하기 위해 공동체가 개인의 삶에 개입할 수 있다고 보았다. 공동체의 가치 실현을 위해 개인의 삶에 개입해서는 안 된다고 보는 것은 자유주의적 정의관의 입장이다.

고득점을 위한 핵심 개념

공동체주의적 정의관

매킨 타이어	<ul style="list-style-type: none"> • 인간은 공동체 구성원으로서 사회적 연대감이 필요한 존재 • 개인은 공동체의 도덕을 바탕으로 가치관을 형성하고 사회적 연대감을 함양해야 함.
샌델	<ul style="list-style-type: none"> • 정의로운 사회를 만들기 위해서 공동체의 공동선을 실현하는 것이 무엇보다 중요 • 개인은 연고적 자이며 공동체가 공유하는 가치와 목적을 실현해야 함.
왈처	모든 사회에서 동일하게 중요하다고 인정되는 가치는 없으므로, 가치를 분배할 때는 공동체의 문화적 특수성과 차이를 고려해야 함.

06 매킨타이어의 공동체주의적 정의관

가장 편지를 쓴 사상가는 매킨타이어이다. 매킨타이어는 공동체와 분리되어 독립적으로 존재하는 개인은 있을 수 없으며, 모든 인간은 특정한 공동체 안에서 태어나 그 공동체의 구성원으로서 공동체의 덕목을 실천하며 살아가는 존재라고 보았다.

[선지 분석]

- ㉠ 매킨타이어는 공동체가 개인이 좋은 삶을 살아가는 데 중요한 기반이며 공동체의 발전을 통해 개인도 행복한 삶을 영위할 수 있다고 보았다.
- ✕ 매킨타이어는 인간의 삶이 공동체에 뿌리를 두고 있음을 강조하며, 공동체는 개인의 정체성을 형성하는 중요한 의미를 갖는다고 주장하였다.
- ㉡ 매킨타이어는 개인의 삶의 역사가 항상 개인의 정체성을 도출해 내는 공동체의 역사 속에 편입되어 있다고 주장하며 개인의 도덕적 판단에도 공동체의 전통과 역사가 반영되어 있다고 보았다.
- ✕ 매킨타이어는 개인이라는 자격만으로는 결코 선을 추구하거나 덕을 실천할 수 없다고 보고, 개인의 삶에서 공동체의 중요성을 강조하였다.

감각 있는 풀이 TIP

매킨타이어는 개인이라는 자격만으로는 결코 선을 추구하거나 덕을 실천할 수 없을 정도로 개인의 삶에서 공동체가 미치는 영향이 크다는 것을 강조하였다. 이에 따라 공동체가 개인의 도덕적 출발점을 구성한다고 보았다.

07 자유주의적 정의관

칼럼은 자유주의적 정의관의 입장에서 양심적 병역 거부에 따른 대체 복무제를 지지한다. 칼럼은 개인이 자신의 신념에 따라 행동할 수 있도록 권리를 존중해야 하며, 인간의 존엄성이라는 가치를 보호해야 한다고 주장한다.

[선지 분석]

- ㉠ 칼럼은 자유주의적 정의관의 관점에서 어떤 삶의 방식에 대한 판단은 개인 스스로 결정할 수 있도록 국가가 개입해서는 안 된다고 본다.
- ✕ 개인이 공동체 속에서의 역할을 수행함으로써 자신의 정체성을 형성할 수 있다고 보는 것은 공동체주의적 정의관의 관점이다.
- ✕ 개인은 공동체가 추구하는 가치와 목적하에서 사회적 책임과 의무를 다해야 한다고 보는 것은 공동체주의적 정의관의 관점이다.
- ㉡ 칼럼은 자유주의적 정의관의 관점에서 개인이 공동체와 독립적으로 존재하며 자신의 신념에 따라 원하는 삶을 스스로 선택할 수 있는 자유를 가지고 있다고 주장한다.

감각 있는 풀이 TIP

칼럼은 개인이 신념에 따라 행동할 수 있는 권리를 무조건적으로 지켜야 할 인권으로 존중해야 한다고 보고, 종교적 신념에 따른 행동 또한 인간의 존엄성 존중의 측면에서 인정되어야 한다고 주장한다. 이러한 내용을 바탕으로 칼럼의 입장이 자유주의적 정의관을 지향하고 있음을 알 수 있다.

08 롤스와 노직의 정의관

갑은 노직, 을은 롤스이다. 노직은 개인이 자신의 삶을 선택할 자유와 소유권을 최우선으로 보호하는 것이 정의라고 보고, 정의 실현을 위해 국가는 개인의 소유권을 보호하는 최소한의 역할만 해야 한다고 주장하였다. 롤스는 개인의 자유를 보장하면서도 사회적·경제적 불평등 문제를 최소화해야 정의가 실현된다고 보고, 공정한 절차를 거쳐 합의된 정의의 원칙을 마련해야 한다고 주장하였다.

[선지 분석]

- ㉠ 롤스와 노직은 모두 절차적 정의의 관점에서 과정이 정당하면 결과 또한 정당하다고 보았다. 따라서 정의로운 과정을 통해 발생하였다면, 그 결과로 사회·경제적 불평등이 나타나더라도 정당하다고 보았다.
- ㉡ 롤스와 노직은 모두 절차적 정의의 관점에서 분배 과정의 부정의를 바로잡지 않으면 결과의 부정의가 나타날 수밖에 없다고 보았다. 따라서 절차적 정의를 실현하기 위해서 분배 과정의 부정의를 바로잡고자 국가가 개입하는 것이 정당하다고 보았다.
- ㉢ 노직은 개인의 배타적인 소유권 보호를 가장 우선하므로 사회적 약자를 위해서라 할지라도 개인의 기본적 자유를 침해하는 것은 정의롭지 못하다고 보았다. 롤스 또한 최소 수혜자의 최대 이익을 강조하지만, 최소 수혜자에게 최대 이익을 주는 차등의 원칙보다 개인들에게 평등한 기본적 자유를 부여하는 평등한 자유의 원칙이 우선한다고 주장하였다. 따라서 롤스의 입장에서도 사회적 약자를 위해 개인의 기본적 자유를 침해하는 것은 정의롭지 못하다.
- ㉣ 롤스와 노직은 모두 자유주의적 정의관을 토대로 사상을 전개하였다. 자유주의적 정의관에서는 개인의 자유를 어떤 가치보다 우위에 두며, 사회는 개인들이 모여 있는 단순한 집합체이자 개인의 합의로 구성된 산물이라고 본다.
- ✕ 노직은 개인의 천부적 능력으로 인한 이익 추구는 정당한 취득과 양도의 과정을 거쳤다면 모두 정당하다고 보았다. 반면 롤스는 개인의 천부적 재능은 그 개인에게 마땅히 누릴 자격이 있는 것이 아니라 아주 불리한 처지에 있는 사람, 즉 사회적 약자의 여건을 향상해 준다는 조건하에서만 그로부터 정당한 이익을 얻을 수 있는 것이라고 주장하였다.

감각 있는 풀이 TIP

롤스와 노직의 차이점에 대해 비교하는 문제가 많이 출제되지만, 자유주의적 정의관의 대표적인 두 사상가로서의 공통점을 묻는 문제도 충분히 출제될 수 있다. '정의로운 사회에서도 사회·경제적 불평등은 발생할 수 있다.', '정의로운 과정을 거쳤다면 결과 또한 정의롭다.', '사회적 약자를 위해 개인의 기본적 자유를 침해하는 것은 정의롭지 못하다.' 등의 공통점을 이해해야 고난도 문제에 대비할 수 있다.

09 롤스와 노직의 정의관

갑은 롤스, 을은 노직이다. 롤스는 모든 사람이 기본적으로 동등한 자유를 최대한 누려야 하며 공정한 절차를 통해 합의된 것은 결과도 정의롭다는 절차적 정의를 주장하였다. 또한 사회적·경제적 불평등을 최소화하려는 국가의 역할을 강조하였다. 노직은 개인의 자유와 소유권을 최우선으로 보장하는 것이 정의로우며, 개인의 권리

와 재산을 보호하는 선에서만 행동하는 최소 국가를 정당한 국가의 형태로 보았다.

[선지 분석]

- ㉠ 롤스는 개인들이 각자의 사회적 지위, 타고난 능력, 심리적 특성 등을 모르는 가상의 상황인 원초적 입장에서 공정한 정의의 원칙에 합의한다고 주장하였다. 롤스에 따르면, 원초적 입장의 개인들은 자신에 대한 정보가 없기 때문에 자신이 최소 수혜자일 수도 있는 최악의 상황을 고려하여 안전하게 이익을 확보하고자 정의의 원칙에 합의한다.
- ㉡ 롤스는 개인의 소유권은 절대적·배타적인 것이라고 주장하였다. 롤스는 취득과 양도에서 부정의가 일어나지 않았다면 그에 따른 결과는 무조건 정의롭다고 보는 절차적 정의를 주장하였으므로, 개인의 소유물의 불평등은 그 자체로 부정의한 것이라고 보지 않았다.
- ㉢ 롤스는 정당한 소유 권리가 취득의 원칙, 양도의 원칙과 같은 정의의 원칙에 의해 부여되는 것이라고 보았다.
- ㉣ 롤스는 공정한 기회균등의 원칙과 차등의 원칙에 부합한다면 사회·경제적 불평등이 정당화될 수 있다고 보았기 때문에 사회·경제적 불평등의 원인을 모두 제거해야 한다고 보지 않았다.
- ㉤ 롤스는 사회적 약자를 위한 재분배 행위는 개인의 소유 권리를 침해하기 때문에 정의롭지 못하다고 보았다.

감각 있는 풀이 TIP

롤스는 공정한 정의의 원칙에 대한 합의는 원초적 입장이라는 가상 상황에서 이루어진다고 보았다. 이에 따라 개인들은 원초적 입장에서 무지의 베일을 쓰게 되는데, 이로 인해 자신의 사회적 지위, 천부적 능력 등에 대한 정보를 알 수 없는 상황에 놓이게 된다. 이로 인해 자신의 상황에 대해 전혀 모르는 상태의 합리적 개인들은 자신에게 어떤 선택이 이익이 되는가에 대해 합리적으로 고민하게 되고, 그 결과 자신들이 사회의 최소 수혜자가 될 수 있다는 최악의 상황을 고려하여 최소 수혜자에게 최대 이익을 부여하는 정의의 원칙에 합의하게 된다.

10 사익과 공익의 조화

A는 사익, B는 공익이다. 사익은 개인의 자유와 권리를 보장함으로써, 공익은 공동체에 대한 책임과 의무를 다함으로써 실현될 수 있다. 사익과 공익은 상호 보완적인 관계이며 조화를 이루어야 한다. 공익을 고려하지 않고 사익만을 추구하면 공동체가 파괴되어 개인의 권리와 이익을 보장할 수 없고, 공익만을 강조하면 개인의 권리와 이익을 침해하여 공동체가 제대로 유지되지 못한다.

[선지 분석]

- ㉠ 사회 속에서 연대 및 유대감을 토대로 공동의 가치를 추구하는 것은 공익이다.
- ㉡ 공익은 공동체주의적 정의관에서 강조하는 가치와 긴밀하게 연결된다.
- ㉢ 공익은 타인의 권리나 사회 전체의 이익과 밀접하게 관련되는 영역이다.
- ㉣ 사익과 공익은 상호 보완적인 관계이며 서로 조화를 이룰 때 사회정의가 실현될 수 있다.

고득점을 위한 핵심 자료

사익과 공익에 관한 고전

사익	우리가 맛있는 빵을 먹을 수 있는 까닭은 제빵업자의 자비심 때문이 아니라 자신의 이익을 추구하는 마음 때문이다. 개인의 사익 추구는 사회에도 이익이 된다. - 애덤 스미스, 『국부론』
공익	국가 안에서 그 이익을 나눌 수 없거나 나눌 필요가 없는 자는 인간이 아니라 짐승이거나 신이다. 국가 공동체를 떠난 개인의 이익이나 행복은 불가능하다. - 아리스토텔레스, 『정치학』

11 롤스와 노직의 정의관

(가)는 노직의 정의관, (나)는 롤스의 정의관이다. 노직은 개인의 소유 권리를 배타적으로 보장하는 것이 정의라고 보고, 국가는 개인의 소유 권리를 보장하는 최소한의 역할만을 해야 한다고 주장하였다. 반면 롤스는 모든 사회 구성원이 평등한 자유를 누릴 수 있도록 공정성을 실현하는 것이 정의라고 보고, 사회적 약자를 포함한 모든 사회 구성원의 이익을 위해 국가가 적극적인 역할을 해야 한다고 주장하였다.

[선지 분석]

- ㉠ (가)는 개인의 자유와 권리 보호 정도가 높고, 가상적 상황에서의 정의의 원칙 수립 정도는 낮다. (나)는 개인의 자유와 권리 보호 정도가 낮고, 가상적 상황에서의 정의의 원칙 수립 정도는 높다.
- ㉡ (가)는 사회적 약자에 대한 고려 정도는 낮고, 소유권에 대한 절대적 존중 정도는 높다. (나)는 사회적 약자에 대한 고려 정도는 높고, 소유권에 대한 절대적 존중 정도는 낮다.
- ㉢ (가)는 사회적 약자에 대한 고려 정도가 낮고, 불평등을 최소화하기 위한 국가 개입의 지지 정도도 낮다. (나)는 사회적 약자에 대한 고려 정도가 높고, 불평등을 최소화하기 위한 국가 개입의 지지 정도도 높다.
- ㉣ (가)는 소유권에 대한 절대적 존중 정도가 높고, 가상적 상황에서의 정의의 원칙 수립 정도는 낮다. (나)는 소유권에 대한 절대적 존중 정도가 낮고, 가상적 상황에서의 정의의 원칙 수립 정도는 높다.
- ㉤ (가)는 불평등을 최소화하기 위한 국가 개입의 지지 정도가 낮고, 개인의 자유와 권리 보호 정도는 높다. (나)는 불평등을 최소화하기 위한 국가 개입의 지지 정도가 높고, 개인의 자유와 권리 보호 정도는 낮다.

12 공간 불평등과 지역 조사

○○ 지역에 나타난 공간 불평등에 대한 지역 조사는 조사 목적에 따라 주제 및 지역을 선정하고 실내 조사, 야외 조사를 포함하여 지역 정보를 폭넓게 수집한 뒤, 수집한 지역 정보를 분석하여 보고서를 작성하는 순서로 진행된다.

[선지 분석]

- ㉠ ○○ 지역의 국공립 보육 기관 접근성을 주제로 정하는 것은 '조사 주제 선정' 단계에 해당한다.
- ㉡ 수집한 자료를 유형별로 정리하고 도식화하여 표현하는 것은 '지리 정보 분석' 단계에 해당한다.
- ㉢ ○○ 지역의 보육 기관을 이용하고 있는 학부모와 면담을 실시하는 것은 '야외 조사' 단계, 즉 (가)에 해당한다.
- ㉣ 국공립 보육 기관의 접근성에 대한 ○○ 지역 답사 일정을 수립하는 것은 '실내 조사' 단계에 해당한다.
- ㉤ 국공립 보육 기관과 사립 보육 기관의 운영을 비교한 문헌을 조사하는 것은 '실내 조사' 단계에 해당한다.

고득점을 위한 핵심 개념

지역 조사

주제 및 지역 선정	조사 주제 및 조사 지역 선정
실내 조사	문헌 조사, 야외 조사 준비, 답사 일정 수립 등
야외 조사	지역 관찰, 면담, 촬영 등
자료 분석	수집한 지리 정보 정리, 필요한 정보 선별 및 분석
보고서 작성	분석을 통해 얻은 새로운 지리 정보를 지도, 그래프 등으로 표현

13 사회 복지 제도

출제 예상 포인트 사회 복지 제도는 통합사회 8종 교과서에서 모두 다루는 자료이므로 대학수학능력시험이나 전국연합학력평가에서 출제될 가능성이 높다. 특히 사회 보험과 공공 부조, 사회 서비스의 특징을 명확하게 구분할 수 있어야 한다.

A는 사회 보험, B는 공공 부조, C는 사회 서비스이다. 사회 보험은 국민이 사회적 위험에 대비할 수 있도록 국가가 실시하는 것으로 국민 건강 보험, 국민연금 등이 이에 해당한다. 공공 부조는 국가의 지원으로 빈곤 계층에게 최소한의 생활을 보장하는 제도로 국민 기초 생활 보장 제도, 기초 연금 제도가 이에 해당한다. 사회 서비스는 도움이 필요한 국민에게 상담, 재활, 돌봄 등의 서비스를 제공하는 것이다.

[선지 분석]

- ❌ 복지 대상에게 국가가 금전적인 지원을 하되, 전액 국가가 지원하는 제도는 공공 부조이다.
- ② 저소득 계층에게 최소한의 삶을 보장하기 위한 제도는 공공 부조이다.
- ❌ 개인, 기업, 정부가 부담하여 국민의 위험에 대비하는 제도는 사회 보험이다.
- ❌ 도움과 보호가 필요한 국민에게 상담, 재활 등 각종 서비스를 제공하는 제도는 사회 서비스이다.
- ❌ 질병, 장애 등의 사회적 위험을 보험의 방식으로 대처하는 제도는 사회 보험이다.

고득점을 위한 핵심 개념

사회 복지 제도

사회 보험	개인, 기업, 정부가 보험료를 부담하여 공동체 구성원의 사회적 위험에 대비하는 제도
공공 부조	저소득 계층에게 최소한의 삶을 보장하기 위해 국가가 전액 지원하는 제도
사회 서비스	도움이 필요한 국민에게 상담, 재활, 돌봄 등의 다양한 서비스를 제공하는 제도

14 공간 불평등 현상

자료는 지역 간 의료 격차에 따른 공간 불평등 현상에 대해 다루고 있다. 공간 불평등 현상은 지역 간에 경제적·사회적·문화적 수준 차이가 나타나는 현상으로, 이를 해결하기 위해서는 지역 격차 완화 정책을 통해 불평등을 해소해야 한다.

[선지 분석]

- ① 공간 불평등은 교육, 문화 등 생활 환경의 전반적인 불평등으로 이어질 수 있다는 문제점이 있다.
- ② 공간 불평등은 지역 간에 경제적·사회적·문화적으로 자원이 불균등하게 분배되어 격차가 발생하는 현상을 의미한다.
- ③ 공간 불평등은 주로 성장 위주의 지역 개발 정책으로 나타날 수 있다. 산업화의 과정에서 수도권과 대도시를 집중적으로 개발한 결과 비수도권과 농촌 지역의 인구 유출, 교통망과 편의 시설 부족, 경기 침체 등 다양한 문제가 나타나 불평등이 심화되었다.
- ④ 공간 불평등은 지역마다 생산 요소나 자연환경 등이 불균등하게 분포하는 데에서 비롯되는 현상이다.
- ❌ 성장 거점 개발 정책은 공간 불평등을 심화하는 주요 원인이다. 성장 거점 개발 정책이 아닌 지역 격차 완화 정책을 통해 국토의 균형 발전을 도모하여 공간 불평등을 해소할 수 있다.

고득점을 위한 핵심 개념

불평등 현상의 해결 방안

	특징	해결 방안
사회 계층의 양극화	사회 구성원 중 중간 계층이 감소하고 상층과 하층의 비중이 증가하는 현상	사회 보험, 공공 부조, 사회 서비스와 같은 사회 복지 제도 확대
공간 불평등	지역 간에 경제적·사회적·문화적 수준 차이가 나타나는 현상	지역 격차 완화 정책
사회적 약자에 대한 차별	사회적 약자가 불합리하게 차별받거나 사회적으로 소외되는 현상	<ul style="list-style-type: none"> • 사회적 약자들이 능력과 재능을 발휘할 수 있도록 돕는 적극적 평등 실현 조치 시행 • 사회적 약자의 고통을 공감하고 배려할 수 있는 자세 함양

감각 있는 풀이 TIP

사회 불평등 현상에는 사회 계층의 양극화, 공간 불평등, 사회적 약자에 대한 차별이 있으며 이에 대한 해결 방안이 각각 다르다는 것을 이해해야 한다. 즉 사회 계층의 양극화를 해소하기 위해서는 사회 복지 제도가 필요하고, 공간 불평등을 해소하기 위해서는 지역 격차 완화 정책을 시행해야 하며, 사회적 약자에 대한 차별을 해소하기 위해서는 적극적 평등 실현 조치가 필요하다는 것을 연결하여 이해할 필요가 있다.

15 장소 마케팅을 통한 공간 불평등 해소

자료의 ㉠은 장소 마케팅이다. 장소 마케팅은 공간 불평등을 해소하기 위한 방안 중 하나로, 특정 장소를 상품화하여 지역의 이미지를 높이고 지역 경제를 활성화하기 위한 지역 격차 완화 정책이다.

[선지 분석]

- ❌ 장소 마케팅은 성장 위주의 개발 정책으로 인한 공간 불평등을 해소하여 지역의 경쟁력을 키우기 위한 지역 격차 완화 정책이다.
- ❌ 국민에게 발생할 수 있는 위험을 예측하고 대응하기 위한 것은 사회 보험이다. 사회 보험은 사회 계층의 양극화를 해소하기 위한 정책이다.
- ❌ 사회적으로 불리한 위치에 있는 사회적 약자에게 혜택을 제공하는 것은 사회적 약자에 대한 차별을 해소하기 위한 적극적 평등 실현 조치이다.
- ❌ 생활 유지 능력이 없는 국민의 최저 생활을 보장하고 자립을 지원하기 위한 것은 사회 계층의 양극화를 해소하기 위한 공공 부조이다.
- ⑤ 장소 마케팅은 지역 격차 완화를 통해 공간 불평등이 해소된 정의로운 사회를 지향한다.

고득점을 위한 핵심 개념

지역 격차 완화 정책

혁신 도시	공공 기관의 지방 이전을 바탕으로 지역의 새로운 성장 동력을 창출하기 위해 조성하는 도시
장소 마케팅	지역 공간과 같은 특정 장소를 상품화하여 지역의 이미지를 높이고 지역 경제를 활성화하기 위한 전략
세금 감면 및 규제 완화	수도권에 있는 기업이 지방으로 이전할 경우 혜택을 제공하여 지방에 일자리를 창출할 수 있도록 유도

16 사회적 약자에 대한 차별

자료는 고위직으로 승진하는 과정에서 여성이 눈에 보이지 않는 장벽에 부딪히게 되는 유리 천장 현상을 보여 준다. 이는 사회적 약자에 대한 차별 중 하나로, 적극적 평등 실현 조치를 통해 해소해야 한다.

[선지 분석]

- ⊗ 국민연금, 국민 건강 보험 등의 사회 보험은 사회 계층의 양극화를 해소하기 위한 것으로, 일정한 자격을 지닌 모든 국민을 대상으로 한다.
- ⊗ 사회적 약자에 대한 차별을 해소하기 위해서는 다양한 분야에서 사회적 약자들이 자신들의 능력을 온전히 발휘할 수 있도록 다양한 제도적 여건을 마련해야 한다.
- ⊗ 공간 불평등을 해소하여 국토의 균형 발전을 도모하는 것은 공간 불평등 현상을 해결하기 위한 방안이다.
- ④ 사회적 약자에 대한 차별을 해소하기 위해 차별받았던 사회적 약자에게 다양한 측면에서 직간접적 혜택을 제공하여 불평등을 바로잡으려는 적극적인 평등 실현 조치가 필요하다.
- ⊗ 모든 국민을 대상으로 하는 보편적 복지로는 사회적 약자에 대한 차별 문제를 해결하기 어렵다. 장애인, 여성 등 차별받는 사람들만을 대상으로 선별적 복지 제도를 시행해야 한다.

고득점을 위한 핵심 개념

적극적 평등 실현 조치의 사례

여성 할당제	정당에서 국회 의원이나 지방 의회 의원 후보자를 공천할 때 일정 비율을 여성에게 할당하여 여성의 정치 참여를 제도적으로 확대하는 제도
장애인 의무 고용 제도	국가와 지방 자치 단체, 상시 근로자 50명 이상을 고용하고 있는 공공 기관, 민간 기업에게 장애인을 일정 비율 이상 고용하도록 의무화하는 제도

1등급 완성 문제

114~115쪽

- 01 ④ 02 ② 03 ③ 04 ③ 05 ③ 06 ④
07 ③ 08 ⑤

01 롤스와 노직의 정의관

갑은 롤스, 을은 노직이다. 롤스는 시민의 기본적 자유가 가장 우선되어야 하며, 원초적 입장에서 합의한 정의의 원칙에 따라 운영되는 사회가 정의로운 사회라고 보았다. 노직은 정의는 개인의 소유 권리를 보장하는 문제이며, 국가가 개인의 소유 권리를 최대한 보장할 때 정의가 실현된다고 보았다.

[선지 분석]

- ⊗ 롤스와 노직은 모두 정당한 절차에 따라 분배가 이루어졌다면 사회·경제적 불평등도 정당화될 수 있다고 주장하였다.
- ⊗ 롤스와 노직은 모두 정의 실현을 위한 국가의 개입이 정당화될 수 있다고 보았다.
- ⊗ 롤스는 개인에게 자신이 가진 타고난 재능에 대해 마땅히 누릴 자격이 있다고 보지 않았다. 타고난 재능은 우연적 산물이므로 최소 수혜자에게 최대 이익을 보장하는 한에서만 정당화될 수 있다고 보았다. 반면 노직은 개인의 배타적·절대적 소유권을 주장하므로 개인에게는 타고난 재능으로 인한 이익을 마땅히 누릴 자격이 있다고 보았다.
- ④ 롤스는 국가가 정의로운 사회를 만들기 위해 정의의 원칙을 지키는 한에서 다양한 제도와 정책을 마련해야 한다고 주장하였다. 반면 노직은 개인의 소유권은 절대적인 것이므로, 국가의 역할을 개인의 소유권을 보장하는 것에 국한하는 최소 국가만이 정당화될 수 있다고 보았다. 따라서 노직이 롤스에게 제기할 수 있는 비판으로 적절하다.
- ⊗ 롤스와 노직은 모두 자유주의적 정의관을 토대로 타인에게 피해를 주지 않는 한 개인의 자유와 권리는 최대한 보장되어야 한다고 주장하였다.

감각 있는 풀이 Tip

롤스와 노직은 둘 다 자유주의 사상가이므로 여러 입장에서 공통점이 많다. 정의로운 절차를 거쳤다면 결과 또한 정당하다는 절차적 정의, 사회·경제적 불평등은 정당화될 수 있다는 것, 정의 실현을 위해 국가가 개입할 수 있다는 것, 타인에게 피해를 주지 않는 한 개인의 자유를 최대한 보장해야 한다는 것 등은 롤스와 노직이 모두 지지하는 입장이다.

02 왈처의 공동체주의적 정의관

제시문의 사상가는 왈처이다. 왈처는 공동체주의적 정의관을 토대로 공동체 안에는 고유한 사회적 가치들이 존재하며 가치를 분배할 때는 공동체의 문화적 특수성을 고려해야 한다고 주장하였다.

[선지 분석]

- ⊗ 왈처는 한 개인의 정체성은 그가 속해 있는 공동체 속에서 형성된다고 보았다.
- ② 왈처는 개인이 공동체와 분리되어 살아가는 독립적 존재가 아니며, 공동체의 구성원으로서 역할과 의무를 다하며 살아가는 존재라고 보았다. 반면에 자유주의적 정의관에서는 개인을 공동체와 분리되어 살아가는 자율적·독립적 존재라고 인식하므로 왈처의 입장에서 롤스와 노직에게 제기할 수 있는 비판으로 적절하다.
- ⊗ 왈처는 공동체주의적 정의관의 입장에서 개인선과 공동선 중 공동선을 우선하는 것이 정의라고 보았다. 만약 개인선과 공동선이 충돌할 경우 공동선을 실현하는 것이 더 정의롭다는 것이다.
- ⊗ 공동선을 우선하면 개인의 자유와 권리가 과도하게 제한될 수 있다고 보는 것은 자유주의적 정의관의 입장이다. 왈처는 개인의 자유와 권리보다 공동선의 실현을 우선하였다.
- ⊗ 왈처는 공동선의 실현을 위해 개인의 삶에 대한 공동체의 개입이 허용될 수 있다고 보았다.

고득점을 위한 핵심 자료

왈처의 공동체주의적 정의관

사회적 가치는 사회적으로 공유되는 의미에 따라 고유한 영역을 갖는다. 예컨대 부는 경제 영역, 권력은 정치 영역의 사회적 가치이다. 각각의 사회적 가치는 자신의 고유한 영역 안에 머무름으로써 다원적 평등이 이루어져야 정의로운 사회가 실현된다. - 왈처, 『정의와 다원적 평등』

왈처는 공동체의 역사적·문화적 맥락에 따른 다양한 정의의 기준을 인정하였다. 또한 사회적 가치는 공동체의 역사적이고 문화적인 소산이므로 가치를 분배할 때 공동체의 특수성과 차이를 고려해야 한다고 주장하였다.

03 롤스의 정의론

제시문은 자유주의적 정의관에 대한 롤스의 설명이다. 롤스는 정의의 원칙에 합의하는 당사자들이 무지의 베일을 쓴 원초적 입장에서 정의의 두 원칙에 합의하게 된다고 보았다. 두 원칙에 따르면 모든 사람에게 기회가 균등하게 주어지고, 최소 수혜자에게 최대의 이익이 될 때만 사회·경제적 불평등이 허용될 수 있다.

[선지 분석]

- ① 롤스는 공정한 정의의 원칙을 이끌어 내기 위한 원초적 입장이 역사적으로는 존재하지 않았던 가상의 상황이라고 보았다.
- ② 롤스는 절차가 정의로우면 결과도 정의롭다는 절차적 정의를 주장하였다. 따라서 절차상 정의의 원칙을 잘 따랐다면 결과적으로 사회적·경제적 불평등이 발생하더라도 정의롭다고 주장하였다.

✕ 롤스는 최소 수혜자에게 최대 이익을 보장해야 한다는 차등의 원칙을 주장하였다. 그러나 차등의 원칙이 모든 원칙에 우선하는 것은 아니라고 보았다. 그는 먼저 모든 사람의 기본적 자유를 최대한 보장하는 '평등한 자유의 원칙'을 지키고, 다음으로 모든 사람에게 공정한 기회를 부여하는 '공정한 기회균등의 원칙'을 지키고, 마지막으로 최소 수혜자에게 최대의 이익을 주는 '차등의 원칙'을 지켜야 한다고 주장하였다. 따라서 최소 수혜자의 이익을 위해서라도 개인의 기본적 자유는 제한될 수 없다.

④ 최소 수혜자는 사회에서 가장 불리한 처지에 있는 사람들, 즉 사회적 약자를 의미한다.

⑤ 롤스는 원초적 입장에서 개인은 무지의 베일을 쓰고 있기 때문에 자신의 사회적 지위, 천부적 능력 등 자신에 대한 정보를 알 수 없다고 주장하였다. 즉 롤스에 따르면, 원초적 입장에서는 자신이 최소 수혜자인지 스스로 알 수 없다.

고득점을 위한 핵심 개념

원초적 입장과 무지의 베일

원초적 입장	타인의 이익에 대해 상호 무관심한 사람들이 무지의 베일하에서 합의를 통해 정의의 원칙을 도출하는 가상적 상황
무지의 베일	인간 사회의 일반적 지식은 알 수 있지만, 자신에 대한 특수한 사실(자연적 재능, 사회적 지위, 자신의 가치관 등)은 알 수 없게 하는 것으로, 원초적 입장을 공정하게 만들어 주는 조건

04 롤스와 노직의 정의관

같은 노직, 다른 롤스이다. 노직은 국가가 개인의 권리를 보호하는 소극적 역할만을 담당해야 한다고 보았고, 소유물을 취득한 자에게 소유물에 대한 절대적·배타적 권리가 있으므로 개개인의 소유권을 존중하고 보호해야 한다고 주장하였다. 롤스는 모든 사람은 기본적 자유를 최대한 누려야 하지만, 어떤 사람도 자신이 타고난 우월한 재능을 유리한 출발점으로 이용할 자격은 없으므로 아주 불리한 처지에 있는 사람의 여건을 향상해 준다는 조건하에서만 그가 가진 타고난 우월한 재능으로부터 더 큰 이익을 얻을 수 있다고 보았다.

[선지 분석]

✕ 롤스와 노직은 모두 자유주의적 정의관을 토대로 개인의 자유를 어떤 가치보다 우선하였다. 따라서 롤스와 노직 모두 모든 사람이 기본적 자유를 최대한 누려야 한다는 것에 동의하였다. 즉, 롤스와 노직이 모두 긍정의 대답을 할 질문이다.

㉠ 노직은 취득과 양도의 원칙에 따라 소유물이 분배되었다면 그 결과로 사회·경제적 불평등이 극심하더라도 정당화된다고 보기 때문에 사회·경제적 불평등을 최소화하려는 국가의 재분배 행위는 개인의 소유권을 침해한다고 보았다. 반면 롤스는 정의의 원칙 자체에 사회·경제적 불평등을 최소화하려는 국가의 역할이 포함되어 있어야 한다고 보고, 국가가 최소 수혜자에게 최대의 이익을 부여하는 정의의 원칙에 따른 정책과 제도를 시행함으로써 사회·경제적 불평등을 최소화해야 한다고 보았다.

㉡ 노직은 개인이 직접 노동에 따라 취득한 소유물은 '취득의 원칙'에 따라 정당화되고, 개인이 직접 노동을 하지 않았더라도 상속, 증여, 교환 등에 따라 취득한 소유물은 '양도(이전)의 원칙'에 따라 정당화된다고 보았다.

✕ 롤스는 국가가 모든 사람에게 똑같은 조건을 보장해야 할 의무가 있다고 주장하지 않았다. 롤스는 원초적 입장에서 합의된 정의의 원칙이 잘 지켜진다면 그로 인한 불평등한 결과도 정의로운 것이라고 보았다.

05 샌델의 공동체주의적 정의관

(가)의 사상은 샌델이다. 샌델은 공동체가 개인의 정체성을 형성하는 중요한 부분이며, 공동체의 공동선을 실현하는 것이 무엇보다

중요하다고 주장하였다. (나)는 공공의 이익을 위해 시행하고 있는 개발 제한 구역 제도가 개인의 소유권을 제한할 수 있다는 문제를 다루고 있다.

[선지 분석]

✕ 샌델은 개인의 자유와 권리보다 공동선을 우선하므로 개발 제한 구역 제도가 정당화될 수 있다고 볼 것이다.

㉠ 샌델은 공동체주의적 정의관의 관점에서 공동체가 지향하는 가치, 방향 등에 따라 개발 제한 구역 제도의 정당성을 판단해야 한다고 볼 것이다.

㉡ 샌델은 개인이 공동체에 대해서 가지는 사회적 역할과 책임, 의무에 충실할 때 정의가 실현될 수 있다고 보기 때문에 개발 제한 구역 제도를 유지해야 한다고 볼 것이다.

✕ 개인의 이익을 우선하면 자연스럽게 공익이 실현될 수 있으므로 개인의 이익을 우선 보장해야 한다는 주장은 자유주의적 정의관의 입장에 해당한다.

감각 있는 풀이 TIP

공동체주의적 정의관의 대표적인 사상가인 샌델은 정의로운 사회를 실현하기 위해 좋은 삶이 무엇인지 함께 고민하면서 공동체 구성원으로서 미덕을 키우고 공동선을 실현하기 위해 노력해야 한다고 주장하였다.

06 사회 계층의 양극화

첫 번째 자료는 정규직 근로자의 임금과 비정규직 근로자의 임금 차이를 나타내는 그래프로, 정규직과 비정규직의 경제적 격차가 점차 벌어지고 있다는 것을 보여 준다. 두 번째 자료는 부모 소득에 따른 자녀의 대학 진학 현황을 나타내는 그래프로, 부모의 소득이 높을수록 일반대 진학률이 높고 대학 미진학률이 낮다는 것을 보여 준다. 두 자료에서 공통적으로 나타난 불평등 현상은 사회 계층의 양극화 현상이다.

[선지 분석]

✕ 선입견과 편견, 차별을 용인하는 사회 분위기로부터 비롯되는 것은 사회적 약자에 대한 차별이다.

✕ 사회적 약자의 기본적 권리를 침해할 수 있다는 문제점이 있는 것은 사회적 약자에 대한 차별이다.

✕ 수도권과 비수도권 간의 사회·문화적 불평등을 초래할 수 있는 것은 공간 불평등 현상이다.

④ 사회 계층의 양극화는 사회의 중층이 줄어들고 점차 하층과 상층이 확대되면서 계층이 양극화되는 현상을 의미한다. 이러한 사회 계층의 양극화는 계층 간 위화감을 조성하여 사회 발전을 위한 동력을 약화할 수 있다.

✕ 지역 간에 사회적 가치가 불균등하게 분배되어 격차가 나타나는 현상은 공간 불평등 현상이다.

감각 있는 풀이 TIP

사회 계층의 양극화는 부가 상위 계층에 집중되고 하위 계층의 비율이 늘어나며 중위 계층의 비율이 줄어드는 현상을 의미한다. 사회 계층의 양극화 현상은 다양한 원인으로 발생하지만, 경제적 격차가 대표적 원인이다. 특히 경제적 격차는 교육 기회의 격차와 같은 다양한 격차로 이어져 부모의 계층이 자녀에게 대물림되는 결과를 낳기도 한다.

07 사회 계층의 양극화

사회 계층의 양극화는 사회의 중층이 점점 감소하면서 사회 계층이 양극단으로 쏠리는 현상을 의미하며, 주로 경제적 격차에서 비롯된다. 사회 계층의 양극화를 해결하기 위해서는 모든 사회 구성원이 최소한의 인간다운 삶을 누릴 수 있도록 보장하는 사회 보험, 공공

13

자본주의 시장경제의 발전

119쪽

기출 유형 문제

01-① ①

01-② ⑤

02-① ①

02-② ①

01-① 중상주의와 상업 자본주의

출제 예상 포인트 상업 자본주의는 통합사회 8종 교과서에서 모두 다루는 내용으로 대학수학능력시험에 출제될 가능성이 높다. 수능 예시 문항과 전국연합학력평가에서도 출제되므로 자본주의의 역사적 전개 과정과 함께 알아 두어야 한다.

제시문은 제임스 와트의 증기 기관 발명 이전, 즉 상업 자본주의 시기에 절대 왕정 체제 아래 통치자들이 중앙 집권 강화를 위해 중상주의 정책을 추진하는 모습을 나타내고 있다.

[선지 분석]

- ㉠ 상업 자본주의 시기에는 상인 계층이 경제활동을 주도하였다.
- ㉡ 상업 자본주의 시기에는 절대 왕정의 강력한 왕권 아래 중상주의 정책이 추진되었다. 중상주의 정책은 국가의 부를 늘리기 위해 국내 산업 보호 및 수출 장려 등 국가가 상공업 활동에 깊이 개입하는 것으로, 16~18세기 유럽의 절대 왕정 국가들이 추진한 경제 정책을 말한다.
- ㉢ 복지 확대로 인한 정부 재정 악화가 발생한 것은 산업 자본주의 이후 등장한 수정 자본주의 시기의 일이다.
- ㉣ 자유 경쟁을 지나치게 강조하여 대규모 독점 기업이 등장한 것은 상업 자본주의 이후 등장한 산업 자본주의 시기에서였다.

고득점을 위한 핵심 개념

상업 자본주의

16세기 유럽에서는 신항로 개척 이후 교역망이 확대되고 대량의 금과 은이 유입되면서 자본주의의 초기 단계인 상업 자본주의가 나타나기 시작하였다. 상품의 유통 과정에서 이윤을 내는 상업 자본주의는 절대 왕정의 중상주의 정책하에서 더욱 발전하였다. 절대 왕정은 중앙 집권 체제를 확립하고 영토 확장 전쟁에 필요한 자금을 확보하기 위해 상공업을 지원하였다. 금과 은을 최대한 확보하는 것이 국가의 부를 키우는 것이라고 생각하여, 금과 은의 유출을 막고 유입을 늘리기 위해 노력하였다. 이를 위해 수출을 장려하고 수입을 억제하여 자국 산업을 보호하는 정책을 폈다.

01-② 중상주의와 상업 자본주의

제시문에는 산업화 이전 시기의 경제 구조를 설명하면서 통치자(군주)와 상인의 유착 관계, 교역 확대, 자본 축적, 군사력 강화, 신항로 개척 등이 언급되고 있다. 이는 중상주의 정책이 추진되었던 상업 자본주의 시대의 전형적인 특징이다.

[선지 분석]

- ㉠ ①에는 중상주의 정책이 추진되었다. 중상주의는 국가의 보호 아래 상업 및 수출 중심의 무역으로 국가의 부를 늘리려는 사상을 말한다.
- ㉡ 대규모 함대를 건조하고, 무력 충돌 시 강력한 군사력을 행사할 수 있는 기반은 절대 왕정을 강화하는 요인으로 작용하였다.

부조, 사회 서비스 등의 사회 복지 제도가 필요하다.

선입견과 편견 등에 따른 차별을 당연하게 받아들이는 문화적·구조적 환경에서 비롯되는 것은 사회적 약자에 대한 차별 현상이므로 첫 번째 판단에 대한 답은 '×'이다.

사회 보험은 대부분의 국민이 사회적 위험에 대비할 수 있도록 하는 제도이다. 일부 저소득 계층의 최소한의 인간다운 삶을 보장하고자 마련된 제도는 공공 부조이다. 따라서 두 번째 판단에 대한 답은 '×'이다.

사회 서비스는 사회 복지 제도의 한 유형으로 도움이 필요한 국민에게 상담, 돌봄, 재활 등의 다양한 서비스를 제공하는 것이다. 따라서 세 번째 판단에 대한 답은 '○'이다.

사회 계층의 양극화가 사회 구조적으로 고착화되면 부모의 경제적 능력이 자녀에게 고스란히 대물림되는 결과를 낳기도 한다. 따라서 네 번째 판단에 대한 답은 '○'이다.

[선지 분석]

- ㉠ ㉡ ㉢ ㉣ ㉤ ㉥ ㉦ ㉧ ㉨ ㉩ ㉪ ㉫ ㉬ ㉭ ㉮ ㉯ ㉰ ㉱ ㉲ ㉳ ㉴ ㉵ ㉶ ㉷ ㉸ ㉹ ㉺ ㉻ ㉼ ㉽ ㉾ ㉿ ㊀ ㊁ ㊂ ㊃ ㊄ ㊅ ㊆ ㊇ ㊈ ㊉ ㊊ ㊋ ㊌ ㊍ ㊎ ㊏ ㊐ ㊑ ㊒ ㊓ ㊔ ㊕ ㊖ ㊗ ㊘ ㊙ ㊚ ㊛ ㊜ ㊝ ㊞ ㊟ ㊠ ㊡ ㊢ ㊣ ㊤ ㊥ ㊦ ㊧ ㊨ ㊩ ㊪ ㊫ ㊬ ㊭ ㊮ ㊯ ㊰ ㊱ ㊲ ㊳ ㊴ ㊵ ㊶ ㊷ ㊸ ㊹ ㊺ ㊻ ㊼ ㊽ ㊾ ㊿

08 적극적 평등 실현 조치

출제 예상 포인트 적극적 평등 실현 조치는 통합사회 8종 교과서에서 모두 다루는 내용이다. 특히 사례를 중심으로 찬반 입장에 대해 물을 수 있으므로 적극적 평등 실현 조치에 대한 찬성과 반대 입장을 잘 이해하고 있어야 한다.

노예제로 인해 피해를 본 집단에게 현세대가 배상할 책임이 있는가에 대한 토론에서, 갑은 이러한 적극적 평등 실현 조치에 대해 반대하는 입장이고, 을은 찬성하는 입장이다. 적극적 평등 실현 조치는 사회적 약자의 불리한 조건을 완화하고 실질적인 기회의 평등을 보장하기 위해 일정한 혜택을 제공하는 것이다.

[선지 분석]

- ㉠ ㉡ ㉢ ㉣ ㉤ ㉥ ㉦ ㉧ ㉨ ㉩ ㉪ ㉫ ㉬ ㉭ ㉮ ㉯ ㉰ ㉱ ㉲ ㉳ ㉴ ㉵ ㉶ ㉷ ㉸ ㉹ ㉺ ㉻ ㉼ ㉽ ㉾ ㉿ ㊀ ㊁ ㊂ ㊃ ㊄ ㊅ ㊆ ㊇ ㊈ ㊉ ㊊ ㊋ ㊌ ㊍ ㊎ ㊏ ㊐ ㊑ ㊒ ㊓ ㊔ ㊕ ㊖ ㊗ ㊘ ㊙ ㊚ ㊛ ㊜ ㊝ ㊞ ㊟ ㊠ ㊡ ㊢ ㊣ ㊤ ㊥ ㊦ ㊧ ㊨ ㊩ ㊪ ㊫ ㊬ ㊭ ㊮ ㊯ ㊰ ㊱ ㊲ ㊳ ㊴ ㊵ ㊶ ㊷ ㊸ ㊹ ㊺ ㊻ ㊼ ㊽ ㊾ ㊿

- ❌ 상업 자본주의 시기 통치자와 상인 계층은 유착 관계를 형성하며 제후가 강화되었다.
- ❌ 상품의 유통보다 생산 과정에서 이윤을 추구하는 자본주의는 산업 자본주의이다. ㉔의 상업 자본주의는 상품의 생산보다 유통 과정에서 이윤을 추구하는 자본주의를 말한다.
- ⑤(가)에는 '신항로 및 식민지 개척'이 들어갈 수 있다. 절대 왕정 국가들은 식민지를 개척하여 저렴한 원자재 공급처와 수출 시장을 확보하고, 지역적으로 가격 차이가 큰 상품을 싸게 구매한 뒤 비싸게 판매하여 이윤을 얻었다.

감각 있는 풀이 TIP

중상주의 관련 제시문에서는 다음의 요소가 핵심이다.

1. 국가 주도의 경제 강화 정책(중앙 집권, 군사력, 금·은 확보)
2. 상인 계층과의 협력 또는 특혜 부여
3. 식민지 개척, 신항로 개척 등 해외 진출 전략
4. 자본주의는 '생산 수단 소유 및 생산 과정의 이윤 추구'라는 점에서 중상주의와 구분

02-① 수정 자본주의

제시문은 미국의 대공황 시기에 취임한 루스벨트 대통령의 연설문이다. 당시는 수정 자본주의가 대두하던 시기로 시장의 한계를 보완하기 위한 정부의 역할이 강조되었다.

[선지 분석]

- ① 루스벨트 대통령은 수정 자본주의에 입각한 경제 정책인 뉴딜 정책을 통해 대공황을 극복하려고 하였다.
- ❌ 공기업의 민영화, 복지 축소 등의 정책 추진은 신자유주의 시기에 등장한 내용이다.
- ❌ 스태그플레이션은 1970년대 두 차례의 석유 파동에 따라 초래된 현상으로 신자유주의의 등장 배경이 되었다.
- ❌ 루스벨트 대통령은 경제 문제 해결에 있어 정부의 역할을 중시하였다.
- ❌ 대공황은 과잉 공급과 수요 부족으로 발생한 문제이다.

고득점을 위한 핵심 개념

뉴딜 정책

대공황 발생 당시 미국의 루스벨트 대통령은 수정 자본주의에 입각한 뉴딜 정책을 통해 국가의 경제적 위기를 타개해 나갔다. 재기 가능한 은행에 자금을 빌려줌으로써 파산을 막았고, 농산물 가격 폭락을 막기 위해 자금을 지원하였으며, 대규모 공공사업을 통해 일자리를 만들어 유효 수요를 창출하였다.

감각 있는 풀이 TIP

이 문제의 핵심은 화자의 경제관이 시장 자율이 아닌, 정부의 책임과 개입을 강조하고 있다는 점을 파악하는 데 있다. 지문에서 "정부의 규율과 방향을 제시해 줄 것을 요청"하고, "현실을 쇄신하겠다."라고 말한 부분은 정부 주도의 경제 회복 정책, 즉 수정 자본주의적 입장을 보여 준다. 특히 "공황으로 좌절 한 일 없다."라는 언급은, 당시 대공황 같은 경제 위기 상황에서 정부가 적극적으로 개입하여 문제 해결에 나서겠다는 의지로 해석할 수 있다.

02-② 수정 자본주의

출제 예상 포인트 수정 자본주의를 대표하는 학자인 케인스의 입장은 통합사회 8종 교과서에서 모두 다루는 내용이므로 대학수학능력시험에 출제될 가능성이 높다. 수능 예시 문항과 전국연합학력평가에서도 등장하는 평가 요소이다.

제시문은 시장이 항상 효율적이지 않으며, 특히 대공황과 같은 경기 침체 상황에서 정부가 적극적으로 개입해 문제를 해결해야 한다고 주장하고 있다. 정부가 대규모 공공사업을 통해 일자리를 창출하면 노동자들은 임금을 받게 되고, 이는 곧 소비 능력의 증가로 이어져 유효 수요가 창출되며, 결과적으로 경기 회복에 기여하게 된다는 논리이다. 이는 케인스의 입장에 부합한다.

[선지 분석]

- ① 케인스는 대공황이 과잉 공급과 수요 부족으로 인해 발생했으므로, 이를 극복하기 위해서는 정부의 재정 지출 확대를 통해 유효 수요를 창출해야 한다고 주장하였다.
- ❌ 케인스는 시장 실패를 지적하며 시장에서 발생한 문제 해결을 위해 정부의 적극적인 개입을 주장하였다.
- ❌ 대공황은 자유 경쟁을 지나치게 강조한 결과 등장한 독과점 기업으로 인해 수요를 훨씬 웃도는 과잉 공급이 나타나며 발생하였다.
- ❌ 케인스는 정부 지출을 확대하면 민간 소비가 진작되어 경기 부양 효과를 가져올 수 있다고 주장하였다.
- ❌ 케인스의 주장과 거리가 먼 내용이다.

고득점을 위한 핵심 자료

대공황의 발생

대공황은 1929년 미국 뉴욕 주식 시장의 주가 대폭락을 시작으로 1933년까지 각국으로 파급된 세계적인 경제 불황이다. 당시 각국은 생산량의 대폭 감소, 교역 축소 등으로 기업이 차례로 도산하면서 실업자가 대량 발생하였다. 미국의 실업률은 1929년 3% 수준이었으나 1933년 25%를 기록하였으며, 국내 총생산은 1,044억 달러에서 560억 달러로 떨어졌다. 미국 경제가 최악의 상황에 빠지면서 세계 경제도 함께 추락하였다.

19세기 후반 기업 간 경쟁이 심화되어 다수의 산업 자본이 몰락하고 소수의 기업이 시장에서 독과점을 형성하였다. 이에 따라 자유로운 경쟁이 줄고 시장에서 자원이 효율적으로 배분되지 못하는 시장 실패가 나타났다. 1929년 미국에서 주가 폭락을 계기로 대공황이 발생하자 미국뿐만 아니라 세계 여러 나라가 심각한 경제 불황을 겪었다.

수능 기본 문제

120~121쪽

- | | | | | | |
|------|------|------|------|------|------|
| 01 ④ | 02 ⑤ | 03 ⑤ | 04 ④ | 05 ③ | 06 ② |
| 07 ④ | 08 ⑤ | | | | |

01 자본주의

제시문의 밑줄 친 '이것'은 자본주의이다. 자본주의는 사유 재산을 보호하고 시장 가격에 따라 경제 주체들이 자유로운 경제활동을 하는 것이 특징이다.

[선지 분석]

- ❌ 자본주의의 특징과 거리가 먼 내용이다. 정부가 자원 배분 방식과 시기를 결정하는 것은 계획경제 체제이다.
- ㉠ 자본주의에서는 시장에서 경제 주체들이 자유롭게 경제활동을 한다.
- ❌ 자본주의에서는 생산 수단의 사적 소유가 허용된다. 생산 수단의 대부분이 국유화 또는 공유화된 것은 사회주의이다.
- ㉡ 자본주의에서는 수요와 공급에 따라 각종 상품의 시장 가격이 결정된다.

고득점을 위한 핵심 개념

자본주의

자본주의란 사유 재산 제도를 바탕으로 자원의 효율적인 배분을 추구하는 경제 원리로, 일반적으로 다음과 같은 특징을 갖는다.

첫째, 개인과 기업에 경제활동의 자유를 최대한 보장한다. 이는 개별 경제 주체들이 시장에서의 경쟁을 통해 자신의 경제적 이익을 자유롭게 추구할 수 있는 토대가 된다.

둘째, 사유 재산권을 법적으로 보장한다. 각 경제 주체가 사유 재산을 획득하고 사용하면서 자본 축적과 투자가 이루어지며 이를 통해 사회 전체의 부가 증가한다.

셋째, 시장에서 결정된 가격에 따라 상품의 거래가 이루어지도록 한다. 대부분의 경제활동이 시장에서 일어나며 개인과 기업이 자유롭게 시장에서 재화와 서비스를 거래할 수 있다.

개인이나 기업이 재산을 가질 수 있도록 하는 제도이다.

02 대공황

출제 예상 포인트 수정 자본주의의 등장 배경이 된 대공황은 통합사회 8종 교과서에서 모두 다루는 내용이므로 대학수학능력 시험에 출제될 가능성이 높다.

밑줄 친 '이 사건'은 대공황이다. 산업 자본주의 시기 발생한 대공황은 수정 자본주의가 등장하는 배경이 되었다.

[선지 분석]

- ✗ 중상주의 정책은 상업 자본주의 시기에 추진되었다.
- ✗ 대공황은 수정 자본주의가 등장하는 배경으로 작용하였다.
- ㉠ 대공황 이후 미국의 루스벨트 대통령은 뉴딜 정책을 통해 공공사업 확대, 복지 강화, 금융 규제 강화 등 정부의 적극적 시장 개입을 실시하였다.
- ㉡ 대공황은 정부의 계획과 개입을 강조한 수정 자본주의의 도입 근거가 되었으며, 이후 케인스의 경제 이론이 확산되었다.

03 산업 자본주의와 수정 자본주의

(가)에는 산업 자본주의의 특징, (나)에는 수정 자본주의의 특징, (다)에는 산업 자본주의와 수정 자본주의의 공통점을 묻는 질문이 들어가야 한다.

[선지 분석]

- ✗ 산업 자본주의와 수정 자본주의 모두 생산 수단의 국·공유화를 강조하지 않으므로 적절하지 않은 질문이다.
- ㉠ 산업 자본주의와 수정 자본주의 모두 '보이지 않는 손'의 역할을 인정하므로 이 질문은 (다)에 들어갈 수 있다.
- ㉡ 수정 자본주의는 시장에 정부의 개입이 필요하다고 주장하므로 국가에 의한 사회 보장 제도의 시행을 강조한다. 따라서 이 질문은 (나)에 들어갈 수 있다.
- ㉢ 산업 자본주의는 자유방임주의를 근거로 국가의 시장 개입을 최소화하는 작은 정부를 추구한다. 따라서 이 질문은 (가)에 들어갈 수 있다.

고득점을 위한 핵심 개념

산업 자본주의와 수정 자본주의

	산업 자본주의	수정 자본주의
의미	상품의 유통보다 생산 과정에서 이익을 추구하는 자본주의	국가의 적극적 시장 개입으로 시장 실패를 해결해야 한다는 자본주의
등장 배경	18세기 중반 영국에서 시작된 산업 혁명	1929년 미국에서 시작된 세계 대공황

특징

'보이지 않는 손'의 역할을 강조하며 국가의 시장 개입 최소화 추구

정부가 다양한 정책을 통해 시장에 적극 개입하여 시장의 한계 보완, 국민의 인간다운 생활을 보장하기 위한 역할 수행

감각 있는 풀이 TIP

(가)~(다)가 산업 자본주의와 수정 자본주의의 공통점과 차이점 중 무엇에 해당하는지부터 파악한다. 또한 산업 자본주의와 수정 자본주의 모두 '보이지 않는 손'의 역할을 인정한다는 점에 유의하여 문제를 풀어야 한다.

04 자본주의의 역사적 전개 과정

(가)는 상업 자본주의, (나)는 수정 자본주의이다.

[선지 분석]

- ✗ 대공황은 수정 자본주의의 등장 배경이다.
- ✗ 공기업의 민영화, 노동 시장의 유연화를 추구하는 것은 신자유주의이다.
- ✗ 석유 파동은 신자유주의의 등장 배경이다.
- ㉠ 수정 자본주의는 시장 실패를 해결하기 위한 정부의 역할을 중시하며, 그 사례로 미국의 뉴딜 정책을 들 수 있다.
- ✗ 상업 자본주의와 수정 자본주의 모두 사유 재산 제도를 인정한다.

감각 있는 풀이 TIP

자본주의의 역사적 전개 과정은 '상업 자본주의 → 산업 자본주의(독점 자본주의) → 수정 자본주의 → 신자유주의'의 흐름으로 진행됨에 유의해야 한다. 각 단계의 등장 배경과 국가의 역할 변화(국가 개입 유무)에 주목하여 선지를 구별해야 한다.

05 자본주의의 역사적 전개 과정

자본주의의 역사는 상업 자본주의(중상주의) → (산업 혁명) → 산업 자본주의(자유방임주의) → (대공황) → 수정 자본주의 → (석유 파동) → 신자유주의의 순서로 전개되었다.

[선지 분석]

- ㉠ 애덤 스미스의 자유방임주의를 기반으로 한 자본주의는 산업 자본주의이다. 정부가 시장에 개입하는 경제 정책을 펴는 계기가 된 역사적 사건은 대공황이다. 수정 자본주의 체제하에서 다시 등장한 경제사상으로 시장의 자율과 경쟁을 중시하는 것은 신자유주의이다.

고득점을 위한 핵심 자료

자유방임주의와 『국부론(國富論)』

자유방임주의는 애덤 스미스가 『국부론』을 저술한 이후 본격적으로 확산된 경제사상이다. 애덤 스미스는 국가의 부란 귀금속이 아니라 사람들에게 필요한 물자이며, 개인과 기업이 시장에서 자유롭게 거래할 때 물자가 풍부해진다는 점을 강조하였다.

06 시장경제 체제

시장경제 체제는 시장 원리에 의해 경제 문제를 해결하는 경제 체제이다.

[선지 분석]

- ㉠ 개인의 이익 추구 행동은 계획경제 체제에서보다 시장경제 체제에서 자유롭다.
- ✗ '보이지 않는 손'은 시장 가격 기구에 의한 자원 배분을 의미한다.
- ㉡ 시장경제 체제는 개인의 이익 추구 활동과 '보이지 않는 손'에 의한 자원 배분을 중시하는 경제 체제이다.

✕ 경제학자 A는 애덤 스미스로 '최소의 정부가 최선의 정부'라고 주장하였다.

감각 있는 풀이 TIP

㉠, ㉡이 시장경제 체제와 계획경제 체제 중 어떤 경제 체제의 특징에 해당하는지 먼저 파악하면 선지의 진위 여부를 쉽게 판단할 수 있다.

07 경제 체제의 유형별 특징

출제 예상 포인트 시장경제 체제와 계획경제 체제의 특징은 통합 사회 8종 교과서에서 모두 다루는 내용이다. 경제 체제의 특징을 표의 형태로 구분하는 유형의 문항이 출제될 수 있으므로 비교하여 알아두어야 한다.

표에서 '시장의 수요와 공급에 의해 상품의 거래량이 결정되는가?'라는 질문에 '예'라고 답변한 A는 시장경제 체제이고, '아니오'라고 답변한 B는 계획경제 체제이다.

[선지 분석]

✕ A는 시장경제 체제, B는 계획경제 체제이다.

㉠ 기본적인 경제 문제는 경제 체제에 관계없이 자원의 희소성에 의해 발생한다.

✕ '경제 문제 해결에 있어 효율성보다 형평성을 강조하는가?'라는 질문에 시장경제 체제는 '아니오', 계획경제 체제는 '예'라고 답변하므로 이 질문은 (가)에 들어갈 수 없다.

㉡ 시장 가격 기구에 의해 경제 문제를 해결하는 것은 A의 시장경제 체제이다.

08 경제 체제의 유형별 특징

출제 예상 포인트 혼합경제 체제는 통합사회 5종 교과서에서 공통적으로 설명하는 개념이므로 대학수학능력시험에 출제될 가능성이 있다. 따라서 혼합경제 체제의 의미와 성격에 대해 명확히 알아두어야 한다.

(가)는 시장경제 체제와 계획경제 체제를 구분할 수 있으면서, 시장경제 체제와 혼합경제 체제를 구분할 수 없는 질문이 들어가야 한다.

[선지 분석]

✕ 시장경제 체제, 계획경제 체제, 혼합경제 체제 모두 전통과 관습에 의해 경제 문제를 해결하지 않으므로, 해당 질문은 (가)에 들어갈 수 없다.

㉠ 생산 수단의 사유화를 원칙적으로 보장하는 것은 시장경제 체제의 특징으로 계획경제 체제와 구분되지만, 시장경제 체제를 기반으로 한 혼합경제 체제와는 구분할 수 없다. 따라서 해당 질문은 (가)에 들어갈 수 있다.

㉡ '보이지 않는 손'에 의한 자원 배분을 중시하는 것은 시장경제 체제의 특징으로 계획경제 체제와 구분되지만, 시장경제 체제를 기반으로 한 혼합경제 체제와는 구분할 수 없다. 따라서 해당 질문은 (가)에 들어갈 수 있다.

㉢ 민간 경제 주체의 경제활동에 대한 자유를 인정하는 것은 시장경제 체제의 특징으로 계획경제 체제와 구분되지만, 시장경제 체제를 기반으로 한 혼합경제 체제와는 구분할 수 없다. 따라서 해당 질문은 (가)에 들어갈 수 있다.

1등급 완성 문제

122~123쪽

01 ③ 02 ③ 03 ⑤ 04 ① 05 ⑤ 06 ①
07 ③ 08 ③

01 자본주의

그림은 시장에서 수요자와 공급자가 만나 서로 원하는 가격에 거래하려는 모습이다. 이를 통해 자본주의에서는 경제 주체가 자유롭게 경제활동을 할 수 있다는 점을 알 수 있다.

[선지 분석]

✕ 소비자가 일반적으로 재화의 가격을 결정하는 것이 아니라, 시장에서 생산자와 소비자가 의견을 교환함으로써 가격이 결정된다.

㉠ 자본주의에서는 시장 가격에 따라 수요자와 공급자가 상품을 거래한다. 수요자는 자신이 생각한 가격보다 싸거나 그와 비슷할 때, 공급자는 자신이 생각한 가격보다 비싸거나 그와 비슷한 수준일 때 서로 거래한다.

㉡ 시장 가격에 따라 수요와 공급이 조절되는 것으로 보아 시장을 통해 자원이 효율적으로 배분됨을 알 수 있다.

✕ 제시된 그림을 통해서만 파악할 수 없는 내용이다.

02 자본주의의 역사적 전개 과정

출제 예상 포인트 애덤 스미스와 케인스의 주장은 통합사회 8종 교과서에서 모두 다루는 내용이므로 대학수학능력시험에 출제될 가능성이 높다. 수능 예시 문항과 전국연합학력평가에서도 자주 등장하는 평가 요소이므로 비교하여 알아두어야 한다.

(가)는 케인스, (나)는 애덤 스미스, (다)는 프리드먼의 주장이다.

[선지 분석]

㉢ 케인스는 수정 자본주의, 애덤 스미스는 산업 자본주의, 프리드먼은 신자유주의 시기를 대표하는 학자이다. 따라서 각 학자의 주장을 시기 순으로 나열하면 (나)-(가)-(다)이다.

고득점을 위한 핵심 자료

신자유주의의 대표적 학자 - 하이에크(Hayek, F. A.)

“대공황이 발생해도 가격 기구의 원리에 따라 시장은 균형을 향해 움직일 것이며, 국가의 공공사업은 물가 상승만을 부채질할 뿐이다. 자유 시장을 버리고 계획경제를 주창하는 사람들은 그 의도가 아무리 좋다 한들 결국 폭정을 초래하기 쉬운 길로 들어선다.”

신자유주의의 대표적 학자인 하이에크는 시장이 많은 개인의 의도하지 않은 행위로 만들어지는 자생적 질서로, 개인이 경제적 자유를 누리면서 효율적인 선택을 하게 한다고 보았다. 그는 정부가 불완전한 정보를 바탕으로 시장 질서를 인위적으로 바꾸려 하는 것은 효율적이지도 않고 공정하지도 않다고 주장하였다.

03 자본주의의 역사적 전개 과정

출제 예상 포인트 자본주의의 역사적 변천 과정은 통합사회 8종 교과서에서 모두 다루는 내용이다. 시대의 순서를 묻는 문항이 대학수학능력시험에 출제될 가능성이 높다.

자본주의는 영국의 산업 혁명 이래로 '산업 자본주의→(대공황)→수정 자본주의→(석유 파동)→신자유주의' 순으로 전개되었다. 제시된 자료의 A는 산업 자본주의, B는 신자유주의, C는 수정 자본주의이다.

[선지 분석]

✕ 국가의 중상주의 정책에 기반을 두고 있었던 것은 상업 자본주의이다.

✕ 정부 실패를 유발한 것은 큰 정부를 강조했던 수정 자본주의이다.

- ㉔ 1929년 대공황이 발생하면서 시장 스스로 문제를 해결할 수 있다는 주장에 대한 비판이 커졌다. 이를 해결하기 위해 등장한 수정 자본주의는 시장에 대한 정부의 적극적 개입을 추구하였다.
- ㉕ A~C를 시간의 흐름 순으로 나열하면 A 산업 자본주의 - C 수정 자본주의 - B 신자유주의이다.

고득점을 위한 핵심 개념

자본주의의 역사적 변천 과정

산업 자본주의	정부의 개입 없이 개인의 자유로운 이익 추구를 통해 국가의 부가 증대할 수 있다는 애덤 스미스의 자유방임주의 사상은 산업 자본주의의 기틀이 되었다.
수정 자본주의	1929년 뉴욕 월가(街)의 주가 하락으로 시작된 대공황의 여파는 1939년까지 이어졌다. 실업과 물가 상승 등의 거시적 경제 문제를 해결하려면 정부가 시장에 개입해야 한다는 케인스의 경제 이론에 근거하여 대공황을 극복하며 수정 자본주의 시대가 시작되었다.
신자유주의	1970년대 발생한 두 차례의 석유 파동은 케인스 경제학의 입지를 약화시키고 신자유주의가 힘을 얻는 계기가 되었다. 하이에크는 케인스의 이론을 비판하며 정부 역할 축소와 시장 기능 확대를 주장하였다.
2008년 금융 위기	2008년 미국 대형 투자 은행들의 파산과 함께 세계 금융 위기가 본격화되었다. 이윤만을 좇아 무분별하게 파생 금융 상품을 발행한 금융 기업의 행태를 정부가 제대로 규제하지 못하여 금융 위기가 발생했다는 지적이 일면서 신자유주의의 영향력은 약화하였다.

04 신자유주의

신자유주의의 위세는 2008년 미국발 금융 위기를 겪으면서 한풀 꺾이기 시작하였다. 당시 금융 위기의 원인이 금융 분야에 대한 정부 규제가 허술했기 때문이라는 점이 지적되며 무분별한 규제 철폐 및 완화에 대한 우려의 목소리가 높아졌다. 또한 빈부 격차가 커지고 시장이 불안해지는 등의 부작용이 나타나면서 자본주의 사회에서는 정부의 바람직한 시장 개입 정도에 관한 논쟁이 계속되고 있다.

[선지 분석]

- ㉑ 시장의 자율성과 경쟁을 중시한 신자유주의 정책이 과도한 대출과 금융 상품 판매로 이어졌고, 그 결과 2008년 금융 위기가 발생했다는 내용은 신자유주의의 한계와 모순을 보여 주는 대표적인 사례이다.
- ✖ 미국발 금융 위기 문제의 핵심은 시장 규제 완화와 금융 자유화로 인한 부실 대출이지, 독점 자본주의로의 회귀와는 거리가 멀다.
- ✖ 서브프라임 모기지 사태는 정부 개입이 줄어든 신자유주의적 환경에서 발생한 것이므로, 수정 자본주의의 한계를 보여 준다고 보기 어렵다.
- ✖ 서브프라임 모기지 사태는 복지 정책과 직접적인 관련이 없으며, 오히려 복지와 규제를 축소한 신자유주의 정책의 실패로 볼 수 있다.
- ✖ 미국발 금융 위기는 신자유주의의 폐해와 문제점이 드러나며, 정책 전환의 필요성이 제기된 사례이다. 제1문 후반의 '복지 정책 강화', '정부의 개입 강화' 등의 논의가 이를 뒷받침한다.

감각 있는 풀이 TIP

제시된 사례의 결과 어떤 현상이 발생했는지에 주목해야 한다. 2008년 미국발 금융 위기는 정부 규제 축소와 금융 시장 자율화의 부작용을 보여 주는 사례로, 신자유주의 비판의 흐름 속에서 접근해야 한다.

05 프로테스탄트 윤리와 자본주의 정신

막스 베버는 그의 저서 『프로테스탄트 윤리와 자본주의 정신』을 통해 프로테스탄트 윤리가 자본주의 발전에 미친 영향을 분석하였다.

베버는 프로테스탄트의 금욕적인 직업 윤리관이 근대 자본주의 정신을 탄생시킨 핵심이라고 설명하였다. 그는 지속적인 직업 노동을 통해 자본을 증식하고, 근검절약을 실천하여 부를 축적하며, 또 다른 부를 창출하기 위해 투자하는 것에 정당성을 부여한 프로테스탄트의 윤리가 자본주의의 태동과 발전에 일조하였다고 보았다.

[선지 분석]

- ✖ 개인의 자본 축적보다는 사회의 분배 정의 실현을 더 강조하였다는 것은 사회주의적 가치관에 가까운 설명으로, 프로테스탄트 윤리와는 거리가 멀다.
- ✖ 프로테스탄트 윤리는 금욕을 세속적 직업 활동에 적용하였다.
- ✖ 물질적 성공을 타락으로 간주하고 자본 축적을 부정적인 시각으로 본 것은 가톨릭 및 중세적 가치관에 가까우며, 프로테스탄트 윤리와는 반대되는 주장이다. 프로테스탄트 윤리는 직업적 성공과 자본 축적을 신의 은총으로 여겼다.
- ✖ 베버는 자본주의 발전의 정신적 배경으로 종교(특히 칼뱅주의적 윤리)를 강조하였으며, 계몽주의 이성 사상을 강조하지 않았다.
- ㉕ 프로테스탄트 윤리는 직업을 종교적 소명으로 보고 성실히 일하며 절제된 소비를 통해 자본을 축적하는 것을 미덕으로 보았다. 이는 자본주의 정신에 부합하여 자본주의 발전의 토대가 되었다.

06 경제 체제 유형별 특징

‘경제활동의 자유 보장’ 정도가 높은 갑국은 시장경제 체제의 성격이 강하고, ‘정부의 계획과 명령에 의한 자원 배분’ 정도가 높은 을국은 계획경제 체제의 성격이 강하다.

[선지 분석]

- ㉑ 갑국은 을국보다 개인의 이익 추구 동기가 강하므로 (가)에 ‘시장의 자동 조절 기능 중시’가 들어갈 수 있다.
- ㉒ 갑국은 시장경제 체제의 성격이 강하므로 경쟁에 의한 자원 배분을 강조한다.
- ✖ 을국은 계획경제 체제의 성격이 강하므로 경제적 형평성을 중요시할 것이다.
- ✖ 갑국은 시장경제 체제의 성격이 강하므로 생산 수단의 사유화를 인정할 것이다.

고득점을 위한 핵심 개념

시장경제 체제와 계획경제 체제의 비교

구분	시장경제 체제	계획경제 체제
생산 수단의 소유	개인	정부
경제 문제 해결 방식	시장의 원리	정부의 계획과 통제
의사 결정 주체	개별 경제 주체	정부
장점	• 자원의 효율적 배분 • 자유로운 이익 추구	• 정책 목표의 효과적 달성 • 분배의 평등 추구
단점	• 빈부 격차의 발생 • 환경 오염 등 사회 문제 발생	• 개인의 자유로운 선택 제한 • 경제 전체의 효율성 감소

감각 있는 풀이 TIP

이 문제는 경제 체제의 비교를 다루는 대표적인 유형이다. 그림의 각 축의 척도가 무엇인지 파악하고 시장경제 체제와 계획경제 체제에서는 해당 척도를 어느 정도 중시하는지 이해하는 것이 중요하다.

07 석유 파동

제시문은 석유 파동에 대한 내용으로 ㉑은 수정 자본주의, ㉒은 신

자유주의이다. 수정 자본주의는 큰 정부를 지향하는 반면, 신자유주의는 작은 정부를 지향한다.

[선지 분석]

- ✕ 공기업의 민영화, 노동 시장의 유연화, 감세 정책은 신자유주의에서 추진되는 정책이다.
- ㉠ 신자유주의는 석유 파동으로 발생한 스태그플레이션을 극복하려는 과정에서 등장하였다.
- ㉡ 수정 자본주의는 복지 정책을 확대하는 등 신자유주의에 비해 자원 배분의 형평성을 강조하였다.
- ✕ 수정 자본주의는 신자유주의에 비해 정부의 적극적인 역할을 강조하였다.

08 우리나라 경제 체제의 특징

출제 예상 포인트 우리나라 헌법에 나타난 경제 체제에 관한 내용은 통합사회 5종 교과서에서 공통적으로 설명하는 개념이므로 대학수학능력시험에 출제될 가능성이 있다. 각 항의 내용을 분석하여 시장경제 체제와 혼합경제 체제의 요소를 구분할 수 있어야 한다.

우리나라는 시장경제 체제를 기반으로 계획경제 체제의 요소가 일부 가미된 혼합경제 체제이며, 그 내용은 헌법 조항을 통해 파악할 수 있다.

[선지 분석]

- ㉢ 헌법 제119조 ① 중 '대한민국의 경제 질서는 개인과 기업의 경제상의 자유와 창의를 존중함'을 통해 시장경제 체제의 요소는 있지만 계획경제 체제의 요소는 없음을 알 수 있다. 따라서 ㉠은 '예', ㉡은 '아니요'이다. 또한 제119조 ② 중 '국가는 균형 있는 국민 경제의 성장 및 안정과 적정한 소득의 분배를 유지하고, 시장의 지배와 경제력의 남용을 방지하며, 경제 주체 간의 조화를 통한 경제의 민주화를 위하여 경제에 관한 규제와 조정을 할 수 있다.'를 통해 국가가 소득 분배의 불균형 개선이라는 자원의 비효율적 배분 상황이 발생했을 때 경제에 개입할 수 있음을 보여 준다. 즉 우리나라의 경제 체제는 시장경제 체제의 기반 위에 계획경제 체제의 요소가 더해져 있음을 알 수 있다. 따라서 ㉠과 ㉡은 모두 '예'이다.

고득점을 위한 핵심 자료

헌법을 통해 살펴보는 중국과 북한의 경제 체제

■ 중국 헌법

제6조 중화 인민 공화국의 사회주의 경제 제도의 기초는 생산 수단의 사회주의 공유제, 즉全民 소유제와 근로 대중의 집단 소유제이다.

■ 북한 헌법

제20조 조선 민주주의 인민 공화국에서 생산 수단은 국가와 사회 협동 단체가 소유한다.

제21조 국가 소유는 전체 인민의 소유이다. 국가 소유권의 대상에는 제한이 없다. 나라의 모든 자연부원, 철도, 항공 운수, 체신 기관과 중요 공장, 기업소, 항만, 은행은 국가만이 소유한다.

제34조 조선 민주주의 인민 공화국의 인민 경제는 계획경제이다.

중국과 북한의 헌법을 통해 중국과 북한 모두 사회주의 계획경제 체제임을 알 수 있다. '사회주의', '계획경제'라는 단어가 없어도 '全民 소유제', '집단 소유제', '국가와 사회 협동 단체가 소유' 등의 내용을 통해 파악할 수 있다.

14

합리적 선택과 경제 주체의 역할

기출 등급 문제

127쪽

01-① ③

01-② ④

02-① ④

02-② ⑤

01-① 합리적 선택

출제 예상 포인트 합리적 선택을 묻는 문제에서 가격과 편익을 표로 제시하는 형태는 통합사회 8종 교과서에서 공통적으로 설명하는 자료이므로 대학수학능력시험에 출제될 가능성이 높다. 제시된 자료에서 순편익과 기회비용을 각각 계산하여 비교할 수 있어야 한다.

주어진 자료를 토대로 A와 B 선택에 대한 갑과 을 각각의 순편익을 구하면 다음과 같다.

(단위: 만 원)

구분		순편익	편익	기회비용	
				명시적 비용	암묵적 비용
갑	A	30	150	100	20
	B	-30	100	80	50
을	A	-30	110	100	40
	B	30	120	80	10

[선지 분석]

- ✕ 갑이 B를 선택할 경우의 기회비용은 130만 원이고, 을이 A를 선택할 경우의 기회비용은 140만 원이다. 따라서 기회비용은 갑이 B를 선택할 경우보다 을이 A를 선택할 경우가 더 크다.
- ㉠ 갑이 A를 선택할 경우의 암묵적 비용은 20만 원이고, 을이 B를 선택할 경우의 암묵적 비용은 10만 원이다.
- ㉡ 갑이 A를 선택할 경우의 순편익과 을이 B를 선택할 경우의 순편익은 모두 30만 원으로 같다.
- ✕ 갑은 A를, 을은 B를 선택할 때 순편익이 가장 크다.

감각 있는 풀이 TIP

합리적 선택을 파악하기 위해서는 순편익, 편익, 기회비용의 개념을 정확하게 이해해야 한다. 합리적 선택에서 고려하는 암묵적 비용은 어떤 대안을 선택할 경우 포기한 대안으로부터 얻을 수 있었던 최선의 가치라는 점을 기억하고 문항에서 정확하게 구할 수 있어야 한다.

01-② 합리적 선택

주어진 자료를 토대로 갑의 X재 선택과 Y재 선택의 순편익을 구하면 다음과 같다.

(단위: 만 원)

구분	순편익	편익	기회비용	
			명시적 비용	암묵적 비용
X재 선택 시	-20	100	70	50
Y재 선택 시	20	200	150	30
X재 선택 시(Y재: 120만 원)	-50	100	70	80
Y재 선택 시(Y재: 120만 원)	50	200	120	30

[선지 분석]

- ✗ 명시적 비용은 값이 X재를 선택할 경우 70만 원이고, Y재를 선택할 경우 150만 원이다.
- ✗ 암묵적 비용은 값이 X재를 선택할 경우 50만 원이고, Y재를 선택할 경우 30만 원이다.
- ✗ 기회비용은 값이 X재를 선택할 경우 120만 원이고, Y재를 선택할 경우 180만 원이다. 따라서 기회비용은 값이 Y재를 선택할 경우보다 X재를 선택할 경우가 60만 원 작다.
- ④ 순편익은 값이 X재를 선택할 경우 -20만 원이고, Y재를 선택할 경우 20만 원이다.
- ✗ Y재 가격이 120만 원으로 하락할 때 값의 순편익은 X재를 선택할 경우 -50만 원이고, Y재를 선택할 경우 50만 원이다. 따라서 Y재 가격이 120만 원으로 하락하더라도 값은 Y재를 선택하는 것이 합리적이다.

02-① 외부 효과

(가)에는 긍정적 외부 효과가, (나)에는 부정적 외부 효과가 나타난다. 긍정적 외부 효과와 부정적 외부 효과 모두 시장 실패에 해당한다.

[선지 분석]

- ✗ (가)는 긍정적 외부 효과의 사례이다.
- ㉠ (가)는 긍정적 외부 효과의 사례이다. 따라서 백신은 사회적 최적 거래량보다 과소 소비되는 문제가 발생한다.
- ✗ (가)는 긍정적 외부 효과, (나)는 부정적 외부 효과의 사례이므로 (가)와 (나) 모두 시장 실패에 해당한다.
- ㉡ 공공장소에서의 흡연으로 주변에 피해를 주는 행위는 부정적 외부 효과에 해당한다.

고득점을 위한 핵심 개념

외부 효과에서 사적 편익과 사회적 편익

긍정적 외부 효과에서 사적 편익은 사회적 편익보다 작으므로 과소 소비의 문제가 발생한다. 부정적 외부 효과에서 사적 편익은 사회적 편익보다 크므로 과다 소비의 문제가 발생한다. 따라서 정부는 긍정적 외부 효과에서는 보조금을, 부정적 외부 효과에서는 세금을 활용하여 사회적 최적 거래량을 달성해야 한다.

감각 있는 풀이 TIP

시장 실패의 유형인 외부 효과의 개념을 정확히 알고, 긍정적 외부 효과와 부정적 외부 효과의 사례를 구분할 수 있어야 한다.

02-② 외부 효과

(가)는 긍정적 외부 효과, (나)는 부정적 외부 효과의 사례에 해당한다.

[선지 분석]

- ✗ 공유 자원은 경합성과 비배제성을 가지는 재화이다. 유료 백신은 배제성을 가지므로 공유 자원으로 볼 수 없다.
- ㉠ (가)는 긍정적 외부 효과, (나)는 부정적 외부 효과의 사례이다.
- ㉡ (가)는 긍정적 외부 효과의 사례이므로 백신은 사회적 최적 거래량보다 과소 소비된다. (나)는 부정적 외부 효과의 사례이므로 감염병에 걸린 채 쇼핑을 하는 행위는 사회적 최적 거래량보다 과다 소비된다.
- ㉢ (가)와 달리 (나)는 부정적 외부 효과 사례이므로 ㉢에게 과태료와 같은 부정적 경제 유인을 제공함으로써 외부 효과를 개선할 수 있다.

수능 기본 문제

128~129쪽

- 01 ② 02 ③ 03 ⑤ 04 ⑤ 05 ① 06 ③
07 ④ 08 ④

01 합리적 선택

편익은 개인이 어떤 재화를 소비하였을 때 그 선택에 따른 개인의 주관적인 만족감을 의미한다. 한 개인이 어떤 재화를 구입하였다면 해당 재화의 편익이 가격보다 높다는 것을 의미한다.

[선지 분석]

- ㉠ ○○ 자전거 구입에 대한 값의 최소한의 편익은 100만 원, 올의 최소한의 편익은 70만 원이고, 올의 최대한의 편익은 100만 원보다 작으므로 올의 편익은 값의 편익보다 작다.
- ✗ ○○ 자전거 구입에 따른 순편익은 알 수 없다.
- ㉡ 명시적 비용은 어떤 대안을 선택할 경우 실제로 지출되는 비용이다. 값은 ○○ 자전거 구입을 위해 100만 원을, 올은 70만 원을 지불하였다.
- ✗ 값과 올의 ○○ 자전거 구입은 모두 합리적 선택이었다. 따라서 값과 올 모두 편익이 기회비용보다 큰 선택을 하였다.

고득점을 위한 핵심 개념

합리적 선택과 순편익

합리적 선택은 여러 대안 중 순편익이 큰 대안을 선택하는 것이다. 순편익이 크다는 것은 편익이 기회비용보다 크다는 것을 의미한다.

02 윤리적 소비

출제 예상 포인트 윤리적 소비는 통합사회 8종 교과서에서 공통적으로 설명하는 개념이므로 대학수학능력시험에 출제될 가능성이 높다. 경제활동의 주체인 소비자의 역할에 대해 알아 두어야 한다.

벽돌 생산 과정에서 아동 학대가 있었다는 까닭으로 해당 벽돌 제품을 구입하지 않는 것은 윤리적 소비에 해당한다.

[선지 분석]

- ✗ 합리적 생산이란 기업이 이윤 극대화를 실현할 수 있는 생산을 의미한다.
- ✗ 합리적 소비란 여러 가지 대안 중 순편익이 가장 큰 대안을 선택하는 소비를 의미한다.
- ㉢ 윤리적 소비란 소비자가 재화나 서비스를 구입할 때 생명과 인권, 환경, 동물, 공동체 등을 고려하고 배려하는 소비를 의미한다.
- ✗ 기업이 정신이란 이윤 추구 과정에서 불확실한 미래를 감수하고 발휘하는 창의적인 정신을 의미한다.
- ✗ 공공재는 비경합성과 비배제성을 가지는 재화로 이를 시장에 맡기면 사회적 최적 수준보다 적게 생산된다.

고득점을 위한 핵심 개념

윤리적 소비

합리적 소비자는 효용 극대화 측면에서 효율적인 선택을 한다. 그러나 최근에는 생명, 인권, 공정한 무역, 환경 등 다양한 분야를 고려한 윤리적 소비도 소비자의 중요한 역할로 받아들여지고 있다. 윤리적 소비의 대표적인 예로 동물 실험 없는 화장품 구매, 에너지 소비 효율 등급제 제품 사용, 업사이클링 등을 들 수 있다.

03 시장 실패에 대한 정부의 역할

출제 예상 포인트 시장 실패에 대한 정부의 역할은 통합사회 8종 교과서에서 공통적으로 설명하는 개념이므로 대학수학능력시험에 출제될 가능성이 높다.

정부의 역할은 공정한 경쟁 촉진, 외부 효과 개선, 소득 재분배 정책 시행, 공공재 생산, 경제 성장 및 안정 등이 있다.

[선지 분석]

- ㉮(가)에는 교복 판매 회사의 불공정 거래를 규제하는 정부의 역할이, (나)에는 부정적 외부 효과를 개선하려는 정부의 역할이, (다)에는 소득 불평등을 개선하려는 정부의 역할이 나타나 있다.

04 경합성과 배제성

출제 예상 포인트 경합성과 배제성은 통합사회 8종 교과서에서 공통적으로 설명하는 개념이므로 대학수학능력시험에 출제될 가능성이 높다. 재화의 속성을 이해하고 구분하여 대표 사례와 함께 알아 두어야 한다.

‘한 사람의 소비가 다른 사람의 소비를 감소시키는가?’에 ‘예’라고 답하면 경합성, ‘아니요’라고 답하면 비경합성이다. ‘대가를 지불하지 않는 사람의 소비를 막을 수 있는가?’에 ‘예’라고 답하면 배제성, ‘아니요’라고 답하면 비배제성이다.

[선지 분석]

- ㉮A는 비경합성, 비배제성을 가진 공공재이다. 공공재의 생산을 시장에 맡기면 기업이 이윤을 얻을 수 없어 충분히 생산되지 않는 것이 일반적이다.
 ㉮B는 경합성, 비배제성을 가진 공유 자원이다. 공유 자원은 남용에 따른 자원 고갈이 발생할 수 있다.
 ㉮C 유료 케이블 TV 서비스는 비용을 지불하는 누구나 소비할 수 있으므로 비경합성과 배제성을 가진다. 따라서 C에 해당한다.
 ㉮D 매장에서 판매하는 최신 스마트폰은 배제성과 경합성을 가진다. 따라서 D에 해당한다.
 ✕A, B는 비배제성을 가지고 C, D는 배제성을 가진다. 따라서 C, D와 달리 A, B는 무임승차자 문제가 발생한다.

감각 있는 풀이 TIP

재화의 속성을 경합성과 배제성의 유무로 구분하는 문항을 파악해 둘 필요가 있다. 특히 공공재는 비경합성, 비배제성을 가지고 있어 시장 수요에 비해 공급이 부족하므로 정부가 직접 생산하는 재화임을 명심해야 한다.

05 시장과 정부의 역할

출제 예상 포인트 시장과 정부의 역할은 통합사회 8종 교과서에서 공통적으로 설명하는 개념이다. 정부의 적극적 개입을 강조하는 입장과 시장의 자율적 결정을 강조하는 입장을 묻는 문항이 대학수학능력시험에 출제될 가능성이 높다.

여름 휴가철 ○○ 휴가지의 숙박업소 요금 급등에 대해 갑은 정부가 적극적으로 개입할 것을, 을은 시장경제 원리에 의해 결정되도록 놔둘 것을 주장하고 있다.

[선지 분석]

- ㉮㉮의 숙박업소 요금의 급등은 이용자의 편익을 감소시키는 요인에 해당한다.

✕갑은 정부의 강력한 규제를 주장하고 있다. ‘최소의 정부가 최선의 정부이다.’라는 주장은 작은 정부론에 해당한다.

✕휴가철 숙박업소 요금 급등의 원인은 숙박업소 간 담합으로 이는 시장 실패에 해당한다. 시장에 의한 자원의 효율적 배분이 실패한 상황에서 수요와 공급의 원리, 즉 시장 원리를 시장 실패의 개선 방안으로 보기 어렵다.

✕갑은 숙박업소 간 담합, 즉 시장이 자원의 효율적 배분에 실패한 것을 지적하며 정부 규제 필요성을 주장하고 있다.

✕을은 시장 원리에 의한 해결을 주장하는 입장으로 공정 거래 위원회의 역할을 지지한다고 보기 어렵다.

06 노동 3권

출제 예상 포인트 노동 3권은 통합사회 8종 교과서에서 공통적으로 설명하는 개념이므로 대학수학능력시험에 출제될 가능성이 높다.

노동 3권은 단결권, 단체 교섭권, 단체 행동권을 의미한다. 갑과 을 중에서 한 명만 옳게 답변하였으며 갑의 발표 내용이 옳으므로 을의 발표 내용인 (가)에는 틀린 발표 내용이 들어가야 한다.

[선지 분석]

- ✕㉮의 노동 3권은 국민의 기본권에 해당한다.
 ㉮‘단결권은 노동자가 근로 조건 개선을 위해 단체를 결성할 수 있는 권리입니다.’는 옳은 발표 내용임으로 (가)에 들어갈 수 없다.
 ㉮‘단체 교섭권은 근로 조건의 유지나 개선을 위해 노동자가 파업과 같은 단체 행동을 할 수 있는 권리입니다.’는 틀린 발표 내용임으로 (가)에 들어갈 수 있다.
 ✕‘단체 행동권은 노동자가 단체로 사용자와 근로 조건에 대해 교섭하고 협약을 체결할 수 있는 권리입니다.’는 틀린 발표 내용임으로 (가)에 들어갈 수 있다.

고득점을 위한 핵심 개념

노동 3권(근로 3권)

단결권	노동자가 근로 조건을 개선하기 위해 단체를 결성할 수 있는 권리
단체 교섭권	노동자가 단체로 사용자와 근로 조건에 대해 교섭하고 협약을 체결할 수 있는 권리
단체 행동권	근로 조건의 유지 및 개선을 위해 노동자가 파업이나 태업과 같은 단체 행동을 할 수 있는 권리

07 합리적 선택

레트로 만화책 판매업을 선택할 경우 얻는 연간 총수입은 편익에, 실제로 지출되는 비용인 연간 총비용은 명시적 비용에 해당한다. 대학원 진학을 선택할 경우 이에 따라 실제로 지출되는 연간 등록금과 기타 총비용은 명시적 비용에 해당한다.

[선지 분석]

✕레트로 만화책 판매업을 선택할 경우 연간 총수입 2억 원은 편익에 해당한다.

✕레트로 만화책 판매업을 선택할 경우 연간 총비용 6천만 원은 실제로 지출되는 비용이므로 명시적 비용에 해당한다.

✕대학원 진학을 선택할 경우의 암묵적 비용은 포기한 레트로 만화책 판매업의 연간 총수입에서 연간 총비용을 뺀 1억 4천만 원이다.

㉮대학원 진학을 선택하였다는 것은 이에 대한 순편익이 레트로 만화책 판매업의 순편익보다 큼을 의미한다. 따라서 대학원 진학의 명시적 비용인

연간 등록금 및 기타 총비용 1억 2천만 원에 암묵적 비용인 1억 4천만 원을 더한 기회비용 2억 6천만 원보다 편익이 커야 한다.

❌ 대학원 진학을 선택할 경우 갑의 편익이 2억 원이라면 레트로 만화책 판매업을 선택할 경우의 순편익은 2억 원 - (6천만 원 + 8천만 원) = 6천만 원으로 양(+)의 값이고, 대학원 진학을 선택할 경우의 순편익은 2억 원 - (1억 2천만 원 + 1억 4천만 원) = -6천만 원으로 음(-)의 값이다.

감각 있는 풀이 TIP

합리적 선택에서 편익과 기회비용을 고려하고 순편익을 구하는 것은 자주 출제되는 유형의 문항이다. 각 개념을 정확하게 이해하는 것이 중요하다.

08 정보의 비대칭성

출제 예상 포인트 시장 실패의 유형 중 정보의 비대칭성은 과거 대학수학능력시험에서 종종 출제되었던 평가 요소로 추후 대학 수학능력시험에서도 출제될 가능성이 있다. 난도 역시 평이하게 출제되므로 관련 내용을 익혀 둘 필요가 있다.

정보의 비대칭성이란 경제적인 이해관계가 있는 거래 당사자 간 정보 수준의 차이가 존재하는 상황을 의미한다. 일반적으로 판매자가 구매자에 비해 정보 수준이 높다. 제시된 상황에서는 중고 X재 품질에 대한 정보를 판매자 갑은 알고 있지만 구매자 을은 알지 못한다는 점에서 정보의 비대칭성이 발생한다.

[선지 분석]

- ㉠ 만일 을이 갑처럼 중고 X재의 품질을 정확하게 알고 있다면 품질 좋은 X재는 60만 원과 70만 원 사이에서 거래될 수 있으므로 품질 좋은 X재는 65만 원에 거래될 수 있다.
- ❌ 을이 품질 좋은 X재와 품질 나쁜 X재의 평균 가격인 55만 원을 지불할 의향이 있다면 갑은 품질 좋은 X재를 회수하고 품질 나쁜 X재만 판매할 수 있다. 따라서 을이 품질 좋은 X재를 구입할 수 있다고 단정할 수 없다.
- ㉡ 을이 55만 원을 지불할 의향이 있다면 갑은 품질 좋은 X재를 회수하고 품질 나쁜 X재만 판매할 수 있다. 따라서 을은 품질 나쁜 X재를 55만 원을 주고 거래할 가능성이 있으므로 정보의 비대칭성에 따른 자원의 비효율적 배분이 나타날 수 있다.

감각 있는 풀이 TIP

시장 실패의 요인인 독과점 문제, 공공재 공급 부족 문제, 외부 효과 발생 문제 등과 함께 정보의 비대칭성도 그 개념과 사례를 정확하게 이해하는 것이 중요하다.

1등급 완성 문제

130~131쪽

01 ㉠ 02 ㉠ 03 ㉠ 04 ㉠ 05 ㉠ 06 ㉠
07 ㉠ 08 ㉠

01 경합성과 배제성 유무에 따른 재화의 속성

‘구청에서 설치한 가로등’은 공공재에 해당한다. 이를 토대로 A~C의 속성을 파악해야 한다.

[선지 분석]

❌ 구청에서 설치한 가로등은 비배제성과 비경합성을 가지는 공공재이므로 ㉠은 ‘없음’이고 ㉡은 ‘있음’이다.

㉠ 무임승차자 문제는 재화가 배제성을 가지지 않을 경우 나타난다. B는 배제성을 갖지만 A는 배제성을 가지지 않으므로 B가 아닌 A에서 무임승차자 문제가 발생한다.

❌ B는 배제성과 경합성을 가지는 사적 재화, C는 배제성과 비경합성을 가지는 인위적 희소성 재화이다. 생산물 시장에서 거래되는 것은 사적 재화이다.

㉡ ‘막힌다.’라는 표현에서 경합성을, ‘유료’라는 표현에서 배제성을 파악할 수 있다. B는 경합성과 배제성을 가지는 재화이므로 ‘막히는 유료 도로’는 B에 해당한다.

고득점을 위한 핵심 개념

배제성과 경합성의 유무에 따른 재화의 속성 이해

구분	경합성	비경합성
배제성	사적 재화 ㉠ 학용품 등	인위적인 희소성 재화 ㉡ 유료 케이블 TV서비스
	공유 자원 ㉢ 공해 상의 어족 자원 등	공공재 ㉣ 국방, 가로등 등

02 합리적 선택과 경제 체제

출제 예상 포인트 합리적 선택과 경제 체제의 구분은 통합사회 8종 교과서에서 공통적으로 설명하는 개념이므로 대학수학능력 시험에 출제될 가능성이 높다.

생산물의 종류와 수량을 결정하는 ‘무엇을 얼마나 생산할 것인가’, 생산 요소의 선택과 결합 방법을 결정하는 ‘어떻게 생산할 것인가’, 생산 활동으로 창출한 가치의 분배를 결정하는 ‘누구를 위하여 생산할 것인가’ 등의 기본적인 경제 문제를 시장이 결정하는 것은 시장경제 체제의 특징, 국가가 결정하는 것은 계획경제 체제의 특징에 해당한다. 또한 주어진 자료를 통해 ㉠ 선택과 ㉡ 선택의 순편익을 구하면 다음과 같다.

(단위: 억 원)

구분	순편익	편익	기회비용	
			명시적 비용	암묵적 비용
㉠ 선택 시	-3	8	6	5
㉡ 선택 시	3	12	7	2

[선지 분석]

- ㉠ X재 개발 지속과 Y재 개발로 전환 중 하나를 선택하는 문제는 ‘생산물의 종류와 수량을 결정’하는 기본적인 경제 문제로 이를 ‘보이지 않는 손’에 의해 결정하는 것은 시장경제 체제의 특징이다.
- ㉡ X재 개발 지속을 선택할 경우 명시적 비용은 6억 원이고, Y재 개발로 전환을 선택할 경우의 명시적 비용은 7억 원이다.
- ❌ Y재 개발로 전환을 선택할 경우의 암묵적 비용은 X재 개발 지속을 선택할 경우의 예상 수입인 8억 원에서 추가 투입 비용인 6억 원을 뺀 2억 원이다. ㉠은 매몰 비용이므로 합리적 선택 시 고려하지 않는다.
- ㉢ X재 개발 지속을 선택할 경우의 순편익은 -3억 원이고 Y재 개발로 전환을 선택할 경우의 순편익은 3억 원이다. 따라서 ㉠을 선택할 경우와 ㉡을 선택할 경우의 두 순편익의 합은 영(0)이다.

03 정보의 비대칭성

제시문은 보험 회사와 보험 청약자가 보유한 정보 수준의 차이로 자원의 비효율적 배분이 나타나는 상황이다.

[선지 분석]

- ㉔ 보험 회사가 직면하는 상황은 정보의 비대칭성에 따른 시장 실패에 해당한다. 시장에서 각 거래 당사자가 보유한 정보가 비대칭적인 경우 자원의 비효율적인 배분을 초래할 수 있다.

고득점을 위한 핵심 개념

역선택

역선택이란 특정한 상황에서 정보 보유 수준이 낮은 측이 정보 보유 수준이 높은 상대방과 바람직하지 못한 거래를 할 가능성이 높아지는 현상을 의미한다. 가령 품질 좋은 중고차와 품질 나쁜 중고차가 있다고 가정해 보자.

1. 정보가 대칭적인 경우

중고차 시장에서 판매자와 구매자가 모든 중고차의 품질을 정확히 알고 있다면, 판매자가 최소한 받고자 하는 가격과 구매자가 최대한 지불하고자 하는 가격 사이에서 거래될 것이다.

2. 정보가 비대칭적인 경우

중고차 시장에서 품질 좋은 중고차와 품질 나쁜 중고차가 각각 절반씩 있고, 구매자는 이 사실만 알고 있을 뿐 개별 중고차의 품질에 대해서는 알지 못한다. 반면 판매자는 상기의 사실뿐만 아니라 모든 중고차의 품질을 알고 있다. 이 경우 구매자가 품질 좋은 중고차와 품질 나쁜 중고차 각각에 대해 최대한 지불하고자 하는 가격의 평균 가격을 지불하려고 한다면 판매자는 품질 좋은 중고차를 회수하여 역선택이 나타날 수 있다.

3. 정보의 비대칭성에 대한 정부의 대응

정부는 시장에 유통되는 상품에 대해 일정한 기준을 설정하고 평가 결과를 고시할 수 있다. 'KS', 'Q', '친환경' 표시 등이 그 예이다. 또한 제조물 책임법 등을 제정하여 품질 나쁜 상품의 생산 및 유통을 법률로 저지할 수 있다.

04 기업가 정신(창조적 파괴)

출제 예상 포인트 기업가 정신(창조적 파괴)은 통합사회 8종 교과서에서 공통적으로 설명하는 개념이므로 대학수학능력시험에 출제될 가능성이 높다.

A 음식점과 애니메이션 감독 B는 이전에 없던 새로운 방식으로 인공지능(AI)을 도입하여 자신들의 생산 활동에 활용하고 있다. 이처럼 미래에 대한 통찰력, 창의력 등을 바탕으로 새로운 시장 혹은 새로운 방식에 과감히 도전하는 것을 기업가 정신이라고 한다.

[선지 분석]

- ㉔ A 음식점은 이전에 없던 새로운 방식으로 인공지능(AI) 로봇을 들여와서 자신의 생산 활동에 활용하였고 매출액이 크게 상승하였다. 애니메이션 감독 B는 전통적인 애니메이션 제작 방식의 높은 비용을 감당하기 어려운 상황에서 이전에 없던 새로운 방식으로 인공지능(AI)을 활용하여 제작비를 절감하였다. 이처럼 두 사례는 기존의 산업 구조를 혁신하고 새로운 성장 동력을 창출하였다는 점에서 창조적 파괴 혹은 기업가 정신을 나타낸다고 할 수 있다.

05 금융 상품의 합리적 선택

출제 예상 포인트 합리적 선택은 통합사회 8종 교과서에서 공통적으로 설명하는 개념이므로 대학수학능력시험에 출제될 가능성이 높다. 경제 단원의 경우 단위 간 융합형 문항이 출제될 가능성이 있으므로 꼼꼼하게 확인해야 한다.

주어진 자료를 통해 ㉔이 1인 경우와 3인 경우, 각각 1안과 2안의 순편익을 구하면 다음과 같다.

(단위: 달러)

구분		순편익	편익	기회비용	
				명시적 비용	암묵적 비용
㉔이 1인 경우	1안	6	20	6	8
	2안	-6	10	2	14
㉔이 3인 경우	1안	-10	20	6	24
	2안	10	30	6	14

[선지 분석]

- ㉔ ㉔이 10이라면 2안을 선택할 경우의 순편익은 -6달러이다.
 ㉔ 예금자 보호 제도가 적용되는 금융 자산은 정기 예금으로 ㉔이 10이라면 암묵적 비용은 8달러이다.
 ㉔ ㉔이 30이라면 1안을 선택할 경우의 명시적 비용은 2안을 선택할 경우와 6달러로 같다.
 ㉔ 시세 차익을 기대할 수 있는 금융 자산은 채권이다. 따라서 ㉔이 30이라면 기회비용은 20달러이다.
 ㉔ ㉔이 1일 경우 합리적 선택은 1안을, ㉔이 3일 경우 합리적 선택은 2안을 선택하는 것이다.

06 외부 효과

출제 예상 포인트 외부 효과는 통합사회 8종 교과서에서 공통적으로 설명하는 개념이므로 대학수학능력시험에 출제될 가능성이 높다. 긍정적 외부 효과와 부정적 외부 효과를 사례와 함께 이해할 필요가 있다.

(가)는 부정적 외부 효과의 사례, (나)는 긍정적 외부 효과의 사례에 해당한다. 부정적 외부 효과에서는 사적 비용이 사회적 비용보다 작고 사회적 최적 수준보다 과잉 생산되는 문제가, 긍정적 외부 효과에서는 사적 비용이 사회적 비용보다 크고 사회적 최적 수준보다 과소 생산되는 문제가 발생한다. 이때 정부가 시장에 개입하여 경제적 유인을 제공함으로써 경제적 효율성을 달성할 수 있다.

[선지 분석]

- ㉔ (가)는 부정적 외부 효과의 사례이다. 따라서 X재 생산은 사회적 최적 수준보다 과잉 생산되고 있다.
 ㉔ (가)는 부정적 외부 효과의 사례이다. 정부는 X재 생산자에게 세금 또는 과태료를 부과하여 경제적 비효율성을 개선할 수 있다.
 ㉔ (나)는 긍정적 외부 효과의 사례이다. 생산자인 갑의 양봉장 운영에 따른 시장 거래량은 사회적 최적 거래량보다 작다.
 ㉔ (나)는 긍정적 외부 효과의 사례이다. 정부는 생산자인 갑에게 보조금을 주어 생산 활동을 장려할 수 있다.

고득점을 위한 핵심 자료

외부 효과의 유형

긍정적 외부 효과	어떤 경제 주체가 생산 혹은 소비 활동을 하면서 다른 경제 주체에게 의도하지 않은 이익을 주고도 이에 대한 대가를 받지 않는 상태 → 사회적 최적 거래량보다 과소 생산/과소 소비
부정적 외부 효과	어떤 경제 주체가 생산 혹은 소비 활동을 하면서 다른 경제 주체에게 의도하지 않은 피해를 주고도 이에 대한 대가를 지불하지 않는 상태 → 사회적 최적 거래량보다 과잉 생산/과잉 소비

출제 예상 포인트 정부의 역할과 합리적 선택은 통합사회 8종 교과서에서 공통적으로 설명하는 개념이므로 대학수학능력시험에 출제될 가능성이 높다.

갑국 정부가 ㉠ 최저 생계비 지원금과 ㉡ 기업의 생산 보조금을 선택할 때 각각의 경우에 대한 순편익, 편익, 기회비용을 구하면 다음과 같다.

(단위: 억 원)

구분	순편익	편익	기회비용	
			명시적 비용	암묵적 비용
㉠ 최저 생계비 지원금 선택 시	-100	700	500	300
㉡ 기업의 생산 보조금 선택 시	100	800	500	200

[선지 분석]

- ✗ 최저 생계비 지원금과 기업의 생산 보조금 모두 정부의 재정 지출에 해당한다.
- ✗ 소득 재분배 효과가 있는 것은 최저 생계비 지원금이다.
- ✗ 최저 생계비 지원금을 선택할 경우 암묵적 비용은 포기한 기업의 생산 보조금의 편익에서 명시적 비용을 뺀 300억 원이다.
- ✗ 기업의 생산 보조금을 선택할 경우 기회비용은 명시적 비용과 암묵적 비용의 합인 700억 원이다.
- ㉠ 최저 생계비 지원금을 선택할 경우 순편익은 -100억 원이고, 기업의 생산 보조금을 선택할 경우 순편익은 100억 원이다. 따라서 ㉡을 선택할 때 순편익은 양(+)의 값이다.

고득점을 위한 핵심 개념

재정

정부가 재원을 조달, 관리, 지출하는 모든 경제 활동을 재정이 라고 한다. 재정은 재정 수입과 재증 지출로 구성된다. 재정 수입은 가계와 기업으로부터 거두어들이는 조세, 국공채 발행 등을 통해 조성한 재원을 의미한다. 재정 지출은 공공재 및 공공 서비스 제공, 복지 사업 등을 수행하기 위하여 지출하는 경비를 의미한다. 경제학자 리처드 머스그레이브는 재정의 역할로 효율성과 형평성을 고려한 자원의 합리적 배분, 소득 재분배를 통한 소득 불평등 완화와 최저 생활 보장, 경기 변동에 대응한 경제 안정성 강화를 꼽았다.

08 정부의 역할과 노동자의 역할

우리나라 헌법 제119조 ②에 나타난 불공정 거래의 규제와 헌법 제32조 ①, 제33조 ①의 노동자의 권리를 보장하는 내용 등을 파악해야 한다.

[선지 분석]

- ㉠ 과점 기업의 담합에 따른 소비자의 권리 침해(가격 상승, 생산량 축소 등)는 시장의 지배와 경제력의 남용에 해당한다.
- ㉡ 최저 임금제는 누진세제와 더불어 소득 재분배 정책에 해당한다.
- ✗ 독점 규제 및 공정 거래에 관한 법률은 독과점의 횡포를 해결하기 위한 정부의 역할로 볼 수 있다.
- ✗ 노동자의 파업이나 태업은 단체 행동권에 해당한다. 단결권은 노동자가 근로 조건을 개선하기 위해 단체를 결성할 수 있는 권리이고, 단체 교섭권은 노동자가 단체로 사용자와 근로 조건에 대해 교섭하고 협약을 체결할 수 있는 권리이다.

15

자산 관리와 금융 생활 설계

기출 유형 문제

135쪽

01-① ①

01-② ③

02-① ④

02-② ④

01-① 다양한 금융 자산

자료에서 배당 수익을 기대할 수 있는 것은 주식의 특징이고, 예금자 보호 제도의 적용을 받는 것은 정기 예금의 특징이다. 따라서 A는 주식, B는 정기 예금, C는 채권이다.

[선지 분석]

- ㉠ 주식은 기업이 자금 조달을 위해 기업의 지분을 나누어 투자자가 자유롭게 사고팔 수 있도록 발행한 증서이다.
- ㉡ 정기 예금은 일반적으로 주식보다 안전성이 높다.
- ✗ 채권은 정부, 지방 자치 단체, 기업 등이 자금 조달을 위해 발급하는 일종의 차용 증서이다.
- ✗ 채권은 주식과 달리 이자 수익을 기대할 수 있는 금융 자산이므로, ㉠은 '점'이다.

고득점을 위한 핵심 개념

예금, 주식, 채권의 비교

예금	채권	주식
이자 수익을 기대할 수 있음.		배당 수익을 기대할 수 있음.
예금자 보호 제도가 적용됨.	시세 차익을 기대할 수 있음.	

01-② 다양한 금융 자산

출제 예상 포인트 대표적인 금융 자산인 예금, 채권, 주식의 특징은 통합사회 8종 교과서에서 모두 다루는 내용이므로 대학수학능력시험 및 전국연합학력평가에 출제될 가능성이 높다.

정기 예금은 예금자 보호 제도의 적용을 받는 금융 자산이다. 갑은 옳은 답변을 하였으므로 옳은 틀린 답변을 해야 한다.

[선지 분석]

- ✗ 약속된 이자를 받기로 하고 돈을 맡기는 금융 자산은 예금과 채권이다. 주식은 시세 차익과 배당 수익을 기대할 수 있다.
- ㉠ 지방 자치 단체가 자금을 조달하기 위해 발행하는 차용 증서는 채권이다.
- ㉡ 일반적으로 정기 예금은 주식보다 안전성이 높고 수익성은 낮다. 월의 발표는 틀리므로 (가)에 들어갈 수 있다.
- ✗ '주식을 보유한 사람은 주주로서 주식을 발행한 회사의 경영에 참여할 권리를 가진다.'는 맞는 내용이므로 (가)에 들어갈 수 없다.

02-① 금융 자산과 자산 관리의 원칙

출제 예상 포인트 금융 자산과 자산 관리의 원칙을 혼란하여 묻는 문제가 자주 출제되므로 각 금융 자산의 특징을 비교하여 알아 두어야 한다.

A는 이자 수익은 있지만 시세 차익이 없으므로 정기 예금, B는 이자 수익은 없고 시세 차익이 있으므로 주식, C는 이자 수익과 시세 차익이 모두 존재하므로 채권이다. 세 금융 자산을 선택하는데 드는 명시적 비용은 없으므로 기회비용은 암묵적 비용만 파악하면 된다.

[선지 분석]

- ✗ 정기 예금은 주식보다 수익성이 낮다.
- ㉠ 주식은 기업만 발행할 수 있지만, 채권은 기업, 정부, 지방 자치 단체 등이 발행할 수 있다.
- ✗ 주식 선택의 기회비용은 100만 원, 채권 선택의 기회비용은 90만 원이다.
- ㉡ 정기 예금 선택의 암묵적 비용과 주식 선택의 암묵적 비용은 모두 100만 원이다.

02-② 금융 자산과 자산 관리의 원칙

A는 주식, B는 채권, C는 요구불 예금이고, ㉠은 안전성, ㉡은 수익성, ㉢은 유동성이다.

[선지 분석]

- ✗ 주식은 채권보다 안전성이 낮다.
- ✗ 채권은 요구불 예금보다 유동성이 낮다.
- ✗ 요구불 예금은 주식보다 수익성이 낮다.
- ㉣ 지방 자치 단체는 자금 조달을 위해 채권을 발행할 수 있다.
- ✗ 기업은 자금 조달을 위해 채권과 주식을 모두 발행할 수 있다.

4능 기본 문제

136~137쪽

- 01 ④ 02 ④ 03 ② 04 ② 05 ① 06 ①
07 ① 08 ⑤

01 금융 자산의 특징

정기 예금과 채권은 만기가 있고 이자 수익을 기대할 수 있는 금융 자산이다. 채권과 주식은 시세 차익을 기대할 수 있는 금융 자산이다. 정기 예금은 주식과 채권에 비해 안전성이 높고, 주식은 정기 예금과 채권에 비해 수익성이 높다.

[선지 분석]

- ✗ 주식은 정기 예금과 달리 만기가 없다.
- ✗ 주식과 채권 모두 시세 차익을 기대할 수 있는 금융 자산이다.
- ✗ 정기 예금과 채권은 모두 이자 수익을 기대할 수 있는 금융 자산이다.
- ㉣ 정기 예금은 주식이나 채권보다 안전성이 높은 금융 자산이다.
- ✗ 주식은 채권이나 정기 예금보다 수익성이 높은 금융 자산이다.

02 금융 자산과 자산 관리의 원칙

투자한 자산의 가치가 보전될 수 있는 정도는 안전성, 투자한 자산의 가치 상승이나 이자 수익을 기대할 수 있는 정도는 수익성이다. 유동성은 자산을 현금으로 쉽게 바꿀 수 있는 정도이다. 따라서 A는 안전성, B는 수익성, C는 유동성이다. 일반적으로 예금은 안전성이 높고, 주식은 수익성이 높다.

[선지 분석]

- ✗ 일반적으로 예금은 채권에 비해 안전성이 높다.
- ✗ 일반적으로 채권은 주식에 비해 안전성이 높다.
- ✗ 일반적으로 주식은 채권에 비해 수익성이 높다.

㉣ 일반적으로 주식은 예금에 비해 수익성이 높다.

✗ A는 안전성, B는 수익성, C는 유동성이다.

감각 있는 풀이 TIP

자산 관리 원칙 중 수익성과 안전성은 반비례 관계에 있다는 것을 알아 두어야 한다. 정기 예금은 수익성이 낮은 반면 안전성이 높고, 주식은 수익성이 높은 반면 안전성이 낮다.

03 채권의 특징

일반적으로 금리가 하락하는 시기에는 기존에 발행된 채권 금리가 새로 발행된 채권의 금리보다 높으므로 수익을 추구하는 투자자들은 기존 채권을 매입하려고 한다. 이는 채권 가격 상승을 일으켜 수익률에 영향을 미친다.

[선지 분석]

- ㉡ 금리가 하락하는 시기에 상대적으로 금리가 높은 기존 채권 가격은 상승하고 채권 수익률은 낮아진다. 금리가 상승하는 시기에는 받을 수 있는 이자가 낮아져 채권 가격은 하락하지만 수익률은 높아진다.

감각 있는 풀이 TIP

금리의 변동에 따른 기존 채권의 이자율과 새로 발행된 채권 간의 관계를 명확하게 이해해야 한다. 채권은 은행의 예금과 달리 이자가 확정된 상태에서 판매되고 만기 시 시중 금리의 변화에 따라 시장 가격이 변하며 수익률에도 영향을 미친다는 점을 알아 두어야 한다.

04 다양한 금융 상품

펀드는 투자자가 투자 전문 회사에 돈을 맡겨 대신 투자하도록 하여 수익을 기대하는 금융 자산이다. 보험은 장래에 예상되는 위험에 대비하여 보험 회사에 보험료를 납부하고 위험을 보험 회사에 전가하는 금융 자산이다. 연금은 노후 생활의 안정을 위해 필요한 자금을 적립하여 노령이나 퇴직 등이 발생하면 약속된 금액을 지급받는 금융 자산이다.

[선지 분석]

- ㉠ 펀드는 자산 운용 회사가 투자자로부터 자금을 모아 투자하고 수익을 분배하는 금융 자산이다.
- ✗ 보험은 미래에 발생할 수 있는 질병, 사망, 사고 등의 위험을 대비하기 위한 목적으로 하는 금융 자산이다.
- ㉢ 연금에는 공적 연금, 개인 연금, 퇴직 연금 등 다양한 종류가 있는데, 국민연금은 국가가 운영하는 연금이다.
- ✗ 장래에 예상되는 위험을 대비하는 금융 자산은 보험이다. 연금은 안정적인 노후 생활을 돕는 금융 자산이다.

05 자산 관리의 원칙

출제 예상 포인트

자산 관리의 원칙은 통합사회 8종 교과서에서 모두 다루는 개념이다. 대학수학능력시험 및 전국연합학력평가에 출제될 가능성이 높으므로 금융 자산의 특징과 더불어 알아 두어야 한다.

자산 관리의 기본 원칙은 안전성, 수익성, 유동성이다.

[선지 분석]

- ㉠ 안전성은 투자한 자산의 가치가 안전하게 보호될 수 있는 정도이고, 수익성은 투자한 자산으로부터 이익을 기대할 수 있는 정도이다. 유동성은 보유하고 있는 자산을 쉽게 현금으로 전환할 수 있는 정도이다.

06 분산 투자

출제 예상 포인트 포트폴리오 투자는 통합사회 8종 교과서에 모두 나오는 개념이다. 대학수학능력시험 및 전국연합학력평가에서 출제될 가능성이 있다.

분산 투자는 집중 투자에 따른 위험을 분산하고 수익을 높이기 위해 여러 곳에 나누어 투자하는 것이다. ‘모든 달걀을 한 바구니에 담지 마라.’라는 말로 표현하기도 한다.

[선지 분석]

- ㉠ 한 종목에 집중하지 않고 여러 종목에 나누어 분산 투자하는 것을 ‘포트폴리오 투자’라고 한다.
- ㉡ ‘달걀을 한 바구니에 담지 마라.’라는 말은 포트폴리오 투자를 의미하는 대표적인 표현이다.
- ✗ 중장년기에 안전성보다 수익성만을 중시하여 투자하는 방식은 옳은 분산 투자 방법이 아니다.
- ✗ 포트폴리오 투자는 수익성과 안전성, 유동성을 동시에 확보하기 위한 투자 전략이다.

07 금융 생활 설계

재무 설계는 재무 목표를 설정하고 이를 달성하기 위해 소득과 소비에 대한 계획을 세우는 것으로 ‘재무 목표 설정 → 재무 상태 분석 → 재무 행동 계획 수립 → 재무 행동 계획 실행 → 재무 계획 평가 및 수정’의 과정으로 이루어진다. 값이 옳은 답변을 하였으므로 옳은 옳지 않은 답변을 해야 한다.

[선지 분석]

- ㉠ ㉡에서는 자산과 부채 현황, 수입과 지출 등을 파악한다.
- ㉡ ㉢에서는 재무 목표의 우선순위와 시간, 계획, 예산 수립 등을 설정한다.
- ✗ ‘㉢과 달리 ㉡에서 결산을 토대로 결과 평가와 계획 수정이 이루어진다.’는 옳은 발표이므로 (가)에 들어갈 수 없다.
- ✗ ‘㉢과 달리 ㉡에서 수립한 계획에 따른 수입, 지출, 저축 등에 대한 계획을 실행합니다.’는 옳은 발표이므로 (가)에 들어갈 수 없다.

08 금융 의사 결정에 영향을 미치는 요인

일반적으로 중앙은행에서 기준 금리를 인상하면 시중 은행의 예금 금리와 대출 금리도 상승한다. 이에 다양한 금융 자산을 보유한 투자자는 이자 수익을 기대할 수 있는 자산의 비중을 높이려고 한다. 원/달러 환율이 상승하면 국내 화폐 가치가 하락하여 일반적으로 수출이 증가하고 수입은 감소한다.

[선지 분석]

- ㉠ 한국은행의 기준 금리 인상으로 시중 은행의 예금 및 대출 금리가 상승하면, 일반적으로 다양한 금융 자산을 보유한 투자자는 위험성이 높은 금융 자산의 비중을 줄인다.
- ㉡ 한국은행의 기준 금리 인상으로 시중 은행의 예금 및 대출 금리가 상승하면, 일반적으로 다양한 금융 자산을 보유한 투자자는 이자 수익을 기대할 수 있는 금융 자산의 비중을 늘린다.
- ㉢ 원/달러 환율이 상승하면 원화 가치가 하락하여 우리나라의 미국에 대한 수출은 증가하고 수입은 감소한다.
- ㉣ 원/달러 환율이 상승하면 원화 가치가 하락하여 미국에 자녀를 유학 보낸 학부모의 학비 부담이 증가해 불리해진다.
- ✗ 원/달러 환율이 상승하면 원화의 가치가 하락하여 우리나라로 여행을 오는 외국인은 유리해진다.

고득점을 위한 핵심 개념

환율 변동이 경제에 미치는 영향

환율 상승 시	<ul style="list-style-type: none"> 원화 가치 하락 및 외화로 표시되는 국내 상품 가격이 하락하여 수출 증가 수입품의 원화 표시 가격이 상승하여 수입 감소 수입 원자재 가격 상승으로 국내 물가 상승 외채 상환 부담 및 해외여행 경비 부담 증가
환율 하락 시	<ul style="list-style-type: none"> 원화 가치 상승 및 외화로 표시되는 국내 상품 가격이 상승하여 수출 감소 수입품의 원화 표시 가격이 하락하여 수입 증가 수입 원자재 가격 하락으로 국내 물가 안정에 영향 외채 상환 부담 및 해외여행 경비 부담 감소 외국인의 국내 여행 경비 부담 증가

1등급 완성 문제

138~139쪽

- 01 ④ 02 ③ 03 ① 04 ③ 05 ③ 06 ③
07 ④ 08 ③

01 금융 자산의 특징

시세 차익과 배당 수익을 기대할 수 있는 금융 자산은 주식이고, 시세 차익을 기대할 수 없는 금융 자산은 정기 예금이다. 따라서 A는 주식, B는 정기 예금, C는 채권이다.

[선지 분석]

- ✗ 정기 예금은 배당 수익이 발생하지 않고 채권은 시세 차익을 기대할 수 있으므로 ㉠에는 ‘예’, ㉡에는 ‘아니요’가 들어간다.
- ㉢ 주식은 정기 예금보다 수익성이 높다.
- ✗ 정기 예금과 채권은 모두 만기가 존재한다.
- ㉣ 기업은 자금 조달을 위해 주식과 채권을 모두 발행할 수 있다.

02 금융 자산의 특징

예금자 보호 제도의 적용을 받는 금융 자산 A는 정기 예금이다. (가)에 따라 B, C는 각각 주식과 채권 중 하나가 된다.

[선지 분석]

- ✗ 주식은 기업만 발행할 수 있는 금융 자산이다. 정부와 지방 자치 단체가 자금 조달을 위해 발행하는 것은 채권이다.
- ㉢ 배당 수익을 기대할 수 있는 금융 자산은 주식이므로 C는 채권이다. 채권은 이자 수익을 기대할 수 있다.
- ㉣ 주식과 채권 중 만기가 존재하는 금융 자산은 채권이다. 일반적으로 주식은 정기 예금보다 안전성이 낮다.
- ✗ 이자 수익을 기대할 수 있는 금융 자산은 채권과 예금이다. 회사 경영에 참여할 수 있는 권리를 부여받는 금융 자산은 주식이다.

감각 있는 풀이 Tip

질문에 따라 금융 자산을 분류하는 문항을 풀 때는 A를 먼저 찾고, 보기의 선지를 하나씩 검토하면서 차례대로 해결해야 한다.

03 채권의 특징

만기 시 11,000원을 받을 수 있는 채권을 9,000원에 구입한 사람과 9,500원에 구입한 사람 중 9,000원에 구입한 사람의 수익이 더 크다. 따라서 채권 가격이 낮아지면 그만큼 채권 수익률은 높아진다.

04 금융 자산과 자산 관리 원칙

출제 예상 포인트 수익성과 안전성을 축으로 하여 금융 자산을 비교하는 그래프는 통합사회 8종 교과서에 모두 등장한다. 수익성과 안전성의 상관관계를 활용하여 금융 자산을 비교하는 문항이 출제될 가능성이 높다.

정기 예금은 주식에 비해 안전성이 높고 수익성은 낮다. 주식은 정기 예금에 비해 수익성이 높고 안전성이 낮다. 이러한 특징을 기본으로 A, B, ㉠, ㉡에 들어갈 내용을 파악해야 한다.

[선지 분석]

- ☒ A가 정기 예금이고, B가 주식이면 ㉠은 안전성, ㉡은 수익성이다.
- ☒ A가 주식이고, B가 정기 예금이면 ㉠에 안전성이 들어갈 수 없다.
- ☒ ㉢ ㉠이 수익성이고, ㉡이 안전성이면 A는 주식이고, B는 정기 예금이다. 배당 수익을 기대할 수 있는 자산은 주식이다.
- ☒ ㉠이 안전성이고, ㉡이 수익성이면 B는 주식이다. 주식은 시세 차익을 기대할 수 있다.
- ☒ ㉠이 안전성이고, ㉡이 수익성이면 A는 정기 예금이고, B는 주식이다. 주식은 이자 수익을 기대할 수 없다.

05 분산 투자

정기 예금이 전체 투자금의 절반 이상을 차지하는 것은 안전성을 중시하는 투자 성향을 가진다고 볼 수 있다. 주식이 전체 투자금의 절반 이상을 차지하는 것은 수익성을 중시하는 투자 성향을 가진다고 볼 수 있다. 병은 정기 예금, 주식, 채권을 비슷한 비율로 나누어 투자하였다.

[선지 분석]

- ☒ 갑의 주식 투자 비중은 30%이고, 을은 60%이다. 따라서 수익성을 중시하는 사람은 을이다.
- ☒ 갑의 정기 예금의 비중은 60%이고, 병은 30%이다. 따라서 안전성을 중시하는 사람은 갑이다.
- ☒ 이자 수익을 기대할 수 있는 자산은 정기 예금과 채권이다. 두 자산의 비중의 합은 갑과 병이 모두 70%이므로 자산액은 동일하다.
- ☒ 시세 차익을 기대할 수 있는 자산은 주식과 채권이다. 두 자산의 비중의 합은 을은 80%이고, 병은 70%이므로 자산액은 을이 병보다 크다.
- ☒ 예금자 보호 제도의 적용을 받는 자산은 정기 예금이다. 정기 예금의 비중은 갑이 60%이고, 을과 병은 합쳐서 50%이므로 자산액은 갑이 을과 병의 합보다 크다.

06 금융 상품의 합리적 선택

출제 예상 포인트 금융 상품의 특징과 합리적 선택을 연계한 고난도 문항이 출제될 가능성이 있으므로 합리적 선택을 위해 고려해야 하는 편익과 기회비용을 구할 수 있어야 한다.

갑이 정기 예금과 ○○은행 채권을 선택할 경우의 기회비용과 순편익을 구하면 다음과 같다.

구분	순편익	편익	기회비용	
			명시적 비용	암묵적 비용
갑이 정기 예금을 선택할 경우	-100만 원	500만 원	0원	600만 원
갑이 ○○은행 채권을 선택할 경우	100만 원	700만 원	100만 원	500만 원

[선지 분석]

- ☒ 정기 예금은 이자 수익만 기대할 수 있다.
- ☒ ○○은행 채권을 선택할 경우의 암묵적 비용은 500만 원이다.
- ☒ 정기 예금을 선택할 경우와 ○○은행 채권을 선택할 경우의 기회비용은 모두 600만 원이다.
- ☒ 정기 예금을 선택할 경우의 순편익은 -100만 원이고, ○○은행 채권을 선택할 경우의 기회비용은 600만 원이다.
- ☒ 일반적으로 정기 예금이 채권보다 현금으로 쉽게 전환할 수 있는 정도인 유동성이 더 높다.

07 생애 주기 곡선

출제 예상 포인트 생애 주기에 따른 소득과 소비 성향의 특징은 통합사회 8종 교과서에 모두 나오는 내용이다. 따라서 대학수학능력시험 및 전국연합학력평가에 출제될 가능성이 높다.

(가), (다)는 음(-)의 저축, (나)는 양(+)의 저축을 나타낸다. A, C는 소비와 소득이 같으므로 저축이 영(0)이다. 일반적으로 안정적인 노후 생활을 위해서는 '(나) > (가) + (다)'가 되어야 한다.

[선지 분석]

- ☒ (가)는 음(-)의 저축이고, (나)는 양(+)의 저축이다.
- ☒ A와 C는 모두 소득과 소비가 일치하므로 저축은 0이다.
- ☒ 갑의 생애 동안 누적된 소득액은 C에서보다 D에서 크다.
- ☒ 47세부터 62세 이전까지는 소득은 감소하고 소비는 증가하지만 소득이 소비보다 높은 수준이므로 누적 저축액은 증가한다.
- ☒ 안정적인 노후 생활을 하기 위해서는 양(+)의 저축이 음(-)의 저축보다 커야 하므로 '(나) > (가) + (다)'인 경우가 안정적인 노후 생활을 할 가능성이 크다.

08 금융 의사 결정에 영향을 미치는 요인

대화는 갑국의 원/달러 환율 변동으로 인해 경제 상황이 변화한 상황을 나타낸다. 환율이 상승하면 국내 화폐 가치가 하락하여 일반적으로 수출이 증가하고 수입이 감소하며, 물가가 지속적으로 상승하는 현상인 인플레이션이 발생한다.

[선지 분석]

- ☒ 원/달러 환율이 상승하면 원화 가치가 하락하여 수출이 증가하고 수입이 감소한다.
- ☒ 수출 증가, 수입 감소로 달러화가 갑국 내로 유입되면 갑국 내의 통화량은 증가한다.
- ☒ 인플레이션이 발생하면 화폐 가치가 하락하므로 갑국에 거주하는 국민은 화폐보다 실물 자산을 보유하는 것을 선호하게 된다.

고득점을 위한 핵심 개념

금융 자산과 실물 자산

구분	금융 자산	실물 자산
정의	미래의 현금 흐름을 요구할 수 있는 권리를 나타내는 무형의 자산	그 자체로 가질 수 있고 누구나 볼 수 있고 만질 수 있는 물건 형태의 자산
예시	주식, 채권, 예금, 펀드 등	부동산, 금, 미술품, 귀금속 등
특징	<ul style="list-style-type: none"> • 실물 자산에 비해 유동성이 높음. • 거래가 간편하고 빠름. • 물가 상승 시 실질적인 가치가 하락할 수 있음. 	<ul style="list-style-type: none"> • 금융 자산에 비해 유동성이 낮음. • 관리 비용이 발생할 수 있음. • 물가 상승 시 실물 자산에 대한 투자가 증가함.

16

국제 분업과 무역

기출 유형 문제

143쪽

01-① ③

01-② ④

02-① ⑤

02-② ④

01-① 무역의 발생 원리

〈상황 1〉은 갑국이 X재, 을국은 Y재에 절대 우위를 갖고 있으므로 절대 우위와 비교 우위의 입장에서 모두 무역의 발생 원리를 설명할 수 있다. 〈상황 2〉는 갑국이 모든 재화에 절대 우위를 가지므로 비교 우위로 무역의 발생을 설명할 수 있다. 〈상황 2〉에서 Y재 1개 생산의 기회비용은 갑국이 X재 2개, 을국은 X재 3/2개이다.

[선지 분석]

- ✗ 〈상황 1〉은 갑국이 X재 생산에, 을국이 Y재 생산에 절대 우위를 가지므로 절대 우위로 무역의 발생 원리를 설명할 수 있다.
- ㉠ 〈상황 1〉에서 X재 생산에서 갑국은 을국보다 노동이 1명, Y재 생산에서 을국은 갑국보다 노동이 1명 덜 투입되므로 갑국은 X재, 을국은 Y재 생산에 절대 우위를 가진다.
- ㉡ 〈상황 2〉에서 X재로 표시한 Y재 1개 생산의 기회비용은 갑국의 경우 X재 2개, 을국의 경우 X재 3/2개이다.
- ✗ 〈상황 2〉에서 X재와 Y재 생산 모두에서 갑국이 을국보다 노동이 1명씩 덜 투입되므로 갑국이 X재와 Y재 생산 모두에 절대 우위를 가진다.

01-② 무역의 발생 원리

자료는 을국이 X재 생산과 Y재 생산 모두에 절대 우위를 가지는 상황이다. 갑국과 을국의 각 재화 1개 생산에 대한 기회비용을 계산하면 아래 표와 같다.

구분	X재 1개 생산에 대한 기회비용	Y재 1개 생산에 대한 기회비용
갑국	Y재 1개	X재 1개
을국	Y재 2개	X재 1/2개

[선지 분석]

- ✗ 을국이 X재와 Y재 생산에 절대 우위를 가진다.
- ㉠ X재 1개 생산의 기회비용은 갑국이 Y재 1개이고 을국이 Y재 2개이다.
- ✗ 비교 우위에 따르면 갑국이 X재 생산에, 을국이 Y재 생산에 특화한다.
- ㉡ 갑국이 X재 1개를 특화하여 교역하면 갑국의 X재 1개 생산의 기회비용인 Y재 1개보다 많은 Y재 1.5개를 받으므로 무역을 하려고 할 것이다. 을국이 Y재 1개를 특화하여 교역하면 을국의 Y재 1개 생산의 기회비용인 X재 1/2개보다 많은 X재 2/3개를 받으므로 무역을 하려고 할 것이다.

02-① 무역의 발생 원리

갑국과 을국의 각 재화 1개 생산에 대한 기회비용을 계산하면 아래 표와 같다.

구분	X재 1개 생산에 대한 기회비용	Y재 1개 생산에 대한 기회비용
갑국	Y재 1/3개	X재 3개
을국	Y재 1개	X재 1개

갑국은 X재, 을국은 Y재를 특화하여 무역을 하면 이익을 볼 수 있다.

[선지 분석]

- ✗ 갑국이 X재와 Y재 생산 모두에 절대 우위를 가지므로 절대 우위로 무역 발생의 원리를 설명할 수 없다.
- ㉠ Y재 1개 생산의 기회비용은 갑국의 경우 X재 3개이고, 을국의 경우 X재 1개이다.
- ㉡ X재 1개 생산을 위해 포기해야 하는 Y재의 양은 갑국의 경우 Y재 1/3개이고, 을국의 경우 Y재 1개이다.
- ㉢ 갑국의 X재 1개 생산의 기회비용은 Y재 1/3개이다. 갑국은 X재 생산에 비교 우위를 가지므로 갑국이 X재 1개를 을국에 수출하고 수입하는 Y재의 양은 Y재 1/3개보다 많으므로 갑국의 X재 1개 소비의 기회비용은 교역 후 증가하게 된다.

02-② 무역의 발생 원리

갑국이 X재와 Y재 생산 모두에 절대 우위를 가진다. 갑국과 을국의 각 재화 1개 생산에 대한 기회비용을 계산하면 아래 표와 같다.

구분	X재 1개 생산에 대한 기회비용	Y재 1개 생산에 대한 기회비용
갑국	Y재 1/2개	X재 2개
을국	Y재 1개	X재 1개

[선지 분석]

- ✗ 갑국의 X재 1개 생산의 기회비용은 Y재 1/2개이다.
- ✗ X재 1개 생산의 기회비용은 갑국이 Y재 1/2개이고, 을국이 Y재 1개이므로 갑국이 X재 생산에 비교 우위를 가진다.
- ✗ 갑국이 X재 생산과 Y재 생산에 절대 우위를 가진다.
- ㉣ 갑국은 X재 생산에, 을국은 Y재 생산에 비교 우위를 가진다. 따라서 갑국은 X재를 특화하여 교역하기 위해 X재 생산량을 늘릴 것이다.
- ✗ 을국은 Y재 생산에 비교 우위를 가지므로 교역 후 수입하는 X재가 증가하여 을국의 X재로 표시된 Y재 1개 소비의 기회비용은 증가한다.

수능 기본 문제

144~145쪽

01 ④

02 ④

03 ①

04 ③

05 ①

06 ③

07 ⑤

08 ⑤

01 국제 분업과 무역의 발생 요인

출제예상 포인트 국제 분업과 무역의 발생 요인은 통합사회 8종 교과서에서 모두 다루는 내용으로 대학수학능력시험과 전국 연합학력평가에 출제될 가능성이 높다.

국제 분업과 무역은 기술 수준의 차이나 노동 인구의 차이 그리고 자연환경의 차이로 인해 나타날 수 있다. 이에 따라 생산비의 차이가 발생하며 국가별로 생산비가 더 낮은 상품을 특화하여 교역하면 이익을 얻을 수 있으므로 무역이 발생한다.

[선지 분석]

- ㉠ 국가별 자연환경의 차이는 생산비의 차이 발생 요인이다.
- ㉡ 국가별 기술 수준의 차이는 생산비의 차이 발생 요인이다.
- ㉢ 국가별 노동 인구의 차이는 생산비의 차이 발생 요인이다.
- ✗ 국내 경제 순환 체제는 한 국가 안에서 가계, 기업, 정부 등 경제 주체가 상호 작용하는 것으로 국가마다 수출 품목이 다른 까닭으로 볼 수 없다.
- ㉤ 다른 국가에 비해 더 적은 비용으로 상품 생산이 가능한 것은 무역의 발생 요인이다.

02 절대 우위와 비교 우위

갑국과 을국의 각 재화 1개 생산에 대한 기회비용을 계산하면 아래 표와 같다.

구분	X재 1개 생산에 대한 기회비용	Y재 1개 생산에 대한 기회비용
갑국	Y재 5개	X재 1/5개
을국	Y재 6개	X재 1/6개

[선지 분석]

- ☒ 을국이 X재와 Y재 생산에 절대 우위를 가지므로 절대 우위로는 무역의 발생 원리를 설명할 수 없다.
- ☒ X재 1개 생산의 기회비용은 갑국의 경우 Y재 5개이고, 을국의 경우 Y재 6개이다.
- ☒ 을국의 Y재 1개 생산의 기회비용은 X재 1/6개이다.
- ☒ 갑국과 을국이 X재와 Y재의 교환 비율이 1 : 1일 때, 갑국이 X재를 특화하여 교역하면 갑국의 X재 1개 생산의 기회비용인 Y재 5개보다 적은 Y재 1개를 받으므로 무역을 하려고 하지 않을 것이다. 을국이 Y재를 특화하여 교역하면 을국의 Y재 1개 생산의 기회비용인 X재 1/6개보다 많은 X재 1/6개를 받으므로 무역을 하려고 할 것이다.
- ☒ 갑국과 을국이 X재와 Y재의 교환 비율이 1 : 2일 때, 갑국이 X재를 특화하여 교역하면 갑국의 X재 1개 생산의 기회비용인 Y재 5개보다 적은 Y재 2개를 받으므로 무역을 하려고 하지 않을 것이다. 을국은 Y재를 특화하여 교역하면 을국의 Y재 1개 생산의 기회비용인 X재 1/6개보다 많은 X재 1/2개를 받으므로 무역을 하려고 할 것이다.

03 무역의 확대에 따른 영향

국제 무역이 활발하게 전개됨에 따라 소비자, 기업, 국가는 여러 이점을 확보하였지만, 빈부 격차 심화, 자원 고갈, 환경 파괴 문제 등의 문제도 발생하였다.

[선지 분석]

- ☒ 소비자의 상품 선택의 폭과 기회 확대는 무역의 긍정적 영향이다.
- ☒ 오늘날 무역 품목이 재화를 비롯한 서비스, 문화 등으로 확대되어 다양한 문화를 누릴 수 있는 기회가 늘어났다.
- ☒ 무역 확대에 따른 환경 오염 문제 발생은 무역의 부정적 영향이다.
- ☒ 무역 확대에 따른 국가 간의 빈부 격차 심화와 생산 노동자의 인권 침해 문제는 무역의 부정적 영향이다.

고득점을 위한 핵심 개념

국제 무역의 확대가 미치는 영향

긍정적 영향	<ul style="list-style-type: none"> • 소비자의 상품 및 서비스 선택 기회 확대 • 경쟁을 통한 기업의 기술 발전 기회 확대 • 국가별 일자리 창출 및 국내 경기 활성화
부정적 영향	<ul style="list-style-type: none"> • 자원 고갈, 국가 간 빈부 격차 문제 심화 • 환경 오염 및 환경 파괴 초래

04 자유 무역의 확대

자유 무역 협정(FTA)은 국가 간 관세 장벽 철폐 및 비관세 장벽을 완화하는 등 무역 장벽을 해소하여 상호 간 무역 혜택을 얻을 수 있도록 하는 무역 협정이다.

[선지 분석]

- ☒ 자유 무역 협정 체결로 인해 갑국의 국제 교역량이 증가할 것이다.
- ☒ 자국 산업 보호 정책 강화는 보호 무역과 관련 있다.
- ☒ 을국에 대한 관세 인하 정책 시행은 자유 무역 협정의 대표적인 내용 중 하나이다.

☒ 수입 할당제는 보호 무역과 관련 있다.

☒ 자국 내 국제 경쟁력이 약한 기업에 대한 정부 보조금 지급은 자유 무역 협정과 관련 없다.

고득점을 위한 핵심 개념

세계 무역 기구(WTO)와 자유 무역 협정(FTA)

세계 무역 기구(WTO)	<ul style="list-style-type: none"> • 전반적인 무역 원칙 제시 • 회원국 간 무역 분쟁 해결 및 무역 정책 검토 • 다자주의 추구
자유 무역 협정(FTA)	<ul style="list-style-type: none"> • 협정을 맺은 국가 간에 배타적인 무역 특혜 제공 • 양자주의 및 지역주의적 성격

05 자유 무역과 보호 무역

출제 예상 포인트 자유 무역과 보호 무역의 특징을 비교하는 문제가 출제될 수 있으므로 각 무역의 특징을 파악해야 한다.

자국 산업 보호를 목적으로 하는 질문에 '예'라고 답한 A는 보호 무역이고, '아니요'라고 답한 B는 자유 무역이다. (가)에는 자유 무역만 '예'라고 답할 수 있는 질문이 들어갈 수 있다.

[선지 분석]

- ☒ A는 보호 무역, B는 자유 무역이다.
- ☒ 자유 무역은 관세 인하의 요인이다. 보호 무역은 관세 인상의 요인이다.
- ☒ 규모의 경제는 생산 규모가 커질수록 제품 생산에 따른 평균 비용이 감소하는 것으로 주로 국가 간 무역이 자유롭게 이루어질 때 이루어진다. 보호 무역은 자유로운 무역을 규제하는 것에 동의하는 입장이므로 자유 무역보다 규모의 경제 실현에 용이하다고 보기 어렵다.
- ☒ 정부가 특정 상품의 수입량을 제한하는 수입 할당제는 보호 무역에서 주로 이루어진다.

고득점을 위한 핵심 개념

자유 무역주의와 보호 무역주의

자유 무역주의	<ul style="list-style-type: none"> • 의미: 시장의 원리에 따라 자유롭게 무역이 이루어질 때 국가에 이익이 된다는 주장 • 목표: 국가 간 생산 효율 증대 및 소비자 편익 극대화 • 수단: 관세 장벽 철폐, 수입 할당제 폐지 등
보호 무역주의	<ul style="list-style-type: none"> • 의미: 국내 유치산업을 보호하기 위해 국가가 관세 등을 이용하여 무역을 규제해야 한다는 주장 • 목표: 자국 산업 보호 및 국내 고용 안정 • 수단: 외국 기업으로부터 유치산업 보호 정책 실시, 관세 부과, 보조금 지급, 수입 규제 등

06 탄소 국경세

탄소 국경세는 수입 상품의 생산 과정에서 발생한 탄소 배출량에 따라 세금을 부과하는 제도이다. 이는 기업이 환경 보호를 실천하는 제품을 생산하도록 유도하여 지속가능발전에 기여하는 무역을 하기 위한 방안이다.

[선지 분석]

- ☒ 탄소 국경세를 부과하면 친환경 기술을 갖춘 친환경 기업의 수출 경쟁력이 강화된다.
- ☒ 탄소 국경세는 환경 오염 문제 해결을 위한 무역 방안으로 제품 생산 과정에서 나타나는 자원 고갈 문제를 해결하기 위한 방안은 아니다.
- ☒ 탄소 국경세 부과는 환경 오염 문제를 해결하여 지속가능발전을 하기 위한 무역 방안이다.

07 공정 무역

제시문은 아동 노동과 인권 침해가 발생하고 있는 코트디부아르의 초콜릿 생산 사례이다. 이를 해결하려면 공정한 무역의 이익 공유, 지속가능한 생산 및 소비 활동 촉진 등의 노력을 해야 한다.

[선지 분석]

- ❌ 제품 생산 과정에서 화석 연료 사용량을 줄이는 것은 환경 오염 문제를 해결하는 방안으로 제시문의 아동 노동 문제와 관련 없다.
- ❌ 제품 생산 과정에서 발생하는 환경 오염 물질을 줄이는 것은 제시문의 아동 노동 문제와 관련 없다.
- ❌ 규모의 경제를 위해 싼 가격으로 상품을 판매하면 가격 경쟁력을 확보하기 위해 아동 노동 및 노동 인권 침해 문제가 심화될 수 있다.
- ❌ 소비자의 상품 선택의 폭을 넓히기 위해 무관세 정책을 시행하면 가격 경쟁이 심화되어 아동 노동 및 노동 인권 침해 문제가 심화될 수 있다.
- ⑤ 생산자에게 정당한 대가를 지급하는 공정 무역 제품을 구매하는 윤리적 소비 확대는 아동 노동 문제에 대한 무역의 해결 방안이다.

08 지속가능발전을 위한 무역 방안

출제 예상 포인트 지속가능발전은 다른 단위에서도 등장하는 학습 요소이므로 통합형 문항으로 출제될 가능성이 높다. 따라서 지속가능발전을 위한 무역 방안을 파악해야 한다.

제시문은 국제 분쟁으로 인한 세계 경제의 변화 양상에 관한 내용이다. 지속가능한 개발은 인권 침해와 환경 파괴 문제를 해결할 수 있는 방안이다.

[선지 분석]

- ❌ 해바라기씨유 수출이 제한되면 해바라기씨유의 국제 가격은 상승할 것이다.
- ❌ 팜유 가격이 상승하면 팜유 주요 수입국은 팜유 수입을 줄일 것이다.
- ❌ 오아시스 농업과 관계 농업 중심의 생활양식은 건조 기후 지역의 특징이다.
- ❌ 인권 침해와 환경 파괴 문제는 자유 무역으로 경쟁이 치열해지면 더욱 악화될 수 있다.
- ⑤ 지속가능한 개발은 인권 침해와 환경 파괴 문제를 해결할 수 있는 방안이 될 수 있다.

1등급 완성 문제

146~147쪽

01 ⑤ 02 ⑤ 03 ④ 04 ⑤ 05 ② 06 ④
07 ③ 08 ④

01 무역의 발생 원인

국가 간 기술 수준의 차이나 노동 인구의 차이, 자연환경의 차이로 생산비의 차이가 발생하여 각국은 생산비가 더 낮은 상품을 생산하여 다른 국가와 교역한다.

[선지 분석]

- ❌ 생산 요소의 양이 동일한 것은 국가별 기술, 생산 요소, 자연환경 차이의 예로 볼 수 없다.
- ❌ 국가별 기술, 생산 요소, 자연환경 차이는 국가 간 상호 의존성을 확대시키는 요인이다.
- ❌ 자급자족은 폐쇄 경제 발생 요인으로 국가 간 무역 발생 요인이 아니다.
- ❌ 보호 무역보다 자유 무역이 국가 간 무역 활성화에 영향을 미친다.

- ⑤ 타국에 비해 상대적으로 낮은 생산비는 비교 우위의 발생 요인으로 국가별 수출품이 다른 것과 국가 간의 무역 발생 요인으로 작용할 수 있다.

02 비교 우위와 선택

제시문은 갑이 농구 선수를 할지 야구 선수를 할지 고민하는 과정에 관한 내용이다. 갑이 진로 선택을 두고 고민하는 것은 희소성으로 인해 발생하는 것이고, 더 잘하는 농구 선수를 선택한 것은 비교 우위에 따라 결정한 것이다.

[선지 분석]

- ❌ 규모의 경제는 생산량 증가에 따라 평균 비용이 감소하는 것으로 갑이 유명한 농구 선수가 된 것과 관련이 없다.
- ❌ 갑의 야구 실력과 농구 실력 모두 뛰어난 것은 절대 우위의 개념으로 설명할 수 있다.
- ㉠ 갑의 고민은 경제적 선택에 해당한다. 따라서 희소성에 따른 문제로 볼 수 있다.
- ㉡ 갑이 상대적으로 더 잘하는 운동인 농구를 선택하여 농구 선수가 되기로 한 것은 비교 우위의 개념으로 설명할 수 있다.

03 비교 우위

출제 예상 포인트 생산 가능 곡선을 활용하여 비교 우위를 파악하는 문항 형태로 출제될 수 있으므로 그래프를 해석할 수 있는 능력을 길러야 한다.

생산 가능 곡선에 나타난 갑국과 을국의 X재와 Y재의 최대 생산량을 표로 정리하면 아래와 같다.

구분	X재 최대 생산 가능량(개)	Y재 최대 생산 가능량(개)
갑국	70	80
을국	30	50

갑국과 을국의 각 재화 1개 생산에 대한 기회비용을 계산하면 아래와 같다.

구분	X재 1개 생산에 대한 기회비용	Y재 1개 생산에 대한 기회비용
갑국	Y재 8/7개	X재 7/8개
을국	Y재 5/3개	X재 3/5개

[선지 분석]

- ㉠ 갑국이 X재와 Y재 생산에 절대 우위를 가지므로 절대 우위로 무역의 발생 원리를 설명할 수 없다.
- ㉡ X재 1개 생산의 기회비용은 갑국은 Y재 8/7개이고, 을국은 Y재 5/3개이다.
- ❌ 을국의 Y재 1개 생산의 기회비용은 X재 3/5개이다.
- ㉢ X재와 Y재의 교환 비율이 1:1이라면 갑국은 교역 전 X재 1개 생산의 기회비용인 Y재 8/7개보다 적은 Y재 1개를 수입하게 되어 교역에 참여하려고 하지 않을 것이다. 한편 을국은 교역 전 Y재 1개 생산의 기회비용인 X재 3/5개보다 많은 X재 1개를 수입하므로 무역을 하려고 할 것이다.

04 비교 우위

갑국과 을국의 최대 생산량을 표로 정리하면 다음과 같다.

구분	X재 최대 생산 가능량(개)	Y재 최대 생산 가능량(개)
갑국	40	80
을국	50	200

갑국과 을국의 각 재화 1개 생산에 대한 기회비용을 계산하면 다음과 같다.

구분	X재 1개 생산에 대한 기회비용	Y재 1개 생산에 대한 기회비용
갑국	Y재 2개	X재 1/2개
을국	Y재 4개	X재 1/4개

[선지 분석]

- ☒ 을국이 X재와 Y재 생산 모두에 절대 우위를 가진다.
- ☒ Y재 최대 생산 가능량은 갑국이 80개, 을국이 200개이다.
- ☒ 비교 우위에 따르면 갑국은 X재에 특화하고 을국은 Y재에 특화한다.
- ☒ X재 1개의 교환 비율이 Y재 3개라면 갑국과 을국 모두 특화한 재화 생산의 기회비용보다 더 많이 얻을 수 있으므로 무역을 하려고 할 것이다.
- ☒ Y재 1개를 X재 3/5개와 교환하면 갑국은 교역 전 X재 1개 생산의 기회비용인 Y재 2개보다 적은 Y재 5/3개를 수입하므로 교역에 참여하려고 하지 않을 것이다. 한편 을국은 교역 전 Y재 1개 생산의 기회비용인 X재 1/4개보다 많은 X재 3/5개를 수입하므로 교역에 참여하려고 할 것이다.

05 무역의 확대에 따른 영향

국제 무역이 확대되면서 여러 긍정적인 효과가 나타났지만 빈부 격차 심화, 자원 고갈, 환경 파괴 문제 등의 문제도 함께 발생하였다. 교사가 갑과 을 중에서 한 명만 옳게 발표했다고 하였고, 갑의 발표는 옳으므로 (가)에는 틀린 내용이 들어가야 한다.

[선지 분석]

- ☒ 국가별 일자리 창출은 무역의 긍정적 영향에 해당한다.
- ☒ 국가 간 빈부 격차 심화는 무역의 부정적 영향이므로 (가)에 들어갈 수 없다.
- ☒ 기업의 경쟁을 통한 기술 발전은 무역의 긍정적 영향이므로 (가)에 들어갈 수 없다.
- ☒ 경제 성장에 따른 환경 오염 및 파괴는 무역의 부정적 영향이므로 (가)에 들어갈 수 있다.

06 무역의 확대

제시문은 다국적 기업에 대한 내용이다. 국제 무역이 확대되면서 다국적 기업이 활발하게 활동하고 있다.

[선지 분석]

- ☒ 세계화에 따라 자유 무역이 확대되고 있다.
- ☒ 국가 간의 무역 장벽을 확대하는 것은 다국적 기업의 활동을 어렵게 만드는 요인이다.
- ☒ 불공정한 무역에 따른 열악한 노동 환경 문제의 발생은 제시문과 직접적인 관련이 있다고 보기 어렵다.
- ☒ 국제 무역이 확대되면서 다국적 기업은 규모의 경제를 실현하여 생산 효율성을 높인다.
- ☒ 제시문과 생산비 절감에 따른 환경 파괴 및 자원 고갈 문제의 발생은 직접적인 관련이 없다.

07 자유 무역과 보호 무역

자유 무역은 무역을 자유롭게 하는 것을 목적으로 일반적으로 관세 인하, 수입 할당제 폐지 등을 실시하며 보호 무역은 자국 산업의 보호를 위해 일반적으로 관세 인상, 수입 할당제 확대 등을 실시한다.

08 지속가능발전을 위한 무역 방안

공정 무역, 소외된 생산자 배려, 기후변화 대응, 아동 학대 및 강제 노동 금지는 모두 지속가능발전을 위한 무역 방안이다.

17

세계화의 양상과 미래

기출 등첩 문제

151쪽

01-① ②

01-② ③

02-① ①

02-② ④

01-① 세계 도시의 특징

자료는 세계 도시의 특징으로 언급되는 주요 기능을 중심으로 세계 도시의 영향력을 측정한 내용을 제시하고 있다. (가)는 (나)에 비해 모든 기능에서 순위가 높아 영향력이 더 큰 세계 도시임을 알 수 있다. 따라서 (가)는 뉴욕, (나)는 베를린이다.

[선지 분석]

- ☒ 월 스트리트가 있는 뉴욕은 베를린보다 세계 금융에 미치는 영향력이 크다.
- ☒ 최상위 세계 도시로는 런던, 뉴욕, 도쿄가 있다. 따라서 뉴욕이 베를린보다 세계 도시 체계에서 상위에 있다.
- ☒ 뉴욕은 접근성 부문에서 2위, 서울은 16위이므로 뉴욕의 접근성 순위가 더 높다.
- ☒ 세계 500대 기업 수는 경제의 지표이다. 베를린은 뉴욕보다 세계 500대 기업 수가 적다.

고득점을 위한 핵심 자료

세계 도시 체계

의미	도시의 규모와 기능 및 영향력에 따라 세계 도시 간 계층성이 형성되는 것
사례	국제 금융 영향력, 다국적 기업의 본사 수, 생산자 서비스업 부문 집중 정도, 국제기구 본부 수, 국제 항공 승객 수, 인구 규모, 주요 교통·통신의 연결망 등을 종합하여 구분
계층	<ul style="list-style-type: none"> • 최상위 세계 도시: 런던, 뉴욕, 도쿄 • 상위 세계 도시: 파리, 로스앤젤레스, 싱가포르 등 • 하위 세계 도시: 뮌헨, 뮌바이, 토론토 등

감각 있는 풀이 TIP

세계 도시의 순위가 자료로 제시되었을 때는 순위가 높을수록 해당 분야에서 세계에 미치는 영향력이 크다는 의미이다. 모든 순위가 고루 높은 도시의 경우 모든 세계 도시 중에서 가장 영향력이 큰 도시라고 해석할 수 있다.

01-② 세계 도시의 특징

제시문은 세계 도시의 특징, 선정 기준 및 주요 세계 도시를 소개하고 있다. ㉠은 세계 도시이며, ㉠의 지표는 교통·통신과 관련된 것을 들 수 있다. ㉡의 지표로는 경제, 금융 등과 관련된 것을 들 수 있고, ㉢의 지표로는 문화 교류, 외국인 방문객 수 등을 들 수 있다. 과거 유럽 연합의 회원국이었던 세계 도시 순위 1위 (가)는 런던이다. 세계 금융의 중심인 월 스트리트가 있는 (나)는 뉴욕이다.

[선지 분석]

- ☒ 세계 도시는 도시 인구 규모 외에도 다양한 항목에서 영향력을 확인할 수 있다.
- ☒ 특허 등록 건수는 연구·개발 항목을 측정하기에 적절하다.
- ☒ 세계 500대 기업 수는 경제 항목을 측정하기에 적절하다.

- ❌ 생산자 서비스업 부문 집중 정도는 문화 교류보다는 경제 항목을 측정하기에 적절하다.
- ❌ (가)는 런던, (나)는 뉴욕이다.

02-① 지역화 전략

세계화 시대에 나타나는 지역화 전략으로 지리적 표시제, 지역 브랜드화, 장소 마케팅 등이 있다. ㉠은 이탈리아 파르마 지역에서 생산되는 햄이 전통적인 제조법을 인정받아 유럽 연합으로부터 지리적 표시제로 보호받는 사례이다. ㉡은 네덜란드 암스테르담의 도시 브랜드를 소개하는 것으로, 지역 브랜드화의 사례이다.

감각 있는 풀이 TIP

지리적 표시제는 주로 해당 지역의 지리적 환경이 반영되어 생산되는 농축산물인 경우가 많으며, 지역 브랜드화는 주로 도시 브랜드를 만들어 적용하는 경우가 많다.

02-② 지역화 전략

자료는 포르투갈 도시 포르투가 도시의 전통적 문화 요소를 활용해 디자인한 도시 브랜드와 이탈리아 캄파냐 지방의 치즈가 지리적 표시제의 보호를 받는 축산물임을 소개하고 있다.

[선지 분석]

- ㉠ 도시를 상징하는 로고 제작은 지역 브랜드화의 대표적인 방법이다.
- ㉡ 미국의 'I♥NY', 네덜란드의 'I amsterdam' 등은 대표적인 지역 브랜드화 사례이다.
- ❌ 지리적 표시제에 해당한다.
- ㉢ 합리적 선택이란 선택으로 인한 비용을 최소화하고 만족감이나 이득 등 편익을 극대화하는 행위를 의미한다. 비싼 캄파냐 치즈를 구입해 얻은 만족감이 편익이고, 일반 치즈를 구입해 얻은 만족감이 기회비용이므로 캄파냐 치즈를 구입했을 때 얻은 편익이 기회비용보다 크다면 합리적 선택을 했다고 볼 수 있다.

고득점을 위한 핵심 개념

합리적 선택과 기회비용

합리적 선택	<ul style="list-style-type: none"> • 최소한의 비용으로 최대의 편익을 얻을 수 있는 선택 • 편익은 경제적 선택을 통해 얻게 되는 이익으로 금전적 이익뿐만 아니라 만족감과 같은 비금전적인 것도 포함
기회비용	선택 때문에 포기한 것 중 가장 가치가 높은 것의 비용

수능 기본 문제

152~153쪽

- 01 ④ 02 ③ 03 ⑤ 04 ⑤ 05 ① 06 ④
07 ② 08 ①

01 세계화의 영향

출제 예상 포인트 세계화의 영향은 사례를 통해 원인과 영향 등을 종합적으로 묻는 문항이 출제되는 경향이 많다. 따라서 세계화의 원인, 영향과 함께 세계화와 함께 등장하는 지역화 전략, 다국적 기업의 공간적 분업과 현지화 전략의 개념을 명확히 숙지하고 있어야 한다.

제시문은 세계화의 영향을 K-pop, 한국 음식을 사례로 설명하고

있다. ㉠은 세계화의 주요 원인이며, ㉡은 다국적 기업의 현지화 사례이다.

[선지 분석]

- ㉠ 정보 통신 기술의 발달은 세계화를 확산시키는 주요 원인이다.
- ㉡ 해당 지역의 입맛과 문화에 맞추어 상품을 변형하는 것은 현지화 전략의 사례이다.
- ㉢ 세계화가 촉진되면서 각 지역은 지역의 고유성을 지키기 위해 지역화 전략을 구사한다.
- ❌ 세계화로 다국적 기업이 활동하는 공간적 범위는 더욱 확대되었다.

02 지리적 표시제

우리나라의 보성 녹차와 프랑스의 샴페인은 지리적 표시제에 등록된 상품이다.

[선지 분석]

- ❌ 장소 마케팅은 장소를 하나의 상품으로 인식하고 홍보하는 전략이다.
- ❌ 보호 무역주의는 자국의 상품을 보호하기 위해 관세 등 무역 장벽을 설치하는 경우를 의미한다.
- ㉢ 한 상품의 품질이 특정 지역의 지리적 특성에 기인하는 경우를 소개하고 있으므로 지리적 표시제에 해당한다.
- ❌ 문화 획일화 현상은 세계화 등으로 인해 특정 문화가 보편화되는 현상을 의미한다.
- ❌ 다국적 기업의 현지화 전략은 다국적 기업이 진출하는 지역의 문화 등을 상품에 반영하여 판매하는 전략을 의미한다.

03 지역화 전략

출제 예상 포인트 제시문에 나온 뉴욕의 'I♥NY'는 통합사회 4종 교과서에서 사례로 제시되고 있고, 샷포로 눈 축제는 통합사회 2종 교과서에서 자료로 활용돼 대학수학능력시험에 출제될 가능성이 있다. 세계적인 지역 축제의 경우 지역의 자연·문화적 특징을 바탕으로 개최되는 경우가 많으므로 자연환경과 인간, 문화권 단원과도 연계한 선지가 출제될 수 있다.

(가)는 지역 브랜드화, (나)는 축제를 통한 장소 마케팅의 사례이다.

[선지 분석]

- ❌ (가)는 도시를 브랜드화한 사례를 소개하고 있으므로 지역 브랜드화에 해당한다.
- ㉠ 지역 축제는 장소 마케팅의 대표적인 형태이다.
- ㉡ 지역 브랜드화와 장소 마케팅은 모두 지역화 전략에 해당한다.
- ㉢ 일본 북부의 홋카이도는 겨울철에 바다를 거처온 계절풍의 영향으로 눈이 많이 내린다.

04 다국적 기업의 공간적 분업

출제 예상 포인트 다국적 기업의 공간적 분업은 통합사회의 주요 개념이므로 숙지해야 한다. 실제 다국적 기업의 공간적 분업 사례를 나타낸 지도 자료와 함께 출제될 수 있으니 지도 자료와 함께 공간적 분업의 특징을 명확히 알고 있어야 한다.

다국적 기업의 공간적 분업은 본사, 연구소, 생산 공장 등을 지역적으로 분리하여 전 세계에서 가장 적절한 장소에 배치하는 것이다. 기업이 성장하면서 생산 공장을 추가로 건설하기도 하며, 기존의 생산 공장을 다른 지역으로 이전하기도 한다. 서울에 본사를 두고

미국, 유럽, 브라질 등에 연구소 및 생산 공장을 세우는 것은 다국적 기업의 공간적 분업 사례이다.

05 세계 도시의 정의

정치, 경제, 사회, 문화 등 다양한 측면에서 세계적인 중심지 역할을 하는 도시인 ㉠은 세계 도시이다.

[선지 분석]

- ㉠ 세계 도시는 국경을 넘어 세계에 영향력을 미치며 중심 역할을 하는 도시이다.
- ✕ 다국적 기업의 정의이다.
- ✕ 공정 무역의 정의이다.
- ✕ 비정부 기구의 정의이다.
- ✕ 공적 개발 원조의 정의이다.

고득점을 위한 핵심 개념

세계화 시대의 다양한 국제적 활동

다국적 기업	국경을 넘어 세계적인 규모로 생산 및 유통, 판매 활동을 하는 기업으로, 일반적으로 본사는 본국의 대도시, 연구소는 핵심 기술 인력을 구하기 쉬운 곳에, 생산 공장은 노동력과 원료를 저렴하게 얻을 수 있는 곳에 입지함.
공정 무역	생산자와 노동자에게 정당한 대가를 지불하여 불평등을 해소하려는 무역
국제기구	세계 각국의 정부로부터 구성되는 국제 사회의 행위 주체, 평화 유지, 경제 사회 협력 등 국제적 목적을 달성하기 위해 구성된 조직체
비정부 기구	개인이나 민간단체가 가입하여 자발적으로 활동하는 국제 사회의 행위 주체
공적 개발 원조	개발 도상국의 경제 발전이나 복지 증진을 도모하기 위해 원조국이 자체의 재정 자금을 사용하여 공여하는 순수한 원조

06 세계 도시의 특징

세계 도시는 국제 금융 영향력, 다국적 기업의 본사 수, 생산자 서비스업 부문 집중 정도, 국제기구 본부 수, 국제 항공 승객 수, 인구 규모, 주요 교통, 통신의 연결망 등 다양한 지표를 종합하여 도시의 영향력의 정도를 파악한다.

[선지 분석]

- ✕ 인구 규모는 세계 도시의 영향력을 측정하는 지표가 아니다.
- ㉠ 런던, 뉴욕, 도쿄는 대표적인 세계 도시이다.
- ✕ 세계 도시는 세계화 시대에 국경의 의미가 약화되면서 나타났다.
- ㉡ 세계 도시는 국제기구가 집중하고 자본과 정보가 모이는 곳이다.

07 세계 도시 체계

세계 도시는 도시 간 계층성을 형성하며 세계 도시 체계를 이룬다. 최상위 세계 도시는 런던, 뉴욕, 도쿄가 있으며, 국지적 범위에 영향력을 행사하는 하위 세계 도시보다 최상위 세계 도시는 전 세계에 영향력을 행사한다. 지도의 A는 뭄바이, B는 뉴욕이다.

[선지 분석]

- ㉠ 수가 적고 도시 간 거리가 먼 (가)는 최상위 세계 도시, 수가 많은 (나)는 하위 세계 도시이다.
- ✕ 세계 500대 기업의 본사는 최상위 세계 도시에 더 많다.
- ㉡ 뉴욕에는 국제 연합(UN) 본부가 있다.

✕ 국제 경제에 미치는 영향력이 더 큰 도시는 뉴욕이다.

고득점을 위한 핵심 자료

세계 도시에 위치한 주요 국제기구 본부

미국 뉴욕	국제 연합(UN) 본부
벨기에 브뤼셀	유럽 연합(EU) 본부
프랑스 파리	• 유네스코(UNESCO) 본부 • 경제 협력 개발 기구(OECD) 본부

08 세계 도시 런던의 특징

출제 예상 포인트 대표적인 세계 도시인 런던과 함께 뉴욕, 도쿄는 통합사회 8종 교과서에 언급되어 있으며, 각 도시의 특징을 제시하고 지도에서 위치를 찾는 문항이 출제될 가능성이 있으니 지도에서 위치를 함께 알아 두어야 한다.

제시문은 세계 도시 중 가장 영향력이 큰 도시 중 하나인 런던의 세계 도시적 특징을 나타낸 것이다. 런던은 금융 기업의 본사, 국제 취항 노선이 많은 히드로 국제공항 등이 있어 세계적인 영향력이 큰 도시다. 지도의 A는 런던, B는 파리, C는 브뤼셀, D는 베를린, E는 로마이다.

1등급 완성 문제

154~155쪽

- 01 ⑤ 02 ⑤ 03 ③ 04 ① 05 ③ 06 ②
07 ③ 08 ①

01 세계 도시로서의 서울의 특징

출제 예상 포인트 지역화 전략과 세계 도시는 세계화 과정에서 나타나는 현상이므로 세계화의 영향을 주제로 두 가지를 함께 물을 수 있다. 따라서 각 개념을 충실하게 익혀 두도록 한다.

(가)에서 서울은 세계화 시대에 지역을 알리기 위한 전략으로 지역 브랜드화를 채택하여 도시 슬로건을 만들었다. (나)에서 서울은 세계 도시의 주요 기능에서 높은 순위를 받으며 세계 도시로서 영향력을 행사하고 있음이 제시되었다.

[선지 분석]

- ✕ 세계 금융 시장에 영향을 미치는 월 스트리트가 있는 뉴욕은 서울보다 세계 경제에 미치는 영향력이 크다.
- ✕ 세계 도시의 영향력은 다양한 분야를 고려한다. 따라서 한 가지 분야보다 다양한 분야에서 발전하는 것이 필요하다.
- ㉠ 지역화 전략 중 지역 브랜드화의 사례이다.
- ㉡ 지역화 전략인 지역 브랜드화를 추진한 것과 세계 도시로서 영향력을 미치게 된 것은 세계화의 영향이라고 할 수 있다.

02 지역화 전략

출제 예상 포인트 제시문은 지역화 전략의 사례로 지리적 표시제와 장소 마케팅을 제시하였다. 세계의 사례뿐만 아니라 우리나라의 사례도 등장할 수 있으므로 우리나라의 지리적 표시제에 등록된 상품과 대표적인 지역 축제를 함께 알아둘 필요가 있다.

제시문은 우리나라의 지역화 전략을 나타낸 것이다. ㉠은 성주 지역에서 재배된 참외에만 성주 참외라는 명칭을 붙일 수 있다는 내용으로 지리적 표시제에 관한 사례이다. ㉡은 보령 머드 축제에 관한 것으로 장소 마케팅의 사례이다.

고득점을 위한 핵심 자료

우리나라의 지역 축제

우리나라의 지역 축제는 지역의 지리적 특성을 살려 시도마다 다양하게 열리고 있다. 충남 보령의 머드 축제, 강원 화천 산천어 축제, 경북 안동 국제 탈춤 페스티벌, 전남 함평 나비 축제, 전북 김제 지평선 축제 등 지역의 정체성을 살린 축제가 많으며, 이는 장소를 홍보하는 장소 마케팅의 사례이다. 지역 축제는 지리적 표시제 농산물과 연계하여 나타나는 경우도 많다. 보성 지역은 보성 녹차가 지리적 표시제에 등록되어 있으며, 녹차를 활용한 축제인 보성 다향제가 있다. 순창 지역은 순창 고추장이 지리적 표시제에 등록되어 있으며, 순창 장류 축제를 열고 있다.

03 다국적 기업의 공간적 분업

미국의 다국적 기업이 베트남 지역에 생산 공장을 세워 경영의 효율성을 높이고 이윤을 극대화하여 제품 생산을 하는 다국적 기업의 공간적 분업 사례를 설명하고 있다.

고득점을 위한 핵심 개념

세계화로 인한 기업의 경제활동과 관련된 개념

규모의 경제	생산 규모가 커질수록 생산에 드는 평균 비용이 더 낮아지는 현상
세계 무역 기구(WTO)	세계의 교역 증진과 경제 발전을 목적으로 설립된 국제기구이며, 본부는 스위스 제네바에 있음.
국제 분업	국가별로 비교 우위가 있는 상품에 특화하는 것
비교 우위	같은 상품을 더 적은 기회비용으로 생산할 수 있는 경우 비교 우위가 있다고 함.

04 세계화의 문제점

출제 예상 포인트 세계화로 인한 문제점은 전체 인류에게 영향을 미칠 수 있는 문제이기도 하며, 정의의 관점에서 생각해 볼 수 있으므로 정의관과 함께 통합하여 출제될 수 있다. 그러므로 세계화가 야기하는 문제점과 정의관에 대해 명확히 알아 두어야 한다.

세계화로 인한 문제점으로 환경 문제, 노동 인권 문제 등이 발생한다. 패스트패션은 활발한 무역 시장에서 저가의 의류를 단기간에 세계적으로 대량 생산하고 판매하여 소비하게 하는 패션 상표 및 업종을 의미한다. 다국적 기업은 본사와 생산 공장을 지역적으로 분리하여 이익의 극대화를 추구한다. 이러한 과정에서 개발 도상국에 있는 노동자의 노동권이 침해되고 환경이 오염되는 문제가 발생하기도 한다.

[선지 분석]

- ㉠ 패스트패션 상품의 생산과 판매는 발달한 무역 구조를 통해 전 세계에서 빠르게 옷이 소비될 수 있다는 점과 관련이 있으므로 경제의 세계화 사례이다.
- ㉡ 다국적 기업의 공간적 분업 양상을 보여 준다.
- ㉢ 인간의 기본권인 노동권이라는 보편 윤리를 우선시해야 한다.
- ㉣ 노직은 자유주의 철학자로 환경 오염과 같은 공동체의 문제에 대해 국가는 개인의 권리를 보호하기 위한 소극적 역할만을 해야 한다고 하였다.

고득점을 위한 핵심 자료

자유주의적 정의관과 공동체주의적 정의관

구분	자유주의적 정의관	공동체주의적 정의관
특징	개인의 자유와 권리를 중시, 국가가 중립을 유지해야 한다고 주장	공동체의 문화와 규범을 중시, 국가가 개인의 삶에 일정 부분 개입할 수 있다고 주장
대표 사상가	• 롤스: 다수의 이익을 위해 소수의 자유를 빼앗는 것은 정의롭지 않음을 주장 • 노직: 국가는 개인의 권리를 보호하기 위한 소극적 역할을 강조	• 매킨타이어: 공동체의 역사적 흐름 속에서 자신의 이상을 구성한다고 주장 • 왈차: 가치를 분배할 때 공동체의 문화적 특수성과 차이를 고려해야 한다고 주장

05 주요 세계 도시의 도시 경관

상파울루는 남아메리카 최대의 경제 중심 도시이지만 빠른 도시화의 영향으로 '파벨라'라고 불리는 불량 주택 지구가 곳곳에 있다. 도쿄는 최상위 세계 도시이며, 지형적으로는 화산 활동에 의해 형성된 후지산을 멀리서 볼 수 있기도 하다.

[선지 분석]

- ㉠ 파벨라는 불량 주택 지구로 주로 저소득층이 거주한다.
- ㉡ 후지산은 화산 활동으로 형성된 성층화산이다.
- ㉢ 도쿄는 상파울루보다 세계 도시 계층이 높아 세계 경제에 미치는 영향력이 크다.
- ㉣ 브라질의 수도는 브라질리아이며, 일본의 수도는 도쿄이다.
- ㉤ 상파울루와 도쿄는 모두 온대 기후가 나타나며, 최한월 평균 기온은 $-3\sim 18^{\circ}\text{C}$ 이다.

고득점을 위한 핵심 자료

브라질의 불량 주택 지구, 파벨라



○ 리우데자네이루의 파벨라

파벨라는 브라질의 불량 주택 지구를 부르는 명칭이다. 리우데자네이루뿐만 아니라 상파울루와 같은 세계 도시급의 도시에도 불량 주택 지구가 산재해 있다. 이는 라틴 아메리카의 빠른 도시화와 관련이 있다. 도시화 과정에서 이촌향도 현상이 활발히 나타나고 주로 일부 대도시에 사람이 몰리게 되면서 저소득층이 집단 거주하는 슬럼이 분포하게 되었다. 이곳은 사회 기반 시설 부족 등 주거 환경이 열악하고 치안 및 환경 오염 문제도 나타나 인권 보호를 위한 노력이 필요한 곳이기도 하다.

06 최상위 세계 도시와 하위 세계 도시의 특징

(가)는 세계 도시 중 세계 도시가 갖는 기능의 영향력이 큰 최상위 세계 도시이며, (나)는 상대적으로 영향력이 작은 하위 세계 도시이다. 최상위 세계 도시는 영향력이 전 세계적으로 미치므로, 하위 세계 도시보다 세계 경제에 미치는 영향력이 크고(A, B, C), 세계 500대 기업 수가 많으며(A, B, D), 생산자 서비스업 종사자 비율이 높다(B, C, E). 따라서 정답은 B이다.

고득점을 위한 핵심 자료

생산자 서비스업

의미	기업의 생산 활동을 지원하는 서비스업
특징	다국적 기업의 본사가 모여 있는 세계 도시에 고도의 전문적 지식을 요구하는 생산자 서비스업이 발달
종류	금융업, 보험업, 부동산업, 전문 서비스업 등

07 주요 세계 도시

출제 예상 포인트 국제기구 본부 위치, 타임스 스퀘어, 월 스트리트와 같이 세계적으로 영향력이 큰 장소와 같은 지리 정보는 세계 도시의 기능적 특징과 관련이 있어서 세계 도시 문항에서 자료나 선지로 사용될 가능성이 높다. 따라서 세계 도시의 기능과 관련된 도시별 지리 정보를 확실히 알아 두어야 한다.

지도의 A는 영국 런던, B는 벨기에 브뤼셀, C는 중국 상하이, D는 일본 도쿄, E는 미국 뉴욕이다. 런던, 뉴욕, 도쿄는 브뤼셀, 상하이보다 세계에 영향력이 큰 세계 도시이다.

[선지 분석]

- ☒ 유럽 연합(EU) 본부는 브뤼셀에 있다.
- ☒ 국제 연합(UN) 본부는 뉴욕에 있다.
- ☒ ③ 뉴욕에 있는 타임스 스퀘어는 세계적인 뮤지컬, 음악 등의 공연이 끊임없이 열리는 곳으로 세계 문화의 중심이라고 불린다.
- ☒ 상하이는 월 스트리트가 있는 뉴욕보다 세계 경제에 미치는 영향력이 작다.
- ☒ 중국의 수도는 베이징이며, 일본의 수도는 도쿄이다.

08 주요 세계 도시의 경관

출제 예상 포인트 세계 도시의 경관과 위치는 세계 도시의 특징을 묻고자 할 때 자주 나오는 유형이다. 따라서 런던, 뉴욕, 파리 등 주요 세계 도시의 랜드마크와 같은 경관과 위도, 경도와 같은 위치를 파악해 두어야 한다.

천안문이 있으며 위치가 북반구 중위도, 동경 116° 정도에 위치하는 (가)는 중국 베이징이다. 에펠탑이 있으며 위치가 북반구 중위도, 동경 2° 정도로 본초 자오선에 가까운 곳에 위치하는 (나)는 프랑스 파리이다. 바다 위의 섬에 자유의 여신상이 있으며 위치가 북반구 중위도, 서경 74° 정도에 위치하는 (다)는 미국 뉴욕이다.

[선지 분석]

- ☒ ㄱ 파리는 패션 산업이 발달한 이탈리아 밀라노와 함께 세계 패션 산업의 중심으로 불린다.
- ☒ ㄴ 뉴욕에는 세계 금융의 중심인 월 스트리트가 있다.
- ☒ ㄷ 베이징은 뉴욕보다 세계 도시 체계의 계층이 낮다.
- ☒ ㄹ 베이징은 중국의 수도, 파리는 프랑스의 수도이지만, 미국의 수도는 워싱턴 D.C.이다.

감각 있는 풀이 TIP

위도와 경도 값이 제시되었을 때는 세계 지도상에서 북위·남위, 동경·서경 등으로 대략적인 위치를 먼저 파악하면 위치로 도시를 파악하는 데 도움이 된다. 본초 자오선(경도 0°)이 영국을 지나며 동쪽으로는 아시아, 서쪽으로는 대서양과 아메리카 대륙이 위치한다는 것만 알아도 주요 대도시의 위치를 파악하는 데 큰 도움이 되며, 우리나라의 중앙 경선이 동경 127°라는 것도 기억하고 있다면 아시아에 위치한 도시들이 나왔을 때 더 쉽게 찾을 수 있다.

18 평화 실현과 통일을 위한 노력

기출 등첨 문제

159쪽

01-① ③ 01-② ④ 02-① ① 02-② ②

01-① 적극적 평화와 소극적 평화

출제 예상 포인트 갈통의 평화 사상은 통합사회 8종 교과서에서 모두 다루고 있기 때문에 출제 가능성이 높다. 소극적 평화와 적극적 평화, 직접적 폭력, 구조적 폭력, 문화적 폭력의 개념을 구분하여 정리해 두어야 한다.

제시문의 '나'는 적극적 평화를 강조하고 있으며, '어떤 사람'은 진정한 평화란 소극적 평화가 실현된 상태라고 주장한다. 적극적 평화는 직접적 폭력과 물리적 폭력뿐만 아니라 구조적 폭력과 문화적 폭력까지 제거된 상태를 의미한다. 반면에 소극적 평화는 직접적 폭력과 물리적 폭력만이 없는 상태를 의미한다.

[선지 분석]

- ☒ 생명의 위협이 모두 사라진 상태를 평화로 규정하는 것은 소극적 평화를 강조하는 입장이다.
- ☒ 적극적 평화를 강조하는 입장에서는 물리적 폭력 또한 반대한다.
- ☒ ③ 적극적 평화를 주장하는 입장에서는 물리적 폭력이 사라지고 인간의 존엄성과 삶의 질이 보장되는 상태를 진정한 평화라고 본다.
- ☒ 구조적 폭력과 문화적 폭력까지 제거된 상태를 진정한 평화라고 보는 것은 적극적 평화를 강조하는 입장이다.
- ☒ 소극적 평화를 주장하는 사람들은 진정한 평화가 인간의 기본적인 욕구가 모두 충족되는 상태가 아닌, 물리적 폭력만 사라진 상태라고 본다.

01-② 갈통의 평화 사상

그림의 강연자는 갈통이다. 갈통은 폭력을 직접적 폭력, 구조적 폭력, 문화적 폭력으로 나누어 설명하였다. 그는 단순히 전쟁이나 물리적 폭력이 없는 상태를 진정한 평화라고 할 수 없으며, 진정한 평화를 실현하기 위해서는 정의롭지 못한 사회 구조와 이를 정당화하는 문화적 요소까지 제거해야 한다고 주장하였다.

[선지 분석]

- ☒ 갈통은 의도 여부와 관계없이, 인간의 잠재력을 억압하고 해치는 모든 조건을 폭력으로 보았다. 특히 구조적 폭력은 의도하지 않아도 발생할 수 있다고 보았다.
- ☒ 갈통은 전쟁이나 신체적 폭력의 부재만으로는 진정한 평화를 실현할 수 없으며, 문화적 폭력까지 제거해야 한다고 보았다.
- ☒ 갈통에 따르면, 평화는 평화적 수단으로 실현되어야 하며, 폭력을 수단으로 정당화하는 것은 문화적 폭력의 한 형태가 될 수 있다.
- ☒ ④ 갈통은 구조적 폭력의 제거, 즉 부정의한 사회 제도와 구조의 개혁이 적극적 평화를 실현하는 방법이라고 보았다.
- ☒ 평화를 국가 안보 차원에서 강조하는 입장에서는 평화를 '전쟁의 부재'라고 규정한다. 갈통은 직접적 폭력의 부재를 평화라고 규정하는 기존의 인식을 비판하고, 평화의 개념을 인간의 존엄성과 삶의 질을 강조하는 인간 안보 차원으로 확대해야 한다고 보았다.

02-① 통일에 대한 찬반 입장 이해

(가)는 통일 비용의 소모적 성격과 통일로 인해 발생할 우리 사회의 손실과 혼란을 강조하는 입장이다. 반면에 (나)는 통일 비용의 투자적 성격과 통일로 인한 장기적인 이익을 강조하는 입장이다.

[선지 분석]

(나)는 장기적인 측면에서 통일이 가져올 긍정적인 변화와 통일 비용의 투자적 성격, 즉 통일 편익을 강조하고 있다. 따라서 (가)에 비해 (나)는 상대적으로 통일로 인한 경제적 손실을 강조하는 정도(X)는 낮고(㉠, ㉡, ㉢), 통일이 민족의 동질성 회복에 기여함을 강조하는 정도(Y)는 높으며(㉠, ㉣, ㉤, ㉥), 통일 비용의 투자적인 성격을 강조하는 정도(Z)는 높다(㉠, ㉣, ㉥). 따라서 모든 조건을 만족하는 것은 ㉠이다.

고득점을 위한 핵심 개념

통일의 필요성

- 이산가족의 아픔 해소
- 한반도 평화 정착 및 세계 평화에 기여
- 민족 동질성 회복과 민족 공동체 실현
- 인도주의적 차원에서 북한 주민의 인권 문제 해결
- 소모적 비용 절감으로 인한 경제적 번영, 복지 사회 건설

02-② 독일 통일의 시사점

독일은 동독과 서독의 분단 이후 지속적인 교류와 협력으로 통일을 이루었다. 제시문은 이러한 독일의 통일 과정을 통해 한반도 역시 평화 통일을 위해서는 남북한 간 지속적 교류와 신뢰 구축이 중요함을 시사한다.

[선지 분석]

- ㉠ 동서독 기본 조약(1972)은 동서독이 서로의 실체를 인정하고, 국제법적 관계 수립, 정기적 외교 접촉과 교류 협력을 약속한 조약이다. 이는 상호 불신과 적대적 관계를 완화하고 협력의 기반을 제도화하였다는 점에서 갈등을 해소하려는 적극적 평화 실현의 노력 중 하나라고 볼 수 있다.
- ✕ 동방 정책은 서독이 1969년 이후 추진한 정책으로, 군사적 긴장을 낮추고 평화 공존과 상호 인정을 지향하였다. 이 정책은 분단을 고착화하거나 비용을 증가시킨 것이 아니라, 교류 확대를 통해 분단으로 인한 유·무형의 비용을 줄이고 통일의 기반을 마련한 조치였다.
- ㉢ 제시문에서는 장벽 설치 이후에도 지속된 교류와 이주, 조약 체결 등을 통해 상호 신뢰가 구축되고 평화 정착의 기반이 형성되었음을 강조하고 있다. 이는 정치 체제 통합 이전에도 실질적 신뢰 형성이 가능함을 보여주는 사례이다.
- ✕ 베를린 장벽은 동서독 간의 이동을 물리적으로 차단하고, 자유로운 교류와 인간관계를 단절시킨 상징적인 구조물이다. 이는 군사적·정치적 긴장을 심화하고, 구조적 폭력과 문화적 폭력을 강화한 조치이므로 평화를 위한 노력으로 볼 수 없다.

고득점을 위한 핵심 자료

독일의 통일을 위한 노력

동방 정책 (1969년)	브란트 서독 총리가 추진한 대동독 화해 정책으로 동독 및 동유럽 국가들과의 관계 개선을 목표로 하였으며, 분단을 넘어선 평화적 접근으로 평가받음.
동서독 기본 조약 (1972년)	동독과 서독이 체결한 조약으로 서로를 독립 국가로 인정하고 외교 관계 수립 및 교류 협력을 약속하였으며, 평화 공존과 신뢰 구축의 기반이 됨.

수능 기본 문제

160~161쪽

01 ② 02 ② 03 ② 04 ① 05 ⑤ 06 ③
07 ⑤ 08 ⑤

01 진정한 평화

갈등은 폭력을 '인간의 기본적인 욕구를 모독하는 것'이라고 정의하였다. 그는 물리적 폭력과 구조적 폭력, 그리고 문화적 폭력까지 모두 사라진 상태가 적극적 평화가 실현된 상태이며, 이것이 진정한 평화라고 보았다.

[선지 분석]

- ㉠ 갈등에 따르면, 평화는 비폭력적이고 평화적 수단에 의해 실현되어야 한다.
- ✕ 갈등은 물리적 폭력, 구조적 폭력, 문화적 폭력이 서로 영향을 주며 악순환을 일으킨다고 보았다. 따라서 물리적 폭력, 구조적 폭력, 문화적 폭력을 모두 제거해야 진정한 평화가 실현될 수 있다고 강조하였다.
- ㉢ 갈등에 따르면, 적극적 평화란 구조적 폭력과 문화적 폭력까지 제거되어 누구나 인간다운 삶을 살아갈 수 있는 상태이다.
- ✕ 갈등은 진정한 평화란 직접적 폭력뿐만 아니라 구조적 폭력과 문화적 폭력까지 제거된 상태, 즉 적극적 평화가 실현된 상태라고 보았다. 빈곤은 구조적 폭력에 해당하므로 이를 방치한 채 전쟁만 종식된 상태는 진정한 평화라 아니다.

고득점을 위한 핵심 개념

소극적 평화와 적극적 평화

갈등은 평화를 소극적 평화와 적극적 평화로 구분하고, 진정한 평화란 적극적 평화가 실현된 상태라고 보았다.

소극적 평화	범죄, 테러, 전쟁 등과 같은 직접적 폭력이 사라진 상태
적극적 평화	직접적 폭력뿐만 아니라 구조적 폭력과 문화적 폭력 등의 간접적 폭력까지 제거된 것으로, 모든 사람이 인간다운 삶을 누릴 수 있는 상태

02 국제 사회 행위 주체의 역할

⁴출제예상 포인트 국제 사회에는 다양한 행위 주체가 있어 각 행위 주체들의 역할을 헷갈리기 쉽다. 따라서 국제 사회의 행위 주체와 구체적인 예시로는 무엇이 있으며, 지구촌 공통의 문제를 해결하기 위해 각 행위 주체들이 어떤 노력을 해야 하는지에 대해 파악해야 한다.

제시문은 국제 사회 행위 주체들이 갈등에 무관심하거나 방관할 경우 더 큰 위기와 희생을 초래할 수 있음을 강조하며, 갈등의 조기 발견, 평화적 해결, 적극적 개입과 협력의 필요성을 설명하고 있다.

[선지 분석]

- ㉠ 국제기구는 분쟁 당사국 간 협상을 유도하고 조정하는 중재자로서의 역할을 수행해야 한다.
- ✕ 국가 간 갈등을 힘의 논리로 해결한다면 국제 분쟁은 더욱 심화될 수 있으므로 지양해야 한다.
- ㉢ 국가, 국제기구, 비정부 기구 등 국제 사회 행위 주체는 어려움을 겪고 있는 국가에 대한 인도적 지원과 원조를 제공해야 한다.
- ㉣ 국가 간 갈등은 대화와 타협을 통한 외교적 노력을 통해 해결하는 것이 바람직하다.
- ㉤ 비정부 기구의 구조 활동은 국제 평화 실현에 큰 역할을 담당하고 있다.

고득점을 위한 핵심 개념

국제 사회의 행위 주체

세계 평화에 기여할 수 있는 국제 사회의 행위 주체로는 국가, 국제기구, 비정부 기구 외에도 국제적 영향력이 큰 개인이나 다국적 기업, 그리고 개별 국가 내 지방 정부 등이 있다.

국가	일정한 영토와 국민을 바탕으로 주권을 가진 국제 사회의 가장 기본적인 행위 주체
국제기구	각국의 정부를 회원으로 하는 국제 사회의 행위 주체 ㉠ 국제 연합(UN)
비정부 기구	개인이나 민간단체의 주도로 만들어진 국제 사회의 행위 주체 ㉡ 국경 없는 의사사회, 국제 앰네스티, 그린피스
영향력 있는 개인	국제 사회에서 많은 사람에게 존경받고 있으며 영향력을 행사할 수 있는 개인 ㉢ 전직 국가 원수, 노벨상 수상자, 종교 지도자

03 국제 관계에 대한 현실주의의 관점

출제 예상 포인트 평화를 위한 국제 사회의 역할에 대해 이해하려면 국제 관계를 바라보는 다양한 관점에 대한 이해가 필요하다. 국제 관계에 대한 대표적인 관점은 이상주의와 현실주의이며, 모겐소는 현실주의를 대표하는 학자이므로 출제 가능성이 높다. 따라서 모겐소의 주장을 토대로 현실주의 입장을 정리해야 한다.

제시문을 주장한 사상가는 모겐소이다. 그는 국제 사회가 상위 중앙 권위가 존재하지 않는 무정부 상태이며, 세계는 자국의 이익을 추구하는 국가들로 구성되어 있다고 보았다. 또한 국제 관계에서의 평화가 도덕이나 규범이 아닌 세력 균형을 통해 유지된다고 보았다.

[선지 분석]

- ㉠ 모겐소가 긍정의 대답을 할 질문이다. 그는 국제 사회가 무정부 상태이며 국가들이 생존과 이익을 위해 경쟁한다고 보았다. 그리고 동맹이나 세력 균형을 통해 분쟁을 억제할 수 있다고 보았다.
- ✕ 모겐소가 부정의 대답을 할 질문이다. 그는 인간을 이기적인 존재로 보고, 국가는 이러한 인간 본성을 반영한다고 주장하였다. 따라서 국가는 도덕적 이성이나 합리성보다는 국익이라는 이기적인 동기에 따라 움직인다고 보았다.
- ㉡ 모겐소가 긍정의 대답을 할 질문이다. 그는 국제 관계에서 국가는 도덕이나 이상보다 힘의 논리와 이익을 우선시하며, 모든 국가는 자국의 이익을 극대화하기 위해 노력한다고 보았다.
- ✕ 모겐소가 부정의 대답을 할 질문이다. 그는 국제 관계에서의 평화가 도덕이나 규범이 아니라 힘의 균형을 통해 유지된다고 보았다.

고득점을 위한 핵심 자료

국제 관계에 대한 현실주의의 입장

현실주의는 국가가 자국의 이익을 최우선으로 추구하며, 이러한 국가들로 구성된 국제 사회는 각국을 통제할 수 있는 상위 중앙 권위가 존재하지 않는 무정부 상태로 파악한다. 현실주의에 따르면, 각 국가는 자국의 이익과 생존을 최우선 목표로 삼으며, 다른 국가는 이러한 생존을 위협할 수 있는 잠재적 위협 요소이다. 따라서 평화는 도덕이나 협력에 기반하기보다는 힘의 논리에 따라 형성된 세력 균형을 통해 전쟁을 예방하거나 억제함으로써 실현할 수 있다.

04 국제 관계에 대한 이상주의의 관점

제시문은 국제 관계에 대한 이상주의의 관점이다. 이상주의의 관점은 국가 간 분쟁의 원인이 국가 간의 오해나 제도의 불완전성임을 강조하고, 국제법이나 국제 규범을 통해 국가 간 분쟁을 해결할 수 있다고 본다.

[선지 분석]

- ✕ 해당 탐구 질문은 과거와 현재의 시간 흐름에 따른 변화 양상에 대해 묻고 있으므로 공간적 관점이 아닌 시간적 관점에 해당한다.
- ㉡ 국가는 국제 관계의 가장 기본적인 행위 주체이다.
- ㉢ 노벨상 수상자나 전직 국가 원수와 같은 영향력 있는 개인은 국제 사회에서 분쟁을 해결하고 평화를 실현하는 데 중요한 역할을 할 수 있다.
- ㉣ 국제 연합(UN)과 유니세프(UNICEF)는 국가들이 모여 만든 정부 간 국제 기구에 해당한다.
- ㉤ 비정부 기구는 분쟁 지역의 주민들을 위한 인도주의적 활동과 분쟁의 중재, 갈등 예방 활동 등을 수행할 수 있다.

고득점을 위한 핵심 자료

국제 관계에 대한 이상주의의 입장

이상주의의 관점에서는 인간이 이성적 존재이듯 국가도 이성적이고 합리적인 행위자라고 본다. 그리고 국제 분쟁은 인간 본성이 아니라, 상대방에 대한 무지나 오해, 혹은 잘못된 제도에서 비롯된다고 본다. 따라서 분쟁 해결을 위해서는 국가뿐만 아니라 개인, 국제기구, 비정부 기구 등 다양한 주체가 협력해야 하며, 평화는 국가 간의 이성적 대화와 협력, 그리고 여론, 법률, 제도 등을 통해 만들어질 수 있다고 주장한다. 이처럼 이상주의는 국제 관계에서의 평화 실현이 가능하다고 보며, 전쟁은 피할 수 없는 숙명이 아니라 인간의 이성과 제도를 통해 극복할 수 있는 문제라고 판단한다.

감각 있는 풀이 TIP

국제 사회의 행위 주체와 그들의 역할에 대해 정리해 두어야 한다. 또한 이상주의와 비교되는 현실주의의 관점에 대해서도 기본 개념을 숙지해 두어야 한다.

05 칸트의 영구 평화론

출제 예상 포인트 칸트는 갈등과 함께 출제될 가능성이 매우 높은 사상가이다. 칸트가 제시한 영원한 평화를 실현하기 위한 방안과 확정 조항을 숙지해 두어야 한다.

제시문을 주장한 사상가는 칸트이다. 칸트는 평화를 유지할 수 있는 대책으로 모든 국가가 자유로운 국가들 간의 연맹에 참여할 것을 주장하였다. 그는 연맹에 참여한 국가의 국민들은 자유와 평화를 보장받을 수 있고, 평화를 요구하는 시민들에 의해 국가 지도자가 쉽게 전쟁을 일으킬 수 없게 된다고 보았다.

[선지 분석]

- ✕ 모든 국가가 자국의 이익만을 추구한다는 입장은 현실주의의 관점이다.
- ✕ 현실주의는 평화를 위해서는 세력 균형이 필수라고 보지만, 칸트는 법과 제도를 기반으로 한 협력 체계를 통해 영원한 평화를 실현할 수 있다고 보았다.
- ㉡ 칸트는 각국이 공화 정체를 바탕으로 자유로운 국가들의 연맹을 형성해야 한다고 보았다. 이는 개별 국가의 주권을 인정하고 존중하는 것을 전제로 한다.
- ㉢ 칸트는 공화 정체가말로 영원한 평화를 위한 첫 번째 조건이라고 보았다.

그는 공화 정제에서는 전쟁을 결정하기 위해 국민의 동의가 필요하기 때문에 군주의 독단을 억제할 수 있다고 보았다.

고득점을 위한 핵심 자료

칸트의 영원한 평화를 위한 확정 조항

제1항	모든 국가의 시민적 정치 체제는 공화 정제여야 한다.
제2항	국제법은 자유로운 국가들의 연방 체제에 기초해야 한다.
제3항	세계시민법은 보편적 우호의 조건들에 국한되어야 한다.

06 통일의 과정과 필요성

출제 예상 포인트 분단 비용, 통일 비용, 통일 편익 등 통일과 관련된 비용의 개념과 종류, 그리고 필요성을 정확히 이해해야 한다.

신문 칼럼은 한반도 분단으로 인해 분단 비용이 계속 발생하고 있다고 본다. 반면에 통일을 위해서 필요한 통일 비용은 한시적으로 발생할 뿐만 아니라, 통일을 실현하면 경제적 편익을 창출할 수 있고 이산가족 문제를 해결할 수 있으며, 민족 정체성 회복에도 기여할 수 있다고 본다.

[선지 분석]

- ① 신문 칼럼에 따르면, 분단은 군사적 긴장과 막대한 분단 비용을 초래한다.
- ② 신문 칼럼에 따르면, 통일을 통해 북한의 풍부한 노동력과 남한의 자본 및 기술을 결합하여 경제적 편익을 창출할 수 있다.
- ✗ 신문 칼럼에 따르면, 통일은 시대적 책무이자 미래 세대를 위한 과업이며 다양하고 장기적인 통일 편익을 창출한다.
- ④ 신문 칼럼에 따르면, 통일 전후로 통일 비용이 발생할 수 있다.
- ⑤ 신문 칼럼에 따르면, 통일은 이산가족의 아픔을 치유하고 민족 정체성을 회복하는 통일 편익을 제공한다.

07 갈통의 입장에서 한반도 분단 분석

제시문을 주장한 사상가는 갈통이다. 갈통에 따르면, 진정한 평화란 단순히 전쟁이 없는 상태를 넘어서, 구조적·문화적 폭력까지 제거된 상태이며, 평화적인 수단으로 실현되어야 한다.

[선지 분석]

- ✗ 한반도에는 여전히 군사적 긴장과 핵무기의 위협이 도사리고 있기 때문에 직접적 폭력의 위협이 존재한다.
- ✗ 갈통은 평화적인 수단을 통해 평화를 실현해야 한다고 주장하였다.
- ㉠ 갈통은 상호 신뢰 회복을 위한 대화와 같은 평화적인 수단을 통해 평화를 실현해야 한다고 강조하였다.
- ㉡ 갈통은 직접적 폭력이 제거되고 인간의 존엄성과 삶의 질이 보장되어야 진정한 평화가 실현될 수 있다고 보았다.

감각 있는 풀이 TIP

이 문제는 사상가의 입장을 〈문제 상황〉 또는 〈사례〉에 적용하여 사상가의 입장에 부합하는 조건이나 해결 방안을 고르는 유형의 문제이다. 이러한 유형의 문제에 접근할 때는 자신의 주관적 입장이 아니라 철저하게 사상가의 입장에서 접근해야 한다.

08 통일의 필요성

가상 편지에서는 분단으로 인해 남북의 문화와 생활 방식의 차이가 커졌지만, 여전히 같은 역사, 문화, 정서를 공유하고 있으므로 민족의 동질성 회복을 위해 통일이 필요함을 강조한다.

[선지 분석]

- ✗ 가상 편지에서는 통일의 필요성을 군사적·재정적 측면이 아닌 민족의 동질성 회복에서 찾고 있다.
- ✗ 가상 편지에서는 안보적 불안 해소가 아니라 역사와 문화의 공유와 정서적 유대를 강조한다.
- ✗ 가상 편지에서는 국제적 지위보다는 민족 내부의 정체성과 유대에 초점을 맞추고 있다.
- ✗ 가상 편지에서는 통일의 경제적 이익이 아닌 전통과 문화를 이어 가며 민족의 정체성을 회복하는 데 의의를 두고 있다.
- ⑤ 가상 편지에서는 같은 역사, 문화, 정서를 공유한다는 점을 근거로 통일의 필요성을 설명하고 있다.

감각 있는 풀이 TIP

제시문에서 강조하는 내용이 무엇인지 묻는 문항의 경우에는 제시문 전반에서 일관되게 강조하는 논지를 정확히 파악하여 답을 선택해야 하며, 자신의 주관적인 판단을 기준으로 답을 고르기보다는 제시문에서 반복적으로 강조하는 핵심 논지를 근거로 답을 선택해야 한다.

1등급 완성 문제

162~163쪽

- 01 ④ 02 ① 03 ④ 04 ③ 05 ⑤ 06 ⑤
07 ④ 08 ①

01 갈통의 평화 사상

출제 예상 포인트 갈통의 평화론은 출제 가능성이 높기 때문에 명확히 이해해야 하며, 갈통이 제시하는 직접적이고 의도적인 폭력, 간접적이고 비의도적인 폭력을 구분해야 한다.

그림의 강연자는 갈통이다. 갈통은 직접적 폭력, 구조적 폭력, 문화적 폭력 중 어떤 곳에서도 폭력이 시작될 수 있으며 어떤 곳으로든 영향을 주면서 폭력이 재생산될 수 있다고 주장하였다.

[선지 분석]

- ① 갈통은 폭력이 또 다른 폭력으로 이어질 수 있다고 보았으며, 평화를 실현하는 수단이나 과정은 평화적이어야 한다고 강조하였다.
- ② 갈통은 세 가지 폭력이 유기적으로 연결되어 있어 상호 영향을 주면서 재생산된다고 보았다.
- ③ 갈통에 따르면, 문화적 폭력은 직접적 혹은 구조적 폭력을 정당화하는 특징이 있다. 따라서 권위주의 문화는 차별이나 억압과 같은 구조적 폭력을 정당화할 수 있다.
- ✗ 갈통에 따르면, 구조적 폭력은 가해자의 의도 여부와 무관하게 발생할 수 있다.
- ⑤ 갈통에 따르면, 소극적 평화는 직접적 폭력, 즉 테러나 범죄와 같은 물리적 폭력이 없는 상태를 의미한다.

고득점을 위한 핵심 개념

갈통이 주장한 폭력의 종류

직접적 폭력	폭력의 결과를 의도한 행위자나 주체가 있고, 테러, 폭행 등 신체에 직접 해를 가하는 폭력
구조적 폭력	억압이나 착취와 같이 부정의한 사회 제도나 구조를 통해 이루어지는 폭력
문화적 폭력	문화적 영역, 즉 종교, 사상, 언어, 예술, 교육 등을 통해 직접적 폭력이나 구조적 폭력을 정당화하는 폭력

02 칸트의 평화 사상

칸트는 영원한 평화를 위한 세 가지 확정 조항을 제시하며 무정부 상태인 국제 사회에서 국가들이 규범과 제도를 통해 평화를 구축할 수 있다고 보았다.

[선지 분석]

- ㉠ 칸트는 예비 조항에서 상비군의 존재가 전쟁을 유발할 수 있다고 보고, 상비군의 폐지를 통해 평화를 실현해야 한다고 주장하였다.
- ㉡ 칸트는 진정한 평화 조약이란 단순한 정전이 아니라 전쟁의 원인을 제거하고 분쟁을 예방하는 제도적 수단이어야 한다고 보았다.
- ㉢ 칸트는 단일한 세계 정부가 아니라 자유로운 공화국들이 국제법에 따라 상호 관계를 맺는 평화 연맹을 통해 평화를 유지해야 한다고 보았다.
- ㉣ 칸트는 공화 정체가 영원한 평화를 위한 중요한 조건 중 하나임을 강조하였지만, 공화 정체만으로는 평화가 실현되지 않는다고 보았다. 그는 영원한 평화를 위한 조건으로 공화 정체뿐만 아니라 평화 연맹, 세계시민법과 같은 다양한 조건을 제시하였다.

고득점을 위한 핵심 자료

칸트의 영구 평화를 위한 예비 조항과 확정 조항

예비 조항	<ol style="list-style-type: none"> 1. 전쟁의 화근을 남겨둔 채로 맺은 평화 조약은 평화 조약이 아니다. 2. 독립 국가는 다른 국가의 소유가 되어서는 안 된다. 3. 상비군을 갖추고 있다는 것만으로도 다른 나라에 대한 위협이 될 수 있으므로 상비군은 조속히 폐지해야 한다. 4. 국가는 대외적 분쟁을 위한 국채를 발행해서는 안 된다. 5. 어떤 국가도 다른 나라의 통치에 무력으로 간섭해서는 안 된다. 6. 만약 전쟁을 하고 있더라도 최소한의 신뢰는 지켜져야 한다. 따라서 상호 신뢰를 깨는 행위(암살, 간첩 행위 등)를 해서는 안 된다.
확정 조항	<ol style="list-style-type: none"> 1. 모든 국가의 시민적 정치 체제는 공화 정체여야 한다. 2. 국제법은 자유로운 국가들의 연맹 체제에 기초해야 한다. 3. 세계시민법은 보편적 우호의 조건들에 국한되어야 한다.

03 칸트의 입장에서 다문화 현상 이해

칸트의 영원한 평화를 위한 확정 조항 제3항은 '세계시민법은 보편적 우호의 조건들에 국한되어야 한다.'이다. 이 조항은 '환대권'에 관한 것으로, 환대권이란 외국인이 타국의 영토에 도착하였을 때 평화적으로 행동하는 한 적대적으로 취급받지 않을 권리를 의미한다.

[선지 분석]

- ㉠ 칸트는 환대권의 근거가 인간의 도덕성과 이성에 기초한 자연적 권리라고 보았다. 이러한 권리는 국가가 법률로서 부여하는 법적 권리와는 다르다.
- ㉡ 칸트가 주장한 환대권은 무조건적 환영을 의미하지 않으며, 외국인이 적대적으로 행동하지 않는 한 보장되는 조건부적인 권리이다. 따라서 외국인에 대한 환대는 본토 주민들의 무조건적 의무가 아니다.
- ㉢ 칸트는 환대권을 통해 외국인이 타국을 방문할 권리는 인정하지만, 이는 어디까지나 평화적인 방문에 대한 권리일 뿐이라고 보았다. 환대권은 외국인이 적대적으로 취급받지 않을 권리를 의미하며, 영구적인 체류나 정착을 보장하는 체류권은 포함되지 않는다.
- ㉣ 칸트가 주장한 환대권은 타국에 방문한 외국인이 적대적 대우를 받지 않을 권리이다. 이는 정당한 사유 없이 외국인을 거부하거나 폭력적으로 대하는 것은 부당하다는 것을 의미한다.
- ㉤ 칸트는 외국인의 정착 자체를 원천적으로 금지해야 한다고 보지 않았다. 외국인을 사회 통합의 위협으로 단정하고 배제하는 태도는 환대권의 취지와 인간 존엄성의 원칙에 어긋난다.

고득점을 위한 핵심 자료

칸트의 환대권

환대권이란 외국인이 타국의 영토에 도달하였을 때, 적대적으로 대우받지 않을 권리를 말한다. 이는 평화적으로 행동하는 외국인을 정당한 이유 없이 적대적으로 취급하거나 배척하지 않아야 한다는 것을 의미한다. 칸트는 이러한 환대권의 근거로 지구가 인간 모두의 공동 소유물이라는 점을 들며 인간은 누구나 어디에서든 타인과 공존할 권리가 있다고 주장하였다. 국경을 넘는 사람에 대해 최소한의 존중과 비폭력적 태도를 유지하는 것이 세계 평화를 위한 기본적인 조건이라는 것이다.

04 통일과 관련된 토론의 핵심 쟁점 파악

같은 통일이 가져올 재정 부담과 사회적 혼란, 경제 침체 가능성 등을 근거로 통일에 대해 부정적인 입장이다. 반면에 이른 통일이 가져올 장기적인 편익이 통일 비용보다 더 크다는 점을 근거로 통일에 대해 긍정적인 입장이다.

[선지 분석]

- ㉠ 같은 제도와 의식 차이에 따른 혼란, 문화적 이질화 등 사회적 갈등이 발생할 가능성을 강조하고 있으며, 속도 단기적인 혼란이 있을 수 있다는 점을 인정한다. 따라서 토론의 핵심 쟁점이 될 수 없다.
- ㉡ 같은 막대한 재정 부담, 복지 수요 증가, 경제 침체 등을 언급하며 통일로 인해 발생하는 경제적인 부담을 주장하고 있으며, 속도 '단기적 비용 발생', '단기적 준비로 충격 최소화'라는 표현에서 경제적 비용 발생 가능성을 인정한다. 따라서 토론의 핵심 쟁점이 될 수 없다.
- ㉢ 같은 경제 침체, 경쟁력 약화 등을 근거로 통일의 편익보다 통일 비용이 크다는 입장이다. 반면 이른 통일을 위한 비용을 뛰어넘는 편익이 영구적으로 발생할 것임을 언급하며 통일 편익이 더 크다고 주장하고 있다. 따라서 토론의 핵심 쟁점에 해당한다.
- ㉣ 같은 속도를 모두 통일을 위한 주변국과의 외교적 노력에 대해서는 언급하지 않았다.
- ㉤ 같은 독일도 통일 후 세금 인상과 갈등을 겪었으며 독일의 통일이 주는 교훈을 잊지 말아야 한다고 주장하고 있다. 그리고 속도 이에 동의하고 있으므로 토론의 핵심 쟁점이 될 수 없다.

감각 있는 풀이 TIP

토론의 핵심 쟁점을 묻는 문제는 논리의 흐름을 꼼꼼히 파악하는 것이 중요하다. 또한 자신의 주관적인 생각으로 답을 선택하기보다는 제시문에 근거하여 갑과 을의 입장이 엇갈리는 쟁점이 무엇인지를 찾아야 한다.

05 중국의 동북공정

중국의 동북공정은 대표적인 동아시아 역사 갈등의 사례이다. 중국은 자국 내 소수 민족의 분리 독립을 막기 위한 목적으로 고조선, 부여, 고구려, 발해의 역사가 고대 중국의 지방사(史)의 일부라는 왜곡된 주장을 펼치고 있다.

[선지 분석]

- ㉠ 중국의 동북공정은 일본과 관계가 없다.
- ㉡ 중국의 동북공정은 한국과 중국의 역사 갈등과 관련이 있다.
- ㉢ 중국은 동북공정을 통해 고조선, 부여, 고구려, 발해의 역사를 고대 중국의 지방사(史)라고 주장하며 이 지역을 중국의 고유 영토에 포함시켰다.
- ㉣ 중국이 동북공정을 추진한 데에는 영토 내에 있는 소수 민족의 분리 독립을 막고 국경 지역을 안정화하기 위한 목적이 담겨 있다.

06 갈등의 평화 사상

제시문을 주장한 사상가는 갈등이다. 갈등에 따르면, 문화적 폭력은 다른 폭력을 정당화하고 은폐하며, 진정한 평화는 직접적·구조적·문화적 폭력이 모두 사라질 때 실현될 수 있다.

[선지 분석]

갈등에 따르면, 폭력은 인간의 생존, 복지, 자유, 정체성 등의 기본적 욕구를 충족시키지 못하게 만드는 상태이다(갑, 정, 무). 그가 제시한 직접적 폭력과 구조적 폭력, 문화적 폭력은 모두 제거할 수 있으며(갑, 무), 서로 유기적으로 연결되어 있어 상호 영향을 끼친다(갑, 을, 무). 그리고 그는 직접적 폭력과 구조적 폭력, 그리고 구조적 폭력을 정당화하는 문화적 폭력까지 모두 제거해야 진정한 평화를 실현할 수 있다고 보았다(병, 정, 무). 따라서 '무'가 모두 옳은 곳에 'V'를 표시하였다.

07 분단 비용과 통일 비용

(가)는 분단 비용, (나)는 통일 비용이다. 분단 비용은 분단으로 인해 남북한이 부담하는 모든 유·무형의 비용을 말한다. 반면에 통일 비용은 통일 과정 및 통일 이후에 한시적으로 발생하는 비용이자 투자적인 성격의 비용으로 다양한 통일 편익으로 이어질 수 있다.

[선지 분석]

- ㉠ 분단 비용은 분단으로 인해 지출되는 비용으로, 군사비는 물론 전쟁 가능성에 대한 공포나 이산가족의 고통 등을 포함한다.
- ㉡ 분단 비용은 분단이 지속되는 동안 영구적으로 발생하는 소모적 성격의 비용이다.
- ㉢ 통일 전후에 소요되는 통일 비용은 단기적으로는 부담이 될 수도 있지만, 장기적으로는 민족의 번영과 평화 실현을 위한 투자적 성격의 비용이다.
- ㉣ 통일 비용은 통일 전후에 체제 통합과 위기관리를 위한 일시적이고 투자적 성격의 비용이며 다양한 통일 편익으로 이어질 수 있다.
- ㉤ 분단 비용 중 이산가족의 고통은 무형의 비용이며, 군사비는 유형의 비용에 해당한다. 통일 비용 중 통일 이후에 발생할 수 있는 남북한 출신 주민 간의 문화적 갈등은 무형의 비용이며, 생산 기반 구축 비용 등은 유형의 비용에 해당한다.

고득점을 위한 핵심 개념

통일 관련 비용

분단 비용	분단 시기 동안 계속 지출해야 하는 소모성의 기회비용
통일 비용	남북한의 체제와 제도, 생활 수준을 통합하는 과정에서 발생하는 비용
통일 편익	통일로 인해 남북한이 얻게 되는 이익으로, 통일 이후 지속적으로 발생

08 통일에 대한 다양한 입장

(가)는 성급한 통일이 가져올 경제적 부담과 불안정을 우려하며, 평화적 공존을 강조하는 입장이다. 반면 (나)는 통일이 가져올 분단 비용 절감, 경제 발전, 인권 보호와 평화 실현 등을 강조하며 통일의 필요성을 강조하는 입장이다.

[선지 분석]

(가)의 입장에 비해 (나)의 입장은 한반도 통일에 따른 긍정적인 변화에 초점을 두고 있다. 즉 '통일이 경제적 부담으로 이어질 수 있음을 강조하는 정도(X)'는 낮고(㉠, ㉡, ㉢), '한반도의 발전을 위해 통일이 필요함을 강조하는 정도(Y)'는 높다(㉣, ㉤, ㉥, ㉦). 또한 '통일이 인간 존엄성 실현에 기여할 수 있음을 강조하는 정도(Z)'는 높다(㉠, ㉣, ㉤). 따라서 모든 조건을 만족하는 것은 ㉠이다.

19

세계의 인구와 인구 문제

기출 등형 문제

167쪽

01-㉠ ③

01-㉡ ④

02-㉠ ①

02-㉡ ③

01-㉠ 네 국가의 인구 특성

지도에 표시된 국가는 핀란드, 파키스탄, 타이, 대한민국으로, 노년층 인구 비율, 유소년층 인구 비율, 총인구, 1인당 국내 총생산을 통해 파악할 수 있다. (가)는 노년층 인구 비율이 높고 1인당 국내 총생산이 3만 달러 이상인 핀란드이다. (나)는 노년층 인구 비율과 유소년층 인구 비율이 비슷하며 1인당 국내 총생산이 5천~3만 달러 사이이므로 개발 도상국인 타이이다. (다)는 유소년층 인구 비율이 매우 높고 세 국가 중 인구 규모가 가장 크고, 1인당 국내 총생산이 5천 달러 미만인 파키스탄이다.

[선지 분석]

- ㉠ 노년층 비율이 높은 핀란드는 타이보다 중위 연령이 높다.
- ㉡ 타이는 파키스탄보다 유소년층 인구 비율이 낮고 청장년층 인구 비율이 높으므로 유소년 부양비가 낮다.
- ㉢ 유소년층 인구 비율이 높은 파키스탄은 핀란드보다 합계 출산율이 높다.
- ㉣ 파키스탄의 생산 가능 인구 비율은 60% 정도이며, 대한민국은 70% 정도이므로 대한민국의 생산 가능 인구 비율이 높다.
- ㉤ 핀란드는 유럽, 타이는 아시아에 위치한다.

고득점을 위한 핵심 개념

인구 특성을 알려 주는 인구 지표

중위 연령	전체 인구를 연령순으로 나열할 때 중앙에 있는 사람의 연령
노령화 지수	$\left(\frac{\text{노년층 인구}}{\text{유소년층 인구}} \right) \times 100$
총부양비	$\left(\frac{\text{유소년층 인구} + \text{노년층 인구}}{\text{생산 가능 인구(청장년층 인구)}} \right) \times 100$
유소년 부양비	$\left(\frac{\text{유소년층 인구}}{\text{청장년층 인구}} \right) \times 100$
노년 부양비	$\left(\frac{\text{노년층 인구}}{\text{청장년층 인구}} \right) \times 100$
성비	여성 100명당 남성의 수

감각 있는 풀이 TIP

지도에 제시된 국가의 이름을 나열한 뒤, 이를 선진국과 개발 도상국으로 분류한다. 이후 문항에 제시된 지표의 값이 가장 크거나 작은 국가를 파악하면, 나머지 국가들도 쉽게 구분할 수 있다.

01-㉡ 세 국가의 인구 특성

출제 예상 포인트 일본은 노년층 인구 비율이 세계적으로 높아서 선진국의 인구 구조를 학습할 때 많이 제시되는 국가이다. 통합 사회 4종 교과서에서 공통적으로 설명하는 자료이므로 출제 가능성이 높다. 중국은 산아 제한 정책으로 유소년층 비율이 감소한 국가이며, 국가별 인구 특성을 비교할 때 자주 등장하니 확실히 알아 두어야 한다.

지도에 표시된 국가는 중국, 필리핀, 일본으로, 표의 청장년층 인구 비율, 노령화 지수, 국내 총생산을 통해 파악할 수 있다. (가)는 노령화 지수가 100 미만으로 노년층보다 유소년층 비율이 높고, 국내 총생산이 세 국가 중 가장 높으므로 중국이다. (나)는 노령화 지수가 매우 낮으므로 노년층 인구 대비 유소년층 인구가 많으며, 국내 총생산이 가장 적은 필리핀이다. (다)는 세 국가 중 청장년층 인구 비율이 가장 적고, 노령화 지수가 100 이상으로 유소년층 인구보다 노년층 인구가 많은 일본이다.

고득점을 위한 핵심 자료

국내 총생산과 1인당 국내 총생산

국내 총생산	<ul style="list-style-type: none"> 국내 총생산은 한 국가의 영역 내에서 일정 기간 동안 생산한 재화 및 서비스의 부가 가치를 합산한 것 세계 1위는 미국(약 28조 달러, 2024), 2위는 중국(약 18조 달러)이며, 독일, 일본, 인도 등이 3~4조 달러 규모로 그 뒤를 이음.
1인당 국내 총생산	<ul style="list-style-type: none"> 국내 총생산을 해당 국가의 인구수로 나눈 것 경제가 발달하고 인구수가 적은 국가일수록 높게 나타남. 룩셈부르크, 싱가포르, 카타르, 스위스, 미국 등이 1인당 국내 총생산 순위가 높음.

02-① 수도권 두 지역의 인구 문제

출제 예상 포인트 우리나라의 인구 문제인 저출산·고령화는 통합사회에서 중요한 개념이다. 특히 고령화 문제는 촌락 지역에서 심화하고 있으므로, 문항에서 우리나라 촌락 지역의 인구 특징을 다룬 자료가 사용될 가능성이 높다. 따라서 우리나라의 촌락 지역 분포 특징을 알아 두어야 한다.

지도에 제시된 두 지역은 연천과 화성이다. ㉠은 수도권이지만 접경 지역에 위치해 개발이 제한적이고 인구도 점차 감소하고 있는 연천이고, ㉡은 2기 신도시가 위치하여 인구가 빠르게 증가하고 있는 화성이다.

[선지 분석]

- ㉠ 노년층 인구 비율이 높은 연천은 유소년층 인구 비율이 높은 화성보다 중위 연령이 높다.
- ㉡ 화성은 연천보다 노령화 지수가 낮다.
- ✕ 유소년층 인구 비율이 높은 화성은 연천보다 유소년 부양비가 높다.
- ✕ ㉠은 연천, ㉡은 화성이다.

감각 있는 풀이 Tip

우리나라의 촌락은 주로 호남, 영남, 강원 지역에 분포하고, 수도권 내에서는 경기도의 외곽으로 갈수록 촌락의 특징이 나타난다. 백지도에 지역이 표시된 경우, 촌락의 분포 특징을 통해 지역의 특성을 파악하는 데 도움이 된다.

02-② 세 지역의 인구 특성

출제 예상 포인트 통합사회의 주요 학습 개념인 국제 인구 이동과 관련해 우리나라에서는 공업의 성장으로 유입된 외국인 노동자로 인해 외국인 주민 수가 많은 안산, 화성, 시흥 등이 대표적인 사례로 대학수학능력시험에 출제될 수 있다. 우리나라의 인구 문제인 저출산·고령화와 함께 국제 인구 이동의 경제적 이동과 관련된 사례로 함께 출제될 수 있으니 관련 개념을 알아 두어야 한다.

지도에 제시된 세 지역은 각각 공업이 발달하여 외국인 거주 인구가 많은 안산, 정부 기관 이전으로 형성된 계획도시로 청년층의 유입이 많아 유소년층 인구 비율이 높은 세종, 청년층의 인구 유출로 인해 노년층 인구 비율이 높은 봉화이다. 유소년층 인구 비율 그래프에서는 (가)가 가장 높으며, 노년층 인구 비율은 (다)가 가장 높고, 외국인 주민 비율은 (나)가 가장 높다. 따라서 (가)는 세종, (나)는 안산, (다)는 봉화이다.

수능 기본 문제

168~171쪽

01 ④	02 ③	03 ②	04 ②	05 ②	06 ⑤
07 ①	08 ⑤	09 ⑤	10 ⑤	11 ③	12 ⑤
13 ③	14 ④	15 ④	16 ⑤		

01 세계의 인구 분포

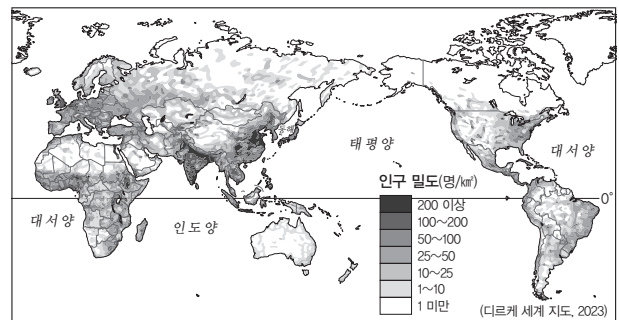
세계의 인구 분포는 자연환경과 인문환경의 영향을 받으며, 인구가 밀집한 곳과 희박한 곳이 나뉘게 된다. 위도별, 대륙별로도 인구 밀집의 정도는 다르게 나타난다.

[선지 분석]

- ① 산업 혁명 이전에는 자연환경이 인문환경보다 인구 분포에 더 큰 영향을 미쳤다.
- ② 인구 분포에 영향을 주는 자연환경의 예로는 기후, 지형 등이 있고, 인문환경의 예로는 교통, 산업 등이 있다.
- ③ 인구가 희박한 지역은 고산 지대와 사막과 같은 척박한 곳, 고위도와 같이 기후가 인간 거주에 적합하지 않은 곳 등이 있다.
- ✕ 남반구보다 북반구에 거주하는 인구가 더 많다.
- ⑤ 대륙별 인구는 중국과 인도가 포함된 아시아가 가장 많다.

고득점을 위한 핵심 자료

세계의 인구 분포



세계의 인구 분포는 자연환경과 인문환경의 영향을 받아 지표상에 불균등하게 나타난다. 북반구와 남반구 중에서는 북반구에 세계 인구의 약 90%가 거주하고 있다. 인구가 밀집되어 있는 대표적인 지역은 살기에 유리한 기후인 온대 기후 지역, 산업이 발달한 유럽, 동아시아 계절풍 지역, 미국 동부 등이 대표적이다. 아시아의 계절풍 지역은 대표적인 인구 밀집 지역으로, 인도, 방글라데시, 중국, 인도네시아 등이 있다. 이 지역에서는 단위 면적당 생산량이 많고 인구 부양력이 높은 벼농사가 활발하며, 풍부한 노동력을 바탕으로 산업도 발달하였다. 반면, 사하라 사막이나 오스트레일리아의 대부분을 차지하는 건조 기후 지대, 브라질 등에 넓게 분포하는 아마존 열대 우림, 러시아와 캐나다 등 고위도의 추운 기후가 나타나는 지역은 인구가 희박하다.

02 선진국과 개발 도상국의 인구 구조

출제 예상 포인트 니제르와 일본은 통합사회 5종 교과서에서 공통적으로 설명하고 있는 자료이므로 출제될 가능성이 높다. 수능 예시 문항과 전국연합학력평가에서도 자주 다루는 지역이므로 두 국가의 위치와 연령별 인구 특성을 알아 두어야 한다.

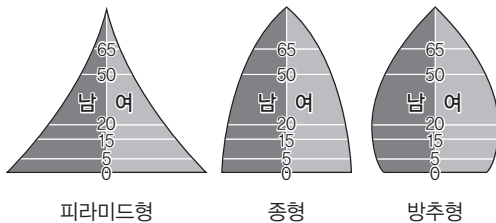
유소년층 비율이 높고 노년층 비율이 낮아 피라미드형 인구 피라미드를 보이는 (가)는 개발 도상국인 니제르이다. 유소년층 비율이 낮고 노년층 비율이 높아 방추형 인구 피라미드를 보이는 (나)는 선진국인 일본이다.

[선지 분석]

- ✖ 니제르는 아프리카에 위치한다.
- ✖ 유소년층이 많은 니제르는 노년층이 많은 일본보다 중위 연령이 낮다.
- ③ 함께 출산율이 높아 유소년층이 많은 니제르는 일본보다 인구의 자연 증가율이 높다.
- ✖ 노년층이 많고 유소년층이 적은 일본은 니제르보다 노령화 지수가 높다.
- ✖ 선진국인 일본은 개발 도상국인 니제르보다 1인당 국내 총생산이 높다.

고득점을 위한 핵심 자료

인구 피라미드



인구 피라미드란 인구의 성별, 연령별 분포를 피라미드 모양으로 나타낸 그래프이다. 가로축은 남녀 인구수나 비율, 세로축은 연령 분포를 나타낸다. 형태에 따라 피라미드형, 종형, 방추형 등으로 불린다. 피라미드형은 유소년층 인구가 많고 합계 출산율이 높은 개발 도상국에서 전형적으로 나타난다. 반면, 종형과 방추형은 합계 출산율과 사망률이 낮은 선진국에서 주로 나타나지만, 중국, 타이, 브라질과 같은 일부 개발 도상국에서도 볼 수 있다.

03 독일, 베트남, 차드의 인구 구조

출제 예상 포인트 선진국이 많은 유럽, 개발 도상국이 많은 아프리카, 공업이 성장하는 개발 도상국이 많은 아시아는 서로 다른 인구 특성을 비교하기에 좋아서 지역(대륙)별 한 국가씩 선정하여 비교하는 경우가 많다. 독일, 차드의 경우에도 자주 묻는 지역이므로 연령대별 인구 특성을 알아 두어야 한다.

지도에 표시된 세 국가는 독일, 베트남, 차드이다. 유소년층 비율이 절반 가까이로 높고 노년층 비율이 적은 (가)는 개발 도상국인 차드이다. 노년층 비율이 가장 높고 유소년층 비율이 노년층보다 적은 (다)는 선진국인 독일이다. 유소년층 비율이 노년층보다 높고 청장년층 비율이 두 국가에 비해 상대적으로 높은 (나)는 공업이 성장하는 개발 도상국인 베트남이다.

[선지 분석]

- ㉠ 총부양비는 청장년층의 비율이 낮을수록 높게 나타난다. 따라서 차드는 베트남보다 총부양비가 높다.

- ✖ 노령화 지수는 유소년층의 비율이 낮고 노년층의 비율이 높을수록 높게 나타난다. 따라서 베트남은 독일보다 노령화 지수가 낮다.
- ㉡ 선진국인 독일은 개발 도상국인 차드보다 평균 소득 수준이 높다.
- ✖ 차드는 아프리카, 베트남은 아시아, 독일은 유럽에 위치한다.

감각 있는 풀이 TIP

유럽에 표시된 국가, 아프리카에 표시된 국가와 함께 베트남과 같은 유소년층 인구 비율이 높은 개발 도상국을 제시하여 비교하는 경우가 많다. 유럽은 선진국, 아프리카는 개발 도상국을 대표하므로 표시된 국가가 어느 대륙에 위치하는가를 보고 인구 특성을 유추할 수 있다.

04 선진국과 개발 도상국의 인구 특성

출제 예상 포인트 선진국과 개발 도상국의 인구 특성을 비교할 때 대표적으로 제시되는 자료가 연령별 인구 비율이다. 주요 인구 지표의 상대적 특성이 선지에 등장하므로 중위 연령, 부양비, 노령화 지수 등 주요 지표의 개념과 특성을 반드시 알아 두도록 한다.

유소년층 비율이 높고 노년층 비율이 낮은 (가)는 개발 도상국인 캄보디아이며, 유소년층 비율이 낮고 노년층 비율이 높은 (나)는 선진국인 이탈리아이다. 선진국인 이탈리아는 개발 도상국인 캄보디아에 비해 노년 부양비가 높고(A, B, D), 중위 연령이 높으며(A, B, C), 1인당 국내 총생산이 많다(B, C). 따라서 모든 조건을 만족하는 것은 B이다.

감각 있는 풀이 TIP

유소년 부양비나 노년 부양비를 계산하는 공식에서 청장년층 인구(인구 비율)가 분모에 들어가므로, 청장년층 인구(인구 비율)가 비슷한 경우에는 유소년층 인구(인구 비율)와 노년층 인구(인구 비율)의 크기만 비교하면 된다.

05 중국의 인구 특성

출제 예상 포인트 자료에 제시된 중국은 인구, 문화, 경제, 자원 등 여러 분야에서 사례 지역으로 학습하게 되는 국가이므로 주요 특징을 종합적으로 파악하고 있으면 문제 풀이에 도움이 된다.

자료에 제시된 국가는 수도가 베이징인 중국이다. 빠른 경제 성장으로 국내 총생산 규모가 미국에 이어 세계 2위이다. 2023년 세계 인구 1위를 인도에게 내주었지만 여전히 세계 2위의 인구 대국이며, 한자를 사용하고 유교 사상이 발달한 동아시아 문화권에 속해 있다. 산아 제한 정책의 영향으로 유소년층 인구 비율이 꾸준히 감소하였으며 노년층 인구 비율은 증가하였다.

[선지 분석]

- ✖ 중국은 동아시아 문화권에 속한다.
- ㉡ 1950년 약 35%에서 40%까지 높아졌다가 산아 제한 정책 등의 영향으로 1970년 이후 점차 감소하는 (가)는 유소년층 인구 비율이며, 꾸준히 증가하는 (나)는 노년층 인구 비율이다.
- ✖ 1970년 이후 유소년층 인구 비율이 꾸준히 줄어들고 있으므로, 합계 출산율은 꾸준히 증가하지 않았다.
- ✖ 1960년보다 2020년에 유소년층 인구 비율은 감소하고 노년층 인구 비율은 증가하였으므로, 노령화 지수는 증가하였다.
- ✖ 1960년의 청장년층 인구 비율은 55% 정도이며 2020년은 70% 정도이므로, 총부양비는 1960년이 2020년보다 더 높다.

고득점을 위한 핵심 자료

중국의 다양한 지리적 특징

인구	<ul style="list-style-type: none"> • 약 14억 명(2024년)으로 세계적인 인구 대국임. • 산아 제한 정책의 영향으로 유소년층 인구 비율이 감소하고, 노년층 인구 비율이 증가함.
문화	<ul style="list-style-type: none"> • 동아시아 문화권에 속하여 한자를 사용함. • 쌀을 주식으로 하는 식문화가 발달함. • 돼지 사육 두수가 세계에서 가장 많음.
경제	<ul style="list-style-type: none"> • 국내 총생산이 세계 2위임.(1위는 미국) • 1인당 국내 총생산은 인구수가 많아 우리나라보다 낮음.
자원	<ul style="list-style-type: none"> • 석탄 생산량 세계 1위(52%, 2024년) • 국가 내 1차 에너지원 중 석탄 소비 비율이 가장 높음(56%, 2024년) • 세계 석탄 수입량 1위(33%, 2024년)

06 나이지리아, 인도네시아, 미국의 인구 특성

지도에 표시된 세 국가는 총인구가 2억 명이 넘는 국가들이다. (가)는 총인구가 3억 명 이상이며, 노년층 비율이 상대적으로 높으므로 선진국인 미국이다. (다)는 총인구가 2억 2천만 명 정도이며, 세 국가 중 유소년층 인구 비율이 가장 높은 나이지리아이다. (나)는 총인구가 2억 5천만 명 이상이며, 유소년층 비율이 노년층 비율보다 높은 개발 도상국 인도네시아이다.

[선지 분석]

- ☒ 미국은 앵글로아메리카에 위치한다.
- ☒ 미국은 나이지리아보다 청장년층의 인구 비율이 높고, 유소년층 인구 비율이 낮으므로 유소년 부양비가 낮다.
- ☒ 인도네시아는 유소년층 인구 비율이 높은 나이지리아보다 합계 출산율이 낮다.
- ☒ 인구가 빠르게 증가하고 있는 나이지리아는 개발 도상국으로 선진국인 미국보다 1인당 국내 총생산이 적다.
- ⑤ 세 국가 중 청장년층 인구 비율이 가장 낮은 나이지리아의 총부양비가 가장 높다.

감각 있는 풀이 TIP

지도에 국가를 표시하고 연령별 인구 자료를 제시하는 유형은 인구 문항에서 가장 기본적인 형태이다. 주로 선진국과 개발 도상국을 비교하는 경우가 많고, 유소년층과 노년층의 인구 비율을 비교해서 물어보기 때문에 두 연령층의 특징을 우선적으로 파악하는 것이 좋다. 그래프에서 연령별 인구수, 연령별 인구 비율을 제시할 수 있으므로 그래프의 축이 무엇을 의미하는지 우선적으로 파악해야 한다.

07 인구 이동의 유형

출제 예상 포인트 인구 이동 유형은 국제적 인구 이동에서 답지로 물어볼 수 있는 개념이다. 주로 일자리 때문에 이동하는 경우가 많은 경제적 이동과 난민 등의 정치적 이동이 대부분의 사례로 등장하므로 해당 개념과 주요 국가의 위치를 정확히 알아 두어야 한다.

인구 이동은 취업 등의 기회를 찾아 주로 개발 도상국에서 선진국이나 상대적으로 발달한 개발 도상국으로 이동하는 경제적 이동, 국가 간의 전쟁이나 분쟁 등으로 이동하는 정치적 이동, 환경 문제 등으로 거주 조건이 나빠져 이동하는 환경적 이동으로 나뉜다. 따라서 ㉠은 경제적 이동, ㉡은 정치적 이동, ㉢은 환경적 이동이다.

고득점을 위한 핵심 자료

이동 동기에 따른 인구 이동 유형과 사례

자발적 이동	<ul style="list-style-type: none"> • 더 나은 환경을 찾아 스스로 이동하는 경우 예) 일자리를 찾아 미국으로 이동하는 멕시코인, 일자리를 찾아 사우디아라비아로 이동하는 인도인
비자발적 이동 (강제적 이동)	<ul style="list-style-type: none"> • 전쟁이나 정치적 억압을 피해 이동하는 경우 예) 내전을 피해 인근 지역으로 이동하는 시리아 난민

08 경제적 이동과 정치적 이동

출제 예상 포인트 이동 원인에 따른 인구 이동 유선도는 통합사회 5종 교과서에서 공통적으로 설명하는 자료이므로 출제 가능성이 높다. 해당 개념과 유선도별 출발 지역과 도착 지역의 특징을 정확히 알아 두어야 한다.

지도는 두 유형의 인구 이동을 유선도로 나타내고 있다. (가)는 아프리카, 동남아시아, 남부 아시아, 라틴 아메리카 등 개발 도상국이 많은 지역에서 유럽, 동아시아, 앵글로아메리카 등 경제가 발달한 지역 및 서남아시아와 같이 건설 수요가 많은 지역으로 이동이 활발히 나타나고 있으므로 (가)는 경제적 이동이다. (나)는 시리아 등이 있는 서남아시아, 아프리카 중남부, 미얀마, 우크라이나 등에서 인근 지역으로 짧은 이동 양상이 나타나고 있다. 전쟁이나 분쟁에 의해 인근 지역으로 이동하는 것으로 (나)는 정치적 이동이다.

[선지 분석]

- ☒ (가)는 주로 고용 기회를 찾아 이동하는 경제적 이동이다.
- ☒ (나)는 주로 전쟁이나 분쟁을 피해 이동하는 정치적 이동이다.
- ㉠ (가)는 경제적 이동, (나)는 정치적 이동에 해당한다.
- ㉢ 경제적 이동은 이동 동기로 구분할 때 자발적 이동으로 구분되며, 정치적 이동은 비자발적 이동으로 구분된다.

감각 있는 풀이 TIP

유선도에서 화살표의 도착 지점이 유럽, 미국, 동아시아 등으로 향하면 경제적 기회를 찾아 이동한 경제적 이동인 경우가 많다. 반면 정치적 이동은 내전 등이 발생한 지역에서 인근 지역으로 짧은 경로로 이동하는 경우가 많다. 아프리카 중남부, 우크라이나, 서남아시아에서 정치적인 이동이 많다.

09 지역(대륙)별 인구 이동

출제 예상 포인트 지역(대륙) 또는 국가의 인구 순 이동 자료는 통합사회 8종 교과서에서 공통적으로 설명하는 자료이므로 대학수학능력시험에 출제될 가능성이 높고, 전국연합학력평가에서도 자주 등장하는 자료이다.

지역(대륙)별 인구 순 이동은 선진국이 많은 유럽, 앵글로아메리카, 오세아니아에서 순 유입, 개발 도상국이 많은 아프리카, 아시아, 라틴 아메리카에서 순 유출로 나타난다. 순 유출 규모가 가장 큰 (나)는 인구 규모가 가장 많은 아시아이므로, (가)는 아프리카이다. 순 유입이 가장 큰 (다)는 국내 총생산 1위 국가인 미국이 있는 앵글로아메리카이므로, (라)는 유럽이다.

감각 있는 풀이 TIP

지역(대륙)별 인구 이동에서 인구 규모가 큰 아시아는 인구 이동 규모도 가장 크다. 대체로 개발 도상국이 많은 지역(대륙)에서 순 유출이 많은 편이며, 아시아는 아프리카보다 인구 유출 규모가 크다는 점을 알아 두어야 한다.

10 인구 변천 모형

출제 예상 포인트 그래프는 출생률과 사망률의 변화에 따라 인구 성장을 단계별로 구분한 인구 변천 모형으로 경제 발전 과정에 특정 인구 집단의 변화를 보여 준다. 단계별 특징이 선진국과 개발 도상국의 인구 특징을 구분하는 자료 또는 선지로 사용되는 경우가 많으므로 개념을 확실하게 알아 두어야 한다.

인구 변천 모형은 국가의 경제적 발달 과정에 따라 출생률과 사망률의 변화를 통해 인구 변천 과정을 설명하는 모형이다. 경제 성장 초기인 (가) 단계는 출생률과 사망률이 모두 높으며, (나) 단계는 산업화가 시작되고 의학 기술의 보급, 영양 상태 개선 등에 의해 사망률이 먼저 감소한다. (다) 단계는 여성의 교육 수준 향상과 사회 진출 증가, 결혼에 대한 인식 변화 등으로 출생률이 감소한다. (라) 단계는 경제가 많이 성장한 선진국에 주로 해당하며 출생률과 사망률이 모두 낮다. (마) 단계는 일부 선진국에서 출생률이 사망률보다 낮아져 인구의 절대 감소가 나타난다.

[선지 분석]

- ① 출생률과 사망률이 높은 (가) 단계에서는 유소년층 인구 비율이 높고 노년층 인구 비율이 낮은 피라미드형 인구 구조가 나타난다.
- ② 출생률이 사망률보다 낮아지는 (마) 단계에서는 인구의 절대 감소가 나타나기도 한다.
- ③ 출생률과 사망률이 모두 높은 (가) 단계는 출생률이 높고 사망률이 낮아지는 (나) 단계보다 인구 증가율이 낮다.
- ④ 여성의 교육 수준 확대에 따라 사회 진출이 증가하기 시작하는 (다) 단계에서는 사회권의 하나인 교육권이 확대될 것이다.
- ✖ 유소년 인구 비율이 낮은 (라) 단계는 유소년 인구 비율이 높은 (나) 단계보다 유소년 부양비가 낮다.

고득점을 위한 핵심 개념

사회권의 의미와 종류

사회권의 의미	<ul style="list-style-type: none"> • 인간다운 생활에 필요한 사회적 보장책을 국가에 요구할 수 있는 권리임. • 사회 보장, 교육, 노동 분야 등 다양한 사회 보장 제도나 정책 마련이 뒷받침되어야 함.
종류	교육을 받을 권리, 사회 보장을 받을 권리, 쾌적한 환경에서 생활할 권리 등

11 우리나라 연령층별 인구 비율 변화

출제 예상 포인트 우리나라의 연령층별 인구 비율 변화를 통해 우리나라의 인구 문제인 저출산·고령화를 파악할 수 있다. 인구 변화 추세와 그에 따른 문제 및 해결 방안이 자료 또는 선지로 대학수학능력시험에 출제될 가능성이 높으므로 반드시 알아 두어야 한다.

그래프는 1970년부터 2070년까지의 연령층별 인구 비율 변화를 나타내고 있다. 유소년층 인구 비율은 꾸준히 감소하고 노년층 인구 비율은 꾸준히 증가할 것으로 예상되어 저출산·고령화 현상이 심화될 것으로 보인다. 생산 가능 인구인 청장년층 인구 비율은 2020년 정도를 기점으로 감소할 것으로 예측된다.

[선지 분석]

- ✖ 2020년 노년층 인구 비율은 20% 미만이므로 초고령 사회에 해당하지 않는다. 초고령 사회는 노년층 인구 비율이 20% 이상인 사회로 대한민국은

2025년에 초고령 사회에 진입하였다.

- ✖ 2030년의 노년층 인구 비율은 유소년층 인구 비율보다 높으므로 노령화 지수는 100 이상이다.
- ㉓ 2020~2070년 동안 청장년층 인구 비율이 감소하므로 총부양비는 증가할 것이다.
- ✖ 산아 제한 정책은 출생률이 높은 1970년에 더 필요성이 크다. 2070년은 유소년층 인구 비율이 10% 미만이므로 출산 장려 정책이 필요하다.
- ✖ 1970~2020년 동안 생산 가능 인구인 청장년층 인구 비율은 증가하고 있다.

12 노년층 인구 비율과 합계 출산율의 분포

출제 예상 포인트 세계의 인구 지표는 통합사회 4종 교과서에서 공통적으로 설명하는 자료이므로 대학수학능력시험에 출제될 가능성이 높으며 전국연합학력평가에서도 자주 등장한다.

(가)는 유럽, 앵글로아메리카, 동아시아 등 선진국에서 높게 나타나며, 아프리카 등에서는 낮게 나타나는 지표이다. (나)는 사하라 이남 아프리카에서 가장 높게 나타나며, 아시아 일부 국가에서 높지만, 유럽, 동아시아, 앵글로아메리카와 같은 선진국에서는 낮게 나타나는 지표이다. 따라서 (가)는 노년층 인구 비율, (나)는 합계 출산율이다.

[선지 분석]

- ✖ ✖ ✖ 성비는 사우디아라비아, 아랍 에미리트, 카타르 등 주로 남성 노동 인력의 유입이 많은 서남아시아 지역에서 높게 나타나는 경향을 보인다.

감각 있는 풀이 Tip

합계 출산율은 개발 도상국 중에서도 경제 발달 수준이 낮은 국가일수록 높은 경향이 있으며 주로 사하라 이남 아프리카 지역에 합계 출산율이 높은 국가가 많다. 노년층 인구 비율은 세계에서 노년층 인구 비율이 가장 높은 일본을 비롯해 유럽 지역에 높은 국가가 많다. 여성 인구 100명 당 남성 인구수를 의미하는 성비는 사회적 인구 이동에 의해 변화하기 쉬우며, 아랍 에미리트, 카타르, 사우디아라비아 등 건설 사업 증가로 노동력 수요가 높은 서남아시아 지역에서 높게 나타난다.

13 우리나라의 인구 변화 특징

출제 예상 포인트 우리나라는 저출산·고령화뿐만 아니라 인구 분포의 불균형 문제까지 나타난다. 촌락의 고령화는 산업화·도시화 과정에서 나타난 도시 발달 및 지역 격차와 관련된 현상이므로 단위 간 연계 문항으로 출제될 가능성이 높다.

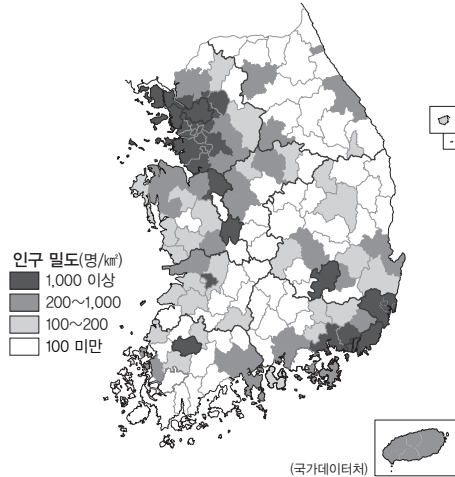
- ㉑은 우리나라의 낮은 합계 출산율을 의미하며, ㉒은 노년층 인구 비율의 증가 추세를 의미한다. ㉓은 인구의 불균등한 분포를 나타내는데, 수도권에 우리나라 전체 인구의 50% 이상이 밀집해 거주하고 있다.

[선지 분석]

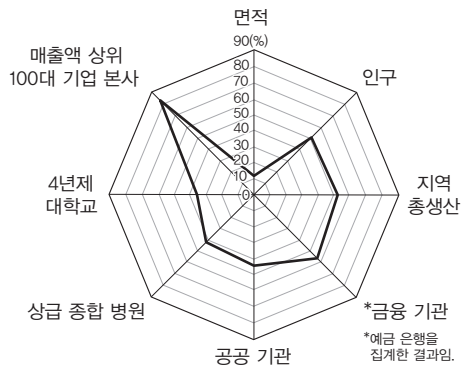
- ㉑ 합계 출산율의 감소 원인으로 여성의 사회 진출 증가로 인한 초혼 연령 상승, 결혼 및 양육 비용의 증가 등을 들 수 있다.
- ㉒ 노년층 인구 증가는 경제 수준 향상으로 의료 기술 및 영양 상태가 개선되면서 나타난 기대 수명 상승의 영향을 받았다.
- ✖ 수도권에 전국 인구의 50% 이상이 거주하고 있는 것은 1960년대 이후 실시된 정부 주도의 하향식 개발로 인해 대도시 중심의 경제 성장이 진행되며 이촌향도 현상이 나타났기 때문이다.

고득점을 위한 핵심 자료

우리나라의 인구 분포와 수도권 집중도



● 우리나라의 인구 밀도 분포(2021년)



(재정경제부, 2022 / 전주상공회의소, 2023 / 국가데이터처, 2023 / 한국은행, 2023)

● 지표로 보는 수도권 집중도(2022년)

우리나라는 2·3차 산업이 발달하고 도시가 밀집되어 있는 수도권, 공업이 발달한 남동 해안 지역에 많은 인구가 거주하고 있다. 특히 수도권은 우리나라 전체 면적의 약 12%에 해당하지만 우리나라 인구의 절반 이상이 집중되어 있으며, 인구뿐만 아니라 종합 병원, 공공 기관과 같은 각종 기능이 밀집되어 있어 국토 공간의 불균형이 나타나고 있다.

14 우리나라 인구 문제의 해결 방안

㉠에서 나타나는 인구 문제는 저출산이며, ㉡에서 나타나는 인구 문제는 고령화이다. ㉢에서 나타나는 문제는 인구의 불균등한 분포이다.

[선지 분석]

- ① ㉠: 산후 조리비, 양육 수당과 같이 출산 및 육아 비용 지원 확대는 저출산 문제의 해결 방안 중 하나이다.
- ② ㉡: 재택 근무, 시차 출퇴근제, 거점 오피스와 같은 유연 근무제는 자녀가 있는 부모의 육아 시간을 확보할 수 있어 저출산 문제의 해결 방안 중 하나이다.
- ③ ㉢: 기초 연금, 노인 의료·요양 서비스와 같은 사회 보장 제도 강화는 노년층의 복지를 확보할 수 있는 방안 중 하나이다.
- ✕ ㉣: 수도권 내 제조업 공장 설립 제한을 완화하는 것은 수도권 공장 총량 제에 반대되는 개념으로 수도권의 집중도를 더욱 높িয়ে 된다.
- ⑤ ㉤: 비수도권 지역에 설치하는 혁신 도시와 기업 도시는 수도권의 인구를 지방으로 분산하도록 유도하는 방안 중 하나이다.

고득점을 위한 핵심 자료

수도권 집중을 완화하는 다양한 정책

혁신 도시	<ul style="list-style-type: none"> 수도권 과밀 문제를 완화하고 지방의 발전을 촉진하기 위한 균형 발전 정책의 일환으로, 수도권에 위치한 공공 기관을 지방으로 이전해 조성한 도시 충북 진천·음성, 경남 진주, 강원 원주 등이 있음.
수도권 공장 총량제	수도권에 공장이 과도하게 집중되는 것을 막기 위해 수도권 전체에 허용되는 공장 건축 총면적을 정하고 그 범위 내에서만 공장을 만들 수 있게 허가하는 제도

15 스웨덴의 양육 지원 정책과 저출산 극복 사례

출제 예상 포인트 저출산 문제의 해결과 관련된 사례는 유소년층 인구 비율 감소로 저출산 문제를 먼저 겪은 선진국의 사례가 제시될 가능성이 높다. 해당 사례와 같은 목적으로 행해지는 우리나라의 저출산 대응 방안도 함께 물어볼 수 있다.

스웨덴은 부부 육아 할당제라는 제도를 통해 부부의 자녀 양육을 지원하는 정책을 펴고 있다. 이 영향으로 스웨덴의 합계 출산율이 높아졌다.

[선지 분석]

- ✕ ㉠: 피라미드형 인구 분포는 주로 출생률이 높은 개발 도상국에서 나타나는 인구 구조이다.
- ✕ ㉡: 부부 육아 할당제는 부부가 함께 양육에 참여하도록 하므로 양육 부담을 분산시킨다.
- ✕ ㉢: 스웨덴은 출생률이 낮은 국가이지만 국가의 정책으로 합계 출산율이 높아지고 있으므로 인구 과잉 문제와는 관련이 없다.
- ④ ㉣: 부부 육아 할당제는 자녀 양육을 지원하는 정책으로 합계 출산율 증가에 영향을 주었다.
- ✕ ㉤: 인구 변천 모델에서 출생률이 높고 사망률이 낮아지는 단계는 2단계로, 산업화 초기에 해당하므로 스웨덴에는 해당되지 않는다.

16 저출산·고령화 문제

저출산·고령화 문제는 출생률과 사망률이 모두 낮은 선진국에서 주로 나타나는 인구 문제이다. 우리나라는 산업화 시기 이혼향도로 인해 농촌의 청장년층 인구가 많이 유출되면서 농촌의 고령화 현상이 심화되었다. 한편 합계 출산율이 장기적으로 감소하며 저출산으로 인한 문제가 심화되었다. ㉠은 고령화, ㉡은 저출산이다.

[선지 분석]

- ① ㉠: 농촌의 고령화 문제는 산업화 시기 이혼향도로 청장년층의 인구 유출이 많아진 것의 영향을 받았다.
- ② ㉡: 고령화로 인한 농촌 지역의 노동력 부족 문제 해결을 위해 청장년층의 농촌 정착을 돕는 귀농, 귀촌 정책을 도입할 수 있다.
- ③ ㉢: 저출산 문제는 경제가 성장하면서 자녀 및 결혼에 대한 가치관 변화의 영향을 받았다.
- ④ ㉣: 저출산 해결을 위해 신혼부부의 주거 비용 등 경제적 부담을 덜어주는 정책을 도입할 수 있다.
- ✕ ㉤: 저출산·고령화는 개발 도상국보다 선진국에서 나타나는 인구 문제이다.

감각 있는 풀이 TIP

우리나라의 저출산·고령화 문제는 이혼향도로 인해 도시 지역보다 촌락 지역에서 심각하게 나타나므로 출산 및 양육 지원 관련 방안, 노인 일자리 증대와 같은 해결 방안 이외에도 촌락과 관련된 해결 방안이 제시될 수 있다.

01 ① 02 ⑤ 03 ① 04 ④ 05 ③ 06 ③
07 ③ 08 ③

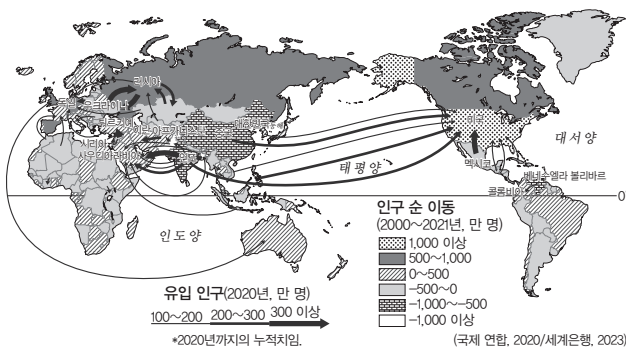
01 지역(대륙) 간 인구 이동

출제 예상 포인트 지역(대륙) 또는 국가의 인구 순 이동 자료는 통합사회 6종 교과서에서 공통적으로 설명하는 자료이므로 대학수학능력시험에 출제될 가능성이 높다. 일부 지역(대륙)만 제시될 경우, 이 문항과 같이 큰 규모의 인구 이동이 나타나며 미국 사회에 큰 영향을 미치는 앵글로아메리카-라틴 아메리카 간의 인구 이동이 자료로 제시될 가능성이 높다.

(가)는 아시아, 아프리카와 (나)로부터의 인구 유입이 많으며, (나)는 (다), (가) 및 아시아로부터의 인구 유입이 있지만 유입 규모가 작다. (다)는 인구 유입 규모가 가장 크고, (나)로부터의 인구 유입이 가장 많다. 따라서 (가), (다)는 선진국이 많고 경제 발달 수준이 높은 지역(대륙)이며, 인구 유입 규모가 적은 (나)는 개발 도상국이 많은 지역(대륙)이다. (나)는 라틴 아메리카이며, (가)는 지리적으로 가까운 아프리카로부터의 유입이 많은 유럽, (다)는 라틴 아메리카로부터 유입되는 인구가 가장 많은 앵글로아메리카이다.

고득점을 위한 핵심 자료

인구 순 유입 및 순 유출 국가



인구 순 유입 및 순 유출 지역을 국가 단위로 살펴보면 유럽 중에서도 경제가 성장한 서부 유럽, 아시아 중에서는 동아시아의 대한민국, 일본, 앵글로아메리카의 미국을 대표적인 순 유입 지역으로 들 수 있다. 순 유출 지역은 대부분 개발 도상국인 경우가 많다. 중국과 인도의 경우 공업이 성장하는 개발 도상국이지만, 인구 규모가 크기 때문에 유출 인구의 절댓값도 다른 국가에 비해 크다.

02 지역(대륙)의 지리적 특징

출제 예상 포인트 인구 이동은 해당 지역의 정치, 경제, 사회, 문화 등 전반적인 영향을 미치게 되므로 특정 지역(대륙) 또는 국가를 사례로 지리적 특성을 물을 수 있다. 그러므로 인구 이동 개념 학습을 할 때 사례 지역이 인구 이동으로 인해 어떤 부분이 변화되었는가를 알아 두어야 한다.

(가)는 유럽, (나)는 라틴 아메리카, (다)는 앵글로아메리카이다.

[선지 분석]

- ① 유럽에는 산업 혁명이 최초로 시작된 국가인 영국이 위치한다.
 ② 라틴 아메리카는 남부 유럽 국가인 에스파냐와 포르투갈의 식민 지배 영

향으로 에스파냐어와 포르투갈어를 주로 사용한다.

- ③ 앵글로아메리카에는 세계 경제 중심지 역할을 하는 도시인 뉴욕이 있다.
 ④ 앵글로아메리카는 라틴 아메리카보다 산업화가 먼저 시작되었다.
 ✖ 세 지역(대륙) 중 국가 수는 앵글로아메리카가 가장 적다.

03 영국, 아랍 에미리트, 콩고 민주 공화국의 인구 특징

출제 예상 포인트 여러 국가의 연령층별 인구 비율을 이용한 선진국과 개발 도상국, 인구 유입이 활발한 국가의 인구 비교는 통합사회의 주요 학습 개념이므로 대학수학능력시험에 출제될 가능성이 높다. 수능 예시 문항과 전국연합학력평가에서도 자주 등장하는 형태의 지표이다.

(가)는 청장년층 인구 비율이 80% 이상으로 매우 높고 유소년층 인구 비율과 노년층 인구 비율이 상대적으로 낮다. 높은 청장년층 인구 비율은 인구의 사회적 이동에 의한 것으로 (가)는 외국인 노동자가 많은 아랍 에미리트이다. (나)는 청장년층 인구 비율이 약 63%, 유소년층 인구 비율은 약 18%이므로 노년층 인구 비율이 약 20%에 가까우므로 노년층 인구 비율이 높은 영국이다. (다)는 유소년층 인구 비율이 40% 이상으로 매우 높으므로 개발 도상국인 콩고 민주 공화국이다.

[선지 분석]

- ① 외국인 노동자가 많은 아랍 에미리트는 콩고 민주 공화국보다 인구의 사회적 증가가 많다.
 ✖ 영국은 콩고 민주 공화국보다 유소년 인구 비율은 낮고, 청장년층 인구 비율은 높으므로 유소년 부담비가 낮다.
 ✖ 콩고 민주 공화국의 노년층 인구 비율은 약 5%로, 약 19%인 영국보다 노년층 인구 비율이 낮다.
 ✖ 아랍 에미리트는 아시아, 영국은 유럽에 위치한다.
 ✖ 세 국가 중 1인당 국내 총생산은 영국이 가장 높다.

고득점을 위한 핵심 개념

인구의 자연적 증감과 사회적 증감

자연적 증감	출생과 사망에 의한 증감
사회적 증감	유입(전입)과 유출(전출)에 의한 증감

04 니제르, 중국, 일본의 인구 특성

출제 예상 포인트 선진국과 개발 도상국의 인구 특징을 비교할 때 사용하는 자료의 난도가 높아질 경우, 유소년층 인구 비율, 청장년층 인구 비율, 노년층 인구 비율을 활용한 지수가 사용될 수 있다. 대표적으로 노령화 지수, 총부양비와 같은 개념을 명확하게 알아 두어야 한다.

지도에 표시된 국가는 니제르, 중국, 일본이다. 1970년과 2023년의 총부양비와 노령화 지수를 통해 세 국가의 인구 특성을 파악해 국가를 찾을 수 있다. (가)는 총부양비가 두 시기 모두 100에 가까운 것으로 보아 청장년층 인구와 유소년층 및 노년층 인구 규모가 비슷하며, 노령화 지수가 낮으므로 노년층 인구 비율이 낮은 니제르이다. (나)는 총부양비가 감소하였으며 노령화 지수는 급증하여 1970년에 비해 2023년에 노년층 인구 비율이 크게 높아진 중국이다. (다)는 총부양비는 증가하였으며 노령화 지수가 200 이상으로 크게 증가하였으므로 유소년층 인구보다 노년층 인구가 2배 이상 많은 일본이다.

[선지 분석]

- ✕ 니제르는 세계 인구 2위인 중국보다 총인구가 적다.
- ㉠ 중국은 국내 총생산 세계 2위 국가로 일본보다 국내 총생산이 많다.
- ✕ 저출산 문제가 나타나는 일본은 니제르보다 유소년층 인구 비율이 낮다.
- ㉡ 중국은 1970년 대비 2023년에 총부양비가 가장 크게 감소하였다.

감각 있는 풀이 TIP

총부양비는 비생산 인구(유소년층, 노년층)를 생산 가능 인구(청장년층)로 나눈 값이므로, 이 수치가 100에 가까울수록 청장년층 인구 규모와 유소년층 및 노년층 인구의 합이 비슷하다는 것을 의미한다. 니제르와 같이 유소년층 인구 비율이 40% 이상(47.0%, 2023년)으로 매우 높은 개발 도상국에서 총부양비가 100에 가까운 경우가 많다. 노령화 지수는 노년층 인구를 유소년층 인구로 나눈 값의 비이므로, 100을 넘어가는 경우는 유소년층 인구보다 노년층 인구가 많은 상황을 의미한다. 일본과 같이 노년층 인구 비율(29.6%, 2023년)이 높은 선진국에서는 노령화 지수가 100을 넘는 경우가 많다.

05 정치적 인구 이동

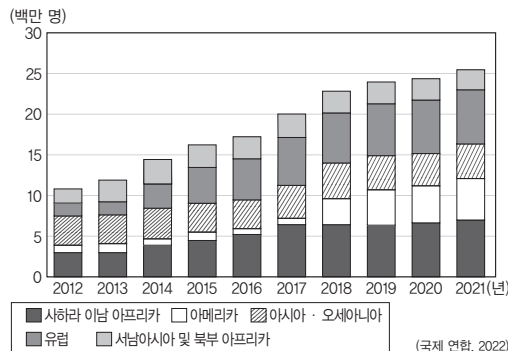
자료는 시리아 내전으로 인해 수많은 난민이 발생한 사례를 설명하고 있다. 난민은 정치적 및 강제적 이동에 해당하며, ㉠과 같이 피난 등의 형태로 국제 이동이 이루어지기도 한다. ㉡은 난민 문제 해결을 위한 국제적 노력의 사례이며, ㉢은 세계적으로 활동하는 국제 비정부 기구 중 하나이다.

[선지 분석]

- ✕ 난민은 정치적 이동에 해당한다.
- ㉠ 수단의 다르푸르 내전으로 인해 수많은 난민이 국경을 넘어 이동하였으므로, 시리아 난민의 이동과 같은 정치적 이동에 해당한다.
- ㉡ 적극적 평화는 빈곤, 억압과 착취 등의 구조적 폭력까지 없는 상태로, 난민 구호 활동 등은 적극적 평화를 실현하는 노력에 해당한다.
- ✕ 국경 없는 의사회는 대표적인 국제 비정부 기구 중 하나이다. 정부 간 국제기구로는 국제 연합(UN), 경제 협력 개발 기구(OECD) 등이 있다.

고득점을 위한 핵심 자료

지역(대륙)별 난민 규모 변화



내전, 전쟁 등을 피해 이동하는 사람인 난민은 정치적 이동, 강제적 이동의 대표적인 사례이다. 난민의 지역(대륙)별 분포 현황을 살펴보면 사하라 이남 아프리카와 유럽의 난민 규모가 큰 것을 알 수 있다. 사하라 이남 아프리카는 민족과 종교가 다양하며 식민 지배의 영향, 정치적 불안정 등으로 크고 작은 내전이 많이 발생한다. 서남아시아 및 북부 아프리카 지역에서 발생한 난민이 지리적으로 인접한 유럽으로 이주하는 경우가 많다.

06 우리나라 두 지역의 인구 특성

(가)는 유소년층과 청장년층의 인구 비율이 적고 노년층 인구 비율이 상대적으로 높게 나타난다. (나)는 (가)에 비해 유소년층과 청장

년층의 인구 비율이 높다. 따라서 (가)는 춘락 지역인 옥천, (나)는 도시 지역인 천안에 해당한다.

[선지 분석]

- ✕ 군(郡) 지역인 옥천은 시(市) 지역인 천안보다 총인구가 적다.
- ✕ 유소년층 인구 비율보다 노년층 인구 비율이 크게 높은 옥천은 천안에 비해 노령화 지수가 높다.
- ㉢ 천안은 옥천보다 청장년층 인구 비율이 높으므로 총부양비가 더 낮다.
- ✕ 천안은 옥천보다 청장년층 인구 비율이 높으므로 노동력 부족 문제는 옥천이 더 심각하다.
- ✕ (가)는 옥천, (나)는 천안이다.

07 우리나라의 인구 구조 변화

그래프는 두 시기의 연령별 인구 비율을 나타낸 것이다. (가)는 유소년층 인구 비율이 낮고, 노년층 인구 비율이 높으므로 2023년, (나)는 유소년층 인구 비율이 높고 노년층 인구 비율이 낮으므로 1970년이다.

[선지 분석]

- ✕ 피라미드형 인구 구조는 유소년층이 많은 인구 구조에서 나타나므로 1970년에 나타난다.
- ㉠ 산아 제한 정책은 유소년층이 많은 1970년에 더 필요성이 크다.
- ㉡ 노인 친화적 산업은 노년층 인구 비율이 높은 2023년 시기에 더 발달했을 것이다.
- ✕ 유소년층 인구 비율이 낮고 노년층 인구 비율이 높은 (가)는 2023년, 유소년층 인구 비율이 높고 노년층 인구 비율이 낮은 (나)는 1970년이다.

고득점을 위한 핵심 개념

고령화 문제의 해결 방안과 관련된 용어

임금 피크제	근로자의 고용을 보장해 주는 대신 일정 연령을 기점으로 단계적으로 임금을 줄여 나가는 제도
실버산업	노인을 위한 상품을 제조, 판매하거나 의료, 복지 시설을 세우고 운영하는 산업
공적 연금	<ul style="list-style-type: none"> • 국가 차원에서 개인의 노후를 준비하도록 지원하기 위해 만든 연금 제도 • 국민연금, 공무원 연금, 사학 연금, 군인 연금이 대표적임.
재취업 교육	은퇴하거나 직장을 그만둔 사람이 다시 일할 수 있도록 새로운 직업 기술이나 지식을 익히게 하는 교육 제도

08 저출산·고령화 문제의 해결 방안

(가)는 영유아 보육료 지원 증가를 홍보하는 자료이므로 저출산 문제의 해결 방안과 관련된 것이다. (나)는 건강한 노후를 위한 노인 맞춤 돌봄 서비스 확대를 홍보하는 자료이므로 고령화 문제의 해결 방안과 관련된 것이다.

[선지 분석]

- ✕ 산아 제한 정책은 출산율을 낮추기 위한 정책 중 하나이다. 저출산 관련 정책은 출산 장려를 목적으로 하고 있다.
- ㉠ 정년 연장 정책은 고령화 시대에 노년층의 경제적 자립을 돕는 정책이므로 시행 목적이 같다.
- ㉡ (가)는 저출산, (나)는 고령화와 관련된 것이다.
- ✕ 유소년층 인구 비율이 감소하는 저출산 현상과 노년층 인구 비율이 증가하는 고령화 현상이 동시에 진행되면, 노년층 인구를 유소년층 인구로 나눈 비인 노령화 지수는 증가한다.

20

자원 소비와 지속 가능한 발전 및
미래 세계와 세계시민으로서의 삶

기출 등형 문제

177쪽

01-① ③

01-② ⑤

02-① ③

02-② ②

01-① 세계 1차 에너지원의 소비 특성 및 1차 에너지원별 특징

세계 1차 에너지원 소비량은 석유, 석탄, 천연가스 순서대로 높게 나타난다. 천연가스 생산량이 많은 이란은 천연가스 소비 비율이 높으며, 중국은 석탄 소비량이 많다. 빙하 지형이 발달한 캐나다는 수력 생산이 많아 소비 비율도 높게 나타나며, 선진국인 독일은 석유 소비 비율이 상대적으로 높다. 따라서 (가)는 석유, (나)는 천연가스, (다)는 석탄이다.

[선지 분석]

- ✗ 석유는 용도별 소비에서 60% 정도를 수송용으로 이용해 가정용보다 이용 비율이 높다.
- ✗ 냉동 액화 기술의 발달로 소비량이 급증한 자원은 천연가스이다.
- ③ 석탄은 천연가스보다 상용화된 시기가 이른다.
- ✗ 캐나다는 수력 소비량이 석탄 소비량보다 많다.
- ✗ 네 국가 모두 (가)~(다)의 합인 화석 에너지의 소비량 비율은 60% 이상이다.

고득점을 위한 핵심 자료

화석 에너지원별 용도별 소비 비율

석유	주로 수송용(60% 이상)으로 이용되며, 석유화학 등 산업용(10% 미만)으로도 이용함.
석탄	대부분 산업용(80% 이상)으로 이용함.
천연가스	산업용, 수송용, 가정용 등 다양하게 이용함.

감각 있는 풀이 TIP

이러한 문항을 해결하기 위해서는 세계 1차 에너지원별 소비량 순서를 통해 에너지원을 찾고, 주요 에너지 소비 국가별로 많이 사용하는 에너지원을 알고 있어야 한다.

01-② 세계 1차 에너지원의 소비 특성 및 1차 에너지원별 특징

출제 예상 포인트 세계 1차 에너지원별 소비 비율은 통합사회 8종 교과서에서 공통적으로 설명하는 자료이고 에너지 자원 단원에서 가장 기본적인 자료이므로 대학수학능력시험에 출제될 가능성이 높다. 수능 예시 문항과 전국연합학력평가에서도 자주 등장하는 자료이므로 반드시 알아 두어야 한다.

세계 1차 에너지원 소비량은 석유, 석탄, 천연가스, 수력 순서대로 높게 나타난다. 브라질은 큰 하천의 영향으로 수력 생산이 많아 수력의 소비 비율이 상대적으로 높으며, 미국은 석유와 천연가스 소비 비율이 높다. 따라서 (가)는 석유, (나)는 천연가스, (다)는 석탄, (라)는 수력이다. A는 석탄의 소비 비율이 가장 높고, B는 천연가스의 소비 비율이 가장 높게 나타난다. 따라서 A는 경제가 빠르게 성장하는 개발 도상국인 인도이며, B는 천연가스 생산과 소비가 많은 러시아이다.

[선지 분석]

- ✗ 산업 혁명 시기에 주요 에너지원으로 이용된 것은 석탄이다.
- ✗ 석탄은 주로 고기 조산대에 매장되어 있다.
- ✗ 인도는 러시아보다 수력의 소비 비율이 낮다.
- ✗ 천연가스는 석탄보다 연소 시 대기 오염 물질의 배출량이 적다.
- ⑤ 석탄의 산업용 이용 비율은 약 80% 정도로 석유보다 높다. 석유는 수송용으로 사용하는 비율은 약 60% 이상이며, 산업용으로는 10% 미만이다.

02-① 지구 온난화와 국제 협약

출제 예상 포인트 지구 온난화는 환경 문제 해결을 위한 국제적 노력인 국제 협약과 함께 묻는 경우가 많으므로, 교토 의정서와 파리 협정의 차이점을 알아 두어야 한다.

지구 온난화는 대표적인 전 지구적 환경 문제이다. 화석 에너지 사용량 증가 등에 따른 인한 온실가스 증가로 지구의 평균 기온이 상승하는 지구 온난화를 해결하기 위해 국제적 차원에서는 국제 협약을 맺는 노력을 하고 있다. 1997년 채택된 교토 의정서에서는 선진국의 온실가스 감축 의무를 규정하였으며, 2015년 채택된 파리 협정에서는 선진국과 개발 도상국 모두의 온실가스 감축 의무를 규정하였다.

[선지 분석]

- ✗ 제시문은 화석 에너지 소비로 인한 문제점의 해결 노력을 제시하고 있다.
- ✗ 제시문은 국제적 노력에 대해 설명하고 있다.
- ③ 교토 의정서와 파리 협정은 기후변화에 대응하는 국제적 노력이다.
- ✗ 파리 협정을 통해 개발 도상국도 온실가스 감축 의무 대상에 포함되었다.
- ✗ 지구의 평균 기온을 낮추려는 노력은 생태 중심주의 자연관에 가깝다.

고득점을 위한 핵심 자료

교토 의정서와 파리 협정의 차이

교토 의정서	1997년에 채택되어, 선진국에 온실가스 감축 의무 부과함.
파리 협정	교토 의정서 만료 이후 2015년에 채택되어, 선진국과 개발 도상국 모두에게 온실가스 감축 의무 부과함.

02-② 지구 온난화와 국제 협약

출제 예상 포인트 지구적 환경 문제의 국제적 해결 노력과 공동체주의적 관점을 지닌 사상가의 견해를 제시하고 있다. 환경 문제는 한 국가나 개인의 노력보다 전 세계가 공동체라는 인식을 가지고 해결해야 하는 문제이므로 공동체주의적 사상과 연결하여 출제될 수 있다. 지구 온난화, 매킨타이어의 공동체주의 사상은 교과서 전종에서 다루는 개념이므로 출제 가능성이 높다.

지구 온난화는 대표적인 전 지구적 환경 문제이다. 지구 온난화를 해결하기 위해 국제적 차원에서 국제 협약을 맺는 노력을 하고 있다. ①은 1997년 채택된 교토 의정서로 선진국의 온실가스 감축 의무를 규정하였으며, ⑤은 2015년 채택된 파리 협정으로 선진국과 개발 도상국 모두 온실가스 감축 의무를 규정하였다. '덕의 상실'을 저술한 사상이 매킨타이어는 공동체주의를 강조하였다.

[선지 분석]

- ✗ 지구 온난화의 주요 원인은 온실가스의 증가에 따른 지구 평균 기온의 상승이다.
- ② 교토 의정서는 선진국의 온실가스 감축 목표를 규정한 협약이다.

- ❌ ㉔은 파리 협정이다. 몬트리올 의정서는 오존층 파괴 방지 협약이다.
- ❌ 파리 협정은 자발적 참여 원칙을 채택하였다.
- ❌ 지구 온난화와 관련된 두 국제 협약 중 파리 협정이 지구 온난화 문제를 지구촌 구성원 모두가 책임지는 특징을 갖고 있으므로, 공동체주의 관점에서는 선진국만 감축 의무가 있는 교토 의정서보다 모든 국가가 감축 의무를 부담한 파리 협정을 지지할 것이다.

고득점을 위한 핵심 자료

공동체주의적 정의관

의미와 특징	개인은 공동체의 구성원으로 존재한다고 보며, 공동선을 중시해 이를 달성하기 위해 사회적 책임과 의무를 강조함.
샌델	<ul style="list-style-type: none"> • 개인은 연고적 자아임. • 개인은 책임 의식을 가지고 공동선 증진에 기여해야 함.
매킨타이어	<ul style="list-style-type: none"> • 개인은 공동체와 분리된 존재가 아니라 연결된 존재임. • 개인의 정체성은 공동체의 역사와 전통을 바탕으로 형성됨.

수능 기본 문제

178~181쪽

- 01 ① 02 ② 03 ③ 04 ③ 05 ④ 06 ⑤
 07 ⑤ 08 ⑤ 09 ② 10 ② 11 ② 12 ④
 13 ④ 14 ④ 15 ③ 16 ③

01 세계의 에너지 소비 특징

화석 에너지는 세계 1차 에너지 소비의 대부분을 차지하고 있으며, 최근 기후변화 등으로 신재생 에너지의 생산 및 소비가 증가하고 있다. 20세기 중반 이후부터 가장 중요한 에너지원인 ㉠은 석유, 산업 혁명 이후 오랫동안 주요 에너지원이었던 ㉡은 석탄, 상대적으로 청정 에너지원으로 평가받는 ㉢은 천연가스이다.

[선지 분석]

- ① 석유는 용도별 소비 비율에서 절반 이상이 수송용으로 소비된다.
- ❌ 석탄의 최대 소비국은 중국이다.
- ❌ 천연가스는 석탄보다 연소 시 대기 오염 물질의 배출량이 적다.
- ❌ 세 화석 에너지 중 석유의 소비 비율이 가장 높다.
- ❌ 지구 온난화와 기후 위기 해결을 위해 맺어진 협약으로는 교토 의정서, 파리 협정이 있다. 바젤 협약은 유해 폐기물의 국제 이동을 금지하는 협약이다.

고득점을 위한 핵심 자료

주요 국가별 1차 에너지 자원 소비 구조(2024년, 단위 EJ)

미국	총 공급량 91.83 석유(35.82), 석탄(7.90), 천연가스(32.48), 원자력(8.98), 수력(0.86), 신재생(5.79)
중국	총 공급량 158.88 석유(32.27), 석탄(92.16), 천연가스(15.64), 원자력(4.92), 수력(4.88), 신재생(9.02)
러시아	총 공급량 31.77 석유(7.66), 석탄(3.75), 천연가스(17.17), 원자력(2.35), 수력(0.76), 신재생(0.07)

02 세계 1차 에너지원별 소비량

출제 예상 포인트 세계 1차 에너지원별 소비량은 통합사회 8종 교과서에서 설명하는 자료이고, 에너지 자원의 학습에서 가장 기본적인 학습 개념이므로 명확하게 알아 두어야 한다.

세계 1차 에너지원의 에너지원별 소비 비율은 석유, 석탄, 천연가스 순으로 높으므로 (가)는 석유, (나)는 석탄, (다)는 천연가스이다. 최근 기후 위기 해결을 위한 노력으로 신재생 에너지의 소비 비율이 증가하였다.

[선지 분석]

- ❌ 석유의 최대 수출국은 미국(2024년)이다.
- ② 석탄의 최대 생산국은 중국(2024년)이다. 중국은 세계 석탄 생산량의 절반 정도를 차지하며, 소비량도 세계 소비량의 50% 이상을 차지한다.
- ❌ 산업 혁명 시기에 주요 에너지원으로 이용된 것은 석탄이다.
- ❌ 석유와 석탄 중 산업용으로 이용되는 비율이 높은 것은 석탄이다. 석유는 주로 수송용으로 이용된다.
- ❌ (가)는 석유, (나)는 석탄, (다)는 천연가스이다.

고득점을 위한 핵심 자료

화석 에너지 자원의 주요 생산, 소비, 수출, 수입국(2024년)

에너지 자원	주요 생산국	주요 소비국
석유	미국, 사우디아라비아, 러시아	미국, 중국, 인도
석탄	중국, 인도, 인도네시아	중국, 인도, 미국
천연가스	미국, 러시아, 이란	미국, 러시아, 중국

에너지 자원	주요 수출국	주요 수입국
석유	미국, 사우디아라비아, 러시아	중국, 미국, 인도
석탄	인도네시아, 오스트레일리아, 러시아	중국, 인도, 일본
천연가스	미국, 러시아, 카타르	중국, 일본, 미국

03 석유와 석탄의 국제 이동

출제 예상 포인트 자원은 편재성을 기반으로 국제적인 이동이 많다. 자원의 이동은 통합사회 8종 교과서에서 공통적으로 설명하는 자료이므로 대학수학능력시험에 출제될 가능성이 높다. 수능 예시 문항과 전국연합학력평가에서도 지도의 내용이 기본 선지로 자주 등장하므로 반드시 알아 두어야 한다

석유와 석탄은 자원의 편재성이 달라 국제 이동 양상이 다르게 나타난다. 비교적 고르게 분포하는 석탄은 석유보다 이동량이 적으며, 주요 탄전이 있는 오스트레일리아 동부, 인도네시아 등에서 아시아로의 이동량이 많다. 페르시아만 연안, 북해 연안 등에 주로 분포하는 석유는 주요 소비지인 동아시아, 미국 등의 선진국으로 이동하는 양이 많다. 따라서 (가)는 석탄, (나)는 석유이다.

04 석유와 석탄의 특징

(가)는 석탄, (나)는 석유이다. 석유는 석탄보다 편재성이 크기 때문에 국제 이동량이 석탄보다 많다. 또한 석유는 세계 1차 에너지 소비량에서 차지하는 비율이 석탄보다 높다.

[선지 분석]

- ❌ 자원 분포의 편재성은 석탄보다 석유가 크다.
- ① 석유는 석탄보다 국제 이동량이 많다.
- ② 석유는 석탄보다 세계 1차 에너지 소비량에서 차지하는 비율이 높다.
- ❌ 대한민국, 중국, 일본이 있는 동아시아 지역은 오세아니아보다 서남아시아에서 수입하는 석유의 양이 더 많다.

감각 있는 풀이 TIP

이동량이 많은 자원일수록 편재성이 크다. 자원의 이동은 주로 개발 도상국에서 사용량이 많은 선진국으로 이동하고 지리적으로 인접한 지역에서 수입해 오는 경우가 많다.

05 유럽의 주요 신재생 에너지 소비 국가

유럽은 자연적 조건을 이용한 신재생 에너지 생산과 소비가 활발하다. 독일, 영국, 에스파냐, 프랑스 등 대서양으로부터 불어오는 편서풍의 영향을 많이 받는 국가들은 풍력 생산과 소비가 많으므로 (가)는 풍력이다. 에스파냐와 이탈리아는 지중해성 기후 지역으로 여름철 강한 일사를 활용한 태양광의 생산과 소비가 많으므로 (나)는 태양광이다. 러시아와 노르웨이는 빙하 지형의 발달로 수력의 생산과 소비가 많으므로 (다)는 수력이다.

고득점을 위한 핵심 자료

신재생 에너지원별 국가별 생산 비율(2024년, 단위: %)

수력	중국(30.4), 브라질(9.3), 캐나다(7.7)
풍력	중국(39.7), 미국(18.2), 독일(5.5)
태양광(열)	중국(39.7), 미국(14.5), 일본(6.5)

06 자원의 의미와 특징

출제 예상 포인트 제시문은 자원의 의미와 특징을 나타낸 것으로 통합사회 8종 교과서에서 공통적으로 설명하는 내용이므로 선지 또는 자료로 나올 수 있어 기억해 두어야 한다.

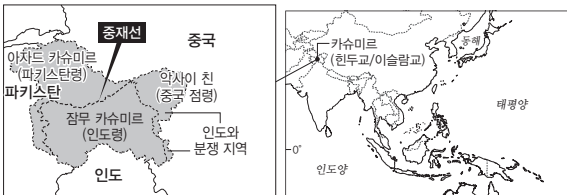
자원은 경제적 의미의 자원, 기술적 의미의 자원으로 구분되며, 상황의 변화에 따라 경제적 의미의 자원에서 기술적 의미의 자원으로, 또는 그 반대로 변화하기도 한다. 자원은 유한성, 편재성, 가변성을 지니며 이에 따라 자원의 이동과 분쟁 등이 나타나기도 한다.

[선지 분석]

- ❌ 우리나라 상동 광산의 텅스텐은 채산성 악화 등으로 생산이 중단된 것이므로 경제적 의미의 자원에서 기술적 의미의 자원이 된 사례이다.
- ❌ 경제적 의미의 자원은 기술적 의미의 자원 중 실제 이용되는 범위의 자원이므로, 경제적 의미의 자원이 기술적 의미의 자원보다 범위가 좁다.
- ❌ 자원 민족주의는 편재성으로 인해 발생하는 사례이다.
- ❌ 카슈미르 분쟁은 인도의 힌두교와 파키스탄의 이슬람교 간 갈등으로 발생한 종교 분쟁 지역이다.
- ⑤ 석유는 기술 개발 이후 현재 세계에서 가장 많이 이용되는 에너지 자원으로 상승하였다.

고득점을 위한 핵심 자료

카슈미르 분쟁



카슈미르 지역은 인도 북동부와 파키스탄 북부에 걸쳐 있는 지역으로, 인도의 힌두교와 파키스탄의 이슬람교가 대립하는 갈등 지역이다. 종교 갈등이 영토 분쟁과 결합되어 나타나고 있으며, 여기에 중국과 영토 갈등을 빚고 있다.

07 수력의 주요 소비국과 소비량 변화

출제 예상 포인트 특정 에너지 자원의 주요 생산 국가 상위 3개국, 5개국 등을 제시하는 형태의 자료는 대학수학능력시험에 출제될 가능성이 높다. 전국연합학력평가에서도 자주 등장하는 형태이므로 자료를 눈여겨보아야 한다.

중국의 창장강(양쯔강), 브라질의 아마존강과 같은 대규모 하천을 기반으로 수력 발전이 활발하게 이루어지고 있으며, 캐나다는 빙하 지형으로부터 오는 풍부한 수자원을 이용하여 수력 발전을 하고 있다. 이러한 자연, 지형 조건으로 인해 세 국가 모두 수력 발전의 생산과 소비가 많다.

[선지 분석]

- ❌ 판의 경계 부근에서 개발 잠재력이 높은 것은 지열이다.
- ❌ 일정하면서 강하게 부는 바람을 에너지원으로 이용하는 것은 풍력이다.
- ❌ 식물이나 미생물 등으로부터 얻을 수 있는 에너지는 바이오 에너지이다.
- ❌ 밀물과 썰물에 따라 발생하는 해수면의 높이차를 발전에 이용하는 것은 조력이다.
- ⑤ 수력은 높은 산지가 있거나 빙하 녹은 물이 흘러내리는 지역이 발전소 건설에 유리하다.

08 원자력의 주요 소비 국가

원자력은 우라늄이나 플루토늄을 원자로에서 깨뜨릴 때 나오는 열 에너지를 전환하는 방식의 에너지원이다. 고도의 기술력이 요구되어 주로 선진국에서 소비 비율이 높게 나타나며, 주요 소비 국가로 미국, 중국, 프랑스, 러시아, 대한민국 등이 있다.

[선지 분석]

- ❌ 연중 많은 강수량이 에너지원 생산에 도움이 되는 것은 수력이다.
- ❌ 산업 혁명 시기에 주요 에너지 자원으로 활용된 자원은 석탄이다.
- ❌ 냉동 액화 기술의 발달로 국제 이동량이 증가한 자원은 천연가스이다.
- ❌ 경제 발전 수준이 낮은 국가에서는 상대적으로 가격이 저렴한 석탄 소비 비율이 높은 편이다.
- ⑤ 원자력은 지반이 견고하고 다량의 냉각수를 확보할 수 있는 곳이 입지에 유리하다.

감각 있는 풀이 TIP

원자력 발전은 높은 기술력을 필요로 하기 때문에 주요 생산국이 대부분 미국, 중국, 프랑스, 러시아 등 높은 과학기술을 갖고 있는 국가들이 많으며, 대한민국도 주요 생산국이다.

09 지구 온난화의 영향

출제 예상 포인트 지구 온난화는 통합사회 8종 교과서에서 공통적으로 설명하는 내용이므로 대학수학능력시험에 출제될 가능성이 높다.

그래프는 지구의 평균 기온이 꾸준히 상승하는 지구 온난화 현상을 나타내고 있다. 지구 온난화로 극지방의 빙하가 녹아 해수면 상승, 영구 동토층 범위 축소 등이 나타난다.

[선지 분석]

- ❌ 지구 온난화로 인한 빙하가 녹으면서 북극해의 염도는 낮아질 것이다.
- ② 영구 동토층이 녹아 시베리아의 영구 동토층 범위는 축소될 것이다.
- ❌ 해빙으로 인해 북극에서 항해가 가능한 곳이 늘어나 북극 항로의 선박

운항 가능 일수는 증가할 것이다.

- ❌ 지구 온난화로 고도별 기온이 상승하여 히말라야 산맥의 고산 식물 분포 고도 하한선은 높아질 것이다.
- ❌ 기온이 높은 지역의 범위가 증가하면서 열대성 질병을 전파하는 동물 매개체의 분포 지역은 확대될 것이다.

고득점을 위한 핵심 자료

지구 온난화로 인한 변화 양상

세계	<ul style="list-style-type: none"> • 시베리아의 영구 동토층의 범위가 축소함. • 북극 항로의 선박 운항 가능 일수가 증가함. • 고산 식물 분포 고도의 하한선이 상승함. • 열대성 질병을 전파하는 동물 매개체의 분포 지역이 확대됨. • 북극해의 염도가 낮아짐. • 남태평양 섬나라의 침수가 증가함.
우리나라	<ul style="list-style-type: none"> • 열대야 발생 빈도가 증가함. • 한파일, 서리일 발생 빈도가 감소함. • 여름은 길어지고, 겨울은 짧아짐. • 농작물 재배 북방 한계선 및 재배 적지가 북상함. • 난대림 분포 면적이 확대되고, 냉대림 분포 면적은 축소됨. • 한류성 어종이 줄고, 난류성 어종이 증가함. • 태풍의 강도가 강해짐.

10 에너지 자원과 지역 갈등

출제 예상 포인트 제시문은 국제 갈등 중 에너지 자원을 둘러싼 갈등에 관한 사례이다. 인간 생활에 중요성을 띠는 에너지 자원의 특징으로 인해 자원을 무기화하는 상황이 나타나기도 한다. 유럽의 경우 신재생 에너지의 생산이 활발한 지역이므로 유럽을 주제로 단일 간 주제를 통합한 자료가 제시될 수 있으므로 각 개념을 명확히 알아 두어야 한다.

에너지 자원은 편재성으로 인해 국제 이동이 나타난다. 이 과정에서 개별 국가의 정치적 상황 변동 등에 의해 에너지 이동에 문제가 발생하기도 한다. 제시된 사례는 러시아로부터 천연가스 수입이 많았던 유럽이 러시아-우크라이나 전쟁으로 인해 당면한 에너지 공급 문제 상황과 대응을 보여 준다. 러시아는 천연가스의 주요 생산국이자 유럽에 천연가스 수출이 많은 국가로 ㉠은 천연가스이다.

[선지 분석]

- ① 지하자원이 많이 매장되어 있는 카스피해에서는 카스피해를 둘러싼 5개 국가(러시아, 카자흐스탄, 이란, 아제르바이잔, 투르크메니스탄)가 영역 갈등을 벌이고 있다.
- ❌ 러시아에서 파이프라인을 통해 공급받는 화석 에너지는 천연가스이다. 천연가스는 석탄보다 연소 시 대기 오염 물질 배출량이 적다.
- ③ 상대적으로 가격이 저렴하고 편재성이 적은 석탄은 선진국보다 개발도상국에서 사용 비율이 높은 편이다.
- ④ 석탄 사용 증가에 따른 환경 문제로 온실가스 배출량 증가가 있다.
- ⑤ 영국은 재생 에너지 중 대서양에서 불어오는 편서풍을 활용한 풍력 생산 비율이 높은 편이다.

11 우리나라 신재생 에너지의 시도별 발전량

우리나라의 자연환경 특징에 따라 시도별 신재생 에너지의 분포가 다르게 나타난다. 수력은 하천 상류의 낙차를 활용해 생산하므로, 주로 하천의 상류가 위치한 경기, 강원, 충북의 발전량이 많다. 태양광은 일조량이 풍부한 전남, 전북의 해안가, 경북 내륙 지역에서

발전량이 많다. 풍력은 바람이 센 강원, 경북, 제주 등에서 주로 생산한다. 따라서 (가)는 수력, (나)는 태양광, (다)는 풍력이다.

감각 있는 풀이 TIP

우리나라의 신재생 에너지의 발전 분포는 우리나라 지형과 기후 조건을 고려하여 생각해야 한다. 태양광의 경우에는 뜨거운 햇빛을 이용한 산업인 천일제염업, 과수 재배와 발달 조건이 같으므로 전남, 전북, 경북 지역에서 태양광 발전이 높다는 것을 알 수 있다.

12 세계시민으로서 할 수 있는 노력

출제 예상 포인트 세계시민으로서의 바람직한 태도는 통합사회 8종 교과서에서 모두 다루고 있으므로 명확히 이해해 두어야 하며, 환경 문제, 지역 갈등 등 전 지구적 문제에 대처하는 바람직한 세계시민의 태도를 선지로 물을 수 있다.

자료는 세계시민주의에 관한 누스바움의 글이다. 누스바움은 개인이 개인 및 국가의 범주를 넘어서 인류와 세계 공동의 문제에 관심을 가지고 세계시민으로서 행동해야 한다고 강조하였다.

[선지 분석]

- ㉠ 인류의 보편적 가치를 중시하고 추구하는 것은 세계시민의 바람직한 태도이다.
- ㉡ 지구촌의 문제 해결에 적극적으로 참여하는 것은 더 큰 공동체인 인류 전체를 위해 행동하는 것으로 세계시민의 자세에 해당한다.
- ㉢ 지역 집단, 국가를 넘어 다른 나라의 문화와 가치를 존중하고 협력하는 것은 세계시민이 해야 할 노력이다.
- ㉣ 개별 사회 집단의 이익을 세계의 이익보다 우선시하는 것은 인류 전체보다 지역 집단 등 더 작은 중심원의 세계를 우선시하는 것이므로 세계시민의 자세와는 거리가 멀다.
- ㉤ 기후변화, 감염병 등은 전 지구적으로 일어나는 문제이므로 이와 같은 주제에 관심을 갖는 것은 세계시민의 바람직한 태도이다.

고득점을 위한 핵심 자료

누스바움의 세계시민주의

미국의 철학자 누스바움은 인간과 세계 전체에 대해 폭넓게, 포용적으로 사고하라는 세계시민주의 전통에 귀를 기울여야 한다고 주장하였다. 세계시민주의란 사람들이 민족이나 국가와 같은 특정 공동체에 속한다는 전통적인 관점에서 벗어나 인류가 보편적인 하나의 세계에 속한다고 보는 입장이다. 따라서 세계시민으로서 지녀야 할 바람직한 태도는 지역 사회와 국가의 경계를 넘어 세계의 공동된 문제에 관심을 기울이고 행동하는 것이다.

13 세계시민의 바람직한 삶의 자세

세계시민은 전 세계 사람들과 자신이 연결되어 있다는 인식을 바탕으로 보편적 가치를 추구하고 전 세계에서 발생하는 여러 문제를 해결하기 위해 적극적으로 참여하는 책임 있는 시민을 말한다.

[선지 분석]

- ㉠ 세계시민은 다양한 문화와 생활방식을 이해하고 받아들이려는 태도를 지닌다. 따라서 타인을 배척하기보다는 열린 마음으로 존중하고 연대하는 것이 세계시민의 삶의 자세이다.
- ㉡ 기후 위기, 빈곤, 차별 등의 문제를 단지 타인의 문제가 아닌 나와 연결된 문제로 인식하고 공동체적 실천에 참여하려는 자세는 세계시민의 삶의 태도에 부합한다.

- ㉔ 세계시민은 자신의 소비나 행동이 사회에 끼치는 영향을 고려하며, 윤리적 소비와 책임 있는 행동을 실천하려는 태도를 지닌다.
- ✗ 세계시민은 문화 상대주의적 태도를 지향하고, 자국 중심적 사고방식에서 벗어나고자 한다. 자국 문화를 기준으로 다른 문화를 평가하는 태도는 편견과 차별로 이어질 수 있다.

14 세계시민이 실천해야 할 구체적인 행동

세계시민은 개인의 삶이 지구 전체에 미치는 영향을 인식하고 정의롭고 지속가능한 미래를 위해 실천적인 노력을 기울인다.

[선지 분석]

- ㉑ 세계시민은 인권 존중을 소비의 기준으로 삼아 아동의 인권을 침해하는 제품을 구매하지 않아야 한다.
- ✗ 세계시민은 지속가능한 환경을 지향하므로 동물의 생명권이나 지속가능성을 파괴하는 소비는 지양해야 한다.
- ㉒ 세계시민은 전쟁, 분쟁, 재난과 같은 상황에서 연대 의식을 토대로 취약한 사람들을 돕기 위해 노력해야 한다.
- ㉓ 세계시민은 공정 무역 제품 구매와 같은 윤리적 소비를 통해 정의와 인권을 실현하기 위해 노력해야 한다.

15 과학기술의 발전에 따른 공간과 삶의 변화

(가)는 과학기술 발전이 인간 삶의 질을 높이고 효율성과 자유를 증대할 것이라고 보는 반면, (나)는 과학기술이 발전함에 따라 인간이 기술에 종속되고, 사회적 갈등이나 혼란이 발생할 수 있다고 본다.

[선지 분석]

- ① (가)는 과학기술의 발전이 인간의 삶을 더 편리하고 풍요롭게 할 것이라고 본다.
- ② (가)는 과학기술의 발전으로 인해 사람들의 활동 범위나 선택의 폭이 넓어질 것이라고 전망한다.
- ✗ (나)는 과학기술이 발전하면 인간이 기술에 지나치게 의존하게 되고, 인간 소외 문제가 발생할 수 있다고 본다.
- ④ (나)는 과학기술이 발전하면 새로운 갈등과 부작용이 발생하여 사회적 혼란이 가속화될 수 있다고 본다.
- ⑤ (가)와 (나)는 모두 과학기술의 변화가 미래 사회의 공간과 삶에 영향을 미칠 것이라고 본다.

16 미래 사회의 변화에 대한 통합적 관점의 탐구

제시문은 인공지능의 발전이 인류의 삶에 긍정적 또는 부정적 영향을 미칠 수 있으므로, 세계시민은 이를 시간적 관점, 공간적 관점, 사회적 관점, 윤리적 관점에서 통합적으로 탐구하고 해결 방안을 모색해야 한다고 강조하고 있다.

[선지 분석]

- ① 세계시민은 기술 발전이 인류 전체에 바람직한 영향을 미치는지 성찰해야 하며, 인간의 존엄성과 같은 보편적 가치의 실현을 중시해야 한다.
- ② 시간적 관점은 과거, 현재, 미래를 아우르며 현상을 이해하는 관점이다. 과거와 비교하여 인공지능으로 인한 문제의 양상이나 규모가 어떻게 변했는지를 탐구하는 것은 시간적 관점에 해당한다.
- ✗ 사회 문제 해결을 위한 보편적 규범을 탐구하는 것은 윤리적 관점에 해당한다.
- ④ 사회적 관점은 사회 구조, 제도, 정책 등의 측면에서 문제를 바라보고 해결 방안을 모색하는 관점이다.
- ⑤ 다양한 사회 현상을 도덕적 가치와 도덕규범에 따라 평가하고 사회가 나아갈 바람직한 방향을 제시하는 관점은 윤리적 관점이다.

1등급 완성 문제

182~183쪽

01 ④	02 ③	03 ③	04 ③	05 ⑤	06 ④
07 ③	08 ⑤				

01 국가별 1차 에너지원별 에너지 소비량

출제 예상 포인트 국가별 1차 에너지원별 소비 구조가 제시되는 경우, 세계적으로 에너지 사용량이 많은 국가가 대학수학능력시험과 전국연합학력평가에서 자료로 제시되는 경우가 많다. 미국, 중국, 러시아, 브라질 등 에너지 소비가 많은 국가의 에너지 소비 특징을 반드시 알아 두어야 한다.

제시된 네 국가는 세계적으로 에너지 소비량이 높은 국가들이다. 중국은 석탄 소비가 세계 최대이며 국가 내 에너지원별 소비 비율도 석탄이 가장 높으므로 (다)는 석탄이다. 미국은 석유와 천연가스를 비슷하게 소비하고, 러시아는 천연가스의 소비량이 많으므로 (가)는 석유, (나)는 천연가스이다. 브라질은 국가 내 에너지원별 소비 비율에서 수력의 비율이 상대적으로 높고, 중국도 수력 생산 및 소비가 세계 1위이므로 (라)는 수력이다.

[선지 분석]

- ✗ (가)는 석유이다.
- ✗ 천연가스는 가정용, 산업용으로 주로 이용되며, 석유는 수송용으로 가장 많이 이용된다.
- ✗ 석탄의 최대 수출 국가는 인도네시아(2024년)이다. 중국은 석탄의 최대 생산, 소비, 수입국이다.
- ④ 수력은 석탄보다 대기 오염 물질 배출량이 적다.
- ✗ 세계 1차 에너지 소비 구조에서 가장 높은 비율을 차지하는 것은 석유이다.

감각 있는 풀이 TIP

국가별 1차 에너지원별 소비 구조가 제시될 경우, 경제가 성장하는 개발 도상국인 중국이 석탄 소비가 많다는 점, 선진국인 미국이 석유와 천연가스의 생산이 많은 미국은 두 자원 사용량이 비슷하게 많다는 점, 천연가스의 주요 생산국인 러시아는 천연가스의 소비가 많다는 점을 기억하면 자료를 쉽게 해석할 수 있다.

02 석유와 석탄의 주요 수출국

출제 예상 포인트 화석 에너지의 주요 수출국 현황과 관련된 자료를 통해 각 에너지원별 분포 특징을 파악할 수 있다. 주요 에너지 자원 수출국 자료가 대학수학능력시험과 전국연합학력평가에서 자주 출제되는 편이므로 각 화석 에너지의 주요 수출국을 구분해서 알아 두어야 한다.

화석 에너지는 편재성으로 인해 국가 간 이동이 나타난다. 석탄은 인도네시아, 오스트레일리아가 주요 수출국이며, 석유는 미국, 사우디아라비아, 러시아 등이 주요 수출국이다. 천연가스는 미국, 러시아, 카타르, 이란 등이 주요 수출국이다. 따라서 (가)는 석탄, (나)는 석유이다.

감각 있는 풀이 TIP

미국, 러시아, 오스트레일리아 등 자원 생산량이 많은 국가들은 화석에너지의 주요 수출국이다. 석유의 수출국 중 상위권에는 사우디아라비아, 천연가스의 수출국 중 상위권에는 이란, 석탄의 수출국 중 상위권에는 인도네시아가 포함되므로 이들 국가를 기억하면 어떤 자원인지 쉽게 파악할 수 있다.

03 주요 국가의 세 화석 에너지 생산과 소비 특징

출제 예상 포인트 화석 에너지의 생산 및 소비 상위 국가는 통합 사회 8종 교과서에서 설명하는 내용이므로 대학수학능력시험에 출제될 가능성이 높다. 지리 단원에서는 시기의 변화에 따라 최신 자료를 파악하는 것이 매우 중요하다. 수능 예시 문항과 전국 연합학력평가에서도 자주 등장하는 자료이므로 명확히 알아 두어야 한다.

미국, 러시아, 이란의 생산 및 소비 비율이 높은 (가)는 천연가스이다. 미국의 생산 및 소비 비율이 가장 높고, 사우디아라비아와 러시아의 생산 및 소비 비율이 높은 (나)는 석유이다. 중국의 생산 및 소비 비율이 압도적으로 높고, 인도와 인도네시아의 생산 비율이 높은 (다)는 석탄이다.

[선지 분석]

- ✗ 천연가스는 주로 석유와 함께 신생대 제3기층의 배사 구조에 매장되어 있어 석유와 마찬가지로 편재성이 높다.
- ✗ 석유의 최대 수출국은 미국(2024년)이다.
- ㉠ 석탄은 천연가스보다 상용화된 시기가 이른다. 석탄은 산업 혁명 초창기부터 사용되던 에너지원으로 화석 에너지 중 상용화된 시기가 가장 빠르다.
- ㉡ 석탄은 산업용으로 이용되는 비율이 80%로 매우 높고, 석유는 수송용으로 이용되는 비율이 60%로 높고, 산업용으로 사용되는 비율은 약 10% 미만이다.

감각 있는 풀이 TIP

각 화석 에너지의 주요 생산국과 소비국으로 화석 에너지를 파악할 때, 석유는 페르시아만에 위치한 사우디아라비아, 천연가스 역시 페르시아만에 위치한 이란을 기억해 두면 두 에너지 자원을 구분할 수 있다. 선진국들은 기후변화를 대비하는 다양한 정책을 통해 석탄의 소비를 줄이는 추세이다. 석탄의 상위권 국가에는 대부분 개발 도상국으로 중국이 50% 이상으로 압도적이고, 인도가 약 14%로 그 뒤를 잇는다.

04 네 국가의 신재생 에너지 생산

출제 예상 포인트 신재생 에너지 발전 비율은 통합사회 8종 교과서에서 설명하고 있는 내용이므로 출제 가능성이 높다. 기후변화에 대응하는 방식 중 하나이기도 하며, 자연환경의 제약을 많이 받는 발전 방식이므로 자연환경과 인간 단원과 연계해서 출제될 수 있다.

신재생 에너지 생산량이 가장 많은 중국은 창장강(양쯔강)과 같은 큰 하천을 이용한 수력의 생산 비율이 가장 높으므로 A는 수력이다. 영국은 대서양에서 연중 불어오는 편서풍을 이용한 풍력 생산 비율이 높으므로 B는 풍력, 에스파냐 역시 대서양을 끼고 있어 풍력의 생산 비율이 높으며, 지중해성 기후의 여름철 고온 건조한 기후를 활용해 태양광(열)의 생산 비율도 높으므로 C는 태양광(열), 튀르키예는 알프스-히말라야 조산대에 위치하여 지열 생산이 이루어지고 있으므로 D는 지열이다.

[선지 분석]

- ✗ 바람이 지속적으로 많이 부는 지역이 생산에 유리한 것은 풍력이다.
- ✗ 판의 경계부에서 개발 잠재력이 높은 것은 지열이다.
- ㉢ 태양광(열)은 지열보다 발전 시 기상 조건의 영향을 많이 받는다.
- ✗ 튀르키예는 지열보다 수력 발전량이 많다.
- ✗ 영국은 태양광(열)보다 풍력 발전량이 많다.

감각 있는 풀이 TIP

지열 발전은 인도네시아, 튀르키예, 필리핀과 같이 판의 경계에 위치한 지역이나 화산 지역과 같이 특정한 조건이 필요하여 다른 신재생 에너지에 비해 가동 중인 국가의 수가 상대적으로 적다. 미국, 인도네시아, 필리핀, 튀르키예, 아이슬란드, 케냐 등 판의 경계에 위치한 국가에서 생산이 활발하므로 이들 국가를 기억해 두면 문제 풀이에 도움이 된다.

05 에너지 자원과 영역 갈등

출제 예상 포인트 에너지 자원을 둘러싼 국가 간 영역 분쟁에 관한 자료이다. 에너지 자원이 세계에서 중요한 가치를 지니므로 이를 둘러싸고 갈등이 벌어지기 때문에 에너지 자원의 특징, 영역 분쟁이 연계되어 출제될 수 있다.

에너지 자원은 중요성 때문에 국가 간 영역 갈등이 많다. 센카쿠 열도(다오위다오)는 중국, 일본, 타이완이 영유권을 주장하고 있으며, 난사 군도는 중국, 베트남, 필리핀, 말레이시아, 브루나이, 타이완이 영유권을 주장하고 있다. 두 지역은 모두 석유와 천연가스가 매장된 것으로 알려져 있다.

[선지 분석]

- ㉠ 중국은 두 지역 모두에서 영유권을 주장하고 있다.
- ㉡ 석유는 세계 1차 에너지 자원에서 소비 비율이 가장 높다.
- ㉢ 천연가스는 냉동 액화 기술의 개발 이후 이동할 수 있는 지역이 증가하여 소비량이 급증하였다.

고득점을 위한 핵심 자료

에너지 자원을 둘러싼 주요 국제 갈등 지역

갈등 지역	갈등 국가
카스피해	러시아, 아제르바이잔, 이란, 투르크메니스탄, 카자흐스탄
센카쿠 열도	일본, 중국, 타이완
난사 군도	중국, 필리핀, 브루나이, 말레이시아, 베트남, 타이완
북극해	러시아, 캐나다, 미국, 덴마크, 노르웨이

06 영국의 에너지 소비 구조 변화

출제 예상 포인트 영국의 에너지 자원의 구조 변화를 제시하면서 각 자원의 특징을 묻고 있다. 한 지역을 중심으로 지리적, 사회적 변화를 글로 제시하는 문항은 수능 예시 문항에서 자주 출제되는 방식이므로 관련 개념을 꼼꼼히 알아 두고 종합적으로 이해할 수 있어야 한다.

산업 혁명이 시작된 국가인 영국은 산업 혁명 초기에 석탄 생산 및 소비가 많았으므로 ㉠은 석탄, 이후 북해 유전 개발과 함께 석유 소비가 증가하였으므로 ㉡은 석유, 최근에는 대서양에 위치한 섬이라는 지리적 특성을 활용해 대서양으로부터 연중 불어오는 편서풍을 이용한 풍력 발전이 활발하므로 ㉢은 풍력이다.

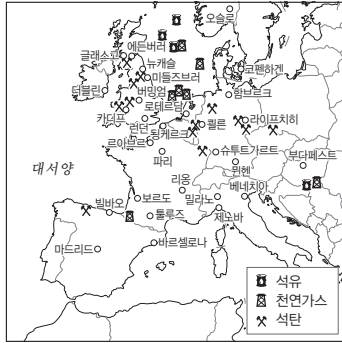
[선지 분석]

- ✗ 석탄은 주로 고기 조산대에 매장되어 있다.
- ✗ 석유의 주요 수출국은 미국, 사우디아라비아, 러시아 등이 있다.
- ✗ 풍력은 탁월하게 불어오는 바람을 이용한 에너지이다.
- ㉣ 석탄은 석유보다 연소 시 대기 오염 물질 배출량이 많다.
- ✗ 편재성이 큰 석유는 풍력보다 국제 이동량이 많다.

고득점을 위한 핵심 자료

유럽의 에너지 자원 분포

유럽에서는 영국, 독일을 중심으로 석탄 산지가 분포한다. 산업 혁명은 이들 지역을 중심으로 시작되었다. 북해에는 석유와 천연가스가 분포한다. 북해 연안에 위치한 노르웨이는 대표적인 천연가스 수출국이기도 하다. 한편, 유럽은 신재생 에너지의 생산이 활발하다.



● 유럽의 에너지 자원 분포

대서양에서 연중 불어오는 편서풍의 영향권에 위치한 영국, 덴마크, 독일 등은 풍력 발전 비율이 높고, 지중해성 기후 지역에 위치한 에스파냐, 이탈리아 등은 태양광 발전 비율이 상대적으로 높다. 빙하 지형이 발달한 노르웨이, 러시아는 수력 발전 비율이 높으며, 아이슬란드는 갈라지는 판 경계에 위치하여 지열 발전 비율이 높다.

07 탄소 배출권 거래제

출제 예상 포인트 탄소 배출권 거래제는 통합사회 5종 교과서에서 공통적으로 설명하는 자료이므로 대학수학능력시험에 출제될 가능성이 높다. 전국연합학력평가에서도 기후변화 주제와 관련해 자주 등장하는 자료이므로 잘 알아 두어야 한다.

탄소 배출권 거래제는 1997년 채택된 국제 협약인 교토 의정서에 담긴 내용으로, 허용된 배출량 내에서 잉여 배출량이나 초과 배출량에 대한 권한을 사고팔 수 있게 만든 제도이다.

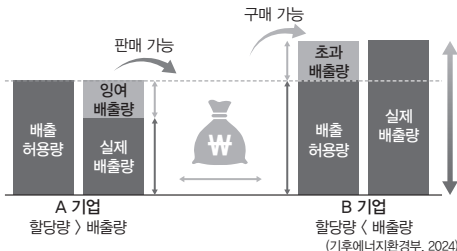
[선지 분석]

- ㉠ 유리적 소비는 지속가능한 발전을 위한 개인적 노력의 사례이다.
- ㉡ 탄소 배출권 거래제는 온실가스의 배출량을 억제하기 위해 만든 제도이다.
- ✕ 탄소 배출권 거래제는 국제 협약에서 결정된 내용으로, 국제적 차원의 노력 사례이다.

고득점을 위한 핵심 개념

탄소 배출권 거래제

탄소 배출권이란 이산화탄소, 메테인, 아산화질소 등 6대 온실가스를 일정 기간 배출할 수 있는 권리



● 탄소 배출권 거래제

이다. 온실가스 배출을 규제하기 위한 제도로, 온실가스 중 이산화탄소의 비중이 가장 높아 탄소 배출권으로 명명되었으며, 1997년 지구 온난화 방지를 위한 협약인 교토 의정서에서 도입되었다. 발급된 탄소 배출권은 시장에서 자유롭게 거래할 수 있다. 정부가 기업에 배출권을 할당하면 기업은 초과하거나 남은 배출량을 배출권 형태로 시장에서 거래할 수 있다. 탄소 배출량 전체 양이 정해져 있어 탄소 배출 통제 및 감축 효과가 있다.

08 RE100과 신재생 에너지의 생산 및 소비 확대

출제 예상 포인트 국제 캠페인인 RE100 및 신재생 에너지에 대한 자료이다. RE100은 최근 주목받고 있는 환경 캠페인이며 통합사회 4종 교과서에서 공통적으로 설명하는 내용이므로 출제될 가능성이 높다. 이 소재가 문항에 사용될 경우 재생 에너지원별 특징을 묻는 구조로 주로 문항이 구성될 수 있으니 에너지원별 특징을 확실히 알아 두어야 한다.

RE100이란 전력을 재생 에너지로 100% 충당하자는 국제적 캠페인으로, 해당 기업들은 지역별 지리적 특성을 활용해 신재생 에너지를 개발하여 이용하고 있다. 사막의 기후적 환경을 이용해 발전하는 ㉠은 태양광이며, 연중 편서풍이 불어오는 기후를 활용하는 ㉡은 풍력, 풍부한 수자원을 바탕으로 생산하므로 ㉢은 수력, 판의 경계에서 지구 내부의 에너지를 활용하는 ㉣은 지열이다.

[선지 분석]

- ✕ 양량이 풍부하고 낙차가 큰 곳이 발전에 유리한 것은 수력이다.
- ✕ 지각 내 축적된 열에너지를 이용해 발전하는 것은 지열이다.
- ㉠ 태양 에너지를 활용하는 태양광은 지구 내부 에너지를 활용하는 지열보다 발전 시 기상 조건의 영향을 많이 받는다.
- ㉡ 우리나라는 태양광의 발전량이 풍력의 발전량보다 높다.

고득점을 위한 핵심 개념

RE100과 CF100

RE100 (Renewable Electricity 100%)	<ul style="list-style-type: none"> 기업이 사용하는 전기의 100%를 재생 에너지로 전환하는 글로벌 캠페인 현재 세계적인 IT 기업들을 비롯해 400여 개 글로벌 기업이 참여함.
CF100 (Carbon Free 100%)	<ul style="list-style-type: none"> 재생 에너지뿐 아니라 원자력, 청정 수소, 탄소 포집·저장(CCS) 등 모든 무탄소 에너지원을 포함하는 개념 한 글로벌 기업이 RE100을 달성한 후 제시함. 우리나라 정부는 2023년 CF100을 RE100의 대안으로 제시함. 국제적으로는 RE100을 주요 기준으로 인식함.