



지학사

수능 출제 유형을  
쉽게 풀어 주는 필수 기본서

# 수능포

2022 개정 교육과정 **통합사회**

# 이 책의 구성과 특징

## 본책

**04 다양한 문화권의 특징과 삶의 방식**

**12 다양한 정의관의 특징과 발달형 특성**

이 페이지는 '다양한 문화권의 특징과 삶의 방식' 및 '다양한 정의관의 특징과 발달형 특성'에 대한 학습 자료를 보여줍니다. 각 문항에는 문제 상황, 선택지, 정답, 그리고 상세한 해설이 포함되어 있습니다. 해설에는 관련 개념 설명, 예시, 그리고 논리적 추론 과정이 포함되어 있습니다.

**중요 자료**

**중요 자료**

이 페이지는 '중요 자료 분석'에 대한 학습 자료를 보여줍니다. 주요 내용은 '중요 자료 분석'이라는 제목의 글과 함께, 다양한 형태의 자료(그래프, 표, 지도 등)를 분석하는 방법과 유의미한 정보를 추출하는 전략을 설명하고 있습니다. 또한, '중요 자료'라는 제목의 글도 포함되어 있습니다.

### 핵심 개념 정리

통합사회에서 수능에 출제될 수 있는 핵심 개념을 강별로 일목요연하게 정리하였습니다. 중요 자료와 연결되는 핵심 개념과 공부 팁도 꼭 확인하세요.

### 중요 자료 분석

시험에 출제될 수 있는 중요 자료를 선별하여 빈틈없이 꼼꼼하게 분석하였습니다. 중요 자료와 함께 제시된 OX 문항을 풀어 보면서 자료를 제대로 이해했는지 확인하세요.

**기술 문제 분석**

**기술 문제 분석**

이 페이지는 '기술 문제 분석'에 대한 학습 자료를 보여줍니다. 주요 내용은 '기술 문제 분석'이라는 제목의 글과 함께, 다양한 형태의 기술 문제(예: 그래프, 표, 지도 등)를 분석하는 방법과 유의미한 정보를 추출하는 전략을 설명하고 있습니다. 또한, '기술 문제'라는 제목의 글도 포함되어 있습니다.

**기술 문제 분석**

**기술 문제 분석**


이 페이지는 '기술 문제 분석'에 대한 학습 자료를 보여줍니다. 주요 내용은 '기술 문제 분석'이라는 제목의 글과 함께, 다양한 형태의 기술 문제(예: 그래프, 표, 지도 등)를 분석하는 방법과 유의미한 정보를 추출하는 전략을 설명하고 있습니다. 또한, '기술 문제'라는 제목의 글도 포함되어 있습니다.

### 기술 문제 분석

기술 문제를 완벽하게 분석하고 앞으로 출제될 수 있는 문항을 연습할 수 있도록 구성하였습니다. **해결 Flow** 를 통해 문제를 해결하는 전략을 익히고, 동형 문제와 통합형 문제를 풀어 봄으로써 수능 유형을 완벽하게 파악할 수 있습니다.


# 수능의 기초 공사를 탄탄히!!

고등학교 1학년에서 배운 통합사회는 수능 교과입니다.  
수능에 나올 **핵심 정리**부터 **1등급 완성 문제**까지 탄탄하게 구성하였습니다.



## 수능 기본 문제

수능에 꼭 나올 핵심 문제와 필수 유형의 문제로 구성하였습니다.  
각 영역의 기본 문제를 통해 탄탄하게 실력을 향상할 수 있습니다.



## 1등급 완성 문제

수능에서 1등급 달성을 위해 꼭 정복해야 할 고난도 문제로 구성하였습니다.  
QR코드로 제공되는 일타 선생님의 친절한 해설 강의를 통해 고난도 문제를 쉽게 이해할 수 있습니다.

### 해설 강의 QR코드




문항 풀이 동영상

### <1등급 완성 문제> 동영상 강의 무료 제공

풀이 어려운 <1등급 완성 문제>를 통합사회 일타 선생님의 상세한 해설 동영상 강의와 함께 확인할 수 있습니다.

## 정답과 해설



문제 해설, 선지 분석, 출제 예상 포인트, 고득점을 위한 핵심 개념과 자료, 감각 있는 풀이 TIP을 제공합니다. 틀린 문항, 애매한 문항도 확실하게 이해할 수 있는 쉽고 자세한 해설을 제공합니다.

## 부록: 수능 핵심 테마 24



수능에 출제될 가능성이 높은 주제를 엄선하여 구조화하였습니다. 출제 예상 주제를 한눈에 정리하면 어느 시험에서나 자신감을 얻을 수 있습니다.



# 이 책의 차례

## 통합사회 1

### I. 통합적 관점 ~ II. 인간, 사회, 환경과 행복

- 01. 인간, 사회, 환경에 대한 관점과 행복** 008

### III. 자연환경과 인간

- 02. 자연환경과 인간 생활** 016
- 03. 인간과 자연의 관계와 환경 문제** 026

### IV. 문화와 다양성

- 04. 다양한 문화권의 특징과 삶의 방식** 036
- 05. 문화 변동과 전통문화** 046
- 06. 문화 상대주의와 보편 윤리 및 다문화 사회** 054

### V. 생활공간과 사회

- 07. 산업화와 도시화** 062
- 08. 교통·통신 및 과학기술의 발달과 지역의 공간 변화** 070

## I. 인권 보장과 헌법

- 09. 인권의 의미와 현대 사회의 인권 082
- 10. 인권 보장을 위한 헌법과 시민 참여 및 인권 문제 090

## II. 사회정의와 불평등

- 11. 정의의 의미와 실질적 기준 098
- 12. 다양한 정의관의 특징과 불평등 현상 106

## III. 시장경제와 지속가능발전

- 13. 자본주의 시장경제의 발전 116
- 14. 합리적 선택과 경제 주체의 역할 124
- 15. 자산 관리와 금융 생활 설계 132
- 16. 국제 분업과 무역 140

## IV. 세계화와 평화

- 17. 세계화의 양상과 미래 148
- 18. 평화 실현과 통일을 위한 노력 156

## V. 미래와 지속가능한 삶

- 19. 세계의 인구와 인구 문제 164
- 20. 자원 소비와 지속가능한 발전 및 세계시민으로서의 삶 174

# 통합사회1

## » 시험 출제 예상 포인트

### I. 통합적 관점

인간, 사회, 환경을 바라보는  
다양한 관점

- 다양한 관점의 필요성 이해
- 다양한 관점의 종류와 특성 비교
- 사회 현상·사회 문제에서 다양한 관점 유추

인간, 사회, 환경의  
통합적 탐구

- 통합적 관점의 의미와 필요성 이해
- 통합적 관점으로 사회 현상 이해
- 통합적 관점을 적용한 탐구 절차 이해

### II. 인간, 사회, 환경과 행복

행복한 삶을 찾아서

- 아리스토텔레스의 행복론 이해
- 에피쿠로스의 행복론 이해
- 유교·불교·도가의 행복론 비교
- 시대적 상황에 따른 행복의 기준 파악
- 지역적 여건에 따른 행복의 기준 파악

행복한 삶을 실현하기  
위한 조건

- 『택리지』에 나타난 전통 사회의 이상적인 정주 환경 파악
- 경제적 안정의 중요성에 대한 맹자의 입장 이해
- 소득과 행복의 관계 파악
- 민주주의의 실현과 행복의 관계 파악
- 도덕적 실천에 대한 소크라테스의 입장 이해

### III. 자연환경과 인간

자연환경과 인간 생활	<ul style="list-style-type: none"> <li>· 세계의 기후 분포 이해</li> <li>· 세계의 대지형 및 특수 지형 분포 이해</li> <li>· 기후-지형과 인간 생활 비교</li> <li>· 자연환경의 변화가 인간에게 미치는 영향 파악</li> </ul>	<ul style="list-style-type: none"> <li>· 자연재해의 의미와 종류별 특징 비교</li> <li>· 우리나라에서 발생하는 자연재해 특징 이해</li> <li>· 자연재해에 대처하는 주체별 노력 이해</li> </ul>
인간과 자연의 관계	<ul style="list-style-type: none"> <li>· 인간 중심주의 자연관과 생태 중심주의 자연관의 특징</li> <li>· 베이컨과 레오폴드의 환경 윤리 비교</li> </ul>	<ul style="list-style-type: none"> <li>· 동양의 전통적 자연관 이해</li> <li>· 인간과 자연의 바람직한 관계 탐구</li> </ul>
환경 문제를 해결하기 위한 노력	<ul style="list-style-type: none"> <li>· 환경 문제의 원인과 특징 파악</li> <li>· 환경 문제 해결을 위한 국제 협약별 특징 파악</li> </ul>	<ul style="list-style-type: none"> <li>· 환경 문제 해결을 위한 주체별 노력 이해</li> <li>· 생태시민의 의미와 실천 노력 파악</li> </ul>

### IV. 문화와 다양성

다양한 문화권의 특징과 삶의 방식	<ul style="list-style-type: none"> <li>· 문화와 문화권 의미 이해</li> <li>· 자연환경에 영향을 받은 문화권 비교</li> </ul>	<ul style="list-style-type: none"> <li>· 인문환경에 영향을 받은 문화권 비교</li> <li>· 세계의 다양한 문화권 비교</li> </ul>
문화 변동과 전통문화	<ul style="list-style-type: none"> <li>· 문화 변동의 요인 및 양상 이해</li> <li>· 사례를 통한 문화 변동의 요인 및 양상 파악</li> </ul>	<ul style="list-style-type: none"> <li>· 전통문화의 창조적 계승 방안 파악</li> </ul>
문화 상대주의와 보편 윤리	<ul style="list-style-type: none"> <li>· 문화적 차이를 이해하는 태도 비교</li> <li>· 문화 상대주의의 한계 파악</li> </ul>	<ul style="list-style-type: none"> <li>· 보편 윤리를 바탕으로 문화를 성찰해야 하는 까닭 이해</li> </ul>
다문화 사회와 문화적 다양성 존중	<ul style="list-style-type: none"> <li>· 다문화 사회의 형성 배경과 양상 이해</li> <li>· 다문화 사회에서의 갈등 발생 원인과 해결 방안 파악</li> </ul>	<ul style="list-style-type: none"> <li>· 다문화 정책의 바탕이 되는 이론 비교</li> </ul>

### V. 생활공간과 사회

산업화와 도시화에 따른 변화	<ul style="list-style-type: none"> <li>· 산업화와 도시화 의미 이해</li> <li>· 산업화와 도시화에 따른 변화 이해</li> </ul>	<ul style="list-style-type: none"> <li>· 산업화와 도시화에 따른 문제점과 해결 방안 파악</li> </ul>
교통·통신 및 과학기술의 발달에 따른 변화	<ul style="list-style-type: none"> <li>· 교통·통신 및 과학기술의 발달에 따른 변화 이해</li> <li>· 교통·통신 및 과학기술의 발달에 따른 문제점과 해결 방안 파악</li> </ul>	
우리 지역의 변화와 지역 조사 과정	<ul style="list-style-type: none"> <li>· 우리 지역의 변화와 지역 조사의 필요성 이해</li> <li>· 지역 조사 과정 파악</li> </ul>	

# 01

## 인간, 사회, 환경에 대한 관점과 행복

### 1 인간, 사회, 환경을 바라보는 관점 자료 01

#### 01 인간, 사회, 환경을 바라보는 다양한 관점

##### 1. 시간적 관점

의미	어떤 현상이 나타나기까지의 역사적 배경과 시대적 맥락에 초점을 두고 사회 현상을 살펴보는 것
특징	과거의 사회 현상을 토대로 현재의 사회 현상을 이해하고 미래를 예측

##### 2. 공간적 관점

의미	장소, 지역, <b>공간적 상호 작용</b> 에 중점을 두고 사회 현상을 살펴보는 것 <small>(TIP) 교통과 통신의 발달에 따라 서로 다른 공간에서 이루어지는 사람, 재화, 정보의 흐름을 말해.</small>
특징	공간적 맥락에서 인간, 사회, 환경 간의 상호 관계를 분석

##### 3. 사회적 관점

의미	사회 구조 및 사회 제도를 중심으로 사회 현상을 탐구하고 대안을 살펴보는 것
특징	사회 구조 및 사회 제도가 사회 현상에 미치는 영향을 파악하여 정책 대안을 마련하는 데 기여

##### 4. 윤리적 관점

의미	도덕적 가치와 규범을 바탕으로 사회 현상을 해석하고, 문제점을 찾아 바람직한 삶의 모습을 살펴보는 것
특징	다양한 사회 현상을 도덕적 가치와 도덕규범에 따라 평가하고, 사회가 나아가야 할 바람직한 방향을 제시

#### 02 인간, 사회, 환경의 통합적 탐구

- 통합적 관점의 의미:** 시간적, 공간적, 사회적, 윤리적 관점을 통합하여 인간, 사회, 환경을 이해하는 관점
- 통합적 관점의 필요성:** 사회 현상을 정확하게 이해하고 사회 문제에 관한 근본적인 해결책을 마련
- 통합적 탐구 사례:** 고령화 현상에 따른 사회 문제와 해결 방안

관점	탐구 질문	자료 수집	해결 방안 제시
시간적 관점	고령화 현상은 시대별로 어떻게 진행되었는가?	연도별 고령 인구 비율 통계	시간적, 공간적, 사회적, 윤리적 관점을 종합적으로 고려하여 실현 가능하고 지속가능한 대안 도출
공간적 관점	고령화 현상의 지역별 특징은 무엇인가?	수도권과 지방의 고령화를 비교 자료	
사회적 관점	노인 복지와 관련한 사회 제도에는 어떤 것이 있는가?	노인 복지 제도 및 연금 제도 자료	
윤리적 관점	복지의 세대 간 형평성 문제에 대한 바람직한 해결 방안은 무엇인가?	세대 간 복지 갈등에 관한 기사	

### 2 행복의 의미와 기준

#### 01 행복의 의미와 기준

- 행복의 의미:** 삶에서 충분한 만족감과 즐거움을 느끼는 상태
- 시대적 상황에 따른 행복의 기준 자료 03**

선사 시대	생존과 외부의 위협으로부터의 안전
고대 그리스 시대	아리스토텔레스: 이성의 기능을 탁월하게 발휘하여 유덕한 사람이 되는 것
헬레니즘 시대	<ul style="list-style-type: none"> <li>에피쿠로스: 몸의 고통과 마음의 불안이 사라진 평정심의 상태</li> <li>스토아학파: 정념의 지배에서 벗어난 부동심의 상태</li> </ul>
중세 시대	신앙을 통해 신과 하나가 되는 것
근대	공리주의: 최대 다수의 최대 행복이라는 결과의 유용성
현대	개인의 주관적 만족

#### 3. 지역적 여건에 따른 행복의 기준

자연환경	<ul style="list-style-type: none"> <li>건조 기후 지역: 깨끗한 물의 확보</li> <li>일조량이 부족한 지역: 충분한 일조량</li> </ul>
인문환경	<ul style="list-style-type: none"> <li>독재 국가: 민주주의와 정치적 자유의 실현</li> <li>빈곤 지역: 생존을 위한 물질적 안정의 실현</li> </ul>

(TIP) 인문환경이란 종교, 문화, 산업 등과 같이 인간의 활동으로 형성되는 환경을 말해.

#### 02 삶의 목적과 행복의 실현

- 삶의 목적으로서의 행복:** 행복의 의미와 기준은 여러 상황에 따라 달라질 수 있지만, 행복은 그 자체로 삶의 궁극적 목적
- 행복을 실현하기 위한 노력**
  - (1) 자기 삶에 대한 성찰
  - (2) 적극적이고 긍정적인 삶의 태도
  - (3) 사회적 존재로서 타인에게 나눔과 배려 실천

#### 03 행복한 삶을 실현하기 위한 조건

##### 1. 질 높은 정주 환경과 경제적 안정

질 높은 정주 환경	깨끗한 자연환경과 치안, 교육, 문화 등 사회 복지 제도가 잘 갖추어져 있는 상태
경제적 안정	생활에 필요한 재화나 서비스를 안정적이고 일정하게 누릴 수 있는 상태

##### 2. 민주주의 발전과 도덕적 실천 자료 04

민주주의 실현	<ul style="list-style-type: none"> <li>독재 국가에서는 인권이 보장되지 않아 국민이 자기 삶에 만족하고 행복을 느끼기 어려움.</li> <li>민주적 제도와 시민이 적극적으로 정치에 참여할 수 있는 정치 문화를 형성해야 함.</li> </ul>
도덕적 실천	<ul style="list-style-type: none"> <li>타인을 배려하거나 곤경에 처한 사람을 자발적으로 도울 때 심리적 만족감과 행복을 느낄 수 있음.</li> <li>역지사지(易地思之)의 마음을 바탕으로 사회적 약자를 배려하고 도덕적 성찰을 실천해야 함.</li> </ul>

# 중요 자료 분석

## 자료 01 통합적 관점과 핵심 질문

통합적 관점은 시간적, 공간적, 사회적, 윤리적 요소를 함께 고려하여 사회 현상과 사회 문제를 다각도로 분석하고, 근본적이고 지속가능한 해결 방안을 모색할 수 있도록 한다. 또한 각 관점에 따른 핵심 질문은 사회 현상과 사회 문제에 대한 통합적 사고를 발휘하게 하고, 문제를 구조화하여 탐구하도록 돕는다.

관점	핵심 질문
시간적 관점	이 문제는 어떤 역사적 과정을 거쳐 나타났는가?
공간적 관점	이 문제는 어떤 지역이나 공간에서 더 두드러지게 나타나는가?
사회적 관점	이 문제는 사회 제도나 구조와 어떤 관련이 있는가?
윤리적 관점	이 문제는 도덕적으로 어떤 가치 판단을 요구하는가?

**자료 분석** 통합적 관점은 사회 현상과 사회 문제를 깊이 있게 이해하고 근본적인 해결 방안을 모색하기 위해 필요한 사고의 틀이다. 각 관점은 사회 문제의 성격과 원인을 다양한 각도에서 바라보게 하고, 각 관점에 따른 핵심 질문은 탐구의 방향을 구조화하는 데 도움을 준다. 또한 사회 현상과 사회 문제를 시간, 공간, 사회, 윤리라는 네 가지 관점에 따라 입체적으로 분석할 수 있으며, 복잡한 문제에 대해 비판적으로 사고하고 성찰하는 태도를 기를 수 있다.

- (1) 시간적 관점은 사회 현상과 사회 문제를 사회 제도나 구조와의 관련성에 따라 평가하는 관점이다. (O, X)
- (2) 사회 현상과 사회 문제의 근본적인 해결 방안을 모색하기 위해서는 통합적 관점에서 접근해야 한다. (O, X)
- (3) 공간적 관점은 사회 현상과 사회 문제에 대한 도덕적 판단 기준을 모색하는 관점이다. (O, X)

## 자료 02 동양의 행복관

유교	선한 본성을 함양하여 군자가 되고, 인(仁)을 실천하여 대동 사회(大同社會)를 실현하는 것 <small>→ (제10) 성인(聖人)이 다스리며 인(仁)의 정신이 구현된 도덕 공동체를 말해.</small>
불교	수행을 통해 연기의 법을 깨닫고 고통과 윤회에서 벗어나 해탈에 이르는 것
도가	인위적인 것에서 벗어나 자연의 순리에 따르는 무위자연(無爲自然)의 삶을 살아가는 것

**자료 분석** 유교는 수양을 통한 인(仁)의 실천을, 불교는 수행을 통해 번뇌와 욕망에서 벗어나는 해탈을 강조한다. 도가 역시 인위적인 욕망을 버리고 자연의 순리에 따르는 삶을 사는 것을 지향한다. 이처럼 유교, 불교, 도가는 모두 자기 수양과 욕망의 절제를 통해 행복에 이를 수 있다고 본다.

- (1) 유교는 인(仁)을 실천하여 조화로운 사회를 이루는 것을 행복으로 본다. (O, X)
- (2) 불교는 자연에 따라 살아가는 무위자연의 삶을 행복으로 본다. (O, X)
- (3) 도가는 수행을 통해 해탈에 이르는 것을 행복으로 본다. (O, X)

## 자료 03 서양의 행복관

- **아리스토텔레스**: 행복은 인간의 궁극적 목적이자 최고선이다. 이를 위해서는 인간의 고유한 기능을 훌륭하게 수행해야 한다. 인간의 세 가지 기능은 영양 섭취와 같이 생존에 필요한 생명의 기능, 감각과 운동의 기능, 정신의 이성적 활동 기능이다. 이 중에서 정신의 이성적 활동 기능은 인간만이 가지고 있으며, 이 기능을 탁월하게 수행할 때 참된 행복이 실현된다.
- **에피쿠로스**: 우리가 추구하는 쾌락은 방탕한 자들의 쾌락이 아니다. 왜냐하면 풍성한 식탁에 있는 것들이 쾌락적인 삶을 만들어 주는 것은 아니기 때문이다. 쾌락이란 육체의 고통과 마음의 불안이 없는 상태로, 행복한 인생의 시작이자 끝이다.
- **스토아학파**: 행복해지기 위해서는 세상에서 일어나는 일들이 자신이 바라는 대로 일어나기를 원하지 말고, 오히려 일어나는 일들이 실제로 일어나는 대로 일어나기를 바라야 한다.
- **밀**: 어떤 종류의 쾌락이 다른 것보다 더 바람직하고 가치 있다는 사실을 인정한다고 해서 공리주의 원리와 어긋나는 것은 전혀 아니다. **만족해 하는 데지보다 불만족스러워하는 인간이 되는 것이 더 낫다.**

**자료 분석** 아리스토텔레스는 인간의 고유한 이성적 기능을 탁월하게 발휘하는 삶을 통해 행복에 이를 수 있다고 보았다. 에피쿠로스는 쾌락이 모든 가치를 평가하는 최고선이며 행복한 삶의 시작이자 끝이라고 보고, 모든 육체적·정신적 고통이 제거된 상태를 행복이라고 주장하였다. 스토아학파는 외부 상황에 흔들리지 않고 이성에 따라 사는 삶을 행복이라고 보았으며, 밀은 쾌락의 양뿐만 아니라 질적 차이도 고려하여 질적으로 높고 고상한 쾌락인 정신적 쾌락을 추구할 때 행복에 이를 수 있다고 보았다.

- (1) 아리스토텔레스는 인간의 고유한 기능인 이성을 탁월하게 발휘하는 삶이 행복한 삶이라고 보았다. (O, X)
- (2) 에피쿠로스는 육체적인 쾌락을 누리는 것이 진정한 행복이라고 주장하였다. (O, X)
- (3) 스토아학파는 운명에 순응하고 이성에 따라 살아가는 것이 행복이라고 보았다. (O, X)
- (4) 밀은 육체적 쾌락보다 정신적 쾌락이 질적으로 더 높은 쾌락이라고 보았다. (O, X)

## 자료 04 도덕적 성찰과 행복

**소크라테스**: 진리와 덕에 관해, 그리고 자신과 남들을 검토하고 있는 것에 관해 매일 이야기하는 것이 인간의 최대 선입니다. 검토하지 않는 삶은 인간다운 삶이 아니라고 말한다면 여러분은 저를 믿지 않을 것입니다. 여러분, 어려운 것은 죽음을 피하는 것이 아닙니다. 오히려 비열함을 피하는 것이 훨씬 더 어렵습니다.

**자료 분석** 소크라테스는 진정한 행복이란 도덕적 성찰을 통해 자신을 돌아보고 더 나은 삶을 실현하는 데 있다고 보았다. 그는 인간이 자신의 무지(無知)를 자각하고, 진리와 선에 대해 끊임없이 질문하고 검토할 때 비로소 인간다운 삶에 이를 수 있다고 강조하였다.

- (1) 소크라테스는 도덕적으로 성찰하며 사는 삶이 참된 행복으로 이어진다고 보았다. (O, X)
- (2) 소크라테스는 죽음을 피하는 것이 인간에게 가장 큰 행복이라고 주장하였다. (O, X)

## 01

다음은 온라인 게시판의 일부이다. 질문에 옳게 답한 학생만을 고른 것은?

**<질문>**  
공간적 관점은 위치와 분포, 이동과 네트워크를 중심으로 장소와 지역, 지리적 상호 작용을 통해 사회 현상을 살펴보는 것입니다.  
공간적 관점을 중심으로 'A 국의 플랜테이션 농업'에 대해 탐구한다면 어떤 내용을 조사해야 할까요?

**<답변>**

갑: 플랜테이션 농산물의 품질 관리 제도와 정책을 조사합니다.

을: 플랜테이션 농업에서 발생하는 이해 갈등의 바람직한 해결책을 조사합니다.

병: 플랜테이션 농업이 지역의 지리적 조건에 따라 어떻게 분포하고 있는지 조사합니다.

정: 플랜테이션 농업으로 생산된 작물이 생산지에서 소비지로 어떻게 이동하는지 조사합니다.

- ① 갑, 을                      ② 갑, 병                      ③ 을, 병  
④ 을, 정                      ⑤ 병, 정

### 해결 Flow

질문의 내용이 어떤 관점의 질문인지 확인한다.

답변 내용 중 공간적 관점에 해당하는 것을 선택한다.

### 자료 분석

공간적 관점은 그 지역의 자연환경적 요소와 인문환경적 요소를 모두 살펴보면서 인간, 사회, 환경의 관계를 파악하는 관점이다.

### 선지 분석

- 갑: 제도와 정책을 조사하는 것은 사회적 관점에 해당한다. 사회적 관점이란 사회 구조 및 사회 제도를 중심으로 사회 현상을 탐구하고 대안을 살펴보는 것을 말한다.
- 을: 바람직한 해결책을 조사하는 것은 윤리적 관점에 해당한다. 윤리적 관점이란 도덕적 가치와 규범을 바탕으로 사회 현상을 해석하고 문제점을 찾아 바람직한 삶의 모습을 살펴보는 것을 말한다.
- ✓ 병: 지리적 조건과 분포를 조사하는 것은 공간적 관점에 해당한다. 공간적 관점이란 장소와 지역 및 공간적 상호 작용에 중점을 두고 사회 현상을 살펴보는 것을 말한다.
- ✓ 정: 작물이 생산지에서 소비지로 어떻게 이동하는지 조사하는 것은 공간적 관점에 해당한다.

## 02

다음은 고대 서양 사상가 갑, 을의 가상 대화이다. 갑, 을의 관점에서 <사례> 속 A에게 제시할 조언으로 가장 적절한 것은?

행복은 완전하고 자족적인 좋음으로서 인간이 선택하고 추구하는 모든 것의 궁극 목적입니다. 행복한 삶은 가장 좋고 가장 즐거우며, 윤리적으로 지성적으로 탁월한 삶입니다.

쾌락은 행복한 삶의 시작이자 끝입니다. 진정한 쾌락은 몸에 고통이 없고 마음에 동요가 없는 상태입니다. 사려 깊으며 정의로운 삶 없이는 쾌락적인 삶도 있을 수 없습니다.



### 사례

A는 많은 돈을 가진 자산가이다. A는 육체적인 즐거움만을 행복이라 생각하고 매일 향락적인 생활을 하고 있다.

- ① 갑: 물질적 부는 행복의 실현에 기여할 수 없음을 명심하세요.  
② 갑: 행복한 사람의 행위에는 쾌락이 따르지 않음을 명심하세요.  
③ 을: 욕구를 충족하려는 시도는 항상 고통을 야기함을 명심하세요.  
④ 을: 쾌락이 삶의 목적인 사람은 결코 만족할 수 없음을 명심하세요.  
⑤ 갑과 을: 이성을 동반한 덕을 통해 행복을 성취할 수 있음을 명심하세요.

### 해결 Flow

갑과 을의 대화에서 키워드를 파악하여 두 사상가가 누구인지 구분한다.

갑, 을의 사상을 바탕으로 A에 대한 조언이 적절한지 여부를 확인한다.

### 자료 분석

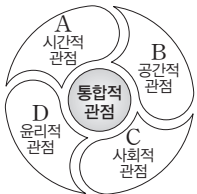
갑은 아리스토텔레스, 을은 에피쿠로스이다. 아리스토텔레스에 따르면, 행복한 삶은 인간의 궁극적인 목적이며 이를 위해 인간의 고유한 기능인 이성을 탁월하게 발휘해야 한다. 에피쿠로스는 육체에 고통이 없고 마음에 불안이 없는 평온한 상태를 행복이라고 보았다. 한편 <사례> 속 A는 감각적인 쾌락만을 추구하고 있다.

### 선지 분석

- ① 아리스토텔레스는 외적 조건, 즉 재산, 건강, 친구 등이 행복의 실현에 기여할 수 있다고 보았다.  
② 아리스토텔레스는 행복한 사람이란 덕을 갖춘 사람이며, 행복한 사람은 덕에 따라 행동할 때 즐거움을 느낀다고 보았다.  
③ 에피쿠로스는 자연적이지 않은 욕구나 필수적이지 않은 욕구를 충족하려고 할 때 고통이 따를 수 있으며, 자연적이고 필수적인 욕구만을 최소한으로 충족할 때 고통이 사라질 수 있다고 보았다.  
④ 에피쿠로스는 모든 고통이 제거될 때 쾌락과 만족을 느낄 수 있다고 보았다.  
✓ ⑤ 아리스토텔레스는 이성의 기능을 발휘하여 덕을 실천할 때, 에피쿠로스는 이성을 통해 욕구를 분별하고 절제의 덕을 갖춘 때 행복을 실현할 수 있다고 보았다.

**01-1** 동형 문제

(가)에 대하여 (나)의 A~D 관점에서 실행할 수 있는 적절한 활동만을 <보기>에서 있는 대로 고른 것은?

(가)	청소년의 스마트폰 사용량이 증가하면서 수면 부족과 학습 집중력 저하, 사이버 폭력, 개인 정보 유출, 대면 관계 단절로 인한 사회성 약화 등의 문제가 나타나고 있다. 이러한 문제는 개인의 건강 문제뿐만 아니라 사회 전체의 안전과 가치에도 영향을 미치고 있다.
(나)	

보기

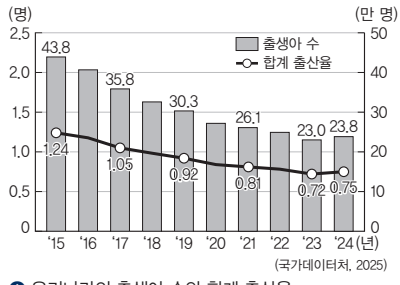
- ㄱ. A: 청소년 스마트폰 사용 시간의 연도별 변화 분석하기
- ㄴ. B: 개인 정보 유출 문제 예방을 위한 도덕규범 탐구하기
- ㄷ. C: 청소년 스마트폰 중독 해결을 위한 제도적 방안 탐색하기
- ㄹ. D: 사이버 폭력 예방을 위한 올바른 온라인 윤리의식 고찰하기

- ① ㄱ, ㄴ                      ② ㄴ, ㄷ                      ③ ㄷ, ㄹ
- ④ ㄱ, ㄴ, ㄹ                ⑤ ㄱ, ㄷ, ㄹ

**01-2** 통합형

자료에서 설명하는 사회 문제를 탐구할 때, 각 관점에 따른 활동 내용으로 옳은 것만을 <보기>에서 고른 것은?

저출산 현상이 가속화되면서 합계 출산율이 2015년에는 1.24명, 2019년에는 0.92명, 2024년에는 0.75명으로 계속 낮아지고 있다. 한국의 합계 출산율은 2000년대 진입 이후 세계적으로 가장 낮은 수준을 유지하고 있다.



우리나라의 출생아 수와 합계 출산율

보기

- ㄱ. 시간적 관점: 저출산 문제 해결을 위한 바람직한 해결 방안 조사하기
- ㄴ. 공간적 관점: 우리나라의 지역별 합계 출산율 비교하기
- ㄷ. 사회적 관점: 출산율에 영향을 미치는 정책 탐구하기
- ㄹ. 윤리적 관점: 출산율이 감소하는 시대적 배경 분석하기

- ① ㄱ, ㄴ                      ② ㄱ, ㄷ                      ③ ㄴ, ㄷ
- ④ ㄴ, ㄹ                      ⑤ ㄷ, ㄹ

**02-1** 동형 문제

다음은 고대 서양 사상가와 제자의 가상 대화이다. (가)에 들어갈 내용으로 가장 적절한 것은?

제자: 스승님, 저는 행복한 삶을 살아가고 싶습니다.  
 사상가: 자네가 생각하는 행복이란 무엇인가?  
 제자: 기분 좋고 만족스러운 상태입니다.  
 사상가: 그런 막연한 생각으로 어떻게 행복한 삶을 살 수 있겠는가? 음미하지 않는 삶은 살 가치가 없으며 참된 행복을 찾을 수도 없다네. 따라서 행복한 삶을 위해 필요한 것은 (가) (이)라네.

- ① 감정에 따라 움직이는 삶
- ② 쾌락을 따르는 본능적 충동
- ③ 타인의 인정을 좇는 삶의 태도
- ④ 사회의 통념을 그대로 따르는 태도
- ⑤ 자신의 삶을 되돌아보고 성찰하는 자세

**02-2** 동형 문제

(가)의 갑, 을 사상가의 입장에서 볼 때 (나)의 질문에 대한 대답으로 옳은 것만을 <보기>에서 고른 것은?

(가)	갑: 자기를 이기고[克己] 예(禮)로 돌아가는 것이 곧 인(仁)이다. 하루만이라도 자기를 이기고 예로 돌아가면 천하가 모두 인으로 귀결될 것이니, 인을 실현하는 것이 나로 말미암은 것이지 남에게 달려 있는 것이 아니다. 을: 괴로움[苦]을 모르고 괴로움의 원인[集]을 모으며, 괴로움의 소멸[滅]을 모르고 괴로움의 소멸에 이르는 길[道]을 모르면, 이것을 무명(無明)이라고 한다. 괴로움을 알고, 괴로움의 원인을 알며, 괴로움의 소멸을 알고 괴로움의 소멸에 이르는 길을 알면, 이것을 바른 견해[正見]라고 한다.
(나)	행복에 이르기 위해 어떤 노력을 해야 하는가?

보기

- ㄱ. 갑: 도덕적 본성을 보존하고 인(仁)을 실현해야 한다.
- ㄴ. 갑: 인위적 규범을 버리고 자연의 순리대로 살아가야 한다.
- ㄷ. 을: 무지와 집착에서 벗어나 해탈의 경지에 이르러야 한다.
- ㄹ. 갑과 을: 타고난 이기적인 본성을 후천적인 노력을 통해 극복해야 한다.

- ① ㄱ, ㄴ                      ② ㄱ, ㄷ                      ③ ㄴ, ㄷ
- ④ ㄴ, ㄹ                      ⑤ ㄷ, ㄹ

# 수능 기본 문제

## 01

다음 글에 제시된 사회 현상을 바라보는 관점에 대한 설명으로 가장 적절한 것은?

A 지역은 1970년대 초까지 논밭이 대부분인 농촌 지역이었지만 산업화 정책에 따라 공장이 들어서고 인구가 급속히 증가하였다. 이후 1990년대에는 제조업의 쇠퇴로 많은 공장이 문을 닫으며 지역 경제가 침체되었으나, 최근에는 여러 기업이 들어서면서 첨단 산업의 중심지로 탈바꿈하고 있다. 이러한 변화에 따라 주거 시설도 단독주택에서 아파트 단지로 바뀌었고, 젊은 세대가 유입되어 주민의 연령층도 다양해졌다. 이처럼 A 지역은 과거의 산업화 경험을 토대로 또 다른 변화를 준비하고 있다.

- ① 사회 제도의 형성과 변화를 통해 사회 현상을 설명한다.
- ② 장소와 지역 및 공간적 상호 작용에 중점을 두고 사회 현상을 설명한다.
- ③ 시간의 흐름에 따라 사회 현상의 변화 과정을 살펴보고 미래를 예측한다.
- ④ 사회 구조와 제도를 중심으로 사회 현상의 원인과 해결 방안을 탐색한다.
- ⑤ 도덕적 가치와 규범을 기준으로 사회 현상을 평가하고 바람직한 방향을 모색한다.

## 02

다음에서 공통적으로 나타나는 관점에 대한 설명으로 옳은 것은?

- 강수량이 많은 지역의 가옥 구조를 살펴본다.
- 고속도로 개통 이후 지역 상권의 변화 양상을 조사한다.
- 해안과 인접한 지역 주민의 어업 종사 비율을 살펴본다.
- 대도시와 위성 도시 간 통근 인구의 이동 방법을 탐구한다.

- ① 시대적 배경과 맥락을 토대로 사회 현상을 탐구한다.
- ② 도덕규범이나 윤리적 가치를 고려하여 사회 현상을 탐구한다.
- ③ 사회 구조와 제도의 영향력을 고려하여 사회 현상을 탐구한다.
- ④ 사회의 바람직한 방향에 대한 도덕적 가치 판단을 토대로 탐구한다.
- ⑤ 장소와 지역 및 공간적 상호 작용을 중심으로 사회 현상을 탐구한다.

## 03

다음은 학생들이 고령화 현상에 따른 문제를 탐구하기 위해 조별로 제시한 탐구 주제이다. 탐구 주제를 적절하게 제시한 조만을 <보기>에서 고른 것은?

[보기]

- ㄱ. [1조 - 시간적 관점] 우리나라 고령화 현상의 역사적 전개 과정과 앞으로의 인구 구조 변화 탐구
- ㄴ. [2조 - 공간적 관점] 고령 인구의 지역별 분포와 의료 시설 접근성의 차이 분석
- ㄷ. [3조 - 사회적 관점] 노인의 고독사가 증가하는 시대적 배경과 변화 양상 조사
- ㄹ. [4조 - 윤리적 관점] 노인 빈곤 문제 해결을 위한 연금 제도의 개선 방안 탐구

- ① ㄱ, ㄴ                      ② ㄱ, ㄹ                      ③ ㄴ, ㄷ
- ④ ㄴ, ㄹ                      ⑤ ㄷ, ㄹ

## 04 통합형

다음 기사에 제시된 문제를 해결하기 위해 각각의 관점에서 제기할 수 있는 질문으로 적절한 것만을 <보기>에서 고른 것은?

△△신문                      ○○○○년 ○월 ○일

---

한 사람이 하루에 버리는 일회용품의 양은 37g 정도로, 1년에 약 13.6kg에 이른다. 작년 기준으로 국내에서 버려진 일회용품은 총 70만 3천여 톤에 달한다. 가장 많이 버려진 것은 폐종이류(49%)와 폐합성수지류(41%)였으며, 특히 플라스틱 접시와 용기 등 배달 관련 일회용품 쓰레기가 크게 증가하였다. 전체 생활 폐기물 배출량도 5년 전보다 증가한 가운데, 환경 오염에 대한 우려가 점점 더 커지고 있다.

[보기]

- ㄱ. 시간적 관점: 일회용품 쓰레기가 집중된 지역은 어디인가?
- ㄴ. 공간적 관점: 일회용품 쓰레기가 언제부터 증가하였는가?
- ㄷ. 사회적 관점: 일회용품 쓰레기를 줄이기 위해 필요한 정책은 무엇인가?
- ㄹ. 윤리적 관점: 일회용품 쓰레기를 줄이기 위해 지녀야 할 바람직한 가치관은 무엇인가?

- ① ㄱ, ㄴ                      ② ㄱ, ㄷ                      ③ ㄴ, ㄷ
- ④ ㄴ, ㄹ                      ⑤ ㄷ, ㄹ

**05** **통합형**

밑줄 친 ㉠~㉥에 대한 설명으로 옳지 않은 것은?

인권은 인간이 존엄과 가치를 인정받으며 살아가기 위해 마땅히 누려야 할 기본적인 권리이다. 하지만 여전히 지구촌 곳곳에서 다양한 인권 침해 문제가 발생하고 있다. 그중 아동 노동 문제는 인권 침해의 대표적인 사례로, 국제 사회가 함께 해결해야 할 중요한 과제이다. 이에 대한 해결책을 마련하기 위해서는 ㉠종합적인 관점을 가지고 문제에 접근할 필요가 있다. 먼저 ㉡산업화 이전과 이후에 아동 노동의 양상과 원인이 어떻게 변화해 왔는지를 살펴보아야 한다. 이를 바탕으로 ㉢아동 노동의 실태가 지역과 국가마다 어떻게 다른 양상으로 나타나는지를 비교해 보고, ㉣아동 노동이 사회 계층 간의 불평등, 교육 기회의 차이와 어떤 관련을 맺고 있는지를 분석해야 한다. 또한 ㉤아동의 권리와 인간 존엄성이라는 가치 기준에 비추어 아동 노동을 어떻게 판단하고 규제해야 할지를 고민하는 것도 중요하다.

- ① ㉠은 통합적 관점에서 사회 문제를 살펴보고자 한다.
- ② ㉡은 시간의 흐름에 따른 사회 문제의 변화에 주목하고 있다.
- ③ ㉢은 공간적 관점에서 문제를 탐구하고자 한다.
- ④ ㉣은 시대 배경과 역사적 맥락에서 문제를 분석하고자 한다.
- ⑤ ㉤은 사회 문제를 윤리적 가치와 규범을 고려하여 판단하려는 것이다.

**06**

다음 가상 편지에서 강조하는 내용으로 가장 적절한 것은?

○○에게  
요즘 자네가 행복한 삶이란 무엇인지 고민하고 있다고 들었네. 행복은 모든 인간이 추구하는 최종 목적이라네. 행복은 여러 선(善) 가운데서도 가장 완전한 선이자 인간 삶의 궁극적 목적이라고 할 수 있지. 인간의 고유한 기능이 무엇인지 생각해 보게. 인간만이 가진 고유한 능력은 바로 이성, 곧 생각하고 숙고하는 능력이라네. 그러므로 인간답게 산다는 것은 이성의 기능을 탁월하게 발휘하는 삶이라고 할 수 있네. 습관과 교육을 통해 덕을 기르고, 그 덕에 따라 정신의 활동을 할 수 있어야 비로소 행복한 삶에 이를 수 있지. 그러니 자네가 이성적으로 사고하고 습관을 바르게 형성해 나간다면 행복에 이르게 될 것이네.

- ① 인간이 추구해야 할 궁극적인 목적은 명예이다.
- ② 타고난 도덕적 덕을 보존하기 위해 노력해야 한다.
- ③ 이성을 발휘하여 덕을 실천하는 삶을 살아야 한다.
- ④ 행복은 현실 세계가 아닌 내세에서 실현할 수 있다.
- ⑤ 인간의 목적은 감각적 쾌락을 최대한으로 추구하는 데 있다.

**07**

다음을 주장한 사상가의 입장에서 긍정의 대답을 할 질문으로 옳은 것만을 <보기>에서 고른 것은?

모든 쾌락은 우리의 본성에 일차적으로 좋은 것이지만, 그렇다고 해서 모든 쾌락이 반드시 추구할 만한 가치를 지니는 것은 아니다. 반대로 모든 고통은 나쁜 것이지만, 그렇다고 해서 반드시 회피해야만 하는 것도 아니다. 우리는 쾌락과 고통을 비교하여 우리에게 이익이 되는 것과 해로운 것을 올바르게 판단해야 한다. 실제로 결핍으로 인한 고통이 제거된다면, 단순한 음식도 우리에게 사치스러운 음식과 같은 쾌락을 줄 수 있다. 빵과 물은 그것을 필요로 하는 사람에게 가장 큰 쾌락을 제공하는 법이다.

【보기】  
ㄱ. 모든 쾌락은 그 자체로는 좋은 것인가?  
ㄴ. 행복한 삶을 위해 모든 쾌락을 멀리해야 하는가?  
ㄷ. 행복을 실현하기 위해서는 이성적 숙고가 필요한가?  
ㄹ. 정신적인 쾌락이 아닌 육체적인 쾌락을 추구해야 하는가?

- ① ㄱ, ㄴ                      ② ㄱ, ㄷ                      ③ ㄴ, ㄷ
- ④ ㄴ, ㄹ                      ⑤ ㄷ, ㄹ

**08**

다음 글에서 추론할 수 있는 내용으로 옳은 것은?

스위스의 일부 주에서는 오랜 전통을 이어온 ‘란츠게마인데(Landsgemeinde)’라는 직접 민주주의 제도를 운영하고 있다. 매년 봄, 일정한 날이 되면 해당 지역 주민들이 마을 광장에 모여 원형으로 둘러앉아 입법이나 예산과 같은 중요한 사안을 공개적으로 토론하고 직접 손을 들어 표결한다. 대표를 선출하는 일도 이 자리에서 이루어지며, 모든 주민은 동등한 권리를 가지고 의사 결정 과정에 참여할 수 있다. 이 제도에서는 특정한 소수의 정치인이나 지도자가 모든 결정을 독점하지 않고 주민 개개인이 공동체의 중요한 문제에 관여한다. 또한 일상의 삶과 관련한 결정들을 스스로 선택할 수 있다. 광장에서의 토론과 표결 과정은 단순한 절차를 넘어 주민들에게 자신이 공동체의 주인이라는 점을 인지하게 한다. 이는 정치가 소수의 특권이 아니라 모든 사람의 권리임을 보여 준다.

- ① 민주주의의 발전은 시민의 행복도를 높일 수 있다.
- ② 권위주의 체제가 정치적 안정과 만족을 더 잘 보장한다.
- ③ 주민들의 정치 참여는 공동체의 주인의식을 약화시킨다.
- ④ 주민 참여를 제한해야 민주주의를 원활하게 운영할 수 있다.
- ⑤ 소수의 지도자가 정치적 결정을 독점할 때 시민의 권리가 강화된다.

# 1등급 완성 문제



문항 풀이 동영상

## 01 통합형

밑줄 친 ㉠~㉣에 대한 설명으로 옳지 않은 것은?

우리 사회는 다양한 국적, 언어, 종교, 생활 방식을 가진 사람들이 함께 살아가는 다문화 사회이다. 하지만 일상에서 이주민에 대한 오해와 편견, 차별 같은 문제가 발생하기도 한다. 일부 사람들은 이주민의 문화가 우리 고유의 문화를 위협한다고 여겨 배척하며, 이로 인해 이주민들은 사회에 잘 적응하지 못한 채 고립되기도 한다. 이런 상황을 해결하기 위해서는 ㉠서로 다른 문화를 있는 그대로 인정하고 존중할 수 있도록 바람직한 제도를 마련해야 한다. 또한 ㉡시간적 관점, ㉢공간적 관점, ㉣사회적 관점, ㉤윤리적 관점에서 이러한 문제 상황의 근본적인 해결 방안을 탐구하고 모색할 필요가 있다.

- ① ㉠을 위해 용광로 이론을 바탕으로 다문화 정책을 마련해야 한다.
- ② ㉡에서는 이주민이 유입되는 시대적 흐름을 탐구할 수 있다.
- ③ ㉢에서는 이주민의 지역적 분포를 조사할 수 있다.
- ④ ㉣에서는 이주민의 정착을 위한 제도적 방안을 모색할 수 있다.
- ⑤ ㉤에서는 다문화 갈등을 해결하기 위한 바람직한 규범에 대해 탐구할 수 있다.

## 02

다음 대화에서 (가)에 들어갈 말로 가장 적절한 것은?

스승: 일반 백성은 일정한 생업[恒産]이 없으면 도덕적인 마음[恒心]을 지닐 수 없네. 도덕적인 마음이 없으면 방탕하고 편벽되며 간사하고 사치스러워져서 못 하는 것이 없게 되네. 그렇기 때문에 현명한 군주는 백성들의 생업을 관찰할 때 반드시 위로는 부모를 봉양하고 아래로는 처자식을 부양하기에 부족함이 없게 해 준다네.

제자: 그렇다면 행복을 실현하기 위한 조건은 무엇인가요?

스승: 행복을 실현하기 위해서는 (가)

- ① 민주적인 정치 제도가 확립되어야 하네.
- ② 물질적 가치를 추구하는 태도를 버려야 하네.
- ③ 사회 구성원들의 경제적 안정이 보장되어야 하네.
- ④ 국가가 사회 구성원의 경제생활에 개입하지 않아야 하네.
- ⑤ 도덕적인 마음은 경제적 안정을 위한 수단임을 깨달아야 하네.

## 03

다음 신문 칼럼에서 강조하는 내용으로 가장 적절한 것은?

○○신문	○○○○년 ○○월 ○일
칼럼	
<p>인간다운 삶을 위해서는 삶의 방향을 점검하고 자신의 선택에 책임을 지려는 태도가 필요하였다. 고대 그리스 철학자 소크라테스는 “성찰하지 않는 삶은 살 가치가 없다.”라고 말하며, 자신의 삶을 되짚는 태도의 중요성을 강조하였다. 자신을 돌아보는 일은 단순히 잘못을 떠올리는 반성을 넘어, 앞으로 어떻게 살아갈지를 고민하는 출발점이 된다. 따라서 현대 사회에서 마주치는 다양한 도덕적 문제에 대해 스스로 옳고 그름을 판단하고 책임 있게 행동하려면 스스로에게 묻는 시간을 가지는 것이 필요하다.</p>	

- ① 문제 해결을 위해 전문가의 조언에 의존해야 한다.
- ② 결과를 중심으로 판단하여 효율적인 선택을 해야 한다.
- ③ 바쁜 사회일수록 타인을 우선 배려하는 자세를 가져야 한다.
- ④ 사회적 갈등을 줄이기 위해 타인의 판단 기준을 따라야 한다.
- ⑤ 도덕적인 삶을 위해 자신의 삶을 돌아보는 태도를 가져야 한다.

## 04

갑, 을 사상가의 입장으로 적절한 것만을 <보기>에서 있는 대로 고른 것은?

갑: 덕에는 지성적인 덕과 품성적인 덕이라는 두 종류가 있다. 지성적인 덕은 대체로 교육에 따라 생기고 발전하므로 경험과 시간이 필요하다. 한편 품성적인 덕은 습관의 결과로 생김으로 지속적인 노력이 필요하다.

을: 우리가 목적으로 추구하는 쾌락은 방탕한 자들의 쾌락이나 육체적인 쾌락을 의미하는 것이 아니다. 그것은 몸의 고통이나 마음의 혼란으로부터의 자유를 의미한다. 욕구 충족이 무제한적인 것이 아님을 깨달으면 온 세상이 쾌락으로 가득 차게 될 것이다.

[보기]

- ㉠. 갑: 인간 행위의 궁극적 목적은 행복이다.
- ㉡. 갑: 행복한 삶을 위해 필요한 모든 덕은 습관으로 완성된다.
- ㉢. 을: 행복을 실현하기 위해서는 모든 쾌락을 멀리해야 한다.
- ㉣. 갑과 을: 행복한 삶을 위해 이성의 능력을 발휘해야 한다.

- ① ㉠, ㉡
- ② ㉠, ㉢
- ③ ㉡, ㉣
- ④ ㉠, ㉡, ㉣
- ⑤ ㉡, ㉢, ㉣

## 05

갑, 을 사상의 입장으로 옳은 것만을 <보기>에서 있는 대로 고른 것은?

갑: 쾌락의 총량과 고통의 총량을 합산해 보았을 때 차감한 값이 쾌락 쪽에 기운다면, 그것은 각 개인의 이익과 관련하여 전반적으로 행위의 좋은 경향을 제시하는 것이 될 것이다. 반대로 차감한 값이 고통 쪽에 기운다면, 전반적으로 행위의 나쁜 경향을 제시하는 것이 될 것이다.

을: 어떤 종류의 쾌락이 다른 종류의 쾌락보다 더 바람직하고 더 가치 있다는 사실을 인정하는 것은 공리의 원리와 양립할 수 있다. 다른 모든 것을 평가할 때는 양뿐만 아니라 질도 고려하면서 쾌락을 평가할 때는 양에만 의존하는 것은 불합리하다.

[보기]

- ㄱ. 갑: 행복을 실현하려면 쾌락의 양을 증진해야 한다.
- ㄴ. 을: 질적으로 높은 쾌락을 추구해야 한다.
- ㄷ. 을: 최대 다수에게 최대 행복을 주는 행위가 도덕적인 행위이다.
- ㄹ. 갑과 을: 구성원 개개인의 행복의 총합은 사회 전체의 행복을 초과한다.

- ① ㄱ, ㄷ                      ② ㄱ, ㄹ                      ③ ㄴ, ㄹ
- ④ ㄱ, ㄴ, ㄷ                ⑤ ㄴ, ㄷ, ㄹ

## 06

갑, 을 사상의 입장으로 옳은 것만을 <보기>에서 고른 것은?

갑: 인간이 지닌 기능은 세 가지로 나누어 볼 수 있다. 첫째는 생명의 기능이다. 둘째는 감각과 운동의 기능이며, 셋째는 정신의 이성적 활동 기능이다. 이 중에 사람만이 지닌 특별한 기능은 정신의 이성적 활동 기능이다. 그러므로 인간의 기능을 훌륭하게 수행한다는 것은 바로 이성적 활동을 잘 수행한다는 것이다. 그런데 사람의 이성적 활동은 덕을 가지고 수행할 때 더 잘 할 수 있다. 따라서 선이란 덕에 따르는 영혼의 활동이며, 이러한 덕을 지닌 사람이 행복한 삶을 살 수 있다.

을: 현명한 사람을 숭상하지 않으면 백성은 서로 비교하며 다투지 않게 된다. 얻기 어려운 재물을 귀하게 여기지 않으면 백성은 도적이 되지 않는다. 욕망을 자극하지 않으면 백성의 마음은 어지러워지지 않는다. 그러한 까닭에 성인의 정치의 마음은 담담하게 하며 배불리 먹도록 하고, 명예나 이익을 추구하는 뜻을 줄이게 하며, 몸을 건강하게 한다. 또 사람이 지나치게 많은 생각과 욕심을 내어 일을 그르치지 않도록 한다. 재주와 슬기가 있는 사람이라도 함부로 일을 벌이지 못하도록 한다.

[보기]

- ㄱ. 갑: 행복한 삶을 위해 경제적 가치는 추구하지 않아야 한다.
- ㄴ. 갑: 품성적 덕은 옳은 행동을 지속적으로 실천하면 형성된다.
- ㄷ. 을: 인위적인 도덕규범을 따를 때 행복을 실현할 수 있다.
- ㄹ. 갑과 을: 참된 행복을 위해 욕구에 대한 절제가 필요하다.

- ① ㄱ, ㄴ                      ② ㄱ, ㄷ                      ③ ㄴ, ㄷ
- ④ ㄴ, ㄹ                      ⑤ ㄷ, ㄹ

## 07

밑줄 친 ㉠~㉣에 대한 옳은 설명만을 <보기>에서 고른 것은?

무릇 살 곳을 잡는 데는 첫째, ㉠지리(地理)가 좋아야 하고, 다음 ㉡생리(生利)가 좋아야 하며, 다음으로 ㉢인심(人心)이 좋아야 하고, 또 다음은 ㉣산수(山水)가 좋아야 한다. 이 네 가지에서 하나라도 모자라면 살기 좋은 땅이 아니다. 지리는 비록 좋아도 생리가 모자라면 오래 살 수가 없고, 생리는 좋더라도 지리가 나쁘면 이 또한 오래 살 곳이 못 된다. 지리와 생리가 함께 좋으나 인심이 나쁘면 반드시 후회할 일이 있게 되고, 가까운 곳에 소풍할 만한 산수가 없으면 정서를 화창하게 하지 못한다.

[보기]

- ㄱ. ㉠은 배산임수와 같은 풍수지리적 명당이 살기 좋은 곳임을 의미한다.
- ㄴ. ㉡은 토지에서 생산되는 경제적 이익이 좋아야 함을 의미한다.
- ㄷ. ㉢은 아름다운 경치가 살기 좋은 곳의 요건임을 의미한다.
- ㄹ. ㉣은 이웃 간의 정이 행복한 삶을 위해 필요함을 의미한다.

- ① ㄱ, ㄴ                      ② ㄱ, ㄷ                      ③ ㄴ, ㄷ
- ④ ㄴ, ㄹ                      ⑤ ㄷ, ㄹ

## 08

갑은 긍정, 을은 부정의 대답을 할 질문으로 가장 적절한 것은?

갑: 사람은 생활의 기반이 안정되어야 마음의 불안에서 벗어날 수 있습니다. 따라서 경제적 여건이 갖추어져야 자아실현을 할 수 있습니다.

을: 인간의 삶에서 경제적 안정은 중요합니다. 그러나 생활이 아무리 넉넉하다고 해도 자신의 삶에 대해 성찰하지 않고 타인에 대한 배려와 책임을 외면한다면 만족을 얻기 어렵습니다. 오히려 옳다고 믿는 가치를 실천하고 공동체와 더불어 살아가려는 태도를 지닐 때 삶이 충실해질 수 있습니다.

갑: 동의합니다. 하지만 생계가 불안정하다면 그것을 실현할 여유조차 없습니다. 최소한의 생활 기반이 마련되어야 도덕적 가치를 추구할 힘도 생겨납니다.

을: 경제적으로 풍요로워도 자신에 대한 도덕적 성찰이 없다면 방탕하거나 이기적인 삶으로 빠지기 쉽습니다. 따라서 중요한 것은 자신의 삶을 성찰하는 자세입니다.

- ① 도덕적 성찰 없이도 의미 있는 삶을 살 수 있는가?
- ② 경제적 안정이 행복 실현을 위한 가장 중요한 조건인가?
- ③ 물질적 풍요가 실현되면 타인에 대한 배려는 필요 없는가?
- ④ 공동체적 가치를 실천하지 않아도 만족을 얻을 수 있는가?
- ⑤ 경제적 조건이 마련되지 않아도 자아실현의 기회를 가질 수 있는가?

# 02 자연환경과 인간 생활

## 1 자연환경이 인간 생활에 미치는 영향

### 01 기후에 따른 인간 생활 **자료 01**

1. 기후와 인간 생활 **(TIP)** 태양의 입사각이 적도에서 극지방으로 갈수록 작아져서 단위 면적당 받아들이는 에너지량이 적어지기 때문이다.

기후 분포	적도에서 극지방으로 갈수록 대체로 열대 기후, 건조 기후, 온대 기후, 냉대 기후, 한대 기후 순으로 나타남.
인간 생활	<ul style="list-style-type: none"> <li>기온, 강수, 바람 등에 따라 옷차림, 음식의 조리 방법, 전통적인 가옥 구조가 다르게 발달</li> <li>인구 분포                     <ul style="list-style-type: none"> <li>- 온화한 기후 지역에 인구가 밀집하고 도시가 발달</li> <li>- 인간 거주에 불리한 건조 및 한대 기후 지역은 인구가 희박</li> </ul> </li> </ul>

### 2. 열대 기후 지역

특징	<ul style="list-style-type: none"> <li>연중 기온이 높음.</li> <li>강수에 따라 열대 우림, 열대 몬순, 사바나 기후로 구분</li> </ul>
주민 생활	<ul style="list-style-type: none"> <li>날씨가 덥고 습하여 얇고 바람이 잘 통하는 옷이 발달</li> <li>음식물이 상하지 않도록 기름에 튀기거나 향신료를 사용</li> <li>지붕의 경사가 급하고 바닥을 지면에서 띄운 고상 가옥이 발달</li> <li>이동식 화전 농업, 플랜테이션, 벵농사(아시아 계절풍 지대)가 발달</li> </ul>

### 3. 건조 기후 지역 **자료 02**

특징	연 강수량보다 연 증발량이 많고, 기온의 일교차가 큼.
주민 생활	<ul style="list-style-type: none"> <li>사막 지역: 온몸을 감싸고 험한 옷, <b>흙벽돌집</b>(두꺼운 벽, 작은 창), 오아시스 농업 및 관개 농업(밀, 대추야자 등)이 발달</li> <li>스텝 지역: 양, 염소 등 유목, <b>이동식 가옥</b>(게르)이 발달</li> </ul>

### 4. 온대 기후 지역

특징	<ul style="list-style-type: none"> <li>기후가 온화하고 계절 변화가 뚜렷함.</li> <li>대륙 동안은 계절풍, 대륙 서안은 편서풍과 해류의 영향을 받음.</li> </ul>
주민 생활	<ul style="list-style-type: none"> <li>대륙 동안: 여름철 고온 다습하여 벵농사가 발달</li> <li>대륙 서안                     <ul style="list-style-type: none"> <li>- <b>(TIP)</b> 아열대 고압대의 영향을 받기 때문이다.</li> <li>- 지중해성 기후: 여름철 고온 건조하여 <b>수목 농업</b>이 발달</li> <li>- 서안 해양성 기후: 혼합 농업, 낙농업, 화훼 농업이 발달</li> </ul> </li> </ul>

### 5. 냉대 기후 지역

특징	짧은 여름과 춥고 긴 겨울, 기온의 연교차가 큼.
주민 생활	<ul style="list-style-type: none"> <li>추위를 막기 위해 길고 두꺼운 옷이 발달</li> <li>창문이 작고 폐쇄적인 가옥(통나무집)이 발달</li> <li>냉대 침엽수림(타이가)이 분포하여 임업이 발달</li> <li>서늘하고 건조한 지역: 밀, 보리를 재배</li> </ul>

6. 한대 기후 지역 **(TIP)** 툰드라 기후 지역은 짧은 여름 동안 잠시 기온이 영상으로 올라가 풀이 자라고 곤충들의 번식이 왕성하며, 여름에는 모기가 가장 많은 지역이다.

특징	연중 기온이 매우 낮음.
주민 생활	<ul style="list-style-type: none"> <li>추위를 막기 위해 가죽이나 털로 만든 옷이 발달</li> <li>난방과 보온을 위한 폐쇄적인 가옥, 사냥을 위한 임시 거처(천막집, 이글루 등), <b>고상 가옥</b>이 발달</li> <li>농업이 불가능하여 <b>순록 유목</b>, 수렵, 어로 활동으로 생활</li> </ul>

**(TIP)** 열대 기후의 고상 가옥과 성격이 좀 달라. 여기는 여름에 땅이 눅기 때문에 집이 가늘어질 수 있어. 그래서 집에서 발생하는 열이 땅으로 전달되지 않도록 고상 가옥을 지어.

## 02 지형에 따른 인간 생활

**(TIP)** 우리나라의 봄 날씨와 같은 기후가 일 년 내내 지속되기 때문에 상춘 기후라고도 불러.

산지 지역	<ul style="list-style-type: none"> <li>해발 고도가 높고 경사가 급하여 인간 거주에 불리</li> <li>감자와 옥수수 등을 재배하거나 임업, 목축업이 발달</li> <li>열대 기후의 고산 지역: <b>기후가 온화</b>하고 도시가 발달</li> <li>기온이 높고 강수량이 많은 지역: 계단식 농업이 발달</li> </ul>
평야 지역	<ul style="list-style-type: none"> <li>해발 고도가 낮고 편평하여 농경과 취락에 유리하므로 인간 생활에 적합</li> <li>대하천(창장강, 갠지스강, 라인강 등)의 비옥한 평야 지역에 인구가 밀집</li> <li>아시아의 벵농사 지대, 유럽과 아메리카의 밀농사 지대 등</li> </ul>
해안 지역	<ul style="list-style-type: none"> <li>육지와 바다가 만나는 공간으로 수상 교통이 발달하여 국제 교류가 활발하며 원료의 수입과 제품의 수출에 유리</li> <li>어업, 양식업, 항구, 임해 공업, 관광 산업 등이 발달</li> </ul>
특수 지형	<ul style="list-style-type: none"> <li>화산 지형: 지열을 이용하여 전력을 생산하고 화산, 온천 등 관광 산업이 발달(일본, 아이슬란드, 뉴질랜드 등)</li> <li>카르스트 지형: 석회 동굴, 탑 카르스트 등 관광 산업이 발달(베트남 할롱베이, 중국 장가계 등)</li> <li>빙하 지형: <b>피오르</b>, 호른 등 관광 산업이 발달(그린란드, 파타고니아 등)                     <ul style="list-style-type: none"> <li><b>(TIP)</b> 과거에 빙하의 침식으로 인해 만들어진 골짜기가 해수면이 상승하면서 바닷물에 잠겨 만들어진 지형이다.</li> </ul> </li> </ul>

## 2 안전하고 쾌적한 환경에서 살 권리

### 01 우리나라의 자연재해

1. 자연재해의 의미: 기후, 지형 등의 자연환경 요소가 인간 활동에 피해를 주는 현상

2. 자연재해의 유형 **(TIP)** 우리나라는 호우로 인해 발생하는 자연재해 피해액이 가장 많고, 다음으로 태풍, 폭설 순으로 많음.

#### (1) 기후적 요인에 의한 자연재해 **자료 03**

홍수	여름철 집중 호우 때 발생하며, 하천 범람 등으로 인한 피해가 발생
가뭄	장기간 비가 내리지 않을 때 발생하며, 속도는 느리지만 피해 범위가 넓음.
태풍	저위도 해상에서 발생하는 열대 저기압으로, 강풍과 집중 호우를 동반하여 풍수해가 발생
폭설	한 번에 많은 눈이 내리는 현상으로, 교통 혼잡, 시설물 붕괴가 발생

**(TIP)** 태풍은 적도 부근에서 발생하지만 피해는 중위도에 위치한 국가에서 많이 발생해, 태풍은 진행 방향의 오른쪽이 왼쪽보다 바람이 강해서 피해가 심해.

지진	땅이 갈라지고 흔들리는 현상으로, 건축물과 도로가 붕괴
화산 활동	용암, 화산 가스, 화산재 분출로 항공기 운항에 지장을 초래
산사태	집중 호우나 지진 등으로 토양층이 빠르게 흘러내리는 현상

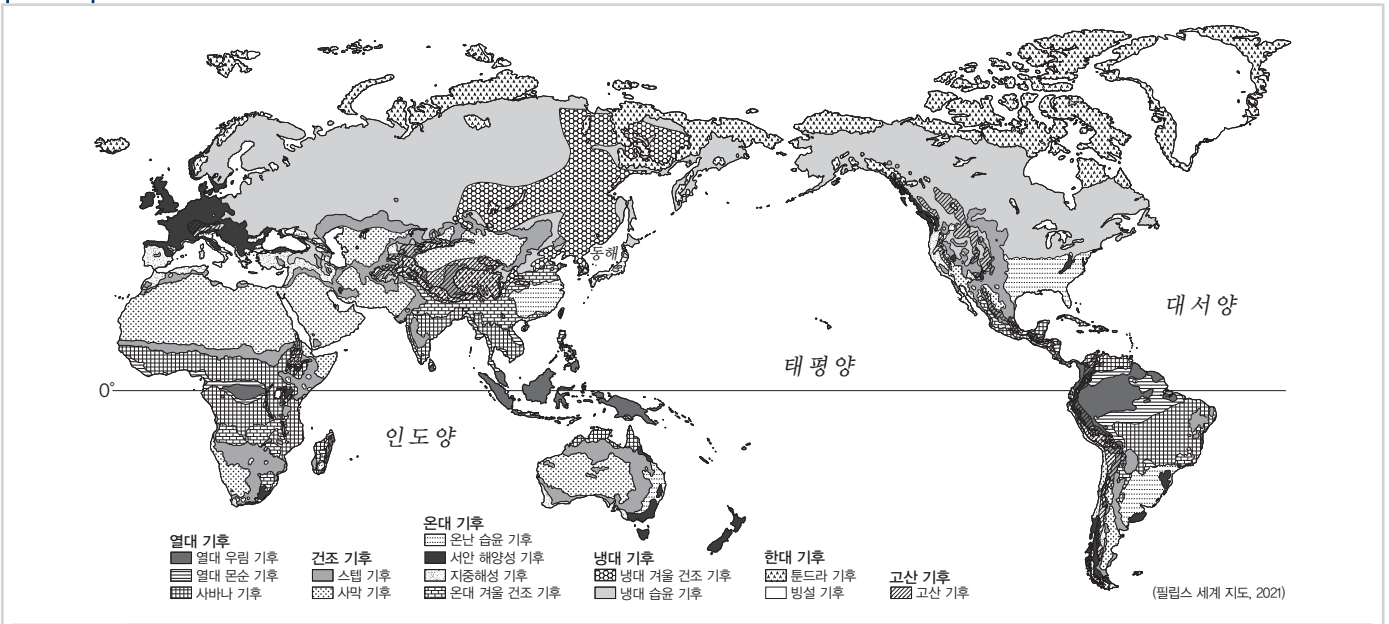
### 02 안전하고 쾌적한 환경에서 살 권리

1. 국가의 노력: 헌법과 법률에서 국민의 생명과 재산을 보호하기 위한 권리를 보장하고 자연재해 예방, 복구 및 지원 정책을 수립하고 시행

2. 시민의 노력: 재해 대비 안전 교육과 환경 교육에 적극적으로 참여하고 재해 발생 시 행동 요령에 따라 안전하게 대피

# 중요 자료 분석

## 자료 01 세계의 기후 지역



**자료 분석** 열대 기후는 최한월 평균 기온 18℃ 이상으로, 최소우월 강수량 60mm를 기준으로 열대 우림, 열대 몬순, 사바나 기후로 구분한다. 건조 기후는 연 강수량보다 연 증발량이 많으며, 연 강수량 250mm를 기준으로 사막 기후, 스텝 기후로 구분한다. 온대 기후는 편서풍과 해류의 영향을 받는 대륙 서안과 계절풍의 영향을 받는 대륙 동안의 기후로 구분한다. 대륙 서안은 연중 습윤한 서안 해양성 기후와 여름이 고온 건조한 지중해성 기후가 나타나며, 대륙 동안에는 온난 습윤 기후, 온대 겨울 건조 기후가 나타난다. 냉대 기후는 겨울이 춥고 길며 기온의 연교차가 크다. 한대 기후는 기온이 낮아 인간의 거주에 불리하다. 고산 기후는 연중 온화하며, 적도 부근의 해발 고도가 높은 산지에 주로 나타난다.

- (1) 온대 기후 지역의 대륙 동안은 대륙 서안보다 기온의 연교차가 크다. (O, X)
- (2) 사바나 기후 지역은 열대 몬순 기후 지역보다 아열대 고압대의 영향을 받는 기간이 길다. (O, X)

## 자료 02 건조 기후 지역의 전통 가옥

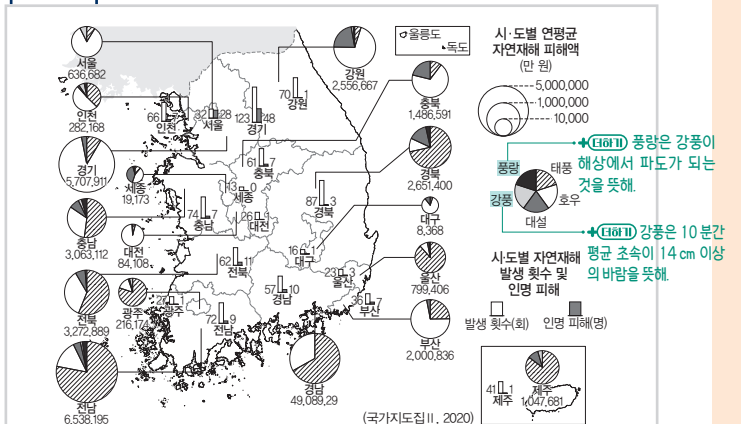


1 사막 기후의 흙벽돌집      2 스텝 기후의 이동식 가옥

**자료 분석** 사막 기후 지역에는 흙벽돌집이 발달하는데, 기온의 일교차가 크고 건조하기 때문에 벽을 두껍게, 창문은 작게 만들어 불리한 기후 조건을 극복하기 위해 노력한다. 또한 직사광선을 피하고 그늘을 만들기 위해 건물이 가깝게 붙어있는 경우가 많다. 이동식 가옥은 유목 생활을 하는 스텝 기후 지역에서 발달하는데, 풀을 찾아 자주 이동해야 하는 목축업의 특성 때문에 전통 가옥은 조립과 분해가 쉽게 짓는다.

- (1) 스텝 기후 지역의 이동식 가옥은 밀농사를 짓는 주민들의 대표적인 가옥 형태이다. (O, X)
- (2) 흙벽돌집이 발달한 사막 지역은 골목을 넓게 만들어 시원한 바람이 지나갈 수 있도록 바람길을 조성한다. (O, X)
- (3) 지역마다 다른 자연환경의 영향으로 기후 지역별 다양한 생활양식이 나타난다. (O, X)

## 자료 03 기후에 따른 자연재해 피해(2009~2018년)



**자료 분석** 우리나라의 자연재해 피해는 호우와 태풍으로 인한 피해가 가장 크다. 호우는 백두대간의 바람받이에 해당하는 중부 지방을 중심으로 피해를 준다. 이에 비해 태풍은 대체로 남서쪽에서 북동쪽으로 이동하기 때문에 남부 지방을 중심으로 피해를 준다. 한편 대설은 겨울철 북동 기류의 영향으로 눈이 많이 내리는 강원을 중심으로 많은 피해를 준다.

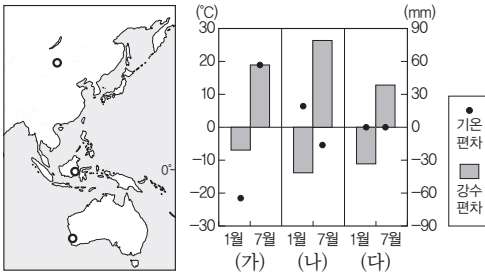
- (1) 우리나라에 피해를 주는 자연재해 중 대체로 태풍 피해 시기가 호우 피해 시기보다 이른다. (O, X)
- (2) 우리나라의 태풍 피해액은 대체로 태풍의 길목에 위치한 제주가 가장 많다. (O, X)

## 01

다음 자료의 (가)~(다) 지역에 대한 설명으로 옳은 것은? (단, (가)~(다)는 각각 지도에 표시된 세 지역 중 하나임.)

지도에 표시된 지역의 전통적인 생활 모습의 특징은 다음과 같다. 한 지역에서는 양 등을 기르는 유목 생활을, 또 다른 지역에서는 지면의 열기와 습기를 차단하기 위한 고상 가옥을, 마지막 지역에서는 올리브 등을 재배하는 수목 농업을 볼 수 있다. 이렇게 지역별로 주민 생활이 다르게 나타나는 것은 기온과 강수량 등 그 지역의 독특한 기후 특성의 영향 때문이다. 이러한 기후 특성 지표 중 기온 편차와 강수 편차는 다음과 같이 계산할 수 있다.

- 월 기온 편차 = 월평균 기온 - 연평균 기온
- 월 강수 편차 = 월 강수량 -  $\frac{\text{연 강수량}}{12}$



- ① (가)는 남반구에 위치한다.
- ② (나)가 위치한 국가의 전통 가옥은 이동 생활에 유리한 게르이다.
- ③ (다)가 위치한 국가의 전통 음식은 향신료가 들어간 볶음밥이다.
- ④ (다)는 (가)보다 기온의 연교차가 크다.
- ⑤ (가)와 (나)는 모두 여름 강수량이 겨울 강수량보다 많다.

## 02

다음은 사회 관계망 서비스(SNS)에 게시된 여행기이다. 밑줄 친 ㉠, ㉡에 해당하는 지형으로 옳은 것은?

<p>Love_tongsa</p> <p>㉠ 지열로 데워진 물과 수증기가 분출하는 간헐천인데, 물줄기가 솟아 오를 때마다 모두가 감탄했어! #미국 #엘로스톤 국립 공원</p>	<p>Love_tongsa</p> <p>㉡ 석회암의 용식으로 만들어진 높은 봉우리들인데, 뗏목을 타고 경관을 보니 정말 멋지더라! #중국 #구이린</p>
--	---

- |           |           |
|-----------|-----------|
| ① 빙하 지형   | ② 화산 지형   |
| ② 빙하 지형   | ③ 카르스트 지형 |
| ③ 화산 지형   | ④ 빙하 지형   |
| ④ 화산 지형   | ⑤ 카르스트 지형 |
| ⑤ 카르스트 지형 | ① 화산 지형   |

### 해결 Flow

지도에 표시된 지역의 위치를 적도를 기준으로 파악한다.

제시된 그래프를 분석하여 지도에 표시된 세 지역과 (가)~(다)를 옳게 연결한다.

### 자료 분석

지도에 표시된 세 지역은 북반구 유라시아 대륙 내부의 건조 기후 지역, 적도 부근의 열대 기후 지역, 남반구 오스트레일리아 남서부 지중해성 기후 지역이다. 그 래프에서 (가)는 7월이 1월보다 기온이 높고 강수량도 많기 때문에 북반구에 위치한다. (나)는 1월이 7월보다 기온이 높지만 강수량은 적기 때문에 남반구의 지중해성 기후 지역에 해당한다. (다)는 1월, 7월 기온 차이가 거의 없는 적도 부근의 열대 기후 지역에 해당한다.

### 선지 분석

- ① (가)는 7월이 1월보다 기온이 높기 때문에 북반구에 위치한다.
- ② (나)가 위치한 국가는 남반구의 오스트레일리아이다. 게르는 북반구의 건조 기후 지역에 위치한 몽골의 전통 가옥이다.
- ✓ ③ (다)가 위치한 국가는 적도 부근에 위치한 인도네시아이다. 인도네시아의 전통 음식인 나시고렝은 향신료가 들어간 볶음밥이다.
- ④ 1월, 7월의 월 기온 편차의 차이는 기온의 연교차와 거의 유사하다. 저위도에 위치한 (다)는 고위도에 위치한 (가)보다 기온의 연교차가 작다.
- ⑤ 지중해성 기후가 나타나는 (나)는 겨울이 우기이기 때문에 겨울 강수량이 여름 강수량보다 많다.

### 해결 Flow

자료에 제시된 삽화와 설명을 살펴 보고 각 지형의 특성을 파악한다.

각 지형의 형성 과정 또는 지형의 특성을 통해 지형을 구분한다.

### 자료 분석

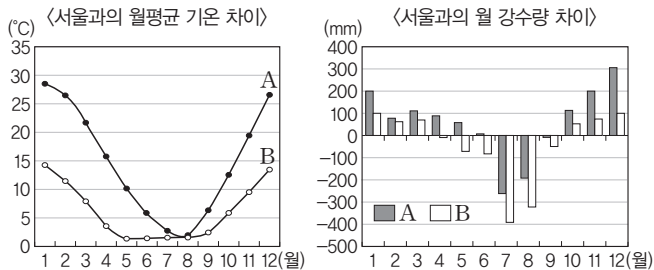
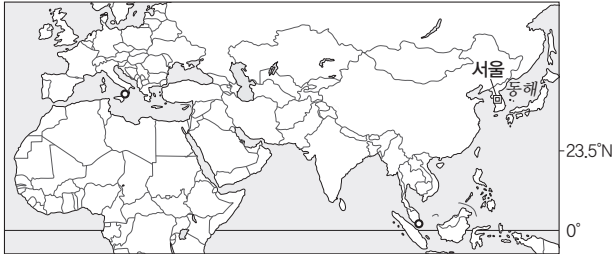
제시된 문항은 대체로 난도가 높지 않지만, 출제 빈도가 높은 편이다. 왼쪽 게시물은 화산 지형, 오른쪽 게시물은 카르스트 지형으로, 두 지형 모두 주변에서 흔히 볼 수 없는 관광 자원이다. 특히 화산 지형은 지구 내부에서 발생하는 에너지로 형성되기 때문에 지구가 살아있음을 확인하는 기회를 얻게 한다.

### 선지 분석

- ① 화산 지형은 자료에 제시된 간헐천뿐만 아니라 뜨거운 용암이 흐르는 경관을 관찰하거나 온천과 같이 휴양을 병행할 수 있어 관광 자원으로 활용된다.
- ② 카르스트 지형은 석회암의 용식 작용으로 형성된 지하 및 지상의 다양한 지형으로, 석회 동굴, 탑 카르스트(구이린, 할롱베이 등), 석회화 단구(따묵칼레 등) 등이 대표적이다.

**01-1** 동형 문제

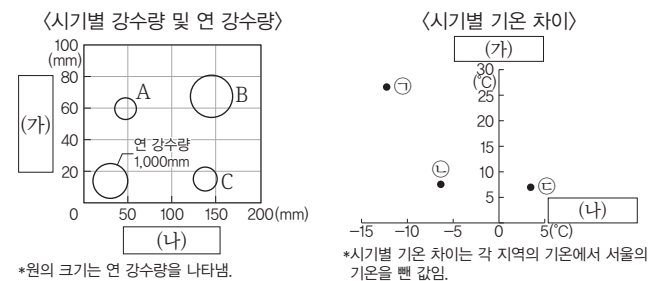
그래프는 지도에 표시된 두 지역과 서울의 기후 값 차이를 나타낸 것이다. 이에 대한 설명으로 옳은 것은? (단, 그래프의 A, B는 각각 지도에 표시된 두 지역 중 하나임.)



- ① A에서는 올리브 등을 재배하는 수목 농업이 주로 이루어진다.
- ② B는 서울보다 여름 강수 집중률이 높다.
- ③ B에서는 지면의 열과 습기 차단에 유리한 고상 가옥이 발달했다.
- ④ A는 B보다 여름에 더 건조하다.
- ⑤ A와 B는 모두 서울보다 연평균 기온이 높다.

**01-2** 동형 문제

그래프는 지도에 표시된 세 지역의 기후 자료이다. 이에 대한 설명으로 옳은 것은? (단, 그래프의 A~C와 ㉠~㉢은 각각 지도에 표시된 세 지역 중 하나이며, (가), (나)는 각각 1월, 7월 중 하나임.)



\*원의 크기는 연 강수량을 나타냄. \*시기별 기온 차이는 각 지역의 기온에서 서울의 기온을 뺀 값임.

- ① (가) 시기에 A에서는 수목 농업이 이루어진다.
- ② (나) 시기에 B는 C보다 벼농사에 유리하다.
- ③ A는 ㉠, B는 ㉡, C는 ㉢에 해당한다.
- ④ ㉠은 ㉢보다 편서풍의 영향을 받는 기간이 길다.
- ⑤ ㉠은 ㉡보다 연 강수량이 많다.

**02-1** 동형 문제

(가), (나) 지형에 대한 설명으로 옳은 것만을 <보기>에서 고른 것은?

(가)	(나)
미국 옐로스톤 국립 공원에는 지열로 데워진 물과 수증기가 솟아오르는 간헐천이 있다.	중국 구이린에는 기반암의 용식으로 만들어진 높은 봉우리를 보기 위해 많은 관광객이 찾고 있다.

보기

- ㄱ. (가)는 수력 발전에 용이하다.
- ㄴ. (가)는 아이슬란드, 뉴질랜드 등에서 볼 수 있다.
- ㄷ. (나)는 베트남의 할롱베이에서도 볼 수 있다.
- ㄹ. (나)는 형성 과정에서 빙하의 작용이 크게 작용하였다.

- ① ㄱ, ㄴ                      ② ㄱ, ㄷ                      ③ ㄴ, ㄷ
- ④ ㄴ, ㄹ                      ⑤ ㄷ, ㄹ

**02-2** 통합형

다음 자료에 대한 설명으로 옳지 않은 것은?

㉠ 북동부에 위치한 할롱베이에서는 ㉡ 석회 동굴과 1,900여 개의 섬들을 볼 수 있다. 이 지역 주민들은 석회 동굴 투어, 보트와 낚시 체험 등 다양한 ㉢ 산업에 종사하며 살아오고 있다.

- ① ㉠을 탐 카르스트라고 한다.
- ② ㉠의 기반암은 대부분 고생대에 형성된 퇴적암이다.
- ③ ㉠에 들어갈 국가는 동아시아 문화권에 포함된다.
- ④ ㉡은 석회암이 이산화 탄소가 포함된 물에 녹아 형성되었다.
- ⑤ ㉢에 들어갈 산업은 산업 구조상 3차 산업에 해당한다.

# 수능 기본 문제

## 01

다음 글은 기후에 대한 것이다. 이에 대한 설명으로 옳은 것은?

기후는 한 지역에서 여러 해 동안 반복적으로 나타나는 평균적인 대기 상태를 뜻하며, 기온, 강수, 바람 등으로 표현한다. 기후에 영향을 미치는 요인으로는 위도, 해발 고도, 지형, 수륙 분포, 바다와의 거리 등이 있다.

- ① 위도가 높아질수록 강수량이 증가한다.
- ② 적도 주변은 연 증발량이 연 강수량보다 많다.
- ③ 열대 기후의 고산 지역은 인간 거주에 유리하다.
- ④ 세계의 기후는 대체로 식물과 토양을 기준으로 구분한다.
- ⑤ 냉대 기후는 한대 기후보다 대체로 위도가 높은 지역에 분포한다.

## 02

다음 자료는 두 지역의 전통 가옥을 나타낸 것이다. (가), (나) 지역에 대한 설명으로 옳은 것만을 <보기>에서 고른 것은?

(가)



(나)

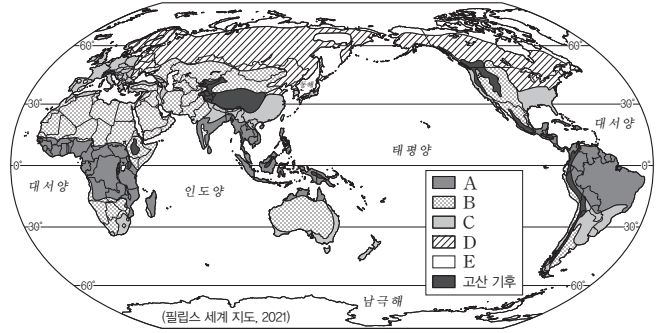


보기

- ㄱ. (가)는 (나)보다 연평균 기온이 높다.
- ㄴ. (가)는 (나)보다 기온의 일교차가 크다.
- ㄷ. (나)는 (가)보다 연 강수량이 적다.
- ㄹ. (나)는 (가)보다 플랜테이션이 활발하다.

- ① ㄱ, ㄴ                      ② ㄱ, ㄷ                      ③ ㄴ, ㄷ
- ④ ㄴ, ㄹ                      ⑤ ㄷ, ㄹ

[03~04] 지도는 세계의 기후 지역을 나타낸 것이다. 이를 보고 물음에 답하시오.



## 03


A~E 기후 지역에 대한 설명으로 옳지 않은 것은?

- ① A는 기온의 일교차가 기온의 연교차보다 크다.
- ② B에서는 주민들이 오아시스 주변에서 대추야자 등을 재배한다.
- ③ C의 대륙 서안에서는 계절풍의 영향을 받아 벼농사가 이루어진다.
- ④ D에는 타이가라고 불리는 상록 침엽수림이 넓게 분포한다.
- ⑤ E의 주민들은 순록을 유목하며 생활한다.

## 04

(가), (나)와 같은 전통 음식 문화가 발달한 지역을 A~E에서 고른 것은?

(가)



○ Nasi Goreng

(나)



○ 스투

- |   | (가) | (나) |   | (가) | (나) |
|---|-----|-----|---|-----|-----|
| ① | A   | B   | ② | A   | D   |
| ③ | B   | E   | ④ | C   | D   |
| ⑤ | C   | E   |   |     |     |

## 05

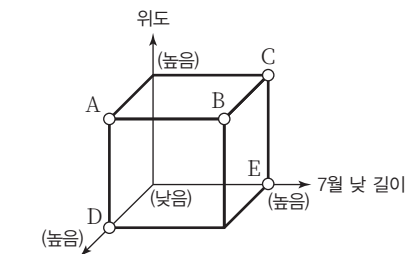
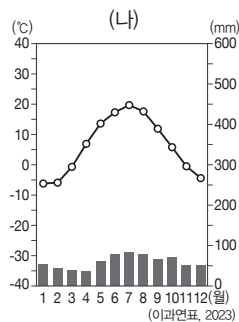
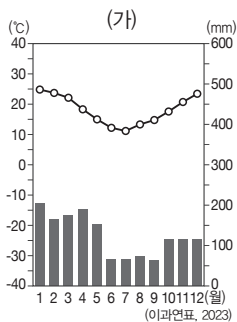
밑줄 친 ㉠~㉣에 대한 설명으로 옳지 않은 것은?

온대 기후 지역은 기후가 온화하고 계절의 변화가 뚜렷하여 주민 생활에 다양한 특성이 나타난다. 지중해 연안에서는 흰색 벽에 ㉠작은 창을 둔 집을 짓고, ㉡수목 농업이 이루어진다. 서부 유럽에서는 ㉢혼합 농업과 목축업이 발달하였다. 동아시아에서는 계절풍의 영향이 강하기 때문에 ㉣더위와 추위에 모두 대비한 전통 가옥과 ㉤이 지역의 특징적인 농업이 나타난다.

- ① ㉠은 겨울철에 차가운 바람이 강하게 불기 때문이다.
- ② ㉡의 대표적 작물은 올리브이다.
- ③ ㉢은 곡물 재배와 가축 사육이 함께 이루어지는 농업이다.
- ④ ㉣은 유럽보다 기온의 연교차가 크기 때문이다.
- ⑤ ㉤의 사례로 여름철 기후를 이용한 벼농사가 있다.

## 06

그래프는 두 지역의 기온과 강수량 특성을 나타낸 것이다. (가) 기후 지역과 비교한 (나) 기후 지역의 상대적 특성을 그림의 A~E에서 고른 것은?



- ① A
- ② B
- ③ C
- ④ D
- ⑤ E

\* (높음)은 많음, 길, (낮음)은 적음, 짧음을 의미함.

## 07

다음과 같은 전통 가옥 및 경관이 나타나는 지역의 특성으로 옳은 것만을 <보기>에서 고른 것은?



[보기]

- ㄱ. 연 증발량이 연 강수량보다 많다.
- ㄴ. 대체로 우기에 비해 건기가 길게 나타난다.
- ㄷ. 주민들은 이동식 화전 농업으로 작물을 재배한다.
- ㄹ. 전통 음식은 주로 기름에 볶거나 튀겨서 요리한다.

- ① ㄱ, ㄴ
- ② ㄱ, ㄷ
- ③ ㄴ, ㄷ
- ④ ㄴ, ㄹ
- ⑤ ㄷ, ㄹ

## 08

다음 자료는 두 기후 지역의 주된 경관을 나타낸 것이다. 두 기후 지역의 공통점으로 옳은 것만을 <보기>에서 고른 것은?

(가)



(나)



㉠ 풀을 찾아 이동하는 야생 동물

㉡ 흰 벽과 푸른 지붕

[보기]

- ㄱ. 건기와 우기가 뚜렷하다.
- ㄴ. 계절풍의 영향을 많이 받는다.
- ㄷ. 아열대 고압대의 영향을 받는다.
- ㄹ. 1년 중 기온이 높은 달에 비가 많이 내린다.

- ① ㄱ, ㄴ
- ② ㄱ, ㄷ
- ③ ㄴ, ㄷ
- ④ ㄴ, ㄹ
- ⑤ ㄷ, ㄹ

## 09

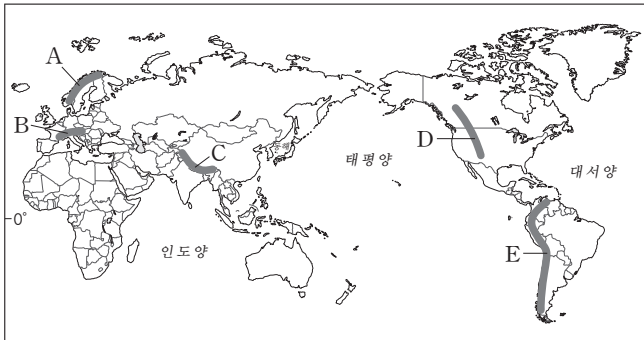
다음은 세 기후 지역에서 재배되는 주요 농작물에 대한 검색어이다. (가)~(다) 지역에 대한 설명으로 옳은 것은?

(가)	(나)	(다)
#카사바 #카카오 # [㉠]	#대추야자 #밀 #보리	#올리브 # [㉡] #오렌지

- ① (가)는 (나)보다 기온의 일교차가 크다.
- ② (나)는 (다)보다 분포의 평균 위도가 높다.
- ③ (다)는 (가)보다 계절의 변화가 뚜렷하다.
- ④ (가)~(다) 중 연 강수량은 (다)가 가장 많다.
- ⑤ ㉠에는 포도, ㉡에는 커피가 들어갈 수 있다.

## 10 통합형

지도의 A~E 산맥에 대한 설명으로 옳지 않은 것은?



- ① A의 대서양 연안에는 아름다운 빙하 지형이 발달해 있다.
- ② B에서는 여름철에 산지에서 목축업을 한다.
- ③ C는 높고 험준하여 문화권의 경계가 된다.
- ④ D에는 고대 잉카 문명의 유적이 있다.
- ⑤ E의 일부에는 열대 고산 기후가 나타나 인간 거주에 유리하다.

## 11

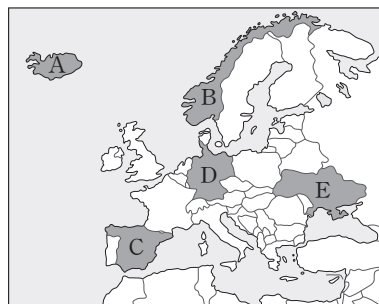
㉠~㉢에 대한 설명으로 옳지 않은 것은?

지표면의 약 29%는 육지로 이루어져 있으며, 육지는 기복에 따라 다양한 지형이 발달하는데, 대체로 해발 고도와 경사 등을 고려하여 [㉠], [㉡], [㉢] (으)로 분류할 수 있다. [㉠]은/는 해발 고도가 높고 경사가 급한 편이다. 이에 비해 [㉡]은/는 해발 고도가 낮고 지표면이 편평하다. [㉢]은/는 육지와 바다가 만나는 곳으로 두 곳의 장점을 모두 누릴 수 있다.

- ① ㉠에는 산지, ㉡에는 평야, ㉢에는 해안이 들어갈 수 있다.
- ② 하천은 대체로 ㉠→㉡→㉢ 순으로 흘러 바다로 유입된다.
- ③ ㉡에는 시 스택 등을 활용한 관광 산업이 발달한다.
- ④ ㉡은 ㉠보다 농업 생산성이 높아 인구 밀도가 높다.
- ⑤ ㉢은 ㉡보다 다른 국가와의 무역 활동에 유리하다.

## 12

다음 자료는 관광 자원으로 활용되는 지형을 나타낸 것이다. (가), (나) 지형이 모두 나타나는 국가를 지도의 A~E에서 고른 것은?



- ① A
- ② B
- ③ C
- ④ D
- ⑤ E

### 13 통합형

사진은 지도에 표시된 지역의 주민 모습이다. 이 지역에 대한 설명으로 옳은 것만을 <보기>에서 있는 대로 고른 것은?




보기

- ㉠. 대부분의 주민이 가톨릭을 믿는다.
- ㉡. 기온의 연교차가 기온의 일교차보다 크다.
- ㉢. 연중 우리나라의 봄과 같은 날씨가 지속된다.
- ㉣. 아마존강의 발원지이며, 고대 문명이 발달하였다.

- ① ㉠, ㉡                      ② ㉡, ㉢                      ③ ㉠, ㉡, ㉣
- ④ ㉠, ㉢, ㉣                ⑤ ㉡, ㉢, ㉣

### 14

다음 자료는 어느 해안 지형을 그린 명화와 관련된 내용이다. 이에 대한 설명으로 옳지 않은 것은?



● 모네, 「에트르타: 해변과 팔레스 다름」      ● 뭉크, 「절규」


모네는 프랑스 노르망디 해변의 작은 어촌인 에트르타에 있는 ㉠ 코끼리 모양의 수직 암벽과 ㉡ 아름다운 모래사장(모래사장)에 마음을 사로잡혀 매년 이곳을 찾아 화폭에 경치를 담았다.

뭉크는 두 친구와 함께 노르웨이 오슬로 근처를 걷다가 질푸른 ㉢ 과/와 도시를 넘어 피처럼 불타는 구름을 보고 전율을 느껴 그 감정을 화폭에 담았다.

- ① ㉠은 시 아치, ㉡은 사빈이다.
- ② ㉠은 콧(岬), ㉡은 만(灣)에 잘 형성된다.
- ③ ㉠은 파랑의 침식, ㉡은 파랑의 퇴적으로 형성되었다.
- ④ ㉢은 피오르이며, 최종 빙기에 형성되었다.
- ⑤ ㉢은 크루즈 관광선이 운행될 정도로 수심이 깊다.

### 15

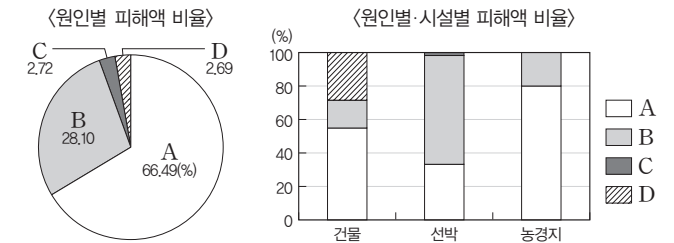
다음 자료는 자연재해에 의한 피해 모습이다. (가)~(다) 자연재해에 대한 설명으로 옳지 않은 것은? (단, (가)~(다)는 각각 가뭄, 지진, 홍수 중 하나임.)



- ① (가)는 기후적 요인에 의한 자연재해이다.
- ② (나)는 사막의 주변 지역에서 발생 빈도가 높다.
- ③ 우리나라는 (가)보다 (나)에 의한 피해 규모가 크다.
- ④ (가)는 (다)보다 재해 발생에 대한 예측과 대응이 유리하다.
- ⑤ 재해 발생 이후 시간이 지날수록 (나)는 (다)보다 피해 범위가 빠르게 확산한다.

### 16

그래프는 우리나라의 주요 자연재해의 피해액 특성을 나타낸 것이다. A~D 자연재해에 대한 설명으로 옳지 않은 것은? (단, A~D는 각각 대설, 지진, 태풍, 호우 중 하나임.)



\*2014~2023년의 누적 피해액이며, 2023년도 환산 가격 기준임. (행정안전부, 2023)

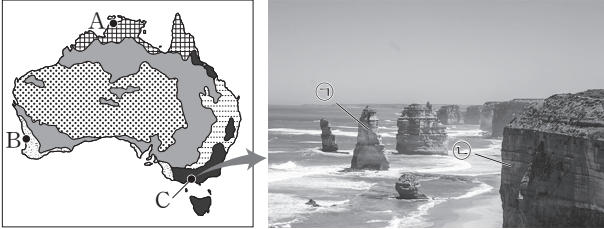
- ① 제주특별자치도는 A보다 B의 피해액이 많다.
- ② B는 C보다 발생 시기에 평균 풍속이 약하다.
- ③ C는 기후적 요인에 의한 자연재해이다.
- ④ C는 D보다 발생 시기를 예측하기에 유리하다.
- ⑤ 우리나라는 D에 대응하기 위해 풍수해 보험을 지원하고 있다.

# 1등급 완성 문제



## 01

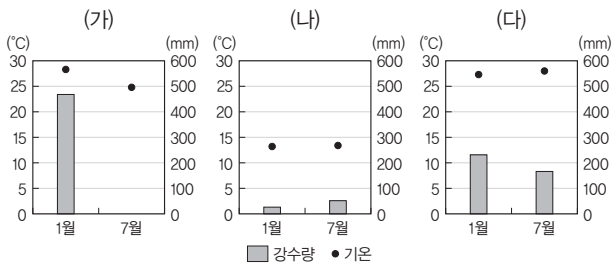
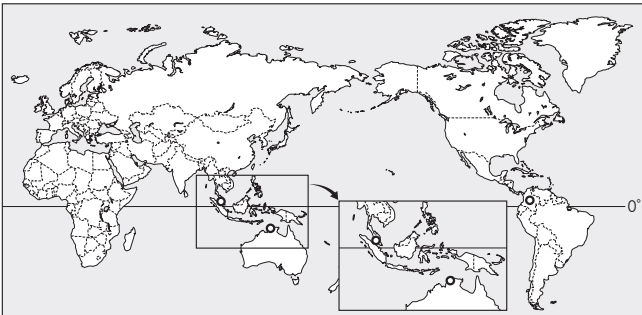
다음 자료는 오스트레일리아의 기후 구분과 지도에 표시된 지역에서 볼 수 있는 경관이다. 이에 대한 설명으로 옳은 것은?



- ① 지중해 연안이 겨울일 때 B에서는 포도 재배가 한창이다.
- ② A와 B는 모두 기온이 가장 높은 달에 강수가 집중한다.
- ③ C는 연중 편서풍의 영향을 받아 기온의 연교차가 A보다 작다.
- ④ ㉠은 석회암의 용식 작용으로 형성된 탑 카르스트이다.
- ⑤ 시간이 지나면 ㉠과 ㉡의 간격이 좁아진다.

## 02

그래프는 지도에 표시된 세 지역의 기후 특성을 나타낸 것이다. (가)~(다) 지역에 대한 설명으로 옳은 것은?



- ① (가)의 원주민은 잉카 문명을 이룬 민족(종족)의 후예이다.
- ② (나)에서는 기름야자를 재배하는 플랜테이션이 발달하였다.
- ③ (다)의 주민들은 음식을 오래 보관하기 위해 향신료를 많이 사용한다.
- ④ (나)는 (다)보다 식생 밀도가 높다.
- ⑤ (다)는 (가)보다 여름 강수 집중률이 높다.

## 03

다음은 아름다운 자연환경에서 영감을 얻어 제작된 영화이다. (가), (나)의 배경이 된 지역에 대한 설명으로 옳은 것만을 <보기>에서 있는 대로 고른 것은?



○ 모네, 「웨스트민스터 다리 밑 템스강」  
○ 고희, 「노란 하늘과 태양 아래의 올리브 나무들」

<보기>

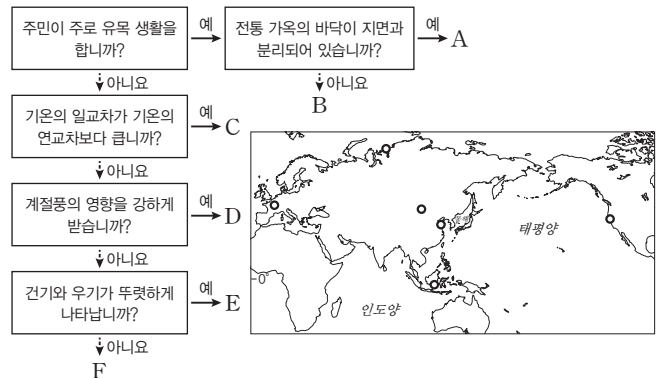
- ㄱ. (가)는 (나)보다 겨울 강수 집중률이 높다.
- ㄴ. (가)는 (나)보다 운하를 통한 내륙 수운 발달에 유리하다.
- ㄷ. (나)는 (가)보다 아열대 고압대의 영향을 많이 받는다.
- ㄹ. (가)에서는 혼합 농업이, (나)에서는 수목 농업이 이루어진다.

- ① ㄱ, ㄴ
- ② ㄴ, ㄷ
- ③ ㄱ, ㄴ, ㄹ
- ④ ㄱ, ㄷ, ㄹ
- ⑤ ㄴ, ㄷ, ㄹ

## 04

통합형

다음은 지도에 표시된 지역을 특정 기준에 의해 나눈 것이다. 이에 대한 설명으로 옳은 것은?



- ① A에서는 주민이 계절에 따라 양이나 염소 등을 유목하며 생활한다.
- ② B는 연 강수량이 연 증발량보다 많다.
- ③ C의 주민들은 전통적으로 이동식 화전 농업을 통해 카사바 등을 재배하였다.
- ④ D는 E보다 주민들의 1인당 지역 내 총생산이 많다.
- ⑤ E는 F보다 주민들이 새해 일출을 먼저 맞이한다.

### 05 통합형

(가)~(다) 산맥과 관련된 설명으로 옳은 것만을 <보기>에서 있는 대로 고른 것은?

- (가) 스칸디나비아반도를 가로지르는 산맥으로, 노르웨이와 스웨덴의 국경을 이룬다. 서쪽은 가파른 경사로 대서양에 이르고 동쪽은 완만한 경사로 평지로 접어든다.
- (나) 해발 고도 8,000m 이상의 봉우리가 14개가 모여 있으며, 세계의 지붕으로 불린다. 이 산맥은 인도판이 유라시아판과 충돌하는 과정에서 지각이 융기되어 형성되었다.
- (다) 남아메리카 서부 태평양 연안을 따라 베네수엘라에서 아르헨티나까지 7개국에 걸쳐 지구상에서 가장 길게 뻗어 있는 산맥으로 그 길이가 약 7,000km에 달한다.

**보기**

- ㄱ. (가)의 대서양 연안에는 피오르를 활용한 관광 산업이 발달하였다.
- ㄴ. (나)에는 인구가 많은 열대 고산 도시들이 분포한다.
- ㄷ. (다)의 주민들은 라마나 알파카 등의 가축을 기르며 생활한다.
- ㄹ. (가)와 (다)의 주민들은 대부분 크리스티교를 신봉한다.

- ① ㄱ, ㄴ                      ② ㄴ, ㄷ                      ③ ㄱ, ㄴ, ㄹ
- ④ ㄱ, ㄷ, ㄹ                ⑤ ㄴ, ㄷ, ㄹ

### 06 통합형

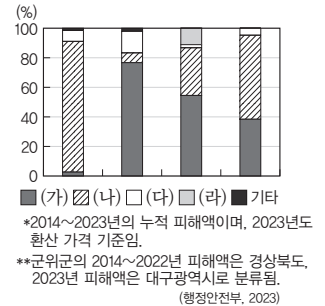
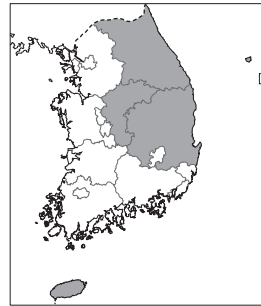
㉠~㉢ 하천에 대한 설명으로 옳지 않은 것은?

세계에서 가장 긴 하천으로 알려진 ㉠은 적도 부근에서 발원하여 여러 나라를 지나 지중해로 흘러든다. 알프스산맥에서 발원한 ㉡은 독일을 지나 북해로 흘러든다. 세계의 지붕으로 불리는 티베트 고원에서 시작된 ㉢은 동쪽으로 5,000km 이상을 흘러 중국의 경제 중심지인 상하이를 지나 태평양으로 유입된다. 세계에서 유량이 가장 많은 하천으로 알려진 ㉣은 안데스산맥에서 시작되어 대서양으로 흘러간다.

- ① ㉠은 아프리카 문화권과 건조 문화권을 모두 지난다.
- ② ㉡의 하류에는 계절풍의 영향으로 여름철에 벼농사가 이루어진다.
- ③ ㉢의 하류는 ㉡의 하류보다 여름철 강수량이 많다.
- ④ ㉡의 하류 지역은 ㉢의 하류 지역보다 인구 밀도가 높다.
- ⑤ ㉠~㉢ 중 ㉢ 하천 유역이 산업화 시기가 가장 이른다.

### 07

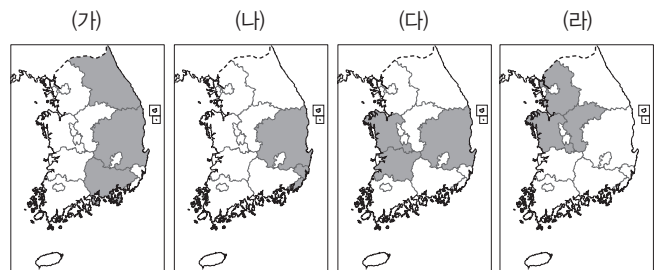
그래프는 지도에 표시된 네 지역의 원년별 자연재해 피해액 비율을 나타낸 것이다. 이에 대한 설명으로 옳은 것은? (단, (가)~(라)는 각각 대설, 지진, 태풍, 호우 중 하나임.)



- ① (가)는 우리나라에 장마 전선이 오래 정체할 때 주로 발생한다.
- ② (나)는 적도 부근에서 발생하여 우리나라에 피해를 주는 열대성 저기압이다.
- ③ (다)는 (나)보다 주로 발생하는 시기의 평균 기온이 높다.
- ④ (가), (나), (라)는 기후적 요인, (다)는 지형적 요인으로 발생한다.
- ⑤ (가)~(라) 중 총피해액은 (나)가 가장 많다.

### 08

지도는 네 자연재해의 우리나라 시·도별 피해액 상위 3개 지역을 나타낸 것이다. (가)~(라)에 대한 설명으로 옳은 것은? (단, (가)~(라)는 각각 대설, 지진, 태풍, 호우 중 하나임.)



\*2014~2023년의 누적 피해액이며, 2023년도 환산 가격 기준임.  
\*\*군위군의 2014~2022년 피해액은 경상북도, 2023년 피해액은 대구광역시로 분류됨.

- ① (가)는 북서 계절풍의 영향이 강한 시기에 주로 발생한다.
- ② (나)에 대비하여 염화칼슘이나 모래 등을 도로 옆에 준비해 둔다.
- ③ (라)로 인한 피해를 줄이기 위해 건축물의 내진 설계를 강화해야 한다.
- ④ (라)는 (다)보다 우리나라 연 강수량에 미치는 영향이 크다.
- ⑤ (가)~(라) 중 우리나라 국민 1인당 피해액은 (가)가 가장 많다.

# 03 인간과 자연의 관계와 환경 문제

## 1 자연에 대한 다양한 관점

### 1. 인간 중심주의 자연관 **자료 01**

(TIP) 그 대상을 존중해야 할 도덕적 의무가 있다는 것과 같은 의미야.

의미	오직 인간만이 <b>도덕적 지위</b> 를 가지고 있으며, 자연을 바라볼 때 인간의 이익이나 행복을 먼저 고려해야 한다고 보는 관점
특징	<ul style="list-style-type: none"> <li>• <b>이분법적 세계관</b>: 인간은 자연으로부터 독립적인 존재이며 자연보다 우월한 존재 (TIP) 인간과 자연을 둘로 나누어서 바라보는 관점이야.</li> <li>• <b>도구적 가치</b>: 자연은 그 자체로 가치 있는 존재가 아니라 인간의 생존과 복지를 위한 도구 (TIP) 어떤 목적을 이루기 위한 수단이 되는 가치야.</li> </ul>
도덕적 고려	도덕적 지위를 지닌 유일한 존재인 인간만이 직접적인 도덕적 고려의 대상 (TIP) 행위를 하기 전에 대상에 대해 어떤 책임을 져야 하는지 성찰해 보는 것을 말해.
의의	자연을 개발하고 극복하여 자연으로부터 이익을 얻고 자연에 대한 지식을 통해 과학기술 발전에 기여
한계	인간이 자연을 훼손하는 행위를 정당화함으로써 환경 오염과 생태계 파괴를 유발
사상가	아리스토텔레스, 아퀴나스, 베이컨, 데카르트, 칸트 등

### 2. 생태 중심주의 자연관 **자료 03**

(TIP) 전체는 각 부분들의 단순한 합이 아니라 상호 연결된 하나의 유기적 실체라는 걸 의미해.

의미	인간을 포함한 생명체뿐만 아니라 자연물과 생태계 자체도 도덕적 지위를 지니므로 도덕적으로 대우해야 한다고 보는 관점
특징	<ul style="list-style-type: none"> <li>• <b>전일론적 관점</b>: 자연은 인간, 동물, 식물, 환경 등 다양한 구성원이 유기적으로 연결되어 있는 생명 공동체</li> <li>• <b>내재적 가치</b>: 자연은 인간과 무관하게 그 자체로 가치를 지니고 있으므로 인간의 이익을 위한 수단으로만 고려해서는 안 됨.</li> </ul>
도덕적 고려	(TIP) 그 자체가 목적이기 때문에 갖는 가치야. 무생물을 포함한 생태계 전체가 도덕적 고려의 대상
의의	생태계 자체에 대한 존중을 강조하여 환경 문제를 해결하는 데 기여
한계	<ul style="list-style-type: none"> <li>• 생태계 보호를 위한 현실적 지침을 제공하지 못함.</li> <li>• 생태계 전체의 선을 위해 개별 생명체의 희생을 정당화</li> </ul>
사상가	레오폴드, 네스 등

## 2 인간과 자연의 바람직한 관계

1. 인간과 자연의 유기적 관계: 인간과 자연은 대립하거나 어느 한쪽이 우위에 있는 관계가 아니라 밀접하게 연결되어 있는 관계
2. 인간과 자연의 공존: 인간의 삶과 자연 생태계가 조화롭게 공존할 수 있는 방법을 모색해야 함.
  - (1) 개인적 차원의 노력: 환경친화적 가치관을 토대로 일상생활에서 환경 보전을 적극적으로 실천
  - (2) 사회적 차원의 노력: 생태계 유지가 가능한 범위 내에서 자연을 개발하고, 개발 과정에서 파괴된 생태계를 복원하기 위해 노력
3. 생태 공동체 의식 정립: 인간과 자연의 공존을 지향하는 태도 (TIP) 생태계의 한 구성원으로서 지녀야 할 역할과 책임에 관한 의식이야.

## 3 다양한 환경 문제

지구 온난화	<ul style="list-style-type: none"> <li>• 온실 효과로 지구의 평균 기온이 높아지는 현상</li> <li>• 화석 연료의 사용량 증가: 대기 중 이산화 탄소, 메탄 등 온실가스 농도가 상승 (TIP) 태양의 복사 에너지를 지구가 흡수하고 지구의 복사 에너지를 우주로 방출하는 과정에서 온실가스가 지구 복사를 흡수하여 지구 대기의 온도를 높이는 현상이야.</li> <li>• 이상 기후 현상 발생: 가뭄, 폭염, 폭우, 폭설, 한파 등</li> <li>• 해수면 상승: 태평양의 해발 고도가 낮은 섬나라의 침수</li> <li>• 동식물의 서식 범위 축소 등 지구 생태계를 위협</li> </ul>
산성비	<ul style="list-style-type: none"> <li>• 대기 오염 물질이 비에 섞여 내리는 현상 (TIP) 산업이 발달한 국가는 대부분 중위도의 선진국이야. 중위도는 연중 편서풍이 불기 때문에 오염 물질이 바람을 타고 서쪽에서 동쪽으로 이동해.</li> <li>• 토양과 해수, 호수의 산성화</li> <li>• 원인 물질 배출 지역과 피해 지역의 불일치</li> </ul>
오존층 파괴	<ul style="list-style-type: none"> <li>• 원인: 염화 플루오로탄소(CFCs)의 사용량이 증가</li> <li>• 자외선 증가로 피부암, 백내장 등의 질병을 유발, 농작물 성장 저해</li> </ul>
사막화	<ul style="list-style-type: none"> <li>• 초지나 산림이 황폐해지는 현상 (TIP) 염소와 불소를 포함한 유기 화합물의 중금속으로, 주로 냉각기나 에어컨 등의 냉매, 발포제, 분사제 등으로 사용돼.</li> <li>• 원인: 가뭄, 과도한 방목, 관개 농업, 산림 벌채, 화전 등</li> <li>• 토양 침식과 황사 등을 유발, 식량 생산량이 감소</li> <li>• 사헬 지대, 아랄해 일대 등에서 발생</li> </ul>
열대림 파괴	<ul style="list-style-type: none"> <li>• 열대림의 분포 면적이 감소하는 현상</li> <li>• 원인: 농경지·초지·도시 건설을 위한 개발과 벌목, 댐 건설로 인한 수몰</li> <li>• 식물 서식지와 생물종 다양성이 감소, 이산화 탄소 흡수 능력 약화로 지구 온난화의 가속화</li> </ul>
해양 오염	<ul style="list-style-type: none"> <li>• 바다로 유출되는 플라스틱: 해류를 따라 이동하여 거대한 해양 쓰레기 섬을 형성 (예) 태평양 거대 쓰레기 지대(GPPG)</li> <li>• 원유 유출 사고: 해양 및 연안 생태계를 파괴 (TIP) Great Pacific Garbage Patch</li> <li>• 어패류, 해조류, 소금 등을 섭취하는 인류의 식탁을 위협</li> </ul>

## 4 환경 문제 해결을 위한 노력 **자료 04**

국제 사회	<ul style="list-style-type: none"> <li>• 전 지구적 차원의 협력이 필요</li> <li>• 생물 다양성 보전: 람사르 협약(1971)</li> <li>• 해양 오염 방지: 런던 협약(1972) (TIP) 제네바 협약이라고도 불러.</li> <li>• 산성비 문제 해결: 대기 오염 물질의 장거리 이동에 관한 협약(1979)</li> <li>• 오존층 파괴 방지: 비엔나 협약(1985), 몬트리올 의정서(1987)</li> <li>• 유해 폐기물 억제: 바젤 협약(1989) (TIP) 2021년 개정을 통해 플라스틱 폐기물의 국가 간 이동을 규제하는 조항이 추가됐어.</li> <li>• 기후변화 대응: 리우 기후변화 협약(1992), 교토 의정서(1997), 파리 협정(2015)</li> </ul>
정부	<ul style="list-style-type: none"> <li>• 국제 협약을 준수하고 국제기구와 협력 관계를 유지</li> <li>• 「환경 정책 기본법」, 「대기 환경 보전법」, 환경 영향 평가 제도 등 법과 제도 마련, 저탄소 녹색 성장 추진 등</li> </ul>
시민 사회	<ul style="list-style-type: none"> <li>• 정부의 정책, 기업의 활동을 감시 및 견제</li> <li>• 비정부 기구: 그린피스(Greenpeace), 세계 자연 보호 기금(WWF), 지구의 벗(FoE) 등</li> </ul>
기업	<ul style="list-style-type: none"> <li>• 생산 과정에서 발생하는 오염 물질 배출 기준 및 환경 관련 법률을 준수</li> <li>• 기업 윤리 경영, 재생 에너지 100% 사용(RE100), 환경 사회 기업 지배 구조(ESG) 경영 등</li> </ul>
생태 시민	<ul style="list-style-type: none"> <li>• 생태 전환적 사고에 기반한 녹색 소비 활동, 친환경적 생활 방식을 실천</li> <li>• 플로깅, 다회용품 사용하기, 대중교통 이용하기 등</li> </ul>

# 중요 자료 분석

## 자료 01 인간 중심주의 자연관

- **아리스토텔레스:** 식물은 동물을 위해 존재한다. …… 동물은 인간을 위해 존재한다. 길들인 동물은 식량만이 아니라, 인간이 이용할 수 있는 다른 용도를 위해서도 존재한다.
- **아퀴나스:** 인간이 동물을 죽이는 행위를 두고 죄악을 저지르는 것이라고 말해서는 안 된다. 동물은 신(神)의 섭리에 따라 인간이 이용하도록 정해져 있기 때문이다.
- **베이컨:** 인간은 자연의 사용자이며 해석자이다. 자연의 질서에 관해 실재로 관찰하고 고찰한 것만큼 인간은 무엇인가를 알 수 있고 할 수 있다. 그 이상의 것은 알 수도 없고, 할 수도 없다. 인간의 지식이 곧 인간의 힘이다.
- **데카르트:** 인간은 자연의 지배자이자 소유자가 될 수 있다. 인간은 정신을 지닌 존재로서 인식의 주체이지만, 자연은 정신을 지니고 있지 않은 인식의 대상일 뿐이기 때문이다. **→(태도) 데카르트는 이분법적 세계관에 근거해서 인간과 자연을 철저하게 분리해서 바라봤어.**
- **칸트:** 이성만 있지만 생명이 있는 일부 피조물과 관련하여 동물들을 폭력적으로 그리고 잔학하게 다루는 것은 인간의 자기 자신에 대한 의무와 내면에서 더욱 배척되는 것이다. 왜냐하면 그로 인해 동물들의 고통에 대한 공감은 인간 안에서 둔화되고, **→(태도) 그래서 타인과의 관계에서 도덕성에 매우 이로운 자연 소질이 약화되어 점차로 절멸될 것이기 때문이다.**

### 자료 분석

칸트가 동물을 고려하는 이유는 동물의 도덕적 지위를 존중하기 위해서가 아니라, 인간의 도덕적 소질을 보호하기 위해서야. 아리스토텔레스는 자연이 목적 없이 아무것도 만들지 않으며, 모든 동물은 본래 사람을 위해 존재한다고 보았다. 아퀴나스는 신의 섭리에 따라 인간이 동물을 이용할 수 있다고 보았다. 베이컨은 인간의 힘이 자연을 관찰하고 분석함으로써 얻는 지식을 통해 생겨난다고 보았고, 자연을 인간의 이익을 위한 수단으로 인식하였다. 데카르트는 자연을 이성이 없는 단순한 물질 또는 기계로 파악함으로써 도덕적 고려의 대상에서 제외하였다. 칸트는 이성적 존재만이 자율적으로 행동하는 도덕적 주체가 될 수 있으며 이성이 없는 동물은 도덕적 주체가 될 수 없다고 주장하였다. 다만 무생물과 동식물을 함부로 다루어서는 안 된다고 주장하였는데, 그러한 행위가 인간성을 해친다고 보았기 때문이다.

- (1) 데카르트는 이분법적 자연관을 토대로 정신을 소유한 인간과 정신을 가지지 못한 자연을 구분하였다. (O, X)
- (2) 칸트는 인간뿐만 아니라 동물도 도덕적 권리를 지닌 존재라고 보았다. (O, X)

## 자료 02 동물 중심주의 자연관

- **싱어:** 평등의 원리는 그 존재의 고통을 다른 존재의 동일한 고통과 동등하게 취급할 것을 요구한다. **→(태도) 쾌락과 고통을 느낄 수 있는 능력이야. 감각 능력이라고 표현하기도 해.** 쾌고 감수 능력은 다른 존재의 이익에 관심을 가질지의 여부를 판가름하는 유일한 경계이다.
- **레건:** 한 살 이상의 포유류는 도덕적 무능력자이지만 **삶의** 주체로서 내재적 가치를 지닌다. 내재적 가치를 지닌 존재들은 최선의 결과를 확보하기 위한 단순한 수단으로 취급되어서는 안 된다. **→(태도) 내재적 가치를 지니며 도덕적으로 존중받을 권리를 지닌 존재를 의미해. 인간과 일부 동물은 삶의 주체야.**

### 자료 분석

싱어는 도덕적 고려의 기준을 쾌락과 고통을 느끼는 능력인 쾌고 감수 능력으로 보고, 쾌고 감수 능력을 지닌 동물은 도덕적 고려의 대상이라고 주장하였다. 레건은 일부 포유동물은 삶의 주체로서 내재적 가치를 지니므로 도덕적으로 존중해야 한다고 주장하였다.

- (1) 싱어는 감각 능력이 없는 존재는 도덕적 고려의 대상이 될 수 없다고 보았다. (O, X)
- (2) 레건은 삶의 주체인 일부 동물들은 도덕적 권리를 갖는다고 보았다. (O, X)

## 자료 03 생태 중심주의 자연관

→(태도) 레오폴드가 경제적 이익을 위한 대지 이용을 무조건적으로 반대한 것은 아니야. 경제적 자원으로 이용하되 윤리적·심미적으로 고려해야 한다는 거야.

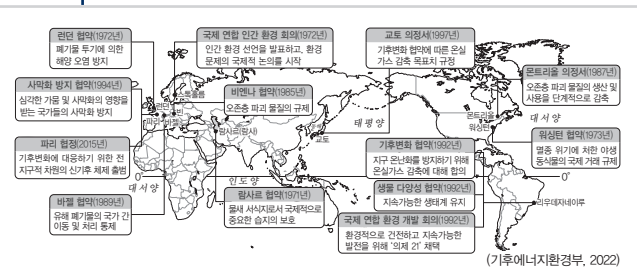
**레오폴드:** 지금까지 진화된 모든 윤리는 하나의 공통된 전체를 지니고 있다. 즉 개인은 상호 의존적인 부분들로 이루어진 공동체의 한 구성원이라는 것이다. 개인의 본능은 그에게 공동체 내에서 자기 자리를 차지하기 위해 경쟁하라고 촉구한다. 그러나 그의 윤리는 그에게 협동도 하라고 촉구한다. 대지 윤리는 단순히 이 공동체의 범위를 토양, 물, 식물과 동물, 곤 포괄하여 대지를 포함하도록 확장하는 것이다. 간단히 말해서 대지 윤리는 인류의 역할을 대지 공동체의 정복자에서 평범한 구성원이자 시민으로 변화시킨다. 대지 윤리는 인류의 동료 구성원에 대한 존중, 그리고 공동체 자체에 대한 존중을 필연적으로 수반한다. …… **바람직한 대지 이용을 오직 경제적 문제에만 생각하지 말라.** 낱알의 물음을 경제적으로 무엇이 유리한가 하는 관점뿐만 아니라 윤리적·심미적으로 무엇이 옳은가의 관점에서도 검토하라. 생명 공동체의 온전함, 안정성과 아름다움의 보전에 이바지한다면 그것은 옳다. 그렇지 않다면 그르다.

### 자료 분석

레오폴드는 무생물을 포함한 생태계 전체를 도덕적 고려의 대상으로 여겼고, 인간은 자연으로부터 독립된 존재가 아니라 생태계의 일부라고 주장하였다. 그리고 자연을 자원으로 활용할 수 있으나 그 안정과 질서를 훼손해서는 안 된다고 보았다.

- (1) 레오폴드는 생태계 전체의 균형과 안정보다 개별 생명체를 먼저 고려하였다. (O, X)
- (2) 레오폴드는 인간을 포함한 자연 전체를 하나로 보는 전일론적 관점을 취하였다. (O, X)
- (3) 레오폴드는 인간이 자연을 경제적으로 이용해서는 안 된다고 보았다. (O, X)

## 자료 04 주요 국제 환경 협약



### 자료 분석

세계의 환경 문제를 해결하기 위해 국제 사회는 다양한 협약을 채택하고 있다. 지구 온난화가 범지구적 환경 문제이기 때문에 이와 관련된 국제 협약이 지속적으로 이루어졌다. 대표적으로 '리우 기후변화 협약', '교토 의정서', '파리 협정' 등이 있다. 그리고 유해 폐기물의 국가 간 이동 금지와 관련하여 바젤 협약이 체결되었는데, 최근 유해 폐기물에 플라스틱 폐기물도 포함되었다. 지구를 보호하고 있는 오존층 보호를 위해 비엔나 협약 및 몬트리올 의정서가 체결되었고, 사막화의 영향을 받는 국가들을 지원하기 위해 사막화 방지 협약이 체결되었다. 습지 보호를 위해 람사르 협약이, 생물 다양성을 보존하기 위해 생물 다양성 협약 등이 체결되었다.

- (1) 교토 의정서는 파리 협정보다 온실가스 감축 의무를 가진 국가의 수가 많다. (O, X)
- (2) 주요 국제 환경 협약 중 시기적으로 가장 먼저 채택된 협약은 지구 온난화 방지와 관련된 협약이다. (O, X)

## 01

(가)의 갑, 을 사상가의 입장에서 (나)의 ㉠ 지역 개발에 대해 제시할 견해로 가장 적절한 것은?

(가)	<p>갑: 인간의 지식이 곧 인간의 힘이다. 우리는 자연을 연구하여 이리 저리 방황하는 자연의 자취를 마치 사냥개처럼 추적할 수 있다.</p> <p>을: 인간은 대지의 구성원이다. 어떤 것이 생명 공동체의 통합성, 안정성, 아름다움의 보존에 이바지한다면 그것은 옳고, 그렇지 않다면 그르다.</p>
(나)	<p>*㉠ 지역은 1953년 7월 27일에 체결된 '한국 군사 정전에 관한 협정'에 따라 무장이 금지된 완충 지대로 군대 주둔과 무기 배치, 군사 시설 설치가 금지되어 있다. 통일 이후 이 지역의 개발에 대해 다양한 견해가 제시되고 있다.</p>

- ① 갑: 개발에 앞서 자연을 도덕적으로 고려해야 한다.
- ② 갑: 자연을 이용할 권리가 인간에게 없음을 알아야 한다.
- ③ 을: 남북한 주민의 이익 증진을 궁극적 목적으로 삼아야 한다.
- ④ 을: 한반도 생태계의 균형 유지를 지역 개발보다 중시해야 한다.
- ⑤ 갑과 을: 현세대와 미래 세대는 생태계의 선(善)을 위해 협력해야 한다.

### 해결 Flow

갑과 을의 주장을 바탕으로 두 사상가가 누구인지 구분한다.

갑, 을의 사상을 바탕으로 (나)에 제시된 ㉠ 지역 개발 문제에 대한 갑, 을의 견해가 적절한지 여부를 판단한다.

### 자료 분석

(가)에서 갑은 자연을 인간의 이익을 위한 수단으로 인식하는 베이컨, 을은 무생물을 포함한 생태계 전체를 도덕적 고려의 대상으로 인식하는 레오폴드이다. (나)에서는 남북 분단으로 인해 훼손되지 않은 자연환경을 갖추고 있는 ㉠ 지역(비무장 지대)을 둘러싼 개발 문제를 제시하고 있다.

### 선지 분석

- ① 베이컨은 자연을 도덕적 고려의 대상으로 삼지 않았으며 인간의 경제적 이익을 위해 자연을 얼마든지 활용할 수 있다고 보았다.
- ② 베이컨은 인간에게 자연을 이용할 권리가 있다고 주장하였다.
- ③ 레오폴드는 인간의 경제적 이익 증진보다 생태계의 온전함을 우선하였다.
- ✓④ 레오폴드는 전일론적 관점에서 생태계 자체의 균형 유지를 인간의 이익을 위한 지역 개발보다 우선하였다.
- ⑤ 베이컨은 생태계의 선이 아닌 인간의 이익을 우선한다.

## 02

다음 자료는 환경 문제에 대한 탐구 보고서의 일부이다. 이에 대한 옳은 설명만을 <보기>에서 고른 것은?

1. 환경 문제의 주요 원인

구분	A	B	C
주요 원인	(가)	농경지 확대를 위한 무분별한 벌목	플라스틱, 비닐 등 쓰레기의 바다 유입

2. 환경 문제 발생 지역의 분포

### 보기

- 가. B에 의해 생물종 다양성이 증가한다.
- 나. C는 해류의 순환으로 쓰레기가 집적되어 나타난다.
- 다. A는 B보다 연 강수량이 많은 곳에서 주로 나타난다.
- 르. (가)에는 '과도한 목축 및 경작'이 들어갈 수 있다.

- ① 가, 나
- ② 가, 다
- ③ 나, 다
- ④ 나, 르
- ⑤ 다, 르

### 해결 Flow

표와 지도의 내용을 통해 A~C 환경 문제가 무엇인지 파악한다.

표에 제시된 환경 문제의 주요 원인을 참고하여 (가)에 들어갈 내용을 추정하여 (보기)의 선지 진위를 파악한다.

### 자료 분석

환경 문제 발생 지역의 분포에서 A는 대체로 중위도의 사막 주변에서 발생하고 있으므로 사막화이다. B는 주로 적도 주변에서 발생하는 것으로 보아 농경지 확대 또는 이동식 화전 농업으로 인해 발생하는 열대림 파괴이다. C는 육지에서 배출된 플라스틱 쓰레기가 해류를 따라 이동하다가 특정 수역에 모여 형성된 쓰레기 섬이다.

### 선지 분석

- 가. 열대 우림은 생물종 다양성이 매우 풍부하다. 따라서 열대림이 파괴되면 생물종 다양성이 감소한다.
- ✓나. 해양의 쓰레기 섬은 한류와 난류가 원형으로 순환하는 과정에서 내부에 플라스틱 쓰레기가 모여 형성된다.
- 다. 사막화가 나타나는 지역은 사막의 주변 지역으로 연 강수량이 매우 적다. 이에 반해 열대림 파괴가 나타나는 지역은 열대 우림으로 적도 수렴대의 영향을 받아 대륙성 강수가 자주 발생하기 때문에 연 강수량이 많다.
- ✓르. 사막화의 주요 원인은 인구 증가로 인한 경작지 확대와 육류 생산을 위한 과도한 목축지 확대 등이다.

**01-1** 동형 문제

(가)의 갑, 을 사상가의 입장을 (나) 그림으로 표현할 때, A~C에 해당 하는 진술로 가장 적절한 것은?

(가)	<p>갑: 인간은 자연의 사용자이며 해석자로서 인간의 의지에 따라 사용하지 못할 것은 자연 내에 아무것도 없다. 따라서 우리는 자연이 인간에게 이로움을 줄 수 있도록 과학적 지식을 활용해야 한다.</p> <p>을: 인간은 상호 의존적인 부분들로 이루어진 공동체의 한 구성원이다. 따라서 인간은 생명 공동체를 보존하기 위해 대지를 이용할 때 경제적 관점뿐만 아니라 윤리적·심미적 관점에서도 검토해야 한다.</p>
(나)	

- ① A: 인간은 내재적 가치를 지닌 존재이다.
- ② A: 인간은 생태계 전체를 도덕적으로 고려해야 한다.
- ③ B: 인간은 필요에 따라 자연을 이용할 수도 있다.
- ④ B: 인간을 포함한 자연 전체는 하나의 살아 있는 유기체이다.
- ⑤ C: 인간은 자연의 주인으로서 책임감을 지녀야 한다.

**01-2** 동형 문제

다음은 서양 사상이 갑, 을의 가상 대화이다. 갑, 을의 입장으로 적절한 것만을 <보기>에서 고른 것은?

공동체의 범위는 식물, 동물, 토양, 물 을 포함하는 대지 전체이다. 우리는 대 지를 지배의 대상으로 보는 시각에서 벗어나 공동체로 존중해야 한다.

자연이 인간에게 이롭도록 지식을 활 용해야 한다. 방황하고 있는 자연을 사 냥해서 노예로 만들고, 인간의 이익에 봉사하도록 해야 한다.



보기

- ㄱ. 갑: 모든 생명체는 자연의 일부이며 인간 역시 자연을 이루는 평범한 구성원이다.
- ㄴ. 갑: 인간에게는 대지에 대한 도덕적 의무가 없지만 인간의 풍요와 발전을 위해서라도 대지를 존중해야 한다.
- ㄷ. 을: 자연이 인간에게 이롭도록 활용하려면 자연에 대한 책임과 도덕적 의무를 다해야 한다.
- ㄹ. 갑과 을: 인간이 생태계에 개입하는 것이 정당화되는 경우가 있다.

- ① ㄱ, ㄴ
- ② ㄱ, ㄷ
- ③ ㄴ, ㄷ
- ④ ㄴ, ㄹ
- ⑤ ㄷ, ㄹ

**02-1** 동형 문제

다음 자료에 대한 설명으로 옳은 것은?

<p>6월 17일 세계 사막화 방지의 날</p>	<p>9월 16일 세계 오존층 보호의 날</p>
<p>1994년 세계 ㉠사막화 방지를 위해 (가)을/를 채택하면서 이날을 '세계 사막화 방지의 날'로 제정하였다.</p>	<p>1987년 ㉡오존층 파괴 물질의 생산과 소비 규제를 명시한 (나)을/를 채택하면서 이날을 '세계 오존층 보호의 날'로 제정하였다.</p>

- ① ㉠의 대표적인 사례 지역으로 사헬 지대, 아랄해 일대가 있다.
- ② ㉡으로 인해 지표로 도달하는 자외선이 감소한다.
- ③ ㉡의 주요 원인은 장기간의 가뭄, 과도한 방목 및 개간 등이다.
- ④ ㉠과 ㉡을 해결하기 위해서는 인간과 자연을 분리하는 이분법적 세계관이 필요하다.
- ⑤ (가)는 몬트리올 의정서, (나)는 바젤 협약이다.

**02-2** 동형 문제

다음 자료에 대한 설명으로 옳지 않은 것은?

<p>2월 2일 세계 습지의 날</p>	<p>6월 8일 세계 해양의 날</p>
<p>1971년 ㉠이/가 채택된 2월 2일을 기념하여 2021년 이날을 국제적인 기념일로 제정했으며, 세계의 많은 사람이 ㉡습지 보호를 위한 다양한 행사를 펼친다.</p>	<p>㉢바다의 중요성을 인식하고 해양을 보호하기 위해 1992년 ㉣리우 회의에서 제안한 후 매년 행사가 열리고 있으며, 2008년 ㉤국제 연합이 이날을 기념일로 공식 채택하였다.</p>

- ① ㉠은 람사르 협약이다.
- ② ㉡에는 내륙 습지와 해안 습지가 모두 포함된다.
- ③ ㉢을 위해 몬트리올 의정서가 채택되었다.
- ④ ㉣에서는 환경적으로 건전하고 지속가능한 발전을 위한 '의제 21'이 채택되었다.
- ⑤ ㉤은 국가 간 해결이 어려운 전 지구적 환경 문제의 해결을 위해 노력하는 국제기구이다.

# 수능 기본 문제

## 01

다음은 온라인 게시판의 일부이다. 질문에 옳게 답한 학생만을 고른 것은?

전체 글 보기 | 공지 사항 | 통합사회 게시판

**<질문>**  
인간이 삶을 꾸려 나가는 과정에서 자연의 자정 능력의 범위를 넘어서면서 인간의 삶까지 위협하는 심각한 환경 문제가 나타나고 있습니다. 이러한 환경 문제를 해결하기 위해서는 인간과 자연의 공존을 추구하는 새로운 삶의 태도가 필요합니다. 생태 중심주의는 인간과 자연의 공존을 위한 대안이 될 수 있습니다. 생태 중심주의는 어떤 특징이 있을까요?

**<답변>**

갑: 인간과 자연을 분리하여 바라보는 이분법적 세계관을 바탕으로 합니다.

을: 모든 생명체는 자연의 일부이며, 인간 역시 자연의 일부라고 인식합니다.

병: 자연을 인간의 생존과 복지를 위한 도구로 바라보아야 한다고 생각합니다.

정: 인간의 이익보다는 인간을 포함한 생태계 전체의 균형과 안정을 먼저 고려합니다.

- ① 갑, 을                      ② 갑, 병                      ③ 을, 병  
④ 을, 정                      ⑤ 병, 정

## 02 통합형

다음 글에 대한 갑, 을의 입장으로 가장 적절한 것은?

2008년 에콰도르는 자연의 권리 조항을 담은 헌법 개정안을 국민 투표로 통과시킴으로써 헌법에서 자연의 권리를 인정한 첫 번째 나라가 되었다.



갑 오직 이성을 지닌 인간만이 법적 행위 주체가 될 수 있어. 자연은 인간의 이익을 위해서 사용될 때 가치가 있는 것인데, 법적 행위 주체도 아닌 자연을 위해 헌법을 개정한다는 것은 적절하지 않다고 생각해.

자연은 인간과 무관하게 그 자체로 가치를 가지고 있어. 인간은 자연 전체를 온전하게 유지하기 위해 무생물을 포함한 생태계를 도덕적으로 존중해야 할 의무가 있기 때문에 자연의 권리 조항을 담은 헌법 개정은 정당하다고 생각해.



- ① 갑: 인간을 포함한 자연의 모든 존재는 평등한 가치와 권리를 지닌다.  
② 갑: 자연은 인간의 삶에 얼마나 기여했는지에 따라 가치가 결정된다.  
③ 을: 인간은 자연을 이용함으로써 편리하고 풍요롭게 살아가는데 중점을 두어야 한다.  
④ 을: 환경과 관련된 선택을 할 때 자연이 인간에게 어떤 영향을 미치는지만 고려하면 된다.  
⑤ 갑과 을: 인간과 자연은 유기적으로 연결된 상호 의존적인 관계이다.

## 03

다음 가상 편지를 쓴 사상가의 입장으로 가장 적절한 것은?

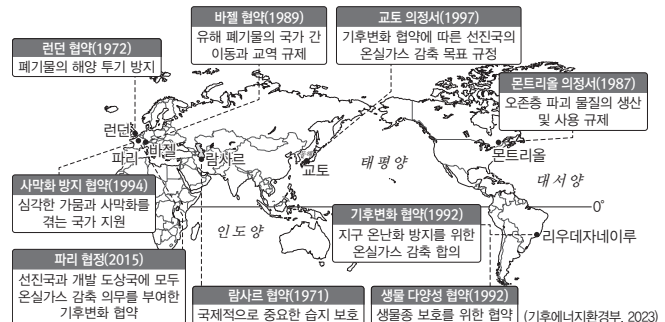
○○에게

경제 발전 과정에서 나타난 여러 환경 문제를 해결하기 위해 필요한 태도에 대해 고민하는 자네의 편지를 잘 읽어 보았네. 나는 환경 문제를 해결하기 위해서는 인간이 생태계 자체의 가치를 존중해야 한다고 생각해. 우리는 바람직한 대지의 이용을 경제적 문제로만 생각하는 경향이 있네. 그러한 태도로는 환경 문제를 해결하기 어렵네. 인간이 자연을 이용할 때는 경제적 관점뿐만 아니라, 윤리적·심미적으로 무엇이 옳은가의 관점에서도 검토가 필요하네. 경제 발전을 위한 계획 및 시행 과정에서 그것이 생명 공동체의 통합성과 안정성, 아름다움의 보존에 기여한다면 시행하고, 그렇지 않다면 멈춰야 한다는 것을 명심하게. 생태계의 안정과 보존을 최우선으로 삼는다면 환경 문제는 자연스럽게 해결될 수 있을 것이라고 생각해.

- ① 인간이 아닌 존재는 직접적인 도덕적 고려의 대상이 될 수 없다.  
② 인류의 장기적 이익을 위해 생태계에 대한 책임 의식을 가져야 한다.  
③ 생태계 전체의 선을 위해 개별 생명체의 희생이 정당화되는 경우가 있다.  
④ 무생물은 고유의 선을 가지지 못하는 존재이므로 도덕적 고려의 대상이 아니다.  
⑤ 모든 생명체는 내재적 가치를 지니므로 오직 생명을 기준으로 도덕적 지위를 부여해야 한다.

## 04 통합형

다음 자료에 대한 분석으로 옳지 않은 것은?



- ① 환경 문제는 복합적 원인에 따라 나타나므로 특정 국가의 노력만으로 해결이 어렵다.  
② 국가 간에 환경 문제 해결을 위해 적극적으로 행하는 국제적 협력의 사례를 보여 준다.  
③ 환경 문제에 관한 국가 간 이해관계의 대립이 나타나지 않기 때문에 환경 관련 협약이 가능하다.  
④ 환경 문제에 대한 공동 대응을 통해 보다 효과적인 환경 문제 해결 방안을 모색해야 함을 보여 준다.  
⑤ 사막화, 온실가스 증가, 오존층 파괴 등의 다양한 환경 문제 해결을 위한 국제 사회의 노력이 필요하다.

### 05

다음은 서양 사상가와 제자의 가상 대화이다. (가)에 들어갈 내용으로 가장 적절한 것은?

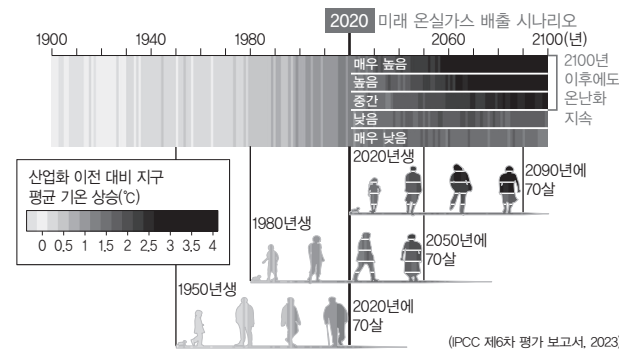
제자: 스승님은 자연에 대해 어떤 태도를 가져야 한다고 생각하십니까?  
 사상가: 인간은 자연의 사용자이자 해석자로서 자연의 질서를 실제로 관찰하고 배운 만큼 이해할 수 있고 무엇인가를 할 수 있네. 따라서 인간의 지식은 곧 인간의 힘이라고 할 수 있다네. 인간은 (가)

- ① 자연을 지배하고 이용할 수 있는 권한과 능력을 소유하고 있는 존재라네.
- ② 자연계에 존재하는 모든 것이 동등한 권리를 가진다는 것을 깨달아야 한다네.
- ③ 자연 그 자체가 가지고 있는 내재적 가치를 존중해야 할 의무가 있음을 알아야 하네.
- ④ 인간 이외의 존재와 마찬가지로 생명 공동체의 평범한 구성원임을 이해해야 한다네.
- ⑤ 자신의 이익을 위해서라도 자연을 존중하고 도덕적으로 고려해야 함을 인식해야 한다네.

### 06 통합형

다음 자료에 대한 설명으로 옳은 것은?

기후변화에 관한 정부 간 협의체(IPCC)의 보고서에 따르면, 1950년생보다 2020년생이 극심한 폭염과 지구 온난화에 따른 해수면 상승, 남극 빙산 붕괴, 생물 다양성 손실을 더 많이 겪게 될 것으로 보인다.



- ① 늦게 태어날수록 온실가스로 인한 피해를 더 적게 입는다.
- ② 2060년 이후에는 전 세계적인 노력으로 온실가스가 점차 감소할 것이다.
- ③ 기후변화에 대한 책임이 가장 적은 미래 세대가 가장 큰 피해를 입게 된다.
- ④ 1950년생이 2020년생보다 지구 온난화로 인한 기후변화를 더 많이 겪게 된다.
- ⑤ 2020년에 70살인 사람이 2050년에 70살인 사람보다 폭염에 따른 질병에 더 많이 노출된다.

### 07

(가)의 갑, 을 사상가의 입장에서 서로에게 제기할 수 있는 비판을 (나) 그림으로 표현할 때, A, B에 해당하는 내용으로 가장 적절한 것은?

(가)	<p>갑: 인간은 자연의 사용자이다. 방황하고 있는 자연을 사냥해서 노예로 만들어 인간의 이익에 봉사하도록 해야 한다. 지식은 인간이 자연을 의도에 맞게 변형하여 자연에 대한 지배력을 강화하는 데 유용하다.</p> <p>을: 대지는 단순한 흙이 아니다. 그것은 흙, 식물, 그리고 동물이라는 순환을 통해 흘러가는 에너지의 원천이다. 바람직한 대지 이용을 오직 경제적 문제로만 생각하지 말라. 경제적으로 무엇이 유리한가 하는 관점뿐만 아니라 윤리적·심미적으로 무엇이 옳은가의 관점에서도 검토하라. 생명 공동체의 통합성과 안정성, 그리고 아름다움의 보전에 이바지한다면 그것은 옳다.</p>
(나)	<p>〈범례〉                  →: 비판의 방향                  A, B: 비판의 내용</p> <p>〈예시〉                  갑 →(A) 을                  A는 갑이 을에게 제기할 수 있는 비판임.</p>

- ① A: 인간이 도덕적 행위 주체라는 점을 간과한다.
- ② A: 인간 이외의 존재에게는 어떠한 가치도 없음을 간과한다.
- ③ A: 자연을 경제적 관점에서 이용하는 것이 허용될 수 있음을 간과한다.
- ④ B: 생태계를 위해 생명을 해치는 모든 행위가 정당화될 수 없음을 간과한다.
- ⑤ B: 이성이 어떤 존재의 도덕적 고려 여부를 결정하는 기준이 아님을 간과한다.

### 08 통합형

(가)의 사상가가 (나)의 자료를 보고 내릴 수 있는 평가로 가장 적절한 것은?

(가)	<p>바람직한 대지의 이용을 오직 경제적 문제로만 생각하지 말라. 낱알의 물을 경제적으로 무엇이 유리한가 하는 관점뿐만 아니라 윤리적·심미적으로 무엇이 옳은가의 관점에서도 검토하라. 생명 공동체의 통합성과 안정성, 그리고 아름다움의 보전에 이바지한다면 그것은 옳다. 그렇지 않다면 그것은 그르다.</p>
(나)	<p>2017년 뉴질랜드 의회에서 황가누이강에 인간과 동등한 법적 권리와 지위를 부여하는 법안이 통과되었다. 법안의 내용은 황가누이강을 사람처럼 생각하여 강을 해치거나 더럽히면 범죄로 취급하고 처벌한다는 것이다. 황가누이강은 마오리족의 삶의 터전으로서 마오리족이 '나는 강, 강은 나라고 할 만큼 강한 영적 유대를 맺고 신성시하는 장소이다.</p>

- ① 강을 경제적 관점에서 사용하는 것은 허용될 수 없다.
- ② 강이 아닌 인간만이 도덕적 지위를 갖춘 우월한 존재이다.
- ③ 인간 이익의 극대화를 위해 강에 대한 책임을 다해야 한다.
- ④ 생명이 없더라도 강을 도덕적으로 고려하는 것은 정당하다.
- ⑤ 강을 보존하는 것이 생태계 자체의 통합성을 유지하는 것보다 우선한다.

## 09

갑, 을의 입장으로 적절한 것만을 <보기>에서 고른 것은?

갑: 동물을 폭력적으로, 동시에 잔학하게 다루는 것은 인간의 자신에 대한 의무에 반한다. 왜냐하면 그로 인해 타인과의 관계에서 도덕성에 매우 이로운 자연적 소질이 약화되어 점차 소멸될 것이기 때문이다.

을: 방황하고 있는 자연을 사냥해서 노예로 만들어 인간의 이익에 봉사하도록 해야 한다. 지식은 인간이 자연을 의도에 맞게 변형하여 자연에 대한 지배력을 강화하는 데 유용하다.

[보기]

- ㄱ. 갑: 인간에게는 도덕적 지위를 지닌 동물의 권리를 존중해야 할 의무가 있다.
- ㄴ. 갑: 동물 학대가 정당하지 않은 이유는 인간의 도덕성 실현을 저해하기 때문이다.
- ㄷ. 을: 자연에 대한 존중과 책임을 다하기 위해 자연에 대한 지식을 확장해야 한다.
- ㄹ. 갑과 을: 이성적 능력을 기준으로 도덕적 지위를 결정하는 것은 정당하다.

- ① ㄱ, ㄴ                      ② ㄱ, ㄷ                      ③ ㄴ, ㄷ
- ④ ㄴ, ㄹ                      ⑤ ㄷ, ㄹ

## 10

(가)의 갑, 을 사상가의 입장을 (나) 그림으로 표현할 때, A~C에 해당하는 진술로 가장 적절한 것은?

(가)	<p>갑: 왜고 감수 능력은 한 존재자가 이익을 갖는다고 할 때의 필요충분조건이다. 예를 들어 쥐는 차여서 길에 굴러다니지 않을 이익을 가지고 있다. 왜냐하면 쥐는 고통을 느끼기 때문이다. 만약 어떤 존재가 고통을 느낀다면 그와 같은 고통을 고려하지 않는 것은 도덕적으로 정당화될 수 없다.</p> <p>을: 대지 윤리는 인류의 역할을 대지 공동체의 정복자에서 그것의 평범한 구성원이자 시민으로 변화시킨다. 대지 윤리는 인류의 동료 구성원에 대한 존중, 그리고 공동체 자체에 대한 존중을 수반한다. 인간은 사실상 생명 공동체의 한 구성원에 지나지 않는다.</p>
(나)	<div style="border: 1px solid black; padding: 5px; margin-top: 10px;"> <p>&lt;범례&gt;                      A: 갑만의 입장                      B: 갑과 을의 공통 입장                      C: 을만의 입장</p> </div>

- ① A: 모든 생명체는 도덕적 지위를 갖춘 존재이다.
- ② A: 왜고 감수 능력이 없는 존재는 도덕적으로 고려할 필요가 없다.
- ③ B: 인간은 자연의 주인으로서 책임감을 지녀야 한다.
- ④ B: 생태계 자체도 내재적 가치를 지닌 존중의 대상이다.
- ⑤ C: 인간만이 도덕적 고려의 대상인 것은 아니다.

## 11 통합형

다음은 사회자와 동양 사상가 갑~병의 가상 대화방이다. 갑~병의 입장에 대한 설명으로 가장 적절한 것은?

사회자: 북태평양 하와이섬 근처에는 한반도 면적의 약 7배인 쓰레기 더미가 있다고 합니다. 이를 '플라스틱 쓰레기 섬'이라고 부릅니다. 플라스틱 쓰레기는 미세 플라스틱으로 쪼개져서 생태계를 교란하고 있습니다. 이러한 문제를 해결하기 위해 어떻게 해야 할까요?

갑: 인간과 자연이 조화를 이루는 천인합일(天人合一)의 경지를 지향해야 합니다.

을: 모든 존재가 연기(緣起)에 의해 원인과 조건으로 연결되어 있음을 인식해야 합니다.

병: 사람의 힘이 더해지지 않은 이상적인 상태인 무위자연(無爲自然)의 경지를 추구해야 합니다.

- ① 갑은 자연이 인간과 동등한 권리를 지닌 존재라고 인식한다.
- ② 을은 인간과 자연이 서로 영향을 주고받는 상호 의존적 존재라고 강조한다.
- ③ 병은 기술의 발전에 따라 자연 그대로의 모습을 회복할 수 있다고 주장한다.
- ④ 갑과 을은 모두 인간과 자연을 분리하여 바라봄으로써 인간과 자연의 독립성을 강조한다.
- ⑤ 을과 병은 모두 자연이 인간의 삶을 개선하는 데 필요한 도구라고 인식한다.

## 12

밑줄 친 ㉠~㉥에 대한 설명으로 옳은 것은?

오늘날 ㉠ 지구 온난화에서 비롯된 환경 문제와 오염 물질 배출로 발생한 다양한 오염이 전 지구에 영향을 주고 있다. 지구 온난화는 ㉡ 화석 에너지의 소비로 온실가스 배출량이 증가하면서 지구의 평균 기온이 상승하는 현상이다. 오염 물질 배출량 증가로 대기 오염이 심각해져 ㉢ 산성비 피해가 늘어났고, 극심한 가뭄과 과도한 개발로 ㉣ 사막화가 확대되어 생태계 파괴 속도가 빨라졌다. 또한 무분별한 벌목으로 ㉤ 열대림이 파괴되면서 생물종 다양성이 감소하였다.

- ① ㉠이 지속되면 북극해의 평균 염도가 낮아질 것이다.
- ② ㉡은 석탄보다 천연가스를 소비하는 과정에서 더 큰 영향을 받는다.
- ③ ㉢은 아프리카 대륙이 유럽 대륙보다 심각하다.
- ④ ㉣은 열대 우림 주변 지역에서 심각하게 진행되고 있다.
- ⑤ ㉤의 주요 원인은 염화 플루오린화 탄소의 사용 증가이다.

### 13 통합형

다음 글에 대한 설명으로 가장 적절한 것은?

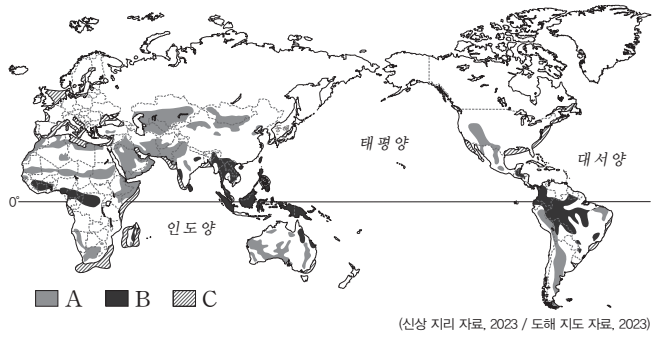
세계 사막화 방지 날의 날은 매년 6월 17일에 기념되며, 1994년에 국제 연합(UN)에서 사막화 방지 협약을 채택한 날을 기념해 지정되었다. 이 날은 사막화와 가뭄의 심각성을 알리고 국제적 협력을 촉진하기 위한 목적으로 여러 행사가 열린다.

세계 오존층 보호의 날은 매년 9월 16일에 기념되며, 지구 생명체의 보호막인 오존층을 보호하기 위해 국제 연합(UN)이 제정하였다. 국제 연합(UN)은 1994년 몬트리올 의정서가 서명된 날인 9월 16일을 '세계 오존층 보호의 날'로 정하였다.

- ① 환경 문제 해결을 위한 국제적인 공동 대응 및 협력을 보여 준다.
- ② 국내에서 발생하는 환경 문제 해결을 위한 기업의 노력을 보여 준다.
- ③ 일상생활에서 생태 전환적 사고를 갖추고 행동하는 시민의 노력을 보여 준다.
- ④ 국내에서 발생하는 환경 문제로 인한 갈등을 해결하려는 정부의 노력을 보여 준다.
- ⑤ 정부나 기업의 활동이 환경에 미치는 영향을 검토하는 시민 사회의 노력을 보여 준다.

### 14

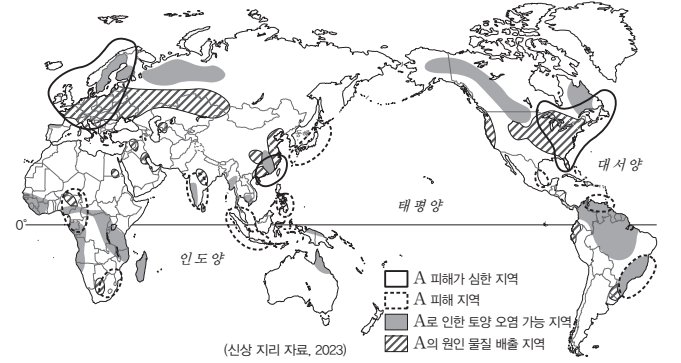
지도는 세계의 주요 환경 문제를 나타낸 것이다. A~C를 방지하기 위해 채택된 국제 협약으로 옳은 것은?



- |   | A         | B         | C         |
|---|-----------|-----------|-----------|
| ① | 런던 협약     | 사막화 방지 협약 | 생물 다양성 협약 |
| ② | 런던 협약     | 생물 다양성 협약 | 사막화 방지 협약 |
| ③ | 사막화 방지 협약 | 런던 협약     | 생물 다양성 협약 |
| ④ | 사막화 방지 협약 | 생물 다양성 협약 | 런던 협약     |
| ⑤ | 생물 다양성 협약 | 런던 협약     | 사막화 방지 협약 |

### 15

지도는 A 환경 문제의 피해 지역을 나타낸 것이다. A 환경 문제에 대한 설명으로 옳은 것만을 <보기>에서 있는 대로 고른 것은?



- 보기
- ㄱ. 원인 물질 배출 지역과 피해 지역이 일치한다.
  - ㄴ. 원인 물질 배출 지역은 대체로 산업이 발달한 지역이다.
  - ㄷ. A를 해결하기 위해 제네바 협약이 채택되었다.
  - ㄹ. A로 인해 대리석으로 만들어진 유럽의 고대 유적이 훼손되기도 한다.

- ① ㄱ, ㄴ
- ② ㄷ, ㄹ
- ③ ㄱ, ㄴ, ㄷ
- ④ ㄱ, ㄷ, ㄹ
- ⑤ ㄴ, ㄷ, ㄹ

### 16

밑줄 친 ㉠~㉣에 대한 설명으로 옳지 않은 것은?

환경 문제를 해결하기 위해서는 국제적 협력은 물론 ㉠정부, ㉡시민 사회, ㉢기업, 개인 모두의 다양한 노력이 필요하다. 환경 문제와 관련한 국제 협약들은 국가 간 이해관계의 대립이 첨예하고, 장기적 관점에서 해결 방안을 모색해야 하기 때문에 큰 원칙을 정하는 ㉣기본 협약과 구체적인 실행 방안을 규정하는 ㉡의정서로 나누어 진행되는 특징이 있다.

- ① ㉠의 노력 사례로 환경 영향 평가 제도 실시 등이 있다.
- ② ㉡은 ㉠과 ㉢이 추진하는 각종 정책과 사업을 환경적 측면에서 감시하는 역할을 한다.
- ③ ㉢은 이윤을 극대화하기 위해 환경 사회 기업 지배 구조(ESG) 경영을 도입한다.
- ④ ㉣의 대표적인 사례로 1992년 브라질의 리우데자네이루에서 체결한 협약이 있다.
- ⑤ ㉡과 관련하여 국제 사회는 캐나다의 몬트리올에서 오존층 파괴 물질의 사용을 감축하기로 합의하였다.

# 1등급 완성 문제



## 01

A, B에 대한 설명으로 옳은 것만을 <보기>에서 있는 대로 고른 것은?  
(단, A, B는 각각 인간 중심주의와 생태 중심주의 중 하나임.)

질문	A	B
인간과 자연의 관계에서 이분법적 세계관을 지향하는가?	예	㉠
인간 이외의 존재에게는 어떠한 가치도 부여되지 않는가?	㉡	아니요
(가)	예	아니요

[보기]

- ㄱ. A는 자연에 관한 행위의 옳고 그름은 그 행위가 인간의 필요와 이익에 유용한가에 달려 있다고 본다.
- ㄴ. B는 생태계 자체의 안정성보다 생태계를 구성하는 개별 생명체의 보존을 우선한다.
- ㄷ. ㉠과 ㉡은 모두 '아니요'이다.
- ㄹ. (가)에는 '자연은 인간의 이익과 무관하게 그 자체로 가치를 지니고 있는가?'가 들어갈 수 있다.

- ① ㄱ, ㄴ                      ② ㄱ, ㄷ                      ③ ㄴ, ㄷ
- ④ ㄱ, ㄴ, ㄷ                ⑤ ㄴ, ㄷ, ㄹ

## 02 통합형

(가)의 관점에서 (나)의 밑줄 친 ㉠~㉣을 평가한 것으로 옳은 것만을 <보기>에서 있는 대로 고른 것은?

(가)	우리가 환경 문제를 해결하기 위해서는 인간의 이익보다 인간을 포함한 생태계 전체의 균형과 안정을 먼저 고려해야 한다. 이를 위해 자연이 인간, 동물, 식물, 무생물 등 다양한 구성원이 유기적으로 연결되어 있는 생명 공동체임을 이해하고 생태계 자체를 도덕적으로 존중해야 한다.
(나)	㉠□□시는 관광 개발로 지역 경제 활성화를 추진하기 위해 2026년까지 ㉡○○산 산악 열차를 시범 운영하겠다고 발표하였다. 그러나 ㉢환경 단체들은 기존 도로의 굴곡이 심해 열차를 완만하게 운영하려면 산림 훼손이 커질 수밖에 없다고 지적하면서 ㉣산악 열차 사업을 즉각 중단하라고 요구하였다. 또한 ○○산은 멸종 위기 야생 생물 1급인 반달가슴곰의 주요 이동 경로로, 산악 열차를 건설할 경우 ㉤반달가슴곰의 서식지에 피해를 줄 수 있다고 주장하였다.

[보기]

- ㄱ. ㉠은 자연의 도구적 가치보다 내재적 가치를 강조한다.
- ㄴ. ㉡은 자연에 대한 인간의 도덕적 책임보다 경제적 이익을 강조한 것이다.
- ㄷ. ㉢은 인간과 자연이 공존하기 위한 방안을 모색하고자 한다.
- ㄹ. ㉣은 생태계 전체의 안정성을 지키기 위해 해결해야 할 문제이다.

- ① ㄱ, ㄴ                      ② ㄱ, ㄷ                      ③ ㄴ, ㄷ
- ④ ㄱ, ㄷ, ㄹ                ⑤ ㄴ, ㄷ, ㄹ

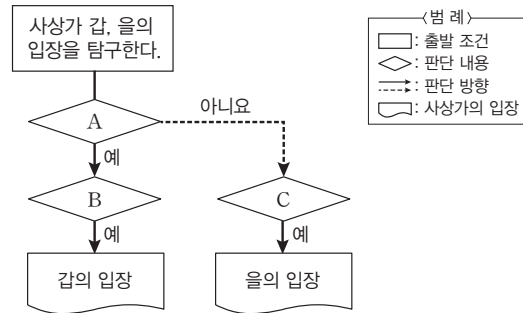
[03~04] 다음 자료를 보고 물음에 답하시오.

갑: 지식은 인간이 자연을 의도에 맞게 변형하여 자연에 대한 지배력을 강화하는 데 유용하다. 인간은 자연의 사용자 및 해석자로서 자연의 질서에 관해 실제로 관찰하고 고찰한 것만큼 무엇인가를 할 수 있다.

을: 바람직한 대지의 이용을 오직 경제적 문제로만 생각하지 말라. 경제적으로 무엇이 유리한가 하는 관점뿐만 아니라 윤리적·심미적으로 무엇이 옳은가의 관점에서도 검토하라. 생명 공동체의 통합성과 안정성, 그리고 아름다움의 보전에 이바지한다면 그것은 옳다. 그렇지 않다면 그것은 그르다.

## 03

갑, 을 사상가의 입장을 다음의 그림으로 탐구하고자 할 때, A~C에 해당하는 적절한 질문만을 <보기>에서 고른 것은?



[보기]

- ㄱ. A: 인간이 생태계에 개입하는 것이 정당화되는 경우가 있는가?
- ㄴ. B: 도덕적 행위 능력이 있는 존재만이 내재적 가치를 지니는가?
- ㄷ. B: 쾌고 감수 능력을 지닌 동물에게 인간과 동등한 도덕적 지위를 부여하는 것은 정당한가?
- ㄹ. C: 어떤 존재가 생명을 지닌 개체가 아니어도 도덕적 지위를 가질 수 있는가?

- ① ㄱ, ㄴ                      ② ㄱ, ㄷ                      ③ ㄴ, ㄷ
- ④ ㄴ, ㄹ                      ⑤ ㄷ, ㄹ

## 04

을의 입장에만 모두 'V'를 표시한 학생은?

입장	학생	A	B	C	D	E
1. 인간은 다른 생명체보다 우월한 지위를 지닌다.		✓		✓	✓	
2. 개별 생명체의 가치보다 생명 공동체 자체의 가치가 우선한다.		✓	✓			✓
3. 이성적 능력의 여부가 어떤 존재의 도덕적 지위를 결정하지 않는다.			✓		✓	✓
4. 인간이 자연을 자원으로 활용하는 행위를 금지함으로써 대지 윤리를 실현할 수 있다.				✓	✓	✓

- ① A                      ② B                      ③ C                      ④ D                      ⑤ E

## 05

다음 신문 칼럼에서 강조하는 내용으로 적절하지 않은 것은?

○○신문 ○○○○년 ○○월 ○일

**칼럼**

지구는 기후변화를 포함한 다양한 환경 문제로 위기에 처해 있다. 우리는 지구 생태계를 잠시 빌려서 사용하는 존재이며, 다음 세대에 온전한 상태로 돌려주어야 할 책임이 있다. 따라서 우리는 인간과 자연환경의 조화를 추구하는 생태시민의 자질을 함양해야 한다. 생태시민은 기후변화와 환경 문제의 원인을 파악하고, 일상에서 이루어지는 자신의 행동이 자연과 긴밀하게 연결되어 있음을 민감하게 인식해야 한다. 또한 정부가 시행하는 다양한 환경 정책이나 제도에 관심을 가지고 적극적으로 참여하는 자세를 지녀야 한다. 아울러 지역 사회의 문제와 전 지구적 환경 문제 해결을 위해 적극적으로 행동해야 한다.

- ① 생태시민은 생태적인 틀에서 세상을 이해해야 한다.
- ② 생태시민은 자신의 행동이 환경에 어떠한 영향을 끼치는지 지속적으로 성찰해야 한다.
- ③ 생태시민은 국제 사회의 주체로서 전 지구적 환경 문제 해결을 위해 국가 간의 협력을 주도해야 한다.
- ④ 생태시민은 환경 문제 해결을 위해 자신의 행동을 변화시키고 일상생활에서 생태 활동을 실천해야 한다.
- ⑤ 생태시민은 환경에 대한 감수성을 바탕으로 공적 영역과 사적 영역의 환경 문제에 모두 관심을 가져야 한다.

## 06 통합형

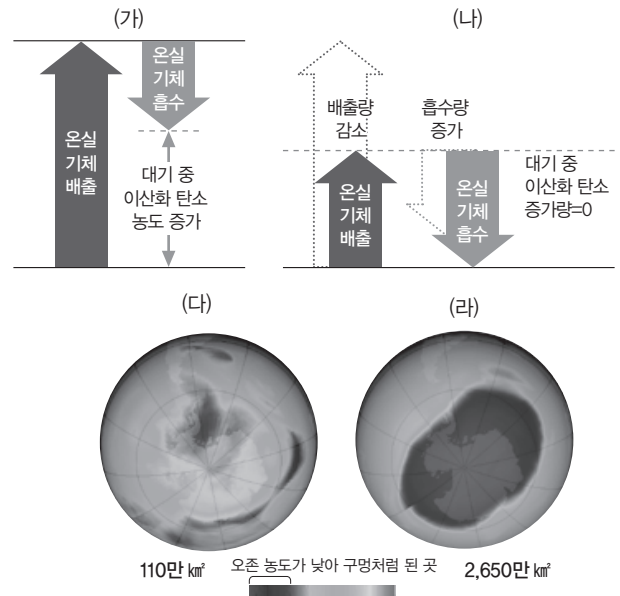
(가)의 자료에 대해 (나)의 입장에서 내린 평가로 가장 적절한 것은?

(가)	중앙아시아의 아랄해는 세계에서 네 번째로 큰 호수로, 철갑상어와 잉어 등 다양한 어류가 서식했었다. 그러나 1960년대에 목화 재배에 필요한 관개용수를 확보하기 위해 아랄해로 유입되는 강에 댐을 건설하였고, 호수에 유입되는 물이 줄어들면서 염분의 농도가 세 배나 높아졌다. 이로 인해 호수 주변에 살고 있던 동물들이 사라지기 시작하였고, 소금기 섞인 모래바람으로 호수 주변에서 사는 사람들의 호흡기 질환이 증가하였다. 이 바람은 주변국 농토까지 위협하여 결국 목화 재배량도 줄어드는 역설적인 상황을 가져왔다.
(나)	인간만이 도덕적 지위를 지니고 있기 때문에 인간을 위해 자연을 활용할 수 있다. 다만 인간의 이익 실현을 위해서는 인간이 자연과 관련된 책임을 지면서 자연 보전을 실천하는 것이 필요하다.

- ① 자연은 인간을 위한 도구이므로 아랄해를 최대한 활용한 행위는 정당하다.
- ② 자연에 대한 인간의 착취는 정당하므로 아랄해 개발은 더욱 확대되어야 한다.
- ③ 아랄해와 같은 무생물 역시 도덕적 지위를 지니므로 도덕적 고려의 대상으로 삼아야 한다.
- ④ 인간과 아랄해는 동등한 내재적 가치를 지니므로 아랄해에 댐을 짓는 행위는 정당하지 않다.
- ⑤ 현세대와 미래 세대의 삶의 질을 위해서라도 아랄해 보존을 위한 생태적 관심을 가져야 한다.

## 07

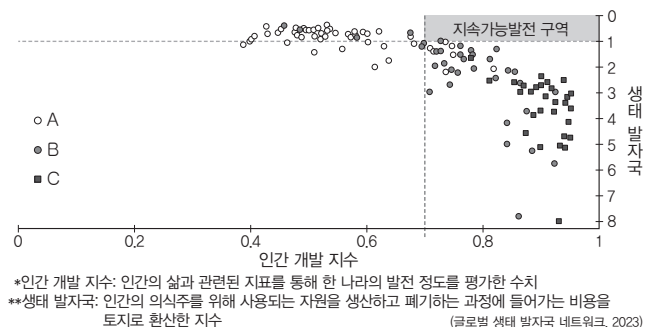
(가)~(라) 시기에 대한 설명으로 옳은 것은?



- ① (가)가 지속되면 우리나라의 고령지 농업 면적이 확대된다.
- ② (가)는 (나)보다 대기 중 탄소 배출량이 적다.
- ③ (다)는 (라)보다 연간 염화 플루오린화 탄소 배출량이 많다.
- ④ (라)는 (다)보다 자외선으로 인해 발생하는 피부 질환자 수가 많다.
- ⑤ (가)는 국제 사회, (라)는 정부의 노력을 통해 해결할 수 있다.

## 08

그래프는 지역(대륙)별 생태 발자국과 인간 개발 지수를 나타낸 것이다. 이에 대한 설명으로 옳은 것은? (단, A~C는 각각 아프리카, 남아메리카, 북아메리카·유럽 연합 중 하나임.)



- ① A는 B보다 사막화로 인한 피해 규모가 작다.
- ② A는 C보다 생태 발자국 지수가 높다.
- ③ B는 C보다 1인당 지역 내 총생산이 많다.
- ④ C는 A보다 교토 의정서에 가입한 국가의 수가 많다.
- ⑤ A~C 중 환경 사회 기업 지배 구조(ESG) 경영을 표방하는 기업의 수는 A가 가장 많다.

# 04 다양한 문화권의 특징과 삶의 방식

## 1 문화권 형성에 영향을 미치는 요인 자료 01 자료 02

### 01 문화와 문화권

- 문화:** 인간과 환경이 상호 작용하는 과정에서 형성되는 삶의 방식으로 가치관, 종교, 관습, 언어, 의복, 음식, 전통 가옥 등의 문화 요소로 구성
- 문화권:** 문화적 특성이 유사하게 나타나 다른 지역과 구별되는 지표 공간의 범위

### 02 문화권 형성에 영향을 주는 요인

- 자연환경:** 기후, 지형, 토양, 식생 등에 따라 각 지역의 주민 생활이 다르게 나타남.

기후	<ul style="list-style-type: none"> <li>기온이 낮은 지역: 추위를 막을 수 있는 두꺼운 옷을 입음.</li> <li>기온이 높은 지역: 바람이 잘 통하는 옷을 입음.</li> <li>강수량이 풍부한 지역: 가옥의 지붕 경사가 급함.</li> </ul>
토양	<ul style="list-style-type: none"> <li>토양이 척박한 곳: 유목, 목축업 등이 이루어짐.</li> <li>토양이 비옥한 곳: 쌀, 밀 등의 식량 작물을 재배하는 농업이 이루어짐.</li> </ul>
식생	<ul style="list-style-type: none"> <li>식생이 발달한 지역: 열대림, 냉대림 등의 나무를 활용하여 가옥을 만들.</li> <li>식생이 희박한 지역: 흙이나 돌을 활용하여 가옥을 만들거나, 동물의 가죽 등을 이용한 이동식 가옥을 만들기도 함.</li> </ul>

- 인문환경:** 종교, 산업 등은 문화권을 형성하는 요인인 동시에 이웃하는 문화권과 구분되는 중요한 특징임. 자료 03

종교	<ul style="list-style-type: none"> <li>불교: 절, 불상, 탑 등이 주요 경관이며, 동양 문화권 중 동아시아 문화권과 동남아시아 문화권 일부 지역에 영향을 미침.</li> <li>이슬람교: 모스크, 첨탑 등이 주요 경관이며, 건조 문화권에 영향을 미치고, <b>할랄</b> 식품을 먹으며 술과 돼지고기를 금기시함.</li> <li>크리스트교: 십자가, 성당 등이 주요 경관이며, 유럽 문화권, 아메리카 문화권, 오세아니아 문화권에 영향을 미침.</li> <li>힌두교: 많은 신이 조각된 사원이 주요 경관이며, 동양 문화권 중 남부 아시아 문화권에 영향을 미치고, 소를 신성시하여 소고기를 금기시함. <small>(TIP) '허용된 것'이라는 의미로 이슬람 교리에 의해 가공되거나 도축된 것만 먹을 수 있어.</small></li> </ul>
산업	<ul style="list-style-type: none"> <li>인간 생활의 기반이 되는 경제활동과 관련</li> <li>전통 산업, 현대 공업 등 산업의 종류와 발달 정도의 차이는 서로 다른 특징을 가진 문화권 형성에 영향을 미침.</li> </ul>

## 2 세계의 다양한 문화권

- 동양 문화권:** 계절풍의 영향을 받는 지역에서는 벼농사, 서구 열강의 식민 지배를 받았던 열대 기후 지역에서는 플랜테이션이 발달 자료 04

동아시아	유교, 불교, 한자, 젓가락 문화
동남아시아	불교, 이슬람교, <b>크리스트교</b> 등 다양한 종교의 영향을 받음.
남부 아시아	<b>힌두교</b> , 이슬람교, 불교 등 다양한 종교의 영향을 받음.

(TIP) 필리핀은 크리스트교(가톨릭) 신자 비율이 높아.

(TIP) 인도는 힌두교 신자가 세계에서 가장 많아.

- 유럽 문화권:** 크리스트교가 생활양식과 사회 제도에 영향

북서부 유럽	<ul style="list-style-type: none"> <li>개신교, 게르만족 비율이 높음.</li> <li>산업 혁명의 발상지로 상공업이 발달</li> </ul>
남부 유럽	<ul style="list-style-type: none"> <li>가톨릭, 라틴족의 비율이 높음.</li> <li>고대 그리스·로마 문화 유산으로 관광 산업이 발달</li> </ul>
동부 유럽	그리스 정교, 슬라브족의 비율이 높음.

### 3. 건조 문화권

- 북부 아프리카, 서남아시아, 중앙아시아 일대
- 대부분 이슬람교를 믿으며 아랍어를 사용
- 건조 기후의 영향으로 전통적으로 오아시스 농업, 관개 농업, 유목이 발달하였으며, '카나트'라는 전통 지하 관개 수로와 '바드기르'라는 전통 환풍 시설이 있음.
- 서남아시아를 중심으로 석유 자원이 개발되었으며, 석유 자원을 바탕으로 건설 산업과 관광 산업이 발달

### 4. 아프리카 문화권

- 사하라 사막 이남의 중·남부 아프리카 일대
- 부족 단위의 공동체 생활로 민족, 종교, 언어가 다양함.
- 열대 기후 지역을 중심으로 이동식 화전 농업, 플랜테이션이 발달
- 유럽 식민 지배의 영향으로 종족의 경계와 국경선이 불일치, 정치적 불안정 등으로 민족 간 분쟁이 잦음.

- 아메리카 문화권:** 리오그란데강을 경계로 북쪽의 앵글로아메리카, 남쪽의 라틴 아메리카 문화권으로 구분

앵글로아메리카	<ul style="list-style-type: none"> <li>북서부 유럽의 영향으로 영어 사용자와 개신교 비중이 높음.</li> <li>산업이 발달하여 세계 경제의 중심지 역할</li> </ul>
라틴아메리카	<ul style="list-style-type: none"> <li>남부 유럽의 영향으로 에스파냐어, <b>포르투갈어</b> 사용자와 가톨릭 비중이 높음. <small>(TIP) 브라질에서만 공용어로 쓰여.</small></li> <li>원주민, 백인, 흑인 등이 함께 살아가면서 문화와 인종이 다양해짐.</li> </ul>

### 6. 북극 문화권

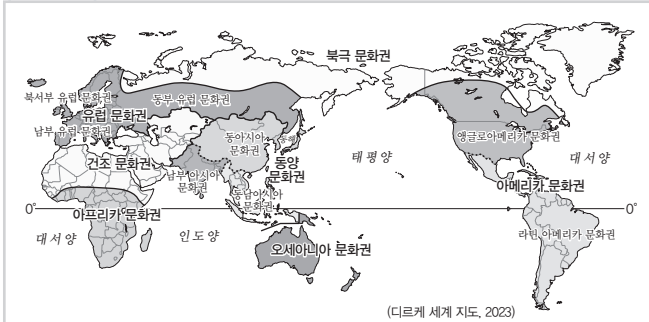
- 북극해 연안의 **한대 기후 지역 일대**
- 원주민(**이누이트, 네네츠족, 라프족** 등)이 순록 유목, 사냥, 어로 활동 등의 전통 생활을 함. (TIP) 러시아 북부에 거주하며, 순록 유목을 하고 흠이라는 이동식 가옥에서 생활해.
- 최근 북극권 일대의 자원 개발로 전통적 생활양식이 사라지고 있음.

### 7. 오세아니아 문화권

- 오스트레일리아, 뉴질랜드, 태평양 제도 일대
- 유럽인의 정착으로 백인이 다수이며, 개신교 비중이 높음.
- 원주민(오스트레일리아의 애버리지니, 뉴질랜드의 **마오리족**) 문화의 소멸 위기가 있으며, 공존을 위해 노력함.
- 오스트레일리아와 뉴질랜드는 세계적인 목축업 지역으로, 기업적 농목업이 나타남.

# 중요 자료 분석

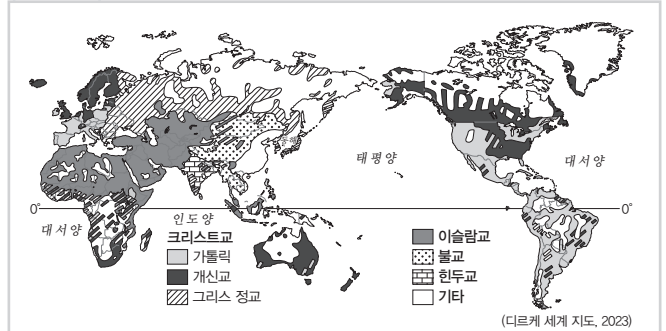
## 자료 01 세계의 문화권



**자료 분석** 문화권은 언어, 종교, 생활양식 등 다양한 문화 요소를 복합적으로 고려하여 구분한다. 위 지도에서 볼 수 있듯이 세계는 여러 문화권으로 나누지만, 문화권은 고정된 것이 아니라 인구 이동이나 문화 전파에 따라 끊임없이 변화한다. 문화권의 경계에는 두 문화의 특징이 혼합된 점이 지대가 나타나기도 한다. 하나의 문화권 내에서는 비슷한 삶의 방식이 나타나지만, 그 안에서도 지역이나 집단에 따라 다양한 삶의 방식이 공존한다.

- (1) 라틴 아메리카와 잉글로아메리카는 리오그란데강을 경계로 나뉜다. (O, X)
- (2) 유럽 문화권에서는 이슬람교보다 크리스티교 신자 수가 더 많다. (O, X)

## 자료 03 종교로 구분한 문화권



**자료 분석** 예수를 구원자로 믿는 크리스티교는 유럽, 아메리카, 오세아니아를 중심으로 분포한다. 알라의 계시와 계율을 기록한 『쿠란』의 가르침을 따르는 이슬람교는 중앙·서남아시아와 북부 아프리카를 중심으로 분포한다. 석가모니의 가르침에 따라 수행하는 불교는 동아시아와 동남아시아를 중심으로 분포한다. 수많은 신을 인정하고 숭배하는 다신교인 힌두교는 인도를 비롯한 남부 아시아에 주로 분포한다.

- (1) 이슬람교는 라마단으로 불리는 금식 기간이 있다. (O, X)
- (2) 불교의 대표적인 종교 경관으로 사리가 봉안된 탑과 불상이 있다. (O, X)
- (3) 크리스티교는 이슬람교보다 전 세계 신자 수가 많다. (O, X)

## 자료 02 타이, 베트남의 문화적 특성



송끄란 축제(타이)




아오자이(베트남)

**자료 분석** 타이는 주민의 대부분이 불교를 믿는다. 미얀마, 캄보디아, 말레이시아 등과 국경을 접하고 있으며 수도인 방콕은 짜오프라야강 주변에 위치해 있다. 4월 중순을 전통적인 새해의 시작으로 여기며, 이를 기념하여 불상을 정화하는 행사에서 발전하여 오늘날에는 서로에게 물을 뿌리는 송끄란 축제가 개최된다. 베트남은 인도차이나반도에 위치한 남북으로 긴 형태의 국가로 중국, 캄보디아 등과 국경을 접하고 있다. 수도인 하노이는 북부에 위치하며, 수도의 이름은 '강(Ha)의 안쪽(Noi)'이라는 뜻이다. 벵수사가 발달하여 쌀을 이용한 음식이 많으며, 전통 의상인 아오자이와 전통 음식인 쌀국수 '피(Pho)'가 유명하다.

- (1) 송끄란 축제는 타이에서 우기가 끝나는 시기에 개최되는 축제이다. (O, X)
- (2) 베트남은 세계적인 쌀 수출국이며, 주요 쌀 생산지로는 메콩강 삼각주가 있다. (O, X)

▶(자료) 인도는 힌두교 신자가 약 80% 이상이지만, 이슬람교 신자도 10% 이상으로 1억 명이 넘어.

## 자료 04 인도의 다양한 종교 경관



타지마할



갠지스강에서 목욕하는 사람들

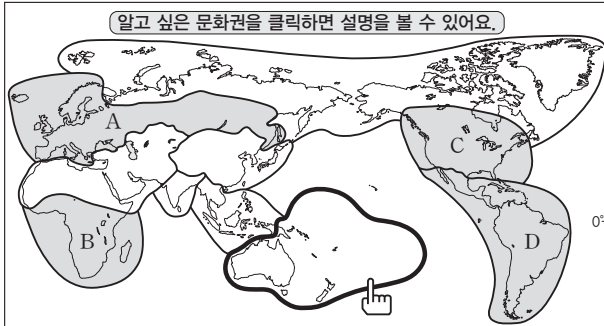
**자료 분석** 타지마할은 무굴 제국의 황제가 왕비의 죽음을 추모하기 위해 세운 건축물이다. 동형 지붕과 첨탑, 아라베스크 장식은 이슬람교의 문화적 특징이 반영된 건축 양식이다. 부다가야에 있는 마하보디 사원은 불교의 창시자인 석가모니가 깨달음을 얻은 장소이다. 유희 사상을 중시하며 자비와 해탈을 강조하는 이 종교는 동남아시아 및 동아시아 일대로 전파되었다. 바라나시에 있는 갠지스강은 힌두교의 대표적인 성지이다. 신자들은 이 강에서 목욕을 하며 기도 의식을 행하면 죄를 씻을 수 있다고 믿는다.

- (1) 이슬람교는 돼지고기를 금기시한다. (O, X)
- (2) 힌두교는 유일신교이다. (O, X)
- (3) 이슬람교는 불교보다 발생 시기가 이른다. (O, X)

## 01

다음은 세계의 문화권에 대한 온라인 수업 자료의 일부이다. 이에 대한 설명으로 옳지 않은 것은?

세계의 문화권은 위치, 자연환경, 종교, 민족(인종), 언어, 전통 산업 등 다양한 요소를 복합적으로 고려하여 아래 지도와 같이 구분할 수 있다.



### ㉠ 오세아니아 문화권

오세아니아 문화권의 지리적 범위는 오스트레일리아, 뉴질랜드, 남태평양의 여러 섬을 포함한다.

#### • 오스트레일리아의 다문화 역사와 정책

오스트레일리아는 20세기 초 백호주의를 내세우며 아시아계 등의 이민을 제한하였다. 또한 ㉠ 원주민의 자녀를 부모로부터 강제로 분리하여 주류 집단의 언어와 생활양식 등을 강요하는 정책을 펼치며 원주민의 인권을 침해하였다. 그러나 1970년대에 백호주의 폐지 이후, ㉡ 주류 문화와 소수 문화가 대등하게 조화를 이루려고 하는 정책을 바탕으로 다양한 민족(인종)과 문화가 공존하는 사회로 발전하고 있다.

- ① ㉠은 소수 문화를 주류 문화로 동화시키려는 정책이다.
- ② ㉡은 다문화주의 정책이다.
- ③ 오스트레일리아는 A에 속한 국가의 식민 지배를 받았다.
- ④ B는 이슬람교 신자 수가 크리스티교 신자 수보다 많다.
- ⑤ C와 D를 구분하는 경계는 리오그란데강이다.

### 해결 Flow

각 문화권의 범위를 지도에서 확인하고 문화권별 특징을 상기한다.

하단 글 자료의 ㉠, ㉡과 A~D 문화권에 대한 설명의 진위 여부를 판단한다.

### 자료 분석

자료에 제시된 문화권은 오세아니아 문화권이다. ㉠은 유럽계 백인이 원주민의 인권을 침해한 대표적인 사례이며, ㉡은 백호주의 폐지 이후 유럽계 백인 문화와 원주민 문화의 조화를 추구하는 노력이다. 지도의 A는 유럽 문화권, B는 아프리카 문화권, C는 앵글로아메리카 문화권, D는 라틴 아메리카 문화권이다.

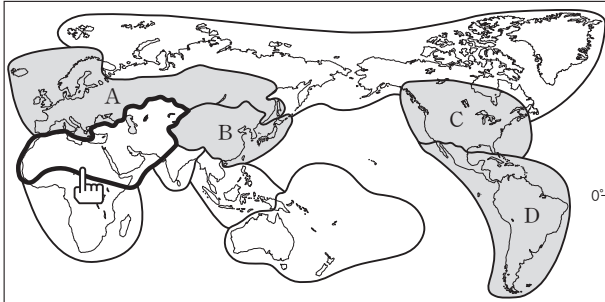
### 선지 분석

- ① ㉠은 소수 민족인 원주민의 언어, 문화 등을 무시하고, 주류인 백인의 언어와 생활양식을 배우게 함으로써 원주민 문화를 백인 문화에 동화시키려 한 것이다.
- ② 주류 문화와 소수 문화 모두를 인정하는 것은 다문화주의 정책으로, 오세아니아 문화권에서는 현재 원주민 문화를 보존하기 위해 노력하고 있다.
- ③ 오스트레일리아는 과거 영국의 식민 지배를 받았다. 영국은 A에 속한다.
- ✓④ 아프리카 문화권은 유럽 식민 지배의 영향으로 크리스티교 신자 비율이 이슬람교 신자 비율보다 높다.
- ⑤ 앵글로아메리카와 라틴 아메리카를 구분하는 기준은 리오그란데강이다.

**01-1** 동형 문제

다음은 세계의 문화권에 대한 온라인 수업 자료의 일부이다. 이에 대한 설명으로 옳은 것은?

세계의 문화권은 위치, 자연환경, 종교, 민족(인종), 언어, 전통 산업 등 다양한 요소를 복합적으로 고려하여 아래 지도와 같이 구분할 수 있다.



㉠ 건조 문화권

건조 문화권의 지리적 범위는 북부 아프리카, 서남아시아, 중앙아시아를 포함한다.

- 건조한 기후의 영향으로 온몸을 감싸는 옷, 물이 적게 들어가는 조리법, 흙벽돌집, ㉡ 바드기르 등의 독특한 의식주 문화가 발달하였다.
- 석유와 천연가스의 세계적인 생산 지역으로, 에너지 자원 생산의 영향으로 광업뿐만 아니라 건설 산업, 관광 산업 등이 발달하였으며, ㉢ 노동 수요가 많아 인접 지역에서 많은 외국인 노동자가 유입되었다.

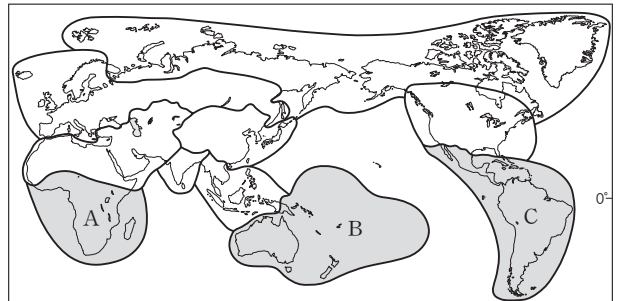
- ① ㉠은 전통적 관개 수로이다.
- ② ㉢의 영향으로 아랍 에미리트에서는 청장년층의 성비가 낮게 나타난다.
- ③ 건조 문화권에서 신자 비율이 가장 높은 종교는 A에서 신자 비율이 높은 종교와 같다.
- ④ B에서는 한자, 젓가락 등의 문화 요소가 나타난다.
- ⑤ C와 D를 구분하는 경계는 파나마 운하이다.

**01-2** 동형 문제

다음은 세계의 문화권에 대한 학생 조사 활동의 일부이다. ㉣, ㉤ 문화권을 지도의 A~C에서 고른 것은?

세계의 다양한 문화권 조사 활동

- 조사 문화권: ㉣
- 조사 내용: 이 문화권에 속한 한 국가는 20세기 초 백호주의를 내세우며 아시아계 등의 이민을 제한하였다. 또한 원주민인 애버지리니의 자녀를 부모로부터 강제로 분리하여 주류 집단의 언어와 생활양식 등을 강요하는 정책을 펼치며 원주민의 인권을 침해하였다. 그러나 1970년대 백호주의 폐지 이후 주류 문화와 소수 문화가 대등하게 조화를 이루려고 하는 정책을 바탕으로 다양한 민족(인종)과 문화가 공존하는 사회로 발전하고 있다.
- 조사 문화권: ㉤
- 조사 내용: 이 문화권에 속한 한 국가는 식민지 시기 유럽 열강이 설정한 인위적인 국경으로 인해 부족의 경계와 국가의 경계가 일치하지 않아 분쟁과 갈등이 잦았다. 대표적 민족인 후투족과 투치족 간의 갈등이 극심하여 내전과 학살이 발생하기도 하였으나, 이후 진실과 화해 위원회를 통한 화해 노력과 민주주의 제도를 정착시키려는 시도를 통해 점차 사회 통합을 이루어 가고 있다.



- |   |   |   |   |   |
|---|---|---|---|---|
|   | ㉣ | ㉤ | ㉣ | ㉤ |
| ① | A | B | ② | A |
| ③ | B | A | ④ | B |
| ⑤ | C | A |   | C |

# 수능 기본 문제

## 01

다음 글의 ㉠~㉢에 대한 설명으로 옳은 것만을 <보기>에서 있는 대로 고른 것은?

문화란 사람들이 환경과 상호 작용하는 과정에서 형성된 의식 주, 종교, 언어 등과 같은 생활양식을 말한다. 문화는 각 지역의 ㉠자연환경과 ㉡인문환경을 반영해 지역마다 다양하게 나타나며, 이러한 문화적 특성이 비교적 넓은 범위에 걸쳐 나타나는 범위를 문화권이라고 한다. ㉢문화권은 산맥이나 하천 등을 기준으로 구분되기도 하며, 서로 다른 문화권의 경계에서는 두 특징이 섞여 나타나는 ㉣이/가 나타난다.

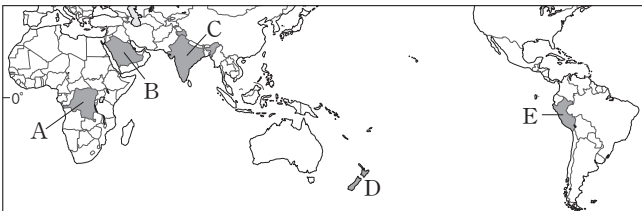
[보기]

- ㄱ. ㉠의 영향을 받은 예로 하루 다섯 번 예배를 드리는 이슬람교도의 모습을 들 수 있다.
- ㄴ. ㉡의 영향을 받은 예로 힌두교도가 갠지스강을 신성하게 여기는 것을 들 수 있다.
- ㄷ. ㉢의 사례로 앵글로아메리카와 라틴 아메리카 문화권을 구분하는 경계를 들 수 있다.
- ㄹ. ㉣에는 '점이 지대'가 들어갈 수 있다.

- ① ㄱ, ㄷ                      ② ㄱ, ㄴ                      ③ ㄷ, ㄹ
- ④ ㄱ, ㄴ, ㄷ                ⑤ ㄴ, ㄷ, ㄹ

## 02

지도의 A~E 국가를 여행할 때 볼 수 있는 문화적 경관으로 옳지 않은 것은?



- ① A: 이동식 화전 농업으로 카사바, 양 등을 재배하는 모습
- ② B: 계절풍의 영향으로 충적 평야에서 대규모로 벼농사를 하는 모습
- ③ C: 많은 신의 모습이 새겨진 사원에서 신자들이 참배하는 모습
- ④ D: 원주민인 마오리족의 전통 춤인 하카를 추는 모습
- ⑤ E: 잉카 문명의 유적지인 마추픽추의 웅장한 모습

## 03

㉠ 문화권에 대한 설명으로 옳은 것은?

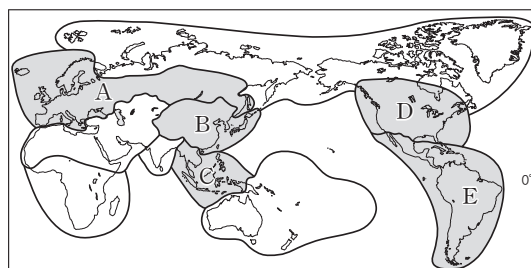
㉠ 문화권은 크리스트교가 생활양식과 사회 제도에 큰 영향을 주었다. 이 문화권은 크게 세 지역으로 나뉘어 산업, 종교, 민족 등에서 서로 다른 문화적 특성을 보여 준다. 북서부 지역은 연중 습윤한 기후를 바탕으로 혼합 농업과 낙농업이 발달하였고, 개신교 신자가 많으며 게르만족의 비율이 높다. 남부 지역은 지중해성 기후를 바탕으로 수목 농업이 발달하였고, 가톨릭 신자가 많으며 라틴족 비율이 높다. 동부 지역은 다른 두 지역에 비해 농업 비중이 크며, 그리스 정교 신자가 많고 슬라브족 비율이 높다.

- ① 이동식 화전 농업과 플랜테이션이 발달하였다.
- ② 계절풍의 영향으로 넓은 평야에서 벼농사가 발달하였다.
- ③ 산업 혁명이 가장 먼저 시작되어 일찍 산업화를 이루었다.
- ④ 유럽인 진출의 영향으로 에스파냐어나 포르투갈어를 공용어로 사용한다.
- ⑤ 인간 거주에 불리한 기후로 순록을 유목하거나 어로 활동 등을 하며 생활한다.

## 04

다음은 어느 여행기의 일부이다. ㉠ 문화권을 지도의 A~E에서 고른 것은?

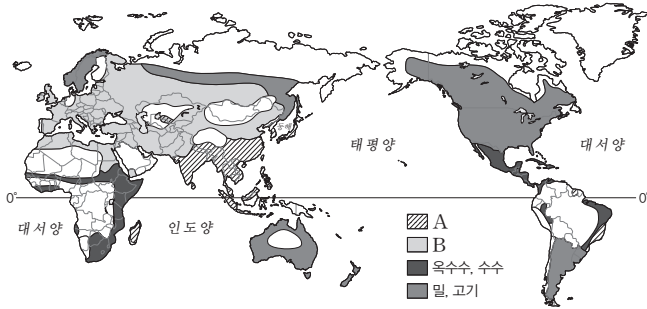
올라! 나는 오늘 ○○에 왔고 이곳의 공용어인 에스파냐어로 인사해 봤어. 학교에서 배웠던 ㉠ 문화권의 모습을 이번 여행을 통해 볼 수 있어서 매우 신기하고 재밌어. 이 국가는 고대 문명이 번성하였지만 16세기 이후 유럽인의 식민 지배를 받으면서 주로 사용하는 언어가 에스파냐어로 바뀌고, 대부분의 사람들은 가톨릭을 믿게 되었다고 해. 실제로 내가 이번 여행에서 다녔던 대부분의 도시에서는 도심 광장에 큰 성당이 있었어. 내일은 언덕 위의 거대한 예수상을 보러 갈 거야. 그곳 사람들은 포르투갈어를 사용하기 때문에 포르투갈어로도 인사를 미리 연습할 생각이야.



- ① A
- ② B
- ③ C
- ④ D
- ⑤ E

### 05

지도는 세계의 주식 문화권을 나타낸 것이다. A, B에 해당하는 식량 작물에 대한 설명으로 옳은 것만을 <보기>에서 고른 것은? (단, A, B는 각각 밀, 쌀 중 하나임.)



(어드밴스 중학 지리 자료, 2023)

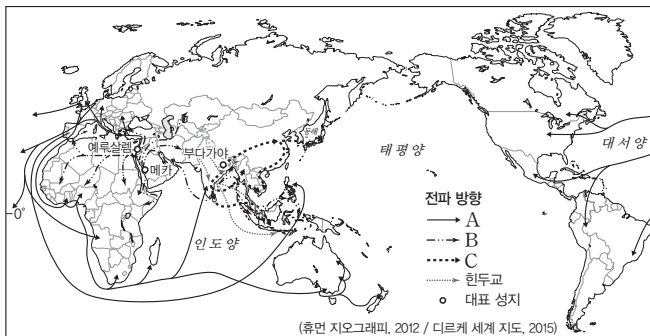
**보기**

- ㄱ. A는 주로 계절풍의 영향을 받아 여름철 강수량이 풍부한 지역에서 많이 생산된다.
- ㄴ. B는 유럽 문화권보다 동양 문화권에서 주로 주식으로 이용된다.
- ㄷ. B는 유럽의 지중해성 기후 지역에서 여름철보다 겨울철에 주로 재배된다.
- ㄹ. A는 B보다 건조한 환경에서도 상대적으로 잘 재배된다.

- ① ㄱ, ㄴ                      ② ㄱ, ㄷ                      ③ ㄴ, ㄷ
- ④ ㄴ, ㄹ                      ⑤ ㄷ, ㄹ

### 06

지도는 세 보편 종교의 전파를 나타낸 것이다. A~C 종교에 대한 설명으로 옳은 것은?



(휴먼 지오그래피, 2012 / 디르케 세계 지도, 2015)

- ① A는 술과 돼지고기를 금기시한다.
- ② B는 갠지스강을 신성하게 여긴다.
- ③ C는 메카 성지 순례를 의무로 한다.
- ④ A는 B보다 세계 신자 수가 많다.
- ⑤ B와 C는 기원지가 모두 서남아시아이다.

### 07 통합형

다음 자료는 세 문화권의 전통 가옥을 나타낸 것이다. (가)~(다) 전통 가옥에 대한 설명으로 옳은 것은?

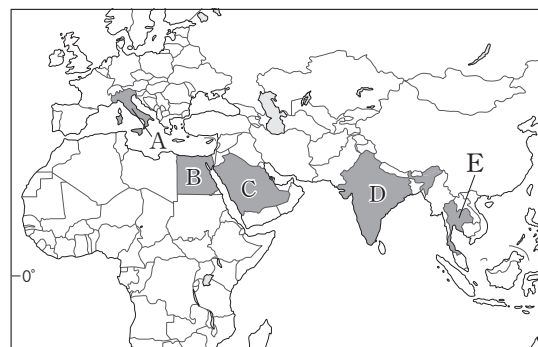
(가)	(나)	(다)
주로 흙을 재료로 만들었으며, 모래바람과 뜨거운 열기를 막기 위해 창문이 작고 벽이 두껍다.	초원 지대에서 전통적으로 동물의 가죽과 뼈 등을 이용해 만들었으며, 이동에 편리한 이동식 가옥이다.	열기와 습기를 피하려고 지면에서 바닥을 띄워 만들었으며, 나무와 풀 등을 주재료로 하였다.

- ① (가)가 나타나는 지역의 주민들은 전통적으로 벼농사에 종사한다.
- ② (나)가 나타나는 지역은 (다)가 나타나는 지역보다 최한월 평균 기온이 높다.
- ③ (다)가 나타나는 지역에는 주로 침엽수림이 분포한다.
- ④ (가)와 (나)는 모두 건조 문화권에서 나타나는 전통 가옥이다.
- ⑤ (가)~(다) 가옥 구조는 자연환경보다 인문환경의 영향을 더 크게 받은 결과이다.

### 08

다음 자료는 어떤 국가의 종교 경관에 대한 설명이다. 이 국가를 지도의 A~E에서 고른 것은?

- 이 국가의 북부에는 석가모니의 행적이 있는 룸비니 등이 있다. 이곳은 불교의 주요 성지로 많은 불교 신자가 이곳을 방문한다.
- 이 국가의 남부에는 스리미낙시 사원이 있다. 힌두교의 신인 시바 신과 미낙시 여신을 모시는 사원으로, 이 사원으로 들어가는 탑문에는 여러 신의 조각이 화려하게 장식되어 있다. 문을 통과하면 사원에서 기도하는 신자들의 모습을 볼 수 있다.



- ① A
- ② B
- ③ C
- ④ D
- ⑤ E

09

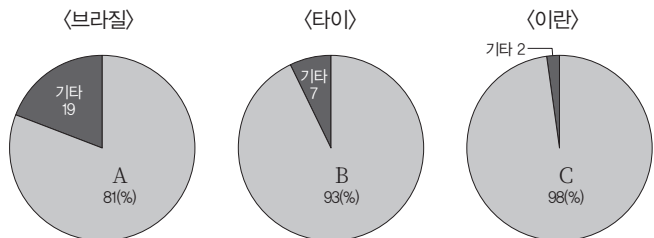
다음 자료는 인도네시아에 위치한 두 종교의 사원을 나타낸 것이다.  
㉠, ㉡ 종교에 대한 설명으로 옳은 것은?

<p>이스티크랄 모스크는 동남아시아 최대의 ㉠ 사원이다. 사원 내부는 아라베스크 문양으로 장식되어 있으며, 하루 다섯 번의 기도 시간을 알려 주는 전광판이 설치되어 있다.</p>	<p>보로부두르 사원은 세계 최대의 ㉡ 사원이다. 종 모양을 한 수많은 탑이 세워져 있으며, 불상도 500여 개가 안치되어 있다.</p>

- ① ㉠의 주요 경관으로 스테인드글라스, 십자가 등이 있다.
- ② ㉡을 널리 믿는 문화권에서는 할랄 산업이 발달하였다.
- ③ ㉠은 ㉡보다 발생 시기가 늦다.
- ④ ㉡은 ㉠보다 세계 신자 수가 많다.
- ⑤ ㉠, ㉡은 모두 남부 아시아에서 기원하였다.

10

그래프는 세 국가의 종교 신자 비율을 나타낸 것이다. 이에 대한 설명으로 옳은 것은? (단, A~C는 보편 종교 중 하나임.)



\*국가별 1위 종교만 나타냈으며, 나머지는 기타로 처리함.

- ① A의 사원은 대체로 아라베스크 무늬로 장식되어 있다.
- ② B의 종파로는 개신교, 가톨릭, 그리스 정교가 있다.
- ③ C의 신자들은 라마단 기간에 금식하는 의식을 중시한다.
- ④ A는 B보다 발생 시기가 이른다.
- ⑤ 예루살렘은 B와 C의 성지이다.

11

그림은 지도의 A~C 문화권을 구분한 것이다. (가), (나)에 들어갈 질문으로 옳은 것만을 <보기>에서 고른 것은?

(가)	예	A	
	아니요		
(나)	예	B	
	아니요		
		C	

**보기**

- ㄱ. 주로 아랍어를 사용하며 이슬람교를 믿나요?
- ㄴ. 주로 영어를 사용하고 개신교의 비율이 높나요?
- ㄷ. 주로 포르투갈어나 에스파냐어를 사용하고 가톨릭 신자의 비율이 높나요?

	(가)	(나)	(가)	(나)
①	ㄱ	ㄴ	②	ㄱ
③	ㄴ	ㄱ	④	ㄴ
⑤	ㄷ	ㄴ		

12 **통합형**

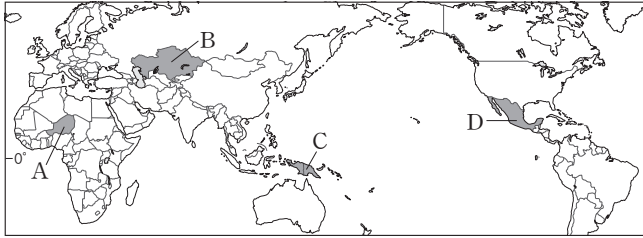
다음 글은 말레이시아의 종교 경관과 공휴일에 대한 것이다. 이에 대한 설명으로 옳은 것은? (단, (가)~(다)는 각각 이슬람교, 크리스티교, 힌두교 중 하나임.)

말레이시아는 인구의 절반 이상이 (가)를 믿는다. 그러나 헌법상 종교의 자유를 보장하고 있어 다른 종교의 공휴일도 법정 공휴일로 지정하고 있다. 라마단 기간이 끝난 후의 축제인 (가)의 기념일 하리라야, 여러 신을 인정하는 종교인 (나)의 기념일 디파발리, (다)의 기념일인 크리스마스도 공휴일로 지정되어 있다. 이처럼 말레이시아 사람들은 여러 종교의 축제에 참여하며 ㉠ 서로 다른 종교를 인정하고 존중하는 분위기를 형성하고 있다.

- ① (가)의 대표적인 종교 경관은 불상과 탑이다.
- ② (나)의 신자들은 할랄 식품을 많이 소비한다.
- ③ (다)의 신자들은 갠지스강을 신성하게 여긴다.
- ④ (가)와 (다)는 유일신 신앙을 갖고 있다.
- ⑤ ㉠에서는 자문화 중심주의적 태도가 나타난다.

### 13

지도의 A~D 지역에 대한 설명으로 옳은 것만을 <보기>에서 있는 대로 고른 것은?

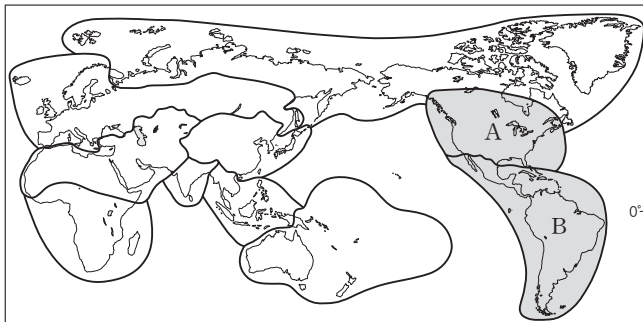


- 보기**
- ㄱ. A는 건조 문화권에 속한다.
  - ㄴ. B는 건조 초원에서 유목 생활을 하는 문화가 나타난다.
  - ㄷ. C는 인도네시아-파푸아뉴기니 국경을 경계로 동남아시아 문화권과 오세아니아 문화권으로 나뉜다.
  - ㄹ. D의 남쪽에는 앵글로아메리카와 라틴 아메리카의 경계가 되는 강이 있다.

- ① ㄱ, ㄴ                      ② ㄱ, ㄹ                      ③ ㄴ, ㄷ
- ④ ㄱ, ㄴ, ㄷ                ⑤ ㄴ, ㄷ, ㄹ

### 14

지도에 표시된 A, B 문화권의 특징에 대한 설명으로 옳은 것만을 <보기>에서 있는 대로 고른 것은?



- 보기**
- ㄱ. B에서는 에스파냐어를 공용어로 사용하는 국가가 포르투갈어를 사용하는 국가보다 많다.
  - ㄴ. A는 B보다 국가 수가 많다.
  - ㄷ. A는 B보다 개신교 신자 비율이 높다.
  - ㄹ. B는 A보다 혼혈 인종 비율이 높다.

- ① ㄱ, ㄴ                      ② ㄴ, ㄷ                      ③ ㄱ, ㄴ, ㄷ
- ④ ㄱ, ㄷ, ㄹ                ⑤ ㄴ, ㄷ, ㄹ

### 15 통합형

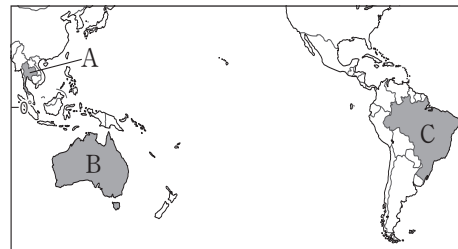
다음 자료는 세계의 축제를 나타낸 것이다. ㉠, ㉡ 축제가 나타나는 국가를 지도의 A~C에서 고른 것은?



㉠은/는 유럽에서 전파된 가톨릭 축제와 이 국가 원주민의 전통과 풍습, 아프리카계 민족의 흥이 어우러져 탄생하였다. 카니발이 시작되면 사람들이 거리로 나와 삼바 리듬에 맞추어 춤을 추고 노래를 하며 축제를 즐긴다.



㉡은/는 우기가 찾아오는 4월 중순에 이 국가 전역에서 열리는 축제이다. 물을 뿌리는 것은 부처의 축복을 기원하며 불상을 물로 씻는 데에서 유래하였다.



- |   |   |   |
|---|---|---|
|   | ㉠ | ㉡ |
| ① | A | B |
| ② | A | C |
| ③ | B | A |
| ④ | B | C |
| ⑤ | C | A |

### 16

다음 자료는 두 국가의 화폐를 나타낸 것이다. ㉠에 들어갈 문화권을 지도의 A~E에서 고른 것은?

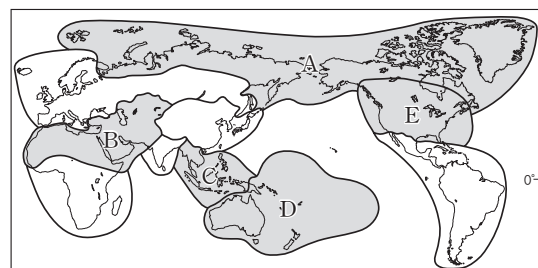
㉠ 문화권에 속한 국가들의 다양한 화폐



이 화폐에는 온몸을 감싼 옷을 입은 사람들이 모여 앉아 이슬람교의 경전인 『쿠란』을 읽는 모습이 담겨 있다.



이 화폐에는 뜨거운 햇빛으로부터 머리를 보호하기 위해 머리에 천을 두른 사람이 표현되어 있다.



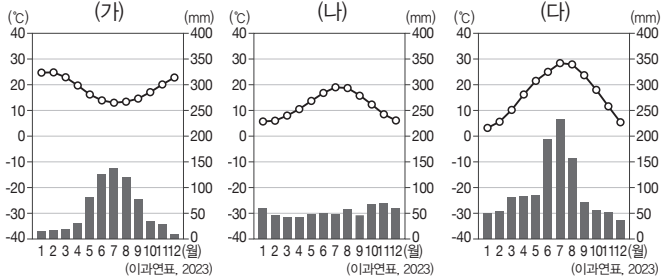
- ① A
- ② B
- ③ C
- ④ D
- ⑤ E

# 1등급 완성 문제



## 01 통합형

그래프는 세 지역의 기후 특성을 나타낸 것이다. 각 지역에 대한 설명으로 옳은 것은? (단, (가)~(다)는 각각 영국 런던, 오스트레일리아 퍼스, 중국 난징 중 하나임.)



- ① (가)에서는 6~8월보다 12~2월에 식량 작물인 밀을 주로 재배한다.
- ② (나)에서는 오아시스를 중심으로 오아시스 농업이 발달하였다.
- ③ (다)에서는 여름철의 풍부한 강수량을 이용해 벼농사가 널리 이루어진다.
- ④ (가)는 (나)보다 여름철 강수 집중률이 높다.
- ⑤ (다)는 (나)보다 수운 교통 발달에 유리하다.

## 02 통합형

다음 자료는 두 국가의 문화적 특징을 나타낸 것이다. (가), (나) 국가에 대한 설명으로 옳은 것만을 <보기>에서 고른 것은?

(가)	(나)
아시아에서 이슬람교 신자 수가 가장 많은 국가로, 여성들은 대부분 히잡을 착용하고 다닌다. 해산물 등과 밥을 볶아 만든 요리인 나시고랭을 주로 먹는다.	전 세계에서 힌두교 신자 수가 가장 많은 국가로, 갠지스강에서 목욕하는 사람들의 모습을 볼 수 있다. 다양한 향신료로 만든 카레와 밀로 만든 난을 주로 먹는다.

### 보기

- ㄱ. (가)는 국토 대부분 지역에서 온대 기후가 나타난다.
- ㄴ. (나)는 카슈미르 지역에서 파키스탄과 종교적 원인으로 갈등이 있다.
- ㄷ. (가)는 (나)보다 총인구가 많다.
- ㄹ. (가)는 동남아시아 문화권, (나)는 남부 아시아 문화권에 속한다.

- ① ㄱ, ㄴ      ② ㄱ, ㄷ      ③ ㄴ, ㄷ
- ④ ㄴ, ㄹ      ⑤ ㄷ, ㄹ

## 03

다음 자료는 국가의 문화적 특징에 대한 학생 조사 활동의 일부이다. 지도의 A~D 국가와 관련된 탐구 주제로 옳은 것만을 있는 대로 고른 것은?

국가의 문화적 특징 탐구하기

국가	탐구 주제
A	세계 유산에 등재된 유목민의 이동식 전통 가옥 유리의 특징 탐구하기
B	한자, 젓가락 등의 문화 요소를 대한민국, 중국과 공유하는 이유 탐구하기
C	원주민인 애버리지니의 전통문화 보전을 위한 노력 탐구하기
D	유럽인의 식민 지배의 영향을 받아 혼혈족 등 복잡한 인종 구성을 갖게 된 이유 탐구하기

- ① ㉠, ㉡      ② ㉠, ㉢      ③ ㉡, ㉣
- ④ ㉠, ㉢, ㉣      ⑤ ㉡, ㉢, ㉣

## 04

(가), (나) 문화권과 관련된 지역을 지도의 A~C에서 고른 것은?

- (가) 열대 우림 기후 지역에서는 전통적으로 이동식 화전 농업이 이루어졌으며, 플랜테이션도 활발하다. 다양한 부족이 분포하여 언어와 종교도 복잡하게 나타나는 편이다.
- (나) 한랭한 기후의 영향으로 인간 거주에 불리하여 주로 순록 유목, 수렵, 어업 등에 종사하였다. 이동식 가옥인 춤 등에서 생활하며, 이누이트와 네네츠족이 대표적인 전통 부족이다.

	(가)	(나)
①	A	B
②	A	C
③	B	A
④	B	C
⑤	C	A

### 05

㉠~㉣ 종교에 대한 설명으로 옳은 것만을 <보기>에서 있는 대로 고른 것은?

종교의 성지는 신자들이 신성하게 여기는 장소로, 창시자가 탄생하거나 활동한 곳, 깨달음을 얻은 곳 등이 주요 성지가 된다. ㉠의 경우, 구원자로 믿는 예수가 활동하였던 베들레헴이 대표적인 성지이다. ㉡의 경우, 창시자인 무함마드가 탄생한 곳인 메카가 대표적인 성지이며, ㉢의 경우, 창시자인 석가모니가 깨달음을 얻은 장소인 부다가야가 대표적인 성지이다.

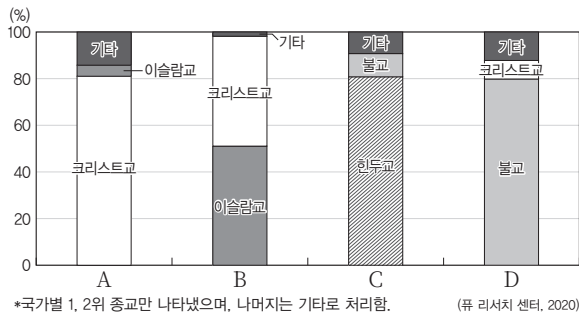
**보기**

ㄱ. ㉠은 서남아시아에서 기원하였다.  
 ㄴ. ㉡은 상인들의 무역 활동과 함께 동남아시아의 섬 지역으로 전파되었다.  
 ㄷ. ㉢은 창시된 곳이 속한 국가에서 신자 비율이 가장 높게 나타난다.  
 ㄹ. 바티칸은 ㉠, ㉡의 공통적인 성지이다.

- ① ㄱ, ㄴ                      ② ㄱ, ㄷ                      ③ ㄷ, ㄹ  
 ④ ㄱ, ㄴ, ㄹ                ⑤ ㄴ, ㄷ, ㄹ

### 06

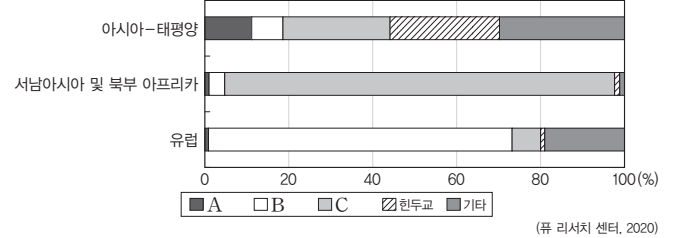
그래프는 네 국가의 종교 신자 비율을 나타낸 것이다. 이에 대한 설명으로 옳지 않은 것은? (단, A~D는 각각 네팔, 나이지리아, 미얀마, 이탈리아 중 하나임.)



- ① A의 크리스티교는 가톨릭 종파의 비율이 높다.  
 ② B는 남부의 크리스티교와 북부의 이슬람교 간 갈등이 있다.  
 ③ C는 인도와 국경을 접하고 있다.  
 ④ D에서는 정부와 이슬람교를 믿는 로힝야족과의 갈등이 나타난다.  
 ⑤ A는 아프리카, B는 유럽에 위치한다.

### 07

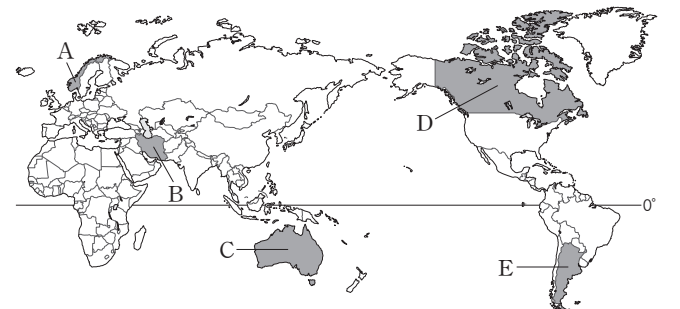
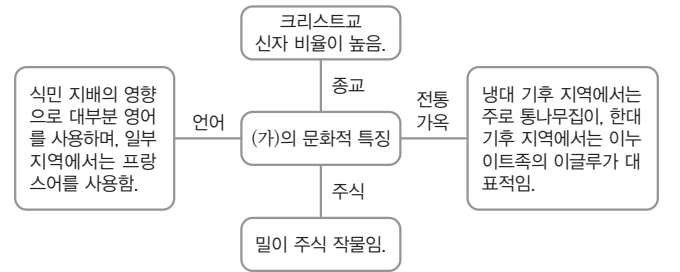
그래프는 지역(대륙)별 종교 신자 비율을 나타낸 것이다. A~C 종교로 옳은 것은?



- |   |          |          |          |
|---|----------|----------|----------|
|   | <u>A</u> | <u>B</u> | <u>C</u> |
| ① | 불교       | 이슬람교     | 크리스티교    |
| ② | 불교       | 크리스티교    | 이슬람교     |
| ③ | 이슬람교     | 불교       | 크리스티교    |
| ④ | 이슬람교     | 크리스티교    | 불교       |
| ⑤ | 크리스티교    | 불교       | 이슬람교     |

### 08

다음은 어느 국가의 문화적 특징 학습을 위해 작성한 마인드맵이다. (가)에 해당하는 국가를 지도의 A~E에서 고른 것은?



- ① A                      ② B                      ③ C                      ④ D                      ⑤ E

# 05 문화 변동과 전통문화

## 1 문화 변동의 요인과 양상

### 01 문화 변동의 의미와 요인 자료 01 자료 02

1. 문화 변동의 의미: 새로운 문화 요소의 등장 혹은 다른 문화와의 접촉을 통해 지속적으로 한 사회의 문화 체계가 변화하는 현상

(TIP) 한 사회의 문화를 구성하는 개별 요소로서 언어, 상징, 규범과 같은 비물질문화 요소와 도구, 기술 같은 물질 문화 요소가 있어.

### 2. 문화 변동의 요인

(1) 내재적 요인: 한 사회 내에서 새롭게 등장하여 그 사회의 문화 체계의 변화를 초래하는 요인

구분	의미	사례
발견	이미 존재하였으나 알려지지 않은 사물 혹은 원리 등을 찾아내는 행위나 결과물	불, 비타민의 존재 등
발명	존재하지 않았던 기술 혹은 사물 등을 만들어 내는 행위나 결과물	증기 기관, 자동차 등

(2) 외재적 요인(문화 전파): 다른 사회의 문화 체계와의 접촉이나 교류의 결과 다른 문화 요소가 전해져서 문화 변동을 초래하는 요인

구분	의미	사례
직접 전파	사람들 간의 교류를 통해 서로 다른 문화가 직접적으로 접촉하는 과정에서 문화 요소가 전파되는 현상	교역이나 전쟁, 부족 간 혼인 등에 의한 문화 요소의 전파
간접 전파	인쇄물이나 인터넷과 같은 매개체를 통해 간접적으로 문화 요소가 전파되는 현상	인터넷을 통해 전달되는 K-pop(케이팝) 문화 등
자극 전파	다른 사회의 문화 요소로부터 자극을 받거나 아이디어를 얻어 새로운 문화 요소가 만들어지는 현상	알파벳을 토대로 발명된 체로키 문자 등

(TIP) 자극 전파는 전파와 발명이 복합적으로 일어나.

### 02 문화 변동의 양상 자료 03

#### 1. 문화 변동의 요인에 따른 양상

(1) 내재적 변동: 발명이나 발견 등으로 한 사회의 문화 체계 내에서 나타나는 변동

(2) 외재적 변동(문화 접변): 서로 다른 문화 간의 장기적이고 전면적인 접촉에 의해 나타나는 변동

#### 2. 문화 접변의 양상

(1) 강제성과 자발성에 따른 구분

구분	의미	사례
강제적 문화 접변	정복 등으로 지배적인 위치에 있는 사회의 문화 요소가 피지배 사회에 강제적으로 이식되어 나타나는 문화 변동	일제 강점기의 창씨개명과 일본어 사용 강제 등
자발적 문화 접변	스스로 필요성을 느껴 자발적으로 다른 사회의 문화 요소를 자기 사회 문화 체계 내로 수용함으로써 나타나는 문화 변동	에스파냐인에게서 은세공 기술을 수용한 아메리카 대륙의 나바호족

(2) 결과에 따른 구분

(TIP) 고유한 문화에 기반한 개인의 정체성이나 특정한 공동체의 소속 의식을 의미해.

구분	의미	사례
문화 동화	기존 문화 요소가 외래문화 체계에 흡수되어 문화 정체성을 상실하고 외래문화 요소에 동화되는 현상	이주 유럽인의 문화와 접촉하면서 자기 문화를 상실한 북아메리카 원주민
문화 병존(문화 공존)	한 사회의 문화 체계 속에 서로 다른 문화 요소가 나란히 존재하는 현상	한국 내 차이나타운
문화 융합	기존 문화 요소와 외래문화 요소가 결합하여 각각의 문화적 특성을 유지하면서도, 두 문화 요소와는 다른 성격을 지닌 제3의 문화를 형성하는 현상	우리나라의 전통적인 한옥 양식과 서양의 기독교식 건축 양식이 결합된 대한성공회 강화성당

## 2 전통문화의 의의와 창조적 계승

### 01 전통문화의 의미와 기능

1. 전통문화의 의미: 과거로부터 한 사회에 형성되어 세대 간 전승을 통해 현재까지 그 사회 구성원들의 생활에 영향을 주고 있는 고유한 문화

2. 우리나라 전통문화의 사례: **줄다리기, 효 사상, 세시 풍속, 김치 등**

(TIP) 우리 조상들은 줄다리기를 통해 벼농사의 풍작, 사회 구성원 간의 공동체 의식 함양과 유대감의 강화, 공동체의 풍요를 기원하였어.

### 3. 전통문화의 기능

(1) 사회의 유지와 통합: 사회 구성원 간 유대감을 강화하여 사회 통합에 기여

(2) 문화의 고유성 유지: 문화 정체성과 자긍심 고취

(3) 세계 문화의 다양성 증진: 문화의 획일화 방지, 각 국가의 전통문화가 모여 다채로운 세계 문화 형성

(4) 문화 산업 육성: 부가 가치가 높은 문화 산업 육성에 기여, 국가 이미지 상승

### 02 전통문화의 창조적 계승 자료 04

1. 전통문화의 창조적 계승의 의미: 고유한 전통문화의 가치를 깨닫고 계승할 뿐만 아니라 시대적 변화에 맞게 해석하고 발전시켜 재창조하는 것

(TIP) 우리나라 헌법 제9조에서는 국가에 전통문화의 계승·발전 및 민족 문화의 창달을 위해 노력할 의무를 부과하고 있어.

2. 전통문화의 창조적 계승의 필요성: 세계화로 인해 여러 문화 간의 접촉 및 교류가 증가함에 따라 창조적 계승의 필요성 증대

### 3. 전통문화의 창조적 계승 방안


(1) 전통문화의 중요성 인식: 전통문화에 관심을 가지고 보존 및 계승

(2) 전통문화의 현대적 재해석: 전통문화가 현대 사회의 새로운 문화 요소와 조화를 이루도록 재구성

(3) 외래문화의 비판적 수용: 외래문화의 무분별한 수용을 경계하는 비판적 수용을 통해 전통문화와의 조화 추구

# 중요 자료 분석

## 자료 01 발견과 발명



(가)는 원시인이 불을 사용하는 모습이다. 불의 사용은 추위와 외부 위험으로부터 인간을 보호하고 화식(火食)을 가능하게 하였으며 어둠을 밝혀 밤에도 사회적 활동을 할 수 있도록 하였다. 이는 인류의 문화 발전에 출발점이 되었다. (나)는 증기 기관을 활용한 증기 기관차이다. 증기 기관의 사용은 물자의 생산과 운반, 교통과 생활양식 등 당시 사회·문화 체계 전반에 큰 영향을 끼쳤다.

**자료 분석** (가)는 이미 존재하고 있었으나 알려지지 않았던 사물이나 원리를 찾아내는 행위 혹은 결과물인 발견의 사례이다. (나)는 존재하지 않았던 기술이나 사물 등을 만들어 내는 행위 혹은 결과물인 발명의 사례이다.

- (1) (가)는 기존에 존재하지 않았던 원리를 찾는 행위의 사례이다. (○, ×)
- (2) 바퀴, 자동차, 인터넷 등은 (나)와 유사한 사례이다. (○, ×)

## 자료 02 자극 전파

(가) 강수, 최치원과 함께 신라 시대 3대 문장가라 일컬어지는 설총은 이두[吏讀]를 집대성하여 신라의 차자 표기법(借字表記法) 발전에 이바지하였다. 이두는 한자의 음과 뜻을 빌어 우리말을 표기하는 방법으로 문법적인 기능을 하는 조사 등은 한자의 음을 빌려 쓰고, 실질적인 의미를 나타내는 명사 등은 한자의 뜻을 빌려 쓰는 방식을 취한다. (나) 아메리카 원주민인 세쿼이아(Sequoiyah)는 체로키어를 표기할 수 있는 체로키 문자를 만들었다. 영어의 알파벳을 변형하여 만들어진 체로키 문자는 글자의 모양은 알파벳과 비슷하지만 소리는 다르다. 세쿼이아는 자음과 모음을 결합하여 하나의 음절을 표시하는 85개의 문자 체계를 만들었다. 이는 그동안 글을 읽고 쓰지 못하였던 체로키족의 문맹률을 낮추는 데 크게 기여하였다.

**자료 분석** (가), (나) 모두 자극 전파의 사례에 해당한다. 자극 전파란 다른 사회에서 전파된 문화 요소에 자극을 받아 새로운 문화 요소를 발명하는 현상을 의미한다.

- (1) (나)와 달리 (가)에서는 간접 전파에 따른 문화 변동이 나타난다. (○, ×)
- (2) (가), (나) 모두 다른 사회에서 전달된 문화 요소로부터 아이디어를 얻어 새로운 문화 요소가 만들어진 문화 변동이 나타난다. (○, ×)

## 자료 03 멕시코의 문화 융합

(가) 멕시코에 가톨릭이 전해진 것은 1500년대 초반 에스파냐 군대를 통해서이다. 당시 멕시코는 토착신을 숭배하였는데, 가톨릭 교단은 현지 종교와 융합을 이루기 위해 노력하였다. 이에 따른 결과물로 과달루페 성모상은 원주민의 피부색을 하고 있다. 과달루페 성모상은 멕시코 원주민과 가톨릭 신앙의 융합물로, 종교적 상징일 뿐만 아니라 민족적 자부심을 나타내는 문화적 유산이다. (나) 타코는 멕시코의 전통 음식인 토르티야에 에스파냐의 음식 문화가 융합되어 탄생한 새로운 음식이다. 토르티야는 옥수수가루를 빈대떡처럼 만든 것으로, 타코는 토르티야에 마늘, 양파, 소고기, 돼지고기, 양고기, 치즈, 올리브, 밀가루, 향신료 등 에스파냐를 통해 전해진 식재료를 첨가한 것이다. 타코는 각 지역마다 다양한 재료와 조리법을 활용하여 특색 있게 변화하였으며 멕시코의 역사와 문화를 담아낸 음식으로 자리 잡고 있다.

**자료 분석** (가)의 과달루페 성모상은 멕시코 원주민의 토착 문화와 에스파냐의 문화가 융합되어 새로운 문화 요소를 창조한 결과물이다. (나)의 타코는 멕시코의 전통 음식과 에스파냐의 다양한 음식이 융합하여 새로운 음식 문화를 창조한 사례이다. 이처럼 (가), (나) 모두 문화 융합의 사례로, 문화 융합 이후에도 (가), (나) 모두 기존 문화인 멕시코의 문화적 정체성을 유지하고 있다는 공통점이 있다.

- (1) (나)의 문화 변동 원인은 내재적 요인에 의한 것이다. (○, ×)
- (2) (가), (나) 모두 기존 문화의 정체성이 남아 있다. (○, ×)

## 자료 04 전통문화의 창조적 계승 사례



○ 한국관광공사에서 제작한 한국 관광 홍보 영상

우리나라의 전통 음악인 판소리를 서양식 밴드 음악과 결합하여 큰 반향을 일으킨 국내 퓨전 국악 그룹의 한국 관광 홍보 영상이다. 이 영상에서는 우리나라의 전통적인 춤과 음악, 의복을 현대적으로 재해석하여 전 세계적으로 긍정적인 반응을 얻었다.

**자료 분석** 전통문화를 현대적 감각으로 재평가하고 발전시킨 사례이다. 전통문화를 창조적으로 계승하기 위해서는 전통문화의 가치를 보존하는 동시에 현대 사회의 새로운 문화 요소와 조화를 이루도록 재구성하는 노력이 필요하다.

- (1) 전통문화를 현대적으로 재해석한 사례에 해당한다. (○, ×)
- (2) 문화 융합이 아닌 문화 동화의 전형적인 사례에 해당한다. (○, ×)

## 01

(가), (나)에 나타난 문화 변동에 대한 설명으로 옳은 것은?

(가) 대중교통 요금 지불 시 현금만 이용하던 갑국은 을국이 개발한 전자 교통 카드 시스템을 배우고자 을국의 기술자들을 초빙하였다. 갑국은 이들을 통해 을국의 시스템을 도입하였다. 이후 갑국에서는 전자 교통 카드도 대중교통 요금 지불 수단으로 널리 사용되고 있다.

(나) 병국이 정국을 지배하게 되면서 정국에서는 병국 언어 대신 정국 언어를 쓰자는 민족주의 운동이 일어났다. 이에 병국은 공권력을 동원하여 관공서는 물론 일상에서도 병국 언어만 쓰도록 강제하였고, 그 결과 정국에서 정국 사람들은 병국 언어만 쓰게 되었다.

- ① (가)에서는 직접 전파에 의한 문화 병존이 나타났다.
- ② (나)에서는 강제적 문화 접변에 따른 문화 융합이 나타났다.
- ③ (가)에서는 (나)에서와 달리 외재적 요인에 의한 문화 변동이 나타났다.
- ④ (나)에서는 (가)에서와 달리 사회 구성원이 새로운 문화를 공유하게 되었다.
- ⑤ (가)와 (나)에서는 모두 자문화의 정체성이 상실되었다.

### 해결 Flow

문화 변동 요인의 개념과 특징을 파악한다.

문화 변동 요인과 함께 문화 변동 양상의 개념과 특징을 연동하여 파악한다.

### 자료 분석

(가)에는 직접 전파와 문화 병존이 나타나 있다. (나)에는 강제적 문화 접변과 문화 동화가 나타나 있다.

### 선지 분석

- ✓ ① (가)에서는 문화 변동의 요인이 기술자 즉, 사람 간의 교류이므로 직접 전파이다. 또한 현금과 전자 교통 카드가 함께 사용되고 있으므로 문화 병존이 나타났다.
- ② (나)에서는 강제적 문화 접변에 따른 문화 동화가 나타났다.
- ③ (가), (나)에서는 모두 외재적 요인에 의한 문화 변동이 나타났다.
- ④ (가), (나)에서는 모두 사회 구성원이 새로운 문화 요소를 공유하게 되었다.
- ⑤ (나)에서는 (가)와 달리 자문화의 정체성이 상실되었다.

## 02

(가), (나)에 나타난 문화 변동에 대한 분석으로 가장 적절한 것은?

(가) 일본에서 '완탕'으로 불리는, 만둣국의 일종인 '완탕'은 일본에서 조리법을 배운 요리사에 의해 우리나라에 전해져 인기를 얻고 있다. 일본식 완탕은 닭고기를 사용하여 육수를 내지만, 완탕은 우리나라 사람들의 입맛에 맞게 국수처럼 멸치와 다시마로 육수를 내고 피가 일본식보다 훨씬 얇은 것이 특징이다.

(나) 영국에서 일본으로 전래된 카레 가루는 인도의 '카리'가 기원이다. 식민지 인도를 통치했던 총독 일행이 영국으로 가져간 카리가 영국인의 입맛에 맞게 변형되어 일본에 전래되었다. 카레가 일본에서 인기를 얻으면서 카레 우동, 가츠 카레(카레 돈가스) 등 다양한 음식이 등장하였고, 기존의 우동, 돈가스와 함께 큰 사랑을 받고 있다.

- ① (가)에는 간접 전파로 인한 문화 변동의 사례가 나타나 있다.
- ② (나)에는 강제적 문화 접변의 사례가 나타나 있다.
- ③ (가)에는 (나)와 달리 문화 공존의 사례가 나타나 있다.
- ④ (나)에는 (가)와 달리 문화 동화의 사례가 나타나 있다.
- ⑤ (가), (나)에는 모두 문화 융합의 사례가 나타나 있다.

### 해결 Flow

문화 변동 요인의 개념과 특징을 파악한다.

문화 변동 요인과 함께 문화 변동 양상의 개념과 특징을 연동하여 파악한다.

### 자료 분석

(가)에는 직접 전파와 문화 융합이 나타나 있다. (나)에는 문화 융합과 문화 병존이 나타나 있다.

### 선지 분석

- ① (가)에는 직접 전파로 인한 문화 변동의 사례가 나타나 있다.
- ② (나)는 식민지 인도를 통치했던 총독 일행이 지배국인 영국으로 카리를 가져간 사례로 이는 강제적 문화 접변으로 볼 수 없다.
- ③ (가)에는 문화 융합의 사례가 나타나 있지만 문화 공존(문화 병존) 여부는 알 수 없다. (나)에는 카레 우동, 가츠 카레(카레 돈가스)가 기존의 우동, 돈가스와 함께 큰 사랑을 받고 있다고 하였으므로 문화 공존(문화 병존)의 사례가 나타나 있다.
- ④ (가), (나)에는 모두 문화 동화 사례가 없다.
- ✓ ⑤ (가)에는 완탕이, (나)에는 카레 우동과 가츠 카레(카레 돈가스)가 각각 문화 융합의 사례에 해당한다.

**01-1** 동형 문제

다음 자료에 대한 옳은 설명만을 <보기>에서 고른 것은?

- (가) 대중교통 요금 지불 시 현금만 이용하던 갑국은 을국이 개발한 전자 교통 카드 시스템을 배우고자 을국의 기술자들을 초빙하였다. 갑국은 이들을 통해 을국의 시스템을 도입하였다. 이후 갑국에서는 전자 교통 카드도 대중교통 요금 지불 수단으로 널리 사용되고 있다.
- (나) 병국이 정국을 지배하게 되면서 정국에서는 병국 언어 대신 정국 언어를 쓰자는 민족주의 운동이 일어났다. 이에 병국은 공권력을 동원하여 관공서는 물론 일상에서도 병국 언어만 쓰도록 강제하였고, 그 결과 정국에서 정국 사람들은 병국 언어만 쓰게 되었다.

보기

- ㄱ. (가)에는 내재적 요인에 의한 문화 변동이 나타났다.  
 ㄴ. (나)에는 외재적 요인에 의한 문화 변동이 나타났다.  
 ㄷ. (나)와 달리 (가)에는 간접 전파에 의한 문화 변동이 나타났다.  
 ㄹ. (가)와 달리 (나)에는 문화 변동의 양상으로 문화 동화가 나타났다.

- ① ㄱ, ㄴ                      ② ㄱ, ㄷ                      ③ ㄴ, ㄷ  
 ④ ㄴ, ㄹ                      ⑤ ㄷ, ㄹ

**01-2** 동형 문제

다음 자료에 대한 설명으로 옳은 것은?

- (가) 대중교통 요금 지불 시 현금만 이용하던 갑국은 을국이 개발한 전자 교통 카드 시스템을 배우고자 을국의 기술자들을 초빙하였다. 갑국은 ㉠이들을 통해 을국의 시스템을 도입하였다. 이후 갑국에서는 ㉡전자 교통 카드도 대중교통 요금 지불 수단으로 널리 사용되고 있다.
- (나) 병국이 정국을 지배하게 되면서 정국에서는 병국 언어 대신 정국 언어를 쓰자는 민족주의 운동이 일어났다. 이에 병국은 ㉢공권력을 동원하여 관공서는 물론 일상에서도 병국 언어만 쓰도록 강제하였고, 그 결과 정국에서 ㉣정국 사람들은 병국 언어만 쓰게 되었다.

- ① (가), (나) 모두 내재적 요인에 의한 문화 변동 사례에 해당한다.  
 ② ㉠은 매개체를 통해 간접적으로 문화 요소가 전파된 사례에 해당한다.  
 ③ ㉡은 두 문화 요소가 결합하여 새로운 제3의 문화 요소를 창조한 사례에 해당한다.  
 ④ ㉢은 필요에 따라 자발적으로 다른 사회의 문화 요소를 받아들인 사례에 해당한다.  
 ⑤ ㉣은 한 문화 요소가 다른 문화 요소에 흡수되어 정체성을 상실한 사례에 해당한다.

**02-1** 동형 문제

다음 자료에 대한 옳은 설명만을 <보기>에서 있는 대로 고른 것은?

- (가) 일본에서 '완탕'으로 불리는, 만둣국의 일종인 '완당'은 일본에서 조리법을 배운 요리사에 의해 우리나라에 전해져 인기를 얻고 있다. 일본식 완탕은 닭고기를 사용하여 육수를 내지만, 완당은 우리나라 사람들의 입맛에 맞게 국수처럼 멸치와 다시마로 육수를 내고 피가 일본식보다 훨씬 얇은 것이 특징이다.
- (나) 영국에서 일본으로 전래된 카레 가루는 인도의 '카리'가 기원이다. 식민지 인도를 통치했던 총독 일행이 영국으로 가져간 카리가 영국인의 입맛에 맞게 변형되어 일본에 전래되었다. 카레가 일본에서 인기를 얻으면서 카레 우동, 가츠 카레(카레 돈가스) 등 다양한 음식이 등장하였고, 기존의 우동, 돈가스와 함께 큰 사랑을 받고 있다.

보기

- ㄱ. (나)와 달리 (가)에는 간접 전파가 나타나 있다.  
 ㄴ. (가)와 달리 (나)에는 문화 병존의 사례가 나타나 있다.  
 ㄷ. (가), (나) 모두 문화 융합의 사례가 나타나 있다.

- ① ㄱ                              ② ㄷ                              ③ ㄱ, ㄴ  
 ④ ㄴ, ㄷ                      ⑤ ㄱ, ㄴ, ㄷ

**02-2** 동형 문제

밑줄 친 ㉠~㉣에 대한 설명으로 옳은 것은?

- (가) 일본에서 '완탕'으로 불리는, 만둣국의 일종인 '완당'은 일본에서 조리법을 배운 요리사에 의해 우리나라에 전해져 인기를 얻고 있다. 일본식 완탕은 닭고기를 사용하여 육수를 내지만, ㉠완당은 우리나라 사람들의 입맛에 맞게 ㉡국수처럼 멸치와 다시마로 육수를 내고 피가 일본식보다 훨씬 얇은 것이 특징이다.
- (나) 영국에서 일본으로 전래된 카레 가루는 인도의 '카리'가 기원이다. ㉢식민지 인도를 통치했던 총독 일행이 영국으로 가져간 카리가 영국인의 입맛에 맞게 변형되어 일본에 전래되었다. 카레가 일본에서 인기를 얻으면서 ㉣카레 우동, 가츠 카레(카레 돈가스) 등 다양한 음식이 등장하였고, ㉤기존의 우동, 돈가스와 함께 큰 사랑을 받고 있다.

- ① (나)와 달리 (가)에는 간접 전파의 사례가 나타나 있다.  
 ② ㉠은 한의원과 서양식 병원이 함께 존재하는 것과 같은 문화 변동 양상의 사례에 해당한다.  
 ③ ㉡은 강제적 문화 접변의 사례에 해당한다.  
 ④ ㉢은 문화 동화의 사례에 해당한다.  
 ⑤ ㉣, ㉤ 모두 두 문화 요소가 결합하여 새로운 제3의 문화 요소를 창조한 사례에 해당한다.

# 수능 기본 문제

## 01

A~E에 해당하는 문화 변동 요인으로 옳은 것은? (단, A~E는 각각 발명, 발견, 간접 전파, 직접 전파, 자극 전파 중 하나임.)

A와 B는 문화 변동의 내재적 요인이다. A와 달리 B는 이미 존재하는 요소를 찾아낸 것이라는 특징을 가진다. C~E는 문화 변동의 외재적 요인이다. C는 다른 문화 요소에서 아이디어를 얻거나 자극을 받아 새로운 문화 요소가 만들어지는 것이다. D와 달리 E는 매개체를 통해 문화 요소가 전달된다.

	A	B	C	D	E
①	발명	발견	직접 전파	자극 전파	간접 전파
②	발명	발견	자극 전파	간접 전파	직접 전파
③	발명	발견	자극 전파	직접 전파	간접 전파
④	발견	발명	간접 전파	자극 전파	직접 전파
⑤	발견	발명	간접 전파	직접 전파	자극 전파

## 02

(가), (나)에 나타난 문화 변동 양상에 대한 옳은 설명만을 <보기>에서 있는 대로 고른 것은?

(가) ○○군에 있는 한 성당의 외관은 한옥처럼 보이지만 내부 구조는 성당 건축에 많이 사용되는 바실리카 양식을 따르고 있다. 주로 불교 사찰에서 사용하는 범종이 성당 외부에 있으며, 그 표면에는 연꽃 대신 크리스티교의 상징인 십자가가 새겨져 있다. 또한 기와지붕에 십자가가 세워져 있어 동서양의 문화가 조화를 이룬다.

(나) △△시의 이 지역은 1883년 항구가 개항되고 이듬해 치외법권 지역으로 지정되며 형성된 곳이다. 화교 고유의 문화와 풍습을 간직한 곳으로 다양한 중국 음식과 문화를 즐길 수 있어 '한국 속 작은 중국'이라고 불린다.

〈보기〉

ㄱ. (나)에서와 달리 (가)에서는 문화 동화가 나타났다.  
 ㄴ. (가)에서와 달리 (나)에서는 문화 융합이 나타났다.  
 ㄷ. (가)와 (나)에서는 모두 외재적 요인에 의한 문화 변동 양상이 나타났다.

- ① ㄱ                      ② ㄴ                      ③ ㄷ  
 ④ ㄱ, ㄴ                ⑤ ㄱ, ㄴ, ㄷ

## 03

(가)~(다)에 나타난 문화 변동에 대한 설명으로 옳은 것은?

(가) 조선 시대에는 해외의 가톨릭 선교사들이 직접 조선에 들어와 선교 활동을 하였다. 이로 인해 조선 내 가톨릭 신자의 수가 증가하였으나 핍박을 받아 순교하는 사례도 발생하였다.

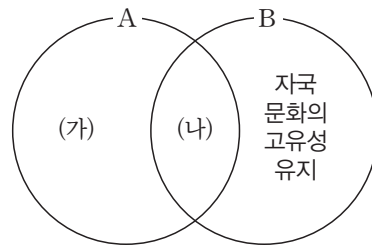
(나) 미국 로스앤젤레스에는 코리아타운이 있다. 코리아타운에서는 한국어로 제작된 간판을 단 상점을 어렵지 않게 볼 수 있다. 특히 음식점에서는 한국의 전통 음식을 맛볼 수 있을 뿐만 아니라 음식을 통해 한국 문화도 즐길 수 있다.

(다) 인터넷을 통해 한국의 K-pop(케이팝)을 접한 유럽의 청소년들이 한국 아이돌 가수의 춤을 따라 하며 즐기고 있다.

- ① (가)에는 발명에 의한 문화 변동이 나타났다.  
 ② (나)에는 발견에 의한 문화 변동이 나타났다.  
 ③ (다)에는 자극 전파에 의한 문화 변동이 나타났다.  
 ④ (나)와 달리 (가)는 문화 병존의 사례에 해당한다.  
 ⑤ (가)와 달리 (다)에는 간접 전파에 의한 문화 변동이 나타났다.

## 04

그림은 문화 변동의 양상을 나타낸 것이다. 이에 대한 옳은 설명만을 <보기>에서 고른 것은? (단, A, B는 각각 문화 융합, 문화 동화 중 하나임.)



〈보기〉

ㄱ. A는 문화 융합, B는 문화 동화이다.  
 ㄴ. (가)에는 '문화의 다양성 저해'가 들어갈 수 있다.  
 ㄷ. (나)에는 '외재적 요인에 의한 문화 변동'이 들어갈 수 없다.  
 ㄹ. '기존 문화 요소가 외래문화 요소로 완전히 대체'는 (나)가 아닌 (가)에 들어갈 수 있다.

- ① ㄱ, ㄴ                      ② ㄱ, ㄷ                      ③ ㄴ, ㄷ  
 ④ ㄴ, ㄹ                      ⑤ ㄷ, ㄹ

### 05

다음 두 사례에서 공통적으로 나타나는 문화 변동의 요인과 양상만을 <보기>에서 고른 것은?

- 갑국은 을국의 식민지 지배를 겪으면서 을국의 강압으로 갑국의 언어를 사용하지 못하였다. 이에 따라 갑국은 오랫동안 을국의 언어만을 사용하였고 결국 갑국의 언어는 사라지게 되었다.
- 병국은 전쟁 중 정국의 지원을 받았다. 병국 국민은 정국의 군대를 통해 얻은 정국의 식재료를 자신들의 전통 음식에 추가하여 □□ 찌개를 만들었다. 이후 □□ 찌개는 병국의 국민 음식으로 자리 잡았다.

**보기**

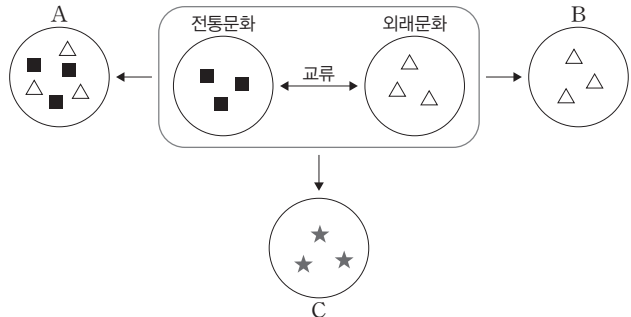
ㄱ. 문화 융합	ㄴ. 직접 전파
ㄷ. 문화 병존	ㄹ. 외재적 변동

- ① ㄱ, ㄴ                      ② ㄱ, ㄷ                      ③ ㄴ, ㄷ
- ④ ㄴ, ㄹ                      ⑤ ㄷ, ㄹ

### 06

다음 자료에 대한 설명으로 옳은 것은? (단, A~C는 각각 문화 동화, 문화 병존, 문화 융합 중 하나임.)

다음은 전통문화와 외래문화가 교류하여 나타날 수 있는 문화 변동의 양상 A~C를 나타낸 것이다. △, ■은 서로 다른 문화 요소를 의미하고, ★은 △와 ■가 결합하여 형성된 새로운 문화 요소를 나타낸다.



- ① 전통문화와 외래문화 간의 교류는 간접 전파에만 해당한다.
- ② A, B와 달리 C는 외재적 요인에 의한 문화 변동이다.
- ③ 서로 다른 문화가 교류한 후 A와 같이 문화 요소가 변동한다면 전통문화의 정체성은 상실된다.
- ④ 서로 다른 문화가 교류한 후 B와 같이 문화 요소가 변동한다면 이는 문화 융합에 해당한다.
- ⑤ 서로 다른 문화가 교류한 후 C와 같이 문화 요소가 변동한다면 전통문화의 정체성은 남아 있다.

### 07

표는 질문에 따라 문화 변동의 양상 A~C를 구분한 것이다. 이에 대한 옳은 설명만을 <보기>에서 고른 것은? (단, A~C는 각각 문화 병존, 문화 동화, 문화 융합 중 하나임.)

질문	A	B	C
북아메리카 원주민이 이주해 온 유럽인의 문화와 접촉하면서 자기 문화를 상실한 사례가 해당되는가?	아니요	예	아니요
(가)	아니요	아니요	예

**보기**

- ㄱ. 서구형 이목구비의 간다라 불상은 B의 사례에 해당한다.
- ㄴ. A, C 모두 외재적 요인에 의한 문화 접변의 결과에 해당한다.
- ㄷ. (가)가 ‘기존 문화 요소와 외래문화 요소가 결합하여 새로운 제3의 문화를 형성하는가?’이면 C는 문화 융합이다.
- ㄹ. (가)가 ‘흑인 음악과 백인 음악이 결합한 재즈의 사례가 해당되는가?’이면 A와 달리 C는 문화의 다양성을 저해한다.

- ① ㄱ, ㄴ                      ② ㄱ, ㄷ                      ③ ㄴ, ㄷ
- ④ ㄴ, ㄹ                      ⑤ ㄷ, ㄹ

### 08

(가)에 들어갈 수 있는 내용으로 가장 적절한 것은?



○ 우리나라 전통 줄다리기

교사: 위 사진은 우리나라의 전통적인 줄다리기의 모습입니다. 이와 같은 전통문화의 기능에 대해 발표해 볼까요?

답: \_\_\_\_\_ (가)

교사: 좋게 발표하였습니다.

- ① 사회 구성원의 유대감을 강화합니다.
- ② 문화 산업 육성에 기여하지 못합니다.
- ③ 문화 정체성이 상실될 우려가 큼니다.
- ④ 국가의 이미지 개선에 도움이 되지 않습니다.
- ⑤ 세계 문화의 다양성 증진에 기여하지 못합니다.

# 1등급 완성 문제



## 01

(가)에 들어갈 수 있는 답변으로 옳은 것은?

교사: 문화 변동의 요인에는 여러 가지가 있습니다. ㉠발견과 ㉡발명, ㉢직접 전파와 ㉣간접 전파 그리고 ㉤자극 전파입니다. 이에 대해 발표해 볼까요?

갑: \_\_\_\_\_ (가)

교사: 옳게 발표하였습니다.

- ① ㉠은 문화 변동의 외재적 요인에 해당합니다.
- ② 지하자원을 찾아낸 것은 ㉢의 사례에 해당합니다.
- ③ 동영상 플랫폼을 통해 전파된 콘텐츠는 ㉣에 해당합니다.
- ④ 문익점이 원나라에서 고려로 목화씨를 들여온 사례는 ㉤에 해당합니다.
- ⑤ 한자의 영향을 받아 만들어진 이두의 사례는 ㉤에 해당합니다.

## 02

(가)~(다)에 해당하는 문화 변동의 양상으로 옳은 것은? (단, (가)~(다)는 각각 문화 병존, 문화 융합, 문화 동화 중 하나임.)

(가) 우리나라에는 불교, 그리스도교, 유교 등 다양한 종교가 공존하고 있다.

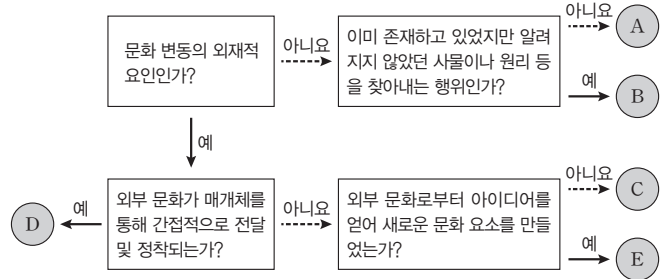
(나) 브라질은 포르투갈의 지배를 받으며 국민의 대부분이 가톨릭을 믿게 되었고, 전통 신앙이 사라졌다.

(다) 대한성공회 강화성당은 우리나라의 전통적인 한옥 양식과 서양의 기독교 양식이 결합하여 새로운 형태로 만들어졌다.

- |   | (가)   | (나)   | (다)   |
|---|-------|-------|-------|
| ① | 문화 병존 | 문화 융합 | 문화 동화 |
| ② | 문화 병존 | 문화 동화 | 문화 융합 |
| ③ | 문화 동화 | 문화 병존 | 문화 융합 |
| ④ | 문화 융합 | 문화 동화 | 문화 병존 |
| ⑤ | 문화 융합 | 문화 병존 | 문화 동화 |

## 03

문화 변동의 요인 A~E에 대한 설명으로 옳은 것은? (단, A~E는 각각 발견, 발명, 자극 전파, 직접 전파, 간접 전파 중 하나임.)



- ① B와 달리 A는 내재적 요인에 해당한다.
- ② 자동차는 A가 아닌 B의 사례에 해당한다.
- ③ 인터넷을 통한 K-pop(케이팝) 문화의 확산은 C의 사례에 해당한다.
- ④ 선교 활동에 의한 크리스티교 문화의 전파는 D의 사례에 해당한다.
- ⑤ 영어의 알파벳에서 착안하여 제작한 체로키 문자는 E의 사례에 해당한다.

## 04

(가)~(다)의 문화 변동에 대한 옳은 설명만을 <보기>에서 있는 대로 고른 것은?

(가) 싱가포르의 여러 민족이 함께 살아가는 도시 국가이다. 그들은 그리스도교, 불교, 이슬람교, 힌두교 4개의 종교를 모두 존중하며 각 종교와 관련된 공휴일이 존재한다.

(나) 멕시코의 과달루페 성모상은 멕시코 원주민의 모습과 유사하게 검은 머리와 갈색 피부를 지니고 있다. 이는 유럽의 문화와 멕시코 원주민의 문화가 결합되었음을 의미한다.

(다) 미국과 캐나다의 정부 및 종교 기관에서 운영한 아메리카 원주민 기숙 학교에서는 아메리카 원주민의 자녀를 부모와 강제로 분리하고 원주민의 언어 사용을 금지하였다. 이에 아메리카 원주민 고유의 언어가 사라지게 되었다.

보기

- ㄱ. (나)와 달리 (가)에서는 기존 문화 요소의 정체성을 유지하고 있다.
- ㄴ. (다)와 달리 (나)에서는 기존 문화 요소가 사라지는 현상이 나타나고 있다.
- ㄷ. (가)와 달리 (다)에서는 강제적 문화 접변에 의한 문화 변동이 나타나고 있다.
- ㄹ. (가), (나)와 달리 (다)에서는 기존 문화 요소가 외래문화 요소로 대체되는 현상이 나타나고 있다.

- ① ㄱ, ㄴ
- ② ㄱ, ㄷ
- ③ ㄷ, ㄹ
- ④ ㄱ, ㄴ, ㄹ
- ⑤ ㄴ, ㄷ, ㄹ

## 05

표는 질문에 따라 문화 변동의 양상 A~C를 구분한 것이다. 이에 대한 설명으로 옳지 않은 것은? (단, A~C는 각각 문화 동화, 문화 병존, 문화 융합 중 하나임.)

질문	A	B	C
전통문화 요소와 외래문화 요소가 문화 체계 속에서 나란히 존재하는가?	아니요	아니요	예
문화 다양성을 저해하는가?	예	아니요	아니요
(가)	아니요	예	예

- ① A는 문화 동화, B는 문화 융합, C는 문화 병존이다.
- ② A는 직접 전파와 간접 전파 각각에 의해 나타날 수 있다.
- ③ A~C 모두 문화 변동의 외재적 요인에 의해 나타난다.
- ④ (가)에는 '자문화 요소의 성격을 지니는가?'가 들어갈 수 없다.
- ⑤ (가)에는 '외래문화의 수용에 의해 나타나는가?'가 들어갈 수 없다.

## 06

다음 자료에 대한 옳은 설명만을 <보기>에서 있는 대로 고른 것은? (단, ㉠, ㉡은 각각 발명, 발견 중 하나임.)

(가) 인류의 역사에서 가장 혁명적인 사건 중 하나는 ㉠불을 사용하게 된 것이다. 불은 추위로부터 인간을 보호하였고 음식물의 조리를 가능하게 하여 인간의 생명을 연장시켰다. 또한 불은 맹수의 침입과 공격을 막는 무기가 되는 동시에 어둠을 밝힘으로써 인간이 사회적 활동을 할 수 있는 시간을 늘렸다.

(나) 제임스 와트가 개량한 ㉡증기 기관은 산업 혁명의 원동력이 되었다. 이전에는 사람의 손을 거쳐야 했던 일을 증기 기관이 대체하면서 물자의 대량 생산이 가능해졌다. 증기 기관을 활용한 증기 기관차, 증기 자동차, 증기선 등이 등장하여 사람과 물자의 이동 시간이 빨라졌고, 이는 당시 인간의 생활 양식을 획기적으로 변모시켰다.

### 보기

- ㉠. ㉠은 이미 존재하였으나 알려지지 않았던 원리를 찾아내는 행위에 해당한다.
- ㉡. ㉡은 이전에 없던 새로운 것을 만들어 내는 행위에 해당한다.
- ㉢. (나)와 달리 (가)에는 간접 전파가 나타났다.
- ㉣. (가), (나)에서는 모두 다른 문화 체계와의 접촉을 통한 문화 변동이 나타났다.

- ① ㉠, ㉡                      ② ㉠, ㉢                      ③ ㉡, ㉣
- ④ ㉠, ㉡, ㉢                ⑤ ㉡, ㉢, ㉣

## 07

다음 자료에 대한 옳은 설명만을 <보기>에서 있는 대로 고른 것은?

교사: (가)~(다)는 문화 변동의 양상을 나타냅니다. A는 전통문화 요소이고 B는 외래문화 요소이며 C는 제3의 문화 요소입니다. '+'는 '교류'를 의미하고 '→'는 '결과'를 의미합니다. 이에 대해 발표해 볼까요?

- (가) A + B → B
- (나) A + B → C
- (다) A + B → A, B

갑: (가)~(다)는 모두 외재적 요인에 의한 문화 변동의 양상입니다.

을:

교사: 갑과 을 중에서 한 명만 옳게 답변하였습니다.

### 보기

- ㉠. (가)는 문화 병존, (나)는 문화 융합, (다)는 문화 동화이다.
- ㉡. ㉠에는 '(가)는 강제적 문화 접변으로 나타날 수 없습니다.'라는 답변이 들어갈 수 없다.
- ㉢. ㉠에는 '한국의 차이나타운은 (다)가 아닌 (나)의 사례입니다.'라는 답변이 들어갈 수 있다.
- ㉣. ㉠에는 '(가)와 달리 (나), (다)는 A의 성격이 상실되지 않습니다.'라는 답변이 들어갈 수 없다.

- ① ㉠, ㉡                      ② ㉠, ㉢                      ③ ㉡, ㉣
- ④ ㉠, ㉡, ㉢                ⑤ ㉡, ㉢, ㉣

## 08

(가)에 들어갈 수 있는 내용으로 가장 적절한 것은?

교사: 다음 1~3에서 공통적으로 파악할 수 있는 내용에 대해 발표해 볼까요?

1. 전통문화를 현대적으로 재해석함.
2. 새로운 문화 요소와의 조화를 위해 전통문화를 재구성함.
3. 외래문화의 무분별한 수용을 경계하는 비판적 수용을 통해 전통문화와의 조화를 추구함.

갑:

교사: 옳게 답변하였습니다.

- ① 전통문화의 역기능을 파악해야 한다는 것입니다.
- ② 전통문화를 맹목적으로 추종해야 한다는 것입니다.
- ③ 전통문화를 외래문화로 대체해야 한다는 것입니다.
- ④ 전통문화를 창조적으로 계승해야 한다는 것입니다.
- ⑤ 전통문화를 원형 그대로 고수해야 한다는 것입니다.

# 06

## 문화 상대주의와 보편 윤리 및 다문화 사회

### 1 문화 상대주의와 보편 윤리

#### 01 문화적 차이가 나타나는 까닭

1. 문화의 다양성: 각 사회마다 의식주와 언어, 법과 관습, 종교와 도덕에 대한 관념 등 문화는 다양하게 나타남.

#### 2. 문화적 차이 발생 요인

- (1) 자연환경의 차이: 각 사회는 서로 다른 자연환경에 적응하는 과정에서 저마다 독특한 생활 방식을 형성하고 그에 따른 문화를 가지게 됨.
- (2) 인문환경의 차이: 각 사회 구성원이 공유하는 인문환경에 따라 다른 문화와 구분되는 문화가 나타나기도 함.

#### 02 문화적 차이를 바라보는 태도 자료 01 자료 02

##### 1. 자문화 중심주의

의미	자기 문화만을 우수하다고 보고 다른 사회의 문화를 열등하다고 평가 절하하는 태도 <small>예 중국어 중화사상</small>
순기능	• 자기 문화의 정체성과 정체성을 유지하는 데 유리함. • 자기 문화에 대한 자부심을 강화하여 사회 통합에 기여할 수 있음. <small>(TIP) 다른 민족이나 국가의 문화를 열등하다고 여겨 자기 민족이나 국가의 문화만 고수하려는 태도를 의미함.</small>
역기능	• <b>국수주의</b> 를 초래하여 국제적 고립을 야기할 수 있음. • <b>문화 제국주의</b> 를 정당화하는 근거가 되어 문화적인 마찰을 발생시킬 수 있음.

(TIP) 다른 나라에 자기 문화를 강제로 이식하려는 태도를 의미함.

##### 2. 문화 상대주의

의미	특정 사회의 문화를 우수하다고 보고 자기 문화를 열등하다고 평가 절하하는 태도
순기능	• 외부의 선진 문물을 수용하는 데 개방적임. • 자기 문화의 낙후성을 개선하는 데 기여할 수 있음.
역기능	• 자기 문화의 정체성과 정체성을 상실할 우려가 있음. • 다른 사회의 문화에 대한 비판적 수용을 어렵게 함.

##### 3. 문화 상대주의

의미	각 사회의 문화가 만들어진 자연환경, 사회적 배경, 역사적 맥락, 사회 구성원이 공유하는 의미 등을 바탕으로 문화를 이해하는 태도
필요성	• 서로 다른 문화를 편견 없이 올바르게 이해할 수 있음. • 각 사회의 문화가 갖는 고유한 의미와 가치를 인정하고 존중하여 문화의 다양성 보존에 기여함.
한계	• 극단적 문화 상대주의: 문화 상대주의를 극단적으로 적용하여 인류의 보편적 가치를 훼손하는 문화까지 고유한 의미와 가치가 있다고 인정하는 태도 • 극단적 문화 상대주의의 사례: 식인, 명예 살인, 이슬람 무장 단체의 테러 등을 고유한 의미를 지닌 문화로 인정함.

#### 03 보편 윤리와 문화 성찰 자료 03

1. 보편 윤리: 시대와 장소를 초월하여 **모든 인간에게 타당하다고 인정되는 보편적인 윤리 규범**

(TIP) 인간 존엄성, 생명 존중, 자유, 평등, 평화, 정의 등이 이에 속함.

#### 2. 보편 윤리에 근거한 문화 성찰의 필요성

- (1) 극단적 문화 상대주의를 지양하는 데 도움을 줌.
- (2) 자기 문화와 다른 문화에 존재하는 윤리적 문제점을 발견하고 개선할 수 있는 계기를 제공함.  
(TIP) 문화 성찰을 통해 문화의 질적 발전을 실현할 수 있어.

### 2 다문화 사회와 문화적 다양성 존중

#### 01 다문화 사회의 현황

- 1. 다문화 사회의 의미: 다양한 인종, 종교, 언어 등 서로 다른 문화적 배경을 가진 사람들이 함께 어우러져 살아가는 사회
- 2. 다문화 사회의 등장 배경: 교통·통신의 발달과 세계화의 영향으로 **국제적인 인구 이동이 증가하면서** 이질적인 문화 유입  
(TIP) 취업, 결혼, 학업 등을 위해 이주하는 사람들이 증가하여.
- 3. 우리나라 다문화 사회의 현황: 국제결혼 이주민, **이주 배경 청소년**, 외국인 근로자, 유학생, 북한 이탈 주민 등이 증가하면서 다문화 사회로 진입  
(TIP) 부모 혹은 본인이 이주 경험을 지닌 9세에서 24세 이하의 연령에 속하는 사람을 의미함.
- 4. 다문화 사회의 긍정적 측면

- (1) 다양한 문화적 경험: 새롭게 유입된 문화에 대한 지식의 확장, 편견과 고정 관념 약화, 관용적이고 개방적인 사고 형성, 다양한 문화적 자극을 통한 문화 발전의 촉진
- (2) 경제 발전: 여러 산업 분야에 우수한 인력 유입, 저출생·고령화로 인한 노동력 부족 문제 완화에 도움

#### 02 다문화 사회의 갈등과 해결 방안 자료 04

##### 1. 다문화 사회의 갈등 원인

문화적 차이	• 언어, 가치관, 생활양식 등 문화적 차이에 대한 지식과 이해의 부족으로 갈등 발생 • 자문화 중심주의는 다문화 사회의 공존을 위협
편견과 차별	편견과 고정 관념은 국가, 인종, 종교 등에 대한 사회·문화적 차별로 이어져 갈등 심화

##### 2. 다문화 사회의 갈등 해결 방안

개인적 차원	• 관용의 자세와 문화 상대주의적 태도 함양 • 편견과 차별적인 태도 지양
사회적 차원	• 다문화 사회를 지원하는 법과 제도의 마련 • 편견과 고정 관념을 없애기 위한 다문화 교육 강화

##### 3. 다문화 사회의 이민자 정책

동화주의	• 이민자가 출신 국가의 문화적 특성을 포기하고 주류 사회의 구성원이 되는 것을 목표로 함. <small>예</small> 용광로 정책 • 이민자가 주류 문화로 자연스럽게 동화되어 주류 사회의 언어와 문화, 사회적 가치 등을 받아들일도록 함.
다문화주의	• 이민자가 출신 국가의 문화적 특성을 유지하면서 사회의 구성원으로 살아가 수 있도록 이민자 집단의 문화 고유성을 인정하고 다양한 문화의 공존을 추구함. <small>예</small> 샐러드 볼 정책 • 주류 문화와 비주류 문화의 구분 없이 여러 문화가 대등하게 공존하도록 함.

# 중요 자료 분석

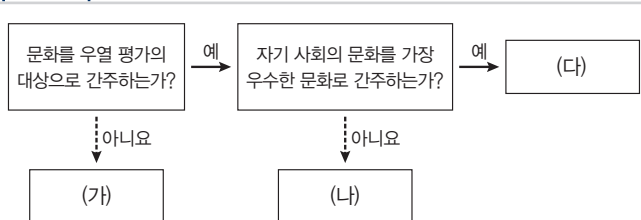
## 자료 01 문화 이해의 태도(1)

**교사:** 고산 지대에 사는 ○○족은 수년에 한 번 대규모로 돼지를 도축하는 △△ 축제를 벌입니다. 이에 대해 자신의 의견을 이야기해 봅시다.  
**갑:** 과도하게 증가한 돼지의 개체 수가 ○○족의 생존 기반이 되는 경작지를 위협하기 때문에 대규모로 돼지를 도축하는 것입니다. 이 축제는 부족의 생존에 필요한 적정 규모의 경작지를 확보하기 위한 그들만의 방법이라고 생각합니다.  
**을:** ○○족이 축제를 위해 돼지 전체 개체 수의 4분의 3을 도축하는 것은 야만적인 행위입니다. 도축한 돼지를 먹기 위해 요리하는 과정 역시 우리나라의 위생 관념에 비추어 보았을 때 불결하다고 생각합니다.  
**병:** ○○족의 축제가 단백질을 얻기 위한 그들만의 방법임을 인정해야 합니다. 하지만 그 축제가 다수의 사람들이 소중하게 생각하는 생명 존중의 가치를 훼손하지 않는지 생각해 봐야 합니다.

**자료 분석** ○○족의 △△ 축제에 대해 갑은 문화 상대주의, 을은 자문화 중심주의, 병은 보편 윤리를 중시하며 극단적 문화 상대주의를 경계하는 태도를 보이고 있다. 문화 상대주의는 각 사회의 문화는 고유한 의미와 가치를 지니고 있으므로 이를 인정하고 이해해야 한다고 보는 태도이지만, 모든 문화를 무조건 이해하고 존중해야 하는 것은 아니다. 문화의 특수성과 상대성을 지나치게 강조할 경우 극단적 문화 상대주의로 흐를 수 있기 때문이다. 그러므로 우리는 보편 윤리의 관점에서 타 문화뿐만 아니라 자문화도 성찰할 필요가 있다.

- (1) 을은 인류의 보편적 가치를 훼손하는 문화까지 고유한 의미와 가치가 있다고 보고 인정하는 태도를 보인다. (○,×)
- (2) 병은 시대와 사회를 초월하여 모든 사람이 존중하고 따라야 할 행위의 원칙을 강조하는 태도를 보인다. (○,×)

## 자료 02 문화 이해의 태도(2)



**자료 분석** (가)는 문화 상대주의, (나)는 문화 사대주의, (다)는 자문화 중심주의이다. 문화를 이해하는 태도는 문화를 우열 평가의 대상으로 간주하는지 여부에 따라 구분될 수 있다. 자문화 중심주의와 문화 사대주의는 공통적으로 절대적인 기준에 따라 문화의 우열을 평가할 수 있다고 여긴다. 이와 달리 문화 상대주의는 절대적인 기준에 따라 서로 다른 문화의 우열을 평가하려는 시도를 거부한다.

- (1) 다른 사회의 문화를 동경하고 자기 문화를 비하하는 태도는 (나)에 해당한다. (○,×)
- (2) (다)는 각 사회의 문화가 갖는 고유한 가치를 인정함으로써 문화적 다양성을 보존하는 데 기여한다. (○,×)

→(비판) 황금률이란 '다른 사람이 너에게 해 주었으면 하는 행위를 다른 사람에게 하라.'라는 보편 윤리 원칙으로 여러 종교와 도덕 철학에서 찾아볼 수 있어.

## 자료 03 다양한 종교에 담긴 황금률

크리스트교	"남이 너에게 해 주기를 바라는 대로 너도 다른 사람을 대하라." - 「성경」
이슬람교	"나를 위하는 만큼 남을 위하지 않는 사람은 신앙인이 아니다." - 「쿠란」
힌두교	"너에게 고통스러운 일을 다른 사람에게 강요하지 마라." - 「마하바라타」
불교	"어떤 일로 고통받은 적이 있다면 그 방식으로 남에게 상처를 주지 마라." - 「우다나바라기」
유교	"네가 원하지 않는 바를 남에게 행하지 마라." - 「논어」
유대교	"너에게 해로운 일을 이웃에게 행하지 마라." - 「탈무드」

**자료 분석** 보편 윤리란 '무고한 사람을 살해하면 안 된다', '남의 물건을 훔치지 마라.'와 같이 시대와 장소를 초월하여 모든 사람이 따라야 할 행위의 원칙을 말한다. 보편 윤리의 관점에서 문화를 성찰하지 않으면 사회 구성원의 인간다운 삶을 침해하는 문화를 비판하거나 개선을 요구할 수 없고, 나아가 인류 문화의 발전을 기대하기도 어렵다.

- (1) 보편 윤리에 근거하여 문화를 성찰해야 한다. (○,×)
- (2) 인권, 자유, 평등과 같은 보편 윤리의 차원에서만 문화를 바라보아야 한다. (○,×)

## 자료 04 다문화 사회의 이민자 정책

(가)	금, 철, 구리 등 서로 다른 여러 물질을 용광로에 넣으면 모두 녹아 하나가 되는 것처럼, 이민자의 문화가 주류 문화에 완전히 동화하는 것을 지향하는 정책이다. 이 정책에 따르면 주류 사회의 문화나 가치를 중심으로 사회 통합과 질서를 유지하는 데 용이하다는 장점이 있지만, 다양한 문화의 정체성이 상실될 수 있다는 한계가 있다.
(나)	다양한 재료가 섞여도 재료 본연의 맛을 유지하는 샐러드 볼처럼 한 국가 안에서도 주류 문화뿐만 아니라 비주류 문화나 소수 문화가 함께 어울리며 공존하는 것을 지향하는 정책이다. 이 정책에 따르면 다양한 문화가 정체성을 유지하여 문화의 다양성에 기여하는 장점이 있지만, 사회 통합을 약화할 수 있다는 한계가 있다.

**자료 분석** (가)는 용광로 정책, (나)는 샐러드 볼 정책이다. 용광로 정책은 미국을 중심으로 다양한 인종과 문화를 흡수하기 위한 개념으로 사용되었다. 미국은 거대한 용광로를 의미하며 이민자를 상징하는 철광석을 용광로에 녹여 통합된 하나의 미국을 추구하였다. 하지만 1960년대 이후 시민권 운동과 더불어 인종 차별 및 불평등 문제가 잇따르면서 문화적 다양성, 개인의 정체성, 상호 존중과 공존을 중심으로 하는 샐러드 볼 정책이 제기되었다.

- (1) 이민자의 문화가 주류 문화에 동화해야 한다고 보는 입장은 (나)에 해당한다. (○,×)
- (2) 다문화 사회의 갈등을 해결하기 위해서는 문화적 차이가 발생해도 이를 존중하는 관용의 자세가 필요하다. (○,×)

## 01

다음 대화에서 갑~병의 입장에 대한 설명으로 옳은 것은?

**갑:** A 국은 여성이 부모의 허락 없이 혼인하는 행위를 가족의 명예를 훼손하는 것으로 간주하여 금지합니다. 이에 반해 우리나라에서는 혼인의 자유와 같은 개인의 권리를 헌법상 기본권으로 보장하고 있습니다. A 국은 후진적인 자신의 문화를 버리고 우리나라를 본받아야 합니다.

**을:** 저는 갑의 입장에 동의하지 않습니다. 문화는 그 문화가 형성된 사회의 맥락 속에서 이해해야 합니다. 부모의 권위에 대한 가족 구성원들의 복종을 바탕으로 사회 질서를 유지해 온 A 국의 전통을 고려하면 혼인에 대한 개인의 결정권을 허용하지 않는 A 국의 문화도 당연히 존중받아야 합니다.

**병:** 저는 을과 생각이 다릅니다. 배우자 선택의 문제는 인권의 관점에서 접근해야 합니다. 인권은 누구나 태어나면서부터 갖게 되는 당연한 권리로 개별 사회나 국가를 초월하여 반드시 지켜져야 합니다. 이러한 기준에 비추어 각 사회의 문화를 성찰하는 태도가 필요합니다.

- ① 갑은 모든 문화의 고유한 가치를 존중해야 한다고 본다.
- ② 을은 자기 문화를 기준으로 타 문화를 평가해야 한다고 본다.
- ③ 병은 보편적으로 지켜야 할 가치나 원리가 존재한다고 본다.
- ④ 갑과 달리 병은 인권이 헌법을 통해 보장되어야 한다고 본다.
- ⑤ 갑, 을, 병 모두 인권의 불가침성을 강조한다.

### 해결 Flow

문화를 이해하는 갑~병의 태도를 파악한다.

각 선지에서 언급하는 내용이 갑~병의 태도에 부합하는지 판단한다.

### 자료 분석

갑은 A 국이 후진적인 자신의 문화를 버리고 우리나라를 본받아야 한다고 보므로 자문화 중심주의의 태도를 가진다. 을은 혼인에 대한 개인의 결정권을 허용하지 않는 A 국의 문화도 존중받아야 한다고 보므로 극단적 문화 상대주의의 태도를 가진다. 한편 병은 보편 윤리 관점에 기초하여 문화를 바라보고 있다.

### 선지 분석

- ① 모든 문화의 고유한 가치를 존중해야 한다고 보는 것은 을의 입장이다.
- ② 자기 문화를 기준으로 타 문화를 평가해야 한다고 보는 것은 갑의 입장이다.
- ✓ ③ 병은 인권이 개별 사회나 국가를 초월하여 반드시 지켜져야 한다고 보므로 인권의 보편성을 강조하고 있다. 따라서 보편적으로 지켜야 할 가치나 원리가 존재한다고 본다.
- ④ 개인의 권리가 헌법을 통해 보장되고 있음을 언급한 것은 갑이다.
- ⑤ 을은 인권보다는 전통문화의 존중을 더 강조하므로 인권의 불가침성을 강조한다고 보기 어렵다.

## 02

다음 글의 관점에 부합하는 진술에만 모두 'V'를 표시한 학생은?

문화를 올바르게 이해하려면 각 문화의 고유한 의미와 가치를 존중하면서도 인간 존엄성 등을 기준으로 하는 보편 윤리의 차원에서 성찰해야 한다.

진술	학생	갑	을	병	정	무
(1) 극단적 문화 상대주의는 경계해야 한다.		✓			✓	✓
(2) 자국의 문화도 비판과 성찰을 해야 한다.		✓	✓		✓	
(3) 다른 문화에 대해서 항상 배타적인 태도를 가져야 한다.			✓	✓		✓
(4) 가족의 명예를 실추시켰다는 이유로 가족 구성원을 살해하는 문화도 수용해야 한다.				✓	✓	✓

- ① 갑      ② 을      ③ 병      ④ 정      ⑤ 무

### 해결 Flow

제시문에서 보편 윤리에 근거한 성찰을 강조하고 있음을 파악한다.

갑~무 중 보편 윤리의 원칙에서 문화를 일관되게 성찰하고 있는 학생을 고른다.

### 자료 분석

제시문에서는 문화를 올바르게 이해하기 위해 보편 윤리 차원에서 문화를 성찰해야 함을 강조하고 있다. 보편 윤리에 근거한 문화 성찰은 극단적 문화 상대주의를 지양하고 자문화와 타 문화의 윤리적 문제점을 발견하여 개선할 수 있는 계기를 제공한다.

### 선지 분석

- (1) 보편 윤리 차원에서 문화를 이해할 때, 극단적 문화 상대주의는 경계해야 한다. ▶ **갑, 정, 무**
- (2) 다른 문화뿐만 아니라 자기 문화에 대해서도 비판과 성찰의 태도를 가져야 한다. ▶ **갑, 을, 정**
- (3) 다른 문화에 대해서 항상 배타적인 태도가 아니라 문화의 고유한 의미와 가치를 존중하는 태도를 가져야 한다. ▶ **갑, 정**
- (4) 가족의 명예를 실추시켰다는 이유로 가족 구성원을 살해하는 문화는 인류의 보편적 가치인 생명과 인간의 존엄성을 훼손하므로 수용해서는 안 된다. ▶ **갑, 을**

**01-1** 동형 문제

다음 대화에서 갑~병의 입장에 대한 설명으로 옳은 것은?

**갑:** A 국은 여성이 부모의 허락 없이 혼인하는 행위를 가족의 명예를 훼손하는 것으로 간주하여 금지합니다. 이에 반해 우리나라에서는 혼인의 자유와 같은 개인의 권리를 헌법상 기본권으로 보장하고 있습니다. A 국은 후진적인 자신의 문화를 버리고 우리나라를 본받아야 합니다.

**을:** 저는 갑의 입장에 동의하지 않습니다. 문화는 그 문화가 형성된 사회의 맥락 속에서 이해해야 합니다. 부모의 권위에 대한 가족 구성원의 복종을 바탕으로 사회 질서를 유지해 온 A 국의 전통을 고려하면 혼인에 대한 개인의 결정권을 허용하지 않는 A 국의 문화도 당연히 존중받아야 합니다.

**병:** 저는 을과 생각이 다릅니다. 배우자 선택의 문제는 인권에 관한 것으로 이는 누구나 태어나면서부터 갖게 되는 당연한 권리이며 개별 사회나 국가를 초월하여 반드시 지켜져야 합니다. 이러한 기준에 비추어 각 사회의 문화를 성찰하는 태도가 필요합니다.

- ① 갑은 문화가 형성되는 맥락의 이해를 중시한다.
- ② 을은 자기 문화의 정체성을 상실할 우려가 있다.
- ③ 병은 국가를 초월한 보편적 기준을 가지고 문화에 접근해야 한다고 주장하고 있다.
- ④ 을은 갑과 달리 국수주의에 빠질 우려가 있다.
- ⑤ 을은 갑과 달리 문화의 보편적 기준을 강조하며 개인의 권리를 옹호하고 있다.

**01-2** 통합형

다음 대화에서 갑, 을이 지닌 문화 이해 태도에 대한 설명으로 옳은 것은?

**갑:** 사티는 남편이 죽으면 그의 장례에 따라 자발적으로 또는 강제로 아내를 함께 화장시키는 인도의 풍습입니다. 이런 미개하고 비인간적인 문화는 더 이상 용납되어서는 안 되며, 인도도 우리나라처럼 인권과 평등을 중시하는 문화를 받아들여야 합니다.

**을:** 사티는 인도 전통 사회의 종교적 신념과 가족 중심 가치관 속에서 형성된 풍습입니다. 우리가 낯설게 느낀다고 해서 함부로 단정할 것이 아니라, 해당 풍습이 지닌 역사적·사회적 맥락을 고려해야 합니다.

- ① 갑의 태도는 문화를 평가가 아닌 이해의 대상으로 바라본다.
- ② 을의 태도는 문화 제국주의로 변질될 수 있다는 비판을 받는다.
- ③ 갑의 태도는 을의 태도와 달리 타 문화에 대한 긍정적 인식에서 비롯된다.
- ④ 을의 태도는 갑의 태도와 달리 각 사회의 문화가 동등한 가치를 지닌다고 본다.
- ⑤ 갑, 을이 언급하고 있는 국가가 속한 문화권에서는 여러 종교 중 이슬람교 신자의 비율이 가장 높다.

**02-1** 동형 문제

다음 글의 관점에 부합하는 진술에만 모두 'V'를 표시한 학생은?

문화를 올바르게 이해하려면 각 문화의 고유한 의미와 가치를 존중하면서도 인간 존엄성 등을 기준으로 하는 보편 윤리의 차원에서 성찰해야 한다.

진술	학생	갑	을	병	정	무
(1) 문화 상대주의가 인권 침해를 정당화하는 수단 이 되어서는 안 된다.		✓			✓	✓
(2) 자기 문화는 절대적 기준이 아니므로 성찰적으로 바라보아야 한다.		✓	✓		✓	
(3) 자기 문화의 정체성 유지를 위해 이질적인 문화에 대해서는 거부하거나 배척할 필요가 있다.			✓	✓		✓
(4) 한 사회의 전통이 해당 사회 구성원 개인의 자유를 침해하여도 그 나라 고유의 문화이므로 존중해야 한다.				✓	✓	✓

- ① 갑      ② 을      ③ 병      ④ 정      ⑤ 무

**02-2** 통합형

다음 자료에 대한 설명으로 옳은 것은?

**교사:** ㉠ 전족은 송나라 때 시작되어 ㉡ 명·청나라 시대에 유행하였던 것으로, 여성의 발을 천으로 꿰뚫 동여매어 성장을 멈추게 하는 풍습입니다. 이로 인해 정상적으로 자라지 못한 여성의 발은 뼈가 부러지거나 근육이 오그라들었습니다. 이 사례의 문제점을 ㉢ 보편 윤리의 차원에서 비판해 볼까요?

**학생:** \_\_\_\_\_ (가)

**교사:** 옳게 발표하였습니다.

- ① ㉠은 문화 변동의 요인 중 발전에 해당한다.
- ② ㉡이 속한 문화권에서는 오아시스 농업이나 관개 농업이 발달하였다.
- ③ ㉢은 시대와 사회의 특성에 따라 각 사회 구성원들이 따라야 할 행위의 원칙을 의미한다.
- ④ (가)에는 '전족은 해당 사회의 역사적 맥락을 고려하여 이해할 필요가 있습니다.'가 들어갈 수 있다.
- ⑤ (가)에는 '전족은 인간의 존엄성을 훼손하는 문화이므로 보편 윤리에 어긋납니다.'가 들어갈 수 있다.

# 수능 기본 문제

## 01

다음 자료에 대한 설명으로 옳은 것은?

교사: 지난 시간에 배운 문화 이해의 태도 중 A의 태도로 문화를 바라볼 때 발생할 수 있는 문제점에 대해 발표해 보세요.  
 갑: 자기 나라의 역사나 문화에 대한 우월감을 바탕으로 다른 나라의 역사, 문화 등을 배척하는 경우가 나타납니다.  
 을: 타 문화에 대한 올바른 이해와 수용이 어려울 수 있습니다.  
 교사: 둘 다 옳게 발표하였습니다.

- ① A는 문화 상대주의이다.
- ② A는 문화에 대한 우열 비교가 가능하다고 본다.
- ③ 갑은 A로 인해 자문화의 정체성이 약화된다고 본다.
- ④ 을은 A가 국수주의에 빠질 가능성에 초점을 두고 있다.
- ⑤ 갑, 을 모두 극단적 문화 상대주의의 문제점을 제시하고 있다.

## 02

표는 문화 이해의 태도 A~C를 질문에 따라 구분한 것이다. 이에 대한 설명으로 옳은 것은? (단, A~C는 각각 문화 상대주의, 문화 상대주의, 자문화 중심주의 중 하나임.)

구분	A	B	C
자문화의 정체성이 약화될 우려가 높은가?	아니요	아니요	예
문화를 평가가 아닌 이해의 대상으로 보는가?	예	아니요	아니요
(가)	아니요	예	아니요

- ① A는 문화 상대주의이다.
- ② B는 국수주의를 초래할 가능성이 낮다.
- ③ A는 B에 비해 타 문화에 대한 거부감이 강하다.
- ④ B는 C와 달리 자문화에 대한 객관적 이해에 기여한다.
- ⑤ (가)에는 '문화 절대주의적 시각에서 문화를 바라보는가?'가 들어갈 수 있다.

## 03 통합형

다음 자료에 대한 설명으로 옳지 않은 것은?

갑은 아프리카 북부 지역에 위치해 있고 무슬림의 비율이 높은 ○○국 사람들이 돼지고기를 먹지 않는 이유를 이해하고자 하였다. 이에 따라 ○○국의 자연환경, 정치, 경제, 종교 등이 문화 요소와 어떤 관련이 있는지 조사하였다. 이러한 갑의 문화 이해 태도는 A에 해당한다.

- ① A는 문화의 다양성을 보존하는 데 기여한다.
- ② A는 문화 간의 우열을 나누는 것을 경계한다.
- ③ A는 다른 문화에 대한 부정적인 태도를 갖게 한다.
- ④ A를 통해 해당 문화를 향유하는 입장에서 문화를 이해할 수 있다.
- ⑤ ○○국이 속한 문화권에서는 주로 유목과 오아시스 농업이 이루어진다.

## 04

다음 대화에서 문화를 이해하는 을의 태도에 대한 비판으로 가장 적절한 것은?

갑: ○○국의 가정에서는 경제적 사정이 어렵다 보니 딸을 학교에 보내는 대신 일찍 결혼을 시키고, 신랑 측이 주는 지침금을 가정 살림에 보태는 경우가 많다고 해. ○○국의 여자아이 3명 중 1명은 18세 이전에 결혼하며, 일찍 결혼한 아이들은 가정 폭력에 시달리는 경우가 많다.

을: 그것은 ○○국만의 고유한 문화야. 해당 사회의 정치적, 경제적 환경을 고려할 때 나름의 이유가 있으니 인정해야 해.

- ① 문화 상대주의적 태도를 가져야 한다.
- ② 문화는 평가의 대상이 아님을 유의해야 한다.
- ③ 자신의 문화만이 우월하다는 생각을 버려야 한다.
- ④ 다른 문화를 동경하여 자문화의 정체성을 상실하면 안 된다.
- ⑤ 인류의 보편적 가치에 어긋나는 행위까지 문화로 인정할 수는 없다.

# 05

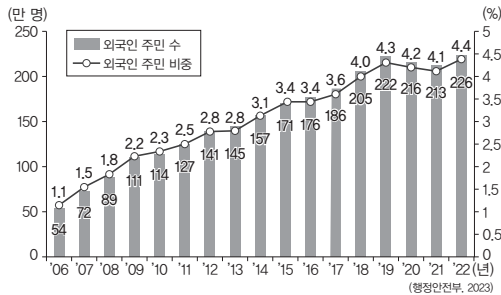
밑줄 친 '제노포비아'에 대한 설명으로 옳지 않은 것은?

제노포비아(Xenophobia)는 낯선 것 혹은 이방인이라는 의미의 '제노(Xeno)'와 싫어한다는 뜻의 '포비아(Phobia)'가 합성된 말로써 '이방인에 대한 혐오 현상'을 의미한다. 제노포비아는 상대방이 자기와 다르다는 이유만으로 반감을 갖고 경계하는 태도를 보이는 특징이 있다.

- ① 사회 불안의 요인이 되기도 한다.
- ② 문화 상대주의적 사상과 일맥상통한다.
- ③ 집단 간의 소통 부족이 한 요인이 될 수 있다.
- ④ 주류 집단이 소수 집단을 열등한 집단으로 여길 때 더 쉽게 나타난다.
- ⑤ 사회적 희소가치를 차지하기 위한 경쟁이 심화되면서 발생하기도 한다.

# 06

다음과 같은 변화가 미치는 영향만을 <보기>에서 고른 것은?



◻보기◻

- ㄱ. 국제결혼 가정의 수가 감소한다.
- ㄴ. 다양한 종교를 접할 기회가 늘어난다.
- ㄷ. 외국인 노동자와 관련된 문제가 발생할 수 있다.
- ㄹ. 사회 구성원 사이에 동질적인 가치관이 점차 확산된다.

- ① ㄱ, ㄴ                      ② ㄱ, ㄷ                      ③ ㄴ, ㄷ
- ④ ㄴ, ㄹ                      ⑤ ㄷ, ㄹ

# 07

밑줄 친 ㉠, ㉡에 해당하는 내용만을 <보기>에서 있는 대로 고른 것은?

다문화 사회에서는 다양한 문화를 가진 사람들이 함께 살아가기 때문에 문화적 차이로 인한 갈등이나 새로운 문제가 발생하기도 한다. 이러한 갈등을 해결하기 위해서는 ㉠ 개인적 차원과 ㉡ 사회적 차원에서의 다각적인 노력이 필요하다.

◻보기◻

- ㄱ. 개방적인 자세를 가진다.
- ㄴ. 세계시민 의식을 함양한다.
- ㄷ. 외국인 주민의 인권을 법으로 보호한다.
- ㄹ. 우리 실정에 맞는 다문화 정책을 수립한다.

- |   | ㉠       | ㉡       |
|---|---------|---------|
| ① | ㄱ       | ㄴ, ㄷ, ㄹ |
| ② | ㄱ, ㄴ    | ㄷ, ㄹ    |
| ③ | ㄴ, ㄹ    | ㄱ, ㄷ    |
| ④ | ㄱ, ㄴ, ㄷ | ㄹ       |
| ⑤ | ㄴ, ㄷ, ㄹ | ㄱ       |

# 08

다음과 같은 자료의 등장 배경으로 가장 적절한 것은?



위 자료는 우리 사회가 과거의 단일 민족·단일 문화 중심의 시각에서 벗어나 다양한 문화적 정체성과 생활양식을 이해하고, 차별과 편견이 아닌 관용과 공존의 자세를 기를 수 있도록 하는 교육의 목적을 지니고 있다.

- ① 편견과 차별에 따른 갈등이 해결되었다.
- ② 문화의 획일화 현상이 점차 심화되었다.
- ③ 모든 타 문화를 관용의 자세로 이해하게 되었다.
- ④ 한 국가 내에 이질적인 문화 간 접촉이 증가하였다.
- ⑤ 문화를 평가가 아닌 이해의 대상으로 보는 시각이 뿌리내렸다.

# 1등급 완성 문제



## 01

(가)에 들어갈 답변으로 가장 적절한 것은?

### 서술형 평가

○ 필자의 문화 이해의 태도가 갖는 문제점을 서술하시오.

한 사회의 문화는 자연환경과 역사적 경험 속에서 오랜 세월을 걸쳐 형성된 생활의 결과이다. 따라서 이를 이해하려면 해당 사회의 역사적·문화적 배경과 사회적 맥락을 함께 고려해야 한다. 문화는 그 사회의 관점에서 이해되어야 하며, 모든 사회에 통용되는 기준이나 가치를 적용해 평가할 경우 편견과 차별이 생겨 갈등으로 이어질 수 있다. 각 사회에는 고유한 가치와 기준이 존재하므로 윤리적 기준을 근거로 다른 사회의 문화를 판단하여 옳고 그름을 단정하는 태도는 바람직하지 않다.

○ 답안:

☞ 교사의 평가: 옳게 서술하였음.

- ① 각 문화 사이에 우열이 존재함을 지나치게 강조하고 있다.
- ② 보편 윤리에 근거한 문화 성찰의 필요성을 부정하고 있다.
- ③ 문화는 이해의 대상이며 평가의 대상이 아님을 간과하고 있다.
- ④ 자기 문화의 입장에서 다른 문화를 평가하는 것을 정당화하고 있다.
- ⑤ 문화의 다양성을 보존하는 데 적합하지 않은 문화 이해의 태도이다.

## 02

○○국의 문화를 바라보는 갑과 을의 태도에 대한 설명으로 옳은 것은?

○○국의 문화 사례: ○○국은 한 번 받은 목욕물에 가족들이 순서대로 몸을 담그며 목욕을 한다.

갑: 아무리 가족이어도 이미 사용한 물로 목욕하는 것은 비위생적이요, 한 번 사용한 목욕물을 다시 사용하지 않는 우리나라의 위생적인 목욕 문화를 ○○국에서도 본받아야 해요.

을: 우리나라와 달리 ○○국에서는 몸을 먼저 깨끗하게 씻은 후 물에 들어가요. 덥고 습한 기후 때문에 목욕을 자주 해야 하는데, 과거에는 뜨거운 물을 얻기 힘들었기에 가족 모두가 매일 목욕을 할 수 있도록 나름의 방법을 고안한 것이죠. 이처럼 각 사회의 문화는 그 나라의 고유한 환경과 가치 등을 반영한 것으로 그 사회의 맥락에서 이해해야 해요.

- ① 갑의 태도는 문화의 다양성 보존에 기여한다.
- ② 갑의 태도는 국수주의로 변질될 우려가 있다.
- ③ 을의 태도는 자문화의 정체성을 상실할 우려가 있다.
- ④ 을의 태도는 서로 다른 문화 간에 우열이 존재함을 전제한다.
- ⑤ 갑과 을의 태도는 모두 문화를 이해가 아닌 평가의 대상으로 본다.

## 03

다음 자료에 대한 설명으로 옳은 것은?

표는 문화 이해의 태도 A~C에 관한 진술에 대한 학생 갑, 을의 응답을 나타낸다. 단, A~C는 각각 문화 상대주의, 문화 상대주의, 자문화 중심주의 중 하나이며, 갑과 을은 제시된 진술이 옳다고 생각하면 '○', 옳지 않다고 생각하면 '×'로 표시하였다. 또한 각 진술에 대한 갑과 을의 응답이 맞을 때마다 1점씩 부여하였다.

구분	갑	을
A는 B와 달리 문화 간 우열이 존재한다고 본다.	○	×
B는 C와 달리 문화의 다양성 보존에 기여한다.	㉠	㉡
(가)	㉢	㉣
(나)	×	○
채점 결과	4점	2점

- ① ㉠과 ㉡은 모두 '×'이다.
- ② (가)에 'A는 문화를 평가가 아닌 이해의 대상으로 본다.'가 들어가면, ㉢과 ㉣은 모두 '○'이다.
- ③ (가)에 'B는 자기 문화의 가치만을 중시한다.'가 들어가면, ㉡과 ㉢의 응답은 서로 같다.
- ④ (나)에는 'B는 자문화의 정체성을 상실할 우려가 있다는 비판을 받는다.'가 들어갈 수 없다.
- ⑤ (나)에 'C는 A와 달리 국수주의로 변질될 수 있다는 비판을 받는다.'

## 04

A에 대한 옳은 설명만을 <보기>에서 고른 것은?

파키스탄에서는 집안의 명예를 훼손하였다는 등의 이유로 가족 구성원을 살해하는 명예 살인이 벌어지고 있다. 파키스탄 인권 위원회에 따르면 2024년 파키스탄에서 확인된 명예 살인은 최소 405건이다. 매년 약 1,000명의 여성이 살해되는 등 대다수 희생자가 여성이다. 파키스탄 정부는 2016년 명예 살인에 대한 처벌을 강화하였지만 근절되지 않고 있다. 일각에서는 명예 살인에 대해 해당 사회의 역사적, 사회적 상황을 고려할 때 나름의 이유가 있으니 이해하자고 주장한다. 그러나 이는 A에 해당하며, 바람직하지 않은 문화 이해의 태도이다.

### 보기

- ㄱ. 극단적 문화 상대주의를 일컫는다.
- ㄴ. 보편 윤리에 어긋나는 문화도 존중한다.
- ㄷ. 문화를 비판적으로 성찰할 수 있게 해 준다.
- ㄹ. 고유한 문화적 가치를 존중하여 문화를 발전시킨다.

- ① ㄱ, ㄴ
- ② ㄱ, ㄷ
- ③ ㄴ, ㄷ
- ④ ㄴ, ㄹ
- ⑤ ㄷ, ㄹ

## 05

문화 이해의 태도 A, B에 대한 옳은 설명만을 <보기>에서 고른 것은?

A는 자신의 문화에 우월감을 느끼면서 다른 문화를 평가 절하하는 태도이다. A를 가지게 될 때 우리는 자기 문화에 대한 성찰이나 비판 없이 이를 당연시하는 태도를 가지게 된다. 반면 B는 다른 문화와 대면할 때 자기 문화의 입장에서가 아니라 해당 사회의 입장에서 이해하려는 태도이다. B를 통해 우리는 각 문화의 가치들이 절대적인 것이 아니며 자신의 삶의 방식이 유일하고도 필연적인 것이 아니라는 사실을 깨달을 수 있다.

보기

- ㄱ. A는 자기 문화에 대한 객관적 이해를 가능하게 한다.
- ㄴ. B는 문화를 평가의 대상이 아닌 이해의 대상으로 본다.
- ㄷ. A는 B와 달리 문화의 다양성이 문화 발전 수준의 차이에서 비롯된다고 본다.
- ㄹ. A는 문화 제국주의로 변질될 우려가 있고, B는 자문화의 정체성 상실을 초래할 수 있다.

- ① ㄱ, ㄴ                      ② ㄱ, ㄷ                      ③ ㄴ, ㄷ
- ④ ㄴ, ㄹ                      ⑤ ㄷ, ㄹ

## 06

다음 글에 나타난 갑, 을의 주장에 대한 설명으로 옳은 것은?

갑은 모든 문화가 나름의 고유한 의미와 가치를 지닌다는 문화 상대주의의 주장이 절대적으로 타당한 것은 아니라고 주장한다. 그는 인류에게는 시대와 사회를 초월하여 지켜야 할 보편적 가치가 있다는 점을 망각해서는 안 된다고 역설한다. 한편 을은 보편적 가치를 존중해야 할 필요성은 부정할 수 없지만 그것을 지나치게 강조하는 태도 역시 위험하다고 주장한다. 그는 그 근거로 자칫 자기 문화의 특수한 가치를 보편적인 가치인 것처럼 위장하여 다른 문화를 억압하는 태도로 이어질 수 있다는 점을 강조한다.

- ① 갑은 모든 문화를 절대적인 기준을 통해 평가해야 한다고 본다.
- ② 갑은 문화 상대주의가 문화를 이해하는 데 바람직하지 않다고 본다.
- ③ 을은 보편적 가치를 침해하는 문화에 대해서도 문화 상대주의를 적용해야 한다고 본다.
- ④ 을은 보편적 가치를 강조하는 태도가 자문화 중심주의를 은폐하는 수단이 될 수 있다고 본다.
- ⑤ 갑과 을은 모두 문화 상대주의와 보편적 가치를 강조하는 태도가 양립 불가능하다고 본다.

## 07

(가)에 들어갈 내용으로 가장 적절한 것은?

토론 쟁점: (가)

갑: 시민들이 하나의 언어와 문화를 공유할 때 국가의 모든 주요 기능이 수월하게 작동합니다. 국가는 이주민이 자신의 문화 정체성을 버리고 주류 문화에 동화되는 정책을 시행함으로써 단일 문화를 바탕으로 한 사회 통합을 이루어야 합니다.

을: 다양한 재료가 섞여도 재료 본연의 맛을 유지하는 샐러드처럼 한 국가 안에서도 주류 문화뿐만 아니라 비주류 문화나 소수 문화가 함께 어울리며 공존해야 진정한 사회 통합을 이룰 수 있습니다.

갑: 아닙니다. 모든 구성원이 같은 문화적 정체성을 바탕으로 동일한 자격과 권리를 지니는 시민권을 행사할 때 진정한 사회 통합이 가능합니다.

을: 아닙니다. 다양한 문화의 차이를 인정하고 이주민이 자신의 언어와 문화 정체성을 바탕으로 살아갈 수 있도록 배려하는 것이 진정한 사회 통합으로 나아가는 길입니다.

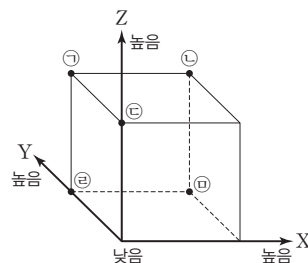
- ① 이주민 문화와 주류 문화를 섞어 새 문화를 만들어야 하는가?
- ② 문화적인 차이를 제거하는 것이 사회 통합을 위해 필수적인가?
- ③ 각 문화는 서로 다른 자연적·사회적 환경에서 형성되는 것인가?
- ④ 문화마다 형성 배경이 다르므로 문화에 대한 평가는 불가능한가?
- ⑤ 주류 문화와 다른 문화를 가진 이주민의 입국을 제한해야 하는가?

## 08

갑의 입장에 비해 을의 입장이 갖는 상대적 특징을 그림의 ㉠~㉣ 중에서 고른 것은?

갑: 국가는 문화적 이질성을 제거하고 통합성을 높여 나가야 합니다. 이주민이 거주국의 문화와 사회적 가치 등을 받아들여야 하여 그들을 기존 주류 문화의 질서에 편입시켜야 합니다.

을: 국가는 다양한 문화의 정체성을 보호해야 합니다. 이주민이 고유한 문화적 특성을 포기하지 않고 정체성을 유지할 수 있도록 대등하게 대우해야 합니다.



- X: 문화 간의 위계를 강조하는 정도
- Y: 이민자의 고유한 정체성을 인정하는 정도
- Z: 단일성을 기반으로 문화 통합을 강조하는 정도

- ① ㉠                      ② ㉡                      ③ ㉢                      ④ ㉣                      ⑤ ㉤

# 07 산업화와 도시화

## 1 산업화와 도시화에 따른 변화

### 01 산업화와 도시화의 의미 **자료 01**

#### 1. 산업화

**TIP** 농림어업은 1차 산업, 공업은 2차 산업, 서비스업은 3차 산업이다.

의미	한 나라의 경제 발전 수준이 높아지면서 생산과 고용 측면에서 농림어업보다 공업과 서비스업의 비중이 커지는 현상
특징	생산력이 증가하여 대량 생산이 가능해지면서 전반적인 생활 수준이 향상되고 인구가 급격히 증가

#### 2. 도시화 **자료 02** **자료 03** **TIP** 촌락 공간에 인구, 건축 용지, 공장 등의 증가에 따라 도시 공간으로 변화되는 것을 말해.

의미	일정한 장소에 많은 사람이 집중되면서 공간적인 측면에서 도시가 성장하고 도시적 생활양식이 확대되는 과정
특징	<ul style="list-style-type: none"> <li>산업화가 진행되면서 농림어업에 종사하며 촌락에 거주하던 사람들이 일자리를 찾아 도시로 이동하는 이촌향도 현상이 활발</li> <li>도시화 수준은 전체 인구에서 도시 거주 인구가 차지하는 비율인 도시화율을 통해서 파악                     <ul style="list-style-type: none"> <li>- 선진국: 일찍 도시화가 진행되어 인구의 대다수가 도시에 거주</li> <li>- 개발 도상국: 빠르게 도시화가 진행</li> </ul> </li> </ul>

### 02 산업화와 도시화로 인한 생활공간의 변화

거주 공간 변화	<ul style="list-style-type: none"> <li>인구 증가에 따른 시가지 면적의 확대</li> <li>집약적 토지 이용: 공간의 효율성을 위해 공동 주택, 아파트, 고층 건물을 건설 <b>TIP</b> 교통이 편리한 지역은 접근성과 지대가 높아 이를 감당할 수 있는 기능이 일제해</li> <li>도시 내부의 기능 분화: 도시 내에서도 중심 업무 지역, 상업 지역, 공업 지역, 주거 지역 등으로 분화</li> <li>대도시권 형성: 교통의 발달과 교외화의 영향으로 대도시와 주변 지역이 하나의 생활권을 형성</li> </ul>
생태환경 변화	<ul style="list-style-type: none"> <li>녹지 면적의 감소: 농경지, 삼림이 주택, 산업 단지로 개발되고, 아스팔트와 콘크리트의 포장 면적이 증가</li> <li>하천의 인위적 개발: 하천 직강화 공사와 복개 등으로 인해 도시 홍수의 위험성 증가</li> <li>생태환경 악화: 산업 단지, 자동차 등에서 오염 물질을 배출</li> </ul>

### 03 산업화와 도시화로 인한 생활양식의 변화

직업 분화	<ul style="list-style-type: none"> <li>기계화와 분업화로 직업의 분화 및 전문화</li> <li>새로운 기술과 산업이 등장하면서 새로운 직업의 출현 및 직업 수의 증가</li> <li>소득 수준과 직업 구성 등에서 주민 간 이질성 증가</li> </ul>
도시성 확산	<ul style="list-style-type: none"> <li>효율성과 합리성을 추구하고, 익명성을 띠는 도시적 생활 양식의 보편화 <b>TIP</b> 특정한 목적 의식을 가지고 모인 수단적이고 간접적인 인간관계야</li> <li>2차적 인간관계를 형성하는 도시인의 특징적 사고와 행동 양식이 도시와 가까운 교외나 촌락으로 확산</li> </ul>
생활 수준 향상	<ul style="list-style-type: none"> <li>생산과 소비의 중심지인 도시에서 거주하는 주민의 소득이 증가</li> <li>대중교통이 발달하고 쇼핑 시설과 영화관 등 다양한 상업·여가 시설이 확충되면서 도시 생활의 편리성 증대</li> </ul>
개인주의적 가치관 확산	<ul style="list-style-type: none"> <li>가족의 형태 변화 <b>TIP</b> 과거 대가족 형태가 핵가족, 1인가구 중심으로 변화하고 있어</li> <li>공동체보다 개인이 강조되는 경향이 심화하며, 경쟁이 치열해지고 개인의 가치와 성취를 중시하는 태도가 확산</li> </ul>

## 2 산업화와 도시화에 따른 문제점과 해결 방안

### 01 산업화와 도시화로 인한 문제점

1. 원인: 인구와 각종 기능이 도시에 집중하면서 다양한 문제가 발생

#### 2. 문제점 **자료 04**

주택 및 교통 문제	<ul style="list-style-type: none"> <li>주택 부족과 집값 상승, 소득 수준에 따라 주거 지역이 분리 <b>TIP</b> 소득 수준이 높아 높은 집값을 감당할 수 있는 지역과 그렇지 않은 지역으로 분리되는 현상이야</li> <li>교통 체증 및 교통사고 증가, 주차 공간 부족, 소음 발생 등</li> </ul>
환경 문제	<ul style="list-style-type: none"> <li>쓰레기, 배기가스 등 다양한 오염 물질을 배출하여 하천과 지하수가 오염되고 대기질이 악화</li> <li>생태환경 훼손으로 도시 내 생물종 다양성이 감소</li> <li>열섬 현상 발생: 아스팔트와 콘크리트의 포장 면적 확대, 인구와 차량의 밀집 등으로 도시 기온이 주변 지역보다 높아지는 현상</li> </ul>
공동체 의식 약화	<ul style="list-style-type: none"> <li>타인과의 소통과 교류가 점차 줄어들어 공동체 의식이 약화하고 서로에게 무관심해지는 경향이 증가</li> <li>물질적 가치와 경쟁을 추구하는 사회에서 타인의 이익보다 자신의 이익만을 추구</li> <li>경쟁과 고립 속에서 인간 소외 현상이 나타남.</li> </ul>
지역 격차	<ul style="list-style-type: none"> <li>농어촌 지역의 인구가 도시로 이동하면서 도시에서는 주택 부족 현상이 나타나고 촌락에서는 빈집이 증가</li> <li>촌락은 의료와 교육 등 생활 기반 시설이 부족해 생활 여건이 악화 <b>TIP</b> 촌락 지역은 고령화, 인구 유출로 노동력이 부족해지고, 기반 인구가 줄어들어 생활 기반 시설을 유지할 수 없어 생활 여건이 불리해져</li> <li>촌락에서는 노동력 부족으로 휴경지가 증가하고 경제활동이 위축</li> </ul>

**TIP** 생산 과정의 자동화 과정에서 인간이 생산의 수단으로 전락하는 현상을 말하는데, 도시적 생활양식의 보편화로 나타나는 문제 중 하나야.

### 02 산업화와 도시화에 따른 문제의 해결 방안

#### 1. 사회적 차원의 노력

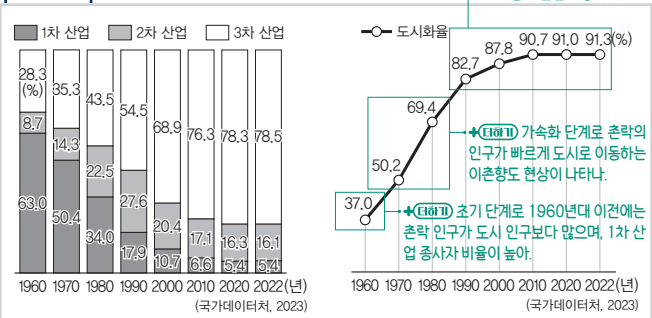
도시 기반 시설 정비	주택과 대중교통 체계를 정비하고 도로와 주차장 등 기반 시설을 확충하며, 지역 특성을 고려한 도시 재생 사업을 추진 <b>TIP</b> 쇠퇴하는 도시에 새로운 기능을 도입하거나, 지역 역량 강화를 통해 사회적, 물리적, 환경적으로 기능을 활성화시키는 정책이야
녹지 공간 확충과 환경 복원	<ul style="list-style-type: none"> <li>공원과 생태 하천 등의 녹지 공간을 확충하고 생태환경을 복원</li> <li>국가는 오염 물질 배출을 규제, 관리하는 정책을 마련</li> </ul>
지역 간 균형 발전	<ul style="list-style-type: none"> <li>도시와 촌락, 수도권과 비수도권 간의 발전 격차를 해소할 수 있도록 산업, 행정 등 각종 기능을 분산</li> <li>촌락의 생활 여건을 개선하고 일자리를 창출하는 등 지속가능한 성장을 위한 정책을 수립하고 시행</li> </ul>

#### 2. 개인적 차원의 노력

친환경적 생활 실천	생태시민으로서 일상생활에서 친환경적 생활을 실천
공동체 문화 조성	주민이 상호 배려하고 협력하는 공동체 문화를 조성

# 중요 자료 분석

## 자료 01 산업화와 도시화



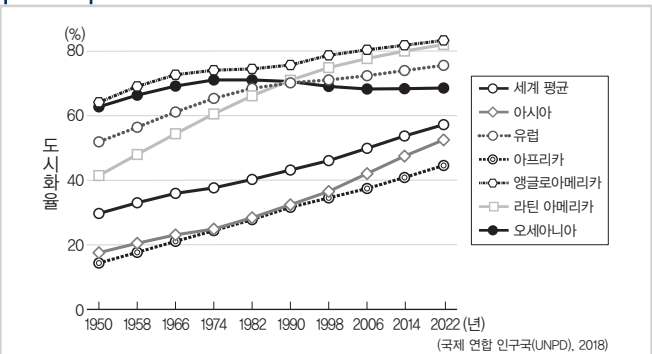
● 우리나라의 산업 구조 변화

● 우리나라의 도시화율 변화

**자료 분석** 우리나라는 1960년에 1차 산업 종사자 비율이 60% 이상, 2차 산업 종사자 비율이 10% 미만이었다. 이후 본격적인 경제 개발이 이루어지면서 1차 산업의 비율이 감소하고 2·3차 산업 중심의 산업 구조로 변화하여 현재는 2·3차 산업 종사자 비율이 95%에 달한다. 빠른 속도로 산업화가 진행되면서 동시에 도시화도 급격히 나타나 현재 우리나라 전체 인구의 90% 이상이 도시에 거주한다.

- (1) 우리나라의 1960년대에 1차 산업 종사자 비율이 50% 이상이었으며, 촌락에 거주하는 인구가 50% 이상을 차지하였다. (○, ×)
- (2) 현재 우리나라는 전체 인구의 10% 이상이 촌락에 거주하고 있다. (○, ×)
- (3) 우리나라의 2차 산업 종사자 비율은 지속적으로 증가하고 있다. (○, ×)

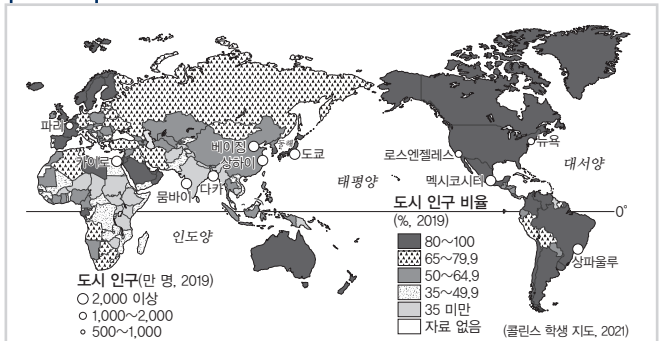
## 자료 02 지역(대륙)별 도시화율 변화



**자료 분석** 오늘날 세계 인구의 절반 이상이 도시에 거주하고 있으며, 대부분 산업화 과정을 일찍 시작한 국가나 지역(대륙)의 도시화 수준이 그렇지 않은 국가나 지역(대륙)보다 높게 나타난다. 단, 라틴 아메리카 지역(대륙)은 높은 산지와 열대 기후로 인해 내륙보다 해안 지역에 인구가 밀집하여 도시가 발달하였다.

- (1) 2022년에 아프리카와 아시아 지역(대륙)의 도시화율은 세계 평균 도시화율보다 낮다. (○, ×)
- (2) 2022년에 유럽은 라틴 아메리카 지역(대륙)보다 도시화율이 높다. (○, ×)
- (3) 1966년 대비 2022년의 도시화율 증가 폭이 가장 낮은 지역(대륙)은 아프리카이다. (○, ×)

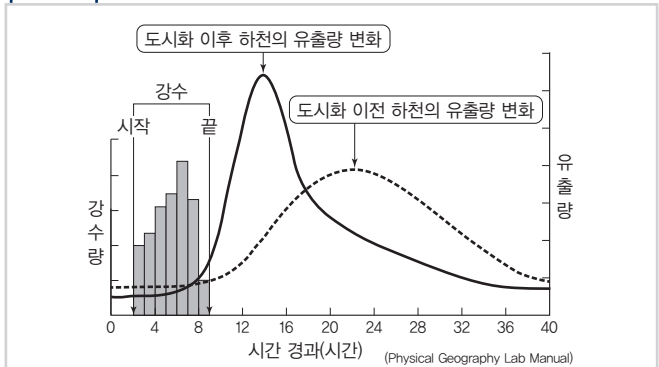
## 자료 03 국가별 도시화율과 도시 인구



**자료 분석** 19세기 중반까지는 도시화가 유럽이나 앵글로아메리카의 선진국에서 주로 진행되었으나, 최근에는 중국, 동남아시아, 라틴 아메리카의 개발 도상국에서 빠르게 진행되고 있다. 1950년대 약 30%였던 도시 인구 비율은 점차 증가하여 오늘날에는 세계 인구의 50% 이상이 도시에 거주한다. 앵글로아메리카, 라틴 아메리카, 유럽, 오세아니아 대륙의 국가들은 도시 인구 비율이 높지만, 아시아, 아프리카 대륙의 국가들은 상대적으로 도시 인구 비율이 낮다.

- (1) 선진국은 개발 도상국보다 상대적으로 도시 인구 비율이 높은 편이다. (○, ×)
- (2) 도시 인구 비율이 높은 국가는 도시 인구 비율이 낮은 국가보다 1차 산업의 종사자 비율이 높다. (○, ×)

## 자료 04 도시화 전후 하천의 수위 변화



**자료 분석** 도시화 이전에는 빗물이 토양층에 흡수되어 강수가 끝난 시점부터 하천의 유출량이 완만하게 상승하여 정점에 도달한 뒤 다시 완만하게 하강하는 형태를 보인다. 그러나 도시화 이후에는 빗물이 토양층 속으로 흡수되지 못하고 지표 위를 흐르다가 도시 내 하천으로 빠르게 흘러들어 강수가 끝난 시점부터 하천의 유출량이 빠르게 상승하여 짧은 시간 안에 정점에 도달하는 형태를 보인다. 따라서 도시화된 공간에서는 적은 강수에도 하천의 수위가 빠르게 상승하여 도시 홍수가 발생할 위험이 커진다.

- (1) 아스팔트, 콘크리트 등과 같은 인공 구조물로 덮여 있는 도시는 그렇지 않은 지역보다 빗물의 토양층 흡수가 잘 된다. (○, ×)
- (2) 도시화가 빠르게 진행된 공간에서는 그렇지 않은 지역보다 하천의 수위가 빠르게 증가한다. (○, ×)

## 01

다음은 도시화와 산업화에 대한 자료이다. 이에 대한 설명으로 옳은 것은? (단, 그래프의 A~C는 각각 네팔, 일본, 타이 중 하나임.)

일반적으로 도시화 과정은 초기-가속화-종착의 3단계로 진행되고, 단계마다 도시화율과 도시 인구 증가율이 다르게 나타난다. 반면 도시화의 속도와 구체적인 시기는 국가별로 다르다. 따라서 각 국가의 도시화 단계는 도시화율과 도시 인구 증가율을 통해 알 수 있다. 예를 들어 2022년 기준으로 도시화율은 일본, 한국, 타이, 네팔 순으로 높고, 도시 인구 증가율은 반대로 네팔, 타이, 한국, 일본 순으로 높다. 네팔은 도시화율이 21.5%로 가장 낮지만, 연평균 도시 인구 증가율은 3.8%로 가장 높아 가속화 단계에 진입하였음을 알 수 있다. 또한 도시화는 산업화 수준과도 밀접하게 관련되어 있다. 산업화가 고도화될수록 더 많은 사람들이 도시에 살게 되기 때문이다.



4개국의 경제 부문별 국내 총생산 비율

- A의 제조업 총부가 가치액은 한국보다 많다.
- B는 한국보다 도시 인구가 많다.
- C는 도시 인구가 촌락 인구수보다 많다.
- A는 B보다 산업화가 시작된 시기가 이른다.
- 타이는 일본보다 국내 총생산에서 서비스업이 차지하는 비율이 높다.

### 해결 Flow

선진국은 개발 도상국보다 도시화율이 높으며, 국내 총생산에서 1차 산업(농림어업)의 생산액 비율이 낮은 것을 이해한다.

경제 부문별 국내 총생산 비율을 분석하여 A~C 국가가 어느 국가인지 파악한다.

문항에서 제시된 A~C 국가가 선진국인지 개발 도상국인지 분류하고, 한국을 기준으로 도시화율이 높은 국가와 낮은 국가를 구분한다.

### 자료 분석

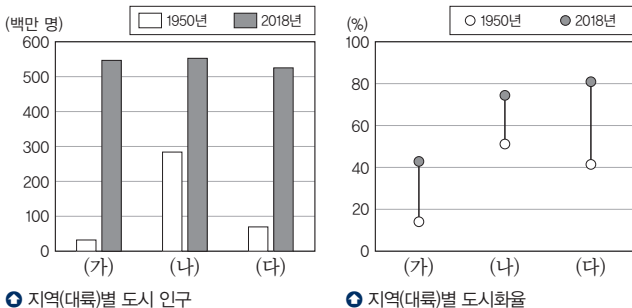
한국보다 경제적으로 발전한 국가는 일본이다. 일본은 한국보다 도시화율이 높으므로 1차 산업(농림어업) 생산 비율이 낮고 3차 산업 비율이 높을 것이다. 따라서 그래프의 B는 일본이다. 타이와 네팔 중 경제적 발전 수준이 낮은 나라는 네팔이다. 따라서 네팔은 도시화율과 제조업 비중이 낮으며, 농림어업 비중이 가장 높은 국가이다. 따라서 C는 네팔이다. 나머지 A는 타이이다. 타이는 인건비가 저렴하여 제조업 비율은 한국보다 높지만, 도시화율은 한국보다 낮아 1차 산업 비율이 높다.

### 선지 분석

- 타이의 제조업 총부가 가치액은 한국보다 적다.
- 일본은 한국보다 도시 인구수가 많다.**
- 네팔은 도시 인구수가 촌락 인구수보다 적다.
- 타이는 일본보다 산업화가 시작된 시기가 늦다.
- 서비스업은 100에서 제조업과 농림어업 부문 비율의 합을 뺀 값에 해당한다. 일본은 서비스업이 약 78%, 타이는 약 65%에 해당하므로 타이는 일본보다 국내 총생산에서 서비스업이 차지하는 비율이 낮다.

## 02

그래프는 두 시기의 지역(대륙)별 도시 인구와 도시화율을 나타낸 것이다. 이에 대한 설명으로 옳은 것은? (단, (가)~(다)는 각각 라틴 아메리카, 아프리카, 유럽 중 하나임.)



- 지역(대륙)별 도시 인구
- 지역(대륙)별 도시화율
- (가)는 1950년 도시화율이 가장 높다.
- (나)에는 최상위 계층의 세계 도시가 위치하고 있다.
- (다)는 아프리카이다.
- (가)는 (나)보다 도시화 가속화 단계에 진입한 시기가 이른다.
- (다)는 (가)보다 2018년 도시 인구가 많다.

### 해결 Flow

산업화와 도시화를 일찍 시작한 유럽은 1950년 도시화율이 가장 높다.

산업화와 도시화의 시작 시기가 유럽보다 느린 라틴 아메리카는 2018년의 도시화율이 유럽보다 높다. 아프리카는 여전히 도시화율이 낮다.

### 자료 분석

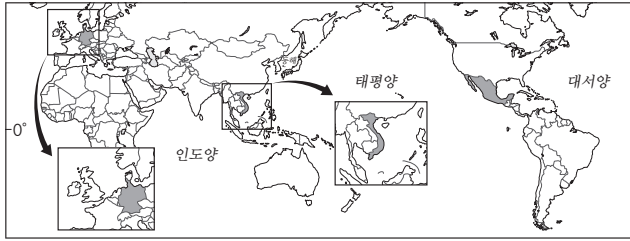
1950년에 도시화율이 가장 높은 (나)는 산업화와 도시화의 시작 시기가 가장 빠른 유럽, 2018년의 도시화율이 가장 높은 (다)는 열대 우림과 열대 기후로 인해 해안 지역에 도시가 발달한 라틴 아메리카, 2018년에 도시화율이 가장 낮은 (가)는 개발 도상국이 많은 아프리카이다. 도시 인구는 1950년에 유럽 > 라틴 아메리카 > 아프리카 순이지만, 2018년에는 유럽 > 아프리카 > 라틴 아메리카 순으로 많다.

### 선지 분석

- 1950년에 도시화율이 가장 높은 지역(대륙)은 유럽이다.
- 유럽에는 최상위 계층의 세계 도시인 런던이 위치하고 있다.**
- (다)는 라틴 아메리카이다.
- 아프리카는 유럽보다 도시화 가속화 단계에 진입한 시기가 늦다.
- 라틴 아메리카는 아프리카보다 2018년 도시 인구가 적다.

### 01-1 동형 문제

표는 지도에 표시된 세 국가의 도시화 특성을 나타낸 것이다. (가)~(다) 국가에 대한 설명으로 옳은 것은?



구분	(가)	(나)	(다)
도시 인구(백만 명)	108.1	63.9	36.7
연평균 도시 인구 증가율(%)	1.6	0.3	3.0
도시화율(%)	80.7	77.5	37.3

\* 도시 인구와 도시화율은 2020년, 연평균 도시 인구 증가율은 2015~2020년 기준임. (국제 연합, 2022)

- ① (가)는 도시화 과정의 초기 단계에 있다.
- ② (나)는 중주 도시화 현상이 가장 뚜렷하다.
- ③ (다)는 1차 산업 종사자 비율이 가장 낮다.
- ④ (가)는 (나)보다 1인당 국내 총생산(GDP)이 많다.
- ⑤ (나)는 (다)보다 촌락 인구가 적다.

### 01-2 동형 문제

표는 세 국가의 시기별 인구 및 도시화율을 나타낸 것이다. (가)~(다) 국가에 대한 옳은 설명만을 <보기>에서 고른 것은? (단, (가)~(다)는 각각 에스파냐, 콜롬비아, 탄자니아 중 하나임.)

구분	(가)		(나)		(다)	
	1950년	2020년	1950년	2020년	1950년	2020년
인구(백만 명)	7.6	59	11.5	50	28	47.4
도시화율(%)	7.3	34	32	77	53	80.8

(국제 연합, 각 연도)

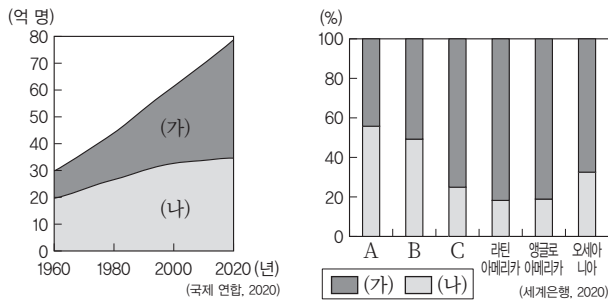
보기

- ㄱ. (가)는 (나)보다 도시화의 가속화 단계 진입 시기가 늦다.
- ㄴ. (나)는 (가)보다 1950년에 도시 인구가 많다.
- ㄷ. (다)는 (가)보다 2020년에 1차 산업 종사자 비율이 높다.
- ㄹ. (가)~(다)는 2020년에 도시 인구가 촌락 인구보다 많다.

- ① ㄱ, ㄴ                      ② ㄱ, ㄷ                      ③ ㄴ, ㄷ
- ④ ㄴ, ㄹ                      ⑤ ㄷ, ㄹ

### 02-1 동형 문제

그래프는 세계 및 지역(대륙)별 도시 및 촌락의 인구 변화와 비중을 나타낸 것이다. 이에 대한 설명으로 옳은 것은? (단, (가), (나)는 도시와 촌락 중 하나이며, A~C는 유럽, 아시아, 아프리카 중 하나임.)

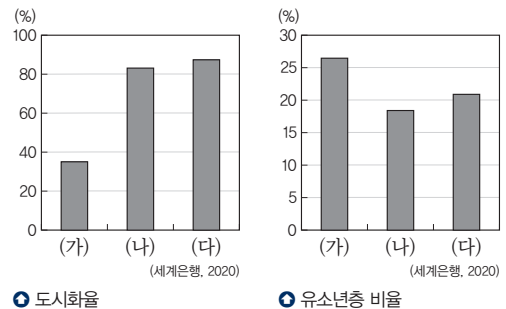


① 세계의 도시 및 촌락 인구 변화      ② 지역(대륙)별 도시 및 촌락 인구 비중

- ① (가)는 촌락, (나)는 도시에 해당한다.
- ② 2020년에는 세계에서 도시 인구보다 촌락 인구가 많다.
- ③ A에는 최상위 계층의 세계 도시가 위치한다.
- ④ B는 C보다 도시화율이 높다.
- ⑤ C는 A보다 3차 산업 종사자 비율이 높다.

### 02-2 통합형

그래프는 세 국가의 도시화율과 유소년층 비율을 나타낸 것이다. (가)~(다) 국가에 대한 설명으로 옳은 것은? (단, (가)~(다)는 각각 미국, 인도, 브라질 중 하나임.)



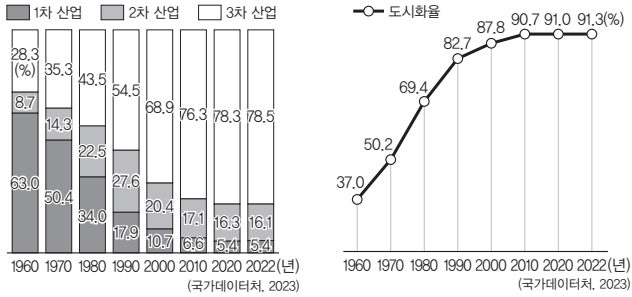
① 도시화율                      ② 유소년층 비율

- ① (가)는 남아메리카 대륙에 위치한다.
- ② (가)는 (나)보다 노년 부양비가 높다.
- ③ (나)는 (다)보다 1인당 국내 총생산(GDP)이 적다.
- ④ 총인구는 (다) > (나) > (가) 순으로 많다.
- ⑤ (가)~(다) 중 국가 내 서비스업 종사자 비율은 (나)가 가장 높다.

# 수능 기본 문제

## 01

그래프는 우리나라의 산업 구조와 도시화를 나타낸 것이다. 이에 대한 옳은 설명만을 <보기>에서 고른 것은?



● 우리나라의 산업 구조 변화

○ 우리나라의 도시화율 변화

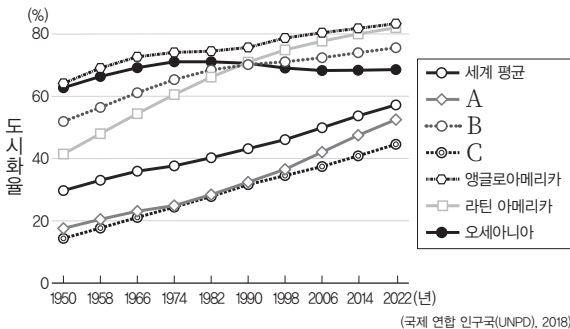
### 보기

- ㄱ. 1970년에는 촌락 인구가 도시 인구보다 많았다.
- ㄴ. 우리나라는 현재 2·3차 산업 중심으로 변화하였다.
- ㄷ. 1990년 이후 도시화 과정은 가속화 단계에 해당한다.
- ㄹ. 2022년 우리나라 전체 인구 중 90% 이상이 도시에 거주한다.

- ① ㄱ, ㄴ                      ② ㄱ, ㄷ                      ③ ㄴ, ㄷ
- ④ ㄴ, ㄹ                      ⑤ ㄷ, ㄹ

## 02 통합형

그래프는 지역(대륙)별 도시화율 변화를 나타낸 것이다. 이에 대한 설명으로 옳지 않은 것은?

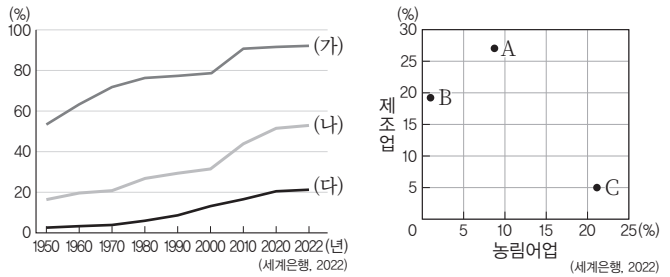


● 지역(대륙)별 도시화율 변화

- ① A는 C보다 세계 최상위 계층의 도시가 많다.
- ② B는 C보다 노령화 지수가 높다.
- ③ 2022년에 A는 B보다 도시 거주 인구가 적다.
- ④ 2022년에 세계 인구의 절반 이상이 도시에 거주한다.
- ⑤ 산업화 과정을 일찍 시작한 대륙에서 대체로 도시화율이 높다.

## 03

그래프는 산업화와 도시화에 대한 자료이다. 이에 대한 설명으로 옳은 것은? (단, (가)~(다), A~C는 각각 지도에 표시된 국가 중 하나임.)



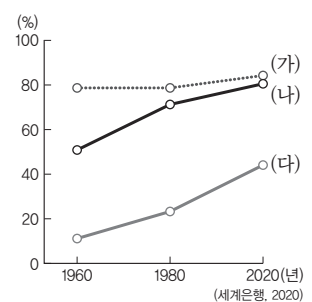
● 도시화율 변화

● 경제 부문별 국내 총생산 비율

- ① 인구가 가장 많은 국가는 A이다.
- ② A는 B보다 2000~2022년 도시화율 증가 폭이 크다.
- ③ B는 C보다 2022년의 도시화율이 낮다.
- ④ (나)는 (다)보다 연간 제조업 생산액이 적다.
- ⑤ (가)는 A, (나)는 B, (다)는 C이다.

## 04 통합형

그래프는 지도에 표시된 세 국가의 시기별 도시화율 변화를 나타낸 것이다. (가)~(다) 국가에 대한 설명으로 옳은 것은?

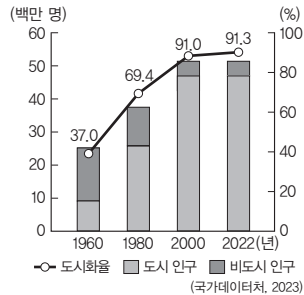


● 도시화율 변화

- ① (가)는 아프리카에 위치한다.
- ② (나)는 1990년에 도시화의 초기 단계에 있다.
- ③ (다)는 2020년에 촌락 인구가 도시 인구보다 많다.
- ④ (가)는 (나)보다 산업화가 시작된 시기가 늦다.
- ⑤ (다)는 (가)보다 3차 산업 종사자 비율이 높다.

## 05

그래프는 우리나라의 도시화를 변화를 나타낸 것이다. 이와 같은 변화로 나타날 수 있는 영향만을 <보기>에서 있는 대로 고른 것은?



① 우리나라 도시화율 변화


보기

- ㄱ. 개인주의 가치관이 확산한다.
- ㄴ. 직업의 이질성이 감소하고 단순화된다.
- ㄷ. 2차적 인간관계를 맺는 경우가 많아진다.
- ㄹ. 도시 내부의 상업, 공업, 주거 등 공간적 분화가 나타난다.

- ① ㄱ, ㄴ                      ② ㄷ, ㄹ                      ③ ㄱ, ㄴ, ㄷ
- ④ ㄱ, ㄷ, ㄹ                ⑤ ㄴ, ㄷ, ㄹ

## 06

다음 자료는 우리나라 어느 지역의 1980년과 2024년의 항공 사진이다. 이 지역의 변화에 대한 설명으로 옳지 않은 것은?



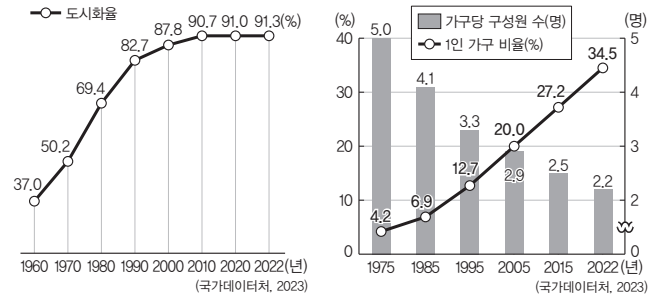
① 1980년



② 2024년

- ① 산업화와 도시화가 이루어졌다.
- ② 토지 이용의 집약도가 높아졌다.
- ③ 직업이 분화되고 전문성이 증가하였다.
- ④ 도시성의 확산으로 사회적 유대감이 강해졌다.
- ⑤ 생활 수준 향상과 개인주의적 가치관이 확산하였다.

[07~08] 다음 자료를 보고 물음에 답하십시오.



① 도시화율 변화

② 1인 가구 비율 변화

## 07

우리나라의 도시화율과 1인 가구 비율의 변화로 나타날 수 있는 문제점만을 <보기>에서 있는 대로 고른 것은?

보기

- ㄱ. 환경 오염
- ㄴ. 직종의 다양성
- ㄷ. 인간 소외와 고독사
- ㄹ. 주택 부족과 집값 상승

- ① ㄱ, ㄴ                      ② ㄷ, ㄹ                      ③ ㄱ, ㄴ, ㄷ
- ④ ㄱ, ㄷ, ㄹ                ⑤ ㄴ, ㄷ, ㄹ

## 08

우리나라의 도시화율 변화와 1인 가구 비율 변화로 나타날 수 있는 문제를 해결하기 위한 방안만을 <보기>에서 있는 대로 고른 것은?

보기

- ㄱ. 공원과 생태 하천 등의 녹지 공간을 확충하고 생태환경을 복원한다.
- ㄴ. 주민의 동의보다 국가 차원에서 철거 재개발을 통해 낙후된 정주 환경을 개선한다.
- ㄷ. 공동체 구성원은 지역에 관심을 가지고 함께 문제를 해결하려는 연대 의식을 강화해야 한다.
- ㄹ. 사회적 고립을 줄이고 고독사를 예방하기 위해 1인 가구를 대상으로 한 상담 프로그램을 확대한다.

- ① ㄱ, ㄴ                      ② ㄷ, ㄹ                      ③ ㄱ, ㄴ, ㄷ
- ④ ㄱ, ㄷ, ㄹ                ⑤ ㄴ, ㄷ, ㄹ

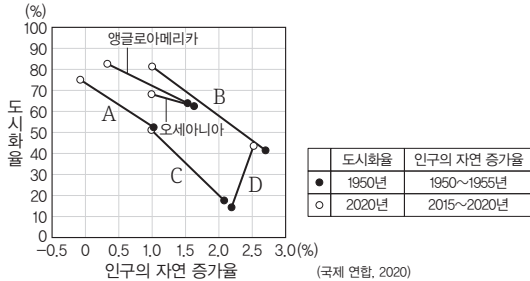
# 1등급 완성 문제



문항 풀이 동영상

## 01 통합형

그래프는 각 지역(대륙)의 도시화와 인구의 자연 증가율 변화를 나타낸 것이다. A~D 지역에 대한 옳은 설명만을 <보기>에서 고른 것은? (단, A~D는 아시아, 아프리카, 라틴 아메리카, 유럽 중 하나임.)



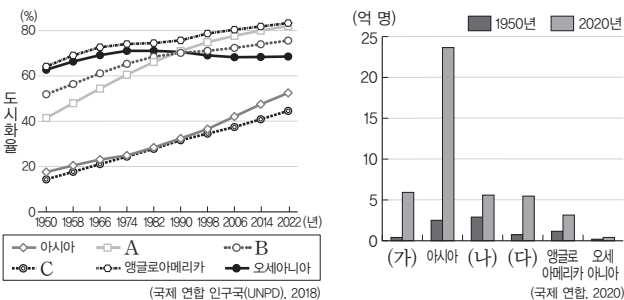
<보기>

- ㉠. A는 C보다 1차 산업 종사자 비율이 높다.
- ㉡. D는 B보다 중위 연령이 낮다.
- ㉢. A의 도시는 D의 도시보다 토지 이용의 집약도가 높다.
- ㉣. 1950~2020년의 도시화율 증가 폭은 아시아가 가장 크다.

- ① ㉠, ㉡                      ② ㉠, ㉢                      ③ ㉡, ㉣
- ④ ㉢, ㉣                      ⑤ ㉢, ㉣

## 02 통합형

다음 자료에 대한 설명으로 옳은 것은? (단, A~C, (가)~(다)는 각각 라틴 아메리카, 아프리카, 유럽 중 하나임.)

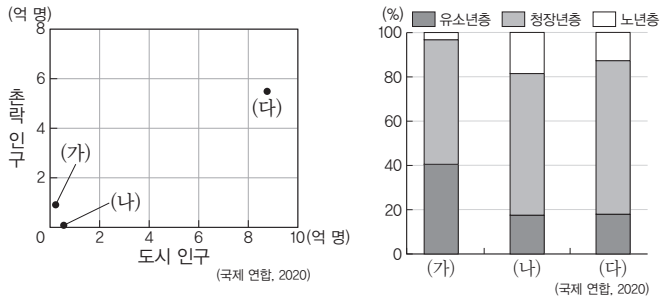


- ㉠ 지역(대륙)별 도시화율 변화                      ㉡ 지역(대륙)별 도시 인구 변화

- ① A는 (나), B는 (가)이다.
- ② (가)는 1950년 도시화율이 가장 높다.
- ③ (나)는 2020년 도시화율이 아시아보다 높다.
- ④ (다)에는 최상위 세계 도시가 위치하고 있다.
- ⑤ (가)는 (나)보다 도시화 가속화 단계에 진입한 시기가 이른다.

## 03 통합형

그래프는 세 국가의 인구 특성을 나타낸 것이다. 이에 대한 옳은 설명만을 <보기>에서 고른 것은? (단, (가)~(다)는 각각 에티오피아, 영국, 중국 중 하나임.)



- ㉠ 도시 및 촌락 인구                      ㉡ 연령층별 인구 비중

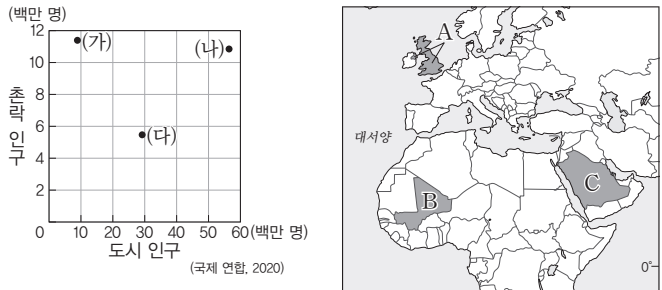
<보기>

- ㉠. (가)는 1차 산업보다 2차 산업 종사자 수가 많다.
- ㉡. (나)는 (가)보다 도시화율이 높다.
- ㉢. (다)는 (나)보다 산업화에 진입한 시기가 이른다.
- ㉣. (나)는 유럽, (다)는 아시아에 위치한다.

- ① ㉠, ㉡                      ② ㉠, ㉢                      ③ ㉡, ㉣
- ④ ㉢, ㉣                      ⑤ ㉢, ㉣

## 04

그래프의 (가)~(다)에 해당하는 국가를 지도의 A~C에서 고른 것은?

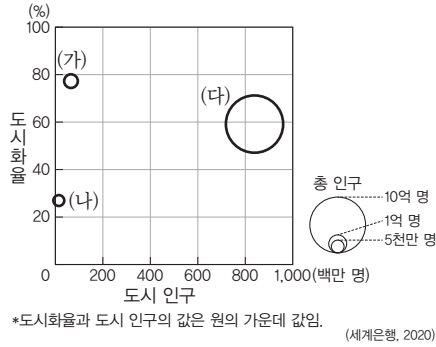


- ㉠ 도시 및 촌락 인구

- |   |     |     |     |
|---|-----|-----|-----|
|   | (가) | (나) | (다) |
| ① | A   | B   | C   |
| ② | A   | C   | B   |
| ③ | B   | A   | C   |
| ④ | B   | C   | A   |
| ⑤ | C   | B   | A   |

### 05 통합형

그래프는 세 국가의 도시화율, 도시 인구, 총인구를 나타낸 것이다. 이에 대한 옳은 설명만을 <보기>에서 고른 것은? (단, (가)~(다)는 독일, 중국, 케냐 중 하나임.)



<보기>

- ㄱ. (가)는 (나)보다 1차 산업 종사자 비율이 낮다.
- ㄴ. (가)는 (다)보다 도시화 가속화 단계에 진입한 시기가 이른다.
- ㄷ. (나)는 (다)보다 총인구가 많다.
- ㄹ. (가)는 유럽, (나)는 아시아, (다)는 아프리카에 위치한다.

- ① ㄱ, ㄴ                      ② ㄱ, ㄷ                      ③ ㄴ, ㄷ
- ④ ㄴ, ㄹ                      ⑤ ㄷ, ㄹ

### 06

표는 우리나라 국토의 용도별 이용 면적 변화를 나타낸 것이다. 이를 통해 생활공간과 생활양식의 변화 모습을 옳게 추론한 것만을 <보기>에서 있는 대로 고른 것은?

(단위: km<sup>2</sup>)

종류	1977년	2022년	변화
임야	65,660	63,427	3.4% 감소
논밭	22,144	18,427	16.8% 감소
대지	1,760	3,342	89.9% 증가
도로	1,612	3,453	114.2% 증가

(국토교통부, 각 연도)

<보기>

- ㄱ. 토지 이용의 집약도가 높아졌을 것이다.
- ㄴ. 도시 내부의 기능이 분화되었을 것이다.
- ㄷ. 개인주의적 가치관이 감소하였을 것이다.
- ㄹ. 직업이 다양해지고 전문성이 증가하였을 것이다.

- ① ㄱ, ㄴ                      ② ㄷ, ㄹ                      ③ ㄱ, ㄴ, ㄹ
- ④ ㄱ, ㄷ, ㄹ                ⑤ ㄴ, ㄷ, ㄹ

### 07

다음 자료는 우리나라 어느 지역의 생활공간 변화를 보여 주는 항공 사진이다. 이를 통해 추론할 수 있는 2024년 해당 지역에 대한 옳은 설명만을 <보기>에서 고른 것은?



1980년



2024년

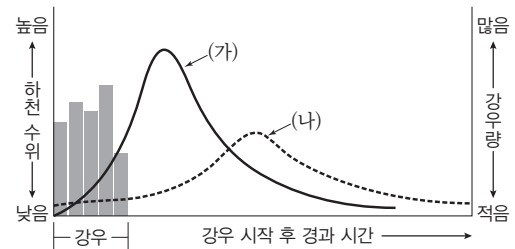
<보기>

- ㄱ. 사회적 유대감이 강화되었다.
- ㄴ. 2차적 인간관계를 맺는 사람들이 많아졌다.
- ㄷ. 중심 산업이 1차 산업에서 2·3차 산업으로 변화하였다.
- ㄹ. 개인의 가치와 성취, 자유와 권리를 중요시하지 않는다.

- ① ㄱ, ㄴ                      ② ㄱ, ㄷ                      ③ ㄴ, ㄷ
- ④ ㄴ, ㄹ                      ⑤ ㄷ, ㄹ

### 08

그래프는 도시화 전후의 하천 수위 변화를 나타낸 것이다. 이에 대한 옳은 설명만을 <보기>에서 고른 것은?



도시화 전후의 하천 수위 변화

<보기>

- ㄱ. 도시화 이후 하천 수위 변화 속도가 늦어졌다.
- ㄴ. (가)는 (나)보다 침수 피해가 크다.
- ㄷ. (가)는 (나)보다 불투수 면적이 넓다.
- ㄹ. (가)는 도시화 이전, (나)는 도시화 이후의 하천 수위 변화이다.

- ① ㄱ, ㄴ                      ② ㄱ, ㄷ                      ③ ㄴ, ㄷ
- ④ ㄴ, ㄹ                      ⑤ ㄷ, ㄹ

# 08 교통·통신 및 과학기술의 발달과 지역의 공간 변화

## 1 교통·통신 및 과학기술 발달에 따른 변화 **자료 01**

### 01 교통·통신 및 과학기술 발달에 따른 생활공간의 변화 **자료 02**

거주 공간의 변화	<ul style="list-style-type: none"> <li>이촌향도 현상으로 도시에 인구가 집중</li> <li>도시의 효율적인 공간 활용을 위해 <b>집약도가 증가</b></li> <li>도시 내부의 기능에 따라 업무·주거·상업·공업 지역 등으로 분화 <small>(TIP) 제한된 면적에 인원과 기능을 수용하기 위해 고층 건물이 들어서고 건물이 백백하게 지어지는 현상이야.</small></li> </ul>
생활권의 확대	<ul style="list-style-type: none"> <li>직장과 주거지가 분리</li> <li>지역 간 <b>접근성</b>이 향상되어 통근과 쇼핑 등 일상생활이 이루어지는 범위가 확대 <small>(TIP) 특정 지역이나 시설에 도달할 수 있는 가능성을 의미하며, 교통이 발달한 지역일수록 접근성이 높아.</small></li> <li>지하철과 고속 국도 등 광역 교통망이 발달한 대도시는 대도시권을 형성</li> </ul>
경제활동 범위의 확대	<ul style="list-style-type: none"> <li>인터넷과 스마트폰의 대중화로 국내외 전자 상거래와 금융 거래가 가능</li> <li>기업 활동의 공간적 범위가 세계를 대상으로 확대</li> </ul>
생태환경의 변화	<ul style="list-style-type: none"> <li>자연 상태의 토지가 감소하고, 인공 구조물이 증가</li> <li>도로와 철도 등의 교통망과 통신 시설을 건설하는 과정에서 생태계가 파괴되고 동식물의 서식 환경이 악화</li> <li>멸종 위기 동물을 관리, 보호하고, 드론 등을 활용하여 동식물의 생태환경을 유지, 관리</li> </ul>

### 02 교통·통신 및 과학기술 발달에 따른 생활양식의 변화

여가 활동 및 문화 교류 증가	<ul style="list-style-type: none"> <li>국내외 여행이 증가</li> <li>대중 매체를 통해 세계 여러 지역과의 상호 작용이 활발해져 다양한 문화 교류가 증가</li> </ul>
생활의 편리성 확대	<ul style="list-style-type: none"> <li>로봇과 인공지능의 발전으로 인간의 일을 대신하면서 생활의 편리성이 증가</li> <li>사물 인터넷과 빅데이터를 활용하여 일상생활의 편리성이 증가 <small>(TIP) 근로자의 형편에 맞게 출근 시간을 정하는 유연 근무제와 고정된 사무실 공간 없이 자유롭게 근무하는 거점 오피스 등이 있어.</small></li> </ul>
근무 환경의 변화	<ul style="list-style-type: none"> <li>시간과 장소에 구애받지 않는 원격 근무가 가능</li> <li>유연 근무 환경을 통해 근로자의 일과 삶의 균형을 지원</li> </ul>
정치 참여의 기회 확대	<ul style="list-style-type: none"> <li>여론 조성, 홍보 활동, 연대 형성 등 다양한 형태로 개인의 정치적 의견을 표출 가능</li> </ul>
도시적 생활 양식 확산	<ul style="list-style-type: none"> <li>도시가 확장되고 도시적 생활양식의 보편화</li> <li>촌락에서도 도시적 생활양식의 확산</li> </ul>
다양한 인간 관계 형성	<ul style="list-style-type: none"> <li>대면 접촉이 약화되고 가상 공간에서의 교류가 증가</li> <li>관심 분야에 대한 정보와 개인의 가치관을 공유</li> </ul>

## 2 교통·통신 및 과학기술 발달에 따른 문제점과 해결 방안 **자료 03**

지역 격차 및 정보 격차 <b>자료 03</b>	문제점	<ul style="list-style-type: none"> <li>접근성이 좋은 대도시 지역이 사람이 몰려들이면서 지역 간 격차가 확대 <small>(TIP) 대도시가 중소 도시의 인구나 경제력을 흡수하는 빨대 현상이 나타나.</small></li> <li>정보 기술에 대한 접근성과 활용 역량의 차이로 인해 정보 격차가 발생</li> </ul>
	해결 방안	<ul style="list-style-type: none"> <li>교통 소외 지역의 접근성을 높일 수 있도록 교통망을 구축하고 지역 간의 균형 발전을 추진</li> <li>정보 기반 시설을 고르게 구축하고 정보 취약 계층을 위한 정보 활용 교육을 추진</li> </ul>

디지털 문제 및 대책	문제점	<ul style="list-style-type: none"> <li>디지털 기기에 의존하여 대면적 인간관계가 약화되고 디지털 중독 문제가 발생</li> <li>디지털 기기를 통해 개인 정보가 유출</li> <li>사이버 금융 범죄, 사이버 폭력 등의 사이버 범죄가 증가 <small>(TIP) 정보 사회의 구성원으로서 지켜야 할 올바른 가치관과 행동 양식을 말해.</small></li> </ul>
	해결 방안	<ul style="list-style-type: none"> <li>디지털 중독 예방 및 치료 시설과 프로그램을 확대</li> <li>사이버 범죄를 예방하기 위한 법과 제도를 강화</li> <li>가상 공간에서 정보 윤리를 실천</li> </ul>
생태 환경의 교란	문제점	<ul style="list-style-type: none"> <li>동식물의 서식지가 고립되거나 파괴</li> <li>배출되는 오염 물질로 인한 대기 오염이 발생</li> <li>외래 생물종 유입에 따른 생태환경 교란이 발생</li> </ul>
	해결 방안	<ul style="list-style-type: none"> <li>동식물의 대체 서식지 조성 및 생태 통로를 만들어 생태 공간을 연결 <small>(TIP) 도로나 철도에 의해 단절된 생태 공간을 연결 하여 야생 동물이 이동할 수 있도록 만든 구조물이야.</small></li> <li>친환경 교통수단 보급을 위한 기술을 개발</li> <li>외래 생물종에 대한 교육 실시 및 관련 법률 및 제도를 정비</li> </ul>
감염병의 확산	문제점	<ul style="list-style-type: none"> <li>활발한 국제 교역과 해외여행은 감염병의 확산을 촉진</li> </ul>
	해결 방안	<ul style="list-style-type: none"> <li>국제 협력을 통해 감염병 확산을 억제할 수 있는 백신이나 신약을 개발</li> </ul>
노동 시장의 양극화	문제점	<ul style="list-style-type: none"> <li>지식 및 기술 집약적인 직종의 중요성이 커지고 기존 제조업에 고용된 많은 노동력이 기계로 대체</li> <li>직종에 따른 소득 격차를 심화시키며, 사회적 갈등을 초래하여 사회 통합을 방해 <small>(TIP) 기존의 인력이 새로운 일자리에서 적용할 수 있도록 새로운 기술을 배우는 것을 말해.</small></li> </ul>
	해결 방안	<ul style="list-style-type: none"> <li>국가 주도하에 적극적으로 재교육을 시행</li> <li>다양한 직종의 일자리를 늘리고, 기존 일자리를 첨단 기술과 융합하여 새로운 일자리를 창출</li> </ul>

## 3 지역의 변화와 지역 조사

### 01 지역의 변화와 지역 조사

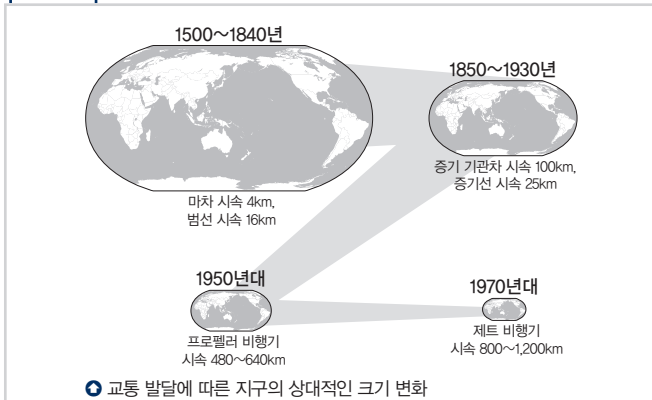
- 1. 지역의 변화:** 산업화와 도시화, 교통·통신과 과학기술의 발달에 따라 지역이 변화하는 과정에서 문제가 발생
- 2. 지역 조사 의미:** 지역의 변화 양상을 파악하고 지역에서 발생한 문제를 인식하며 지역의 지속가능한 발전을 위해 필요

### 02 지역 조사 과정 **자료 04**

지역 조사 계획 수립	<ul style="list-style-type: none"> <li>조사 주제 및 지역 선정</li> <li>조사 항목 선정 <small>(TIP) 도서관이나 인터넷 등을 주로 이용해.</small></li> </ul>
지역 정보 수집	<ul style="list-style-type: none"> <li><b>실내 조사:</b> 지도, 문헌, 사진, 위성·항공 사진, 통계 자료 수집, 야외 조사 계획 등 <small>(TIP) 야외 조사는 실내 조사 이후에 실시해.</small></li> <li><b>야외 조사:</b> 면담, 설문 조사, 관찰, 실측, 촬영 등</li> </ul>
지역 정보 분석 및 정리	<ul style="list-style-type: none"> <li>수집한 자료를 조사 항목별로 구분하여 정리</li> <li>그래프, 표, 통계 지도 등으로 표현</li> </ul>
보고서 작성	<ul style="list-style-type: none"> <li>조사 목적, 방법, 결과 등을 체계적으로 작성</li> </ul>

# 중요 자료 분석

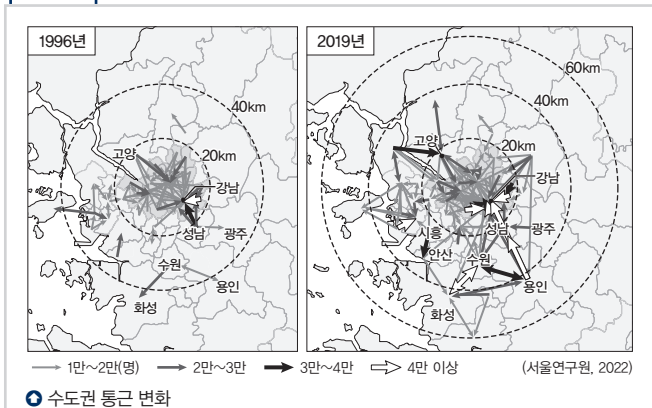
## 자료 01 교통의 발달과 공간의 축소



**자료 분석** 옛날에는 다른 지역으로 이동하거나 물자를 보낼 때 사람이 직접 걸어가거나 마차와 같은 교통수단을 이용하였다. 산업 혁명 이후 증기 기관의 발명으로 기차가 등장하고 20세기 내연 기관의 발명으로 자동차, 항공기 등의 **교통수단이 발달하면서** 사람들은 먼 거리를 빠르게 이동할 수 있게 되면서 공간을 축소시켰다. **①(1811) 교통수단의 발달로 경제활동과 일상생활의 범위가 확대되고, 생태환경의 변화가 나타났다.**

- (1) 교통의 발달은 시간과 공간이 축소되는 결과를 가지고 왔다. (○, ×)
- (2) 증기선 시대보다 범선 시대에 생활공간의 범위가 확대되었다. (○, ×)
- (3) 교통의 발달로 국제 무역의 범위가 증가하였다. (○, ×)

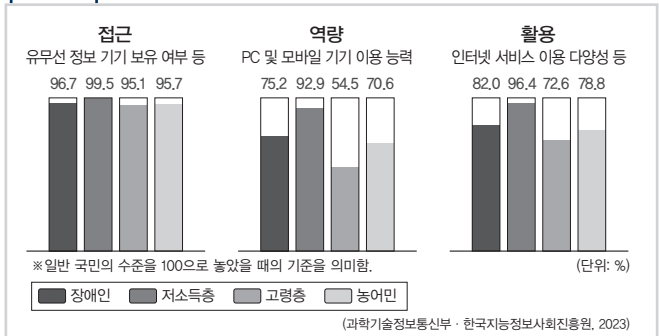
## 자료 02 생활공간의 변화



**자료 분석** 교통·통신의 발달로 이동에 필요한 시간과 비용이 감소하면서 지역 간 접근성이 향상되어 통근과 쇼핑 등 일상생활이 이루어지는 범위가 넓어졌다. 주거지와 공장 등이 도시 외곽 지역으로 이전하는 교외화 현상도 나타났다. 지하철과 고속 국도 등 광역 교통망이 발달한 대도시는 그 기능과 영향력이 주변 도시로 확대되면서 대도시권을 형성하였다.

- (1) 교통·통신의 발달로 지역 간 접근성이 감소하였다. (○, ×)
- (2) 교통·통신의 발달로 인구의 교외화 현상이 나타났다. (○, ×)
- (3) 교통·통신의 발달로 직장과 주거지가 분리되는 직주 분리 현상이 나타났다. (○, ×)

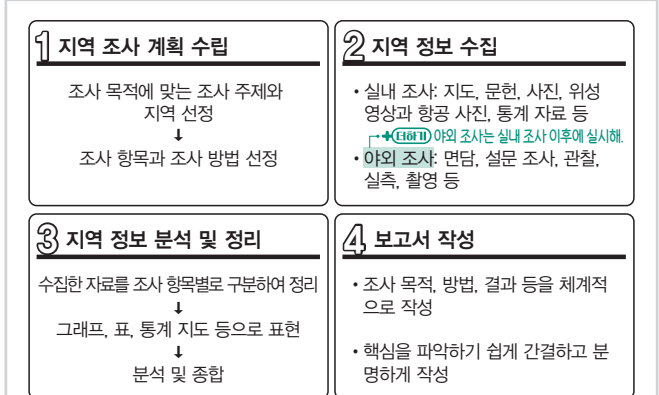
## 자료 03 우리나라 정보 격차 현황



**자료 분석** 정보 기기에 대한 접근은 역량이나 활용보다 상대적으로 지수가 높다. 정보 기기에 대한 접근은 고령층이 가장 낮으며, 접근이 낮을수록 정보 기기 이용 역량과 활용이 낮게 나타났다. 고령층 다음으로 농어민의 정보 기기 접근도가 낮았고, 역량과 활용 역시 고령층 다음으로 나타났다. 즉, 정보 기기의 접근성이 낮을수록 역량과 활용도도 비례해서 낮아졌다. 이는 정보 기기의 보유 여부(접근)가 정보 격차를 줄일 수 있는 해법이 될 수 있다. 정보 격차를 해소하기 위해서는 정보 취약 계층을 위한 기기 지원과 함께 정보 활용 교육이 필요하다.

- (1) 역량에서 일반 국민과 정보 격차가 가장 크게 나타나는 취약 계층은 저소득층이다. (○, ×)
- (2) 접근에서 점수가 가장 낮은 계층이 활용에서도 점수가 가장 낮다. (○, ×)

## 자료 04 지역 조사 과정



**자료 분석** 지역은 산업화와 도시화, 교통·통신과 과학기술의 발달에 따라 변화하는 과정에서 문제점이 나타나기도 한다. 지역의 변화 모습과 문제점을 파악하기 위해서는 다양한 지역 정보를 수집, 분석, 종합하는 지역 조사가 필요하다.

- (1) 모듬이 도서관에서 <○○ 통계 연보>를 찾아 사업체 수, 종사자 수 변화와 산업별 종사자 수 변화 자료를 수집한 것은 '지역 선정'에 해당한다. (○, ×)
- (2) 모듬이 경로당을 방문해서 ○○시에 오래 사신 어르신들을 면담한 것은 '야외 조사'에 해당한다. (○, ×)

## 01

다음 자료는 교통 발달에 따른 지역 변화에 대한 것이다. 이에 대한 옳은 설명만을 <보기>에서 고른 것은?

2029년 개통을 목표로 페마른벨트(Fehmarn belt) 해저 터널 공사가 진행되고 있다. 덴마크와 독일을 도로와 고속 철도로 연결하는 이 터널은 매년 수백만 명이 이용하는 기존의 여객선 노선을 대체할 것이다. 이에 따라 뢰드부 지역 주민의 □(가)이/가 예상된다. 또한 B 도로 이용 시 이동 거리가 현재 이용 중인 A 도로에 비해 약 160km 단축되어 코펜하겐과 함부르크 간의 육상 물류비가 크게 절감될 것이다. 한편, 일각에서는 해저 터널의 완공 후 교통 발달에 의한 ㉠ **빨대 효과**를 우려하기도 한다.

[보기]

- ㄱ. 해저 터널이 완공되면 코펜하겐의 접근성이 좋아질 것이다.
- ㄴ. ㉠은 대도시의 인구나 경제력이 주변 중소 도시로 분산되는 현상이다.
- ㄷ. (가)에는 '생활권 확대'가 들어갈 수 있다.
- ㄹ. 해저 터널이 완공되면 함부르크와 코펜하겐 간 이동 소요 시간은 A 도로가 B 도로보다 짧을 것이다.

- ① ㄱ, ㄴ                      ② ㄱ, ㄷ                      ③ ㄴ, ㄷ
- ④ ㄴ, ㄹ                      ⑤ ㄷ, ㄹ

### 해결 Flow

새로운 교통수단의 도입, 교통로 신설 등과 같이 **교통이 발달하면 접근성이 향상되어 생활권의 범위가 확대된다.**

그러나 새로운 도로가 개통되면 기존 도로의 이용률이 감소하여 기존 도로 주변의 중소 도시가 쇠퇴하고 대도시로의 인구나 경제력이 집중되는 **빨대 현상**이 나타나기도 한다.

### 자료 분석

덴마크 코펜하겐에서 독일 함부르크까지 가려면 기존의 A 도로를 이용하였지만, 해저 터널을 개통하여 코펜하겐과 함부르크 간의 B 도로가 개통되면 약 160km가 단축되면서 B 도로의 이용 횟수가 많아질 것이다. 따라서 코펜하겐과 함부르크와 같은 대도시의 인구나 경제력이 주변 중소 도시의 인구나 경제력을 빨아들이는 빨대 효과로 인해 주변 중소 도시가 쇠퇴할 것이라는 우려가 나타나고 있다.

### 선지 분석

- ✓ ㄱ. 해저 터널이 완공되면 코펜하겐의 접근성이 좋아질 것이다.
- ㄴ. ㉠은 주변 중소 도시의 인구나 경제력이 대도시로 집중되는 현상이다.
- ✓ ㄷ. (가)에는 '생활권 확대'가 들어갈 수 있다.
- ㄹ. 해저 터널이 완공되면 함부르크와 코펜하겐 간 이동 소요 시간은 B 도로가 A 도로보다 짧을 것이다.

## 02

다음 글에서 부각되는 정보 사회의 문제점으로 가장 적절한 것은?

급변하는 정보 사회에서는 정보를 가진 자와 못 가진 자, 정보를 활용하는 자와 활용하지 못하는 자로 나뉜다. 정보의 가치가 중요시되면서 정보는 소득, 재산, 권력, 지식과 같은 사회적 자원이 된다. 사회·경제적 지위가 높을수록 많은 정보를 차지하게 되고, 많은 정보를 차지할수록 사회·경제적 지위는 더 높아진다. 반대로 사회·경제적 지위가 낮을수록 차지할 수 있는 정보의 양은 적어지고, 이에 따라 사회·경제적 지위는 더 낮아진다.

- ① 개인 정보 유출과 사생활 침해 문제가 발생한다.
- ② 정보 격차는 사회 불평등을 심화시키는 요인이 된다.
- ③ 비대면 관계의 증가로 인한 인간 소외 현상이 나타난다.
- ④ 국가에 의한 정보 통제와 감시가 증가하는 문제가 나타난다.
- ⑤ 정보 통신 기기의 과다 사용으로 인한 중독 문제가 발생한다.

### 해결 Flow

정보 격차는 사회·경제적 격차를 발생시킨다.

따라서 정보 격차는 사회 불평등을 심화시킨다.

### 자료 분석

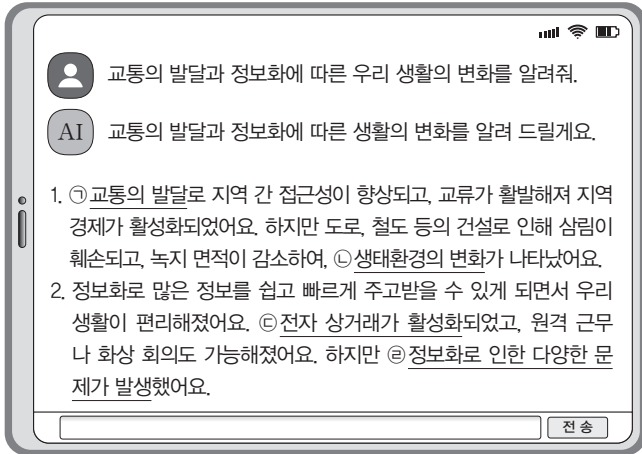
정보 사회에 정보의 가치가 중요해지면서 정보는 사회·경제적 지위에 큰 영향을 미치고 있다. 반대로 사회·경제적 지위가 높은 사람일수록 많은 정보를 차지한다. 즉, 정보 격차는 사회·경제적 불평등을 심화시키는 요인이 된다.

### 선지 분석

- ① 개인 정보 유출과 사생활 침해는 정보 사회의 문제점이나 제시문과 관련이 없다.
- ✓ ② 정보 격차는 사회 불평등을 심화시키는 요인이 된다.
- ③ 비대면 관계의 증가로 인한 인간 소외 현상은 정보 사회의 문제점이나 제시문과 관련이 없다.
- ④ 국가에 의한 정보 통제와 감시는 정보 사회의 문제점이나 제시문과 관련이 없다.
- ⑤ 정보 통신 기기의 과다 사용은 정보 사회의 문제점이나 제시문과 관련이 없다.

**01-1** 동형 문제

다음 자료는 학생이 생성형 인공지능과 대화한 내용의 일부이다. 밑줄 친 ㉠~㉢에 대한 옳은 설명만을 <보기>에서 있는 대로 고른 것은?



- 보기**
- ㄱ. ㉠으로 인해 개인의 일상생활 범위가 확대되었다.
  - ㄴ. ㉡의 사례로 '교통로 건설에 따른 야생 동물의 이동 통로 단절'을 들 수 있다.
  - ㄷ. ㉢으로 인해 소비 활동의 공간적 제약이 강화되었다.
  - ㄹ. ㉣로 지역 간, 계층 간 정보 격차 발생을 들 수 있다.

- ① ㄱ, ㄴ                      ② ㄱ, ㄷ                      ③ ㄷ, ㄹ
- ④ ㄱ, ㄴ, ㄹ                ⑤ ㄴ, ㄷ, ㄹ

**01-2** 통합형

다음 자료는 통합사회 수업 내용의 일부이다. (가)에 들어갈 학생의 적절한 답변만을 <보기>에서 고른 것은?

교사: 서울-춘천 고속 국도, 경춘선 복선 전철, 도시 간 특급열차(ITX)의 개통으로 서울-춘천 간 교통수단이 확충되었습니다. 이뿐만 아니라 강원도 춘천과 속초를 연결하는 동서 ㉠ 고속 철도 공사가 마침내 시작되었습니다. 오는 2027년 말 공사를 마치고 개통하면 서울에서 속초까지 1시간 39분 안에 이동할 수 있게 됩니다. 두 지역(서울, 춘천 혹은 속초)에 나타날 수 있는 변화로 어떤 것이 있을까요?

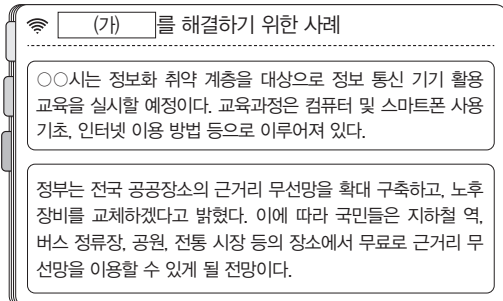
학생: \_\_\_\_\_ (가)

- 보기**
- ㄱ. 서울의 대학 병원 기능이 약화됩니다.
  - ㄴ. 물류의 평균 이동 시간이 감소합니다.
  - ㄷ. 서울-춘천 간 통근·통학 비율이 증가합니다.
  - ㄹ. ㉠은 생태 중심주의 자연관에서 비롯된 것이다.

- ① ㄱ, ㄴ                      ② ㄱ, ㄷ                      ③ ㄴ, ㄷ
- ④ ㄴ, ㄹ                      ⑤ ㄷ, ㄹ

**02-1** 동형 문제

다음 자료는 통합사회 수업 내용의 일부이다. (가)에 들어갈 내용으로 가장 적절한 것은?

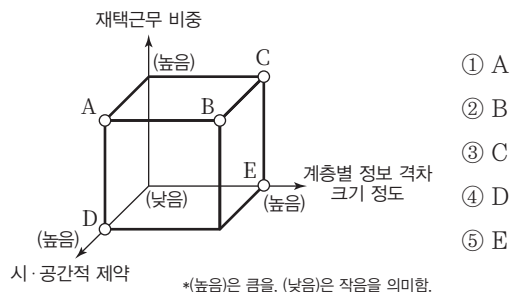


- ① 정보 격차 문제                      ② 사생활 침해 문제
- ③ 저작권 침해 문제                ④ 인터넷 중독 문제
- ⑤ 허위 정보 유포 문제

**02-2** 통합형

다음 자료에서 ㉠과 비교한 ㉡의 상대적 특징을 그림의 A~E에서 고른 것은?

㉠은/는 지식과 정보가 부의 원천이 되는 사회로, 정보 통신 기기를 이용해 많은 양의 정보를 신속하게 처리한다. 또한 인터넷이 발달함에 따라 사회와 생활양식에 다양한 변화가 나타난다. ㉡은/는 자본과 노동이 제품 생산의 중심이 되는 사회로, 공업과 서비스업의 비중이 높아지고 농업 사회에 비해 생산력과 생활 수준이 크게 향상된다.



- ① A
- ② B
- ③ C
- ④ D
- ⑤ E

# 수능 기본 문제

## 01 통합형

다음 자료는 고속 철도(KTX) 강릉선 개통에 따른 강원 지역의 변화를 나타낸 것이다. 이에 대한 옳은 설명만을 <보기>에서 고른 것은?

2018 평창 동계 올림픽 개최를 계기로 KTX 강릉선이 개통되면서 원주, 평창, 강릉 등은 서울과 1시간대로 연결되는 생활권이 되었다. 이전에는 서울역을 기준으로 강릉까지는 대략 6시간이 소요되었으나, 현재는 같은 구간을 1시간 42분 만에 주파할 수 있게 되었다. 강원 지역의 접근성이 좋아지면서 관광 수요가 많이 증가하였다. 강원 지역의 관광 사업체 수는 평창 동계 올림픽이 열리기 전인 2017년에는 1,387개였는데, 2022년에는 2,022개로 증가하였다.



고속 철도 개통에 따른 강원 지역의 변화

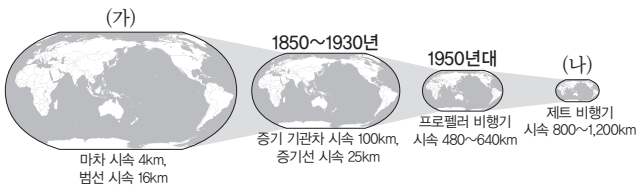
<보기>

- ㄱ. 서울로의 통학·통근의 범위가 확대되었다.
- ㄴ. 철도 노선의 모든 지역에서 인구가 증가하고 다양한 기능이 집중된다.
- ㄷ. 강원도를 찾는 관광객이 증가하면서 지역 경제 활성화에 도움이 된다.
- ㄹ. 동물의 이동 경로가 단절되면서 인간 중심주의 자연관의 중요성이 주목받았다.

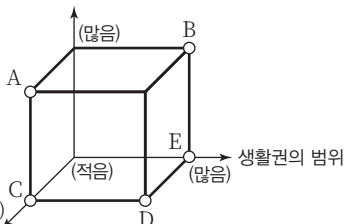
- ① ㄱ, ㄴ                      ② ㄱ, ㄷ                      ③ ㄴ, ㄷ
- ④ ㄴ, ㄹ                      ⑤ ㄷ, ㄹ

## 02

다음 자료의 (가) 시기와 비교한 (나) 시기의 상대적 특징을 그림의 A~E에서 고른 것은?



시·공간적 제약

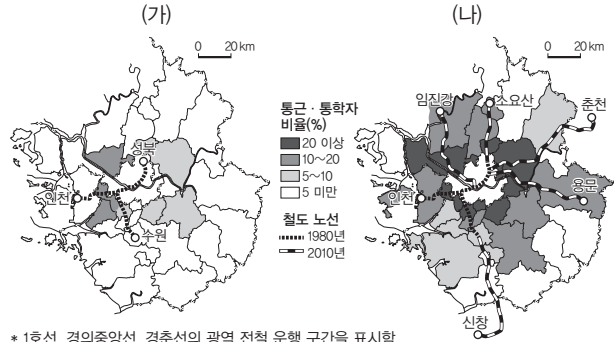


- ① A
- ② B
- ③ C
- ④ D
- ⑤ E

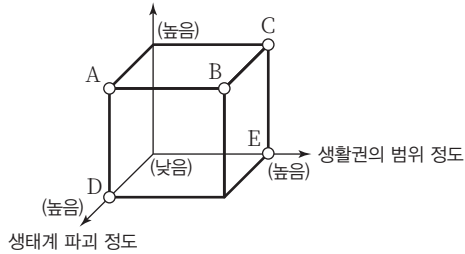
\* (높음)은 큼, 넓음을, (적음)은 작음, 좁음을 의미함.

## 03

다음 자료의 (가) 시기와 비교한 (나) 시기의 상대적 특징을 그림의 A~E에서 고른 것은?



교통의 발달 정도

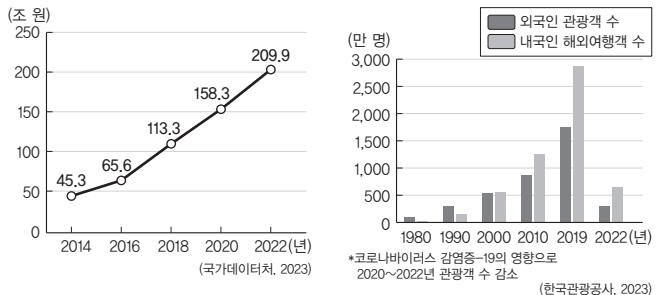


- ① A
- ② B
- ③ C
- ④ D
- ⑤ E

\* (높음)은 큼, 넓음을, (낮음)은 작음, 좁음을 의미함.

## 04

그래프는 인터넷 쇼핑 시장 규모 변화와 우리나라를 찾는 외국인 관광객 수와 내국인 해외여행객 수를 나타낸 것이다. 이에 대한 옳은 설명만을 <보기>에서 고른 것은?



인터넷 쇼핑 시장 규모 변화

우리나라를 찾는 외국인 관광객 수와 내국인 해외여행객 수

<보기>

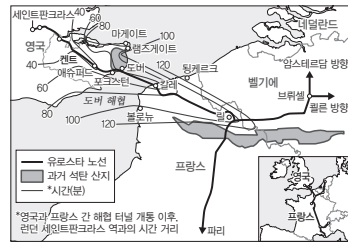
- ㄱ. 개인 정보 유출에 대한 사생활 침해가 감소하였다.
- ㄴ. 2010년대에 내국인 해외여행객 수가 빠르게 증가하였다.
- ㄷ. 교통·통신 발달에 따른 생활양식의 변화가 나타나고 있다.
- ㄹ. 인터넷 쇼핑 시장이 커지면서 대면 접촉의 빈도가 증가하였다.

- ① ㄱ, ㄴ                      ② ㄱ, ㄷ                      ③ ㄴ, ㄷ
- ④ ㄴ, ㄹ                      ⑤ ㄷ, ㄹ

## 05

다음 자료는 교통 발달에 따른 지역 변화에 대한 것이다. 이에 대한 옳은 설명만을 <보기>에서 있는 대로 고른 것은?

1994년 영국과 프랑스 간 해협 터널의 개통은 고속 철도(유로스타) 운행을 영국까지 가능하게 하였다. 2007년, 런던 세인트판크라스역까지의 연장 사업이 마무리됨에 따라 런던에서 브뤼셀까지는 2시간, 파리까지는 2시간 15분이 걸리게 되었다. 특급 열차와 고속 페리로 도버 해협을 건너 8시간이 걸렸던 길이 획기적으로 단축된 것이다. 그 결과 유로스타는 항공사와의 경쟁에서도 우위를 보여 2011년 80%가 넘는 수송 분담률을 기록하였다.



해협 터널 개통 이후 런던과의 시간 거리

### 보기

- ㄱ. 영국, 프랑스, 벨기에 모두 생활권의 범위가 확대되었다.
- ㄴ. 해협 터널이 완공되면서 영국과 프랑스 간의 접근성이 좋아졌다.
- ㄷ. 고속 철도 주변의 모든 도시들은 경제가 활성화되는 효과를 누린다.
- ㄹ. 해저 터널이 완공되면서 런던과 브뤼셀 간 이동 소요 시간은 유로스타가 특급 열차와 고속 페리보다 짧아졌다.

- ① ㄱ, ㄴ                      ② ㄷ, ㄹ                      ③ ㄱ, ㄴ, ㄷ
- ④ ㄱ, ㄴ, ㄹ                ⑤ ㄴ, ㄷ, ㄹ

## 06

다음 자료의 (가)에 들어갈 내용으로 가장 적절한 것은?

발표 주제: (가)

갑: 예전에는 주말마다 점포에 손님들이 북적였는데 요즘에는 다들 대도시로 쇼핑하러 간다네요. 매출이 많이 떨어져서 직원을 줄일 수밖에 없다는 이야기에 직원들의 걱정이 많아요.

을: 우리 지역에서 처음 보는 동물이 발견되었다는 주민 신고가 접수되어 수색 활동 중이에요. 근래에는 이런 일들이 간혹 발생하는데 불법 수입 등 다양한 경로로 외래종이 유입되고 있어서 걱정입니다.

병: 전염성이 강한 질병이 국내로 전파되어 우리 국민이 피해를 입고 있어요. 다른 국가와의 교류가 증가하면서 이러한 피해가 많이 발생하고 있습니다.

- ① 교통 발달에 따른 새로운 사회 문제
- ② 관광 산업을 통한 지역 경제 재활성화 방안
- ③ 고속 철도 구축에 따른 지역 간 접근성 차이
- ④ 수운 교통의 발달로 인한 외래 생물종의 유입 과정
- ⑤ 수도권에 있는 고속 국도의 개통이 지역 경제에 미치는 영향

## 07

다음 자료의 ㉠~㉢에 대한 옳은 설명만을 <보기>에서 고른 것은?

### 제목:

2018년 평창 동계 올림픽을 앞두고 개통한 ㉠고속 철도 강릉선은 서울 청량리에서 강릉까지의 소요 시간을 약 6시간에서 1시간 30분으로 단축해 주었다. 이렇게 ㉡접근성이 크게 향상되면서 2022년



고속 철도 강릉선 노선도

강원특별자치도를 방문한 관광객 수는 2018년과 비교했을 때 약 15% 이상 증가하였다. 올림픽이 열렸던 평창군에도 많은 변화가 나타났다. 평창의 지역 축제는 방문객이 많이 늘었고, 고속 철도 정착역 부근은 관광객이 많아져 상권이 성장하였다. 그러나 노선이 통과하지 않는 평창군 남부 지역은 이러한 효과를 보지 못했다. 또한 평창 주민들이 쇼핑 등의 목적으로 접근성이 개선된 다른 지역으로 빠져나가 지역 상권이 크게 위축되었으며, ㉢고속 철도가 시외버스 이용객의 상당수를 흡수하면서 시외버스 노선 수가 급감하는 문제도 나타났다.

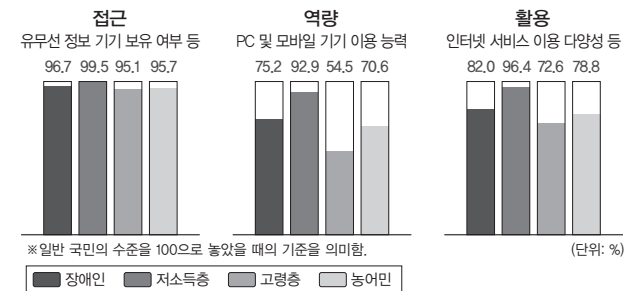
### 보기

- ㄱ. ㉠에는 '고속 철도 강릉선 개통에 따른 긍정적 효과'가 들어갈 수 있다.
- ㄴ. ㉠은 정보 통신의 발달에 해당한다.
- ㄷ. ㉡으로 인해 생활권의 범위가 확대되었다.
- ㄹ. ㉢은 빨대 효과에 해당한다.

- ① ㄱ, ㄴ                      ② ㄱ, ㄷ                      ③ ㄴ, ㄷ
- ④ ㄴ, ㄹ                      ⑤ ㄷ, ㄹ

## 08

그래프에 나타난 정보화에 따른 문제점을 해결하기 위한 방안으로 가장 적절한 것은?



### 계층별 정보 격차

- ① 정보 윤리 교육을 실시한다.
- ② 개인정보보호법을 정비하고 강화한다.
- ③ 모든 정보의 처리 과정을 비공개로 전환한다.
- ④ 인터넷 중독 및 예방 치료 프로그램을 시행한다.
- ⑤ 정보 소외 계층을 위한 정보 격차 해소 교육을 확충한다.

## 09

다음 자료는 디지털 정보 격차에 대한 것이다. 이에 대한 옳은 설명만을 <보기>에서 고른 것은?

과학기술 정보통신부는 매년 모바일 기반 스마트 환경에서 접근, 역량, 활용 부문별 정보 격차를 평가해 보고서를 발표한다. 디지털 기술이 고도화되면서 계층별 경험과 자원, 역량 차이가 커져 불평등 문제가 심화하고 있다. 취약 계층의 정보화 수준은 점차 향상되고 있지만, 계층 간 격차는 여전히 크다.

구분	2018년	2019년	2020년	2021년	2022년
장애인	74.6	75.2	81.3	81.7	82.2
고령층	63.1	64.3	68.6	69.1	69.9
저소득층	86.8	87.8	95.1	95.4	95.6
농어민	69.8	70.6	77.3	78.1	78.9
총합	68.9	69.9	78.7	75.4	76.2

\*일반 국민의 디지털 정보화 수준을 100으로 놓고 평가한 상대값임.  
(과학기술정보통신부, 2023)

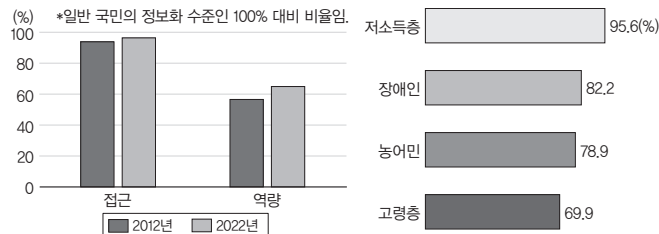
보기

- ㄱ. 정보화에 가장 취약한 계층은 저소득층이다.
- ㄴ. 정보 취약 계층의 종합 수치가 지속적으로 감소하고 있다.
- ㄷ. 2018년 대비 2022년 정보화 수준의 변화가 가장 적은 계층은 고령층이다.
- ㄹ. 정보 격차는 계층 간 격차를 더욱 크게 하는 문제를 해결하기 위해서는 정보화 교육이 필요하다.

- ① ㄱ, ㄴ                      ② ㄱ, ㄷ                      ③ ㄴ, ㄷ
- ④ ㄴ, ㄹ                      ⑤ ㄷ, ㄹ

## 10 통합형

그래프에 나타난 정보화의 문제점과 해결 방안으로 옳은 것은?



\*일반 국민의 정보화 수준인 100% 대비 비율임.  
(과학기술정보통신부, 2023)

- ① 정보 취약 계층의 디지털 정보화 수준
- ② 계층별 디지털 정보화 수준(2022년)

문제점

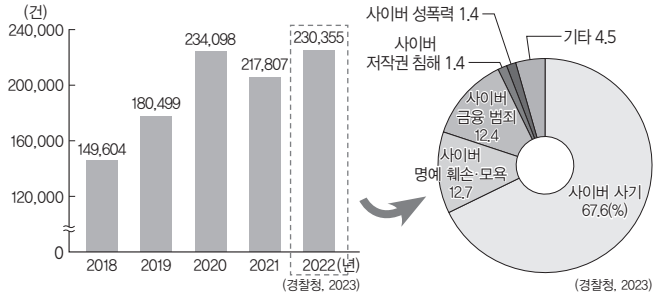
- ① 정보 격차
- ② 사생활 침해
- ③ 사이버 폭력
- ④ 인터넷 중독
- ⑤ 개인 정보 유출

해결 방안

- ① 소외 계층에 정보 기기 지원 및 교육
- ② 사이버 예방 교육 강화
- ③ 올바른 인터넷 습관 확립
- ④ 기업 및 정부에 대한 감시 체계 구축
- ⑤ 개인 정보의 중요성 인식 교육

## 11

그래프는 정보화에 따른 문제점을 나타낸 것이다. 이에 대한 옳은 설명만을 <보기>에서 고른 것은?



- ① 사이버 범죄 발생 건수
- ② 사이버 범죄 유형별 발생 비율

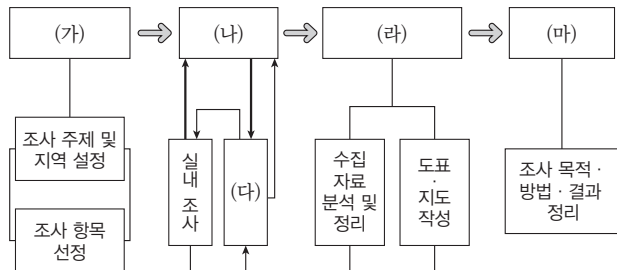
보기

- ㄱ. 소득 계층 간 정보 격차를 확대한다.
- ㄴ. 최근 발생 건수가 빠르게 감소하는 추세이다.
- ㄷ. 해결 방안으로 정보 통신 윤리 교육의 확대를 들 수 있다.
- ㄹ. 인터넷 가상 공간의 확대 및 접근성 향상이 주요 원인이다.

- ① ㄱ, ㄴ                      ② ㄱ, ㄷ                      ③ ㄴ, ㄷ
- ④ ㄴ, ㄹ                      ⑤ ㄷ, ㄹ

## 12

그림은 지역 조사 과정을 나타낸 것이다. (가)~(마)에 대한 내용으로 옳지 않은 것은?



지역 조사 과정

- ① (가) - 지역 조사 계획 수립
- ② (나) - 지역 조사 주제 선정
- ③ (다) - 야외 조사
- ④ (라) - 지역 정보 분석
- ⑤ (마) - 조사 보고서 작성

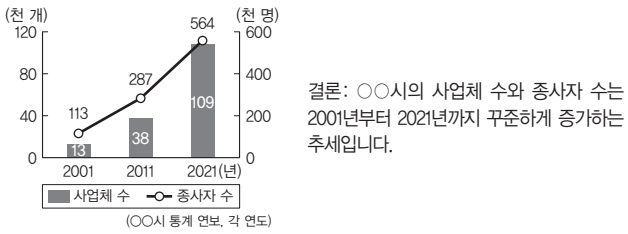
# 13

다음 자료는 어느 지역의 지역 문제를 해결하기 위해 지역 조사를 실시한 자료이다. ㉠~㉣에 해당하는 지역 조사 과정의 단계로 옳은 것은?

㉠ 단계에서는 조사 항목별로 모둠을 나누고, 모둠별로 조사 방법을 정한다.

구분	모둠	조사 항목
1	토지 이용 변화	국토 정보 플랫폼에서 항공 사진 수집, 통계청에서 토지 이용 현황 수집
2	인구 변화	국가 통계 포털에서 인구 변화 수집
3	산업 구조	국가데이터처에서 ○○시의 사업체 수와 산업별 종사자 수 수집

㉡ 단계에서는 모둠에서 수집한 지역 정보를 분석하여 도표, 그래프, 통계 지도로 표현하고, 정리한 자료를 비교, 분석, 종합하여 결론을 도출한다.



㉢ 단계에서는 <○○시 통계 연보>를 찾아 사업체 수, 종사자 수 변화 자료를 수집한다.

구분	사업체 수(개)	사업체 종종사자 수(명)
2001년	13,892	113,723
2021년	109,971	564,646

- ㉠                      ㉡                      ㉢
- ① 조사 계획 수립    지역 정보 수집    지역 정보 분석 및 정리
  - ② 조사 계획 수립    조사 보고서 작성    지역 정보 수집
  - ③ 조사 계획 수립    지역 정보 분석 및 정리    지역 정보 수집
  - ④ 지역 정보 수집    조사 계획 수립    지역 정보 분석 및 정리
  - ⑤ 지역 정보 수집    지역 정보 분석 및 정리    조사 보고서 작성

# 14

다음은 지역 조사 과정을 나열한 것이다. (가)~(라)를 순서대로 옳게 배열한 것은?

- (가) 수집된 지역 정보를 정리 및 분석한다.
- (나) 지역 조사 목적, 주제, 조사 대상 지역을 선정한다.
- (다) 통계청에서 관련 통계를 수집하고, 도서관에서 관련 문헌을 검색한다.
- (라) 조사 대상 지역을 답사하며 지역 주민을 인터뷰하고 실제 모습을 촬영한다.

- ① (가) → (나) → (다) → (라)    ② (가) → (다) → (라) → (나)
- ③ (가) → (라) → (다) → (나)    ④ (나) → (다) → (라) → (가)
- ⑤ (나) → (라) → (다) → (가)

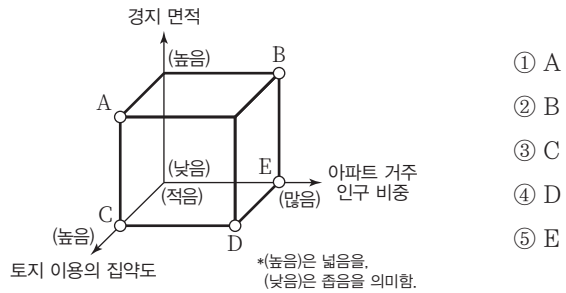
# 15

다음 자료는 어느 지역의 지역 정보 수집 과정에서 토지 이용 변화를 파악한 것이다. 과거와 비교한 현재의 상대적 특징을 그림의 A~E에서 고른 것은?

우리 모둠의 실내 조사팀은 이 지역의 변화를 알아보기 위해 먼저 사진 자료를 수집하였습니다. 국토 정보 플랫폼에서 공업 단지가 들어서기 전의 모습을 알 수 있는 시대별 항공 사진을 수집하였습니다. 야외 조사팀은 산 정상에서 공단 지역을 촬영하였습니다. 과거 염전이었던 곳에 지금은 많은 공장이 들어서 있는 것을 확인할 수 있었습니다.

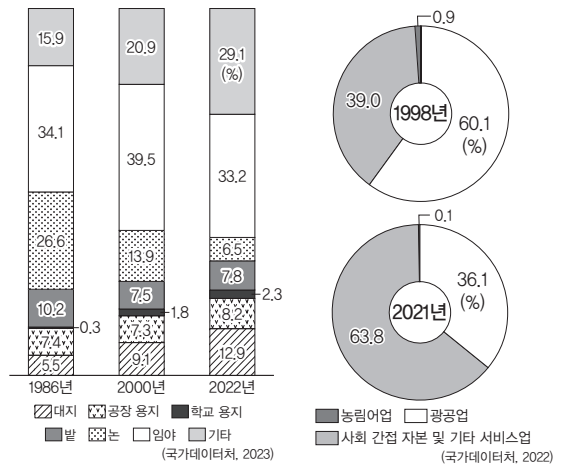


● 시화 지구 개발 전(1980년대)                      ● 시화 국가 산업 단지(2020년대)



# 16

그래프는 지역 조사 보고서의 토지 이용 변화와 산업별 취업자 변화를 나타낸 것이다. 이에 대한 옳은 설명만을 <보기>에서 고른 것은?



● 용도별 토지 이용 변화                      ● 산업별 취업자 변화

- 보기
- ㄱ. 공동체 의식이 증가하였을 것이다.
  - ㄴ. 토지 이용의 집약도가 감소하였다.
  - ㄷ. 1차 산업 종사자 비중이 감소하였다.
  - ㄹ. 도시적 생활양식과 개인주의적 가치관이 증가했을 것이다.

- ① ㄱ, ㄴ                      ② ㄱ, ㄷ                      ③ ㄴ, ㄷ
- ④ ㄴ, ㄹ                      ⑤ ㄷ, ㄹ

# 1등급 완성 문제



## 01

다음 자료를 보고 예상할 수 있는 지역의 변화만을 <보기>에서 있는 대로 고른 것은?

### 첫 비수도권 광역 전철

동해남부선 광역 전철 개통! 부산·울산·경북 메가시티의 교통 대동맥인 동남권 4개 광역 전철이 2021년 12월 28일 정식 개통되었다. 이는 비(非)수도권 최초이자, 1974년 수도권 광역 전철 개통 이래 47년 만의 광역 전철이기도 하다.

### 대경선, 하루 평균 2만 8천 명 이용

2024년 개통된 대경선 총이용자가 87만 2,000명, 하루 평균 2만 8,000명이다. 평일 평균 이용자 수는 2만 6,123명이고, 주말 평균은 3만 2,391명이다. 수송 현황 분석 결과 대경선은 도시 철도 1, 2호선과 달리 평일보다 휴일, 출퇴근 시간대보다 낮 시간대 승객이 많아 고정 승객보다는 관광, 쇼핑 등을 위해 이용되는 것으로 분석되었다.

### <보기>

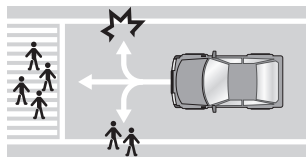
- ㄱ. 광역 전철역 주변의 상권이 활성화된다.
- ㄴ. 지역 간 이동되는 평균 소요 시간이 단축된다.
- ㄷ. 부산, 대구, 울산 등의 생활권 범위가 확대된다.
- ㄹ. 대도시뿐만 아니라 주변 중소 도시의 상권도 함께 확대된다.

- ① ㄱ, ㄴ                      ② ㄷ, ㄹ                      ③ ㄱ, ㄴ, ㄷ
- ④ ㄱ, ㄷ, ㄹ                ⑤ ㄴ, ㄷ, ㄹ

## 02 통합형

밑줄 친 ㉠~㉣에 대한 설명으로 옳지 않은 것은?

㉠ 과학기술의 발달로 새롭게 등장한 ㉡ 현대 사회의 문제들을 ㉢ 해결하기 위해서는 다양한 관점에서 총체적 접근이 필요하다. 예를 들어 '자율주행 자동차의 주행 시스템은 돌발 상황에서 차량 탑승자와 보행자 중 누구를 보호하도록 설계되는 것이 바람직한가?'라는 쟁점이 생길 수 있다. 이를 해결하기 위해서는 무엇보다 ㉣ 윤리적 관점과 ㉤ 사회적 관점의 접근이 요구된다.



- ① ㉠: 정보 통신 기술을 활용하는 정보화가 이루어졌다.
- ② ㉡: 정보 격차, 노동 시장의 양극화 등이 있다.
- ③ ㉢: 개인적 차원을 넘어 국가적 차원에서 적절한 해결 방안을 마련해야 한다.
- ④ ㉣: 이루어질 수 있는 활동으로 '연도별 자율 주행 자동차의 구입 현황 비교하기'가 있다.
- ⑤ ㉤: 이루어질 수 있는 활동으로 '자율 주행 자동차에 적합한 교통 제도를 수립하고 제도의 변화가 사회에 미칠 영향 예측하기'가 있다.

## 03

다음은 어느 학생이 작성한 여행기의 일부이다. 밑줄 친 ㉠~㉣에 대한 옳은 설명만을 <보기>에서 고른 것은?

2025년 ○월 ○일

부모님과 함께 가족 여행으로 부산, 거제 일대를 갔다. 부모님께서서는 예전에 부산에서 거제도를 가려면 2시간이 넘게 걸렸다고 말씀하셨다. 그런데 2010년에 ㉠ 새로 개통된 거가대교를 통과하니 1시간도 채 걸리지 않아 거제도에 도착하였다. 부모님께서서는 세상 많이 좋아졌다고 말씀하셨다. 여행 중 거제도의 한 식당 사장님은 ㉡ 거가대교 개통 이후 관광객이 많이 늘어나 지역 상인들이 장사할 맛이 난다고 하셨다. 하지만 ㉢ 관광객의 증가로 지역 주민들이 피해를 입기도 한다는 말씀에 마음이 무겁기도 하였다. 집으로 돌아오는 길에 여행 중 먹지 못해 아쉬웠던 굴을 ㉣ 스마트폰으로 주문하였다.

### <보기>

- ㄱ. ㉠으로 인해 부산과 거제도 간 접근성은 낮아졌다.
- ㄴ. ㉡을 통해 거가대교 개통이 거제도의 지역 경제 활성화에 이바지함을 알 수 있다.
- ㄷ. ㉢의 사례로 관광객의 쓰레기 무단 투기 증가를 들 수 있다.
- ㄹ. ㉣의 등장으로 소비자의 상품 구입에 대한 시·공간적 제약은 강화되었다.

- ① ㄱ, ㄴ                      ② ㄱ, ㄷ                      ③ ㄴ, ㄷ
- ④ ㄴ, ㄹ                      ⑤ ㄷ, ㄹ

## 04

다음 (가)~(라) 사례에 대한 설명으로 옳은 것은?

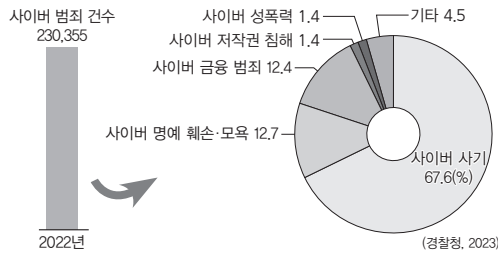
(가)	과거 부여는 강경과 함께 금강 수운의 중심으로 변화기를 이루면서 지역 경제의 중심지 역할을 하였다. 그러나 도로와 철도 등 육상 교통의 발달로 교통 체계가 변화하면서 지역의 중심 기능이 천안, 대전 등지로 이전하였고 지역 경제가 침체하였다.
(나)	서울과 춘천을 잇는 고속 국도가 개통되면서 춘천의 인구가 증가하였고 관광객이 늘면서 음식·숙박업의 매출액이 증가하였다. 반면 서울-춘천 간 고속 국도 개통 이전까지만 해도 서울과 춘천을 잇는 유일한 도로였던 경춘 국도는 통행량이 급감하면서 국도 주변 지역의 식당은 폐업이 속출하고 있다.
(다)	갑은 사회 관계망 서비스(SNS)에 국가 정책에 대한 자신의 견해를 담은 게시글을 올렸다. 어떤 누리꾼이 게시글에 반박 댓글을 달자, 갑은 재반박하는 댓글을 달았다.
(라)	을은 장기 입원 중인 학생으로 교사의 실시간 원격 수업을 수강한다. 학습 수준을 고려한 수준별 생방향 수업을 통해 을은 학업을 지속하고 있다.

- ① (가)는 교통 발달에 따른 지역의 변화를 보여 주고 있다.
- ② (나)에 기반한 연구에서 고속 국도 개통으로 인한 춘천의 관광객 증가를 주제로 선정할 수 있다.
- ③ (다)는 대면적 인간관계가 강화되는 모습이 나타난다.
- ④ (라)는 정보 교류의 공간적 제약이 확대되는 현상을 보여 준다.
- ⑤ (가)~(라) 모두 정보 통신의 발달 결과 나타난 현상이다.

# 05

다음 자료에서 정보 사회의 문제점을 해결하기 위한 방안만을 <보기>에서 있는 대로 고른 것은?

사이버 범죄 중 발생 비율이 가장 높은 유형은 사이버 사기이다. 사이버 사기의 대표적인 수법은 중고 거래 앱에서 이루어지는 직거래 사기이다. 두 번째로 발생 비율이 높은 사이버 명예 훼손·모욕은 가짜 뉴스, 악성 댓글 등이 무분별하게 퍼지면서 피해 사건이 계속 늘어나고 있다. 세 번째로 발생 비율이 높은 사이버 금융 범죄는 최근 인공지능(AI) 기술을 이용해 얼굴과 음성을 피해자의 지인인 것처럼 흉내 내 상대방을 속이고 돈을 가로챈 정도로 그 수법이 치밀해지고 있다.



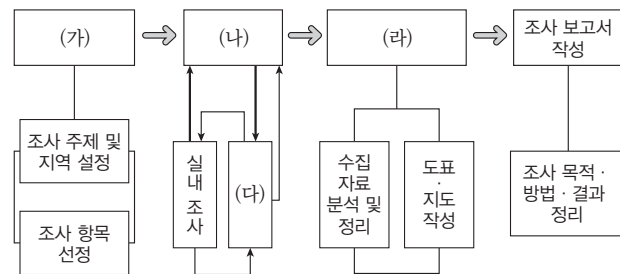
### 보기

- ㉠. 정보 통신 윤리 교육의 확대
- ㉡. 개인 정보의 중요성 인식 교육
- ㉢. 기업 및 정부의 감시망 체계 구축
- ㉣. 소외 계층에 대한 정보 기기 지원 및 역량 강화 교육

- ① ㉠, ㉡
- ② ㉡, ㉢
- ③ ㉠, ㉡, ㉢
- ④ ㉠, ㉢, ㉣
- ⑤ ㉡, ㉢, ㉣

# 06

그림은 지역 조사 과정을 나타낸 것이다. (가)~(라) 단계 활동으로 적절한 것만을 <보기>에서 고른 것은?

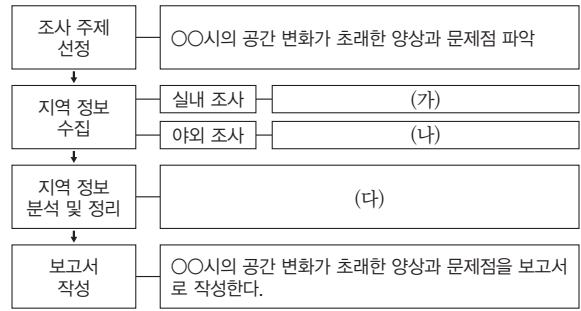


### 보기

- ㉠. (가) - 지역의 지도와 통계 자료를 수집한다.
- ㉡. (나) - 연구 주제에 적합한 지역 정보를 수집한다.
- ㉢. (다) - 주민들을 대상으로 면담 조사를 실시한다.
- ㉣. (라) - 수집된 자료를 바탕으로 조사 보고서를 작성한다.

- ① ㉠, ㉡
- ② ㉠, ㉢
- ③ ㉡, ㉢
- ④ ㉡, ㉣
- ⑤ ㉢, ㉣

[07~08] 다음은 ○○시의 지역 문제 파악을 위한 지역 조사 과정을 나타낸 것이다. 이를 보고 물음에 답하시오.



# 07

(가)~(다)에 들어갈 적절한 활동만을 <보기>에서 고른 것은?

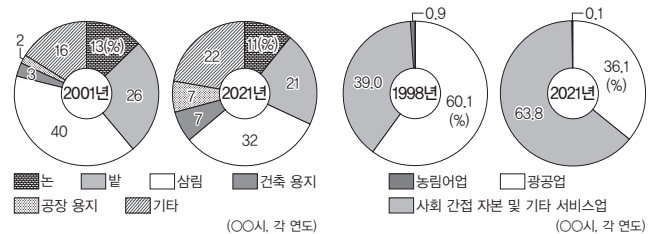
### 보기

- ㉠. 자료를 도표, 그래프, 통계 지도로 표현 및 정리한 자료를 비교, 분석, 종합한다.
- ㉡. 국가 통계 포털에서 ○○시 인구 자료를 수집하고, ○○시의 인구 증가와 관련된 신문 기사를 찾는다.
- ㉢. ○○시 주민들의 인간관계 및 가치관 변화와 관련된 설문 조사 결과를 찾아, 경로당을 방문해서 ○○시에 오래 사신 어르신들을 면담한다.

- |   | (가) | (나) | (다) |
|---|-----|-----|-----|
| ① | ㉠   | ㉡   | ㉢   |
| ② | ㉠   | ㉢   | ㉡   |
| ③ | ㉡   | ㉠   | ㉢   |
| ④ | ㉡   | ㉢   | ㉠   |
| ⑤ | ㉢   | ㉡   | ㉠   |

# 08

그래프는 ○○시 지역 조사 결과를 나타낸 보고서의 일부 내용이다. 이에 대한 옳은 설명만을 <보기>에서 고른 것은?



① 토지 이용 변화      ② 산업 구조 변화

### 보기

- ㉠. 토지 이용의 집약도가 낮아졌다.
- ㉡. 농림어업 종사자 비율이 감소하였다.
- ㉢. 자연 상태의 토지 비율이 증가하였다.
- ㉣. 산업 구조의 변화로 직업의 다양성이 증가하였다.

- ① ㉠, ㉡
- ② ㉠, ㉢
- ③ ㉡, ㉢
- ④ ㉡, ㉣
- ⑤ ㉢, ㉣

# 통합사회2

## » 시험 출제 예상 포인트

### I. 인권 보장과 헌법

인권의 의미와 현대 사회의 인권	<ul style="list-style-type: none"><li>· 인권의 특징 이해</li><li>· 인권 확장의 과정 파악</li></ul>	<ul style="list-style-type: none"><li>· 인권 3세대론 비교 이해</li><li>· 현대 사회의 인권의 종류와 특징 이해</li></ul>
인권 보장을 위한 헌법의 역할과 시민 참여	<ul style="list-style-type: none"><li>· 기본권의 종류와 특징 이해</li><li>· 기본권 제한과 기본권 제한의 한계 이해</li><li>· 인권 보장을 위한 제도적 장치 이해</li></ul>	<ul style="list-style-type: none"><li>· 시민 참여의 방법과 필요성 이해</li><li>· 시민불복종의 정당화 조건과 사례 이해</li></ul>
인권 문제의 양상과 해결 방안	<ul style="list-style-type: none"><li>· 사회적 소수자의 의미 이해</li><li>· 청소년 노동권 침해와 해결 방안 이해</li></ul>	<ul style="list-style-type: none"><li>· 세계 인권 문제의 양상 이해</li><li>· 세계 인권 문제의 주체별 해결 방안 이해</li></ul>

### II. 사회정의와 불평등

정의의 의미와 실질적 기준	<ul style="list-style-type: none"><li>· 아리스토텔레스의 정의관 이해</li><li>· 정의의 필요성 이해</li><li>· 분배적 정의와 교정적 정의 비교</li></ul>	<ul style="list-style-type: none"><li>· 교정적 정의에 관한 칸트와 벤담의 입장 비교</li><li>· 분배적 정의의 실질적 기준 비교</li></ul>
다양한 정의관의 특징과 적용	<ul style="list-style-type: none"><li>· 자유주의와 공동체주의 비교</li><li>· 자유주의적 정의관과 공동체주의적 정의관 비교</li><li>· 롤스와 노직의 정의관 비교</li></ul>	<ul style="list-style-type: none"><li>· 롤스와 매킨타이어의 정의관 비교</li><li>· 개인과 공동체의 바람직한 관계에 대한 입장 비교</li></ul>
사회 및 공간 불평등 현상과 개선 방안	<ul style="list-style-type: none"><li>· 사회 계층의 양극화 현상 이해</li><li>· 우리나라의 공간 불평등 이해</li></ul>	<ul style="list-style-type: none"><li>· 사회 복지 제도 이해</li><li>· 적극적 평등 실현 조치에 대한 찬반 입장 비교</li></ul>

### III. 시장경제와 지속가능발전

자본주의 시장경제의 발전	<ul style="list-style-type: none"> <li>· 자본주의의 의미와 특징 이해</li> <li>· 자본주의의 역사적 전개 과정 이해</li> </ul>	<ul style="list-style-type: none"> <li>· 시장경제 체제와 계획경제 체제의 특징 비교</li> </ul>
합리적 선택과 경제 주체의 역할	<ul style="list-style-type: none"> <li>· 합리적 선택의 의미 이해</li> <li>· 기회비용 계산과 합리적 선택 이해</li> </ul>	<ul style="list-style-type: none"> <li>· 합리적 선택의 한계와 시장 실패 이해</li> <li>· 지속가능발전을 위한 각 경제 주체의 역할 이해</li> </ul>
자산 관리와 금융 생활 설계	<ul style="list-style-type: none"> <li>· 자산 관리의 원칙 파악</li> <li>· 금융 자산의 특징 비교</li> </ul>	<ul style="list-style-type: none"> <li>· 경제적·사회적 환경의 변화에 따른 금융 의사 결정 이해</li> </ul>
국제 분업과 무역	<ul style="list-style-type: none"> <li>· 국제 분업과 무역의 필요성 이해</li> <li>· 국제 분업과 무역의 발생 원리 이해</li> </ul>	<ul style="list-style-type: none"> <li>· 지속가능발전에 기여하는 국제 무역의 방향 파악</li> </ul>

### IV. 세계화와 평화

세계화의 양상과 미래	<ul style="list-style-type: none"> <li>· 세계화와 지역화에 대한 이해</li> <li>· 세계도시의 특성 파악</li> </ul>	<ul style="list-style-type: none"> <li>· 다국적 기업에 의한 세계화 양상 파악</li> <li>· 세계화에 따른 문제점과 해결 방안 파악</li> </ul>
국제 사회의 모습과 평화를 위한 노력	<ul style="list-style-type: none"> <li>· 소극적 평화와 적극적 평화 비교</li> <li>· 갈등의 평화론 이해</li> </ul>	<ul style="list-style-type: none"> <li>· 국제 관계에 대한 현실주의와 이상주의 입장 비교</li> <li>· 국제 관계에 대한 모건소와 칸트의 입장 비교</li> </ul>
남북 분단 및 동아시아 역사 갈등과 세계 평화를 위한 노력	<ul style="list-style-type: none"> <li>· 남북 분단의 배경에 대한 이해</li> <li>· 통일에 대한 입장 비교</li> </ul>	<ul style="list-style-type: none"> <li>· 독일 통일에서 얻을 수 있는 교훈 파악</li> <li>· 동아시아 역사 갈등에 대한 이해</li> </ul>

### V. 미래와 지속가능한 삶

인구 문제의 양상과 해결 방안	<ul style="list-style-type: none"> <li>· 세계의 인구 성장과 인구 구조 이해</li> <li>· 세계의 인구 분포와 인구 이동 양상 파악</li> </ul>	<ul style="list-style-type: none"> <li>· 세계의 인구 문제와 해결 방안 파악</li> <li>· 우리나라의 인구 문제와 해결 방안 파악</li> </ul>
자원 소비와 지속가능한 발전	<ul style="list-style-type: none"> <li>· 자원의 의미와 특성 파악</li> <li>· 주요 에너지 자원의 특징 비교</li> </ul>	<ul style="list-style-type: none"> <li>· 자원 생산 및 소비 과정의 문제와 대책 파악</li> <li>· 지속가능한 발전을 위한 노력 파악</li> </ul>
미래 사회와 세계시민으로서의 삶	<ul style="list-style-type: none"> <li>· 과학기술의 발달에 따른 윤리적 문제 파악</li> <li>· 세계시민의 삶의 자세에 대한 이해</li> </ul>	<ul style="list-style-type: none"> <li>· 세계시민주의에 대한 이해</li> </ul>

# 09

# 인권의 의미와 현대 사회의 인권

## 1 인권의 의미와 발달 과정

### 01 인권의 의미와 특징

의미	인간으로서 존엄과 가치를 인정받으며 살아가기 위해 마땅히 누려야 할 기본적인 권리
특징	<ul style="list-style-type: none"> <li>보편성: 인종·성별·종교·사회적 신분 등과 관계없이 인간이라면 누구나 보편적으로 가지는 권리</li> <li>천부성: 누구나 태어나면서부터 자연적으로 가지는 당연한 권리</li> <li>항구성: 일정 기간만 보장되는 것이 아니라 영구히 보장되는 권리</li> <li>불가침성: 국가나 다른 사람에 의해 침해되어서는 안 되는 권리</li> </ul>

### 02 인권의 발달 과정

#### 1. 시민 혁명 **자료 01**

(TIP) 사회 계약설은 사회나 국가가 자유롭고 평등한 개인들의 합의나 계약으로 발생하였다는 이론이고, 계몽사상은 인간의 합리적 이성에 의해 편견과 오류를 극복하고 사회적 모순과 부조리를 바로잡을 수 있다고 보는 사상이다.

배경	평민은 엄격한 신분제로 인해 부당한 차별 대우 → 사회 계약설과 계몽사상의 영향을 받은 시민 계급이 시민 혁명을 주도
내용	<b>영국 명예혁명 (1688)</b> <ul style="list-style-type: none"> <li>국왕의 전제 정치에 귀족 세력이 반란을 일으켜 왕을 폐위하고 새로운 왕을 추대</li> <li>의회가 국왕의 권력을 제한하는 내용을 담은 권리장전 승인(1689) (TIP) 군주가 헌법에서 정한 제한된 권력을 가지고 다스리는 정치 체제인 입헌 군주제가 정착되는 계기가 되었어.</li> </ul>
	<b>미국 독립 혁명 (1776)</b> <ul style="list-style-type: none"> <li>영국의 식민 지배에 반발하여 독립 혁명 발발</li> <li>천부 인권, 인민 주권, 저항권 등을 명시한 독립선언문 발표</li> </ul>
	<b>프랑스 혁명 (1789)</b> <ul style="list-style-type: none"> <li>봉건적 구제도에 분노한 프랑스 시민이 주도하여 혁명 발발</li> <li>재산권, 국민 주권, 자유와 평등의 가치 등을 명시한 인간과 시민의 권리 선언 발표</li> </ul>

#### 2. 참정권 확대 운동

(TIP) 1838년부터 1848년까지 영국에서 전개된 최초의 대규모 노동자 참정권 보장 요구 운동이다.

배경	시민 혁명 이후에도 재산, 신분 등에 따라 참정권이 제한
내용	<ul style="list-style-type: none"> <li>차티스트 운동: 영국의 노동자 계급이 2세 이상 남성 노동자의 비밀·보통 선거권, 의회 개혁 등을 요구하는 인민 헌장을 발표하고 참정권 보장 요구 운동 전개</li> <li>여성 참정권 운동: 세계 여러 지역에서 여성의 참정권 보장 요구 운동 전개</li> </ul>
결과	20세기에 이르러 보통 선거 제도 확립

#### 3. 사회권의 등장 **자료 02**

배경	산업 혁명 이후 열악한 노동 환경, 빈부 격차 등 사회적 문제 발생
내용	바이마르 헌법(1919): 인간다운 생활을 국가가 보장해야 한다는 사회권을 헌법에서 처음으로 명시

#### 4. 연대권의 강조 **자료 03**

배경	인종 차별, 국가 간 빈부 격차 등으로 인권을 누리지 못하는 개인과 집단에 대한 걱정
내용	<ul style="list-style-type: none"> <li>연대권: 인종이나 국적과 관계없이 지구촌 구성원 모두가 인권 보장을 위해 함께 협력할 권리</li> <li>세계 인권 선언(1948): 인권이 인류의 보편적 가치임을 명시하고, 인권 보호를 위해 국제 사회가 협력해야 함을 강조</li> </ul>

## 2 현대 사회의 인권

### 01 인권의 확장

(TIP) 프랑스의 법학자 카를 바작은 인권의 확장 과정을 세 단계로 분류하였다.

1. **인권의 확장 과정:** 1세대 인권(자유권) → 2세대 인권(사회권) → 3세대 인권(연대권)

2. **현대 사회에서의 인권 확장:** 사회가 급속도로 변하고 생활 수준이 향상 → 사회·문화적 활동에 관한 관심이 높아지며 다양한 사회 문제 등장 → 새로운 형태의 인권 등장

### 02 현대 사회에서 새롭게 강조되는 인권 **자료 04**

#### 1. 주거권

의미	쾌적하고 안정적인 주거 환경에서 인간다운 주거 생활을 할 권리
등장 배경	인구의 도시 집중에 따른 주택 부족 문제 발생, 주거비 증가 등으로 인한 주거 생활의 불안정성 증가
보장 노력	<ul style="list-style-type: none"> <li>헌법과 법률에 국가의 주거권 보장 명시</li> <li>최저 주거 기준 설정 및 주거비 지원 등 주거 약자를 지원</li> </ul>

#### 2. 안전권

의미	국민이 각종 위험으로부터 생명·건강·재산상의 안전을 보호 받을 권리
등장 배경	자연재해, 안전사고, 감염병 유행, 산업 재해 등에 의해 국민의 안전에 대한 위협이 증가
보장 노력	<ul style="list-style-type: none"> <li>헌법과 법률을 통해 안전 관리 체계 확립</li> <li>산업 재해 예방을 위한 제도와 기준 마련</li> </ul>

#### 3. 환경권

의미	건강하고 쾌적한 생활에 필요한 모든 조건이 충족된 환경을 누리는 권리
등장 배경	각종 환경 문제 및 기후변화의 발생 등
보장 노력	<ul style="list-style-type: none"> <li>헌법과 법률에 국가의 환경권 보장 노력 명시</li> <li>환경 보호를 위한 국제적 목표 수립 및 이행 노력 전개</li> </ul>

(TIP) 국제 연합(UN) 인간 환경 선언, 국제 연합 기후변화 협약 등이 있어.

#### 4. 문화권

의미	자유롭게 공동체의 문화생활에 참여하고, 문화적 정체성을 유지할 권리
등장 배경	문화 활동에 참여하고 누릴 권리에 대한 인식 확산
보장 노력	<ul style="list-style-type: none"> <li>헌법에 전통문화의 계승·발전과 민족 문화의 창달 노력을 국가의 의무로 규정</li> <li>여러 법률에서 문화적 정체성 유지와 다양한 문화에 관한 이해 증진을 위한 노력을 명시</li> <li>문화 시설 확충, 사회적 약자의 문화권 보장 정책 강화</li> </ul>

(TIP) 오늘날 새롭게 등장한 인권에는 수면권, 일조권, 건강권 등이 있어.

#### 5. 기타 권리

- (1) **잊힐 권리:** 개인 정보 주체가 온라인상에 존재하는 자신에 관한 정보의 삭제 및 확산 방지를 요구할 수 있는 권리
- (2) **연결되지 않을 권리:** 근로자가 근무 시간 외 업무와 관련된 연락을 받지 않을 수 있는 권리

(TIP) 정보 통신 기술이 발달하면서 근로자의 근무 시간과 휴식 시간이 모호해지면서 등장한 권리야.

# 중요 자료 분석

## 자료 01 시민 혁명 과정에서 등장한 인권 관련 문서

• 미국 독립 선언문(1776)  
모든 사람은 평등하게 태어났고, 조물주는 몇 개의 양도할 수 없는 권리를 부여했으며, 그 권리 중에는 생명, 자유, 행복의 추구가 있다. 이 권리를 확보하기 위해 인류는 정부를 조직했으며, 이 정부의 권력은 인민의 동의로부터 유래한다. 이러한 목적을 파괴할 때 인민은 새로운 정부를 조직할 수 있다. →(1811) 자유롭고 평등한 시민 간의 계약을 바탕으로 국가 권력이 형성되었다고 보는 사회 계약설에 기반하였음을 알 수 있어.

• 인간과 시민의 권리 선언(1789) →(1811) 천부 인권을 나타내고 있어.  
제1조 인간은 자유롭고, 그리고 평등한 권리를 누리게 태어나고 또 그렇게 생존한다. 사회적 차별은 오직 공공의 이익에 입각하는 때에만 가능하다.  
제2조 모든 정치적 결사의 목적은 인간의 자연적이고 침해할 수 없는 권리를 보전함에 있다. 그 권리란 자유, 소유, 안전 그리고 압제에의 저항 등이다. →(1811) 국민 주권의 원리를 명시하고 있어. →(1811) 저항권을 의미해.  
제3조 주권은 국민에게 있다. 어떠한 단체나 개인도 국민으로부터 명시적으로 유래하지 않은 권리를 행사할 수 없다.  
제16조 권리의 보장이 확보되어 있지 않고, 권력의 분립이 확정되어 있지 않은 사회는 헌법을 갖고 있지 아니하다. →(1811) 권력 분립의 원칙이 드러나.

**자료 분석** 미국 독립 혁명 당시 발표된 미국 독립 선언문에는 생명·자유·행복 추구에 대한 권리가 하늘로부터 왔다는 천부 인권 사상과 인민 주권, 저항권 사상이 나타난다. 프랑스의 봉건적 구체제 하에서 억압을 받던 평민(부르주아 및 노동자, 농민)은 왕족 및 귀족의 횡포에 저항하여 프랑스 혁명을 일으켰다. 이 과정에서 등장한 인간과 시민의 권리 선언에도 천부 인권, 저항권, 국민 주권, 권력 분립 등의 인권과 인권 보장을 위한 도구를 강조하고 있다.

- (1) 미국 독립 선언은 천부 인권을 명시하였다. (O, X)
- (2) 인간과 시민의 권리 선언은 모든 사람에게 보통 선거권과 정치 참여권을 보장해야 함을 명시하였다. (O, X)

## 자료 02 바이마르 헌법(1919)

제120조 자녀를 교육하여 …… 양친의 최고의 의무이며 또한 자연의 권리이다. 그 실행에 대하여서는 국가적 공동 단체가 감독한다.  
제151조 ① 경제생활의 질서는 각자로 하여금 인간의 가치에 타당한 생활을 하게 하는 것을 목적으로 하고 정의의 원칙에 적합하여야 한다. 각자 경제상의 자유는 이 한계 내에서 보장된다. →(1811) 경제생활이 인간의 존엄성과 사회적 가치에 부합해야 한다는 의미로, 경제활동이 다른 사람의 인간다운 삶을 침해해서는 안 된다는 의미야.  
제157조 ① 노동력은 국가의 특별한 보호를 받는다.  
제163조 ② 모든 독일 국민에게는 노동할 기회가 주어진다. 적절한 일 자리를 얻지 못한 국민은 필요한 생계비를 지원받을 수 있다.

**자료 분석** 바이마르 헌법은 독일 제국 붕괴 이후 수립된 바이마르 공화국의 헌법이다. 제120조에서는 교육받을 권리, 제157조와 제163조는 국민의 노동할 기회 제공, 생계비 지원 등을 명시하여 국가가 국민의 인간다운 생활을 보장하겠다는 의지를 확인할 수 있다. 사회권을 헌법에 최초로 규정하였다는 의미를 갖는 바이마르 헌법 이후 여러 나라의 헌법에서 사회권을 명시하여 현대 복지 국가의 법적 근거를 마련하였다는 의의를 갖는다.

- (1) 바이마르 헌법은 지구촌 구성원의 연대를 강조하였다. (O, X)
- (2) 바이마르 헌법은 국가가 국민의 인간다운 삶을 보장해야 한다는 사회권을 최초로 명시하였다. (O, X)

## 자료 03 세계 인권 선언(1948)

제1조 모든 인간은 태어날 때부터 자유로우며, 누구에게나 동등한 존엄성과 권리가 있다. 인간은 타고난 이성과 양심을 지니며, 서로 형제애의 정신에 입각해서 행동해야 한다. →(1811) 연대권을 의미해.  
제22조 모든 사람에게 사회의 일원으로서 사회 보장을 요구할 권리가 있으며, 국가적 노력과 국제적 협력을 통해, 또한 각국의 조직과 자원에 따라, 자신의 존엄성과 인격의 자유로운 발전을 위해서 반드시 필요한 경제적·사회적·문화적 권리를 실현할 수 있는 권리를 가진다.  
제28조 모든 사람은 이 선언에서 규정된 권리와 자유가 완전히 실현될 수 있도록 사회적·국제적 질서에 대한 권리를 가진다. →(1811) 자결권, 평화의 권리, 재난으로부터 구제받을 권리 등이 포함돼.

**자료 분석** 두 차례의 세계 대전 이후 1948년에 열린 국제 연합(UN) 총회에서 인권 보장의 국제적인 기준인 세계 인권 선언을 채택하였다. 이는 인권 보장이 한 국가나 집단에게만 국한되는 것이 아닌, 인류가 보편적으로 추구해야 할 가치를 선포한 것으로 이후 여러 나라에서는 이를 토대로 인권 보장을 헌법에 명시하는 등 인권 신장에 기여하였다.

- (1) 세계 인권 선언은 산업 자본주의가 확산되며 발생한 문제를 해결하는 과정에서 등장하였다. (O, X)
- (2) 세계 인권 선언은 국제적인 연대와 협력을 강조함으로써 연대권을 강조하였다. (O, X)

## 자료 04 현대 사회에서 새롭게 강조된 인권

주거권	헌법 제35조 ③ 국가는 주택 개발 정책 등을 통하여 모든 국민이 쾌적한 주거 생활을 할 수 있도록 노력하여야 한다.
안전권	헌법 제34조 ⑥ 국가는 재해를 예방하고 그 위험으로부터 국민을 보호하기 위해 노력하여야 한다.
환경권	헌법 제35조 ① 모든 국민은 건강하고 쾌적한 환경에서 생활할 권리를 가진다.
문화권	문화 기본법 제4조 모든 국민은 성별, 종교, 인종, 세대, 지역, 정치적 견해, 사회적 신분, 경제적 지위나 신체적 조건 등에 관계없이 문화 표현과 활동에서 차별을 받지 아니하고 자유롭게 문화를 창조하고 문화 활동에 참여하며 문화를 향유할 권리를 가진다.

**자료 분석** 우리나라는 헌법과 각종 법률에서 주거권, 안전권, 환경권, 문화권 등을 보장하고 있다. 제시된 내용 외에도 주거 기본법, 환경 정책 기본법, 대기 환경 보전법 등을 통해 현대 사회에 확장된 인권을 두텁게 보장하고 있다.

- (1) 주거권은 물리적, 사회적 위험에서 벗어나 쾌적하고 안정적인 주거 환경에서 인간다운 주거 생활을 할 권리를 말한다. (O, X)
- (2) 노후 주택을 개량하는 정책은 주거권, 미세 먼지 저감 정책은 환경권을 보장하기 위한 방안이다. (O, X)

## 01

(가)에 들어갈 내용으로 옳은 것은?

[자료로 보는 역사]

"공께서 저희를 기꺼이 도와주신다니 깊이 감사드립니다. …… 저희 국왕은 가톨릭 우대 정책을 펼치고 의회의 동의 없이 정책을 추진하려고 합니다. 저희는 종교, 자유, 재산과 관련한 국왕의 정책에 불만이 큼니다. …… 우리 왕국 사람 스물 중 열아홉은 변화를 갈망합니다."

**해설** 위 서신은 국왕 제임스 2세에게 불만을 품은 고위층 인사들이 윌리엄에게 보낸 것으로, 본인들의 국왕을 물리쳐 달라는 내용이다. 이들 요청에 응해 윌리엄은 함대를 이끌고 바다를 건너가 런던으로 진군하였고, 겁에 질린 제임스 2세는 프랑스로 도주하였다. 이후 윌리엄과 메리는 공동 왕으로 추대되었으며, 의회의 요구에 따라 (가)

- ① 인민 헌장을 발표하였다.
- ② 권리 장전을 승인하였다.
- ③ 바이마르 헌법을 제정하였다.
- ④ 세계 인권 선언을 공포하였다.
- ⑤ 인간과 시민의 권리 선언을 선포하였다.

### 해결 Flow

자료에 나타난 시민 혁명을 파악한다.

파악한 시민 혁명의 결과로 승인된 문서를 찾는다.

### 자료 분석


제시된 자료는 국왕이 전제 정치를 강화하자 귀족이 반발한 영국의 명예혁명에 관한 내용이다. 이를 계기로 영국 귀족은 의회가 국왕의 권력을 제한할 수 있는 문서인 권리 장전을 승인받았다.

### 선지 분석

- ① 인민 헌장은 19세기 영국 노동자가 참정권을 보장받기 위해 발표한 문서이다.
- ✓ ② 명예혁명 이후 윌리엄과 메리는 의회를 통해 국왕의 권력을 통제함으로써 시민의 자유와 재산을 보장하는 것을 목적으로 하는 권리 장전을 승인하였다.
- ③ 바이마르 헌법은 1919년 독일에서 제정된 헌법으로, 사회권을 최초로 명시하였다.
- ④ 세계 인권 선언은 제2차 세계 대전이 끝난 후 1948년 국제 연합(UN)에서 채택한 선언으로 모든 국가가 따라야 할 인권의 보편적인 원칙과 기준을 제시하였다.
- ⑤ 인간과 시민의 권리 선언은 프랑스 혁명에서 발표된 문서로 재산권, 자유권, 평등권, 저항권 보장 등을 명시하였다.

## 02

㉠에 해당하는 권리에 대한 설명으로 옳은 것은?



위 그림은 산업 혁명 시기에 나타난 계급 간의 빈부 격차를 풍자한 것이다. 윗부분은 부유한 계급의 편안한 생활을, 아랫부분은 탄광에서 일하는 굶주린 노동자를 표현하였다. 이처럼 산업 혁명 이후 발달한 자본주의는 인간 생활의 물질적 향상을 가져왔지만 자본의 집중에 의한 빈부의 격차를 초래하였다. 궁핍과 빈곤으로 인해 기본적인 생활 수준을 영위하지 못하자 인간다운 생활을 가능하게 하는 물질 토대를 국가에 요구할 수 있는 권리인 ㉠의 보장이 요구되었다.

- ① 미국 독립 선언에서 천명되었다.
- ② 바이마르 헌법에 최초로 명시되었다.
- ③ 프랑스의 인권 선언에 영향을 주었다.
- ④ 영국에서는 명예혁명을 계기로 실현되었다.
- ⑤ 차티스트 운동 당시 인민 헌장에 규정되었다.

### 해결 Flow

산업 혁명으로 발생한 문제점을 파악한다.

문제를 해결하기 위해 등장한 권리가 무엇인지 파악한다.

㉠이 사회권임을 파악한 후 사회권에 관한 문서를 찾는다.

### 자료 분석

제시된 자료는 산업 혁명으로 발생한 빈부 격차, 빈곤 등의 심화를 언급하고 있다. 이로 인해 인간다운 생활을 위협받는 사람이 증가하자 사회권 보장의 중요성이 높아졌고, 1919년 독일의 바이마르 헌법에서 최초로 명시되었다.

### 선지 분석

- ① 미국 독립 선언에는 자유권, 평등권, 천부 인권 등이 명시되었다.
- ✓ ② 1919년에 제정된 바이마르 헌법에는 국가가 모든 국민의 인간다운 생활을 보장해야 한다는 사회권을 최초로 명시하였다.
- ③ 프랑스 혁명은 18세기 후반에 계몽사상과 사회 계약설의 영향을 받아 발생한 근대 시민 혁명으로 자유와 평등, 재산권의 보장을 주장하였다.
- ④ 영국 명예혁명으로 의회가 왕권을 제한하는 내용을 담은 권리 장전이 승인되었고, 이는 의회 중심의 입헌 군주제가 정착하는 계기가 되었다.
- ⑤ 차티스트 운동은 근대 시민 혁명 이후 영국의 노동자의 참정권 보장을 요구하는 운동으로 21세 이상 남성 노동자의 참정권 보장 등에 관한 내용을 인민 헌장에 명시하였다.

**01-1** 동형 문제

(가)에 들어갈 내용으로 옳은 것은?

[자료로 보는 역사]

“공께서 저희를 기꺼이 도와주신다니 깊이 감사드립니다. …… 저희 국왕은 가톨릭 우대 정책을 펼치고 의회의 동의 없이 정책을 추진하려고 합니다. 저희는 종교, 자유, 재산과 관련한 국왕의 정책에 불만이 큼니다. …… 우리 왕국 사람 스물 중 열아홉은 변화를 갈망합니다.”

**해설** 위 서신은 국왕 제임스 2세에게 불만을 품은 고위층 인사들이 윌리엄에게 보낸 것으로, 본인들의 국왕을 물리쳐 달라는 내용이다. 이들 요청에 응해 윌리엄은 함대를 이끌고 바다를 건너가 런던으로 진군하였고, 겁에 질린 제임스 2세는 프랑스로 도주하였다. 이후 윌리엄과 메리는 공동 왕으로 추대되었으며, 의회의 요구에 따라 권리 장전을 승인하였다. 그로 인해 (가)

- ① 국왕의 권력이 의회에 의해 제한되었다.
- ② 새로 제정된 헌법에 사회권이 규정되었다.
- ③ 국민 주권과 저항권이 문서로 보장되었다.
- ④ 재산권 보장이 명시된 선언문이 발표되었다.
- ⑤ 모든 사회 구성원에게 참정권이 보장되었다.

**01-2** 통합형

다음 자료에 대한 설명으로 옳은 것은?

[A 국의 시민 혁명 관련 자료 살펴보기]


“공께서 저희를 기꺼이 도와주신다니 깊이 감사드립니다. …… 저희 국왕은 가톨릭 우대 정책을 펼치고 의회의 동의 없이 정책을 추진하려고 합니다. 저희는 종교, 자유, 재산과 관련한 국왕의 정책에 불만이 큼니다. …… 우리 왕국 사람 스물 중 열아홉은 변화를 갈망합니다.”

**해설** 위 서신은 국왕 제임스 2세에게 불만을 품은 고위층 인사들이 윌리엄에게 보낸 것으로, 본인들의 국왕을 물리쳐 달라는 내용이다. 이들 요청에 응해 윌리엄은 함대를 이끌고 바다를 건너가 런던으로 진군하였고, 겁에 질린 제임스 2세는 프랑스로 도주하였다. 이후 윌리엄과 메리는 공동 왕으로 추대되었으며, ① 의회의 요구에 따라 문서를 승인하였다.

- ① ①으로 승인된 문서는 연대권을 강조하였다.
- ② ①으로 인간과 시민의 권리 선언이 발표되었다.
- ③ ①으로 2세대 인권이 명시된 문서가 승인되었다.
- ④ A 국의 시민 혁명은 ‘ 명예혁명’으로 불린다.
- ⑤ A 국이 속한 문화권은 종족과 국경이 일치하지 않아 잦은 분쟁이 발생한다.

**02-1** 동형 문제

밑줄 친 ㉠에 대한 옳은 설명만을 <보기>에서 고른 것은?



위 그림은 산업 혁명 시기에 나타난 계급 간의 빈부 격차를 풍자한 것이다. 윗부분은 부유한 계급의 편안한 생활을, 아랫부분은 탄광에서 일하는 굶주린 노동자를 표현하였다. 이처럼 산업 혁명 이후 발달한 자본주의는 인간 생활의 물질적 향상을 가져왔지만 자본의 집중에 의한 빈부의 격차를 초래하였다. 궁핍과 빈곤으로 인해 기본적인 생활 수준을 영위하지 못하자 ㉠ 인간다운 생활을 가능하게 하는 물질 토대를 국가에 요구할 수 있는 권리의 보장이 요구되었다.

- 보기—
- ㄱ. ㉠에는 교육받을 권리가 포함된다.
  - ㄴ. ㉠은 시민 혁명으로 확보된 인권이다.
  - ㄷ. ㉠은 바이마르 헌법에 처음으로 명시되었다.
  - ㄹ. 프랑스 혁명을 주도한 시민들이 ㉠을 보장할 것을 요구하였다.

- ① ㄱ, ㄴ                      ② ㄱ, ㄷ                      ③ ㄴ, ㄷ
- ④ ㄴ, ㄹ                      ⑤ ㄷ, ㄹ

**02-2** 통합형

다음 자료에 대한 옳은 설명만을 <보기>에서 고른 것은?

① 산업 혁명 이후 발달한 자본주의는 생산력의 비약적인 향상과 더불어 인간 생활의 물질적 풍요를 이끌었다. 더불어 개인의 경제적 자유와 경쟁을 중시하는 ㉠ 시장경제 체제는 경제 전반에 활력을 불어넣었다. 그러나 자본이 특정 집단과 계층에 집중되어 빈부 격차가 점차 확대되었고, 일부 계층은 극심한 궁핍과 빈곤에 시달리게 되었다. 이러한 현실 속에서 개인의 삶을 최소한의 인간다운 수준으로 유지할 수 있도록 하는 물질적 조건을 사회가 책임져야 한다는 인식이 확산되었다. 특히 생존을 위협받는 이들에게 국가가 법적·제도적으로 최소한의 생활을 보장해야 한다는 주장이 힘을 얻었다. 그 결과 (가) 보장에 대한 요구가 본격화되었다.

- 보기—
- ㄱ. ㉠은 수정 자본주의이다.
  - ㄴ. ㉠에서는 사유 재산 제도와 사적 이익 추구 등을 보장한다.
  - ㄷ. (가)는 세계 인권 선언에서 처음 명시되었다.
  - ㄹ. (가)는 국민의 인간다운 삶을 보장하기 위한 국가의 개입을 요구한다.

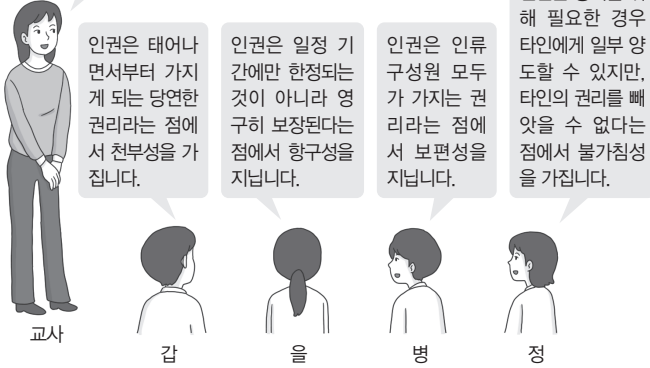
- ① ㄱ, ㄴ                      ② ㄱ, ㄷ                      ③ ㄴ, ㄷ
- ④ ㄴ, ㄹ                      ⑤ ㄷ, ㄹ

# 수능 기본 문제

## 01

교사의 질문에 옳게 발표한 학생만을 있는 대로 고른 것은?

인권의 특징에 대해 발표해 볼까요?



- ① 갑, 을                      ② 갑, 정  
④ 갑, 을, 병                ⑤ 을, 병, 정

## 02

다음 자료에 대한 설명으로 옳은 것만을 <보기>에서 고른 것은?

- 제1조 인간은 자유롭고, 그리고 평등한 권리를 가지고 태어나고 또 그렇게 생존한다.  
제2조 모든 정치적 결사의 목적은 인간의 자연적이고 침해할 수 없는 권리를 보전함에 있다. 그 권리란 자유, 소유, 안전 그리고 압제에의 저항이다.  
제3조 어떠한 단체나 개인도 국민으로부터 명시적으로 유래하지 않은 권리를 행사할 수 없다.  
제4조 자유는……그 제약은 법에 의해서만 규정될 수 있다.  
제16조 권리의 보장이 확보되어 있지 않고, 권력의 분립이 확정되어 있지 않은 사회는 헌법을 갖고 있지 아니하다.

보기

- ㄱ. 천부 인권을 언급하고 있다.  
ㄴ. 여성의 인권 보장을 강조하였다.  
ㄷ. 사회 계약설과 계몽사상의 영향을 받았다.  
ㄹ. 참정권, 사회권 등 다양한 인권을 아우르고 있다.

- ① ㄱ, ㄴ                      ② ㄱ, ㄷ                      ③ ㄴ, ㄷ  
④ ㄴ, ㄹ                      ⑤ ㄷ, ㄹ

## 03

다음 내용이 포함된 문서가 발표된 시기의 정치적 상황에 대한 추론으로 가장 적절한 것은?

- 비밀 투표 보장
- 의원에 대한 보수 지급
- 의원 출마자의 재산 자격 제한 폐지
- 21세 이상 남성의 보통 선거권 인정
- 인구 비례에 따른 평등한 선거구 설정

- ① 여성의 참정권이 보장되었다.  
② 사회권이 헌법에 처음으로 명시되었다.  
③ 선거권이 일부 계층에 제한되어 있었다.  
④ 국제 사회 차원에서 연대권이 강조되었다.  
⑤ 의회의 권력이 국왕에 의해 제한되어 있었다.

## 04 통합형

(가)~(다)에 들어갈 내용으로 옳은 것은?

- 제151조 ① 경제생활의 질서는 각자로 하여금 인간의 가치에 타당한 생활을 하게 하는 것을 목적으로 하고 정의의 원칙에 적합하여야 한다. 각자의 경제상의 자유는 이 한계 내에서 보장된다.  
제157조 ① 노동력은 국가의 특별한 보호를 받는다.  
② 국가는 표준적인 노동법을 정한다.  
제163조 ② 모든 국민에게는 노동할 기회가 주어진다. 적절한 일자리를 얻지 못한 국민은 필요한 생계비를 지원받을 수 있다.

위 자료는 ㉠의 일부이다. ㉡ 경제 체제 아래에서 공장과 기업 등 생산 수단을 소유한 자본가가 자신의 이윤을 극대화하기 위해 노동자에게 열악한 환경에서 장시간 노동을 시키고, 정당한 대가를 지급하지 않는 경우가 많았다. 이러한 현실에 맞서 노동자는 국가가 사회적 약자를 보호하고, 모든 국민이 최소한의 인간다운 삶을 영위할 수 있도록 하는 방안을 마련할 것을 촉구하였다. 그 결과 ㉢에서 처음으로 국가가 모든 국민에게 최소한의 인간다운 삶을 보장해야 한다는 내용이 ㉣이/가 명시되었다.

- |   |               |         |     |
|---|---------------|---------|-----|
|   | ㉠             | ㉡       | ㉢   |
| ① | 바이마르 헌법       | 산업 자본주의 | 사회권 |
| ② | 바이마르 헌법       | 수정 자본주의 | 평등권 |
| ③ | 미국 독립 선언문     | 산업 자본주의 | 사회권 |
| ④ | 미국 독립 선언문     | 상업 자본주의 | 자유권 |
| ⑤ | 인간과 시민의 권리 선언 | 수정 자본주의 | 참정권 |

# 05

다음 자료에 대한 설명으로 옳은 것만을 <보기>에서 고른 것은?

제1조 모든 인간은 태어날 때부터 자유로우며 누구에게나 동등한 존엄성과 권리가 있다.

제2조 모든 사람은 인종, 피부색, 성, 언어, 종교 등 어떤 이유로도 차별받지 않으며, 이 선언에 나와 있는 모든 자유와 권리를 누릴 자격이 있다.

제28조 모든 사람은 이 선언에 규정된 권리와 자유가 완전히 실현될 수 있도록 사회적·국제적 질서에 대한 권리를 가진다.

[보기]

- ㄱ. 천부 인권이 제외되었다.
- ㄴ. 인권의 보편성과 특수성이 동시에 나타난다.
- ㄷ. 인권이 인류의 보편적 가치임을 천명한 선언이다.
- ㄹ. 자결권, 평화의 권리 등을 포함한 권리가 나타난다.

- ① ㄱ, ㄴ                      ② ㄱ, ㄷ                      ③ ㄴ, ㄷ
- ④ ㄴ, ㄹ                      ⑤ ㄷ, ㄹ

# 06

밑줄 친 ㉠~㉣에 대한 설명으로 옳은 것만을 <보기>에서 고른 것은?

프랑스의 법학자 카렐 바작은 인권을 1세대 인권, 2세대 인권, 3세대 인권으로 분류하였다. ㉠1세대 인권은 자유와 관계되는 것으로써 시민적·정치적 권리를 말한다. ㉡2세대 인권은 평등과 관계되는 것으로써 사회적 기본권이 모두 여기에 해당한다. ㉢3세대 인권은 박애와 관계되는 것으로서 환경권, 평화적 생존권 등이 여기에 속한다.

[보기]

- ㄱ. 주거 이전의 자유와 집회의 자유는 ㉠에 해당한다.
- ㄴ. 시민 혁명의 주된 목적은 ㉡을 보장받기 위함이다.
- ㄷ. 자결권과 평화에 대한 권리는 ㉢에 해당한다.
- ㄹ. 복지 국가를 지향하는 나라일수록 ㉠보다 ㉢을 강조한다.

- ① ㄱ, ㄴ                      ② ㄱ, ㄷ                      ③ ㄴ, ㄷ
- ④ ㄴ, ㄹ                      ⑤ ㄷ, ㄹ

# 07

다음은 현대 사회에 확장된 인권을 보장하기 위해 제정된 법의 일부 조항이다. 이 법이 보장하고자 하는 인권에 대한 설명으로 가장 적절한 것은?

제14조(주거 환경의 정비 등) ① 국가 및 지방 자치 단체는 주거 환경을 정비하고 노후 주택을 개량하여 주민의 삶의 질이 개선될 수 있도록 지원하여야 한다.

제16조 ① 국가 및 지방 자치 단체는 장애인·고령자 등 주거 약자가 안전하고 편리한 주거 생활을 영위할 수 있도록 지원하여야 한다.

- ① 역사적으로 가장 오래된 권리이다.
- ② 쾌적하고 안전한 환경에서 주거할 권리이다.
- ③ 각종 환경 문제가 발생하여 등장한 권리이다.
- ④ 국제적 연대를 통해 보장될 수 있는 권리이다.
- ⑤ 시민 혁명을 계기로 보장받기 시작한 권리이다.

# 08

㉠에 들어갈 인권에 대한 설명으로 옳은 것은?

오늘날 '디지털 장의사'라는 직업이 등장하였다. "당신의 기록을 지워 드립니다."라고 광고하는 이 직업은 인터넷상에 남아 있는 기록으로 인해 어려움을 겪는 사람의 기록을 지워 줌으로써 개인의 ㉠을/를 보장하는 일을 한다. 디지털 장의사는 개인의 기록뿐만 아니라 기업, 단체에 대한 근거 없는 비방 게시물이나 허위 사실을 삭제하는 일도 한다.

- ① 주택 부족, 주거비 증가 등으로 인한 주거 생활의 불안정을 해결하기 위해 등장하였다.
- ② 개인의 민감 정보를 스스로 통제할 수 있어야 한다는 인식이 확산됨에 따라 등장하였다.
- ③ 건강하고 쾌적한 생활에 필요한 모든 조건이 충족된 양호한 환경을 누릴 권리를 의미한다.
- ④ 각종 자연재해로 인해 위협받고 있는 안전을 보장받아야 한다는 인식이 확산됨에 따라 등장하였다.
- ⑤ 계층·민족·문화적 배경에 상관없이 누구나 문화생활에 참여하고, 자신의 문화적 정체성을 유지할 권리이다.

# 1등급 완성 문제



## 01

(가), (나)에 대한 옳은 설명만을 <보기>에서 있는 대로 고른 것은?

(가)	<p>제1조 인간은 자유롭게, 그리고 평등한 권리를 누리게 태어났다.</p> <p>제2조 모든 정치적 결사의 목적은 인간의 자연적이고 침해할 수 없는 권리를 보전함에 있다. 그 권리란 자유, 소유, 안전 그리고 압제에의 저항 등이다.</p> <p>제11조 사상과 의견의 자유로운 교환은 인간의 가장 중요한 권리 중 하나이다.</p>
(나)	<p>모든 사람은 누구에게도 양도하거나 침해당하지 않을 생명과 자유 그리고 행복을 추구할 천부적인 권리를 평등하게 지니고 태어났다. 국민의 주권에 근거하여 만들어진 정부는 이러한 권리를 보장하는 데 목적이 있다.</p>

보기

- ㄱ. (나)는 천부 인권 사상에 기초하여 작성되었다.
- ㄴ. (가)는 신분제 폐지, (나)는 보통 선거의 확립을 이끌었다.
- ㄷ. (나)는 (가)와 달리 사회 계약설과 계몽사상의 영향을 받았다.
- ㄹ. (가), (나) 모두 전제와 억압으로부터 해방이라는 자유 이념을 주창하였다.

- ① ㄱ, ㄴ                      ② ㄱ, ㄹ                      ③ ㄴ, ㄷ
- ④ ㄱ, ㄷ, ㄹ                ⑤ ㄴ, ㄷ, ㄹ

## 02 통합형

다음 글에 대한 옳은 설명만을 <보기>에서 고른 것은?

18세기 후반 프랑스의 루이 16세가 재정 문제 해결을 위해 삼부회를 소집한 결과 ㉠ 시민 혁명이 일어났다. 이 과정에서 시민의 자유와 같은 기본적인 인권을 [가]에 명시하였으나 ㉡ 한계가 존재하였다.

보기

- ㄱ. ㉠의 결과로 의원 내각제가 실시되었다.
- ㄴ. ㉡에는 '신분 제도가 유지되었다.'가 대표적이다.
- ㄷ. ㉡은 이후 차티스트 운동, 여성 참정권 운동에 영향을 끼쳤다.
- ㄹ. (가)에는 '인간과 시민의 권리 선언'이 들어갈 수 있다.

- ① ㄱ, ㄴ                      ② ㄱ, ㄷ                      ③ ㄴ, ㄷ
- ④ ㄴ, ㄹ                      ⑤ ㄷ, ㄹ

## 03

다음 사례의 공통점으로 가장 적절한 것은?

- (가) 1865년, 미국에서 노예 제도가 폐지되면서 흑인은 법적으로 노예 신분에서 해방되었다. 하지만 해방 이후에도 투표권의 제한 등 각종 차별을 받았던 흑인은 이러한 인권 탄압에 대항하여 백인과 동등한 시민권 보장을 주장하였다.
- (나) 1919년 6월 4일, 영국 런던 남부의 앵섬다운스 경마장에서 여성 참정권 운동가 에밀리 데이비슨은 참정권을 요구하며 국왕 조지 5세의 말에 뛰어들었다. 이 사고로 데이비슨은 나흘 만에 사망하였다. 그녀의 죽음은 영국의 여성 참정권 운동의 도화선이 되었다.

- ① 노동자 참정권 보장 운동이었다.
- ② 자유권 보장을 위한 투쟁이었다.
- ③ 여성 인권 향상을 위한 노력이었다.
- ④ 평등 사회의 실현에 기여하지 못하였다.
- ⑤ 인권을 보장하기 위한 시민의 투쟁이었다.

## 04

다음 자료에 대한 설명으로 옳은 것은?

- ㉠ 프랑스 혁명: 재산권 보장, 자유권, 평등권 등이 명시된 인권 선언이 발표되었다.
- ㉡ 차티스트 운동: 영국의 노동자들이 보통 선거권을 요구하는 인민 현장을 발표하였다.
- ㉢ 바이마르 헌법: [가]

- ① ㉠의 결과 권리 장전이 승인되었다.
- ② ㉡의 결과 노동자와 여성도 선거권을 보장받았다.
- ③ ㉢에서는 3세대 인권이 강조되었다.
- ④ 역사적으로 ㉢→㉠→㉡ 순으로 전개되었다.
- ⑤ (가)에는 '최초로 헌법에 사회권을 명시하였다.'가 들어갈 수 있다.

## 05

다음 자료에 대한 옳은 설명만을 <보기>에서 고른 것은?

카렐 바작이 주장한 인권 3세대론은 인권이 확장되어 온 흐름에 따라 인권을 표와 같이 (가)~(다)로 분류한다.

구분	등장 배경	주요 내용
(가)	계몽사상과 사회 계약설	재산권, 신체의 자유, 종교·양심의 자유, 참정권 등
(나)	산업 혁명으로 파괴당하는 인간의 삶의 모습을 극복하고자 하는 노력	미성년자의 노동 금지, 노동조합의 결성 및 가입에 관한 권리, 사회 보장에 관한 권리 등
(다)	인종 차별, 국가 간 빈부 격차 등으로 인권을 누리지 못하는 개인과 집단에 대한 반성	국제 사회에서 자결권, 평화에 대한 권리, 지속가능한 환경에 대한 권리 등

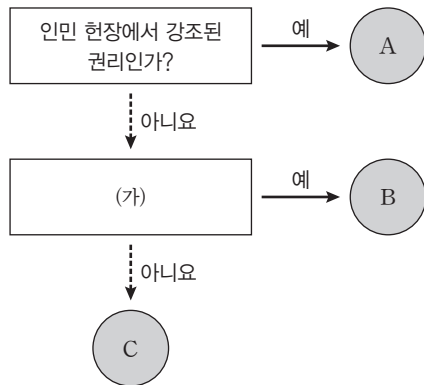
[보기]

- ㄱ. (가)는 근대 시민 계급이 국가 권력에 대하여 자신들의 권리와 자유를 확보하고자 한 것이다.
- ㄴ. (나)는 국가의 간섭으로부터 국민을 보호하기 위한 권리이다.
- ㄷ. (나)는 국가나 사회에 대해 인간다운 생활을 요구할 수 있는 권리이다.
- ㄹ. (가), (나)는 (다)와 달리 인간의 존엄성에서 기인하는 권리이다.

- ① ㄱ, ㄴ                      ② ㄱ, ㄷ                      ③ ㄴ, ㄷ
- ④ ㄴ, ㄹ                      ⑤ ㄷ, ㄹ

## 06

다음은 인권의 역사적 발전 과정에서 강조된 인권의 유형 A~C를 구분한 것이다. 이에 대한 설명으로 옳은 것은? (단, A~C는 참정권, 사회권, 연대권 중 하나임.)



- ① A는 소극적·방어적 성격의 권리이다.
- ② A는 프랑스 혁명 이후 모든 사람에게 보장된 권리이다.
- ③ B가 사회권이라면 (가)에 '자본주의의 문제점을 해결하는 과정에서 등장한 권리인가?'가 들어갈 수 있다.
- ④ C가 연대권이라면 (가)에 '두 차례의 세계 대전 이후 강조된 권리인가?'가 들어갈 수 있다.
- ⑤ (가)에 '바이마르 헌법에서 처음으로 명시된 권리인가?'가 들어가면 B의 사례로 인도주의적 재난으로부터 구제받을 권리를 들 수 있다.

## 07

다음 글에 대한 분석으로 가장 적절한 것은?

재건축을 추진 중인 △△시 ○○아파트 단지에 대해 주변 주택에 거주하는 주민들이 제기한 소송에 대해 법원은 기존 계획보다 층수를 낮추라는 결정을 내렸다. 전문가의 조사 결과, 해당 아파트 단지가 재건축을 완료하면 주변 주택의 일평균 일조 시간이 크게 감소하는 것으로 나타났다. 재판부는 하루 일조 시간이 1시간 미만이고, 연속 일조 시간이 30분도 되지 않는 가구가 상당수이므로 해당 가구에 거주하는 사람들의 주거 환경이 크게 악화된다고 판단하였다. 결국 법원은 문제의 신축 등에 대해 계획보다 13개 층을 줄이도록 명령하였다.

- ① 주거 이전의 자유가 침해된 사례이다.
- ② 건설사는 주변 주민의 문화권을 무시하였다.
- ③ 정보 사회가 확산됨에 따라 등장한 권리가 침해되었다.
- ④ 주변 주민이 침해받은 권리는 시민 혁명에서부터 강조되었다.
- ⑤ 법원은 재건축이 완료될 경우 주변 주민이 주거권을 침해당한다고 보았다.

## 08

현대 사회에서 새롭게 강조되고 있는 권리인 ㉠에 대한 설명으로 옳은 것은?

미국은 스탠포드법을 제정하여 재난이 발생하였을 때 연방 정부가 개인을 지원하는 것을 규정하였으며, 일본은 재해 대책 기본법에서 국가와 지방 자치 단체, 공공 기관이 재난 시 이행할 책무를 규정하였다. 독일은 기본법에서 국민의 생명과 신체의 안전을 보호하는 것을 국가의 의무로 명시하고 있으며, 유럽 연합(EU)은 리스크 관리 지침을 마련하여 재난과 환경 위험으로부터 시민의 안전을 보장하고 있다. 이처럼 세계 각국은 법규를 만들어 ㉠을/를 보장하고 있다.

- ① 주거 생활의 불안정성이 높아져 등장한 권리이다.
- ② 각종 환경 문제와 생태계 변화 등으로 등장한 권리이다.
- ③ 개인 정보 유출로 인한 사생활 침해 문제가 발생하여 등장한 권리이다.
- ④ 문화적 정체성 유지와 타 문화를 이해하기 위해 보장해야 하는 권리이다.
- ⑤ 국민이 각종 위험으로부터 생명, 건강, 재산상의 안전을 보호받을 권리이다.

# 10

## 인권 보장을 위한 헌법과 시민 참여 및 인권 문제

### 1 인권 보장을 위한 헌법의 역할과 시민 참여

#### 01 인권 보장을 위한 헌법의 역할

1. 우리나라 헌법에서 보장하는 기본권 **자료 01** (TIP) 우리나라는 헌법에 열거되지 않은 권리도 헌법 제37조 ②에 따라 보장해.

인간의 존엄 및 가치와 행복 추구권	<ul style="list-style-type: none"> <li>인간의 존엄 및 가치: 인간이라는 이유만으로 존엄성과 가치를 존중받을 권리</li> <li>행복 추구권: 물질적·정신적으로 안락하고 만족스러운 삶을 살 수 있는 권리 <small>(TIP) 행복 추구권은 인간으로서 누려야 할 행복을 충족시킬 수 있는 모든 자유와 권리를 포함하는 포괄적 권리야.</small></li> </ul>
자유권	개인의 자유로운 생활에 대해 국가의 간섭이나 침해받지 않을 권리
평등권	합리적이지 않은 이유로 불평등한 차별을 받지 않고 동등하게 대우받을 권리
참정권	주권자인 국민이 국가의 의사 결정에 참여할 수 있는 능동적 권리
청구권	국가에 대해 일정한 행위를 요구하거나 국민의 기본권이 침해되었을 때 구제를 요구할 수 있는 권리
사회권	국가에 대해 인간다운 생활 보장을 요구할 수 있는 권리

2. 인권 보장을 위한 제도적 장치 (TIP) 평등은 모든 것을 동일하게 대우하는 절대적 평등과 처한 조건에 따라 다르게 대우하는 상대적 평등으로 구분할 수 있어.

국민 주권의 원리	국가의 의사를 결정하는 최고 권력인 주권이 국민에게 있다는 원리 ㉠ 선거, 국민 투표 등
법치주의	법률에 근거하여 국가 권력이 행사되어야 한다는 원리
권력 분립	국가 권력을 입법권, 행정권, 사법권으로 나누어 서로 다른 기관이 맡아 상호 견제와 균형을 이루도록 하는 제도
복수 정당제	정당 설립의 자유를 인정하고, 두 개 이상의 정당이 자유롭게 활동할 수 있도록 하는 제도
기본권 구제 제도	<ul style="list-style-type: none"> <li>위헌 법률 심판: 재판의 전제가 되는 법률이 헌법에 위반되는지 여부를 헌법재판소가 심판하여 위반되는 경우 법률의 효력을 상실하도록 하는 제도</li> <li>헌법 소원 심판: 공권력에 의해 개인의 기본권이 침해된 경우 헌법재판소에 심판을 청구하여 침해된 권리를 구제받을 수 있도록 하는 제도 <small>(TIP) 헌법 소원 심판은 개인이 청구할 수 있어.</small></li> <li>국가 인권 위원회 등 인권 보호 기관의 활동</li> </ul>

3. 기본권의 제한과 한계 (TIP) 위헌 법률 심판은 법률 그 자체를 심판하며, 재판 중인 법원 또는 재판 당사자의 신청을 받은 법원이 심판을 청구할 수 있어.

- (1) 기본권의 제한: 개인이 타인의 기본권을 침해하거나, 국가 안전 보장, 질서 유지, 공공복리를 위해 필요한 경우에 한하여 기본권 제한 가능
- (2) 한계: 정당한 목적에 한해서만 법률에 의해 제한이 가능하며, 자유와 권리의 본질적인 내용은 침해 불가

#### 02 시민 참여

##### 1. 시민 참여

- (1) 의미: 시민이 국가의 정책이나 사회 문제에 관심을 갖고 의견을 개진하는 등 일정한 행동을 하는 것
- (2) 필요성: 권익 보호의 출발점, 정치 권력의 감시와 통제 기능, 공동체의 이익 증진, **대의 민주주의의 보완** 등

(TIP) 선거로 선출된 대표가 모여 의사 결정을 하도록 일임한 후 주권자인 국민이 따르는 정치 형태를 의미해.

- (3) 방법: 선거 및 국민 투표 참여, 정당·이익 집단·시민 단체 등을 통한 참여, 공청회·주민 간담회 참여, 자원봉사 활동, 입법 청원, 주민 조례 청구 등

2. 시민불복종 **자료 02** (TIP) 대표적인 시민불복종의 사례로 간디의 소금 행진, 미국 옹고메리시의 버스 탑승 거부 운동이 있어.

의미	정의롭지 않은 법이나 정책을 바로잡기 위해 의도적으로 법을 위반하는 행위
정당화 되기 위한 조건	<ul style="list-style-type: none"> <li>목적의 정당성: 목적이 정당하고 공공의 이익을 추구해야 함.</li> <li>비폭력적 방법: 비폭력적인 방법을 사용해야 함.</li> <li>최후의 수단: 합법적인 방법을 모두 시도한 후에 최후의 수단으로 시도해야 함.</li> <li>처벌의 감수: 법 절차를 존중하는 자세로 위법 행위에 대한 처벌을 감수해야 함.</li> </ul>

### 2 인권 문제의 양상과 해결 방안

#### 01 우리 사회의 인권 문제

1. 사회적 소수자 차별 문제 (TIP) 사회적 소수자에는 여성, 노인, 장애인, 외국인 근로자, 비정규직 근로자 등이 있어.

사회적 소수자	한 사회에서 신체적 또는 문화적 특징 때문에 다른 구성원에게 차별을 받으며 스스로 차별받는 집단에 속해 있다는 의식을 가진 사람
해결 방안	<ul style="list-style-type: none"> <li>개인적 차원: 사회적 소수자가 겪는 문제에 대한 공감 및 인권 감수성 함양</li> <li>사회적 차원: 사회적 소수자 차별 정책이나 법률 폐지 및 정비</li> </ul>

2. 청소년 노동권 문제 **자료 03**

청소년 노동 실태	근로 계약서 미작성, 폭언 및 폭행 등 비인간적 대우, 최저 임금보다 낮은 임금 지급, 임금 체불 등
해결 방안	<ul style="list-style-type: none"> <li>국가: 청소년 노동 기준과 구제 절차 점검 및 보완, 노동 인권 교육 실시</li> <li>사용자: 청소년 노동권 보장을 위해 노력 및 청소년을 보호하고 배려하는 자세 함양</li> <li>연소 근로자: 노동 관련 법 규정 숙지 및 부당한 대우를 받은 경우에는 적극적으로 대처</li> </ul>

#### 02 세계의 인권 문제 **자료 04**

1. 양상: 빈곤, 성차별, 아동 인권 침해, 난민 문제 등

2. 해결 방안 (TIP) 국제 연합 인권 이사회(UNHRC), 국제 연합 아동 기금(UNICEF), 국제 연합 난민 기구(UNHCR), 국제 연합 개발 계획(UNDP), 세계 식량 계획(WFP) 등이 있어.

국제적 차원	<ul style="list-style-type: none"> <li>국제기구를 통해 각국의 인권 상황을 파악하고 인권 침해 문제 해결을 위해 노력</li> <li>국제 사면 위원회, 국경 없는 의사사회 등 비정부 기구도 인권 문제 해결을 위해 노력</li> </ul>
국가적 차원	국제적 연대 동참 및 인권 문제를 겪는 나라에 경제적 지원
개인적 차원	세계시민 의식을 함양하여 세계 인권 문제 해결을 위해 노력

# 중요 자료 분석

## 자료 01 기본권의 성격

자유권	<ul style="list-style-type: none"> <li>역사적으로 가장 오래된 기본권</li> <li>국가 권력에 의한 간섭이나 침해 배제하는 소극적·방어적 성격의 권리</li> <li>헌법에 열거되지 않더라도 보장되는 포괄적 성격의 권리</li> </ul>
평등권	다른 모든 기본권 보장의 전제가 되는 권리
참정권	<ul style="list-style-type: none"> <li>국민 주권의 원리를 실현하는 정치적 기본권</li> <li>국가 기관의 형성과 국가의 정치적 의사 결정 과정에 적극적으로 참여할 수 있는 능동적·적극적 권리</li> </ul>
청구권	<ul style="list-style-type: none"> <li>적극적 권리</li> <li>다른 기본권을 보장하기 위한 수단적 권리가자 실제적 기본권을 실현하기 위한 절차적 권리</li> </ul>
사회권	<ul style="list-style-type: none"> <li>가장 최근에 등장한 현대적 권리</li> <li>국가의 적극적인 개입을 통해 보장되는 적극적 성격의 권리</li> <li>복지 국가 실현을 위한 권리</li> </ul>

**자료 분석** 기본권은 국가의 개입 여부에 따라 소극적 권리와 적극적 권리로 분류할 수 있으며, 평등권은 모든 기본권 보장의 전제 조건이 된다. 한편 참정권은 국민 주권의 원리를 실현하기 위한 필수적 권리이다.

- (1) 평등권은 다른 기본권을 보장하기 위한 수단적 성격을 지닌 기본권이다. (O, X)
- (2) 참정권은 자유권과 달리 포괄적 성격의 권리이다. (O, X)
- (3) 청구권과 사회권은 모두 적극적 성격의 기본권이다. (O, X)

→(100) 부정의를 판단하는 것에 대해 소로는 개인의 양심이 결정한다고 보았고, 톨스는 다수의 정의를 기준으로 보았다.

## 자료 02 시민불복종에 대한 다양한 견해

톨스	시민불복종은 어느 정도 정의로운 민주 체제에서 법률이나 정책 또는 명령이 공유된 정의를 위반하였을 때 개인의 양심을 넘어 다수에게 이것을 알리기 위한 행위이다. 시민불복종은 소수자가 다수자의 정의감에 호소하여 정의의 원칙에 따라 법을 바꾸도록 하는 행위이다.
소로	우리는 먼저 인간이어야 하고, 그 다음에 국민이어야 한다. 법에 대한 존경심을 기르는 것이 바람직하다.
싱어	시민불복종은 합법적인 수단이 실패했을 때 그 목적을 달성하기 위한 적합한 수단이다. 법의 힘에 저항하지 않고, 비폭력으로 행위하며, 자기 행위에 대한 법적 처벌을 받아들임으로써 시민불복종을 해야 한다.

**자료 분석** 시민불복종에 대해 톨스는 법이나 정부의 정책을 변화시킬 목적으로 행해지는 공공적이고 비폭력적이며 양심적이지만 법에 반하는 정치적 행위라고 보았다. 소로는 법보다 정의가 우선하고, 정의롭지 않은 법에 불복종해야 한다고 주장한다. 싱어는 공리주의적 입장에서 시민불복종이 가져올 이익과 손해가 불복종의 기준이 된다고 보았다.

- (1) 톨스는 시민불복종을 정부의 정책을 변화시킬 목적으로 행해지는 폭력적인 방식의 정치적 행위라고 보았다. (O, X)
- (2) 소로는 부정의한 법에 대해 양심적 거부를 해야 한다고 주장하였다. (O, X)

## 자료 03 근로 기준법에서 규정하는 청소년 노동권

제43조 ① 임금(通貨)로 직접 근로자에게 그 전액을 지급하여야 한다.  
 ② 임금은 매월 1회 이상 일정한 날짜를 정하여 지급하여야 한다.  
 제54조 ① 사용자는 근로 시간이 4시간인 경우에는 30분 이상, 8시간인 경우에는 1시간 이상의 휴게 시간을 근로 시간 도중에 주어야 한다.  
 제64조 ① 15세 미만인 사람은 근로자로 사용하지 못한다. 다만, 고용노동부장관이 발급한 취직인허증을 지닌 사람은 근로자로 사용할 수 있다.  
 제67조 ① 친권자나 후견인은 미성년자의 근로 계약을 대리할 수 없다.  
 제69조 15세 이상 18세 미만인 사람의 근로 시간은 1일에 7시간, 1주에 35시간을 초과하지 못한다. 다만, 당사자 사이의 합의에 따라 1일에 1시간, 1주에 5시간을 한도로 연장할 수 있다.

**자료 분석** 청소년도 일정한 나이가 되면 취업할 수 있고, 교육이나 실습 형태로 실제 근로 현장에서 작업에 투입될 수 있다. 청소년은 성인이 아니고 사회 경험도 많지 않아 불리한 처우를 받기 쉽다. 우리나라는 근로 기준법에 연소 근로자의 노동권을 보장하기 위한 조건을 명시하였다.

- (1) 15세 이상 18세 미만인 사람의 근로 시간은 당사자 간의 합의가 있더라도 연장 근로를 포함하여 1주일에 40시간을 초과할 수 없다. (O, X)
- (2) 연소 근로자는 임금을 전액 타인이 아닌 본인이 직접 받아야 한다. (O, X)

→(100) 인권 지수는 한 나라의 인권 상황이 얼마나 잘 보장되는지를 수치로 나타낸 것으로, 측정하고자 하는 목적에 따라 조사하는 지표가 달라져.

## 자료 04 다양한 인권 지수

세계 기아 지수	영양실조 상태인 인구 비율, 5세 이하 아동의 급성·만성 영양 결핍과 사망률 등의 항목으로 측정
국제 아동 권리 지표	국제 연합(UN) 아동 권리 협약을 비준한 국가들을 대상으로 생존권, 건강할 권리, 교육받을 권리, 보호받을 권리 등을 기준으로 측정
성 격차 지수	남녀의 경제 참여와 기회, 교육적 성취, 정치적 권한 등의 차이를 기준으로 측정
성 불평등 지수	모성 사망비, 중등 이상 교육 인구 비율, 경제활동 참가율 등을 기준으로 측정
세계 언론 자유 지수	언론 및 출판의 자유, 신체의 자유, 사생활 보호, 사상 및 양심의 자유, 집회 및 결사의 자유 등의 항목으로 측정

**자료 분석** 인권 지수는 국제 사회에서 발생하는 인권 문제를 객관적으로 파악할 수 있는 도구로서 국가별 인권 보장 실태와 그 변동 상황의 비교를 위해 여러 국제기구가 정기적으로 조사하여 발표한다. 같은 주제를 다루는 인권 지수라도 지표에 따라 다른 결과가 나타나므로, 인권 지수를 분석할 때는 평가에 반영한 지표를 분석하여야 한다.

- (1) 같은 주제의 인권 지수인 성 격차 지수와 성 불평등 지수는 항상 비슷한 결과가 나타난다. (O, X)
- (2) 세계 언론 자유 지수는 ' 좋음', '양호함', '문제 있음', '나쁨', '매우 나쁨'으로 분류하는데, ' 좋음'에 해당할수록 언론의 자유가 높다. (O, X)

→(100) 성 격차 지수는 남성과 여성 간의 격차가 얼마나 줄어들었는지를 평가하는 인권 지수이고, 성 불평등 지수는 사회 속에서 성별에 따른 불이익이 얼마나 존재하는지 평가하는 인권 지수다.

## 01

다음 자료에 대한 설명으로 옳은 것은?

- 군사 훈련을 받던 갑은 훈련소 측으로부터 종교 행사에 참여하도록 강요받았다. 갑은 거부 의사를 밝혔으나 강압적 조치에 의해 결국 종교 행사에 참여할 수밖에 없었다. 이에 갑은 종교 활동을 자유롭게 할 수 있다는 내용의 ㉠ 기본권을 침해받았으며 헌법재판소에 심판을 청구하였다.
- 국회의원이 꿈이었던 을은 검정고시에 합격하고 국립 ○○대학교의 수시 모집에 지원하고자 하였다. 하지만 법률에 근거하여 규정된 국립 ○○대학교 수시 모집 요강에서는 검정고시 출신자의 응시 자격을 제한하였다. 이에 을은 능력에 따라 균등하게 교육받을 수 있다는 내용의 ㉡ 기본권을 침해받았으며 헌법재판소에 심판을 청구하였다.

- ① ㉠은 국가로부터 간섭받지 않을 권리로서의 기본권에 해당한다.
- ② ㉡은 국가의 정치적 의사 결정 과정에 참여할 수 있는 권리로서의 기본권에 해당한다.
- ③ ㉠과 ㉡ 모두 정당한 목적이 있다면 법률적 근거가 없어도 제한될 수 있다.
- ④ 갑과 달리 을은 기본권 보장을 위한 수단적 성격을 지닌 기본권을 행사하였다.
- ⑤ 을과 달리 갑은 헌법 소원 심판을 청구하였다.

### 해결 Flow

갑과 을이 침해받았다고 주장하는 기본권을 파악한다.

파악한 기본권의 특징을 바탕으로 선지를 분석한다.

### 자료 분석

제시된 사례에서 종교 활동을 자유롭게 할 수 있다는 내용의 기본권은 자유권이며, 능력에 따라 균등하게 교육받을 수 있다는 내용의 기본권은 사회권이다.

### 선지 분석

- ✓ ① 자유권은 국가로부터 간섭받지 않을 권리로서 소극적 성격의 기본권이다.
- ② 국가의 정치적 의사 결정 과정에 참여할 수 있는 권리로서의 기본권은 참정권이다.
- ③ 국민의 기본권은 정당한 목적이 있다면 국회에서 제정한 법률에 의해서만 제한될 수 있다.
- ④ 기본권 보장을 위한 수단적 성격을 지닌 기본권은 청구권이며, 갑과 을은 모두 헌법재판소에 심판을 청구하며 청구권을 행사하였다.
- ⑤ 갑과 을 모두 헌법재판소에 헌법 소원 심판을 청구하였다.

## 02

교사의 질문에 대한 학생의 답변으로 옳지 않은 것은?

다음은 주장한 학자의 입장에서 시민불복종에 대해 말해 볼까요?

거의 정의로운 국가 내에서 시민은 법과 정책이 어느 정도의 부정의를 넘어서지만 않는다면 보통 그 법과 정책에 따라야 한다. 하지만 자기 자신과 타인의 기본적 자유가 부정되는 것을 묵인해야 한다는 것은 아니다. 시민은 법이나 정책이 심각하게 부정의할 경우 불복종할 수 있다. 시민불복종은 다수가 공유하고 있는 정의관을 근거로 정당화되며, 법에 대한 충실성의 한계 내에서 행해진다.



- ① 부정의한 법이라도 시민불복종의 대상이 아닐 수 있어요.
- ② 폭력 행위에 가담하는 것은 시민불복종으로 간주될 수 없어요.
- ③ 시민불복종은 공유된 정의관에 근거하여 헌법 체계에 저항하는 행위예요.
- ④ 시민불복종은 처벌이 따를 수 있음에도 불구하고 공개적으로 행해지는 위법 행위예요.
- ⑤ 기본적 자유 보장을 요구할 권리가 체제 유지를 위한 준법의무와 충돌할 때 시민불복종이 발생할 수 있어요.

### 해결 Flow

시민불복종의 성립 요건에는 무엇이 있는지 떠올린다.

선지에서 시민불복종의 성립 요건에 부합하지 않는 것은 무엇인지 파악한다.

### 자료 분석

제시문은 시민불복종에 대한 롤스의 견해이다. 시민불복종은 사회 정의를 훼손한 법이나 정책에 항의한다는 행위 목적의 정당성이 있어야 한다. 또한 문제 해결을 위해 시도한 여러 합법적인 방식이 실패하였을 때 최후의 수단으로만 시행되어야 하며, 비폭력적인 방법을 사용해야 한다. 또한 위법 행위에 대한 처벌을 감수함으로써 법을 존중하는 자세를 지녀야 한다.

### 선지 분석

- ① 부정의한 법이라도 시민불복종의 대상이 아닐 수 있다는 답변은 일정한 부정의는 감내해야 한다는 제시문의 내용과 일치한다.
- ② 시민불복종은 비폭력적인 방법으로 행해져야 하므로 폭력 행위는 시민불복종으로 볼 수 없다.
- ✓ ③ 롤스는 헌법적 정의관을 근거로 시민불복종이 정당화된다고 보았다. 따라서 시민불복종이 헌법 체계에 저항한다는 답변은 틀린 내용이다.
- ④ 시민불복종은 공개적·위법적 행위이며 처벌을 감수하는 행위이다.
- ⑤ 시민불복종은 기본적 자유 보장 요구와 준법 의무가 충돌할 때 발생 가능하다.

**01-1** **동형 문제**

밑줄 친 ㉠, ㉡에 대한 옳은 설명만을 <보기>에서 있는 대로 고른 것은?

- 군사 훈련을 받던 갑은 훈련소 측으로부터 종교 행사에 참여하도록 강요받았다. 갑은 거부 의사를 밝혔으나 강압적 조치에 의해 결국 종교 행사에 참여할 수밖에 없었다. 이에 갑은 종교 활동을 자유롭게 할 수 있다는 내용의 ㉠ 기본권을 침해받았으며 헌법재판소에 심판을 청구하였다.
- 국회의원이 꿈이었던 을은 검정고시에 합격하고 국립 ○○대학교의 수시 모집에 지원하고자 하였다. 하지만 법률에 근거하여 규정된 국립 ○○대학교 수시 모집 요강에서는 검정고시 출신자의 응시 자격을 제한하였다. 이에 을은 능력에 따라 균등하게 교육받을 수 있다는 내용의 ㉡ 기본권을 침해받았으며 헌법재판소에 심판을 청구하였다.

〈보기〉

- ㄱ. ㉠은 다른 기본권 보장의 전제가 되는 권리이다.
- ㄴ. ㉡은 실질적 평등 실현을 위해 등장한 현대적 권리이다.
- ㄷ. ㉠은 ㉡과 달리 국가 권력의 간섭이나 침해를 배제하는 소극적 성격의 권리이다.
- ㄹ. ㉡은 ㉠과 달리 헌법에 명시되지 않은 기본권이지만 보장된다.

- ① ㄱ, ㄴ                      ② ㄱ, ㄹ                      ③ ㄴ, ㄷ
- ④ ㄱ, ㄷ, ㄹ                ⑤ ㄴ, ㄷ, ㄹ

**01-2** **통합형**

기본권 유형 A, B에 대한 설명으로 옳은 것은?

A는 국가 권력에 의해 침해되지 않음으로써 보장되는 소극적인 성격을 가지고 있기 때문에 사적 영역에 대한 국가 개입의 배제가 요구된다. 이에 반해 실질적 평등의 실현을 목적으로 하는 B는 국가의 적극적 지원과 배려로 보장될 수 있기 때문에 오히려 국가의 개입을 필요로 하는 권리이다.

- ① A는 헌법에 열거되지 않더라도 보장되는 권리이다.
- ② B는 국민이 국가 기관의 형성에 참여할 수 있는 권리이다.
- ③ A와 달리 B는 1세대 인권에 해당한다.
- ④ B와 달리 A는 산업 자본주의의 문제점을 해결하는 과정에서 등장한 권리이다.
- ⑤ A와 B는 모두 다른 기본권을 보장하기 위한 수단적 권리이다.

**02-1** **동형 문제**

다음을 주장한 사상이나 긍정의 답변을 할 질문만을 <보기>에서 고른 것은?

거의 정의로운 국가 내에서 시민은 법과 정책이 어느 정도의 부정의를 넘어서지만 않는다면 보통 그 법과 정책에 따라야 한다. 하지만 자기 자신과 타인의 기본적 자유가 부정되는 것을 묵인해야 한다는 것은 아니다. 시민은 법이나 정책이 심각하게 부정의할 경우 불복종할 수 있다. 시민불복종은 다수가 공유하고 있는 정의관을 근거로 정당화되며, 법에 대한 충실성의 한계 내에서 행해진다.

〈보기〉

- ㄱ. 시민불복종은 최후의 수단이어야 하는가?
- ㄴ. 시민불복종의 목적은 사회 정의를 실현하는 것인가?
- ㄷ. 시민불복종은 법에 근거한 처벌 자체를 거부하는 행위인가?
- ㄹ. 시민불복종은 사적 이익 실현을 위한 정당한 위법 행위인가?

- ① ㄱ, ㄴ                      ② ㄱ, ㄷ                      ③ ㄴ, ㄷ
- ④ ㄴ, ㄹ                      ⑤ ㄷ, ㄹ

**02-2** **동형 문제**

다음을 주장한 사상이나 긍정의 대답을 할 질문만을 <보기>에서 있는 대로 고른 것은?

내가 떠맡을 권리가 있는 나의 유일한 책무는, 어떤 때이든 간에 내가 옳다고 생각하는 일을 행하는 것이다. 집단에 양심이 없다는 말이 있는데 그것은 참으로 옳은 말이다. 그러나 양심적인 사람들이 모인 집단은 양심적인 집단이다. 법이 사람들을 조금이라도 더 정의로운 인간으로 만든 적은 없다. 오히려 법에 대한 존경심 때문에 선량한 사람들조차도 매일매일 불의의 하수인이 되고 있다.

〈보기〉

- ㄱ. 법에 근거한 통치가 정의로운 정부를 보장하는가?
- ㄴ. 시민에게는 국가의 강제를 거부할 권리가 있는가?
- ㄷ. 자신의 양심에 따라 정의와 불의를 판단해야 하는가?
- ㄹ. 집단의 강요대로 살지 않아도 정의로운 삶을 살 수 있는가?

- ① ㄱ, ㄷ                      ② ㄱ, ㄹ                      ③ ㄴ, ㄷ
- ④ ㄱ, ㄴ, ㄹ                ⑤ ㄴ, ㄷ, ㄹ

# 수능 기본 문제

## 01

다음은 우리나라 헌법 조항이다. 이에 대한 설명으로 옳은 것만을 <보기>에서 고른 것은?

헌법 제10조 모든 국민은 인간으로서의 존엄과 가치를 가지며, 행복을 추구할 권리를 가진다. 국가는 개인이 가지는 불가침의 기본적 인권을 확인하고 이를 보장할 의무를 진다.

[보기]

- ㄱ. 기본권 제한의 요건이 나타나 있다.
- ㄴ. 국민이 목적적 존재가 아닌 수단적 존재임을 알 수 있다.
- ㄷ. 헌법의 근본 취지인 국민의 자유와 권리 보호가 나타난다.
- ㄹ. 개인이 국가에 대해 인권 보장을 요구할 수 있는 근거가 된다.

- ① ㄱ, ㄴ                      ② ㄱ, ㄷ                      ③ ㄴ, ㄷ
- ④ ㄴ, ㄹ                      ⑤ ㄷ, ㄹ

## 02

밑줄 친 ㉠, ㉡에 대한 설명으로 옳은 것은?

자동차를 일부 개조하는 행위, 이른바 자동차 튜닝을 좋아하는 갑은 최근 경찰이 단속하는 과정에서 자신이 한 튜닝이 법령에 의해 허용된 범위를 넘어선 것으로 판단되어 과태료를 내게 되었다. 갑은 자신이 한 튜닝이 자신 및 타인의 안전 등에 전혀 문제가 없음에도 불구하고 단속된 것으로 그 단속 행위 및 단속의 근거가 된 법령이 재산권 행사와 관련한 ㉠ 기본권을 부당하게 침해한다고 경찰에 항의하였다. 그러나 항의가 받아들여지지 않자, 갑은 튜닝을 제한하는 법령의 개정을 관련 행정 기관에 문서로써 요구하는 방식으로 ㉡ 기본권을 행사하고 그 결과를 기다리고 있다.

- ① ㉠은 불합리한 이유로 차별받지 않을 권리이다.
- ② ㉠은 국가의 개입을 전제로 하는 적극적 권리이다.
- ③ ㉡은 국가로부터 간섭을 받지 않고 자유롭게 생활할 권리이다.
- ④ ㉡은 다른 기본권 보장을 위한 절차적이고 수단적인 권리이다.
- ⑤ ㉠과 ㉡ 모두 헌법에 열거되지 않았지만 보장받을 수 있는 권리이다.

## 03 통합형

다음 법률 조항을 통해 실현하고자 하는 기본권에 대한 설명으로 옳은 것은?

제4조 ① 국가와 지방 자치 단체는 노인의 보건 및 복지 증진의 책임이 있으며, 이를 위한 시책을 강구하여 추진하여야 한다.  
제27조의 2 ① 국가 또는 지방 자치 단체는 홀로 사는 노인에 대하여 방문 요양과 돌봄 등의 서비스와 안전 확인 등의 보호 조치를 취하여야 한다.

- ① 정치적 기본권이다.
- ② 소극적 성격의 권리이다.
- ③ 복지 국가 실현에 필수적인 요소이다.
- ④ 국가의 간섭이 최소화됨으로써 실현될 수 있다.
- ⑤ 일체의 차별적 대우를 부정하는 것이 정의라고 보는 시각에 근거한다.

## 04 통합형

다음 자료에 대한 설명으로 옳지 않은 것은?

인도를 지배하던 영국은 소금법을 시행하여 인도인의 소금 채취를 금지하고 영국에 비싼 세금을 내고 소금을 사게 하였다. 이에 간디는 영국 정부에 이 법의 폐지를 요구하였다. 그러나 요구가 받아들여지지 않자 1930년 간디는 자신이 사는 아마다바드에 서 단디 해변까지, 24일 동안 390여 킬로미터를 걸으면서 소금 법의 부당함을 알렸으며 군중과 함께 바다에서 직접 소금을 만들었다. 소금 행진을 계기로 간디가 시작한 시민운동은 전국으로 확대되었다.

- ① 비폭력을 사용한 운동이었다.
- ② 간디는 시민불복종 운동을 벌였다.
- ③ 간디는 처벌을 감수하고 소금 행진을 전개하였다.
- ④ 영국이 인도 국민의 인권을 침해한 것에 대해 저항한 운동이다.
- ⑤ 법을 어겼다는 점에서 어떠한 경우에도 정당화될 수 없는 운동이다.

## 05 통합형

(가), (나)에 대한 설명으로 옳지 않은 것은?

(가) A 국 출신인 갑(44세)은 본국에서 4년제 대학을 졸업한 우수한 인재로 평가받았지만, B 국으로 이주한 뒤에는 이주 노동자라는 이유로 차별을 겪고 있다.  
 (나) 사하라 사막 이남에 위치한 C 국에서는 인종 차별이 매우 심각하여 전체 인구의 다수를 차지하는 ○○족이 정치 권력에서 배제되고 있다. 정치 권력은 전체 인구 중 극소수를 차지하는 △△족이 독점하고 있으며, ○○족은 공직에 참여할 기회조차 제한되고 있다.

- ① (가)는 사회적 소수자를 위해 사회적 강자나 주류 집단이 차별 받는 상황을 나타낸다.
- ② (가)는 현재 주류 집단에 속해 있는 사람도 다른 사회로 가면 사회적 소수자가 될 수 있음을 나타낸다.
- ③ (나)는 사회적 소수자가 정치적으로 차별받고 있음을 나타낸다.
- ④ (나)의 C 국이 속한 문화권에서는 플랜테이션과 이동식 화전 농업이 나타난다.
- ⑤ (가)와 (나)는 모두 특정 집단이 주류 집단과 다른 특성을 보인다는 이유로 사회적 소수자가 될 수 있음을 나타낸다.

## 06

(가)에 들어갈 내용으로 옳은 것만을 <보기>에서 고른 것은?

선생님, 저와 같이 17세인 청소년은 정신적·신체적으로 성장 단계에 있고, 교육이 우선되어야 하므로 근로 시 성인 근로자와 달리 특별한 보호를 받는다고 들었습니다. 특별한 보호에는 어떠한 것이 있나요?

연소 근로자가 받는 특별한 보호에는 다음과 같은 것이 있습니다. 예를 들면

(가)



고등학생(17세)

교사

◻보기

- ㄱ. 법정 최저 임금을 보장받을 수 있습니다.
- ㄴ. 임금 청구 시 친권자의 동의를 받도록 하고 있습니다.
- ㄷ. 도덕·보건상 위험한 사업장에서는 근로를 할 수 없습니다.
- ㄹ. 연장 근로를 제외한 법정 1일 근로 시간이 성인 근로자에 비해 짧습니다.

- ① ㄱ, ㄴ
- ② ㄱ, ㄷ
- ③ ㄴ, ㄷ
- ④ ㄴ, ㄹ
- ⑤ ㄷ, ㄹ

## 07

(가)에 들어갈 내용으로 가장 적절한 것은?

수업 주제: (가)

국제 연합 난민 기구(UNHCR)는 난민의 권리와 복지를 보호하는 활동을 하는 국제기구이다. 누구나 비호를 신청할 권리를 누리고, 자발적 본국 귀환, 현지 동화 혹은 제3국 재정착의 방법으로 다른 나라에서 안전한 피난처를 보장받을 수 있도록 앞장서고 있다.

세계 식량 계획(WFP)은 식량 원조를 통해 개발 도상국의 경제·사회 발전을 도모하기 위해 설립한 국제기구이다. 자연재해 및 전쟁 희생자 구호를 지원하며 개발 도상국의 빈민에게 식량을 공급하고, 난민 캠프와 전쟁 지역에 식품을 제공하는 활동을 한다.

- ① 세계 인권 문제 해결을 위한 국제 사회의 노력
- ② 환경 문제를 해결하기 위한 국제적 차원의 노력
- ③ 세계 경제 성장을 이끄는 선진국의 무역 확대 노력
- ④ 국제 사회에서 국가와 국제기구의 영향력 강화 노력
- ⑤ 세계 식량 부족 문제를 해결하기 위한 국제 사회의 노력

## 08

(가)에 들어갈 내용으로 가장 적절한 것은?

2022년 세계 경제 포럼(WEF)이 발표한 성 격차 지수에서 한국은 146개국 중 99위에 자리하였다. 한편 같은 해 국제 연합 개발 계획(UNDP)이 발표한 성 불평등 지수에서는 191개국 중 15위를 기록하였다. 같은 성평등 통계인데 이렇게 차이가 큰 까닭은 무엇일까? 가장 큰 이유는 지표의 차이이다. 성 격차 지수는 남녀 임금 격차, 출생 성비, 고위직 여성 비율, 기대 수명 등을 기준으로 평가하지만, 성 불평등 지수는 모성 사망비, 중등 이상 교육인구, 경제활동 참가율 등을 지표로 삼아 평가한다. 따라서 여성의 임금이 남성보다 낮으면 성 격차 지수에는 반영되지만 성 불평등 지수에는 반영되지 않으므로 성 불평등 지수는 상위권이지만 성 격차 지수는 하위권이 될 수 있다. 결국 계량적인 인권 지수를 분석할 때는

(가)

- ① 인권 지수에 반영된 각 지표의 성격을 고려하지 말아야 한다.
- ② 인권 지수가 그 나라의 인권 수준과 관계 없음에 유의해야 한다.
- ③ 우리나라의 순위가 높게 나오는 인권 지수를 신뢰하는 것이 타당하다.
- ④ 어떠한 지표를 반영하였는지 다각도로 분석하면서 인권 수준을 이해해야 한다.
- ⑤ 주관적인 평가에 기반하여 인권 지수를 산출하므로 더 높은 순위의 인권 지수를 신뢰한다.

# 1등급 완성 문제



## 01

밑줄 친 ㉠~㉣에 대한 옳은 설명만을 <보기>에서 고른 것은?

헌법은 국민의 기본권과 이를 보장하기 위한 국가 기관의 구성 및 운영을 규정한 근본 규범으로, ㉠최고 규범이자 ㉡기본권 보장 규범이다. 따라서 ㉢민주 국가는 헌법에 따라 구성되고 운영되어야 한다. 이와 관련하여 우리 헌법에서는 여러 가지 기본 권리를 도출할 수 있는데, 그중 ㉣복지 국가의 원리는 근대 자본주의의 모순을 극복하고 국민의 실질적인 자유와 평등을 보장하기 위하여 국가가 적극적인 행위를 해야 한다는 원리이다.

[보기]

- ㄱ. ㉠에 따라 헌법에 위반되는 법률은 효력을 인정받지 못한다.
- ㄴ. ㉡에 따라 헌법에 명시되지 않은 기본권은 보장되지 않는다.
- ㄷ. ㉢은 국민의 실질적인 권리를 보장하는 원리이다.
- ㄹ. ㉣과 가장 관련 있는 기본권은 국가 권력의 간섭을 배제하는 성격을 가진다.

- ① ㄱ, ㄴ                      ② ㄱ, ㄷ                      ③ ㄴ, ㄷ
- ④ ㄴ, ㄹ                      ⑤ ㄷ, ㄹ

## 02

다음 헌법 조항에서 추론할 수 있는 내용으로 가장 적절한 것은?

헌법 제37조 ② 국민의 모든 자유와 권리는 국가 안전 보장·질서 유지 또는 공공복리를 위하여 필요한 경우에 한하여 법률로써 제한할 수 있으며, 제한하는 경우에도 자유와 권리의 본질적인 내용을 침해할 수 없다.

- ① 국민의 기본권은 제한할 수 없는 권리이다.
- ② 개인의 기본권 보장과 공공복리는 조화를 이룰 수 없다.
- ③ 국민의 기본권은 공공복리를 위해 제약 조건 없이 제한될 수 있다.
- ④ 기본권은 정당한 목적을 달성하는 데 필요한 범위 안에서만 제한할 수 있다.
- ⑤ 적법한 절차에 따라 기본권이 제한되면, 그 제한 내용의 정당성 등에 대해서는 따질 수 없다.

## 03

다음 자료에 대한 설명으로 옳은 것은?

갑은 비인가 대안 학교 졸업 후 검정고시에 합격하여 고등학교 졸업 학력을 취득하였고, 초등학교 교사가 되고자 입학 시험을 준비하였다. 그러나 갑은 당시 국립 교육 대학교들이 발표한 수시 모집 신입생 요강에 일부 특별 전형을 제외한 대부분의 전형에서 '고등학교 졸업자 또는 졸업 예정자'로 지원 자격이 한정되어 있음을 알게 되었다. 이에 갑은 국립 교육 대학교들의 수시 요강이 합리적인 이유 없이 검정고시 출신 학생을 차별하고, ㉠균등하게 교육받을 권리를 침해한다고 주장하며 ㉡(가)을/를 청구하였다. 이에 ㉢(나)은/는 당시 수시 모집 대부분의 지원 자격을 일률적으로 제한하는 것이 검정고시 출신자의 대학 입학 기회의 박탈이라는 결과를 초래한다고 보아 해당 수시 요강의 내용이 헌법에 위반된다고 보았다.

- ① ㉠은 소극적 성격의 권리이다.
- ② ㉡(가)는 대의 민주주의의 한계를 보완하기 위한 직접 민주적 요소이다.
- ③ ㉢(가)는 재판의 전제가 되는 법률이 헌법에 위반되는지 여부를 판단하는 심판이다.
- ④ ㉣(나)는 재판을 통해 개인 간의 권리 침해에 대한 구제 방안을 제시한다.
- ⑤ ㉤(나)는 국가 권력 및 법률로부터 국민의 기본권을 보호하는 헌법상의 국가 기관이다.

## 04

교사의 질문에 대한 학생의 답변으로 가장 적절한 것은?

사회 관계망 서비스(SNS)는 온라인으로 정보를 공유하고 관계망을 구축하는 온라인 서비스입니다. 과거에는 많은 정치인이 직접 시민들과 만나서 소통을 하였습니다. 오늘날에는 정치인이 운영하는 누리집뿐만 아니라 사회 관계망 서비스를 활용하여 시민과 정치인들이 서로 실시간으로 정보를 주고받으며 의견을 공유합니다. 이러한 사회 변화가 시민 참여에 어떤 영향을 미칠까요?



- ① 갑: 시민들의 정보 통신 매체의 활용 기회가 축소됩니다.
- ② 을: 가상 공간에서만 의견을 자유롭게 제시할 수 있습니다.
- ③ 병: 시민이 사회 전반에 참여할 수 있는 기회가 줄어들고 절차가 더 복잡해집니다.
- ④ 정: 시민 참여 방법에 있어 시간과 공간의 제약이 완화될 수 있는 여건이 마련됩니다.
- ⑤ 무: 시민이 선출한 대표자를 통해 주권이 간접적으로 행사되는 방식이 더욱 강화됩니다.

**05** **통합형**

다음 대화에서 을의 입장에 대한 옳은 설명만을 <보기>에서 고른 것은?

갑: 대학 입학 시험에서 점자 시험지를 따로 제작하는 이유는 무엇일까?

을: 시각 장애인도 시험을 치를 수 있도록 하여 정의를 실현하기 위해서야.

갑: 점자 시험지가 필요한 사람은 소수인데 그들을 위해 예산을 너무 낭비하는 것 같아. 그리고 그들은 시험 시간도 일반 응시생보다 길어.

을: 그렇지 않아. 그들에게 고등 교육 기관으로 진학할 기회조차 주지 않는 것은 차별이야.

[보기]

ㄱ. 사회적 소수자에 대한 역차별을 반대한다.  
 ㄴ. 실질적 평등을 실현하기 위해 합리적 차별이 필요하다는 입장이다.  
 ㄷ. 사회적 소수자 차별 문제를 해결하기 위한 사회적 차원의 노력을 지지한다.  
 ㄹ. 사회적 소수자의 처지를 고려하지 않은 채 분배적 정의만을 강조하고 있다.

- ① ㄱ, ㄴ                      ② ㄱ, ㄷ                      ③ ㄴ, ㄷ  
 ④ ㄴ, ㄹ                      ⑤ ㄷ, ㄹ

**06**

(가)에 들어갈 답변으로 옳은 것만을 <보기>에서 있는 대로 고른 것은?

[서술형 평가] 다음 글을 통해 도출할 수 있는 내용을 서술하시오.

'유리 천장'은 여성과 소수자의 승진을 제한하는 보이지 않는 장벽을 의미하며 성차별이 직장 고위층에 팽배해 있음을 의미하는 용어이다. '유리 벽'은 직장 내에서 보조 및 지원 업무, 사무직, 상담, 인간관계 관련 업무와 같은 직종에 여성을 주로 배치하여 핵심 업무로부터 여성이 수평적으로 분리되는 현상을 이르는 용어이다.

[학생 답안] (가)

[보기]

ㄱ. 유리 벽 현상은 조직 내에서 개인적인 능력에 따른 차이에서 기인한다.  
 ㄴ. 직장 내 양성평등 문화 확산은 유리 천장 현상을 완화하는 데 기여한다.  
 ㄷ. 여성에 대한 사회적 차별은 특정 성에 대한 차별이 구조적으로 나타나는 현상이다.  
 ㄹ. 유리 천장과 유리 벽 현상이 제거되면 사회적 희소가치의 배분 과정에서 기회의 공정성이 제고될 수 있다.

- ① ㄱ, ㄴ                      ② ㄱ, ㄷ                      ③ ㄷ, ㄹ  
 ④ ㄱ, ㄴ, ㄹ                  ⑤ ㄴ, ㄷ, ㄹ

**07**

(가)~(마)에 들어갈 수 있는 내용으로 옳지 않은 것은?

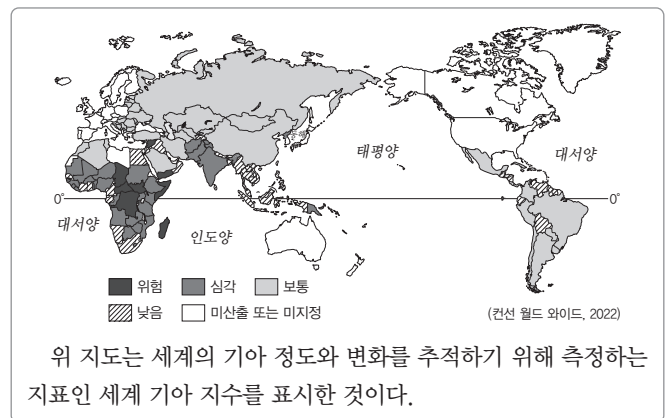
갑: 청소년은 (가) 하기 때문에 청소년 근로에 대한 보호의 우선적 배려가 요구됩니다. 따라서 근로 계약 체결 과정에서 연소자를 보호하기 위해 (나) 과/와 같은 규정을 마련하고 있으며, (다) 을/를 명시하여 업무에 있어 안전과 건강에 대한 보호를 하고 있습니다.

을: 청소년은 (라) 을/를 이유로 사회적 소수자로 인정될 수 있습니다. 이에 친권자나 후견인 등에게 미성년자에게 불리한 근로 계약에 대한 해지권을 부여하고, (마) 과/와 같이 근로 시간에 대한 규정을 두어 보호하고 있습니다.

- ① (가): 신체적·정신적으로 근로를 감당할 능력이 부족  
 ② (나): 친권자 또는 후견인의 미성년자 근로 계약에 대한 대리 금지  
 ③ (다): 도덕상 또는 보건상 유해하거나 위험한 사업에 사용 금지  
 ④ (라): 단순수 수적 열세에 의해 규정된 것  
 ⑤ (마): 15세 이상 18세 미만인 사람의 근로 시간은 원칙적으로 1일 7시간을 초과하지 못한다는 내용

**08** **통합형**

다음 자료에 대한 옳은 설명만을 <보기>에서 고른 것은?



[보기]

ㄱ. '심각' 수준인 국가 중 동양 문화권에 해당하는 곳은 없다.  
 ㄴ. 동아시아 문화권보다 아프리카 문화권에서 기아 문제가 더 심각하다.  
 ㄷ. 라틴 아메리카 문화권과 달리 앵글로아메리카 문화권에서는 기아 문제가 발생하지 않는다.  
 ㄹ. 문제 해결 방안으로 국제기구를 통해 영양 부족 문제를 겪고 있는 국가에 경제적 지원을 할 수 있다.

- ① ㄱ, ㄴ                      ② ㄱ, ㄷ                      ③ ㄴ, ㄷ  
 ④ ㄴ, ㄹ                      ⑤ ㄷ, ㄹ

# 11

## 정의의 의미와 실질적 기준

### 1 정의의 의미와 필요성

#### 1. 정의의 의미와 특징

의미	<ul style="list-style-type: none"> <li>각자가 받아야 할 합당한 몫을 받는 것</li> <li>사회적 대우나 보상, 처벌 등에 있어 마땅히 받을 몫을 공정하게 받는 것</li> </ul>
특징	사회적 이익이나 부담에 있어 받아야 할 만큼의 몫을 받을 때, 또는 잘못된 만큼의 처벌을 받을 때 정의가 실현될 수 있음.

#### 2. 동서양 사상가가 바라보는 정의 **자료 01**

맹자	잘못을 부끄러워하고 이익에 집착하지 않는 올곧음
플라톤	각자 타고난 성향에 따라 자신의 일을 다하는 것
아리스토텔레스	동등한 사람에게 동등한 몫을, 동등하지 않은 사람에게 동등하지 않은 몫을 주는 것
벤담	<ul style="list-style-type: none"> <li>최대 다수의 사람이 최대의 행복을 얻을 수 있도록 하는 것</li> <li>구성원들의 행복을 최대화할 수 있는 법률과 제도를 만드는 것이 사회의 목표</li> </ul> <small>(TIP) 공리주의 사상가인 벤담은 최대 다수의 최대 행복을 추구하였고, 이를 공리의 원리라고 불렀다.</small>

3. 정의의 기준: 시대나 사회, 개인에 따라 다를 수 있으므로 다양한 사회 문제를 공정하게 해결하기 위해서는 모두가 받아들일 수 있는 정의의 기준이 필요

#### 4. 정의의 필요성

- (1) 모든 사회 구성원의 자유와 기본적 권리 보장
  - (2) 개인의 개인선과 공동체의 공동선 실현
  - (3) 공동체 내의 갈등 해결을 통한 사회 통합 실현
- (TIP) 공동의 이익 또는 공동체가 추구하는 가치나 목표야.

### 2 분배적 정의와 교정적 정의

#### 1. 분배적 정의 (TIP) 사회적 자원을 나누는 것과 관련된 정의를 말해.

의미	<ul style="list-style-type: none"> <li>분배를 둘러싼 문제를 해결하기 위한 원칙과 관련한 정의</li> <li>한정된 자원의 분배와 관련하여 누구에게 얼마나 나누어 주어야 공정한지에 대해 결정하는 것</li> </ul>
특징	기본적 권리, 기회, 직위와 직책, 부와 소득 등과 같은 사회적 가치를 어떤 기준으로 분배하는 것이 공정한지에 대해 다름.

#### 2. 교정적 정의

의미	<ul style="list-style-type: none"> <li>부정이나 불법적 행위와 같은 잘못된 일을 올바르게 바로잡는 것</li> <li>사회적 갈등과 분쟁을 해결하고 사회 질서를 유지할 수 있도록 하는 것</li> </ul>
특징	불공정한 행위나 잘못된 행동을 바로잡는 것으로, 잘못에 대한 대응이 공정한지에 대해 다름.

#### 3. 교정적 정의를 바라보는 관점 **자료 02**

벤담	<ul style="list-style-type: none"> <li>형벌의 주목적은 범죄 예방</li> <li>모든 법의 일반적 목표는 공동체 전체의 행복 증진</li> <li>형벌은 고통을 일으키기 때문에 상대적으로 더 큰 악을 없애는 것을 보장하는 형벌만이 정당함.</li> </ul>
----	--

(TIP) 벤담은 최대 다수의 최대 행복을 행위의 기준으로 삼기 때문에 고통을 주는 형벌보다 더 큰 악(고통)을 없애는 것이 가능할 때만 형벌이 정당화될 수 있다고 주장했어.

칸트	<ul style="list-style-type: none"> <li>형벌의 주목적은 응보</li> <li>형벌은 범죄자 자신이나 시민 사회의 선을 촉진하기 위해서는 가해질 수 없고, 오직 범죄자가 범죄를 저질렀기 때문에 가해져야 함. <small>(TIP) 칸트는 응보주의적 관점에서 살인에 대한 정당한 형벌은 오직 사형뿐이라고 주장했어.</small></li> <li>오직 보복법만이 형벌의 질과 양을 명확하게 제시할 수 있음.</li> </ul>
베카리아	<ul style="list-style-type: none"> <li>형벌의 주목적은 범죄 예방</li> <li>형벌은 오직 범죄자가 시민에게 새로운 해악을 입힐 가능성을 방지하고 타인의 범죄를 억제하기에 충분한 정도의 강도를 가져야 함. <small>(TIP) 베카리아는 공리주의 입장에서 처벌이 사회적 이익을 증진하기 위한 수단이라고 보고, 살인자를 처벌할 때 사형보다 범죄 예방 효과가 더 큰 종신 노역형이 더 바람직하다고 주장했어.</small></li> </ul>

### 3 분배적 정의의 실질적 기준 **자료 03**

1. 분배적 정의의 필요성: 필요한 자원은 한정되어 있기 때문에 이를 공정하게 나누는 것이 필요

(TIP) 각자가 달성한 성과나 조직의 목표 달성에 이바지한 정도에 따라 가치를 분배하는 거야.

#### 2. 업적에 따른 분배

의미	각자의 업적과 기여도에 비례하여 분배하는 것
장점	<ul style="list-style-type: none"> <li>객관적 평가와 측정이 쉬움.</li> <li>더 큰 업적을 쌓기 위해 열심히 노력하려는 성취동기를 제공하여 생산성이 높아져 사회가 발전할 수 있음.</li> </ul>
한계	<ul style="list-style-type: none"> <li>업적의 지나친 강조로 경쟁이 과열되어 갈등을 초래할 수 있음.</li> <li>사회적 약자를 고려하지 못함.</li> <li>서로 다른 업적의 가치를 측정하는 기준을 마련하기 어려움.</li> </ul>
사례	<ul style="list-style-type: none"> <li>팀 우승에 크게 기여한 축구 선수에게 높은 연봉을 주는 것</li> <li>높은 실적을 낸 직원에게 성과급을 지급하는 것</li> </ul>

(TIP) 뛰어난 잠재력과 재능, 신체적·정신적 능력이 있는 사람에게 더 많은 가치를 분배하는 거야.

#### 3. 능력에 따른 분배 **자료 04**

의미	능력이 탁월한 사람이 더 많은 보상을 받을 수 있도록 분배하는 것
장점	각자가 자기 능력을 적극적으로 개발하여 개인의 이익과 공동체의 이익을 증진할 수 있음.
한계	<ul style="list-style-type: none"> <li>능력을 평가하는 기준을 마련하기 어려움.</li> <li>선천적 자질이나 부모의 사회·경제적 지위 등 우연적 요소의 영향을 받을 수 있음.</li> </ul>
사례	잠재력이 있는 학생에게 장학금이나 입학 자격을 주는 것

#### 4. 필요에 따른 분배 (TIP) 사회에서 신체적·정신적·경제적·사회적·문화적으로 소외되어 인간다운 삶을 영위하는 데 어려움을 겪는 개인이나 집단을 의미해.

의미	사회의 모든 구성원이 기본적 욕구를 충족할 수 있도록 분배하는 것
장점	사회적 약자를 위한 복지 제도와 사회 안전망을 마련하여 인간다운 삶을 보장하고 사회적 불평등을 개선할 수 있음.
한계	<ul style="list-style-type: none"> <li>개인이 스스로 일하고자 하는 동기를 약화할 수 있음.</li> <li>모든 사람의 필요와 욕구를 충족하는 것은 현실적으로 어려움.</li> <li>경제적 효율성이 떨어질 수 있음.</li> </ul>
사례	<ul style="list-style-type: none"> <li>가정 형편이 어려운 학생에게 장학금을 주는 것</li> <li>재난을 당한 사람들에게 물, 식료품 등 생활필수품을 지원하는 것</li> </ul>

# 중요 자료 분석

## 자료 01 아리스토텔레스의 정의

- **정의:** 동등한 사람들이 동등하지 않은 몫을, 혹은 동등하지 않은 사람들이 동등한 몫을 분배받아 갖게 되면 싸움과 불평이 생겨난다. 분배는 모든 사람들에게 동일하게 이루어질 때가 아니라 가치에 따라 비례적으로 이루어질 때 정의롭다.
- **분배적 정의**는 각자의 가치에 따라 권력, 명예, 재화를 분배함으로써 공정함을 실현하는 것이다. **교환적 정의**는 같은 가치를 지닌 두 물건을 교환하게 함으로써 교환의 결과를 공정하게 하는 것이다. **교정적 정의**는 다른 사람에게 해를 끼치면 그만큼 보상하게 하고, 다른 사람에게 이익을 주었으면 그만큼 받게 함으로써 서로 간에 동등하지 않음을 바로잡는 것이다.

◀(E01) 주로 형벌의 정당성을 이야기할 때 교정적 정의를 이야기해. ▶

**자료 분석** 아리스토텔레스는 정의를 일반적 정의와 특수적 정의로 구분하고, 특수적 정의를 다시 분배적 정의, 교환적 정의, 교정적 정의로 구분하였다. 일반적 정의는 법을 준수하는 것을 의미하고, 분배적 정의는 가치와 업적에 비례하여 명예나 보수 등을 분배하는 것을 의미한다. 교환적 정의는 같은 가치를 지닌 두 물건을 교환함으로써 교환의 결과를 동등하게 하는 것을 의미한다. 교정적 정의는 타인에게 해를 끼쳤으면 그만큼 보상해 주고, 이익을 주었으면 그만큼 돌려받아야 한다는 것을 의미한다.

- (1) 아리스토텔레스는 분배적 정의가 일반적 정의에 속한다고 보았다. (O, X)
- (2) 아리스토텔레스는 교정적 정의가 각자의 가치와 업적에 비례하여 분배하는 것이라고 주장하였다. (O, X)

## 자료 02 교정적 정의

- **벤담:** 모든 법의 일반적 목표는 공동체 전체의 행복 증진이다. 그런데 모든 형벌은 고통을 일으킨다. 따라서 어떤 형벌이 상대적으로 더 큰 어떤 악을 없애는 것을 보장해야만 그 형벌은 정당화된다. 형벌의 주목적은 범죄 예방이다. 따라서 범죄 예방 효과가 큰 형벌일수록 정당한 형벌이다.
- **칸트:** 형벌은 결코 범죄자 자신이나 시민 사회의 선을 촉진하기 위해서는 가해질 수 없고, 오직 범죄자가 범죄를 저질렀기 때문에 가해져야 한다. **오직 엄격한 보복법만이 형벌의 질과 양을 명확하게 제시할 수 있다.** 삶과 죽음 사이에 동등성은 없으므로 사형 이외에 살인에 대한 보복의 동등성은 없다. ▶(E02) 칸트에게 형벌의 목적은 범죄에 상응하는 처벌을 내리는 거야. 칸트에 따르면, 살인에 상응하는 형벌은 사형이야.
- **베카리아:** 범죄의 유일 타당한 척도는 사회에 끼친 해악이다. 범죄에 대한 가장 강력한 억제력은 한 악당이 처형되는 장면을 목격하는 데서 생겨나지 않는다. 이는 무시무시하지만 그 효과 면에서 일시적이다. 그보다는 자유를 박탈당한 채 짐 나르는 짐승처럼 취급받고 자신의 노동으로 그가 사회에 끼친 손해를 속죄하는 인간의 모습을 보게 하는 것이 더 효과적인 억제책이다. ▶(E03) 종신 노역형을 의미해. 베카리아는 ▶(E04) 사형을 의미해. 베카리아는 종신 노역형이 사형보다 강도는 약하지만 지 사형은 강도가 강하지만 일시적인 효과 속적인 효과가 있는 형벌이라고 생각했어. ▶(E05) 과박에 없는 형벌이라고 생각했어.

**자료 분석** 벤담은 공리주의 관점에서 형벌이 범죄를 예방하고 공동체 전체의 이익을 증진하기 위해 부과되어야 한다고 보았다. 칸트는 응보주의 관점에서 형벌이 범죄에 상응하는 보복의 차원에서 범죄와 동등하게 부과되어야 한다고 보았다. 베카리아는 공리주의 관점에서 처벌이 범죄자 교화, 범죄 예방 같은 사회적 이익을 증진하기 위한 수단이라고 보았고, 살인자에 대한 처벌은 사형보다 종신 노역형이 바람직하다고 보았다.

- (1) 벤담은 응보의 측면에서 형벌의 정당성을 제시하였다. (O, X)
- (2) 칸트는 살인이라는 범죄에 대한 정당한 형벌은 오직 사형뿐이라고 주장하였다. (O, X)

## 자료 03 다양한 영역에 맞는 분배 기준의 필요성

다원성의 관점에서 정의와 불평등 문제를 분석한 마이클 왈처는 “분배의 영역과 참여자의 수가 상당히 많을 경우, 어떠한 것이 정당하게 소유한 것이며 어떠한 것이 부당하게 소유한 것인가를 판단하는 일은 결코 쉬운 일이 아니다.”라고 주장하였다. 분배의 정당성을 판단하는 것이 쉽지 않으며, 기회를 분배하는 사회적 체계가 다원성을 무시하고 불공정하게 이루어지면 불평등한 사회가 된다는 것이다. ▶(E06) 왈처는 한 영역의 가치가 다른 영역의 가치를 침범하는 것을 '지배'라고 보았어.

왈처는 사회적 가치의 불평등한 분배에 결정적 영향을 주는 '지배'에 주목하였다. 돈만으로 권력과 명예와 교육을 얻을 수 있다면 돈은 지배적 가치가 된다. 학력이 좋다는 이유로 돈을 많이 벌고 권력도 얻고 명예도 따라온다면 학력이 지배적 가치가 된다. 나아가 그는 하나의 사회적 가치가 다른 모든 영역을 지배하여 장악하는 것은 폭정이고 '전제'라고 단언한다.

- 이진우, '불공정 사회'

**자료 분석** 왈처는 공동체의 역사적 혹은 문화적 특수성에 따라 사회적 가치의 의미가 다르다고 보았다. 따라서 그는 사회적 가치를 단일한 분배 기준과 절차에 따라 분배하는 것이 아니라, 그 특수한 의미에 맞게 서로 다른 기준에 의해 분배해야 한다는 **복합 평등론**을 주장하였다. 예를 들어 사회적 안전과 의료 혜택은 필요에 의해, 공직은 공적에 의해, 돈과 상품은 자유 교환에 의해, 교육은 엄격한 평등에 의해, 정치적 권력은 토론과 민주주의에 의해 분배되어야 한다고 주장하였다.

- (1) 왈처는 모든 사회적 가치를 단일한 분배 기준으로 나누어야 한다고 보았다. (O, X)
- (2) 왈처는 사회적 안전과 의료 혜택은 능력에 따라 분배되어야 한다고 주장하였다. (O, X)

## 자료 04 능력에 따른 분배는 공정할까?

우리의 재능이 운명을 결정해야 하며, 그에 따른 보상을 누릴 자격이 당연히 있다고 믿어야만 할까? 이 가정에 의문을 제기할 두 가지 이유가 있다. 첫째, 내가 이러한 재능을 가지게 된 것은 내 노력이 아니라 행운의 결과이다. 행운에 따른 혜택(또는 부담)은 내게 당연히 보장된다고 할 수 없다. 둘째, 내가 나의 재능을 후하게 보상하는 사회에 산다면 그것 역시 우연이며, 내 능력에 따른 당연한 결과라고 주장할 수 없다. 이 또한 행운의 결과이기 때문이다. ▶(E07) 사회적 지위나 보상이 개인의 능력에 따라 결정되어야 한다는 신념을 의미해.

**능력주의 신념**은 대부분 '우리 성공은 우리 몫'이라는 생각으로 이루어져 있다. 우리의 재능이 노력의 결과가 아님을 인식하면 이러한 자수성가의 그림이 복잡해진다. 우리 재능이 우연이든 우연의 결과이든 신의 선물이든 누군가에게 빛진 것이라면, 우리는 거기서 비롯된 혜택을 온전히 누릴 자격이 있다고 자만해서는 안 될 것이다.

- 샌델, '공정하다는 착각'

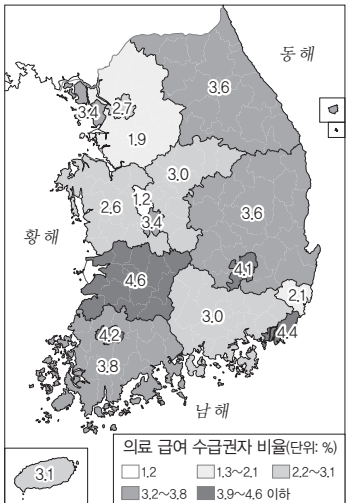
**자료 분석** 샌델은 능력에 따른 분배가 공정해 보이지만, 개인의 재능과 능력 자체도 우연한 출생과 사회적 조건의 산물이므로 공정하지 않을 수 있다고 보았다.

- (1) 샌델은 재능과 성취가 유전, 우연, 사회적 조건 등 외부 요인에 의해 형성될 수 있으므로, 능력만으로 분배의 공정을 판단하는 것은 옳지 않다고 보았다. (O, X)
- (2) 샌델에 따르면, 개인의 성취는 전적으로 개인의 노력과 능력 덕분이므로, 능력에 따른 분배는 항상 공정하다. (O, X)

## 01

다음 자료에 대한 옳은 설명만을 <보기>에서 있는 대로 고른 것은?

우리나라 사회 복지 제도 중 ㉠의료 급여 제도는 생활이 어려운 사람에게 의료 급여를 지급함으로써 보건과 사회 복지의 증진을 목표로 하는 제도이다. 2022년에는 전국 인구의 약 3%가 이 제도의 수급권자였다. 시도별 의료 급여 수급권자 비율이 가장 낮은 지역은 1.2%, 가장 높은 지역은 4.6%로 차이가 있다. 수급권자 비율이 전국 평균보다 낮은 시도는 서울, 경기, 울산, 충남, 세종이다.



\*행정 구역 변경 전 자료임. (국가데이터처, 2022)  
○ 시도별 의료 급여 수급권자 비율(총인구 대비)

[보기]

- ㄱ. 광역시는 모두 ㉠의 수급권자 비율이 4.0% 이상이다.
- ㄴ. ㉠의 수급권자 비율이 가장 낮은 지역은 충청권에 위치한다.
- ㄷ. ㉠은 인간의 기본적 필요 충족을 분배적 정의의 기준으로 적용하였다.
- ㄹ. ㉠은 공공 부조에 해당하며, 정부 재정으로 비용을 전액 충당하는 것을 원칙으로 한다.

- ① ㄱ, ㄴ                      ② ㄱ, ㄷ                      ③ ㄷ, ㄹ
- ④ ㄱ, ㄴ, ㄹ                ⑤ ㄴ, ㄷ, ㄹ

### 해결 Flow

자료를 바탕으로 의료 급여 제도의 의미와 지도에 제시된 의료 급여 수급권자 비율을 공간적으로 분석한다.

분석을 바탕으로 <보기> 선지의 적절성을 판단한다.

### 자료 분석

자료는 우리나라 사회 복지 제도 중 의료 급여 제도에 대한 내용을 서술하고 있다. 의료 급여 제도는 저소득 계층을 위해 정부가 전액 총당하여 의료비를 지급하는 제도이다. 자료에 따르면 전국에서 의료 급여 수급권자 비율이 가장 낮은 지역은 세종이고, 가장 높은 지역은 전북이다.

### 선지 분석

- ㄱ. 광역시는 모두 6개(부산, 대구, 인천, 대전, 광주, 울산)인데, 부산은 4.4%, 대구는 4.1%, 인천은 3.4%, 대전은 3.4%, 광주는 4.2%, 울산은 2.1%이다. 이 중 의료 급여 제도의 수급권자 비율이 4.0% 이상인 지역은 부산, 대구, 광주뿐이다.
- ✓ ㄴ. 의료 급여 제도의 수급권자 비율이 가장 낮은 지역은 충청권에 위치한 세종으로 1.2%이다.
- ✓ ㄷ. 의료 급여 제도는 인간의 기본적 필요 충족을 분배적 정의의 기준으로 적용한 복지 제도라고 할 수 있다.
- ✓ ㄹ. 의료 급여 제도는 공공 부조에 해당하며, 정부 재정으로 비용을 전액 충당하는 것을 원칙으로 한다. 즉, 저소득 계층의 의료비 부담을 국가가 지원하는 제도이다.

## 02

(가)의 입장에서 (나)의 A에게 제시할 조언으로 가장 적절한 것은?

(가)	사회 구성원이 인간으로서 기본적인 삶을 유지할 수 있도록 최소한의 필요를 충족하는 분배를 해야 한다.
(나)	○○시의 △△ 자선 단체에서 근무하는 A는 연말에 모금된 불우 이웃 돕기 성금을 어떻게 분배해야 할지 고민하고 있다.

- ① 모든 시민들에게 균등하게 분배해야 합니다.
- ② 나이가 많은 사람에게 우선적으로 분배해야 합니다.
- ③ 직업이 있는 사람에게 우선적으로 분배해야 합니다.
- ④ 가장 빈곤한 사람에게 우선적으로 분배해야 합니다.
- ⑤ 부양가족이 적은 사람에게 우선적으로 분배해야 합니다.

### 해결 Flow

(가)가 분배적 정의의 실질적 기준 중 어느 입장인지 추론하고 필요에 따른 분배에 대한 설명임을 이해한다.

(나)의 A에게 (가)의 입장에 맞는 조언을 하는 선지를 찾는다.

### 자료 분석

(가)는 필요에 따른 분배에 대한 설명이다. 필요에 따른 분배는 사회적 약자가 인간다운 삶을 살아가는 데 필요한 기본적 욕구를 충족할 수 있도록 분배하는 것을 말한다.

### 선지 분석

- ① 필요에 따른 분배는 균등 분배를 의미하지 않는다.
- ② 필요에 따른 분배는 나이에 따른 분배를 의미하지 않는다.
- ③ 필요에 따른 분배는 직업의 유무에 따른 분배를 의미하지 않는다.
- ✓ ④ 필요에 따른 분배는 사회적 약자, 저소득 계층의 인간다운 삶을 보장하기 위한 것이므로 가장 빈곤한 사람에게 우선적으로 분배할 것이다.
- ⑤ 필요에 따른 분배는 부양가족이 많은 사람의 필요를 더 우선할 것이다.

### 01-1 동형 문제

갑, 을의 입장에 대한 설명으로 적절한 것만을 <보기>에서 있는 대로 고른 것은?

갑: 많은 성과를 낸 사람에게 더 많은 보수를 주어야 합니다. 이를 통해 열심히 노력하려는 동기를 제공함으로써 사회 발전에 이바지할 수 있습니다.  
 을: 경제 상황이 어려운 사람에게 복지 정책을 통해 필요한 부분을 채워 주어야 합니다. 이를 통해 최소한의 인간다운 삶을 보장하고 사회적 불평등을 완화할 수 있습니다.

보기

- ㄱ. 갑: 객관적으로 평가하고 측정하기가 쉬운 업적을 분배 기준으로 삼아야 한다.
- ㄴ. 갑: 사회적 약자를 우선적으로 배려하여 기회의 평등을 넘어 결과의 평등을 추구해야 한다.
- ㄷ. 을: 능력이 탁월한 사람에게 더 많이 분배함으로써 개인의 능력에 비례하여 적절한 보상이 이루어지도록 해야 한다.
- ㄹ. 갑과 을: 사회적 가치를 공정하게 분배하여 각자에게 각자의 몫이 돌아가게 해야 한다.

- ① ㄱ, ㄴ                      ② ㄱ, ㄹ                      ③ ㄷ, ㄹ
- ④ ㄱ, ㄴ, ㄹ                ⑤ ㄴ, ㄷ, ㄹ

### 01-2 통합형

밑줄 친 ㉠~㉣에 대한 설명으로 옳은 것만을 <보기>에서 있는 대로 고른 것은?

㉠ 국민기초생활보장법

제1장 총칙

제1조(목적) 이 법은 생활이 어려운 사람에게 필요한 급여를 실시하여 이들의 ㉡ 최저 생활을 보장하고 자활을 돕는 것을 목적으로 한다.

㉢ 제3조(급여의 기본 원칙) 이 법에 따른 급여는 수급자가 자신의 생활의 유지·향상을 위하여 그의 소득, 재산, 근로 능력 등을 활용하여 최대한 노력하는 것을 전제로 이를 보충·발전시키는 것을 기본 원칙으로 한다.

제4조(급여의 기준 등) 이 법에 따른 급여는 건강하고 문화적인 최저 생활을 유지할 수 있는 것이어야 한다.

보기

- ㄱ. ㉠은 필요에 따른 분배와 동일한 방향에서 국민의 인간다운 삶을 보장하고자 한다.
- ㄴ. ㉡은 삶을 꾸려 나갈 수 있는 최소한의 생활로 사회적 안전망의 역할을 한다.
- ㄷ. ㉢에 의해 국민기초생활보장법의 대상은 유동적으로 달라질 수 있다.
- ㄹ. ㉣은 저소득 계층의 상황과 무관하게 국가가 전적으로 책임지는 것을 보여 준다.

- ① ㄱ, ㄴ                      ② ㄱ, ㄷ                      ③ ㄴ, ㄷ
- ④ ㄱ, ㄴ, ㄷ                ⑤ ㄴ, ㄷ, ㄹ

### 02-1 동형 문제

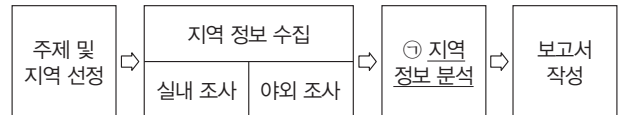
다음 자료에서 가장 두드러지게 나타난 분배적 정의의 기준에 대한 진술로 옳은 것은?

• 성적이 높은 학생에게 장학금을 지급하고, 자동차를 많이 판매한 사원에게 성과급을 지급한다.  
 • 국제 대회에서 열심히 노력하여 메달을 딴 운동선수에게 국가 차원에서 포상금을 지급한다.

- ① 개인의 성취동기를 자극하여 생산성을 높일 수 있다.
- ② 사회 안전망을 마련하여 사회 불평등을 개선할 수 있다.
- ③ 개인의 능력에 비례하여 적절한 보상이 이루어질 수 있다.
- ④ 객관화·수량화가 어려워 평가하는 기준이 모호할 수 있다.
- ⑤ 사회적 약자를 보호하여 많은 사람의 인간다운 삶을 보장할 수 있다.

### 02-2 통합형

그림의 과정에 따라 '수도권에 나타난 의료 불평등'에 대한 지역 조사를 진행하고자 한다. ㉠에 해당하는 활동으로 옳은 것은?



- ① 수도권 의료 불평등에 대한 논문 및 연구 자료를 수집한다.
- ② 수도권 의료 불평등이 나타나는 지역을 답사하고 촬영한다.
- ③ 수도권 의료 불평등에 대해 보도한 신문 기사를 스크랩한다.
- ④ 수도권에 살고 있는 의료 취약 계층 주민과의 인터뷰를 실시한다.
- ⑤ 수도권에 나타난 의료 불평등에 대한 통계 수치를 그래프로 제작한다.

# 수능 기본 문제

## 01

그림의 강연자가 지지할 입장으로 옳지 않은 것은?

동등한 사람이 동등하지 않은 몫을, 혹은 동등하지 않은 사람들이 동등한 몫을 분배받아 갖게 되면 싸움과 불평이 생겨납니다. 분배는 모든 사람들에게 동일하게 이루어질 때가 아니라 가치에 따라 비례적으로 이루어질 때 정의롭습니다. 어떤 사람은 때리고 다른 사람은 맞은 경우, 또 어떤 사람은 손해를 입히고 다른 사람은 손해를 입은 경우, 재판관은 그 손해의 차이에 주목하여 이익을 삭감함으로써 손해와 동등하게 만들기 위해 노력합니다.



- ① 법을 준수하는 것은 일반적으로 정의로운 것이다.
- ② 분배적 정의는 각자가 지닌 가치에 따라 분배하는 것이다.
- ③ 타인에게 끼친 해악만큼 보상하게 하는 것이 정의로운 것이다.
- ④ 교정적 정의는 동등하지 않은 것을 동등하게 바로잡는 것이다.
- ⑤ 사회적 갈등은 모든 사람에게 동일한 몫이 분배될 때 사라진다.

## 02

통합형

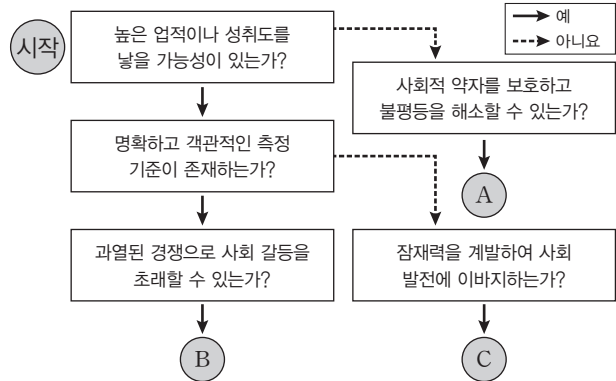
(가)의 갑, 을이 (나)에 대해 제시할 수 있는 입장으로 가장 적절한 것은?

(가)	<p>갑: 인간다운 삶을 위해 기본적인 욕구를 충족할 수 있도록 하는 분배가 필요하다. 사회적 약자를 위해 더 많은 재화를 사용함으로써 그들의 인간다운 삶을 보장해야 한다.</p> <p>을: 성과와 실적, 기여도에 따라 분배하는 것이 필요하다. 업적에 따른 적절한 보상을 통해 열심히 노력하려는 동기를 제공함으로써 개인의 성장을 도모하고 사회 발전에 이바지할 수 있다.</p>
(나)	<p>한국은 만 65세 이상 모든 노인들이 지하철을 무료로 이용할 수 있도록 노인 지하철 무료 승차 제도를 시행하고 있다. 노인들의 지하철 무료 이용은 노인들의 사회 참여, 여가와 문화생활 활성화에 도움이 된다. 하지만 급속한 고령화로 노인 인구가 증가하면서 무료 승차 대상자가 늘어났고, 지하철 운영사들이 심각한 경영난을 겪게 되자 노인 지하철 무료 승차 제도를 폐지해야 한다는 주장이 제기되고 있다.</p>

- ① 갑: 만 65세 이상 노인이 성취한 업적과 기여도에 따라 지하철 무료 이용 여부를 결정해야 한다.
- ② 갑: 만 65세 이상 노인의 기본적 필요를 충족할 수 있는 방향으로 지하철 무료 이용 여부를 결정해야 한다.
- ③ 을: 만 65세 이상 노인의 삶의 질을 향상하기 위해 교통과 관련한 다양한 복지 제도를 수립해야 한다.
- ④ 을: 고령화 해결을 위해 사회적 효율성을 기준으로 만 65세 이상 노인의 지하철 무료 이용 여부를 판단해야 한다.
- ⑤ 갑과 을: 만 65세 이상 노인이 가진 능력을 기준으로 지하철 무료 이용 여부를 판단해야 한다.

## 03

분배적 정의의 실질적 기준 A~C에 대한 설명으로 옳은 것은? (단, A~C는 각각 업적에 따른 분배, 능력에 따른 분배, 필요에 따른 분배 중 하나임.)



- ① A는 각자가 지닌 육체적·정신적 능력을 기준으로 분배하는 것이다.
- ② B는 사회적 안전망을 마련하고 불평등을 완화하는 역할을 한다.
- ③ C는 객관적 평가와 측정이 용이하다는 장점이 있다.
- ④ A는 B와 달리 사회 구성원의 인간다운 삶을 보장하는 것을 우선한다.
- ⑤ B는 C와 달리 자연적으로 타고난 자질이나 부모의 사회적·경제적 지위로부터 영향을 받는다.

## 04

통합형

다음은 서양 사상이자 갑, 을의 가상 토론이다. 갑, 을의 입장에 대한 설명으로 옳은 것은?

갑

〈토론 주제〉

사형 제도, 유지되어야 하는가?

을

형벌은 범죄자 자신이나 사회의 다른 선을 촉진하기 위해 가해지는 것이 아니라 오직 범죄를 저질렀기 때문에 가해지는 것입니다. 또한 동등성의 원리에 따라 범죄자에게는 범죄와 동등한 형벌이 가해져야 합니다.

형벌의 목적은 범죄자가 시민들에게 해악을 입힐 가능성을 방지하고 일반 시민들이 유사한 행위를 할 가능성을 억제하는 것입니다. 한 악당이 처형되는 장면을 목격하는 것보다 자유를 박탈당한 채 집승처럼 노동하는 모습을 보여주는 것이 더 효과적인 억제책입니다.

- ① 갑은 사형 제도가 인간을 수단시하는 정당하지 못한 형벌이라고 주장한다.
- ② 갑은 범죄자가 형벌받기를 원하였기 때문에 범죄에 상응하는 형벌을 받는 것이라고 본다.
- ③ 을은 높은 강도의 형벌일수록 범죄 예방 효과가 더 높다고 본다.
- ④ 을은 사형보다 범죄 예방 효과가 더 높은 형벌이 존재한다고 주장한다.
- ⑤ 갑과 을은 모두 살인이라는 범죄 행위에 대한 응당한 형벌은 사형뿐이라고 강조한다.

### 05

다음은 통합사회 형성 평가지이다. 학생이 표시한 답 중 옳은 것만을 ㉠~㉤에서 고른 것은?

**<형성 평가>**  
 ※ 아리스토텔레스의 정의관에 대한 진술이 맞으면 '예', 틀리면 '아니요'에 ✓표 하시오.

1. 일반적 정의는 법을 준수하는 것을 의미한다. ..... ㉠  
 예  아니요

2. 분배적 정의는 각자가 지닌 가치에 따라 분배하는 것이다. .... ㉡  
 예  아니요

3. 분배적 정의는 모든 사람이 동일한 것을 가지는 것이다. .... ㉢  
 예  아니요

4. 교정적 정의는 서로 간에 동등하지 않음을 바로잡는 것이다. .... ㉣  
 예  아니요

- ① ㉠, ㉡                      ② ㉠, ㉢                      ③ ㉡, ㉢  
 ④ ㉡, ㉣                      ⑤ ㉢, ㉣

### 06 통합형

(가)에 들어갈 내용으로 가장 적절한 것은?

제목: (가)

미국에서 시행하는 입시 제도에서는 부모가 가진 돈과 상관없이, 오직 지원자의 능력과 실력으로만 대학에 입학할 수 있다. 사람들은 대부분 이런 입시 방식이 공정하다고 본다. 이러한 입시 제도를 통해 정당하게 입학한 사람은 자신의 성취에 자부심을 가질 것이며, 이것을 자기 스스로 해낸 결과라고 여길 것이다. 그러나 실제로는 부유한 가정의 학생일수록 입학시험에서 더 높은 점수를 받을 가능성이 크다. 일부 부모는 사설 입시 상담사를 고용해 입시 자격을 다듬고, 무용과 음악 개인 지도 등을 받게 해 준다. 이러한 점을 고려해 볼 때, 이러한 입시 제도를 통해 대학에 입학한다고 해서 이것을 오직 개인의 능력과 실력만으로 해낸 결과라고 할 수 있을까?

① 부모의 관심이 입시 제도에 미치는 긍정적 영향  
 ② 업적에 따른 입시 제도로 인한 입시 경쟁의 과열 양상  
 ③ 필요를 기준으로 학생을 선발하는 입시 제도의 문제점  
 ④ 능력에 근거한 입시 제도의 공정성에 대한 재검토의 필요성  
 ⑤ 능력을 통해 사회적 약자에게 공정한 기회를 주는 입시 제도의 모습

### 07 통합형

다음은 수업 장면이다. 교사의 질문에 옳게 대답한 학생만을 고른 것은?

그래프에 대해 설명해 볼까요?

세대	부모보다 상승 (%)	부모보다 하락 (%)	부모와 일치 (%)
전체	29.7	46.9	23.4
20대	11.8	69.2	19.0
30대	38.5	36.0	25.5

(서울연구원, 2021)

갑: 전체적으로 부모보다 사회적 지위가 상승한 자녀 비율이 더 높아요.  
 을: 20대보다 30대가 부모보다 사회·경제적 지위 상승 가능성이 높아요.  
 병: 20대가 30대보다 사회·경제적 어려움을 겪을 가능성이 높아요.  
 정: 30대는 전체보다 부모와 사회·경제적 지위가 일치하는 경우가 낮아요.

- ① 갑, 을                      ② 갑, 병                      ③ 을, 병  
 ④ 을, 정                      ⑤ 병, 정

### 08

다음 자료는 교정적 정의를 바라보는 두 가지 관점과 관련한 생성형 인공지능(AI)과의 대화 내용이다. 이에 대한 설명으로 옳은 것은? (단, 생성형 인공지능의 답변은 옳은 내용임.)

교정적 정의에 대한 관점 중 A 관점에 대해 알려 줘.

AI: A 관점은 범죄 행위에 상응하는 동등한 형벌 부과를 강조하는 입장입니다. A 관점은 범죄 행위에 대한 개인의 책임을 강조합니다.

교정적 정의에 대한 관점 중 B 관점에 대해서도 알려 줘.

AI: B 관점은 형벌의 사회적 효과를 강조하는 입장입니다. B 관점에 따르면 형벌 자체가 고통이므로 형벌 부과를 통해 더 큰 사회적 해악을 없앨 수 있을 때 처벌이 정당화 됩니다.

- ① A는 공리주의이다.  
 ② B는 응보주의이다.  
 ③ A는 B와 달리 형벌의 본질이 범죄 행위에 대한 응당한 보복을 가하는 것이라고 본다.  
 ④ B는 A와 달리 교정적 정의가 범죄로 인한 부정의를 바로잡는 것이라고 본다.  
 ⑤ A와 B는 모두 형벌이 사회적 이익을 증진하기 위한 수단이라고 본다.

# 1등급 완성 문제



## 01

다음 자료는 서술형 평가 문항 및 답안의 채점 결과이다. 이에 대한 율은 설명만을 <보기>에서 고른 것은?

[문항]

아리스토텔레스가 제시한 ㉠ 정의에 관한 입장을 세 가지 이상 서술하시오. (각 입장별로 채점하며, 율은 입장 1개당 1점을 부여함.)

[답안]

- 법을 준수하는 것은 특수적 정의에 해당한다.
- 분배적 정의는 각자가 지닌 가치에 따라 분배하는 것이다.
- 

채점 결과  점

[보기]

- ㄱ. ㉠은 동등하다면 동등한 몫을, 동등하지 않다면 동등하지 않은 몫을 받는 것이다.
- ㄴ. ㉠이 2점이라면 (가)에는 '교정적 정의는 서로 간에 동등하지 않음을 바로잡는 것이다.'가 들어갈 수 없다.
- ㄷ. (가)에 '정의로운 것은 일종의 비례에 따르는 것이다.'가 들어간다면 ㉠은 2점이다.
- ㄹ. (가)에 '정의는 일반적 정의와 특수적 정의로 분류된다.'가 들어간다면 ㉠은 3점이다.

- ① ㄱ, ㄴ                      ② ㄱ, ㄷ                      ③ ㄴ, ㄷ
- ④ ㄴ, ㄹ                      ⑤ ㄷ, ㄹ

## 02

다음은 고대 서양 사상가와 제자의 가상 대화이다. (가)에 들어갈 내용으로 가장 적절한 것은?

제자: 스승님은 정의가 무엇이라고 생각하십니까?

사상가: 정의는 일반적 정의와 특수적 정의로 나눌 수 있네. 이 중 일반적 정의는 법을 준수하는 것이라 할 수 있지.

제자: 그렇다면 특수적 정의는 무엇입니까?

사상가: 특수적 정의는 다시 분배적 정의와 교환적 정의, 교정적 정의로 나눌 수 있네. 이 중 교정적 정의는 다른 사람에게 피해를 준 것에 대해 그만큼 보상하게 함으로써 부정의를 바로잡는 것이고, 분배적 정의는

- ① 일반적으로 합법적인 것으로서의 정의를 의미하네.
- ② 서로 동등하지 않은 상태를 바로잡는 것을 의미하네.
- ③ 모든 사람들이 평등하게 동일한 것을 갖는 것을 의미하네.
- ④ 재화나 명예를 각자가 지닌 가치에 따라 분배하는 것을 의미하네.
- ⑤ 행위로 인한 이익과 손해의 차이에 주목하여 이익과 손해를 동등하게 만드는 것이라네.

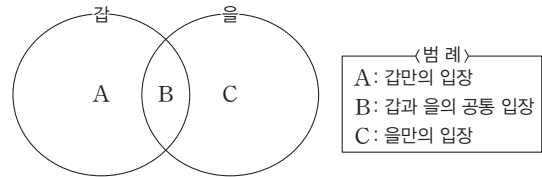
[03~04] 다음 자료를 보고 물음에 답하시오.

갑: 형벌은 결코 범죄자 자신이나 사회를 위해서 어떤 다른 선을 촉진하기 위한 한낱 수단으로서 가해질 수는 없고, 오히려 그가 범죄를 저질렀기 때문에 항상 오직 그 때문에 그에게 가해지지 않으면 안 되는 것이다. 공적인 정의가 표준으로 삼는 것은 동등성의 원리이다. 오직 보복법만이 형벌의 질과 양을 명확하게 제시할 수 있다.

을: 모든 처벌은 그 자체로서 악이다. 공리성의 원리에 의할 때 만일 처벌이 인정될 수 있다면, 그것은 더욱 큰 악을 없애는 것을 보장하는 한에 있어서만 인정되어야 한다. 처벌의 가치는 어떤 경우에도 법을 어김으로써 얻는 이득보다 더 적어서는 안 된다.

## 03

갑, 을 사상가의 입장을 다음 그림으로 탐구하고자 할 때, A~C에 해당하는 진술로 가장 적절한 것은?



- ① A: 형벌의 목적은 범죄 행위에 대한 응당한 보복을 가하는 것이다.
- ② A: 정의는 범죄 행위에 대한 처벌을 통해 부정의를 바로잡을 때 실현된다.
- ③ B: 살인에 대한 교정적 정의는 사형을 통해서만 실현될 수 있다.
- ④ B: 형벌은 범죄자 교화, 범죄 예방의 측면에서 집행되어야 한다.
- ⑤ C: 형벌을 사회적 이익을 증진하기 위한 수단으로 삼아서는 안 된다.

## 04

다음 사상가가 갑 사상가에게 제기할 수 있는 비판으로 가장 적절한 것은?

형벌의 목적은 범죄자가 시민들에게 해악을 입힐 가능성을 방지하고 일반 시민들이 유사한 행위를 할 가능성을 억제하는 것이다. 사법적 처벌이 정당화되려면 그 처벌이 오직 범죄자가 시민에게 새로운 해악을 입힐 가능성을 방지하고 타인의 범죄를 억제하기에 충분한 정도의 강도만을 가져야 한다.

- ① 살인에 대한 최상의 동등한 형벌은 사형임을 간과한다.
- ② 사형은 전혀 범죄 예방 효과가 없는 형벌임을 간과한다.
- ③ 범죄에 비례하여 형벌의 경중을 결정해야 함을 간과한다.
- ④ 사형보다 종신 노역형이 범죄 예방에 더 효과적임을 간과한다.
- ⑤ 형벌의 목적은 공동체 전체의 행복 증진에 있지 않음을 간과한다.

### 05

(가)의 갑, 을의 입장에서 서로에게 제기할 수 있는 비판을 (나) 그림으로 표현할 때, A, B에 해당하는 내용으로 가장 적절한 것은?

**(가)**  
 갑: 모든 법의 일반적 목표는 공동체 전체의 행복 증진이다. 그런데 모든 형벌은 고통을 일으킨다. 따라서 어떤 형벌이 상대적으로 더 큰 어떤 악을 없애는 것을 보장해야만 그 형벌은 정당화된다. 형벌의 주목적은 범죄 예방이다. 따라서 범죄 예방 효과가 큰 형벌일수록 정당한 형벌이다.  
 을: 형벌은 결코 범죄자 자신이나 시민 사회의 선을 촉진하기 위해서는 가해질 수 없고, 오직 범죄자가 범죄를 저질렀기 때문에 가해져야 한다. 오직 엄격한 보복법만이 형벌의 질과 양을 명확하게 제시할 수 있다. 예를 들어 살인에 대한 최상의 동등은 사형이다. 사형 이외에 살인에 대한 보복의 동등성은 없다.

**(나)**

- ① A: 형벌은 사회적 이익을 증진하기 위한 수단임을 간과한다.
- ② A: 형벌의 본질은 범죄 행위에 대한 응보에 있음을 간과한다.
- ③ A: 범죄 행위에 대한 처벌을 통해 부정의를 바로잡아야 함을 간과한다.
- ④ B: 모든 형벌은 공적 차원에서 이루어져야 함을 간과한다.
- ⑤ B: 범죄자는 사회적 이익을 위해 처벌받아야 함을 간과한다.

### 06

A~C에 대한 설명으로 옳은 것은? (단, A~C는 각각 업적에 따른 분배, 능력에 따른 분배, 필요에 따른 분배 중 하나임.)

사회적 가치를 공정하게 분배하기 위해서 필요한 적절한 분배 기준에는 어떤 것들이 있을까요?

A는 결과를 수량화할 수 있어 각자에게 주어질 몫을 결정하기가 비교화 쉽습니다.

B는 자연적으로 타고난 자질이나 부모의 사회·경제적 지위 등 우연적 요소의 영향을 받을 수 있습니다.

C는 사회 구성원의 기본적 욕구 충족과 인간다운 삶의 보장에 관심을 두고 있습니다.

모두 옳게 발표하였습니다.

- ① A는 능력에 따른 분배이다.
- ② B는 모든 사람의 필요를 충분히 충족하는 것은 불가능하다는 문제점이 있다.
- ③ C는 개인의 성취동기를 자극하여 생산성을 높일 수 있다.
- ④ A와 B는 결과적으로 모두 높은 성취도를 낳을 가능성이 높다는 공통점이 있다.
- ⑤ C는 B에 비해 개인의 능력을 계발할 수 있는 기회를 더 많이 포함한다.

### 07

A, B에 대한 옳은 설명만을 (보기)에서 있는 대로 고른 것은? (단, A, B는 각각 업적에 따른 분배, 필요에 따른 분배 중 하나임.)

분배적 정의의 실질적 기준 가운데 A가 가진 문제점은 사회적 약자를 배려하기 어렵고, 지나친 경쟁으로 인해 심각한 사회 갈등을 유발할 수 있다는 것이다. 반면에 B가 가진 문제점은 열심히 일하고자 하는 동기를 약화하여 경제적 효율성을 떨어뜨릴 수 있다는 것이다.

- 보기**
- ㄱ. A는 사회적 안전망의 보장을 통해 사회적 불평등 해소를 지향한다.
  - ㄴ. B는 인간다운 삶을 위한 기본적인 욕구를 충족할 수 있도록 하는 분배를 지향한다.
  - ㄷ. A는 B와 달리 객관적인 평가 기준을 수립하는 것이 어렵다는 문제가 있다.
  - ㄹ. A와 B는 모두 사회적 가치를 공정하게 분배하여 각자의 몫을 부여하고자 한다.

- ① ㄱ, ㄴ                      ② ㄱ, ㄷ                      ③ ㄴ, ㄹ
- ④ ㄱ, ㄴ, ㄹ                ⑤ ㄴ, ㄷ, ㄹ

### 08 ▶ 통합형

다음 자료에 대한 분석으로 옳지 않은 것은?

○○ 과학 고등학교는 <기회 균형 전형 지원 인원의 변화> 올해 정원 내 일반 전형으로 90명, 정원 외 ㉠기회 균형 전형으로 28명 신입생을 모집한다. 일반 전형에는 지역 인재 우선 선발 인원 34명이 포함된다. 지역 인재 우선 선발에는 해당 지역 소재 중학교에 1년 이상 재학한 3학년 학생만 지원할 수 있다. 이 전형에서는 ㉡영재성이 높다고 판단한 지원자를 선발한다. 기회 균형 전형 지원 자격에는 교육 급여 수급자, 차상위 계층, 한부모·이주 배경 학생, 특수 교육 대상자, 국가 유공자의 자녀 등이 해당한다.

연도	모집 인원	지원 인원
2021학년도	28	33
2022학년도	28	53
2023학년도	28	68

- ① ㉠은 인간다운 삶을 보장하는 필요에 따른 분배에 해당한다.
- ② 기회 균형 전형의 모집 인원은 2021학년도부터 2023학년도까지 동일하다.
- ③ 2021학년도에 비해 2023학년도의 기회 균형 전형의 경쟁률은 더 높아졌다.
- ④ ㉡은 성취도와 기여도를 분배의 기준으로 삼는 업적에 따른 분배에 해당한다.
- ⑤ ㉡은 ㉠보다 사회 구성원의 성취동기를 높여 잠재력을 계발할 동기를 제공한다.

# 12

## 다양한 정의관의 특징과 불평등 현상

### 1 다양한 정의관의 특징

#### 1. 자유주의적 정의관 **자료 01**

<b>의미와 특징</b>	<ul style="list-style-type: none"> <li>모든 개인은 독립적으로 존재하며 각자 자신이 원하는 삶을 스스로 선택할 수 있는 자유를 지니고 있다는 사상</li> <li>공동선보다 개인선과 개인의 독립성 및 자율성 우선</li> <li>개인은 독립적 자아로 사회에 우선 <small>(TIP) 공동체에 매여 있지 않은 개별적 자아를 의미함.</small></li> </ul>
<b>국가관</b>	<ul style="list-style-type: none"> <li>정의로운 국가는 개인의 자유와 권리를 최대한 보장하고 보호하는 국가</li> <li>타인의 자유와 권리를 침해하지 않는다면 개인이 스스로 삶의 방식을 결정할 수 있도록 국가가 개입해서는 안 됨.</li> </ul>
<b>롤스</b>	모든 사람이 기본적 자유를 최대한 누릴 수 있는 평등한 권리를 가져야 하며, 사회적 약자의 이익을 증진할 수 있어야 함.
<b>노직</b>	재화의 취득과 이전의 과정이 정당하다면 그 과정을 통해 얻은 소유물에 대한 개인의 소유 권리를 보장해야 함.

(TIP) 롤스의 정의의 원칙은 평등한 자유의 원칙, 공정한 기회균등의 원칙, 차등의 원칙으로 이루어져 있어.

#### 2. 공동체주의적 정의관 **자료 02**

<b>의미와 특징</b>	<ul style="list-style-type: none"> <li>개인은 공동체의 구성원으로서 존재하며, 공동체가 추구하는 가치와 목적 아래 사회적 책임과 의무를 다해야 한다는 사상</li> <li>구성원이 공유하는 가치를 토대로 공동선의 증진을 중시</li> <li>개인은 연고적 자아 <small>(TIP) 공동체의 문화와 역사 등에 영향을 받으며 정체성을 형성하는 자아를 의미함.</small></li> </ul>
<b>국가관</b>	공동체 구성원 누구나 공동선을 달성하기 위해 자신의 책임과 의무를 성실히 이행할 수 있도록 돕는 국가
<b>매킨 타이어</b>	개인은 다양한 공동체의 구성원으로서 공동체와 분리된 독립적 존재가 아니며, 공동체의 역사와 전통으로부터 자신의 정체성을 형성함.
<b>샌델</b>	개인은 연고적 자아임을 자각하고, 책임 의식을 가지고 공동선 증진에 기여해야 함.

(TIP) 매킨타이어는 현대 덕 윤리를 대표하는 학자야. 그는 공동체가 공유하는 덕이 개인의 행동을 지도하고 판단하는 기준이자 공동선을 위한 토대가 된다고 보았어.

### 2 개인과 공동체의 바람직한 관계 **자료 03**

**1. 개인과 공동체의 관계:** 개인의 권리와 공동체에 대한 의무는 상호 보완적 관계 → 모든 구성원이 사회적 의무와 책임을 다할 때 자신의 권리를 합당하게 누릴 수 있음.

#### 2. 사익과 공익의 조화

<b>의미</b>	<ul style="list-style-type: none"> <li>사익은 개인의 행복 추구나 자아실현 등으로 개인이 사적으로 얻게 되는 이익을 의미하고, 공익은 공동체의 가치를 추구함으로써 공동체 구성원 모두가 얻게 되는 이익을 의미</li> <li>사익과 공익은 개인의 권리와 사회적 의무처럼 상호 보완적인 관계</li> <li>개인은 사익을 추구하면서도 공동체의 선을 추구하고, 공동체는 사익을 보호할 때 개인의 과도한 희생 없이 공익이 실현될 수 있음.</li> </ul>
<b>정의관</b>	자유주의적 정의관과 공동체주의적 정의관은 강조점은 다르지만 모두 사익과 공익의 조화, 개인과 공동체의 조화를 추구

### 3 불평등 현상과 개선 방안

#### 01 다양한 불평등 현상

##### 1. 사회 계층의 양극화

(TIP) 사회에서 일정한 사회적·경제적 특성을 가진 사람들 사이에 발생하는 위계가 비슷한 사람들의 집합체로 한 사회의 사회 계층은 일반적으로 상층, 중층, 하층으로 구분돼.

<b>의미</b>	사회 계층 중에서 중층이 점차 감소하면서 사회 계층이 양극단으로 쏠리는 현상
<b>원인</b>	경제적 격차
<b>결과</b>	<ul style="list-style-type: none"> <li>사회 구성원 간 불평등 심화</li> <li>사회 계층 간 위화감 조성 및 갈등 발생으로 사회 발전 저해</li> </ul>

##### 2. 공간 불평등

(TIP) 정부 주도로 성장 잠재력이 높은 지역을 선정하여 집중적으로 개발하는 방식이야.

<b>의미</b>	지역 간에 경제적·사회적·문화적 수준 차이가 나타나는 현상
<b>원인</b>	<ul style="list-style-type: none"> <li>지역 간 생산 요소 및 자연환경 등의 분포 차이</li> <li>정부 주도의 성장 거점 개발 정책</li> </ul>
<b>결과</b>	<ul style="list-style-type: none"> <li>인구, 산업, 편의 시설 등이 도시에 편중되고 농촌 지역은 인구가 지속적으로 유출되는 등 지역 격차 발생</li> <li>공간 불평등이 경제적 자원뿐만 아니라 교육, 의료, 문화 등 생활 환경 전반의 불평등으로 이어져 지역 간 갈등 심화</li> </ul>

##### 3. 사회적 약자에 대한 차별

(TIP) 사회적으로 불리한 위치에 있는 사람 모두를 의미해.

<b>의미</b>	사회적 지위나 경제 수준 등이 열악한 위치에 있어서 인간다운 삶을 꾸려 나가는 데 어려움을 겪는 개인 또는 집단(예 노인, 저소득층, 어린이, 장애인 등)을 차별하는 현상
<b>원인</b>	성별, 장애, 나이 등에 대한 선입견과 편견 및 차별을 쉽게 용인하는 사회적 환경
<b>결과</b>	사회 구성원의 존엄성과 기본적 권리를 침해

#### 02 불평등 현상의 개선 방안

(TIP) 사회 구성원이 기본적인 욕구를 충족하고 정상적인 생활을 할 수 있도록 지원하는 제도를 말해.

<b>사회 계층의 양극화</b> <b>자료 04</b>	<p>모든 사회 구성원이 최소한의 인간다운 삶을 누릴 수 있도록 보장하는 <b>사회 복지 제도</b>가 필요</p> <p>① <b>사회 보험:</b> 국민이 사회적 위험에 대비할 수 있도록 국가가 실시하는 제도 <small>(TIP) 국민 건강 보험, 국민연금 등이 대표적인 사례야.</small></p> <p>② <b>공공 부조:</b> 국가의 지원으로 빈곤 계층에게 최소한의 생활을 보장하는 제도 <small>(TIP) 국민 기초 생활 보장 제도, 기초 연금 제도 등이 대표적인 사례야.</small></p> <p>③ <b>사회 서비스:</b> 도움이 필요한 국민에게 상담, 재활, 돌봄 등의 개별적인 서비스를 제공하는 제도</p>
<b>공간 불평등</b>	<p>국가 차원에서 지역 격차 완화 정책을 시행하여 국토의 균형 발전을 추구해야 함.</p> <p>① 수도권에 집중되어 있는 공공 기관 분산, 지방 이전 기업에 세금 감면 등의 혜택 제공</p> <p>② 지역의 역사적·지리적 특색을 살린 특산물, 관광 자원 개발</p>
<b>사회적 약자 차별</b>	차별받아 온 특정 집단에게 차별로 인한 불이익을 보상해 주기 위한 적극적 평등 실현 조치 실행 (예 여성 할당제, 장애인 의무 고용 제도 등)

# 중요 자료 분석

## 자료 01 자유주의적 정의관

- **롤스:** 어떤 사람이 우월한 재능을 가지고 태어난 것은 정의롭지도 부정적이지도 않다. 하지만 한 개인에게 주어진 타고난 재능은 그 개인이 누릴 자격이 있는 마땅한 것이 아니다. 따라서 어떤 사람도 자신이 타고난 우월한 재능을 보다 유리한 출발 지점으로 이용할 자격은 없다. 이주 불리한 처지에 있는 사람의 여건을 향상해 준다는 조건에서만 그가 가진 타고난 우월한 재능으로부터 더 큰 이익을 얻을 수 있다. **→(정답) 롤스는 이러한 사람들을 '최소 수혜자'라고 불러.**
- **노직:** 어떤 소유물의 취득과 이전의 과정이 부당하면 국가가 교정해야 하지만, 정당하면 그 소유물에 대한 소유 권리를 보장해야 한다. 각 개인이 타고난 재능으로부터 얻은 소유물에 대해서도 마찬가지이다. 각 개인의 타고난 재능이 그가 마땅히 받을 만한 것이라고 말할 수는 없다고 해도, 개인은 자신의 타고난 재능에 대한 소유 권리를 가지며 그 타고난 재능으로부터 산출되는 것에 대해서도 소유 권리를 가진다. **→(정답) 노직은 분배의 절차가 정당하면 결과도 정당하다는 절차적 정의를 주장했어.**

**자료 분석** 롤스는 정의가 공정성을 실현하는 문제라고 보고, 모든 사람이 합의한 정의 원칙에 따라 사회적 약자를 포함한 모두의 이익을 고려해야 한다고 주장하였다. 노직은 개인의 절대적·배타적 소유권을 보장해야 한다고 보고, 소유물의 취득과 이전의 과정이 정당하다면 그 소유물에 대한 소유권을 보장하는 것이 정의라고 주장하였다.

- (1) 롤스는 개인의 타고난 재능은 개인의 것이므로 개인에게 유리한 출발 지점으로 사용할 자격이 있다고 보았다. (O, X)
- (2) 노직은 어떤 경우에도 국가가 분배의 과정에 개입할 수 없다고 주장하였다. (O, X)

## 자료 02 공동체주의적 정의관

- **매킨타이어:** 나는 누군가의 아들이거나 딸 또는 사촌이고, 이 도시나 저 도시의 시민이다. 나는 이 친족, 저 부족, 이 나라에 속한다. 이처럼 나는 내 가족, 내 도시, 내 부족, 내 나라의 과거에서 다양한 빛과 유산을 물려받는다. 또한 조상들의 기대와 후손으로서의 의무도 물려받는다.
- **샌델:** 사회 구성원들이 공동체 의식에 의해 구속된다는 것은 단순히 그들이 공동체에 대해 느끼는 경험을 이야기하고 공동체의 목적을 추구함을 뜻하는 것만은 아니다. 오히려 그들의 정체성이 그들의 한 부분을 차지하고 있는 공동체에 의하여 정의된다는 점을 인정하는 것을 말한다.
- **왈처:** 사회적 가치는 각 공동체의 역사적이고 문화적인 소산으로, 공동체 안에는 고유한 사회적 가치가 존재한다. 모든 사회에서 동일하게 중요하다고 인정되는 가치는 없으므로, 가치를 분배할 때는 공동체의 문화적 특수성과 차이를 고려해야 한다. 사회적 가치는 고유한 영역을 가지며, 각각의 사회적 가치가 고유한 영역 안에 머무를 때 복합 평등이 실현될 수 있다.

**자료 분석** 매킨타이어는 개인이 공동체의 역사와 전통으로부터 자신의 정체성을 형성한다고 보았고, 샌델은 개인이 공동체의 구성원으로서 책임 의식을 가지고 공동선 증진에 기여해야 한다고 주장하였다. 왈처는 사회적 가치가 공동체의 역사와 문화로부터 생겨난다고 보았다.

- (1) 매킨타이어는 인간을 공동체로부터 자유롭고 독립적인 존재로 바라보았다. (O, X)
- (2) 샌델은 개인의 정체성이 공동체에 의해 형성된다고 보았다. (O, X)

## 자료 03 개인과 공동체의 관계

- 자유주의적 정의관과 공동체주의적 정의관은 모두 사익과 공익의 조화를 추구한다.

<b>자유주의적 정의관</b>	이익을 얻으려는 개인 간의 공정한 경쟁이 사익 증진뿐만 아니라 공동체 발전에도 기여할 수 있음. → 사익 추구가 공익 실현으로 이어짐.
<b>공동체주의적 정의관</b>	공익을 실현하기 위한 개인 간의 연대가 공동체의 목표 달성뿐만 아니라 개인의 좋은 삶에도 기여할 수 있음. → 공익 실현이 사익 실현으로 이어짐.

- 개인이나 공동체 중 개인만 강조하면 공동체에 대한 의무와 책임, 공익을 회피하는 극단적 이기주의에 빠질 수 있다. 반면 공동체만 강조하면 집단의 목적과 이익을 위해 개인의 희생을 강요하는 **집단주의**에 빠질 수 있다. **→(정답) 개인의 이익보다 집단의 이익을 우선하는 원리야.**

**자료 분석** 개인과 공동체는 상호 보완적인 관계에 있다. 개인으로서 사회 구성원은 사회적 의무와 책임을 다해야 하고, 국가는 개인의 사익 보호와 공동체의 이익을 함께 추구해야 한다. 개인이 사회적 의무와 책임을 다할 때 자신의 권리를 합당하게 누릴 수 있고, 공동체가 개인의 이익을 보호할 때, 공동선을 달성할 수 있다.

- (1) 자유주의적 정의관은 공익이 아니라 사익만을, 공동체주의적 정의관은 사익이 아니라 공익만을 추구한다. (O, X)
- (2) 사익 추구하고 공익 실현은 긴밀하게 연결되어야 한다. (O, X)

## 자료 04 사회 계층의 양극화 해소를 위한 사회 복지 제도

<b>사회 보험</b>	① 의미: 국민에게 발생할 수 있는 질병, 장애, 노령, 실업, 사망 등과 같은 사회적 위험을 보험의 방식으로 대처하는 제도(☞ 국민연금, 국민 건강 보험 등) ② 원칙: <b>금전적 지원</b> <b>→(정답) 개인, 기업, 정부가 분담해서 재원을 마련하고 있어.</b> ③ 대상: 일정한 요건을 갖춘 모든 국민
<b>공공 부조</b>	① 의미: 생활 유지 능력이 없거나 생활이 어려운 국민의 최저 생활을 보장하고 자립을 지원하는 제도(☞ 국민 기초 생활 보장 제도, 기초 연금 제도 등) ② 원칙: 금전적 지원 ③ 대상: 절대 빈곤층
<b>사회 서비스</b>	① 의미: 도움과 보호가 필요한 국민에게 상담, 재활, 돌봄 등 각종 서비스를 제공하는 제도 ② 원칙: 비금전적 지원 ③ 대상: 도움이 필요한 모든 국민

**자료 분석** 사회 복지 제도는 사회 계층의 양극화를 해소하고, 사회적 약자를 비롯한 모든 구성원의 기본적 욕구 충족과 인간다운 생활을 보장하기 위해 시행되고 있다.

- (1) 사회 보험은 개인, 기업, 정부가 분담하여 지원금을 마련한다. (O, X)
- (2) 공공 부조는 일정한 요건을 갖춘 모든 국민의 자활을 지원한다. (O, X)

## 01

(가)의 갑, 을 사상가의 입장을 (나) 그림으로 탐구하고자 할 때, A~C에 들어갈 적절한 질문만을 <보기>에서 고른 것은?

(가)	<p>갑: 한 사람의 소유물은 취득, 이전, 교정의 원리에 의해 권리를 부여받았으면 정당하다. 각 개인의 소유물이 정당하다면 소유물의 전체 집합, 즉 분배도 정당하다.</p> <p>을: 공정으로서의 정의는 공정한 합의의 관념을 기본 구조 자체로 확장시킨다. 무지의 베일이라 부른 특징을 갖는 원초적 입장이 이러한 관점을 구체화한다.</p>
(나)	

<보기>

- ㄱ. A: 정의로운 사회에서 경제적 불평등이 허용될 수 있는가?
- ㄴ. B: 각 개인은 정당한 소유물에 대한 배타적 사용권을 가지는가?
- ㄷ. B: 자신이 직접 노동하지 않더라도 정당하게 소유물을 얻는 것이 허용될 수 있는가?
- ㄹ. C: 사회적 약자의 경제적 이익을 증진하는 것을 최우선의 정의 원칙으로 삼아야 하는가?

- ① ㄱ, ㄴ                      ② ㄱ, ㄷ                      ③ ㄴ, ㄷ
- ④ ㄴ, ㄹ                      ⑤ ㄷ, ㄹ

### 해결 Flow

(가)의 갑, 을 사상가의 주장을 바탕으로 갑, 을 사상가가 누구인지 분석한다.

순서도의 흐름에 따라 <보기>에 제시된 선지의 적절성을 판단한다.

### 자료 분석

갑은 노직, 을은 롤스이다. 노직은 개인이 정당한 소유물에 대한 배타적·절대적 권리를 지닌다고 보았고, 개인의 소유권을 침해하지 않고 개인의 권리를 보호하는 최소 국가가 정당하다고 주장하였다. 롤스는 공정한 조건에서 합의된 정의 원칙에 따라 공정한 분배가 이루어져야 한다고 보았고, 정의의 원칙을 통해 자연적·사회적 우연성의 영향을 감소시키는 것이 정의롭다고 주장하였다.

### 선지 분석

- ㄱ. 롤스와 노직은 모두 정의로운 절차를 거쳐 나온 결과는 모두 정의롭다는 절차적 정의를 주장하였다. 즉 그들은 정당한 절차를 거쳤다면 경제적 불평등이 발생하더라도 허용될 수 있다고 보았다.
- ✓ ㄴ. 노직은 각 개인이 정당한 소유물에 대한 배타적·절대적 권리를 지닌다고 보았다.
- ✓ ㄷ. 노직은 양도의 원칙에 따라 자신이 직접 노동하지 않더라도 정당한 절차를 거쳐 양도받았다면 정당한 소유물임을 인정하였다.
- ㄹ. 롤스는 차등의 원칙을 통해 사회적 약자의 경제적 이익 증진을 주장하였다. 그러나 차등의 원칙은 모든 사람에게 평등한 자유를 주는 평등한 자유의 원칙과 공정한 기회를 보장하는 공정한 기회균등의 원칙이 보장된 이후에 적용되는 원칙이다.

## 02

다음은 인터넷 게시판 화면이다. 밑줄 친 '나'의 입장을 지지하는 댓글만을 ㉠~㉣ 중에서 있는 대로 고른 것은?

- ① ㉠, ㉡                      ② ㉠, ㉢                      ③ ㉡, ㉣
- ④ ㉠, ㉢, ㉣                ⑤ ㉡, ㉣, ㉢

### 해결 Flow

게시판의 내용을 바탕으로 '나'가 누구인지 분석한다.

'나' 사상가의 입장에 따라 선지의 적절성을 판단한다.

### 자료 분석

게시판의 '나'는 롤스이다. 롤스는 자연적·사회적 우연성이 배제된 공정한 상황에서 채택된 정의의 원칙을 토대로 평등한 자유의 원칙, 공정한 기회균등의 원칙, 차등의 원칙을 제시하였다.

### 선지 분석

- ✓ ㉠ 롤스는 사회적 지위나 직책을 얻을 수 있는 기회가 누구에게나 열려 있어야 한다고 강조하며 공정한 기회균등의 원칙을 제시하였다.
- ✓ ㉡ 롤스는 정의 실현을 위해서는 최소 수혜자와 같은 사회적 약자를 고려해야 한다는 차등의 원칙을 주장하였다.
- ✓ ㉢ 롤스는 모든 사람이 기본적 자유를 평등하게 누려야 한다는 평등한 자유의 원칙을 주장하였다.
- ㉣ 롤스는 절차가 공정했다면 불평등이라는 결과 또한 정의롭다고 보았다.

**01-1** 동형 문제

갑, 을 사상가의 입장에 대한 설명으로 적절한 것만을 <보기>에서 고른 것은?

갑: 소유물을 취득한 자는 그 소유물에 대한 소유 권리가 있다. 그리고 소유물에 대한 소유 권리가 있는 사람으로부터 소유물을 받은 사람은 그 소유물에 대한 소유 권리가 있다. 소유물을 취득하고 이전하는 과정에서 부정이 발생한 경우 이를 교정해야 한다.

을: 합의의 당사자들이 무지의 배일을 쓴 원초적 입장에서 정의의 두 원칙은 채택될 수 있다. 첫째, 기본적 자유는 평등하게 보장되어야 하며, 둘째, 사회·경제적 불평등은 두 조건을 충족하는 경우 허용될 수 있다. 하나는 최소 수혜자에게 최대 이익이 되어야 한다는 것이고, 다른 하나는 모든 사람에게 기회가 균등하게 주어져야 한다는 것이다.

<보기>

- ㄱ. 갑: 국가가 분배 과정에 개입해야 하는 경우가 존재한다.
- ㄴ. 갑: 개인의 소유물로 사회적 약자를 위한 정책을 추진하는 것은 정의로운 것이다.
- ㄷ. 을: 최소 수혜자의 이익을 위해 개인의 기본적 자유가 제한될 수 있다.
- ㄹ. 갑과 을: 분배의 과정이 정당하다면 분배의 결과 또한 정의롭다.

- ① ㄱ, ㄴ                      ② ㄱ, ㄷ                      ③ ㄱ, ㄹ
- ④ ㄴ, ㄷ                      ⑤ ㄷ, ㄹ

**02-1** 동형 문제

(가)에 들어갈 진술로 가장 적절한 것은?

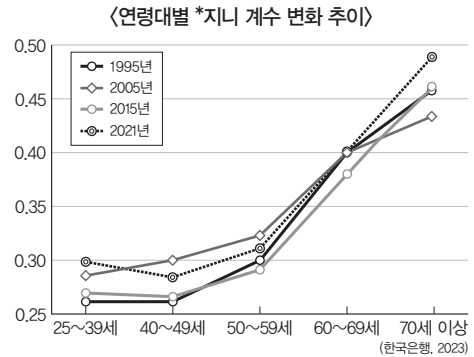
나는 개인들의 행복한 삶을 위해서는 공동선을 증진하는 것이 중요하다고 생각한다. 또한 개인은 독립적으로 존재하는 것이 아니라 공동체의 구성원으로서 존재하는 것이라고 생각한다. 그런데 어떤 사람들은 개인의 자유가 어떠한 가치보다 중요하며 개인이 독립적으로 존재하고 개인은 각자가 원하는 삶을 스스로 선택할 수 있는 자유를 지니고 있다고 주장한다. 나는 이러한 주장이 (가) 간과한다고 생각한다.

- ① 국가는 개인의 자유와 권리를 최대한 보장해야 함을
- ② 공동체의 선보다 개인의 독립성과 자율성이 우선함을
- ③ 국가가 개인에게 공동체의 특정한 가치를 강요해서는 안 됨을
- ④ 국가나 사회는 개인의 자유와 권리 보호를 위한 수단일 뿐임을
- ⑤ 공동체에서 요구하는 책임과 의무를 성실히 이행하는 것이 정의임을

**01-2** 통합형

다음 자료는 통합사회 학습지의 일부이다. 정답 스티커를 옳게 붙인 답안을 고른 것은?

그래프는 한국은행이 2023년 6월에 발표한 「우리나라의 인구 고령화와 소득 불평등」 자료입니다. 아래 진술을 읽고 진술이 맞으면 '○', 틀리면 '×' 모양의 정답 스티커를 순서대로 답안에 붙이세요.



\*지니 계수: 소득 분배 또는 소득 불평등 지수로, 0에서 1 사이의 값을 가지며 10에 가까울수록 불평등도가 높음을 나타낸다.

진술	답안
1. 공간 불평등으로 인해 발생하는 현상이다.	
2. 50세 이상부터 집단 내 소득 불평등도가 급격히 상승한다.	
3. 2015년의 소득 불평등 정도가 2021년의 소득 불평등 정도보다 높다.	

- ① 답안 

○
○
○
- ② 답안 

○
×
○
- ③ 답안 

×
○
○
- ④ 답안 

×
○
×
- ⑤ 답안 

○
×
×

**02-2** 동형 문제

표는 정의관 A, B를 구분한 것이다. 이에 대한 설명으로 옳은 것은? (단, A, B는 각각 자유주의적 정의관과 공동체주의적 정의관 중 하나임.)

구분	A	B
개인의 좋은 삶은 공동체와 분리될 수 없는가?	예	㉠
개인의 선택만으로 어떤 삶이 좋은 삶인지 결정할 수 있는가?	아니요	예

- ① ㉠은 '예'이다.
- ② A는 정의를 개인의 자유와 권리 보장과 연결하여 이해한다.
- ③ B는 사회적 유대감, 배려와 같은 공동체적 가치의 함양을 강조한다.
- ④ A와 달리 B는 공동체가 개인에게 특정한 가치를 강요해서는 안 된다고 본다.
- ⑤ A와 B 모두 개인이 공동체의 영향을 받으며 정체성을 형성하는 존재임을 강조한다.

# 수능 기본 문제

## 01 통합형

(가), (나)의 입장에 대한 설명으로 가장 적절한 것은?

- (가) 국가나 사회는 개인의 자유와 권리를 보호하고 증진하는 수단이므로 중립적인 입장에서 개인의 자유로운 삶을 최대한 허용해야 한다.
- (나) 공동체는 개인이 좋은 삶을 살아가는 데 중요한 기반이므로 개인이 공동체의 가치와 목적을 내면화하여 공동체의 발전을 위해 살아가도록 장려해야 한다.

- ① (가)는 행복한 삶을 실현하는 데 있어서 개인선보다 공동선이 우선한다고 본다.
- ② (가)는 개인이 공동체의 구성원으로서 공동체의 덕목을 실천하며 살아가는 존재라고 본다.
- ③ (나)는 개인의 자아 정체성과 좋은 삶은 공동체와 무관하지 않다고 주장한다.
- ④ (나)는 국가는 개인이 타인의 자유를 침해하지 않는 한 개인의 자유를 최대한 보장해야 한다고 본다.
- ⑤ (가)와 (나)는 모두 분배의 기준을 공동체 구성원들이 공유하는 가치에서 찾고자 한다.

## 02

표는 정의관을 구분한 것이다. 이에 대한 설명으로 옳은 것은? (단, A, B는 각각 자유주의적 정의관과 공동체주의적 정의관 중 하나임.)

구분	A	B
개인은 사회에 우선하며 공동체는 개인들의 총합일 뿐인가?	예	㉠
개인은 공동체 속에서의 역할을 통해 자신의 정체성을 형성하는가?	아니요	예

- ① ㉠은 '예'이다.
- ② A는 제한 없는 개인의 자유를 무엇보다 중요한 가치로 여긴다.
- ③ B는 A보다 개인 스스로의 선택과 책임을 강조하는 독립적·개별적 자아를 중시한다.
- ④ B는 A와 달리 개인이 사익을 추구하면 자연스럽게 공동체의 이익도 증가한다고 본다.
- ⑤ A와 B는 모두 개인과 공동체의 바람직한 관계가 필요함을 강조한다.

## 03

(가)의 갑, 을이 (나)에 대해 제시할 수 있는 입장으로 가장 적절한 것은?

(가)	<p>갑: 국가는 국민의 자유와 권리를 보호하기 위한 수단으로 존재하며, 모든 개인에게는 신념에 따라 자기 스스로 삶을 선택할 수 있는 권리가 있다.</p> <p>을: 개인은 공동체 안에서 자신의 역할과 책임을 다하고 공동선을 실현하기 위해 노력해야 한다. 공동체의 발전을 토대로 개인은 행복한 삶을 영위할 수 있다.</p>
(나)	부유세란 경제적 부가 한쪽으로 쏠리는 것을 시정하고 투기적으로 재산을 보유하는 것을 억제하기 위해 채택한 세금 제도이다. 어떤 이들은 지구촌의 기후변화에 대응할 재원을 마련하고, 빈곤국들의 빈곤을 퇴치하기 위해 초부유층에게 과세해야 한다는 주장을 하고 있다.

- ① 갑: 개인 간의 자유로운 경쟁을 인정하는 결정이므로 부유세는 정의롭다.
- ② 갑: 부유세는 부유층의 경제적 자유와 권리를 훼손할 수 있으므로 정당하지 못하다.
- ③ 을: 공동선보다 개인선을 우선해야 하므로 개인선을 훼손하는 부유세는 정당하지 않다.
- ④ 을: 개인의 경제적 자유를 존중하는 것이 공동체 보호보다 중요하므로 부유세는 정당하지 않다.
- ⑤ 갑과 을: 개인이 자유롭게 이익을 추구하면 사회 전체의 부는 자연스럽게 증가하므로 부유세는 필요하지 않다.

## 04

다음을 주장한 사상가의 입장에서 <문제 상황> 속 A에게 제시할 조언으로 가장 적절한 것은?

나는 누군가의 아들이거나 딸 또는 사촌이고, 이 도시나 저 도시의 시민이다. 나는 이 친족, 저 부족, 이 나라에 속한다. 이처럼 나는 내 가족, 내 도시, 내 부족, 내 나라의 과거에서 다양한 빛과 유산을 물려받는다. 또한 조상들의 기대와 후손으로서의 의무도 물려받는다.

<문제 상황>

선거 관련 정책 수립 업무를 맡고 있는 A는 고민이 깊다. 저조한 선거율로 인해 의무 투표제를 시행해야 한다는 정부의 입장과 투표는 개인의 선택이라는 시민들의 의견이 팽팽하게 맞서고 있기 때문이다. A는 의무 투표제를 추진해야 할지 고민 중이다.

- ① 개인이 자율적으로 투표 여부를 결정할 수 있는 정책을 고려하세요.
- ② 의무 투표제는 유권자의 기권할 자유를 박탈하는 것임을 잊지 마세요.
- ③ 의무 투표제 시행이 오히려 개인의 표현의 자유를 훼손하는 것임을 고려하세요.
- ④ 투표를 국가가 강제하는 것은 개인의 자유와 권리를 침해할 수 있음을 잊지 마세요.
- ⑤ 국민에게는 공동체 구성원으로서 선거에 참여해야 하는 정치적 의무가 있음을 기억하세요.

## 05

그림의 강연자가 지지할 입장으로 적절하지 않은 것은?

사회 구성원들이 공동체 의식에 의해 구속된다는 것은 단순히 그들이 공동체에 대해 느끼는 경험을 이야기하고 공동체의 목적을 추구함을 뜻하는 것만은 아닙니다. 오히려 그들의 정체성이 그들이 한 부분을 차지하고 있는 공동체에 의해 정의된다는 점을 인정하는 것을 말합니다.



- ① 공동체는 단순한 개인들의 합 그 이상의 의미를 가지고 있다.
- ② 공동체가 발전함으로써 개인 또한 행복한 삶을 영위할 수 있다.
- ③ 개인은 사회적 책임, 유대감, 협력 등의 가치를 내면화하고 살아가야 한다.
- ④ 공동체를 떠나 개인만의 독립성과 자율성을 강조하는 태도는 옳지 못하다.
- ⑤ 공동체가 추구하는 가치를 실현하기 위해 개인의 삶에 개입하는 것은 부당하다.

## 06

다음 가상 편지를 쓴 사상가의 입장으로 적절한 것만을 <보기>에서 고른 것은?

○○에게  
 자네가 정의관에 대해 물었기에 나의 생각을 말하겠네. 개인은 누구나 공동체의 영향을 받으면서 자신의 정체성과 삶을 구성하는 존재라네. 따라서 공동체의 구성원으로서 각자 역할과 의무를 다하고 공동체의 선을 실현하는 것이 정의라고 할 수 있지. 개인의 자유와 선택만을 강조하는 자유주의는 개인에게 부과되는 공동체 안에서의 도덕적 책무를 적절하게 설명하지 못한다네. 나는 누군가의 아들이거나 딸 또는 사촌이고, 이 도시나 저 도시의 시민이네. 이처럼 나는 내 가족, 내 도시, 내 부족, 내 나라의 과거에서 다양한 빛과 유산을 물려받는 것이라 할 수 있지. 이러한 정의관을 토대로 정의로운 사회가 실현될 수 있을 것이네.

보기  
 ㄱ. 공동체의 발전을 통해 개인도 행복한 삶을 영위할 수 있다.  
 ㄴ. 공동체는 개별적인 개인들의 합 이상의 의미를 지니지 않는다.  
 ㄷ. 개인의 도덕적 판단에는 공동체의 전통과 역사가 반영되어 있다.  
 ㄹ. 개인이라는 자격만으로도 선을 추구하거나 덕을 실천할 수 있다.

- ① ㄱ, ㄴ
- ② ㄱ, ㄷ
- ③ ㄴ, ㄷ
- ④ ㄴ, ㄹ
- ⑤ ㄷ, ㄹ

## 07 통합형

다음 신문 칼럼의 입장에서 지지할 진술만을 <보기>에서 고른 것은?

○○신문 ○○○○년 ○○월 ○일  
**칼럼**  
 양심적 병역 거부는 종교적·도덕적·철학적 동기 등에서 양심상 결정을 이유로 병역 의무 이행을 거부하는 행위이다. 헌법재판소는 2018년 6월, 양심에 따른 병역 거부자에게 대체 복무제를 지원하지 않는 병역법 조항에 대해 헌법 불합치 결정을 내렸다. 이는 참으로 반가운 결정이 아닐 수 없다. 개인이 자신의 신념에 따라 행동할 수 있도록 개인의 권리를 존중하는 것은 무조건적으로 지켜져야 할 인권이다. 특히 종교적 신념에 따라 폭력과 전쟁을 거부하는 것은 인간으로서의 존엄성을 지키는 중요한 가치라 할 수 있다.

보기  
 ㄱ. 어떤 삶의 방식에 대한 평가는 개인 스스로 결정할 수 있도록 해야 한다.  
 ㄴ. 개인은 공동체 속에서의 역할을 수행함으로써 자신의 정체성을 형성할 수 있다.  
 ㄷ. 개인은 공동체가 추구하는 가치와 목적 아래 사회적 책임과 의무를 다해야 한다.  
 ㄹ. 개인은 독립적으로 존재하며 자신이 원하는 삶을 스스로 선택할 수 있는 자유가 있다.

- ① ㄱ, ㄴ
- ② ㄱ, ㄷ
- ③ ㄱ, ㄹ
- ④ ㄴ, ㄷ
- ⑤ ㄷ, ㄹ

## 08

갑, 을 사상가의 공통적 입장으로 옳지 않은 것은?

갑: 정당한 취득과 이전의 과정을 거쳐 얻은 소유물은 정당하며, 개인은 그 소유물에 대한 소유 권리를 지닌다. 그런데 소득세는 개인의 소유 권리를 침해한다. 시간을 들여 얻은 소득에 과세하는 것은 그 노동자로부터 시간을 빼앗는 것과 같으므로 소득세는 강제 노동과 동등하다.  
 을: 사회적·경제적 불평등은 두 가지 원칙을 충족해야 한다. 첫째, 공정한 기회균등의 원칙에 따라 어떤 직책과 직위에 오를 기회가 모든 사람에게 열려 있어야 한다. 동일한 자질과 소망을 가진 사람에게 동일한 성공의 전망을 갖도록 해야 한다. 둘째, 차등의 원칙에 따라 사회적·경제적 불평등은 최소 수혜자에게 최대 이익이 되는 경우에만 허용해야 한다.

- ① 정의로운 절차의 결과로 발생하는 불평등은 정의롭다.
- ② 분배 과정의 부정의를 바로잡기 위한 국가의 개입은 정당하다.
- ③ 사회적 약자를 위해 개인의 기본적 자유를 침해하는 것은 정의롭지 못하다.
- ④ 사회는 개인들이 모여 있는 단순한 집합체이자 개인 간의 합의로 구성된 산물이다.
- ⑤ 개인의 천부적 능력으로 인한 이익 추구는 사회적 약자에게 이익이 될 때 정당하다.

## 09

갑, 을 사상가의 입장에 대한 설명으로 가장 적절한 것은?

**갑:** 각자가 자신의 사회적 지위, 타고난 신체적·정신적 재능, 심리적 특성이나 가치관 등을 모른다고 가정된 상황에서 가장 공정한 정의의 원칙을 만들 수 있다. 우선 모든 사람은 동등한 기본적 자유를 최대한 누려야 한다. 다음으로 사회·경제적 불평등은 두 가지 조건이 충족될 때 허용될 수 있다. 사회에서 가장 불리한 처지에 있는 최소 수혜자에게 최대의 이익을 보장해야 하고, 불평등의 계기가 되는 직책이나 지위는 모든 사람에게 개방되어 있어야 한다.

**을:** 개인의 소유 권리는 최대한 보장되어야 한다. 어떤 사람이 다른 사람에게 피해를 주지 않고, 정당하게 소유물을 취득하거나 양도받았다면 그 사람은 그 소유물에 대한 소유 권리를 갖는다. 이러한 개인의 소유물을 어떻게 사용할 것인가는 전적으로 개인의 자유로운 선택에 맡겨진다.

- ① 갑은 개인들이 자기 이익의 안전한 확보를 위해 정의의 원칙에 합의한다고 본다.
- ② 을은 개인의 소유물의 불평등이 그 자체로 부정의한 것이라고 본다.
- ③ 갑과 달리 을은 정당한 소유 권리가 정의로운 절차에 의해 부여되는 것은 아니라고 본다.
- ④ 을에 비해 갑은 사회·경제적 불평등의 원인을 모두 제거해야만 정의가 실현될 수 있다고 본다.
- ⑤ 갑과 을은 모두 정의로운 사회를 만들기 위해 사회적 약자를 위한 재분배 행위가 필요하다고 본다.

## 10

A, B에 대한 옳은 설명만을 <보기>에서 고른 것은? (단, A, B는 각각 사익과 공익 중 하나임.)

- A는 개인의 행복 추구나 자아실현 등으로 개인이 사적으로 얻게 되는 이익을 의미하고, B는 공동체의 가치를 추구함으로써 공동체 구성원 모두가 얻게 되는 이익을 의미한다.
- A는 개인의 자유와 권리를 보장함으로써 실현될 수 있고, B는 공동체에 대한 의무를 수행함으로써 실현될 수 있다.

[보기]

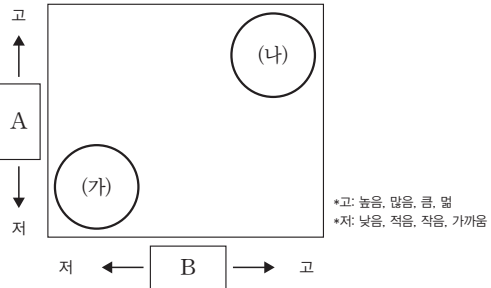
- ㄱ. A는 사회 속에서 연대 및 유대감을 토대로 공동의 가치를 추구하는 것을 말한다.
- ㄴ. B는 공동체주의적 정의관에서 강조하는 가치와 연결된다.
- ㄷ. A와 달리 B는 사회 전체의 이익과는 무관한 영역이다.
- ㄹ. A와 B는 상호 보완적인 관계이며 서로 조화를 이룰 때 사회 정의가 실현될 수 있다.

- ① ㄱ, ㄴ
- ② ㄱ, ㄷ
- ③ ㄴ, ㄷ
- ④ ㄴ, ㄹ
- ⑤ ㄷ, ㄹ

## 11

(가), (나) 정의관의 상대적 특성을 그래프로 나타낼 때, A, B에 들어갈 항목으로 옳은 것은?

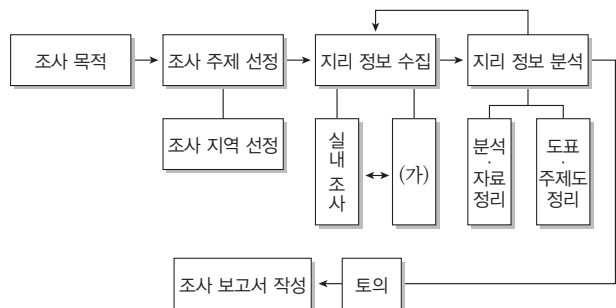
(가)	(나)
개인의 소유물을 어떻게 사용할 것인가는 전적으로 개인의 자유로운 선택에 맡겨야 한다. 취득의 원칙, 양도의 원칙이 지켜진다면 빈부 격차가 생기는 것은 문제가 되지 않는다.	모든 사람은 동등한 기본적 자유를 최대한 누려야 한다. 다음으로 사회적·경제적 불평등은 두 가지 조건이 충족될 때 허용될 수 있다. 최소 수혜자에게 최대의 이익을 보장해야 하고, 불평등의 계기가 되는 직책이나 지위는 모든 사람에게 개방되어 있어야 한다.



	A	B
①	개인의 자유와 권리 보호	가상적 상황에서의 정의의 원칙 수립
②	사회적 약자에 대한 고려	소유권에 대한 절대적 존중
③	사회적 약자에 대한 고려	불평등을 최소화하기 위한 국가 개입의 지지
④	소유권에 대한 절대적 존중	가상적 상황에서의 정의의 원칙 수립
⑤	불평등을 최소화하기 위한 국가 개입의 지지	개인의 자유와 권리 보호

## 12 통합형

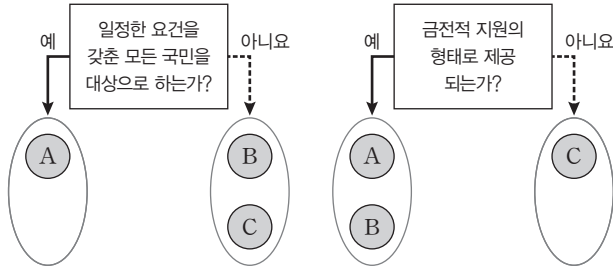
공간 불평등과 관련한 지역 조사 과정 중 (가) 단계에 해당하는 활동으로 가장 적절한 것은?



- ① ○○ 지역의 국공립 보육 기관 접근성을 주제로 정한다.
- ② 수집한 자료를 유형별로 정리하고 도식화하여 표현한다.
- ③ ○○ 지역의 보육 기관을 이용하는 학부모와 면담을 실시한다.
- ④ 국공립 보육 기관 접근성에 대한 ○○ 지역 답사 일정을 수립한다.
- ⑤ 국공립 보육 기관과 사립 보육 기관의 운영을 비교한 문헌을 조사한다.

### 13

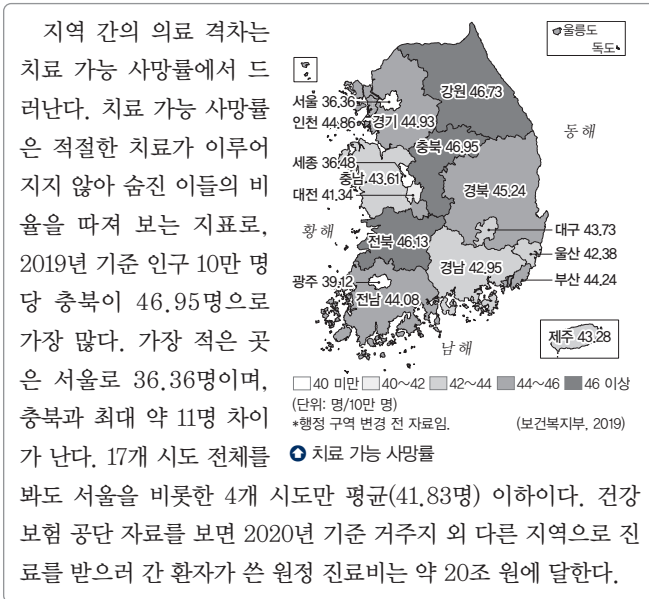
그림은 사회 복지 제도 A~C를 구분한 것이다. 이에 대한 설명으로 옳은 것은? (단, A~C는 각각 사회 보험, 공공 부조, 사회 서비스 중 하나임.)



- ① A는 복지 대상에게 국가가 전액 지원하는 제도이다.
- ② B는 저소득 계층에게 최소한의 삶을 보장하기 위한 제도이다.
- ③ C는 개인, 기업, 정부가 분담하여 국민의 위험에 대비하는 제도이다.
- ④ A는 B와 달리 도움과 보호가 필요한 국민에게 상담, 재활 등 각종 서비스를 제공하는 제도이다.
- ⑤ B는 C와 달리 질병, 장애 등의 사회적 위험을 보험의 방식으로 대처하는 제도이다.

### 14 통합형

다음 자료에 대한 분석으로 옳지 않은 것은?



- ① 교육, 문화 등 생활 환경의 전반적인 불평등으로 이어질 수 있다.
- ② 지역 간에 자원이 불균등하게 분배되어 격차가 발생하는 현상이다.
- ③ 지역 개발 방식을 어떻게 사용하는가에 따라 불평등이 심화될 수 있다.
- ④ 지역마다 생산 요소나 자연환경 등이 다르게 분포하는 데에서 비롯된다.
- ⑤ 성장 거점 개발 정책을 통해 국토의 균형 발전을 추구할 때 해결할 수 있다.

### 15 통합형

㉠에 대한 설명으로 옳은 것은?

㉠은 지역 공간과 같은 특정 장소를 상품화하여 지역의 이미지를 높이고 지역 경제를 활성화하기 위한 전략으로, 지역 이미지 홍보, 지역적 특성을 살린 축제 개최, 예술·문화 특구 지정 등의 방법을 활용한다. 우리나라에서는 보성 녹차밭, 함평 나비 축제, 감천 문화 마을 조성 등이 ㉠의 사례에 속한다.

○ 우리나라의 주요 지역 축제

- ① 성장 위주의 개발 정책을 통해 특정 지역을 지원하기 위한 것이다.
- ② 국민에게 발생할 수 있는 위험을 예측하고 대응하기 위한 것이다.
- ③ 사회적으로 불리한 위치에 있는 사회적 약자에게 혜택을 제공하기 위한 것이다.
- ④ 생활 유지 능력이 없는 국민의 최저 생활을 보장하고 자립을 지원하기 위한 것이다.
- ⑤ 지역 격차 완화를 통해 공간 불평등이 해소된 정의로운 사회를 만들기 위한 것이다.

### 16

다음 자료를 통해 파악할 수 있는 사회 문제를 해결하기 위한 방안으로 가장 적절한 것은?

일하는 여성의 환경을 평가하는 유리 천장 지수는 경제 협력 개발 기구(OECD) 회원국을 대상으로 남녀 고등 교육 격차, 소득 격차, 여성의 노동 참여율, 고위직 여성 비율, 육아 비용 등 세부 지표를 종합하여 산출한다. 유리 천장 지수는 순위가 낮을수록 직장 내 여성 차별이 심함을 의미하는데, 2023년 조사에서 우리나라는 조사 대상 29개국 중 최하위에 머물렀다.

순위	국가
1	아이슬란드
2	스웨덴
3	핀란드
19	미국
28	일본
29	대한민국

(영국 이코노미스트, 2023)  
○ 유리 천장 지수(2023년)

- ① 사회 보험을 통해 사회적 약자의 어려움을 해소한다.
- ② 국가의 개입을 최소화하고 개인 간의 자발적 해결을 유도한다.
- ③ 사회적 약자를 위해 공간 불평등을 해소하여 국토의 균형 발전을 도모한다.
- ④ 사회적 약자의 불리한 조건을 완화하기 위해 적극적 평등 실현 조치를 시행한다.
- ⑤ 모든 국민이 기본적 욕구를 충족하고 인간다운 삶을 살 수 있도록 보편적 복지를 지원한다.

# 1등급 완성 문제

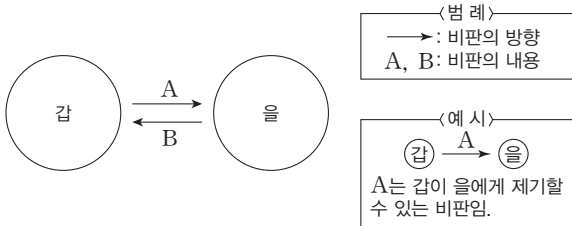


[01~02] 다음 자료를 보고 물음에 답하시오.

**갑:** 기본적 자유는 평등하게 보장되어야 하며, 사회·경제적 불평등은 두 조건을 충족하는 경우에 허용될 수 있다. 하나는 최소 수혜자에게 최대 이익이 되어야 한다는 것이며, 다른 하나는 모든 사람에게 기회가 균등하게 주어져야 한다는 것이다.  
**을:** 소유물을 취득한 자에게는 그 소유물에 대한 소유 권리가 있다. 그리고 소유물에 대한 소유 권리가 있는 사람으로부터 소유물을 받은 사람은 그 소유물에 대한 권리가 있다. 소유물을 취득하고 이전하는 과정에서 부정의가 발생할 경우 이를 교정해야 한다.

## 01

갑, 을 사상가의 입장을 다음 그림으로 표현할 때, A~B에 해당하는 진술로 적절한 것은?



- ① A: 사회·경제적 불평등은 정당화될 수 있음을 간과한다.
- ② A: 정의의 위한 국가의 개입이 정당화될 수 있음을 간과한다.
- ③ A: 개인에게는 자신의 타고난 재능에 대해 누릴 마땅한 자격이 있음을 간과한다.
- ④ B: 정당화될 수 있는 유일한 국가는 최소 국가임을 간과한다.
- ⑤ B: 타인에게 피해를 주지 않는 한 개인의 기본적 자유는 최대한 보장되어야 함을 간과한다.

## 02

다음 사상가가 갑, 을 모두에게 제기할 수 있는 비판으로 적절한 것은?

사회적 가치는 각 공동체의 역사적이고 문화적인 소산으로, 공동체 안에는 고유한 사회적 가치들이 존재한다. 모든 사회에서 동일하게 중요하다고 인정되는 가치는 없으므로, 가치를 분배할 때는 공동체의 문화적 특수성과 차이를 고려해야 한다.

- ① 개인의 정체성은 그가 속한 공동체와는 별개임을 간과한다.
- ② 개인은 공동체와 분리된 독립적 존재가 될 수 없음을 간과한다.
- ③ 개인선과 공동선 중 개인선을 우선하는 것이 정의임을 간과한다.
- ④ 공동선을 우선하면 개인의 자유와 권리가 과도하게 제한될 수 있음을 간과한다.
- ⑤ 공동선의 실현을 위해서라도 개인의 삶에 대한 공동체의 개입은 금지되어야 함을 간과한다.

## 03

밑줄 친 ㉠~㉢에 대한 설명으로 옳지 않은 것은?

각자가 자신의 사회적 지위, 타고난 신체적·정신적 재능, 심리적 특성이나 가치관 등을 모른다고 가정한 ㉠ 원초적 입장에서 가장 공정한 ㉡ 정의의 원칙을 만들 수 있다. 우선 모든 사람은 공정한 ㉢ 기본적 자유를 최대한 누리야 한다. 다음으로 사회적·경제적 불평등은 두 가지 조건이 충족될 때 허용될 수 있다. ㉣ 최소 수혜자에게 최대의 이익을 보장해야 하고, 불평등의 계기가 되는 직책이나 지위는 모든 사람에게 개방되어 있어야 한다.

- ① ㉠은 역사적으로 존재하지 않았던 가상의 상황이다.
- ② ㉡을 통해 절차적인 정당성을 보장받을 수 있다.
- ③ ㉢은 최소 수혜자의 이익 보장을 위해 제한될 수 있다.
- ④ ㉣은 사회에서 가장 불리한 처지에 있는 사람들을 의미한다.
- ⑤ ㉠에서는 자신의 처지가 ㉣인지 스스로 알 수 없다.

## 04

(가)의 갑, 을 사상가의 입장을 (나)의 그림으로 탐구하고자 할 때, A~C에 해당하는 적절한 질문만을 <보기>에서 고른 것은?

(가)	<p><b>갑:</b> 정당한 취득과 이전의 과정을 거쳐 얻은 소유물은 정당하며, 개인은 그 소유물에 대한 소유 권리를 지닌다. 그런데 소득세는 개인의 소유 권리를 침해한다. 시간을 들여 얻은 소득에 과세를 하는 것은 그 노동자로부터 시간을 빼앗는 것과 같으므로 소득세는 강제 노동과 동등하다.</p> <p><b>을:</b> 사회적·경제적 불평등은 두 가지 원칙을 충족해야 한다. 첫째, 공정한 기회균등의 원칙에 따라 어떤 직책과 직위에 오를 기회가 모든 사람에게 열려 있어야 한다. 둘째, 차등의 원칙에 따라 사회적·경제적 불평등은 최소 수혜자에게 최대의 이익이 되는 경우에만 허용해야 한다.</p>
(나)	

**<보기>**

- ㄱ. A: 모든 사람은 기본적 자유를 최대한 누리야 하는가?
- ㄴ. A: 사회·경제적 불평등을 최소화하려는 국가의 역할은 개인의 소유권을 침해하는가?
- ㄷ. B: 개인이 직접 노동을 하지 않아도 소유물이 정당화되는 경우가 있는가?
- ㄹ. C: 국가는 모든 사람에게 동일한 조건을 보장해야 할 의무가 있는가?

- ① ㄱ, ㄴ
- ② ㄱ, ㄷ
- ③ ㄴ, ㄷ
- ④ ㄴ, ㄹ
- ⑤ ㄷ, ㄹ

### 05 통합형

(가) 사상가의 관점에서 (나)의 문제에 대해 제시할 수 있는 적절한 입장만을 <보기>에서 고른 것은?

(가)	사회 구성원들이 공동체 의식에 의해 구속된다는 것은 단순히 그들이 공동체에 대해 느끼는 경험을 이야기하고 공동체의 목적을 추구함을 뜻하는 것만은 아니다. 오히려 그들의 정체성이 그들이 한 부분을 차지하고 있는 공동체에 의해 정의된다는 점을 인정하는 것을 말한다.
(나)	도시가 무질서하게 외곽으로 확산할 경우 교통·주택 문제는 물론, 도시 주변의 녹지가 무분별하게 훼손되는 등 많은 문제를 초래한다. 개발 제한 구역 제도는 이러한 문제를 방지하기 위해 등장하였다. 공공의 건강과 환경을 위해 법적으로 토지 개발을 제한하는 것이다. 그러나 토지에 대한 개인의 소유권을 지나치게 제한한다는 비판을 받기도 한다.

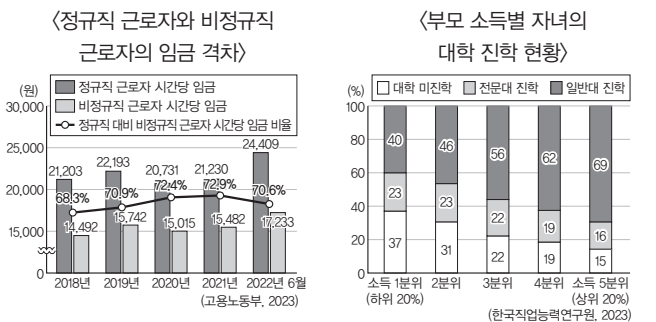
**보기**

- ㄱ. 개인의 자유와 권리를 훼손하는 행위이므로 개발 제한 구역 제도는 정당화될 수 없다.
- ㄴ. 공동선의 관점에서 공동체가 지향하는 가치, 방향 등에 따라 제도의 정당성을 판단해야 한다.
- ㄷ. 개인이 가지는 사회적 책임과 의무에 충실할 때 정의가 실현될 수 있으므로 제도를 유지해야 한다.
- ㄹ. 개인의 이익을 우선하면 자연스럽게 공익이 실현될 수 있으므로 개인의 이익을 우선 보장해야 한다.

- ① ㄱ, ㄴ                      ② ㄱ, ㄷ                      ③ ㄴ, ㄷ  
 ④ ㄴ, ㄹ                      ⑤ ㄷ, ㄹ

### 06 통합형

다음 자료에 공통적으로 나타난 불평등 현상에 대한 설명으로 가장 적절한 것은?



- ① 선입견과 편견, 차별을 용인하는 사회 분위기로부터 비롯된다.
- ② 사회적 약자의 기본적인 권리를 침해할 수 있다는 문제점이 있다.
- ③ 수도권과 비수도권 간의 사회·문화적 불평등을 초래할 수 있다.
- ④ 계층 간 위화감을 조성하여 사회 발전을 위한 동력을 약화할 수 있다.
- ⑤ 지역 간에 사회적 가치가 불균등하게 분배되어 격차가 나타나는 현상이다.

### 07

다음은 사회 계층의 양극화에 대한 수업 활동을 정리한 자료이다. 이에 대한 설명으로 옳은 것은?

**[규칙]**  
 사례에 대한 판단이 옳으면 '○', 옳지 않으면 '×'로 표시한다. '○', '×'를 옳게 표시하면 배정된 점수를 획득한다.

**[갑, 을, 병의 답변 결과]**

판단	배점	갑	을	병
선입견과 편견 등에 따른 차별을 당연하게 받아들이는 문화적·구조적 환경에서 비롯된다.	1점	○	×	○
사회 보증을 통해 일부 저소득 계층의 최소한의 인간다운 삶을 보장함으로써 해결할 수 있다.	2점	×	×	×
도움이 필요한 국민에게 상담, 돌봄, 재활 등의 다양한 서비스를 제공함으로써 해소할 수 있다.	3점	○	○	○
사회 구조적으로 고착화되면 부모의 경제적 능력이 자녀에게 대물림되는 결과를 낳기도 한다.	4점	×	○	○

- ① 갑이 획득한 점수는 4점이다.
- ② 을은 갑보다 옳게 답한 개수가 1개 더 많다.
- ③ 획득한 점수의 합이 가장 높은 사람은 을이다.
- ④ 갑, 을, 병 모두 사회 보증이 일부 저소득 계층만을 대상으로 한다고 알고 있다.
- ⑤ 갑, 을, 병 모두 사회 서비스가 사회 계층의 양극화와 무관하다는 것을 알고 있다.

### 08 통합형

갑, 을의 입장에 대한 옳은 설명만을 <보기>에서 고른 것은?

**<토론 주제>**  
 노예제로 오랫동안 피해를 본 집단에게 지금이라도 배상을 해야 하는가?

**갑**

배상의 책임은 잘못된 사람에게 있습니다. 조상들의 잘못에 대한 책임을 후손들에게 물을 수는 없습니다.

**을**

개인은 공동체와 독립하여 존재하는 것이 아니라 특정 공동체의 일원으로 책임과 의무를 물려받고 살아가는 존재입니다. 따라서 노예제로 오랫동안 피해를 본 집단에게 현재세대가 배상할 책임이 있습니다.

**보기**

- ㄱ. 갑은 적극적 평등 실현 조치에 대해 찬성할 것이다.
  - ㄴ. 을은 개인의 소유권을 보장하는 역할만을 하는 국가를 지지할 것이다.
  - ㄷ. 갑은 을과 달리 공동체의 선보다 개인의 자유를 우선할 것이다.
  - ㄹ. 을은 갑과 달리 사회적 약자에게 부여하는 다양한 혜택에 대해 찬성할 것이다.
- ① ㄱ, ㄴ                      ② ㄱ, ㄷ                      ③ ㄴ, ㄷ  
 ④ ㄴ, ㄹ                      ⑤ ㄷ, ㄹ

# 13

## 자본주의 시장경제의 발전

### 1 자본주의의 특징과 역사적 전개 과정

#### 01 자본주의의 의미와 특징

의미	사유 재산 제도를 바탕으로 자유로운 경제활동이 보장되는 경제 체제 <small>(TIP) 토지, 공장, 기계와 같은 생산 수단을 포함한 재산을 개인이 소유, 관리, 처분할 수 있도록 허용하는 제도를 말해.</small>
특징	<ul style="list-style-type: none"> <li>• 사유 재산권의 보장: 개인이나 기업이 자유롭게 재산을 획득하고 사용할 수 있는 권리를 가짐.</li> <li>• 시장의 기능 활성화: 시장에서 결정된 가격에 따라 상품 거래가 이루어짐.</li> <li>• 경제활동의 자유 보장: 시장에서의 경쟁을 통해 사적 이익의 추구를 인정함.</li> </ul>

#### 02 자본주의의 역사적 전개 과정 (TIP) 국가의 부를 늘리기 위해 국내 산업 보호 및 수출 장려 등 국가가 상업 활동에 깊이 개입하는 것으로 16~18세기 유럽의 절대 왕정 국가들이 추진한 경제 정책을 의미해.

##### 1. 상업 자본주의(16세기~18세기 초반)

의미	상품의 생산보다 유통 과정에서 이윤을 추구하는 자본주의
등장 배경	신항로 및 식민지 개척 → 해외로부터 원료 공급, 상품 수요의 증가, 교역의 확대 등으로 성장
특징	절대 왕정의 중상주의 정책을 바탕으로 활성화

##### 2. 산업 자본주의(18세기 중반~19세기) 자료 01

의미	상품의 유통보다 생산 과정에서 이윤을 추구하는 자본주의
등장 배경	18세기 중반 영국에서 시작된 산업 혁명으로 인해 상품의 대량 생산이 가능해짐.
특징	<ul style="list-style-type: none"> <li>• 산업 시설을 소유한 자본가의 주도로 산업 자본주의로 변화함.</li> <li>• 생산품을 자유롭게 사고팔 수 있는 시장의 자유를 요구 → 작은 정부 추구</li> </ul>
학자	애덤 스미스: '보이지 않는 손'의 역할을 강조하며 국가가 시장 개입을 최소화해야 한다고 주장(자유방임주의)

##### 3. 수정 자본주의(20세기) 자료 02

의미	국가의 적극적 시장 개입으로 시장 실패를 해결해야 한다는 자본주의 <small>(TIP) 1929년 10월 24일 뉴욕 증시의 폭락으로 시작되어 전 세계로 확산된 경제 공황을 의미해. 이에 따라 채고 금융, 물가 폭락, 생산 위축 등 경제활동이 마비 상태에 이르렀어.</small>
등장 배경	19세기 후반 자본주의가 고도로 발달하면서 자유 경쟁을 지나치게 강조한 결과 대규모 독점 기업 등장 → 소수 대자본에 의한 독과점 발생 → 과잉 공급과 수요 부족 → 생산 위축에 따른 기업의 도산과 대량 실업 발생 → 대공황 발생
특징	정부의 역할 강조: 정부가 다양한 정책을 통해 시장에 적극 개입하여 시장의 한계 보완, 국민의 인간다운 생활을 보장하기 위한 역할을 수행 → 큰 정부 추구 <small>(TIP) 미국의 뉴딜 정책</small>
학자	케인스: 정부의 개입과 역할 강조 <small>(TIP) 대공황 당시 미국의 루스벨트 대통령이 케인스의 이론을 받아들여 실행한 정책으로, 공공사업 확대 및 복지 확충 등을 주된 내용으로 해.</small>

##### 4. 신자유주의(20세기 말) 자료 03

의미	정부 역할을 제한하고 시장의 기능과 자유로운 경제활동을 강조하는 자본주의 <small>(TIP) 경기 침체(stagnation)와 인플레이션(inflation)의 합성어로, 경기 침체 상황에서 물가가 상승하는 현상을 의미해.</small>
등장 배경	<ul style="list-style-type: none"> <li>• 1970년대 두 차례의 석유 파동으로 인해 스태그플레이션 발생 → 정부 대처의 한계</li> <li>• 정부의 지나친 시장 개입으로 정부 실패 발생, 과도한 복지 지출로 인한 정부의 재정 악화</li> </ul>

특징	공기업의 민영화, 노동 시장의 유연화, 복지 축소 등
학자	프리드먼, 하이에크: 정부 역할의 축소 강조

### 2 경제 체제에 따른 다양한 삶의 방식

#### 01 경제 체제의 의미와 분류

1. 경제 체제: 생산물의 종류와 수량, 생산 방법, 분배 방식 등의 기본적인 경제 문제를 해결하기 위해 합의된 제도나 방식

#### 2. 경제 체제의 분류

##### (1) 생산 수단의 소유 형태에 따른 분류

- ① 자본주의: 개인의 생산 수단 소유(사유)를 법적으로 보장
- ② 사회주의: 생산 수단의 국유 또는 공유만을 인정

##### (2) 경제 문제의 해결 방식에 따른 분류

- ① 시장경제 체제: 시장 가격에 따라 자유롭게 경제 문제 해결
- ② 계획경제 체제: 정부의 계획과 명령에 따라 경제 문제 해결

#### 02 경제 체제의 특징 자료 04

##### 1. 시장경제 체제

특징	<ul style="list-style-type: none"> <li>• 시장 원리에 의한 경제 문제 해결</li> <li>• 자본주의와 결합하여 사유 재산권 보장</li> <li>• 시장 가격에 기초한 개별 경제 주체의 자유로운 의사 결정 보장</li> <li>• 자원 배분의 효율성을 형평성보다 중시</li> </ul>
장점	'보이지 않는 손', 즉 시장 가격의 작동으로 효율적인 자원 배분, 사유 재산권 보장을 통해 개인의 창의성과 역량 발휘 등
한계	빈부 격차의 발생으로 인한 형평성 저하, 급격한 경기 변동 가능성으로 인한 시장의 불안정성 증가 등 <small>(TIP) 실업률 급증, 인플레이션 심화 등이 나타나기도 해.</small>

##### 2. 계획경제 체제

특징	<ul style="list-style-type: none"> <li>• 정부의 결정과 통제에 의한 경제 문제 해결</li> <li>• 사회주의와 결합하여 사유 재산권이 원칙적으로 부정되며 생산 수단의 국유화</li> <li>• 개별 경제 주체의 경제활동 자유 제한</li> <li>• 자원 배분의 형평성을 효율성보다 중시</li> </ul>
장점	정부의 계획에 의한 부와 소득의 불평등 완화, 정부의 명령과 통제에 따른 자원 배분 등으로 국가의 정책 목표를 효율적으로 달성 가능
한계	사유 재산권 및 경제활동 자유의 제한으로 경제적 유인 부족 → 개인의 창의성과 역량 발휘 저해, 비효율적 자원 배분, 소비자의 다양한 욕구를 반영한 계획 수립의 어려움, 정부의 잘못된 결정으로 인한 경제 발전 둔화 가능성 등 <small>(TIP) 정부 권력의 집중으로 인해 부패가 발생할 수도 있어.</small>

##### 3. 혼합경제 체제

등장 배경	1930년대 대공황으로 시장의 자동 조절 기능에 대해 한계를 체감한 정부가 시장에 적극적으로 개입하여 경제 문제 해결을 시도
특징	<ul style="list-style-type: none"> <li>• 시장경제 체제적 요소와 계획경제 체제적 요소를 혼용</li> <li>• 오늘날 대부분의 국가는 혼합경제 체제를 채택 → 국가가 추구하는 목표에 따라 혼합의 정도가 상이</li> </ul>

(TIP) 시장과 정부의 상호 균형을 이루려는 노력이 필요해.

# 중요 자료 분석

## 자료 01 애덤 스미스의 '보이지 않는 손'

우리가 저녁 식사를 기대할 수 있는 것은 푸줏간 주인, 양조장 주인, 빵집 주인의 자비심 덕분이 아니라, 그들이 자기 이익을 챙기려는 생각 덕분이다. …… 각 개인은 보이지 않는 손에 인도되어 자기가 전혀 의도하지 않았던 목적을 달성하게 된다. …… 그는 자신의 이익을 추구함으로써 오히려 더 효과적으로 사회의 이익을 증진한다. - 애덤 스미스, 『국부론』

→(TIP) 시장 가격의 자원 배분 기능을 의미하는 표현이다.

**자료 분석** 애덤 스미스는 금, 은이 아닌 경제 주체에게 실제로 필요한 물자가 국부(國富)임을 강조하였다. 또한 국부는 시장에서의 자유로운 경제활동을 통해 증가한다고 보아 정부의 시장 개입을 반대하였다. 정부의 개입 없이 개인의 자유로운 이익 추구를 통해 국가의 부가 증대할 수 있다는 애덤 스미스의 자유방임주의는 산업 자본주의의 사상적 기초가 되었다.

- (1) 애덤 스미스는 각 개인이 자신의 이익을 추구하는 것이 오히려 사회 전체의 이익으로 이어진다고 보았다. (O, X)
- (2) '보이지 않는 손'은 정부가 시장에 적극적으로 개입해 자원을 효율적으로 배분하는 것을 의미한다. (O, X)
- (3) 애덤 스미스는 자유방임주의를 주장하여 상업 자본주의의 이론적 기반을 마련하였다. (O, X)
- (4) 18세기 중반 영국에서 시작된 산업 혁명으로 대량 생산이 가능해지면서 산업 자본주의가 성장하였다. (O, X)

## 자료 02 케인스의 수정 자본주의

대공황을 해결하려면 정부는 기업이 해고한 노동자를 다시 고용해야 한다. 그래야만 고용된 노동자들의 소득이 다시 상품의 구매로 전환되어 기업의 생산 의욕과 투자 의욕이 되살아날 수 있다. 만일 노동자들이 할 일이 없으면 구멍이라도 파게 해서 임금을 주고, 또 그 구멍이를 묻게 해서라도 임금을 지급해야 한다. 그것이 바로 정부가 할 일이다.

→(TIP) 정부의 적극적인 재정 정책의 필요성을 설명하고 있어.

**자료 분석** 1929년 세계 경제를 파국으로 몰아넣은 대공황이 발생하면서 시장 스스로 문제를 해결할 수 있다는 주장에 대한 비판이 커졌다. 이에 케인스로 대표되는 "정부가 시장에 개입하여 경제 문제를 해결해야 한다."라는 목소리가 커졌는데, 이로 인해 수정 자본주의가 등장하였다.

- (1) 케인스는 대공황과 같은 경제 위기 상황에서는 정부가 적극적으로 개입해야 한다고 주장하였다. (O, X)
- (2) 케인스는 시장의 자율적 조정 기능이 모든 경제 문제를 해결한다고 주장하였다. (O, X)
- (3) 케인스의 주장은 산업 자본주의의 등장 배경으로 작용하였다. (O, X)
- (4) 미국은 케인스의 주장을 받아들여 대공황을 극복하기 위해 뉴딜 정책을 실시하였다. (O, X)

## 자료 03 신자유주의의 특징

→(TIP) 정부 개입을 자제하고 자유로운 경제활동을 보장해야 한다는 주장이다.

첫째, 작은 정부와 큰 시장을 주장한다. 세금 감면, 통화 남발을 억제하는 엄격한 통화 관리, 적자 재정 금지, 정부 기구 축소, 공기업 민영화, 경제 규제 축소, 자유 무역 확대, 노동자 해고를 용이하게 하는 노동 시장의 유연화 등이 모두 이 주장에 속한다.

둘째, 복지 제도의 축소를 주장한다. 제2차 세계 대전 이후 선진국들은 공공 복지 제도를 꾸준히 확대해 왔다. 그러나 신자유주의자들은 과도한 복지가 정부의 재정 적자를 팽창시킬 뿐만 아니라, 근로 의욕을 감소시키는 부작용을 일으킨다고 보고 복지 제도의 축소를 주장한다.

**자료 분석** 1970년대에 발발한 두 차례의 석유 파동은 수정 자본주의에 큰 의문을 던지는 계기가 되었다. 석유 파동으로 인해 발생한 스태그플레이션은 케인스가 주장한 정부의 개입으로 해결하기 어려웠기 때문이다. 이에 정부는 가급적 시장에 개입하지 않고 개인과 기업의 자유로운 경제활동을 보장하는 것이 바람직하다는 주장이 다시 강하게 제기되었는데, 이를 신자유주의라고 한다.

- (1) 신자유주의는 공기업 민영화와 규제 완화를 통해 시장의 자율성 확대를 추구한다. (O, X)
- (2) 신자유주의는 정부의 재정 적자를 줄이기 위한 방안으로 조세 감면을 반대하였다. (O, X)

## 자료 04 경제 체제

(가)	(나)
중앙 정부는 대부분의 생산 수단과 자원 등을 소유하며 경제 문제와 관련된 의사 결정을 내린다. 무엇을 얼마나 만들고, 누구에게 분배할 것인지도 중앙 정부의 결정에 따른다.	가계와 기업이 경제활동의 중심이 되어 각자의 이익을 추구하며, 시장 가격에 따라 자유롭게 생산과 소비에 대한 의사 결정을 한다. 이 과정에서 희소한 자원이 효율적으로 배분되는 결과를 가져온다.

**자료 분석** (가)는 계획경제 체제, (나)는 시장경제 체제이다. 경제 문제를 해결하기 위한 방법에 따라 경제 체제는 크게 계획경제 체제와 시장경제 체제로 구분할 수 있다. 계획경제 체제는 정부의 계획과 통제에 따라 경제 문제를 해결하는 체제이며, 시장경제 체제는 민간 경제 주체의 자유로운 경쟁에 의해 경제 문제를 해결하는 경제 체제이다.

- (1) (가)는 경제 주체 간 자유로운 경쟁을 통해 경제 문제를 해결한다. (O, X)
- (2) (나)는 정부의 계획과 명령에 따라 경제 문제를 해결한다. (O, X)
- (3) 경제 체제는 경제 문제의 해결 방식에 따라 (가)와 (나)로 나뉜다. (O, X)

## 01

밑줄 친 '이 시기'에 있었던 사실로 옳은 것은?

이 시기는 제임스 와트가 개량한 증기 기관이 새로운 동력으로 사용되기 전까지 지속된 시대로, 서유럽의 통치자들이 본인의 권력 강화를 위해 중앙 집권적 관료제와 상비군을 유지하고자 하였다. 그들은 이러한 통치 체제 확립에 필요한 자금을 마련하기 위해 교역을 장려했으며, 일부 상인에게는 막대한 세금 납부를 조건으로 특허를 부여하였다. 이러한 제후는 통치자와 상인 모두의 부와 권력을 증대하였다. 통치자들은 금이나 은을 확보하여 많은 함선을 만들고 강력한 군사력을 갖추어 영토 확장을 도모하였다. 또한 통치자와 상인 계층은 완전히 새로운 교역망을 통한 막대한 이윤 창출을 기대하였다.

- ① 대공황이 발생하였다.
- ② 독점 자본주의가 등장하였다.
- ③ 중상주의 정책이 확산하였다.
- ④ 두 차례의 석유 파동이 일어났다.
- ⑤ 서브프라임 모기지가 증가하였다.

### 해결 Flow

상업 자본주의, 산업 자본주의, 수정 자본주의, 신자유주의의 등장 배경과 역사적 전개 과정을 떠올린다.

제시문에서 언급하고 있는 내용이 자본주의의 역사적 전개 과정 중 어느 시기에 해당하는지 판단한다.

### 자료 분석

제시된 자료는 제임스 와트의 증기 기관 발명 이전 시기로, 절대 왕정 체제 아래 통치자들이 중앙 집권 강화를 위해 중상주의 정책을 추진한 모습을 나타내고 있다. 절대 왕정에서 추진된 중상주의는 상업 자본주의가 자리 잡는 계기가 되었다.

### 선지 분석

- ① 대공황이 발생한 것은 1929년으로 산업 자본주의 시기에 해당한다. 이를 계기로 수정 자본주의가 등장하였다.
- ② 독점 자본주의는 산업 자본주의 시기에 등장하였다.
- ✓ ③ 상업 자본주의 시기에는 중상주의 정책이 확산하였다.
- ④ 두 차례의 석유 파동이 일어난 것은 수정 자본주의 시기이며, 이는 신자유주의의 등장 배경으로 작용하였다.
- ⑤ 서브프라임 모기지가 크게 증가한 것은 신자유주의 시기이다.

## 02

밑줄 친 '저'에 대한 설명으로 옳은 것은?

친애하는 후버 대통령과 대법원장, 그리고 여러분! 지금 저와 여러분은 공통적인 난국에 직면해 있습니다. 이러한 난국은 다행히 물질적인 것에만 관련된 것입니다. 물가는 믿을 수 없을 정도로 떨어졌습니다. 상업 거래에서는 돈이 돌지 않고, 생산 기업은 말라 죽은 잎사귀처럼 여기저기에 흩어져 있습니다. 농민들은 생산물을 팔 시장을 찾을 수가 없고, 수만 가정에 수년 동안 저축해 온 돈은 삼시간에 사라졌습니다. 더욱 중대한 것은 다수의 실업자들이 냉혹한 생존 문제에 직면해 있습니다. …… '검은 목요일'로부터 시작된 지금의 난국으로 인해 우리 미국 국민들은 좌절할 일이 없습니다. 그들은 지도자가 규율과 방향을 제시해 줄 것을 요구하며 저를 자신들의 소원을 실현시키는 인물로 만들고 있습니다. 저는 이 임무를 소명으로 기꺼이 받아들일 것이며, 대통령으로서의 헌신을 서약함에 있어 겸허하게 신의 축복을 기원하는 바입니다.

- ① 자본가와 노동자 간의 계급 투쟁을 강조하였다.
- ② 대규모 공공사업을 벌이는 등 뉴딜 정책을 실시하였다.
- ③ 신자유주의에 근거하여 노동 시장의 유연성을 강화하였다.
- ④ 제1차 석유 파동으로 인한 경기 침체를 극복하고자 하였다.
- ⑤ 국부론을 저술하여 개인의 경제적 자율성 보장을 역설하였다.

### 해결 Flow

자본주의의 역사적 전개 과정을 떠올린다.

'검은 목요일'로 대표되는 사건은 어떤 자본주의의 등장 배경이 되었는지 판단한다.

해당 자본주의 시기 정부의 역할은 어떠한지 생각하며 선지의 진위 여부를 판단한다.

### 자료 분석

제시된 자료는 미국의 루스벨트 대통령의 취임 연설문으로, 자료에 표현된 '검은 목요일'은 대공황을 의미한다. 자료에 제시된 내용을 통해 경제가 불황 상태에 있으며, 이를 해결하기 위해 '저'로 표현된 대통령, 즉 정부가 시장에 적극 개입할 것임을 파악할 수 있다. 대공황을 해결하는 과정에서 등장한 자본주의는 수정 자본주의이다.

### 선지 분석

- ① 자본가와 노동자 간의 계급 투쟁을 강조한 것은 사회주의이다.
- ✓ ② 루스벨트는 대공황 해결을 위해 대규모 토목 공사 등의 뉴딜 정책을 실시하여 고용을 창출하였다.
- ③, ④ 1970년대 석유 파동을 배경으로 등장한 신자유주의는 시장에 대한 정부의 적극적 개입에 반대하며 작고 효율적인 정부를 주장하였고, 노동 시장의 유연성을 강조하였다.
- ⑤ '국부론'을 저술한 사람은 애덤 스미스이고, 애덤 스미스는 산업 자본주의 시대의 대표적인 경제학자이다.

**01-1** 동형 문제

밑줄 친 '이 시기'에 있었던 사실만을 <보기>에서 있는 대로 고른 것은?

이 시기는 제임스 와트가 개량한 증기 기관이 새로운 동력으로 사용되기 전까지 지속된 시대로, 서유럽의 통치자들이 본인의 권력 강화를 위해 중앙 집권적 관료제와 상비군을 유지하고자 하였다. 그들은 이러한 통치 체제 확립에 필요한 자금을 마련하기 위해 교역을 장려했으며, 일부 상인에게는 막대한 세금 납부를 조건으로 특혜를 부여하였다. 이러한 제후는 통치자와 상인 모두의 부와 권력을 증대하였다. 통치자들은 금이나 은을 확보하여 많은 함선을 만들고 강력한 군사력을 갖추어 영토 확장을 도모하였다. 또한 통치자와 상인 계층은 완전히 새로운 교역망을 통한 막대한 이윤 창출을 기대하였다.

보기

- ㄱ. 상인 계층이 경제활동을 주도하였다.
- ㄴ. 강력한 왕권 아래 중상주의 정책이 추진되었다.
- ㄷ. 복지 확대에 의한 정부 재정 악화가 발생하였다.
- ㄹ. 자유 경쟁을 지나치게 강조하여 대규모 독점 기업이 등장하였다.

- ① ㄱ, ㄴ                      ② ㄱ, ㄷ                      ③ ㄴ, ㄹ
- ④ ㄱ, ㄷ, ㄹ                ⑤ ㄴ, ㄷ, ㄹ

**01-2** 동형 문제

다음 자료에 대한 설명으로 옳은 것은?

㉠이 시기는 제임스 와트가 증기 기관을 개량하여 본격적인 산업화가 시작되기 이전의 시대로, 서유럽의 통치자들은 자신의 권력을 공고히 하기 위해 중앙 집권적인 관료제를 정비하고 상비군을 유지하고자 하였다. 재정적 기반이 절실했던 통치자들은 국내의 교역을 적극 장려하는 한편, 특정 상인들에게 막대한 조세 납부를 조건으로 독점적 거래권이나 법적 특혜를 부여하였다. 이 과정에서 통치자들은 금과 은 같은 귀금속을 확보함으로써 ㉡대 규모 함대를 건조하고, 무력 충돌 시 강력한 군사력을 행사할 수 있는 기반을 마련하였다. 한편, 상인 계층 역시 (가)을/를 통해 세계적인 교역망을 형성하며 정치 권력과도 밀접하게 연결된 ㉢새로운 경제 주체로 부상하였다. 이러한 통치자와 상인 간의 제후는 ㉣상업 자본주의의 발전에 중요한 역할을 하게 된다.

- ① ㉠에는 자유방임주의 정책이 추진되었다.
- ② ㉡은 절대 왕정을 약화시키는 요인으로 작용하였다.
- ③ ㉢으로 인해 통치자와의 제후가 약화되었다.
- ④ ㉣은 상품의 유통보다 생산 과정에서 이윤을 추구하는 자본주의를 의미한다.
- ⑤ (가)에는 '신항로 및 식민지 개척'이 들어갈 수 있다.

**02-1** 동형 문제

다음 글의 화자에 대한 설명으로 옳은 것은?

친애하는 후버 대통령과 대법원장, 그리고 여러분! 지금 저와 여러분은 공통적인 난국에 직면해 있습니다. …… 물가는 믿을 수 없을 정도로 떨어졌습니다. 상업 거래에서는 돈이 돌지 않고, 생산 기업은 말라 죽은 잎사귀처럼 여기저기에 흩어져 있습니다. 농민들은 생산물을 팔 시장을 찾을 수가 없고, 수만 가정에 수년 동안 저축해 온 돈은 삽시간에 사라졌습니다. 더욱 중대한 것은 다수의 실업자들이 냉혹한 생존 문제에 직면해 있습니다. …… '검은 목요일'로부터 시작된 지금의 난국으로 인해 우리 미국 국민들은 좌절할 일이 없습니다. 그들은 지도자가 규율과 방향을 제시해 줄 것을 요구하며 저를 자신들의 소원을 실현시키는 인물로 만들고 있습니다.

- ① 수경 자본주의에 입각한 경제 정책을 실시하였다.
- ② 공기업의 민영화, 복지 축소 등의 정책을 추진하였다.
- ③ 스태그플레이션에 대한 정부 대처의 안일함을 지적하였다.
- ④ 경제 문제 해결에 있어 '보이지 않는 손'의 역할을 가장 중시하였다.
- ⑤ 과잉 수요와 공급 부족의 문제를 해결하는 것이 중요하다고 역설하였다.

**02-2** 동형 문제

다음 글의 화자의 입장에 부합하는 진술로 옳은 것은?

시장이 항상 효율적인 것은 아닙니다. 특히 대공황과 같이 경기가 크게 침체되어 개별 경제 주체의 노력만으로는 해결되지 않는 상황이라면 정부가 적극적으로 시장에 개입하여 문제를 해결해야 합니다. 예를 들어 정부가 대규모의 댐을 건설한다면 수많은 실업자가 일자리를 얻게 되고, 그렇게 일자리를 얻은 노동자들은 임금을 받게 되므로 시장에서는 물건을 구매할 의사가 있고 능력도 갖춘 유효 수요가 창출됩니다. 이 같은 유효 수요의 창출은 대공황 극복의 열쇠가 될 것입니다.

- ① 정부의 재정 지출 확대는 유효 수요를 창출해 경기 회복에 기여할 수 있다.
- ② 시장은 항상 효율적으로 자원을 배분하므로 정부 개입은 최소화되어야 한다.
- ③ 대공황은 정부의 과도한 간섭으로 인해 시장 자율성이 훼손되어 발생하였다.
- ④ 정부 지출 확대는 민간 소비를 위축시키므로 경기 부양 효과를 가져오지 못한다.
- ⑤ 실업은 임금 수준이 높아 발생한 것이므로 임금 수준의 하락으로 자연스럽게 해소된다.

# 수능 기본 문제

## 01

밑줄 친 '이것'의 특징으로 옳은 설명만을 <보기>에서 고른 것은?

이것은 토지, 공장, 기계 등의 생산 수단을 국가가 소유하거나 공동체가 공동으로 소유하는 것이 아니라, 민간의 개인이나 기업이 소유해야 한다는 이념에 근거한 경제 운용 방식이다. 따라서 이것을 채택하는 사회는 근본적으로 생산 수단을 소유한 자본가가 노동자로부터 노동력을 사서 생산 활동을 함으로써 이익을 추구하는 경제 구조를 가진다.

[보기]

- ㄱ. 정부가 자원 배분의 방식과 시기를 결정한다.
- ㄴ. 시장에서 경제 주체들이 자유롭게 경제활동을 한다.
- ㄷ. 생산 수단의 대부분이 국유화 또는 공유화되어 있다.
- ㄹ. 수요 및 공급에 따라 각종 상품의 시장 가격이 결정된다.

- ① ㄱ, ㄴ                      ② ㄱ, ㄷ                      ③ ㄴ, ㄷ
- ④ ㄴ, ㄹ                      ⑤ ㄷ, ㄹ

## 02

밑줄 친 '이 사건'에 대한 옳은 설명만을 <보기>에서 고른 것은?

1929년 10월 24일, 불과 한 달 전 381.17로 최고치 신기록을 달성했던 뉴욕 다우존스 지수가 21% 급락하였다. 이 사건의 서막인 '검은 목요일'이었다. 10월 29일 '검은 화요일'에도 시가 총액이 추가로 23% 폭락하였다. 결국 1932년 7월 8일에는 최저치인 41.22까지 내려 앉았다. 주가 폭락은 실물 부문으로 급속히 파급되어 재고가 쌓이고 물가는 폭락하였다. 거리에는 일자리를 찾지 못한 실업자가 넘쳐나 1932년에는 그 수가 1,300만 명에 달하였다. 국민 총생산은 1929년 수준의 56%로 떨어졌다.

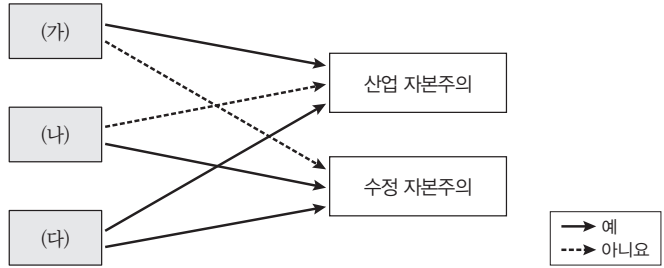
[보기]

- ㄱ. 지나친 증상주의 정책의 폐해로 발생하였다.
- ㄴ. 신자유주의가 등장하게 된 배경으로 작용하였다.
- ㄷ. 미국의 경우 뉴딜 정책이 추진되는 배경이 되었다.
- ㄹ. 시장에 대한 국가의 적극적 개입을 옹호하는 근거가 되었다.

- ① ㄱ, ㄴ                      ② ㄱ, ㄷ                      ③ ㄴ, ㄷ
- ④ ㄴ, ㄹ                      ⑤ ㄷ, ㄹ

## 03

(가)~(다)에 들어갈 적절한 질문만을 <보기>에서 고른 것은?



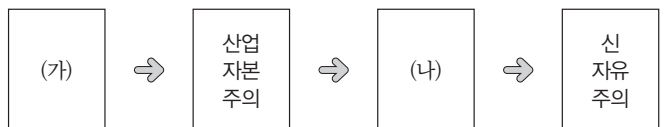
[보기]

- ㄱ. 생산 수단의 국·공유화를 강조하는가?
- ㄴ. '보이지 않는 손'의 역할을 인정하는가?
- ㄷ. 국가에 의한 사회 보장 제도 시행을 강조하는가?
- ㄹ. '최소의 정부가 최선의 정부'라는 입장을 취하는가?

	(가)	(나)	(다)
①	ㄱ	ㄴ	ㄷ
②	ㄱ	ㄴ	ㄹ
③	ㄴ	ㄷ	ㄹ
④	ㄷ	ㄱ	ㄹ
⑤	ㄹ	ㄷ	ㄴ

## 04

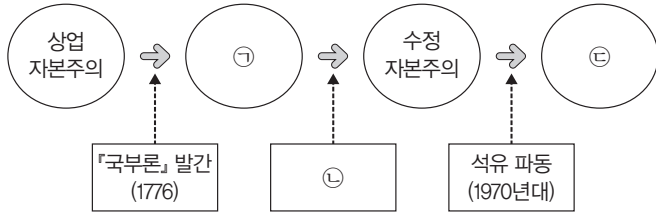
다음은 자본주의의 역사적 전개 과정을 나타낸 것이다. 이에 대한 설명으로 옳은 것은?



- ① (가)의 등장 배경으로는 대공황을 들 수 있다.
- ② (가)는 공기업의 민영화, 노동 시장의 유연화를 추구한다.
- ③ (나)의 등장 배경으로는 석유 파동을 들 수 있다.
- ④ (나)는 시장 실패를 해결하기 위한 정부의 역할을 중시한다.
- ⑤ (가)와 달리 (나)는 사유 재산 제도를 인정한다.

### 05

다음은 자본주의의 역사적 전개 과정과 주요 사건을 나타낸 것이다.  
㉠~㉣에 들어갈 용어로 옳은 것은?



- ㉠: 애덤 스미스의 경제사상을 기반으로 한 자본주의
- ㉡: 정부가 시장에 적극적으로 개입하는 경제 정책을 펴는 계기가 된 역사적 사건
- ㉢: 수정 자본주의 체제하에서 다시 등장한 경제사상으로 시장의 자율과 경쟁을 중시

- |   |         |         |         |
|---|---------|---------|---------|
|   | ㉠       | ㉡       | ㉢       |
| ① | 신자유주의   | 정부 실패   | 산업 자본주의 |
| ② | 신자유주의   | 인플레이션   | 산업 자본주의 |
| ③ | 산업 자본주의 | 대공황     | 신자유주의   |
| ④ | 신자유주의   | 대공황     | 산업 자본주의 |
| ⑤ | 산업 자본주의 | 스태그플레이션 | 신자유주의   |

### 06

교사의 수업 내용에 대한 옳은 설명만을 <보기>에서 고른 것은?

경제학자 A는 ㉠개인이 이익을 추구하는 행동이 ㉡'보이지 않는 손'을 통해 사회 전체 후생을 증진시킬 수 있다고 주장하였습니다.



- 「보기」
- ㄱ. ㉠은 계획경제 체제에서보다 시장경제 체제에서 자유롭다.
  - ㄴ. ㉡은 정부의 명령과 계획에 의한 자원 배분을 의미한다.
  - ㄷ. ㉠과 ㉡을 중시하는 것은 모두 시장경제 체제의 특징에 해당한다.
  - ㄹ. 경제학자 A는 '최소의 정부가 최선의 정부'라는 주장에 반대하였을 것이다.

- |        |        |        |
|--------|--------|--------|
| ① ㄱ, ㄴ | ② ㄱ, ㄷ | ③ ㄴ, ㄷ |
| ④ ㄴ, ㄹ | ⑤ ㄷ, ㄹ |        |

### 07

표는 경제 체제 A, B를 질문에 따라 구분한 것이다. 이에 대한 옳은 설명만을 <보기>에서 고른 것은? (단, A와 B는 각각 시장경제 체제, 계획경제 체제 중 하나임.)

구분	A	B
시장의 수요와 공급에 의해 상품의 거래량이 결정되는가?	예	아니요
(가)	예	㉠
(나)	㉡	아니요

「보기」

- ㄱ. A는 계획경제 체제, B는 시장경제 체제이다.
- ㄴ. ㉠이 '예'라면 (가)에는 '자원의 희소성에 따른 기본적인 경제 문제가 발생하는가?'가 들어갈 수 있다.
- ㄷ. ㉠이 '아니요'라면 (가)에는 '경제 문제 해결에 있어 효율성보다 형평성을 강조하는가?'가 들어갈 수 있다.
- ㄹ. ㉡이 '예'라면 (나)에는 '시장 가격 기구에 의해 경제 문제를 해결하는가?'가 들어갈 수 있다.

- |        |        |        |
|--------|--------|--------|
| ① ㄱ, ㄴ | ② ㄱ, ㄷ | ③ ㄴ, ㄷ |
| ④ ㄴ, ㄹ | ⑤ ㄷ, ㄹ |        |

### 08

(가)에 들어갈 적절한 질문만을 <보기>에서 있는 대로 고른 것은?

시장경제 체제와 계획경제 체제는 하나의 이론적 모형으로, 현실에서는 그 어느 국가도 순수한 시장경제 체제나 순수한 계획경제 체제를 가지고 있지 않다. 오늘날 대부분의 국가는 시장경제 원리를 바탕으로 계획경제의 요소를 가미하는 혼합경제 체제를 채택하고 있다. 다음은 질문 (가)에 따라 시장경제 체제, 계획경제 체제, 혼합경제 체제의 특징을 구분하기 위한 표이다.

구분	시장경제 체제와 혼합경제 체제를 구분할 수 없는 질문
시장경제 체제와 계획경제 체제를 구분할 수 있는 질문	(가)

「보기」

- ㄱ. 전통과 관습에 의해 경제 문제를 해결하는가?
- ㄴ. 생산 수단의 사유화를 원칙적으로 보장하는가?
- ㄷ. '보이지 않는 손'에 의한 자원 배분을 중시하는가?
- ㄹ. 민간 경제 주체의 경제활동에 대한 자유를 인정하는가?

- |           |           |        |
|-----------|-----------|--------|
| ① ㄱ, ㄷ    | ② ㄱ, ㄹ    | ③ ㄴ, ㄷ |
| ④ ㄱ, ㄴ, ㄹ | ⑤ ㄴ, ㄷ, ㄹ |        |

# 1등급 완성 문제



## 01

그림을 통해 알 수 있는 자본주의의 특징을 <보기>에서 고른 것은?



[보기]

- ㄱ. 소비자가 재화의 가격을 결정한다.
- ㄴ. 시장 가격에 따라 상품을 거래한다.
- ㄷ. 시장을 통해 자원이 효율적으로 배분된다.
- ㄹ. 필요에 따라 정부가 시장에 적극 개입한다.

- ① ㄱ, ㄴ                      ② ㄱ, ㄷ                      ③ ㄴ, ㄷ
- ④ ㄴ, ㄹ                      ⑤ ㄷ, ㄹ

## 02

(가)~(다)는 자본주의의 역사적 전개 과정에서 나타난 시기를 대표하는 주요 학자의 주장이다. 이를 발생 시기 순으로 옳게 나열한 것은?

- (가) 개인이 합리적으로 행동할 때 전체적으로 반드시 바람직한 결과가 나타난다는 보장은 없습니다. 특히 대공황처럼 개별 경제 주체의 노력만으로는 해결할 수 없는 상황이라면 정부가 직접 대규모 사업을 진행하여 유효 수요를 창출하는 등 시장에 적극적으로 개입해야 합니다.
- (나) 우리가 저녁 식사를 기대할 수 있는 것은 푸줏간 주인, 양조장 주인, 빵집 주인이 각자 자신의 이익을 챙기기 때문입니다. 즉, 개인이 자신의 이익을 추구할 때 '보이지 않는 손'에 의해 누가 의도하지 않아도 사회 전체의 효율적인 자원 배분이 이루어집니다. 그러므로 정부의 시장 개입은 최소화되어야 합니다.
- (다) 한 사람이 샤워할 때를 가정해 봅시다. 수도꼭지를 틀었더니 샤워기에서 찬물이 쏟아져 나왔습니다. 이에 놀라 뜨거운 물 쪽으로 수도꼭지를 틀자 갑자기 뜨거운 물이 나왔고, 다시 찬물 쪽으로 수도꼭지를 틀자 아주 차가운 물이 쏟아져 나왔습니다. 이 사람은 결국 샤워실에서 뛰쳐나오고 맙니다. 이와 마찬가지로 정부의 선부른 정책 전환은 시장에 부작용을 가져올 수 있습니다. 따라서 정부는 시장을 지켜보는 심판자 역할만 해야 합니다.

- ① (가) - (나) - (다)    ② (가) - (다) - (나)    ③ (나) - (가) - (다)
- ④ (나) - (다) - (가)    ⑤ (다) - (나) - (가)

## 03

A~C에 대한 옳은 설명만을 <보기>에서 고른 것은? (단, A~C는 각각 신자유주의, 수정 자본주의, 산업 자본주의 중 하나임.)

- 영국에서 산업 혁명이 발생하여 공장제 기계 공업이 확산되고 대량 생산 및 대량 소비의 시대가 시작되었다. 이는 A가 성장하게 된 중요한 배경으로 작용하였다.
- 석유 파동으로 경기 침체가 심화되었으나 정부가 적절한 대응을 하는 데 실패하면서 B가 설득력을 얻게 되었다.
- 미국에서 발생한 대공황은 수많은 은행과 기업의 도산을 야기하였다. 또한 실업률마저 폭증하여 정부의 역할을 재정립하게 되었다. 이에 C가 등장하게 되었다.

[보기]

- ㄱ. A는 국가의 중상주의 정책에 기반을 두고 있었다.
- ㄴ. B는 훗날 정부 실패를 유발한 원인으로 작용하였다.
- ㄷ. C는 시장에 대한 정부의 적극적 개입을 추구하였다.
- ㄹ. 시간의 흐름 순으로 나열하면 A-C-B이다.

- ① ㄱ, ㄴ                      ② ㄱ, ㄷ                      ③ ㄴ, ㄷ
- ④ ㄴ, ㄹ                      ⑤ ㄷ, ㄹ

## 04

(가)에 들어갈 내용으로 가장 적절한 것은?

수업 주제: (가)

2000년대 미국 정부는 침체된 경기를 부양할 목적으로 금리를 대폭 인하하는 정책을 추진하였다. 금리가 낮아지면서 대출이 쉬워졌고, 은행은 수익을 극대화하기 위해 신용 등급이 낮은 사람에게도 주택을 담보로 한 대출 상품, 이른바 '서브프라임 모기지(Subprime Mortgage)'를 적극적으로 판매하기 시작하였다. 경쟁이 치열해지면서 일부 금융 기관은 소득 증빙 서류 없이 대출을 승인하거나, 주택 가격의 전액을 대출해 주는 등 점차 무리한 방식으로 대출을 확대해 나갔다. 하지만 이후 금리가 다시 오르고 부동산 가격이 하락하면서 많은 차입자들이 원리금을 상환하지 못하게 되었다. 결국 대출금을 회수하지 못한 대형 금융 기관이 연쇄적으로 파산하게 되었고, 이는 2008년 금융 위기의 직접적인 계기가 되었다. 이 사태를 계기로 많은 국가들은 자본주의의 문제점을 돌아보며 금융 시장에 대한 규제를 강화하고 복지 정책을 확대하는 등 시장에 대한 정부의 개입을 강화하였다.

- ① 신자유주의에 의문을 갖게 한 서브프라임 모기지 사태
- ② 독점 자본주의의 필요성을 일깨워 준 미국발 금융 위기
- ③ 수정 자본주의의 한계를 보여 준 서브프라임 모기지 사태
- ④ 복지 정책의 성공 사례로 평가되는 서브프라임 모기지 사태
- ⑤ 신자유주의 정책 확대가 필요한 이유를 알려 준 미국발 금융 위기

### 05 통합형

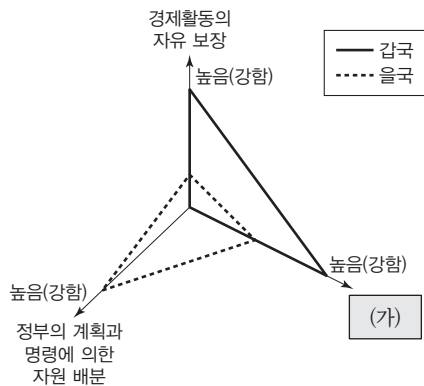
(가)에 들어갈 내용으로 가장 적절한 것은?

독일의 사회학자 막스 베버는 프로테스탄트 윤리가 자본주의 발전에 미친 영향을 분석하였다. 베버에 따르면 물질적 성공을 죄악시하던 가톨릭과 달리 프로테스탄트는 성실한 직업 활동과 자본의 축적을 신의 은총으로 여겼다. 그는 특히 칼뱅주의에 집중하였다. 칼뱅은 직업을 종교적 소명이자 금욕주의적 삶을 위한 최고의 수단이라고 보았다. 절제와 검약, 합리적인 이윤 추구를 강조하는 칼뱅의 교리는 사람들이 직업 활동과 부의 획득을 도덕적인 행위로 인식하도록 영향을 주었다. 이처럼 프로테스탄트 윤리는 (가)

- ① 개인의 자본 축적보다는 사회의 분배 정의 실현을 더 강조하였다.
- ② 성실한 직업 활동보다는 금욕적 수행과 관조적 삶을 이상으로 삼았다.
- ③ 물질적 성공을 타락으로 간주하였으며 자본 축적에 대해 부정적인 시각을 낳았다.
- ④ 종교보다는 계몽주의 이성 사상이 자본주의 발전에 더 크게 기여하였다고 보았다.
- ⑤ 이윤 추구를 윤리적으로 정당화하였으며 결과적으로 자본주의 발전의 토대가 되었다.

### 06

그림은 갑국과 을국 경제 체제의 특징을 비교한 것이다. 이에 대한 옳은 설명만을 <보기>에서 고른 것은?



- 보기
- ㄱ. (가)에는 '시장의 자동 조절 기능 중시'가 들어갈 수 있다.
  - ㄴ. 갑국은 경쟁에 의한 자원 배분을 강조한다.
  - ㄷ. 을국은 경제적 형평성이 아닌 효율성을 추구한다.
  - ㄹ. 을국은 갑국과 달리 생산 수단의 사유화를 인정한다.

- ① ㄱ, ㄴ                      ② ㄱ, ㄷ                      ③ ㄴ, ㄷ
- ④ ㄴ, ㄹ                      ⑤ ㄷ, ㄹ

### 07

다음 글은 자본주의가 ㉠에서 ㉡으로 변화하게 된 계기가 된 사건을 나타낸다. ㉠, ㉡에 대한 옳은 설명만을 <보기>에서 고른 것은?

제2차 세계 대전 이후 많은 국가들은 ㉠(으)로 불리는 경제 운영 방식을 채택하였다. 이 시기의 국가들은 재정 지출을 확대하고 고용을 유지하며 시장에 적극 개입함으로써 국민의 삶의 질을 높이고자 하였다. 이는 일정 기간 동안 안정적인 성장과 복지 확대라는 성과를 가져왔다. 그러나 1970년대 중동 지역의 갈등으로 인해 주요 산유국들이 석유 생산을 줄이고 수출을 제한하자 전 세계적으로 원유 가격이 급등하였다. 이에 따라 물가가 급격히 오르면서도 경제 성장은 둔화되었고, 실업률 또한 상승하는 이례적인 경제 위기가 발생하였다. 이전의 방식대로 정부가 지출을 늘리고 시장에 개입해도 문제는 쉽게 해결되지 않았다. 이러한 경험은 ㉠의 한계를 드러내는 계기가 되었고, 그 결과 ㉡(으)로의 전환이 이루어지기 시작하였다.

- 보기
- ㄱ. ㉠에서는 공기업의 민영화, 감세 정책이 추진되었다.
  - ㄴ. ㉡은 스태그플레이션을 극복하려는 과정에서 등장하였다.
  - ㄷ. ㉠은 ㉡에 비해 자원 배분의 형평성을 강조하였다.
  - ㄹ. ㉡은 ㉠에 비해 정부의 적극적 역할을 강조하였다.

- ① ㄱ, ㄴ                      ② ㄱ, ㄷ                      ③ ㄴ, ㄷ
- ④ ㄴ, ㄹ                      ⑤ ㄷ, ㄹ

### 08

다음은 우리나라 헌법 조항의 일부이다. 표의 ㉠~㉡에 들어갈 응답으로 옳은 것은?

헌법 제119조

- ① 대한민국의 경제 질서는 개인과 기업의 경제상의 자유와 창의를 존중함을 기본으로 한다.
- ② 국가는 균형 있는 국민 경제의 성장 및 안정과 적정한 소득의 분배를 유지하고, 시장의 지배와 경제력의 남용을 방지하며, 경제 주체 간의 조화를 통한 경제의 민주화를 위하여 경제에 관한 규제와 조정을 할 수 있다.

위 헌법 조항에 나타난 우리나라 경제 체제의 특징을 다음과 같이 구분할 수 있다.

구분	제119조 ①	제119조 ②
시장경제 체제의 요소가 나타나는가?	㉠	㉡
계획경제 체제의 요소가 나타나는가?	㉢	㉣

- |   |     |     |     |     |
|---|-----|-----|-----|-----|
|   | ㉠   | ㉡   | ㉢   | ㉣   |
| ① | 예   | 예   | 예   | 예   |
| ② | 예   | 예   | 예   | 아니요 |
| ③ | 예   | 예   | 아니요 | 예   |
| ④ | 예   | 아니요 | 아니요 | 예   |
| ⑤ | 아니요 | 아니요 | 예   | 아니요 |

# 14 합리적 선택과 경제 주체의 역할

## 1 합리적 선택의 의미와 한계

### 01 기회비용과 합리적 선택 자료 01

#### 1. 기회비용

(1) 의미: 어떤 대안을 선택할 때 그 선택에 대해 지불하는 대가로, 명시적 비용과 암묵적 비용을 합한 것

명시적 비용	어떤 대안을 선택할 때 실제로 지출되는 비용
암묵적 비용	어떤 대안을 선택할 때 그 선택으로 포기하는 대안들 중 가장 가치가 큰 것

(2) 자원의 희소성과 기회비용: 자원의 희소성에 따라 선택의 문제가 발생하며 모든 선택의 문제는 항상 기회비용이 발생  
(TIP) 인간의 욕구에 비해 자원의 양이 상대적으로 부족한 상태를 뜻해.

#### 2. 합리적 선택

(1) 의미: 여러 대안 중 순편익이 가장 큰 대안을 선택하는 것 (최소의 비용으로 최대의 편익을 얻는 대안을 선택하는 것) → 기회비용이 적은 것을 선택함, **매몰 비용**은 고려하지 않음.  
(TIP) 과거의 비용으로 이미 지출되어 회수할 수 없는 비용을 말해.

(2) 순편익: 편익 - 기회비용(명시적 비용 + 암묵적 비용)

### 02 합리적 선택의 한계 자료 02 자료 03

1. **시장 실패의 의미:** 시장이 자원을 효율적으로 배분하지 못하여 사회 전체의 이익이 커지지 않는 상태  
(TIP) 이와 반대로 정부가 자원을 효율적으로 배분하지 못하는 상태를 '정부 실패'라고 해.

#### 2. 시장 실패의 유형

독과점 문제	<ul style="list-style-type: none"> <li>의미: 독점은 시장에 공급자가 하나만 존재하는 상태, 과점은 공급자가 소수 존재하는 상태를 의미</li> <li>특징: 가격과 수량을 임의로 결정(독점의 공급자), 담합을 통해 공급량을 임의로 결정(과점의 공급자) → 시장에서 자원의 비효율적인 분배 초래, 소비자는 재화나 서비스를 구매하기 위해 더 많은 비용을 지출</li> </ul>
외부 효과	<ul style="list-style-type: none"> <li>의미: 한 경제 주체의 활동이 다른 경제 주체에게 의도하지 않은 이익이나 손해를 주지만 이에 대한 대가를 받거나 보상을 지급하지 않는 것</li> <li>긍정적 외부 효과: 제삼자에게 의도하지 않은 이익을 주고도 이에 대한 대가를 받지 않는 것 <b>예</b> 독감 백신 접종</li> <li>부정적 외부 효과: 제삼자에게 의도하지 않은 피해를 주고도 이에 대한 보상을 지급하지 않는 것 <b>예</b> 간접 흡연</li> </ul>
공공재 공급 부족	<ul style="list-style-type: none"> <li>의미: 기업이 이윤을 얻을 수 없어 공공재의 생산을 줄이거나 포기하여 사회적 최적 수준보다 과소 생산되어 부족한 상태</li> <li>공공재의 특징: 대가를 지불하지 않고 재화 및 서비스를 소비하는 사람을 배제할 수 없음(비배제성), 한 사람의 소비가 다른 사람의 소비를 감소시키지 않음(비경합성).  <small>(TIP) 이로 인해 사람들이 대가를 지불하지 않고 소비하려는 무임승차 문제가 발생해.</small></li> </ul>
정보의 비대칭성	<ul style="list-style-type: none"> <li>의미: 판매자와 소비자가 가진 거래 정보의 양과 질이 서로 다른 상태</li> <li>특징: 거래 당사자 간 정보의 불균형으로 자원의 비효율적 배분을 초래함.</li> </ul>

(TIP) 무료 도로, 국방, 치안 등 사람들이 공동으로 사용하는 재화나 서비스를 의미해.

## 2 경제 주체의 바람직한 역할

### 01 정부의 역할

1. **정부의 바람직한 역할:** 시장이 자원의 효율적 배분에 실패하면 정부가 시장에 개입하여 사회적 후생을 증진하고 **지속가능발전**을 도모함.  
(TIP) 미래 세대가 그들의 필요를 충족할 수 있는 능력을 저해하지 않으면서 현재 세대의 필요를 충족하는 발전'을 의미해.

#### 2. 시장 실패에 대한 정부의 역할

독과점 문제	<ul style="list-style-type: none"> <li>독과점에서 공급자의 횡포를 규제하는 제도 마련</li> <li>우리나라의 경우 독점 규제 및 공정 거래에 관한 법률에 따라 공정 거래 위원회를 운영</li> </ul>
외부 효과	<ul style="list-style-type: none"> <li>긍정적 외부 효과: 생산자 혹은 소비자에게 세금 감면이나 보조금 지급을 통해 생산 혹은 소비를 촉진</li> <li>부정적 외부 효과: 생산자 혹은 소비자에게 세금 부과나 과징금 부과 등을 통해 생산 혹은 소비를 억제</li> </ul>
공공재 공급 부족	정부가 직접 공공재를 생산 및 공급하여 공공재 부족 문제 해결
정보의 비대칭성	상품의 성분 표시나 원산지 표시제 시행, 중고 제품 시장에서의 품질 보증 제도 시행 등을 통해 판매자와 소비자 간 정보의 비대칭성 개선

### 02 기업가의 역할 자료 04

#### 1. 기업과 기업가 정신

(1) **기업:** 이윤 극대화를 추구하는 경제 주체로서 생산과 고용 창출을 통해 국민 경제 발전에 기여

(2) **기업가 정신:** 이윤을 추구하는 과정에서 미래의 불확실성과 위험을 감수하고 혁신을 이루려는 정신  
(TIP) 미래에 대한 통찰력, 과감한 도전 정신, 창의력 등이 바탕이 되어야 해.

2. **기업의 사회적 책임:** 법규를 준수하고 소비자와 노동자의 권리를 존중하며 건전한 이윤 추구를 통해 사회 전체의 지속가능한 발전을 지향

### 03 노동자의 역할

1. **노동자:** 가계는 생산 요소 시장에서 생산 요소를 공급하는 공급자의 역할을 하는데, 이 중 노동을 제공하고 임금을 받는 사람을 노동자라고 함.  
(TIP) 노동조합이 기업과 근로 시간, 임금, 복지 등 근로 조건에 대해 집단적으로 교섭할 수 있는 권리를 말해.

2. **노동 3권(근로 3권):** 단결권, 단체 교섭권, 단체 행동권  
(TIP) 노동자가 자유롭게 노동조합을 결성·가입·탈퇴할 수 있는 권리를 말해. (TIP) 근로 조건에 관한 협상이 제대로 이루어지지 않을 경우 노동조합이 파업, 태업 등의 단체 행동으로 기업에게 대항할 수 있는 권리를 말해.

### 04 소비자의 역할

1. **소비자:** 가계는 생산물 시장에서 재화와 서비스를 구입하는 수요자의 역할을 하는데, 이를 소비자라고 함.

#### 2. 소비자의 역할

(1) **합리적 소비:** 여러 대안 중 순편익이 가장 큰 대안을 선택하는 소비

(2) **윤리적 소비:** 윤리적 가치 판단에 근거하여 인권, 환경, 사회적 약자 등을 고려하는 소비

# 중요 자료 분석

## 자료 01 합리적 선택과 기회비용

합리적 선택이란 여러 대안 중 순편익이 가장 큰 대안을 선택하는 것이다. 다음의 사례를 보자. 갑이 주어진 용돈을 모두 사용하여 X재와 Y재 중 하나만을 선택하고자 한다. 표는 갑이 X재와 Y재를 선택할 경우 각각의 편익과 가격을 나타낸다. 갑의 합리적 선택은 무엇일까? (단위: 원)

구분	X재	Y재
편익	300	400
가격	200	350

상기의 자료를 토대로 갑의 X재와 Y재를 선택할 경우 각각의 순편익을 구하면 다음과 같다. (단위: 원)

	순편익	편익	기회비용	
			명시적 비용	암묵적 비용
X재 선택 시	50	300	200	50
Y재 선택 시	-50	400	350	100

갑은 X재와 Y재 중에서 순편익이 가장 큰 X재를 선택하는 것이 합리적이다.

**자료 분석** 합리적 선택을 알기 위해서는 대안별로 순편익을 구해야 한다.

$$\text{순편익} = \text{편익} - \text{기회비용(명시적 비용 + 암묵적 비용)}$$

여기서 암묵적 비용은 어떤 대안을 선택할 경우, 포기한 대안으로부터 얻을 수 있었던 최선의 경제적 가치를 의미하므로 포기한 대안의 편익에서 가격을 뺀 값이다. 가령 X재 선택 시 암묵적 비용은 X재를 선택함에 따라 포기한 Y재의 편익 400원에서 가격 350원을 뺀 50원이 된다.

- (1) 갑이 Y재를 선택할 경우의 기회비용은 450원이다. (○, ×)
- (2) 갑은 X재를 선택하는 것이 합리적이다. (○, ×)

## 자료 02 공공재

재화의 속성은 경합성의 유무와 배제성의 유무에 따라 구분할 수 있다.

구분		경합성	
		유	무
배제성	유	A	B
	무	C	D

A재의 경우 배제성과 경합성을 가지는 재화이다. 학생이 구입하는 학용품과 같은 사적 재화가 이에 해당한다. B재의 경우 배제성과 비경합성을 가지는 재화이다. 유료 케이블 TV 서비스가 이에 해당한다. C재의 경우 비배제성과 경합성을 가지는 재화이다. 공해상의 식용 어족 자원이 이에 해당한다. 이러한 재화는 누구나 사용할 수 있지만 양이 한정되어 있어 남용 시 고갈의 우려가 있다. D재의 경우 비경합성과 비배제성을 가지는 재화이다. 이는 공공재이다.

**자료 분석** 비경합성이란 재화에 대해 한 소비자의 소비가 다른 소비자의 만족감을 감소시키지 않아 그 재화의 소비를 위해 경쟁을 하지 않아도 되는 것을 의미한다. 비배제성이란 어떤 소비자가 재화를 소비할 때 대가를 지불하지 않아도 소비를 막을 수 없는 것을 의미하며 이로 인해 무임승차자 문제가 발생할 수 있다.

- (1) 구청에서 설치한 가로등은 D에 해당한다. (○, ×)
- (2) C는 남용 시 고갈의 우려가 있다. (○, ×)

## 자료 03 정보의 비대칭성

소비자는 상품을 구입할 때 종종 '판매자가 나를 속여서 정상 가격을 받고 나쁜 품질의 상품을 판매하는 것이 아닌가?'라는 생각을 한다. 이는 상품에 대한 정보를 소비자보다 판매자가 더 많이 알고 있기 때문이다. 갑이 중고 X재를 구입하고자 할 때 다음과 같은 세 가지의 경우가 있다고 가정해 보자.

**가정 1** 중고 X재 시장에는 품질 좋은 X재와 품질 나쁜 X재가 각각 50%씩 있다.

**가정 2** 중고 X재 판매자는 X재의 품질을 정확하게 알고 있지만, 소비자인 갑은 가정 1의 내용만 알고 있다.

**가정 3** 중고 X재 판매자의 판매 의향 가격과 갑의 지불 의향 가격은 각각 아래 표와 같다. (단위: 달러)

구분	판매자가 받고자 하는 최소 가격	갑의 최대 지불 의향 가격
품질 좋은 X재	40	① 50
품질 나쁜 X재	10	② 20

**자료 분석** 갑은 품질 좋은 X재를 구입할 확률이 50%이므로 평균적인 비용을 지불하려고 할 것이다. 즉, 갑의 X재에 대한 지불액은  $[(\text{①} + \text{②})/2] = 35$ 달러이다. 판매자는 품질 좋은 X재에 최소한 40달러를 받아야 한다고 생각하지만, 갑이 35달러만 지불할 의향이 있으므로 품질 좋은 X재를 회수할 것이다. 결국 중고 X재 시장에서 갑은 품질 나쁜 X재를 구입할 확률이 커진다. 이처럼 정보의 비대칭성에 따른 시장 실패는 정부가 개입하여 정보의 원활한 흐름을 유도함으로써 개선할 수 있다.

- (1) 정보의 비대칭성에 따른 소비자 피해는 시장 실패의 유형에 해당한다. (○, ×)
- (2) 정보의 비대칭성에 따라 발생하는 문제는 정부가 개입하여 개선할 수 없다. (○, ×)

## 자료 04 슘페터의 기업가 정신

슘페터(Schumpeter, J.)는 자본주의를 움직이는 경제 발전을 기업가 정신이라는 개념으로 설명한다. 일반적으로 기업가는 전통과 경험에서 주어진 것에 적응하도록 자신의 행위를 결정한다. 하지만 기업가가 새로운 제품을 생각하고 설계하여 새로운 시장을 개척하거나 기술을 개선하려 한다면 경제 발전의 양상은 크게 달라진다. 슘페터는 이를 '생산 수단의 신결합'이라는 용어로 설명하며 다음의 5가지 경우로 분류하였다.

1. 이전에는 없던 새로운 상품을 시장에서 만드는 것
2. 이전에는 없던 새로운 생산 기술을 만드는 것
3. 이전에는 없던 새로운 시장을 개척하는 것
4. 이전에는 없던 새로운 원료나 반제품의 공급원을 확보하는 것
5. 이전에는 없던 새로운 산업 조직을 형성하는 것

**자료 분석** 슘페터가 설명하는 기업가 정신은 소위 창조적 파괴라는 용어에 비유되기도 한다. 슘페터는 자본주의가 창조적 파괴 과정을 통해 효과적인 경제 발전으로 이어진다고 설명한다.

- (1) 창조적 파괴는 기업가 정신과 관련이 있다. (○, ×)
- (2) 생산 과정에서 생산의 효율성을 증가시키기 위해 작업 시간을 늘리는 것은 기업가 정신의 사례에 해당한다. (○, ×)

## 01

다음 자료에 대한 분석 및 추론으로 옳은 것은?

갑과 을은 □□ 여행사로부터 추천받은 여행 상품 A와 B 중 하나를 편익과 기회비용을 고려하여 합리적으로 선택한다. 표는 A, B의 가격과 갑, 을이 선택으로 얻는 편익을 나타낸다. 단, 제시된 자료 외에 다른 조건은 고려하지 않는다.

(단위: 만 원)

구분	가격	편익	
		갑	을
A	100	150	㉠
B	80	100	120

- ① 갑이 A를 선택할 때 기회비용은 100만 원이다.
- ② 갑은 B를 선택한다.
- ③ 을이 A를 선택할 때 암묵적 비용은 140만 원이다.
- ④ ㉠이 140만 원보다 클 경우 을은 B를 선택한다.
- ⑤ A의 가격이 120만 원으로 인상되어도 갑의 선택은 변함이 없다.

### 해결 Flow

여행 상품 A, B에 대한 갑과 을의 편익과 기회비용을 파악한다.

여행 상품 A, B에 대한 갑, 을의 순편익을 비교해 합리적 선택을 파악한다.

### 자료 분석

순편익을 통해 합리적 선택을 파악하는 문제 유형으로 갑과 을이 A, B를 선택할 경우 각각의 순편익을 구하면 다음과 같다.

(단위: 만 원)

구분	순편익	편익	기회비용		
			명시적 비용	암묵적 비용	
갑	A	30(10)	150	100(120)	20
	B	-30(-10)	100	80	50(30)
을	A	㉠-140(㉠-160)	㉠	100(120)	40
	B	140-㉠(80-㉠)	120	80	㉠-100(㉠-120)

### 선지 분석

- ① 갑이 A를 선택할 경우의 기회비용은 120만 원이다.
- ② 갑의 경우 B보다 A를 선택할 때의 순편익이 크므로 A를 선택하는 것이 합리적이다.
- ③ 을이 A를 선택할 경우의 암묵적 비용은 포기한 B의 편익에서 가격을 뺀 40만 원이다.
- ④ ㉠이 140만 원보다 클 경우, A를 선택할 때 순편익이 크므로 A를 선택하는 것이 합리적이다.
- ✓ ⑤ A의 가격이 120만 원으로 인상되어도 A를 선택하는 경우 순편익이 크므로 갑은 A를 선택하는 것이 합리적이다.

## 02

(가), (나)에 대한 옳은 설명만을 <보기>에서 고른 것은?

(가) 갑국에서는 일부 시민들이 감염병 예방을 위해 ㉠ 유료 백신을 자발적으로 접종받고 있다. 이들은 감염병 확산의 가능성을 낮추지만 그에 대한 대가를 받지 않는다.

(나) 을국에서는 일부 시민들이 감염병에 걸린 사실을 인지하지 못한 채 밀폐된 공간에서 쇼핑을 하는 경우가 있다. 이들은 주변 사람들에게 감염병을 옮기더라도 그에 대한 대가를 지불하지 않는다.

### 보기

- ㄱ. (가)에서는 백신 접종의 사적 편익이 사회적 편익보다 크다.
- ㄴ. (나)는 부정적 외부 효과의 사례에 해당한다.
- ㄷ. (가)에서 ㉠에 대해 보조금을 지급하여 미접종자의 백신 접종을 유도할 수 있다.
- ㄹ. (나)는 (가)와 달리 시장 실패의 사례에 해당한다.

- ① ㄱ, ㄴ                      ② ㄱ, ㄷ                      ③ ㄴ, ㄷ
- ④ ㄴ, ㄹ                      ⑤ ㄷ, ㄹ

### 해결 Flow

시장 실패의 개념과 유형을 정확히 파악한다.

외부 효과의 개념을 정확하게 이해한다.

긍정적 외부 효과와 부정적 외부 효과를 구분한다.

### 자료 분석

(가)는 일부 시민들이 유료 백신을 자발적으로 접종을 하여 다른 사람들의 감염병 확산의 가능성을 낮추지만 대가를 받지 않고 있으므로 긍정적 외부 효과에 해당한다. (나)는 일부 시민들이 감염병에 걸리고도 의도하지 않게 타인에게 감염병을 옮기지만 대가를 지불하지 않으므로 부정적 외부 효과에 해당한다.

### 선지 분석

- ㄱ. (가)에는 긍정적 외부 효과가 나타난다. 따라서 백신 접종에 대한 시민들의 사적 편익이 사회적 편익보다 작다.
- ✓ ㄴ. (나)는 경제 주체의 경제활동이 다른 경제 주체에게 의도하지 않은 피해를 주고도 대가를 지불하지 않은 부정적 외부 효과에 해당한다.
- ✓ ㄷ. (가)에서는 일부 시민들만 백신 예방 접종을 하고 있어 비효율적인 자원 배분이 발생한 것과 동일한 상황이다. 정부는 시민들에게 보조금을 지급하여 백신 접종을 유도함으로써 효율적 자원 배분과 같은 상황을 유도할 수 있다.
- ㄹ. 긍정적 외부 효과와 부정적 외부 효과 모두 시장이 자원을 효율적으로 배분하지 못하는 시장 실패에 해당한다.

**01-1** 동형 문제

다음 자료에 대한 옳은 설명만을 <보기>에서 고른 것은?

갑과 을은 □□ 여행사로부터 추천받은 여행 상품 A와 B 중 하나를 편의와 기회비용을 고려하여 합리적으로 선택한다. 표는 A, B의 가격과 갑, 을이 선택으로 얻는 편익을 나타낸다. 단, 제시된 자료 외에 다른 조건은 고려하지 않는다.

(단위: 만 원)

구분	가격	편익	
		갑	을
A	100	150	110
B	80	100	120

〈보기〉

- ㄱ. 기회비용은 갑이 B를 선택할 경우보다 을이 A를 선택할 경우가 작다.
- ㄴ. 암묵적 비용은 갑이 A를 선택할 경우가 을이 B를 선택할 경우의 2배이다.
- ㄷ. 순편익은 갑이 A를 선택할 경우와 을이 B를 선택할 경우가 같다.
- ㄹ. 갑은 B를, 을은 A를 선택하는 것이 합리적이다.

- ① ㄱ, ㄴ                      ② ㄱ, ㄷ                      ③ ㄴ, ㄷ
- ④ ㄴ, ㄹ                      ⑤ ㄷ, ㄹ

**01-2** 동형 문제

다음 자료에 대한 설명으로 옳은 것은?

갑은 X재와 Y재 중 하나만 소비하려고 한다. 표는 X재와 Y재 각각의 가격과 갑의 편익을 나타낸다. 단, 갑은 편익과 기회비용만 고려하여 합리적으로 선택한다.

(단위: 만 원)

구분	X재	Y재
가격	70	150
편익	100	200

- ① 명시적 비용은 갑이 X재를 선택할 경우보다 Y재를 선택할 경우가 작다.
- ② 암묵적 비용은 갑이 Y재를 선택할 경우보다 X재를 선택할 경우가 작다.
- ③ 기회비용은 갑이 Y재를 선택할 경우보다 X재를 선택할 경우가 50만 원 크다.
- ④ 순편익은 갑이 Y재를 선택할 경우와 달리 X재를 선택할 경우가 음(-)의 값이다.
- ⑤ Y재 가격이 120만 원으로 하락하면 갑은 X재를 선택하는 것이 합리적이다.

**02-1** 동형 문제

(가), (나)에 대한 옳은 설명만을 <보기>에서 고른 것은?

(가) 갑국에서는 일부 시민들이 감염병 예방을 위해 유료 백신을 자발적으로 접종받고 있다. 이들은 감염병 확산의 가능성을 낮추지만 그에 대한 대가를 받지 않는다.

(나) 을국에서는 일부 시민들이 감염병에 걸린 사실을 인지하지 못한 채 밀폐된 공간에서 쇼핑을 하는 경우가 있다. 이들은 주변 사람들에게 감염병을 옮기더라도 그에 대한 대가를 지불하지는 않는다.

〈보기〉

- ㄱ. (가)는 부정적 외부 효과의 사례에 해당한다.
- ㄴ. (가)에서 백신은 사회적 최적 수준보다 적게 소비되고 있다.
- ㄷ. (가)와 달리 (나)의 사례는 시장 실패에 해당하지 않는다.
- ㄹ. 공공장소에서 흡연 행위가 주변에 피해를 주는 행위는 (나)와 같은 부정적 외부 효과에 해당한다.

- ① ㄱ, ㄴ                      ② ㄱ, ㄷ                      ③ ㄴ, ㄷ
- ④ ㄴ, ㄹ                      ⑤ ㄷ, ㄹ

**02-2** 동형 문제

(가), (나)에 대한 옳은 설명만을 <보기>에서 있는 대로 고른 것은?

(가) 갑국에서는 ㉠ 일부 시민들이 감염병 예방을 위해 ㉡ 유료 백신을 자발적으로 접종받고 있다. 이들은 감염병 확산의 가능성을 낮추지만 그에 대한 대가를 받지 않는다.

(나) 을국에서는 ㉢ 일부 시민들이 감염병에 걸린 사실을 인지하지 못한 채 밀폐된 공간에서 ㉣ 쇼핑을 하는 경우가 있다. 이들은 주변 사람들에게 감염병을 옮기더라도 그에 대한 대가를 지불하지는 않는다.

〈보기〉

- ㄱ. ㉠은 공유 자원에 해당한다.
- ㄴ. (가)와 달리 (나)는 부정적 외부 효과의 사례에 해당한다.
- ㄷ. ㉢과 달리 ㉣은 사회적으로 충분한 만큼 소비가 이루어지지 않는다.
- ㄹ. 정부는 ㉠과 달리 ㉣에게 과태료를 부과하여 외부 효과를 개선할 수 있다.

- ① ㄱ, ㄴ                      ② ㄱ, ㄷ                      ③ ㄴ, ㄷ
- ④ ㄱ, ㄷ, ㄹ                ⑤ ㄴ, ㄷ, ㄹ

# 수능 기본 문제

## 01

다음 자료에 대한 옳은 설명만을 <보기>에서 있는 대로 고른 것은? (단, 갑과 을은 모두 합리적 선택을 하였음.)

갑과 을은 자전거 매장에 방문하여 최신 유행 자전거인 ○○ 자전거를 구입하려 했다. ○○ 자전거의 가격은 100만 원으로 갑은 마음에 드는 가격이라며 바로 구입했지만, 을은 비싸다며 구입하지 않았다. 며칠 후 을은 같은 자전거 매장을 지나다가 지난 번에 비싸서 구입하지 않았던 ○○ 자전거의 가격이 70만 원으로 내린 것을 보고 마음에 드는 가격이라고 여기며 매장에 들어가서 ○○ 자전거를 구입하였다.

[보기]

- ㄱ. ○○ 자전거 구입 당시의 편익은 갑보다 을이 작다.
- ㄴ. ○○ 자전거 구입에 따른 을의 순편익은 음(-)의 값이다.
- ㄷ. ○○ 자전거 구입에 따른 명시적 비용은 을보다 갑이 크다.
- ㄹ. 을과 달리 갑의 ○○ 자전거 구입의 편익은 기회비용보다 크다.

- ① ㄱ, ㄴ                      ② ㄱ, ㄷ                      ③ ㄴ, ㄷ
- ④ ㄱ, ㄴ, ㄹ                ⑤ ㄴ, ㄷ, ㄹ

## 02

밑줄 친 ㉠에 나타난 개념으로 가장 적절한 것은?

갑은 시골에 전원주택을 직접 짓기 위한 계획을 세웠다. 갑이 전원주택에서 가장 공을 들이는 부분은 벽으로, 멋진 모양과 색깔의 아트 벽을 만들고 싶어 했다. 수개월간 수많은 벽돌 판매 매장을 돌아다니며 무수히 많은 벽돌을 본 끝에 한 매장에서 가장 만족스러운 벽돌을 발견하였고, 판매자에게 이를 구입하기로 약속한 뒤 집으로 돌아왔다. 그날 밤 갑은 우연히 TV 다큐멘터리를 보았는데 마침 자신이 구입하기로 약속했던 벽돌 브랜드의 공장에 관한 내용이었다. 그런데 해당 TV 다큐멘터리는 제3국의 벽돌 공장에서 자행되고 있는 아동 학대를 취재한 것으로, 갑이 구입하기로 했던 벽돌 브랜드의 공장이 아동 학대를 일삼는 모습을 담고 있었다. 큰 충격을 받은 갑은 다음날 벽돌 매장에 가서 ㉠ 아동 학대와 관련된 벽돌을 구입할 수 없다고 설명한 뒤 벽돌을 구입하지 않고 집으로 돌아왔다. 갑은 황토를 구해 자신이 직접 벽돌을 만들기로 하였다.

- ① 합리적 생산              ② 합리적 소비              ③ 윤리적 소비
- ④ 기업가 정신              ⑤ 공공재 부족

## 03

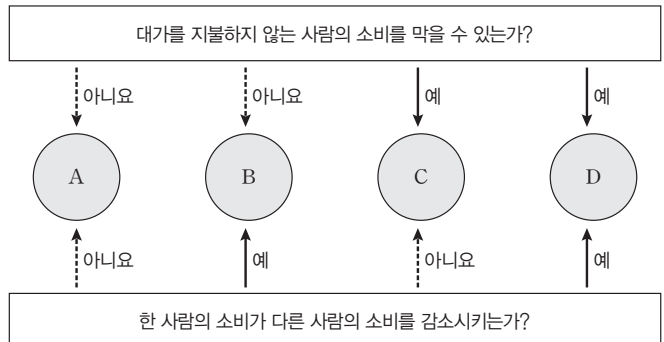
(가)~(다)는 정부의 역할을 나타낸다. (가)~(다)에 해당하는 내용으로 옳은 것은?

- (가) 공정 거래 위원회는 교복을 판매하는 회사 간 가격 담합 정황을 적발하여 각 회사마다 과징금을 부과하였다.
- (나) 버스 정류장과 같은 공용 공간에서 흡연을 하여 주변 사람들에게 불쾌감을 주는 흡연자를 현장에서 적발하여 과태료를 부과하였다.
- (다) 국민의 경제적 불평등을 개선하기 위해 소득세의 누진 세율을 이전보다 높이고 사회 보장 제도의 적용 범위를 확대 시행하였다.

- |   | (가)       | (나)       | (다)       |
|---|-----------|-----------|-----------|
| ① | 소득 재분배    | 공정한 경쟁 촉진 | 외부 효과 개선  |
| ② | 소득 재분배    | 공공재 생산    | 공정한 경쟁 촉진 |
| ③ | 경제 성장 촉진  | 소득 재분배    | 외부 효과 개선  |
| ④ | 외부 효과 개선  | 공정한 경쟁 촉진 | 소득 재분배    |
| ⑤ | 공정한 경쟁 촉진 | 외부 효과 개선  | 소득 재분배    |

## 04

A~D는 재화를 속성별로 구분한 것이다. 이에 대한 설명으로 옳지 않은 것은?



- ① A를 시장에 맡기면 충분히 생산되지 않는 것이 일반적이다.
- ② B는 남용에 따른 자원 고갈이 발생할 수 있다.
- ③ 유료 케이블 TV 서비스는 C에 해당한다.
- ④ 매장에서 판매하는 최신 스마트폰은 D에 해당한다.
- ⑤ A, B와 달리 C, D는 무임승차자 문제가 발생한다.

## 05

다음 대화에 대한 설명으로 옳은 것은?



사회자

여름 휴가철을 앞두고 ○○ 휴가지에 있는 ㉠숙박업소 요금이 급등하여 시민들의 불만이 많습니다. 조사 결과 ○○ 휴가지에 있는 숙박업소 간 가격 차이가 있습니다.

가격 차이에 대한 ㉡정부의 강력한 규제가 필요합니다.



을

정부 규제보다는 ㉢수요와 공급에 의해 결정되도록 두는 것이 필요합니다.



갑

- ① ㉠은 숙박업소 이용자의 편익을 감소시킬 수 있다.
- ② ㉡은 '최소한의 정부가 최선의 정부이다.'라는 입장에 해당한다.
- ③ ㉢은 시장 실패의 개선 방안에 해당한다.
- ④ 갑은 정부가 자원의 효율적 배분에 실패한 것을 지적하고 있다.
- ⑤ 을은 공정 거래 위원회의 역할을 통한 문제 해결을 지지할 것이다.

## 06

다음 자료에 대한 옳은 설명만을 <보기>에서 있는 대로 고른 것은?

교사: 우리나라 헌법에서 보장하는 ㉠노동 3권에 대해 발표해 볼까요?

갑: 노동 3권은 노동자들의 근로 조건 향상을 목적으로 합니다.

을:  (가)

교사: 갑과 을 중에서 한 명만 옳게 발표하였습니다.

┆보기┆

- ㄱ. ㉠은 국민의 기본권에 해당하지 않는다.
- ㄴ. (가)에 '단결권은 노동자가 근로 조건 개선을 위해 단체를 결성할 수 있는 권리입니다.'가 들어갈 수 없다.
- ㄷ. (가)에 '단체 교섭권은 근로 조건의 유지나 개선을 위해 노동자가 파업과 같은 단체 행동을 할 수 있는 권리입니다.'가 들어갈 수 있다.
- ㄹ. (가)에 '단체 행동권은 노동자가 단체로 사용자와 근로 조건에 대해 교섭하고 협약을 체결할 수 있는 권리입니다.'가 들어갈 수 없다.

- ① ㄱ, ㄷ                      ② ㄱ, ㄹ                      ③ ㄴ, ㄷ
- ④ ㄱ, ㄴ, ㄹ                ⑤ ㄴ, ㄷ, ㄹ

## 07

다음 자료에 대한 설명으로 옳은 것은?

대학에서 경제학을 전공하고 졸업한 갑은 평소 취미였던 레트로 만화책 수집과 연결하여 레트로 만화책 판매업을 할 것인지 혹은 전공과목의 전문성을 갖추기 위해 대학원을 진학해야 할 것 인지를 놓고 고민 중이다. 표는 갑이 레트로 만화책 판매업을 할 경우의 연간 예상 수입과 비용 그리고 대학원을 진학할 경우의 연간 등록금 및 기타 총비용을 나타낸다. 단, 갑은 편익과 기회비용만 고려하여 합리적 선택을 한다.

㉠레트로 만화책 판매업		㉡대학원 진학
연간 총수입	연간 총비용	연간 등록금 및 기타 총비용
㉢2억 원	㉣6천만 원	㉤1억 2천만 원

- ① ㉠을 선택할 경우 ㉢은 순편익에 해당한다.
- ② ㉠을 선택할 경우 ㉣은 암묵적 비용에 해당한다.
- ③ ㉡을 선택할 경우의 암묵적 비용은 ㉢+㉣이다.
- ④ ㉡을 선택할 경우 갑의 편익은 2억 6천만 원보다 크다.
- ⑤ ㉠을 선택할 경우 갑의 편익이 2억 원이라면 ㉡을 선택할 경우의 순편익은 음(-)의 값이다.

## 08

다음 자료에 대한 옳은 설명만을 <보기>에서 있는 대로 고른 것은?

표는 중고 X재 시장에서 판매자 갑이 최소한 받고자 하는 가격과 구매자 을이 최대한 지불하고자 하는 가격을 나타낸다. 단, 중고 X재 시장에는 품질 좋은 X재와 품질 나쁜 X재가 각각 50%씩 있으며, 갑은 중고 X재의 품질을 정확하게 알고 있다. 반면 을은 품질 좋은 X재와 품질 나쁜 X재가 각각 50%씩 있다는 사실만 알고 있다.

(단위: 만 원)

구분	갑	을
품질 좋은 X재	60	70
품질 나쁜 X재	30	40

┆보기┆

- ㄱ. 만일 을이 갑처럼 중고 X재의 모든 품질을 정확하게 알고 있다면, 품질 좋은 X재는 65만 원에 거래될 수 있다.
- ㄴ. 을이 중고 X재 구입에 55만원을 지불할 의향이 있다면, 을은 품질 좋은 X재를 구입할 수 있다.
- ㄷ. 을이 중고 X재 구입에 55만원을 지불할 의향이 있다면, 을이 중고 X재를 구입하는 과정에서 자원의 비효율적 배분이 나타날 수 있다.

- ① ㄱ                              ② ㄷ                              ③ ㄱ, ㄴ
- ④ ㄱ, ㄷ                        ⑤ ㄱ, ㄴ, ㄷ

# 1등급 완성 문제



## 01

표는 재화 A~C를 경합성과 배제성의 유무에 따라 구분한 것이다. 이에 대한 옳은 설명만을 <보기>에서 고른 것은?

구분		경합성	
		있음	없음
배제성	㉠	A	구청에서 설치한 가로등
	㉡	B	C

〈보기〉

- ㄱ. ㉠은 '있음'이고, ㉡은 '없음'이다.
- ㄴ. B와 달리 A는 무임승차자 문제가 발생한다.
- ㄷ. B와 달리 C는 생산물 시장에서 거래된다.
- ㄹ. '막히는 유료 도로'는 C가 아닌 B에 해당한다.

- ① ㄱ, ㄴ                      ② ㄱ, ㄷ                      ③ ㄴ, ㄷ
- ④ ㄴ, ㄹ                      ⑤ ㄷ, ㄹ

## 02

밑줄 친 ㉠~㉣에 대한 옳은 설명만을 <보기>에서 있는대로 고른 것은?

○○ 회사는 X재 개발에 현재까지 ㉠5억 원을 투입하였다. 하지만 최근 소비자의 소비 패턴과 유행의 변화로 ㉡X재 개발을 지속할 것인지 아니면 ㉢Y재 개발로 전환할 것인지를 결정해야 한다. X재 개발이 성공적으로 완료되면 ㉣8억 원의 판매 수입이 예상되지만, 이를 위해 ㉤6억 원이 추가로 투입되어야 한다. 만일 Y재 개발로 전환한다면 ㉥12억 원의 판매 수입이 예상되지만, 이를 위해서는 ㉦7억 원이 새롭게 투입되어야 한다. 단, ○○ 회사는 편익과 기회비용만을 고려하여 합리적 선택을 한다.

〈보기〉

- ㄱ. ㉠과 ㉡의 문제를 '보이지 않는 손'이 결정하는 것은 시장 경제 체제의 특징에 해당한다.
- ㄴ. 명시적 비용은 ㉡을 선택할 경우보다 ㉢을 선택할 경우가 크다.
- ㄷ. ㉢을 선택할 경우의 암묵적 비용은 (㉢-㉡)+㉠이다.
- ㄹ. ㉢을 선택할 경우의 순편익과 ㉣을 선택할 경우의 순편익의 합은 영(0)이다.

- ① ㄱ, ㄴ                      ② ㄱ, ㄷ                      ③ ㄴ, ㄷ
- ④ ㄱ, ㄴ, ㄷ                ⑤ ㄱ, ㄷ, ㄹ

## 03

다음 자료에서 알 수 있는 시장 실패의 유형으로 가장 적절한 것은?

보험 시장의 경우, 보험 가입을 희망하는 보험 청약자는 자신의 건강 정보와 생활 환경을 잘 아는 반면, 보험 회사는 이를 정확하게 알 수 없다. 보험 회사가 선호하는 보험 청약자는 건강하고 사고 위험이 낮은 사람이지만, 평소 보험에 관심이 많은 사람은 대체로 건강에 자신이 없거나 사고 위험이 높은 사람이다. 즉, 보험 회사 입장에서는 피하고 싶은 가입 대상이 보험 가입에 적극적인 것이다. 이로 인해 보험 회사는 건강한 사람보다 건강하지 않은 사람, 사고로부터 안전한 사람보다 사고 위험에 쉽게 노출되는 사람과 보험 거래를 체결할 확률이 높은 상황에 처하게 된다.

- ① 독점 시장의 폐해                      ② 과점 기업의 담합
- ③ 공공재의 부족 문제                ④ 불공정 거래의 발생
- ⑤ 정보의 비대칭성 발생

## 04

(가)에 들어갈 내용으로 가장 적절한 것은?

교사: 다음의 두 사례에 나타난 공통된 주제를 발표해 볼까요?

사례 1 A 음식점은 비용 절감을 위해 종업원의 수를 줄이고 인공지능(AI) 로봇을 새로 들여와 음식 주문하기, 음식 전달하기, 사용한 식기를 받아 오기 등에 활용하고 있다. 이전에 없던 새로운 방식인 인공지능(AI) 로봇 도입 이후 매출액이 크게 상승하였다.

사례 2 애니메이션 감독 B는 그동안 높은 인건비와 기타 비용으로 애니메이션 제작에 소극적이었다. 그러나 최근에는 인공지능(AI)을 활용하여 이전에 없던 새로운 방식의 애니메이션을 기존 대비 1/100 수준의 비용으로 제작할 수 있게 되었다.

학생: \_\_\_\_\_ (가)

교사: 옳게 답변하였습니다.

- ① 인권, 환경, 생명, 공동체, 동물 등을 고려하여 배려한 윤리적 소비가 주제입니다.
- ② 기업의 행위가 사회 전체에 반영된다는 것을 전제로 한 기업의 사회적 책임이 주제입니다.
- ③ 경제 주체의 생산 활동이 다른 경제 주체에게 피해를 주고도 대가를 지불하지 않는 외부 효과가 주제입니다.
- ④ 정부가 시장의 분배 과정에 개입함으로써 소득 격차를 줄이기 위해 시행하는 소득 재분배 정책이 주제입니다.
- ⑤ 미래의 불확실성을 감수하고 과감한 기획과 생산 과정에서 새로운 방식을 추구하는 '창조적 파괴'가 주제입니다.

## 05

다음 자료에 대한 설명으로 옳은 것은?

갑은 자신의 여유 자금인 1,000달러로 어디에 투자를 해야 할지 고민 중이다. 1안과 2안은 갑이 고민하는 투자 대안으로, 갑은 둘 중 한 곳에만 투자를 하려고 한다. 단, 갑은 편익과 기회비용만 고려하여 합리적 선택을 하며 주어진 내용 외 다른 조건은 고려하지 않는다.

1안	○○ 은행 정기 예금(1년 만기, 연 이자율 단리 2%, 이자 소득 세율 30%)
2안	□□ 회사의 회사채(1년 만기, 연 이자율 단리 ⑦%, 이자 소득세율 20%)

- ① ⑦이 1이라면 2안을 선택할 경우의 순편익은 양(+)의 값이다.
- ② ⑦이 1이라면 예금자 보호 제도가 적용되는 금융 자산을 선택할 경우의 암묵적 비용은 14달러이다.
- ③ ⑦이 3이라면 1안을 선택할 경우의 명시적 비용은 2안을 선택할 경우보다 크다.
- ④ ⑦이 3이라면 시세 차익을 기대할 수 있는 금융 자산을 선택할 경우의 기회비용은 30달러이다.
- ⑤ ⑦이 1일 경우와 달리 ⑦이 3일 경우의 합리적 선택은 2안을 선택하는 것이다.

## 06

(가), (나)에 대한 옳은 설명만을 <보기>에서 있는 대로 고른 것은?

(가) 청정한 환경의 A 마을에 B 공장이 들어서게 되었다. B 공장이 X재를 생산하는 과정에서 오염 물질이 발생하여 강으로 유입되었고, 이로 인해 A 마을 주민들은 다양한 질병에 시달리고 있다. 그러나 정작 B 공장 측에서는 A 마을 주민들에게 아무런 대가를 지불하지 않고 있다.

(나) 갑은 양봉업을 하여 수익을 얻고 있다. 갑의 양봉장 주변은 온통 사과를 재배하는 과수원으로, 양봉장의 벌들이 사과나무 간 꽃가루를 옮겨 주어 사과 과수원의 사과 생산량이 급증하였다. 그러나 갑은 과수원으로부터 아무런 대가도 받지 않고 있다.

┆보기┆

- ㄱ. (가)에서 X재는 사회적 최적 수준보다 과잉 생산되고 있다.
- ㄴ. (가)에서 정부는 X재 생산자에게 X재 1개당 보조금을 주어 경제적 비효율성을 개선할 수 있다.
- ㄷ. (나)에서 갑의 양봉장 운영에 따른 시장 거래량은 사회적 최적 거래량보다 크다.
- ㄹ. (나)에서 정부는 갑에게 양봉장 운영 보조금을 주어 갑의 생산 활동을 장려할 수 있다.

- ① ㄱ, ㄷ                      ② ㄱ, ㄹ                      ③ ㄴ, ㄷ
- ④ ㄱ, ㄴ, ㄹ                ⑤ ㄴ, ㄷ, ㄹ

## 07

다음 자료에 대한 설명으로 옳은 것은?

갑국 정부는 사용 가능한 예산 500억 원 전액을 최저 생계비 보조금과 기업의 생산 보조금 중 어느 것을 선택하여 사용할지 고민 중이다. 표는 정부가 예산을 최저 생계비 보조금으로 사용할 경우와 기업의 생산 보조금으로 사용할 경우에 얻을 수 있는 편익을 나타낸다. 단, 정부는 편익과 기회비용만을 고려하여 합리적 선택을 한다.

(단위: 억 원)

구분	㉠최저 생계비 지원금	㉡기업의 생산 보조금
편익	700	800

- ① ㉠과 달리 ㉡은 갑국 정부의 재정 지출에 해당한다.
- ② ㉠과 달리 ㉡은 소득 재분배 효과가 있다.
- ③ ㉡을 선택할 경우의 암묵적 비용은 200억 원이다.
- ④ ㉡을 선택할 경우의 기회비용은 800억 원이다.
- ⑤ ㉠과 달리 ㉡을 선택할 때 순편익은 양(+)의 값이다.

## 08

다음은 우리나라 헌법의 일부 조항이다. 밑줄 친 ㉠~㉣에 대한 옳은 설명만을 <보기>에서 있는 대로 고른 것은?

헌법 제119조 ② 국가는 균형 있는 국민 경제의 성장 및 안정과 적정한 소득의 분배를 유지하고, ㉠시장의 지배와 경제력의 남용을 방지하며, 경제 주체 간의 조화를 통한 경제의 민주화를 위하여 경제에 관한 규제와 조정을 할 수 있다.

헌법 제32조 ① 모든 국민은 근로의 권리를 가진다. 국가는 사회적·경제적 방법으로 근로자의 고용의 증진과 적정 임금의 보장에 노력하여야 하며, 법률이 정하는 바에 의하여 ㉡최저 임금을 시행하여야 한다.

헌법 제33조 ① 근로자는 근로 조건의 향상을 위하여 자주적인 ㉢단결권, ㉣단체 교섭권 및 단체 행동권을 가진다.

┆보기┆

- ㄱ. 과점 기업의 담합에 따른 소비자의 권리 침해는 ㉠에 해당한다.
- ㄴ. ㉡은 소득 재분배 정책에 해당한다.
- ㄷ. 독점 규제 및 공정 거래에 관한 법률은 ㉢을 해결하기 위한 정부의 역할에 해당한다.
- ㄹ. 노동자의 파업이나 태업은 ㉣이 아닌 ㉢에 해당한다.

- ① ㄱ, ㄴ                      ② ㄱ, ㄷ                      ③ ㄴ, ㄷ
- ④ ㄱ, ㄴ, ㄹ                ⑤ ㄴ, ㄷ, ㄹ

# 15

## 자산 관리와 금융 생활 설계

### 1 금융 자산과 자산 관리

#### 01 금융 자산의 종류 자료 01 자료 03

1. 예금 자료 02 (TIP) 자산은 금융 기관을 통해 보유하는 금융 자산과 실제 형태가 존재하는 실물 자산으로 분류할 수 있어.

의미	원금과 약속된 이자를 받기로 하고 은행 등 금융 기관에 돈을 맡기는 금융 자산
종류	<ul style="list-style-type: none"> <li>요구불 예금: 입금이 출금이 자유로운 예금으로 저축성 예금에 비해 낮은 이자 발생 <span style="color: blue;">㉠</span> 보통 예금</li> <li>저축성 예금: 만기일까지 투자금을 예치 혹은 적립하는 예금으로 요구불 예금에 비해 높은 이자 발생 <span style="color: blue;">㉡</span> 정기 예금, 정기 적금</li> </ul>
특징	<ul style="list-style-type: none"> <li>예금자 보호 제도의 적용 대상</li> <li>원금 손실의 위험 저조</li> <li>주식이나 채권에 비해 안전성은 높으나 수익성 저조</li> </ul>

#### 2. 주식

의미	주식회사가 경영 자금을 확보하기 위해 투자자의 지분을 표시하여 발행하는 증서
특징	<ul style="list-style-type: none"> <li>주식을 보유한 사람은 주주가 되어 주식을 발행한 회사의 경영에 참여할 권리 획득 <span style="color: red;">(TIP)</span> 주식회사가 경영을 통해 얻은 수익의 일부를 지분에 따라 주주에게 나누어 주는 것을 의미해.</li> <li>회사의 경영 성과에 따라 배당 수익 기대 가능</li> <li>주식 시장에서 자유로운 거래를 통해 시세 차이 기대 가능</li> <li>예금이나 채권에 비해 수익성은 높으나 안전성은 저조</li> </ul>

3. 채권 (TIP) 일반적으로 금리가 하락하는 시기에는 새로 발행된 채권의 금리가 기존에 발행된 채권의 금리보다 낮아서 이자율이 높은 기존 채권을 매입하려는 사람이 증가해 기존 채권의 가격은 상승하고 채권 수익률은 낮아져.

의미	정부, 공공 기관, 지방 자치 단체, 기업 등이 자금 조달을 위해 이자 지급을 약속하고 돈을 빌린 후 제공하는 증서
특징	<ul style="list-style-type: none"> <li>만기일에 빌린 돈에 대한 정해진 이자 수익 획득</li> <li>채권 시장에서 자유로운 거래를 통해 시세 차이 기대 가능</li> <li>채권 발행 기관이 파산하면 투자금 회수 곤란</li> <li>주식에 비해 안전성은 높으나 수익성은 저조</li> <li>예금에 비해 수익성은 높으나 안전성은 저조</li> </ul>

### 02 자산 관리의 원칙

#### 1. 자산 관리의 원칙

(1) 안전성 (TIP) 수익성과 안전성은 상충 관계에 놓여 있어. (TIP) 금리는 중앙은행이 국내외 경제 상황, 금융 시장의 여건을 종합하여 결정하는 기준 금리에 따라 변동해.

의미	투자한 자산의 가치가 보호될 수 있는 정도
특징	안전성이 높을수록 수익성은 하락

#### (2) 수익성

의미	투자한 자산으로부터 이익을 기대할 수 있는 정도
특징	수익성이 높을수록 안전성은 하락

(3) 유동성 (TIP) 금융 자산은 실물 자산에 비해 유동성이 큰 자산이야.

의미	보유하고 있는 자산을 쉽게 현금으로 전환할 수 있는 정도
특징	유동성이 낮을 경우 현금으로의 전환 곤란

2. 분산 투자: 위험을 낮추고 수익을 높이기 위해 여러 금융 상품에 나누어 투자하는 것 ㉠ 포트폴리오 투자

(TIP) '달걀을 한 바구니에 담지 마라'라는 말은 포트폴리오 투자를 의미해.

### 2 금융 생활 설계와 금융 의사 결정

#### 01 생애 주기와 금융 생활 설계 자료 04

1. 생애 주기: 출생에서 사망에 이르기까지 시간의 흐름에 따라 삶이 변화하는 일련의 단계

#### 2. 금융 생활 설계

- (1) 의미: 생애 주기별 과업을 토대로 재무 목표를 설정하고, 이를 달성하기 위해 소득과 소비에 대한 계획을 세우는 것
- (2) 필요성: 제한된 소득을 활용하여 미래를 대비하고 안정적으로 경제생활을 이어나가기 위함.

#### (3) 금융 생활 설계 과정

재무 목표 설정	자신의 삶의 목표를 고려하여 재무 목표 수립
재무 상태 분석	현재 상태를 기준으로 수입, 지출, 자산, 부채 등 재무 상태 파악
재무 계획 수립	자금 마련, 저축, 투자, 대출 등 재무 목표 달성을 위한 계획 수립
재무 계획 실행	금융 자산의 특징과 자산 관리 원칙을 고려하여 재무 행동 계획 실행
재무 계획 실행 평가 및 수정	재무 목표 달성 정도를 주기적으로 점검 및 평가하고 필요한 경우 목표와 계획을 수정하고 보완

### 02 금융 의사 결정

1. 의미: 금융과 관련된 다양한 문제를 해결하기 위한 의사 결정

2. 특징: 개인의 재무 목표뿐만 아니라 **거시적 변화 요인**을 복합적으로 고려

(TIP) 금융 위기, 전쟁, 테러, 팬데믹과 같은 국내외의 경제적·정치적 상황 변화의 의미해.

#### 3. 금융 의사 결정에 영향을 미치는 요인

물가	<ul style="list-style-type: none"> <li>물가 상승 시: 화폐 가치 하락 → 실물 자산에 대한 투자 증가 <span style="color: red;">(TIP)</span> 지속적으로 물가가 상승하는 현상을 인플레이션이라고 해.</li> <li>물가 하락 시: 화폐 가치 상승 → 유동성이 높은 자산에 대한 투자 증가</li> </ul>
금리	<ul style="list-style-type: none"> <li>금리 상승 시: 이자 부담 증가 → 예금·채권 투자 증가, 주식·실물 자산 투자 감소</li> <li>금리 하락 시: 이자 부담 감소 → 예금·채권 투자 감소, 주식·실물 자산 투자 증가</li> </ul>
환율	<ul style="list-style-type: none"> <li>환율 상승 시: 원화 가치 하락 → 수출 증가, 국내 물가 상승, 외화를 보유한 사람의 원화 환산 수익 증가</li> <li>환율 하락 시: 원화 가치 상승 → 수출 감소, 국내 물가 안정, 외화를 보유한 사람의 원화 환산 수익 감소</li> </ul>
정치·사회적 환경 변화	<ul style="list-style-type: none"> <li>정치적 안정을 바탕으로 경제가 안정적인 시기에는 수익성 위주의 적극적 투자 증가</li> <li>전쟁, 테러 등 정치적 상황이 불안정해지면 안전성과 유동성이 높은 금융 자산 선호</li> <li>전 세계적으로 감염병이 유행하면 유동성이 높은 자산에 대한 수요 증가 <span style="color: red;">(TIP)</span> 팬데믹으로 봉쇄 조치가 이루어지면, 소비와 투자가 위축되어 금융 자산의 가격 변화가 생겨.</li> <li>친환경 제품에 대한 수요가 증가하면 관련 기업에 대한 투자 증가</li> </ul>

(TIP) 환율이 상승하면 일반적으로 수출업자는 유리해지고 수입업자는 불리해지며, 미국에 유학생 자녀를 둔 학부모의 학비 부담이 증가해.

# 중요 자료 분석

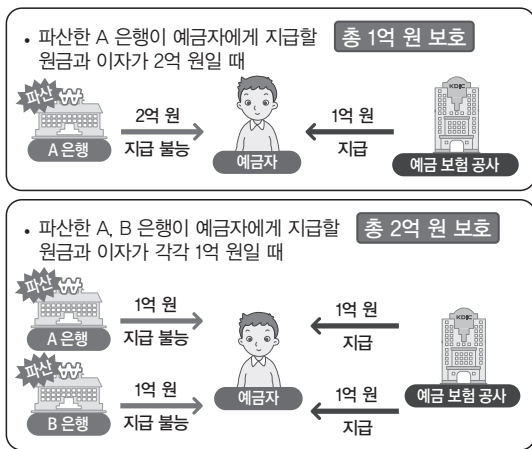
## 자료 01 금융 자산별 수익 비교

구분	예금	주식	채권
이자 수익	○	×	○
시세 차익	×	○	○
배당 수익	×	○	×

**자료 분석** 예금과 채권은 이자 수익을 기대할 수 있지만 주식은 이자 수익이 발생하지 않는다. 채권과 주식의 공통점은 시장에서의 자유로운 거래를 통해 시세 차익을 기대할 수 있다는 것이다. 채권이나 주식과 달리 예금은 예금자 보호 제도의 적용을 받으며, 예금이나 채권과 달리 주식은 회사 경영 성과에 따라 배당 수익을 기대할 수 있다.

- (1) 채권과 예금은 이자 수익을 기대할 수 있다. (○, ×)
- (2) 예금과 달리 주식은 시세 차익을 기대할 수 있다. (○, ×)
- (3) 주식과 달리 채권은 회사의 경영 성과에 따른 배당 수익을 기대할 수 있다. (○, ×)

## 자료 02 예금자 보호 제도



예금자 보호 제도란 금융 기관이 영업 정지나 파산 상태가 되어 돈을 맡긴 고객의 돈을 지급하지 못할 경우, 예금 보험 공사가 금융 기관에서 받은 보험금(예금 보험 기금)을 금융 기관을 대신하여 예금자에게 지급하는 제도이다. 예금자 보호 제도는 금융 기관별로 각각 적용되며, 예금 보험금은 동일 금융 기관 내에서 이자를 합하여 1인당 최대 1억 원까지 지급된다.(2025년 9월 1일 기준)

**자료 분석** 예금은 은행 등 금융 기관으로부터 약속된 이자를 받기로 하고 돈을 맡기는 금융 자산이다. 예금자 보호 제도는 예금 보험 공사로부터 원금과 이자를 합한 원리금을 금융 기관마다 각각 최대 1억 원까지 보장받는 제도이다. 이처럼 예금은 안전성이 높은 금융 자산이다.

- (1) 주식은 예금자 보호 제도가 적용되는 금융 자산이다. (○, ×)
- (2) 채권의 이자와 달리 예금의 이자는 예금자 보호 제도의 적용을 받을 수 있다. (○, ×)

## 자료 03 예금, 채권, 주식 외 다양한 금융 자산

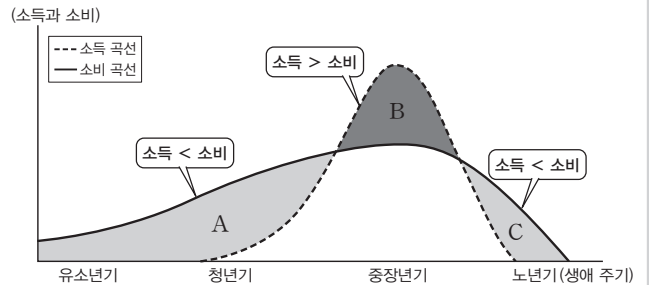
<b>펀드</b>	투자 회사 등 전문 자산 운용 기관이 투자자로부터 자금을 모아 주식이나 채권, 실물 자산 등에 투자하고 수익을 분배하는 금융 자산으로 높은 수익률을 기대할 수 있으나 원금 손실의 우려가 있음.
<b>보험</b>	미래에 발생할 수 있는 질병, 사망, 사고 등의 위험을 대비하여 보험 회사에 보험료를 내고, 위험 발생 시 사전에 약정된 금액을 보험금으로 받음. 예) 생명 보험, 화재 보험, 손해 보험
<b>연금</b>	안정적인 노후 생활을 위해 필요한 자금을 적립하여 노령이나 퇴직 등에 따라 약속된 금액을 받음. 예) 국민연금, 노령 연금

※ 국민연금 등 국가가 운영하는 공적 연금과 개인이나 시기업이 자율적으로 운영·가입하는 사적 연금이 있음.

**자료 분석** 펀드는 투자 전문 회사에 자산 운용을 맡겨 수익을 기대하는 금융 자산이고, 보험은 미래의 일을 대비하기 위한 금융 자산이다. 연금은 노후를 대비하기 위해 소득 일부를 적립하여 일정 기간 후에 지급 받는 금융 자산이다.

- (1) 펀드는 투자자가 직접 투자하는 금융 자산이다. (○, ×)
- (2) 보험은 수익 극대화를 추구하는 투자자에게 적합한 금융 자산이다. (○, ×)
- (3) 연금은 안정적인 노후 생활을 도울 수 있는 금융 자산이다. (○, ×)

## 자료 04 생애 주기 곡선과 금융 생활 설계



○ 소득과 소비에 따른 생애 주기 곡선

유소년기에는 주로 보호자의 소득에 의존하여 생활하고, 청년기부터 본격적인 경제생활을 시작하여 소득을 얻고 미래를 위한 투자 및 준비를 한다. 중장년기는 소득이 가장 높지만, 자녀 양육 및 부모 부양 등으로 소비도 증가한다. 노년기에는 은퇴로 소득이 줄고, 건강 유지 비용 등으로 소비가 증가한다.

※ 소득 증가와 의료 기술의 발달로 평균 수명이 늘어나 중장년기에 노후 준비를 위한 대책을 철저히 세워야 해.

**자료 분석** 생애 주기에 따른 소비와 소득의 성향을 파악하여 안정적인 노년기를 보내기 위한 금융 생활 설계를 해야 한다. 자료에서 A와 C는 소득보다 소비가 더 큰 시기로 음(-)의 저축이 나타나고, B는 소득이 소비보다 더 큰 양(+)의 저축이 나타난다. 양의 저축이 음의 저축의 합보다 더 큰 경우 안정적인 노년기를 보낼 가능성이 크다.

- (1) A와 C는 모두 음(-)의 저축을 나타낸다. (○, ×)
- (2) 'B > A + C'인 경우보다 'B < A + C'인 경우에 안정적인 노년기를 가질 가능성이 크다. (○, ×)

## 01

다음 자료에 대한 설명으로 옳은 것은? (단, A~C는 각각 예금, 주식, 채권 중 하나임.)

[평가 요소] 금융 자산 A~C의 일반적 특징

[서술형 문항]

- 〈1〉 C와 구별되는 A의 일반적 특징을 1가지만 쓰시오. (1점)
- 〈2〉 C와 구별되는 B의 일반적 특징을 1가지만 쓰시오. (1점)
- 〈3〉 A와 구별되는 C의 일반적 특징을 1가지만 쓰시오. (1점)

[학생 답안지]

서술형 문항	답안	점수
〈1〉	배당 수익을 기대할 수 있다.	1점
〈2〉	예금자 보호 제도의 적용을 받는다.	1점
〈3〉	(가)	①

\*각 문항별로 채점하며, 옳은 답안은 1점, 틀린 답안은 0점을 부여함.

- ① A는 계약 기간 동안 일정한 금액을 매달 납입하여 만기 시에 원금과 이자를 받는 자산이다.
- ② 일반적으로 A는 C보다 안전성이 높다.
- ③ 일반적으로 B는 A보다 수익성이 높다.
- ④ B와 C는 모두 이자 수익을 기대할 수 있다.
- ⑤ (가)에 '시세 차익을 기대할 수 있다.'가 들어가면, ①은 '1점'이다.

### 해결 Flow

답안을 통해 A, B, C에 해당하는 금융 자산을 파악한다.

예금, 주식, 채권의 공통점과 차이점을 파악한다.

예금, 주식, 채권과 자산 관리 원칙의 관계를 파악한다.

### 자료 분석

배당 수익을 기대할 수 있는 금융 자산은 주식이고, 예금자 보호 제도의 적용을 받는 금융 자산은 예금이다. 따라서 A는 주식, B는 예금, C는 채권이다.

### 선지 분석

- ① 계약 기간 동안 일정한 금액을 매달 납입하여 만기 시 원금과 이자를 받는 자산은 정기 적금이다. 정기 적금은 예금의 종류이다.
- ② 일반적으로 주식은 채권보다 안전성이 낮다.
- ③ 일반적으로 예금은 주식보다 수익성이 낮다.
- ✓④ 이자 수익을 기대할 수 있는 것은 예금과 채권의 공통점이다.
- ⑤ 시세 차익을 기대할 수 있는 금융 자산은 주식과 채권의 공통점이다. (가)에 '시세 차익을 기대할 수 있다.'가 들어가면, ①은 '0점'이다.

## 02

다음 자료에 대한 설명으로 옳은 것은? (단, A~C는 각각 정기 예금, 주식, 채권 중 하나임.)

표는 값이 금융 상품 A, B, C 중 하나를 선택하여 투자하기 위해 작성한 것이다. 값은 편익과 기회비용만을 고려하여 금융 상품을 선택하며 세 상품 모두 명시적 비용은 없다. 이때 편익은 수익성과 안전성 등을 고려하여 화폐 단위로 평가한 것이다.

금융 상품	A	B	C
편익(만 원)	90	80	100
이자 수익	있음	없음	있음
시세 차익	없음	있음	있음

- ① A는 배당 수익을 기대할 수 있다.
- ② C는 예금자 보호 제도의 적용을 받는다.
- ③ 일반적으로 B는 A에 비해 안전성이 높다.
- ④ 채권 선택의 암묵적 비용은 100만 원이다.
- ⑤ 정기 예금 선택의 기회비용과 주식 선택의 기회비용은 같다.

### 해결 Flow

이자 수익과 시세 차익에 관한 정보를 바탕으로 A, B, C에 해당하는 금융 상품을 파악한다.

각 금융 상품별로 특징을 파악하고 기회비용을 계산한다.

### 자료 분석

A는 이자 수익은 있지만 시세 차익은 없으므로 정기 예금이다. B는 이자 수익은 없지만 시세 차익은 있으므로 주식이다. C는 이자 수익과 시세 차익이 있으므로 채권이다. 세 금융 상품은 모두 명시적 비용이 없으므로 기회비용 계산 시 암묵적 비용만 계산하면 된다.

### 선지 분석

- ① A는 정기 예금이다. 배당 수익을 기대할 수 있는 것은 주식이다.
- ② C는 채권이다. 예금자 보호 제도의 적용을 받는 것은 정기 예금이다.
- ③ 일반적으로 주식은 정기 예금에 비해 안전성이 낮다.
- ④ 채권 선택의 암묵적 비용은 정기 예금을 선택하였을 경우 얻을 수 있었던 편익인 90만 원이다.
- ✓⑤ 정기 예금 선택과 주식 선택의 기회비용은 모두 채권을 선택하였을 경우 얻을 수 있었던 편익인 100만 원이다.

### 01-1 동형 문제

다음 자료에 대한 옳은 설명만을 <보기>에서 고른 것은? (단, A~C는 각각 정기 예금, 주식, 채권 중 하나임.)

[평가 요소] 금융 자산 A~C의 일반적 특징

[서술형 문항]

<1> C와 구별되는 A의 일반적 특징을 1가지만 쓰시오. (1점)  
 <2> C와 구별되는 B의 일반적 특징을 1가지만 쓰시오. (1점)  
 <3> A와 구별되는 C의 일반적 특징을 1가지만 쓰시오. (1점)

[학생 답안지]

서술형 문항	답안	점수
<1>	배당 수익을 기대할 수 있다.	1점
<2>	예금자 보호 제도의 적용을 받는다.	1점
<3>	(가)	㉠

\*각 문항별로 채점하며, 옳은 답안은 1점, 틀린 답안은 0점을 부여함.

보기

- ㄱ. A는 투자자의 회사에 대한 지분을 나타내는 증서이다.
- ㄴ. 일반적으로 B는 A보다 안전성이 높다.
- ㄷ. 정부와 달리 기업은 C를 발행할 수 있다.
- ㄹ. (가)가 '이자 수익을 기대할 수 있다.'이면 ㉠은 '0점'이다.

- ① ㄱ, ㄴ                      ② ㄱ, ㄷ                      ③ ㄴ, ㄷ
- ④ ㄴ, ㄹ                      ⑤ ㄷ, ㄹ

### 01-2 동형 문제

다음 자료에 대한 옳은 설명만을 <보기>에서 고른 것은?

교사: 금융 자산인 ㉠ 정기 예금, ㉡ 채권, ㉢ 주식에 대해 발표해 볼까요?  
 갑: 정기 예금은 예금자 보호 제도의 적용을 받습니다.  
 을: \_\_\_\_\_ (가)  
 교사: 갑과 을 중에서 한 명만 옳게 발표하였습니다.

보기

- ㄱ. 약속된 이자를 받기로 하고 돈을 맡기는 금융 자산은 ㉠과 달리 ㉡에 해당한다.
- ㄴ. 지방 자치 단체가 자금 조달을 위해 발행하는 차용 증서는 ㉢에 해당한다.
- ㄷ. (가)에 '일반적으로 ㉠은 ㉡보다 안전성은 낮고 수익성은 높습니다.'가 들어갈 수 있다.
- ㄹ. (가)에 '㉢을 보유한 사람은 해당 회사의 경영에 참여할 수 있습니다.'가 들어갈 수 있다.

- ① ㄱ, ㄴ                      ② ㄱ, ㄷ                      ③ ㄴ, ㄷ
- ④ ㄴ, ㄹ                      ⑤ ㄷ, ㄹ

### 02-1 동형 문제

다음 자료에 대한 옳은 설명만을 <보기>에서 고른 것은? (단, A~C는 각각 정기 예금, 주식, 채권 중 하나임.)

표는 갑이 금융 자산 A, B, C 중 하나를 선택하여 투자하기 위해 작성한 것이다. 갑은 편익과 기회비용만을 고려하여 금융 상품을 선택하며 세 상품 모두 선택에 따른 명시적 비용은 없다. 이때 편익은 수익성과 안전성 등을 고려하여 화폐 단위로 평가한 것이다.

금융 상품	A	B	C
편익(만 원)	90	80	100
이자 수익	있음	없음	있음
시세 차익	없음	있음	있음

보기

- ㄱ. A는 B보다 수익성이 높다.
- ㄴ. B와 달리 C는 정부가 발행할 수 있다.
- ㄷ. 주식 선택의 기회비용은 채권 선택의 기회비용보다 작다.
- ㄹ. 정기 예금 선택의 암묵적 비용과 주식 선택의 암묵적 비용은 같다.

- ① ㄱ, ㄴ                      ② ㄱ, ㄷ                      ③ ㄴ, ㄷ
- ④ ㄴ, ㄹ                      ⑤ ㄷ, ㄹ

### 02-2 동형 문제

(가), (나)에 대한 설명으로 옳은 것은? (단, A~C는 각각 요구불 예금, 주식, 채권 중 하나임.)

- (가) 금융 자산 A~C를 살펴보면 다음과 같다. A는 경영 자금을 확보하기 위해 투자자의 지분을 표시하여 발행한 증서이다. B는 기업이나 정부 등이 원리금을 약속하고 자금을 차용하는 일종의 채무 증서이다. C는 이자 수익이나 자금 보관을 목적으로 주로 은행에 자금을 예치하는 것이다.
- (나) 자산 관리의 원칙에는 세 가지가 있다. ㉠ 투자한 자산의 가치가 보호될 수 있는 정도, ㉡ 투자한 자산으로부터 이익을 기대할 수 있는 정도, ㉢ 보유하고 있는 자산을 쉽게 현금으로 전환할 수 있는 정도이다.

- ① A는 B보다 ㉠이 높다.
- ② B는 C보다 ㉡이 높다.
- ③ C는 A보다 ㉢이 높다.
- ④ 지방 자치 단체는 B를 발행할 수 있다.
- ⑤ B와 달리 A는 기업이 자금 조달을 위해 발행할 수 없다.

# 수능 기본 문제

## 01

다음 대화에 대한 설명으로 옳은 것은?

교사: 자신의 용돈을 ㉠정기 예금과 ㉡주식 그리고 ㉢채권에 투자를 한다면 어디에 투자할지 발표해 볼까요?

갑: 정기 예금에만 투자할 예정입니다. 왜냐하면 주식이나 채권보다  (가)

을: 주식에만 투자를 하려고 합니다. 왜냐하면 정기 예금이나 채권보다  (나)

교사: 갑과 을 모두 옳게 발표했습니다.

- ① ㉠과 달리 ㉡은 만기가 있다.
- ② ㉡과 달리 ㉢은 시세 차익을 기대할 수 있다.
- ③ ㉢과 달리 ㉠은 이자 수익을 기대할 수 있다.
- ④ (가)에 '안전성이 높기 때문입니다.'가 들어갈 수 있다.
- ⑤ (나)에 '수익성이 낮기 때문입니다.'가 들어갈 수 있다.

## 02

표의 A~C는 질문에 따라 자산 관리의 원칙을 구분한 것이다. 이에 대한 설명으로 옳은 것은? (단, A~C는 각각 수익성, 안전성, 유동성 중 하나임.)

질문	A	B	C
투자한 자산의 가치가 보전될 수 있는 정도를 의미합니까?	예	아니요	아니요
투자한 자산의 가치 상승이나 이자 수익을 기대할 수 있는 정도를 의미합니까?	아니요	예	아니요

- ① 일반적으로 예금은 채권에 비해 A가 낮다.
- ② 일반적으로 채권은 주식에 비해 A가 낮다.
- ③ 일반적으로 주식은 채권에 비해 B가 낮다.
- ④ 일반적으로 주식은 예금에 비해 B가 높다.
- ⑤ A는 수익성, B는 안전성, C는 유동성이다.

## 03

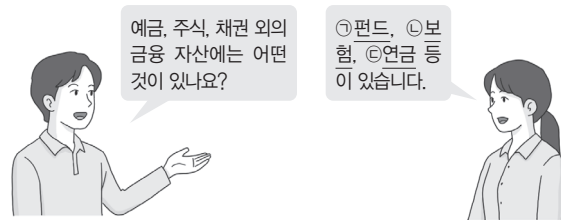
㉠~㉣에 들어갈 내용으로 옳은 것은?

일반적으로 금리가 하락하는 시기에는 새로 발행된 채권의 금리가 기존 채권의 금리보다 낮으므로 수익이 높은 기존 채권을 매입하려는 사람이 많아져 기존 채권의 가격은  ㉠ 하고 채권 수익률은  ㉡. 반면 금리가 상승하는 시기에는 기존 채권 가격이  ㉢ 하고 채권 수익률은  ㉣.

- |   |    |      |    |      |
|---|----|------|----|------|
|   | ㉠  | ㉡    | ㉢  | ㉣    |
| ① | 상승 | 높아진다 | 하락 | 낮아진다 |
| ② | 상승 | 낮아진다 | 하락 | 높아진다 |
| ③ | 상승 | 변함없다 | 하락 | 변함없다 |
| ④ | 하락 | 낮아진다 | 상승 | 높아진다 |
| ⑤ | 하락 | 높아진다 | 상승 | 낮아진다 |

## 04

밑줄 친 ㉠~㉣에 대한 옳은 설명만을 <보기>에서 고른 것은?



보기

- ㉠. ㉠은 자산 운용 회사에 자금을 맡겨 대신 투자하게 하는 금융 자산에 해당한다.
- ㉡. ㉡은 수익의 극대화를 목적으로 하는 금융 자산에 해당한다.
- ㉢. ㉢에는 국민연금과 같이 국가가 운영하는 연금이 있다.
- ㉣. ㉣과 달리 ㉢은 장래에 예상되는 위험을 대비하는 금융 자산이다.

- ① ㉠, ㉡
- ② ㉠, ㉢
- ③ ㉡, ㉣
- ④ ㉡, ㉣
- ⑤ ㉢, ㉣

## 05

㉠~㉣에 들어갈 내용으로 옳은 것은?

자산은 경제 주체가 소유한 유형이나 무형의 재산을 의미한다. 자산 관리는 저축이나 투자를 통해 자산을 취득하여 보유하거나 처분하는 과정이다. 이때 자산 관리의 기본 원칙을 고려해야 한다. 자산 관리의 기본 원칙은 다음 세 가지가 있다.  ㉠  은 투자한 자산의 가치가 안전하게 보호받을 수 있는 정도를 의미한다.  ㉡  은 투자한 자산의 가치 상승을 기대할 수 있는 정도를 의미한다.  ㉢  은 자신이 보유하고 있는 자산을 현금 화할 수 있는 정도를 의미한다.

- |   | ㉠   | ㉡   | ㉢   |
|---|-----|-----|-----|
| ① | 안전성 | 수익성 | 유동성 |
| ② | 안전성 | 유동성 | 수익성 |
| ③ | 유동성 | 수익성 | 안전성 |
| ④ | 수익성 | 안전성 | 유동성 |
| ⑤ | 수익성 | 유동성 | 안전성 |

## 06

㉠에 대한 옳은 설명만을 <보기>에서 고른 것은?

원래 '서류 가방' 혹은 '자료집'이라는 의미이지만, 주식 투자에서 위험을 낮추고 수익을 극대화하기 위한 측면에서 여러 주식 종목에 분산하여 투자하는 방법, 혹은 돈을 투자한 대상의 목록을 의미합니다. 즉, 돈을 골고루 나누어 분산 투자하는 것을 의미하는 것인데, 이를  ㉠  (이)라고 합니다. 이에 대해 발표해 볼까요?



〈보기〉

- ㄱ. ㉠은 '포트폴리오 투자'이다.
- ㄴ. '달걀을 한 바구니에 담지 마라.'는 ㉠을 의미한다.
- ㄷ. 중장년기에 안전성보다 수익성만을 중시하는 투자 방식은 ㉠에 적합하다.
- ㄹ. ㉠은 수익성을 높이고 유동성을 낮추기 위한 전략에 해당한다고 볼 수 있다.

- |        |        |        |
|--------|--------|--------|
| ① ㄱ, ㄴ | ② ㄱ, ㄷ | ③ ㄴ, ㄷ |
| ④ ㄴ, ㄹ | ⑤ ㄷ, ㄹ |        |

## 07

다음 대화에 대한 옳은 설명만을 <보기>에서 고른 것은?



교사

재무 설계의 과정은 ㉠재무 목표 설정, ㉡재무 상태 분석, ㉢행동 계획 수립, ㉣행동 계획 실행, ㉤평가와 수정 등의 단계를 거쳐 이루어집니다. 이에 대해 발표해 볼까요?

일반적으로 ㉠은 재무 설계의 과정 중 첫 번째 단계에 해당합니다.



갑

(가)



교사

갑과 을 중 한 명만 옳게 발표하였습니다.



을

〈보기〉

- ㄱ. ㉡에서 자산과 부채 현황을 파악한다.
- ㄴ. ㉢에서 재무 목표의 우선순위를 설정한다.
- ㄷ. (가)에 '㉤과 달리 ㉠에서 결산을 토대로 결과 평가와 계획 수정이 이루어집니다.'가 들어갈 수 있다.
- ㄹ. (가)에 '㉤과 달리 ㉠에서 수립한 계획에 따른 수입, 지출, 저축 등에 대한 계획을 실행합니다.'가 들어갈 수 있다.

- |        |        |        |
|--------|--------|--------|
| ① ㄱ, ㄴ | ② ㄱ, ㄷ | ③ ㄴ, ㄷ |
| ④ ㄴ, ㄹ | ⑤ ㄷ, ㄹ |        |

## 08

일줄 친 ㉠~㉣에 대한 설명으로 옳지 않은 것은?

- 일반적으로 한국은행이 기준 금리를 인상하면 시중 은행은 예금 금리와 대출 금리를 인상한다. 금리가 인상되면 다양한 금융 자산을 보유한 투자자의 경우, ㉠투자자가 보유한 자산의 비중이 변화가 발생한다.
- 일반적으로 ㉡원/달러 환율이 상승하면 수출에 변동이 발생한다. 또한 이와 관련하여 ㉢유리한 사람과 ㉣불리한 사람이 발생한다.

- ① 위험성이 높은 금융 자산의 비중 감소는 ㉠에 해당한다.
- ② 이자 수익을 기대할 수 있는 금융 자산의 비중 증가는 ㉠에 해당한다.
- ③ ㉡은 미국에 대한 우리나라의 수출이 증가하는 요인이다.
- ④ 미국에 유학생 자녀를 보내 학비를 부담하는 우리나라 학부모는 ㉢에 해당하지 않는다.
- ⑤ 한국으로 여행을 온 미국인 여행객은 ㉣에 해당한다.

# 1등급 완성 문제



## 01

A~C는 질문에 따라 금융 자산을 구분한 것이다. A~C의 일반적인 특징에 대한 옳은 설명만을 <보기>에서 고른 것은? (단, A~C는 각각 정기 예금, 주식, 채권 중 하나임.)

질문	A	B	C
시세 차익을 기대할 수 있습니까?	예	아니요	㉠
배당 수익을 기대할 수 있습니까?	예	㉡	아니요

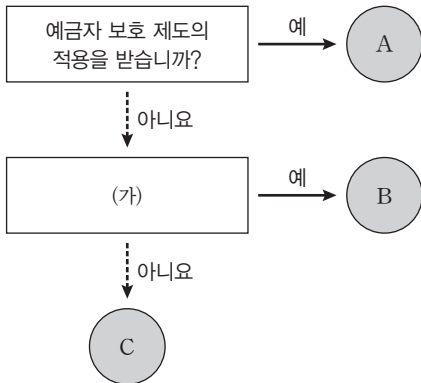
보기

- ㄱ. ㉠과 ㉡은 모두 '아니요'이다.
- ㄴ. A는 B보다 수익성이 높다.
- ㄷ. B와 달리 C는 만기가 있다.
- ㄹ. 기업은 A와 C를 모두 발행할 수 있다.

- ① ㄱ, ㄴ                      ② ㄱ, ㄷ                      ③ ㄴ, ㄷ
- ④ ㄴ, ㄹ                      ⑤ ㄷ, ㄹ

## 02

그림은 금융 자산 A~C를 질문에 따라 구분한 것이다. 이에 대한 옳은 설명만을 <보기>에서 있는 대로 고른 것은? (단, A~C는 각각 정기 예금, 주식, 채권 중 하나임.)



보기

- ㄱ. B가 주식이라면 (가)에 '정부가 발행할 수 있습니까?'가 들어갈 수 있다.
- ㄴ. (가)가 '배당 수익을 기대할 수 있습니까?'이면 C는 이자 수익을 기대할 수 있다.
- ㄷ. (가)가 '만기가 있습니까?'이면 일반적으로 C는 A보다 안전성이 낮은 금융 자산이다.
- ㄹ. (가)가 '이자 수익을 기대할 수 있습니까?'이면 B는 회사 경영에 참여할 수 있는 권리를 부여받는 금융 자산이다.

- ① ㄱ, ㄷ                      ② ㄱ, ㄹ                      ③ ㄴ, ㄷ
- ④ ㄱ, ㄴ, ㄹ                      ⑤ ㄴ, ㄷ, ㄹ

## 03

㉠, ㉡에 들어갈 내용으로 옳은 것은?

일반적으로 채권은 확정된 이자로 발행하기 때문에 만기가 되었을 때 받는 원리금은 정해져 있다. 따라서 만기에 11,000원을 받을 수 있는 채권을 9,000원에 구입한 사람과 9,500원에 구입한 사람이 있다면 9,000원 구입한 사람의 수익이 더 ㉠. 따라서 채권 가격이 싸면 그만큼 채권 수익률은 ㉡.

- |   |    |      |
|---|----|------|
|   | ㉠  | ㉡    |
| ① | 크다 | 상승한다 |
| ② | 크다 | 하락한다 |
| ③ | 작다 | 상승한다 |
| ④ | 작다 | 하락한다 |
| ⑤ | 작다 | 변함없다 |

## 04

교사의 질문에 대한 답변으로 옳은 것은?

- ① A가 정기 예금이고, B가 주식이라면 ㉠에 수익성, ㉡에 안전성이 들어갈 수 있습니다.
- ② A가 주식이고, B가 정기 예금이라면 ㉠에 안전성, ㉡에 유동성이 들어갈 수 있습니다.
- ③ ㉠이 수익성이고, ㉡이 안전성이라면 B와 달리 A는 배당 수익을 기대할 수 있습니다.
- ④ ㉠이 안전성이고, ㉡이 수익성이라면 A와 달리 B는 시세 차익을 기대할 수 없습니다.
- ⑤ ㉠이 안전성이고, ㉡이 수익성이라면 A와 달리 B는 이자 수익을 기대할 수 있습니다.



# 16 국제 분업과 무역

## 1 국제 분업 및 무역의 필요성

### 01 국제 분업과 무역의 의미와 특징

#### 1. 국제 분업과 무역의 의미

국제 분업	각 국가가 주어진 환경에서 가장 적합한 상품을 특화하여 생산하는 것 <small>(TIP) 특정 재화만을 전문적으로 생산하는 것을 의미함.</small>
무역	국경을 넘어 국가 간에 서로 필요한 재화와 서비스, 자본, 기술 등을 거래하는 경제활동

#### 2. 국제 분업과 무역의 특징

- (1) 거의 모든 국가에서 이루어지는 경제활동
- (2) 자국에서 얻기 힘든 상품을 국제 거래를 통해 획득 가능
- (3) 각 국가가 무역에 유리한 것을 특화하여 교역을 하면 교역에 참여한 국가는 모두 이익 획득 가능
- (4) 오늘날에는 재화를 비롯하여 서비스와 기술, 생산 요소 등 다양한 분야에서 거래 전개
- (5) 각국의 경제 상황과 국민의 일상적인 경제생활에 큰 영향을 미침.

### 02 국제 분업과 무역의 필요성

#### 1. 국제 분업과 무역이 발생하는 이유

- (1) 국가마다 보유한 생산 요소의 종류와 양의 차이
  - ① 자연환경의 차이: 국가 간 기후나 지형 등의 차이
  - ② 보유 자원의 차이: 국가 간 보유 자원의 양과 질의 차이
  - ③ 사회적 조건의 차이: 국가 간 인구, 경제 규모, 교육 수준 등의 차이 (TIP) 생산 요소의 기술 차이가 발생하는 요인이야.
- (2) 국가별 생산비 차이: 국가마다 보유한 생산 요소의 차이에 따른 생산비 차이 발생 → 각국은 생산비를 절감하여 효율적인 생산을 하기 위해 무역 추진

#### 2. 무역의 발생 원리

- (1) 절대 우위 (TIP) 절대 우위에서의 생산 비용은 절대적 생산비를 의미하며, 비교 우위에서의 생산 비용은 상대적인 생산비를 의미함.
- |        |   |
|--------|---|
| 의미     | 특정 상품의 생산 비용이 다른 국가보다 절대적으로 작은 것            |
| 무역의 발생 | 국가별로 절대 우위를 가지는 상품을 특화하여 무역을 하면 양국 모두 이득 발생 |
| 한계     | 한 국가가 모든 상품에 절대 우위를 갖는 경우 발생하는 무역에 대해 설명 불가 |

- (2) 비교 우위 자료 01 자료 02

의미	상품을 생산하는 기회비용이 다른 나라보다 작은 경우
무역의 발생	한 국가가 다른 국가에 비해 상품 단위당 생산의 기회비용이 작은 상품을 특화하여 수출하고, 상품 단위당 생산의 기회비용이 큰 상품을 수입하면 양국 모두 이득 발생
의의	한 국가가 모든 상품의 절대 우위를 가지는 경우 발생하는 무역에 대해 설명 가능

## 2 지속가능발전과 국제 무역의 방안

### 01 국제 무역의 확대 자료 03

#### 1. 오늘날 국제 무역의 흐름

세계화의 확대	세계화 및 교통·통신 수단 발달로 재화, 서비스, 생산 요소 등의 자유로운 이동 확대 및 국제 교역량 증가
자유 무역의 확대	<ul style="list-style-type: none"> <li>• 세계 무역 기구(WTO) 출범: 다양한 분야의 무역 규제 완화 <small>(TIP) 시장의 원리에 따라 자유롭게 무역이 이루어질 때 국가에 이익이 된다는 주장이야.</small></li> <li>• 자유 무역 협정(FTA) 체결: 개별 국가 간 무역 장벽 완화 및 거래 활성화</li> </ul>
국가 간 상호 의존 관계 강화	국가, 기업 간 경쟁이 심화되어 국가 간 경제 협력의 중요성 상승 → 지리적으로 인접해 있거나 경제적 상호 의존도가 높은 국가들이 경제 협력체를 결성하거나 경제 블록을 형성 <small>(TIP) 성장 잠재력은 있지만 아직 경쟁력을 갖추지 못한 산업을 의미함.</small>
보호 무역주의 강화	자유 무역의 한계로 국내 유치산업을 보호하기 위해 관세 부과 및 수입을 규제하는 방식의 보호 무역주의를 내세우는 국가가 등장

#### 2. 국제 무역의 확대가 미치는 영향

긍정적 영향	<ul style="list-style-type: none"> <li>• 소비자: 낮은 가격으로 다양한 상품과 서비스를 소비할 수 있는 기회 확대 <small>(TIP) 생산 규모가 커질수록 제품 생산에 따른 평균 비용이 더 감소하는 현상이야.</small></li> <li>• 기업: 경쟁을 통한 기술 발전의 기회 확대, 규모의 경제를 실현하여 생산의 효율성 제고</li> <li>• 국가: 자원 및 기술력 부족 문제 해결, 국가별 일자리 창출 및 국내 경기 활성화</li> </ul>
부정적 영향	<ul style="list-style-type: none"> <li>• 무역 의존도가 높아져 전쟁, 무역 분쟁 등이 발생하면 전 세계가 경제 불안에 노출</li> <li>• 선진국과 개발 도상국 간 빈부 격차 심화</li> <li>• 생산비를 줄이는 과정에서 환경 오염 및 파괴 초래, 자원 고갈 문제 발생</li> <li>• 불공정한 무역으로 노동자의 열악한 노동 환경 문제 발생</li> </ul>

### 02 지속가능발전을 위한 국제 무역 방안 자료 04

1. 공정한 무역의 이익 공유: 세계 시장의 이익 고려, 투명하고 책임감 있는 거래, 생산자와 소비자의 상호 존중, 공정 무역 실천 등
2. 지속가능한 생산 및 소비를 촉진하기 위한 노력: 친환경적 생산 및 운송 방식 도입, 대체 에너지 사용, 환경 관련 국제 협약 이행, 열악한 노동 조건 및 노동 환경 개선 등
3. 국가 간 불평등 완화: 선진국이 개발 도상국에 기술 이전 및 협력
4. 경제 주체의 노력
  - (1) 정부: 환경 보호를 위한 규제 강화, 친환경 기술 개발 지원, 노동 조건 개선을 위한 법과 제도 마련
  - (2) 기업: 친환경 생산 기술 및 상품 개발, ESG 경영 실시
  - (3) 소비자: 지속가능발전에 적극적으로 협조하는 기업의 제품을 우선으로 구매하는 윤리적 소비 실천 (TIP) 기업의 사회적 책임의 중요성을 일컫는 용어로 환경(E), 사회(S), 지배 구조(G)의 앞글자만 따 말이야.

# 중요 자료 분석

## 자료 01 최대 생산량이 제시된 경우의 비교 우위 계산

표는 갑국과 을국의 X재와 Y재의 최대 생산 가능량을 나타낸다. 단, 갑국과 을국의 생산 요소는 노동뿐이며 노동의 양과 1일 생산 시간은 갑국과 을국이 같다.

구분	X재의 최대 생산량(개)	Y재의 최대 생산량(개)
갑국	100	200
을국	300	900

갑국과 을국의 각 재화 1개 생산에 대한 기회비용은 아래 표와 같다.

구분	X재 1개 생산에 대한 기회비용	Y재 1개 생산에 대한 기회비용
갑국	Y재 2개	X재 1/2개
을국	Y재 3개	X재 1/3개

**자료 분석** 최대 생산량이 제시되는 경우 재화 1개 생산에 대한 기회비용은 생산을 포기하는 재화의 최대 생산량을 생산하기로 한 재화의 최대 생산량으로 나눈 값이다. 갑국은 X재, 을국은 Y재 생산에 비교 우위가 있다. 이때 양국이 교역으로 이익을 보기 위해서는 각자 특화하는 상품의 국제 가격이 기회비용보다 유리한 조건에서 형성되어야 하므로, 갑국은 X재 1개의 국제 가격이 Y재 2개보다 커야 하고, 을국은 X재 1개의 국제 가격이 Y재 3개보다 작아야 한다.

- (1) X재 1개 생산의 기회비용은 갑국이 을국보다 작다. (O, X)
- (2) Y재 최대 생산 가능량은 을국이 갑국보다 크다. (O, X)
- (3) 절대 우위로 갑국과 을국 사이에 발생하는 무역을 설명할 수 있다. (O, X)

## 자료 02 생산 비용이 제시된 경우의 비교 우위 계산

표는 갑국과 을국의 X재와 Y재 1단위 생산에 필요한 노동량을 나타낸다. 단, 갑국과 을국의 생산 요소는 노동뿐이며 노동의 양과 1일 생산 시간은 갑국과 을국이 같다.

구분	재화 1단위 생산 당 필요한 노동 투입량(명)	
	X재	Y재
갑국	100	120
을국	120	60

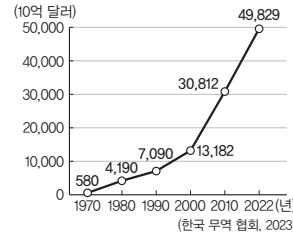
갑국과 을국의 각 재화 1개 생산에 대한 기회비용은 아래 표와 같다.

구분	X재 1개 생산에 대한 기회비용	Y재 1개 생산에 대한 기회비용
갑국	Y재 5/6개	X재 6/5개
을국	Y재 2개	X재 1/2개

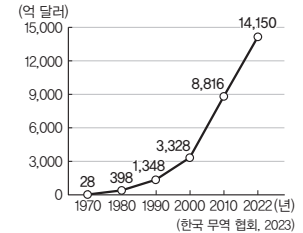
**자료 분석** 생산 비용이 제시되는 경우 재화 1개 생산에 대한 기회비용은 재화의 생산에 필요한 자원의 양을 생산을 포기하는 재화를 생산하는 데 필요한 자원의 양으로 나눈 값이다. 갑국은 X재, 을국은 Y재 생산에 비교 우위가 있다. 이때 양국이 모두 이익을 볼 수 있는 교역 범위는 두 나라의 기회비용 사이에서 결정되므로 X재 1개의 국제 가격이 Y재 5/6개보다 크고, Y재 2개보다 작아야 한다. **→(E) 각자 비교 우위가 있는 상품을 특화하여 교역하면, 교역 전에 비해 수입하는 재화의 소비의 기회비용이 증가해.**

- (1) 갑국은 X재 생산에, 을국은 Y재 생산에 비교 우위를 가진다. (O, X)
- (2) X재 1개와 Y재 1개를 교환하는 조건이면 갑국은 무역을 하려고 하지 않을 것이다. (O, X)

## 자료 03 국제 무역의 확대



○ 세계의 무역 규모 추이



○ 우리나라의 무역 규모 추이

**자료 분석** 오늘날 세계와 우리나라의 무역 규모는 1970년대에 비해 크게 증가하였다. 세계화와 교통·통신 기술이 발달하며 무역 품목이 서비스, 지식 재산권, 생산 요소 등으로 확대되었고, 세계 무역 기구(WTO)의 출범, 자유 무역 협정(FTA) 체결 등으로 자유 무역이 확대되었다. 이로 인해 국가 간 무역 장벽이 완화되어 교류와 협력이 크게 늘어난 반면 국제 경쟁력 확보에 실패한 국내 기업의 성장 기회 박탈과 기술 종속, 환경 오염 등의 문제가 발생하기도 하였다. **→(E) 국가 간 무역 장벽에는 관세, 수출품에 대한 규제 등이 있어.**

- (1) 오늘날 국제 무역 규모는 지속적으로 증가하였다. (O, X)
- (2) 세계 무역 기구(WTO) 출범과 자유 무역 협정(FTA)의 체결은 보호 무역주의를 심화하는 결과를 낳았다. (O, X)

## 자료 04 공정 무역

소외된 생산 노동자를 위한 기회 제공	경제적으로 취약한 생산 노동자가 불안정한 상황이나 빈곤에서 벗어날 수 있도록 도움.
공정한 무역 관행	이윤을 추구하는 것과 함께 소외된 생산자의 상황을 고려하여 신뢰를 구축하고 유지함.
기후변화에 대응하는 환경 보호	지속가능한 생산을 위해 이산화 탄소의 배출을 줄이고, 산업 폐기물이나 플라스틱 등의 사용을 줄이기 위해 노력함.
아동 학대 및 강제 노동 금지	국제 연합(UN) 아동 권리 협약과 아동 노동에 대한 국가의 법을 준수함.

**자료 분석** 공정 무역은 세계 무역 시장에서 공정하지 못한 무역 관행을 개선하기 위해 대화와 투명성, 존중에 기초하여 국제 무역에서 더욱 공평하고 정의로운 관계를 추구하는 국제적 수준의 사회 운동이다. 공정 무역을 통해 개발 도상국의 생산자에게는 더 좋은 무역 조건을 제공하고, 노동자에게는 정당한 대가를 제공하여 지속가능발전에 기여한다.

- (1) 생산 노동자의 인권을 보호하는 것은 지속가능발전을 위한 무역 차원의 노력이다. (O, X)
- (2) 생산자에게 공정한 가격을 지불하는 것은 규모의 경제를 실천하는 사례이다. (O, X)

## 01

다음 수업 장면에서 <상황 1>, <상황 2>에 대한 설명으로 옳은 것은?

다음 자료에는 X재와 Y재만을 생산하는 갑국과 을국이 각 재화 1단위를 생산하는 데 필요한 노동자 수가 상황별로 제시되어 있습니다. 이 자료를 분석하여 무역의 발생 원리에 대해 알아보십시오.

<상황 1>			<상황 2>		
구분	X재	Y재	구분	X재	Y재
갑국	1명	2명	갑국	1명	2명
을국	2명	1명	을국	2명	3명



- <상황 1>에서 갑국은 X재와 Y재 생산에 모두 절대 우위를 갖는다.
- <상황 2>에서 무역이 발생하는 이유를 절대 우위로 설명할 수 있다.
- <상황 2>에서 X재 1단위 생산을 위해 포기해야 하는 Y재의 양은 갑국이 을국보다 많다.
- <상황 1>과 <상황 2>에서 Y재를 특화해서 생산하는 나라는 모두 갑국이다.
- <상황 1>과 <상황 2> 모두에서 무역이 발생하는 이유를 비교 우위로 설명할 수 있다.

### 해결 Flow

국가별 절대 우위 여부를 판단 후 특화할 상품을 파악한다.

한 국가가 두 재화 모두에 절대 우위를 가지는 경우, 비교 우위의 원리를 이용하여 특화 및 교환을 파악한다.

### 자료 분석

<상황 1>의 경우 갑국은 X재, 을국은 Y재에 절대 우위를 가진다. <상황 2>의 경우 갑국이 X재 생산과 Y재 생산 모두에 절대 우위를 가진다. <상황 2>에서 갑국과 을국의 X재 1개 생산의 기회비용은 각각 Y재 1/2개, Y재 2/3개이고, 갑국과 을국의 Y재 1개 생산의 기회비용은 각각 X재 2개, X재 3/2개이다. 따라서 갑국은 X재 생산에, 을국은 Y재 생산에 비교 우위를 가진다.

### 선지 분석

- <상황 1>에서 갑국은 X재 생산에, 을국은 Y재 생산에 절대 우위를 가진다.
- <상황 2>에서 갑국은 X재 생산과 Y재 생산 모두에 절대 우위를 가지므로 무역 발생 이유는 비교 우위로만 설명할 수 있다.
- <상황 2>에서 X재 1단위 생산을 위해 포기해야 하는 Y재의 양은 갑국이 을국보다 적다.
- <상황 1>과 <상황 2>에서 Y재를 특화하는 나라는 모두 을국이다.
- ✓ <상황 1>은 절대 우위나 비교 우위로 무역 발생 이유를 설명할 수 있고, <상황 2>는 비교 우위로 무역 발생 이유를 설명할 수 있다.

## 02

다음 자료에 대한 옳은 설명만을 <보기>에서 고른 것은?

X재와 Y재는 모두 생활에 반드시 필요한 재화들이다. 표는 X재와 Y재만을 생산할 수 있는 갑국과 을국에서 각 재화 1개당 생산에 필요한 노동 시간을 나타낸다. 갑국과 을국의 유일한 생산 요소인 노동의 총 시간은 양국에서 같고, 노동의 이동은 허용되지 않는다. 교역은 두 나라가 모두 X재와 Y재를 둘 다 교역 이전보다 많이 소비할 수 있을 때만 이루어진다. 교역은 양국 간에만 할 수 있으며 거래 비용은 없다.

구분	X재	Y재
갑국	1시간	3시간
을국	4시간	4시간

[보기]

- 갑국에서 생산할 수 있는 X재와 Y재의 모든 조합은 을국에서 생산 가능하다.
- 생산 가능한 X재의 최대량은 갑국이 을국의 4배이다.
- 교역을 한다면 을국은 교역 이전에 비해 Y재 생산량을 늘릴 것이다.
- 교역을 한다면 갑국에서 Y재로 표시한 X재 소비의 기회비용은 교역 이전에 비해 감소한다.

### 해결 Flow

국가별 절대 우위 여부를 판단 후 특화할 상품을 파악한다.

절대 우위로 무역의 발생 이유를 설명할 수 없을 경우, 비교 우위의 원리를 이용하여 특화 및 교환을 파악한다.

### 자료 분석

자료에서 갑국이 X재와 Y재 생산 모두에 절대 우위를 가진다. 갑국의 X재 1개 생산의 기회비용은 Y재 1/3개이고, 을국의 X재 1개 생산의 기회비용은 Y재 1개이다. 따라서 갑국은 X재 생산에, 을국은 Y재 생산에 비교 우위를 가진다.

### 선지 분석

- 갑국이 X재 생산과 Y재 생산 모두에 절대 우위를 가지므로 갑국에서 생산할 수 있는 X재와 Y재의 모든 조합은 을국에서 생산할 수 없다.
- ✓ 나. X재 1개를 생산하기 위해 갑국은 1시간, 을국은 4시간이 필요하다. 따라서 생산 가능한 X재의 최대량은 갑국이 을국의 4배이다.
- ✓ 다. 갑국은 X재 생산에, 을국은 Y재 생산에 비교 우위를 가진다. 따라서 갑국은 X재를 특화하고, 을국은 Y재를 특화하여 교역하면 이익을 볼 수 있으므로 교역 이전에 비해 을국은 Y재 생산량을 늘릴 것이다.
- 라. 갑국은 X재 생산에 비교 우위를 가지므로 갑국이 X재 1개를 을국에 수출하고 수입하는 Y재의 양은 Y재 1/3개보다 많으므로 갑국의 X재 1개 소비의 기회비용은 교역 후 증가하게 된다.

- 가, 나
- 가, 다
- 나, 다
- 나, 라
- 다, 르

### 01-1 동형 문제

다음 자료에 대한 옳은 설명만을 <보기>에서 고른 것은?

다음 자료에는 X재와 Y재만을 생산하는 갑국과 을국이 각 재화 1단위를 생산하는 데 필요한 노동자 수가 상황별로 제시되어 있습니다. 이 자료를 분석하여 무역의 발생 원리에 대해 알아보십시오.

〈상황 1〉			〈상황 2〉		
구분	X재	Y재	구분	X재	Y재
갑국	1명	2명	갑국	1명	2명
을국	2명	1명	을국	2명	3명



〈보기〉

- ㄱ. 〈상황 1〉은 절대 우위로 무역의 발생 원리를 설명할 수 없다.
- ㄴ. 〈상황 1〉에서 갑국은 X재에, 을국은 Y재에 각각 특화한다.
- ㄷ. 〈상황 2〉에서 Y재 1개 생산의 기회비용은 갑국이 을국보다 크다.
- ㄹ. 〈상황 2〉에서 을국이 X재와 Y재 생산 모두에 절대 우위를 가진다.

- ① ㄱ, ㄴ                      ② ㄱ, ㄷ                      ③ ㄴ, ㄷ
- ④ ㄴ, ㄹ                      ⑤ ㄷ, ㄹ

### 01-2 동형 문제

다음 자료에 대한 옳은 설명만을 <보기>에서 고른 것은?

다음 자료에는 주어진 생산 요소를 모두 사용하여 X재와 Y재만을 생산하는 갑국과 을국이 재화 1개를 생산하는 데 필요한 노동자 수가 제시되어 있습니다. 양국은 비교 우위에 있는 상품만을 무역의 이익이 발생하는 조건에서 상호 교역을 합니다. 양국 모두 생산 요소는 노동만 있으며 거래 비용은 없고 양국 간에만 거래합니다.

구분	X재	Y재
갑국	12명	12명
을국	10명	5명



〈보기〉

- ㄱ. 갑국은 X재와 Y재 생산에 절대 우위를 가진다.
- ㄴ. X재 1개 생산의 기회비용은 갑국이 을국보다 작다.
- ㄷ. 비교 우위에 따르면 갑국은 Y재 생산에, 을국은 X재 생산에 특화한다.
- ㄹ. X재와 Y재의 교환 비율이 1 : 1.5이면 갑국과 을국 모두 무역을 하려고 할 것이다.

- ① ㄱ, ㄴ                      ② ㄱ, ㄷ                      ③ ㄴ, ㄷ
- ④ ㄴ, ㄹ                      ⑤ ㄷ, ㄹ

### 02-1 동형 문제

다음 자료에 대한 옳은 설명만을 <보기>에서 있는 대로 고른 것은?

X재와 Y재는 모두 생활에 반드시 필요한 재화들이다. 표는 X재와 Y재만을 생산할 수 있는 갑국과 을국에서 각 재화 1개당 생산에 필요한 노동 시간을 나타낸다. 갑국과 을국의 유일한 생산요소인 노동의 총 시간은 양국에서 같고, 노동의 이동은 허용되지 않는다. 교역은 두 나라가 모두 X재와 Y재를 둘 다 교역 이전보다 많이 소비할 수 있을 때만 이루어진다. 교역은 양국 간에만 할 수 있으며 거래 비용은 없다.

구분	X재	Y재
갑국	1시간	3시간
을국	4시간	4시간

〈보기〉

- ㄱ. 절대 우위로 무역의 발생 원리를 설명할 수 있다.
- ㄴ. Y재 1개 생산의 기회비용은 갑국보다 을국이 2배 적다.
- ㄷ. X재 1개 생산을 위해 포기해야 하는 Y재의 양은 갑국이 을국보다 적다.
- ㄹ. 비교 우위에 따르면 교역 후 갑국의 Y재로 표시한 X재 1개 소비의 기회비용은 증가한다.

- ① ㄱ, ㄷ                      ② ㄱ, ㄹ                      ③ ㄴ, ㄷ
- ④ ㄱ, ㄴ, ㄹ                  ⑤ ㄴ, ㄷ, ㄹ

### 02-2 동형 문제

다음 자료에 대한 설명으로 옳은 것은?

표는 주어진 생산 요소를 모두 사용하여 X재와 Y재만을 생산하는 갑국과 을국의 각 재화 1개당 생산에 필요한 노동 시간을 나타낸다. 갑국과 을국의 유일한 생산요소인 노동의 총 시간은 양국에서 같고, 노동의 이동은 발생하지 않는다. 교역은 양국이 모두 X재와 Y재를 둘 다 교역 이전보다 많이 소비할 수 있을 때만 이루어진다. 교역은 양국 간에만 이루어지며 거래 비용은 없다.

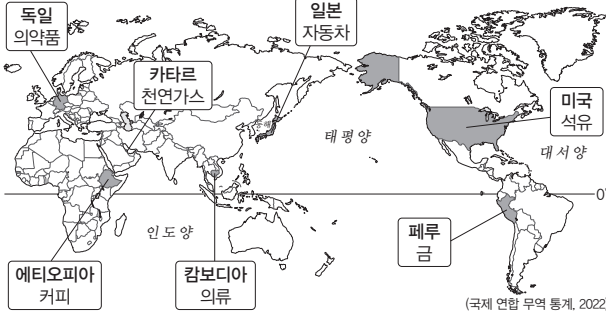
구분	X재	Y재
갑국	2시간	4시간
을국	8시간	8시간

- ① 갑국의 X재 1개 생산의 기회비용은 Y재 2개이다.
- ② 비교 우위에 따르면 을국은 X재 생산에 특화한다.
- ③ 을국은 X재 생산과 Y재 생산 모두에 절대 우위를 가진다.
- ④ 교역을 한다면 갑국은 교역 이전에 비해 X재 생산량을 늘릴 것이다.
- ⑤ 교역을 한다면 을국에서 X재로 표시한 Y재 1개 소비의 기회비용은 교역 이전에 비해 감소할 것이다.

# 수능 기본 문제

## 01

지도는 국가별 주요 수출품을 나타낸다. 주요 수출품이 국가별로 다른 요인으로 적절하지 않은 것은?



- ① 국가별 자연환경의 차이 때문이다.
- ② 국가별 기술 수준의 차이 때문이다.
- ③ 국가별 노동 인구의 차이 때문이다.
- ④ 국가별 국내 경제 순환 체제 구축 차이 때문이다.
- ⑤ 다른 국가에 비해 더 적은 비용으로 생산 가능한 상품이 다르기 때문이다.

## 02

다음 자료에 대한 설명으로 옳은 것은?

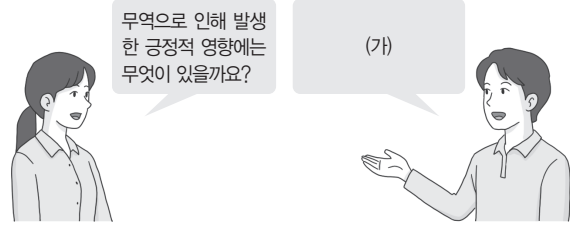
주어진 생산 요소를 모두 사용하여 X재와 Y재만 생산하는 갑국과 을국은 노동만을 사용하여 재화를 생산한다. 표는 갑국과 을국의 X재와 Y재 각각의 최대 생산 가능량을 나타낸다. 양국은 모두 비교 우위가 있는 재화만을 생산하여 양국 모두 이익이 발생하는 교환 비율에 따라 거래 비용 없이 양국 간에만 거래한다.

구분	X재 최대 생산 가능량(개)	Y재 최대 생산 가능량(개)
갑국	10	50
을국	30	180

- ① 절대 우위로 무역의 발생 원리를 설명할 수 있다.
- ② X재 1개 생산의 기회비용은 갑국이 을국보다 크다.
- ③ 을국의 Y재 1개 생산의 기회비용은 X재 6개이다.
- ④ 갑국과 을국이 X재와 Y재를 1 : 1로 교환한다면 갑국과 달리 을국은 무역을 하려고 할 것이다.
- ⑤ 갑국과 을국이 X재와 Y재를 1 : 2로 교환한다면 두 국가 모두 무역의 이익이 발생할 것이다.

## 03

(가)에 들어갈 내용으로 옳은 것만을 <보기>에서 고른 것은?



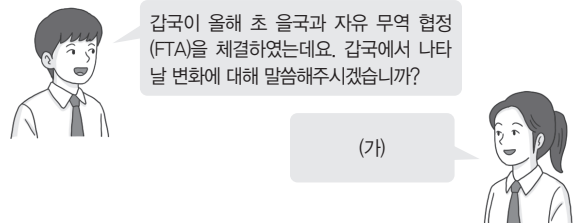
<보기>

- ㄱ. 무역으로 인해 소비자가 접할 수 있는 상품의 종류가 다양해졌습니다.
- ㄴ. 문화 교류의 활성화에 따른 지구촌 구성원의 삶의 질이 향상되었습니다.
- ㄷ. 선진 기술 도입에 따라 공장이 많이 생기면서 환경 오염 문제가 심각해졌습니다.
- ㄹ. 무역 확대에 따라 국가 간 빈부 격차가 심화되고 생산 노동자의 인권이 침해되는 사례가 증가하였습니다.

- ① ㄱ, ㄴ                      ② ㄱ, ㄷ                      ③ ㄴ, ㄷ
- ④ ㄴ, ㄹ                      ⑤ ㄷ, ㄹ

## 04

(가)에 들어갈 수 있는 내용으로 가장 적절한 것은?



- ① 갑국의 국제 교역량이 감소할 것입니다.
- ② 갑국의 자국 산업 보호 정책이 강화될 것입니다.
- ③ 갑국의 을국에 대한 관세 인하 정책이 시행될 것입니다.
- ④ 갑국에서 수입품에 대한 수입 할당제가 강화될 것입니다.
- ⑤ 갑국의 경쟁력이 약한 기업에 대한 정부 보조금이 증가할 것입니다.

## 05

표는 무역의 일반적인 특징을 나타내는 질문에 따라 A, B를 구분한 것이다. 이에 대한 옳은 설명만을 <보기>에서 고른 것은? (단, A, B는 각각 자유 무역과 보호 무역 중 하나임.)

질문	A	B
자국 산업 보호를 목적으로 합니까?	예	아니요
(가)	아니요	예

보기

- ㄱ. A는 보호 무역, B는 자유 무역이다.
- ㄴ. A와 달리 B는 관세 인하의 요인이다.
- ㄷ. B와 달리 A는 규모의 경제 실현에 용이하다.
- ㄹ. (가)에 '수입 할당제 확대 요인입니까?'가 들어갈 수 있다.

- ① ㄱ, ㄴ                      ② ㄱ, ㄷ                      ③ ㄴ, ㄷ
- ④ ㄴ, ㄹ                      ⑤ ㄷ, ㄹ

## 06

밑줄 친 ㉠에 대한 설명으로 옳은 것만을 <보기>에서 고른 것은?

유럽과 미국은 기후변화에 대응하기 위해 ㉠탄소 국경세 부과를 추진하였다. 탄소 국경세는 이산화 탄소 배출 규제가 약한 국가가 이산화 탄소 배출 규제가 강한 국가로 재화나 서비스를 수출할 때 추가로 부과되는 무역 관세이다.

보기

- ㄱ. 친환경 기업의 수출 경쟁력이 강화된다.
- ㄴ. 제품의 생산 과정에서 발생하는 자원 고갈 문제가 가속화된다.
- ㄷ. 환경 파괴에 따른 지속가능발전 저해 문제를 해결하기 위한 방안이다.

- ① ㄱ                              ② ㄴ                              ③ ㄱ, ㄷ
- ④ ㄴ, ㄷ                      ⑤ ㄱ, ㄴ, ㄷ

## 07

제시문에 나타난 문제점을 해결하기 위한 무역의 방안으로 가장 적절한 것은?

서아프리카에 있는 코트디부아르의 주요 수출품은 초콜릿의 주요 원료인 코코아 및 관련 제품이다. 코트디부아르산 코코아는 전 세계 공급량의 45%를 차지한다. 이곳에서 코코아 관련 산업은 저임금, 아동 노동, 구조적 빈곤 등의 문제를 가져왔다. 2020년 영국의 한 언론사는 코트디부아르 등에서 5~17세 아동 및 청소년 43%가 카카오 농장에서 일하고 있다고 보도하였다. 해마다 초콜릿 소비가 늘어나는 크리스마스나 밸런타인데이가 가까워지면 이곳에서 일하는 아동은 제대로 먹지도 쉬지도 못하거나 임금을 받지 못한 채 가혹한 노동을 강요당한다는 비판이 이어진다.

- ① 제품 생산 과정에서 화석 연료의 사용량을 줄인다.
- ② 제품 생산 과정에서 발생하는 환경 오염 물질을 줄인다.
- ③ 규모의 경제를 실현하기 위해 싼 가격으로 상품을 판매한다.
- ④ 소비자의 상품 선택의 폭을 넓히기 위해 무관세 정책을 시행한다.
- ⑤ 생산자에게 정당한 대가를 지급하는 공정 무역 제품을 구매하는 윤리적 소비를 확대한다.

## 08 통합형

밑줄 친 ㉠~㉣에 대한 설명으로 옳은 것은?

음식은 세상과 연결되어 있다는 말이 있다. 다음 두 사례는 이를 보여 주고 있다. 최근 러시아-우크라이나 간 전쟁으로 식용유의 값이 요동쳤다. ㉠해바라기씨유 최대 생산국인 두 나라 간의 수출길이 차단되면서 ㉡해바라기씨유의 대체제인 팜유 가격도 상승한 것이다. 이 외에도 초콜릿과 바나나 등 ㉢열대 기후 지역에서 대규모로 재배되어 다국적 기업이 가공, 유통하는 식품을 둘러싼 ㉣인권 침해, 환경 파괴 문제 등이 나타나고 있다.

- ① ㉠으로 인해 해바라기씨유의 국제 가격은 하락할 것이다.
- ② ㉡은 팜유 주요 수입국의 팜유 수입량 증가 요인이다.
- ③ 오아시스 농업과 관개 농업 중심의 생활양식은 ㉢의 특징에 해당한다.
- ④ ㉣은 보호 무역과 달리 자유 무역에서만 해결할 수 있다.
- ⑤ 지속가능한 개발은 ㉣의 해결 방안이 될 수 있다.

# 1등급 완성 문제



## 01

밑줄 친 ㉠~㉣에 대한 설명으로 옳은 것은?

무역은 ㉠국가별로 다르게 나타나는 기술 수준의 차이 혹은 노동 인구의 차이 그리고 자연환경의 차이로 인해 나타날 수 있다. 이는 ㉡국가별 주요 수출품이 다른 요인이며, ㉢국가 간 무역 발생 요인으로 작용한다.

- ① 동일한 생산 요소의 양은 ㉠의 예이다.
- ② ㉠은 국가 간 경제적 독립성을 강화시킨다.
- ③ 자급자족은 ㉢의 발생 원인이다.
- ④ 보호 무역의 확대는 ㉢의 활성화에 기여한다.
- ⑤ 국가별 생산비 차이는 ㉡과 ㉢의 요인으로 작용할 수 있다.

## 02

밑줄 친 ㉠~㉣의 경제학적 개념에 대한 옳은 설명만을 <보기>에서 고른 것은?

갑은 ㉠실력을 인정받는 유명한 농구 선수이다. 갑은 청년 시절 진로에 관한 고민을 많이 하였다. 청년 시절 ㉡갑은 농구 선수로서의 실력이 뛰어났지만, 야구 선수로서의 실력도 매우 우수하였기 때문이다. 따라서 당시 갑은 ㉢농구 선수를 해야할지 야구 선수를 해야할지 매우 심각하게 고민하였다. 결국 ㉣상대적으로 더 잘하는 농구에 전념하여 농구 선수가 되기로 결심하였고 지금까지 우수한 선수로 활약하고 있다.

보기

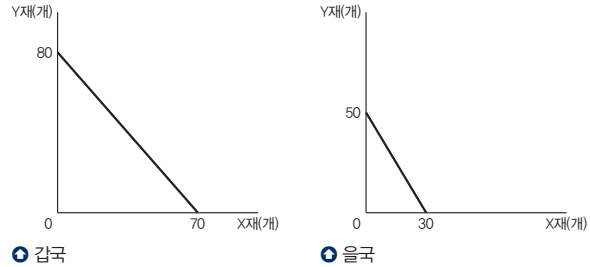
- ㄱ. ㉠은 규모의 경제에 따른 결과이다.
- ㄴ. ㉡은 절대 우위의 개념으로는 설명할 수 없다.
- ㄷ. ㉢은 희소성에 따라 발생하는 문제로 볼 수 있다.
- ㄹ. ㉣은 비교 우위의 개념으로 설명할 수 있다.

- ① ㄱ, ㄴ                      ② ㄱ, ㄷ                      ③ ㄴ, ㄷ
- ④ ㄴ, ㄹ                      ⑤ ㄷ, ㄹ

## 03

다음 자료에 대한 옳은 설명만을 <보기>에서 있는 대로 고른 것은?

주어진 생산 요소를 모두 사용하여 X재와 Y재만 생산하는 갑국과 을국은 생산 요소로 노동만을 사용하여 재화를 생산한다. 그림은 갑국과 을국의 X재 최대 생산 가능량과 Y재 최대 생산 가능량을 나타낸다. 양국은 모두 비교 우위가 있는 재화만을 생산하여 양국 모두 이익이 발생하는 교환 비율에 따라 거래 비용 없이 양국 간에만 거래한다.



보기

- ㄱ. 절대 우위로 무역의 발생 원리를 설명할 수 없다.
- ㄴ. X재 1개 생산의 기회비용은 갑국이 을국보다 작다.
- ㄷ. 을국의 Y재 1개 생산의 기회비용은 X재 5/3개이다.
- ㄹ. X재와 Y재의 교환 비율이 1:1이라면 갑국과 달리 을국만 무역을 하려고 할 것이다.

- ① ㄱ, ㄷ                      ② ㄱ, ㄹ                      ③ ㄴ, ㄷ
- ④ ㄱ, ㄴ, ㄹ                ⑤ ㄴ, ㄷ, ㄹ

## 04

다음 자료에 대한 설명으로 옳은 것은?

주어진 생산 요소를 모두 사용하여 X재와 Y재만 생산하는 갑국과 을국은 생산 요소로 노동만을 사용하여 재화를 생산한다. 표는 갑국과 을국의 Y재 1개 생산의 기회비용과 X재 최대 생산 가능량을 나타낸다. 양국은 모두 비교 우위가 있는 재화만을 생산하여 양국 모두 이익이 발생하는 교환 비율에 따라 거래 비용 없이 양국 간에만 거래한다.

구분	Y재 1개 생산의 기회비용(개)	X재 최대 생산 가능량(개)
갑국	X재 1/2개	40개
을국	X재 1/4개	50개

- ① 갑국은 X재와 Y재 생산에 절대 우위를 가진다.
- ② 갑국의 Y재 최대 생산 가능량은 을국의 절반이다.
- ③ 비교 우위에 따르면 갑국은 Y재에 특화하고 을국은 X재에 특화한다.
- ④ X재 1개의 교환 비율이 Y재 3개라면 을국과 달리 갑국은 무역을 하려고 할 것이다.
- ⑤ Y재 1개의 교환 비율이 X재 3/5개라면 갑국과 달리 을국은 무역을 하려고 할 것이다.

### 05

다음 대화에 대한 옳은 설명만을 <보기>에서 있는 대로 고른 것은?

교사: 일반적으로 나타나는 무역의 ㉠ 긍정적 영향과 ㉡ 부정적 영향에 대해 발표해 볼까요?

갑: 소비자 상품 선택의 확대는 무역의 긍정적 영향에 해당합니다.

(가)

교사: 갑과 을 중에서 한 명만 옳게 발표하였습니다.

을

<보기>

- ㉠. 국가별 일자리 창출은 ㉠에 해당한다.
- ㉡. (가)에 '국가 간 빈부 격차 심화는 ㉡에 해당합니다.'가 들어갈 수 있다.
- ㉢. (가)에 '기업의 경쟁을 통한 기술 발전은 ㉢에 해당합니다.'가 들어갈 수 있다.
- ㉣. (가)에 '경제 성장에 따른 환경 오염 및 파괴는 ㉣에 해당합니다.'가 들어갈 수 있다.

- ① ㉠, ㉡                      ② ㉠, ㉣                      ③ ㉡, ㉣
- ④ ㉠, ㉢, ㉣                ⑤ ㉡, ㉣, ㉣

### 06 통합형

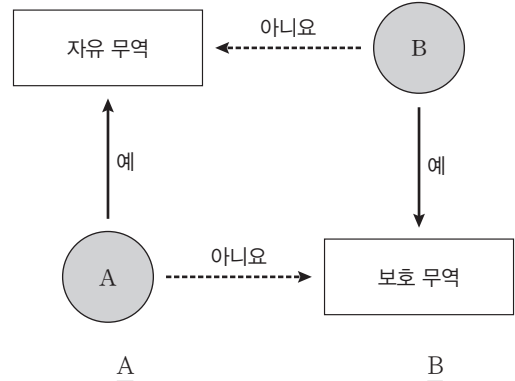
(가)에 들어갈 내용으로 가장 적절한 것은?

갑 기업은 자국 내에만 모든 부서를 두고 운영하던 기업 경영 방식을 과감하게 전환하였다. 신상품에 대한 기획 및 설계 단계를 전담하는 부서를 미국에 두어 새로운 정보 반영에 유리하도록 하였다. 신상품의 생산 기지는 인건비가 상대적으로 저렴한 동남아시아 지역으로 이전하여 대량 생산 체계를 갖추었다. 부품 생산 공장은 남아메리카로 이전하여 여기서 생산된 부품은 동남아시아 생산 기지로 이동할 수 있게 하였다. 시장 조사를 전담하는 마케팅 부서는 갑 기업 본국에 두고 중국 시장을 목표로 판매하여 큰 성과를 거두고 있다. 이는 (가)

- ① 세계화에 따라 보호 무역이 강화되고 있다는 것을 의미한다.
- ② 국가 간의 무역 장벽이 더 높아지고 있다는 것을 의미한다.
- ③ 불공정한 무역에 따른 열악한 노동 환경 문제가 발생한다는 것을 의미한다.
- ④ 규모의 경제 실현에 따른 생산의 효율성이 향상되고 있다는 것을 의미한다.
- ⑤ 생산비 절감에 따른 환경 파괴 및 자원 고갈 문제가 발생하고 있음을 의미한다.

### 07

그림은 일반적인 특징을 나타내는 질문 A, B에 따라 자유 무역과 보호 무역을 구분한 것이다. A, B에 들어갈 수 있는 질문으로 옳은 것은?



- ① 관세 인상의 요인입니까?      자국 산업 보호가 목적입니까?
- ② 관세 인하의 요인입니까?      수입 할당제의 폐지 요인입니까?
- ③ 관세 인하의 요인입니까?      자국 산업 보호가 목적입니까?
- ④ 수입 할당제의 폐지 요인입니까?      관세 인하의 요인입니까?
- ⑤ 자국 산업 보호가 목적입니까?      관세 인하의 요인입니까?

### 08

교사의 질문에 대한 답변으로 옳은 것은?

1~4와 관련된 공통적인 내용에 대해 발표해 볼까요?

1. 공정한 무역  
2. 소외된 생산자에 대한 배려  
3. 기후변화에 대응하는 환경 정책  
4. 아동 학대 및 강제 노동 금지

- ① 특화와 분업의 원리를 설명하는 내용입니다.
- ② 자유 무역이 국가 경쟁력을 약화시킬 수 있다는 내용입니다.
- ③ 보호 무역이 국내 산업을 효과적으로 보호할 수 있다는 내용입니다.
- ④ 지속가능발전에 기여할 수 있는 무역을 하기 위해 고려해야 하는 방안입니다.
- ⑤ 자유 무역에 비해 보호 무역이 소비자의 권리를 효과적으로 보호할 수 있다는 내용입니다.

# 17

## 세계화의 양상과 미래

### 1 세계화의 다양한 양상

#### 01 세계화와 지역화

##### 1. 세계화 **자료 01**

- (1) 의미: 교통·통신의 발달과 국가 간 교류의 확대로 상호 의존성이 커지면서 정치, 경제, 사회, 문화 등의 활동 범위가 세계로 확대되는 현상
- (2) 배경: 교통·통신의 발달과 지역 간 상호 의존성 증가, 세계 무역 기구(WTO) 출범으로 상품, 서비스 등의 자유로운 이동이 확대
- (3) 양상

경제의 세계화	생산 요소의 국제 이동이 활발해지면서 여러 나라가 협력하여 상품을 생산
문화의 세계화	세계 여러 지역의 문화 요소가 국가나 민족의 경계를 뛰어넘어 전 세계적인 문화로 발전

##### 2. 지역화

- (1) 의미: 지역의 고유성을 바탕으로 지역의 생활양식이나 경제, 문화 활동 등이 세계적 차원에서 독자적인 가치를 지니게 되는 현상
- (2) 배경: 세계화에 대응하기 위해 다른 지역과 차별화하여 지역의 경쟁력을 높일 필요성 대두
- (3) 지역화 전략 **자료 02**

지리적 표시제	특정 지역의 지리적 특성을 반영한 우수 상품이 그 지역에서 생산 및 가공되었음을 인증하고 표시하는 제도 예) 콜롬비아의 커피, 보성 녹차 등
장소 마케팅	지역의 특정 장소를 하나의 상품으로 인식하여 매력적으로 보일 수 있도록 이미지와 시설 등을 개발하는 전략 예) 로마의 콜로세움, 보령 머드 축제 등
지역 브랜드화	특정 지역에서 생산되는 상품, 서비스, 축제 등을 특별한 브랜드로 인식시켜 지역 자체에 고유한 상표를 부여하여 지역 경제를 활성화하는 전략 예) 뉴욕의 I♥NY, 암스테르담의 I amsterdam 등

#### 02 세계화의 영향과 변화

##### 1. 세계 도시 **자료 03**

의미	국가의 경계를 넘어 정치·경제·문화 등 다양한 분야에서 세계의 중심지 역할을 수행하는 도시
특징	<ul style="list-style-type: none"> <li>• 정치적으로는 국제기구의 본부가 위치하거나 다양한 국제 회의와 행사가 개최됨.</li> <li>• 경제적으로는 다국적 기업의 본사, 대형 금융 기관 등이 밀집하며, 회계·법률·광고 등 전문화된 생산자 서비스업이 발달하여 전 세계의 자본과 정보가 집중됨.</li> <li>• 문화적으로는 인적·물적 교류가 활발하여 문화 활동의 중심지 역할을 함.</li> </ul>
대표 도시	영국의 런던, 미국의 뉴욕, 일본의 도쿄 등

영향	세계 도시의 등장과 그 영향으로 도시 간 공간적 상호 작용이 더욱 중요해짐. <b>(TIP)</b> 세계 도시 간에도 상호 작용이 활발히 이루어지면서 도시의 계층성이 생겨나, 세계 도시 중 영향력이 가장 큰 도시인 런던, 뉴욕, 도쿄를 최상위 세계 도시라고 불러.
----	---

##### 2. 다국적 기업 **자료 04**

의미	본사가 있는 국가의 국경을 넘어 세계 여러 곳에 자회사, 지사, 생산 공장 등을 운영하면서 상품을 생산하고 전 세계를 시장으로 상품을 판매하는 회사
특징	<ul style="list-style-type: none"> <li>• 생산비 절감, 현지 시장 확보 등 경영의 효율성을 높이고 이윤을 극대화하는 공간적 분업이 나타남.</li> <li>• 본사: 본국의 대도시에서 주로 입지하며, 기업의 전반적인 경영 및 관리, 의사 결정을 담당</li> <li>• 연구소: 기술 수준이 높은 선진국에 주로 입지하며, 연구·개발을 담당</li> <li>• 생산 공장: 노동비를 포함한 제품 생산비를 절감할 수 있는 개발 도상국에 주로 입지하며, 무역 장벽을 극복하기 위해 선진국에 입지하는 경우도 있음.</li> </ul>
영향	다국적 기업의 활동으로 국가 간의 경계를 허물고, 지역 간 경제적 상호 의존성을 증대시키며 전 세계의 경제적 통합을 촉진

### 2 세계화의 문제점과 해결 방안

#### 1. 문화의 획일화와 소멸

양상	선진국에서 형성된 언어, 음악, 예술 등의 문화가 개발 도상국으로 전파되면서 지역의 전통문화와 문화 정체성이 사라지고 문화 다양성이 감소
원인	막대한 자본을 바탕으로 한 선진국 문화 산업의 세계 진출
해결 방안	<ul style="list-style-type: none"> <li>• 문화 정체성을 지키면서 문화 다양성 증진을 위해 노력</li> <li>• 유네스코(UNESCO)의 문화 다양성 협약</li> </ul>

#### 2. 빈부 격차의 심화

양상	선진국은 기술과 자본을 통한 고부가 가치 상품 생산, 개발 도상국은 저임금 노동력을 이용한 생산 활동을 주로 담당
원인	다국적 기업의 공간적 분업 등
해결 방안	<ul style="list-style-type: none"> <li>• 공적 개발 원조(ODA) 등을 통해 개발 도상국 지원</li> <li>• 공정 무역을 통한 윤리적 소비 실천</li> </ul>

#### 3. 보편 윤리와 특수 윤리 간 갈등

양상	인권이나 자유와 같은 보편적 가치를 중시해야 하는 보편 윤리와 특정 국가의 이익이나 관습 등을 우선해야 한다는 특수 윤리 간 갈등 발생
원인	국가·지역 간 인구 이동과 문화 교류
해결 방안	<ul style="list-style-type: none"> <li>• 상대를 존중하는 태도를 바탕으로 갈등 해결을 위해 노력</li> <li>• 세계시민으로서의 자세를 가지고 지구 전체의 문제에 대해 관심을 기울이고 이를 해결하려는 태도가 필요</li> </ul>

**(TIP)** 개발 도상국의 경제 발전이나 복지 증진을 도모하기 위해 원조국이 자체의 재정 자금을 사용하여 공여하는 순수한 원조를 의미함.

# 중요 자료 분석

## 자료 01 세계화의 양상과 영향

'한국식 메이크업'이 여러 국가에서 유행하고 있다. 사회 관계망 서비스(SNS)를 통해 한국식 메이크업 기법을 다룬 콘텐츠들이 세계의 많은 사람들 사이에서 공유되고 있으며, 한국의 화장품을 찾는 해외 수요도 증가하였다. 국내 화장품 기업들도 적극적으로 해외에 진출하고 있다. 국내의 A사는 우리나라에 본사를 두고 미국, 프랑스 등에 연구 센터, 중국에 생산 공장을 설립해 해외 시장 확대에 나섰다. 이 기업은 국가별 기후, 문화 등을 고려한 제품 개발에 노력하였고, 타이에서는 덥고 습한 기후로 자극받은 피부를 진정시킬 수 있는 크림 제품을 출시하여 좋은 반응을 얻었다.

**자료 분석** 자료에는 한국식 메이크업의 세계화 과정이 나타나 있다. 사회 관계망 서비스(SNS) 등 통신 기술의 발달로 한국식 메이크업이라는 문화가 세계화되고 있으며, 다국적 기업인 화장품 기업의 공간적 분업 양상을 설명하고 있다. 또한 지역의 특성을 상품에 반영해 출시한 현지화 전략의 과정을 설명하고 있다.

- (1) 세계화는 국경의 역할과 의미가 강화되면서 나타나는 현상이다. (○, ×)
- (2) 연구 센터, 생산 공장이 다른 국가에 입지하는 것은 기업의 공간적 분업에 해당한다. (○, ×)

## 자료 02 세계화 시대의 지역화 전략



☉ 콜롬비아의 커피 로고



☉ 보령 머드 축제



☉ 인도의 다르질링 차 로고

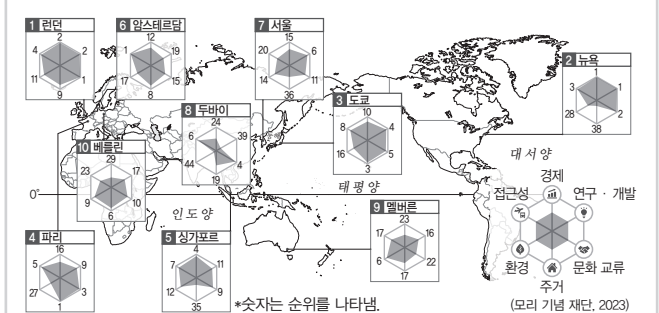


☉ 미국 뉴욕의 지역 브랜드

**자료 분석** 콜롬비아의 커피, 인도의 다르질링 차와 같이 특정 지역 상품에 대한 지역 생산·가공 인증 표시제인 지리적 표시제, 보령 머드 축제와 같은 지역 축제 등을 이용한 장소 마케팅, I♥NY와 같이 지역 자체를 브랜드화한 지역 브랜드화는 대표적인 지역화 전략이다.

- (1) 지리적 표시제는 특정 지역의 지리적 특성을 반영한 우수 상품이 그 지역에서 생산 및 가공되었음을 인증하고 표시하는 제도이다. (○, ×)
- (2) 지역 브랜드화는 지리적 표시제, 장소 마케팅과 함께 지역화 전략의 한 유형이다. (○, ×)

## 자료 03 세계 도시의 양상

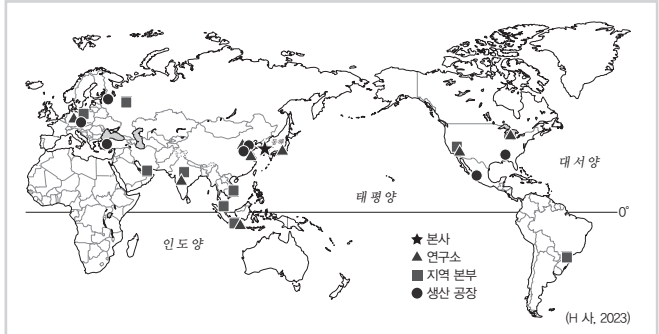


☉ 세계 도시의 항목별 순위 → (1~10) 세계 도시를 평가하는 지표는 기관에 따라 다르며, 그에 따라 순위가 다르게 나타나.

**자료 분석** 세계 도시는 국경을 넘어 정치, 경제 등 세계적인 중심지 역할을 하는 도시를 의미한다. 다국적 기업의 본사 및 국제기구의 본부가 위치하며, 기업을 대상으로 하는 생산자 서비스업이 발달하였다. 세계 도시 체계는 계층에 따라 최상위 세계 도시, 상위 세계 도시, 하위 세계 도시로 구분된다. 최상위 세계 도시는 기능의 영향력 범위가 전 세계이며, 런던, 뉴욕, 도쿄가 대표적이다.

- (1) 세계 도시는 모두 인구 천만 명 이상의 도시이다. (○, ×)
- (2) 최상위 세계 도시는 하위 세계 도시보다 생산자 서비스업 종사자 비율이 높다. (○, ×)
- (3) 세계 도시 체계를 확인하는 지표로 도시 간 국제 항공편 운항 횟수를 들 수 있다. (○, ×)

## 자료 04 다국적 기업의 공간적 분업



☉ 다국적 기업 H사의 공간적 분업

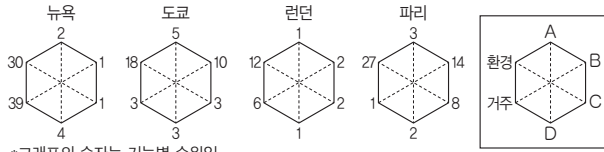
**자료 분석** 다국적 기업은 이윤을 극대화하기 위해 기업 내 여러 기능을 국가별 유리한 조건을 갖춘 곳에 입지시키는 공간적 분업을 한다. 본사는 본국의 대도시에 입지하며, 연구소는 기술 수준이 높은 선진국에 주로 입지한다. 생산 공장의 경우 대부분은 생산비 절감을 목적으로 개발 도상국에 입지하는 경우가 많지만, 시장 확대와 무역 장벽 극복을 위해 선진국에 입지하는 경우도 있다.

- (1) 다국적 기업의 연구소는 생산 공장보다 저렴한 노동력의 확보가 중요하다. (○, ×)
- (2) 다국적 기업은 국경을 초월하여 생산과 판매 활동을 하는 기업을 말한다. (○, ×)

## 01

다음 자료는 세계 도시에 대한 것이다. A~D 기능에 해당하는 지표로 옳은 것은?

○○ 연구소는 2024년에 48개 주요 도시를 대상으로 6가지 기능을 70개 지표를 활용하여 산출한 점수로 종합 순위를 발표했다. 종합 순위 1위 도시는 '문화 교류'에서 1위를 유지했고 허브 공항 효과로 '접근성'에서도 1위에 올랐다. 종합 순위 2위 도시는 '경제' 및 '연구·개발'에서 1위를 차지했으나, '거주'와 '환경'에서는 30위권으로 밀려났다. 종합 순위 3위 도시는 환율 상승에 따른 해외 관광객 증가로 '문화 교류'에서 3위로 올랐고, '거주'와 '연구·개발'에서도 3위를 차지했다. 종합 순위 4위 도시는 올림픽 개최에 힘입어 '문화 교류'에서 2위로 올랐다.



A B C D

- ① 국제 직항 노선 수 세계 500대 기업 수 특허 등록 건수 외국인 방문자 수
- ② 국제 직항 노선 수 세계 500대 기업 수 외국인 방문자 수 특허 등록 건수
- ③ 세계 500대 기업 수 특허 등록 건수 외국인 방문자 수 국제 직항 노선 수
- ④ 세계 500대 기업 수 특허 등록 건수 국제 직항 노선 수 외국인 방문자 수
- ⑤ 외국인 방문자 수 국제 직항 노선 수 특허 등록 건수 세계 500대 기업 수

### 해결 Flow

제시문 및 최상위 4개 도시의 기능별 순위 그림을 통해 범례의 A~D에 들어갈 기능을 찾는다.

각 기능을 설명할 수 있는 지표로 가장 적절한 것을 고른다.

### 자료 분석

제시문은 세계 도시를 선정하는 데 활용된 6가지 기능을 소개하면서, 최상위 4개 도시의 기능별 순위를 통해 범례의 A~D 기능을 추론하여 A가 접근성, B가 경제, C가 연구·개발, D가 문화 교류임을 파악하도록 하고 있다. 종합 순위 1위 도시는 두 기능에서 1위이므로 런던, 뉴욕 중 하나이다. 2위 도시는 두 기능에서 30위권이므로 런던이 1위, 뉴욕이 2위이다. 3위 도시는 세 기능에서 3위이므로 도쿄, 4위 도시는 파리이다.

### 선지 분석

- ✓ ① 국제 직항 노선 수는 접근성을 측정할 수 있는 지표이며, 세계 500대 기업 수는 경제적인 중심지임을 확인할 수 있는 지표이다. 특허 등록 건수는 연구·개발 기능과 밀접한 연관이 있는 지표이며, 외국인 방문자 수는 문화 교류가 얼마나 활발히 이루어지는지를 파악할 수 있는 지표이다.

## 02

㉠, ㉡에 들어갈 내용으로 가장 적절한 것은?

### 세계화 시대의 지역화 전략

- ㉠의 사례  
포르투갈의 포르투(Porto)를 상징하는 파란색은 이 지역의 유명한 도자기 타일인 '아줄레주'의 색에서 착안한 것이다. 이를 활용한 'Porto.'를 도안하여 도시를 상징하는 디자인으로 사용하고 있다.
- ㉡의 사례  
유럽 연합은 특정 마을, 도시 또는 지역 내에서 생산·제조·가공된 농수산물 및 식품임을 표시하여 보호하는 제도를 시행하고 있다. 이탈리아 캄파냐 지방의 '모차렐라 디 부팔라 캄파냐(Mozzarella di Bufala Campana)' 치즈는 이 제도의 적용을 받고 있다.

㉠

㉡

- |               |             |
|---------------|-------------|
| ① 다국적 기업의 현지화 | 지리적 표시제     |
| ② 다국적 기업의 현지화 | 지역 브랜드화     |
| ③ 지리적 표시제     | 다국적 기업의 현지화 |
| ④ 지역 브랜드화     | 다국적 기업의 현지화 |
| ⑤ 지역 브랜드화     | 지리적 표시제     |

### 해결 Flow

지역화 전략 두 사례를 읽고 ㉠은 도시의 상징적 요소를 활용해 도시 로고를 만들었으며, ㉡은 도시의 유명한 축산물이 제도적 보호를 받고 있음을 파악한다.

㉠은 지역 브랜드화, ㉡은 지리적 표시제임을 확인한다.

### 자료 분석

자료는 포르투갈의 도시 포르투가 도시의 전통적 문화 요소를 활용해 디자인한 도시 브랜드이며, 이탈리아 캄파냐 지방의 치즈가 지리적 표시제의 보호를 받는 축산물임을 소개하고 있다. 따라서 ㉠은 지역 브랜드화, ㉡은 지리적 표시제이다.

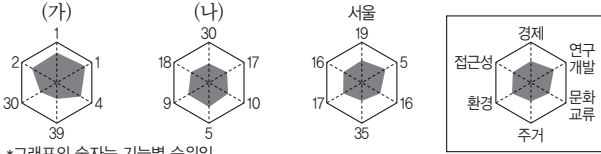
### 선지 분석

- ①, ②, ③, ④ 다국적 기업의 현지화는 다국적 기업이 시장에 효과적으로 진출하기 위해 해당 지역의 지리적 특성을 반영한 상품을 만들어 판매하는 전략을 의미한다.  
 ✓ ⑤ ㉠은 지역 브랜드화, ㉡은 지리적 표시제이다.

**01-1** 동형 문제

다음 자료는 세계 도시에 대한 것이다. 이에 대한 설명으로 옳은 것만을 <보기>에서 고른 것은? (단, (가), (나)는 각각 뉴욕, 베를린 중 하나임.)

세계 도시의 선정 기준과 방법은 다양하다. 한 연구소는 48개 세계 도시를 대상으로 6가지 기능을 70개 지표를 활용해 산출한 점수로 종합 순위를 발표했다. 그중 일부 세계 도시의 기능별 순위는 다음과 같다.



보기

- ㄱ. (가)는 (나)보다 세계 금융에 미치는 영향력이 크다.
- ㄴ. (나)는 (가)보다 세계 도시 체계에서 상위에 있는 세계 도시이다.
- ㄷ. 뉴욕은 서울보다 접근성 부문에서 순위가 높다.
- ㄹ. 베를린은 뉴욕보다 세계 500대 기업 수가 많다.

- ① ㄱ, ㄴ                      ② ㄱ, ㄷ                      ③ ㄴ, ㄷ
- ④ ㄴ, ㄹ                      ⑤ ㄷ, ㄹ

**01-2** 동형 문제

다음 글은 세계 도시에 대한 것이다. 이에 대한 설명으로 옳은 것은?

세계화로 인해 ㉠세계의 중심지 역할을 수행하는 세계 도시가 출현했다. 세계 도시의 선정 기준과 방법은 다양한데, 한 연구소는 6가지 기능을 중심으로 세계 주요 도시의 종합 순위를 발표했다. 과거 유럽 연합(EU) 회원국이기도 했던 종합 순위 1위 도시 (가)은/는 수도에 설치된 공항이 유럽 및 세계와 연결하는 허브 역할을 하며 '㉡접근성' 항목에서 1위를 기록했다. 종합 순위 2위 도시 (나)은/는 세계 금융의 중심인 월 스트리트가 있는 도시답게 '㉢경제' 항목에서 1위를 차지했다. 종합 순위 3위 도시 도쿄는 환율 상승에 따른 해외 관광객 증가로 '㉣문화 교류' 항목에서 3위를 기록했다.

- ① ㉠은 도시 인구 규모가 클수록 강화된다.
- ② ㉡의 지표로 '특허 등록 건수'를 들 수 있다.
- ③ ㉢의 지표로 '세계 500대 기업 수'를 들 수 있다.
- ④ ㉣의 지표로 '생산자 서비스업 부문 집중 정도'를 들 수 있다.
- ⑤ (가)는 뉴욕, (나)는 런던이다.

**02-1** 동형 문제

㉠, ㉡에 들어갈 내용으로 가장 적절한 것은?

세계화 시대의 지역화 전략

- ㉠의 사례  
유럽 연합은 특정 지역에서 생산·가공·제조된 농수산물 및 식품의 명칭과 품질을 보호하기 위한 제도를 시행하고 있다. 이탈리아의 파르마에서 생산되는 '파르마 햄'은 해당 지역에서 전통적인 방식으로 만들어진 것만 이 이름을 사용할 수 있다.
- ㉡의 사례  
네덜란드의 암스테르담은 'I amsterdam'이라는 슬로건이 세계적으로 유명하다. 이 슬로건은 도시 곳곳의 조형물과 관광 홍보물에 활용되며, 주민과 방문객 모두가 암스테르담과 연결되어 있다는 의미를 담고 있다.

- |   |             |             |
|---|-------------|-------------|
|   | ㉠           | ㉡           |
| ① | 지리적 표시제     | 지역 브랜드화     |
| ② | 지리적 표시제     | 다국적 기업의 현지화 |
| ③ | 지역 브랜드화     | 다국적 기업의 현지화 |
| ④ | 다국적 기업의 현지화 | 지역 브랜드화     |
| ⑤ | 다국적 기업의 현지화 | 지리적 표시제     |

**02-2** 통합형

다음 글에 대한 설명으로 옳은 것만을 <보기>에서 있는 대로 고른 것은?

○ 포르투시(市)는 ㉠도시를 상징하는 대표적인 로고로 '㉡Porto.'를 도안하여 사용하고 있으며, 동일한 파란 색의 선을 활용한 아이콘을 여러 종류로 제작하여 상황에 맞게 사용할 수 있도록 하고 있다.

○ 유럽 연합(EU)은 ㉢특정 마을, 도시 또는 지역 내에서 생산, 제조, 가공된 농수산물 및 식품임을 표시하여 보호하는 제도를 시행하고 있으며, 이탈리아 캄파냐 지방의 치즈는 이 제도의 적용을 받고 있다. ㉣이 치즈는 일반 치즈보다 비싼 가격에도 불구하고 많은 사람이 기꺼이 구입하고 있다.

보기

- ㄱ. ㉠은 지역화 전략 중 지역 브랜드화이다.
- ㄴ. ㉡과 같은 사례로 미국의 'I♥NY' 등이 있다.
- ㄷ. ㉢은 지역화 전략 중 장소 마케팅이다.
- ㄹ. ㉣의 경우, 구매자가 캄파냐 치즈를 구입해 얻은 만족감이 상대적으로 저렴한 일반 치즈를 구입해 얻은 가치보다 크다면 합리적 선택을 했다고 할 수 있다.

- ① ㄱ, ㄴ                      ② ㄱ, ㄷ                      ③ ㄴ, ㄷ
- ④ ㄱ, ㄴ, ㄹ                ⑤ ㄴ, ㄷ, ㄹ

# 수능 기본 문제

## 01

밑줄 친 ㉠~㉣에 대한 설명으로 옳은 것만을 <보기>에서 있는 대로 고른 것은?

최근 K-POP을 소재로 한 영화가 전 세계적으로 인기를 끌면서, 한국 대중문화가 국제적으로 주목받고 있다. 이러한 현상은 ㉠ 정보 통신 기술의 발달과 인터넷 보급이 큰 역할을 하였으며, 유튜브, 사회 관계망 서비스(SNS) 등으로 K-pop 음악과 영상은 실시간으로 전 세계에 공유되고 있다.

한국의 음식 문화도 세계화되고 있는데, 대표적으로 ○○면이 해외에서 큰 인기를 끌고 있다. 제조사는 ㉡ 각 지역의 입맛과 문화적 특성에 맞춰 맵기와 소스, 재료를 조정해 글로벌 시장에 진출하고 있다. 이처럼 K-pop과 한국 음식의 ㉢ 세계화는 정보 통신 기술과 글로벌 네트워크, 지역 맞춤형 전략을 기반으로 한 현대 문화 세계화의 대표적 사례로, 한 지역의 문화가 전 지구적 현상으로 확산되는 과정을 보여 주고 있다.

[보기]

- ㄱ. ㉠은 세계화 현상을 확산시킨다.
- ㄴ. ㉡은 현지화 전략의 사례이다.
- ㄷ. ㉢이 진행되면서 동시에 지역화 현상이 촉진되기도 한다.
- ㄹ. ㉢으로 다국적 기업이 활동하는 공간적 범위가 축소되었다.

- ① ㄱ, ㄴ                      ② ㄱ, ㄷ                      ③ ㄴ, ㄷ
- ④ ㄱ, ㄴ, ㄷ                ⑤ ㄴ, ㄷ, ㄹ

## 02

㉠에 들어갈 내용으로 가장 적절한 것은?

㉠의 사례

- 보성 녹차는 전라남도 보성 지역의 특정 기후와 토양 조건에서 생산되는 차(茶)이다. 보성은 온화한 기후와 풍부한 강수량, 일교차가 큰 지형적 특성이 있어 차잎의 향과 맛이 뛰어나다. 또한 해풍과 완만한 경사 지형이 차 재배에 적합해 고품질 녹차 생산이 가능하다. 이러한 자연환경과 전통적인 재배 방법이 결합하여 보성 녹차만의 독특한 맛과 향을 만들어낸다.
- 샴페인은 프랑스 샤파뉴 지역에서 생산되는 발포성 와인이다. 샤파뉴는 석회질 토양과 서늘한 기후, 적절한 일조량을 갖춘 지역으로, 포도 재배와 발효 과정에 최적의 조건을 제공한다. 이 지역에서 전통적 방식으로 생산된 와인만이 '샴페인'이라는 명칭을 사용할 수 있다.

- ① 장소 마케팅                      ② 보호 무역주의
- ③ 지리적 표시제                    ④ 문화 획일화 현상
- ⑤ 다국적 기업의 현지화 전략

## 03 통합형

다음 글에 대한 설명으로 옳은 것만을 <보기>에서 있는 대로 고른 것은?

(가) 'I♥NY' 캠페인은 1977년 뉴욕주 관광을 촉진하기 위해 시작되었다. 간단한 로고와 슬로건을 활용하여 뉴욕의 이미지를 직관적으로 전달하며, 관광객뿐 아니라 투자와 문화 산업 유치에도 긍정적 영향을 미쳤다. 이 캠페인은 포스터, 광고, 기념품 등 다양한 매체를 통해 뉴욕을 세계적으로 알리는 데 성공하였고, 도시의 상징성을 강화하였다.

(나) 삿포르 눈 축제는 ㉠ 일본의 북부에 위치한 홋카이도 삿포르에서 매년 열리는 겨울 축제로, 지역화 전략의 대표적인 사례로 평가된다. 축제는 대규모 눈·얼음 조각 전시와 체험 프로그램을 중심으로 구성되어 관광객을 유치하며, 지역 특산물과 숙박·음식 산업이 연계되어 지역 경제를 활성화한다.

[보기]

- ㄱ. (가)는 지리적 표시제의 사례이다.
- ㄴ. (나)는 장소 마케팅의 사례이다.
- ㄷ. (가)와 (나)는 모두 지역화 전략에 해당한다.
- ㄹ. ㉠은 겨울철에 바다를 거처온 계절풍의 영향으로 눈이 많이 내린다.

- ① ㄱ, ㄴ                      ② ㄱ, ㄷ                      ③ ㄴ, ㄷ
- ④ ㄱ, ㄴ, ㄷ                ⑤ ㄴ, ㄷ, ㄹ

## 04

다음 자료는 통합사회 수행평가 보고서이다. ㉠, ㉡에 들어갈 내용으로 가장 적절한 것은?

### 통합사회 탐구 계획서

○ 탐구 주제: ㉠

○ 조사 자료

자료 1	자료 2
○ □□ 기업의 본사, 연구소, 생산 공장 분포 서울에 본사를 둔 □□ 기업은 미국, 유럽 등에 연구소를, 중국, 브라질 등 개발 도상국에 생산 공장을 세웠다. 지역의 특성을 활용해 경쟁력을 확보하고 이윤을 극대화하고 있다.	○ ㉡ :

- ㉠                                      ㉡
- ①                      환경 문제                                      열대 우림 파괴 사례
- ②                      지역 브랜드                                      지역 이미지 창출 사례
- ③                      현지화 전략                                      지역의 지리적 특성을 반영한 상품 개발 사례
- ④                      지리적 표시제                                      지역 특산물 브랜딩 사례
- ⑤                      다국적 기업의 공간적 분업                                      생산 공장 추가 입지 사례

**[05~06]** 다음 글을 읽고 물음에 답하십시오.

세계화의 진행과 함께 생활 전반에서 국가 간의 교류와 협력이 증가하였다. 이러한 변화 과정에서 정치, 경제, 사회, 문화 등 다양한 측면에서 세계적인 중심지 역할을 하는 **㉠**이 성장하였다. 접근성, 경제, 연구·개발, 거주, 환경 등 여러 요소를 고려해 선정되는 **㉡**은/는 세계적인 흐름을 주도하는 역할을 하고 있으며, 세계적 교류와 협력의 중심 역할을 담당하고 있다.

**05** **통합형**

㉠에 들어갈 개념에 대한 설명으로 옳은 것은?

- ① 국경을 넘어 세계의 중심지 역할을 하는 도시
- ② 여러 국가에서 생산과 판매 활동을 하는 기업
- ③ 생산자에게 정당한 이윤을 지불해야 한다는 무역 형태
- ④ 개인이나 민간단체를 회원으로 하는 국제 사회 행위의 주체
- ⑤ 선진국의 정부와 공공 기관이 개발 도상국의 경제 개발과 복지 증진을 목적으로 제공하는 원조

**06**

㉡에 대한 설명으로 옳은 것만을 <보기>에서 고른 것은?

**보기**

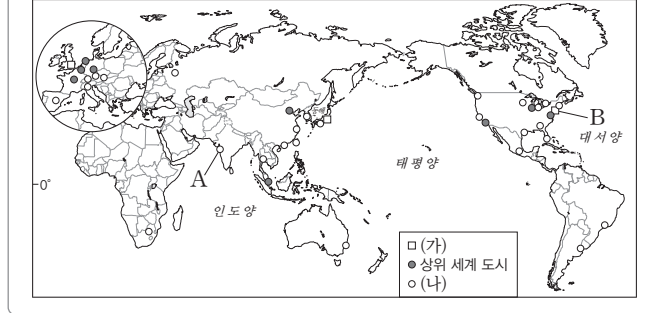
ㄱ. 인구 규모가 클수록 영향력이 커진다.  
 ㄴ. 런던, 뉴욕, 도쿄가 대표적인 사례이다.  
 ㄷ. 국경의 의미가 강화되면서 나타나게 되었다.  
 ㄹ. 여러 국제기구가 집중하고 자본과 정보가 모인다.

- ① ㄱ, ㄴ                      ② ㄱ, ㄷ                      ③ ㄴ, ㄷ
- ④ ㄴ, ㄹ                      ⑤ ㄷ, ㄹ

**07**

다음 자료는 세계 도시에 대한 것이다. 이에 대한 설명으로 옳은 것만을 <보기>에서 고른 것은? (ㄱ, ㄴ)는 각각 최상위 세계 도시, 하위 세계 도시 중 하나임.)

세계 도시 체계는 세계 도시가 가진 기능들을 중심으로 도시의 계층을 나눈 것으로, 크게 최상위 세계 도시, 상위 세계 도시, 하위 세계 도시로 구분한다. 최상위 세계 도시는 전 세계적인 영향력을 갖추고 있는 도시로 다국적 기업의 본사가 입지하며, 국제적으로 여러 서비스의 중심적 역할을 수행한다. 하위 세계 도시는 다국적 기업의 업무 기능과 국제 은행의 지사들이 주로 입지하며, 지역이나 국내 도시들에 영향을 미치고 있다.



**보기**

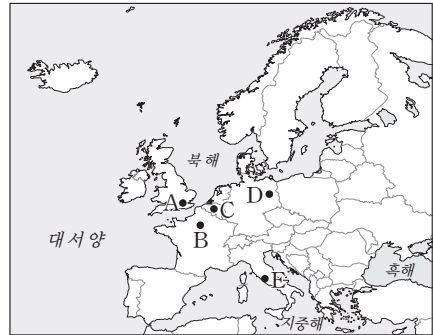
ㄱ. (가)는 최상위 세계 도시, (나)는 하위 세계 도시이다.  
 ㄴ. (나)는 (가)보다 도시당 세계 500대 기업의 본사 수가 많다.  
 ㄷ. B에는 국제 연합(UN) 본부가 있다.  
 ㄹ. A는 B보다 국제 경제에 미치는 영향력이 크다.

- ① ㄱ, ㄴ                      ② ㄱ, ㄷ                      ③ ㄴ, ㄷ
- ④ ㄴ, ㄹ                      ⑤ ㄷ, ㄹ

**08**

다음 글에서 설명하는 도시를 지도의 A~E에서 고른 것은?

대표적인 세계 도시로, 템스강 변에 있는 세계적 금융 중심지인 '더 시티'를 중심으로 많은 다국적 기업과 금융 기업의 본사가 자리 잡고 있으며, 미국 뉴욕과 함께 세계 금융 시장의 양대 축을 이룬다. 이 도시에 있는 국제공항인 히드로 공항은 200여 개의 국제노선을 보유하며 유럽 최대의 항공 허브이자 세계에서 연결된 노선이 많은 공항 중 하나이다.



- ① A
- ② B
- ③ C
- ④ D
- ⑤ E

# 1등급 완성 문제



## 01

다음 글에 대한 설명으로 옳은 것만을 <보기>에서 고른 것은?

- (가) 서울은 ‘㉠서울, 마이 소울(Seoul, My Soul)’이라는 도시 브랜드를 통해 전통과 현대가 조화를 이루는 도시 이미지를 강조하고 있다.
- (나) 서울은 ○○ 연구소가 세계 48개 도시를 대상으로 연구한 2024년 ‘세계 도시 종합 경쟁력 지수(GPCI)’에서 1위 런던, 2위 뉴욕에 이어 6위를 차지하며, 도시 경쟁력의 우수성을 입증하였다. 특히 연구·개발 분야에서 5위, 경제 15위, 교통 접근성에서 16위를 기록하며 세계 도시로서의 경쟁력을 입증하였다.

[보기]

- ㄱ. 서울은 뉴욕보다 세계 경제에 미치는 영향력이 크다.  
 ㄴ. 서울이 세계 도시로서의 영향력 강화를 위해서는 한 가지 분야만 집중해서 육성하는 것이 유리할 것이다.  
 ㄷ. ㉠은 지역화 전략 중 지역 브랜드화의 사례이다.  
 ㄹ. (가), (나) 모두 세계화의 영향을 받았다고 할 수 있다.

- ① ㄱ, ㄴ                      ② ㄱ, ㄷ                      ③ ㄴ, ㄷ  
 ④ ㄴ, ㄹ                      ⑤ ㄷ, ㄹ

## 02

㉠, ㉡에 들어갈 내용으로 옳은 것은?

- 성주 참외는 경상북도 성주 지역의 기후와 토양 조건 덕분에 독특한 맛과 향을 가진 과일이다. 성주는 낮과 밤의 일교차가 크고, 배수가 잘되는 사실 토양과 온화한 기후를 갖추고 있어 참외 재배에 최적의 환경을 제공한다. 이 지역에서 생산된 참외만이 ‘성주 참외’라는 명칭을 사용할 수 있으며, ㉠을/를 통해 보호받고 있다.
- 보령 머드 축제는 충청남도 보령시 대천해수욕장에서 열리는 대표적인 지역 축제이다. 머드 축제는 갯벌과 해양이라는 지역적 자원을 활용하여 관광객에게 체험형 콘텐츠를 제공하며, 숙박, 음식 등과 연계해 경제적 효과를 창출한다. 축제 개최를 통해 보령시는 지역 이미지를 강화하고, 국내외 관광객을 유치하여 ㉡의 성공적인 사례로 자리매김하였다.

- |   |         |         |
|---|---------|---------|
|   | ㉠       | ㉡       |
| ① | 공정 무역   | 장소 마케팅  |
| ② | 장소 마케팅  | 공정 무역   |
| ③ | 장소 마케팅  | 지리적 표시제 |
| ④ | 지리적 표시제 | 공정 무역   |
| ⑤ | 지리적 표시제 | 장소 마케팅  |

## 03

(가)에 들어갈 내용으로 가장 적절한 것은?

(가)의 사례 탐구

미국의 글로벌 의류 기업은 디자인과 마케팅은 미국에서 수행하고, 생산은 베트남의 호찌민과 빈즈엉 지역 공장에서 집중적으로 이루어지고 있다. 이러한 구조는 비용 절감과 생산 효율성을 동시에 높이면서, 베트남을 글로벌 생산 네트워크의 핵심 기지로 만드는 데 기여하고 있다. 전문가들은 “베트남에 진출하는 다국적 기업들이 본사와 생산 거점을 분리하는 전략을 통해 세계 시장에서의 경쟁력을 강화하고 있다”라고 분석하였다.

- 공정 무역의 중요성
- 규모의 경제와 기업 경영
- 다국적 기업의 공간적 분업
- 세계 무역 기구가 미친 영향
- 지역 특성을 반영한 현지화 전략

## 04

통합형

다음 글은 세계화의 문제점에 대한 것이다. 이에 대한 설명으로 옳은 것만을 <보기>에서 고른 것은?

소비자의 기호를 즉시 파악해 유행에 따라 빨리 바꿔 내놓는 의류를 의미하는 ㉠패스트패션 산업은 글로벌 공급망과 정보 통신 기술을 통해 전 세계 소비자에게 저렴한 의류를 신속하게 제공한다. 패스트패션으로 유명한 다국적 의류 기업들은 ㉡디자인과 마케팅은 본사에서, 생산은 노동력이 저렴한 방글라데시, 베트남, 인도네시아 등의 공장에서 수행하고 있다.

그러나 이 과정에서 ㉢노동권이 보호받지 못하는 경우가 발생하고, 안전사고, ㉣환경 오염 등의 문제가 발생하기도 하였다. 세계화로 인해 생산과 소비가 전 지구적으로 연결되면서, 소비자는 저렴한 제품을 얻는 동시에 생산 과정에서 발생하는 윤리 문제를 함께 고민해야 한다.

[보기]

- ㄱ. ㉠의 생산과 판매는 경제의 세계화 영향을 받아 나타났다.  
 ㄴ. ㉡은 다국적 기업의 공간적 분업 사례이다.  
 ㄷ. ㉢의 문제 발생 시 보편 윤리보다 특수 윤리를 우선시해야 한다.  
 ㄹ. ㉣의 해결을 위해 노조의 관점에서는 국가가 적극적으로 나서야 한다고 주장할 것이다.

- ① ㄱ, ㄴ                      ② ㄱ, ㄷ                      ③ ㄴ, ㄷ  
 ④ ㄴ, ㄹ                      ⑤ ㄷ, ㄹ

## 05 통합형

다음은 어느 여행기의 일부이다. 밑줄 친 ㉠~㉣에 대한 설명으로 옳은 것은?

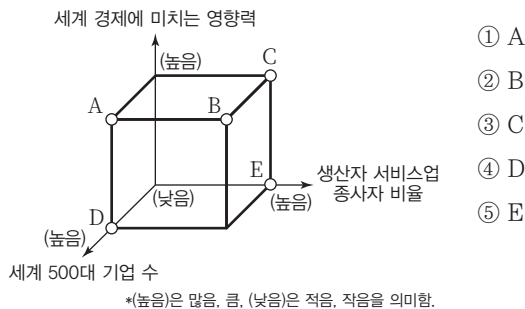
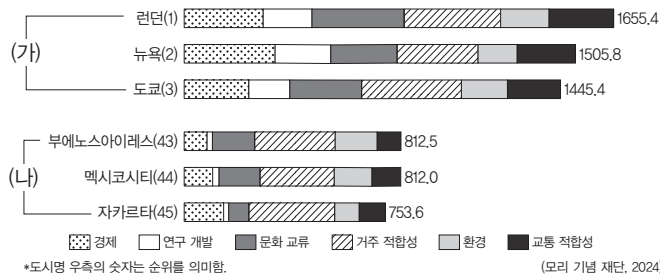
지난 여행에서 브라질 ㉠상파울루를 방문하였다. 남미 최대의 경제 중심지답게 높은 빌딩과 활기찬 금융가가 인상적이었다. 주요 랜드마크인 상파울루 대성당과 이비라푸에라 공원을 둘러보며 도시의 현대적 풍경과 녹지를 함께 경험하였다. 또한 ㉡파벨라에서는 불량 주택 지구에서 살아가는 사람들의 인권 보호를 어떻게 해줘야 할지 세계시민의 관점에서도 생각해 보았다.

다음으로 방문한 곳은 일본 ㉢도쿄였다. 도쿄타워와 스카이트리 등 도쿄의 주요 랜드마크를 감상하며 세계 디자인의 중심지라는 명성에 공감하였다. 맑은 날에는 멀리 아름다운 모습의 ㉣후지산이 우뚝 솟아 있는 풍경도 볼 수 있었고, 변화한 시부야와 전통적인 아사쿠사까지 도시 곳곳에서 현대와 전통이 공존하는 모습을 체험하였다.

- ① ㉡은 브라질에서 경제적으로 부유한 계층이 모여 있는 곳이다.
- ② ㉢은 주로 석회암의 용식 작용으로 형성되었다.
- ③ ㉣은 ㉠보다 세계 경제에 미치는 영향력이 크다.
- ④ ㉠과 ㉢은 모두 소속 국가의 수도이다.
- ⑤ ㉠과 ㉢은 모두 최한월 평균 기온이 18℃ 이상이다.

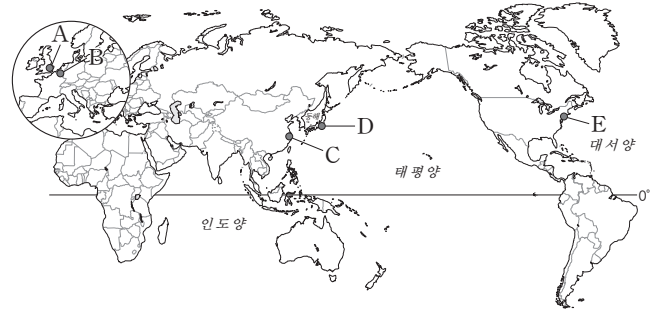
## 06

그래프는 세계 도시 순위를 나타낸 것이다. (나) 도시군과 비교한 (가) 도시군의 상대적 특징을 그림의 A~E에서 고른 것은?



## 07

지도는 세계 도시의 일부를 나타낸 것이다. A~E 도시에 대한 설명으로 옳은 것은? (단, A~E는 각각 뉴욕, 도쿄, 런던, 브뤼셀, 상하이 중 하나임.)



- ① A에는 유럽 연합(EU) 본부가 있다.
- ② B에는 국제 연합(UN) 본부가 있다.
- ③ E에는 문화의 중심인 타임스 스퀘어가 있다.
- ④ C는 E보다 세계 경제에 미치는 영향력이 크다.
- ⑤ C와 D는 모두 해당 국가의 수도이다.

## 08

다음 자료는 세 도시의 주요 경관과 위치를 나타낸 것이다. (가)~(다) 도시에 대한 설명으로 옳은 것만을 <보기>에서 고른 것은? (단, (가)~(다)는 각각 뉴욕, 베이징, 파리 중 하나임.)

(가)	(나)	(다)
• 위도와 경도: 39° 55' N 116° 23' E	• 위도와 경도: 48° 52' N 2° 20' E	• 위도와 경도: 40° 43' N 74° 00' W

### 보기

- ㄱ. (나)는 이탈리아 밀라노와 함께 세계 패션 문화에 미치는 영향력이 큰 세계 도시이다.
- ㄴ. (다)에는 세계 경제의 중심인 '월 스트리트'가 있다.
- ㄷ. (가)는 (다)보다 세계 도시 체계의 계층이 높다.
- ㄹ. (가)~(다)는 모두 해당 국가의 수도이다.

- ① ㄱ, ㄴ                      ② ㄱ, ㄷ                      ③ ㄴ, ㄷ
- ④ ㄴ, ㄹ                      ⑤ ㄷ, ㄹ

# 18 평화 실현과 통일을 위한 노력

## 1 평화의 의미와 국제 사회의 역할

### 01 평화의 의미와 중요성 자료 01

#### 1. 평화의 의미

##### (1) 소극적 평화

의미	전쟁, 테러, 범죄와 같은 직접적이고 물리적인 폭력이 없는 상태
실현 방법	물리적 폭력의 위협에서 벗어나 안전하게 살아갈 수 있는 환경을 조성
한계	인간은 빈곤, 기아, 불평등, 차별 등으로 인해라도 고통을 겪을 수 있기 때문에 소극적 평화만으로는 진정한 평화를 실현할 수 없음.

##### (2) 적극적 평화 (TIP) 문화적 영역이 직접적 폭력이나 구조적 폭력을 정당화하는 것을 말해. (TIP) 부정의한 사회 제도가 구조를 통해 이루어지는 폭력을 말해.

의미	직접적이고 물리적인 폭력뿐만 아니라 구조적 폭력, 문화적 폭력과 같은 간접적 폭력까지 모두 제거된 상태
실현 방법	직접적 폭력뿐만 아니라 구조적 폭력, 문화적 폭력과 같은 간접적 폭력까지 제거하여 모든 사회 구성원의 인간 존엄성을 보장
의의	모든 사람이 인간다운 삶을 누릴 수 있는 진정한 평화

#### 2. 국제 평화의 중요성

- (1) 인류의 안전과 생존을 보장
- (2) 인류의 삶의 질을 높이는 기반
- (3) 인간의 기본권 보장으로 국제 정의를 실현

### 02 평화 실현을 위한 국제 사회의 행위 주체의 역할

#### 1. 국제 사회의 행위 주체 (TIP) 전직 국가 원수, 국제 연합 사무총장, 노벨상 수상자와 같이 국제적으로 영향력이 있는 개인도 국제 사회의 중요한 행위 주체야.

국가	의미	일정한 영토와 국민을 바탕으로 독립적인 주권을 지키는 국제 사회의 가장 기본적인 행위 주체
	역할	<ul style="list-style-type: none"> <li>• 자국의 이익과 자국민 보호를 위한 외교 활동을 최우선으로 하며, 여러 국제기구에 참여하여 공식적으로 활동</li> <li>• 양보와 타협을 활용한 외교적 협상 등을 통해 갈등을 해결하기 위해 노력함으로써 평화 실현에 기여</li> </ul>
국제기구	의미	세계 각국의 정부로 구성되는 국제 사회의 행위 주체로서, 국제적 목적을 달성하기 위해 구성된 조직체
	역할	<ul style="list-style-type: none"> <li>• 국가 간 이해관계를 조정하고 국제 규범을 정립하며, 분쟁 당사국 간의 중재자 역할을 담당함으로써 평화 실현에 기여</li> <li>• ① 국제 연합(UN), 세계 보건 기구(WHO), 경제 협력 개발 기구(OECD) 등</li> </ul>
비정부기구	의미	개인이나 민간단체가 가입하여 자발적으로 활동하는 행위 주체
	역할	<ul style="list-style-type: none"> <li>• 개별 국가의 이익이 아닌 지구촌 공통의 문제를 해결하기 위해 노력</li> <li>• ② 국경 없는 의사회, 그린피스, 국제 엠네스티 등</li> </ul>

#### 2. 세계시민으로서 세계 평화에 기여하는 방법

- (1) 평화 문화 구축
- (2) 비정부 기구 활동 참여 (TIP) 공적 개발 원조를 통해 빈부 격차를 줄이고, 개발 도상국의 빈곤 문제를 해결할 수 있어.
- (3) 각국 정부에 공적 개발 원조 등과 같은 정책 요구
- (4) 폭력을 정당화하는 문화 개선 및 인간 존엄성 실현

## 2 통일과 세계 평화 실현을 위한 우리의 노력

### 01 남북 분단의 배경과 한반도 통일을 위한 노력 자료 04

#### 1. 남북 분단의 배경

국제적 배경	미국 중심의 자유주의 진영과 소련 중심의 공산주의 진영의 대결 구도 심화
국내적 배경	<ul style="list-style-type: none"> <li>• 이념 갈등으로 인한 민족 내부의 대립</li> <li>• 6·25 전쟁 발발로 인한 남북 분단의 고착화</li> </ul>

#### 2. 한반도 평화 통일을 위한 노력

통일의 필요성	한반도 평화 정착, 인도주의의 실현, 민족 동질성 회복, 민족의 경제적 번영, 세계 평화에 기여
통일을 위한 노력	<ul style="list-style-type: none"> <li>• 남북한의 평화적 교류와 협력을 지속적으로 추진</li> <li>• 한반도 통일에 우호적인 국제 환경을 조성</li> </ul>

(TIP) 통일이 우리의 삶과 직접적으로 연결된다는 점을 인식해야 해.

### 02 동아시아 역사 갈등과 세계 평화를 위한 노력

#### 1. 동아시아 역사 갈등 문제

한국과 중국	중국은 동북공정을 통해 고구려와 발해의 역사를 중국 역사에 편입시키고자 하여 우리나라와 갈등을 빚음.
한국과 일본	일본은 내선일체론을 주장하며 식민지 침탈을 정당화하고, 이 외에도 역사 교과서 왜곡, 독도 영유권 주장, 일본군 '위안부' 문제, 강제 징용 배상 문제 등으로 우리나라와 갈등을 빚음.
중국과 일본	센카쿠 열도(다오위다오)의 영유권과 오키나와 역사 해석을 둘러싸고 갈등을 빚음.

#### 2. 동아시아 역사 갈등 해결을 위한 노력

- (1) 한·중·일 역사를 공통으로 인식하기 위한 소통 공간 확대
- (2) 문화 교류의 장 활성화
- (3) 자국 중심주의에서 벗어나 과거의 잘못을 반성하는 자세 함양
- (4) 상호 공존하고 협력하는 동반자로서의 신뢰를 다지는 노력이 필요

#### 3. 세계 평화를 위한 우리의 노력

- (1) 인권 보장과 구호 활동에 참여: 경제 역량을 발휘하여 인류의 복지를 증진하기 위한 원조에 적극적으로 참여
- (2) 한반도 평화 통일: 한반도의 긴장을 해소하고 주변 국가와의 이념적 대립과 역사적 갈등을 해결

# 중요 자료 분석

## 자료 01 갈통의 평화 사상

- 직접적 폭력에는 언어적 폭력과 신체적 폭력이 있으며, 간접적 폭력은 사회 구조 자체에서 발생하는 폭력이다. 그리고 외적으로 일어나는 구조적 폭력의 두 가지 주요한 형태로는 억압과 착취가 있다. 이 두 가지 형태의 폭력은 몸과 마음에 작용하지만, 반드시 의도된 것은 아니다. 이러한 모든 것의 이면에는 문화적 폭력이 존재한다. 이는 종교와 사상, 언어와 예술, 과학과 법, 대중 매체와 교육의 내부에 존재하는 것이다. 이러한 문화적 폭력의 기능은 직접적 폭력과 구조적 폭력을 정당화하는 것이다.
- 어떤 종류의 폭력이라도 폭력은 또 다른 폭력을 낳는다. 직접적 폭력은 구조적 폭력을 낳고, 문화적 폭력은 이러한 모든 폭력을 정당화할 수 있다.  
- 갈통, 『평화적 수단에 의한 평화』

**자료 분석** 갈통은 직접적 폭력, 구조적 폭력, 문화적 폭력이 '폭력의 삼각형'을 이루어 서로 영향을 주고받아 폭력을 반복적으로 재생산한다고 보았다. 따라서 그는 진정한 평화를 실현하기 위해서는 직접적 폭력뿐만 아니라 구조적 폭력과 문화적 폭력까지 제거해야 한다고 보았다.

- (1) 갈통은 직접적 폭력만 사라지면 진정한 평화가 실현될 수 있다고 보았다. (O, X)
- (2) 갈통은 정치적 억압이나 경제적 착취도 폭력이라고 보았다. (O, X)

## 자료 02 현실주의와 이상주의

- **현실주의:** 국제 사회를 이기적인 인간들로 구성된 국가들이 자국의 이익과 생존을 위해 경쟁하는 무정부 상태로 바라보고 국제 사회에는 국가들을 통제할 상위의 중앙 권위가 존재하지 않는다고 본다. 따라서 각 국가는 다른 국가를 잠재적인 위협 요소로 인식하며, 자국의 생존을 스스로 보장해야 한다고 주장한다. 그리고 평화는 도덕이나 협력이 아니라 힘의 균형에 의한 전쟁 억제 상태이므로 국제 평화를 유지하기 위해서는 힘의 논리를 바탕으로 한 **세력 균형**이 필수적이라고 본다. ←(1916) 국가간의 힘의 균형으로 인해 어느 한 국가도 전쟁을 일으키기 어려운 상태를 말해.
- **이상주의:** 국가를 이성적이고 합리적인 존재로 보고, 국제 분쟁은 인간의 본성이 아닌 오해, 무지, 또는 잘못된 제도에서 비롯된다고 본다. 따라서 분쟁 해결을 위해 국가뿐만 아니라 개인, 국제기구, 비정부 기구 등 다양한 주체의 노력이 필요하다고 강조한다. 또한 국가 간의 이성적 대화와 협력, 도덕과 여론, 법률과 제도 등을 통해 평화를 만들어 갈 수 있다고 보며, 인간의 이성과 합리성을 바탕으로 국제 사회가 긍정적으로 발전할 수 있다고 본다.

**자료 분석** 이상주의는 국가가 이성적이고 합리적이라고 보고, 국제 사회에서 준수되어야 할 도덕과 규범을 강조한다. 이 관점은 잘못된 제도나 상대방에 대한 오해로 인해 국제 분쟁이 발생한다고 여기므로 국제법이나 국제 규범을 마련하여 평화를 실현할 수 있다고 주장한다. 반면 현실주의는 모든 국가가 자국의 이익만을 추구한다고 보고, 국가 간 힘의 논리를 강조한다. 따라서 평화는 세력 균형을 통해 실현할 수 있다고 본다.

- (1) 현실주의에 따르면, 전쟁이 발생하는 것을 방지하기 위해서는 세력 균형이 필요하다. (O, X)
- (2) 이상주의에 따르면, 국제 사회는 자국의 이익을 추구하려는 국가들이 서로 경쟁하는 무정부 상태이다. (O, X)

## 자료 03 국제 평화에 대한 칸트와 모겐소의 입장

- **칸트:** 전쟁을 방지하고 국가 간에 영원한 평화를 이루기 위해서는 모든 국가의 정치 체제가 공화 정체가야 한다. 또한 보편적 우호 관계에 기반을 둔 국제법이 적용되는 국제적 연맹이 있어야 한다.
- **모겐소:** 주권 국가의 권력을 향한 열망이 국제 관계의 주요한 동력이다. 따라서 국제 관계에서 평화 유지는 세력 균형을 통해 가능하다. 세력 균형을 통해 국제 무대에서 여러 세력이 스스로를 조절하게 할 수 있다.

**자료 분석** 칸트는 영원한 평화를 실현하기 위해서는 각국의 정치 체제가 공화 정체가야 한다고 주장하였다. 공화 정체는 여러 사람의 합의를 통해 주권이 행사되므로 군주의 독단적인 전쟁 결정을 막을 수 있다고 보았기 때문이다. 모겐소는 모든 국가는 자국의 이익만을 추구하며, 국제 사회는 이를 통제할 권위가 없는 무정부 상태라고 보았다. 그는 국가 간 세력 균형이 유지될 때 전쟁을 억제하고 평화를 유지할 수 있다고 보았다.

- (1) 칸트는 영원한 평화를 실현하려면 군주의 독단적인 전쟁 결정을 막을 수 있는 정치 체제가 필요하다고 보았다. (O, X)
- (2) 모겐소는 국제법이나 국제 규범의 확립을 통해 전쟁을 영원히 억제할 수 있다고 보았다. (O, X)
- (3) 모겐소는 모든 국가가 자국의 이익뿐만 아니라 다른 국가의 이익도 고려한다고 보았다. (O, X)

## 자료 04 통일과 관련된 비용

<b>분단 비용</b>	<ul style="list-style-type: none"> <li>• 분단으로 인해 남북한이 부담하는 유·무형의 모든 비용</li> <li>• 분단이 지속되는 동안 영구적으로 발생하는 소모적 성격의 비용</li> <li>• ㉠ 국방비, 외교적 경쟁 비용, 이산가족의 고통 등</li> </ul>
<b>통일 비용</b>	<ul style="list-style-type: none"> <li>• 통일 과정과 이후의 남북한 간 격차를 해소하고 이질적인 요소를 통합하는 데 부담해야 할 비용</li> <li>• 통일 이후 일정 기간 동안 한시적으로 발생하는 투자적 성격의 생산적 비용</li> <li>• ㉡ 화폐 통합 비용, 생산 시설 구축 비용, 통합 초기 사회 문제 처리 비용 등</li> </ul>
<b>통일 편익</b>	<ul style="list-style-type: none"> <li>• 통일로 얻게 되는 경제적·비경제적 보상과 혜택</li> <li>• 통일 이후 지속적으로 발생하는 혜택</li> <li>• ㉢ 내수 시장의 확대에 의한 경제 성장, 북한 주민의 인권 문제 해결 등</li> </ul>

**자료 분석** 분단 비용은 분단이 지속되는 동안 계속 발생하는 소모적인 비용이다. 반면에 통일 비용은 통일 과정에 필요한 한시적이고 투자적인 비용이다. 또한 통일 편익은 통일로 인해 얻게 되는 지속적인 혜택을 의미한다.

- (1) 분단 비용은 분단이 해소된 이후에도 계속 발생하는 투자적인 성격의 비용이다. (O, X)
- (2) 통일 비용은 통일 이후 일정 기간 발생하며, 남북한의 격차 해소와 사회 통합을 위한 투자적 성격의 비용이다. (O, X)
- (3) 통일 편익에는 경제 성장뿐만 아니라 북한 주민의 인권 문제 해결과 같은 비경제적 이점도 포함된다. (O, X)

## 01

다음을 주장한 사상가의 입장으로 적절한 것만을 <보기>에서 고른 것은?

폭력을 예방하고 제거하려면 직접적 폭력, 구조적 폭력, 문화적 폭력에 대한 정확한 진단과 예측, 그리고 처방이 필요하다. 폭력은 직접적 폭력, 구조적 폭력, 문화적 폭력의 삼각형의 어느 꼭짓점에서도 시작될 수 있고 다른 꼭짓점으로 쉽게 전달된다. 평화를 구축하는 활동들은 구조적 평화와 문화적 평화를 구축하는 활동과 동일하다고 할 수 있다. 평화는 과정이자, 갈등을 비폭력적이고 창조적으로 변환하는 것이다.

보기

- ㄱ. 집단 간 갈등은 무조건 회피해야 한다.
- ㄴ. 정치적 억압을 줄이면 구조적 폭력이 감소한다.
- ㄷ. 문화적 폭력은 직접적 폭력의 정당화에 이용될 수 있다.
- ㄹ. 대외적 선제공격은 평화를 구축하는 활동이 될 수 있다.

- ① ㄱ, ㄴ                      ② ㄱ, ㄷ                      ③ ㄴ, ㄷ
- ④ ㄴ, ㄹ                      ⑤ ㄷ, ㄹ

### 해결 Flow

제시문의 핵심 키워드를 토대로 사상가가 누구인지 파악한다.

<보기>의 선지 중 사상가의 입장에 부합하는 것을 고른다.

### 자료 분석

제시문을 주장한 사상가는 갈등이다. 갈등은 진정한 평화란 직접적 폭력은 물론이고 구조적 폭력과 문화적 폭력까지 사라질 때 실현될 수 있다고 주장하였다.

### 선지 분석

- ㄱ. 갈등은 갈등을 자연스러운 것으로 보았으며, 갈등을 나쁘다거나 회피해야 한다고 보지 않았다. 그는 갈등이 발생할 경우 평화적인 수단으로 해결해야 한다고 강조하였다.
- ✓ ㄴ. 갈등에 따르면, 정치적 억압은 구조적 폭력의 한 형태이므로 이를 줄이면 구조적 폭력의 감소로 이어질 수 있다.
- ✓ ㄷ. 갈등에 따르면, 문화적 폭력은 폭력을 정당화하거나 당연한 것처럼 보이게 만드는 상징, 이념, 종교, 언어, 예술 등을 의미한다. 예를 들어, 성차별을 정당화하는 전통, 인종 차별을 용인하는 종교 해석 등이 이에 해당한다.
- ㄹ. 대외적 선제공격은 직접적인 폭력에 해당하므로 평화를 구축하는 활동이 될 수 없다.

## 02

다음 글의 입장으로 가장 적절한 것은?

남북한의 서로 다른 체제를 통합하는 데 드는 통일 비용으로 인해 통일에 부정적인 사람들이 있다. 그러나 통일 비용은 크게 걱정할 문제가 아니다. 분단이 지속되는 한 국방비, 외교비와 같은 분단 비용은 계속 발생하지만, 통일 비용은 통일 전후 한시적으로만 발생하기 때문이다. 장기적으로 볼 때 통일로 인한 이익의 합, 즉 통일 편익이 통일 비용보다 더 크다.

- ① 통일 비용은 통일 이전에만 한시적으로 발생한다.
- ② 분단 비용은 통일 이후에도 지속적으로 발생한다.
- ③ 통일로 얻게 되는 장기적 이익이 통일 비용보다 크다.
- ④ 통일 편익은 분단 때문에 치러야 하는 소모적 비용이다.
- ⑤ 분단 비용은 서로 다른 체제를 통합하는 데 드는 비용이다.

### 해결 Flow

제시문을 정독하면서 통일과 관련된 비용의 특징을 파악한다.

제시문과 선지를 비교하여 제시문에 부합하는 선지를 선택한다.

### 자료 분석

제시문은 남북한의 체제를 통합하는 데 필요한 통일 비용보다 통일로 얻는 혜택인 통일 편익이 더 크다는 점을 강조한다.

### 선지 분석

- ① 통일 비용은 남북한의 체제를 통합하는 데 필요한 비용이므로 통일 이전은 물론 통일 이후에도 한시적으로 발생하는 비용이다.
- ② 분단 비용은 분단으로 발생하는 비용이므로 통일 이후에는 소멸한다.
- ✓ ③ 제시문은 통일로 인해 얻게 되는 장기적 이익인 통일 편익이 통일 비용보다 크다고 주장하고 있다. 통일 편익에는 남북한의 경제 통합으로 인한 경제적 이익과 평화의 정착, 이산가족의 고통 해소 등 비경제적 이익이 모두 포함된다.
- ④ 통일 편익은 통일을 통해 얻을 수 있는 모든 보상과 혜택을 말한다. 분단으로 인해 치러야 하는 소모적 비용은 분단 비용이다.
- ⑤ 분단 비용은 군사비와 같이 분단으로 인해 발생하는 비용을 말하며, 서로 다른 체제를 통합하는 데 드는 비용은 통일 비용이다.

### 01-1 동형 문제

(가)에 들어갈 진술로 가장 적절한 것은?

나는 진정한 평화란 직접적 폭력이 사라지고 굶주림과 정치적 억압, 경제적 착취, 차별도 모두 사라진 상태라고 생각한다. 그런데 어떤 사람은 전쟁이나 범죄 같은 물리적 폭력만 사라지면 평화라고 주장한다. 나는 이러한 주장이 (가) 고 생각한다.

- ① 평화는 생명의 위협이 모두 사라진 상태임을 간과한다
- ② 평화는 폭력적인 방법을 통해서라도 실현해야 함을 간과한다
- ③ 평화는 인간의 존엄성과 삶의 질까지 보장된 상태임을 간과한다
- ④ 평화는 구조적 폭력과 문화적 폭력까지 제거된 상태임을 강조한다
- ⑤ 평화는 인간의 기본적인 욕구가 모두 충족되는 상태임을 강조한다

### 01-2 동형 문제

그림의 강연자가 긍정의 대답을 할 질문으로 가장 적절한 것은?

직접적 폭력은 언어적 폭력과 신체적 폭력을 포함하며, 구조적 폭력은 부정의한 사회 구조로부터 발생하는 폭력으로, 불평등과 억압이 제도적으로 고착된 상태를 말한다. 그리고 문화적 폭력은 문화적 요소를 활용하여 직접적 폭력이나 구조적 폭력을 정당화하는 것을 말한다. 진정한 평화란 이러한 폭력들이 모두 사라진 상태이며, 이것이 바로 적극적 평화가 실현된 상태입니다.

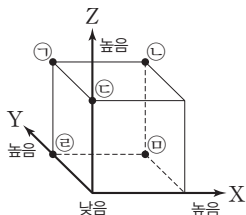


- ① 모든 폭력은 가해자의 의도가 개입되는가?
- ② 직접적 폭력만 제거하면 진정한 평화가 실현되는가?
- ③ 평화를 실현하기 위한 방법으로 폭력이 허용되어야 하는가?
- ④ 사회 제도의 개선은 평화를 실현하기 위한 방법이 될 수 있는가?
- ⑤ 평화는 인간 안보 차원이 아닌 국가 안보 차원으로 확장되어야 하는가?

### 02-1 동형 문제

(가)의 입장에 비해 (나)의 입장이 갖는 상대적 특징을 그림의 ㉠~㉣ 중에서 고른 것은?

(가)	한반도가 통일하게 될 경우 사회 간접 자본 축적, 복지 제도 정비, 북한 주민 생활 안정 등을 위한 다양한 지원이 필요하므로 국민의 세금 부담이 늘어나는데, 이는 국가 경쟁력을 약화하는 요인이 될 수 있다. 따라서 통일은 단기간에 우리 사회 전반에 심각한 경제적 손실을 가져올 수 있다.
(나)	통일 초기에는 많은 비용이 들지만, 장기적으로는 통일이 한반도 전체의 경제 발전을 촉진하는 기회가 될 수 있다. 북한의 풍부한 노동력과 자원, 남한의 자본과 기술을 결합하면 경제적 효과를 극대화할 수 있으며, 국방비 절감과 시장 확대도 가능하다. 더불어 민족적 동질성을 회복하여 사회적 통합을 강화하고, 동북아시아의 안정에도 기여할 수 있다.



- X: 통일로 인한 경제적 손실을 강조하는 정도
- Y: 통일이 민족의 동질성 회복에 기여함을 강조하는 정도
- Z: 통일 비용의 투자적인 성격을 강조하는 정도

- ① ㉠      ② ㉡      ③ ㉢      ④ ㉣      ⑤ ㉠

### 02-2 통합형

다음 글에 대한 설명으로 적절한 것만을 <보기>에서 고른 것은?

동독과 서독은 분단 초기부터 1961년 베를린 장벽 설치 이전까지 비교적 자유롭게 교류하였으며, 장벽이 세워진 이후에도 해마다 7천 명에서 3만여 명이 동독에서 서독으로 합법적 이주를 하였다. 서독의 브란트 수상은 1969년 펼친 '동방 정책'을 통해 동서독은 1972년에 '동서독 기본 조약'을 체결하였으며, 이를 바탕으로 동서독 간 교류 협력이 활성화되었다. 서독이 적극적으로 동방 정책을 추진할 수 있었던 배경으로는 경제 발전, 안보 환경 개선, 적극적인 외교 노력 등을 들 수 있다. 서독은 높은 경제 발전 수준에 대한 자신감을 가지고 있었고, 북대서양 조약 기구 등 집단 안보 체계의 확립으로 안보 불안 요소가 감소하면서 동독에 대한 동방 정책을 지속할 수 있었다.

보기

- ㄱ. 동서독 기본 조약은 적극적 평화 실현에 기여하였다.
- ㄴ. 서독의 동방 정책은 분단 비용을 증가시키는 조치이다.
- ㄷ. 평화적 교류와 협력은 평화 정착을 위한 토대를 제공한다.
- ㄹ. 베를린 장벽 설치하는 문화적 폭력을 제거하기 위한 노력이다.

- ① ㄱ, ㄴ      ② ㄱ, ㄷ      ③ ㄴ, ㄷ  
 ④ ㄴ, ㄹ      ⑤ ㄷ, ㄹ

# 수능 기본 문제

## 01

다음을 주장한 사상가의 입장으로 적절한 것만을 <보기>에서 고른 것은?

소극적 평화는 직접적 폭력이 없는 상태이며, 적극적 평화는 구조적 폭력부터 문화적 폭력까지 없는 상태이다. 직접적 폭력이란 물리적 힘에 의해 이루어지는 가시적인 폭력을 의미하는데, 사회에는 눈에 보이지 않는 형태의 폭력도 존재한다. 구조적 폭력은 제도나 사회 구조 안에 내재된 불평등과 차별로 인해 사람들이 기본적인 권리나 자원을 제대로 누리지 못하는 상태를 말하고, 문화적 폭력은 이러한 불평등한 구조를 정당화하거나 당연한 것으로 여기게 만드는 폭력이다. 이처럼 직접적 폭력의 이면에는 보이지 않는 구조적 폭력과 문화적 폭력이 자리하고 있으며, 이러한 폭력을 제거하지 않는 한 평화는 일시적이고 불완전한 상태에 머물 수밖에 없다. 따라서 모든 종류의 폭력을 비폭력적인 방법을 통해 예방하고 제거할 때 진정한 평화의 실현이 가능하다.

[보기]

- ㄱ. 평화를 실현하기 위한 수단은 평화적이어야 한다.
- ㄴ. 구조적 폭력만 제거하면 물리적 폭력을 제거할 수 있다.
- ㄷ. 인간의 존엄성과 삶의 질이 보장될 때 적극적 평화가 실현된다.
- ㄹ. 절대 빈곤에 고통받더라도 전쟁만 종식되면 진정한 평화가 실현된다.

- ① ㄱ, ㄴ                      ② ㄱ, ㄷ                      ③ ㄴ, ㄷ
- ④ ㄴ, ㄹ                      ⑤ ㄷ, ㄹ

## 02

밑줄 친 ㉠의 역할에 대한 설명으로 옳지 않은 것은?

지구촌 곳곳에서 발생하는 갈등은 특정 국가나 지역의 문제에 그치지 않고, 전 세계적인 인도적·정치적 위기로 이어질 수 있다. 만약 ㉠국제 사회 행위 주체들이 이러한 갈등에 무관심하거나 방관한다면 상황은 더욱 악화되고 더 많은 희생자가 발생할 수 있다. 따라서 국제 사회 행위 주체는 갈등을 조기에 발견하고, 갈등의 평화적 해결을 위해 적극적으로 개입해야 한다.

- ① 국제기구는 갈등 해결을 위한 중재자 역할을 수행한다.
- ② 국가 간 갈등을 힘의 논리를 통해 신속하게 종결시킨다.
- ③ 어려움에 놓인 국가에 대해 인도적 지원과 원조를 제공한다.
- ④ 각 국가는 갈등을 평화적으로 해결하려는 외교적 노력을 지속한다.
- ⑤ 비정부 기구는 전쟁이나 재난으로 고통받는 이들을 돕기 위한 구호 활동을 한다.

## 03

다음을 주장한 사상가의 입장에서 긍정의 대답을 할 질문으로 옳은 것만을 <보기>에서 고른 것은?

국제 사회는 상위 중앙 권위가 존재하지 않는 무정부 상태이며, 이러한 구조는 국가 간의 관계를 불안정하게 만든다. 이와 같은 환경 속에서 국가는 생존을 최우선 과제로 삼고, 자국의 이익을 극대화하려는 방향으로 외교와 안보 전략을 설정한다. 인간은 본질적으로 이기적 존재이며, 국제 정치 역시 이러한 인간 본성의 연장선에서 이해할 수 있다. 각 국가는 타국의 성장과 영향력 확대를 잠재적 위협으로 간주하며, 이를 견제하기 위해 군사력 증강이나 외교적 동맹 체결과 같은 수단을 활용한다. 특히 세력 균형을 유지하는 것은 불확실한 국제 질서 속에서 충돌을 방지하고 자국의 안보를 확보하기 위한 전략으로 작동한다. 국제 관계에서 평화는 이상적 규범이나 도덕적 연대에 의해 유지되기보다는 힘의 논리를 바탕으로 한 세력 균형에 의해 유지된다.

[보기]

- ㄱ. 국가 간 분쟁을 방지할 수 있는 수단이 존재하는가?
- ㄴ. 인간이 이성적 존재이듯이 국가도 이성적이고 합리적인가?
- ㄷ. 세계는 자국의 이익을 추구하는 국가들로 구성되어 있는가?
- ㄹ. 평화는 국가 간 협력을 바탕으로 국제 규범을 통해 해결해야 하는가?

- ① ㄱ, ㄴ                      ② ㄱ, ㄷ                      ③ ㄴ, ㄷ
- ④ ㄴ, ㄹ                      ⑤ ㄷ, ㄹ

## 04

통합형

밑줄 친 ㉠~㉣에 대한 설명으로 옳지 않은 것은?

인간이 이성적 존재이듯 국가 역시 이성적이고 합리적인 행위자이다. ㉠국가 간 분쟁은 인간 본성에서 비롯되는 것이 아니라, 상대방에 대한 무지나 오해, 잘못된 제도에서 유래한다. 이러한 분쟁을 해결하기 위해서는 ㉡국가뿐만 아니라 ㉢개인, ㉣국제기구, ㉤비정부 기구 등 다양한 주체의 노력이 필요하다. 평화는 국가 간 이성적 대화와 협력, 그리고 여론, 법률, 제도를 바탕으로 실현할 수 있다.

- ① ㉠에 대한 공간적 관점의 탐구 질문은 ‘과거와 현재의 국가 간 분쟁은 어떤 양상으로 변화해 왔는가?’이다.
- ② ㉡은 일정한 영토와 국민을 바탕으로 주권을 가진 국제 사회의 가장 기본적인 행위 주체이다.
- ③ ㉢의 사례로는 노벨상 수상자나 전직 국가 원수 등을 들 수 있다.
- ④ ㉣의 사례로는 국제 연합(UN)과 유니세프(UNICEF)가 있다.
- ⑤ ㉤은 갈등의 중재자 역할을 수행하고 인도주의적 구호 활동에 나서야 한다.

### 05

다음 주장한 사상가의 입장으로 옳은 것만을 <보기>에서 고른 것은?

전쟁을 방지하고 국가 간에 영원한 평화를 이루기 위해서는 모든 국가의 정치 체제가 공화 정체가야 하며, 보편적 우호 관계에 기반을 둔 국제법이 적용되는 국제적 연맹이 있어야 한다. 또한 세계시민법은 보편적인 우호의 제반 조건에 국한되어야 한다.

- 보기
- ㄱ. 모든 국가는 자국의 이익만을 추구한다.
  - ㄴ. 영원한 평화는 세력 균형을 통해서만 실현할 수 있다.
  - ㄷ. 개별 국가들의 주권이 존중될 때 평화를 실현할 수 있다.
  - ㄹ. 군주의 독단적인 전쟁 결정을 막을 수 있는 정치 체제가 필요하다.

- ① ㄱ, ㄴ                      ② ㄱ, ㄷ                      ③ ㄴ, ㄷ
- ④ ㄴ, ㄹ                      ⑤ ㄷ, ㄹ

### 06

다음 신문 칼럼의 입장으로 적절하지 않은 것은?

○○신문                                      ○○○○년 ○○월 ○일

**칼럼**

1945년 광복과 함께 한반도는 미군과 소련군의 군정 아래 38선을 경계로 남북으로 나뉘었고, 1950년 6·25 전쟁까지 발발하였다. 분단은 영토의 분리뿐만 아니라 이념과 체제의 대립으로 이어져 지금까지도 군사적 긴장과 막대한 안보 비용을 초래하고 있다.

통일 과정에서는 제도 통합과 인프라 구축, 주민 생활 안정 등을 위한 통일 비용이 단기적으로 발생할 수 있으며, 통일 이후에도 경제적 격차 해소와 사회 통합을 위한 지속적인 노력이 필요하다. 그러나 통일을 통해 북한의 풍부한 노동력과 남한의 자본 및 기술을 결합함으로써 새로운 경제 성장의 동력을 창출할 수 있다. 또한 오랜 세월 이산가족으로 살아온 이들의 아픔을 치유하고, 민족 정체성을 회복할 수 있다. 따라서 통일은 단지 정치적 과업이 아니라 미래 세대에게 평화롭고 지속가능한 한반도를 물려주기 위한 시대적 책무이다.

- ① 분단은 분단 비용을 지속적으로 초래한다.
- ② 통일을 통해 경제적 편익을 창출할 수 있다.
- ③ 통일은 장기적인 편익보다 단기적인 소모성 비용이 크다.
- ④ 통일 과정에서 제도 통합 등으로 인해 일정한 통일 비용이 발생할 수 있다.
- ⑤ 통일은 이산가족의 아픔을 치유하고 민족 정체성을 회복하는데 기여할 수 있다.

### 07

다음 주장한 사상가의 입장에서 <문제 상황>을 분석한 것으로 적절한 것만을 <보기>에서 고른 것은?

폭력에는 직접적 폭력, 구조적 폭력, 문화적 폭력이 있으며, 이 세 가지 폭력은 서로 상호 작용하여 재생산된다. 진정한 평화는 직접적 폭력뿐만 아니라 구조적·문화적 폭력까지도 사라질 때 실현될 수 있다.

**<문제 상황>**

남북한은 1953년 정전 이후 지금까지 평화 협정을 맺지 못한 채 군사적 긴장 상태를 이어 오고 있다. 비무장 지대(DMZ) 인근에는 여전히 수많은 병력이 배치되어 있고, 북한의 핵과 미사일 개발로 인해 남북 간 군사적 불신이 심화되고 있다. 정치적으로도 상호 인정과 교류가 반복적으로 중단되면서 신뢰 형성이 어려운 상황이다. 이러한 갈등은 한반도의 평화와 안정에 큰 위협이 되고 있다.

- 보기
- ㄱ. 한반도에는 직접적 폭력의 위협이 사라진 상태이다.
  - ㄴ. 무력을 동원해서라도 한반도의 평화를 실현해야 한다.
  - ㄷ. 상호 신뢰 회복을 위한 대화는 평화 실현에 도움이 된다.
  - ㄹ. 한반도의 평화를 위해 전쟁의 위협을 제거하고 인간의 존엄성을 보장해야 한다.

- ① ㄱ, ㄴ                      ② ㄱ, ㄷ                      ③ ㄴ, ㄷ
- ④ ㄴ, ㄹ                      ⑤ ㄷ, ㄹ

### 08

다음 가상 편지에서 강조하는 내용으로 가장 적절한 것은?

우리 민족은 오랫동안 분단의 아픔을 겪으며 서로 다른 제도와 생활 방식을 이어 왔습니다. 많은 시간이 흘렀지만 우리는 여전히 같은 역사와 문화를 공유하며 깊은 정서적 유대를 지니고 있습니다. 나는 바로 이러한 점 때문에 통일이 필요하다고 생각합니다. 통일은 단순히 제도의 결합이 아니라, 흩어진 가족이 다시 만나서 하나의 민족으로서의 정체성을 되찾는 길입니다. 언어와 전통, 문화적 관습은 분단 이후에도 우리를 하나로 이어 주고 있으며, 이는 세계 어느 나라와도 바꿀 수 없는 소중한 자산입니다. 우리가 서로를 동등한 동포로 인정하고 공동의 문화를 이어 갈 때 비로소 온전한 민족의 모습을 회복할 수 있을 것입니다. 나는 통일이 아말로 흩어진 우리의 뿌리를 하나로 잇는 일이며, 같은 민족으로서의 정체성을 되찾는 계기가 될 것이라고 생각합니다.

- ① 통일은 국방비를 절감하기 위해 필요하다.
- ② 통일은 안보 위기를 해결하기 위해 필요하다.
- ③ 통일은 국제적 위상을 강화하기 위해 필요하다.
- ④ 통일은 경제 성장을 가속화하기 위해 필요하다.
- ⑤ 통일은 민족의 동질성을 회복하기 위해 필요하다.

# 1등급 완성 문제



## 01

다음 강연자가 지지할 입장으로 적절하지 않은 것은?

폭력은 직접적 폭력, 구조적 폭력, 그리고 문화적 폭력으로 나눌 수 있습니다. 이 세 가지 폭력이 모두 부재한 상태를 적극적 평화라고 하며, 그중 직접적 폭력만이 부재한 상태는 소극적 평화라고 할 수 있습니다. 직접적 폭력은 한 개인에게 직접 가해지는 언어적 폭력이나 신체적 폭력을 말합니다. 구조적 폭력은 부정의한 사회 구조로부터 발생하는 폭력을 의미하고, 문화적 폭력은 직접적 폭력과 구조적 폭력을 정당화하거나 합법화하는 데 이용될 수 있는 폭력적인 문화를 뜻합니다.



- ① 평화를 실현하기 위한 수단은 평화적인 것이어야 한다.
- ② 직접적·구조적·문화적 폭력은 서로 유기적으로 연결되어 있다.
- ③ 권위주의에서 비롯된 문화적 폭력은 구조적 폭력을 정당화한다.
- ④ 구조적 폭력은 가해자의 명백한 의도가 있을 경우에만 발생한다.
- ⑤ 소극적 평화란 테러나 범죄와 같은 물리적 폭력이 없는 상태이다.

[02~03] 다음 자료를 읽고 물음에 답하십시오.

(가)	영원한 평화를 위한 확정 조항은 다음과 같다. 첫째, 모든 국가의 시민적 정치 체제는 공화 정제여야 한다. 둘째, 국제법은 자유로운 국가들의 연방 체제에 기초해야 한다. 셋째, 세계시민법은 보편적 우호의 조건들에 국한되어야 한다. 여기서 우호란 외국인이 타국의 영토에 도착하였다고 해서 적대적으로 취급받지 않을 권리를 의미한다.
(나)	요즘 우리나라에는 외국인의 유입이 꾸준히 증가하고 있다. 특히 산업 현장에서 외국인 근로자의 비중이 높아지고 있으며, 이들은 우리 경제에 중요한 역할을 하고 있다. 또한 한국인과 결혼한 외국인도 점차 늘어나 다문화 가정의 수가 증가하고 있다. 한편 한국의 교육 수준과 문화에 매력을 느껴 국내 대학에 진학하는 외국인 유학생들도 많아지고 있다.

## 02

(가)를 주장한 사상가의 입장으로 적절한 것만을 <보기>에서 고른 것은?

보기

- ㄱ. 상비군의 폐지는 평화 실현에 도움이 될 수 있다.
- ㄴ. 평화 조약은 국가 간 분쟁을 예방할 수 있는 수단이다.
- ㄷ. 단일한 세계 정부가 수립되어야 전쟁이 종식될 수 있다.
- ㄹ. 모든 국가가 공화 정제가 되는 것만으로 영원한 평화를 실현할 수 있다.

- ① ㄱ, ㄴ                      ② ㄱ, ㄷ                      ③ ㄴ, ㄷ
- ④ ㄴ, ㄹ                      ⑤ ㄷ, ㄹ

## 03 통합형

(가)를 주장한 사상가의 입장에서 (나)의 상황을 설명한 내용으로 가장 적절한 것은?

- ① 환대받을 권리는 국가의 법률로서 발생하는 권리이다.
- ② 외국인에 대한 환대는 본토 주민의 무조건적 의무이다.
- ③ 타국을 방문한 모든 외국인에게 체류권을 보장해야 한다.
- ④ 모든 외국인은 정당한 이유 없이 배척당하지 않아야 한다.
- ⑤ 외국인의 정착은 사회의 통합을 방해하므로 허용하지 않아야 한다.

## 04

다음 토론의 핵심 쟁점으로 가장 적절한 것은?

갑: 통일은 막대한 재정 부담과 사회적 혼란을 초래할 것입니다. 남북한의 경제적 격차가 매우 크고, 문화적 이질화도 심각하기 때문에 막대한 통일 비용을 감수해야 합니다. 독일도 통일 후 오랜 시간 세금 인상과 문화적 차이로 인한 갈등을 겪었다는 점을 잊지 말아야 합니다.

을: 동의합니다. 하지만 분단이 계속되면 국방비에 막대한 세금이 소모되고, 외국 자본의 투자도 위축됩니다. 이산가족의 고통 등 사회적 비용도 계속 누적됩니다. 반면 통일이 되면 인구 증가와 평화 정착을 바탕으로 외국인 투자 증가, 노동력 확보, 내수 시장 확대를 통해 경제적 번영을 누릴 수 있고 세계 평화에도 기여할 수 있습니다.

갑: 통일 이후에 실업자와 빈곤층이 급증하고, 북한 출신 주민들을 위한 복지 수요도 폭발적으로 증가할 것입니다. 또한 제도와 문화적 차이에 따른 혼란도 불가피합니다. 이뿐만 아니라 막대한 비용 탓에 경제가 침체되고 민족의 경쟁력이 약화될 것입니다.

을: 물론 단기적인 혼란은 있을 수 있습니다. 하지만 통일을 단계적으로 준비하면 충격을 줄일 수 있습니다. 통일을 통해 분단으로 인한 안보 불안과 긴장을 해소하고, 경제·사회적 손실을 줄일 수 있습니다. 나아가 단기간의 비용을 뛰어넘는 이익이 영구적으로 발생할 것입니다.

- ① 통일 과정에서 사회적 갈등이 예상되는가?
- ② 통일 이후에 경제적 부담이 발생할 수 있는가?
- ③ 통일은 비용보다 더 큰 편익을 제공할 수 있는가?
- ④ 통일을 위한 주변국과의 외교적인 노력이 필요한가?
- ⑤ 통일 과정에서 독일의 사례에 대해 숙고해야 하는가?

### 05

다음 지도에 대한 설명으로 옳은 것만을 <보기>에서 고른 것은?



**보기**

- ㄱ. 일본의 영토와 주권을 침해하는 내용이다.
- ㄴ. 한국, 일본, 중국의 영토 분쟁에 관한 그림이다.
- ㄷ. 발해의 역사가 고대 중국의 지방사(史)라고 주장한다.
- ㄹ. 중국 영토 내에 있는 소수 민족의 분리 독립을 막으려는 것이 목적이다.

- ① ㄱ, ㄴ                      ② ㄱ, ㄷ                      ③ ㄴ, ㄷ
- ④ ㄴ, ㄹ                      ⑤ ㄷ, ㄹ

### 06

다음을 주장한 사상가의 입장에만 모두 'V'를 표시한 학생은?

언어, 예술, 종교, 이념, 도덕, 가치 등 인간 존재의 상징적 차원에서 작동하는 문화적 폭력은 살인, 빈곤, 억압, 소외, 착취 등 직접적 폭력과 구조적 폭력의 모든 유형을 관통하며, 이것에 정당성과 합법성을 부여함으로써 폭력을 은폐한다. 따라서 진정한 평화는 직접적 폭력의 부재뿐만 아니라, 구조적 폭력과 문화적 폭력의 부재를 지향할 때에만 가능하다.

입장	학생	갑	을	병	정	무
폭력은 인간의 기본적인 욕구를 무시하는 것이다.		V			V	V
물리적 폭력과 달리 문화적 폭력은 제거할 수 없다.			V	V	V	
간접적 폭력이 직접적 폭력의 확산에 영향을 줄 수 있다.		V	V			V
구조적 폭력을 올바른 것처럼 보이게 만드는 행위도 폭력이다.				V	V	V

- ① 갑                      ② 을                      ③ 병                      ④ 정                      ⑤ 무

### 07

그림은 서술형 평가 문제와 학생 답안이다. 밑줄 친 ㉠~㉣ 중 옳지 않은 것은?

**서술형 평가**

◎ 문제: 통일과 관련된 비용인 (가), (나)를 비교하여 설명하시오.

- (가) 남북한 분단으로 인한 대결과 갈등 때문에 지출되는 비용
- (나) 통일 과정과 이후에 남북한 간의 격차를 해소하고 이질적인 요소를 통합하는 데 부담해야 할 모든 비용

◎ 학생 답안

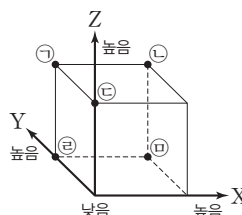
통일과 관련된 비용 (가)는 ㉠전쟁 가능성에 대한 공포, 이산 가족의 고통 등을 포함하며, ㉡분단이 지속되는 동안 영구적으로 발생하는 비용이다. 반면 (나)는 ㉢통일 한국의 번영을 위한 투자적인 성격의 비용이며, ㉣통일 이후에도 영구적으로 발생하는 비용이다. 한편 (가), (나)는 모두 ㉤유·무형의 비용을 포함한다.

- ① ㉠                      ② ㉡                      ③ ㉢                      ④ ㉣                      ⑤ ㉤

### 08

(가)의 입장에 비해 (나)의 입장이 갖는 상대적인 특징을 그림의 ㉠~㉣ 중에서 고른 것은?

(가)	남북한은 분단 이후로 정치·경제 제도, 생활양식의 격차가 크게 벌어져 왔다. 이러한 상황에서 성급한 통일이 이루어진다면 주민들의 불안과 갈등이 커지고, 막대한 통일 비용이 발생하여 남북 모두에 경제적 부담을 안길 것이다. 따라서 성급한 통일보다는 서로의 체제를 존중하며 공존을 도모하는 평화적 관계 구축을 우선시해야 한다.
(나)	남북한의 통일은 분단 체제를 유지하는 데 드는 비용을 줄이고 한반도의 지속가능한 발전을 이루는 데 도움이 될 것이다. 또한 군사적 긴장과 대립이 해소되면 주민들의 삶의 질이 높아지고, 인권을 보호하고 평화를 실현할 수 있다. 따라서 통일은 장기적으로 반드시 달성해야 할 과제이다.



- X: 통일이 경제적 부담으로 이어질 수 있음을 강조하는 정도
- Y: 한반도의 발전을 위해 통일이 필요함을 강조하는 정도
- Z: 통일이 인간 존엄성 실현에 기여할 수 있음을 강조하는 정도

- ① ㉠                      ② ㉡                      ③ ㉢                      ④ ㉣                      ⑤ ㉤

## 세계의 인구와 인구 문제

### 1 세계 인구의 이해와 인구 문제의 양상

#### 01 세계의 인구 분포와 인구 구조

##### 1. 세계의 인구 변화

(TIP) 인구는 특정 시점에 일정한 지역에 사는 사람의 수로 출생이나 사망과 같은 자연적 요인, 전출이나 전입과 같은 사회적 요인에 따라 끊임없이 변화해.

특징	산업화 이전에는 느린 속도로 증가하다가 산업 혁명 이후에 급격히 증가 (TIP) 한 국가에서 사용 가능한 자원으로 얼마만큼의 인구를 부양할 수 있는지 나타내는 지표야.
배경	산업 혁명 이후 생활 환경 개선, 의료 기술 발달 등으로 인구 부양력과 평균 수명이 증가하고 사망률은 감소
선진국의 인구 성장	<ul style="list-style-type: none"> <li>산업화의 영향으로 18~20세기 초까지 인구 증가</li> <li>20세기 중반 이후 출생률 감소로 인구가 정체하거나 감소</li> </ul>
개발 도상국의 인구 성장	<ul style="list-style-type: none"> <li>제2차 세계 대전 이후 출생률보다 사망률이 빠르게 감소하여 인구가 급증</li> <li>아시아, 아프리카, 라틴 아메리카 등에서 세계의 인구 성장을 주도할 것으로 예상</li> </ul>

##### 2. 세계의 인구 분포

###### (1) 세계의 인구 분포

특징	자연환경, 인문환경의 영향을 받아 지역적으로 불균등하게 분포
현황	<ul style="list-style-type: none"> <li>전 세계 인구의 90% 이상이 북반구에 거주</li> <li>저·고위도 지역보다 중위도 지역의 인구 밀도가 더 높음.</li> <li>대표 지역                     <ul style="list-style-type: none"> <li>밀집 지역: 동아시아, 남부 아시아, 미국 북동부, 서부 유럽 등</li> <li>희박 지역: 사막 지역, 아마존 분지, 히말라야산맥, 시베리아 등</li> </ul> </li> </ul>

###### (2) 산업화 이전의 인구 분포 특징

특징	<ul style="list-style-type: none"> <li>기후, 지형과 같은 자연적 요인이 중요</li> <li>기후가 온화하고 평야가 발달하여 식량 생산이 유리한 지역에 인구 밀집</li> <li>건조·한대 기후, 험준한 산지·고원 지역은 인구 희박</li> </ul>
----	--

###### (3) 산업화 이후의 인구 분포 특징

특징	산업의 발달로 일자리가 풍부한 지역이나 교통이 발달하여 접근성이 좋은 지역에 인구 집중
----	--

(TIP) 유소년층 인구 100명에 대한 노년층 인구 비율을 말하며, 노년 부양비/유소년 부양비로도 표현할 수 있어.

##### 3. 세계의 인구 구조 [자료 01] [자료 03]

의미	어느 집단의 연령, 성, 산업 종사자 등에 따른 인구 구성을 나타내는 자료로 미래의 변화를 예측하는 데 활용 가능
인구 피라미드	인구 구조를 연령별, 성별로 나타낸 모형으로 인구의 구성을 시각적으로 쉽게 파악 가능
선진국	<ul style="list-style-type: none"> <li>기대 수명이 길고 함께 출산율이 낮아, 노년층 인구 비중은 높고, 유소년층 인구 비중은 낮음.</li> <li>노령화 지수, 중위 연령, 노년 부양비가 높음.</li> </ul>
개발 도상국	<ul style="list-style-type: none"> <li>기대 수명이 짧고 함께 출산율이 높아, 노년층 인구 비중은 낮고, 유소년층 인구 비중은 높음.</li> <li>유소년 부양비, 인구 증가율이 높음.</li> </ul>

#### 02 세계의 인구 이동 (TIP) 교통·통신의 발달과 세계화로 세계적인 인구 이동이 활발해.

##### 1. 인구 이동 요인: 정치, 경제, 종교, 환경의 차이 등

##### 2. 인구 이동 유형 [자료 02]

(TIP) 이주 동기에 따라 자발적 이동과 비자발적 이동으로 구분하기도 해. 대부분의 경제적 이동은 자발적 이동에 해당하고, 정치적 이동은 비자발적 이동(강제적 이동)에 해당해.

경제적 이동	주로 개발 도상국의 인구가 경제 수준이 높고 고용 기회가 많은 선진국으로 이동하는 경우 (TIP) 개발 도상국에서 더 발달한 개발 도상국으로 이동하는 경우도 많아.
정치적 이동	국가 간의 전쟁, 국내 정치적 분쟁 등의 이유로 국경을 넘어 인구가 이동하는 경우
환경적 이동	기후변화에 따른 자연재해로 인해 거주지의 생활 여건이 나빠져 인구가 이동하는 경우

#### 03 세계의 인구 문제

##### 1. 저출산·고령화 문제 (TIP) 주로 선진국에서 발생해.

저출산	<ul style="list-style-type: none"> <li>원인: 결혼 및 양육에 대한 가치관 변화로 출생률 감소</li> <li>영향: 생산 가능 인구 감소에 따른 노동력 부족과 소비 활동 위축에 따른 경기 침체 등</li> </ul>
고령화	<ul style="list-style-type: none"> <li>원인: 의료 기술 발달, 생활 수준 향상, 위생 수준 개선 등으로 평균 수명 증가</li> <li>영향: 노인 부양비 증가, 노인 복지에 드는 비용 증가, 청장년 층과 노년층 간의 갈등 발생 등</li> </ul>

##### 2. 인구 과잉 문제 (TIP) 주로 개발 도상국에서 발생해.

인구 과잉	<ul style="list-style-type: none"> <li>원인: 의료 기술 및 생활 수준 향상으로 사망률은 감소하면서 높은 출생률을 유지</li> <li>영향: 식량 및 자원 부족, 일자리 부족으로 실업 문제</li> </ul>
도시 문제	<ul style="list-style-type: none"> <li>원인: 급속한 산업화에 따른 이촌향도 현상</li> <li>영향: 대도시는 도시의 성장 속도에 비해 빠른 인구 증가로 주택 등의 기반 시설이 부족하거나, 불량 주택 지구 형성</li> </ul>

### 2 인구 문제 해결 방안

#### 01 미래 세대를 위한 인구 정책

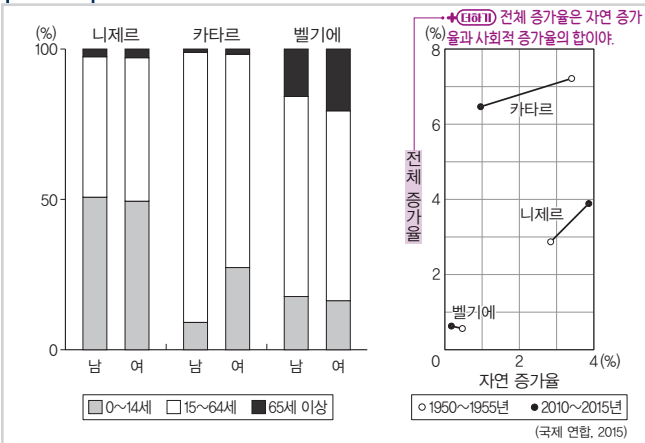
저출산	출생률을 높일 다양한 인구 정책 추진
고령화	미래 세대의 부양 부담을 줄이고, 세대 간 공존을 강조하는 인구 정책 마련
인구 과잉	경제 발전, 일자리 창출, 산아 제한 정책, 중소 도시 육성 등의 정책 마련

#### 02 우리나라의 인구 문제와 해결 방안 [자료 04]

저출산	<ul style="list-style-type: none"> <li>현황: 세계 최저 수준의 낮은 합계 출산율</li> <li>해결 방안: 출산 장려 정책, 출산 및 육아 비용 지원, 보육 시설 확충, 유급 출산 휴가 기간 연장, 유연 근무제, 주거 안정 정책, 양성평등 문화 확립 등</li> </ul>
고령화	<ul style="list-style-type: none"> <li>현황: 빠르게 증가하는 높은 노년층 인구 비율</li> <li>해결 방안: 노인 연금 제도, 사회 보장 제도 강화, 노인의 사회 활동 확대, 노인 복지 시설 확충, 가족 친화적 가치관 유지</li> </ul>
인구 분포의 불균등	<ul style="list-style-type: none"> <li>현황: 수도권에 전체 인구의 절반 이상이 집중하여 수도권과 비수도권 간의 인구 불균등 심각</li> <li>해결 방안: 비수도권 거주 주민의 안정적 생활 환경 조성 및 일자리 창출, 농어촌 지역의 생활 기반 시설 확충</li> </ul>

# 중요 자료 분석

## 자료 01 니제르, 벨기에, 카타르의 인구 특성

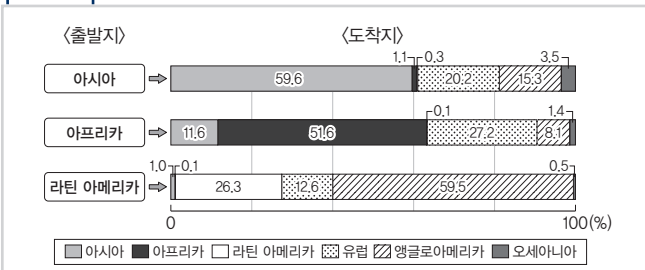


① 성별·연령별 인구 구조(2015년)      ② 인구 증가율

**자료 분석** 성별·연령별 인구 구조(2015년)에서 니제르는 남녀 모두 유소년층 인구 비율이 높고 노년층 인구 비율이 낮다. 카타르는 청장년층에서 남성의 인구 비율이 여성에 비해 높다. 벨기에에는 남녀 모두 노년층 인구 비율이 높다. 자연 증가율이 높은 국가는 개발 도상국이며, 사회적 증가율이 높다면 인구 유입이 활발한 국가이다. 카타르는 두 시기 모두 전체 증가율이 높지만, 2010~2015년에 자연 증가율이 감소하면서 사회적 증가율이 높아졌음을 알 수 있다. 니제르는 1950~1955년에 비해 2010~2015년에 전체 증가율과 자연 증가율이 상승하였으며, 전체 증가율의 대부분이 자연 증가율에 의한 것이다. 벨기에에는 두 시기 모두 자연 증가율이 낮고 2010~2015년에 더욱 낮아졌으나, 전체 증가율이 상승한 것은 사회적 증가율이 상승하였기 때문이다.

- (1) 2015년 중위 연령은 니제르가 벨기에보다 높다. (O, X)
- (2) 1950~1955년 니제르는 카타르보다 인구의 자연 증가율이 높다. (O, X)

## 자료 02 라틴 아메리카, 아시아, 아프리카의 인구 이동

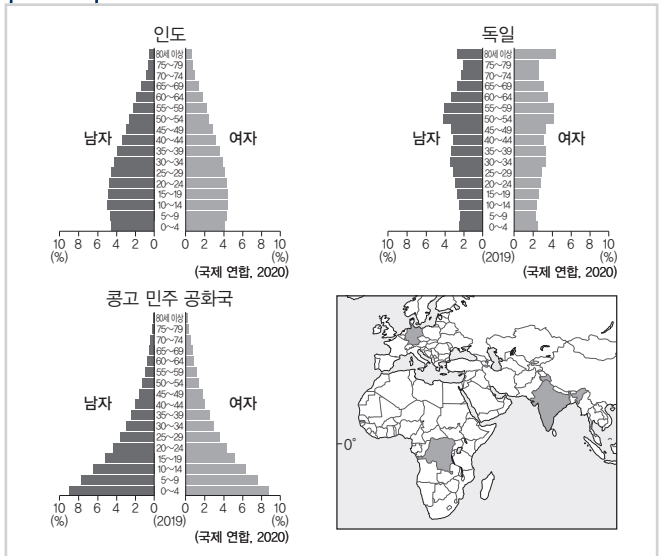


\*출발지는 이주 전 거주 국가가 속한 대륙이고, 도착지는 이주 후 거주 국가가 속한 대륙임. \*\*인구 이주는 2020년 기준 자료임.

**자료 분석** 같은 대륙으로의 이동을 제외하고 아시아는 유럽과 앵글로아메리카로의 이동 비율이 높으며, 아프리카는 유럽으로의 이동 비율이 가장 높고, 아시아로의 이동 비율도 높다. 라틴 아메리카는 앵글로아메리카로의 이동 비율이 가장 높으며 유럽으로의 이동 비율도 높다.

- (1) 아시아에서 다른 지역(대륙)으로 이동하는 비율이 아시아 내부에서 이동하는 비율보다 높다. (O, X)
- (2) 동일 대륙 내 이주 비율은 라틴 아메리카보다 아프리카가 높다. (O, X)

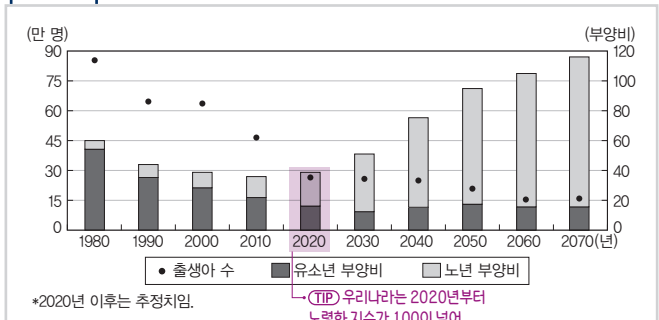
## 자료 03 독일, 콩고 민주 공화국, 인도의 인구 피라미드



**자료 분석** 신흥 개발 도상국인 인도는 출생률이 감소하고 있으므로 중형 인구 피라미드를 보인다. 선진국인 독일은 노년층이 많고 유소년층이 적으므로 방추형 인구 피라미드를 보인다. 함께 출산율이 높은 콩고 민주 공화국은 피라미드형 인구 피라미드를 보인다.

- (1) 인도는 독일보다 노년 인구 부양비가 높다. (O, X)
- (2) 독일은 콩고 민주 공화국보다 합계 출산율이 높다. (O, X)
- (3) 인도는 콩고 민주 공화국보다 총인구가 많다. (O, X)

## 자료 04 우리나라 인구 특성의 변화 추이




**자료 분석** 우리나라는 출생아 수가 꾸준히 감소하여 저출산 현상이 나타나고 있으며, 유소년층의 인구 비율이 낮아져 유소년 부양비도 감소하고 있다. 반면 노년층의 비율은 증가하여 노년 부양비는 2070년까지 크게 증가한다. 유소년 부양비는 생산 가능 인구 100명에 대한 유소년층 인구의 비율을 의미하고, 노년 부양비는 생산 가능 인구 100명에 대한 노년층 인구의 비율을 의미한다. 2070년의 노년 부양비는 약 100으로 추정되는데, 이는 생산 가능 인구 100명이 노년층 인구 100명을 부양한다는 의미이다.

- (1) 1980년은 2000년보다 노령화 지수가 높다. (O, X)
- (2) 2050년은 2020년에 비해 중위 연령이 낮을 것이다. (O, X)
- (3) 2060년에는 유소년층 인구나 노년층 인구의 합이 청장년층 인구보다 많을 것이다. (O, X)

## 01

그래프는 지도에 표시된 네 국가의 특성에 대한 것이다. 이에 대한 설명으로 옳은 것은?



\*유소년층 비율과 노년층 비율은 원의 가운데 값임. (국제 연합, 2022)

- ① (나)는 초고령 사회에 해당한다.
- ② (다)는 대한민국보다 생산 가능 인구가 많다.
- ③ (나)는 (가)보다 중위 연령이 높다.
- ④ (다)는 (가)보다 총부양비가 높다.
- ⑤ 국내 총생산은 (가) > (나) > (다) 순으로 많다.

### 해결 Flow

지도에 표시된 국가와 그 특징을 파악한다.

노년층 비율과 유소년층 비율을 통해 그래프에 제시된 국가의 특징을 분석하여 지도의 국가와 연결한다.

### 자료 분석

그래프는 지도에 표시된 중국, 일본, 필리핀, 대한민국의 인구 규모, 노년층 비율, 유소년층 비율, 1인당 국내 총생산을 나타내고 있다. 인구 규모가 가장 큰 (나)는 중국이다. 노년층 비율이 30%로 매우 높고 유소년층 비율은 낮으며, 1인당 국내 총생산이 3만 달러 이상인 (가)는 일본이다. 유소년층 비율이 30% 이상으로 높고 노년층 비율은 낮으며 1인당 국내 총생산이 1만 달러 미만인 (다)는 필리핀이다.

### 선지 분석

- ① 초고령 사회는 노년층 비율이 20% 이상인 경우에 해당한다. 중국은 노년층 비율이 15% 미만이므로 초고령 사회에 해당하지 않는다.
- ✓ ② 생산 가능 인구는 청장년층 인구로, 필리핀은 약 65%, 대한민국은 약 70%이다. 대한민국의 인구는 5천만 명이며 필리핀은 1억 명이므로 필리핀의 생산 가능 인구가 대한민국보다 많다.
- ③ 중국은 일본보다 중위 연령이 낮다.
- ④ 총부양비는 청장년층 인구 비율이 높을수록 낮다. 따라서 필리핀은 일본보다 총부양비가 낮다.
- ⑤ 국내 총생산은 중국 > 일본 > 필리핀 순으로 많다.

## 02

다음은 지도에 표시된 세 지역의 인구 관련 신문 기사 내용의 일부이다. ㉠~㉢ 지역에 대한 설명으로 옳은 것은?

청년 인구 비율 40.2%... 전국 시·도 중에서 가장 높다.

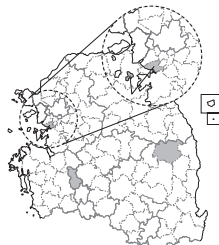
㉠은/는 15세 이상 인구 중 청년(15세~39세) 비율이 40.2%로 전국 시·도 중에서 가장 높게 나타났다. 정부 기관 이전을 목적으로 조성된 이 지역은 유소년층 인구 비율 또한 19.2%(전국 평균 11.6%)로 전국에서 가장 높다.

인구감소지역대응위원회 회의 개최

㉡은/는 제1차 인구감소 지역대응위원회를 열고 생활 인구 확대, 청장년 정착 촉진 방안 등을 심의·의결하였다. 이 지역은 인구 소멸 위험이 큰 곳으로 대표적인 인구 과소 지역이다.

시·군·구 중에서 외국인 주민 가장 많이 사는 곳

㉢은/는 외국인 주민이 가장 많이 거주하는 곳으로 외국인 주민 수가 10만 명을 넘어서었다. 이 지역은 외국인을 위한 커뮤니티 공간인 다문화 마을 특구가 조성되어 있다.



- ① ㉠은 ㉡보다 중위 연령이 높다.
- ② ㉡은 ㉠보다 인구 밀도가 높다.
- ③ ㉢은 ㉠보다 유소년 부양비가 높다.
- ④ ㉢은 ㉡보다 지역 내 외국인의 성비가 높다.
- ⑤ 총인구는 ㉢ > ㉡ > ㉠ 순으로 많다.

### 해결 Flow

지도에 표시된 지역과 그 특징을 파악한다.

각 지역의 인구 특성을 분석한다. 이때 유소년층 및 노년층 비율, 남녀 비율, 외국인 비율 등을 고려한다.

인구 관련 신문 기사의 내용을 읽고 지도에 표시된 지역과 연결한다.

### 자료 분석

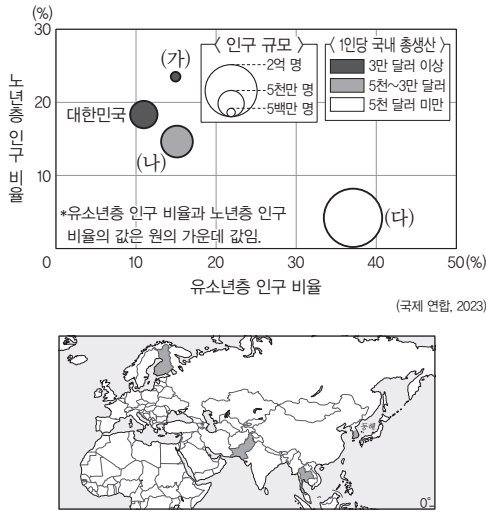
자료는 안산, 세종, 봉화의 인구 특성을 신문 기사 형식으로 제시한 것이다. 안산은 공업 단지의 발달로 우리나라에서 외국인 거주자가 가장 많다. 세종은 정부 종합 청사가 입지하여 청장년층의 유입이 많아 유소년층 인구 비율도 높다. 봉화는 촌락 지역으로 노년층 인구 비율이 높고 인구가 감소하고 있다. 따라서 정부 기관 이전과 청년 인구 비율이 높다는 기사의 ㉠은 세종, 인구 감소 지역 대응을 주제로 하는 기사의 ㉡은 봉화, 외국인 주민 거주 비율이 높고, 다문화 마을 특구가 조성되어 있다는 기사의 ㉢은 안산이다.

### 선지 분석

- ① 세종은 봉화보다 유소년층 인구 비율이 높으므로 중위 연령이 낮다.
- ② 봉화는 세종보다 면적이 넓고 인구가 적으므로 인구 밀도가 낮다.
- ③ 세종은 우리나라에서 유소년층 인구 비율이 가장 높으므로 안산은 세종보다 유소년 부양비가 낮다.
- ✓ ④ 제조업 종사자가 많은 안산은 봉화보다 지역 내 외국인의 성비가 높다.
- ⑤ 총인구는 안산 > 세종 > 봉화 순으로 많다.

### 01-1 동형 문제

그래프는 지도에 표시된 네 국가의 특성에 대한 것이다. 이에 대한 설명으로 옳은 것은?



- ① (가)는 (나)보다 중위 연령이 낮다.
- ② (나)는 (다)보다 유소년 부양비가 높다.
- ③ (다)는 (가)보다 합계 출산율이 높다.
- ④ (다)는 대한민국보다 생산 가능 인구 비율이 높다.
- ⑤ (가)는 아시아, (나)는 유럽에 위치한다.

### 01-2

표는 지도에 표시된 세 국가의 지리 정보를 나타낸 것이다. (가)~(다) 국가로 옳은 것은?

국가	청장년층 인구 비율 (%)	노령화 지수	국내 총생산 (천억 달러)
(가)	69.1	86.3	182.7
(나)	66.1	18.4	4.4
(다)	58.8	253.8	42.1

(국제 연합, 2022 / 세계은행, 2022)



- |   |     |     |     |
|---|-----|-----|-----|
|   | (가) | (나) | (다) |
| ① | 일본  | 중국  | 필리핀 |
| ② | 일본  | 필리핀 | 중국  |
| ③ | 중국  | 일본  | 필리핀 |
| ④ | 중국  | 필리핀 | 일본  |
| ⑤ | 필리핀 | 중국  | 일본  |

### 02-1 동형 문제

다음은 지도에 표시된 두 지역의 인구 관련 신문 기사 내용의 일부이다. ㉠, ㉡ 지역에 대한 옳은 설명만을 (보기)에서 고른 것은?

△△신문 2025년 ○월 ○일

**수도권 인구 감소 지역**  
 ㉠은/는 지난 20년 간 인구가 꾸준히 감소하였다. 수도권이지만 접경 지역에 위치해 인근 지역과 함께 인구 감소 위기를 겪고 있어, 최근 정부에 인구 감소 지역에 포함할 것을 촉구하였다.

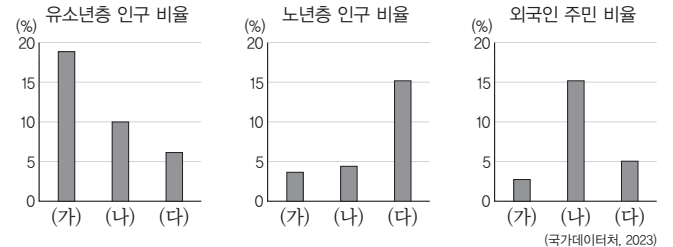
**과밀 학급 문제 심각**  
 ㉡은/는 신도시 인구 유입 등으로 수 년 간 인구가 꾸준히 증가하며 최근 인구 100만 명을 넘어섰다. 학급 당 학생 수 역시 전국 평균을 크게 웃돌며 과밀 학급 문제를 겪고 있다.

- 보기
- ㄱ. ㉠은 ㉡보다 중위 연령이 높다.
  - ㄴ. ㉠은 ㉠보다 노령화 지수가 낮다.
  - ㄷ. ㉡은 ㉠보다 유소년 부양비가 낮다.
  - ㄹ. ㉠은 화성, ㉡은 연천이다.

- ① ㄱ, ㄴ                      ② ㄱ, ㄷ                      ③ ㄴ, ㄷ
- ④ ㄴ, ㄹ                      ⑤ ㄷ, ㄹ

### 02-2 통합형

그래프는 지도에 표시된 세 지역의 인구 특성을 나타낸 것이다. (가)~(다)로 옳은 것은?



- |   |     |     |     |
|---|-----|-----|-----|
|   | (가) | (나) | (다) |
| ① | 봉화  | 세종  | 안산  |
| ② | 세종  | 봉화  | 안산  |
| ③ | 세종  | 안산  | 봉화  |
| ④ | 안산  | 봉화  | 세종  |
| ⑤ | 안산  | 세종  | 봉화  |

# 수능 기본 문제

## 01

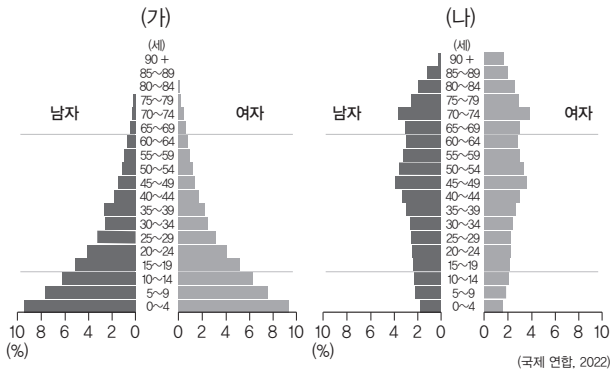
밑줄 친 ㉠~㉣에 대한 설명으로 옳지 않은 것은?

산업 혁명 이후 세계의 인구는 빠르게 증가하였다. 2025년 기준 세계의 인구는 약 82억 명이다. 세계의 인구 분포는 ㉠자연환경과 ㉡인문환경의 영향으로 지역마다 불균등하게 나타난다. 사람이 살기에 유리한 환경인 곳은 인구가 밀집한 반면, ㉢환경이 열악하고 살기에 어려운 곳은 인구가 희박하다. 또한 ㉣북반구와 남반구의 인구 분포, 위도별 인구 분포, ㉤대륙별 인구 분포도 서로 다르게 나타난다.

- ① ㉠은 ㉡보다 주로 산업 혁명 이전의 인구 분포에 영향을 미쳤다.
- ② ㉠의 예로 기후, 지형, ㉡의 예로 교통, 산업 등이 있다.
- ③ ㉢의 예로 시베리아 내륙, 중국 서부 등이 있다.
- ④ ㉣은 북반구보다 남반구에 더 많다.
- ⑤ ㉤은 아시아가 가장 많다.

## 02

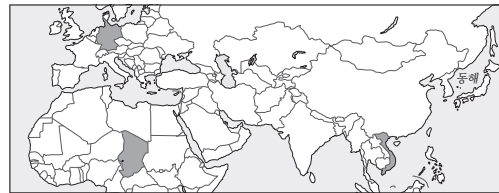
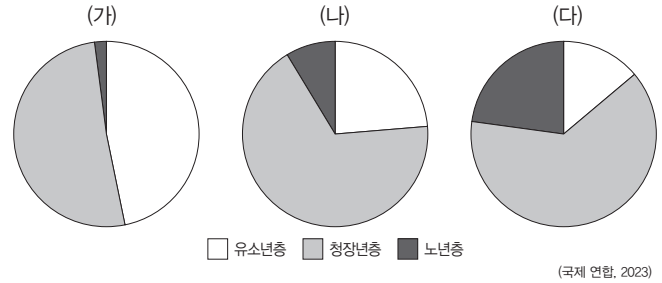
그래프는 두 국가의 인구 피라미드이다. 이에 대한 설명으로 옳은 것은? (단, (가), (나)는 각각 니제르, 일본 중 하나임.)



- ① (가)는 아시아에 위치한다.
- ② (가)는 (나)보다 중위 연령이 높다.
- ③ (가)는 (나)보다 인구의 자연 증가율이 높다.
- ④ (나)는 (가)보다 노령화 지수가 낮다.
- ⑤ (나)는 (가)보다 1인당 국내 총생산이 낮다.

## 03

그래프는 지도에 표시된 세 국가의 연령별 인구 비율을 나타낸 것이다. (가)~(다)에 대한 옳은 설명만을 (보기)에서 고른 것은?



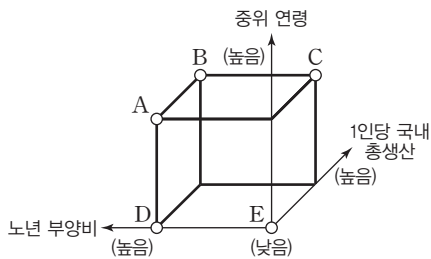
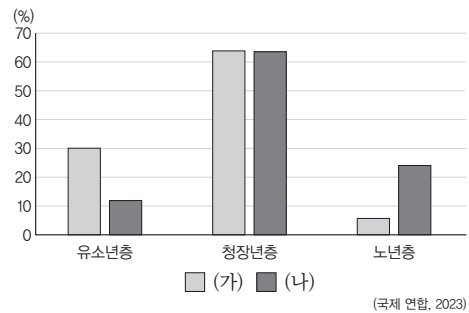
[보기]

- ㄱ. (가)는 (나)보다 총부양비가 높다.
- ㄴ. (나)는 (다)보다 노령화 지수가 높다.
- ㄷ. (다)는 (가)보다 평균 소득 수준이 높다.
- ㄹ. (가)는 아프리카, (나)는 유럽, (다)는 아시아에 위치한다.

- ① ㄱ, ㄴ                      ② ㄱ, ㄷ                      ③ ㄴ, ㄷ
- ④ ㄴ, ㄹ                      ⑤ ㄷ, ㄹ

## 04

그래프는 두 국가의 연령별 인구 비율을 나타낸 것이다. (가) 국가에 대한 (나) 국가의 상대적 인구 특성을 그림의 A~E에서 고른 것은? (단, (가), (나)는 각각 이탈리아, 캄보디아 중 하나임.)

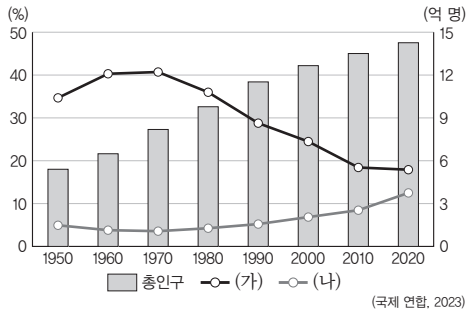


- ① A
- ② B
- ③ C
- ④ D
- ⑤ E

### 05 통합형

다음은 어느 국가의 지리 정보를 나타낸 것이다. 이 국가에 대한 설명으로 옳은 것은? (단, (가), (나)는 각각 유소년층 인구 비율, 노년층 인구 비율 중 하나임.)

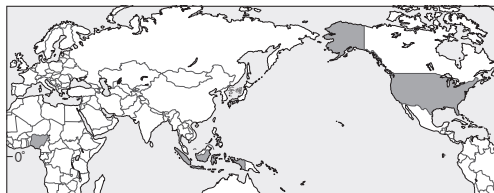
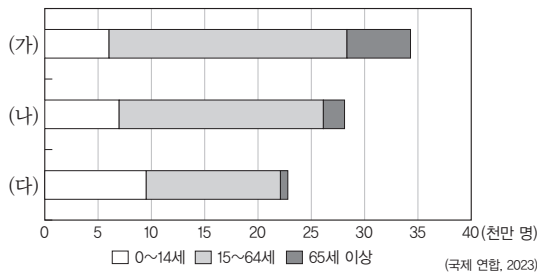
- 수도: 베이징
- 국내 총생산: 약 18조 달러(2024, 세계 2위)
- 문화적 특성: 한자 사용, 유교 사상 발달
- 인구 특성



- ① 동남아시아 문화권에 속한다.
- ② (가)는 유소년층 인구 비율, (나)는 노년층 인구 비율이다.
- ③ 1950~2020년 사이에 합계 출산율이 꾸준히 증가하였다.
- ④ 1960년에 비해 2020년에 노령화 지수가 감소하였다.
- ⑤ 총부양비는 1960년보다 2020년에 더 높다.

### 06

그래프는 지도에 표시된 세 국가의 인구 특성을 나타낸 것이다. (가)~(다)에 대한 설명으로 옳은 것은?



- ① (가)는 아시아에 위치한다.
- ② (가)는 (다)보다 유소년 부양비가 높다.
- ③ (나)는 (다)보다 합계 출산율이 높다.
- ④ (다)는 (가)보다 1인당 국내 총생산이 높다.
- ⑤ (가)~(다) 중 (다)의 총부양비가 가장 높다.

### 07

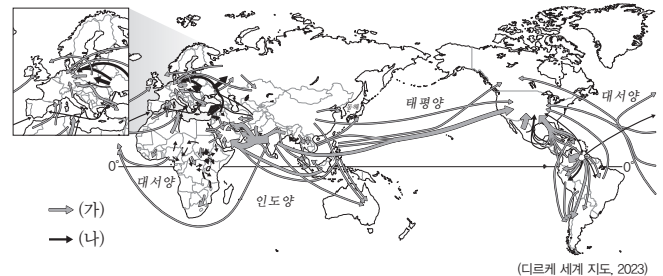
다음 글에 나타난 ㉠~㉣ 인구 이동 유형으로 옳은 것은?

오늘날에는 국가 및 지역 간의 인구 이동이 활발히 나타나고 있다. 인구 이동은 대체로 경제, 정치, 환경적 요인에 의해 발생한다. ㉠은 주로 개발 도상국에서 경제적 기회가 풍부한 선진국이나 상대적으로 더 발달한 개발 도상국으로 이동하는 경우이며, ㉡은 국가 간의 전쟁이나 분쟁으로 인구가 이동하는 경우이다. ㉢은 주로 환경의 변화에 따라 거주지의 생활 여건이 나빠진 경우에 발생한다.

- |   |        |        |        |
|---|--------|--------|--------|
|   | ㉠      | ㉡      | ㉢      |
| ① | 경제적 이동 | 정치적 이동 | 환경적 이동 |
| ② | 경제적 이동 | 환경적 이동 | 정치적 이동 |
| ③ | 정치적 이동 | 경제적 이동 | 환경적 이동 |
| ④ | 정치적 이동 | 환경적 이동 | 경제적 이동 |
| ⑤ | 환경적 이동 | 정치적 이동 | 경제적 이동 |

### 08

다음 자료에 나타난 (가), (나) 인구 이동에 대한 옳은 설명만을 <보기>에서 고른 것은?



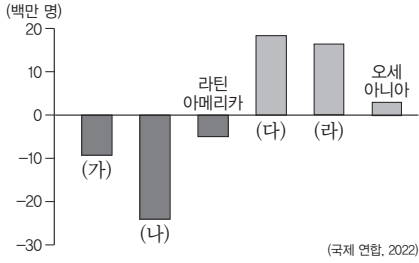
〈보기〉

ㄱ. (가)는 주로 전쟁이나 분쟁을 피해 이동하는 인구 이동이다.  
 ㄴ. (나)는 주로 고용 기회를 찾아 이동하는 인구 이동이다.  
 ㄷ. (가)는 경제적 이동, (나)는 정치적 이동이다.  
 ㄹ. (가)는 대체로 자발적 이동, (나)는 대체로 비자발적 이동에 해당한다.

- |        |        |        |
|--------|--------|--------|
| ① ㄱ, ㄴ | ② ㄱ, ㄷ | ③ ㄴ, ㄷ |
| ④ ㄴ, ㄹ | ⑤ ㄷ, ㄹ |        |

## 09

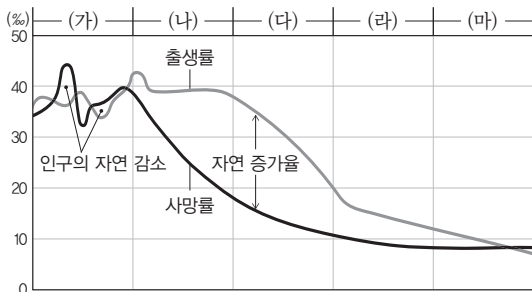
그래프는 지역(대륙)별 인구 순 이동을 나타낸 것이다. (가)~(라) 지역(대륙)으로 옳은 것은?



- |   | (가)  | (나)     | (다)     | (라)     |
|---|------|---------|---------|---------|
| ① | 유럽   | 앵글로아메리카 | 유럽      | 아시아     |
| ② | 아시아  | 아프리카    | 유럽      | 앵글로아메리카 |
| ③ | 아시아  | 아프리카    | 앵글로아메리카 | 유럽      |
| ④ | 아프리카 | 아시아     | 유럽      | 앵글로아메리카 |
| ⑤ | 아프리카 | 아시아     | 앵글로아메리카 | 유럽      |

## 10 통합형

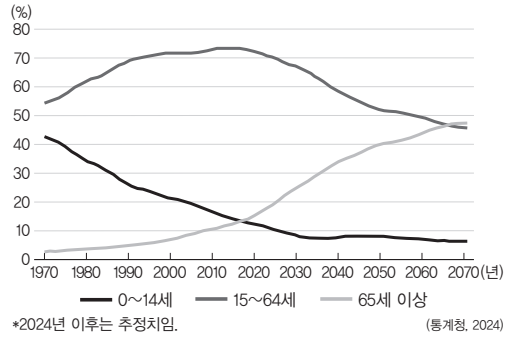
다음 자료는 인구 변천 모형을 나타낸 것이다. (가)~(마) 단계에 대한 설명으로 옳지 않은 것은?



- (가) 단계에서는 피라미드형 인구 구조가 나타난다.
- (마) 단계에서는 인구의 절대 감소가 나타난다.
- (가) 단계는 (나) 단계보다 인구 증가율이 낮다.
- (다) 단계는 (나) 단계보다 기본권 중 사회권이 확대될 것이다.
- (라) 단계는 (나) 단계보다 청소년 부양비가 높다.

## 11 통합형

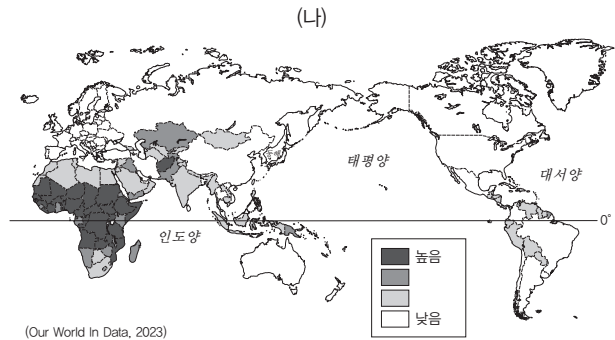
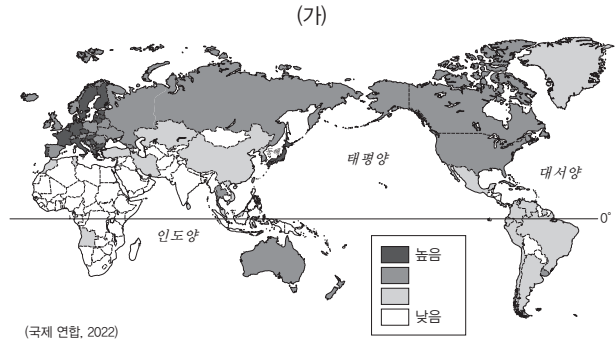
그래프는 우리나라의 연령층별 인구 비율 변화를 나타낸 것이다. 이에 대한 설명으로 옳은 것은?



- 2020년은 초고령 사회에 해당한다.
- 2030년의 노령화 지수는 100 미만이다.
- 2020~2070년의 총부양비는 꾸준히 증가할 것이다.
- 산아 제한 정책은 1970년보다 2070년에 더 필요할 것이다.
- 1970~2020년 동안 생산 가능 인구 비율은 꾸준히 감소하고 있다.

## 12

지도는 세계의 인구 지표를 나타낸 것이다. (가), (나)로 옳은 것은?



- |   | (가)       | (나)       |
|---|-----------|-----------|
| ① | 성비        | 합계 출산율    |
| ② | 합계 출산율    | 성비        |
| ③ | 합계 출산율    | 노년층 인구 비율 |
| ④ | 노년층 인구 비율 | 성비        |
| ⑤ | 노년층 인구 비율 | 합계 출산율    |

[13~14] 자료를 보고 물음에 답하시오.

2024년 현재 ㉠ 우리나라의 합계 출산율은 0.84명으로 세계 최저 수준이다. 1960년대 출산율이 7명대였던 것에 비해 빠른 속도로 감소하여 미래 세대의 부양 부담까지 걱정해야 하는 상황이다. 반면 ㉡ 노년층 인구 비율은 빠르게 증가하고 있다. 이러한 추세가 계속될 경우 미래에는 세계 최고 수준에 이를 것으로 예상된다. 또한 우리나라의 인구는 지역적으로 불균등하게 분포한다. 전체 국토의 약 12%에 불과한 ㉢ 수도권에 전국의 50% 이상의 인구가 거주하고 있어 지역적으로도 불균형한 성장이 나타나고 있다.

13 **통합형**

밑줄 친 ㉠~㉢에 대한 옳은 설명만을 <보기>에서 있는 대로 고른 것은?

**보기**

ㄱ. ㉠은 여성의 사회 진출 증가로 인한 초혼 연령 상승의 영향을 받았다.  
 ㄴ. ㉡은 의료 기술 발달과 경제 수준 향상으로 인한 기대 수명 상승의 영향을 받았다.  
 ㄷ. ㉢은 1960년대 이후 실시된 정부가 주도하는 상향식 개발 방식의 영향을 받았다.

- ① ㄱ                      ② ㄷ                      ③ ㄱ, ㄴ  
 ④ ㄴ, ㄷ                ⑤ ㄱ, ㄴ, ㄷ

14

밑줄 친 ㉠~㉢ 문제의 해결 방안에 대한 설명으로 옳지 않은 것은?

- ① ㉠: 산후 조리비, 양육 수당, 보육료를 국가와 지방 자치 단체가 지원하여 경제적 부담을 완화한다.  
 ② ㉠: 출산 및 육아로 인한 경력 단절을 줄이기 위해 재택 근무, 시차 출퇴근제 등 다양한 형태의 유연 근무제를 도입한다.  
 ③ ㉡: 기초 연금, 노인 의료 서비스, 노인 요양 서비스와 같은 복지 제도를 확충하여 노년층의 생활 안정을 지원한다.  
 ④ ㉢: 수도권 내 제조업 공장 설립 제한을 완화하여 기업을 유치하여 경제를 활성화시킨다.  
 ⑤ ㉢: 공공 기관이나 기업을 지방으로 이전시키는 혁신 도시나 기업 도시를 통해 지역 균형 발전을 유도한다.

15

다음은 통합사회 수업 장면의 일부이다. 교사의 질문에 옳게 대답한 학생을 고른 것은?

교사: 다음은 인구 문제 해결을 위한 스웨덴의 제도에 관한 것입니다. 이에 대해 이야기해 볼까요?

'라테 파파'란 스웨덴에서 육아 휴직을 사용하고 한 손에는 라테를 든 채 다른 손으로는 유모차를 끄는 아빠를 일컫는 표현이다. 스웨덴 정부는 '부부 육아 할당제'를 실시하여 부부가 총 480일의 육아 휴직을 사용하되, 아빠도 꼭 3개월 간의 육아 휴직을 사용하도록 한다. 이러한 제도를 바탕으로 스웨덴의 합계 출산율은 다른 선진국보다 높은 편에 속하게 되었다.

- 갑: 스웨덴은 피라미드형 인구 분포를 보일 거예요.  
 을: 부부 육아 할당제의 도입은 자녀 양육 부담을 증가시켜요.  
 병: 인구 과잉 문제가 나타나 산아 제한 정책 도입의 필요성이 커졌어요.  
 정: 자녀 양육을 지원하는 정책이 스웨덴의 합계 출산율 증가에 영향을 주었어요.  
 무: 스웨덴은 인구 변천 모델에서 출생률이 높고 사망률이 낮아지는 단계에 해당해요.

- ① 갑                      ② 을                      ③ 병                      ④ 정                      ⑤ 무

16

다음은 우리나라의 인구 문제에 관한 발표 수업의 일부이다. ㉠, ㉡에 대한 설명으로 옳지 않은 것은? (단, ㉠, ㉡는 각각 고령화, 저출산 중 하나임.)



농촌에서 노년층 인구 비율이 증가하는 ㉠이 심각하게 진행되고 있습니다. 청년층은 교육과 일자리 문제로 도시로 떠나고, 농촌에는 노년층 인구만 남아 노동력 부족과 지역 경제 침체가 가속화되고 있습니다. 마을 공동체가 약화되면서 농업의 지속가능성도 위협받고 있으며, 농촌 의료와 복지 문제 역시 중요한 과제로 떠오르고 있습니다.

우리나라의 ㉡ 문제는 세계적으로도 가장 심각한 수준입니다. 이로 인해 출산율이 장기간 낮은 수준에 머물면서 인구 감소가 현실화되고, 장래 노동력 부족과 경제 성장 둔화가 우려되고 있습니다. 정부는 보육 지원 등을 강화하고 있지만, 출산 기피 현상은 여전히 해결되지 않고 있습니다.



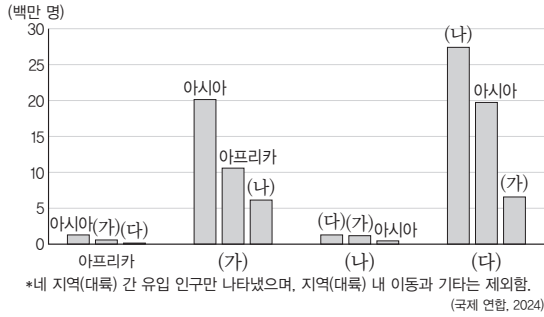
- ① 농촌의 ㉠ 문제는 산업화 시기 이촌향도의 영향을 받았다.  
 ② ㉠의 해결을 위해 농촌에서는 귀농, 귀촌 지원 정책을 도입할 수 있다.  
 ③ ㉡ 문제는 결혼에 대한 가치관 변화의 영향을 받았다.  
 ④ ㉡의 해결을 위해 신혼부부의 주거비 지원 정책을 도입할 수 있다.  
 ⑤ ㉠, ㉡은 모두 주로 선진국보다 개발 도상국에서 많이 나타난다.

# 1등급 완성 문제



문항 풀이 동영상

[01~02] 그래프는 네 지역(대륙)의 유입 인구를 나타낸 것이다. 물음에 답하시오. (단, (가)~(다)는 각각 라틴 아메리카, 앵글로아메리카, 유럽 중 하나임.)



## 01

그래프의 (가)~(다) 지역(대륙)으로 옳은 것은?

- |   | (가)     | (나)     | (다)     |
|---|---------|---------|---------|
| ① | 유럽      | 라틴 아메리카 | 앵글로아메리카 |
| ② | 유럽      | 앵글로아메리카 | 라틴 아메리카 |
| ③ | 라틴 아메리카 | 유럽      | 앵글로아메리카 |
| ④ | 앵글로아메리카 | 유럽      | 라틴 아메리카 |
| ⑤ | 앵글로아메리카 | 라틴 아메리카 | 유럽      |

## 02

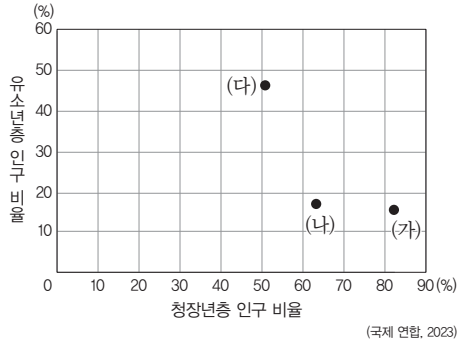
통합형

(가)~(다) 지역(대륙)에 대한 설명으로 옳지 않은 것은?

- (가)에는 산업 혁명이 최초로 시작된 국가가 있다.
- (나)는 남부 유럽 국가의 식민 지배 영향으로 에스파냐어와 포르투갈어를 주로 사용한다.
- (다)에는 세계 경제 중심지 역할을 하는 세계 도시가 있다.
- (다)는 (나)보다 산업화 시기가 이른다.
- (가)~(다) 중 국가 수는 (나)가 가장 적다.

## 03

다음 그래프는 세 국가의 인구 특성을 나타낸 것이다. 이에 대한 설명으로 옳은 것은? (단, (가)~(다)는 각각 영국, 아랍 에미리트, 콩고 민주 공화국 중 하나임.)



- (가)는 (다)보다 인구의 사회적 증가가 많다.
- (나)는 (다)보다 유소년 부양비가 높다.
- (다)는 (나)보다 노년층 인구 비율이 높다.
- (가)는 유럽, (나)는 아프리카에 위치한다.
- (가)~(다) 중 1인당 국내 총생산은 (다)가 가장 높다.

## 04

표는 지도에 표시된 국가의 인구 지표를 나타낸 것이다. 이에 대한 설명으로 옳은 것만을 <보기>에서 고른 것은?

국가	연도	총부양비	노령화 지수
(가)	1970년	98.9	3.3
	2023년	98.2	5.5
(나)	1970년	80.2	9.1
	2023년	44.7	86.3
(다)	1970년	43.5	30.4
	2023년	70.1	253.8

(국제 연합, 각 연도)



<보기>

- (가)는 (나)보다 총인구가 많다.
- (나)는 (다)보다 국내 총생산이 많다.
- (다)는 (가)보다 유소년층 인구 비율이 높다.
- 세 국가 중 중국은 1970년에 비해 2023년에 총부양비가 가장 많이 감소하였다.

- 가, 나
- 가, 다
- 나, 다
- 나, 리
- 다, 리

### 05 통합형

다음 글에 나타난 인구 이동에 대한 옳은 설명만을 <보기>에서 고른 것은?

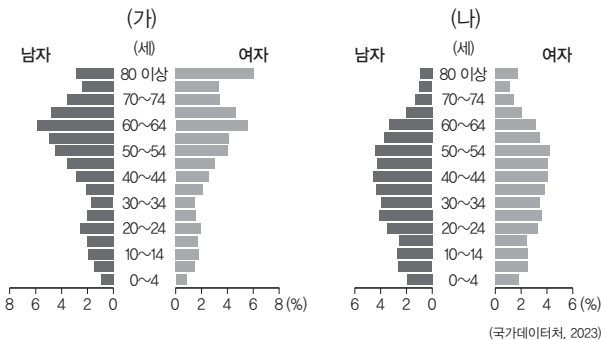
지난 2011년 시리아에서는 내전이 발발하였다. 이후 ㉠수많은 시리아인이 국내에서 거주지를 잃거나 국외로 피난하였으며, 인접 국가로 대규모 난민이 유입되었다. 튀르키예는 약 350만 명 이상의 시리아 난민을 수용하여 세계 최대 난민 수용국이 되었으며, 레바논과 요르단은 인구 대비 높은 난민 비율로 사회·경제적 부담을 겪고 있다. 이러한 난민 사태에 대응하기 위해 여러 ㉡국제 단체들은 난민 보호와 구호 활동을 전개하고 있으며, ㉢국경 없는 의사회 등의 단체에서도 난민 캠프 등에서 의료 봉사를 실시하고 있다.

- 보기
- ㄱ. ㉠은 경제적 이동에 해당한다.
  - ㄴ. ㉠과 같은 유형의 인구 이동 사례로 수단의 다르푸르 지역의 인구 이동을 들 수 있다.
  - ㄷ. ㉡은 적극적 평화를 실현하려는 노력의 사례이다.
  - ㄹ. ㉢은 국제 사회의 행위 주체 중 정부 간 국제기구에 해당한다.

- ① ㄱ, ㄴ                      ② ㄱ, ㄷ                      ③ ㄴ, ㄷ
- ④ ㄴ, ㄹ                      ⑤ ㄷ, ㄹ

### 06

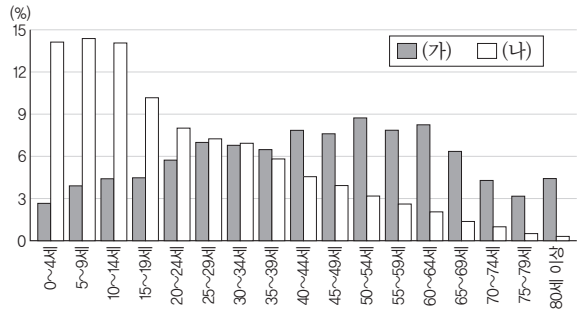
그래프는 우리나라 두 지역의 인구 피라미드를 나타낸 것이다. (가), (나) 지역에 대한 설명으로 옳은 것은? (단, (가), (나)는 각각 옥천, 천안 중 하나임.)



- ① (가)는 (나)보다 총인구가 많다.
- ② (가)는 (나)보다 노령화 지수가 낮다.
- ③ (나)는 (가)보다 총부양비가 낮다.
- ④ (나)는 (가)보다 노동력 부족 문제가 심각할 것이다.
- ⑤ (가)는 천안, (나)는 옥천이다.

### 07 통합형

그래프는 우리나라 두 시기의 연령별 인구 비율을 나타낸 것이다. 이에 대한 옳은 설명만을 <보기>에서 고른 것은? (단, (가), (나)는 각각 1970년, 2023년 중 하나임.)



- 보기
- ㄱ. (가) 시기에는 피라미드형 인구 구조가 나타났다.
  - ㄴ. (가) 시기보다 (나) 시기에 산아 제한 정책의 필요성이 더 크다.
  - ㄷ. (가) 시기에는 (나) 시기보다 노인 친화적 산업이 발달하였다.
  - ㄹ. (가)는 1970년, (나)는 2023년이다.

- ① ㄱ, ㄴ                      ② ㄱ, ㄷ                      ③ ㄴ, ㄷ
- ④ ㄴ, ㄹ                      ⑤ ㄷ, ㄹ

### 08

다음 자료는 우리나라 인구 문제 해결 정책에 관한 카드 뉴스의 일부이다. 이에 대한 옳은 설명만을 <보기>에서 고른 것은? (단, (가), (나)는 각각 고령화, 저출산 중 하나임.)



- 보기
- ㄱ. (가)와 관련된 인구 정책은 산아 제한 정책과 시행 목적이 같다.
  - ㄴ. (나)와 관련된 인구 정책은 정년 연장 정책과 시행 목적이 같다.
  - ㄷ. (가)는 저출산, (나)는 고령화에 해당한다.
  - ㄹ. (가), (나) 현상이 동시에 진행되면 노령화 지수는 감소한다.

- ① ㄱ, ㄴ                      ② ㄱ, ㄷ                      ③ ㄴ, ㄷ
- ④ ㄴ, ㄹ                      ⑤ ㄷ, ㄹ

# 20

## 자원 소비와 지속가능한 발전 및 세계시민으로서의 삶

### 1 에너지 자원의 분포와 소비

#### 01 자원의 의미와 특성

1. 자원의 의미: 자연에서 얻을 수 있는 것 중 인간에게 유용하면서 기술적·경제적으로 이용 가능한 것

2. 특성 (TIP) 석유는 과거에 비해 에너지 자원으로 가치가 높아졌고(가변성), 고갈 자원이며(유한성), 페르시아만 연안 등에 집중되어 분포해(편재성).

가변성	과학기술의 발달과 사회적, 문화적 배경에 따라 자원의 가치 변화
유한성	매장량에 한계가 있어 언젠가는 고갈
편재성	일부 자원은 특정 지역에 한정되어 분포

#### 02 주요 에너지 자원의 분포와 소비 실태

1. 화석 에너지 자원 **자료 01** **자료 02**

석탄	특징	<ul style="list-style-type: none"> <li>제철 공업이나 화력 발전의 주요 에너지원으로 사용</li> <li>18세기 산업 혁명 이후 증기 기관의 연료로 사용</li> </ul>
	분포 및 이동	<ul style="list-style-type: none"> <li>중국, 인도, 오스트레일리아 등에 분포</li> <li>비교적 여러 지역에 고르게 매장된 편으로 석유보다 국가 간 이동량이 적음.</li> </ul>
석유	특징	<ul style="list-style-type: none"> <li>수송용 및 공업 원료로 주로 사용</li> <li>세계에서 가장 많이 사용되는 에너지원</li> </ul>
	분포 및 이동	<ul style="list-style-type: none"> <li>서남아시아의 페르시아만 연안 등 일부 지역에 편재하여 분포</li> <li>사우디아라비아, 미국, 러시아, 캐나다 등이 주요 생산국으로 국제적 이동량이 많음.</li> </ul>
천연 가스	특징	<ul style="list-style-type: none"> <li>연소 시 석탄이나 석유보다 대기 오염 물질을 적게 배출</li> <li>냉동 액화 기술 개발과 파이프라인 건설로 소비 증가</li> </ul>
	분포 및 이동	<ul style="list-style-type: none"> <li>석유 매장 지역과 비슷하게 분포</li> <li>미국, 러시아, 이란, 카타르 등이 주요 생산국</li> <li>육지에서는 주로 수송관으로, 해상에서는 주로 액화 천연가스 수송선으로 이동</li> <li>유럽은 러시아에서 파이프라인을 통해 수입</li> </ul>

(TIP) 프랑스, 우크라이나, 대한민국, 에스파냐, 러시아, 미국 등이 주요 원자력 에너지 발전국이며, 2. 원자력, 수력 및 신재생 에너지 자원

원자력	정의	우라늄이나 플루토늄의 핵분열로 발생하는 열에너지
	입지	지반이 안정되고 냉각수가 풍부한 지역에 입지
수력 및 신재생 에너지	특징	<ul style="list-style-type: none"> <li>적은 양의 에너지원으로 많은 양의 전력을 생산</li> <li>화력 발전에 비해 대기 오염 물질을 적게 배출</li> <li>방사능 누출 위험성과 폐기물 처리 문제</li> </ul>
	수력	<ul style="list-style-type: none"> <li>유량이 풍부한 큰 강, 낙차 확보가 쉬운 높은 산지, 빙하가 녹은 물이 흐르는 지역</li> <li>주요 생산 국가: 중국, 브라질, 캐나다, 미국, 러시아 등</li> </ul>
태양광 (열)	풍력	<ul style="list-style-type: none"> <li>일정하면서도 강한 바람이 지속적으로 부는 지역</li> <li>주요 생산 국가: 중국, 미국, 독일, 브라질, 영국 등</li> </ul>
	지열	<ul style="list-style-type: none"> <li>판의 경계부와 같이 지열이 풍부한 지역</li> <li>주요 생산 국가: 미국, 인도네시아, 필리핀, 튀르키예 등</li> </ul>

(TIP) 사하라 사막이 사레 지역으로 나오기도 해.

#### 3. 에너지 자원을 둘러싼 문제

국가 간 영토 분쟁	에너지 자원이 매장되어 있는 지역을 중심으로 영토 분쟁 발생 (예) 카스피해 연안, 북극해 연안, 난사 군도 등
자원 민족주의	자원을 보유한 국가들이 자국의 경제적, 정치적 이익을 위해 자원을 무기화하려는 움직임
환경 오염	자원의 생산 과정에서 환경 파괴, 에너지 자원 소비 과정에서 온실가스 배출이 일어나 기후변화 초래

(TIP) 대표적인 자원은 석유이지만 최근에는 희토류 보유 국가에서 자원 민족주의가 나타나고 있어.

### 2 지속가능한 발전을 위한 노력

#### 01 기후변화와 대응 방안

##### 1. 기후변화

원인	<ul style="list-style-type: none"> <li>자연적 요인: 태양 활동의 변화, 화산 활동 등</li> <li>인위적 요인: 화석 에너지 자원 사용에 따른 온실기체가 대기 중에 축적되어 기온 상승 유발, 도시화로 인한 식생 감소 등</li> </ul>
문제점	이상 기후 현상(가뭄, 폭우 등), 해수면 상승, 생태계 교란, 기후변화에 따른 재해 확대로 재해 취약 지역 및 세대의 불평등 심화

(TIP) 오늘날 기후변화는 인위적 요인의 영향이 커.

##### 2. 대응 방안

국제 사회 및 국가적 차원	<ul style="list-style-type: none"> <li>기후변화 협약 체결 및 이행: 파리 협정(2015)</li> <li>제도적 방안: 탄소 배출권 거래제, 신재생 에너지 보급 확대 등</li> <li>시민 실천 운동: 비정부 기구, 시민 단체 등의 실천 운동</li> </ul>
개인적 차원	<ul style="list-style-type: none"> <li>에너지를 비롯한 자원 절약 실천</li> <li>기후변화의 위험성에 대한 지속적인 관심</li> </ul>

#### 02 지속가능한 발전을 위한 노력

제도적 방안	국제 사회의 변화에 맞춰 탄소중립 선언, 환경 관리 및 보전에 관한 정책 시행(환경 개선 부담금 등), 신재생 에너지 사용 비율을 늘리는 제도 마련, 신재생 에너지 기술 개발 지원 등
개인적 노력	일상생활에서의 구체적 실천(재사용 가능한 제품 소비, 재활용품 분리배출 등), 에너지 절약, 기후변화에 관심 갖기 등

### 3 세계시민으로서의 삶

1. 세계시민의 의미: 세계 곳곳의 문제와 현상에 대해 유기적으로 연결하여 사고하고 실천하는 주체

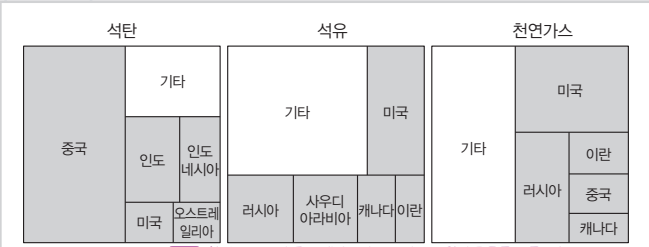
2. 세계시민 의식의 필요성: 지구촌의 평화, 인권, 지속가능한 발전의 실현

#### 3. 세계시민의 삶의 방향

- (1) 인권, 평화와 같은 보편적 가치를 이해하고 변화에 참여
- (2) 다양한 문화와 관점을 존중하고, 다른 구성원들과 연대 및 협력
- (3) 자신의 행동이 공동체와 지구촌의 미래에 미칠 수 있는 영향에 대해 성찰

# 중요 자료 분석

## 자료 01 화석 에너지의 주요 생산국

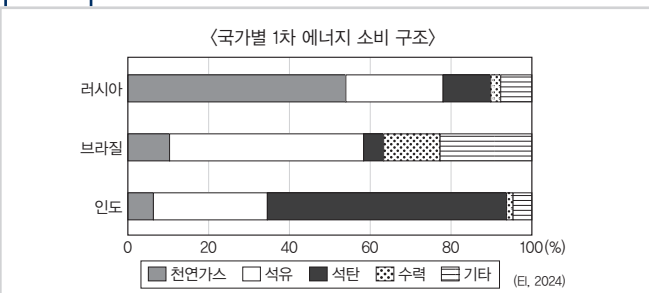


→(자료1) 화석 에너지의 주요 생산국만 제시되고 자원의 종류를 모를 때는 (E, 2024) 중국, 사우디아라비아, 이란을 통해 자원의 종류를 파악할 수 있어.

**자료 분석** 석유, 석탄, 천연가스의 주요 생산 국가를 나타낸 것으로 주요 생산국은 자원의 특성에 따라 다르게 나타난다. 고기 조산대 지역에 주로 매장된 석탄은 중국의 생산량이 50% 정도로 가장 많으며, 인도, 인도네시아, 오스트레일리아의 동부 지역에서 많이 생산한다. 신생대 제3기층 배사 구조에 주로 매장되어 있는 석유는 미국과 러시아에 이어 서남아시아의 페르시아만 연안에 위치한 사우디아라비아가 주요 생산국이다. 석유와 함께 매장된 경우가 많은 천연가스는 미국과 러시아에 이어 서남아시아의 페르시아만 연안에 위치한 이란이 주요 생산국이다.

- (1) 석유는 산업용보다 수송용으로 소비되는 비율이 높다. (O, X)
- (2) 석탄은 천연가스보다 상용화된 시기가 이른다. (O, X)
- (3) 천연가스는 냉동 액화 기술의 발전으로 소비량이 증가하였다. (O, X)

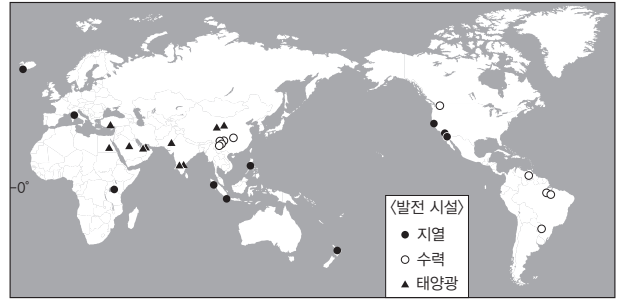
## 자료 02 러시아, 브라질, 인도의 1차 에너지 소비 구조



**자료 분석** 러시아, 브라질, 인도는 미국, 중국과 함께 세계에서 에너지 소비가 많은 대표적인 국가이다. 천연가스 생산이 많은 러시아는 1차 에너지 소비 구조에서도 천연가스 소비 비율이 높다. 아마존강 등 큰 하천의 수량을 이용할 수력 생산이 많은 브라질은 수력의 소비 비율이 높다. 공업이 빠르게 성장하고 있어 에너지 소비량이 많은 인도는 석탄의 소비 비율이 높다. 석유는 모든 국가에서 높은 비율로 소비된다. →(자료2) 수력이 소비 비율이 가장 높은 것은 아님을 반드시 알아야 해.

- (1) 천연가스는 산업 혁명 초기의 주요 에너지 자원이었다. (O, X)
- (2) 세계 1차 에너지 소비량에서 석유가 석탄보다 차지하는 비율이 더 높다. (O, X)
- (3) 석탄은 석유보다 국제 이동량이 많은 에너지 자원이다. (O, X)

## 자료 03 주요 신재생 에너지의 분포



**자료 분석** 수력, 지열, 태양광 발전의 설비 용량 기준 세계 상위 10개 시설을 나타낸 것이다. 신재생 에너지는 지형이나 기후의 제약으로 지역적 편차가 큰 편이다. 지열은 아이슬란드, 인도네시아, 뉴질랜드, 미국 서부, 케냐 등 주로 판의 경계 지역에 분포한다. 수력은 중국, 브라질, 캐나다 등 큰 하천이 많은 곳에 분포한다. 태양광은 사우디아라비아, 이집트 등 일조량이 많은 건조 기후에 분포한다. →(자료3) 신재생 에너지는 아프리카에서 발전량이 매우 낮은데 케냐의 지열 발전은 세계적으로 높은 수준이야.

- (1) 수력은 유량이 풍부하고 낙차가 큰 곳이 발전에 유리하다. (O, X)
- (2) 지열은 지각 내에 축적된 열에너지를 이용하는 방식이다. (O, X)
- (3) 수력은 태양광보다 주야간의 발전량 차이가 크다. (O, X)

## 자료 04 인공지능의 발달과 미래 사회의 변화

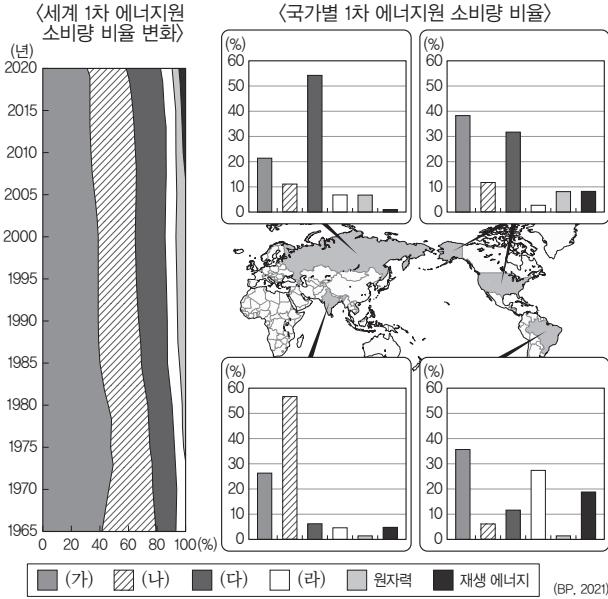
<p><b>1. 시간적 관점</b> 인공지능은 1950년대 이후 발전을 거듭하였으며, 특히 컴퓨터 기술의 향상과 데이터 축적이 가능해지면서 학습 능력을 갖춘 형태로 진화하였다.</p>	<p><b>2. 공간적 관점</b> 인공지능은 교통, 주거, 업무 등 다양한 생활공간에서 인간의 개입을 줄이고 효율성을 높이며, 자동화된 환경을 조성하고 있다.</p>
<p><b>3. 사회적 관점</b> 인공지능이 발달할수록 상위의 소수 집단이 기술과 부를 독점하는 사회 구조가 강화될 우려가 있으며, 인간의 일자리 감소 문제도 발생할 수 있다.</p>	<p><b>4. 윤리적 관점</b> 인공지능을 활용할 때 인간 존엄성, 연대, 공정성 등 핵심 윤리 기준을 지켜야 하며, 기술 개발과 사용은 인간을 중심으로 이루어져야 한다.</p>

**자료 분석** 인공지능은 삶을 편리하게 만들고 다양한 사회 문제 해결에 기여할 수 있다는 긍정적인 측면이 있는 반면에 인간의 일자리 위협이나 사회적 불평등 심화와 같은 부정적 측면도 있다. 따라서 세계시민은 지구촌의 미래에 큰 영향을 미치는 기술 발전을 통합적 관점에서 이해하고, 인간 존엄성과 지구촌 공동체의 지속가능성을 고려하여 바람직한 방향으로 기술이 활용 되도록 고민하고 실천하는 태도를 가져야 한다.

- (1) 인공지능의 발전은 기술과 자원의 독점을 불러와 불평등이 심화될 수 있다. (O, X)
- (2) 세계시민은 인공지능의 긍정적 측면만을 인식하기 위해 노력해야 한다. (O, X)

## 01

다음 자료에 대한 설명으로 옳은 것은? (단, (가)~(라)는 각각 석유, 석탄, 수력, 천연가스 중 하나임.)



- ① 브라질은 수력 소비량이 천연가스 소비량보다 많다.
- ② 네 국가 모두 화석 에너지의 국가 내 소비량 비율은 60% 이상이다.
- ③ (라)는 주로 운송 수단의 연료로 이용된다.
- ④ (가)는 (나)보다 상용화된 시기가 이른다.
- ⑤ (다)는 (나)보다 연소 시 오염 물질 배출량이 많다.

### 해결 Flow

세계 1차 에너지원 소비량 비율 변화 그래프를 보고 2021년 1차 에너지원 소비 비율이 석유, 석탄, 천연가스 순으로 크다는 것을 파악한다.

국가별 1차 에너지원 소비량 비율을 통해 국가별 특징적인 에너지 자원을 확인한다.

### 자료 분석

세계 1차 에너지원은 석유, 석탄, 천연가스, 수력, 재생 에너지, 원자력 순으로 많이 소비된다. 따라서 (가)는 석유, (나)는 석탄, (다)는 천연가스, (라)는 수력이다. 국가별 1차 에너지원 소비량 비율로도 각 에너지 자원을 파악할 수 있다. 지도에 제시된 네 국가는 세계에서 에너지 소비량이 많은 상위 국가이다. 브라질은 아마존강 등 큰 하천의 영향으로 수력의 비율이 상대적으로 높으므로 (라)는 수력이다. 러시아는 천연가스 생산이 많은 국가로 1차 에너지원 소비에서도 천연가스 소비가 많으므로 (다)는 천연가스, 인도는 경제가 빠르게 성장하는 개발 도상국으로 석탄의 소비 비율이 높으므로 (나)는 석탄, 미국은 석유와 천연가스의 소비 비율이 높으므로 (가)는 석유이다.

### 선지 분석

- ✓ ① 브라질의 수력 소비 비율은 25% 이상이며 천연가스 소비 비율은 12% 정도이므로 수력 소비량이 천연가스 소비량보다 많다.
- ② 브라질은 화석 에너지인 (가)~(다)의 합이 60% 미만이다.
- ③ 운송 수단의 연료로 주로 이용되는 것은 석유이다.
- ④ 석유와 석탄 중 상용화된 시기가 이른 것은 석탄이다.
- ⑤ 천연가스와 석탄 중 연소 시 오염 물질 배출량이 더 많은 것은 석탄이다.

## 02

다음은 환경 다큐멘터리 대본의 일부이다. (가), (나)에 해당하는 용어로 옳은 것은?

환경 문제는 전 지구 규모로 나타나고 있는데 그 대표적인 사례로는 지구 온난화가 있습니다. 국제 사회는 지구 온난화의 원인이 되는 온실가스를 감축하기 위해 함께 노력하고 있습니다. 이 노력의 일환으로 1990년대에는 국제 연합(UN) 기후변화 협약을 채택하였고, 온실가스 배출권 거래제를 도입한 (가)를 채택하였습니다. 또한, 선진국에 온실가스 감축 의무가 있었던 (가)와 달리, 2015년에 채택된 (나)은 선진국과 개발 도상국 모두 온실가스 감축 의무에 동참하도록 하고 있습니다.

- |            |        |
|------------|--------|
| (가)        | (나)    |
| ① 교토 의정서   | 제네바 협약 |
| ② 교토 의정서   | 파리 협정  |
| ③ 교토 의정서   | 람사르 협약 |
| ④ 몬트리올 의정서 | 제네바 협약 |
| ⑤ 몬트리올 의정서 | 파리 협정  |

### 해결 Flow

글 자료를 통해 (가), (나)가 각각 환경 관련 국제 협약이라는 것을 파악한다.

글 자료의 연도와 내용을 통해 (가), (나) 협약을 추론한다.

### 자료 분석

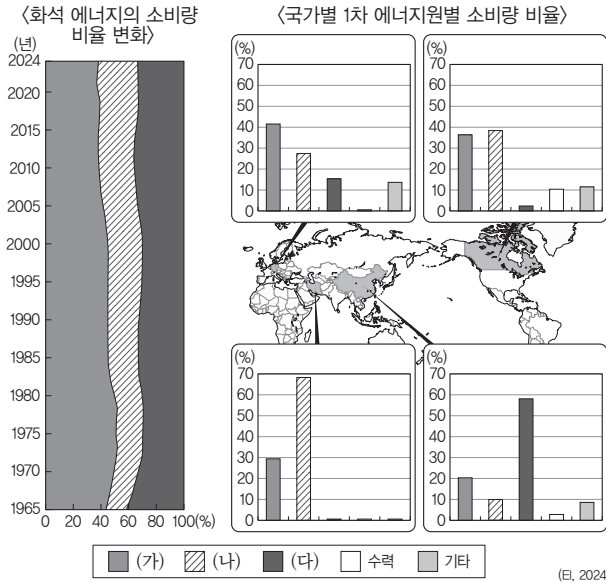
국제 사회는 온실가스 감축을 위해 기후변화 협약을 채택하였다. (가)는 1997년 선진국의 온실가스 감축 의무를 규정한 교토 의정서, (나)는 2015년 선진국과 개발 도상국 모두에게 온실가스 감축 의무를 규정한 파리 협정이 있다.

### 선지 분석

- ① 제네바 협약은 대기 오염 물질의 장거리 이동에 관한 협약으로, 산성비 문제 해결을 위해 국경을 넘어 이동하는 대기 오염 물질의 감축 및 통제를 목적으로 하고 있다.
- ③ 람사르 협약은 철새 및 물새 서식지로서 특히 국제적으로 중요한 습지에 관한 협약이다.
- ④, ⑤ 몬트리올 의정서는 오존층을 보호함으로써 지구 생태계 및 동식물의 피해를 방지하기 위한 협약이다. 염화 플루오린화 탄소(CFCs)와 오존층 파괴 물질의 사용 규제를 명시하고 있다.

### 01-1 동형 문제

다음 자료에 대한 설명으로 옳은 것은? (단, (가)~(다)는 각각 석유, 석탄, 천연가스 중 하나임.)

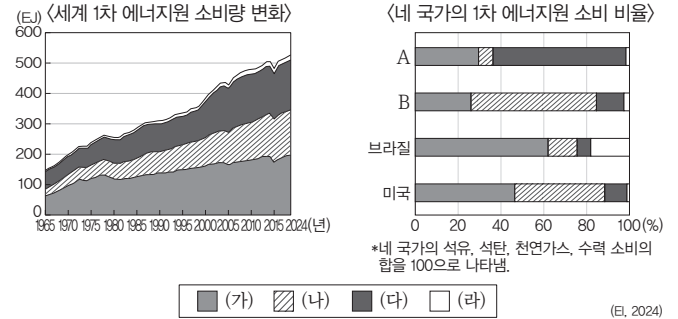


\*소비량 비율은 석유, 석탄, 천연가스를 100%로 계산한 것임.  
\*\*원자력과 신재생 에너지는 기타에 포함함.

- ① (가)는 수송용보다 가정용으로 많이 이용된다.
- ② (다)는 냉동 액화 기술의 발달로 소비량이 급증하였다.
- ③ (다)는 (나)보다 상용화된 시기가 이른다.
- ④ 캐나다는 석탄 소비량이 수력 소비량보다 많다.
- ⑤ 네 국가의 화석 에너지 국가 내 소비량 비율은 60% 미만이다.

### 01-2

다음 자료에 대한 설명으로 옳은 것은? (단, (가)~(라)는 각각 석유, 석탄, 수력, 천연가스 중 하나이며, A, B는 각각 러시아, 인도 중 하나임.)



- ① (가)는 산업 혁명 시기에 주요 에너지원으로 이용되었다.
- ② (다)는 주로 신생대 제3기층 배사 구조에 매장되어 있다.
- ③ 인도는 러시아보다 (라)의 소비 비율이 높다.
- ④ (나)는 (다)보다 연소 시 대기 오염 물질의 배출량이 많다.
- ⑤ (다)는 (가)보다 산업용으로 이용되는 비율이 높다.

### 02-1 동형 문제

다음은 학생의 수행평가 보고서의 일부이다. (가)에 들어갈 내용으로 가장 적절한 것은?

주제: (가)

오늘날 환경 문제는 전 지구적 규모로 나타나고 있으며, 사회의 여러 분야에서 환경 문제 해결을 위해 협력하고 있다. 대표적인 사례로 해당 환경 문제 해결을 위해 선진국의 실천 목표를 규정한 교토 의정서(1997년)를 채택한 것이 있다. 교토 의정서 발효 기간 종료 후, 2015년에는 파리 협정을 채택하였다. 선진국 중심으로 의무 조항이 있던 교토 의정서에 비해 파리 협정은 그보다 한 단계 더 나아가 선진국과 개발 도상국 모두 환경 문제와 관련된 해결 의무에 동참하도록 하고 있다.

- ① 화석 에너지 소비의 문제점
- ② 생태시민으로서 개인적 실천 방안
- ③ 기후변화에 대응하는 국제적 노력
- ④ 선진국 중심의 환경 문제 해결 노력 확대
- ⑤ 인간 중심주의 자연관이 반영된 노력의 사례

### 02-2 통합형

다음 자료에 대한 설명으로 옳은 것은?

(가) 환경 문제는 전 지구 규모로 나타나고 있는데, 그 대표적인 사례로는 지구 온난화가 있다. 국제 사회는 ㉠지구 온난화의 원인에 대응하기 위해 함께 노력하고 있다. 이 노력의 일환으로 1997년에는 ㉡을/를 채택하였으며, 2015년에 채택된 ㉢은/는 선진국과 개발 도상국 모두 온실가스 감축 의무에 동참하도록 하고 있다.

(나) 매킨타이어는 우리의 삶은 항상 공동체 속에서 이루어진다고 하였다. 우리는 공동체 속에서 다양한 역할을 맡은 사람으로서 기대와 의무를 지며, 자신의 가족과 도시, 민족으로부터 다양한 유산과 의무를 물려받았다고 하였다.

- ① ㉠의 대표적인 예시로 온실가스의 감소가 있다.
- ② ㉡은 선진국의 온실가스 감축 목표를 규정하였다.
- ③ ㉢은 몬트리올 의정서이다.
- ④ ㉢은 ㉡의 한계를 보완하기 위해 법적 구속력을 강화하였다.
- ⑤ (나)의 관점에서는 ㉢보다 ㉡을 지지할 것이다.

# 수능 기본 문제

## 01

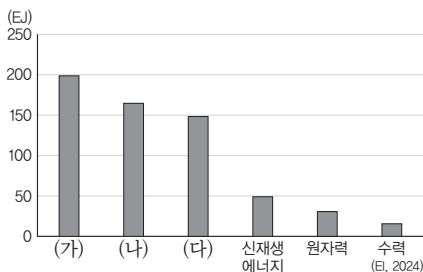
다음 글의 ㉠~㉣에 대한 설명으로 옳은 것은? (단, ㉠~㉣은 각각 석유, 석탄, 천연가스 중 하나임.)

세계의 에너지 소비는 산업화와 도시화, 그리고 생활 수준의 향상으로 꾸준히 증가하고 있으며, 화석 에너지는 여전히 주요 에너지원으로 사용되고 있다. ㉠은/는 20세기 중반 이후 가장 중요한 에너지원으로 자리 잡았으나, 최근에는 대체 에너지 확대와 전기차 보급 등으로 소비 증가율이 둔화하고 있다. ㉡은/는 과거 산업 혁명 이후 오랫동안 주요 에너지원이었으나, 환경 문제와 탄소 배출 규제에 의해 선진국에서는 소비가 줄고 있지만 일부 개발 도상국에서는 여전히 높은 비중을 차지하고 있다. ㉢은/는 상대적으로 청정 에너지원으로 평가받아 발전용 연료와 난방용으로 수요가 늘고 있다. 그러나 화석 에너지 사용량 증가는 ㉣ 지구 온난화와 기후 위기를 심화시키는 주요 원인으로 지적되고 있다. 이에 따라 태양광, 풍력, 지열 등 재생 에너지 생산이 활발히 이루어지고 있으며, 각국은 에너지 전환 정책을 추진하면서 지속가능한 발전을 위한 노력을 강화하고 있다.

- ① ㉠은 산업용보다 수송용으로 소비되는 비율이 높다.
- ② ㉡의 세계 최대 소비국은 미국이다.
- ③ ㉢은 ㉠보다 연소 시 대기 오염 물질의 배출량이 많다.
- ④ ㉠~㉣ 중 세계 에너지 자원 소비에서 차지하는 비율이 가장 높은 것은 ㉡이다.
- ⑤ ㉣의 해결을 위해 맺어진 국제 협약으로 바젤 협약이 있다.

## 02

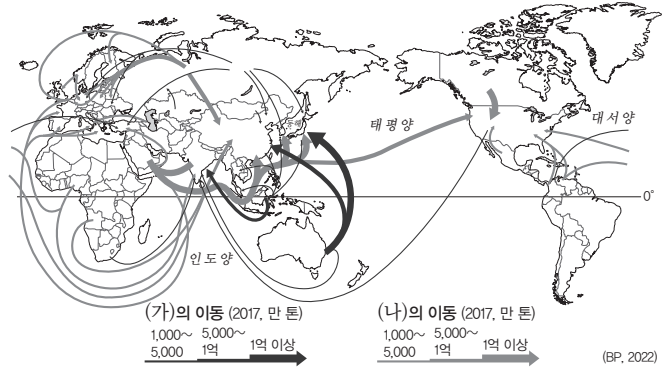
그래프는 세계 1차 에너지원별 소비량을 나타낸 것이다. (가)~(다) 자원에 대한 설명으로 옳은 것은?



● 세계 1차 에너지원별 소비량

- ① (가)의 최대 수출국은 러시아이다.
- ② (나)의 최대 생산국은 중국이다.
- ③ (다)는 산업 혁명 시기에 주요 에너지원으로 이용되었다.
- ④ (가)는 (나)보다 산업용으로 이용되는 비율이 높다.
- ⑤ (가)는 석탄, (나)는 석유, (다)는 천연가스이다.

[03~04] 지도는 두 화석 에너지의 생산 및 이동을 나타낸 것이다. 물음에 답하시오.



## 03

(가), (나) 에너지 자원으로 옳은 것은?

	(가)	(나)
①	석유	석탄
②	석유	천연가스
③	석탄	석유
④	석탄	천연가스
⑤	천연가스	석유

## 04

(가), (나) 자원에 대한 옳은 설명만을 <보기>에서 고른 것은?

보기

- ㄱ. (가)는 (나)보다 자원 분포의 편재성이 크다.
- ㄴ. (나)는 (가)보다 국제 이동량이 많다.
- ㄷ. (나)는 (가)보다 세계 1차 에너지 소비량에서 차지하는 비율이 높다.
- ㄹ. 동아시아 지역은 서남아시아보다 오세아니아에서 (나) 수입이 활발하다.

- ① ㄱ, ㄴ
- ② ㄱ, ㄷ
- ③ ㄴ, ㄷ
- ④ ㄴ, ㄹ
- ⑤ ㄷ, ㄹ

## 05

표는 유럽의 신재생 에너지 주요 소비국을 나타낸 것이다. (가)~(다) 에너지로 옳은 것은? (단, (가)~(다)는 각각 태양광, 풍력, 수력임.)

(단위: %)

(가)		(나)		(다)	
국가	비율	국가	비율	국가	비율
독일	5.5	독일	3.5	러시아	4.7
영국	3.3	에스파냐	2.7	노르웨이	3.1
에스파냐	2.5	이탈리아	1.7		
프랑스	1.9				
스웨덴	1.6				

\*에너지원별 소비량 세계 상위 10개국 중 유럽에 위치한 국가만 나타냄. (단, 2024)

\*\*러시아는 유럽에 포함함.

\*\*\*수치는 세계에서 차지하는 비율을 나타냄.

	(가)	(나)	(다)
①	수력	풍력	태양광
②	수력	태양광	풍력
③	풍력	수력	태양광
④	풍력	태양광	수력
⑤	태양광	풍력	수력

## 06

통합형

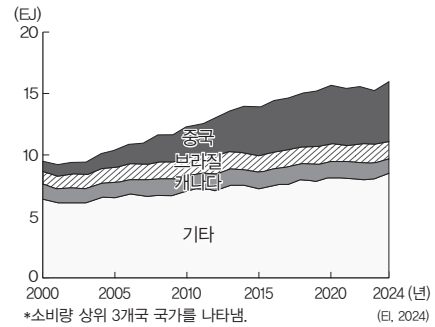
다음 글은 자원의 의미와 특징에 관한 것이다. 밑줄 친 ㉠~㉤에 대한 설명으로 옳은 것은?

자원은 인간의 생활과 경제활동에 꼭 필요하지만 여러 가지 특성을 가진다. 먼저 자원은 경제적, 기술적 조건에 따라 그 범위가 달라진다. ㉠ 기술적 의미의 자원은 당시 기술로 개발하여 사용 가능한 자원이고, 그중에서 경제성이 있어 상업적으로 널리 이용하는 자원을 ㉡ 경제적 의미의 자원이라고 한다. 자원은 ㉢ 유한성을 지니므로 무분별하게 사용하면 고갈될 수 있으며, 특정 지역에만 집중적으로 분포하는 ㉣ 편재성 때문에 국가 간 자원 불균형과 분쟁이 발생하기도 한다. 또한 자원의 가치는 시대 상황과 과학기술의 발달에 따라 달라지는 ㉤ 가변성을 가진다. 예를 들어 과거에는 활용되지 못했던 자원이 기술 발전으로 중요한 자원이 되기도 한다.

- ① ㉠에서 ㉡으로 변화하는 사례로 텅스텐을 캐던 우리나라 상동 광산의 폐광을 들 수 있다.
- ② ㉢은 ㉠보다 자원의 범위가 넓다.
- ③ ㉢의 사례로 자원 민족주의를 들 수 있다.
- ④ ㉢의 영향으로 발생한 국제 분쟁으로 카슈미르 분쟁이 있다.
- ⑤ ㉤의 사례로 석유의 가치 변화를 들 수 있다.

## 07

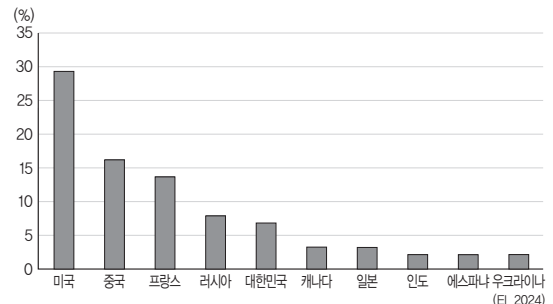
그래프는 어떤 신재생 에너지 자원의 소비량 변화를 나타낸 것이다. 이 자원에 대한 설명으로 옳은 것은?



- ① 판의 경계 부근에서 개발 잠재력이 높다.
- ② 일정하면서 강하게 부는 바람을 에너지원으로 이용한다.
- ③ 식물이나 미생물 등으로부터 얻을 수 있는 에너지에 해당한다.
- ④ 밀물과 썰물에 따라 발생하는 해수면의 높이차를 발전에 이용하는 방식이다.
- ⑤ 높은 산지가 있거나 빙하 녹은 물이 흘러내리는 지역이 발전소 건설에 유리하다.

## 08

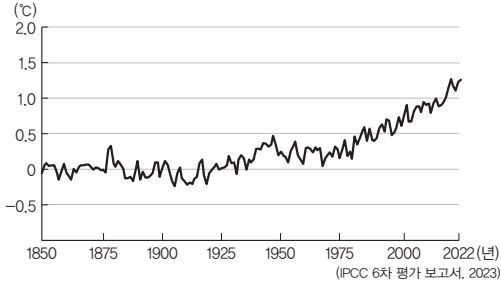
그래프는 어떤 1차 에너지원의 소비량 상위 10개국을 나타낸 것이다. 이 에너지 자원에 대한 설명으로 옳은 것은?



- ① 연중 많은 강수량이 에너지원 생산에 도움이 된다.
- ② 산업 혁명 시기에 주요 에너지 자원으로 활용되었다.
- ③ 냉동 액화 기술의 발달로 국제 이동량이 증가하였다.
- ④ 경제 발전 수준이 낮은 국가에서 주로 소비되는 에너지원이다.
- ⑤ 지반이 견고하고 다량의 냉각수를 확보할 수 있는 곳에 입지에 유리하다.

## 09

그래프는 지구 지표면의 평균 기온 변화를 나타낸 것이다. 이와 같은 추세가 지속될 경우 나타날 수 있는 변화에 대한 설명으로 옳은 것은?



㉠ 지구 지표면의 평균 기온 변화

- ① 북극해의 염도가 높아질 것이다.
- ② 시베리아의 영구 동토층 범위가 축소될 것이다.
- ③ 북극 항로의 선박 운항 가능 일수가 감소할 것이다.
- ④ 히말라야 산맥의 고산 식물 분포 고도 하한선이 낮아질 것이다.
- ⑤ 열대성 질병을 전파하는 동물 매개체의 분포 지역이 축소될 것이다.

## 10 통합형

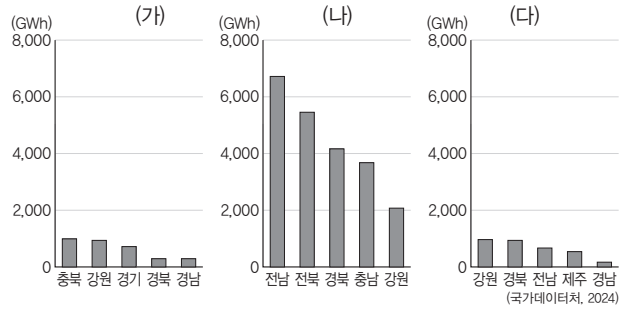
다음 자료의 ㉠~㉣에 대한 설명으로 옳지 않은 것은?

㉠ 국제 갈등은 한 나라나 지역의 에너지 소비 구조에 큰 변화를 일으킨다. 유럽 연합(EU)은 그동안 화석 에너지 중 ㉡의 소비 비중이 높았고, 주로 러시아에서 파이프라인을 통해 공급받아 왔다. 하지만 러시아-우크라이나 전쟁이 일어나자 국제 사회가 러시아에 대한 제재를 가하여 ㉢ 공급이 불안정해지고 가격이 크게 오르면서 유럽은 심각한 에너지 위기에 직면하였다. 이 과정에서 유럽은 단기적으로 에너지 부족 현상을 막기 위해서 ㉣ 석탄의 소비 비중을 다시 늘리기도 했는데, 이는 ㉤ 과/와 같은 환경 문제를 불러온다는 비판의 목소리가 나오기도 하였다. 이에 따라 장기적으로 러시아산 에너지 수입 의존도를 줄이고자 수입처를 다변화하고, ㉥ 재생 에너지 확대 정책을 추진하였다.

- ① 에너지 자원을 둘러싼 ㉠의 사례로 카스피해 분쟁이 있다.
- ② ㉡은 ㉢보다 연소 시 대기 오염 물질 배출량이 많다.
- ③ ㉢은 선진국보다 개발 도상국에서 사용 비율이 높은 편이다.
- ④ ㉤에는 '온실가스 배출량 증가'가 들어갈 수 있다.
- ⑤ 영국은 ㉤의 유형 중 풍력의 생산 비율이 높다.

## 11

그래프는 우리나라 신재생 에너지 자원의 지역별 발전량을 나타낸 것이다. (가)~(다)로 옳은 것은?



- |   |     |     |     |
|---|-----|-----|-----|
|   | (가) | (나) | (다) |
| ① | 수력  | 풍력  | 태양광 |
| ② | 수력  | 태양광 | 풍력  |
| ③ | 풍력  | 수력  | 태양광 |
| ④ | 풍력  | 태양광 | 수력  |
| ⑤ | 태양광 | 수력  | 풍력  |

## 12

다음은 세계시민의 자세에 관한 온라인 학습 장면을 나타낸 것이다. 학생의 답글 중 옳지 않은 것은?

교사: 다음 자료를 보고 세계시민으로서 우리가 할 수 있는 노력에는 무엇이 있을지 답글을 달아 보세요.

개인은 개인의 자아에서 시작하여 가족, 확대된 가족, 이웃, 지역 집단 등을 넘어 인류 전체까지 확대되는 동심원에 둘러싸여 있다. 이처럼 우리는 스스로를 인류에 둘러싸인 세계시민으로 인식하면서 더 큰 공동체를 위해 행동해야 한다.

- 갑: 인류의 보편적인 가치를 중시해야 해요.
- 을: 지구촌의 문제 해결에 적극적으로 참여해야 해요.
- 병: 다른 나라의 문화와 가치를 존중하면서 협력해야 해요.
- 정: 개별 사회 집단의 이익을 세계의 이익보다 우선시해야 해요.
- 무: 기후변화, 감염병 등 전 지구적 수준의 문제에 관심을 가져야 해요.

- ① 갑      ② 을      ③ 병      ④ 정      ⑤ 무

### 13

다음 글을 읽고 세계시민의 삶의 자세에 대한 옳은 설명만을 <보기>에서 있는 대로 고른 것은?

세계시민은 다른 사람과의 차이를 인정하지 않으려는 태도가 아닌 열린 마음으로 타인을 존중하고 함께 살아가려는 자세를 지녀야 한다. 또한 주어진 정보를 그대로 받아들이기보다는 다양한 관점에서 분석하고, 자신의 선택이 사회에 미치는 영향을 고려하는 자세가 필요하다. 그리고 지구촌의 문제를 나의 일로 여기고 일상에서 작은 실천을 통해 변화를 만들고자 노력해야 한다.

#### 보기

- ㄱ. 열린 마음으로 타인을 존중하고 함께 살아가고자 노력한다.
- ㄴ. 지구촌의 문제를 남의 일이 아닌 나의 일로 여기며 살아간다.
- ㄷ. 자신의 선택이 인권, 환경, 정의에 미칠 수 있는 영향을 생각한다.
- ㄹ. 다른 문화에 대해 자국의 문화를 기준으로 판단하는 태도를 지닌다.

- ① ㄱ, ㄷ                      ② ㄱ, ㄹ                      ③ ㄴ, ㄹ
- ④ ㄱ, ㄴ, ㄷ                ⑤ ㄴ, ㄷ, ㄹ

### 14

다음 글의 (가)에 들어갈 말로 적절한 것만을 <보기>에서 있는 대로 고른 것은?

**교사:** 세계시민은 인류 공동의 문제에 관심을 가지고, 인권·평화·다양성·지속가능성과 같은 보편적 가치를 실현하고자 행동하는 사람입니다. 세계시민은 서로 다른 문화와 관점을 이해하고 존중하며, 사회적 불평등과 차별 문제에 민감하게 반응합니다. 또한 개인의 삶과 지역 사회의 선택이 전 세계에 미치는 영향을 인식하고, 더 정의롭고 지속가능한 미래를 만들기 위한 실천적 노력을 기울이는 사람입니다.

**학생:** 세계시민이 실천해야 할 구체적인 행동에는 어떤 것이 있나요?

**교사:** 세계시민은 (가)

#### 보기

- ㄱ. 아동 노동으로 생산된 제품은 구매하지 않아야 합니다.
- ㄴ. 환경을 위해 동물의 털과 가죽으로 만든 옷을 구매해야 합니다.
- ㄷ. 분쟁 국가의 아동을 돕기 위한 기부 캠페인에 참여해야 합니다.
- ㄹ. 노동자의 인권을 보호하기 위해 공정 무역 제품을 구매해야 합니다.

- ① ㄱ, ㄷ                      ② ㄱ, ㄹ                      ③ ㄴ, ㄹ
- ④ ㄱ, ㄷ, ㄹ                ⑤ ㄴ, ㄷ, ㄹ

### 15

다음은 서술형 평가 문제와 학생 답안이다. 밑줄 친 ㉠~㉤ 중 옳지 않은 것은?

#### 서술형 평가

◎ **문제:** 과학기술의 발전에 따른 미래 사회의 공간과 삶의 변화에 대한 (가), (나)의 입장을 비교하여 설명하시오.

(가) 과학기술의 발전은 인간의 삶을 더욱 편리하고 풍요롭게 만들어 줄 것이다. 삶의 다양한 영역에서 효율성이 높아지고 사람들의 활동 범위나 선택의 폭도 넓어질 것이다. 이러한 변화는 삶의 질을 향상하고 미래 사회에 긍정적인 영향을 줄 수 있다.

(나) 과학기술의 발전으로 인해 인간이 기술에 지나치게 의존하는 등의 부작용과 여러 갈등이 발생할 수 있다. 이러한 변화는 인간 소외 문제를 발생시키고 미래 사회에 부정적인 영향을 미칠 수 있다.

#### ◎ 학생 답안

과학기술의 발전에 따른 미래 사회의 전망에 대해 (가)는 ㉠ 인간의 삶이 더 편리해질 것이라고 전망하고, ㉡ 삶의 방식이 다양화되고 개인의 선택권이 확대될 것이라고 본다. 반면에 (나)는 ㉢ 시간이 지남에 따라 인간이 과학기술을 주체적으로 활용하게 될 것이며, ㉣ 사회적 혼란이 가속화될 수 있다고 본다. 한편, (가)와 (나)는 모두 ㉤ 과학기술이 사회 전반에 큰 영향을 미칠 것이라고 본다.

- ① ㉠                      ② ㉡                      ③ ㉢                      ④ ㉣                      ⑤ ㉤

### 16 통합형

밑줄 친 ㉠~㉤에 대한 설명으로 옳지 않은 것은?

인공지능은 삶을 편리하게 만들고 사회 문제 해결에 기여할 수 있다는 긍정적 측면이 있는 반면, 일자리 위협이나 사회적 불평등 심화 같은 부정적 측면도 함께 지닌다. 따라서 ㉠ 세계시민은 인공지능 기술과 같이 지구촌의 미래에 큰 영향을 미치는 기술 발전을 ㉡ 시간적 관점, ㉢ 공간적 관점, ㉣ 사회적 관점, ㉤ 윤리적 관점에서 통합적으로 탐구하고 바람직한 해결 방안을 모색하기 위해 노력해야 한다.

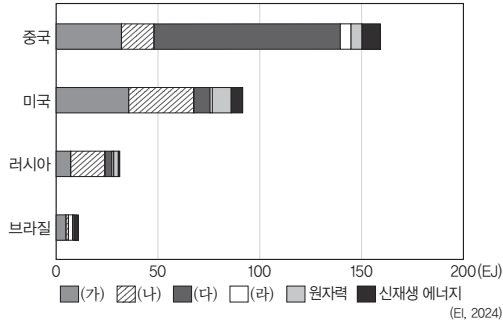
- ① ㉠은 인공지능 기술이 인간 존엄성을 존중하는 방향으로 발전하는지 성찰해야 한다.
- ② ㉡은 인공지능으로 인한 문제가 과거에 비해 증가하였는지 조사하는 것이다.
- ③ ㉢은 인공지능으로 인한 문제를 해결할 수 있는 보편적 규범에 대해 탐구하는 것이다.
- ④ ㉣은 인공지능으로 인한 문제를 예방할 수 있는 제도적 방안을 모색하는 것이다.
- ⑤ ㉤은 인공지능으로 인한 문제를 해결하기 위해 우리가 지녀야 할 바람직한 가치가 무엇인지 탐구하는 것이다.

# 1등급 완성 문제



## 01

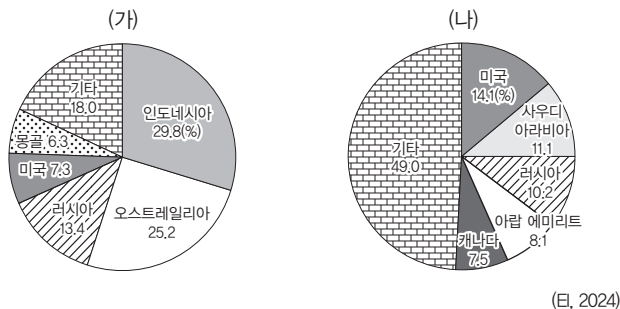
그래프는 네 국가의 1차 에너지원별 소비량을 나타낸 것이다. (가)~(라) 자원에 대한 설명으로 옳은 것은? (단, (가)~(라)는 각각 석유, 석탄, 수력, 천연가스 중 하나임.)



- ① (가)는 천연가스이다.
- ② (나)는 (가)보다 수송용으로 이용되는 비율이 높다.
- ③ (다)의 최대 수출 국가는 중국이다.
- ④ (라)는 (다)보다 대기 오염 물질 배출량이 적다.
- ⑤ (가)~(라) 중 세계 1차 에너지 소비 구조에서 가장 큰 비율을 차지하는 것은 (다)이다.

## 02

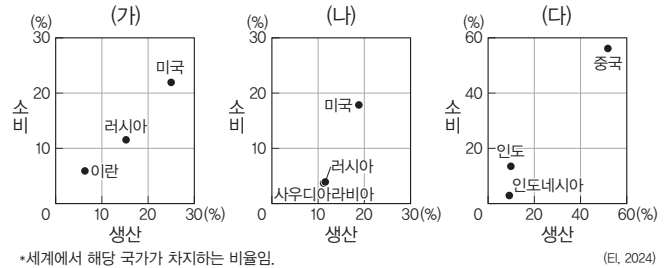
그래프는 두 화석 에너지 자원의 수출국 현황을 나타낸 것이다. (가), (나) 자원으로 옳은 것은?



- |        |        |
|--------|--------|
| (가)    | (나)    |
| ① 석유   | ① 석탄   |
| ② 석유   | ② 천연가스 |
| ③ 석탄   | ③ 석유   |
| ④ 석탄   | ④ 천연가스 |
| ⑤ 천연가스 | ⑤ 석유   |

## 03

그래프는 주요 국가의 세 화석 에너지 자원의 생산과 소비를 나타낸 것이다. (가)~(다)에 대한 옳은 설명만을 <보기>에서 있는 대로 고른 것은?



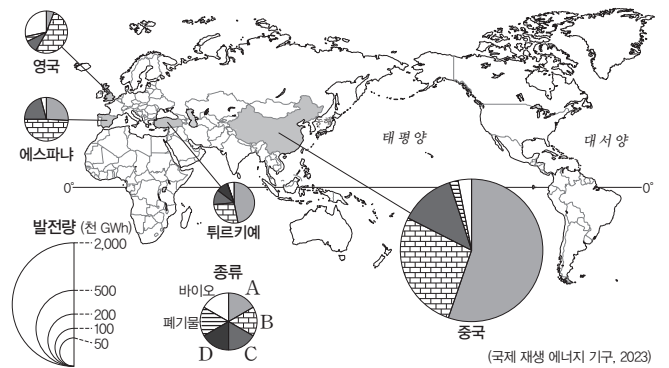
\*세계에서 해당 국가가 차지하는 비율임. (단, (가)~(다)는 각각 석유, 석탄, 수력, 천연가스 중 하나임.)

- 보기
- ㄱ. (가)는 주로 고생대 지층에 매장되어 있다.
  - ㄴ. (나)의 최대 수출국은 사우디아라비아이다.
  - ㄷ. (다)는 (가)보다 상용화된 시기가 이른다.
  - ㄹ. (다)는 (나)보다 산업용으로 이용되는 비율이 높다.

- ① ㄱ, ㄴ
- ② ㄱ, ㄷ
- ③ ㄷ, ㄹ
- ④ ㄱ, ㄴ, ㄷ
- ⑤ ㄴ, ㄷ, ㄹ

## 04

지도는 네 국가의 신재생 에너지 발전 유형 및 발전량을 나타낸 것이다. 이에 대한 설명으로 옳은 것은? (A~D는 각각 수력, 풍력, 태양광(열), 지열 중 하나임.)



- 네 국가의 신재생 에너지 발전 유형 및 발전량
- ① A는 바람이 지속적으로 많이 부는 지역이 생산에 유리하다.
  - ② B는 판의 경계부에서 개발 잠재력이 높다.
  - ③ C는 D보다 발전 시 기상 조건의 영향을 많이 받는다.
  - ④ 튀르키예는 수력보다 지열 발전량이 많다.
  - ⑤ 영국은 풍력보다 태양광(열) 발전량이 많다.

### 05 통합형

다음 자료는 에너지 자원과 관련된 동아시아 분쟁 지역을 나타낸 것이다. 이에 대한 옳은 설명만을 <보기>에서 있는 대로 고른 것은?

센카쿠 열도(다오위다오)와 난사 군도는 자원으로 인한 영토 분쟁이 있는 곳이다. 센카쿠 열도(다오위다오)는 동중국해에 위치하며 ㉠, 일본, 타이완이 영유권을 주장하는데, 이 지역은 풍부한 어장과 함께 해저에 ㉡석유와 ㉢천연가스가 매장되어 있을 가능성이 주목받는다. 남중국해에 위치한 난사 군도 역시 석유와 천연가스 매장 가능성이 있어 ㉠, 베트남, 필리핀 등 여러 나라가 영유권을 주장하고 있다. 이처럼 국제 분쟁은 경제에 중요한 천연 자원을 둘러싸고 벌어지는 경우가 많다.

● 동아시아의 분쟁 지역

- 보기
- ㄱ. ㉠은 중국이다.
  - ㄴ. ㉡은 세계 1차 에너지 소비량에서 차지하는 비율이 가장 높다.
  - ㄷ. ㉢은 냉동 액화 기술의 개발 이후 소비량이 급증하였다.

- ① ㄱ                      ② ㄷ                      ③ ㄱ, ㄴ  
 ④ ㄴ, ㄷ                ⑤ ㄱ, ㄴ, ㄷ

### 06

다음 글의 ㉠~㉢에 대한 설명으로 옳은 것은?

영국은 산업 혁명이 시작된 나라로, 초기에는 풍부한 ㉠ 자원을 기반으로 공업 지역이 발달하였다. 이 자원은 19세기와 20세기 초반까지 영국의 주요 에너지원으로 사용되며 산업과 도시 성장에 크게 기여하였다. 20세기 중반 이후 북해 유전 개발을 통해 ㉡과/와 천연가스가 주요 에너지 자원으로 자리 잡게 되었다. 최근에는 기후변화 대응과 탄소 감축을 위한 정책 추진 속에서 재생 에너지 비중이 빠르게 확대되고 있다. 특히 편서풍이 연중 불어오는 대서양에 면한 지리적 이점을 활용하여 해상에 발전기를 설치하고 ㉢ 에너지를 활발히 생산하고 있다. 이처럼 영국의 에너지 소비 구조는 화석 에너지 중심에서 최근 재생 에너지로 전환되는 변화를 보이고 있다.

- ① ㉠은 신생대 제3기층의 배사 구조에 주로 매장되어 있다.
- ② 영국은 ㉡의 주요 수출국이다.
- ③ ㉢은 지각 내에 축적된 열에너지를 이용한 에너지이다.
- ④ ㉠은 ㉡보다 연소 시 대기 오염 물질 배출량이 많다.
- ⑤ ㉡은 ㉢보다 국제 이동량이 적다.

### 07 통합형

다음 자료는 탄소 배출권 거래제에 관한 것이다. 이에 대한 옳은 설명만을 <보기>에서 있는 대로 고른 것은?

① 지속가능한 발전을 위해 행해지는 노력 중 탄소 배출권 거래제가 있다. 최근 심각해지고 있는 기후변화에 대응하기 위해 마련된 제도로, 허용된 배출량 내에서 잉여 배출량이나 초과 배출량에 대한 권한을 사고팔 수 있게 하여 궁극적으로 ㉠ 배출의 감축을 유도하고 있다.

- 보기
- ㄱ. ㉠을 위한 개인적 노력의 사례로 윤리적 소비를 들 수 있다.
  - ㄴ. ㉠에는 '온실가스'가 들어갈 수 있다.
  - ㄷ. 탄소 배출권 거래제 시행은 국제 사회의 기후변화 대응 노력에 지방 자치 단체 차원에서 동참한 사례이다.

- ① ㄱ                      ② ㄷ                      ③ ㄱ, ㄴ  
 ④ ㄴ, ㄷ                ⑤ ㄱ, ㄴ, ㄷ

### 08

다음 글은 신재생 에너지에 관한 것이다. ㉠~㉢ 자원에 대한 옳은 설명만을 <보기>에서 고른 것은? (단, ㉠~㉢은 각각 수력, 지열, 태양광, 풍력 중 하나임.)

RE100 캠페인은 기업 활동에 필요한 전력을 100% 재생 에너지로 충당하자는 국제적 캠페인으로, 지속가능한 발전을 이루기 위한 대표적인 글로벌 움직임이다. 화석 연료 사용이 기후 위기를 심화시키는 가운데, 태양광, 수력, 풍력, 지열 등 신재생 에너지는 RE100 달성을 위한 핵심 수단으로 활용되고 있다. 예를 들어, 글로벌 IT 기업들은 사막의 기후적 환경을 이용해 ㉠ 발전 단지를 직접 건설하는 등의 방법으로 재생 에너지를 확보하고 있다. 덴마크에서는 연중 편서풍이 불어오는 기후를 활용해 ㉡ 발전을 적극 확대하고 있으며, 노르웨이에서는 풍부한 수자원을 활용한 ㉢ 발전을 통해 RE100 참여 기업에 전력을 공급하고 있다. 아이슬란드 역시 판 경계에 위치한 위치적 특성을 활용하여 ㉢을/를 기반으로 RE100을 실현하고 있다. 이처럼 RE100 캠페인은 국가별 자원 여건에 맞는 신재생 에너지 확대를 통해 지속가능한 발전을 촉진하고 있다.

- 보기
- ㄱ. ㉠은 유량이 풍부하고 낙차가 큰 곳이 발전에 유리하다.
  - ㄴ. ㉡은 주로 지각 내 축적된 열에너지를 이용해 발전한다.
  - ㄷ. ㉠은 ㉢보다 발전 시 기상 조건의 영향을 많이 받는다.
  - ㄹ. 우리나라는 ㉠의 발전량이 ㉡의 발전량보다 많다.

- ① ㄱ, ㄴ                      ② ㄱ, ㄷ                      ③ ㄴ, ㄷ  
 ④ ㄴ, ㄹ                      ⑤ ㄷ, ㄹ

**MEMO**