


개념품

중학 사회

1



진도책



구성과 특징



이해가 쉬운 **진도책**

내용 정리로 개념을 다지고, 유형별 문제로 실력을 쌓아 완벽한 개념 이해와 문제 해결로 만점을 위해 달려 볼까!

1 개념 다지기

1 세계 여러 지역의 다양한 특성

1. 세계의 위치
 1. 세계의 위치를 알 수 있다.
 2. 세계의 위치를 알 수 있다.
 3. 세계의 위치를 알 수 있다.

2. 세계의 기후
 1. 세계의 기후를 알 수 있다.
 2. 세계의 기후를 알 수 있다.
 3. 세계의 기후를 알 수 있다.

3. 세계의 지형
 1. 세계의 지형을 알 수 있다.
 2. 세계의 지형을 알 수 있다.
 3. 세계의 지형을 알 수 있다.

4. 세계의 인문
 1. 세계의 인문을 알 수 있다.
 2. 세계의 인문을 알 수 있다.
 3. 세계의 인문을 알 수 있다.

5. 세계의 자원
 1. 세계의 자원을 알 수 있다.
 2. 세계의 자원을 알 수 있다.
 3. 세계의 자원을 알 수 있다.

6. 세계의 환경
 1. 세계의 환경을 알 수 있다.
 2. 세계의 환경을 알 수 있다.
 3. 세계의 환경을 알 수 있다.

7. 세계의 문화
 1. 세계의 문화를 알 수 있다.
 2. 세계의 문화를 알 수 있다.
 3. 세계의 문화를 알 수 있다.

8. 세계의 언어
 1. 세계의 언어를 알 수 있다.
 2. 세계의 언어를 알 수 있다.
 3. 세계의 언어를 알 수 있다.

9. 세계의 종교
 1. 세계의 종교를 알 수 있다.
 2. 세계의 종교를 알 수 있다.
 3. 세계의 종교를 알 수 있다.

10. 세계의 정치
 1. 세계의 정치를 알 수 있다.
 2. 세계의 정치를 알 수 있다.
 3. 세계의 정치를 알 수 있다.

- 교과서의 내용을 꼼꼼하게 정리하고 다양한 자료를 이용하여 이해하기 쉽게 구성하였습니다.
- 내용 정리를 '개념 IN'을 통해 다시 한번 정리하여 기초를 튼튼히 쌓을 수 있습니다.

2 실력 UP

1. 실력 UP

1. 세계 여러 지역의 다양한 특성

2. 세계의 위치

3. 세계의 기후

4. 세계의 지형

5. 세계의 인문

6. 세계의 자원

7. 세계의 환경

8. 세계의 문화

9. 세계의 언어

10. 세계의 종교

11. 세계의 정치

12. 세계의 경제

13. 세계의 사회

14. 세계의 과학

15. 세계의 예술

16. 세계의 스포츠

17. 세계의 역사

18. 세계의 철학

19. 세계의 문학

20. 세계의 음악

21. 세계의 미술

22. 세계의 춤

23. 세계의 연극

24. 세계의 영화

25. 세계의 방송

26. 세계의 인터넷

27. 세계의 모바일

28. 세계의 인공지능

29. 세계의 빅데이터

30. 세계의 클라우드

31. 세계의 사물인터넷

32. 세계의 증강현실

33. 세계의 가상현실

34. 세계의 혼합현실

35. 세계의 메타버스

36. 세계의 디지털 전환

37. 세계의 스마트 시티

38. 세계의 스마트 팩토리

39. 세계의 스마트 홈

40. 세계의 스마트 시티

- 중단원별 학교 시험을 대비할 수 있도록 다양한 유형의 문제로 구성하였습니다.
- 쉬운 문제부터 서술형 문제까지 어떤 문제가 나와도 자신 있게 해결할 수 있습니다.

시험 대비 **실전책**

내용 정리와 중단원별, 대단원별 문제까지 학습을 마쳤다면, 이제 남은 것은 중간고사와 기말고사를 대비해 실전처럼!

개념으로 복습하기

1. 세계 여러 지역의 다양한 특성

2. 세계의 위치

3. 세계의 기후

4. 세계의 지형

5. 세계의 인문

6. 세계의 자원

7. 세계의 환경

8. 세계의 문화

9. 세계의 언어

10. 세계의 종교

11. 세계의 정치

12. 세계의 경제

13. 세계의 사회

14. 세계의 과학

15. 세계의 예술

16. 세계의 스포츠

17. 세계의 역사

18. 세계의 철학

19. 세계의 문학

20. 세계의 음악

21. 세계의 미술

22. 세계의 춤

23. 세계의 연극

24. 세계의 영화

25. 세계의 방송

26. 세계의 인터넷

27. 세계의 모바일

28. 세계의 인공지능

29. 세계의 빅데이터

30. 세계의 클라우드

31. 세계의 사물인터넷

32. 세계의 증강현실

33. 세계의 가상현실

34. 세계의 혼합현실

35. 세계의 메타버스

36. 세계의 디지털 전환

37. 세계의 스마트 시티

38. 세계의 스마트 팩토리

39. 세계의 스마트 홈

40. 세계의 스마트 시티

- 중요 요점 정리를 통해 이 단원에서 배운 내용을 중간·기말고사를 준비하기 전에 마지막으로 훑어 정리할 수 있습니다.

문제로 복습하기

1. 세계 여러 지역의 다양한 특성

2. 세계의 위치

3. 세계의 기후

4. 세계의 지형

5. 세계의 인문

6. 세계의 자원

7. 세계의 환경

8. 세계의 문화

9. 세계의 언어

10. 세계의 종교

11. 세계의 정치

12. 세계의 경제

13. 세계의 사회

14. 세계의 과학

15. 세계의 예술

16. 세계의 스포츠

17. 세계의 역사

18. 세계의 철학

19. 세계의 문학

20. 세계의 음악

21. 세계의 미술

22. 세계의 춤

23. 세계의 연극

24. 세계의 영화

25. 세계의 방송

26. 세계의 인터넷

27. 세계의 모바일

28. 세계의 인공지능

29. 세계의 빅데이터

30. 세계의 클라우드

31. 세계의 사물인터넷

32. 세계의 증강현실

33. 세계의 가상현실

34. 세계의 혼합현실

35. 세계의 메타버스

36. 세계의 디지털 전환

37. 세계의 스마트 시티

38. 세계의 스마트 팩토리

39. 세계의 스마트 홈

40. 세계의 스마트 시티

- 시험 대비를 위해 반복적으로 문제를 접하여 시험에 적응할 수 있도록 대단원별 문제로 구성하였습니다.

1

세계화 시대, 지리의 힘

- 01 세계 여러 지역의 다양한 특성 010~013
- 02 세계의 공간적 상호 작용 014~017
- 03 지역의 변화와 역동성 018~021
- 만점 Full 022~025

2

아시아

- 01 아시아의 위치와 자연환경 028~033
- 02 아시아의 종교와 문화 다양성 034~037
- 03 아시아의 인구 특징과 지역 변화 038~041
- 04 아시아의 산업 특징과 변화 042~045
- 만점 Full 046~049

3

유럽

- 01 유럽의 위치와 자연환경 052~057
- 02 유럽의 다양한 도시 058~061
- 03 유럽의 통합과 분리 062~065
- 만점 Full 066~069



4

아프리카

- 01 아프리카의 위치와 자연환경 072~077
- 02 아프리카의 문화와 지역 잠재력 078~081
- 03 아프리카의 지속가능한 발전을 위한 노력 082~085
- 만점 Full 086~089

5

아메리카

- 01 아메리카의 위치와 자연환경 092~097
- 02 아메리카의 다양한 민족(인종)과 문화 098~101
- 03 아메리카의 초국적 기업 102~105
- 만점 Full 106~109

6

오세아니아와 극지방

- 01 오세아니아의 지리적 특성과 상호연계성 112~117
- 02 태평양 지역의 환경 문제와 해결 방안 118~121
- 03 극지방의 지리적 중요성과 지역 개발 122~125
- 만점 Full 126~129

7 인간과 사회생활

- 01 사회화와 자아 정체성 132~135
- 02 사회적 지위와 역할 136~139
- 03 우리 사회의 갈등과 차별 140~143
- 만점 Full 144~147

8 다양한 문화의 이해

- 01 문화의 의미와 특징 150~153
- 02 미디어를 통해 경험하는 문화 154~159
- 03 다양한 문화를 이해하는 태도 160~163
- 만점 Full 164~167

9 민주주의와 시민

- 01 정치와 민주주의 170~173
- 02 민주주의의 발전 과정과 원리 174~179
- 03 현대 민주주의의 특징과 과제 180~183
- 만점 Full 184~187

10 정치과정과 시민 참여

- 01 선거와 정치 참여 190~193
- 02 정치 주체와 정치 과정 194~197
- 03 지방 자치와 시민 참여 198~201
- 만점 Full 202~205

11 일상생활과 법

- 01 법의 의미와 목적 208~211
- 02 법의 종류 212~215
- 03 재판의 종류와 공정한 재판 216~221
- 만점 Full 222~225

12 인권과 기본권

- 01 인권 보장과 헌법 224~227
- 02 기본권의 제한과 침해 구제 228~231
- 03 근로자의 권리와 노동권 침해 구제 232~235
- 만점 Full 240~243


교과서 비교표

대단원	중단원	개념풀	동아	미래엔	비상	아침나라	지학사	천재
1. 세계화 시대, 지리의 힘	01 세계 여러 지역의 다양한 특성	10~13	8~11	8~11	10~13	8~13	12~18	10~17
	02 세계의 공간적 상호 작용	14~17	12~15	12~15	14~17	14~17	19~21	18~21
	03 지역의 변화와 역동성	18~21	16~19	16~21	18~21	18~21	22~25	22~25
2. 아시아	01 아시아의 위치와 자연환경	28~33	26~29	28~32	28~31	28~33	31~34	30~35
	02 아시아의 종교와 문화 다양성	34~37	30~33	33~37	32~37	34~37	35~39	36~39
	03 아시아의 인구 특징과 지역 변화	38~41	34~37	38~41	38~41	38~41	40~43	40~43
	04 아시아의 산업 특징과 변화	42~45	38~41	42~45	42~45	42~45	44~47	44~47
3. 유럽	01 유럽의 위치와 자연환경	52~57	48~51	52~55	52~55	52~59	53~56	52~57
	02 유럽의 다양한 도시	58~61	52~55	56~61	56~61	60~63	57~62	58~61
	03 유럽의 통합과 분리	62~65	56~59	62~65	62~65	64~67	63~65	62~65
4. 아프리카	01 아프리카의 위치와 자연환경	72~77	66~69	72~75	72~75	74~79	71~74	70~75
	02 아프리카의 문화와 지역 잠재력	78~81	70~73	76~81	76~79	80~83	75~79	76~79
	03 아프리카의 지속가능한 발전을 위한 노력	82~85	74~77	82~85	80~85	84~87	80~83	80~83
5. 아메리카	01 아메리카의 위치와 자연환경	92~97	84~89	92~95	92~95	94~99	89~92	88~93
	02 아메리카의 다양한 민족(인종)과 문화	98~101	90~93	96~100	96~99	100~105	93~96	94~97
	03 아메리카의 초국적 기업	102~105	94~97	101~105	100~103	106~109	97~101	98~101
6. 오세아니아와 극지방	01 오세아니아의 지리적 특성과 상호연계성	112~117	104~107	112~117	110~113	116~121	107~112	106~109
	02 태평양 지역의 환경 문제와 해결 방안	118~121	108~111	118~121	114~119	122~125	113~116	110~113
	03 극지방의 지리적 중요성과 지역 개발	122~125	112~115	122~125	120~123	126~129	117~119	114~117

내 교과서의 쪽수로
우리 학교 시험 범위를 확인해!
그리고 개념풀의 쪽수를 맞춰서 공부하면 돼!



대단원	중단원	개념풀	동아	미래엔	비상	아침나라	지학사	천재
7. 인간과 사회생활	01 사회화와 자아 정체성	132~135	122~125	132~135	128~131	134~137	124~127	122~125
	02 사회적 지위와 역할	136~139	126~129	136~139	132~135	138~141	128~131	126~129
	03 우리 사회의 갈등과 차별	140~143	130~133	140~145	136~141	142~145	132~135	130~133
8. 다양한 문화의 이해	01 문화의 의미와 특징	150~153	140~143	150~153	146~150	150~153	140~144	138~141
	02 미디어를 통해 경험하는 문화	154~159	144~147	154~159	151~155	154~159	145~149	142~145
	03 다양한 문화를 이해하는 태도	160~163	148~151	160~163	156~159	160~163	150~153	146~149
9. 민주주의와 시민	01 정치와 민주주의	170~173	158~161	168~171	164~167	168~171	158~161	154~157
	02 민주주의의 발전 과정과 원리	174~179	162~165	172~177	168~173	172~179	162~167	158~161
	03 현대 민주주의의 특징과 과제	180~183	166~169	178~181	174~177	180~183	168~171	162~165
10. 정치과정과 시민 참여	01 선거와 정치 참여	190~193	176~179	186~189	182~186	188~191	176~181	170~173
	02 정치 주체와 정치 과정	194~197	180~183	190~193	187~191	192~195	182~185	174~177
	03 지방 자치와 시민 참여	198~201	184~187	194~199	192~197	196~199	186~189	178~181
11. 일상생활과 법	01 법의 의미와 목적	208~211	194~197	204~207	202~205	204~207	194~197	186~189
	02 법의 종류	212~215	198~201	208~211	206~209	208~211	198~201	190~193
	03 재판의 종류와 공정한 재판	216~221	202~207	212~217	210~215	212~219	202~205	194~197
12. 인권과 기본권	01 인권 보장과 헌법	224~227	214~217	222~225	220~227	224~229	210~215	202~205
	02 기본권의 제한과 침해 구제	228~231	218~221	226~230	228~231	230~233	216~219	206~209
	03 근로자의 권리와 노동권 침해 구제	232~235	222~225	231~235	232~235	234~237	220~223	210~213



1



세계화 시대, 지리의 힘


- 01 세계 여러 지역의 다양한 특성
- 02 세계의 공간적 상호 작용
- 03 지역의 변화와 역동성

배움 내용 확인하기

세계 여러 지역의 특성은 왜 다양하게 나타날까요?

공간적 상호작용의 발달 배경은 무엇일까요?


세계화가 무엇일까요?



사회 전반에 걸쳐 세계가 하나의 공동체로 통합되어 가는 현상이에요.

교통·통신의 발달로 지역 간 상호 작용이 활발해졌어요.

위치에 따라 자연환경, 인문환경이 다르기 때문이에요.



1 세계 여러 지역의 다양한 특성

1 지역 특성에 영향을 미치는 위치

1. 위치의 의미와 종류

(1) 의미: 지역이 일정한 장소에 차지하고 있는 자리

(2) 종류

어떤 지역의 변하지 않는 고정적인 정보를 말해.

절대적 위치	<ul style="list-style-type: none"> 지리적 위치: 대륙, 해양, 산맥 등으로 설명 수리적 위치: 위도와 경도 등으로 설명 자료 1
상대적 위치	<ul style="list-style-type: none"> 주변 지역과의 관계에 따라 결정 시대나 상황에 따라서 변함.

2. 위치의 중요성

- (1) 지역은 위치에 따라 기후, 지형 등 자연환경이 다르게 나타남.
- (2) 자연환경의 특성은 인구, 문화 등 지역의 인문환경에 영향을 줌.
- (3) 위치를 파악함으로써 지역성을 알 수 있음.

2 서로 다른 세계 여러 지역의 특성

1. 자연환경

(1) 지형 **자료 2**

산지	해발 고도가 높고 대체로 경사가 급하여 인간 거주에 불리
평야	넓고 평탄하여 기후 조건이 적절하면 농업이 발달
하천	하천 유역의 평야 지대는 물을 구하기 쉬워 농업이 발달
해안	바다가 가까이 있어 항구와 수산업이 발달

대체로 위도에 따라 나뉜다.

(2) 기후: 일정 지역에서 나타난 기온, 강수, 바람 등의 평균 상태 **자료 3**

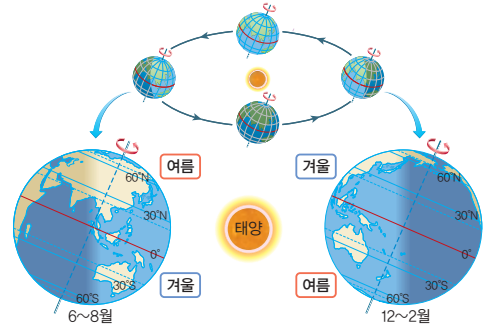
열대 기후	<ul style="list-style-type: none"> 적도를 중심으로 나타남. 연중 기온이 높고 강수량이 많음.
건조 기후	<ul style="list-style-type: none"> 남·북위 23.5° 일대와 중위도 대륙 내부 지역에 나타남. 연 강수량보다 연 증발량이 많음. 강수량이 매우 적어 식생이 빈약함.
온대 기후	<ul style="list-style-type: none"> 중위도 지역에 나타남. 기온이 온화하며 연 강수량이 풍부함.
냉대 기후	<ul style="list-style-type: none"> 고위도 지역에 나타남. 겨울이 길고 추위 침엽수림이 널리 분포

용어 풀단지

- ◆ 지역성 다른 지역과 구별되는 지역의 독특한 특성
- ◆ 남·북위 적도를 중심으로 북쪽을 북위, 남쪽을 남위라고 함.
- ◆ 식생 어떤 장소에 모여 사는 식물의 집단
- ◆ 침엽수림 잎이 바늘처럼 가늘고 길며 끝이 뾰족한 나무로 이루어진 숲

자료 풀단지

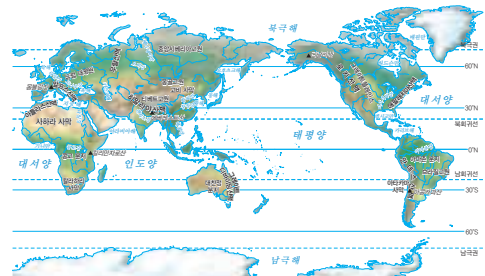
교과서 확인: 동아, 미래엔, 천재
자료 1 위도에 따라 달라지는 일사량



위도에 따라 지표면이 받는 일사량이 달라지며, 적도에서 극지방으로 갈수록 단위 면적당 일사량이 적어져 기온이 대체로 낮아진다. 또한 지구가 23.5° 기울어 공전하기 때문에 남반구와 북반구는 서로 계절이 정반대이다.

교과서 확인: 동아, 미래엔, 천재

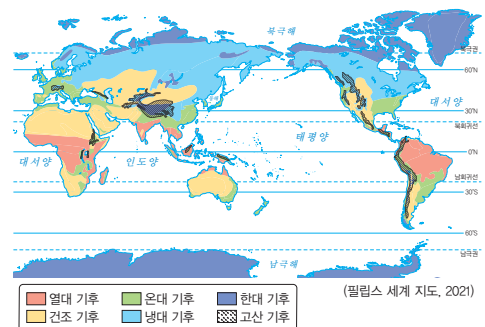
자료 2 세계의 지형 분포



질은 갈색일수록 고도가 높다는 것을 의미하며, 비슷한 색상이 연속적으로 나타나는 곳은 비슷한 고도와 지형이 연속적으로 나타나고 있음을 의미한다.

교과서 확인: 동아, 미래엔, 천재

자료 3 세계의 기후 분포



적도 지방에서 고위도로 갈수록 대체로 열대 기후, 건조 기후, 온대 기후, 냉대 기후, 한대 기후 순으로 나타난다.

한대 기후	<ul style="list-style-type: none"> 극지방을 중심으로 나타남. 연중 기온이 매우 낮음.
고산 기후	<ul style="list-style-type: none"> 해발 고도가 높은 곳에서 나타남. 저위도 고산 지역은 연중 기온이 온화함.

해발 고도가 100m 올라갈 때마다 기온은 0.5~0.6℃씩 낮아진다.

2. 인문환경

종교	<ul style="list-style-type: none"> 지역별로 일상생활과 밀접한 관련을 맺음.
자료 4	<ul style="list-style-type: none"> 종교에 따라 음식·결혼·장례 문화 등이 다름.
언어	문자로 표현되는 언어 경관 및 교류 모습이 달라짐.
산업	<ul style="list-style-type: none"> 전통 농경 지역: 작물을 기르는 정착 생활 유목 지역: 식량과 물을 찾아 이동하는 이동 생활 제조업, 서비스업 등 발달 지역: 도시적인 생활

3. 지역의 다양성

(1) 세계를 온전히 이해하기 위해서는 지역의 다양성을 이해해야 함.

(2) 지역의 다양성 사례

베트남	기후의 영향으로 벼농사가 발달, 쌀을 이용한 음식 문화가 나타남.
이집트	기후의 영향으로 사막이 발달, 길고 험령한 의복 문화가 나타남.
몽골	건조한 기후의 영향으로 유목이 발달하여 게르가 나타남. 자료 5
페루	해발 고도가 높아 일 년 내내 기후가 온화한 고산 기후가 나타남.

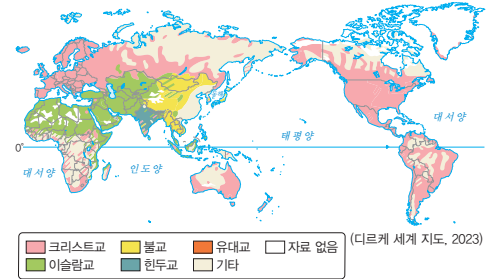
(3) 각 지역의 다양성을 이해하고 고유성을 존중하는 세계시민으로서의 태도를 가져야 함.

용어 풀단지

- 경관 자연적 요소에 인간의 활동이 작용하여 만들어 낸 지역의 통일된 특성
- 세계시민 지구촌 문제가 우리의 문제임을 알고 이를 해결하고자 협력하는 자세를 지닌 사람

자료 풀단지

교과서 확인 : 천재
자료 4 세계의 종교 분포



주로 유럽 및 아메리카권은 크리스티교, 서남아시아 및 북부 아프리카는 이슬람교를 믿는다. 종교는 오랜 시간에 걸쳐 세계 여러 지역으로 전파되고 정착되었다.

교과서 확인 : 동아, 비상, 아침나라

자료 5 몽골의 게르



몽골은 건조한 기후의 영향으로 풀과 물을 찾아 이동하며 가축을 기르는 유목이 발달하였다. 이러한 영향으로 이동하는 데 편리한 이동식 가옥인 게르가 나타난다.

STEP 1

개념 IN

1 빈칸에 들어갈 알맞은 말을 쓰시오.

- (절대적) 위치는 변하지 않는 고정적인 위치 정보를 나타낸다.
- (상대적) 위치는 시대나 상황에 따라서 변하는 위치 정보를 나타낸다.

2 ㉠, ㉡ 중 알맞은 것을 고르시오.

- (㉠ 산지, ㉡ 평야) 지역은 해발 고도가 높고 대체로 경사가 급하여 인간 거주에 불리하다.
- (㉠ 하천, ㉡ 해안) 지역은 바다가 가까이 있어 항구와 수산업이 발달하였다.

3 밑줄 친 곳을 바르게 고쳐 쓰시오.

- 온대 기후는 중위도 적도를 중심으로 나타나며, 기온이 온화하고 연 강수량이 풍부하다.
- 냉대 기후는 고위도 지역에 나타나며, 주로 침엽수림이 널리 분포한다.

4 다음 설명이 맞으면 ○표, 틀리면 ×표를 하시오.

- 전통 농경 지역에서는 주로 작물을 기르는 정착 생활을 한다. (○)
- 세계시민이란 세계 각 지역의 다양성을 이해하고 다른 문화를 존중하고자 하는 자세를 지닌 사람이다. (○)

01 다음에서 설명하는 용어로 옳은 것은?

기후, 지형 등의 자연환경과 종교, 언어, 산업 등 그 환경 위에 만들어 낸 인문환경이 어우러져 다른 지역과 구별되는 지역의 독특한 특성

- ① 지역화 ② 지역성 ③ 지방화
- ④ 세계성 ⑤ 세계화

정답 ② | 지역성에 대한 설명으로, 자연환경과 인문환경에 의해서 다른 지역과 구별되는 지역의 독특한 특성을 일컫는 용어이다.

02 위치에 대한 설명으로 옳지 않은 것은?

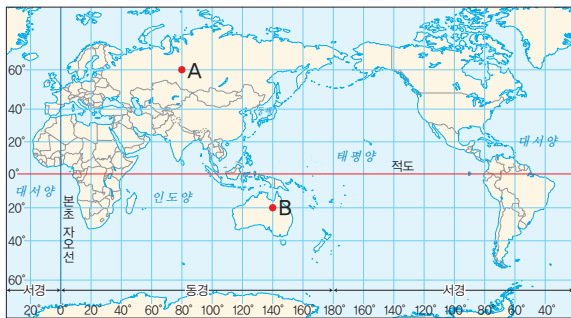
- ① 절대적 위치는 변하지 않는 고정적인 정보를 나타낸다.
- ② 수리적 위치는 위도나 경도로 위치를 설명하는 것이다.
- ③ 위치는 지역이 일정한 장소에서 차지하고 있는 자리를 의미한다.
- ④ 상대적 위치는 시대에 따라서 변할 수는 있지만, 상황에 따라서는 변하지 않는다.
- ⑤ 지리적 위치는 고정되어 있는 대륙, 해안, 산맥 등을 바탕으로 위치를 설명하는 것이다.

정답 ④ | 상대적 위치는 시대에 따라서 뿐만 아니라 상황에 따라서도 변할 수 있다.

중요

정답 ③ | A는 아시아 대륙에 위치한 러시아의 한 지점이고, B는 오세아니아 대륙에 위치한 오스트레일리아의 한 지점이다.

03 지도에 대한 설명으로 옳은 것은?



- ① A는 열대 기후가 나타날 것이다.
- ② A는 북위 80°, 동경 60°에 위치한다.
- ③ B는 오세아니아 대륙에 위치한다.
- ④ B는 북반구와 동일한 계절이 나타난다.
- ⑤ 지도를 통해 절대적 위치와 상대적 위치를 모두 알 수 있다.

04 (가), (나) 경관이 나타나는 지역의 지역성을 추론한 것으로 옳지 않은 것은?

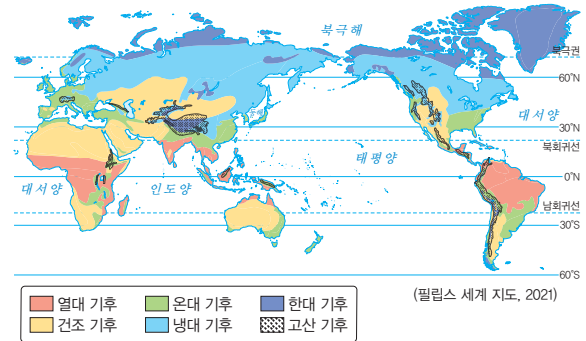


- ① (가) 지역은 경사가 급하여 인간 거주에 불리할 것이다.
- ② (나) 지역은 수산업이 발달하였을 것이다.
- ③ (나) 지역은 주로 불교 경관이 나타날 것이다.
- ④ (가) 지역은 (나) 지역보다 해발 고도가 높을 것이다.
- ⑤ (가), (나)는 지형에 의해 지역성이 만들어진 사례이다.

정답 ③ | (가)는 산지 지역, (나)는 해안 지역이다. 제시된 (나) 사진을 바탕으로 어떤 종교가 지역성에 영향을 미쳤는지는 알 수 없다.

중요

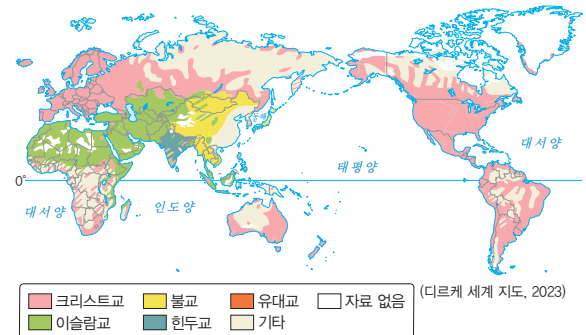
05 지도에 대한 설명으로 옳은 것은?



- ① 기후는 경도의 영향을 받아 달라진다.
- ② 고산 기후는 적도 주변에서만 나타난다.
- ③ 온대 기후는 극지방 주변에 주로 나타난다.
- ④ 오스트레일리아는 주로 건조 기후가 나타난다.
- ⑤ 고위도로 갈수록 냉대 기후보다 열대 기후가 더 많이 나타난다.

정답 ④ | 제시된 지도에서는 오스트레일리아 대부분의 지역에서 건조 기후가 나타난다.

06 지도에 나타난 세계의 지역 구분 지표로 옳은 것은?



- ① 기후 ② 종교 ③ 지형 ④ 언어 ⑤ 산업

정답 ② | 지도 범례를 통해 종교를 기준으로 한 지역 구분 지도임을 알 수 있다.

07 (가), (나) 경관이 나타나는 지역의 지역성을 추론한 것으로 옳지 않은 것은?

(가)



▲ 전통 농업

(나)



▲ 금융 및 서비스업

- ① (가) 지역은 건조 기후가 나타날 것이다.
- ② (가) 지역에서는 일찍부터 작물을 기르는 정착 생활이 이루어졌을 것이다.
- ③ (나) 지역에서는 주로 도시적인 생활양식이 나타날 것이다.
- ④ (가), (나) 지역은 시대에 따라 지역성이 변화될 수도 있다.
- ⑤ (가), (나)는 인문환경에 의해 지역성이 만들어진 사례이다.

정답 ① | (가) 지역은 벼농사가 이루어지는 곳으로, 건조 기후는 벼농사에 적합하지 않다.

★★★
고난도

08 (가), (나) 지역에 대한 설명으로 옳은 것을 <보기>에서 고른 것은?

(가)



(나)



보기

- ㄱ. (가)는 (나)보다 고위도에 위치한다.
- ㄴ. (가), (나)는 서로 계절이 정반대이다.
- ㄷ. (가), (나)는 식생이 자라기에 유리한 환경이 아니다.
- ㄹ. (가), (나)는 자연환경의 영향을 받아 지역성이 만들어졌다.

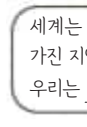
- ① ㄱ, ㄴ ② ㄱ, ㄷ ③ ㄴ, ㄷ
- ④ ㄴ, ㄹ ⑤ ㄷ, ㄹ

청아·융합

09 ㉠에 들어갈 가장 적절한 대화를 고른 것은?



세계는 자연환경과 인문환경을 바탕으로 다양한 지역의 특성을 가지고 있어. 우리는 어떤 자세를 가져야할까?



세계는 더욱 다양하고 독특한 특색을 가진 지역들로 채워지고 있어. 그렇기에 우리는 ㉠

- ① 나와 관계없는 문화는 존중해주지 않아도 돼.
- ② 우수하다고 생각되는 지역성을 반드시 받아들일 필요가 있어.
- ③ 세계를 하나로 만들기 위해 단 하나의 지역성을 만들고자 노력해야 해.
- ④ 각 지역의 다양성을 이해하고 고유성을 존중하는 세계시민으로서의 태도를 가질 필요가 있어.
- ⑤ 사회적 약자의 학대, 식인 풍습 등 인간의 존엄성을 훼손할 가능성이 있는 지역성까지도 존중해야 해.

정답 ④ | 제시된 대화는 다양한 지역성에 대해 우리가 가져야 할 올바른 자세를 묻는 내용이다. 우리는 세계 각 지역의 다양성을 이해하고 고유성을 존중할 수 있는 세계시민으로서의 태도를 가져야 한다.

구분	채점 기준
상	이동식 가옥이 나타나는 이유를 건조 기후와 관련지어 정확히 서술한 경우
중	이동식 가옥이 나타나는 이유를 건조 기후와 관련지어 서술하였으나 미흡한 경우
하	건조 기후 때문이라고만 서술한 경우

서술형 문제

10 사진을 보고 물음에 답하십시오.



(1) 위 주거 형태가 나타나는 국가와 주거 형태의 명칭을 쓰시오.

몽골, 게르

(2) 위 주거 형태가 나타나는 이유를 기후와 관련지어 서술하십시오.

예시 답안 | 건조 기후 지역에서는 풀과 물을 찾아 이동하며 가축을 기르는 유목이 발달하였기 때문에 이동과 설치가 간편한 이동식 가옥이 나타난다.



세계의 공간적 상호 작용

1 세계 여러 지역의 연결

1. 교통과 통신의 발달

(1) 교통의 발달 **자료 1**

- ① 자동차, 고속 철도, 항공기 등 새로운 교통수단의 등장
- ② 전 세계를 연결하는 교통망의 형성

(2) 교통의 발달 결과

- ① 사람과 물자가 다른 지역으로 빠르게 이동할 수 있음.
- ② 지역의 접근성이 향상되고, 생활공간의 범위가 확대됨.
- ③ 지역 간 상호 작용이 활발해짐.

(3) 통신의 발달: 인터넷, 컴퓨터, 스마트폰의 보편화 **자료 2**

(4) 통신의 발달 결과

- ① 실시간 소통과 다양한 정보를 공유할 수 있음.
- ② 지역의 공간적 제약을 극복할 수 있음.
- ③ 지역 간 상호 작용이 활발해짐.

2 세계 여러 지역의 공간적 상호 작용

1. 공간적 상호 작용

- (1) 의미: 사람과 물자, 자본, 정보 등의 지역 간 교류
- (2) 발달 배경: 교통·통신의 발달에 따른 시공간의 압축
- (3) 발달 결과 **자료 3**

- ① 세계화의 진전
 - 인간의 활동 범위가 국경을 넘어 세계로 확대됨.
 - 지역 또는 국가 간에 상호연계성과 상호의존성이 강화됨.
- ② 지역 간 연결의 확대
 - 각 지역성을 공유하며, 부족한 부분을 채우기 위해 연결을 확대함.
 - 상호 협력의 필요성에 따라 지역은 다양한 형태로 결합함.
- ③ 지역 간 연결의 대표적인 유형

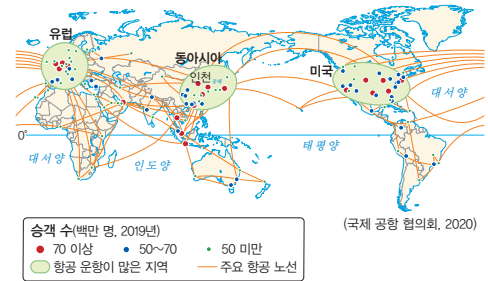
자유 무역 협정(FTA)	상품 및 서비스를 자유롭게 팔기 위해 결합
유럽연합(EU)	유럽의 정치·경제 통합을 달성하기 위해 결합
국제연합(UN)	세계 평화와 안전의 보장을 위해 결합

용어 풀단지

- ◆ **시공간의 압축** 교통의 발달로 시간과 공간의 심리적인 거리가 줄어든 현상
- ◆ **상호연계성** 지역 간의 교통, 통신, 경제 협력, 문화 교류 등과 같은 교류의 정도
- ◆ **상호의존성** 한 지역의 발전이나 안정성이 다른 지역의 상황에 의존하는 정도
- ◆ **자유 무역 협정(FTA)** 국가 간에 물건이나 서비스의 이동을 자유롭게 하기 위해서 세관, 법, 제도 등의 무역 장벽을 줄이거나 없애기로 한 협정

자료 풀단지

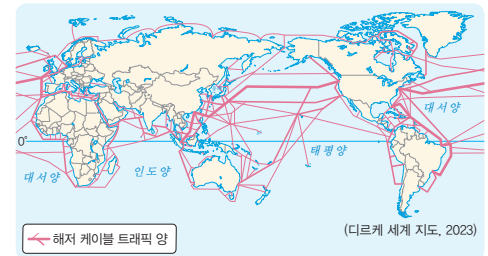
교과서 확인: 동아, 아침나라, 천재
자료 1 세계 항공 네트워크



세계 주요 공항들은 항공 노선이 서로 연결되어 있고 운항 횟수가 많아 사람과 화물의 이동에 중요한 역할을 한다. 이러한 교통망의 발달은 전 세계의 접근성이 향상되고, 지역 간 상호 작용이 활발하게 이루어질 수 있게 하였다.

교과서 확인: 아침나라, 천재

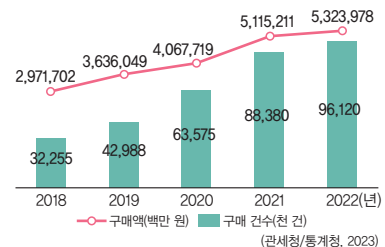
자료 2 세계 해저 케이블 네트워크



세계의 인터넷은 해저에 있는 케이블 네트워크로 연결되어 있다. 지도에 보이는 케이블 네트워크에 따라 전 세계 각국에서 생성된 자료와 정보는 전 세계 곳곳으로 퍼져 나간다.

교과서 확인: 동아

자료 3 늘어나는 해외 직접 구매



국내 소비자가 온라인 상점 등을 통해 외국의 상품을 직접 구매하는 행위인 해외 직접 구매는 교통·통신의 발달로 시공간이 압축됨에 따라 규모가 점차 늘어나고 있다.

2. 네트워크 세계

- (1) 의미: 세계 여러 지역이 하나로 연결되어 있는 현상
- (2) 형성 원인: 국경을 초월한 지역 간의 활발한 공간적 상호 작용
- (3) 다양한 규모의 네트워크 **자료 4**

지역 규모 네트워크	주변 지역과 같이 생활권 규모에서 이루어지는 상호 작용 예) 주변 지역으로의 통학·통근 등
국가 규모 네트워크	국가 내에서 지역과 지역 간에 이루어지는 상호 작용 예) 지역 특산물 구매, 다른 지역으로의 여행 등
세계 규모 네트워크	국가 간 이루어지는 세계 규모의 상호 작용 예) 초국적 기업의 상품 제작·운반·판매 등

3. 네트워크 세계에 대한 인식의 중요성

- (1) 네트워크 세계에 대한 인식
 - ① 세계시민으로서 우리의 삶이 세계와 긴밀하게 연결되어 있음을 인식해야 함.
 - ② 세계 여러 지역의 다양한 현상에 관심을 가짐.
- (2) 네트워크 세계에 대한 인식의 중요성: 세계 모든 구성원을 이해하고 상호 협력하는 데 중요한 역할을 함.

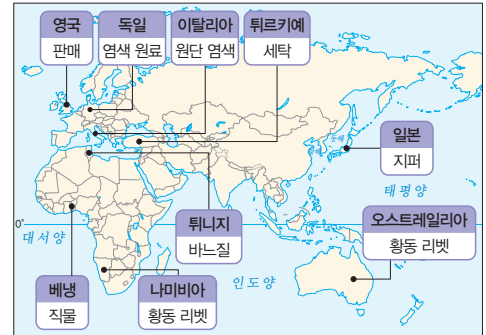
용어 풀단지

- ◆ **초국적 기업** 한 국가에 본사를 두고 세계 여러 국가에서 자회사와 공장 등을 운영하며 상품을 생산, 판매하는 기업
- ◆ **조달** 자금이나 물건 등을 전해줌.

자료 풀단지

교과서 확인 : 동아

자료 4 청바지에 들어있는 세계



한 벌의 청바지를 만들기 위해서는 각 부품을 세계 각지에서 조달하여 제품을 만들고, 이렇게 만들어진 제품을 다시 세계 각지에 판매함으로써 한 제품에 세계 규모 네트워크가 활발히 적용되고 있음을 알 수 있다.

STEP 1

개념 IN

1 빈칸에 들어갈 알맞은 말을 쓰시오.

- (1) (**교통**)의 발달은 사람과 물자가 다른 지역으로 빠르고 편리하게 이동할 수 있게 하였으며, 지역의 접근성이 향상되고, 생활공간의 범위를 확대시켰다.
- (2) (**통신**)의 발달은 지역의 공간적 제약을 극복하게 하였으며, 지역 간 상호 작용까지 활발하게 만들었다.

2 다음 설명이 맞으면 ○표, 틀리면 ×표를 하시오.

- (1) 자유 무역 협정은 상품 및 서비스를 자유롭게 팔기 위해 결합한 것이다. (○)
- (2) 유럽연합은 유럽뿐만 아니라 전 세계의 정치·경제 통합을 달성하기 위해서 결합한 단체이다. (×)
- (3) 국제연합은 세계 평화와 안전의 보장을 위해서 결합한 단체이다. (○)

3 밑줄 친 곳을 바르게 고쳐 쓰시오.

- (1) 교통의 발달로 시간과 공간의 심리적인 거리가 줄어들어 시공간의 **확장**이 이루어졌다. (**압축**)
- (2) 공간적 상호 작용의 확대는 지역 또는 국가 간에 상호 연계성과 **상호보완성**이 강화되는 결과를 낳는다. (**상호의존성**)

4 ㉠, ㉡ 중 알맞은 것을 고르시오.

- (1) 주변 지역과 같이 생활권 규모에서 이루어지는 상호 작용은 (㉠ 지역, ㉡ 국가) 규모 네트워크에 해당한다.
- (2) 국가 내에서 지역과 지역 간에 이루어지는 상호 작용은 (㉠ 세계, ㉡ 국가) 규모 네트워크에 해당한다.
- (3) 국가 간 이루어지는 세계 규모의 상호 작용은 (㉠ 세계, ㉡ 국가) 규모 네트워크에 해당한다.

01 공간적 상호 작용의 확대와 관련된 용어로 옳은 것만을 <보기>에서 있는 대로 고른 것은?

보기

- ㄱ. 지역화
- ㄴ. 열대 기후
- ㄷ. 통신의 발달
- ㄹ. 시공간의 압축
- ㅁ. 넓은 강과 높은 산지

- ① ㄱ, ㄴ ② ㄴ, ㄷ
- ③ ㄷ, ㄹ ④ ㄱ, ㄷ, ㄹ
- ⑤ ㄷ, ㄹ, ㅁ

정답 ③ | 공간적 상호 작용의 확대와 관련된 용어는 교통의 발달, 통신의 발달, 시공간의 압축 등이 있다.

중요

02 지도는 세계 항공 네트워크를 나타낸 것이다. 이를 보고 추론한 내용으로 옳지 않은 것은?



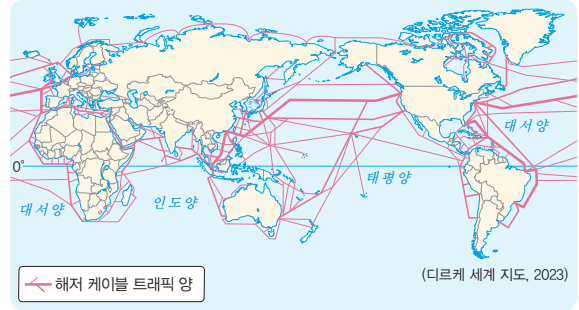
승객 수(백만 명, 2019년)
 ● 70 이상 ● 50~70 ● 50 미만
 ○ 항공 운량이 많은 지역 — 주요 항공 노선

(국제 공항 협의회, 2020)

- ① 교통의 발달로 생활공간의 범위가 확대되었다.
- ② 교통망의 발달로 지역 간 상호 작용이 더욱 활성화 되었다.
- ③ 항공 노선의 발달로 전 세계의 접근성이 향상되었다.
- ④ 지역 또는 국가 간에 상호연계성과 상호의존성이 강화되었다.
- ⑤ 항공망의 발달로 실시간 소통과 다양한 정보를 공유할 수 있게 되었다.

정답 ⑤ | 통신의 발달로 실시간 소통과 다양한 정보를 공유할 수 있게 되었다.

03 지도는 세계 해저 케이블 네트워크를 나타낸 것이다. 이를 보고 추론한 내용으로 옳지 않은 것은?



← 해저 케이블 트래픽 양

(디르케 세계 지도, 2023)

- ① 통신의 발달로 지역 간 상호 작용이 매우 활발해졌다.
- ② 통신의 발달로 지역의 공간적 제약을 극복할 수 있게 되었다.
- ③ 인터넷망의 보급으로 많은 양의 정보를 빠르게 공유할 수 있게 되었다.
- ④ 통신의 발달로 인간의 활동 범위가 국경을 넘어 세계로 확대되었다.
- ⑤ 해저 케이블이 세계 곳곳을 연결함에 따라 지역 규모 네트워크가 가장 활성화되었다.

정답 ⑤ | 해저 케이블이 세계 곳곳에 연결됨에 따라 지역 규모보다는 세계 규모 네트워크가 더욱 활성화되었다고 보는 것이 적절하다.

04 다음 대화를 보고 공간적 상호 작용과 관련된 가장 적절한 용어를 고른 것은?

어제 새벽에 영국에서 진행된 축구 경기 다들 봤어? 정말 잘하더라!

맞아! 나도 동영상 공유 플랫폼을 통해서 봤어!

사회 관계망 서비스(SNS)를 통해 우리나라 선수가 골을 넣는 장면을 봤어!



- ① 지역화 ② 통신의 발달
- ③ 교통의 발달 ④ 지역의 다양성
- ⑤ 상호의존성의 강화

정답 ② | 사회 관계망 서비스(SNS) 및 동영상 공유 플랫폼 등을 활용하여 세계 각국의 정보를 쉽게 접근할 수 있고 이를 통해 지역 간 상호 작용이 가능하게 되었다.

★★★
과난도
05

밀줄 친 ㉠과 지역 간 연결의 확대에 대한 설명으로 옳은 것은?



- ① 세계화가 진전됨에 따라 국가 간 자유 무역 협정은 줄어들 것이다.
- ② 자국의 상품과 서비스를 보호하기 위해 자유 무역 협정을 체결한다.
- ③ 유럽과의 정치·경제 통합을 달성하기 위해 자유 무역 협정을 체결한다.
- ④ 세계 평화와 안전의 보장을 달성하기 위해 자유 무역 협정을 체결한다.
- ⑤ 상호 협력의 필요성에 따라 지역이 다양한 형태로 결합한 형태 중 하나이다.

정답 ⑤ | 자유 무역 협정은 국가 간 상호 협력의 필요성에 따라 다양한 형태로 결합한 유형 중 하나로 상품 및 서비스를 자유롭게 사고팔기 위해 체결한다.

창의·융합

06 다음은 어느 학생의 일기이다. 일기의 내용 중 세계 규모 네트워크와 관련된 내용으로 옳은 것은?

○월 ○일 ○요일 날씨 맑음
 오늘은 날씨가 맑아 산책을 하였다. ㉠ 시장에 나가 보니 망고와 같은 외국 과일이 많이 보였다. ㉡ 그러다 학교 친구를 만나 운동장에 앉아 많은 이야기를 나누었다. ㉢ 시간이 한참 지난 후 집에 도착하니, 엄마가 전라남도 나주에서 사 온 배를 꺾어 주었다. ㉣ 뉴스에서 심각한 수도권 과밀화에 대한 보도를 했지만 나오는 관련이 없는 것 같아 방으로 들어갔다. ㉤ 오늘을 되돌아보며 학교 친구들과 사회 관계망 서비스(SNS)로 소통을 하며 하루를 마무리하였다.

- ① ㉠ ② ㉡ ③ ㉢ ④ ㉣ ⑤ ㉤

정답 ① | 제시된 학생의 일기는 하루 동안 다양한 규모에서의 네트워크 세계를 경험한 것을 보여 주고 있다. 세계 규모 네트워크와 관련된 경험은 망고와 같은 외국 과일을 경험한 사례이다.

중요
07

사진을 보고 추론한 내용으로 옳지 않은 것은?



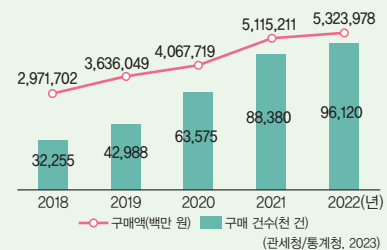
- ① 한 벌의 청바지를 만들기 위해서는 전 세계가 협력해야 해.
- ② 해운 교통을 비롯한 교통의 발달로 공간적 상호 작용이 증가한 사례라고 볼 수 있어.
- ③ 재료 조달, 생산, 판매에 이르기까지 세계 규모 네트워크가 활용된 사례라고 볼 수 있어.
- ④ 각 부품이 하나의 제품으로 모이고 있으므로 국가 간 상호연계성과 상호의존성은 약화되고 있어.
- ⑤ 위와 같은 공간적 상호 작용을 이해하기 위해서는 다른 지역과의 관계, 위치 등을 이해하는 지리 인식을 갖출 필요가 있어.

정답 ④ | 세계 규모 네트워크가 확대되는 경우 국가 간 상호연계성과 상호의존성은 더욱 강화된다.

구분	채점 기준
상	그래프의 변화를 공간적 상호 작용의 측면에서 정확히 서술한 경우
하	그래프의 변화만 서술한 경우

서술형 문제

08 그래프는 우리나라의 연도별 해외 직접 구매액과 구매 건수를 나타낸 것이다. 그래프의 변화를 공간적 상호 작용의 측면에서 서술하시오.



예시 답안 | 교통과 통신의 발달로 시공간이 압축되어 지역 간 상호 작용이 활발해짐에 따라 해외 직접 구매가 늘어나고 있다.



3 지역의 변화와 역동성

1 세계화가 지역에 미치는 영향

1. 세계화

- (1) **의미:** 정치, 사회, 경제, 문화 등 사회 전반에 걸쳐 세계가 하나의 공동체로 통합되어 가는 현상
- (2) **배경:** 교통·통신의 발달로 사람들의 상호 작용 범위가 전 세계로 확대
- (3) **결과:** 국경의 의미와 역할이 점차 줄어들고 있음.

2. 세계화가 지역에 미치는 영향

(1) 경제의 세계화 **자료 1**

의미	세계가 거대한 하나의 시장을 형성하는 현상
배경	<ul style="list-style-type: none"> • 세계화에 따른 상품, 서비스, 자본 등의 활발한 교류 • 세계 무역 기구(WTO)의 출범, 초국적 기업의 등장
영향	<ul style="list-style-type: none"> • 기업: 여러 국가에서 상품을 생산 및 판매 가능 • 소비자: 세계 각국의 다양한 상품을 구입 가능
사례	<ul style="list-style-type: none"> • S 사, A 사의 스마트폰 보급 • N 사, A 사의 신발 보급

(2) 문화의 세계화 **자료 2**

의미	세계 각 지역의 문화를 국경을 초월하여 경험할 수 있는 현상
배경	<ul style="list-style-type: none"> • 세계화로 음악, 영화, 음식 등 문화 요소의 활발한 교류 • 사회 관계망 서비스(SNS)의 발달
영향	세계 각국의 다양한 문화를 쉽게 누릴 수 있음.
사례	<ul style="list-style-type: none"> • 전 세계에 분포하는 같은 브랜드의 패스트푸드점 • 세계 각지에서 일상복이 된 청바지

(3) 세계화로 인한 문제점 **자료 3**

- ① **경제의 세계화로 인한 문제**
 - 국가 및 기업 간 경쟁이 더욱 치열해지는 문제 발생
 - 경제적 격차가 더욱 커지는 문제 발생
- ② **문화의 세계화로 인한 문제** ↳ 선진국과 개발 도상국 간, 국가 내 빈부 격차가 커지고 있다.
 - 문화 교류로 특정 문화가 변형·약화·소멸되는 문제 발생
 - **문화 획일화 현상**이 발생
 - ↳ 대체로 선진국의 문화가 대중화되어 약소 문화가 사라지고 있음.

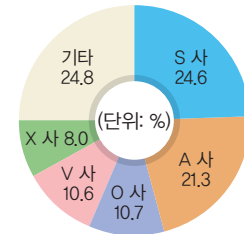
용어 풀단지

- ◆ **세계 무역 기구(WTO)** 국제 무역을 증진하고, 국가 간 무역 분쟁과 마찰 조정 등을 위해 1995년 설립된 세계 무역 질서를 유지하는 국제기구
- ◆ **문화 획일화 현상** 세계적인 문화의 등장과 지역 고유문화의 정체성 약화로 전 세계의 문화가 비슷해지는 현상

자료 풀단지

교과서 확인 : 천재

자료 1 세계 스마트폰 생산량 점유율

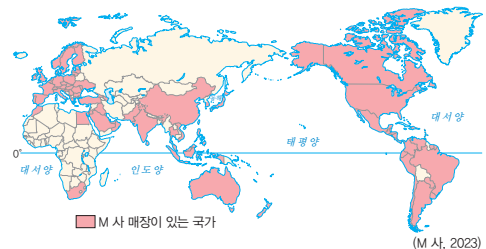


※2023년 1분기 기준 점유율임. (트렌트포스, 2023)

전 세계 스마트폰의 절반 이상이 상위 3개 기업에서 생산되고 있다. 부품을 포함하여 완제품 역시 전 세계에서 공급 및 판매되고 있으므로 경제의 세계화를 보여주는 대표적인 사례로 볼 수 있다.

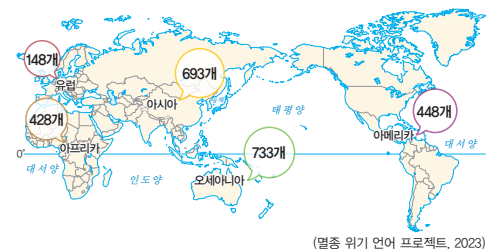
교과서 확인 : 미래엔

자료 2 국가별 패스트푸드점 분포



패스트푸드점인 M 사는 세계 곳곳에 분포하고 있어 어딜 가든 비슷한 분위기와 음식을 경험할 수 있다. 이처럼 햄버거는 국경을 초월하여 전 세계에서 경험할 수 있는 음식이므로 문화의 세계화를 보여주는 대표적인 사례로 볼 수 있다.

자료 3 대륙별 멸종 위기 언어의 수



지역의 문화와 역사를 담고 있는 언어는 계승할 사람이 없어서, 다른 언어에 동화되어서 사라지는 경우가 발생한다. 언어의 세계화가 이루어지면 서로 소통이 편해진다는 이점도 있지만, 그 언어에 담겨있는 지역의 문화와 역사가 사라진다는 부작용도 존재한다.

2 지역의 변화가 세계에 미치는 영향

1. 지역화

- (1) 의미: 한 지역이 세계적 차원에서 독자적인 가치를 지니게 되는 현상
- (2) 배경: 세계화 속에서 지역 문화의 전통과 정체성을 살리고자 함.

2. 지역화 전략

- (1) 의미: 세계화에 대응하여 지역 경쟁력을 높이는 전략
- (2) 유형

→ 우리나라에는 보성 녹차, 황성 한우와 같은 사례가 있어.

지리적 표시제	특정 지역의 지리적 요인과 관련 있는 상품에 지역명을 표시한 제도 예 프랑스의 카망베르 치즈, 콜롬비아의 콜롬비안 커피 등
지역 브랜드화	지역 상품과 서비스 지역 자체 등을 특별한 상표로 인식 예 미국 뉴욕의 I♥NY, 네덜란드 암스테르담의 I amsterdam 등
장소 마케팅	지역의 특정 장소를 매력적인 상품으로 발전 예 타이의 송크란 축제, 브라질의 리우 카니발 등

→ 우리나라에는 보령 머드 축제, 함평 나비 축제와 같은 사례가 있어.

3. 지역의 변화가 세계에 영향을 미치는 사례 **자료 5**

- (1) 브라질의 쿠리치바: 도시 교통 정책 모델
- (2) 영국의 가스탕: 세계 최초의 공정 무역 도시

용어 풀단지

- 공정 무역 생산자의 노동에 정당한 대가를 지불하며, 소비자에게 질 좋고 신뢰할 수 있는 제품을 공급하는 제도

자료 풀단지

교과서 확인 : 동아, 미래엔
자료 4 타이 송크란 축제



타이는 우기 직전인 4월이 가장 덥다. 따라서 4월 막바지에 이루어지는 송크란 축제는 서로에게 물을 뿌리며 더위를 식히고 축복을 기원한다.

교과서 확인 : 동아, 미래엔, 아침나라

자료 5 브라질의 쿠리치바



인구 급증으로 교통 체증, 환경 오염 등의 문제가 나타난 쿠리치바는 버스 중심의 교통 체계를 마련하여 교통 문제를 해결하였다. 쿠리치바의 교통 체계는 우리나라의 버스 전용 차로 제도의 모델이 되는 등 세계 여러 지역에 영향을 주었다.

STEP 1

개념 IN

1 ㉠, ㉡ 중 알맞은 것을 고르시오.

- (1) 세계화로 상호 작용의 범위가 (확대, ㉡ 축소) 되고, 상호의존성과 상호연계성이 증가한다.
- (2) 세계화로 국경의 의미와 역할은 점차 (㉠ 늘어나고, 줄어들고) 있다.
- (3) (경제의 세계화, ㉡ 문화의 세계화)는 세계가 거대한 하나의 시장을 형성하는 현상을 말한다.

2 지역화와 관련된 용어로 옳은 것만을 <보기>에서 있는 대로 골라 기호를 쓰시오. 가, 나, 다

보기

- 가. 장소 마케팅 나. 지역화 전략
- 다. 초국적 기업 라. 지리적 표시제

3 다음 설명이 맞으면 ○표, 틀리면 ×표를 하시오.

- (1) 세계화로 국가 및 기업 간 경쟁이 더욱 치열해지고 있다. (○)
- (2) 세계화로 경제적 격차는 더욱 줄어들고 있다. (×)

4 각 사례에 맞는 지역화 전략의 유형을 쓰시오.

- (1) 프랑스의 카망베르 치즈, 콜롬비아의 콜롬비안 커피 (**지리적 표시제**)
- (2) 타이의 송크란 축제, 브라질의 리우 카니발 (**장소 마케팅**)
- (3) 네덜란드의 암스테르담 I amsterdam, 미국 뉴욕의 I♥NY (**지역 브랜드화**)

01 다음에서 설명하는 용어로 옳은 것은?

- 의미: 세계가 하나의 공동체로 통합되어 가는 현상
- 배경: 교통 및 통신의 발달
- 결과: 국경의 의미와 역할은 점점 줄어들고 있음.

- ① 지역화 ② 지역성
- ③ 지방화 ④ 세계화
- ⑤ 문화 획일화 현상

정답 ④ | 세계화는 교통 및 통신의 발달에 따라 세계가 하나의 공동체로 통합되는 현상을 말한다. 그 결과 국경의 의미와 역할은 점점 줄어들고 있다.

02 세계화로 인해 발생하는 문제점으로 옳지 않은 것은?

- ① 국가 및 기업 간 경쟁이 더욱 치열해진다.
- ② 경제적 격차가 더욱 커지는 문제가 발생한다.
- ③ 세계화로 인해 지역화 전략이 더욱 중요해졌다.
- ④ 지역 고유문화의 정체성 약화 현상이 발생할 수 있다.
- ⑤ 문화 교류로 특정 문화가 변형·약화·소멸되는 문제가 발생한다.

정답 ③ | 세계화로 인해 지역화 전략이 더욱 중요해진 현상은 세계화로 인한 하나의 현상으로, 문제점이라 보기는 어렵다.

03 지도는 대륙별 멸종 위기 언어의 수를 나타낸 것이다. 이를 보고 세계화의 영향을 추론한 것으로 옳은 것은?



(멸종 위기 언어 프로젝트, 2023)

- ① 경제의 세계화
- ② 문화 상대주의
- ③ 문화 획일화 현상
- ④ 상호연계성의 강화
- ⑤ 초국적 기업의 등장

04 밑줄 친 ㉠과 관련된 사례로 옳은 것을 <보기>에서 고른 것은?

㉠ 문화의 세계화를 통해서 우리는 세계의 다양한 음악, 영화, 음식 등을 쉽게 접할 수 있게 되었습니다.



보기

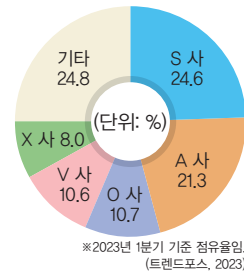
- ㄱ. 지역성을 살린 지역 축제
- ㄴ. 전통 혼례 방식을 활용한 결혼
- ㄷ. 세계 각지에서 일상복이 된 청바지
- ㄹ. 전 세계 어디서나 쉽게 접할 수 있는 패스트푸드

- ① ㄱ, ㄴ ② ㄱ, ㄷ ③ ㄴ, ㄷ
- ④ ㄴ, ㄹ ⑤ ㄷ, ㄹ

정답 ⑤ | 문화의 세계화를 통해 우리는 세계 각국의 음악, 영화, 음식과 같은 다양한 문화를 쉽게 접할 수 있다.

중요

05 그래프는 세계 스마트폰 생산량 점유율을 나타낸 것이다. 이를 보고 세계화의 영향을 추론한 내용으로 옳지 않은 것은?



※2023년 1분기 기준 점유율임 (트렌드포스, 2023)

- ① 세계화로 국가 및 기업 간 경쟁이 완화된다.
- ② 소비자는 세계 각국의 상품을 자유롭게 구입할 수 있다.
- ③ 초국적 기업의 등장으로 세계화 현상은 더욱 강화되었다.
- ④ 기업에서 만들어 낸 상품이 국경을 넘어 활발히 교류되고 있다.
- ⑤ 세계가 거대한 하나의 시장으로 형성되었음을 보여주는 사례이다.

정답 ① | 세계화로 인해 국가 및 기업 간 경쟁이 더욱 치열해진다는 문제가 있다.

★★★
과난도

06 다음과 같은 지역화 전략에 대한 설명으로 옳은 것은?



- ① 지역 특색을 살린 지역 축제를 만드는 지역화 전략이다.
- ② 특정 지역의 우수한 생산품에 지역명을 표시하는 지역화 전략이다.
- ③ 세계 각 지역의 문화가 점차 유사하도록 만드는 지역화 전략이다.
- ④ 지역 상품과 서비스 또는 지역 자체에 상표를 부여하는 지역화 전략이다.
- ⑤ 장소의 자산 및 특징을 이용하여 장소를 매력적인 상품으로 발전시키는 지역화 전략이다.

정답 ② | 콜롬비아인 커피와 다르질링차는 특정 지역의 지리적 요인과 관련 있는 상품에 지역명을 표시하는 제도인 지리적 표시제를 이용한 지역화 전략이다.

07 두 사진을 공통적으로 설명할 수 있는 제목을 고른 것은?



▲ 브라질의 쿠리치바



▲ 영국의 가스탕

- ① 지역 축제, 지역을 세계로
- ② 세계에 알리는 지역 브랜드
- ③ 전 세계의 문화가 지역 속으로
- ④ 세계에 영향을 미친 살기 좋은 도시
- ⑤ 친환경 정책을 적극적으로 펼치는 지역

정답 ④ | 제시된 사진은 세계의 교통 체계에 영향을 준 도시인 브라질의 쿠리치바, 공정 무역을 최초로 시작한 도시인 영국의 가스탕이다. 따라서 세계에 영향을 준 지역 도시와 관련된 제목을 골라야 한다.

08 밑줄 친 ㉠에 대한 사례로 옳은 것은?

㉠ 지역 브랜드화는 지역 상품과 서비스 또는 지역 자체에 부여한 상품을 통해 지역성을 강화하는 지역화 전략이다. 이를 통해 한 지역이 세계적인 차원에서 독자적인 가치를 지니는 지역화 현상이 강화된다.

- ① 타이의 송크란 축제
- ② 미국 뉴욕의 I♥NY
- ③ 브라질의 리우 카니발
- ④ 에스파냐의 토마토 축제
- ⑤ 콜롬비아의 콜롬비아인 커피

정답 ② | 지역 브랜드화와 관련된 사례로는 미국 뉴욕의 I♥NY, 네덜란드 암스테르담의 I amsterdam 등이 있다.

구분	채점 기준
상	문화적 세계화의 의미와 다른 사례를 모두 정확히 서술한 경우
중	문화적 세계화의 의미와 다른 사례 중 한 가지만 정확히 서술한 경우
하	문화적 세계화의 의미와 다른 사례를 서술하였으나 미흡한 경우

서술형 문제

09 지도는 문화의 세계화의 사례인 국가별 패스트푸드점 분포를 나타낸 것이다. 이를 보고 물음에 답하시오.



(1) 문화의 세계화에 대해 서술하시오.

예시 답안 | 문화의 세계화는 음식, 영화, 음악 등 문화 요소가 활발하게 교류되어 세계 각 지역의 문화를 국경을 초월하여 경험할 수 있는 현상이다.

(2) 위 사례 이외에 문화적 세계화의 사례를 서술하시오.

예시 답안 | 음식의 세계화 이외의 사례로는 세계 각지에서 일상복이 된 청바지가 있다.

01 ㉠~㉣에 들어갈 말로 옳은 것은?

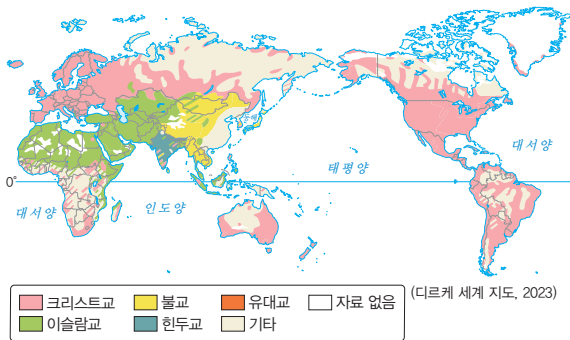
위치는 지역이 일정한 장소에 차지하고 있는 자리이다. (㉠)는 대륙, 해양, 산맥으로 설명하는 위치이며, (㉡)는 위도, 경도 등으로 설명하고 있는 위치이다. (㉢)는 주변 지역과의 관계에 따라 결정되며 상황이나 시기에 따라 달라질 수 있는 것이 특징이다.

- | | | |
|----------|--------|--------|
| ㉠ | ㉡ | ㉢ |
| ① 수리적 위치 | 지리적 위치 | 상대적 위치 |
| ② 수리적 위치 | 상대적 위치 | 지리적 위치 |
| ③ 지리적 위치 | 상대적 위치 | 지리적 위치 |
| ④ 지리적 위치 | 수리적 위치 | 상대적 위치 |
| ⑤ 상대적 위치 | 수리적 위치 | 지리적 위치 |

정답 ④ | 지리적 위치는 대륙, 해양, 산맥으로 설명하는 위치이며, 수리적 위치는 위도, 경도 등으로 설명하는 위치이다. 상대적 위치는 주변 지역과의 관계에 따라 결정되며, 상황이나 시기에 따라 달라질 수 있다.

정답 ③ | 지도에 따르면 크리스티교는 모든 대륙에 분포하며, 불교는 주로 아시아 지역에 분포한다.

02 지도는 세계의 종교 분포를 나타낸 것이다. 이에 대한 설명으로 옳은 것을 <보기>에서 고른 것은?



보기

- ㄱ. 위도에 의해서 형성된 지역성이다.
- ㄴ. 크리스티교는 모든 대륙에 분포하고 있다.
- ㄷ. 불교는 주로 아시아 지역에 분포하고 있다.
- ㄹ. 힌두교는 서남아시아와 아프리카 대륙에 걸쳐 분포하고 있다.

- ① ㄱ, ㄴ ② ㄱ, ㄷ ③ ㄴ, ㄷ
 ④ ㄴ, ㄹ ⑤ ㄷ, ㄹ

중요


03 위치와 지역성의 관계에 대한 설명으로 옳지 않은 것은?

- ① 위치를 파악함으로써 지역성을 이해할 수 있다.
- ② 지형에 따라서 지역성이 다르게 나타날 수 있다.
- ③ 위치에 따라서 지역의 자연환경이 다르게 나타난다.
- ④ 인구, 산업 등의 인문환경은 위치와 관계없이 나타난다.
- ⑤ 건조 기후 지역은 물과 식량을 찾아 이동하며 가축을 기르는 유목 생활이 나타난다.

정답 ④ | 위치에 의해 형성된 자연환경에 따라 인문환경이 서로 다르게 나타난다.

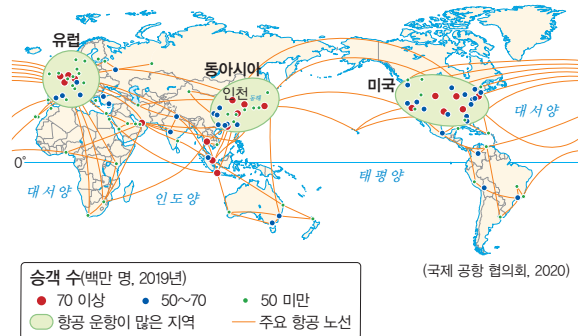
04 다음에서 설명하는 지역성이 나타나는 경관으로 옳은 것은?

- 빙하 지형이 나타난다.
- 연중 기온이 매우 낮다.
- 주로 극지방 주변 지역에 위치한다.



정답 ② | 연중 기온이 낮고, 빙하 지형이 나타나는 한대 기후 지역의 지역성을 설명한 것이다.

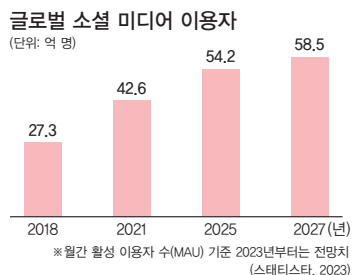
05 지도와 관련된 공간적 상호 작용의 발달 배경으로 옳은 것은?



- ① 교통의 발달
- ② 통신의 발달
- ③ 경제의 세계화
- ④ 문화의 세계화
- ⑤ 정치 기술의 발달

정답 ① | 제시된 지도는 세계 항공 네트워크를 나타낸 것으로 교통의 발달로 전 세계의 접근성이 향상되는 등 지역 간 상호 작용이 활발해졌다.

06 그래프와 같은 경향이 지속될 경우 나타나는 변화에 대한 설명으로 옳지 않은 것은?



- ① 많은 양의 정보를 빠르게 공유할 수 있을 것이다.
- ② 지역·국가 간 상호 작용이 더욱 활발해질 것이다.
- ③ 지역의 공간적 제약을 더욱 쉽게 극복할 수 있을 것이다.
- ④ 지역·국가 간 상호연계성과 상호의존성은 약화될 것이다.
- ⑤ 사회 관계망 서비스(SNS), 동영상 공유 플랫폼 등 다양한 통신 기술의 이용자 수가 더욱 늘어날 것이다.

정답 ④ | 지역·국가 간 상호연계성과 상호의존성은 더욱 강화될 것이다.

중요

07 공간적 상호 작용이 발달하여 나타나는 현상으로 옳지 않은 것은?

- ① 각 지역이 형성하고 있는 지역성을 공유한다.
- ② 인간의 활동 범위가 국경을 넘어 세계로 확대된다.
- ③ 교통 및 통신의 발달로 시공간의 확장이 일어난다.
- ④ 지역 간 연결의 대표적인 유형은 국제연합(UN)이 있다.
- ⑤ 각 지역 간 부족한 부분을 채우기 위해 연결을 확대한다.

정답 ③ | 교통 및 통신의 발달로 시공간의 압축이 일어날 것이다.

08 (가)~(다)와 네트워크 규모를 연결한 것으로 옳은 것은?

- (가) 지역 특산물 구매
- (나) 주변 지역으로의 통학
- (다) 초국적 기업의 상품 제작·운반·판매

	(가)	(나)	(다)
① 지역 규모	국가 규모	세계 규모	국가 규모
② 지역 규모	세계 규모	국가 규모	지역 규모
③ 국가 규모	지역 규모	세계 규모	지역 규모
④ 국가 규모	세계 규모	지역 규모	국가 규모
⑤ 세계 규모	지역 규모	국가 규모	세계 규모

정답 ③ | 다양한 규모의 네트워크의 사례로 주변 지역으로의 통학 및 통근은 지역 규모, 지역 특산물 구매는 국가 규모, 초국적 기업의 상품 제작·운반·판매는 세계 규모이다.

정답 ② | 자신의 행동이 세계에 영향을 줄 수 있으므로 더 책임 있는 태도를 지녀야 한다는 세계시민으로서의 태도를 유지할 필요가 있다.

09 다음에서 설명하는 네트워크 세계에서의 자세로 옳은 것은?

나비 효과란, 작은 나비의 날갯짓이 다른 지역의 폭풍을 일으킬 수 있다는 것으로 공간적 상호 작용이 발달하면서 개인의 작은 행동이 세계에 거대한 영향을 줄 수 있음을 설명할 수 있다.

- ① 타 문화가 우월하다는 자세를 가져야 한다.
- ② 세계시민으로서의 태도를 유지할 필요가 있다.
- ③ 자신의 문화가 우월하다는 자세를 가져야 한다.
- ④ 문화의 우열이 있다는 자세를 유지할 필요가 있다.
- ⑤ 자신의 행동과 세계는 관련이 없다는 자세를 가져야 한다.

10 세계화의 의미로 옳은 것은?

- ① 특정 지역을 중심으로 발전하는 현상
- ② 모든 국가가 동일한 정치 체제를 갖추는 현상
- ③ 각국의 문화가 완전히 독립적으로 발전하는 현상
- ④ 기술의 발전이 각국의 경제에만 영향을 미치는 현상
- ⑤ 세계가 경제적·사회적·문화적으로 하나로 통합되는 현상

정답 ⑤ | 세계화는 세계가 경제적·사회적·문화적 측면에서 하나로 통합되는 현상을 말한다.

중요

11 경제의 세계화에 따른 영향으로 옳은 것은?

- ① 특정 국가의 시장에만 집중할 수 있다.
- ② 각국의 규제를 무시하고 운영할 수 있다.
- ③ 지역 사회의 전통문화를 보호할 수 있다.
- ④ 다양한 시장에서 제품을 생산하고 판매할 수 있다.
- ⑤ 전 세계적으로 통일된 생산 방식만을 적용할 수 있다.

정답 ④ | 경제의 세계화로 인해 다양한 시장에서 제품을 생산하고 판매할 수 있다.

정답 ② | 문화의 세계화는 세계 각 지역의 문화를 국경을 초월하여 경험할 수 있는 현상으로, 대표적인 사례로는 패스트푸드 브랜드의 전 세계 분포 현상이 있다. 또한 문화가 교류되면서 서로 영향을 주며 발전할 수 있다는 장점이 있다.

12 문화의 세계화로 인해 나타날 수 있는 영향으로 옳은 것을 <보기>에서 고른 것은?

보기

- ㄱ. 다양한 언어가 서로 영향을 주며 발전할 수 있다.
- ㄴ. 문화가 서로 간섭없이 독립적으로 발전할 수 있다.
- ㄷ. 문화 교류가 이루어지지 않아 문화적 갈등이 발생할 수 있다.
- ㄹ. 특정 패스트푸드 브랜드가 세계 여러 나라에 분포하며 소비될 수 있다.

- ① ㄱ, ㄴ ② ㄱ, ㄹ ③ ㄴ, ㄷ
- ④ ㄴ, ㄹ ⑤ ㄷ, ㄹ

13 다음에서 설명하는 세계화로 인한 문제점으로 옳은 것은?

글로벌 스마트폰 시장에서 주요 기업 간의 경쟁이 치열해지고 있다. 이들 기업은 시장 점유율 확대를 위해 종종 저가로 모델을 출시한다. 이로 인해 중소기업이나 신생 기업들이 시장에 진입하기 어려워지는 문제가 발생한다.

- ① 문화 획일화 현상이 발생한다.
- ② 국가 간 경제적 격차가 더욱 작아진다.
- ③ 국가 및 기업 간 경쟁이 더욱 치열해진다.
- ④ 세계 각국의 다양한 상품을 구입할 수 있다.
- ⑤ 문화 교류로 특정 문화가 변형·약화·소멸된다.

정답 ③ | 세계화로 인한 문제점 중 국가 및 기업 간 경쟁이 더욱 치열해지고 있다는 설명이다.

14 사진과 같은 지역화 전략을 사용하였을 때, 얻을 수 있는 장점으로 옳은 것은?



▲ 태이의 송크란 축제



▲ 브라질의 리우 카니발

- ① 지역이 지닌 특수한 가치들이 사라질 수 있다.
- ② 지역 내 경쟁이 치열해져 기업들이 가격을 낮출 수 있다.
- ③ 글로벌 브랜드로 인해 세계 어디서나 동일한 문화를 경험할 수 있다.
- ④ 세계 여러 지역의 관광객을 유치하여 지역 경제를 활성화할 수 있다.
- ⑤ 특정 지역의 전통적인 산업이 사라지고 글로벌 기업이 자리 잡을 수 있다.

정답 ④ | 지역화 전략으로 인해 지역은 고유한 지역적 가치를 향상시킬 수 있을 뿐만 아니라, 세계 여러 지역의 관광객을 유치하여 지역 경제를 활성화할 수 있다.

중요

15 다음에서 설명하는 지역화 전략으로 옳은 것은?

콜롬비아는 고산 지대와 열대 기후가 조화를 이루는 독특한 지리적 환경을 가지고 있다. 고도에 따라 커피의 맛과 향이 다르게 나타나며, 전통적인 재배 방식으로 재배하여 소비자에게 높은 품질의 커피를 제공할 수 있다.

- ① 장소 마케팅 ② 지역 브랜드화
- ③ 지리적 표시제 ④ 지역 축제 설계
- ⑤ 국제 대회 기획

정답 ③ | 콜롬비아의 기후적 우수성, 생산 방식의 우수성을 인정받은 콜롬비안 커피에 대한 설명으로, 해당 지역의 지리적 우수성을 인정하여 소비자에게 신뢰를 줄 수 있는 지역화 전략은 지리적 표시제이다.

16 다음에서 설명하는 지역으로 옳은 것은?

2000년, 이 지역은 마을 회의를 통해 세계 최초 공정 무역 마을이 될 것을 약속하고, 공정 무역 제품 사용을 약속하는 선언을 하였다.

- ① 영국의 가스탕
- ② 브라질의 쿠리치바
- ③ 이탈리아의 볼로냐
- ④ 인도네시아의 발리
- ⑤ 이탈리아의 오르비에토

정답 ① | 세계 최초의 공정 무역 마을이 된 영국의 가스탕에 대한 설명이다. 이로 인해 전 세계로 공정 무역의 가치가 확산되었다.

관단

17 지역화로 인해 발생하는 문제점으로 옳은 것은?

- ① 모든 지역의 경제 성장을 촉진한다.
- ② 문화 다양성을 보장하는 데 기여한다.
- ③ 글로벌 시장에서의 경쟁력을 높여 준다.
- ④ 지역 경제에만 긍정적인 영향을 미친다.
- ⑤ 지역 간의 경쟁을 과도하게 증가시켜 갈등을 유발할 수 있다.

정답 ⑤ | 지역화는 지역 간의 경쟁을 과도하게 증가시켜 지역 간의 갈등이 발생할 수 있다는 문제점이 존재한다.

서술형 문제

18 사진을 보고 물음에 답하십시오.

(가)



▲ 사막

(나)



▲ 전통 농업

(1) (가), (나) 경관이 나타나는 국가를 쓰시오.

(가) : 사우디아라비아, 이집트, 아랍 에미리트, 미국, 오스트레일리아 등

(나) : 대한민국, 중국, 인도, 일본, 베트남 등

(2) (가), (나) 경관이 나타나는 지역의 지역성을 서술하십시오.

예시 답안 | (가) 지역은 건조 기후가 나타나 길고 험령한 의복을 주로 입고, (나) 지역은 쌀을 이용한 음식 문화가 주로 나타난다.

구분	채점 기준
상	(가), (나) 지역의 지역성을 모두 정확히 서술한 경우
중	(가), (나) 지역의 지역성 중 한 가지만 정확히 서술한 경우
하	(가), (나) 지역의 지역성 중 한 가지를 서술하였으나 미흡한 경우

구분	채점 기준
상	햄버거의 세계화, 지역화의 사례를 모두 정확히 서술한 경우
중	햄버거의 세계화, 지역화의 사례 중 한 가지만 정확히 서술한 경우
하	햄버거의 세계화, 지역화 사례를 서술하였으나 미흡한 경우

19 사진을 보고 물음에 답하십시오.



▲ 소시지를 넣은 독일 햄버거



▲ 케밥 형태의 튀르키예 햄버거

(1) 위 사진으로 알 수 있는 세계화의 사례를 서술하십시오.


예시 답안 | 햄버거는 전 세계 사람들이 즐겨 먹는 음식 중 하나로, 세계 어느 지역에서도 햄버거를 쉽게 접할 수 있다.

(2) 위 사진으로 알 수 있는 지역화의 사례를 서술하십시오.

예시 답안 | 같은 햄버거 문화라고 할지라도 지역적 특색이 반영된 햄버거 문화가 나타나고 있다.




2





아시아


- 01 아시아의 위치와 자연환경
- 02 아시아의 종교와 문화 다양성
- 03 아시아의 인구 특징과 지역 변화
- 04 아시아의 산업 특징과 변화


배울 내용 확인하기

 아시아에서 가장 높은 산은 무엇일까요?

 인도에서는 어떤 종교 경관이 주로 나타날까요?

 세계에서 가장 인구가 많은 대륙은 어디일까요?

 동남아시아의 제조업은 어떻게 성장하였을까요?




아시아가 세계에서 인구가 가장 많은 대륙이에요.

저임금 노동력과 풍부한 자원을 통해 성장했어요.

히말라야산맥에 있는 에베레스트산이에요.

여러 산을 섬기는 힌두교 경관이 주로 나타나요.



아시아의 위치와 자연환경

1 아시아의 국가와 도시

1. 아시아의 위치

- (1) 북반구의 전 위도, 남반구의 저위도 지역 일부에 걸쳐 있음.
- (2) 유라시아 대륙의 동쪽에 위치
- (3) 지리적 범위
 - ① 서쪽으로 유럽, 서남쪽으로 아프리카, 동쪽으로 태평양, 남쪽으로 인도양과 접하고 있음.
 - ② 유럽과는 우랄산맥을 기준으로 구분함.
 - ③ 아프리카와는 홍해를 사이에 두고 이웃함.

2. 아시아의 국가와 주요 도시 자료 1

동아시아	<ul style="list-style-type: none"> • 유교, 불교, 젓가락 문화가 공통적으로 나타남. • 우리나라(서울), 중국(베이징, 상하이), 일본(도쿄) 등
동남아시아	<ul style="list-style-type: none"> • 주로 열대 기후가 나타나며, 종교와 민족이 다양함. • 타이(방콕), 필리핀(마닐라), 인도네시아(자카르타), 베트남(하노이), 싱가포르(싱가포르) 등
남부 아시아	<ul style="list-style-type: none"> • 히말라야산맥 남쪽의 인도반도를 중심으로 한 지역 • 인도(뉴델리, 뭄바이), 네팔(카트만두), 방글라데시(다카), 파키스탄(이슬라마바드) 등
서남아시아	<ul style="list-style-type: none"> • 유럽, 아시아, 아프리카가 만나는 길목에 위치 • 이라크(바그다드), 사우디아라비아(리야드, 메카), 아랍 에미리트(아부다비, 두바이) 등
중앙아시아	<ul style="list-style-type: none"> • 유라시아 대륙의 내륙에 위치한 지역 • 카자흐스탄(아스타나), 우즈베키스탄(타슈켄트), 투르크메니스탄(아슈가바트) 등

페르시아어로 '땅'을 뜻하는 접미사로, 이 국가들은 대부분 이슬람교를 믿고 있음.

2 아시아의 자연환경

1. 아시아의 지형 자료 2 자료 3

알프스-히말라야 조산대에 해당되며 지각 운동이 활발하다.

산지 고원	<ul style="list-style-type: none"> • 히말라야산맥: 아시아 대륙의 중앙에 위치, 높고 험준함. • 티베트고원, 파미르고원: 히말라야산맥 북쪽에 위치 • 주요 하천의 발원지
사막	<ul style="list-style-type: none"> • 고비 사막: 유라시아 대륙 내부에 위치 • 룩알할리 사막: 아라비아반도에 위치

용어 풀단지

- ◆ 유라시아 유럽과 아시아 대륙을 합쳐 일컫는 말이며, 일반적으로 우랄산맥을 기준으로 유럽과 아시아 대륙으로 구분함.
- ◆ 반도 삼면이 바다로 둘러싸이고, 한 면은 육지로 이어진 땅
- ◆ 발원지 흐르는 물줄기가 처음 시작한 곳

자료 풀단지

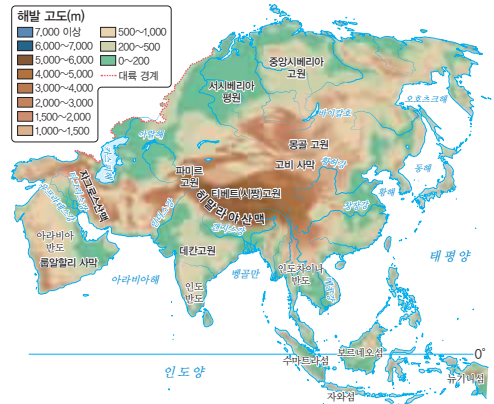
교과서 확인: 동아, 미래엔, 비상, 아침나라, 천재
자료 1 아시아의 지역 구분



아시아의 지역 구분은 대체로 방위와 기후, 문화적 특징을 고려하여 동아시아, 동남아시아, 남부 아시아, 서남아시아, 중앙아시아로 구분한다.

교과서 확인: 동아, 미래엔, 비상, 아침나라, 천재

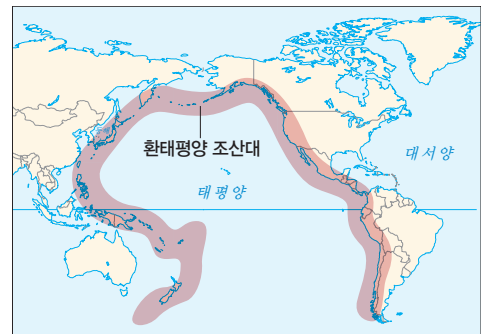
자료 2 아시아의 지형



아시아 대륙의 중앙은 세계의 지붕이라고 불리는 히말라야산맥과 고원으로 이루어져 있으며, 산맥과 고원에서 발원하는 대하천 주변의 드넓은 평야에는 세계적인 곡창 지대가 펼쳐져 있다. 강수량이 적은 유라시아 대륙 내부와 아라비아반도에는 사막이 분포한다.

교과서 확인: 미래엔, 아침나라

자료 3 환태평양 조산대



수많은 지각판의 움직임에 따라 태평양 주변의 지진과 화산 활동이 자주 일어나는 지역을 띠 모양으로 묶을 수 있는데, 이를 환태평양 조산대라고 한다.

하천 주변의 비옥한 평야는 농경을 가능하게 하였고, 이를 통해 인구 부양력이 높아져 많은 사람이 모여살 수 있었기 때문에 고대 문명이 하천 주변에서 발달하였다.

하천	<ul style="list-style-type: none"> • 티그리스-유프라테스강, 인더스강, 황허강 등 주요 하천 유역의 평야 지대는 고대 문명의 중심지를 이룸. • 갠지스강, 메콩강, 창장강 등의 주변은 세계적인 곡창 지대를 이룸.
화산 지형	일본, 필리핀, 인도네시아 등 환태평양 조산대에 다양한 화산 지형 분포 다양한 화산 지형 분포 식량이 풍부한 지역이라는 뜻이야.

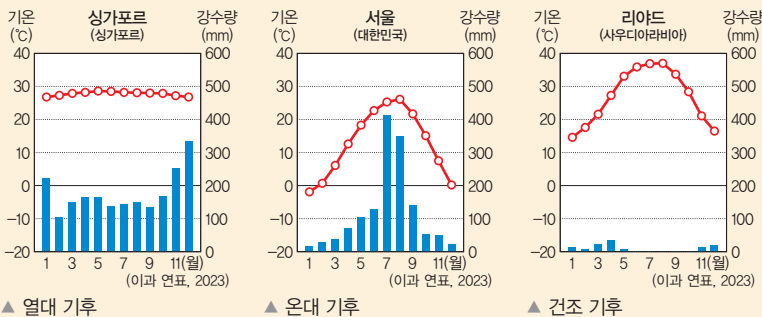
2. 아시아의 기후 **자료 4**

(1) 아시아의 기후 유형

위도 범위가 넓어 모든 기후대가 존재해.

열대 기후	<ul style="list-style-type: none"> • 분포: 적도와 가까운 동남아시아, 남부 아시아 일부 • 기후 특징: 연중 기온이 높고 강수량이 많음. • 연중 강수량이 풍부하여 열대림이 분포함. • 주민 생활 <ul style="list-style-type: none"> - 고상 가옥: 바닥의 습기와 해충으로부터 보호 자료 5 - 플랜테이션: 차, 커피 등 열대작물을 상업적으로 재배
온대 기후	<ul style="list-style-type: none"> • 분포: 중위도에 위치한 동아시아, 남부 아시아 일부 • 기후 특징: 여름에 덥고 비가 많이 내리며, 겨울에는 춥고 건조함. • 주민 생활: 계절풍의 영향으로 여름철 강수량이 풍부한 지역에서 벼농사 발달
냉대 기후	<ul style="list-style-type: none"> • 분포: 고위도 지역 • 기후 특징: 겨울이 춥고 깊. • 침엽수림 지대인 타이가가 넓게 분포
한대 기후	<ul style="list-style-type: none"> • 분포: 북극과 가까운 지역 • 기후 특징: 기온이 낮아 식생이 자라기 어려움. • 일 년 내내 눈과 얼음으로 덮여 있는 영구 동토층 분포 • 주민 생활: 순록을 키우며 이동 생활을 하는 유목이 이루어짐.
건조 기후	<ul style="list-style-type: none"> • 분포: 서남아시아, 중앙아시아 • 기후 특징: 강수량이 매우 적으며, 연 강수량보다 연 증발량이 많음. • 사막이나 초원이 넓게 분포 • 주민 생활 <ul style="list-style-type: none"> - 대부분 온몸을 감싸는 긴 옷을 입음. - 식생이 빈약하여 유목이 발달 자료 6

(2) 아시아의 기후 그래프

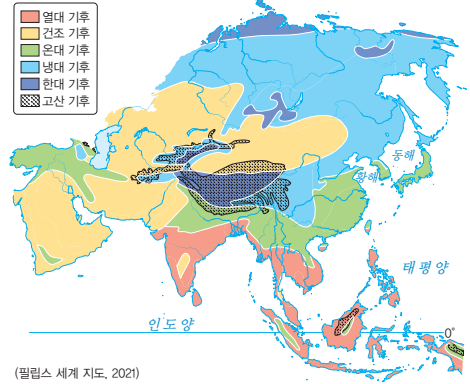


용어 풀단지

- ◆ **열대림** 열대 기후가 나타나는 곳에 분포하는 숲으로, 키가 크고 작은 다양한 식물이 분포함.
- ◆ **플랜테이션** 선진국의 기술 및 자본과 원주민의 저임금 노동력이 결합하여 열대작물을 상업적으로 재배하는 농업 형태
- ◆ **계절풍** 계절에 따라 주기적으로 방향이 바뀌는 바람으로, 일반적으로 계절풍의 영향을 받는 지역은 여름철 기온이 높고 강수량이 많음.

자료 풀단지

교과서 확인 : 동아, 미래엔, 비상, 아침나라, 천재
자료 4 아시아의 기후



아시아는 대체로 위도에 따라 기후가 나누어진다. 적도와 가까운 동남아시아, 남부 아시아 일부 지역의 열대 기후, 중위도에 위치한 동아시아, 남부 아시아 일부 지역의 온대 기후, 고위도 지역의 냉대 기후, 북극과 가까운 지역의 한대 기후가 차례로 나타난다. 연 강수량이 적은 서남아시아, 중앙아시아는 건조 기후가 나타난다.

교과서 확인 : 아침나라, 천재

자료 5 고상 가옥



열대 기후의 전통적인 주거 양식으로, 바닥에서 올라오는 습기와 해충을 피하기 위해 기둥을 높이 세우고 그 위에 집을 짓는다. 또한 빗물이 쉽게 흘러내릴 수 있도록 지붕 경사를 급하게 한다.

교과서 확인 : 동아, 미래엔, 천재

자료 6 건조 기후의 유목



연중 강수량이 적어 농사를 짓기 어려워 양, 염소, 말 등 가축의 식량과 물을 찾기 위해 이동하며 거주하는 유목 생활이 이루어진다. 이에 따라 주거 양식도 이동하는 데 편리한 이동식 가옥인 게르(몽골), 유르트(중앙아시아)가 나타난다.

1 빈칸에 들어갈 알맞은 말을 쓰시오.

- (1) 아시아는 서쪽으로 유럽, 서남쪽으로 (**아프리카**)과/와 접하고 있다.
- (2) 아시아와 유럽은 (**우랄산맥**)을/를 기준으로 구분할 수 있다.
- (3) 아시아의 대륙의 중앙에는 세계의 지붕이라고 불리는 (**히말라야**)산맥이 위치하고 있다.

2 ㉠, ㉡ 중 알맞은 것을 고르시오.

- (1) 아시아에는 (㉠ 률알할리 사막, ㉡ 사하라 사막)과 고비 사막이 위치하고 있다.
- (2) (㉠ 서남아시아, ㉡ 동남아시아) 지역은 주로 열대 기후가 나타나며, 종교와 민족이 다양하다는 특징을 가지고 있다.

3 다음 설명이 맞으면 ○표, 틀리면 ×표를 하시오.

- (1) 중앙아시아는 땅이라는 의미를 가진 '스탄' 단어가 들어있는 카자흐스탄, 우즈베키스탄, 투르크메니스탄 등의 국가가 위치한다. ()
- (2) 아시아의 온대 기후가 나타나는 지역은 여름은 덥고 겨울은 춥지만, 연중 강수량은 일정하게 유지된다는 특징을 가지고 있다. ()

4 밑줄 친 곳을 바르게 고쳐 쓰시오.

- (1) 남부 아시아 **동아시아**는 히말라야산맥 남쪽의 인도반도를 중심으로 하는 지역이다.
- (2) 건조 **열대** 기후에서는 햇빛이 강하게 내리쬐기 때문에 대부분 온몸을 감싸는 긴 옷을 입는다.

5 다음 설명에 해당하는 기후를 <보기>에서 골라 기호를 쓰시오.

보기

- ㄱ. 열대 기후 ㄴ. 온대 기후
- ㄷ. 냉대 기후 ㄹ. 한대 기후

- (1) 연중 기온이 높고 강수량이 많은 기후이며 아시아에는 말레이시아, 싱가포르, 인도네시아 등에서 나타난다. ()
- (2) 북극과 가까운 지역에 분포되어 있으며, 영구 동토층이 분포하며 순록을 키우는 유목이 이루어진다. ()

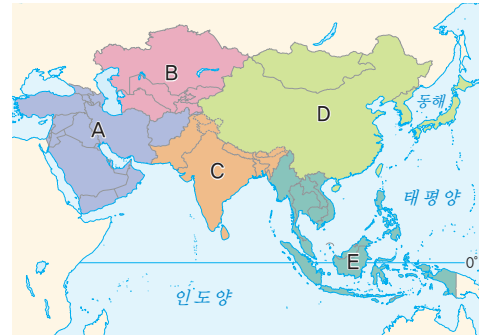
01 아시아의 위치와 특징에 대한 설명으로 옳은 것은?

- ① 아시아는 북반구에만 위치하고 있다.
- ② 아시아는 서쪽으로 태평양과 접하고 있다.
- ③ 아시아는 남쪽으로 인도양과 접하고 있다.
- ④ 아시아와 유럽은 홍해를 사이에 두고 이웃한다.
- ⑤ 아시아와 아프리카는 우랄산맥으로 구분할 수 있다.

정답 ③ | 아시아는 서쪽으로 유럽, 서남쪽으로 아프리카, 남쪽으로 인도양, 동쪽으로 태평양과 접하고 있다.

중요

02 지도의 A~E 지역에 대한 설명으로 옳지 않은 것은?



- ① A 지역은 기온이 낮아 식생이 자라기 어려우며, 영구 동토층이 분포하고 있다.
- ② B 지역은 주로 건조 기후가 나타나며, 유라시아 대륙의 내륙에 위치한다.
- ③ C 지역은 히말라야산맥 남쪽의 인도반도를 중심으로 한다.
- ④ D 지역은 유교, 불교, 젓가락 문화가 공통적으로 나타난다.
- ⑤ E 지역은 주로 열대 기후가 나타나며, 종교와 민족이 다양하다.

정답 ① | A는 서남아시아, B는 중앙아시아, C는 남부 아시아, D는 동아시아, E는 동남아시아이다. 기온이 낮아 식생이 자라기 어려우며, 영구 동토층이 분포하고 있는 곳은 극지방 주변 한대 기후 지역이다.

03 아시아의 지역 구분과 해당 국가를 연결한 것으로 옳지 않은 것은?

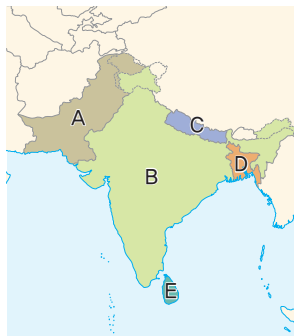
- ① 동아시아 - 우리나라, 중국, 일본
- ② 동남아시아 - 필리핀, 파키스탄, 베트남
- ③ 남부 아시아 - 인도, 네팔, 방글라데시
- ④ 서남아시아 - 이라크, 사우디아라비아, 아랍 에미리트
- ⑤ 중앙아시아 - 카자흐스탄, 우즈베키스탄, 투르크메니스탄

정답 ② | 파키스탄은 남부 아시아로 분류된다.

04 사진과 같은 경관을 볼 수 있는 국가를 지도의 A~E에서 고른 것은?



▲ 타지마할



- ① A
- ② B
- ③ C
- ④ D
- ⑤ E

정답 ② | 타지마할은 인도에서 볼 수 있는 대표적인 건물이다. A는 파키스탄, B는 인도, C는 네팔, D는 방글라데시, E는 스리랑카이다.

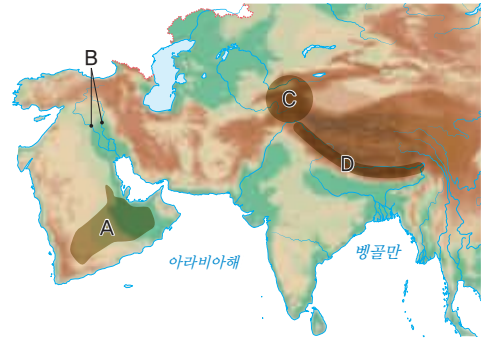
05 밑줄 친 ㉠ 국가에 대한 설명으로 옳은 것은?



- ① 동남아시아에 위치하고 있다.
- ② 주로 열대 기후가 나타나고 있다.
- ③ 종교와 민족이 다양하게 존재한다.
- ④ 습기와 해충을 막기 위한 고상 가옥이 나타난다.
- ⑤ 강렬한 태양을 피하기 위해 대부분 온몸을 감싸는 긴 옷을 입는다.

정답 ⑤ | 사우디아라비아는 서남아시아에 위치하고 있으며, 건조 기후가 나타나고 있다. 건조 기후 지역에서는 강렬한 태양을 피하기 위해 대부분 온몸을 감싸는 긴 옷을 입는다.

06 지도의 A~D 지형에 대한 설명으로 옳은 것을 <보기>에서 고른 것은?



보기

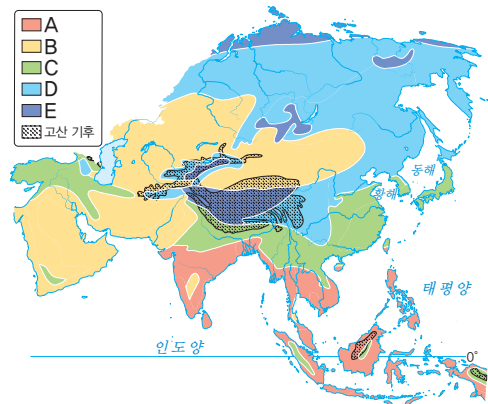
- ㄱ. A는 툽알랄리 사막, D는 파미르고원이다.
- ㄴ. B 주변에는 곡창 지대가 존재하여 고대 문명이 탄생하였다.
- ㄷ. A는 서남아시아, C는 중앙아시아에 위치하고 있다.
- ㄹ. C에는 세계에서 가장 높은 봉우리인 에베레스트 산이 있다.

- ① ㄱ, ㄴ ② ㄱ, ㄷ ③ ㄴ, ㄷ
- ④ ㄴ, ㄹ ⑤ ㄷ, ㄹ

정답 ③ | A는 툽알랄리 사막, B는 티그리스-유프라테스강, C는 파미르고원, D는 히말라야산맥이다. 티그리스-유프라테스강 주변에는 곡창 지대가 존재하여 고대 문명이 탄생하였으며, 툽알랄리 사막은 서남아시아, 파미르고원은 중앙아시아에 위치하고 있다.

중요

07 지도의 A~E 기후에 대한 설명으로 옳지 않은 것은?



- ① A - 주로 적도와 가까운 동남아시아, 남부 아시아 일부 지역에서 나타난다.
- ② B - 연 강수량보다 연 증발량이 많다.
- ③ C - 여름에 덥고 비가 많이 내리며, 겨울에는 춥고 건조하다.
- ④ D - 식생이 풍부하여 열대림이 분포하고 있다.
- ⑤ E - 북극과 가까운 지역에 분포하고 있으며, 영구 동토층이 발견된다.

정답 ④ | A는 열대 기후, B는 건조 기후, C는 온대 기후, D는 냉대 기후, E는 한대 기후이다. 열대림이 분포하는 지역은 2. 아시아 31 열대 기후 지역이다.

08 사진 속 A의 명칭과 주로 나타나는 기후로 옳은 것은?



- | 명칭 | 주로 나타나는 기후 |
|---------|------------|
| ① 계르 | 열대 기후 |
| ② 계르 | 건조 기후 |
| ③ 유르트 | 한대 기후 |
| ④ 고상 가옥 | 건조 기후 |
| ⑤ 고상 가옥 | 온대 기후 |

정답 ② | 제시된 사진은 건조 기후 지역에서 나타나는 이동식 가옥으로, 몽골에서는 계르, 중앙아시아에서는 유르트라고 불린다.

중요
09

정답 ③ | 제시된 사진은 열대 기후 지역의 고상 가옥이다. 여름과 겨울이 존재하여 계절에 따른 연교차가 뚜렷하게 나타나는 지역은 온대 기후 지역이다. 사진은 아시아의 어느 지역의 생활 모습이다. 이 지역의 기후에 대한 설명으로 옳지 않은 것은?



- 연중 강수량이 풍부하여 열대림이 분포하고 있다.
- 지면으로부터의 습기와 해충을 피하기 위해 고상 가옥에서 거주한다.
- 여름과 겨울이 존재하여 계절에 따른 연교차가 뚜렷하게 나타난다.
- 차와 커피 등 열대작물을 상업적으로 재배하는 플랜테이션이 이루어진다.
- 해당 기후가 나타나는 아시아 국가로는 말레이시아, 인도네시아, 싱가포르 등이 있다.


10 (가), (나)와 관련된 지역으로 옳은 것은?

(가)	에베레스트산을 비롯한 해발 고도 8,000m 이상의 산들이 모여 있어 '세계의 지붕'이라고 불리는 지역이다.
(나)	태평양 주변 지역의 지진과 화산 활동이 활발한 지역을 이은 곳으로 '불의 고리'라고도 불린다.

- | (가) | (나) |
|----------|----------|
| ① 알타이산맥 | 일본 열도 |
| ② 알타이산맥 | 히말라야산맥 |
| ③ 히말라야산맥 | 고비 사막 |
| ④ 히말라야산맥 | 트라피 화산 |
| ⑤ 히말라야산맥 | 환태평양 조산대 |

정답 ⑤ | 에베레스트산을 비롯한 높은 산들이 모여 있는 세계의 지붕이라고 불리는 지역은 히말라야산맥이며, 태평양 주변 지역의 지진과 화산 활동이 활발한 지역은 환태평양 조산대이다.

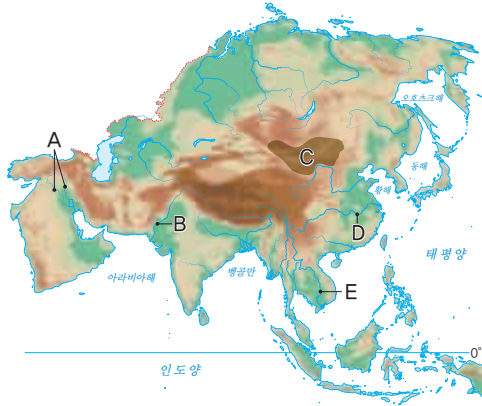
11 (가), (나) 경관이 나타나는 지역을 지도의 A~E에서 고른 것은?



- | (가) | (나) | (가) | (나) |
|-----|-----|-----|-----|
| ① A | B | ② B | A |
| ③ B | E | ④ C | B |
| ⑤ D | E | | |

정답 ⑤ | A는 톨알랄리 사막, B는 카스피해, C는 히말라야산맥, D는 고비 사막, E는 베트남이다. 사막 경관이 나타나는 곳은 A와 D, 벼농사가 이루어지는 지역은 E이다.

12 지도는 아시아의 지형을 나타낸 것이다. 이에 대한 설명으로 옳은 것만을 <보기>에서 있는 대로 고른 것은?



보기

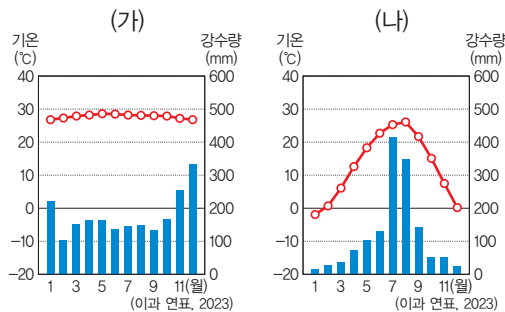
- ㄱ. A, B는 고대 문명의 발상지이다.
- ㄴ. 봄철에는 C의 모래바람이 편서풍을 타고 우리나라에 황사 피해를 입힌다.
- ㄷ. D, E 주변에는 세계적인 곡창 지대가 형성되었다.
- ㄹ. 아시아에는 남반구에 위치한 국가가 존재하지 않는다.

- ① ㄱ, ㄴ ② ㄱ, ㄷ ③ ㄴ, ㄷ
- ④ ㄱ, ㄴ, ㄷ ⑤ ㄱ, ㄴ, ㄷ, ㄹ

정답 ④ | A는 티그리스-유프라테스강, B는 인더스강, C는 고비 사막, D는 창장강, E는 메콩강이다. 티그리스-유프라테스강과 인더스강은 고대 문명의 발상지이며, 메콩강과 창장강 유역에는 세계적인 곡창 지대가 형성되어 있다. 고비 사막은 편서풍의 영향으로 봄철에 우리나라에 황사를 일으키는 모래먼지의 발원지이다.

과난도

13 (가), (나) 기후 그래프가 나타나는 지역에 대한 설명으로 옳지 않은 것은?



- ① (가) 지역에서는 주로 열대림이 나타난다.
- ② (가) 지역에서는 물과 식량을 확보하기 위해 유목이 주로 이루어진다.
- ③ (나) 지역은 사계절이 뚜렷하게 나타난다.
- ④ (나) 지역은 여름에 강수가 집중되어 벼농사가 발달하였다.
- ⑤ (가) 지역보다 (나) 지역이 위도가 높은 곳에 위치한다.

정답 ② | (가) 지역은 열대 기후 지역, (나)는 온대 기후 지역이다. 식량과 물을 확보하기 위해 유목이 주로 이루어지는 지역은 건조 기후 지역이다.

서술형 문제

14 다음 글을 읽고 물음에 답하시오.

아시아는 일반적인 지역 구분에 따라 동아시아, 동남아시아, 남부 아시아, 서남아시아, 중앙아시아로 구분된다. 큰 강이 흘러 세계적인 곡창 지대가 있는 아시아는 전 세계에서 인구가 가장 많은 대륙으로 ㉠ 세계 인구 1위, ㉡ 2위 국가가 포함되어 있다. 한편 중앙아시아에는 ㉢ 카자흐스탄, 우즈베키스탄, 투르크메니스탄 등 ‘스탄’으로 끝나는 국가명이 많다.

(1) ㉠, ㉡에 해당하는 국가를 쓰시오.

㉠ : 인도 ㉡ : 중국

(2) ㉢ 지역의 기후 특징을 서술하시오.

예시 답안 | 중앙아시아의 건조 기후 지역으로, 강수량이 매우 적고 연 강수량보다 연 증발량이 많으며, 사막이나 초원이 넓게 분포한다.

구분	채점 기준
상	건조 기후의 특징을 정확히 서술한 경우
중	건조 기후의 특징을 서술하였으나 미흡한 경우
하	건조 기후라고만 서술한 경우

구분	채점 기준
상	(가), (나)의 주민 생활이 나타나는 이유를 기후 요인과 관련지어 모두 정확히 서술한 경우
중	(가), (나)의 주민 생활이 나타나는 이유를 기후 요인과 관련지어 한 가지만 정확히 서술한 경우
하	(가), (나)의 주민 생활이 나타나는 이유를 기후 요인과 관련지어 서술하였으나 미흡한 경우

15 사진을 보고 물음에 답하시오.




(1) (가), (나) 주민 생활이 나타나는 기후를 쓰시오.

(가) : 열대 기후 (나) : 건조 기후

(2) (가), (나) 주민 생활이 나타나는 이유를 기후 요인(기온, 강수량)과 관련지어 서술하시오.

예시 답안 | (가)는 기온이 높고 강수량이 많아 바닥에서 올라오는 습기와 해충을 피하기 위해 고상 가옥이 나타난다. (나)는 강수량이 적어 직생이 빈약하여 가축의 식량과 물을 찾아 이동하는 유목이 발달하여 이동식 가옥이 나타난다.



2 아시아의 종교와 문화 다양성

1 아시아의 종교

세계 주요 종교는 아시아에서 시작되어 주변 국가로 전파되었어.

1. 아시아의 종교 분포 **자료 1**

불교	<ul style="list-style-type: none"> 인도 북부·네팔 지역에서 기원하여 아시아 지역으로 전파되었다. 분포: 동아시아 및 동남아시아 석가모니의 가르침에 따라 수행 깨달음을 중시하고 자비와 평등 실천
이슬람교	<ul style="list-style-type: none"> 사우디아라비아에서 기원하여 중앙아시아, 동남아시아로 전파되었다. 분포: 서남·중앙아시아, 남부·동남아시아 일부 알라를 유일신으로 섬기고 무함마드를 추앙
크리스트교	<ul style="list-style-type: none"> 이스라엘에서 기원하여 전 세계로 전파되었다. 분포: 필리핀에서 가장 영향력이 높음. 하나님을 유일신으로 섬기며, 예수를 구원자로 믿음.
힌두교	<ul style="list-style-type: none"> 분포: 인도와 그 주변 여러 신을 섬기며, 고행을 통한 수련을 중시

인도에서 기원한 인도의 민족 종교이다.

2. 종교와 관련된 아시아의 문화경관과 생활양식

(1) 아시아의 종교와 문화경관 **자료 2**

불교	<ul style="list-style-type: none"> 불상과 탑 등이 있는 불교 사원 예) 슈웨다곤 파고다(미얀마), 왓 프라싱 사원(타이)
이슬람교	<ul style="list-style-type: none"> 둥근 돔과 첨탑 등이 있는 이슬람교 사원인 모스크 예) 카바 신전(사우디아라비아), 셰이크 자이드 그랜드 모스크(아랍 에미리트)
크리스트교	<ul style="list-style-type: none"> 십자가와 종탑이 있는 성당이나 교회 예) 마닐라 대성당(필리핀), 성모 교회(이스라엘)
힌두교	<ul style="list-style-type: none"> 다양한 신을 표현한 조각상과 그림이 있는 힌두교 사원 예) 스리미낙시 사원(인도), 스리 무투 마리암만 사원(싱가포르)

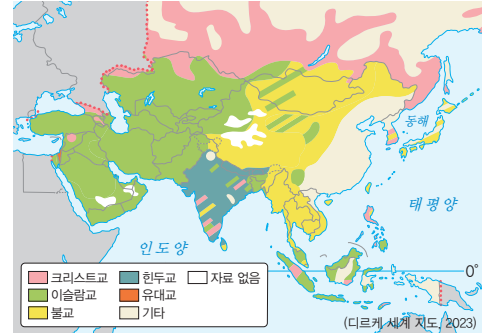
(2) 아시아의 종교와 생활양식 **자료 3**

불교	<ul style="list-style-type: none"> 개인의 명상과 수행을 통한 깨달음을 중시 살생을 금지하여 채식을 선호 이른 아침 승려에게 음식을 공양하기도 함.
이슬람교	<ul style="list-style-type: none"> 쿠란이라는 경전을 따르며, 돼지고기와 술을 금기시함. 하루에 다섯 번 메카를 향해 기도를 함. 전통 의상(히잡)과 음식 문화(할랄 푸드)가 나타남. 성지 순례와 금식 기간 준수 등의 의무가 있음.
크리스트교	<ul style="list-style-type: none"> 성경의 가르침을 따름. 성당이나 교회에서 예배하고, 결혼·장례 등을 치름.
힌두교	<ul style="list-style-type: none"> 여러 신을 섬기며, 인도의 카스트 제도에 영향 소를 신성한 동물로 여겨 소고기를 먹지 않음. 갠지스강을 성스럽게 여겨 강물에 목욕을 함.

인도의 신분제인데, 법적으로 폐지되었지만 여전히 사회적, 문화적으로 영향을 미치고 있어.

자료 골단지

교과서 확인: 동아, 미래엔, 비상, 아침나라, 천재
자료 1 아시아의 종교 분포



종교는 민족과 국경을 초월하여 널리 퍼지는 보편 종교와 일부 민족과 관련하여 성립된 민족 종교로 구분된다. 크리스트교, 이슬람교, 불교는 보편 종교이며, 힌두교와 유대교는 민족 종교에 해당한다.

교과서 확인: 동아, 미래엔, 비상, 아침나라, 천재

자료 2 아시아의 종교와 문화경관



▲ 슈웨다곤 파고다(미얀마)

▲ 카바 신전(사우디아라비아)

▲ 마닐라 대성당(필리핀)

▲ 스리미낙시 사원(인도)

교과서 확인: 미래엔, 비상, 아침나라

자료 3 아시아의 종교와 생활양식



▲ 탁발하는 승려들

▲ 갠지스강에서 목욕하는 힌두교 신자들

용어 골단지

- ◆ **히잡** 이슬람교 여성들이 머리와 목을 가리기 위해 쓰는 두건
- ◆ **할랄 푸드** 이슬람 율법에 따라 사용이 허용되는 음식 등을 의미함.
- ◆ **탁발** 불교의 다양한 수양법 중 하나로 승려가 남에게 음식을 구하는 행위

2 아시아의 종교 갈등과 공존

1. 아시아의 종교 갈등

카슈미르 자료 4	<ul style="list-style-type: none"> • 힌두교(인도) • 이슬람교(파키스탄)
이스라엘 팔레스타인	<ul style="list-style-type: none"> • 유대교(이스라엘) • 이슬람교(팔레스타인)
스리랑카	<ul style="list-style-type: none"> • 불교(신할리족) • 힌두교(타밀족)
미얀마 라카인주	<ul style="list-style-type: none"> • 불교(버마족) • 이슬람교(로힝야족)



▲ 아시아의 주요 종교 갈등 지역

2. 아시아의 종교 공존

- (1) 싱가포르, 말레이시아, 인도네시아에서는 종교별로 법정 공휴일을 지정하고 다양한 종교 축제를 개최하는 등 여러 종교의 공존을 위해 노력함.
- (2) 개인은 문화 상대주의의 관점에서 다양한 문화를 존중하고 수용하는 세계시민의 자질을 길러야 함.

용어 풀단지

- ◆ 문화 상대주의 문화는 우월과 열등을 가릴 수 없는 것이며, 세계의 문화는 모두 존중받아야 한다고 보는 태도

자료 풀단지

교과서 확인 : 동아, 미래엔, 아침나라, 천재
자료 4 카슈미르 분쟁



카슈미르는 원래 이슬람교를 믿는 주민들이 많아 영국으로부터 독립할 때 이슬람교 신자가 많은 파키스탄의 영토로 편입될 예정이었다. 그러나 인도의 영토로 편입되면서 파키스탄과 인도의 종교와 영토 분쟁이 복합적으로 발생하고 있다.

STEP 1

개념 IN

1 빈칸에 들어갈 알맞은 말을 쓰시오.

- (1) (불교)은/는 석가모니의 가르침에 따라 수행하며, 동아시아 및 동남아시아에 주로 분포되어 있다.
- (2) 이슬람교는 (알라)을/를 유일신으로 섬기고, 무함 마드를 추앙하는 종교이다.
- (3) 크리스티교는 하나님을 유일신으로 섬기며, 아시아에 서는 (필리핀)에서 가장 영향력이 있는 종교이다.

2 밑줄 친 곳을 바르게 고쳐 쓰시오.

- (1) 크리스티교는 승려에게 음식을 공양하기도 하며, 개인의 명상과 수행을 통한 깨달음을 중시한다.
- (2) 이슬람교는 쿠란이라는 경전을 따르며, 소고기와 술을 금지한다.
- (3) 힌두교는 여러 신을 섬기며, 인더스강을 성스럽게 여겨 강물에 목욕을 한다.

3 ㉠, ㉡ 중 알맞은 것을 고르시오.

- (1) 카슈미르 분쟁은 인도 지역의 힌두교와 파키스탄 지역의 (㉠ 이슬람교, ㉡ 크리스티교) 간의 종교 갈등으로 일어난 분쟁이다.
- (2) 평화로운 종교 공존을 이루어내기 위해서는 (㉠ 문화 상대주의, ㉡ 문화 상대주의)의 관점에서 상대를 존중하는 세계시민의 자세가 필요하다.
- (3) 모스크는 뾰족한 첨탑과 둥근 돔으로 이루어진 (㉠ 이슬람교, ㉡ 힌두교) 관련 건축물이다.

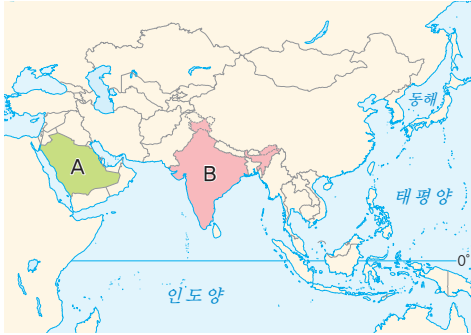
4 다음 설명에 해당하는 국가를 <보기>에서 골라 기호를 쓰시오.

보기

- ㄱ. 미얀마 ㄴ. 스리랑카
ㄷ. 이스라엘 ㄹ. 말레이시아

- (1) 불교(버마족)과 이슬람교(로힝야족)의 갈등 (ㄱ)
- (2) 종교별로 법정 공휴일을 지정 (ㄹ)

[01-02] 지도를 보고 물음에 답하십시오.



01 A 국가가 주로 믿는 종교의 특징으로 옳지 않은 것은?

- ① 소를 신성한 동물로 여겨 먹지 않는다.
- ② 하루에 다섯 번 메카를 향해 기도를 한다.
- ③ 성지 순례와 금식 기간 준수 등의 의무가 있다.
- ④ 알라를 유일신으로 섬기고, 무함마드를 추앙한다.
- ⑤ 전통 의상(히잡)과 음식 문화(할랄 푸드)가 나타난다.

정답 ① | A는 사우디아라비아이며 주로 이슬람교를 믿는 국가이다. 소를 신성한 동물로 여겨 소고기를 먹지 않는 종교는 힌두교이다.

02 B 국가가 주로 믿는 종교의 특징으로 옳은 것은?

- ① 돼지고기와 술을 금기시한다.
- ② 석가모니의 가르침에 따라 수행한다.
- ③ 성지 순례와 금식 기간 준수 등의 의무가 있다.
- ④ 여러 신을 섬기며, 카스트 제도에 영향을 주었다.
- ⑤ 성당 및 교회에서 예배하고 결혼·장례 등을 치른다.

정답 ④ | B는 인도이며 주로 힌두교를 믿는 국가이다. 힌두교는 여러 신을 섬기며, 카스트 제도에 영향을 주었다.

정답 ⑤ | 아시아는 세계 주요 종교의 기원지로서 다양한 종교가 공존하고 있으며, 이에 따라 종교가 추구하는 가치관이 건물과 생활양식으로 나타나고 있다.

중요

03 아시아의 종교에 대한 설명으로 옳은 것을 <보기>에서 고른 것은?

보기

- ㄱ. 모든 종교가 유일신을 섬기고 있다.
- ㄴ. 다양한 종교가 존재하고 있어 종교 갈등만 존재하고 있다.
- ㄷ. 세계 주요 종교의 기원지로서 다양한 종교가 공존하고 있다.
- ㄹ. 종교가 추구하는 가치관이 건물과 생활양식으로 나타나고 있다.

- ① ㄱ, ㄴ ② ㄱ, ㄷ ③ ㄴ, ㄷ
- ④ ㄴ, ㄹ ⑤ ㄷ, ㄹ

04 사진과 같은 경관이 주로 나타나는 국가를 <보기>에서 고른 것은?



▲ 탁발하는 승려들

보기

- ㄱ. 이란 ㄴ. 타이 ㄷ. 미얀마 ㄹ. 필리핀

- ① ㄱ, ㄴ ② ㄱ, ㄷ ③ ㄴ, ㄷ
- ④ ㄴ, ㄹ ⑤ ㄷ, ㄹ

정답 ③ | 제시된 사진은 탁발하는 승려를 보여 주는 대표적인 불교 경관이다. 아시아에서 불교를 주로 믿는 국가는 타이, 미얀마, 베트남, 중국 등과 같이 동아시아, 동남아시아 일부 지역이다.

05 사진은 어느 종교의 건축물이다. 이 종교와 같은 종교의 건축물로 옳은 것은?



- ① 성모 교회
- ② 왓 프라싱 사원
- ③ 스리미낙시 사원
- ④ 스리 무투 마리암만 사원
- ⑤ 셰이크 자이드 그랜드 모스크

정답 ① | 제시된 사진은 필리핀의 마닐라 대성당으로, 크리스티교 경관이다. 아시아의 크리스티교 주요 건축물로는 이스라엘의 성모 교회 등이 있다.

06 ㉠에 들어갈 말로 옳은 것은?

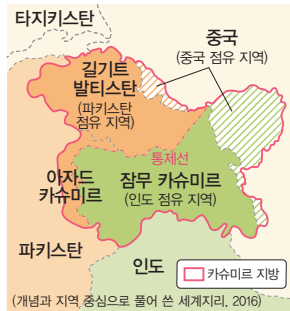
(㉠)은/는 여성 무슬림의 의복이며, 이슬람의 여성들이 머리와 목을 가리기 위해서 쓰는 두건의 일종이다. 가리는 정도에 따라 부르카, 차도르 등 여러 종류가 존재한다.

- ① 쿠란 ② 메카 ③ 히잡
- ④ 윤회 ⑤ 카스트

정답 ③ | 이슬람교 지역에서 주로 볼 수 있는 여성 무슬림의 의복이며, 머리와 목을 가리는 용도로 사용되는 두건의 일종인 히잡에 대한 설명이다.

중요

07 지도는 아시아에서 종교 갈등이 나타나는 어느 지역을 나타낸 것이다. 이 종교 갈등에 대한 설명으로 옳은 것은?



- ① 실제 군사적인 대치로 이어지지는 않았다.
- ② 불교와 이슬람교가 대립하는 종교 갈등이다.
- ③ 신탄리족과 타밀족이 대립하는 종교 갈등이다.
- ④ 정치적인 사건과 함께 종교 분쟁이 일어난 사례이다.
- ⑤ 현재는 갈등이 봉합되어 종교 공존이 이루어지고 있다.

정답 ④ | 제시된 지도는 카슈미르 지역의 갈등을 나타낸 것이다. 카슈미르 지역은 영국으로부터 독립하며 종교와 영토가 결합된 분쟁이 발생하였고, 현재는 군사적인 대치가 이루어질 정도로 심각한 갈등을 빚고 있다.

08 지도는 아시아에서 종교 갈등이 나타나는 어느 지역을 나타낸 것이다. 이 종교 갈등에 대한 설명으로 옳지 않은 것은?



- ① 이슬람교와 유대교의 종교 분쟁이 주로 나타난다.
- ② 종교 분쟁과 영토 분쟁이 복합적으로 일어나고 있다.
- ③ 팔레스타인인과 유대인의 민족 갈등도 함께 존재한다.
- ④ 현재는 팔레스타인이 종교의 자유를 헌법에 명시하면서 갈등이 봉합되었다.
- ⑤ 해당 종교 갈등으로 주변 서남아시아 지역 전체의 위기가 고조되기도 한다.

정답 ④ | 제시된 지도는 이스라엘과 팔레스타인의 갈등을 나타낸 것이다. 오히려 현재는 이스라엘과 팔레스타인의 분쟁이 격화되어 군사적인 조치를 이루고 있다.

09 다음은 다양한 종교의 공존을 이루기 위한 어느 국가의 법이다. 이처럼 평화로운 종교 공존이 이루어지고 있는 국가를 <보기>에서 고른 것은?

「종교 화합 유지법」
 (목적) 종교 간의 갈등을 미연에 방지
 (내용)
 - 종교 집단에 속한 모든 사람은 특정 종교의 신앙을 전파할 수 없다.
 - 종교 집단 사이에 증오, 적대적 감정을 유발하는 행위를 할 수 없다.

보기

- ㄱ. 인도
- ㄴ. 스리랑카
- ㄷ. 말레이시아
- ㄹ. 인도네시아

- ① ㄱ, ㄴ
- ② ㄱ, ㄷ
- ③ ㄴ, ㄷ
- ④ ㄴ, ㄹ
- ⑤ ㄷ, ㄹ

정답 ⑤ | 제시된 자료는 싱가포르의 「종교 화합 유지법」이다. 「종교 화합 유지법」은 다양한 종교의 공존을 이루기 위한 대표적인 사례이며, 평화로운 종교 공존이 이루어지고 있는 국가는 싱가포르, 말레이시아, 인도네시아가 있다.

구분	채점 기준
상	종교 공존을 위한 노력을 개인적, 사회적 차원에서 모두 정확히 서술한 경우
중	종교 공존을 위한 노력을 개인적, 사회적 차원 중 한 가지만 정확히 서술한 경우
하	종교 공존을 위한 노력을 개인적, 사회적 차원에서 서술하였으나 미흡한 경우

서술형 문제

10 인도네시아의 국가 문장에 대한 설명을 참고하여 종교 공존을 위한 노력을 개인적, 사회적 차원에서 서술하시오.



종교 공존이 이루어지는 대표적인 국가인 인도네시아에서는 국가 문장에 '다양성 속의 통일'이라고 적힌 깃발을 전설 속의 새가 쥐고 있는 모습을 볼 수 있다.

예시 답안 | 개인적 차원에서는 문화 상대주의의 관점에서 다양한 문화를 존중하고 수용하는 세계시민의 자질을 길러야 하며, 사회적 차원에서는 종교의 자유를 보호하고 종교에 따른 차별과 억압을 받지 않도록 제도적 장치를 마련해야 한다.



3

아시아의 인구 특징과 지역 변화

1 아시아의 인구 특징

1. 아시아의 인구 성장과 분포

(1) 아시아의 인구 성장 **자료 1**

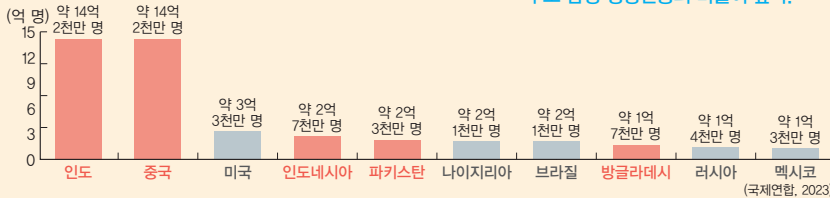
- ① 아시아는 세계에서 인구가 가장 많은 대륙
- ② 인구 성장에 영향을 미치는 요인

자연적 요인	기후가 온화하고, 물이 풍부하여 평야가 발달 → 인구 부양력이 높은 쌀을 재배하여 인구가 증가
인문적 요인	산업 혁명 이후, 경제·교통·산업 등에서 발전을 이룸. → 경제 성장을 바탕으로 인구 부양력이 높아지고, 경제·교통·산업이 발달한 도시로 인구가 집중

(2) 아시아의 인구 분포 **자료 2** - 중국의 1자녀 정책으로 출산율이 급격히 낮아져 향후 인구 감소가 예상되어 중국 정부는 출산율을 높이기 위해 노력하고 있다.

동아시아	<ul style="list-style-type: none"> • 최근 인구 성장이 정체되고 있음. • 중국(세계 2위), 남부 아시아 다음으로 아시아에서 인구가 많음.
동남아시아	<ul style="list-style-type: none"> • 최근 인구가 증가하는 추세 • 지역 내 인구는 인도네시아(세계 4위)가 가장 많음.
남부 아시아	<ul style="list-style-type: none"> • 아시아에서 가장 인구가 많은 지역 • 인도(세계 1위), 파키스탄(세계 5위), 방글라데시(세계 8위)
서남아시아 중앙아시아	<ul style="list-style-type: none"> • 건조 기후의 영향으로 상대적으로 인구가 적음. • 최근 일부 산유국을 중심으로 인구 유입이 많아짐.

주로 남성 청장년층의 비율이 높다.



▲ 세계 인구수 상위 10개국

2. 아시아의 인구이동 **자료 3**

- (1) 의미: 인구가 한 장소에서 다른 장소로 옮겨 가는 것
- (2) 유형: 목적에 따라 경제적 이동, 정치적 이동으로 구분

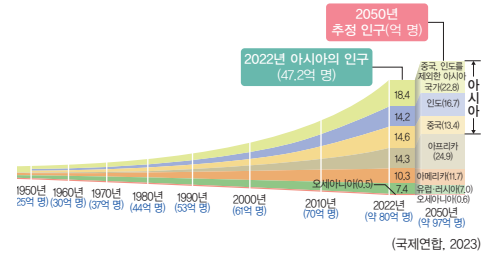
경제적 이동	<ul style="list-style-type: none"> • 소득이 비교적 낮고 고용 기회가 적은 곳 → 고임금 일자리가 있는 곳 • 남부 아시아, 동남아시아 등 → 서남아시아, 동아시아 등 • 아시아 인구이동의 대부분을 차지함.
정치적 이동	<ul style="list-style-type: none"> • 내전 등 정치적인 이유로 인한 난민의 이동 • 시리아, 아프가니스탄 등 → 주변 국가

용어 풀단지

- ◆ **인구 부양력** 한 국가나 지역에서 주어진 자원을 이용하여 인구를 부양할 수 있는 능력
- ◆ **산유국** 자국의 영토 또는 영해에서 원유를 채굴하는 국가
- ◆ **난민** 다양한 이유로 살던 곳을 떠나 외국에 보호를 구하는 개인이나 집단
- ◆ **인구 밀도** 일정 지역의 인구를 해당 지역의 면적으로 나눈 수치로, 인구 밀도를 통해 지역 간 인구 분포 차이를 파악할 수 있음.

자료 풀단지

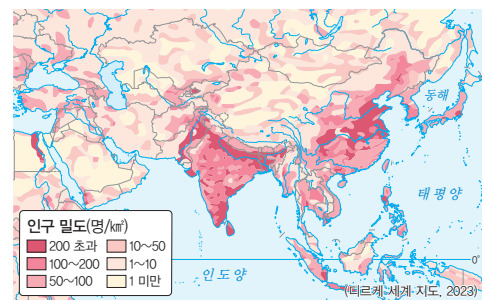
교과서 확인: 비상, 천재
자료 1 세계와 아시아의 인구 성장



아시아는 세계 인구 순위 1위인 인도와 2위인 중국이 위치한 국가로 전 세계 인구 약 80%인 약 47억 명 정도가 거주 중인 대륙이다. 인구수 1억 명이 넘는 국가 역시 전 세계 16개 국가 중 8개 국가를 차지하고 있을 정도로 전 세계 인구에서 차지하고 있는 비중이 높다.

교과서 확인: 동아, 미래엔, 아침나라, 천재

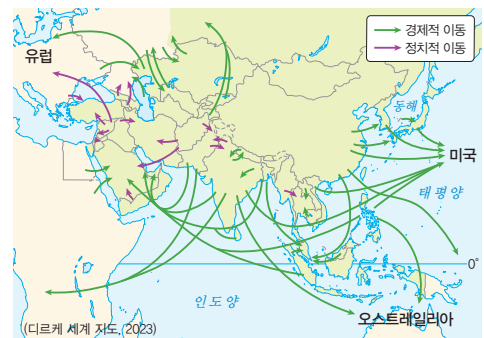
자료 2 아시아의 인구 분포



아시아 중에서도 식량 생산량이 높은 남부 아시아, 동아시아, 동남아시아 지역에 인구가 집중하고 있다. 반면 건조 기후가 나타나는 서남아시아 지역은 인구 밀도가 낮다.

교과서 확인: 동아, 미래엔, 비상, 아침나라, 천재

자료 3 아시아의 인구이동



아시아는 대체로 노동력이 풍부한 남부 아시아, 동남아시아에서 고임금 일자리가 풍부한 서남아시아, 동아시아로 경제적 이동을 많이 하지만, 정치적인 이유로 서남아시아 일부 국가에서 주변 국가로 이동하는 경우도 있다.

2 아시아의 인구 구조와 지역 변화 자료 4

1. 아시아의 인구 증가 지역

총인구를 연령순으로 나열할 때
정중앙에 있는 사람의 해당 연령이다.

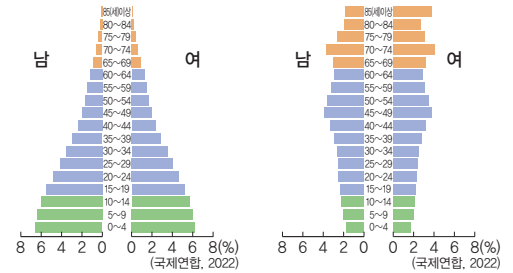
인구 구조	전체 인구에서 유소년층의 비율이 높아 중위 연령이 낮음.
분포	파키스탄, 필리핀, 방글라데시 등 남부 및 동남아시아 지역
원인	<ul style="list-style-type: none"> 남부 아시아, 동남아시아 국가들의 높은 합계 출산율 생활 수준의 향상, 의학 기술의 발달로 기대 수명 증가
문제점	식량 및 자원 부족, 환경 오염, 높은 실업률, 빈곤 인구 증가 등
현황	생산 가능 인구 비중이 커지면서 국가의 경제 성장 잠재력 확보

2. 아시아의 저출산·고령화 지역

인구 구조	전체 인구에서 유소년층 비율은 줄고 노년층 비율이 늘어나 중위 연령이 높음.
분포	경제 발전 수준이 높은 우리나라, 일본 등의 국가
원인	<ul style="list-style-type: none"> 결혼과 자녀에 대한 가치관의 변화 등으로 합계 출산율 감소 생활 수준의 향상, 의학 기술의 발달로 기대 수명 증가
문제점	<ul style="list-style-type: none"> 생산 가능 인구 비중이 줄어들어 노동력 부족 현상 발생 경제 성장 둔화, 노인 인구 증가로 노인 복지 비용 증가
해결책	<ul style="list-style-type: none"> 연금 제도 등 사회 보장 제도 정비 출산 장려 정책, 양육 및 보육 지원 시설 확충 등

자료 끝단지

교과서 확인 : 동아, 미래엔, 비상, 아침나라, 천재
자료 4 아시아 주요 국가의 인구 피라미드



아시아는 인구가 증가하는 지역과 인구가 감소하는 저출산·고령화 지역이 존재한다. 파키스탄은 인구가 증가하는 대표적인 국가로 유소년층의 비율이 높아 피라미드형의 인구 피라미드가 나타난다. 일본은 저출산·고령화 지역의 대표적인 국가로 유소년층의 비율이 낮고 노년층의 비율이 높은 형태의 인구 피라미드가 나타난다.

용어 끝단지

합계 출산율 한 여성이 가임 기간 동안 낳을 것으로 기대되는 평균 출생아 수로, 인구 규모를 유지하기 위한 합계 출산율은 약 2.1명임.

STEP 1

개념 IN

1 빈칸에 들어갈 알맞은 말을 쓰시오.

- (아시아)은/는 인구가 세계에서 가장 많은 대륙이다.
- 아시아는 (인구 부양력)이/가 높은 쌀을 재배하는 자연적 요인에 의해 인구가 증가하였다.
- (남부 아시아)은/는 아시아에서 가장 인구가 많은 지역으로 인도, 파키스탄, 방글라데시가 포함되어 있다.

2 밑줄 친 곳을 바르게 고쳐 쓰시오.

- 동남아시아는 최근 인구가 증가하는 추세이며, 동남아시아 중에는 필리핀의 인구가 가장 많다.
인도네시아
- 서남아시아, 중앙아시아는 열대 기후의 영향으로 상대적으로 인구가 적다.
건조 기후
- 아시아의 정치적 이동은 대체로 동아시아 지역에서 그 주변 국가로 이동한다.
서남아시아

3 다음 설명이 맞으면 ○표, 틀리면 ×표를 하시오.

- 아시아의 국제 이동은 주로 정치적 이동이 대부분이다. (×)
- 아시아의 경제적 이동은 일반적으로 소득이 비교적 낮고 고용 기회가 적은 곳에서 고임금 일자리가 풍부한 곳으로 이루어진다. (○)

4 다음 설명에 해당하는 지역을 <보기>에서 골라 기호를 쓰시오.

보기

ㄱ. 인구 증가 지역 ㄴ. 저출산·고령화 지역

- 파키스탄, 필리핀 등 남부 및 동남아시아 지역 (ㄱ)
- 경제 발전 수준이 높은 우리나라, 일본 등 (ㄴ)

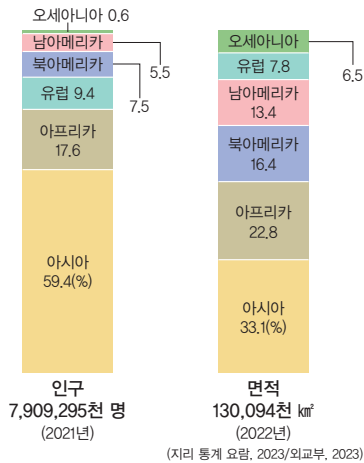
01 아시아의 인구 성장에 대한 설명으로 옳지 않은 것은?

- ① 아시아는 세계에서 인구가 가장 많은 대륙이다.
- ② 쌀을 비롯한 농업이 발달하여 인구가 증가하였다.
- ③ 아시아는 인문적 요인에 의해서만 인구가 성장하고 있다.
- ④ 세계 인구 1위 국가와 2위 국가가 아시아에 포함되었다.
- ⑤ 최근 경제, 교통, 산업이 발달한 도시 등으로 인구가 집중되고 있다.

정답 ③ | 아시아의 인구 성장은 인문적 요인과 자연적 요인에 의해서 이루어졌다.

과년도 정답 ④ | 아시아는 세계에서 차지하는 면적에 비해 세계에서 차지하는 인구의 비율이 높으며, 세계 인구의 약 60%를 차지하고 있다.

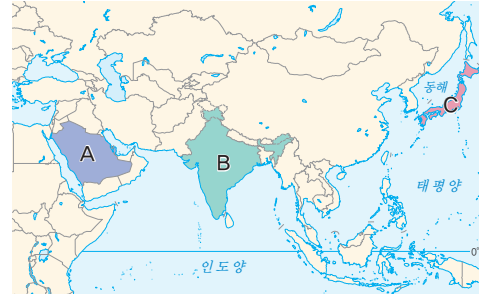
02 그래프는 세계의 대륙별 인구와 면적의 비율을 나타낸 것이다. 이에 대한 설명으로 옳은 것은?



- ① 유럽은 세계에서 차지하는 인구의 비율이 과거에 비해 증가하고 있다.
- ② 남아메리카는 전 세계에서 차지하는 인구의 비율이 가장 낮은 대륙이다.
- ③ 북아메리카는 아프리카에 비해 전 세계에서 차지하는 인구의 비율이 높다.
- ④ 아시아는 세계에서 차지하는 면적에 비해 세계에서 차지하는 인구의 비율이 높다.
- ⑤ 아프리카는 세계에서 차지하는 면적에 비해 세계에서 차지하는 인구의 비율이 높다.

중요 03

지도의 A~C 국가에 대한 설명으로 옳지 않은 것은?



- ① A 국가는 최근 인구가 유입되고 있다.
- ② A 국가는 건조한 기후로 인해서 인구가 희박하다.
- ③ B 국가는 합계 출산율이 높다.
- ④ B 국가는 아시아에서 인구가 가장 많다.
- ⑤ C 국가는 경제 성장으로 인해 현재 높은 인구 성장세를 보인다.

정답 ⑤ | A는 사우디아라비아, B는 인도, C는 일본이다. 일본은 현재 인구 성장이 정체되어 있는 저출산·고령화 지역이다.

정답 ③ | A는 서남아시아, B는 남부 아시아, C는 동아시아, D는 동남아시아이다. 경제적 이동은 대체로 남부 아시아, 동남아시아 지역에서 서남아시아, 동아시아 지역으로 이동하지만, 정치적 이동은 시리아, 아프가니스탄 등에서 주변 국가로 이동한다.

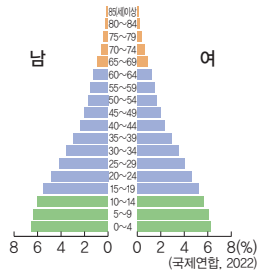
04 아시아의 인구가동 유형에 해당하는 인구 유출·유입 지역을 지도의 A~D에서 고른 것은?



인구가동 유형	인구 유출 지역	인구 유입 지역
① 경제적 이동	C	D
② 경제적 이동	C	B
③ 경제적 이동	D	C
④ 정치적 이동	B	D
⑤ 정치적 이동	D	A

중요

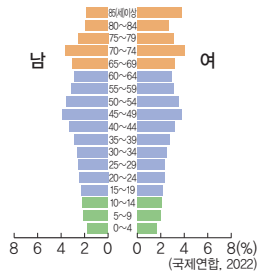
05 다음과 같은 인구 피라미드가 나타나는 지역의 일반적인 특징으로 옳지 않은 것은?



- ① 노인 인구의 증가로 노인 복지 비용이 증가한다.
- ② 생산 가능 인구가 많아 경제적인 측면에 긍정적인 영향을 주고 있다.
- ③ 높은 합계 출산율과 의학 기술의 발달로 기대 수명의 증가가 나타난다.
- ④ 인구가 증가하고 있어 식량 및 자원 부족, 환경 오염 등의 문제가 발생한다.
- ⑤ 필리핀, 방글라데시 등 남부 및 동남아시아 지역에 주로 나타나는 인구 구조이다.

정답 ① | 노인 인구의 증가로 노인 복지 비용이 증가하는 곳은 저출산·고령화 지역이다.

06 다음과 같은 인구 피라미드가 나타나는 국가를 <보기>에서 고른 것은?



보기

ㄱ. 일본 ㄴ. 인도 ㄷ. 우리나라 ㄹ. 방글라데시

- ① ㄱ, ㄴ ② ㄱ, ㄷ ③ ㄴ, ㄷ
- ④ ㄴ, ㄹ ⑤ ㄷ, ㄹ

정답 ② | 저출산·고령화 지역에서 보이는 인구 피라미드이다. 주로 경제 발전 수준이 높은 우리나라와 일본 등의 국가에서 나타나는 인구 구조이다.

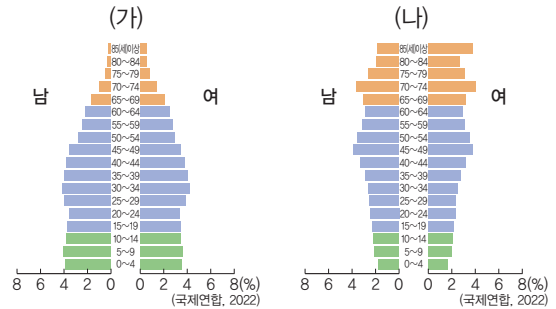
07 ㉠에 들어갈 말로 옳은 것은?

(㉠)은/는 한 여성이 가임 기간 동안 낳을 것으로 기대되는 평균 출생아 수로, 해당 지표를 바탕으로 인구 규모를 유지할 수 있을지의 여부를 판단한다.

- ① 출산율 ② 조출생률
- ③ 출생아 수 ④ 합계 출산율
- ⑤ 연령별 출산율

정답 ④ | 합계 출산율의 개념으로, 인구 규모 유지를 위해서는 약 2.1명이 되어야 한다.

08 (가), (나) 인구 피라미드가 나타나는 지역에 대한 설명으로 옳은 것은?



- ① (가) 지역은 유소년층 인구 비율이 낮다.
- ② (가) 지역은 생산 가능 인구 비중이 줄어들어 노동력이 부족한 문제가 나타나고 있을 것이다.
- ③ (나) 지역은 합계 출산율이 감소하고 있는 지역이다.
- ④ (나) 지역은 높은 실업률과 빈곤 인구 증가 등의 인구 문제가 나타나고 있을 것이다.
- ⑤ (가), (나)가 나타내는 인구 구조는 시대가 변해도 달라지지 않는다.

정답 ③ | (가)는 인구 증가 지역인 베트남의 인구 피라미드이고, (나)는 저출산·고령화 지역인 일본의 인구 피라미드이다. 저출산·고령화 지역은 합계 출산율이 감소하고 있는 지역이다.

구분	채점 기준
상	저출산·고령화 지역의 문제점과 해결책을 모두 정확히 서술한 경우
중	저출산·고령화 지역의 문제점과 해결책 중 한 가지만 정확히 서술한 경우
하	저출산·고령화 지역의 문제점과 해결책을 서술하였으나 미흡한 경우

서술형 문제

09 다음은 아시아의 어느 지역의 인구 구조를 나타낸 사례이다. 이 지역의 인구 구조의 문제점과 해결 방안을 서술하시오.

통계청이 발표한 자료에 따르면 2023년 출생아 수는 23만 명으로 전년보다 약 2만 명 가량 줄었다. 또한 합계 출산율은 0.72명으로 전년보다 0.06명 줄며 역대 최저 수준으로 내려앉았다. 이런 추세라면 현재 5,171만 명인 총인구가 2040년엔 4,000만 명대로 줄어들 것으로 전망되고 있다.

예시 답안 | 저출산·고령화 지역으로, 생산 가능 인구 비중이 줄어들어 노동력이 부족해지는 문제점이 있으며, 이를 해결하기 위해 사회 보장 제도 정비, 출산 장려 정책 등을 추진해야 한다.



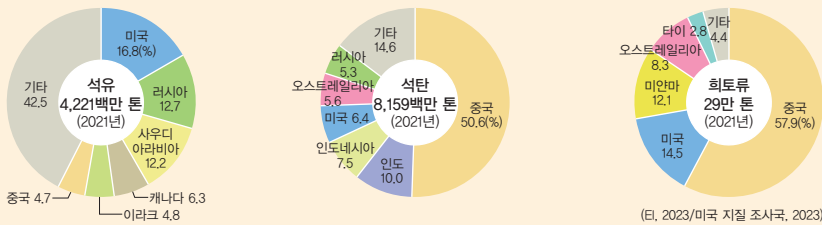
4 아시아의 산업 특징과 변화

1 아시아의 산업 특징과 변화

1. 아시아의 산업 특징

아시아의 국가들은 산업화 시기와 발달 과정이 서로 달라 산업 구조에서 차이가 있어.

천연자원 생산 자료 1	<ul style="list-style-type: none"> • 다양한 천연자원을 보유하고 있어, 생산량이 많음. • 에너지 자원: 석탄(중국), 석유, 천연가스(서남아시아) 등 • 광물 자원: 철광석, 주석, 희토류(중국, 인도) 등 • 곡물 자원: 쌀, 밀(동남·남부 아시아) 등 • 기타 자원: 천연고무, 팜유(동남·남부 아시아) 등
제조업 자료 2	<ul style="list-style-type: none"> • 중화학 공업: 자동차, 철강(우리나라, 일본) 등 • 노동 집약적 제조업: 풍부한 노동력을 바탕으로 의류, 신발(중국, 인도, 동남아시아) 등 • 최근에는 기술 혁신을 바탕으로 부가 가치가 높은 첨단 제조업 분야 육성
첨단 산업 문화 산업	<ul style="list-style-type: none"> • 고부가 가치의 첨단 산업과 문화 산업 분야도 발전 • 첨단 산업: 반도체, 디스플레이(우리나라, 일본, 중국) 등 • 정보 통신 분야 성장: 베트남, 싱가포르 등 • 문화 산업: K-pop(우리나라), 애니메이션(일본) 등



▲ 주요 천연자원의 생산량과 생산국

2. 아시아의 산업 변화

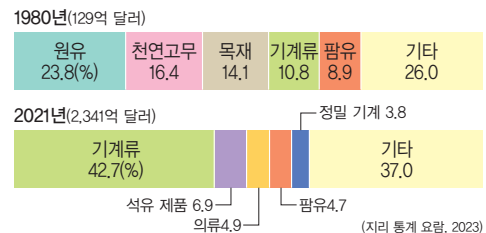
- (1) **산업 구조의 고도화:** 아시아의 여러 국가에서는 제조업과 서비스업의 비중이 높아짐.
- (2) 특정 산업에 의존하기보다는 다양한 산업을 발전시키기 위해 노력함.
- (3) **아시아의 대표적인 산업 변화 지역**

중국	<ul style="list-style-type: none"> • 과거에는 '세계의 공장'이라고 불리며 노동 집약적 제조업을 주도 • 기존의 노동 집약적 제조업은 저임금 지역으로 이전 • 노동 집약적 제조업 → 첨단 산업 육성
일본	부품·소재 산업, 로봇 산업 등 첨단 산업 분야 투자
인도	농업, 제조업, 첨단 산업 등 다양한 산업이 발달
동남아시아	저임금 노동력과 풍부한 자원을 이용한 제조업 성장
서남아시아	석유 자원을 바탕으로 관광·문화·물류 산업에 투자

→ 중국에 위치하던 초국적 기업의 생산 공장이 동남아시아, 인도 등으로 이전하고 있다.

교과서 확인: 동아

자료 3 말레이시아의 주요 수출 품목 변화



(지리 통계 요람, 2023)

말레이시아는 과거에 주요 수출 품목이 원유, 천연고무, 목재 등의 천연자원을 기반으로 하는 품목이었다. 그러나 최근에는 산업 구조의 고도화를 통해 기계류, 석유 제품 등의 제조업 산업으로 발전하고 있다.

자료 꿀단지

교과서 확인: 아침나라, 천재

자료 1 인도네시아의 팜유 생산



팜유는 기름야자의 열매에서 뽑아내는 기름으로 전 세계 생산량의 약 84%가 인도네시아, 말레이시아에서 생산되고 있다.

교과서 확인: 비상, 아침나라

자료 2 아시아의 제조업



▲ 일본 자동차 공장



▲ 베트남 의류 공장

일찍이 제조업이 발달한 우리나라, 일본, 중국과 같은 국가는 기술력을 바탕으로 한 제조업이 발달하였고, 저렴한 노동력이 풍부한 베트남과 같은 동남아시아 및 남부 아시아 지역은 의류, 신발 등을 생산하는 노동 집약적 제조업이 발달하였다.

용어 꿀단지

- ◆ **노동 집약적 제조업** 제품을 생산하기 위한 비용 중 인건비가 차지하는 비율이 큰 산업
- ◆ **고부가 가치** 생산 과정에서 새롭게 부가된 높은 가치
- ◆ **세계의 공장** 저렴한 가격의 물건을 세계 각국에 공급하는 생산 기지 역할을 담당하던 중국을 일컫던 말

2 아시아의 산업 변화가 우리나라 산업에 미치는 영향 자료 4

1. 우리나라 산업에 미치는 영향

제조업	노동력이 풍부하고 인건비가 저렴한 남부 및 동남아시아에 우리나라 기업의 생산 공장을 세워 협력
첨단 산업	아시아의 첨단 산업 발전으로 우리나라 기업의 기술 혁신에 영향을 주었으며, 경쟁 및 협력을 통해 새로운 기술을 확보
기반 시설 구축	서남아시아의 관광, 제조업 등에 필요한 기반 시설 구축에 우리나라 기업이 참여

2. 문화 산업의 성장에 따른 연계 효과

- (1) 아시아의 여러 국가에서는 경제 성장 이후 소비가 늘어나면서 문화 콘텐츠에 대한 수요가 증가
- (2) 우리나라의 영화, 드라마, 음악, 인터넷 만화 등 문화 콘텐츠가 아시아 국가를 중심으로 전 세계에서 큰 인기를 얻음.
- (3) 아시아의 문화 산업 성장으로 우리나라 문화 및 상품 수출이 증가하고, 우리나라를 방문하는 관광객이 증가

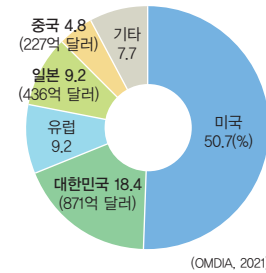
용어 풀단지

- ◆ **기반 시설** 기초가 되도록 차려 놓거나 만들어 놓은 일정한 설비나 구조물

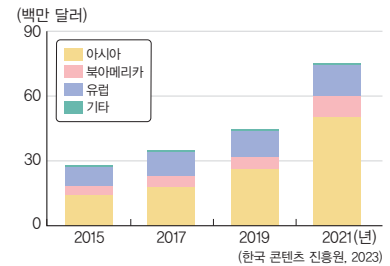
자료 풀단지

교과서 확인 : 미래엔, 비상

자료 4 우리나라의 첨단 산업과 문화 산업



▲ 세계 반도체 시장 점유율(2020년)



▲ 우리나라의 문화 산업 수출액

최근 우리나라는 고부가 가치의 첨단 산업과 문화 산업이 크게 성장하였다. 첨단 산업 중 반도체는 세계 2위의 시장 점유율을 가지고 있으며, 문화 산업 중 만화 산업은 전 세계에서 큰 인기를 얻어 꾸준히 수출액이 증가하고 있다.

STEP 1

개념 IN

1 빈칸에 들어갈 알맞은 말을 쓰시오.

- (1) (**노동 집약적**) 제조업은 인건비가 저렴한 인도네시아, 베트남, 방글라데시로 이전하고 있다.
- (2) 아시아는 에너지, 광물, 곡물, 기타 자원 등 다양한 (**천연자원**)을/를 보유하고 있다.
- (3) 중국은 과거에 (**세계의 공장**)(이)라고 불리며 노동 집약적 제조업을 주도하였다.

2 ㉠, ㉡ 중 알맞은 것을 고르시오.

- (1) 아시아의 여러 국가에서는 제조업과 서비스업의 비중이 (높아지고, ㉠ 낮아지고) 있다.
- (2) 아시아는 부가 가치가 (㉠ 낮은, 높은) 첨단 산업과 문화 산업 분야도 함께 발전하고 있다.
- (3) (㉠ 동남아시아, 서남아시아)는 석유 자원을 바탕으로 관광·문화·물류 산업에 적극적으로 투자하고 있다.

3 다음 설명이 맞으면 ○표, 틀리면 ×표를 하시오.

- (1) 아시아는 산업화 시기와 발달 과정이 서로 달라 산업 구조에서 서로 차이가 발생한다. ()
- (2) 우리나라, 일본, 중국은 일찍이 제조업으로 성장하여 현재는 제조업을 하고 있지 않다. ()

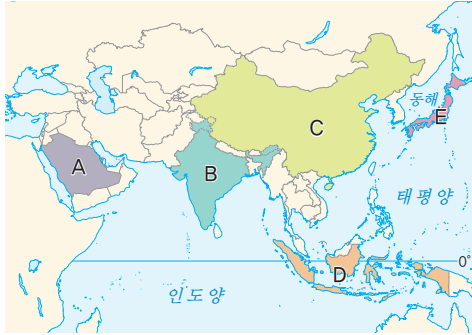
4 다음에서 설명하는 우리나라 산업에 미치는 영향에 해당하는 산업을 <보기>에서 골라 기호를 쓰시오.

보기

- ㄱ. 제조업 ㄴ. 문화 산업
 ㄷ. 첨단 산업 ㄹ. 기반 시설 구축

- (1) 우리나라 상품 수출이 증가하고, 우리나라를 방문하는 관광객이 증가 (ㄴ)
- (2) 우리나라 기업의 기술 혁신에 영향을 주었으며, 경쟁 및 협력을 통해 새로운 기술 확보 (ㄷ)

01 지도의 A~E 국가에 대한 설명으로 옳은 것은?

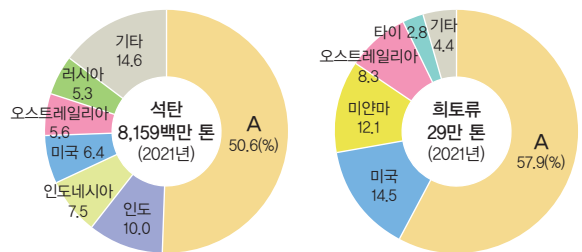


- ① A 국가는 저임금 노동력이 풍부하여 노동 집약적 제조업이 이전하고 있다.
- ② B 국가는 석유, 석탄, 천연가스 등의 에너지 자원의 생산량이 높다.
- ③ C 국가는 대표적인 팜유 생산국이다.
- ④ D 국가는 애니메이션 등의 문화 산업이 활발한 지역이다.
- ⑤ E 국가는 일찍이 제조업이 발달하여 현재는 첨단 산업을 비롯한 고부가 가치 산업이 발달하고 있다.

정답 ⑤ | A는 사우디아라비아, B는 인도, C는 중국, D는 인도네시아, E는 일본이다. 일본은 일찍이 제조업이 발달하여 반도체, 로봇 산업 등 첨단 산업이 발달하고 있다.

과년도

02 그래프는 석탄과 희토류의 주요 생산국을 나타낸 것이다. A 국가의 산업에 대한 설명으로 옳은 것은?



(단, 2023/미국 지질 조사국, 2023)

- ① 임금이 저렴해져 경쟁력이 더욱 강화되고 있다.
- ② 천연자원과 같은 특정 산업에 더욱 의존하고자 한다.
- ③ 석유 자원을 바탕으로 관광·문화·물류 산업에 투자하고 있다.
- ④ 최근에는 첨단 산업보다 천연자원 개발에 더 많은 자본을 투자하고 있다.
- ⑤ 과거에는 '세계의 공장'이라고 불리며 세계의 노동 집약적 제조업을 주도하였다.

중요

03 아시아의 산업 변화에 대한 설명으로 옳지 않은 것은?

- ① 제조업과 서비스업의 비중이 점차 높아지고 있다.
- ② 동아시아 지역은 고부가 가치의 첨단 산업이 발전하고 있다.
- ③ 아시아 지역의 문화 산업이 세계에 미치는 영향은 미미하다.
- ④ 노동 집약적 제조업은 저임금 노동력이 풍부한 지역으로 이전하고 있다.
- ⑤ 베트남과 인도네시아는 저임금 노동력과 풍부한 자원을 바탕으로 제조업이 성장하고 있다.

정답 ③ | 최근 아시아 지역의 문화 산업이 발달하여 세계에 미치는 영향이 커지고 있다.

04 다음에서 설명하는 산업 변화를 가장 잘 이해한 학생은?

아랍 에미리트는 과거에 작은 어촌 국가였으나 1950년대 아부다비에서 석유가 개발되면서 급격한 경제 성장을 이루었다. 이러한 수입을 바탕으로 두바이와 아부다비에 경제 자유 구역을 설치하여 투자를 늘리고, 관광 단지를 조성하는 등 경제 구조를 다변화하기 위해 노력하고 있다.

- ① 준서: 반도체, 로봇 산업 등 첨단 산업에 투자하고 있어.
- ② 규리: 저임금 노동력을 이용하여 노동 집약적 제조업이 발전하고 있어.
- ③ 상찬: 첨단 산업 중심의 산업 구조에서 제조업 중심의 산업 구조로 변하고 있어.
- ④ 수빈: 특정 산업에 의존하기보다는 다양한 산업을 발전시키기 위해 노력하고 있어.
- ⑤ 재준: 일찍이 제조업이 발달하여 공장들이 지금은 저임금 노동력 지역으로 이전하고 있어.

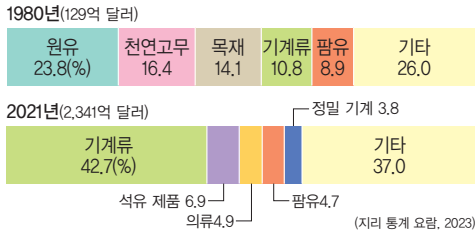
정답 ④ | 어촌 마을이었던 아랍 에미리트는 어업에서 석유 자원을 바탕으로 현재는 다양한 산업을 발전시키기 위해서 노력하고 있다.

05 아시아의 제조업은 지역에 따라 다르게 발달하였다. 각 제조업과 발달한 국가를 연결한 것으로 옳은 것은?

의류 공장	자동차 공장
① 일본	베트남
② 중국	인도네시아
③ 베트남	일본
④ 베트남	말레이시아
⑤ 우리나라	베트남

정답 ③ | 의류 공장은 주로 저임금 노동력이 풍부한 베트남과 같은 동남아시아에 위치하고 있으며, 자동차 공장은 일찍이 제조업이 발달한 우리나라, 일본 등에 위치하고 있다.

06 그래프는 말레이시아의 주요 수출 품목 변화를 나타낸 것이다. 이에 대한 설명으로 옳은 것은?



- ① 과거에 비해 팜유의 수출 비중이 증가하였다.
- ② 2021년에는 첨단 산업 중심의 산업 구조로 변화하였다.
- ③ 2021년에는 천연자원에 대한 수출이 이루어지지 않았다.
- ④ 현재에는 석유 자원을 바탕으로 관광·문화·물류 산업에 투자하고 있다.
- ⑤ 천연자원을 기반으로 하는 산업 구조에서 제조업 기반의 산업 구조로 변화하였다.

정답 ⑤ | 말레이시아는 과거에는 원유, 천연고무, 목재 등의 천연자원을 기반으로 하는 품목을 주로 수출하였다. 최근에는 산업의 고도화를 통해 기계류, 석유 제품 등의 제조업이 발전하고 있다.

중요

07 다음에서 설명하는 노동 집약적 제조업의 이전이 이루어지는 원인으로 옳은 것은?

인도와 베트남, 타이, 말레이시아, 방글라데시 등 5개국이 중국의 역할을 대체하기 위한 노력을 강화하고 있다. 이에 따라 기업들은 이미 중국 내 공장 시설을 이전하고 있다.

- ① 석탄, 석유, 천연가스 등의 에너지 자원이 풍부하기 때문이다.
- ② 일찍이 제조업이 발달하여 우수한 기술을 가지고 있기 때문이다.
- ③ 농업, 제조업, 첨단 산업 등 다양한 산업이 함께 발전되어있기 때문이다.
- ④ 인도, 베트남 등의 천연자원이 노동 집약적 제조업에 더 적합한 자원이기 때문이다.
- ⑤ 중국의 경제 성장으로 인건비가 상승하여 저임금 노동력이 있는 곳을 찾기 때문이다.

정답 ⑤ | 노동 집약적 제조업이 이전하는 이유는 중국의 경제 성장으로 인건비가 상승하여 저임금 노동력이 있는 곳을 찾기 때문이라고 해석할 수 있다.

08 다음에서 설명하는 우리나라의 산업 변화가 아시아에 미치는 영향으로 옳은 것은?

우리나라 인기 가수의 미국 빌보드 순위 석권, 우리나라 영화의 아카데미 작품상 등 네 부문 수상 등은 우리나라 대중문화의 성과이다. 현재 K-pop과 우리나라 영화 및 드라마를 즐기는 소비자는 약 2억 명에 육박하는 것으로 추산된다.

- ① 남부 및 동남아시아 지역에 공장을 설치하여 협력을 더욱 강화하고 있다.
- ② 영화, 드라마 등이 하나의 브랜드가 되어 아시아의 문화 산업에 영향을 끼치고 있다.
- ③ 서남아시아 지역의 관광, 제조업 등에 필요한 기반 시설 구축에 영향을 미치고 있다.
- ④ 중국, 일본의 첨단 산업 발전에 국가 간 상호 경쟁과 협력을 통해 영향을 미치고 있다.
- ⑤ 천연자원이 부족하여 원료를 수입 후, 공장에서 가공한 제품을 수출하는 가공 무역이 발달하였다.

정답 ② | 현재 우리나라는 영화, 드라마 등 다양한 문화 분야에서 전 세계 인구의 눈을 사로잡고 있다. 특히 K-콘텐츠라고 불리는 하나의 브랜드는 우리나라를 넘어 아시아 전체의 문화 산업에도 영향을 미치고 있다.

구분	채점 기준
상	원재료의 값이 올라 국내 물가 상승의 가능성이 있다고 서술한 경우
하	팜유 수출 중단에 따른 영향을 서술하였으나 미흡한 경우

서술형 문제

09 다음은 아시아의 산업 구조 변화가 우리나라에 영향을 미치는 사례이다. 팜유 수출이 중단될 경우, 우리나라에 어떤 영향이 나타나는지 서술하시오.

세계 최대 팜유 생산국인 인도네시아가 자국 물량 부족을 이유로 수출을 중단한다고 밝혔다. 국내에서는 팜유가 가정용으로 쓰이지는 않지만, 라면이나 과자 같은 가공식품에 광범위하게 사용되고 있다.

예시 답안 | 팜유 수출이 중단될 경우, 원재료의 값이 올라 국내의 다양한 물건의 가격이 올라갈 가능성이 있다.

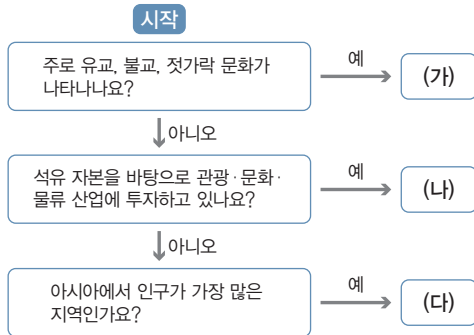
01 ㉠~㉣에 들어갈 말로 옳은 것은?

아시아는 서쪽으로 유럽, 서남쪽으로 아프리카, 남쪽으로 인도양, 동쪽으로 (㉠)과 접하고 있다. 유럽과 아시아는 (㉡)을 두고 구분할 수 있으며, 아프리카와는 (㉣)를 사이에 두고 이웃한다.

- | | | | |
|-------|------|----|---|
| | ㉠ | ㉡ | ㉣ |
| ① 태평양 | 우랄산맥 | 홍해 | |
| ② 태평양 | 우랄산맥 | 흑해 | |
| ③ 태평양 | 로키산맥 | 사해 | |
| ④ 대서양 | 우랄산맥 | 홍해 | |
| ⑤ 대서양 | 로키산맥 | 흑해 | |

정답 ① | 아시아는 서쪽으로 유럽, 서남쪽으로 아프리카, 남쪽으로 인도양, 동쪽으로 태평양과 접하고 있다. 유럽과 아시아는 우랄산맥을 두고 구분할 수 있으며, 아프리카와는 홍해를 사이에 두고 이웃한다.

02 (가)~(다)에 들어갈 아시아의 지역으로 옳은 것은?



- | | | | |
|---------|-------|--------|-----|
| | (가) | (나) | (다) |
| ① 동아시아 | 동남아시아 | 남부 아시아 | |
| ② 동아시아 | 서남아시아 | 남부 아시아 | |
| ③ 동남아시아 | 동아시아 | 남부 아시아 | |
| ④ 동남아시아 | 서남아시아 | 중앙아시아 | |
| ⑤ 서남아시아 | 중앙아시아 | 동남아시아 | |

정답 ② | 유교, 불교, 젓가락 문화가 나타나는 지역은 동아시아, 석유 자원이 풍부한 지역은 서남아시아, 아시아에서 인구가 가장 많은 지역은 남부 아시아이다.

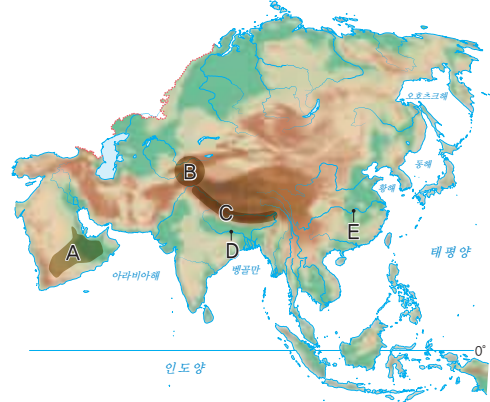
정답 ① | 과거에 '세계의 공장'이라는 별명을 가졌던 중국은 동아시아에 위치한 세계에서 인구가 두 번째로 많은 국가이다.

03 다음에서 설명하는 국가로 옳은 것은?

- 동아시아에 위치하고 있다.
- 세계에서 인구가 두 번째로 많은 국가이다.
- 과거에 '세계의 공장'이라는 별명을 가지기도 하였다.

- | | | |
|-------|---------|------|
| ① 중국 | ② 일본 | ③ 타이 |
| ④ 베트남 | ⑤ 인도네시아 | |

04 지도의 A~E 지형에 대한 설명으로 옳지 않은 것은?



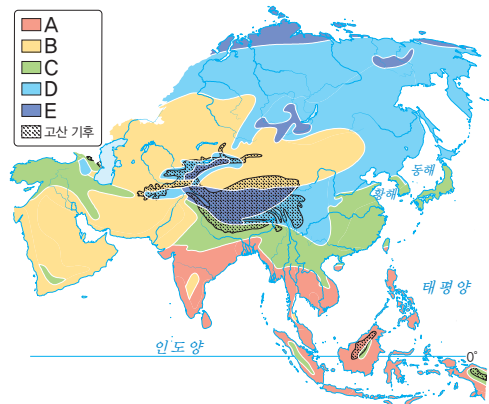
- ① A는 건조한 기후로 사막이 형성되어 있다.
- ② B는 고원으로 주변 지역보다 건조한 기후 환경이다.
- ③ C는 세계에서 가장 높은 산이 위치하고 있다.
- ④ D는 힌두교에서 성스럽게 여기는 하천이다.
- ⑤ E는 동남아시아의 물을 공급하고 있는 하천이다.

정답 ⑤ | A는 룰알라리 사막, B는 파미르고원, C는 히말라야산맥, D는 갠지스강, E는 창장강이다. 동남아시아의 물을 공급하고 있는 하천은 메콩강이다.

정답 ② | A는 열대 기후, B는 건조 기후, C는 온대 기후, D는 냉대 기후, E는 한대 기후이다. 열대 기후 지역에는 고상 가옥과 플랜테이션이 나타나며, 냉대 기후 지역에는 타이가라고 불리는 침엽수림이 존재한다. 한대 기후 지역에는 영구 동토층이 있으며, 순록 유목이 이루어진다.

05 (가)~(다)에 해당하는 지역을 지도의 A~E에서 고른 것은?

- (가) 고상 가옥과 플랜테이션이 나타난다.
- (나) 타이가라고 불리는 침엽수림이 존재한다.
- (다) 영구 동토층이 있으며, 유목 생활을 주로 한다.



- | | | | | | | | |
|---|-----|-----|-----|---|-----|-----|-----|
| | (가) | (나) | (다) | | (가) | (나) | (다) |
| ① | A | B | D | ② | A | D | E |
| ③ | B | C | D | ④ | D | C | A |
| ⑤ | E | B | C | | | | |

06 아시아의 종교에 대한 설명으로 옳은 것을 <보기>에서 고른 것은?

보기

- ㄱ. 유대교는 나타나지 않는다.
- ㄴ. 종교에 따른 생활양식이 존재하지 않는다.
- ㄷ. 종교 갈등과 종교 공존의 사례가 존재한다.
- ㄹ. 불교, 이슬람교, 크리스트교의 기원지가 위치한다.

- ① ㄱ, ㄴ ② ㄱ, ㄷ ③ ㄴ, ㄷ
- ④ ㄴ, ㄹ ⑤ ㄷ, ㄹ

정답 ⑤ | 아시아는 다양한 종교가 함께 존재하고 있어 여러 종교 갈등과 종교 공존의 사례가 나타나며, 불교, 이슬람교, 크리스트교의 기원지가 위치하고 있다.

07 사진과 같은 경관이 나타나는 종교에 대한 설명으로 옳은 것은?



▲ 탁발하는 승려들

- ① 부처의 가르침에 따라 살생을 금지한다.
- ② 십자가를 세운 성당이나 교회를 볼 수 있다.
- ③ 성지 순례와 금식 기간 준수 등의 의무가 있다.
- ④ 갠지스강을 성스럽게 여겨 강물에 목욕을 한다.
- ⑤ 쿠란이라는 경전을 따르며, 돼지고기와 술을 금지 시한다.

정답 ① | 제시된 사진은 탁발하고 있는 승려들로 불교 경관이다. 따라서 부처의 가르침에 따라 살생을 금지하고 있는 불교의 생활양식이 나타난다.

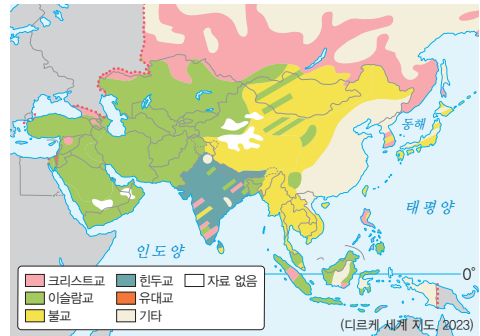
08 평화로운 종교 공존을 위한 태도로 옳은 것은?

- ① 종교적 신념으로 인해 발생하는 갈등에 대해 무시해야 한다.
- ② 자신의 종교만이 옳다고 주장하며 타 종교를 배척해야 한다.
- ③ 종교적 차이를 무시하고 모든 종교를 동일하게 취급해야 한다.
- ④ 특정 종교의 관습이나 전통을 강요하여 다른 종교의 신념을 변화시켜야 한다.
- ⑤ 서로 다른 종교적 신념을 존중하고 대화를 통해 이해를 넓히려려고 노력해야 한다.

정답 ⑤ | 종교 공존을 이루기 위해서는 문화 상대주의를 바탕으로 서로 다른 종교적 신념을 존중하고 대화를 통해 이해를 넓히려려고 노력하여야 한다.

중요

09 지도는 아시아의 종교 분포를 나타낸 것이다. 이에 대한 설명으로 옳은 것은?



- ① 동아시아 지역은 주로 유대교를 믿는다.
- ② 동남아시아 지역은 주로 소를 숭배하고 있다.
- ③ 서남아시아 지역은 주로 크리스트교를 믿는다.
- ④ 필리핀은 주로 성경의 가르침을 따르며, 성당에서 결혼·장례 등을 치른다.
- ⑤ 남부 아시아 지역은 주로 매일 다섯 번 메카를 향해 기도를 하고 있다.

정답 ④ | 필리핀은 주로 크리스트교를 믿어 성경의 가르침을 따르며, 성당에서 결혼·장례 등을 치른다.

정답 ③ | 제시된 글은 스리랑카의 신탈리즈족과 타밀족 간의 종교 갈등을 나타내고 있는 내용이다. A는 이스라엘과 팔레스타인, B는 카슈미르, C는 스리랑카, D는 미얀마 라카인주, E는 필리핀의 민다나오섬이다.

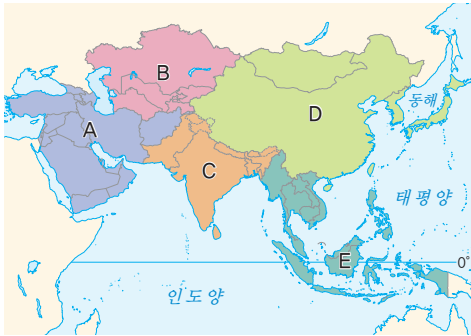
10 다음에서 설명하고 있는 지역을 지도의 A~E에서 고른 것은?

스리랑카의 신탈리즈족과 타밀족 간의 갈등은 신탈리즈족의 불교 신념과 타밀족의 힌두교 신념에 따라 발생하였다. 신탈리즈족 정부의 불교 중심 정책은 타밀족의 종교적 권리를 위협하며, 갈등이 더욱 심화되었다. 이러한 종교적 차별로 인해 결국 내전으로 이어져 많은 인명 피해가 발생하였다.



- ① A ② B ③ C ④ D ⑤ E

[11-12] 지도를 보고 물음에 답하십시오.



11 다음에서 설명하는 지역을 지도의 A~E에서 고른 것은?

- 난민이 발생하여 정치적 이동이 발생하고 있다.
- 건조한 기후의 영향으로 상대적으로 인구가 적다.
- 최근 일부 산유국을 중심으로 인구 유입이 많아지고 있다.

- ① A ② B ③ C ④ D ⑤ E

정답 ① | A는 서남아시아, B는 중앙아시아, C는 남부 아시아, D는 동아시아, E는 동남아시아이다. 설명하고 있는 지역은 서남아시아이다.

12 D 지역에서 나타나는 인구 특징으로 옳은 것은?

- ① 저임금 노동력이 풍부하다.
- ② 아시아에서 인구가 가장 많은 지역이다.
- ③ 합계 출산율이 높은 국가가 밀집되어 있다.
- ④ 가치관의 변화 등으로 최근 인구 성장이 정체되고 있다.
- ⑤ 향후 생산 가능 인구가 풍부하여 경제가 성장할 것이다.

정답 ④ | D 지역은 동아시아로, 상대적으로 경제 발전 수준이 높은 국가가 위치하고 있으며, 남부 아시아 다음으로 인구가 많다. 또한 가치관의 변화 등으로 최근 인구 성장이 정체되고 있다.

정답 ② | 아시아의 인구이동은 주로 고임금 일자리와 쾌적한 생활 환경을 위해 이동하는 경제적 이동이 주를 이루고 있다.

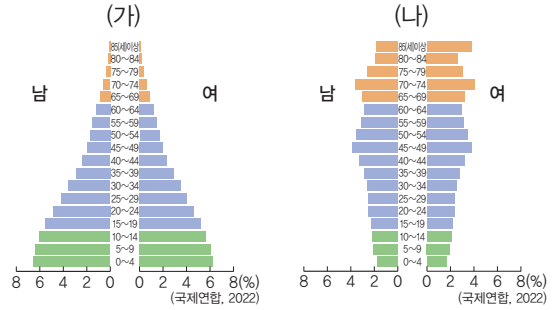
13 아시아의 인구이동의 주요 원인으로 옳은 것은?

- ① 사막화로 식량 부족에 따른 이동
- ② 더 좋은 일자리와 생활 환경을 찾기 위한 경제적 이동
- ③ 자연환경으로 인해 식량을 찾아 이동하는 유목민적 생활
- ④ 자연재해와 기후변화로 생활 터전을 잃은 사람들의 이동
- ⑤ 세계화로 인한 문화 교류와 관광 증가로 인한 일시적인 이동

48 개념풀 중학 사회 ①

중요

14 (가), (나) 인구 피라미드에 대한 설명으로 옳은 것은?



- ① (가)는 합계 출산율이 감소하고 있는 지역이다.
- ② (가)는 생산 가능 인구가 적어 경제적인 측면에 부정적인 영향을 준다.
- ③ (나)는 남부 및 동남아시아 지역에서 주로 나타난다.
- ④ (나)는 식량 및 자원이 부족해지거나, 실업률이 높아지는 문제가 발생한다.
- ⑤ 경제 발전으로 인해 대체로 (가)에서 (나)의 인구 피라미드 유형으로 변화한다.

정답 ⑤ | (가)는 파키스탄의 인구 피라미드로 인구 성장이 나타나는 지역이고, (나)는 일본의 인구 피라미드로 저출산·고령화 현상이 나타나는 지역이다. 일반적으로 경제 발전으로 가치관이 변하여 인구 성장 피라미드에서 저출산·고령화 인구 피라미드로 변화한다.

15 아시아의 산업 특징에 대한 설명으로 옳지 않은 것은?

- ① 아시아에서 다양한 곡물 자원이 생산되고 있다.
- ② 우리나라, 일본 등은 일찍이 제조업이 발달한 국가이다.
- ③ 아시아의 광물 자원은 주로 유럽 국가들에 의존하고 있다.
- ④ 정보 통신 분야는 베트남과 싱가포르에서 빠르게 성장하고 있다.
- ⑤ 인도네시아와 베트남은 인건비가 저렴하여 제조업이 활성화되고 있다.

정답 ③ | 중국, 인도, 인도네시아 등에서 철광석, 주석, 희토류 등 다양한 광물 자원을 생산하고 있다.

고난도

16 노동 집약적 제조업이 이전하고 있는 경로로 옳은 것은?



- ① A → C ② B → A ③ B → C
 ④ D → A ⑤ D → B

정답 ② | A는 방글라데시, B는 중국, C는 우리나라, D는 베트남이다. 노동 집약적 제조업은 일찍이 제조업이 발달한 우리나라, 일본, 중국 등에서 저임금 노동력이 있는 국가인 방글라데시, 베트남 등으로 이동한다.

17 아시아의 산업 변화에 대한 설명으로 옳은 것을 <보기>에서 고른 것은?

보기

- ㄱ. 인도: 농업, 제조업, 첨단 산업이 고르게 발달하고 있다.
- ㄴ. 중국: 노동 집약적 제조업에서 첨단 산업으로 전환되고 있다.
- ㄷ. 인도네시아: 고임금으로 인해 제조업이 축소되고 있다.
- ㄹ. 서남아시아: 관광 및 문화 산업에 대한 투자가 부족하다.

- ① ㄱ, ㄴ ② ㄱ, ㄷ ③ ㄴ, ㄷ
- ④ ㄴ, ㄹ ⑤ ㄷ, ㄹ

정답 ① | 인도는 농업, 제조업, 첨단 산업 등 모든 분야에서 고르게 발달하고 있으며, 중국은 최근에 첨단 산업에 많은 투자를 하고 있어 산업 구조에서의 변화가 나타난다.

18 아시아의 산업 변화가 우리나라에 미치는 영향에 대한 설명으로 옳지 않은 것은?

- ① 첨단 산업을 성장시키기 위해 아시아의 자본을 적극 유치하고 있다.
- ② 일본, 중국, 인도와의 경쟁과 협력을 통해 첨단 산업이 성장하고 있다.
- ③ 아시아 시장에서의 경쟁력을 강화하기 위해 해외 기술에 의존하고 있다.
- ④ 과거에는 천연자원을 수입하여 가공한 뒤 수출하는 가공 무역이 발달하였다.
- ⑤ 저임금 노동력을 확보하기 위해 남부 및 동남아시아 지역에 공장을 설치하고 있다.

정답 ③ | 아시아 시장에서의 경쟁력을 강화하기 위해 주변 아시아 국가들과 경쟁과 협력을 통해 기술을 개발하고 있다.

19 우리나라의 산업 변화가 아시아에 미치는 영향에 대한 설명으로 옳은 것은?

- ① 아시아 지역에서 모든 산업의 독점적 지위를 유지하고 있다.
- ② 서남아시아의 관광 및 제조업에 필요한 기반 시설을 구축하고 있다.
- ③ 문화 산업의 성장은 아시아의 경제 성장과 무관하게 이루어지고 있다.
- ④ 문화 콘텐츠 생산에 있어서 아시아 국가들과의 경쟁을 지양하고 있다.
- ⑤ 서남아시아의 저임금 노동력을 적극 활용하여 첨단 산업을 성장시키고 있다.

정답 ② | 우리나라는 서남아시아의 관광 및 제조업 등에 필요한 기반 시설을 구축하기 위하여 많은 투자를 하고 있으며, 문화 산업의 성장을 통하여 아시아의 문화에 많은 영향을 주고 있다.

서술형 문제

20 사진은 아시아에서 나타나는 종교 경관이다. 이를 보고 물음에 답하시오.



(1) 위 종교 경관이 나타나는 종교의 명칭과 주로 믿는 국가를 쓰시오.

힌두교, 인도

(2) 위 종교 경관이 나타나는 종교의 특징을 서술하시오.

예시 답안 | 여러 신을 섬기며, 인도의 카스트 제도에 영향을 주었다. 또한 갠지스강을 성스럽게 여겨 강물에 목욕을 하고, 소를 신성한 동물로 여겨 소고기를 먹지 않는다.

구분	채점 기준
상	힌두교의 종교 특징을 정확히 서술한 경우
하	힌두교의 종교 특징을 서술하였으나 미흡한 경우

구분	채점 기준
상	저출산·고령화의 문제점을 정확히 서술한 경우
하	저출산·고령화의 문제점을 서술하였으나 미흡한 경우

21 다음은 중국의 인구 정책 변화를 나타내는 포스터이다. 이를 보고 물음에 답하시오.

(가)



▲ 1980년대 산아 제한 정책

(나)



▲ 2021년 출산 장려 정책

(1) (가), (나) 시기는 인구 증가 지역과 저출산·고령화 지역 중 어느 지역에 해당하는지 쓰시오.


(가) : 인구 증가 지역 (나) : 저출산·고령화 지역

(2) (가)에서 (나)로 인구 구조가 변화할 때 나타나는 문제점을 서술하시오.

예시 답안 | 생산 가능 인구가 줄어 경제 성장이 둔화되거나 노동력 부족 현상이 발생할 수 있다. 노인 인구의 증가로 노인 복지 비용이 증가할 수 있다.




3




유럽

- 01 유럽의 위치와 자연환경
- 02 유럽의 다양한 도시
- 03 유럽의 통합과 분리


배울 내용 확인하기

 여름철에 하루 종일 해가 지지 않는 현상은 무엇일까요?


영국의 런던, 벨기에의 브뤼셀, 프랑스의 파리가 있어요.

 세계의 중심 도시 역할을 하는 유럽의 도시는 어디일까요?

백야 현상으로, 유럽의 노르웨이, 러시아 등에서 관찰할 수 있어요.

 유럽의 통합은 어떤 형식으로 나타날까요?

유럽연합(EU)의 결성으로 여러 분야에 걸쳐 협력하고 있어요.



유럽의 위치와 자연환경

1 유럽의 국가와 도시

1. 유럽의 위치

- (1) 북반구의 중위도~고위도에 걸쳐 있음.
- (2) 유라시아 대륙의 서쪽에 위치
- (3) 지리적 범위
 - ① 서쪽으로 대서양, 북쪽으로 북극해, 남쪽으로 지중해, 동쪽으로 아시아와 접하고 있음.
 - ② 아시아와는 우랄산맥을 기준으로 구분함.

면적에 비해 인구가 많아.

2. 유럽의 국가와 주요 도시 **자료 1**

서부 유럽	<ul style="list-style-type: none"> • 세계의 근대화와 산업화를 주도 • 영국(런던), 프랑스(파리), 독일(베를린), 벨기에(브뤼셀), 네덜란드(로테르담), 오스트리아(빈) 등
북부 유럽	<ul style="list-style-type: none"> • 사회 복지 제도가 잘 갖추어짐. • 스웨덴(스톡홀름), 노르웨이(오슬로), 핀란드(헬싱키), 아이슬란드(레이카비크) 등
남부 유럽	<ul style="list-style-type: none"> • 역사가 오래된 유적지, 따뜻한 기후, 아름다운 해안을 바탕으로 관광 산업 발달 • 에스파냐(마드리드), 바르셀로나, 이탈리아(로마), 그리스(아테네), 포르투갈(리스본) 등
동부 유럽	<ul style="list-style-type: none"> • 농업 발달, 최근 빠르게 경제 성장 • 러시아(모스크바), 폴란드(바르샤바), 체코(프라하), 헝가리(부다페스트), 우크라이나(키이우) 등

2 유럽의 자연환경

좁은 면적에 비해 다양한 지형 경관이 나타난다.

1. 유럽의 지형 **자료 2**

북부	<ul style="list-style-type: none"> • 스칸디나비아산맥, 영국 북부의 산지: 비교적 형성 시기가 오래되어 침식을 많이 받아 낮고 완만한. • 피오르 해안(송네 피오르), 빙하호 등 빙하 지형 발달
중부	<ul style="list-style-type: none"> • 프랑스 평원, 북독일 평원, 동유럽 평원: 오랜 기간 침식을 받아 형성된 평야 • 도나우강(다뉴브강), 라인강, 센강: 수운(운하) 발달 • 인구 밀도가 높고 하천을 따라 주요 도시 분포

알프스산맥에서 발원하여 북해와 흑해로 흐른다.

연중 강수량이 고르기 때문에 하천의 유량 변화가 적어 수운에 유리하다.

용어 풀단지

- ◆ 피오르 빙하에 의해 U자 형태로 침식된 골짜기에 바닷물이 들어와 만들어진 좁고 긴 만을 말하며 수심이 깊음.
- ◆ 빙하호 빙하의 침식과 퇴적에 의해 형성된 웅덩이 모양의 지형에 물이 고인 호수
- ◆ 평원 경사가 완만한 비교적 평탄한 지형
- ◆ 수운 강이나 바다를 이용하여 사람이나 물건을 배로 실어 나르는 일
- ◆ 운하 배의 운항을 위해 인공적으로 만든 물길을 의미하며, 강이나 호수를 연결하여 운하를 만들.

자료 풀단지

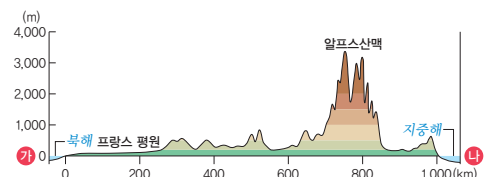
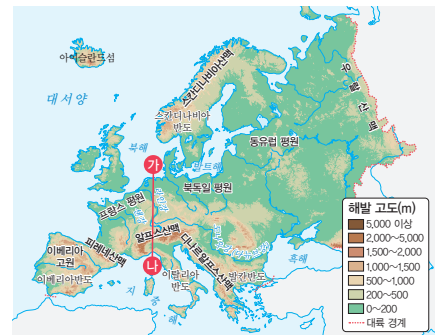
교과서 확인 : 동야, 미래엔, 비상
자료 1 유럽의 지역 구분



유럽의 지역 구분은 기준에 따라 다양하지만 대체로 방위와 문화적 특징을 고려하여 서부 유럽, 북부 유럽, 남부 유럽, 동부 유럽으로 구분한다.

교과서 확인 : 동야, 미래엔, 비상, 아침나라, 천재

자료 2 유럽의 지형



▲ ㉠-㉣ 단면도

유럽의 지형은 북부와 남부의 산지, 중부의 평원으로 이루어져 있다. ㉠-㉣는 북해에서 지중해까지의 지형 단면을 나타낸다. 북해에서 넓은 프랑스 평원을 지나 유럽에서 가장 높은 알프스산맥을 넘으면 지중해가 나타난다. 높고 험준한 알프스산맥의 특징을 확인할 수 있다.

남부	<ul style="list-style-type: none"> 알프스산맥(마티호른), 피레네산맥: 비교적 형성 시기가 오래되지 않아 높고 험준함. 산악 열차 등의 교통 발달로 관광 산업 발달
화산 지형	아이슬란드, 이탈리아 등에 다양한 화산 지형 분포

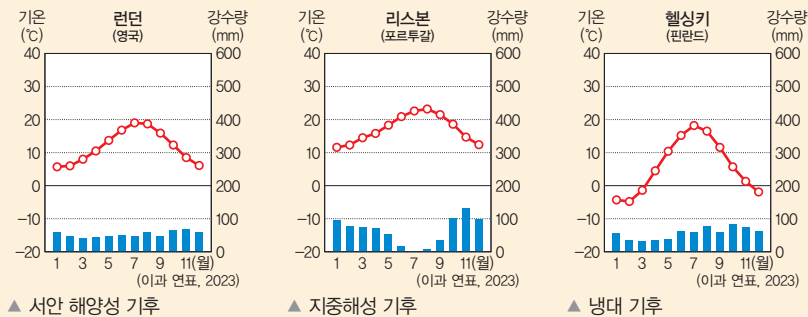
2. 유럽의 기후 **자료 3** **자료 4**

(1) 유럽의 기후 유형

서안 해양성 기후	<ul style="list-style-type: none"> 분포: 서부 유럽 기후 특징: 비슷한 위도의 대륙 동안보다 겨울이 따뜻하여 기온의 연교차가 작고 강수량이 연중 고름. 난류(북대서양 난류)와 편서풍의 영향을 받음. 주민 생활 <ul style="list-style-type: none"> 혼합 농업: 식량 작물(밀, 감자 등)과 사료 작물(귀리, 옥수수 등) 재배 + 가축(소, 돼지, 양 등) 사육 낙농업: 서부 유럽의 대도시 근교, 교통이 편리한 지역에서 우유, 버터, 치즈 등 유제품 생산 원예 농업: 꽃, 채소 등 재배
지중해성 기후	<ul style="list-style-type: none"> 분포: 남부 유럽 기후 특징: 여름이 덥고 건조하며, 겨울이 따뜻하고 비가 자주 내림. 주민 생활 <ul style="list-style-type: none"> 수목 농업: 여름철에 고온 건조한 기후를 견딜 수 있는 포도, 올리브, 오렌지 등 재배 곡물 농업: 겨울철에 온난 습윤한 기후를 이용하여 밀, 보리 등 재배 전통 음식에 올리브, 토마토 등을 많이 활용
냉대 기후	<ul style="list-style-type: none"> 분포: 동부 유럽, 북부 유럽 → 내륙 지역이거나 위도가 높아. 기후 특징: 겨울이 추위 기온의 연교차가 큼. 침엽수림이 넓게 분포 북부 유럽을 포함한 고위도 지역에서는 여름철에 백야 현상이 나타나며 겨울철에 오로라를 볼 수 있음. 자료 5

← 위도 48.5° 이상인 지역의 일부 냉대 기후 지역과 한대 기후 지역에서 나타난다.

(2) 유럽의 기후 그래프



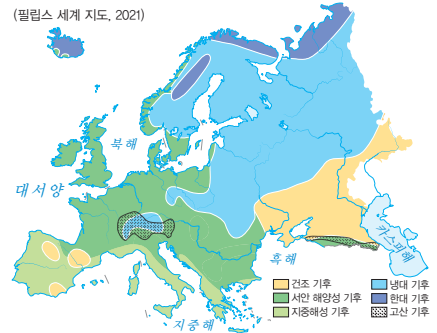
용어 풀단지

- ◆ **기온의 연교차** 일 년 중 월 평균 기온이 가장 높은 달의 평균 기온에서 월 평균 기온이 가장 낮은 달의 평균 기온을 뺀 값
- ◆ **난류** 적도 부근의 저위도 지역에서 고위도 지역으로 흐르는 따뜻한 해류
- ◆ **편서풍** 대기 대순환에 의해 위도 30~60°의 지역에서 서쪽에서 동쪽으로 부는 바람
- ◆ **백야 현상** 해가 지지 않아 밤에 어두워지지 않는 현상으로, 고위도 지역에서 나타남.

자료 풀단지

교과서 확인 : 동아, 미래엔, 비상, 아침나라, 천재
자료 3 유럽의 기후

(필립스 세계 지도, 2021)



대륙 서안에 있는 유럽은 비슷한 위도의 대륙 동안보다 바다의 영향을 많이 받아 여름과 겨울의 기온 차이가 작다. 서부 유럽에는 서안 해양성 기후, 남부 유럽에는 지중해성 기후, 북부와 동부 내륙에는 냉대 기후가 나타난다. 극지방 주변이나 아이슬란드에는 한대 기후가 나타난다.

교과서 확인 : 동아, 천재

자료 4 혼합 농업과 수목 농업




▲ 혼합 농업

▲ 수목 농업

서부 유럽은 과거 빙하의 영향으로 토양이 척박하여 작물 재배-목초 재배-휴경 순으로 토지를 이용하여 지력을 보호하였고 이때 재배된 목초를 이용하여 목축업이 발달하였다. 이렇게 곡물 재배와 목축업이 같이 이루어지는 농업을 혼합 농업이라고 한다. 남부 유럽의 지중해 연안은 여름철이 덥고 건조하기 때문에 일반적인 농업이 불가능하다. 이에 따라 덥고 건조한 날씨에 잘 견디는 올리브, 포도 등을 재배하는데, 이를 수목 농업이라고 한다.

자료 5 백야 현상



20시 21시 22시 23시 24시 1시 2시 3시 4시

고위도 지역의 여름철에 나타나는 하루 종일 해가 지지 않는 현상이다. 노르웨이, 러시아 등에서 관찰할 수 있다.

1 빈칸에 들어갈 알맞은 말을 쓰시오.

- (1) 유럽은 서쪽으로 대서양, 북쪽으로 북극해, 남쪽으로 (지중해)과/와 접하고 있다.
- (2) (피오르) 해안은 빙하의 침식 작용으로 형성된 골짜기가 바닷물에 잠기면서 형성된 것이다.
- (3) 서부 유럽의 교통이 편리한 대도시 주변에서는 우유, 치즈 등을 생산하는 (낙농업)이/가 발달해 있다.

2 ㉠, ㉡ 중 알맞은 것을 고르시오.

- (1) 유럽은 (㉠ 우랄, ㉡ 알프스)산맥을 기준으로 아시아와 경계를 이룬다.
- (2) 서부 유럽에서는 (㉠ 수목, ㉡ 혼합) 농업이 이루어진다.
- (3) (㉠ 러시아, ㉡ 이탈리아)는 동부 유럽의 대표적인 국가이다.

3 다음 설명이 맞으면 ○표, 틀리면 ×표를 하시오.

- (1) 유럽의 지형은 북부의 높고 험준한 산지, 중부의 평원, 남부의 낮은 산지로 이루어져 있다. (×)
- (2) 아이슬란드에서는 화산 지형과 빙하 지형을 모두 관찰할 수 있다. (○)

4 밑줄 친 곳을 바르게 고쳐 쓰시오.

- (1) 북부 유럽은 아름다운 해안과 함께 그리스·로마의 유적을 볼 수 있는 도시가 많다.
- (2) 지중해성 기후는 난류와 편서풍의 영향을 받아 비슷한 위도의 대륙 동안보다 기온의 연교차가 작다.
- (3) 백야 현상은 고위도 지역의 여름철에 나타나는 현상이다.

5 다음 설명에 해당하는 작물만을 <보기>에서 있는 대로 골라 기호를 쓰시오.

보기

㉠. 올리브 ㉡. 귀리 ㉢. 감자 ㉣. 포도

- (1) 지중해 연안에서는 여름철에 덥고 건조한 기후에 잘 견디는 작물을 재배한다. (㉠, ㉣)
- (2) 대서양 연안에서는 여름철에 척박한 토양과 서늘한 기후에 잘 적응한 작물을 재배한다. (㉡, ㉢)

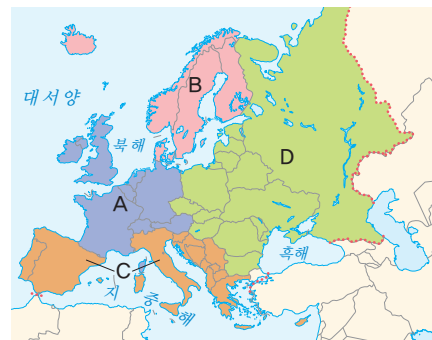
01 유럽의 위치와 특징에 대한 설명으로 옳은 것은?

- ① 우랄산맥의 동쪽에 있다.
- ② 서쪽에는 지중해가 있다.
- ③ 북반구의 저위도에 위치한다.
- ④ 유라시아 대륙의 서쪽에 위치한다.
- ⑤ 동쪽에는 아프리카, 남쪽에는 아시아가 있다.

정답 ④ | 유라시아 대륙의 서쪽에 위치한 유럽은 북쪽으로 북극해, 서쪽으로 대서양, 남쪽으로 지중해가 있으며 동쪽은 우랄산맥을 기준으로 아시아와 구분된다.

중요

02 지도는 유럽의 지역 구분을 나타낸 것이다. A~D에 대한 설명으로 옳은 것을 <보기>에서 고른 것은?



보기

- ㉠. A는 주로 서안 해양성 기후가 나타난다.
- ㉡. B에는 피오르 해안이 발달해 있다.
- ㉢. C에서는 오로라 현상을 관찰할 수 있다.
- ㉣. D는 A보다 겨울철 기온이 높다.

- ① ㉠, ㉡ ② ㉠, ㉢ ③ ㉡, ㉣
- ④ ㉡, ㉢ ⑤ ㉢, ㉣

정답 ① | A는 서부 유럽, B는 북부 유럽, C는 남부 유럽, D는 동부 유럽이다. 서부 유럽은 대서양에 접해 있어 연중 편서풍과 대서양의 영향으로 서안 해양성 기후가 나타난다. 북부 유럽에는 과거 빙하의 영향을 받아 형성된 피오르 해안이 발달하였다.

03 (가), (나)에 해당하는 국가로 옳은 것은?

(가)	<ul style="list-style-type: none"> • 북부 유럽에 있는 국가이다. • 빙하호가 많아 '호수의 나라'로 불린다. • 순록과 침엽수가 어우러진 '산타 마을'이 있다.
(나)	<ul style="list-style-type: none"> • 남부 유럽에 있는 국가이다. • 파르테논 신전 등 고대 유적이 많다. • 푸른 하늘과 지중해가 어우러진 '산토리니' 마을이 있다.

- | | | | |
|-------|-----|-------|------|
| (가) | (나) | (가) | (나) |
| ① 영국 | 그리스 | ② 영국 | 이탈리아 |
| ③ 스웨덴 | 프랑스 | ④ 프랑스 | 이탈리아 |
| ⑤ 핀란드 | 그리스 | | |

정답 ⑤ | (가)는 북부 유럽에 위치하며, 빙하호, 순록, 냉대 침엽수림 등이 특징인 핀란드이다. (나)는 남부 유럽에 위치하며, 파르테논 신전 등의 고대 유적과 산토리니 마을이 유명한 그리스이다.

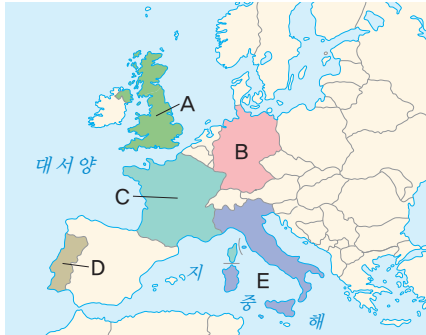
04 사진과 같은 경관을 볼 수 있는 국가를 지도의 A~E에서 고른 것은?



▲ 타워 브리지



▲ 빅 벤



- ① A ② B ③ C ④ D ⑤ E

정답 ① | 타워 브리지, 빅 벤은 영국의 수도인 런던의 랜드마크이다. A는 영국, B는 독일, C는 프랑스, D는 포르투갈, E는 이탈리아이다.

05 유럽의 지역 구분과 해당 도시를 연결한 것으로 옳은 것을 ㉠~㉤에서 고른 것은?

구분	지역 구분	도시
㉠	서부 유럽	런던, 프랑크푸르트, 파리
㉡	북부 유럽	모스크바, 바르샤바, 키이우
㉢	남부 유럽	바르셀로나, 리스본, 로마
㉣	동부 유럽	스톡홀름, 헬싱키, 레이카비크

- ① ㉠, ㉡ ② ㉠, ㉢ ③ ㉡, ㉣
 ④ ㉡, ㉣ ⑤ ㉢, ㉣

정답 ② | 영국의 런던, 독일의 프랑크푸르트, 프랑스의 파리는 서부 유럽에 위치한 도시이다. 에스파냐의 바르셀로나, 포르투갈의 리스본, 이탈리아의 로마는 남부 유럽에 위치한 도시이다.

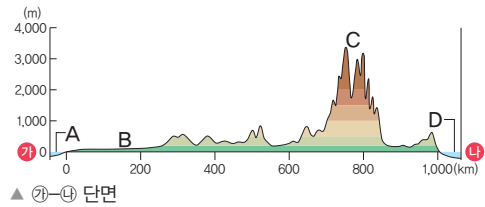
06 유럽의 지형에 대한 설명으로 옳은 것은?

- ① 중부에는 높고 험준한 산지가 솟아 있다.
 ② 남부에는 넓은 평원 위로 큰 강이 흐른다.
 ③ 스칸디나비아산맥은 침식을 받은 기간이 짧다.
 ④ 센강은 알프스 산지에서 시작하여 지중해로 흘러간다.
 ⑤ 북부에는 빙하의 침식으로 형성된 피오르 해안이 나타난다.

정답 ⑤ | 유럽의 북부에는 빙하의 침식으로 형성된 U자형의 골짜기가 바닷물에 잠겨 형성된 피오르 해안이 나타난다.

고난도
07

다음은 ㉠-㉣ 구간의 지형 단면을 나타낸 것이다. 이에 대한 설명으로 옳은 것을 <보기>에서 고른 것은?



▲ ㉠-㉣ 단면

보기

- ㉠. A는 지중해, D는 북해이다.
 ㉡. B는 오랜 기간 침식을 받아 형성된 평야이다.
 ㉢. C는 형성 시기가 오래되어 침식을 많이 받았다.
 ㉣. 라인강은 C에서 시작하여 A로 흘러간다.

- ① ㉠, ㉡ ② ㉠, ㉢ ③ ㉡, ㉣
 ④ ㉡, ㉣ ⑤ ㉢, ㉣

정답 ④ | ㉠-㉣ 구간은 북해에서 프랑스 평원을 지나 알프스산맥을 넘어 지중해로 이어지는 지형의 단면이다. 프랑스 평원은 오랜 기간 침식을 받아 형성된 평야이며, 라인강은 알프스산맥에서 시작하여 북해로 흘러간다.

정답 ③ | A는 피오르이다. 피오르는 빙하의 침식 작용으로 형성된 골짜기가 해수면 상승 이후 바닷물에 잠긴 긴 협만이다.

08 사진 속 A의 명칭과 형성 원인으로 옳은 것은?



- | 명칭 | 형성 원인 |
|-------|----------------|
| ① 빙하호 | 빙하의 침식, 해수면 상승 |
| ② 빙하호 | 빙하의 퇴적, 해수면 하강 |
| ③ 피오르 | 빙하의 침식, 해수면 상승 |
| ④ 피오르 | 하천의 침식, 해수면 상승 |
| ⑤ 피오르 | 하천의 침식, 해수면 하강 |

[09-10] 지도를 보고 물음에 답하십시오.



09 지도에 표시된 하천의 공통점으로 옳은 것을 <보기>에서 고른 것은?

보기

- ㄱ. 대서양으로 흘러간다.
- ㄴ. 알프스 산지에서 흐르기 시작한다.
- ㄷ. 내륙 수운으로 활발하게 이용된다.
- ㄹ. 빙하의 침식 작용으로 형성되었다.

- ① ㄱ, ㄴ ② ㄱ, ㄷ ③ ㄴ, ㄷ
- ④ ㄴ, ㄹ ⑤ ㄷ, ㄹ

정답 ③ | 지도에 표시된 세 하천은 라인강, 센강, 도나우강이다. 세 하천 모두 알프스 산지에서 시작되어 북해와 흑해로 흘러간다. 유럽의 평원은 연중 강수량이 고르기 때문에 하천의 유량 변화가 적어 내륙 수운이 발달하였다.

중요

10 지도의 A~C 산맥에 대한 설명으로 옳지 않은 것은?

- ① A의 대서양 해안에는 피오르가 발달해 있다.
- ② B의 동쪽은 아시아이다.
- ③ C의 최고봉은 일 년 내내 얼음으로 덮여 있다.
- ④ A는 C보다 형성 시기가 이르다.
- ⑤ C는 A보다 평균 해발 고도가 낮다.

정답 ⑥ | A는 스칸디나비아산맥, B는 우랄산맥, C는 알프스산맥이다. 알프스산맥은 비교적 형성 시기가 오래되지 않아 침식을 덜 받아 스칸디나비아산맥보다 평균 해발 고도가 높다.

정답 ⑤ | 아이슬란드는 고위도에 위치하기 때문에 겨울철에 오로라 현상을 잘 관찰할 수 있으며, 국토의 대부분이 빙하로 덮여 있다. 또한 화산 활동이 활발하여 온천, 흐르는 용암 등 다양한 화산 체험을 할 수 있다.

11 다음과 같은 체험 관광을 할 수 있는 국가로 옳은 것은?

- 빙하 탐험 하이킹
- 매혹적인 오로라 촬영하기
- 용암 위에서 구운 소시지 맛보기

- ① 덴마크 ② 스웨덴
- ③ 핀란드 ④ 노르웨이
- ⑤ 아이슬란드

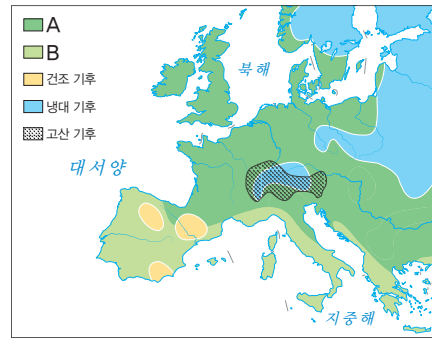
12 유럽의 기후에 대한 설명으로 옳은 것은?

- ① 냉대 기후는 나타나지 않는다.
- ② 비슷한 위도의 대륙 동안보다 겨울이 춥다.
- ③ 지중해 연안은 여름이 겨울보다 비가 적게 내린다.
- ④ 서부 유럽의 대서양 연안은 여름이 덥고 건조하다.
- ⑤ 동부 유럽은 내륙으로 갈수록 여름과 겨울의 기온 차가 작아진다.

정답 ③ | 유럽의 지중해 연안 지역은 지중해성 기후로, 여름은 고온 건조하고 겨울은 온난 습윤하다. 따라서 여름이 겨울보다 비가 적게 내린다.

중요

13 지도의 A, B 기후에 대한 설명으로 옳은 것을 <보기>에서 고른 것은?



보기

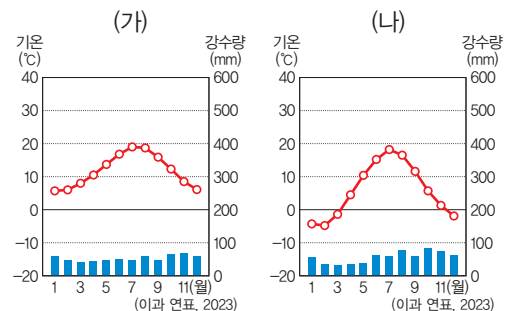
- ㄱ. A는 B보다 겨울이 따뜻하다.
- ㄴ. A는 B보다 온화 발달에 유리하다.
- ㄷ. B는 A보다 여름철 강수량이 많다.
- ㄹ. B는 A보다 올리브 생산량이 많다.

- ① ㄱ, ㄴ ② ㄱ, ㄷ ③ ㄴ, ㄷ
- ④ ㄴ, ㄹ ⑤ ㄷ, ㄹ

정답 ④ | A는 서안 해양성 기후, B는 지중해성 기후이다. 온하는 서안 해양성 기후 지역에 발달되어 있으며, 올리브는 지중해성 기후 지역에서 많이 재배된다.

중요

14 (가), (나) 기후 그래프가 나타나는 지역에 대한 설명으로 옳지 않은 것은?



- ① (가)는 일 년 내내 편서풍의 영향을 받는다.
- ② (가)의 대도시 인근에서는 낙농업이 이루어진다.
- ③ (나)에는 침엽수림이 넓게 분포한다.
- ④ (가)는 (나)보다 바다의 영향을 많이 받는다.
- ⑤ (나)는 (가)보다 남쪽에 위치한다.

정답 ⑤ | (가)는 서안 해양성 기후가 나타나는 런던의 기후 그래프이고, (나)는 냉대 기후가 나타나는 헬싱키의 기후 그래프이다. 겨울 기온이 높은 (가) 지역이 (나) 지역보다 남쪽에 위치한다.

15 사진은 유럽에서 나타나는 지역의 경관이다. (가) 지역과 비교한 (나) 지역의 상대적 특징으로 옳지 않은 것은?

(가) (나)



▲ 울창한 침엽수림



▲ 올리브 농장

- ① 저위도에 위치한다.
- ② 포도 생산량이 많다.
- ③ 겨울철 강수량이 많다.
- ④ 기온의 연교차가 크다.
- ⑤ 여름철 낮의 길이가 짧다.

정답 ④ | (가)는 냉대 기후 지역의 침엽수림, (나)는 지중해성 기후 지역의 올리브 농장이다. 기온의 연교차는 냉대 기후 지역이 지중해성 기후 지역보다 크다.


16 다음에서 설명하는 국가로 옳은 것은?

이 국가는 이베리아고원이 국토의 많은 부분을 차지하고 있다. 수도는 국토의 정중앙 내륙에 위치해 있으며, 지중해 연안에는 기후가 온화하고 경치가 아름다운 도시가 많아 많은 관광객이 찾는다. 특히 지중해 연안의 한 도시에는 천재 건축가 가우디가 직접 설계한 성당과 건축물들은 지금까지도 많은 이가 찾는 명물로 남아 있다.

- ① 프랑스
- ② 노르웨이
- ③ 에스파냐
- ④ 이탈리아
- ⑤ 포르투갈

정답 ③ | 에스파냐는 대서양과 지중해에 모두 접해 있으며, 국토의 중앙에는 고원이 펼쳐져 있다. 지중해 연안에 아름다운 휴양 도시가 많으며, 특히 바르셀로나에는 건축가 가우디가 설계한 다양한 건축물이 있다.

17 다음과 같은 자연현상을 관찰할 수 있는 국가를 <보기>에서 고른 것은?



보기

ㄱ. 그리스 ㄴ. 러시아 ㄷ. 스웨덴 ㄹ. 프랑스

- ① ㄱ, ㄴ
- ② ㄱ, ㄷ
- ③ ㄴ, ㄷ
- ④ ㄴ, ㄹ
- ⑤ ㄷ, ㄹ

정답 ③ | 하루 종일 해가 지지 않는 현상인 백야 현상을 나타낸 것이다. 백야 현상은 고위도 지역의 여름철에 주로 나타나는데, 유럽에서는 스웨덴, 노르웨이, 러시아 등에서 관찰할 수 있다.

서술형 문제

18 사진은 유럽의 센강에서 배가 운행되는 모습이다. 이를 보고 물음에 답하시오.



(1) 위 지역에서 나타나는 기후를 쓰시오.

서안 해양성 기후

(2) 위 지역에서 배가 운행될 수 있는 이유를 강수량 특징과 관련지어 서술하시오.

예시 답안 | 센강은 서안 해양성 기후 지역으로, 일 년 내내 강수량이 고르기 때문에 강의 유량 변화가 거의 없어 수운이 발달하였다.

구분	채점 기준
상	배가 운행될 수 있는 이유를 강수량 특징과 관련지어 정확히 서술한 경우
하	배가 운행될 수 있는 이유를 강수량 특징과 관련지어 서술하였으나 미흡한 경우

구분	채점 기준
상	공통적인 원인인 빙하의 침식과 (가), (나)의 형성 과정을 모두 정확히 서술한 경우
중	공통적인 원인인 빙하의 침식과 (가), (나)의 형성 과정 중 한 가지만 정확히 서술한 경우
하	공통적인 원인인 빙하의 침식만 서술한 경우

19 (가), (나) 지형의 형성 과정을 공통적인 원인을 포함하여 서술하시오.

(가)



▲ 송네 피오르

(나)



▲ 마터호른

예시 답안 | (가)는 빙하의 침식으로 형성된 골짜기에 바닷물이 들어와 좁은 만이 형성되었고, (나)는 빙하가 산지의 정상부를 침식하여 뾰족한 지형이 형성되었다.



2 유럽의 다양한 도시

1 다양한 기능과 특징을 가진 유럽의 도시

1. 세계 도시

- (1) 세계의 중심 도시 역할을 하며, 기업의 본사, 금융 기관 등이 모여 있음.
- (2) 사례: 런던(영국), 브뤼셀(벨기에), 파리(프랑스) 등 **자료 1**

세계 경제의 중심지 | 유럽연합 본부 | 패션과 음식, 예술의 중심지

2. 역사·문화 도시

역사 도시	<ul style="list-style-type: none"> • 긴 역사를 바탕으로 다양한 문화유산을 간직하고 있음. • 아테네(그리스), 로마(이탈리아), 프라하(체코) 등
문화 도시	<ul style="list-style-type: none"> • 음악, 미술, 건축, 축제, 영화제 등 다양한 문화적 자산 보유 • 빈(오스트리아), 바르셀로나(에스파냐), 베네치아(이탈리아) 등

3. 관광 도시 | 독특한 자연 경관을 관광 자원으로 활용함.

산지 지역	알프스 산지 관광 도시인 인터라켄과 체어마트(스위스) 등
해안 지역	지중해 연안의 휴양 도시인 니스(프랑스), 두브로브니크(크로아티아) 등
화산 지역	화산 분출 및 흐르는 용암, 온천 등이 있는 레이카비크(아이슬란드) 등

4. 산업 도시

산업 발달	<ul style="list-style-type: none"> • 제조업 발달 및 교역의 중심지 철도, 도로, 항공 교통이 발달하여 • 밀라노(이탈리아), 로테르담(네덜란드) 등 유럽의 관문으로 불려.
산업 구조 변화	<ul style="list-style-type: none"> • 광산업, 제조업 등 산업 쇠퇴 후 도시 재생을 통해 관광·서비스업 중심 도시로 변화 • 에센(독일), 맨체스터(영국), 빌바오(에스파냐) 등 자료 2
첨단 산업	<ul style="list-style-type: none"> • 고부가 가치의 첨단 산업 클러스터 형성 • 소피아 앙티폴리스(프랑스), 시스타 사이언스 시티(스웨덴), 오울루 테크노폴리스(핀란드) 등

2 기후위기에 대응한 지속가능한 도시

1. 기후위기에 대처하는 유럽의 노력

- (1) 기후위기에 대응하는 지속가능한 도시의 건설
- (2) 탄소중립을 목표로 하는 친환경 도시 조성
- (3) 주요 정책: 탄소 국경 조정 제도, 핏 포 55, 배출권 거래제 등

용어 풀단지

- ◆ **클러스터** 서로 관련 있는 기업과 연구소, 대학, 정부 기관 등이 가까이 위치하여 긴밀한 협력이 가능한 지역
- ◆ **탄소중립** 인간의 활동으로 발생하는 온실가스를 최대한 줄여 탄소의 배출량을 '0'으로 만드는 일
- ◆ **핏 포 55(Fit for 55)** 2030년까지 1990년 수준 대비 탄소 배출량을 55% 수준으로 줄인다는 목표를 실현하기 위한 방안을 담은 입법 패키지

자료 풀단지

교과서 확인: 동아, 미래엔

자료 1 다양한 기능을 가진 세계 도시 파리



▲ 센강이 흐르는 파리

센강은 파리의 중심부를 지나며, 하천 주변에는 파리의 랜드마크인 에펠탑, 루브르 박물관 등이 있다.



▲ 파리의 상업 중심지, 라데팡스

파리의 새로운 업무 중심지로, 첨단 업무·상업 기능 등이 밀집하여 있고, 자동차 도로는 광장 지하에 배치되어 있다.

교과서 확인: 동아, 비상

자료 2 빌바오의 도시 변화



▲ 1964년 네르비온강

네르비온강 주변에 공장이 발달하였다. 빌바오는 과거 철강 산업의 중심 도시였다.



▲ 현재 네르비온강

산업 쇠퇴 후 침체된 도시를 살리기 위해 구겐하임 미술관을 유치하고, 네르비온강 주변을 정비하는 도시 재생 사업을 추진하였다. 그 결과 빌바오는 문화 도시로 탈바꿈하여 많은 관광객이 찾는 도시가 되었다.

2. 지속가능한 도시를 만들기 위한 유럽의 노력

(1) 녹지 공간 확보, 신재생 에너지 증대, 자원 재활용, 대중교통 확충 등 다양한 친환경 정책 추진

(2) 친환경 정책을 펼치고 있는 유럽의 도시 **자료 3**

도시명	특징
코펜하겐 (덴마크)	<ul style="list-style-type: none"> 풍부한 바람을 활용하여 전력 생산 친환경 도시 내 교통 체계: 자전거 전용 도로 운영
프라이부르크 (독일)	<ul style="list-style-type: none"> 독일의 환경 수도로 불리며, 태양광 에너지 활용 자동차 진입 금지 거리 운영, 트램과 자전거 이용
말뫼 (스웨덴)	해상 풍력, 조력, 태양광 등 재생 에너지를 활용한 친환경 도시
밀라노 (이탈리아)	수직 정원 조성: 탄소 배출량 감축, 도시 기온 조절
암스테르담 (네덜란드)	<ul style="list-style-type: none"> 교통수단 공유, 자전거에 최적화된 도시 구조 플라스틱 제품 최소화, 도시 내 넓은 녹지 조성

용어 풀단지

- ▶ **트램** 도시철도의 한 종류로서 도로에 설치된 레일을 따라 운행되는 철도 차량이며, 도로에서 운행되기 때문에 자동차와 함께 도로를 공유함.
- ▶ **재생 에너지** 고갈되지 않고 지속해서 사용할 수 있는 에너지로, 태양광(열), 풍력, 수력, 지열, 해양 에너지 등이 해당함.
- ▶ **수직 정원** 건물의 옥상과 테라스를 이용해서 조성한 정원으로, 도시 내 녹지 공간을 확보하여 기온과 습도를 조절함.

자료 풀단지

교과서 확인: 동아, 아침나라, 천재

자료 3 친환경 정책을 펼치고 있는 유럽의 도시



▲ 유럽의 친환경 도시



▲ 스웨덴 말뫼의 재생 에너지 산업

조선 산업으로 번성하였던 스웨덴의 말뫼는 조선 산업이 쇠퇴하면서 도시 경쟁력을 강화하기 위해 대학을 설립하고 첨단 산업을 육성하였다. 또한 스웨덴 최초의 환경 친화 지구로 지정되었으며, 랜드마크인 터닝 토르소 건물은 모두 재생 에너지를 사용하는 친환경 건축물로 유명하다.

STEP 1

개념 IN

1 빈칸에 들어갈 알맞은 말을 쓰시오.

- 유럽에는 세계의 중심 도시 역할을 하는 세계 도시가 많은데, 대표적으로 영국의 (런던), 프랑스의 파리가 있다.
- 첨단 산업이 발달한 프랑스의 (소피아 앙티폴리스)에는 첨단 산업 클러스터가 형성되어 있다.
- 실질적인 이산화 탄소 배출량을 '0'으로 만드는 일을 (탄소중립) (이)라고 한다.

2 ㉠, ㉡ 중 알맞은 것을 고르시오.

- 유럽연합의 본부는 벨기에의 (㉠ 빌바오, ㉡ 브뤼셀)에 있다.
- 덴마크의 코펜하겐은 대서양으로부터 얻는 재생 에너지의 사용 비율이 높아 (㉠ 태양, ㉡ 바람)의 도시로 불린다.

3 다음 설명이 맞으면 ○표, 틀리면 ×표를 하시오.

- 스위스의 작은 도시 인터라켄은 웅장한 화산 지형을 배경으로 관광 산업이 발달하였다. (×)
- 프랑스의 니스는 지중해 연안에 위치한 아름다운 휴양 도시이다. (○)

4 다음 설명에 해당하는 도시를 <보기>에서 골라 기호를 쓰시오.

보기

ㄱ. 빈 ㄴ. 말뫼 ㄷ. 밀라노 ㄹ. 베네치아

- 도시에 수직 정원을 만들어 탄소 배출량을 감축시키기 위해 노력하고 있다. (ㄷ)
- 터닝 토르소라는 건축물이 있으며, 조선 산업의 쇠퇴 이후 친환경 도시로 탈바꿈하였다. (ㄴ)

01 유럽의 도시에 대한 설명으로 옳지 않은 것은?

- ① 도시 발달의 역사가 길다.
- ② 지중해 연안에는 관광 휴양 도시가 발달하였다.
- ③ 북부 유럽에는 고대 로마 시대의 유적을 가진 도시가 많다.
- ④ 산업 혁명 이후에 석탄 산지를 중심으로 도시가 발달하였다.
- ⑤ 산업이 쇠퇴한 도시는 도시 재생을 통해 관광 도시로 변화하였다.

정답 ③ | 고대 로마 시대의 유적은 과거 로마 제국의 영토였던 남부 유럽과 북부 아프리카 지역의 도시에 많이 남아 있다.

중요

02 다음에 제시된 지역들의 공통점으로 옳은 것은?

- 프랑스의 소피아 앙티폴리스
- 핀란드의 오울루 테크노폴리스
- 스웨덴의 시스타 사이언스 시티

- ① 세계의 중심 도시 역할을 하는 세계 도시이다.
- ② 특색 있는 자연환경을 바탕으로 관광 산업이 발달하였다.
- ③ 오래된 역사 유적과 다양한 문화를 바탕으로 성장하였다.
- ④ 도시 재생을 통해 서비스업 중심으로 산업이 변화하였다.
- ⑤ 첨단 산업 클러스터가 형성되어 고부가 가치 산업이 발달하였다.

정답 ⑤ | 소피아 앙티폴리스, 오울루 테크노폴리스, 시스타 사이언스 시티 등은 모두 고부가 가치의 첨단 산업이 발달한 지역으로, 이곳에는 첨단 산업 클러스터가 형성되어 있다.

03 다음은 (가), (나) 도시와 관련된 해시태그이다. (가), (나)에 해당하는 도시로 옳은 것은?

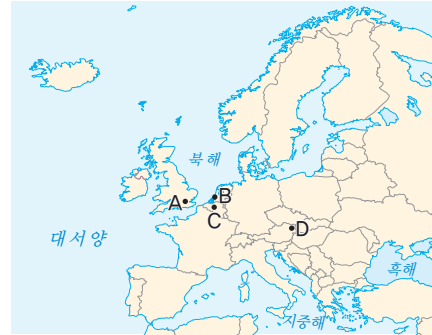
(가)	(나)
# 남부 유럽	# 북부 유럽
# 파르테논	# 활화산
# 지중해	# 빙하 지형
# 그리스	# 아이슬란드

- | (가) | (나) |
|---------|-------|
| ① 로마 | 헬싱키 |
| ② 로마 | 스톡홀름 |
| ③ 아테네 | 스톡홀름 |
| ④ 아테네 | 레이카비크 |
| ⑤ 바르셀로나 | 레이카비크 |

정답 ④ | (가)는 아테네, (나)는 레이카비크와 관련된 내용이다. 개념풀 중학 사회 ①

관단

04 지도의 A~D 도시에 대한 설명으로 옳은 것은? (단, A~D는 각각 빈, 런던, 브뤼셀, 로테르담 중 하나임.)




- ① A의 랜드마크로 에펠탑이 대표적이다.
- ② B에는 국제기구의 본부가 많이 있다.
- ③ C에는 유럽연합의 본부가 위치해 있다.
- ④ D에는 고부가 가치의 첨단 산업이 발달해 있다.
- ⑤ D는 A보다 기업의 본사 및 금융 기관이 많다.

정답 ③ | A는 영국의 런던, B는 네덜란드의 로테르담, C는 벨기에의 브뤼셀, D는 오스트리아의 빈이다. 브뤼셀에는 유럽연합의 본부가 있다.

정답 ② | 여름철 강수량은 서안 해양성 기후가 나타나는 로테르담이 지중해성 기후가 나타나는 니스보다 많다. 해수욕을 즐기는 사람은 지중해 연안의 휴양 도시인 니스가 로테르담보다 많다.

05 (가), (나) 도시에 대한 설명으로 옳은 것을 <보기>에서 고른 것은?



보기

ㄱ. (가)는 (나)보다 여름철 강수량이 많다.
 ㄴ. (가)는 남부 유럽, (나)는 서부 유럽에 속한다.
 ㄷ. (나)는 (가)보다 해수욕을 즐기는 사람이 많다.
 ㄹ. (나)는 (가)보다 수출입 상품의 처리량이 많다.

- ① ㄱ, ㄴ
- ② ㄱ, ㄷ
- ③ ㄴ, ㄹ
- ④ ㄴ, ㄹ
- ⑤ ㄷ, ㄹ

06 ㉠에 들어갈 도시로 옳은 것은?

(㉠)은/는 긴 역사를 바탕으로 다양한 문화유산을 간직하고 있는 도시이다. 원형 경기장인 콜로세움 등 역사 유적이 많아 세계적인 관광지로 유명하며, 가톨릭의 중심지인 '바티칸'이 시내에 있다.

- ① 빈 ② 로마
- ③ 리스본 ④ 아테네
- ⑤ 바르셀로나

정답 ② | 유럽의 대표적인 역사 도시로 콜로세움과 바티칸이 있는 도시는 이탈리아의 수도 로마이다.

07 유럽의 지속가능한 도시를 만들기 위한 노력으로 옳지 않은 것은?

- ① 친환경 도시를 조성하고 있다.
- ② 신재생 에너지 사용을 확대하고 있다.
- ③ 배출권 거래제를 도입하여 탄소 배출을 억제하고 있다.
- ④ 탄소 국경 조정 제도를 도입하여 탄소 배출이 많은 제품에 대해 비용을 부과하고 있다.
- ⑤ 지역 경제 활성화와 주민 생활 개선을 위해 석탄 산업이 다시 발달하고 있다.

정답 ⑤ | 유럽에서는 친환경 도시를 위해 화석 에너지 사용은 줄이고 신재생 에너지 사용은 늘리고 있다.

08 다음에서 설명하는 도시로 옳은 것은?

한때 조선 산업으로 번성하였던 이 도시는 조선소가 문을 닫으면서 쇠퇴하였으나 이후 도시 경쟁력을 강화하기 위해 첨단 산업을 육성하였다. 또한 친환경 정책을 추진하여 대표 건물인 '터닝 토크스'는 풍력, 태양열 등 건물 내부에서 사용하는 에너지를 모두 재생 에너지로만 충당하고 있다.

- ① 스웨덴의 말뫼
- ② 스위스의 제네바
- ③ 이탈리아의 밀라노
- ④ 네덜란드의 암스테르담
- ⑤ 에스파냐의 바르셀로나

정답 ① | 스웨덴의 말뫼는 한때 조선 공업으로 번성하였으나 산업이 쇠퇴한 후 도시 경쟁력을 강화하기 위해 첨단 산업을 육성하고 친환경 정책을 추진하였다.

고난도 09

사진은 유럽의 각 도시에서 에너지를 생산하는 모습이다. 이에 대한 설명으로 옳은 것을 <보기>에서 고른 것은?

(가)



▲ 코펜하겐 부근의 바다

(나)



▲ 프라이부르크

보기

- ㄱ. (가)는 지중해 연안에서 이루어진다.
- ㄴ. (나)는 독일의 수도이다.
- ㄷ. (나)는 (가)보다 낮에 전력을 생산하는 비중이 높다.
- ㄹ. (가)는 바람, (나)는 태양 에너지를 이용하여 전력을 생산한다.

- ① ㄱ, ㄴ ② ㄱ, ㄷ ③ ㄴ, ㄷ
- ④ ㄴ, ㄹ ⑤ ㄷ, ㄹ

정답 ⑤ | (가)는 풍력 발전, (나)는 태양광 발전이다. 태양 에너지를 이용하여 전력을 생산하는 태양광이 풍력보다 낮에 전력을 생산하는 비중이 높다. 풍력은 바람, 태양광은 햇빛을 이용하여 전력을 생산한다.

구분	채점 기준
상	빌바오의 도시 경관이 변화된 이유를 산업 구조 변화와 관련지어 정확히 서술한 경우
하	빌바오의 도시 경관이 변화된 이유를 산업 구조 변화와 관련지어 서술하였으나 미흡한 경우

서술형 문제

10 사진은 빌바오의 시기에 따른 도시 변화이다. 빌바오의 도시 경관이 변화된 이유를 산업 구조 변화와 관련지어 서술하시오.



▲ 1964년



▲ 현재

예시 답안 | 빌바오는 과거 철강 산업을 중심으로 도시가 발달하였으나 철강 산업의 국제 경쟁력이 떨어지면서 산업이 침체되었다. 산업 쇠퇴 후 침체된 도시를 살리기 위해 구겐하임 미술관을 유치하는 등 도시 재생 사업을 추진하여 현재는 수많은 관광객이 찾는 문화·예술 도시로 탈바꿈하였다.



3 유럽의 통합과 분리

1 유럽의 통합

1. 유럽연합의 결성 **자료 1**

배경	<ul style="list-style-type: none"> • 두 차례의 세계 대전 이후 경제 발전과 평화 기원 • 세계 시장에서 유럽의 경쟁력 확보
과정	<ul style="list-style-type: none"> • 유럽석탄철강공동체(ECSC, 1952년) 결성 • 유럽공동체(EC, 1967년): 경제 통합 • 유럽연합(EU, 1993년): 경제 및 정치 통합 지향 • 2000년대 동부 유럽 국가의 가입
현황	<ul style="list-style-type: none"> • 회원국: 2020년 영국의 탈퇴로 27개 회원국(2023년 기준) • 가입 희망국: 우크라이나, 튀르키예 등 • 본부: 벨기에의 수도 브뤼셀에 위치함.

2. 유럽의 통합에 따른 변화

- (1) 외교·안보·사법·행정 등 여러 분야에 걸쳐 협력, 공동 정책 추진
- (2) 회원국 간 노동력, 자본, 상품, 서비스의 자유로운 이동 보장
- (3) 공동 화폐인 **유로(Euro)**화 사용 유럽연합의 모든 국가가 유로화를 사용하는 것은 아니다.
- (4) **셴겐 조약 체결**: 입국 및 출국 수속 없이 자유롭게 국가를 이동하고, 관세를 내지 않고도 물건을 사고팔 수 있음. 유럽연합에 속하지 않지만, 이 조약을 체결해서 국가 간 이동이 자유로운 국가도 있음.
- (5) 통합에 따른 다양한 문제

경제적 문제 자료 2	<ul style="list-style-type: none"> • 동부 유럽과 서부 유럽 간의 경제적 격차 • 재정이 불안한 남부 유럽으로 인해 기존 가입국의 재정 부담 증가 • 기존 가입국으로 신규 가입국의 저임금 노동자 유입
문화적 문제	다양한 문화, 종교, 언어 등으로 인해 주민들 간의 갈등 발생

2 유럽의 분리 움직임

1. 영국의 유럽연합 탈퇴(브렉시트) **자료 3**

배경	<ul style="list-style-type: none"> • 유럽연합에 지불하는 분담금에 대한 부담이 큼. • 영국으로 유입되는 이민자 수 급증으로 자국민의 일자리 감소, 이주민과의 문화적 갈등 발생
과정	2016년 국민 투표 시행 → 유럽연합 탈퇴 결정
결과	<ul style="list-style-type: none"> • 2020년 유럽연합 공식 탈퇴 • 자국 내 변화: 노동력 부족, 유럽연합과 자유로운 무역 불가, 물가 상승, 런던의 위상 저하 등

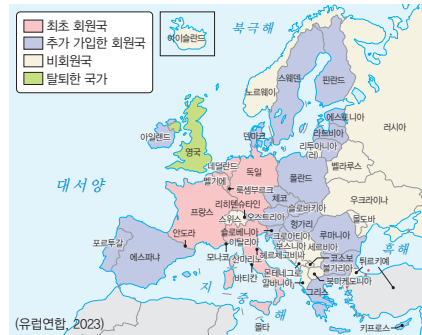
용어 낱단지

- ◆ **셴겐 조약** 유럽 각국이 국경 검문·검색 폐지, 여권 검사 면제 등을 통해 국가 간 통행에 제한이 없도록 한다는 내용의 조약
- ◆ **브렉시트(Brexit)** '영국(Britain)'과 '탈퇴(exit)'를 합친 단어로 영국의 유럽연합 탈퇴를 의미함.

자료 낱단지

교과서 확인: 동아, 미래엔, 비상, 아침나라, 천재

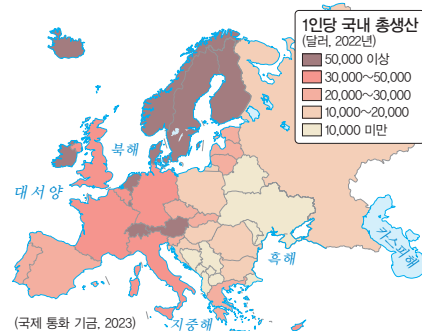
자료 1 유럽연합



유럽연합은 서부 유럽의 국가에서 공동체를 이루기 시작하면서 점차 주변으로 확대되었다. 그래서 최초 회원국은 대체로 서부 유럽 국가 중심이며, 이후 남부 유럽과 동부 유럽 국가들이 추가로 가입하였다.

교과서 확인: 미래엔

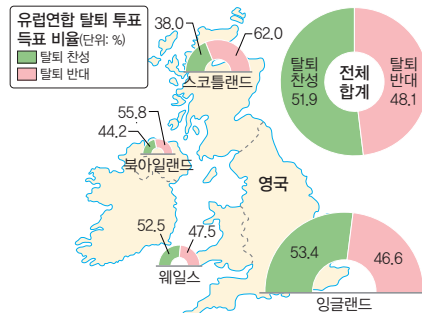
자료 2 유럽의 국가 간 경제적 격차



유럽은 국가 간 경제적 격차가 크다. 북서부 유럽 국가는 남부나 동부 유럽 국가보다 1인당 국내 총생산이 많으며, 사회 복지 제도가 잘 갖춰져 있다.

교과서 확인: 아침나라

자료 3 영국의 유럽연합 탈퇴 국민 투표 결과



※ 반원의 크기는 각 지역의 인구수에 비례함. (영국 선거 위원회, 2019)

영국의 유럽연합 탈퇴 찬성 비율은 50% 이상이지만 그렇게 높지 않다. 특히 스코틀랜드나 북아일랜드는 반대 비율이 훨씬 높았다.

2. 유럽 국가 내 분리·독립 움직임

(1) 배경: 민족, 종교, 언어, 전통문화 등 문화적 다양성과 서로 다른 역사적 배경으로 뚜렷한 지역 정체성을 가진 공동체가 분리·독립을 주장

(2) 주요 분리·독립 주장 지역 **자료 4**

스코틀랜드	<ul style="list-style-type: none"> 영국의 북부 지역 배경: 잉글랜드와 민족과 언어, 문화가 다름.
카탈루냐	<ul style="list-style-type: none"> 에스파냐의 북동부 지중해 연안 배경: 독자적인 언어, 민족 정체성 유지, 다른 지역보다 높은 경제 수준, 정부의 혜택 부족
플랑드르	<ul style="list-style-type: none"> 벨기에 북부 지역 배경: 네덜란드어(플랑드르)와 프랑스어(왈롱) 사용자 간 갈등 발생, 경제적 격차 발생
파다니아	<ul style="list-style-type: none"> 이탈리아 북부 지역 상업과 제조업 발달로 남부 지역과 소득 차 발생

(3) 주민들에 미치는 영향: 정치적 불안, 문화적 갈등, 지역 내 주민 간 갈등 발생

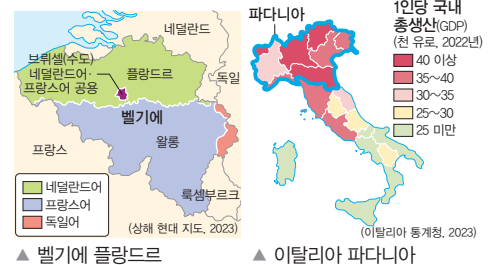
용어 풀단지

- 파다니아 이탈리아의 북부 평원 지대인 포강 계곡을 다르게 부르는 말로, 1990년대 초 이탈리아 북부 동맹이 북부 이탈리아의 분리를 주장하면서 사용하기 시작한 명칭

자료 풀단지

교과서 확인 : 동아, 미래엔, 아침나라

자료 4 유럽의 주요 분리·독립 주장 지역



벨기에는 네덜란드어를 주로 사용하며 비교적 경제 수준이 높은 플랑드르 지역과 프랑스어를 주로 사용하며 비교적 경제 수준이 낮은 왈롱 지역으로 나뉘어 있다. 두 지역의 언어 차이와 함께 경제적 차이가 커지면서 플랑드르 지역을 중심으로 분리·독립 움직임이 커지고 있다.

이탈리아의 파다니아 지역은 상공업이 발달하여 대체로 농업이 발달한 남부 지역보다 1인당 국내 총생산이 많다. 이러한 이유로 1990년대부터 파다니아 지역은 이탈리아로부터 분리·독립을 요구하고 있다.

STEP 1

개념 IN

1 빈칸에 들어갈 알맞은 말을 쓰시오.

- 유럽은 두 차례의 세계 대전 이후 정치적 결속과 안정을 위해 (**유럽연합**)을/를 결성하였다.
- (**셩겐**) 조약은 출입국 수속 없이 자유롭게 국가를 이동하고, 관세를 내지 않고도 물건을 거래할 수 있는 국제 조약이다.
- 영국 북부의 (**스코틀랜드**) 지역은 잉글랜드와 민족과 언어, 문화가 다르기 때문에 영국으로부터 분리·독립을 지속적으로 요구하고 있다.

2 ㉠, ㉡ 중 알맞은 것을 고르시오.

- 유럽연합은 2020년 (영국, 독일)의 탈퇴로 2023년 기준 27개 회원국으로 이루어져 있다.
- 독일은 에스파냐보다 유럽연합 가입 시기가 (늦다, 이른다) .
- 벨기에 북부의 플랑드르 지역 주민들은 대부분 (네덜란드어, 프랑스어)를 사용한다.

3 다음 설명이 맞으면 ○표, 틀리면 ×표를 하시오.

- 유럽연합 회원국은 안보를 제외한 외교·사법·행정 분야에서 공동 정책을 추진하고 있다. ()
- 영국과 프랑스는 공동 화폐로 유로(Euro)화를 사용하고 있다. ()
- 지중해 연안에 위치한 에스파냐의 카탈루냐 지역은 독자적인 언어 및 문화를 가지고 있어 분리·독립을 요구하고 있다. ()

4 다음 설명에 해당하는 국가를 <보기>에서 골라 기호를 쓰시오.

보기

ㄱ. 영국 ㄴ. 벨기에 ㄷ. 에스파냐 ㄹ. 이탈리아

- 수도에 유럽연합의 본부가 있으며, 지역 간 언어 갈등이 심하다. ()
- 상공업이 발달한 북부 지역이 농업 위주의 남부 지역보다 경제 수준이 높다. ()

01 유럽연합에 대한 설명으로 옳은 것을 <보기>에서 고른 것은?

보기

- ㄱ. 북부 유럽의 모든 국가가 가입되어 있다.
- ㄴ. 회원국의 주민들은 국가 간 이동이 자유롭다.
- ㄷ. 출범 이후 회원국 사이에 경제적 격차가 완화되었다.
- ㄹ. 서부 유럽의 회원국은 동부 유럽의 회원국보다 가입 시기가 이른다.

- ① ㄱ, ㄴ ② ㄱ, ㄷ ③ ㄴ, ㄷ
- ④ ㄴ, ㄹ ⑤ ㄷ, ㄹ

정답 ④ | 유럽연합 회원국은 주민들의 국가 간 이동과 취업이 자유롭다. 서부 유럽 국가를 중심으로 공동체를 이루기 시작하여 초기 회원국은 대체로 서부 유럽 국가 중심이며, 2000년대 이후에 동부 유럽의 회원국이 유럽연합에 가입하였다.

중요

02 밑줄 친 ㉠에 해당하는 국가로 옳은 것은?

유럽의 정치·경제적 통합을 실현하기 위해 1993년 유럽연합이 출범하였다. 회원국은 출범 당시 12개국이었지만 ㉠ 2023년 기준 총 27개국으로 확장되었다.

- ① 독일 ② 영국 ③ 러시아
- ④ 스위스 ⑤ 노르웨이

정답 ① | 유럽연합은 독일, 이탈리아, 프랑스, 벨기에 등 12개 회원국으로 출범하였지만 점차 가입국이 늘어나다가 2020년에 영국이 탈퇴하면서 2023년 기준 27개 회원국이 가입되어 있다.

정답 ④ | 이탈리아, 프랑스, 독일, 벨기에, 네덜란드 등은 유럽연합의 최초 12개의 회원국에 속한다. 이들 국가는 모두 유로(Euro)를 단일 화폐로 사용하는 유로존 국가이다.

03 다음에 제시된 국가들의 공통점으로 옳은 것을 <보기>에서 고른 것은?

- 독일 • 프랑스 • 벨기에
- 이탈리아 • 네덜란드

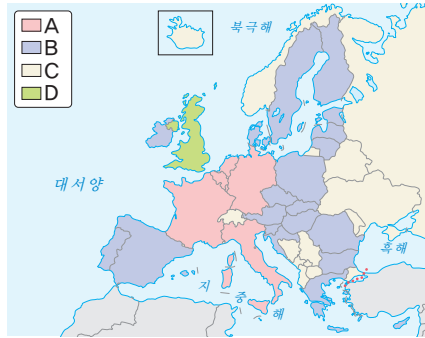
보기

- ㄱ. 서부 유럽에 속한다.
- ㄴ. 유럽연합의 최초 회원국이다.
- ㄷ. 최근 유럽연합으로부터 탈퇴하였다.
- ㄹ. 유로(Euro)라는 단일 화폐를 사용한다.

- ① ㄱ, ㄴ ② ㄱ, ㄷ ③ ㄴ, ㄷ
- ④ ㄴ, ㄹ ⑤ ㄷ, ㄹ

64 개념풀 중학 사회 ①

[04-05] 지도는 2023년 기준 유럽연합의 회원국 현황을 나타낸 것이다. 이를 보고 물음에 답하시오.



중요

04 A~C 국가군에 대한 설명으로 옳지 않은 것은?

- ① A의 어느 국가의 수도에는 유럽연합의 본부가 있다.
- ② A에 해당하는 국가는 유럽연합 깃발에 표시되어 있다.
- ③ A~B에 속한 국가의 수는 총 27개이다.
- ④ B는 A보다 유럽연합에 가입한 시기가 늦다.
- ⑤ B, C 간에는 노동력, 서비스 등의 이동이 자유롭다.

정답 ⑤ | A는 유럽연합 최초 회원국, B는 추가 가입한 회원국, C는 비회원국이다. 유럽연합은 회원국 간 노동력, 서비스 등의 이동이 자유롭지만 C는 유럽연합 회원국이 아니다. 쟁점 조약을 가입한 국가에 한해 이동이 자유롭다.

05 D 국가에 대한 설명으로 옳은 것은?

- ① 현재 유럽연합의 회원국이다.
- ② 센강이 수도의 중심을 지난다.
- ③ 여름철이 건조하여 수목 농업이 이루어진다.
- ④ 유로(Euro)화를 단일 화폐로 사용하고 있다.
- ⑤ 북부 지역은 독자적인 언어와 문화를 가지고 있어 분리·독립의 움직임이 있다.

정답 ⑤ | D 국가는 유럽연합에서 탈퇴한 영국이다. 영국의 북부에 위치한 스코틀랜드는 독자적인 언어와 문화를 가지고 있어 영국으로부터 분리·독립을 요구하고 있다.

06 다음에서 설명하는 국가로 옳은 것은?

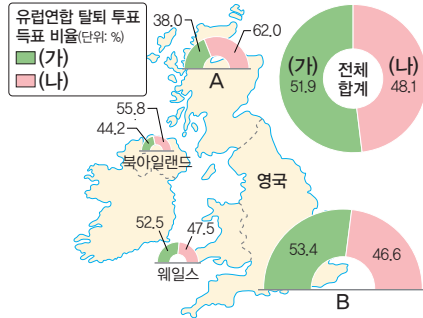
이 국가는 유럽연합에 가입하지는 않았지만 국경을 맞대고 있는 유럽연합 회원국인 프랑스, 이탈리아, 독일 등과의 이동이 자유롭다. 이는 이 국가가 쾨겐 조약에 가입해 있기 때문이다. 알프스 산지의 아름다운 풍경은 이 나라의 관광 산업 발달에 크게 기여하였다.

- ① 그리스 ② 스위스
- ③ 프랑스 ④ 노르웨이
- ⑤ 오스트리아

정답 ② | 스위스는 프랑스, 이탈리아, 독일 등으로 둘러싸인 내륙국으로 아름다운 알프스 산지를 배경으로 관광 산업이 발달하였다. 유럽연합 회원국은 아니지만 쾨겐 조약에 가입되어 있어 주변국과의 이동이 자유롭다.

★★★
과년도
07

다음은 영국의 유럽연합 탈퇴 국민 투표 결과를 나타낸 것이다. 이에 대한 설명으로 옳지 않은 것은?



※ 반원의 크기는 각 지역의 인구수에 비례함.

- ① 투표 결과 브렉시트(Brexit)가 결정되었다.
- ② A의 주민들은 영국으로부터 분리·독립을 요구하고 있다.
- ③ A의 주민들은 영국의 유럽연합 탈퇴에 대해 찬성하는 주민이 반대하는 주민보다 많았다.
- ④ B는 A보다 유럽연합 탈퇴에 반대하는 주민 수가 많다.
- ⑤ (가)는 유럽연합 탈퇴에 찬성, (나)는 반대하는 비율이다.

정답 ③ | A는 스코틀랜드, B는 잉글랜드이다. (가)는 유럽연합 탈퇴 찬성표 비율, (나)는 반대표 비율이다. 스코틀랜드는 주민의 약 62%가 유럽연합 탈퇴에 반대하였다.

중요
08

지도에 표시된 세 지역의 공통점으로 옳은 것을 <보기>에서 고른 것은?



보기

- ㄱ. 소속 국가의 수도가 위치한다.
- ㄴ. 국가 내 다른 지역보다 경제 수준이 높다.
- ㄷ. 종교 차이로 인해 주민 간 갈등이 발생한다.
- ㄹ. 소속 국가로부터 분리·독립을 요구하고 있다.

- ① ㄱ, ㄴ
- ② ㄱ, ㄷ
- ③ ㄴ, ㄷ
- ④ ㄴ, ㄹ
- ⑤ ㄷ, ㄹ

정답 ④ | 지도에 표시된 지역은 소속 국가로부터 분리·독립을 요구하는 지역으로, 자국 내 다른 지역보다 경제적 수준이 높다.

09 (가), (나)에 해당하는 지역을 지도의 A~C에서 고른 것은?

(가)	이 지역은 오랫동안 카탈루냐어를 사용하고 민족 정체성을 유지해 왔으며, 다른 지역보다 경제적으로 발전하여 소속 국가로부터 분리·독립을 요구하고 있다.
(나)	주민의 대다수가 네덜란드어를 사용하는 이 지역은 프랑스어를 사용하는 남부 지방에 비해 경제 수준이 높다. 두 지역 간에는 언어 차이로 갈등이 심하다.



- | | (가) | (나) |
|---|-----|-----|
| ① | A | B |
| ② | A | C |
| ③ | B | A |
| ④ | B | C |
| ⑤ | C | A |

정답 ③ | A는 벨기에의 플랑드르, B는 에스파냐의 카탈루냐, C는 이탈리아의 파다니아이다. (가)는 바르셀로나가 주도인 카탈루냐 지역이며, (나)는 주민의 대다수가 네덜란드어를 사용하는 플랑드르 지역이다.

구분	채점 기준
상	언어 갈등과 경제적 갈등을 모두 언급하여 분리·독립을 요구하는 이유를 정확히 서술한 경우
중	언어 갈등과 경제적 갈등 중 한 가지만 언급하여 분리·독립을 요구하는 이유를 서술한 경우
하	분리·독립을 요구하는 이유를 서술하였으나 미흡한 경우

서술형 문제

10 지도는 벨기에의 언어 지역 구분을 나타낸 것이다. 이를 보고 물음에 답하시오.



(1) A 지역의 명칭과 (가), (나) 언어를 쓰시오.

A: 플랑드르

(가): 네덜란드어

(나): 프랑스어

(2) A 지역이 벨기에로부터 분리·독립을 요구하는 이유를 서술하시오.

예시 답안 | 벨기에의 북부에 위치한 플랑드르는 대부분의 주민이 네덜란드어를 사용하고 고부가 가치 산업에 종사하여 경제적 수준이 높다. 이 지역 주민들은 프랑스어를 주로 사용하는 남부의 왈롱 주민과 언어 및 경제적 갈등이 심화되어 벨기에로부터 분리·독립을 요구하고 있다.

01 유럽에 대한 설명으로 옳은 것을 <보기>에서 고른 것은?

보기

- ㄱ. 중부에는 사막이 넓게 발달해 있다.
- ㄴ. 해발 고도가 가장 높은 산은 북부 유럽에 있다.
- ㄷ. 지중해를 사이에 두고 아프리카와 마주보고 있다.
- ㄹ. 서부 유럽에는 서안 해양성 기후, 남부 유럽에는 지중해성 기후가 주로 나타난다.

- ① ㄱ, ㄴ ② ㄱ, ㄷ ③ ㄴ, ㄷ
- ④ ㄴ, ㄹ ⑤ ㄷ, ㄹ

정답 ⑤ | 유럽과 아프리카 사이에는 지중해가 있다. 서부 유럽에는 일 년 내내 편서풍과 대서양의 영향을 받는 서안 해양성 기후가 나타나며, 남부 유럽에는 여름이 건조하고 겨울이 온난 습윤한 지중해성 기후가 나타난다.

02 유럽의 지역 구분에 대한 설명으로 옳지 않은 것은?

- ① 북부 유럽의 주요 국가로 아이슬란드, 노르웨이 등이 있다.
- ② 서부 유럽에 속한 영국은 세계의 근대화와 산업화를 주도하였다.
- ③ 동부 유럽에는 세계에서 면적이 가장 넓은 국가인 러시아가 있다.
- ④ 남부 유럽의 여러 국가는 지중해보다 대서양의 영향을 많이 받는다.
- ⑤ 북부 유럽은 동부 유럽보다 대체로 사회 복지 제도가 잘 갖춰져 있다.

정답 ④ | 남부 유럽의 국가는 지중해 연안에 위치하며 여름이 고온 건조한 지중해성 기후가 나타난다.

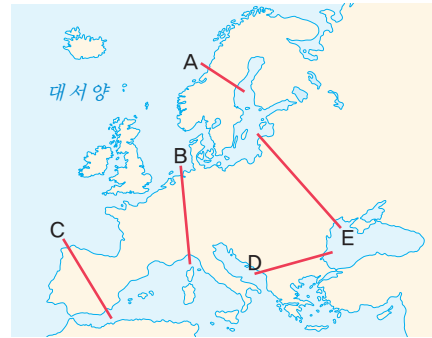
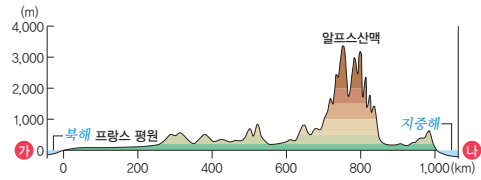
정답 ② | 우랄산맥은 유럽과 아시아를 구분하는 경계이며, 영국, 프랑스, 아일랜드 등 서부 유럽의 여러 국가는 대서양과 인접해 있다.

03 ㉠, ㉡에 들어갈 말로 옳은 것은?

유럽은 북반구의 중위도~고위도에 걸쳐 있으며, 동쪽으로 (㉠)산맥을 기준으로 아시아와 경계를 이룬다. 또한 유럽은 동쪽을 제외한 서쪽, 남쪽, 북쪽이 바다로 둘러싸여 있는데, 이중 서부 유럽은 대체로 (㉡)과/와 인접해 있다.

- | | | |
|---|--------|-----|
| | ㉠ | ㉡ |
| ① | 우랄 | 지중해 |
| ② | 우랄 | 대서양 |
| ③ | 알프스 | 지중해 |
| ④ | 알프스 | 대서양 |
| ⑤ | 스칸디나비아 | 대서양 |

04 다음과 같은 지형 형태의 단면이 나타나는 구간은 지도의 A~E에서 고른 것은?




- ① A ② B ③ C ④ D ⑤ E

정답 ② | 단면도는 북쪽의 북해에서 시작하여 프랑스 평원을 지나 알프스산맥을 넘어 지중해에 이른다. A~E 중 알프스산맥을 지나는 구간은 B이다.

정답 ⑤ | (가), (나) 모두 형성 과정에서 빙하의 침식 작용이 영향을 미쳤다. 피오르는 육지 쪽으로 깊숙이 들어온 바다의 일부이며, 마터호른은 내륙에 위치한 알프스산맥에 위치한다.

중요 05

(가), (나) 지형에 대한 설명으로 옳은 것을 <보기>에서 고른 것은?



보기

- ㄱ. (가)는 북부 유럽에서 볼 수 있다.
- ㄴ. (나)는 빙하 녹은 물이 고인 호수이다.
- ㄷ. (가), (나) 모두 빙하 침식의 영향을 받았다.
- ㄹ. (나)는 (가)보다 바다와의 평균 거리가 가깝다.

- ① ㄱ, ㄴ ② ㄱ, ㄷ ③ ㄴ, ㄷ
- ④ ㄴ, ㄹ ⑤ ㄷ, ㄹ

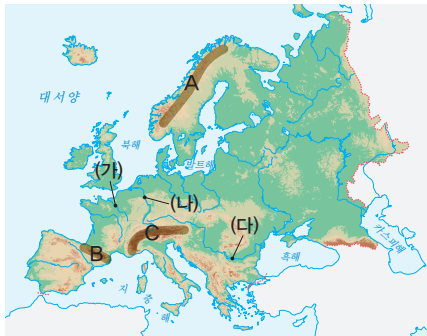
06 ㉠, ㉡에 들어갈 국가로 옳은 것은?

북부 유럽은 스칸디나비아반도의 국가와 섬나라로 구성된다. 스칸디나비아산맥은 오랜 기간 침식을 받아 비교적 낮고 완만하며, (㉠)에는 산맥을 따라 대서양 해안에 피오르가 발달해 있다. 한편, 섬나라인 (㉡)은/는 빙하 지형도 발달해 있지만 무엇보다도 활발한 화산 활동의 모습도 장관을 이룬다.

- ㉠ ㉡ ㉠ ㉡
- ① 핀란드 영국 ② 스웨덴 영국
- ③ 스웨덴 아이슬란드 ④ 노르웨이 영국
- ⑤ 노르웨이 아이슬란드

정답 ㉠ ㉡은 피오르가 발달한 노르웨이, ㉡은 화산 지형과 빙하 지형을 모두 볼 수 있는 아이슬란드이다.

[07-08] 지도를 보고 물음에 답하시오.



07 A~C 산맥에 대한 설명으로 옳은 것을 <보기>에서 고른 것은?

보기

- ㄱ. A와 C에는 빙하호가 있다.
 ㄴ. B를 경계로 북부 유럽과 서부 유럽으로 나뉜다.
 ㄷ. C에는 유럽에서 가장 높은 산이 있다.
 ㄹ. C는 A보다 침식을 받은 시기가 오래되었다.

- ① ㄱ, ㄴ ② ㄱ, ㄷ ③ ㄴ, ㄷ
- ④ ㄴ, ㄹ ⑤ ㄷ, ㄹ

정답 ㉡ A는 스칸디나비아산맥, B는 피레네산맥, C는 알프스산맥이다. 스칸디나비아산맥과 알프스산맥에는 빙하의 침식으로 형성된 빙하호가 많이 분포한다. 알프스산맥에는 유럽에서 가장 높은 산인 몽블랑산이 있다.

08 (가)~(다) 하천의 명칭으로 옳은 것은?

- (가) (나) (다)
- ① 센강 라인강 도나우강
- ② 센강 도나우강 라인강
- ③ 라인강 도나우강 센강
- ④ 도나우강 센강 라인강
- ⑤ 도나우강 라인강 센강

정답 ㉠ (가)는 프랑스 평원을 지나 북해로 흘러가는 센강, (나)는 독일을 지나 북해로 흘러가는 라인강, (다)는 동부 유럽을 지나 흑해로 흘러가는 도나우강이다.

중요

09 사진은 유럽에서 나타나는 농업 경관이다. (가), (나) 농업이 이루어지는 지역에 대한 설명으로 옳지 않은 것은?



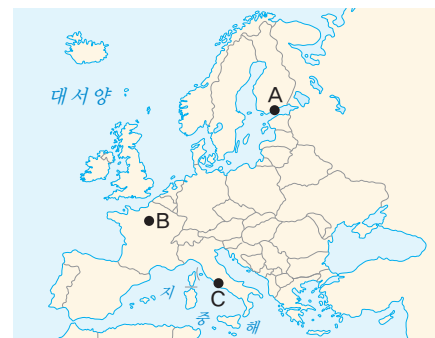
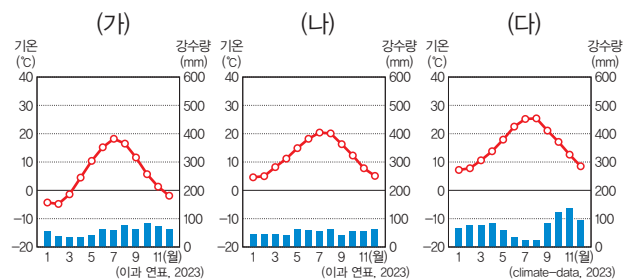
- ① (가) 지역에서는 대도시 주변에서 낙농업이 이루어진다.
- ② (나) 지역에서는 겨울철에 포도 생산이 활발하다.
- ③ (가) 지역은 (나) 지역보다 여름철 강수량이 많다.
- ④ (나) 지역은 (가) 지역보다 여름철 기온이 높다.
- ⑤ (가) 지역은 서부 유럽, (나) 지역은 남부 유럽에서 주로 관찰된다.

정답 ㉠ (가) 지역은 혼합 농업이 이루어지는 서부 유럽, (나) 지역은 수목 농업이 이루어지는 남부 유럽이다. 남부 유럽의 지중해성 기후 지역에서는 여름철에 포도, 올리브, 오렌지 등을 재배하는 수목 농업이 활발하다. 겨울철에는 따뜻한 기후 조건을 이용하여 곡물 농업이 이루어진다.

정답 ㉠ (가)는 겨울 기온이 낮은 냉대 기후, (나)는 겨울철 기온이 높고 일년 내내 강수량이 고른 서안 해양성 기후, (다)는 여름 기온이 높고 건조한 지중해성 기후이다. A는 냉대 기후가 나타나는 헬싱키, B는 서안 해양성 기후가 나타나는 파리, C는 지중해성 기후가 나타나는 로마이다.

중요

10 (가)~(다) 기후 그래프가 나타나는 지역을 지도의 A~C에서 고른 것은?



- (가) (나) (다)
- ① A B C ② A C B
- ③ B A C ④ B C A
- ⑤ C A B

중요

11 사진은 유럽에서 나타나는 풍경이다. (가), (나) 지역의 공통점으로 옳은 것을 <보기>에서 고른 것은?

(가)



▲ 맑은 날 공원에서 일광욕을 즐김

(나)



▲ 대도시 근교에서 발달한 낙농업

보기

- ㄱ. 여름철에는 수목 농업이 활발하게 이루어진다.
- ㄴ. 일 년 내내 대서양과 편서풍의 영향을 받는다.
- ㄷ. 전통 음식에 올리브, 토마토 등이 많이 활용된다.
- ㄹ. 비슷한 위도의 대륙 동안보다 기온의 연교차가 작다.

- ① ㄱ, ㄴ ② ㄱ, ㄷ ③ ㄴ, ㄷ
- ④ ㄴ, ㄹ ⑤ ㄷ, ㄹ

정답 ④ | (가), (나)는 모두 서부 유럽 지역에서 볼 수 있는 풍경이다. 서부 유럽은 일 년 내내 대서양과 편서풍의 영향을 받으며 서안 해양성 기후가 나타나 비슷한 위도의 대륙 동안보다 기온의 연교차가 작다.

12 다음에서 설명하는 자연현상으로 옳은 것은?

'천상의 커튼'으로 불리며, 태양풍이 지구의 상층 대기와 충돌하면서 아름다운 빛을 내는 현상이다.

- ① 태풍 ② 오로라 ③ 편서풍
- ④ 피오르 ⑤ 백야 현상

정답 ② | 오로라는 극지방과 가까운 고위도 지역에서 나타나는 대기가 다양한 색으로 빛나는 현상으로 주로 겨울철에 볼 수 있다.

13 유럽의 도시 유형과 해당 사례를 연결한 것으로 옳지 않은 것은?

도시 유형	사례
① 세계 도시	런던, 파리, 브뤼셀
② 휴양 도시	니스, 두브로브니크
③ 역사 도시	로마, 아테네, 프라하
④ 예술 도시	베네치아, 빈, 바르셀로나
⑤ 산업 도시	인터라켄, 체어마트, 레이카비크

정답 ⑥ | 인터라켄, 체어마트, 레이카비크 등은 독특한 자연환경으로 관광 개념을 중학 사회 ① 산업이 발달한 도시이다.

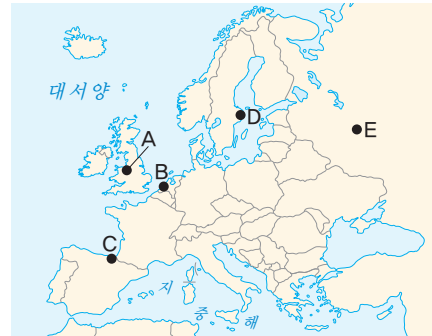
14 ㉠~㉤에 들어갈 국가(도시)로 옳은 것은?

영국의 수도인 (㉠)은/는 세계 시간의 기준이 되는 본초 자오선이 지난다. (㉡)의 수도인 파리는 2024년 하계 올림픽이 개최되었다. 이탈리아의 수도인 (㉢)과/와 (㉣)의 수도인 아테네는 역사 유적이 많아 해마다 많은 관광객이 찾는다.

- | | | | | |
|---|-----|-----|----|------|
| | ㉠ | ㉡ | ㉢ | ㉣ |
| ① | 런던 | 프랑스 | 로마 | 그리스 |
| ② | 런던 | 독일 | 로마 | 에스파냐 |
| ③ | 로마 | 프랑스 | 런던 | 그리스 |
| ④ | 로마 | 독일 | 런던 | 그리스 |
| ⑤ | 베를린 | 프랑스 | 로마 | 에스파냐 |

정답 ① | 영국의 수도는 런던이며, 프랑스의 수도는 파리이다. 이탈리아의 수도는 로마이며, 그리스의 수도는 아테네이다.

15 지도의 A~E 도시에 대한 설명으로 옳은 것은?



- ① A에는 유럽연합의 본부가 있다.
- ② B는 유럽의 관문 도시로, 교역의 중심지이다.
- ③ C는 역사 도시로, 과거 로마 제국의 유적이 많다.
- ④ D는 철강 산업이 쇠퇴한 후 도시 재생을 통해 관광 산업이 발달하였다.
- ⑤ E 주변에서는 화산 활동으로 마그마가 분출하는 모습을 관찰할 수 있다.

과년도

정답 ② | A는 맨체스터, B는 로테르담, C는 발비오, D는 스톡홀름, E는 모스크바이다. 로테르담은 항구 도시로, 유럽의 관문으로 불린다.

16 유럽의 친환경 도시 사례에 대한 설명으로 옳지 않은 것은?

- ① 코펜하겐에서는 자전거 전용 도로를 운영하고 있다.
- ② 밀라노에서는 수직 정원을 조성하여 도시 기온을 조절한다.
- ③ 암스테르담에서는 교통수단을 공유하고 넓은 녹지를 조성하였다.
- ④ 프라이부르크에서는 자동차 진입 금지 거리를 운영하고 자전거와 트램을 이용한다.
- ⑤ 제네바에서는 대서양으로부터 불어오는 바람을 이용하여 대부분의 전력을 생산한다.

정답 ⑤ | 제네바는 유럽 내륙에 위치한 스위스의 친환경 도시로, 대서양으로부터 불어오는 바람을 이용하여 전력을 생산하는 도시는 대서양 연안에 위치한 도시이다.

중요

17 다음은 어느 국가 공동체에서 사용하는 화폐이다. 이에 대한 설명으로 옳은 것을 <보기>에서 고른 것은?



보기

- ㄱ. 영국을 방문하면 자유롭게 사용할 수 있다.
- ㄴ. 유럽에서 사용하는 국가는 10개국 미만이다.
- ㄷ. 화폐에 국가마다 다양한 특성이 반영되어 있다.
- ㄹ. 이 화폐를 사용하는 국가나 지역을 유로존이라고 한다.

- ① ㄱ, ㄴ ② ㄱ, ㄷ ③ ㄴ, ㄷ
- ④ ㄴ, ㄹ ⑤ ㄷ, ㄹ

정답 ⑤ | 제시된 사진은 유럽연합에서 발행하는 공동 화폐인 유로(Euro)이다. 유로화는 유로존에서 공동 화폐로 사용 가능하며, 유로화 뒷면에는 국가마다 다양한 특성이 반영되어 있다.

18 다음에 제시된 지역들의 공통점으로 옳은 것은?

- 파다니아 • 플랑드르
- 카탈루냐 • 스코틀랜드

- ① 고부가 가치의 첨단 산업이 발달해 있다.
- ② 서로 다른 언어 사용으로 갈등이 발생하고 있다.
- ③ 종교적 이유로 주민들 간의 갈등이 발생하고 있다.
- ④ 주민들이 유럽연합으로부터 탈퇴를 요구하고 있다.
- ⑤ 유럽에서 분리·독립의 움직임이 나타나는 지역이다.

정답 ⑤ | 영국의 스코틀랜드, 벨기에의 플랑드르, 에스파냐의 카탈루냐, 이탈리아의 파다니아는 모두 소속 국가로부터 분리·독립을 요구하고 있는 지역이다.

관단

19 유럽의 통합과 분리에 대한 설명으로 옳지 않은 것은?

- ① 플랑드르는 파다니아보다 언어로 인한 갈등이 심하다.
- ② 유럽연합은 경제적·정치적 통합을 목표로 결성되었다.
- ③ 유럽연합 회원국 간에는 어느 나라에서든 취업이 가능하다.
- ④ 브렉시트 이후 영국으로 외국인 노동자의 유입이 크게 증가하였다.
- ⑤ 유럽에서 분리·독립을 주장하는 지역은 대체로 자국 내 다른 지역보다 경제적 수준이 높다.

정답 ④ | 브렉시트 이후 영국은 외국인 노동자가 유출되어 노동력 부족 현상이 나타났다.

서술형 문제

20 다음은 빈센트 반 고흐의 작품 「노란 하늘과 태양 아래의 올리브 나무」이다. 이를 보고 물음에 답하시오.



(1) 작품의 배경이 되는 지역의 기후를 쓰시오.

지중해성 기후

(2) 작품의 배경이 되는 지역의 여름철 농업 특징을 기후와 관련지어 서술하시오.

예시 답안 | 지중해성 기후 지역에서는 여름철이 덥고 건조하기 때문에 이러한 기후 조건에 적합한 올리브, 포도, 오렌지 등의 작물을 재배하는 수목 농업이 발달하였다.

구분	채점 기준
상	지중해성 기후와 관련지어 여름철 농업 특징을 정확히 서술한 경우
하	지중해성 기후와 관련지어 여름철 농업 특징을 서술하였으나 미흡한 경우

구분	채점 기준
상	유럽 통합의 문제점을 경제적, 문화적 측면에서 모두 정확히 서술한 경우
중	유럽 통합의 문제점을 경제적, 문화적 측면 중 한 가지만 정확히 서술한 경우
하	유럽 통합의 문제점을 경제적, 문화적 측면에서 서술하였으나 미흡한 경우

21 다음 글을 읽고 물음에 답하시오.

유럽연합은 두 차례의 세계 대전 이후 유럽의 경제 발전과 평화를 기원하고 정치적 결속을 다지기 위해 결성되었다. 1993년에 (㉠)개의 국가로 이루어진 유럽연합(EU)이 출범하였다. 이후 여러 국가가 추가로 가입하고 일부 국가가 탈퇴하면서 2023년 기준 회원국은 (㉡)개국이다. 유럽연합 회원국은 쉥겐 조약을 통해 어느 나라든 자유롭게 국경을 넘나들 수 있다. 최근 유럽의 통합으로 다양한 문제가 발생하고 있어 앞으로 풀어야 할 과제로 남아 있다.

(1) ㉠, ㉡에 들어갈 숫자를 쓰시오.


㉠ : 12 ㉡ : 27

(2) 밑줄 친 문제점을 경제적, 문화적 측면에서 서술하시오.

예시 답안 | 유럽의 통합으로 인해 경제적으로 서부 유럽 회원국과 동부 유럽 회원국 간의 경제적 격차가 커지게 되었다. 또한 노동력의 이동이 자유로워지면서 본국 주민과 이민자 간 문화적 차이로 갈등이 발생하고 있다.




4




아프리카

- 01 아프리카의 위치와 자연환경
- 02 아프리카의 문화와 지역 잠재력
- 03 아프리카의 지속가능한 발전을 위한 노력


배울 내용 확인하기

 세계에서 가장 넓은 사막은 무엇일까요?


북부 아프리카에 있는 사하라 사막이에요.

 아프리카의 인구는 어떤 잠재력이 있나요?

자연과 인간이 조화를 이루는 개발을 통해 미래 세대의 삶의 질을 보장하는 것이에요.

 지속가능한 발전은 무엇일까요?

인구 증가율이 높아 풍부한 노동력으로 인해 경제 성장의 잠재력이 커요.



아프리카의 위치와 자연환경

1 아프리카의 국가와 도시

1. 아프리카의 위치

- (1) 사하라 사막을 기준으로 북부 아프리카와 중·남부 아프리카로 구분함.
- (2) 지리적 범위
 - ① 서쪽으로 대서양, 동쪽으로 인도양과 접하고 있음.
 - ② 북동쪽으로 홍해를 사이에 두고 아시아와 이웃함.
 - ③ 북쪽으로 지중해를 사이에 두고 유럽과 마주함.

2. 아프리카의 국가와 주요 도시 **자료 1**

중·남부
아프리카

북부	<ul style="list-style-type: none"> • 이슬람교의 영향, 이집트 문명 유적지(나일강), 지중해 연안에 도시 발달 • 이집트(카이로), 모로코(카사블랑카), 알제리(알제) 등
서부	<ul style="list-style-type: none"> • 해안 지역은 자원 개발로 경제활동이 활발하며 도시 발달 • 나이지리아(라고스), 코트디부아르(아비장), 세네갈(다카르) 등
중앙	<ul style="list-style-type: none"> • 열대 우림 발달, 풍부한 생태계로 환경적 가치가 높음. • 콩고 민주 공화국(킨샤사), 카메룬(야운데) 등
동부	<ul style="list-style-type: none"> • 다양한 야생 동물의 서식지, 기온이 선선한 고원 지역의 인구 밀도가 높음. • 에티오피아(아디스아바바), 케냐(나이로비), 탄자니아(다르에살람), 소말리아(모가디슈) 등
남부	<ul style="list-style-type: none"> • 해안 지역은 온대 기후가 나타나 일찍부터 유럽인이 진출 • 남아프리카 공화국(요하네스버그, 케이프타운) 등

2 아프리카의 자연환경

1. 아프리카의 지형 **자료 2** **자료 3**

북부	<ul style="list-style-type: none"> • 아틀라스산맥: 북서부에 위치, 높고 험준함. • 사하라 사막: 세계에서 가장 넓은 사막 • 지중해 연안, 나일강 유역: 평야 발달
서부	<ul style="list-style-type: none"> • 기니만 연안: 평야 발달
중앙	<ul style="list-style-type: none"> • 콩고강 유역: 분지 발달
동부	<ul style="list-style-type: none"> • 아비시니아고원: 저지대보다 온화한 날씨로 인간 거주에 유리 • 동아프리카 지구대: 거대한 골짜기를 이루며, 주변에서 지진과 화산 활동이 일어남. • 킬리만자로산(아프리카 최고봉), 케냐산 등 화산 분포 • 빅토리아호, 탕가니카호 등 큰 호수 분포

에티오피아고원으로 불리기도 한다.

자료 골단지

교과서 확인 : 미래엔

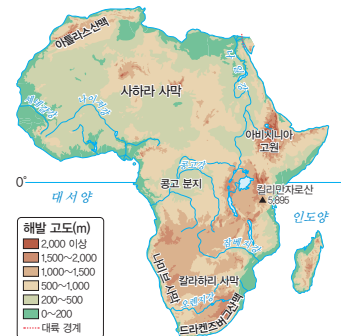
자료 1 아프리카의 지역 구분



아프리카는 사하라 사막을 기준으로 북부 아프리카와 중·남부 아프리카로 구분할 수 있다. 중·남부 아프리카는 자연환경과 문화적 경계에 따라 서부·중앙·동부·남부 아프리카로 구분하기도 한다.

교과서 확인 : 동아, 미래엔, 비상, 아침나라, 천재

자료 2 아프리카의 지형



아프리카의 북부에는 사하라 사막이 넓게 자리 잡고 있으며, 북서부에는 높고 험준한 아틀라스산맥이 뻗어 있다. 서부와 중앙에는 기니만 연안의 평야와 콩고강 유역의 분지, 동부와 남부에는 높은 고원이 분포한다.

교과서 확인 : 동아, 미래엔, 비상, 아침나라, 천재

자료 3 사하라 사막과 킬리만자로산



▲ 사하라 사막



▲ 킬리만자로산

북부 아프리카에 있는 사하라 사막은 세계에서 가장 넓은 사막이며, 모래 언덕이나 자갈, 바위 등으로 이루어져 있다. 케냐와 탄자니아의 국경 부근에 있는 킬리만자로산은 해발 고도가 약 5,895m로 아프리카에서 가장 높은 산이며, 화산 활동으로 형성되었다.

용어 골단지

- ◆ 연안 바다와 육지가 맞닿아 있어 서로 밀접한 영향을 주고받는 지역 또는 해역
- ◆ 고원 해발 고도가 높으면서 지대가 평탄한 지형
- ◆ 지구대 양쪽에서 당기는 힘에 의해 지각판이 벌어져 형성된 거대한 골짜기

남부	<ul style="list-style-type: none"> • 전체적으로 해발 고도가 높은 고원 지대 • 드라켄즈버그산맥: 남부에 위치, 비교적 낮고 완만함. • 잠베지강: 고원 지대에서 발원하며, 빅토리아 폭포가 있음. • 칼라하리 사막, 나미브 사막 등 사막 분포
----	---

나미비아와 함께 아프리카의 사막, 이구아수 폭포와 함께 세계 3대 폭포로 알려져 있어.

한류인 벵겔라 해류에 의해 형성된 사막이다.

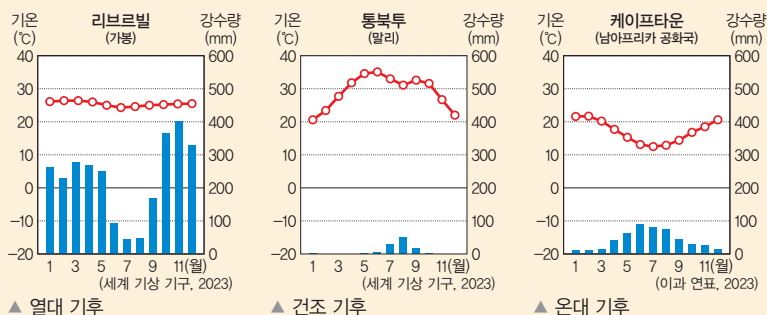
2. 아프리카의 기후 **자료 4**

(1) 아프리카의 기후 유형

적도를 중심으로 남북으로 갈수록 열대 기후, 건조 기후, 온대 기후가 대칭으로 나타난다.

열대 기후	<ul style="list-style-type: none"> • 분포: 적도 주변의 중앙아프리카 • 기후 특징: 연중 기온이 높고, 강수량이 많음. • 콩고 분지, 기니만 연안 등 일 년 내내 비가 많이 내리는 지역은 짙은 숲인 열대 우림이 나타난다. • 열대 우림 주변 등 우기와 건기가 뚜렷하게 구분되는 지역은 초원인 사바나가 나타난다. • 주민 생활 자료 5 열대 우림 기후 지역에서 많은 강수량으로 토양의 양분이 씻겨내려가 나타나는 농업 방식이다. <ul style="list-style-type: none"> - 이동식 화전 농업: 옥수수, 카사바 등 식량 작물 재배 - 플랜테이션: 커피, 카카오, 천연고무 등 상품 작물 재배 - 관광 산업: 사바나에서는 야생 동물을 관찰하는 사파리 관광 발달
건조 기후	<ul style="list-style-type: none"> • 분포: 사하라 사막과 그 주변 지역, 남서부 해안 지역 • 기후 특징: 대체로 연 강수량이 500mm 미만이며, 연 증발량이 연 강수량보다 많음. • 대체로 연 강수량이 250mm 미만인 지역은 사막이 발달 • 사막의 주변에는 짧은 풀이 자라는 초원이 발달 • 주민 생활 자료 6 <ul style="list-style-type: none"> - 대부분 온몸을 감싸는 긴 옷을 입음. - 창문이 작고 벽이 두꺼운 흙벽돌집을 지음. - 오아시스나 하천 주변에서 밀, 대추야자 등을 재배 - 물 부족 지역에서는 관개 농업이 이루어짐.
온대 기후	<ul style="list-style-type: none"> • 분포: 지중해 연안 지역, 남부 해안 지역 • 지중해 연안 지역은 일찍부터 유럽과 교류하며 도시가 발달 • 남부 해안 지역은 유럽인들의 이주가 활발하였음.
고산 기후	<ul style="list-style-type: none"> • 분포: 아비시니아고원 등 일부 산지 지역

(2) 아프리카의 기후 그래프



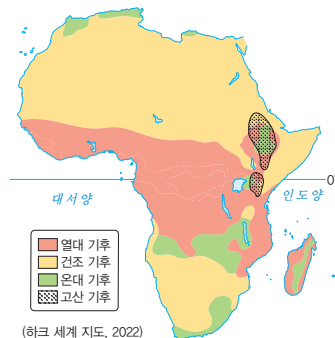
용어 풀단지

- ◆ 분지 산지로 둘러싸인 넓고 평탄한 지형
- ◆ 사바나 에스파냐어로 '나무가 없는 평야'라는 의미이며, 열대 기후 지역에서 우기와 건기가 뚜렷한 지역을 일컫는 말
- ◆ 사파리 아프리카의 스와힐리어로 '여행'을 의미하며, 현재에는 차를 타고 야생 동물을 직접 보는 행위를 말함.
- ◆ 오아시스 물이 거의 없는 사막에서 물이 공급되는 샘, 호수, 강 등을 총칭해서 일컫는 말

자료 풀단지

교과서 확인: 동아, 미래엔, 비상, 아침나라, 천재

자료 4 아프리카의 기후



아프리카는 적도를 중심으로 남북 대칭을 이루기 때문에 기후도 적도를 중심으로 남북으로 열대, 건조, 온대 기후가 대체로 대칭으로 나타난다. 대부분 건조 기후와 열대 기후이며, 온대 기후의 범위는 매우 좁다.

교과서 확인: 동아

자료 5 이동식 화전 농업과 플랜테이션



▲ 이동식 화전 농업



▲ 플랜테이션(천연고무)

이동식 화전 농업은 삼림을 불태워 경지를 조성한 후 농사를 짓다가 토양이 황폐해지면 다른 지역으로 이동하는 전통적인 농업 방식으로 주로 카사바, 감자, 옥수수 등 식량 작물을 재배한다. 플랜테이션은 선진국의 자본과 기술에 현지 주민의 저임금 노동력이 결합되어 커피, 카카오, 천연고무 등 상품 작물을 대규모로 재배하는 농업이다.

교과서 확인: 아침나라

자료 6 사막의 주민 생활



▲ 전통 의복



▲ 전통 가옥

사막 지역의 주민들은 강한 햇빛과 모래바람으로부터 몸을 보호하기 위해 온몸을 감싸는 옷을 입는다. 또한 집을 지을 때도 뜨거운 열기와 강한 모래바람을 막기 위해 창문을 작게 하고 벽이 두꺼운 집을 짓는다. 사막에는 나무가 거의 없기 때문에 가옥의 주재료로 주변에서 쉽게 구할 수 있는 흙과 풀을 이용하여 만든 흙벽돌을 활용한다.

1 빈칸에 들어갈 알맞은 말을 쓰시오.

- (1) 아프리카는 (사하라) 사막을 기준으로 북부 아프리카와 중·남부 아프리카로 구분한다.
- (2) 아프리카의 동부에는 아프리카 최고봉인 (킬리만자로) 산이 있다.
- (3) 아프리카의 사바나 초원에서는 차를 타고 야생 동물을 직접 관찰하는 (사파리) 관광이 발달하였다.

2 ㉠, ㉡ 중 알맞은 것을 고르시오.

- (1) 아프리카는 서쪽으로 (㉠ 대서양, ㉡ 인도양)이 접하고 있다.
- (2) 북부 아프리카의 (㉠ 나일강, ㉡ 콩고강) 유역에는 이집트 문명의 유적이 남아 있다.
- (3) 아프리카의 지중해 연안에는 (㉠ 온대, ㉡ 열대) 기후가 나타난다.

3 다음 설명이 맞으면 ○표, 틀리면 ×표를 하시오.

- (1) 아프리카의 남부 해안 지역은 열대 기후가 나타나며, 유럽인들의 이주가 활발하였다. (×)
- (2) 콩고 민주 공화국의 열대 우림은 풍부한 생태계로 인해 환경적 가치가 높다. (○)

4 밑줄 친 곳을 바르게 고쳐 쓰시오.

- (1) 아프리카의 지중해 연안 지역은 열대 기후가 나타나며, 일찍부터 유럽인이 진출하였다. 온대
- (2) 서부 아프리카에는 거대한 골짜기를 이루며, 주변에서 지진과 화산 활동이 일어나는 큰 규모의 지구대가 있다. 동부
- (3) 아프리카의 열대 우림은 우기와 건기가 뚜렷하며 다양한 야생 동물이 서식하고 있다. 사바나

5 다음 설명에 해당하는 작물만을 <보기>에서 있는 대로 골라 기호를 쓰시오.

보기

ㄱ. 카사바 ㄴ. 카카오 ㄷ. 옥수수 ㄹ. 커피

- (1) 전통적인 농업 방식인 이동식 화전 농업으로 재배한다. (ㄱ, ㄷ)
- (2) 선진국의 기술 및 자본과 현지 주민의 저임금 노동력이 결합되어 대규모로 재배한다. (ㄴ, ㄹ)

01 아프리카의 위치와 특징에 대한 설명으로 옳은 것은?

- ① 북쪽에는 대서양이 있다.
- ② 인도양을 사이에 두고 유럽과 마주한다.
- ③ 북부보다 남부에 사막이 넓게 분포한다.
- ④ 동부가 서부보다 평균 해발 고도가 높다.
- ⑤ 인구가 가장 많은 국가는 남부 아프리카에 있다.

정답 ④ | 아프리카의 동부는 높은 고원, 서부는 낮은 평야가 발달하였다. 따라서 동부가 서부보다 평균 해발 고도가 높다.

중요

02 아프리카의 지역 구분과 해당 국가를 연결한 것으로 옳지 않은 것은?

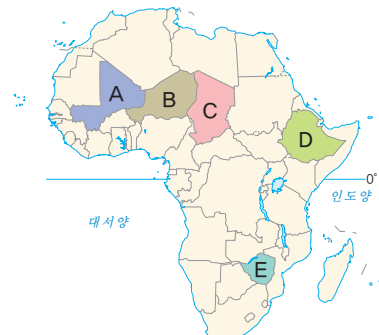
구분	지역	해당 국가
㉠	북부	케냐, 모잠비크, 마다가스카르
㉡	서부	나이지리아, 세네갈, 코트디부아르
㉢	중앙	콩고 민주 공화국, 가봉, 앙골라
㉣	동부	에티오피아, 소말리아, 탄자니아
㉤	남부	나미비아, 남아프리카 공화국, 보츠와나

- ① ㉠ ② ㉡ ③ ㉢ ④ ㉣ ⑤ ㉤

정답 ① | 케냐, 모잠비크, 마다가스카르 등은 동부 아프리카에 속하며, 북부 아프리카에는 이집트, 모로코, 알제리 등이 있다.

03 다음에서 설명하는 국가를 지도의 A~E에서 고른 것은?

국토의 대부분이 해발 고도가 높은 아비시니아고원에 위치하며, 커피의 원산지로서 알려져 있다. 수도는 아디스아바바이며, 인구가 1억 명이 넘는다. 내륙국으로 바다로 나가기 위해서는 주변 국가를 통과해야 한다.



- ① A ② B ③ C ④ D ⑤ E

정답 ④ | A는 말리, B는 니제르, C는 차드, D는 에티오피아, E는 짐바브웨이다. 국토의 대부분이 아비시니아고원에 위치하며, 커피의 원산지로서 알려져 있고 인구가 1억 명이 넘는 국가는 에티오피아이다.

04 (가), (나)에 해당하는 국가로 옳은 것은?

(가)	<ul style="list-style-type: none"> • 기니만 연안의 최대 국가이다. • 아부자는 수도, 라고스는 최대의 도시이다. • 아프리카에서 석유를 가장 많이 생산한다.
(나)	<ul style="list-style-type: none"> • 야생 동물을 가까이에서 직접 볼 수 있는 사파리 투어를 할 수 있다. • 나이로비가 수도이며, 해안에도 큰 도시가 발달하였다.

- | | | |
|---|--------|------|
| | (가) | (나) |
| ① | 가나 | 케냐 |
| ② | 가나 | 탄자니아 |
| ③ | 나이지리아 | 케냐 |
| ④ | 나이지리아 | 탄자니아 |
| ⑤ | 코트디부아르 | 탄자니아 |

정답 ③ | (가)는 기니만 연안에 위치하고 아프리카에서 인구가 가장 많은 나이지리아이다. (나)는 나이로비가 수도이며, 사바나가 나타나 다양한 야생 동물이 서식하는 동부 아프리카의 케냐이다.

중요

05 다음은 아프리카의 어느 국가를 소개하는 스무고개의 일부이다. 이 국가로 옳은 것은?

고개	질문	대답
첫 번째	7월이 겨울에 해당합니까?	예
두 번째	야생 고릴라가 서식합니까?	아니요
세 번째	온대 기후 지역이 있습니까?	예
네 번째	일찍부터 유럽인이 진출했습니까?	예
⋮	⋮	⋮

- | | |
|-------------|-------------|
| ① 이집트 | ② 탄자니아 |
| ③ 에티오피아 | ④ 콩고 민주 공화국 |
| ⑤ 남아프리카 공화국 | |

정답 ⑤ | 7월이 겨울에 해당하는 지역은 남반구이며, 아프리카에서 온대 기후는 지중해 연안, 남부 해안 지역에서 나타난다. 남반구에 있는 남부 해안 지역 중 일찍부터 유럽인이 진출한 국가는 남아프리카 공화국이다.

06 아프리카의 지형에 대한 설명으로 옳은 것을 <보기>에서 고른 것은?

보기

- ㄱ. 콩고강 유역은 분지가 발달하였다.
- ㄴ. 사하라 사막은 세계에서 가장 넓은 사막이다.
- ㄷ. 동아프리카 지구대는 적도와 평행하게 뻗어 있다.
- ㄹ. 남부의 산지는 북부의 산지보다 해발 고도가 높고 험준하다.

- | | | |
|--------|--------|--------|
| ① ㄱ, ㄴ | ② ㄱ, ㄷ | ③ ㄴ, ㄷ |
| ④ ㄴ, ㄹ | ⑤ ㄷ, ㄹ | |

정답 ① | 아프리카는 세계에서 가장 넓은 사막인 사하라 사막이 있으며, 아프리카에서 유량이 가장 많은 콩고강 유역에는 분지가 발달하였다.

고난도

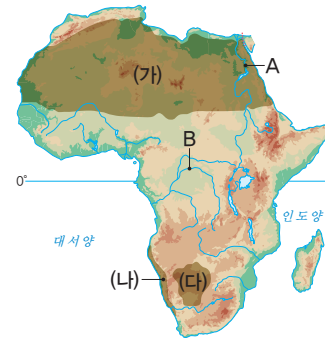
07 ㉠~㉣에 대한 설명으로 옳지 않은 것은?

아프리카의 북서부에는 해발 고도가 매우 높은 ㉠ **아틀라스산맥**이, 남부에는 상대적으로 해발 고도가 낮은 ㉡ **드라켄즈버그산맥**이 있다. 아프리카에서 가장 높은 산인 (㉢)은/는 사바나 초원 위에 우뚝 솟아 있으며, 아프리카에서 가장 긴 하천인 (㉣)은/는 사하라 사막을 통과하여 지중해로 흘러든다.

- ① ㉠은 ㉡보다 침식 작용을 덜 받았다.
- ② ㉢은 화산이다.
- ③ ㉢은 ㉠에 위치한다.
- ④ ㉣은 남쪽에서 북쪽으로 흐른다.
- ⑤ ㉢은 킬리만자로산, ㉣은 나일강이다.

정답 ③ | ㉢은 킬리만자로산, ㉣은 나일강이다. 킬리만자로산은 동부 아프리카의 고원 지대에 위치하며, 해발 고도 약 5,895m의 화산이다.

[08-09] 지도를 보고 물음에 답하십시오.



08 지도의 (가)~(다) 사막의 명칭으로 옳은 것은?

- | | | | |
|---|------|------|------|
| | (가) | (나) | (다) |
| ① | 나미브 | 사하라 | 칼라하리 |
| ② | 나미브 | 칼라하리 | 사하라 |
| ③ | 사하라 | 나미브 | 칼라하리 |
| ④ | 사하라 | 칼라하리 | 나미브 |
| ⑤ | 칼라하리 | 나미브 | 사하라 |

정답 ③ | (가)는 세계에서 가장 넓은 사막인 사하라 사막, (나)는 해안을 따라 길게 발달한 나미브 사막, (다)는 남부 아프리카의 고원에 발달한 칼라하리 사막이다.

09 A, B 하천에 대한 설명으로 옳은 것을 <보기>에서 고른 것은?


보기

- ㄱ. A는 콩고강, B는 나일강이다.
- ㄴ. A는 아프리카에서 가장 긴 하천이다.
- ㄷ. B는 A보다 하류에서의 강수량이 많다.
- ㄹ. B는 건조한 지역에서 발원하여 바다로 흘러간다.

- | | | |
|--------|--------|--------|
| ① ㄱ, ㄴ | ② ㄱ, ㄷ | ③ ㄴ, ㄷ |
| ④ ㄴ, ㄹ | ⑤ ㄷ, ㄹ | |

정답 ③ | A는 나일강, B는 콩고강이다. 나일강은 아프리카에서 가장 긴 하천이며, 나일강의 하류는 건조 기후, 콩고강의 하류는 열대 기후가 나타난다. 따라서 하류에서의 강수량은 콩고강이 나일강보다 많다.

10 (가), (나) 산맥에 대한 설명으로 옳은 것은?



▲ 아틀라스산맥 ▲ 드라켄즈버그산맥

- ① (가)는 (나)보다 평균 해발 고도가 낮다.
- ② (가)는 (나)보다 지각판의 경계와 가깝다.
- ③ (나)는 (가)보다 형성 시기가 늦다.
- ④ (가), (나) 모두 화산 활동이 활발하다.
- ⑤ (가)는 남부 아프리카, (나)는 북부 아프리카에 있다.

정답 ② | (가)는 북부 아프리카의 아틀라스산맥, (나)는 남부 아프리카의 드라켄즈버그산맥이다. 아틀라스산맥은 지각판의 경계와 가까워 해발 고도가 높다.

과년도
11

①에 들어갈 하천을 지도의 A~E에서 고른 것은?

아프리카의 빅토리아 폭포는 북아메리카의 나이아가라 폭포, 남아메리카의 이구아수 폭포와 함께 세계 3대 폭포로 알려져 있다. 이 폭포는 폭이 약 1.5km이며, 높이는 100m 이상으로, 짐바브웨와 잠비아의 국경을 따라 흐르는 (㉠)에 있다.



- ① A ② B ③ C ④ D ⑤ E

정답 ⑥ | ㉠은 잠베지강이다. 빅토리아 폭포는 고원 지대에서 발원하여 짐바브웨와 잠비아의 국경을 따라 흐르는 잠베지강의 상류에 위치한다. A는 나이저강, B는 나일강, C는 콩고강, D는 오렌지강, E는 잠베지강이다.

12 다음과 같은 체험 관광을 할 수 있는 국가로 옳은 것은?

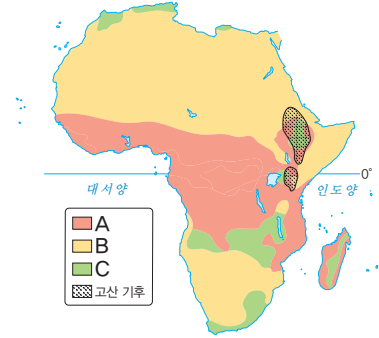
- 피라미드, 스피нк스 등 고대 유적 답사
- 나일강을 이용한 대규모 크루즈 여행 떠나기
- 사막에서 수많은 별이 쏟아지는 밤하늘 바라보기

- ① 말리 ② 모로코
- ③ 우간다 ④ 이집트
- ⑤ 나이지리아

정답 ④ | 피라미드, 스피нк스 등의 고대 인류 문명의 유적을 답사할 수 있고, 개념풀 중학 사회 ① 나일강이 흐르는 국가는 이집트이다.

중요

13 지도의 A~C 기후에 대한 설명으로 옳은 것을 <보기>에서 고른 것은?



보기

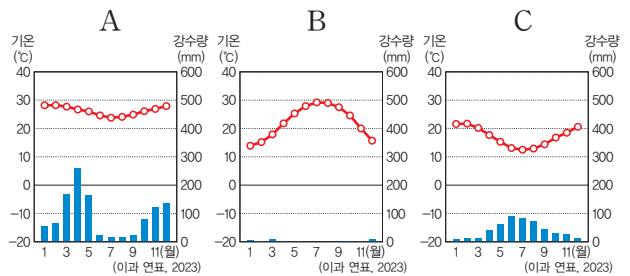

- ㄱ. A에서는 사막이 발달한다.
- ㄴ. B는 연 증발량이 연 강수량보다 많다.
- ㄷ. C의 전통 가옥은 대부분 흙벽돌로 짓는다.
- ㄹ. A는 B보다 연 강수량이 많다.

- ① ㄱ, ㄴ ② ㄱ, ㄷ ③ ㄴ, ㄷ
- ④ ㄴ, ㄹ ⑤ ㄷ, ㄹ

정답 ④ | A는 열대 기후, B는 건조 기후, C는 온대 기후이다. 열대 기후는 건조 기후보다 연 강수량이 많다. 건조 기후는 연 증발량이 연 강수량보다 많기 때문에 사막이나 짧은 풀이 자라는 초원이 발달한다.

중요

14 (가), (나) 경관이 나타나는 지역을 기후 그래프 A~C에서 고른 것은?



- (가) (나)
- ① A B ② A C
- ③ B A ④ B C
- ⑤ C A

정답 ① | (가)는 사바나 경관, (나)는 사막 경관이다. A는 우기와 건기가 뚜렷하게 구분되는 열대 기후가 나타나는 다르에스살람, B는 건조 기후가 나타나는 카이로, C는 온대 기후가 나타나는 케이프타운의 기후 그래프이다.

15 아프리카의 기후에 대한 설명으로 옳은 것은?

- ① 사바나는 주로 서부에 나타난다.
- ② 온대 기후가 건조 기후보다 넓게 분포한다.
- ③ 지중해 연안 지역에서는 7월에 비가 많이 내린다.
- ④ 적도를 중심으로 대체로 열대, 건조, 온대 기후가 대칭으로 나타난다.
- ⑤ 일 년 내내 비가 자주 내리는 지역에서는 동물들이 주기적으로 대이동을 한다.

정답 ④ | 적도가 대륙 중심을 지나는 아프리카는 적도에서 멀어질수록 기온이 낮아져 아프리카의 기후는 적도를 중심으로 대체로 열대, 건조, 온대 기후가 대칭으로 나타난다.

16 ㉠, ㉡에 대한 설명으로 옳지 않은 것은?

중앙아프리카는 적도가 지나가는 지역을 중심으로 열대 기후가 나타난다. 열대 기후 지역은 일 년 내내 기온이 높지만 강수량의 특징에 따라 (㉠) 지역과 (㉡) 지역으로 구분된다. 콩고 분지 등의 적도와 가까운 지역은 (㉠)이/가 나타나고, 그 주변 지역은 (㉡)이/가 넓게 나타난다.

- ① ㉠의 전통 농업으로 이동식 화전 농업이 있다.
- ② ㉡에서는 다양한 야생 동물을 볼 수 있다.
- ③ ㉡의 대표 사례로 세렝게티 국립 공원이 있다.
- ④ ㉠은 ㉡보다 연 강수량이 많다.
- ⑤ ㉡은 ㉠보다 대체로 숲이 울창하다.

정답 ⑤ | ㉠은 열대 우림, ㉡은 사바나이다. 열대 우림 지역은 일 년 내내 비가 많이 내리기 때문에 빽빽한 삼림이 형성되어 우기와 건기가 뚜렷한 사바나 지역보다 숲이 울창하다.

중요
17

(가), (나) 작물에 대한 설명으로 옳은 것을 <보기>에서 고른 것은?



보기

ㄱ. (가)는 이동식 화전 농업 방식으로 재배된다.
 ㄴ. (나)는 식량 작물이다.
 ㄷ. (가)는 (나)보다 재배 지역의 연 강수량이 많다.
 ㄹ. (가)는 건조 기후 지역, (나)는 열대 기후 지역에서 재배된다.

- ① ㄱ, ㄴ
- ② ㄱ, ㄷ
- ③ ㄴ, ㄷ
- ④ ㄴ, ㄹ
- ⑤ ㄷ, ㄹ

정답 ④ | (가)는 건조 기후 지역에서 주로 재배되는 대추야자, (나)는 열대 기후 지역에서 이동식 화전 농업으로 재배되는 식량 작물인 카사바이다.

서술형 문제

18 사진은 아프리카에서 나타나는 지역의 경관이다. (가), (나) 지역의 기후 특징을 서술하시오.




예시 답안 | (가) 지역은 건조 기후, (나) 지역은 우기와 건기가 뚜렷한 열대 기후가 나타난다. (가) 지역은 연 강수량보다 연 증발량이 많으며 사막이나 초원이 발달한다. (나) 지역은 연중 기온이 높고 우기와 건기가 뚜렷하여 사바나가 발달한다.

구분	채점 기준
상	건조 기후, 우기와 건기가 뚜렷한 열대 기후의 특징을 모두 정확히 서술한 경우
중	건조 기후, 우기와 건기가 뚜렷한 열대 기후의 특징 중 한 가지만 정확히 서술한 경우
하	건조 기후, 우기와 건기가 뚜렷한 열대 기후라고만 서술한 경우

구분	채점 기준
상	제시된 세 가지 조건을 모두 포함하여 정확히 서술한 경우
중	제시된 세 가지 조건 중 두 가지만 포함하여 정확히 서술한 경우
하	제시된 세 가지 조건 중 한 가지만 포함하여 정확히 서술한 경우

19 사진은 아프리카에서 나타나는 농업 경관이다. 이를 보고 물음에 답하시오.



(1) (가) 농업 방식의 명칭과 재배되는 주요 작물을 쓰시오.

이동식 화전 농업, 옥수수, 카사바 등

(2) (나) 농업의 특징을 다음에 제시된 내용을 포함하여 서술하시오.

농업 방식의 명칭, 노동력 제공 및 농업 경영 방식, 천연고무 외 재배 작물

예시 답안 | (나)는 플랜테이션으로, 선진국의 기술과 자본, 현지의 저임금 노동력을 활용하여 대규모로 이루어지는 상업적 농업이다. 이러한 방식으로 커피, 카카오, 바나나 등 상품 작물이 주로 재배된다.



아프리카의 문화와 지역 잠재력

1 아프리카의 문화 다양성

1. 아프리카의 다양한 문화

종교 자료 1	<ul style="list-style-type: none"> • 부족을 중심으로 토속 신앙이 발달하였고, 그리스교와 이슬람교가 유입됨. • 북부 아프리카: 서남아시아로부터 전파된 이슬람교가 일상생활에 영향 • 중·남부 아프리카: 유럽의 식민 지배로 전파된 그리스교와 토속 신앙이 주를 이룸.
전통 가옥	<ul style="list-style-type: none"> • 건조 기후 지역: 흙벽돌집, 두꺼운 벽, 작은 창문, 좁은 골목 • 고온 다습한 지역: 풀과 나무를 이용, 큰 창문, 급경사인 지붕
주식 재료 자료 2	<ul style="list-style-type: none"> • 덥고 비가 많이 내리는 지역: 쌀(마다가스카르 등) • 건조 기후 지역: 밀(오아시스나 하천 주변 등) <small>← 가나의 푸푸의 재료야.</small> • 쌀, 밀을 재배하기 어려운 지역: 옥수수, 카사바, 감자 <small>← 동부 아프리카의 우갈란의 재료야.</small>
전통 의복	<ul style="list-style-type: none"> • 건조 기후 지역: 강한 햇빛과 모래바람을 막기 위한 온몸을 감싸는 형태의 옷 • 중·남부 아프리카: 자연에서 얻을 수 있는 화려한 색상과 무늬의 옷 (마사이족, 줄루족 등)

2. 아프리카 예술 문화의 영향

음악	<ul style="list-style-type: none"> • 전통 음악의 다양한 분야로의 발전: 삼바(브라질), 재즈와 블루스(미국), 탱고(아르헨티나) 등 • 전통 악기의 전파: 켈레, 칼림바 등
미술	<ul style="list-style-type: none"> • 여러 부족의 독특한 문양과 그림, 가면 등: 유럽으로 전파되어 서양 미술에 영향, 입체주의(피카소), 팝 아트 등 현대 미술에 영향 • 아프리카의 화려한 색과 기하학적 모양: 패션 산업에 영향

2 아프리카의 지역 잠재력

1. 아프리카의 풍부한 자원 자료 3

지하 자원	<ul style="list-style-type: none"> • 에너지 자원: 석유(북부 아프리카, 기니만 연안), 석탄(남아프리카 공화국) • 광물 자원: 구리(잠비아, 콩고 민주 공화국), 코발트, 다이아몬드(보츠와나), 망간, 보크사이트, 금, 크롬 등 <small>← 세계 2위의 다이아몬드 생산국이야.</small>
상품 작물	<ul style="list-style-type: none"> • 커피: 동부 고원 지대(에티오피아, 케냐) • 카카오: 기니만 연안(코트디부아르, 가나)
신재생 에너지	<ul style="list-style-type: none"> • 수력: 나일강, 잠베지강, 콩고강, 빅토리아호, 탕가니카호 등 • 태양광(열), 풍력 등이 풍부함.

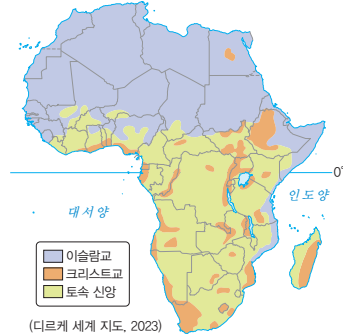
용어 꿀단지

- ◆ 토속 신앙 특정 지역에 예로부터 내려오는 무속 신앙으로, 지역마다 다양한 특성이 나타남.
- ◆ 입체주의 20세기 초반에 시작된 서양 미술 사조 갈래 중 하나로, 사물을 여러 방향에서 본 모습을 한 화폭 안에 담아낸 혁신적인 화법
- ◆ 팝 아트 추상 표현주의에 대한 반발로 등장한 장르로, 추상 표현주의가 추상적이고 개인적인 작품을 추구했다면, 팝 아트는 보다 객관적이며 보편성을 중요시함.

자료 꿀단지

교과서 확인: 동아 아침나라

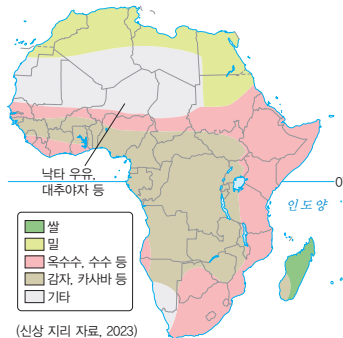
자료 1 아프리카의 종교 분포



아프리카의 종교는 기본적으로 부족마다 숭배하는 토속 신앙을 바탕으로 외부로부터 유입된 이슬람교와 그리스교가 영향을 미쳤다. 북부 아프리카는 이슬람교, 중·남부 아프리카는 그리스교를 믿는 주민이 많다.

교과서 확인: 동아 미래엔

자료 2 아프리카의 지역별 주요 주식의 재료



아프리카에서 가장 흔하게 먹는 주식은 카사바이며, 주로 중·남부 아프리카의 주민들이 주식으로 이용한다. 건조한 북부 아프리카는 밀과 대추야자, 동부 아프리카 일대는 옥수수, 마다가스카르에서는 쌀을 주식으로 이용한다.

교과서 확인: 미래엔 아침나라, 천재

자료 3 아프리카의 자원 분포



아프리카에는 자원이 풍부하다. 북부 아프리카와 기니만 연안에는 석유, 콩고 민주 공화국과 잠비아에는 구리, 남아프리카 공화국에는 크롬, 석탄 등이 풍부하다. 또한 동부 고원 지대에는 커피, 서부 기니만 연안에는 카카오가 플랜테이션 방식으로 재배되고 있다.

2. 아프리카의 발전 잠재력

인적 자원 자료 4 자료 5	<ul style="list-style-type: none"> 세계에서 가장 젊은 대륙: 아프리카의 인구는 2021년 기준 약 14억 명으로, 세계 인구의 약 17%를 차지, 30세 이하 인구 비율은 약 70% 세계에서 가장 빠른 인구 증가 대륙: 아프리카는 다른 대륙보다 합계 출산율이 높아 지속적인 인구 증가가 예상된다. 아시아 다음으로 면적이 넓고 인구가 많은 대륙: 경제 성장과 함께 구매력 증대로 이어짐.
첨단 산업	<ul style="list-style-type: none"> 이집트, 남아프리카 공화국, 케냐 등을 중심으로 첨단 산업 육성 2차 전지 제조에 필수적인 리튬이나 휴대 전화 생산에 필요한 콜탄 등 희토류 매장량과 생산량이 많음.
기타	<ul style="list-style-type: none"> 영화 산업: 세계에서 두 번째로 많은 영화를 생산하는 놀리우드(나이지리아)는 적은 예산으로 영화를 빠르게 제작 스포츠 산업: 마라톤(에티오피아, 케냐), 축구 등 많은 스포츠 스타 배출

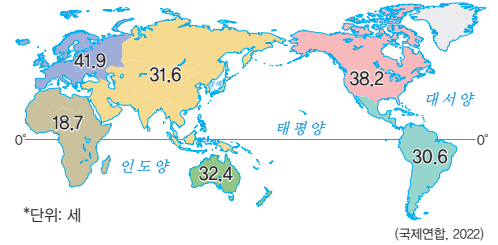
용어 끝단지

- 2차 전지 외부의 전기 에너지를 화학 에너지의 형태로 바꾸어 저장해 두었다가 필요할 때에 전기를 만들어 내는 장치이며, 여러 번 충전할 수 있다는 뜻으로 충전식 전지라고도 함.
- 희토류 '희귀한 흙'이란 의미로, '첨단 산업의 비타민', '녹색산업의 필수품'으로 불림.
- 놀리우드 나이지리아의 영화 산업을 이르는 말로, 나이지리아와 할리우드의 합성어
- 중위 연령 한 국가의 인구를 일렬로 세웠을 때, 한가운데 있는 사람의 나이

자료 끝단지

교과서 확인 : 미래엔, 천재

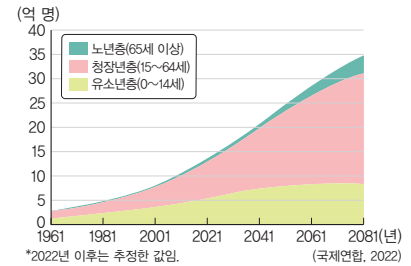
자료 4 세계의 대륙별 중위 연령



아프리카는 세계에서 가장 젊은 대륙으로, 중위 연령이 20세가 안 된다. 이는 미래에 세계 노동력 시장에서 주도적인 역할을 할 수 있음을 의미한다.

교과서 확인 : 미래엔

자료 5 아프리카의 총인구와 인구 구조의 변화



아프리카는 세계에서 가장 빠르게 인구가 증가하는 대륙으로, 그중 청장년층의 비율이 빠르게 증가하여 풍부한 노동력으로 인해 경제 성장의 잠재력이 매우 크다.

STEP 1

개념 IN

1 빈칸에 들어갈 알맞은 말을 쓰시오.

- 북부 아프리카는 서남아시아로부터 (**이슬람교**)이/가 전파되었고, 중·남부 아프리카는 유럽 식민 지배의 영향으로 크리스트교를 믿는 주민의 비율이 높다.
- (**남아프리카 공화국**)은/는 아프리카 최대의 석탄 생산국이다.

2 ㉠, ㉡ 중 알맞은 것을 고르시오.

- 가나의 전통 음식인 푸푸는 (㉠ 옥수수, ㉡ 카사바)가 주원료이다.
- 아프리카의 전통 음악의 영향으로 브라질의 (㉢ 삼바, ㉣ 탱고)가 탄생하였다.
- 아프리카는 세계에서 가장 젊은 대륙으로 30세 (㉤ 이하, ㉥ 이상) 인구 비율이 약 70%에 달한다.

3 다음 설명이 맞으면 ○표, 틀리면 ×표를 하시오.

- 북부 아프리카의 건조 기후 지역에서는 주로 나무를 이용하여 집을 짓는다. (×)
- 아프리카의 덥고 비가 많이 내리는 마다가스카르에서는 쌀을 주식으로 하는 주민이 많다. (○)
- 건조 기후 지역의 주민들은 자연에서 얻을 수 있는 화려한 색상과 무늬의 옷을 주로 입는다. (×)

4 다음 설명에 해당하는 국가를 <보기>에서 골라 기호를 쓰시오.

보기

ㄱ. 에티오피아 ㄴ. 코트디부아르 ㄷ. 보츠와나

- 아프리카에서 커피를 가장 많이 생산한다. (ㄱ)
- 아프리카에서 카카오를 가장 많이 생산한다. (ㄴ)
- 아프리카에서 다이아몬드를 가장 많이 생산한다. (ㄷ)

01 아프리카의 종교에 대한 설명으로 옳은 것을 <보기>에서 고른 것은?

보기

- ㄱ. 아프리카의 종교는 나일강을 기준으로 동서 지역이 서로 다르게 나타난다.
- ㄴ. 북부 아프리카 주민은 서남아시아로부터 전파된 이슬람교를 주로 믿는다.
- ㄷ. 남부 아프리카는 그리스도교를 믿는 주민이 이슬람교를 믿는 주민보다 많다.
- ㄹ. 북부 아프리카는 중·남부 아프리카보다 토속 신앙에 의존하는 주민의 비율이 높다.

- ① ㄱ, ㄴ ② ㄱ, ㄷ ③ ㄴ, ㄷ
- ④ ㄴ, ㄹ ⑤ ㄷ, ㄹ

정답 ③ | 아프리카의 종교는 오래전부터 부족마다 토속 신앙을 믿고 있었지만, 외부로부터 종교가 유입되면서 현재 북부 아프리카는 이슬람교, 중·남부 아프리카는 그리스도교를 믿는 주민의 비율이 높다.

중요

02 사진의 건축물에 대한 설명으로 옳지 않은 것은?



▲ 젠네 모스크

- ① 건축 재료는 흙벽돌이다.
- ② 토속 신앙을 믿는 부족의 종교 시설이다.
- ③ 건조 기후 지역에서 볼 수 있는 건물이다.
- ④ 이 건물에서 이슬람교 신자들이 예배한다.
- ⑤ 건물의 창문이 작은 이유는 사막의 모래바람을 막기 위함이다.

정답 ② | 제시된 사진은 북부 아프리카에 위치한 말리의 젠네 모스크이다. 젠네 모스크는 이슬람교 종교 시설로 이곳에서 이슬람교 신자들이 예배한다.

관단

03 (가), (나)에 해당하는 음식으로 옳은 것은?

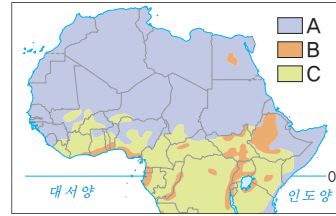
가나의 대표 음식 (가)	동부 아프리카의 대표 음식 (나)
아프리카에서 많이 재배되는 카사바를 삶은 후 빵아 만든 음식으로, 주로 국물 요리와 함께 먹는다.	옥수수가루에 뜨거운 물을 부어 반죽해 만든 음식으로, 채소, 육류 등을 곁들여 먹는다.

- | | | | |
|-------|-----|-------|-----|
| (가) | (나) | (가) | (나) |
| ① 타진 | 우갈리 | ② 푸푸 | 타진 |
| ③ 푸푸 | 우갈리 | ④ 우갈리 | 타진 |
| ⑤ 우갈리 | 푸푸 | | |

정답 ③ | (가)는 가나의 대표 음식으로 카사바를 이용하여 만든 푸푸이며, 개념풀 중학 사회 ① (나)는 동부 아프리카의 대표 음식으로 옥수수가루를 반죽해서 만든 우갈리이다.

중요

04 지도는 아프리카 일부의 종교 분포를 나타낸 것이다. A~C 종교에 대한 설명으로 옳은 것은? (단, A~C는 각각 이슬람교, 그리스도교, 토속 신앙 중 하나임.)



- ① A는 유럽의 식민 지배 영향으로 아프리카에 전파되었다.
- ② B를 믿는 사람들은 모스크에서 예배한다.
- ③ C는 서남아시아에서 전파되었다.
- ④ C는 A보다 아프리카 주민들이 믿기 시작한 시기가 이른다.
- ⑤ A는 그리스도교, B는 이슬람교, C는 토속 신앙이다.

정답 ④ | A는 이슬람교, B는 그리스도교, C는 토속 신앙이다. 토속 신앙은 아프리카의 여러 부족이 오래전부터 믿어왔던 전통 종교이다.

05 ㉠~㉣에 들어갈 작물로 옳은 것은?

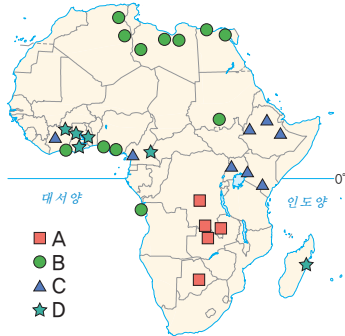
아프리카는 지역별로 다양한 주식 작물을 재배한다. 북부 아프리카의 건조 기후 지역에서는 물을 얻을 수 있는 오아시스나 하천 주변에서 (㉠)을/를 재배하고, 덥고 비가 자주 내리는 마다가스카르에서는 (㉡)을/를 재배한다. 한편, (㉢), (㉣)을/를 재배하기 어려운 지역에서는 (㉤)을/를 재배하는데, (㉤)은/는 여러해살이 작물로 고구마와 같이 생긴 덩이뿌리 식물이다.

- | | | |
|-------|-----|-----|
| ㉠ | ㉡ | ㉢ |
| ① 밀 | 쌀 | 카사바 |
| ② 밀 | 카사바 | 쌀 |
| ③ 쌀 | 밀 | 카사바 |
| ④ 쌀 | 카사바 | 밀 |
| ⑤ 카사바 | 쌀 | 밀 |

정답 ① | ㉠은 건조한 지역에서도 잘 자라는 밀, ㉡은 강수량이 많고 기온이 높은 지역에서 주로 재배되는 쌀, ㉢은 아프리카의 넓은 지역에서 전통적으로 재배되며 주식으로 이용되는 카사바이다.

중요

06 지도는 아프리카의 자원 분포를 나타낸 것이다. A~D 자원에 대한 설명으로 옳은 것은? (단, A~D는 각각 구리, 석유, 카카오, 커피 중 하나임.)



- ① A는 에너지 자원, B는 금속 자원이다.
- ② B의 최대 생산국은 북부 아프리카에 위치한다.
- ③ C는 D보다 재배 지역의 평균 해발 고도가 낮다.
- ④ C와 D는 모두 플랜테이션 방식으로 생산된다.
- ⑤ C는 카카오, D는 커피이다.

정답 ④ | A는 구리, B는 석유, C는 커피, D는 카카오이다. 커피와 카카오는 선진국의 자본과 기술, 현지 주민의 저임금 노동력을 이용하여 대규모로 이루어지는 플랜테이션 방식으로 재배된다.

07 아프리카의 자원에 대한 설명으로 옳지 않은 것은?

- ① 석유는 기니만 연안에서 많이 생산된다.
- ② 나일강, 콩고강 등은 수력 자원이 풍부하다.
- ③ 남아프리카 공화국은 아프리카에서 석탄의 최대 생산국이다.
- ④ 커피는 사바나 지역, 카카오는 열대 우림 지역에서 주로 재배된다.
- ⑤ 다이아몬드 세계 2위 생산국인 소말리아는 최근 경제가 빠르게 성장하고 있다.

정답 ⑤ | 다이아몬드의 세계 2위 생산국은 보츠와나이며, 보츠와나는 최근 다이아몬드 가공 및 수출을 통해 경제가 빠르게 성장하고 있다.

08 아프리카의 인구 특징에 대한 설명으로 옳은 것을 <보기>에서 고른 것은?

보기

- ㄱ. 세계에서 중위 연령이 가장 낮다.
- ㄴ. 세계에서 인구 증가율이 가장 높다.
- ㄷ. 아시아, 유럽 다음으로 인구가 많다.
- ㄹ. 청장년층 인구가 세계에서 가장 많다.

- ① ㄱ, ㄴ ② ㄱ, ㄷ ③ ㄴ, ㄷ
- ④ ㄴ, ㄹ ⑤ ㄷ, ㄹ

정답 ① | 아프리카는 세계에서 가장 젊은 대륙으로 합계 출산율이 가장 높기 때문에 인구 증가율이 가장 높고, 중위 연령이 가장 낮다.

중요

09 다음은 중위 연령 세계 상위 5개국과 하위 5개국을 나타낸 것이다. (가), (나) 국가에 대한 설명으로 옳은 것을 <보기>에서 고른 것은? (단, (가), (나)는 각각 니제르, 일본 중 하나임.)

상위 5개국	연령(세)	하위 5개국	연령(세)
모나코	54.5	(나)	14.5
(가)	48.7	중앙아프리카 공화국	14.7
이탈리아	47.3	차드	15.1
산마리노	46.8	말리	15.2
포르투갈	45.4	소말리아	15.2

보기

- ㄱ. (가)는 아프리카, (나)는 아시아에 위치한다.
- ㄴ. (가)는 (나)보다 합계 출산율이 높다.
- ㄷ. (가)는 (나)보다 1인당 국내 총생산이 많다.
- ㄹ. (나)는 (가)보다 유소년층 인구 비율이 높다.

- ① ㄱ, ㄴ ② ㄱ, ㄷ ③ ㄴ, ㄷ
- ④ ㄴ, ㄹ ⑤ ㄷ, ㄹ

정답 ⑤ | (가)는 저출산·고령화가 나타나는 일본이다. (나)는 합계 출산율이 높은 니제르이다. 1인당 국내 총생산은 선진국인 일본이 니제르보다 많다. 유소년층 인구 비율은 합계 출산율이 높은 니제르가 일본보다 높다.

구분	채점 기준
상	새로운 장르의 음악 사례를 두 가지 이상 정확히 서술한 경우
중	새로운 장르의 음악 사례를 한 가지만 정확히 서술한 경우
하	새로운 장르의 음악 사례를 서술하였으나 미흡한 경우

서술형 문제

10 다음 글을 읽고 밑줄 친 ㉠에 대해 두 가지 이상의 사례를 들어 서술하시오.

아프리카의 예술 문화는 다양한 부족 사회의 전통문화가 바탕이 되어 발달하였다. 부족 사회마다 독특하게 발달한 조각상, 가면 등은 유럽으로 전파되어 입체주의 등 서양 미술에 많은 영향을 주었다. 또한 아프리카 특유의 리듬을 가진 전통 음악은 다른 대륙의 음악과 융합하여 ㉠ 새로운 장르의 음악으로 발전하였다.

예시 답안 | 아프리카의 문화가 다른 대륙에 영향을 미쳐 다양한 장르의 새로운 문화로 발전하였는데, 음악 장르에서는 브라질의 삼바, 아르헨티나의 탱고, 미국의 재즈와 블루스가 대표적이다.



3 아프리카의 지속가능한 발전을 위한 노력

1 지속가능한 발전을 위한 아프리카의 노력

1. 지속가능한 발전과 아프리카

- (1) **지속가능한 발전**: 자연과 인간이 조화를 이루는 개발을 통해 현세대의 필요를 충족시키면서 미래 세대의 삶의 질을 보장하는 것
- (2) **국제연합(UN)의 지속가능발전 목표(SDGs)**



▲ 불평등, 지속가능하지 않은 소비 경향, 생태계와 환경 파괴 등에 대한 대책을 두루 다룬 17개 목표를 제시하여 기존의 여러 문제를 구조적으로 해결하려는 의지가 담김.

- (3) **아프리카의 현황과 과제**: 빈곤과 기아, 경제 양극화, 불안한 정세 등 지속가능한 발전을 위한 아프리카의 역할과 노력 강조

2. 지속가능한 발전을 위한 아프리카의 주체적 노력

아프리카 연합 (AU)	<ul style="list-style-type: none"> 아프리카의 사회적·경제적 통합을 촉진하기 위해 설립한 기구 본부는 에티오피아의 아디스아바바에 위치 지속가능한 발전을 위한 노력: 어젠다 2063 프로젝트 발표, 새로운 산업 육성, 정치 및 사회 환경 개선, 의무 교육 확대 등
아프리카대륙 자유무역지대 (AfCFTA)	<ul style="list-style-type: none"> 자원을 저렴하게 수출하고 공산품을 비싸게 수입하는 불공정 무역 구조 개선 아프리카 내 관세나 무역 규제 철폐 아프리카의 잠재력과 역량을 최대한 발휘하고자 만들.
다양한 노력	<ul style="list-style-type: none"> 기후변화 대응 <ul style="list-style-type: none"> 화석 연료 감축, 신재생 에너지 보급 확대 자료 3 그랜드 잉가 프로젝트(콩고 민주 공화국) 등 환경 문제 해결 <ul style="list-style-type: none"> 일회용 비닐봉지 사용 금지(케냐, 탄자니아 등) 일회용 플라스틱 사용 금지(르완다 등) 국립 공원 지정: 생태적으로 중요한 가치가 있는 지역(세렝게티 국립 공원 등) 농업 기술 혁신: 관개 기술 개발(잠비아 등) 아동의 교육 개선: 솔라 카우 프로젝트(케냐, 콩고 민주 공화국 등)

용어 풀단지

- ◆ **어젠다(Agenda)** 공공정책으로 전환되기 위하여 정책 결정자들의 관심을 불러일으키고 논의될 수 있는 상태에 있는 쟁점(이슈)
- ◆ **솔라 카우(Solar Cow)** 태양광 충전 시스템인 솔라 카우를 설치하고 아이들에게 유유병 모양의 보조 배터리 '솔라 밀크'를 제공하여 학교에서 수업하는 동안 충전을 할 수 있도록 하는 시스템

자료 풀단지

교과서 확인: 동아, 미래엔, 비상, 아침나라, 천재
자료 1 아프리카연합(AU)



아프리카연합의 기는 아프리카의 밝은 미래를 상징한다. 빛이 초록색 바탕의 아프리카 대륙을 비추고 있으며, 그 주변에 55개의 별이 원형으로 연결되어 있다. 55개의 별은 아프리카연합 회원국 수를 의미하며, 본부는 에티오피아의 수도 아디스아바바에 있다.

교과서 확인: 미래엔, 비상

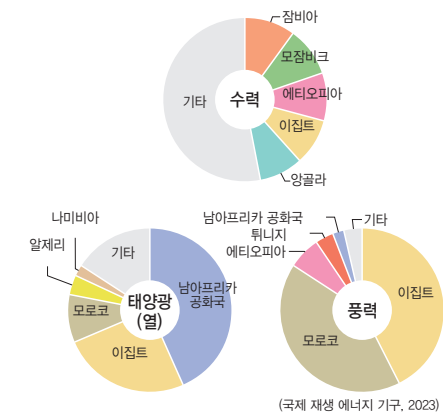
자료 2 어젠다 2063 프로젝트



세계화, 정보 통신 기술의 발달과 같은 전 세계적인 흐름에 맞춰 2013년부터 2063년까지 아프리카를 글로벌 경쟁력을 갖춘 지역으로 만들기 위한 계획이 담겨 있다.

교과서 확인: 동아

자료 3 아프리카의 신재생 에너지



아프리카는 신재생 에너지 자원이 풍부하다. 수력은 나일강, 콩고강, 잠베지강 등이 흐르는 잠비아, 이집트 등에서 많이 생산된다. 태양광(열)은 햇빛이 강한 사막이 넓은 이집트, 남아프리카 공화국 등에서 많이 생산된다. 풍력은 사막이나 대서양에서 불어오는 바람을 이용하기 때문에 이집트, 모로코 등에서 많이 생산된다.

2 아프리카의 지속가능한 발전을 위한 협력

세계적 차원의 협력	<ul style="list-style-type: none"> • 세계의 다양한 주체들이 아프리카의 지속가능한 발전을 위해 노력 <ul style="list-style-type: none"> - 국제연합(UN): 식량 보급, 난민 지원 등 - 비정부 기구(NGO): 빈곤 퇴치, 환경 보호 운동, 저개발 지역의료 지원 서비스 등 예 옥스팜, 그린피스, 국경 없는 의사회 등 • 공적 개발 원조: 교육, 의료, 사회 기반 시설 등 다양한 분야에서 원조가 이루어짐. • 식량 작물 재배 기술 전수: 직접적인 곡물 원조뿐만 아니라 작물 재배 기술 전수를 통해 기아 문제 해결을 도움. <ul style="list-style-type: none"> 예 K-라이스벨트 자료 4 • 그레이트 그린 월 프로젝트: 사막화를 막기 위한 대규모 숲 조성 사업 자료 5
세계시민 참여	<ul style="list-style-type: none"> • 아프리카를 교류와 협력의 동반자로 인식하고, 다양한 문제 해결을 위해 세계시민으로서 노력 • 지역 주민에게 정당한 대가가 돌아가는 공정 무역 제품 이용 • 아프리카의 생태계를 보호하는 공정 여행 참여 • 지역 주민들의 더 나은 생활을 위한 적정 기술 개발 노력

용어 풀단지

- ◆ **공적 개발 원조** 선진국이 개발 도상국에 자금을 지원해 주는 제도
- ◆ **공정 여행** 여행지의 환경을 보호하고, 여행 지역에서 쓴 돈이 그 지역의 경제에 도움이 되며, 여행자와 지역 주민이 서로 문화를 존중하는 여행
- ◆ **적정 기술** 한 지역 사회의 문제를 사회적, 문화적, 환경적 조건을 고려하여 해결하는 기술로, 인간의 삶의 질을 향상시키는 데 목적이 있음.

자료 풀단지

교과서 확인: 미래엔, 아침나라, 천재

자료 4 K-라이스벨트



아프리카의 쌀 생산량을 늘리기 위해 우리나라가 세네갈, 카메룬 등 아프리카 8개 국가에 쌀 품종 개발 및 보급, 기술 교육 등을 지원하는 사업이다. 우리나라는 이 지역에 농업 기술과 쌀 종자를 전파하고 있다.

교과서 확인: 동아, 미래엔, 아침나라

자료 5 그레이트 그린 월(Great Green Wall) 프로젝트



사헬 지대의 사막화를 막기 위해 사하라 사막 남쪽 가장자리에 대규모 숲을 조성하는 사업이다. 아프리카 20개국이 참여하고 있으며 세계은행 등 수많은 기관에서 자금을 지원하고 있다.

STEP 1

개념 IN

1 빈칸에 들어갈 알맞은 말을 쓰시오.

- (1) 국제연합(UN)은 세계의 다양한 환경 문제와 경제적 불평등 등을 해결하고 미래 세대의 행복을 위해 (**지속가능발전**) 목표 17가지를 제시하였다.
- (2) 아프리카연합(AU)의 본부는 (**에티오피아**)의 수도 아디스아바바에 있다.
- (3) (**공적 개발 원조**)은/는 선진국의 정부나 공공 기관이 개발 도상국에 자금을 지원해 주는 제도이다.

2 ㉠, ㉡ 중 알맞은 것을 고르시오.

- (1) 아프리카연합(AU)의 깃발에는 빛이 (초록색, 노랑색) 바탕의 아프리카 대륙을 비추고 있다.
- (2) (㉠ 우간다, 르완다)에서는 환경 문제를 해결하기 위해 일회용 플라스틱 사용을 금지하고 있다.
- (3) 그레이트 그린 월 프로젝트는 (사하라, 칼라하리) 사막의 남쪽에 대규모 숲을 조성하는 사업이다.

3 다음 설명이 맞으면 ○표, 틀리면 ×표를 하시오.

- (1) 아프리카연합의 회원국은 2023년 기준 50개국 이상이다. ()
- (2) 아프리카의 지속가능한 발전을 위한 세계적 협력 사례로 비정부 기구인 세계 식량 계획이 대표적이다. ()

4 다음 설명에 해당하는 신재생 에너지를 <보기>에서 골라 기호를 쓰시오.

보기

ㄱ. 풍력 ㄴ. 태양광(열) ㄷ. 수력

- (1) 나일강, 콩고강, 잠베지강 등이 흐르는 잠비아, 이집트, 에티오피아 등에서 많이 생산된다. ()
- (2) 사막이나 대서양에서 부는 바람을 이용하는 이집트, 모로코 등에서 많이 생산된다. ()

01 지속가능발전 목표(SDGs)에 대한 설명으로 옳은 것을 <보기>에서 고른 것은?

보기

- ㄱ. 제시된 목표는 총 17가지이다.
- ㄴ. 아프리카연합(AU)이 주도하여 제시하였다.
- ㄷ. 세계의 인류에게 주어진 다양한 문제를 구조적으로 해결하려는 의지가 담겨 있다.
- ㄹ. 아프리카는 빈곤과 기아보다 책임 있는 소비와 생산에 대한 목표 달성이 우선이다.

- ① ㄱ, ㄴ ② ㄱ, ㄷ ③ ㄴ, ㄷ
- ④ ㄴ, ㄹ ⑤ ㄷ, ㄹ

정답 ② | 지속가능발전 목표(SDGs)는 국제연합(UN)이 인류의 행복한 미래를 위해 제시한 17가지 목표이다.

중요

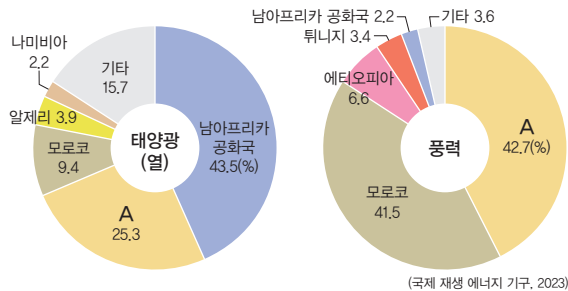
02 다음은 어느 공동체의 깃발이다. 이 공동체에 대한 설명으로 옳지 않은 것은?



- ① 본부는 나이지리아의 라고스에 있다.
- ② 아프리카 공동의 이익과 입장을 추구한다.
- ③ 아프리카의 평화와 안정을 도모하고 있다.
- ④ 아프리카의 빈곤 퇴치를 위해 노력하고 있다.
- ⑤ 2023년 기준 55개 회원국으로 이루어져 있다.

정답 ① | 제시된 깃발은 아프리카연합(AU)을 나타낸다. 아프리카연합의 본부는 에티오피아의 수도 아디스아바바에 있다.

03 그래프는 아프리카 내 주요 신재생 에너지 발전량 국가별 비중을 나타낸 것이다. A 국가로 옳은 것은?



- ① 케냐 ② 이집트
- ③ 나이지리아 ④ 코트디부아르
- ⑤ 콩고 민주 공화국

정답 ② | 태양광, 풍력 모두 아프리카 내 생산량이 많은 A 국가는 이집트이다. 개념풀 중학 사회 ①

04 다음 사례와 관련된 지속가능발전 목표(SDGs)를 고른 것은?



르완다는 경제활동이나 다양한 사회 활동에서 여성의 참여 비율이 매우 높다. 르완다의 살리마 무칸상가는 2022년 카타르 월드컵에서 본선 주심을 맡은 세계 최초의 여성 심판 중 한 명이다.

- ① 5 성 평등 ② 7 기후를 위한 깨끗한 에너지 ③ 11 지속가능한 도시와 공동체
- ④ 12 지속가능한 생산과 소비 ⑤ 15 육상 생태계 보전

정답 ① | 여성이 사회 활동에 활발하게 참여하는 르완다의 사례로, 이는 17가지 지속가능발전 목표 중 5번에 해당하는 성 평등과 관련이 깊다.

05 다음에서 설명하는 신재생 에너지로 옳은 것은?

주로 햇빛이 강한 사막에서 개발하기에 유리하며, 실제로 아프리카에서 생산량이 많은 국가는 사하라 사막이 넓게 펼쳐져 있는 이집트, 모로코, 알제리 등과 칼라hari 사막이 넓게 펼쳐져 있는 남아프리카 공화국, 나미브 사막이 있는 나미비아 등이다.

- ① 수력 ② 조력 ③ 지열
- ④ 풍력 ⑤ 태양광

정답 ⑤ | 태양광 에너지는 햇빛이 지속적으로 강하게 내리쬐는 지역인 사막에서 생산하기에 유리하다. 아프리카에서는 사하라 사막, 칼라hari 사막, 나미브 사막 등이 분포하는 국가에서 생산량이 많다.

06 지속가능한 발전을 위한 아프리카의 주체적 노력으로 옳지 않은 것은?

- ① 케냐 - 솔라 카우 프로젝트 추진
- ② 르완다 - 일회용 플라스틱 사용 금지
- ③ 탄자니아 - 일회용 비닐봉지 사용 금지
- ④ 콩고 민주 공화국 - 그랜드 잉가 프로젝트 추진
- ⑤ 잠비아 - 생태적 가치가 높은 세렝게티 국립 공원 지정

정답 ⑤ | 세렝게티는 케냐와 탄자니아에 걸쳐 넓게 분포하는 사바나 초원이며, 생태계 보전을 위해 국립 공원으로 지정되었다.

중요

07 다음에서 설명하는 용어로 옳은 것은?

한 지역 사회의 문제를 사회적, 문화적, 환경적 조건을 고려하여 해결하는 기술로, 인간의 삶의 질을 향상시키는 데 목적이 있다.

- ① 공정 무역 ② 공정 여행
- ③ 적정 기술 ④ 혁신 기술
- ⑤ 공적 개발 원조

정답 ③ | 적정 기술에 대한 설명으로, 아프리카 지역 주민의 더 나은 생활을 위하여 적정 기술을 개발하려는 노력이 이루어지고 있다.

08 아프리카의 지속가능한 발전을 위해 노력하는 비정부 기구(NGO)의 활동 사례로 옳은 것을 <보기>에서 고른 것은?

보기

- ㄱ. 국경 없는 의사회는 저개발 지역에 각종 의료 지원 서비스를 하고 있다.
- ㄴ. 세계 식량 계획(WFP)은 아프리카의 빈곤 퇴치를 위해 식량을 보급하고 있다.
- ㄷ. 그린피스는 세계의 환경 문제를 해결하기 위해 환경 보호 운동을 하고 있다.
- ㄹ. 유엔 난민 기구는 다양한 분쟁 지역에서 발생하는 난민들을 구제하고 있다.

- ① ㄱ, ㄴ ② ㄱ, ㄷ ③ ㄴ, ㄷ
- ④ ㄴ, ㄹ ⑤ ㄷ, ㄹ

정답 ② | 아프리카의 지속가능한 발전을 위해 세계의 다양한 주체들이 활동하고 있는데, 그중 비정부 기구로는 국경 없는 의사회, 그린피스, 옥스팜 등이 있다.

09 밑줄 친 ㉠에 해당하는 국가로 옳지 않은 것은?

그레이트 그린 월 프로젝트는 사막화를 막기 위해 사하라 사막의 남쪽 가장자리에 대규모 숲을 조성하는 사업이다. ㉠ 아프리카 20개국¹이 참여하고 있으며 세계은행 등 수많은 기관에서 자금을 지원하고 있다.

- ① 말리 ② 니제르
- ③ 나이지리아 ④ 에티오피아
- ⑤ 마다가스카르

정답 ⑤ | 마다가스카르는 동부 아프리카에 위치한 섬나라이다.

10 (가), (나) 사례와 관련된 지속가능발전 목표(SDGs)를 <보기>에서 고른 것은?

(가)	아프리카연합(AU)과 유럽연합(EU)은 3년마다 정상 회담을 개최하며, 지속가능한 발전을 위해 윤리적 의류 생산, 의료·보건 산업에서의 협업 등 다양한 전략을 수립하고 있다.
(나)	독일의 한 전력 회사는 섬나라 모리셔스에 커다란 연이 달린 ‘공중 풍력 발전소’를 설치하였다. 이것은 지상보다 약 4.5배 많은 에너지를 생산할 수 있다.

보기



- | | | | | | |
|---|-----|-----|---|-----|-----|
| | (가) | (나) | | (가) | (나) |
| ① | ㄱ | ㄴ | ② | ㄱ | ㄷ |
| ③ | ㄴ | ㄱ | ④ | ㄴ | ㄷ |
| ⑤ | ㄷ | ㄴ | | | |

정답 ⑥ | (가)는 아프리카연합과 유럽연합 간의 협력 사례로 지속가능발전 목표 중 17번에 해당한다. (나)는 아프리카의 신재생 에너지 생산을 위한 계획으로 7번에 해당한다.

구분	채점 기준
상	수력 발전량이 많은 이유를 자연환경적 특성과 관련지어 정확히 서술한 경우
하	수력 발전량이 많은 이유를 자연환경적 특성과 관련지어 서술하였으나 미흡한 경우

서술형 문제

11 지도는 아프리카의 수력 발전량 상위 5개 국가를 나타낸 것이다. 지도에 표시된 국가들이 수력 발전량이 많은 이유를 자연환경적 특성과 관련지어 서술하시오.



예시 답안 | 지도에 표시된 국가들의 공통점은 큰 하천이 흐른다는 점이다. 이집트와 에티오피아는 나일강, 잠비아와 모잠비크는 잠베지강, 앙골라는 콩고강이 흐른다. 이들 국가는 이러한 큰 하천을 이용할 수 있기 때문에 수력 발전량이 많다.

01 아프리카에 대한 설명으로 옳은 것을 <보기>에서 고른 것은?

보기

- ㄱ. 적도가 지나는 국가의 수는 최소 3개 이상이다.
- ㄴ. 아프리카에서 가장 높은 산은 아비시니아고원에 있다.
- ㄷ. 대서양과 접한 해안선이 인도양과 접한 해안선보다 길다.
- ㄹ. 적도를 기준으로 북쪽에는 칼라하리 사막, 남쪽에는 사하라 사막이 있다.

- ① ㄱ, ㄴ ② ㄱ, ㄷ ③ ㄴ, ㄷ
- ④ ㄴ, ㄹ ⑤ ㄷ, ㄹ

정답 ② | 아프리카는 대륙의 중심을 적도가 동서로 지나고 있으며, 콩고 민주 공화국, 콩고, 우간다, 케냐 등 최소 3개 이상의 국가를 적도가 지나간다. 아프리카는 서쪽 전체가 대서양과 접해 있는 반면, 동쪽으로는 인도양, 홍해 등과 접해 있다.

02 아프리카의 지역 구분에 대한 설명으로 옳지 않은 것은?

- ① 북부 아프리카의 모로코에는 높은 산지와 넓은 사막이 함께 나타난다.
- ② 서부 아프리카의 나이지리아는 아프리카에서 인구가 가장 많은 국가이다.
- ③ 중앙아프리카의 알제리는 국토의 대부분이 고원 지대에 위치한다.
- ④ 동부 아프리카의 케냐에서는 사바나 초원에서 다양한 야생 동물을 볼 수 있다.
- ⑤ 남부 아프리카의 남아프리카 공화국에서는 유럽의 영향을 받은 도시 풍경을 볼 수 있다.

정답 ③ | 알제리는 북부 아프리카에 위치한다. 중앙아프리카에 위치한 대표적인 국가로는 콩고 민주 공화국이 있다.

정답 ⑤ | ①은 이집트의 수도 카이로이다. 카이로는 나일강 하류의 넓은 평야에 발달한 대도시로, 주변에는 고대 이집트 문명의 유적이 있다.

03 ㉠에 들어갈 도시로 옳은 것은?

이집트의 수도인 (㉠)은/는 북부 아프리카 최대의 도시로, 나일강 삼각주에 발달해 있다. 이곳에서는 나일강 주변에서 생산되는 각종 농산물을 이용한 음식을 맛볼 수 있다. 한편, (㉠)과/와 가까운 기제에서는 고대 이집트 문명의 상징인 피라미드, 스피נק스 등을 만나볼 수 있다.

- ① 라고스 ② 킨샤사
- ③ 카이로 ④ 케이프타운
- ⑤ 아디스아바바

[04-05] 지도를 보고 물음에 답하십시오.



중요

04 아프리카의 지형에 대한 설명으로 옳지 않은 것은?

- ① 사하라 사막은 북부 아프리카의 대부분을 차지하고 있다.
- ② 넓은 평야는 내륙 지역보다 해안 지역에 주로 발달해 있다.
- ③ 콩고강은 중류에 큰 분지 지형을 이루면서 바다로 흘러간다.
- ④ 아프리카에서 가장 긴 하천은 동부 아프리카에서 시작하여 대서양으로 흘러간다.
- ⑤ 아프리카 동부에는 땅덩어리가 갈라지는 동아프리카 지구대가 길게 뻗어 있다.

정답 ④ | 아프리카에서 가장 긴 하천은 나일강으로, 동부 아프리카의 고원에서 발원하여 북쪽의 사하라 사막을 지나 지중해로 흘러간다. 대서양으로 흘러가는 대표적인 하천은 콩고강이다.

중요

05 (가), (나) 산맥에 대한 설명으로 옳은 것을 <보기>에서 고른 것은? (단, (가), (나)는 각각 지도에 표시된 A, B 산맥 중 하나임.)

(가)

(나)



▲ 드라켄즈버그산맥



▲ 아틀라스산맥

보기


- ㄱ. (가)는 (나)보다 침식을 받은 기간이 오래되었다.
- ㄴ. (가)는 (나)보다 사하라 사막과의 거리가 가깝다.
- ㄷ. (나)는 (가)보다 정상부에 쌓인 눈의 양이 많다.
- ㄹ. (가)는 A, (나)는 B에 해당한다.

- ① ㄱ, ㄴ ② ㄱ, ㄷ ③ ㄴ, ㄷ
- ④ ㄴ, ㄹ ⑤ ㄷ, ㄹ

정답 ② | A는 아틀라스산맥, B는 드라켄즈버그산맥이다. 드라켄즈버그산맥이 아틀라스산맥보다 먼저 형성되어 오랜 기간 침식을 받아 비교적 완만하다. 아틀라스산맥은 정상부에 만년설이 쌓여 있다.

★★★
과년도
06

사진은 두 국가의 국경에 위치한 지형이다. (가), (나)가 위치한 국경이 맞닿은 두 국가로 옳은 것은?



▲ 빅토리아 폭포

▲ 킬리만자로산

- | | |
|--------------|-------------|
| (가) | (나) |
| ① 모로코 - 알제리 | 나이지리아 - 카메룬 |
| ② 이집트 - 리비아 | 니제르 - 수단 |
| ③ 수단 - 에티오피아 | 나미비아 - 보츠와나 |
| ④ 앙골라 - 나미비아 | 수단 - 차드 |
| ⑤ 잠비아 - 짐바브웨 | 케냐 - 탄자니아 |

정답 ⑤ | (가)는 세계 3대 폭포 중 하나인 빅토리아 폭포로, 잠베지강의 상류에 있다. 잠베지강은 잠비아와 짐바브웨의 국경을 따라 흐른다. (나)는 아프리카에서 가장 높은 산인 킬리만자로산이다. 킬리만자로산은 동부 아프리카의 케냐와 탄자니아의 국경에 위치한다.

정답 ⑥ | (가)는 칼라하리 사막, (나)는 아비시니아고원, (다)는 동아프리카 지구대이다. 동아프리카 지구대는 아프리카의 두 지각판이 갈라지고 멀어지면서 그 사이가 내려앉아 형성된 골짜기이다. 칼라하리 사막은 남부 아프리카, 아비시니아고원은 동부 아프리카에 위치한다.

07 다음은 초성으로 제시한 아프리카의 지형이다. (가)~(다) 지형에 대한 설명으로 옳은 것을 <보기>에서 고른 것은?

구분	지형	지형의 일부가 위치한 국가
(가)	크리헝크 사막	보츠와나
(나)	오버스노고원	에티오피아
(다)	디오포르쿠 지구대	케냐

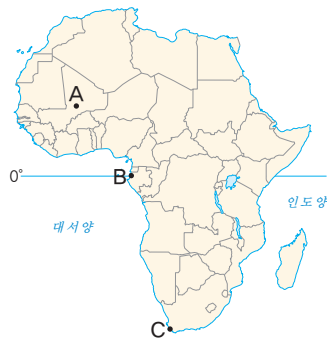
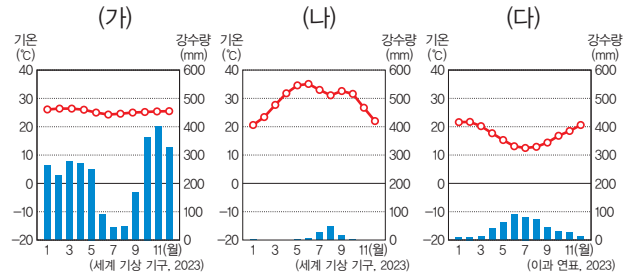
보기

- ㄱ. (가)는 사하라 사막보다 면적이 넓다.
- ㄴ. (나)에는 아프리카에서 가장 높은 산이 있다.
- ㄷ. (다)는 지각판이 점점 멀어져 그 사이가 내려앉은 지형이다.
- ㄹ. (가)는 남부 아프리카, (나)는 동부 아프리카에 위치한다.

- ① ㄱ, ㄴ ② ㄱ, ㄷ ③ ㄴ, ㄷ
④ ㄴ, ㄹ ⑤ ㄷ, ㄹ

중요
08

(가)~(다) 기후 그래프가 나타나는 지역을 지도의 A~C에서 고른 것은?

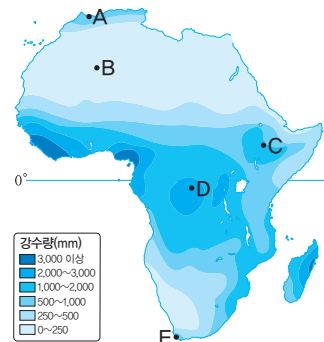


- | | | |
|-----|-----|-----|
| (가) | (나) | (다) |
| ① A | B | C |
| ② A | C | B |
| ③ B | A | C |
| ④ B | C | A |
| ⑤ C | A | B |

정답 ③ | (가)는 열대 기후가 나타나는 르브르빌, (나)는 건조 기후가 나타나는 동북부, (다)는 온대 기후가 나타나는 케이프타운의 기후 그래프이다. A는 사하라 사막의 남쪽에 위치한 건조 기후 지역, B는 적도가 지나가는 아프리카 서부의 열대 기후 지역, C는 남아프리카 공화국 남부 해안의 온대 기후 지역이다.

과년도
09

정답 ① | A는 북반구의 온대 기후 지역으로, 7월이 여름이기 때문에 건조하고, 남반구의 온대 기후 지역인 E는 7월이 겨울이기 때문에 비가 자주 내린다. 지도는 아프리카의 연 강수량을 나타낸 것이다. A~E 지역에 대한 설명으로 옳지 않은 것은?



- ① A는 E보다 7월 강수량이 많다.
- ② B는 연 증발량이 연 강수량보다 많다.
- ③ C는 D보다 연평균 기온이 낮다.
- ④ D는 E보다 1월 강수량이 많다.
- ⑤ A는 온대 기후, B는 건조 기후에 해당한다.

중요

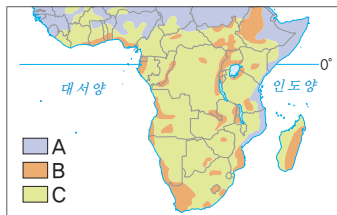

10 아프리카의 지역과 주요 재배 작물을 연결한 것으로 옳은 것을 ㉠~㉣에서 고른 것은?

구분	지역	주요 재배 작물
㉠	지중해 연안	올리브, 포도
㉡	콩고 분지	카카오, 천연고무
㉢	아비시니아고원	대추야자, 카사바
㉣	사하라 사막	커피, 옥수수

- ① ㉠, ㉡ ② ㉠, ㉢ ③ ㉡, ㉣
 ④ ㉡, ㉣ ⑤ ㉢, ㉣

정답 ① | 아프리카의 지중해 연안은 온대 기후가 나타나며 여름철 건조한 기후에 잘 견디는 올리브, 포도 등의 작물이 재배된다. 콩고 분지는 열대 기후가 나타나며 카카오, 천연고무 등이 플랜테이션 방식으로 재배된다.

11 사진은 아프리카에서 볼 수 있는 종교 시설이다. (가), (나)와 관련된 종교를 지도의 A~C에서 고른 것은?



- | | | |
|---|-----|-----|
| | (가) | (나) |
| ① | A | B |
| ② | A | C |
| ③ | B | A |
| ④ | B | C |
| ⑤ | C | A |

정답 ① | (가)는 동근 돔과 첨탑이 있는 이슬람 사원, (나)는 지붕 끝에 십자가가 있는 교회이다. A는 이슬람교, B는 크리스티교, C는 토속 신앙의 분포 지역이다.

12 아프리카의 전통 가옥에 대한 설명으로 옳은 것을 <보기>에서 고른 것은?

보기

- ㄱ. 건조 기후 지역은 열대 기후 지역보다 가옥의 창문이 넓다.
- ㄴ. 사막 기후 지역에서는 주로 흙벽돌을 이용하여 집을 짓는다.
- ㄷ. 열대 기후 지역의 전통 가옥은 지붕이 대체로 평평하다.
- ㄹ. 열대 기후 지역에서는 주로 풀과 나무를 이용하여 집을 짓는다.

- ① ㄱ, ㄴ ② ㄱ, ㄷ ③ ㄴ, ㄷ
 ④ ㄴ, ㄹ ⑤ ㄷ, ㄹ

정답 ④ | 아프리카의 건조 기후 지역에서는 나무를 구하기 힘들기 때문에 개념풀 중학 사회 ① 주로 흙벽돌을 이용하여 집을 짓고, 열대 기후 지역에서는 주로 풀과 나무를 이용하여 집을 짓는다.

13 다음에 제시된 예술의 탄생에 영향을 준 대륙으로 옳은 것은?

- 브라질의 삼바
- 아르헨티나의 탱고
- 미국의 재즈와 블루스

- ① 유럽 ② 아시아
 ③ 아메리카 ④ 아프리카
 ⑤ 오세아니아

정답 ④ | 브라질의 삼바, 아르헨티나의 탱고, 미국의 재즈와 블루스 등은 아프리카 전통 음악의 영향을 받아 만들어진 음악 장르이다.

14 ㉠에 들어갈 국가를 지도의 A~E에서 고른 것은?

아프리카에서 석탄 생산량이 가장 많은 (㉠)은/는 광물 자원 매장량도 세계적이다. 백금, 크롬, 망간 등은 세계 생산 점유율 1위로 품질이 우수하다고 평가받는다. 또한 다이아몬드는 4위, 철광석은 6위, 금은 8위를 차지하고 있으며, (㉠)은/는 이러한 광물 자원을 토대로 경제가 빠르게 성장하고 있다.



- ① A
 ② B
 ③ C
 ④ D
 ⑤ E

정답 ⑤ | ㉠은 남아프리카 공화국으로, 남아프리카 공화국은 석탄을 비롯한 크롬, 금, 다이아몬드 등 에너지 자원과 광물 자원이 풍부하다. A는 알제리, B는 이집트, C는 나이지리아, D는 콩고 민주 공화국, E는 남아프리카 공화국이다.

중요

15 ㉠~㉣에 대한 설명으로 옳은 것은?


아프리카 주민들이 흔하게 먹는 주식 작물인 카사바는 주로 (㉠) 방식으로 재배된다. 오아시스나 하천 주변에서는 대추야자와 (㉡)을/를 주로 재배하며, 마다가스카르에서는 (㉢)을/를 재배하여 주식으로 이용한다.

- ① ㉠에는 '플랜테이션'이 들어갈 수 있다.
 ② ㉠으로 재배하는 대표적인 작물로 카카오가 있다.
 ③ ㉡은 '쌀', ㉢은 '밀'이다.
 ④ ㉡은 ㉢보다 아프리카에서 주식으로 이용하는 범위가 넓다.
 ⑤ ㉢ 재배 지역은 ㉡ 재배 지역보다 연 강수량이 적다.

정답 ④ | ㉠은 이동식 화전 농업, ㉡은 밀, ㉢은 쌀이다. 아프리카에서는 쌀보다 밀을 주식으로 이용하는 주민이 많다.




5




아메리카


- 01 아메리카의 위치와 자연환경
- 02 아메리카의 다양한 민족(인종)과 문화
- 03 아메리카의 초국적 기업

배울 내용 확인하기

 고산 기후의 특징은 무엇일까요?




해발 고도가 높아 적도 부근에 위치한 곳에서도 일 년 내내 온화한 기온이 나타나요.

 문화 혼종성이 무엇일까요?




서로 다른 문화가 섞여 여러 가지 정체성을 지닌 새로운 문화를 만드는 현상이에요.

 공간적 분업이 무엇일까요?



본사, 연구소, 생산 공장 등을 서로 다른 국가와 지역에 나누어 배치하는 것이에요.



아메리카의 위치와 자연환경

1 아메리카의 국가와 도시

1. 아메리카의 위치

(1) 지역 구분 **자료 1** 리오그란데강과 파나마 지협을 경계로 북아메리카, 중앙아메리카, 남아메리카로 구분하기도 한다.

지리적 구분	파나마 지협	<ul style="list-style-type: none"> 북아메리카: 미국, 캐나다, 멕시코 등 남아메리카: 브라질, 아르헨티나 등
문화적 구분	리오그란데강	<ul style="list-style-type: none"> 앵글로아메리카: 미국, 캐나다 등 라틴 아메리카: 멕시코, 브라질, 아르헨티나 등

앵글로색슨족의 영향을 받은 아메리카 → 영어, 프랑스어, 개신교
 라틴족의 영향을 받은 아메리카 → 에스파냐어, 포르투갈어, 가톨릭

(2) 지리적 범위

- ① 서쪽으로 태평양, 동쪽으로 대서양과 접하고 있음.
- ② 북쪽으로 북극해에 맞닿고, 남쪽으로 남극해와 가까움.

2. 아메리카의 국가와 주요 도시

북아메리카	미국(워싱턴, 뉴욕, 로스앤젤레스), 캐나다(오타와, 토론토, 밴쿠버), 멕시코(멕시코시티) 등
남아메리카	브라질(브라질리아, 리우데자네이루, 상파울루), 아르헨티나(부에노스아이레스), 콜롬비아(보고타), 볼리비아(라파스), 에콰도르(키토), 페루(리마, 쿠스코) 등

해발 고도가 높은 안데스 산지에 분포하는 고산 도시이다.



▲ 뉴욕(미국)



▲ 리우데자네이루(브라질)

2 아메리카의 자연환경

1. 아메리카의 지형 **자료 2**

(1) 북아메리카의 지형

서부	로키산맥: 높고 험준하며, 지각 운동이 활발하여 지진과 화산 활동이 일어나기도 함.
중부	로키산맥과 애팔래치아산맥 사이에 대평원이 펼쳐져 있고, 미시시피강이 넓은 지역을 흐름.
동부	애팔래치아산맥: 오랜 기간 침식을 받아 비교적 낮고 완만함.

자료 1 아메리카의 지역 구분과 국가



아메리카는 지리적으로 파나마 지협을 경계로 북아메리카와 남아메리카로, 문화적으로 리오그란데강을 경계로 앵글로아메리카와 라틴 아메리카로 구분한다.

자료 2 아메리카의 지형



아메리카 서부에는 태평양 연안을 따라 로키산맥, 안데스산맥이 길게 뻗어 있다. 북아메리카의 동부에는 비교적 낮은 애팔래치아산맥이 위치하며, 중부에는 미시시피강이 넓은 지역을 흐른다. 남아메리카의 안데스산맥 동쪽으로는 아마존강이 흐르는 아마존 분지와 넓은 고원이 펼쳐져 있다.

용어 풀단지

- ◆ 지협 두 개의 육지를 연결하는 좁고 잘록한 땅
- ◆ 리오그란데강 미국과 멕시코의 국경을 흐르는 하천
- ◆ 침식 바람, 물, 눈, 얼음 등의 작용으로 인하여 지표의 암석이 깎이는 것을 말함.

(2) 남아메리카의 지형

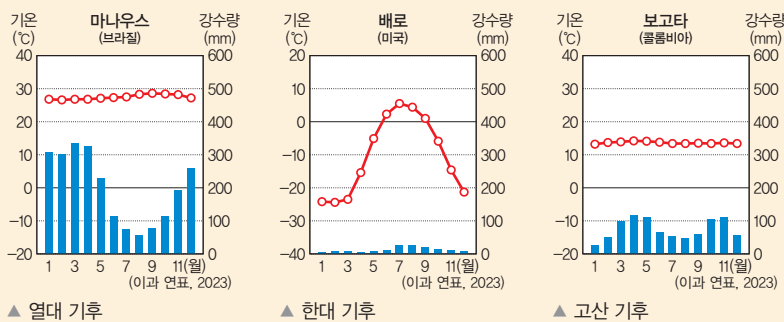
서부	안데스산맥: 높고 험준하며, 지진과 화산 활동이 활발함.
내륙	아마존 분지: 아마존강이 흐르는 분지가 넓게 분포
동부	브라질고원: 오래되고 안정화된 고원이 넓게 펼쳐짐.
남부	파타고니아: 빙하에 의해 형성된 가파른 산지와 복잡한 해안선 분포

2. 아메리카의 기후 자료 3

(1) 아메리카의 기후 유형

북아메리카	건조 기후	<ul style="list-style-type: none"> • 분포: 내륙, 서부 지역 • 산맥의 영향으로 바다에서 불어오는 습윤한 공기가 차단되어 건조 기후가 넓게 나타남. • 건조한 초원 지역에 대규모 목축업 발달
	온대 기후	<ul style="list-style-type: none"> • 분포: 남동부 지역, 서부 해안 지역 • 인구 밀도가 높은 대도시 분포
	냉대 기후	<ul style="list-style-type: none"> • 분포: 캐나다 대부분 지역 • 겨울이 춥고 길어 인구 밀도가 낮음.
	한대 기후	<ul style="list-style-type: none"> • 분포: 북극과 가까운 지역 • 기온이 낮아 농사를 지을 수 없어 순록 유목, 사냥 등을 함.
남아메리카	열대 기후	<ul style="list-style-type: none"> • 분포: 아마존강 유역 • 세계 최대의 열대 우림 분포
	건조 기후	<ul style="list-style-type: none"> • 분포: 태평양 연안 지역 일부, 남부 내륙 지역 • 태평양 연안 지역 일부는 한류가 흐르기 때문에 사막이 나타남. • 남부 내륙 지역은 산맥의 영향으로 강수량이 적음.
	온대 기후	<ul style="list-style-type: none"> • 분포: 브라질 남부 지역, 아르헨티나 일대 • 온대 초원이 넓게 분포
	고산 기후 자료 4	<ul style="list-style-type: none"> • 분포: 적도 주변의 안데스산맥 일대 • 해발 고도가 높아 적도 부근에 위치한 곳에서도 일년 내내 온화한 기온이 나타남. • 인간이 거주하기에 유리하여 예로부터 잉카 문명 등이 발달하였고, 많은 고산 도시 분포

(2) 아메리카의 기후 그래프

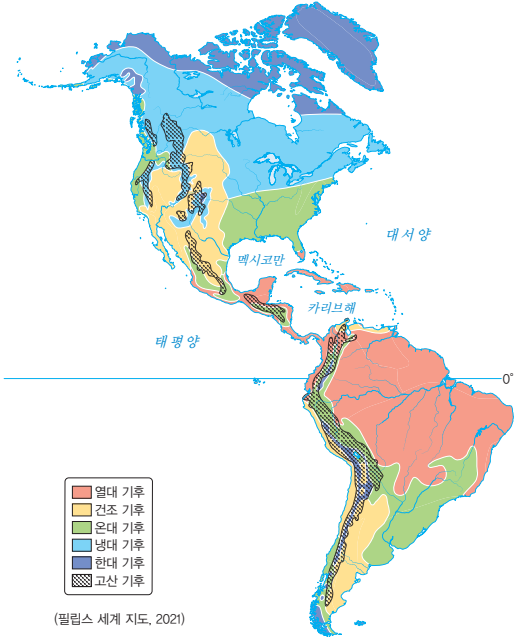


용어 풀단지

- ◆ **한류** 한대 기후 또는 냉대 기후의 바다에서 발원하여 극지에서 적도의 방향으로 흐르는 해류
- ◆ **온대 초원** 온대 기후의 초원 지대로, 남아메리카 중위도에 나타나는 온대 초원 지대를 팜파스라고 함.

자료 풀단지

교과서 확인 : 동아, 미래엔, 비상, 아침나라, 천재
자료 3 아메리카의 기후



아메리카 대륙은 남북으로 길게 뻗어 다양한 기후가 나타난다. 북아메리카 북부 지역은 냉대 및 한대 기후가 나타나고, 남동부 지역과 서부 해안 지역은 온대 기후, 내륙은 건조 기후가 나타난다. 남아메리카의 아마존강 유역은 열대 기후가 나타나고, 안데스산맥 일대는 고산 기후가 나타난다.

교과서 확인 : 동아, 미래엔, 비상, 아침나라, 천재

자료 4 고산 지역의 도시와 주민 생활



적도 주변 안데스산맥 일대의 해발 고도 2,000~4,000m 지역에는 연중 기온이 온화한 고산 기후가 나타나 많은 고산 도시가 분포한다. 고산 지역의 원주민들은 아마와 알파카 털로 짠 망토를 둘러 기온이 낮아지는 밤에 보온용으로 사용하기도 한다.

1 빈칸에 들어갈 알맞은 말을 쓰시오.

- (1) 아메리카의 지역 구분은 지리적으로 (파나마 지협)을/를 경계로 북아메리카와 남아메리카로 구분한다.
- (2) 아메리카의 지역 구분은 문화적으로 리오그란데강을 경계로 (앵글로)아메리카와 (라틴) 아메리카로 구분한다.

2 북아메리카에 해당하는 국가만을 <보기>에서 있는 대로 골라 기호를 쓰시오. 가, 나

보기

- | | |
|--------|----------|
| 가. 미국 | 나. 멕시코 |
| 다. 브라질 | 리. 아르헨티나 |

3 아메리카의 주요 국가와 도시를 바르게 연결하시오.

- | | |
|----------|--------|
| (1) 미국 | ㉠ 상파울루 |
| (2) 캐나다 | ㉡ 보고타 |
| (3) 브라질 | ㉢ 토론토 |
| (4) 볼리비아 | ㉣ 라파스 |
| (5) 콜롬비아 | ㉤ 뉴욕 |

4 다음 설명이 맞으면 ○표, 틀리면 ×표를 하시오.

- (1) 북아메리카 동부는 높고 험준한 애플래치아산맥이 발달하였다. (×)
- (2) 로키산맥과 애플래치아산맥 사이의 북아메리카 중부에는 대평원이 펼쳐져 있고, 미시시피강이 흐른다. (○)
- (3) 남아메리카 동부에는 높고 험준한 안데스산맥이 발달하였다. (×)
- (4) 남아메리카의 안데스산맥 동쪽으로는 아마존강이 흐르는 아마존 분지가 발달하였다. (○)

5 밑줄 친 곳을 바르게 고쳐 쓰시오.

- (1) 북아메리카 내륙 지역은 산맥의 영향으로 바다에서 불어오는 습윤한 공기가 차단되어 한대 기후가 나타난다. 건조
- (2) 남아메리카의 아마존강 유역은 열대 기후가 나타나 세계 최대의 침엽수림이 분포한다. 열대 우림
- (3) 남아메리카의 적도 주변 안데스산맥 일대는 해발 고도가 높아 연중 기온이 온화한 냉대 기후가 나타난다. 고산

01 지도는 아메리카의 지역 구분을 나타낸 것이다. (가), (나)에 들어갈 내용으로 옳은 것은?



- | (가) | (나) |
|-----------|---------|
| ① 북아메리카 | 남아메리카 |
| ② 북아메리카 | 라틴 아메리카 |
| ③ 북아메리카 | 앵글로아메리카 |
| ④ 앵글로아메리카 | 남아메리카 |
| ⑤ 앵글로아메리카 | 라틴 아메리카 |

정답 ① | 아메리카는 지리적으로 파나마 지협을 기준으로 북아메리카와 남아메리카로 구분한다.

중요

02 아메리카에 대한 설명으로 옳은 것을 <보기>에서 고른 것은?

보기

- 가. 북아메리카에는 캐나다, 미국이 위치한다.
- 나. 남아메리카에는 멕시코, 브라질이 위치한다.
- 다. 서쪽으로 태평양, 동쪽으로 대서양과 접하고 있다.
- 리. 지리적으로 앵글로아메리카와 라틴 아메리카로 구분한다.

- | | | |
|--------|--------|--------|
| ① 가, 나 | ② 가, 다 | ③ 나, 다 |
| ④ 나, 리 | ⑤ 다, 리 | |

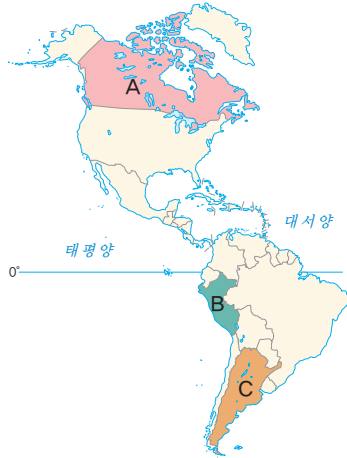
정답 ② | 북아메리카에는 캐나다, 미국, 멕시코가 위치한다. 아메리카는 서쪽으로 태평양, 동쪽으로 대서양과 접하고 있다.

03 남아메리카에 위치하는 국가로 옳지 않은 것은?

- | | | |
|--------|---------|-------|
| ① 페루 | ② 멕시코 | ③ 브라질 |
| ④ 볼리비아 | ⑤ 아르헨티나 | |

정답 ② | 멕시코는 북아메리카에 위치한다.

04 지도의 A~C 국가로 옳은 것은?



- | | | | |
|---|----------|----------|----------|
| | <u>A</u> | <u>B</u> | <u>C</u> |
| ① | 미국 | 페루 | 브라질 |
| ② | 미국 | 멕시코 | 아르헨티나 |
| ③ | 캐나다 | 페루 | 아르헨티나 |
| ④ | 캐나다 | 멕시코 | 브라질 |
| ⑤ | 캐나다 | 볼리비아 | 칠레 |

정답 ③ | A는 캐나다, B는 페루, C는 아르헨티나이다.

05 다음에서 설명하는 도시로 옳은 것은?



적도에 위치하고 있지만 해발 고도가 높아 일 년 내내 온화한 기온이 나타나는 도시이다.

- | | |
|------------|--------|
| ① 뉴욕 | ② 키토 |
| ③ 토론토 | ④ 상파울루 |
| ⑤ 부에노스아이레스 | |

정답 ② | 제시된 자료는 고산 도시에 대한 설명이다. 키토는 해발 고도가 높은 안데스 산지에 위치하여 고산 기후가 나타난다.

06 ㉠, ㉡에 들어갈 국가와 도시로 옳은 것은?

북아메리카에 위치하는 세계 최대의 경제 대국 (㉠) 동부의 (㉡)에는 독립 100주년을 기념하는 조각상인 자유의 여신상이 있다. 조각상의 왕관 부분에는 이 도시를 내려다볼 수 있는 전망대가 설치되어 있다.

- | | | | | | |
|---|----------|----------|---|----------|----------|
| | <u>㉠</u> | <u>㉡</u> | | <u>㉠</u> | <u>㉡</u> |
| ① | 미국 | 뉴욕 | ② | 미국 | 워싱턴 |
| ③ | 캐나다 | 뉴욕 | ④ | 캐나다 | 토론토 |
| ⑤ | 멕시코 | 로스앤젤레스 | | | |

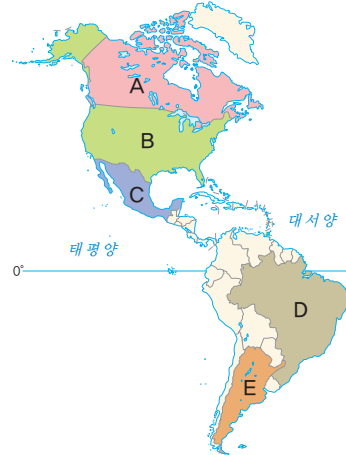
정답 ① | 북아메리카에 위치한 미국은 세계 최대의 경제 대국으로, 뉴욕에는 자유의 여신상이 있다.

07 (가), (나) 경관을 볼 수 있는 국가를 지도의 A~E에서 고른 것은?

(가)



(나)



- | | | |
|---|------------|------------|
| | <u>(가)</u> | <u>(나)</u> |
| ① | A | B |
| ② | B | D |
| ③ | C | E |
| ④ | D | A |
| ⑤ | E | C |

정답 ② | (가)는 자유의 여신상으로 미국 뉴욕에 있고, (나)는 예수상으로 브라질 리우데자네이루에 있다. A는 캐나다, B는 미국, C는 멕시코, D는 브라질, E는 아르헨티나이다.

정답 ① | 브라질은 남아메리카에 위치한 국가로, 넓은 아마존 분지에는 아마존강이 흐른다.

08 지도의 A 국가에 대한 특징으로 옳은 것을 <보기>에서 고른 것은?



보기

- ㄱ. 남아메리카에 위치한다.
- ㄴ. 아마존강이 흐르고 있다.
- ㄷ. 공용어로 에스파냐어를 사용한다.
- ㄹ. 주요 도시로는 보고타, 상파울루 등이 있다.

- | | | |
|--------|--------|--------|
| ① ㄱ, ㄴ | ② ㄱ, ㄷ | ③ ㄴ, ㄷ |
| ④ ㄴ, ㄹ | ⑤ ㄷ, ㄹ | |

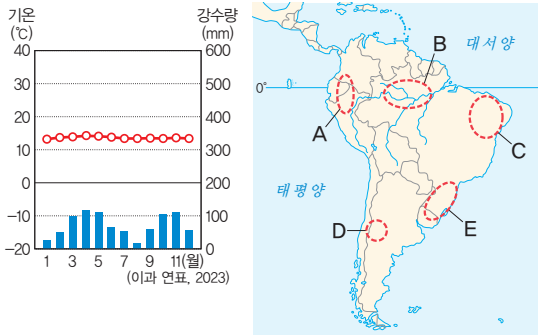
09 아메리카의 지형에 대한 설명으로 옳은 것은?

- ① 아마존강은 태평양으로 흘러간다.
- ② 북아메리카 동부에는 로키산맥이 길게 뻗어 있다.
- ③ 북아메리카 중부에는 대평원이 있고, 미시시피강이 흐른다.
- ④ 안데스산맥은 오랜 기간 침식을 받아 낮은 산지가 발달하였다.
- ⑤ 애팔래치아산맥은 높고 험준하며, 지진과 화산 활동이 활발하다.

정답 ③ | 로키산맥과 애팔래치아산맥 사이의 북아메리카 중부에는 대평원이 펼쳐져 있고, 미시시피강이 넓은 지역을 흐르고 있다.

과난도

10 다음과 같은 기후 그래프가 나타나는 지역을 지도의 A~E에서 고른 것은?



- ① A ② B ③ C ④ D ⑤ E

정답 ① | 기후 그래프의 연중 기온이 12~15°C로 일정하게 나타나고 있는 것으로 보아 일 년 내내 온화한 기온이 나타나는 고산 기후 지역임을 알 수 있다. A는 적도 부근의 해발 고도가 높은 안데스 산지 지역으로, 고산 기후가 나타난다.

정답 ① | 아마존강 유역은 열대 기후 지역으로, 높은 기온으로 인해 갑작스럽게 비가 내리는 경우가 많고 밀림이 발달하였다.

11 다음에서 설명하는 지역의 기후로 옳은 것은?

투어 보트를 타고 울창한 밀림을 지나자 갑자기 시원한 비가 쏟아져 내려, 기온이 조금 내려갔다. 비가 내리면서 자연의 향기가 더욱 강하게 느껴졌다. 나뭇잎이 빗방울에 반짝이며 마치 자연의 보석처럼 빛났다.

- ① 열대 기후 ② 건조 기후
- ③ 온대 기후 ④ 냉대 기후
- ⑤ 고산 기후

12 다음은 남아메리카를 여행하면서 작성한 여행기의 일부이다. 이 지역이 위치한 국가를 지도의 A~E에서 고른 것은?

공중 도시를 만나다

2024년 10월 15일



거친 숨을 몰아쉬며 구름 위에 올라섰을 때, 잉카 제국이 고대 도시 마추픽추를 만나볼 수 있었다. 안개가 끼어 있어 고대 도시를 볼 수 없을까 걱정을 했지만 이내 햇빛이 비치며 안개가 사라졌다.

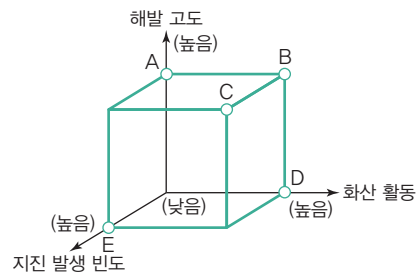


- ① A
- ② B
- ③ C
- ④ D
- ⑤ E

정답 ② | 해발 고도가 높고 잉카 제국의 유적인 마추픽추가 있는 국가는 페루이다. A는 콜롬비아, B는 페루, C는 브라질, D는 칠레, E는 아르헨티나이다.

중요


13 지도의 (가) 산맥과 비교한 (나) 산맥의 상대적 특징을 그림의 A~E에서 고른 것은?



- ① A
- ② B
- ③ C
- ④ D
- ⑤ E

정답 ③ | (가)는 로키산맥, (나)는 애팔래치아산맥이다. 로키산맥은 애팔래치아산맥보다 해발 고도가 높고, 지진과 화산 활동이 활발하다.

14 사진과 같은 지형을 볼 수 있는 지역을 지도의 A~E에서 고른 것은?



- | | | |
|---|-----|-----|
| | (가) | (나) |
| ① | A | C |
| ② | B | E |
| ③ | C | D |
| ④ | D | A |
| ⑤ | E | B |

정답 ⑤ | (가)는 아마존 분지에서 흐르는 아마존강이고, (나)는 북아메리카 서부의 로키산맥이다.

15 지도의 A, B 하천의 명칭으로 옳은 것은?



- | | | |
|---|-------|--------|
| | A | B |
| ① | 아마존강 | 미시시피강 |
| ② | 아마존강 | 리오그란데강 |
| ③ | 미시시피강 | 나일강 |
| ④ | 미시시피강 | 아마존강 |
| ⑤ | 미시시피강 | 리오그란데강 |

정답 ④ | A 하천은 북아메리카 중부의 미시시피강, B 하천은 남아메리카 내륙을 흐르는 아마존강이다.

서술형 문제

16 지도를 보고 물음에 답하시오.



(1) A 지역의 기후를 쓰시오.

고산 기후

(2) A 지역의 기후 특징을 서술하시오.

예시 답안 | 적도 부근임에도 해발 고도가 높아 일 년 내내 온화한 기온이 나타난다.

구분	채점 기준
상	고산 기후의 특징을 정확히 서술한 경우
하	고산 기후의 특징을 서술하였으나 미흡한 경우

구분	채점 기준
상	로키산맥과 애팔래치아산맥의 특징을 모두 정확히 서술한 경우
중	로키산맥과 애팔래치아산맥의 특징 중 한 가지만 정확히 서술한 경우
하	로키산맥과 애팔래치아산맥의 특징을 서술하였으나 미흡한 경우

17 지도는 북아메리카의 지형을 나타낸 것이다. 이를 보고 물음에 답하시오.



(1) A, B 산맥의 명칭을 쓰시오.

A : 로키산맥 B : 애팔래치아산맥

(2) A, B 산맥의 특징을 서술하시오.

예시 답안 | 로키산맥은 높고 험준하며 지진과 화산 활동이 활발하고, 애팔래치아산맥은 오랜 기간 침식을 받아 비교적 낮고 완만하다.



2 아메리카의 다양한 민족(인종)과 문화

1 아메리카의 다양한 민족(인종) 자료 1

1. 앵글로아메리카의 민족(인종)


(1) 미국

① 미국의 민족(인종) 형성

- 아메리카 원주민 거주 → 영국인이 식민 지배를 하며 개척한 후 유럽 각 지역에서 유럽인이 유입되었어.
- 16세기 이후 유럽계 이주민들의 정착
- 노동력을 충당하기 위한 아프리카계의 강제 이주
- 20세기 이후 라틴 아메리카에서 이주한 히스패닉의 급증 플라테이션을 위한 노동력이 필요했어.
- 아시아계 이주민 증가

미국의 다문화 정책은 옹광로 정책이라고 하는 동화주의로 주류 문화에 편입시키려는 정책으로 인해 민족(인종)간 갈등이 발생한다.

② 미국의 민족(인종)별 구성(2020년)



(2) 캐나다

캐나다의 다문화 정책은 샬러드볼 정책이라고 하는 다문화주의로 각 민족(인종)의 고유성을 인정하여 다양한 민족(인종)이 섞여 있음에도 갈등이 적은 편이다.

- ① 전체 인구 중 영국계, 프랑스계 백인의 비율이 높음.
- ② 퀘벡주는 프랑스계 주민 비율이 높아 프랑스 전통문화 유지
- ③ 북극해 주변에는 원주민인 이누이트가 거주
- ④ 개방적인 이주 정책으로 전체 인구 중 20% 이상이 해외 이주자

2. 라틴 아메리카의 민족(인종)

(1) 원주민에 의한 마야 문명, 아스테카 문명, 잉카 문명 등 고대 문명 발달

(2) 유럽의 식민 지배

- ① 16세기 에스파냐인이 브라질을 제외한 대부분 지역을 식민 지배
- ② 브라질은 포르투갈인의 식민 지배를 받음.
- ③ 노동력을 충당하기 위한 아프리카계의 강제 이주

(3) 민족(인종)별 주요 분포 지역 자료 2

혼혈	<ul style="list-style-type: none"> • 라틴 아메리카 전역에 분포 • 멕시코, 콜롬비아에서 인구 비율이 높음.
원주민	볼리비아, 페루 등 안데스산맥에 위치한 국가에서 인구 비율이 높음.
유럽계 백인	<ul style="list-style-type: none"> • 거주에 유리한 온대 기후 지역에 주로 분포 • 우루과이, 아르헨티나에서 인구 비율이 높음.
아프리카계 흑인	아이티, 자메이카 등 카리브해 연안 국가에서 인구 비율이 높음.

→ 주로 플라테이션이 이루어지던 지역이야.

용어 낱단지

- ◆ **히스패닉** 미국에 거주하며 에스파냐어를 사용하는 라틴 아메리카계 이주민
- ◆ **마야 문명** 기원 전후부터 9세기까지 중앙아메리카의 과테말라 고지에서 유크탄반도에 걸쳐 번성한 마야족의 고대 문명
- ◆ **잉카 문명** 남아메리카 안데스 지대의 페루를 중심으로 16세기 초까지 잉카족이 이루었던 청동기 문화

자료 낱단지

교과서 확인 : 동아 천재

자료 1 아메리카로의 인구이동



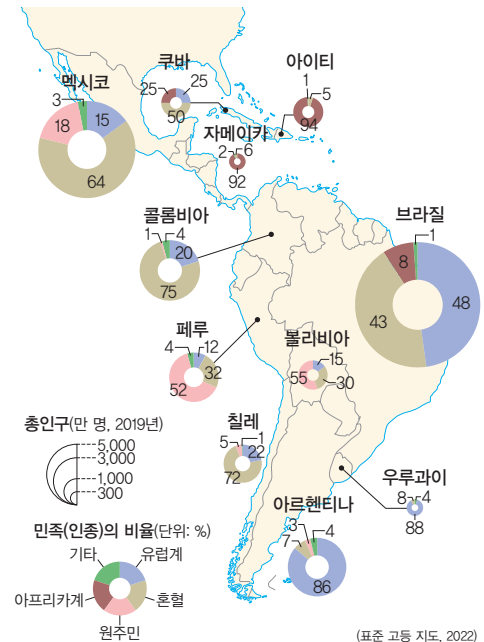
1500~1914년까지의 이동: 유럽, 아프리카, 아시아
20세기 이후의 이동

(필립스 세계 지도, 2022)

아메리카는 식민 지배와 이민자 유입의 영향으로 민족(인종)이 다양하다. 원주민이 살고 있던 곳에 유럽계 백인, 아프리카계 흑인, 아시아계 등이 유입되었다.

교과서 확인 : 동아, 미래엔, 비상, 아침나라, 천재

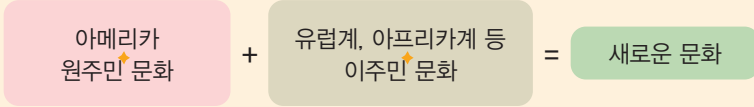
자료 2 라틴 아메리카의 민족(인종)별 구성



라틴 아메리카는 국가별로 민족(인종) 구성이 다양하다. 혼혈은 라틴 아메리카 전역에 거주하고, 원주민은 볼리비아, 페루 등 안데스산맥에 위치한 국가에, 유럽계 백인은 우루과이와 아르헨티나, 아프리카계 흑인은 아이티와 자메이카 등 카리브해 연안국에서 높은 인구 비율을 차지한다.

2 아메리카 문화의 특징

1. **문화 혼종성**: 서로 다른 문화가 섞여 여러 가지 정체성을 지닌 새로운 문화를 만드는 현상



2. **문화 혼종성의 사례** **자료 3**

- (1) **과달루페의 성모상**: 유럽의 가톨릭과 원주민의 전통 신앙이 결합
- (2) **미국의 재즈**: 아프리카의 전통 음악과 미국 남북 전쟁 이후 군악대 연주 기법이 결합
- (3) **아르헨티나의 탱고**: 남부 유럽에서 온 이민자들의 춤곡과 라틴 아메리카의 토착 음악이 결합
- (4) **브라질의 리우 카니발**: 가톨릭의 사순절 행사와 아프리카에서 끌려온 노예들의 신나는 음악과 춤이 결합

용어 풀단지

- ◆ **원주민** 원래 지역에 살고 있던 사람들
- ◆ **이주민** 원래 있던 곳을 떠나 있는 사람으로 대개 국제적으로 국경을 넘어 이주한 경우를 칭함.

자료 풀단지

☞ 교과서 확인 : 미래엔 비상 아침나라, 천재
자료 3 아메리카의 문화 혼종성



▲ 과달루페의 성모상



▲ 아르헨티나의 탱고

아메리카의 문화는 원주민, 유럽계 백인, 아프리카계 흑인 등 다양한 민족(인종)의 문화가 교류하며, 서로 다른 문화가 뒤섞여 새로운 문화를 만들면서 더욱 다양해졌다.

STEP 1

개념 IN

1 빈칸에 들어갈 알맞은 말을 쓰시오.

- (1) 앵글로아메리카에서는 유럽계 이주민이 정착하고 노동력을 충당하기 위해 (**아프리카계**)의 강제 이주가 있었다.
- (2) 앵글로아메리카에서는 20세기 이후 라틴 아메리카에서 이주한 (**히스패닉**)이/가 급증하였다.
- (3) 캐나다의 (**퀘벡**)주는 프랑스계 주민 비율이 높아 프랑스 전통문화가 유지되고 있다.

2 라틴 아메리카의 고대 문명에 해당하는 것만을 <보기>에서 있는 대로 골라 기호를 쓰시오. **ㄱ, ㄴ, ㄷ**

보기

- | | |
|------------|--------------|
| ㄱ. 마야 문명 | ㄴ. 잉카 문명 |
| ㄷ. 아스테카 문명 | ㄹ. 메소포타미아 문명 |

3 라틴 아메리카의 민족(인종)과 주요 분포 국가를 바르게 연결 하시오.

- | | |
|--------------|---------|
| (1) 혼혈 | ㉠ 아르헨티나 |
| (2) 원주민 | ㉡ 자메이카 |
| (3) 유럽계 백인 | ㉢ 콜롬비아 |
| (4) 아프리카계 흑인 | ㉣ 페루 |

4 다음 설명이 맞으면 ○표, 틀리면 ×표를 하시오.

- (1) 미국의 민족(인종)별 구성은 유럽계, 히스패닉, 아프리카계 순으로 많다. (○)
- (2) 브라질은 에스파냐인에 의해 식민 지배를 받았다. (×)
- (3) 과달루페의 성모상은 유럽의 가톨릭과 원주민의 전통 신앙이 결합한 문화 혼종성의 대표적인 사례이다. (○)

01 그래프는 2020년 미국의 민족(인종)별 구성을 나타낸 것이다. A~C 민족(인종)으로 옳은 것은?

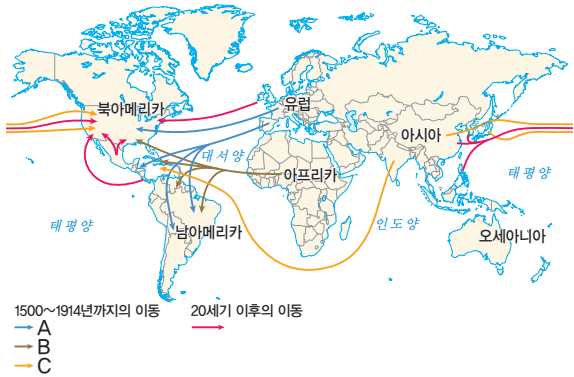


- | | A | B | C |
|---|-------|-------|-------|
| ① | 유럽계 | 히스패닉 | 아프리카계 |
| ② | 유럽계 | 아프리카계 | 히스패닉 |
| ③ | 히스패닉 | 유럽계 | 아프리카계 |
| ④ | 히스패닉 | 아프리카계 | 유럽계 |
| ⑤ | 아프리카계 | 유럽계 | 히스패닉 |

정답 ① | 미국의 민족(인종)별 구성은 유럽계가 가장 많고 다음으로 히스패닉, 아프리카계, 아시아계, 원주민 순이다.

정답 ③ | A는 유럽에서의 이주민 및 식민 지배를 위한 유럽인들의 이주이다. B는 노동력 충당을 위한 아프리카계 흑인의 강제 이주이다. C는 아시아에서 돈을 벌기 위한 경제적 목적의 아시아계들의 이주이다.

02 지도는 아메리카로의 인구이동 유형을 나타낸 것이다. A~C에 대한 옳은 설명만을 <보기>에서 있는 대로 고른 것은?



보기

- ㄱ. A는 이주민 및 식민 지배를 위한 유럽인들의 이주이다.
- ㄴ. B는 노동력 충당을 위한 아프리카계 흑인의 강제적 이주이다.
- ㄷ. C는 일자리를 목적으로 한 아시아계들의 이주이다.
- ㄹ. A~C의 결과, 문화의 단일성이 견고해 졌다.

- | | | |
|-----------|-----------|-----------|
| ① ㄱ, ㄴ | ② ㄷ, ㄹ | ③ ㄱ, ㄴ, ㄷ |
| ④ ㄱ, ㄴ, ㄹ | ⑤ ㄴ, ㄷ, ㄹ | |

[03-04] 지도를 보고 물음에 답하시오.



03 유럽계 백인의 인구 비율이 가장 높게 나타나는 국가를 지도의 A~E에서 고른 것은?

- ① A ② B ③ C ④ D ⑤ E

정답 ⑤ | A는 콜롬비아, B는 페루, C는 브라질, D는 칠레, E는 아르헨티나이다. 유럽계 백인은 거주에 유리한 온대 기후 지역에 주로 분포하는데 우루과이, 아르헨티나에서 비율이 높다.

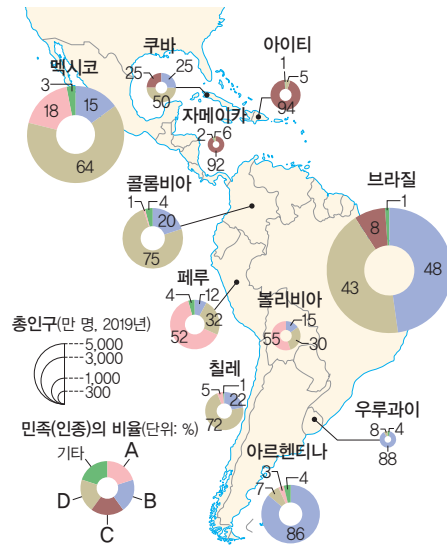
04 원주민의 인구 비율이 가장 높게 나타나는 국가를 지도의 A~E에서 고른 것은?

- ① A ② B ③ C ④ D ⑤ E

정답 ② | 원주민들은 주로 해발 고도가 높은 안데스 산지 지역에서 거주 비율이 높게 나타난다. 따라서 페루에서 원주민의 인구 비율이 가장 높다.

관단

05 지도는 라틴 아메리카의 민족(인종) 구성을 나타낸 것이다. A~D 민족(인종)으로 옳은 것은?



- | | A | B | C | D |
|---|-----|-------|-------|-------|
| ① | 혼혈 | 유럽계 | 아프리카계 | 원주민 |
| ② | 혼혈 | 원주민 | 유럽계 | 아프리카계 |
| ③ | 혼혈 | 아프리카계 | 원주민 | 유럽계 |
| ④ | 원주민 | 혼혈 | 아프리카계 | 유럽계 |
| ⑤ | 원주민 | 유럽계 | 아프리카계 | 혼혈 |

정답 ⑤ | 기후가 온화한 우루과이, 아르헨티나에서는 유럽계 백인의 인구 비율이, 페루, 볼리비아 등과 같이 해발 고도가 높은 안데스 산지에서는 원주민의 인구 비율이, 자메이카, 아이티 등 카리브해 연안 국가에서는 아프리카계 흑인의 인구 비율이 높다. 혼혈은 라틴 아메리카 전역에서 높은 비율로 나타난다.

중요

06 다음에서 설명하는 국가를 지도의 A~E에서 고른 것은?

잉카 문명이 발생한 곳으로 구리, 금 등을 많이 수출한다. 민족(인종)의 구성은 원주민의 비율이 가장 높게 나타난다.



- ① A ② B ③ C ④ D ⑤ E

정답 ⑤ | A는 멕시코, B는 콜롬비아, C는 페루, D는 칠레, E는 아르헨티나이다. 잉카 문명은 해발 고도가 높은 안데스 산지의 국가인 페루에서 발생하였다. 해발 고도가 높은 안데스 산지의 국가인 페루, 볼리비아 등에서는 원주민의 비율이 높게 나타난다.

정답 ⑥ | 다양한 문화가 섞여 서로 영향을 주고받으면서 새로운 문화가 만들어지는 것을 문화 혼종성이라고 한다. 대표적인 문화 혼종성의 사례로는 멕시코의 과달루페의 성모상, 아르헨티나의 탱고, 미국의 재즈 등이 있다.

07 ㉠에 들어갈 내용으로 가장 적절한 것은?

제목: _____ ㉠ _____

사례 1: 유럽의 가톨릭 성모 마리아상에 멕시코 원주민의 검은 머리와 갈색 피부를 반영하여 만든 과달루페 성모상



사례 2: 아프리카의 춤과 리듬이 유럽의 악기인 바이올린, 피아노 등으로 연주하는 음악과 혼합되어 만들어진 탱고



- ① 문화의 획일화
- ② 자문화 중심주의 강화
- ③ 외래문화가 기존 문화에 동화
- ④ 문화 유입으로 인한 갈등 증가
- ⑤ 기존 문화와 외래문화의 융합(혼종)

08 ㉠, ㉡에 들어갈 말로 옳은 것은?

앵글로아메리카는 영국의 영향을 받아 주로 (㉠)를 사용하며, 개신교가 주요 종교로 자리 잡고 있다. 라틴 아메리카는 남부 유럽의 영향을 받아 에스파냐어와 포르투갈어를 사용하며, (㉡) 신자 수가 많다.

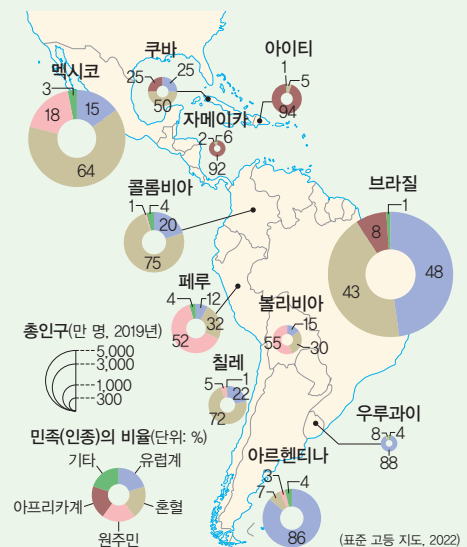
- ㉠ ㉡ ㉠ ㉡
- ① 영어 개신교 ② 영어 가톨릭
- ③ 영어 이슬람교 ④ 프랑스어 개신교
- ⑤ 프랑스어 가톨릭

정답 ② | 앵글로아메리카는 영국의 영향을 받아 주로 영어를 사용하며, 개신교가 주요 종교로 자리 잡고 있다. 라틴 아메리카는 에스파냐어와 포르투갈어의 식민 지배를 받으면서 에스파냐어와 포르투갈어를 사용하며, 가톨릭 신자 수가 많다.

구분	채점 기준
상	다양한 민족(인종) 구성이 나타난 원인을 정확히 서술한 경우
하	다양한 민족(인종) 구성이 나타난 원인을 서술하였으나 미흡한 경우

서술형 문제

09 지도는 라틴 아메리카의 민족(인종)별 구성을 나타낸 것이다. 라틴 아메리카의 민족(인종) 구성이 다양하게 나타나는 원인을 인구이동과 관련지어 서술하시오.



예시 답안 | 유럽인(에스파냐인, 포르투갈인)은 식민 지배를 목적으로 이주하였고, 아프리카계는 부족한 노동력을 충당하기 위해서 강제 이주되었다. 이 과정에서 원주민, 유럽계, 아프리카계 간의 혼혈이 이루어져 민족(인종) 구성이 다양해졌다.



3 아메리카의 초국적 기업

1 초국적 기업의 글로벌 생산체제

1. 초국적 기업의 의미와 특징

- (1) **초국적 기업**: 한 국가에 본사를 두고 세계 여러 국가에서 자회사와 공장 등을 운영하며 상품을 생산, 판매하는 기업
- (2) **초국적 기업의 발달 배경**

교통·통신의 발달	국가 간 교류가 늘어나면서 생산과 소비 활동의 범위 확대
세계 무역 기구(WTO)의 등장	자유 무역 협정(FTA)이 확대되면서 초국적 기업의 활동 범위와 영향력 증가

(3) 아메리카의 초국적 기업 **자료 1**

- ① 넓은 영토와 풍부한 자원, 자본과 기술을 바탕으로 성장한 세계적인 기업이 많아 세계 경제에 많은 영향을 주고 있음.
- ② 농업, 제조업, 서비스업, 금융업 등 다양한 분야에 초국적 기업이 많음.
- ③ 미국은 현재 세계 경제를 주도하고 있으며 세계 주요 초국적 기업의 본사가 가장 많이 입지한 국가임.

국가명	기업 개수
미국	39개
캐나다	4개
브라질	2개

(포브스, 2023)
▲ 세계 100대 기업 중 아메리카의 초국적 기업의 수

2. 초국적 기업의 공간적 분업 **자료 2**

- (1) **공간적 분업**: 경영 효율성과 이윤을 높이기 위해 본사, 연구소, 생산 공장 등을 서로 다른 국가와 지역에 나누어 배치
- (2) **초국적 기업의 기능별 입지**

본사	자국의 핵심 도시	<ul style="list-style-type: none"> • 주요 의사 결정 • 경영과 관리
연구소	지식과 기술을 갖춘 고급 인력이 풍부한 지역	<ul style="list-style-type: none"> • 기술 개발 • 연구·디자인
생산 공장	<ul style="list-style-type: none"> • 주로 임금이 낮고 노동력이 풍부한 지역 • 무역 장벽을 피하거나 시장을 확대하고자 선진국에 생산 공장을 두기도 함. 	제품 생산

- (3) 초국적 기업의 본사와 자회사는 전문화된 핵심 자산을 각자 보유하고 있어 상호의존적이며 수평적으로 연결되어 있음.

과거에는 생산비 절감을 위해 주로 아시아에 많이 위치하였으나 최근에는 무역 장벽, 국가의 세금 혜택 등으로 미국 내에 위치하는 경우가 있다.

용어 풀단지

- ◆ **자회사** 다른 회사에 종속되거나 지배받는 회사
- ◆ **자유 무역 협정(FTA)** 국가 간에 물건이나 서비스의 이동을 자유롭게 하기 위해서 세금, 법, 제도 등의 무역 장벽을 줄이거나 없애기로 한 협정
- ◆ **무역 장벽** 국가 간 경쟁에서 자국 상품을 보호하기 위해 정부가 인위적으로 취하는 법적·제도적 장치

자료 풀단지

교과서 확인: 미래엔

자료 1 아메리카의 초국적 기업



▲ N 사의 신발, 의류



▲ A 사의 스마트폰

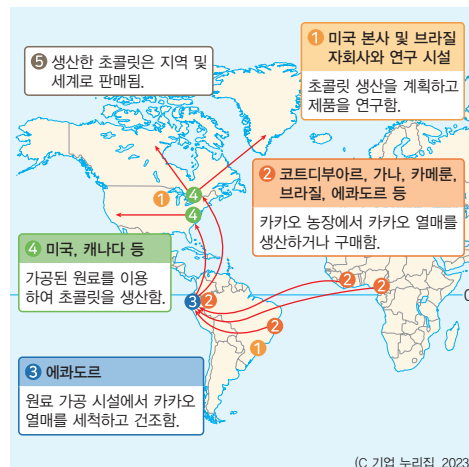


▲ S 사의 커피 전문점(아랍 에미리트)

일상생활에서 사용되는 초국적 기업의 제품은 많다. 먼저, N 사의 신발은 본사는 미국에 있지만, 공장은 베트남에 위치하며 전 세계적으로 판매되고 있다. A 사의 스마트폰도 본사는 미국이지만 인도에서 생산되고, S 사의 커피도 본사는 미국이지만 원료 생산지는 브라질이다.

교과서 확인: 아침나라

자료 2 초국적 기업의 공간적 분업



(C) 기업 누리집, 2023

미국 C 기업의 본사는 미국에, 연구소는 브라질에 위치하고 있으며(①), 코트디부아르, 가나, 카메룬 등에서 카카오 열매를 생산하거나 구매한다(②). 카카오 열매를 세척하고 가공하여 원료를 만드는 공장은 노동력이 풍부한 에콰도르에 입지하며(③), 시장과 가까운 미국과 캐나다의 공장에서는 원료를 가공하여 초콜릿 제품을 생산하고(④), 이를 전 세계에 판매한다(⑤).

2 초국적 기업이 가져온 지역의 변화

1. 초국적 기업의 해외 이전 이유

→ 대체로 생산 공장이 이전하는 경우야.

- (1) 생산 비용을 줄이기 위해 저임금 노동력이 풍부한 국가로 이전
- (2) 상품 판매 시장을 확보하기 위해 제품 수요가 많은 국가로 이전
- (3) 세금 혜택이나 정부 지원 등 기업 활동에 유리한 국가로 이전

2. 초국적 기업의 이전에 따른 지역 변화 **자료 3**

초국적 기업이 입지하는 지역	<ul style="list-style-type: none"> • 일자리 창출과 기술 이전으로 지역 경제 발전 • 비슷한 제품을 생산하는 국내 기업의 경쟁력 상실 • 환경 오염 문제 발생
초국적 기업이 나가는 지역	<ul style="list-style-type: none"> • 실업률이 높아지고 인구가 감소하여 지역 경제 침체 • 산업이 이전하면서 생산 능력이 떨어지고 산업이 쇠퇴하여 산업 구조에 공백이 생기는 산업 공동화 현상 발생

자료 끝단지

교과서 확인 : 동아, 비상, 아침나라

자료 3 초국적 기업의 이전에 따른 지역 변화



▲ 1910년대 디트로이트



▲ 2010년대 디트로이트

세계적인 자동차 산업의 중심지였던 디트로이트는 생산 공장을 해외로 이전하면서 일자리가 줄고 실업률이 급증하면서 도시 경제와 사회에 심각한 영향을 미쳤다.

용어 끝단지

- ◆ **입지** 인간이 경제활동을 하려고 선택하는 장소
- ◆ **실업률** 경제활동 인구에 속하며 적극적으로 일자리를 구했지만, 취업에 실패한 상태를 실업이라고 하며, 실업률은 경제활동 인구 중 실업 인구가 차지하는 비율임.

STEP 1

개념 IN

1 다음 설명이 맞으면 ○표, 틀리면 ×표를 하시오.

- (1) 초국적 기업은 한 국가에 본사와 생산 공장, 판매처를 두고 상품을 생산, 판매하는 거대 기업이다. (×)
- (2) 세계 100대 기업 중 아메리카의 초국적 기업 수가 가장 많다. (○)
- (3) 본사, 연구소, 생산 공장 등을 여러 지역에 분산하는 것을 공간적 분업이라고 한다. (○)
- (4) 캐나다는 현재 세계 경제를 주도하고 있으며 세계 주요 초국적 기업의 본사가 가장 많이 입지한 국가이다. (×)

2 초국적 기업의 발달 배경으로 옳은 것만을 <보기>에서 있는 대로 골라 기호를 쓰시오. 가, 다, 라

보기

- 가. 교통·통신의 발달
- 나. 외국 기업의 활동 규제
- 다. 세계 무역 기구(WTO)의 등장
- 라. 자유 무역 협정(FTA)의 확대

3 초국적 기업의 시설과 특징을 바르게 연결하십시오.

- | | | |
|-----------|---|-----------------------|
| (1) 본사 | • | ⓐ 임금이 낮고, 노동력이 풍부한 지역 |
| (2) 연구소 | • | ⓑ 기술 개발 및 연구·디자인 |
| (3) 생산 공장 | • | ⓒ 주요 의사 결정 및 경영과 관리 |

4 ㉠, ㉡ 중 알맞은 것을 고르시오.

- (1) 초국적 기업은 생산비를 줄이기 위해 노동비가 (㉠) 저렴한, (㉡) 비싼) 국가로 이전한다.
- (2) 초국적 기업이 입지하는 지역은 일자리 창출과 기술 이전으로 지역 경제가 (㉠) 발전, (㉡) 침체)한다.
- (3) 초국적 기업이 떠난 지역은 지역 경제가 (㉠) 발전, (㉡) 침체)하는 경우가 많다.
- (4) 초국적 기업이 (㉠) 입지, (㉡) 떠나는) 지역은 산업 공동화 현상이 발생한다.

01 초국적 기업의 특징에 대한 설명으로 옳지 않은 것은?

- ① 교통과 통신의 발달로 확대되었다.
- ② 공산품을 생산하는 제조업의 활동만 해당한다.
- ③ 세계 무역 기구(WTO)의 등장이 영향을 주었다.
- ④ 국경을 초월한 물건, 노동, 자본 등의 이동이 활발해졌다.
- ⑤ 한 국가에 본사를 두고 세계 여러 지역에 자회사를 운영한다.

정답 ② | 초국적 기업은 제조업뿐만 아니라 농업, 서비스업, 금융업 등 다양한 분야에 진출하고 있다.

02 다음에서 설명하는 용어로 옳은 것은?

기술 발달로 생산이 표준화·자동화 단계에 이르면 생산 기능은 값싼 노동력이 풍부한 곳을 선호하여 주변 지역이나 해외로 옮겨 나간다. 하지만 관리 기능을 담당하는 본사는 풍부한 자본과 우수한 경영 인력이 있는 대도시에 남으며, 기술 개발을 담당하는 연구 부문은 우수 인력을 구하기 쉽고 관련 시설들이 발달하고 있는 곳에 입지하게 된다.

- ① 공간적 분업 ② 집적의 불이익
- ③ 첨단 산업의 입지 ④ 최소 운송비 입지
- ⑤ 공업의 입지와 요인

정답 ① | 경영 효율성과 이윤을 높이기 위해 본사, 연구소, 생산 공장 등을 서로 다른 국가와 지역에 나누어 배치하는 것을 공간적 분업이라고 한다.

정답 ④ | 초국적 기업은 본사, 연구소, 생산 공장 등을 서로 다른 국가와 지역에 배치하는 공간적 분업이 나타난다. 이는 경영의 효율성을 높이고 이윤을 극대화하기 위한 목적이다.

03 초국적 기업의 글로벌 생산체제에 대한 설명으로 옳은 것을 <보기>에서 고른 것은?

보기

- ㄱ. 국내 수요자를 중심으로 판매하고자 한다.
- ㄴ. 기능별 입지가 다른 공간적 분업이 나타난다.
- ㄷ. 본사, 연구소, 생산 공장이 같은 국가에 입지한다.
- ㄹ. 경영의 효율을 높이고 이윤을 극대화하기 목적이다.

- ① ㄱ, ㄴ ② ㄱ, ㄷ ③ ㄴ, ㄷ
- ④ ㄴ, ㄹ ⑤ ㄷ, ㄹ

관단

04 지도는 미국의 어느 초국적 기업의 조직 분포를 나타낸 것이다. 이에 대한 설명으로 옳은 것을 <보기>에서 고른 것은?



보기

- ㄱ. 본사는 자국의 대도시에 입지하고 있다.
- ㄴ. 총판업체는 개발 도상국에 위치하고 있다.
- ㄷ. 생산 공장은 인건비가 저렴한 국가에 입지한다.
- ㄹ. 대리점은 기술 개발 및 연구·디자인 기능을 한다.

- ① ㄱ, ㄴ ② ㄱ, ㄷ ③ ㄴ, ㄷ
- ④ ㄴ, ㄹ ⑤ ㄷ, ㄹ

정답 ② | 중요 의사 결정을 하는 본사는 자국의 핵심 도시에 입지하고 있으며, 총판업체는 유럽, 일본, 미국과 같은 선진국에 입지하고 있다. 생산 공장은 저임금 노동력이 풍부한 개발 도상국인 베트남, 타이 등에 입지하고 있으며, 대리점은 상품을 판매하기 위해 세계 여러 국가에 입지하고 있다.

정답 ② | 초국적 기업의 경영과 관리를 하는 본사는 자국의 대도시에 입지하고, 기술 개발을 하는 연구소는 전문 인력이 풍부한 선진국의 대도시에 입지한다. 반면 제품을 생산하는 생산 공장은 저임금 노동력이 풍부한 개발 도상국에 입지한다.

중요

05

㉠~㉣에 들어갈 말로 옳은 것은?

초국적 기업의 본부, 연구 개발, 생산 공장은 여러 국가에 분산하여 입지한다. 특히 세계적인 초국적 기업의 경우 본사는 주로 (㉠)에 입지하고 연구소의 주요 기능은 (㉡)이며, 생산 공장은 (㉢)이 풍부한 지역에 입지한다.

- | | | | |
|-----------------|-----------|----------|---|
| | ㉠ | ㉡ | ㉢ |
| ① 자국의 대도시 | 기술 개발 | 전문 경영인 | |
| ② 자국의 대도시 | 기술 개발 | 저임금 인력 | |
| ③ 자국의 대도시 | 경영과 관리 | 저임금 인력 | |
| ④ 개발 도상국의 대도시 | 경영과 관리 | 고급 기술 인력 | |
| ⑤ 개발 도상국의 지방 도시 | 제품의 대량 생산 | 저임금 인력 | |

06 다음 글을 통해 탐구할 수 있는 주제로 가장 적절한 것은?

미국의 자동차 부품 제조업체는 특정 부품의 경우 저렴한 노동력과 같은 입지 요인이 더 중요하게 작용하여 최종 조립 공장에서 멀리 떨어진 지역에서 생산되기도 한다. 예를 들면 알루미늄 휠은 중국에서, 차량용 전선은 멕시코에서 생산한 제품을 수입하는 것이다.

- ① 무역 장벽 극복을 위한 기업 진출
- ② 운송비 절감을 위한 해외 공장 진출
- ③ 경영과 의사 결정을 위한 본사의 해외 이전
- ④ 저임금 노동력을 이용한 초국적 기업의 생산비 절감
- ⑤ 우수한 연구 인력 확보를 위한 초국적 기업의 진출

정답 ④ | 제시된 글은 저임금 노동력이 풍부한 지역에서 생산비를 절감하기 위한 목적의 내용이다.

중요
07 초국적 기업의 이전에 따른 지역 변화에 대한 설명으로 옳은 것을 <보기>에서 고른 것은?

보기

- ㄱ. 초국적 기업이 나가는 지역은 인구가 증가한다.
- ㄴ. 초국적 기업이 나가는 지역은 실업률이 높아진다.
- ㄷ. 초국적 기업이 입지하는 지역은 경제 침체를 가져온다.
- ㄹ. 초국적 기업이 입지하는 지역은 환경 문제가 발생하기도 한다.

- ① ㄱ, ㄴ ② ㄱ, ㄹ ③ ㄴ, ㄷ
- ④ ㄴ, ㄹ ⑤ ㄷ, ㄹ

정답 ④ | 초국적 기업이 입지하는 지역은 일자리를 증가시켜 실업률이 감소하고 기술 이전 등으로 지역 경제가 발전되지만 환경 오염 문제 등이 발생하기도 한다. 반대로, 초국적 기업이 나가는 지역은 일자리 감소로 인해 실업률이 증가하고 인구가 감소하여 지역 경제가 침체된다.

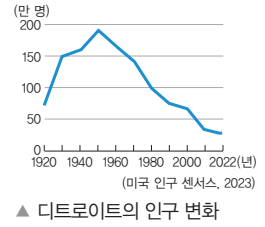
08 초국적 기업이 입지하는 지역의 변화로 옳지 않은 것은?

- ① 일자리 창출
- ② 인구의 빠른 감소
- ③ 환경 오염 문제 발생
- ④ 국내 기업의 경쟁력 상실
- ⑤ 기술 이전으로 지역 경제 발전

정답 ② | 인구의 빠른 감소는 초국적 기업이 나가는 지역에서 주로 발생하는 현상이다.

09 다음 사례에서 나타나는 지역의 변화로 옳은 것을 <보기>에서 고른 것은?

디트로이트는 미국 자동차 산업의 중심지로 '자동차 도시(motor city)'라고 불리며 성장하였다. 하지만 자동차 생산 공장이 해외로 이전하면서 인구가 크게 감소하였다.



보기

- ㄱ. 실업률 증가
- ㄴ. 지역 경제 침체
- ㄷ. 환경 오염 문제 발생
- ㄹ. 기술 이전으로 인한 경제 발전

- ① ㄱ, ㄴ ② ㄱ, ㄷ ③ ㄴ, ㄷ
- ④ ㄴ, ㄹ ⑤ ㄷ, ㄹ

정답 ① | 초국적 기업의 해외로의 이전은 해당 지역의 일자리 감소로 인한 실업률 증가와 인구 감소로 이어져 지역 경제가 침체된다.

구분	채점 기준
상	멕시코에 생산 공장이 입지하는 이유를 정확히 서술한 경우
하	멕시코에 생산 공장이 입지하는 이유를 서술하였으나 미흡한 경우

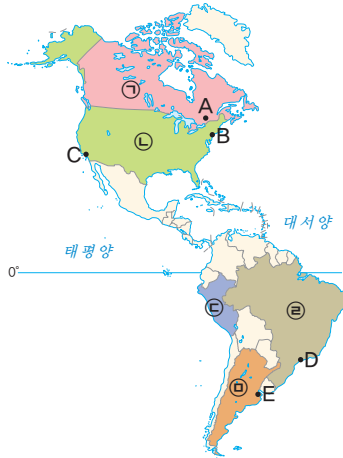
서술형 문제

10 지도는 멕시코 내 주요 자동차 생산 공장 입지를 나타낸 것이다. 멕시코에 생산 공장이 입지하는 이유를 글로벌 생산 체제 측면에서 서술하시오.



예시 답안 | 멕시코는 커다란 소비 시장인 미국과 거리가 가깝고, 저임금 노동력이 풍부하여 생산비를 절감할 수 있기 때문에 생산 공장이 입지한다.

[01-04] 지도를 보고 물음에 답하십시오.



01 (가), (나)에 해당하는 국가를 지도의 ㉠~㉥에서 고른 것은?

(가) 북아메리카에서 가장 면적이 넓은 영토를 가지고 있으며 미국과 접해 있다.

(나) 남아메리카에서 가장 면적이 넓고 아마존강이 흐르며 열대 우림이 넓게 분포한다.

- | | | | | | |
|---|-----|-----|---|-----|-----|
| | (가) | (나) | | (가) | (나) |
| ① | ㉠ | ㉡ | ② | ㉢ | ㉣ |
| ③ | ㉤ | ㉥ | ④ | ㉦ | ㉧ |
| ⑤ | ㉨ | ㉩ | | | |

정답 ② | ㉠은 캐나다, ㉡은 미국, ㉢은 페루, ㉣은 브라질, ㉤은 아르헨티나이다. 캐나다는 북아메리카에서 가장 면적이 넓은 영토를 가지고 있으며 미국과 접해 있다. 브라질은 남아메리카에서 가장 면적이 넓고 아마존강이 흐르며 아마존강 유역에는 열대 우림이 넓게 분포한다.

02 다음에서 설명하는 도시를 지도의 A~E에서 고른 것은?

우리나라 교민이 많이 거주하고 있으며, 세계 영화 산업을 이끄는 할리우드가 있는 도시이다.



- ① A ② B ③ C ④ D ⑤ E

정답 ③ | A는 오타와, B는 뉴욕, C는 로스앤젤레스, D는 상파울루, E는 부에노스아이레스이다. 세계 영화 산업을 이끄는 할리우드가 있고 우리나라 교민이 많이 거주하는 도시는 미국의 로스앤젤레스(A)이다.

03 (가)에 해당하는 국가를 지도의 ㉠~㉥에서 고른 것은?

잉카인의 축제, (가) 태양제



(가) 쿠스코에서 태양제가 열린다. 태양제는 잉카인이 태양신에게 풍작을 기원하는 제사이다.

- ① ㉠ ② ㉡ ③ ㉢ ④ ㉣ ⑤ ㉤

정답 ③ | 잉카 문명은 해발 고도가 높은 안데스 산지의 국가인 페루에서 발생하였다. 페루 쿠스코에서는 전통문화를 보존하기 위해서 태양제 축제를 개최하고 있다.

04 (가), (나)에 해당하는 도시를 지도의 A~E에서 고른 것은?

(가) 월가(Wall Street)를 중심으로 세계 경제의 중심 역할을 하고, 국제연합(UN) 본부가 있다.

(나) 남아메리카에서 인구가 가장 많은 도시로, 남아메리카 금융의 중심지 역할을 한다.

- | | | | | | |
|---|-----|-----|---|-----|-----|
| | (가) | (나) | | (가) | (나) |
| ① | A | E | ② | B | D |
| ③ | C | D | ④ | D | B |
| ⑤ | E | A | | | |

정답 ② | (가)는 미국의 뉴욕에 대한 설명이고, (나)는 브라질의 상파울루에 대한 설명이다.

중요

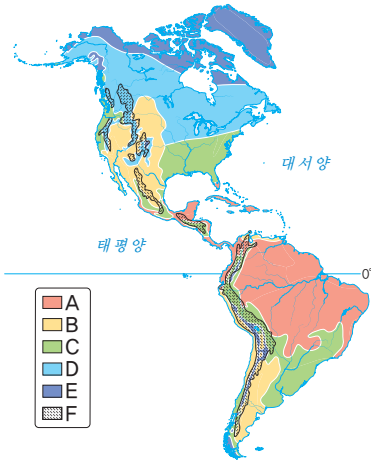
05 ㉠~㉥에 들어갈 말로 옳은 것은?

아메리카는 지리적으로 (㉠)을 경계로 북아메리카와 남아메리카로 구분하며, 문화적으로 (㉡)을 경계로 앵글로아메리카와 (㉢)로 구분하기도 한다.

- | | | | |
|---|--------|--------|---------|
| | ㉠ | ㉡ | ㉢ |
| ① | 미시시피강 | 리오그란데강 | 라틴 아메리카 |
| ② | 파나마 지협 | 미시시피강 | 중앙아메리카 |
| ③ | 파나마 지협 | 리오그란데강 | 라틴 아메리카 |
| ④ | 리오그란데강 | 미시시피강 | 중앙아메리카 |
| ⑤ | 리오그란데강 | 파나마 지협 | 라틴 아메리카 |

정답 ③ | 아메리카는 지리적으로 파나마 지협을 기준으로 북아메리카와 남아메리카로 구분하고, 문화적으로 리오그란데강을 기준으로 앵글로아메리카와 라틴 아메리카로 구분한다.

[06-07] 지도를 보고 물음에 답하시오.



중요

06 (가), (나) 생활 모습을 볼 수 있는 지역을 지도의 A~F에서 고른 것은?

(가)



(나)



- | | | | |
|-----|-----|-----|-----|
| (가) | (나) | (가) | (나) |
| ① A | B | ② B | C |
| ③ C | D | ④ D | E |
| ⑤ E | F | | |

정답 ⑥ | A는 열대 기후, B는 건조 기후, C는 온대 기후, D는 냉대 기후, E는 한대 기후, F는 고산 기후이다. (가)는 북극해 주변의 이누이트의 생활 모습으로 한대 기후 지역에서 볼 수 있다. (나)는 안데스 산지에 거주하고 있는 원주민의 생활 모습으로 고산 기후 지역에서 볼 수 있다.

관도

07 다음과 같은 기후가 나타나는 지역을 지도의 A~E에서 고른 것은?

구분	월	1	2	3	4	5	6	7	8	9	10	11	12
월평균 기온(°C)		26.8	26.6	26.8	26.8	27.1	27.3	27.5	28.3	28.6	28.4	28.2	27.2
월 강수량(mm)		307	300	334	326	229	114	73	56	77	115	192	258

- ① A ② B ③ C ④ D ⑤ E

정답 ① | 제시된 기후는 가장 추운 달의 평균 기온이 18°C 이상으로 연중 기온이 높게 나타나고 있으며 연 강수량도 많은 것으로 보아 열대 기후 지역이다.

08 (가), (나)에 해당하는 지형을 지도의 A~E에서 고른 것은?

- (가) 북아메리카의 태평양 연안을 따라 뻗어 있는 높고 험준한 산맥으로 지진과 화산 활동이 활발하다.
 (나) 세계에서 가장 넓은 지역을 흐르는 하천으로 주변에는 열대 우림이 우거져 있다.



- | | | |
|---|-----|-----|
| | (가) | (나) |
| ① | A | B |
| ② | A | D |
| ③ | C | E |
| ④ | E | B |
| ⑤ | E | D |

정답 ② | A는 로키산맥, B는 북아메리카 중부의 대평원, C는 애팔래치아산맥, D는 아마존강, E는 안데스산맥이다. (가)는 높고 험준하며 지진과 화산 활동이 활발한 로키산맥, (나)는 아마존강에 대한 설명이다.

정답 ③ | 미국의 민족(인종) 구성은 유럽계가 가장 많고 다음으로 히스패닉, 아프리카계, 아시아계, 원주민 순이다.

09 그래프는 2020년 미국의 민족(인종)별 구성을 나타낸 것이다. A~C 민족(인종)으로 옳은 것은?



- | | | | |
|---|-------|-------|-------|
| | A | B | C |
| ① | 아시아계 | 히스패닉 | 아프리카계 |
| ② | 히스패닉 | 아시아계 | 아프리카계 |
| ③ | 히스패닉 | 아프리카계 | 아시아계 |
| ④ | 아프리카계 | 아시아계 | 히스패닉 |
| ⑤ | 아프리카계 | 히스패닉 | 아시아계 |

10 ㉠, ㉡에 들어갈 말로 옳은 것은?

혼혈인은 라틴 아메리카 전역에 걸쳐 거주하고 있다. 원주민은 주로 (㉠) 산지에 위치한 페루와 볼리비아에서, 유럽계는 거주에 유리한 (㉡) 기후가 나타나는 우루과이와 아르헨티나에서 거주 비율이 높게 나타난다. 아프리카계는 대규모 농장이 발달한 브라질과 카리브해 연안의 자메이카 등에 집중적으로 분포한다.

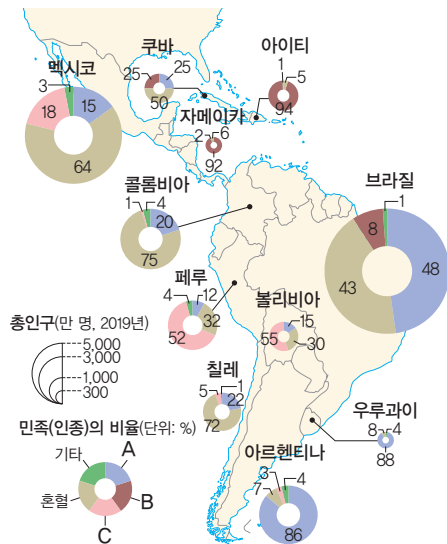
- ㉠ ㉡
- ① 로키 고산 ② 로키 온대
- ③ 안데스 고산 ④ 안데스 열대
- ⑤ 안데스 온대

정답 ⑥ | 페루, 볼리비아 등과 같이 해발 고도가 높은 안데스 산지에서는 원주민의 인구 비율이 높고, 기후가 온화한 우루과이, 아르헨티나에서는 유럽계 백인의 인구 비율이 높다.

정답 ④ | 기후가 온화한 우루과이, 아르헨티나에서는 유럽계 백인의 인구 비율이 높고, 페루, 볼리비아 등과 같이 해발 고도가 높은 안데스 산지에서는 원주민의 인구 비율이 높다. 자메이카, 아이티 등 카리브해 연안 국가에서는 아프리카계 흑인의 인구 비율이 높다.

중요

11 지도는 라틴 아메리카의 민족(인종)별 구성을 나타낸 것이다. A~C 민족(인종)으로 옳은 것은?



- A B C
- ① 원주민 유럽계 아프리카계
- ② 원주민 아프리카계 유럽계
- ③ 유럽계 원주민 아프리카계
- ④ 유럽계 아프리카계 원주민
- ⑤ 아프리카계 원주민 유럽계

창의·융합

12 다음에서 설명하는 국가가 다양한 민족(인종)이 구성된 원인으로 옳은 것을 <보기>에서 고른 것은?



멕시코의 화가인 프리다 칼로는 혼혈인으로, 작품 「버스」에는 멕시코의 다양한 민족(인종) 구성이 표현되어 있다. 그림의 중앙에는 아이를 안은 원주민 여자와 어린 소년이 있고, 왼쪽에는 혼혈인 여성과 작업복을 입은 혼혈인 남성이 보인다. 오른쪽에는 돈주머니를 들고 있는 유럽계 백인 남성과 혼혈인 여성이 앉아 있다.

보기

- ㄱ. 철저한 민족(인종) 분리 정책 실시
- ㄴ. 문화 동화를 통한 원주민 문화의 소멸
- ㄷ. 식민 지배를 통한 유럽계 이주민 유입
- ㄹ. 부족한 노동력 보충을 위한 아프리카계 노예 이주

- ① ㄱ, ㄴ ② ㄱ, ㄷ ③ ㄴ, ㄹ
- ④ ㄴ, ㄹ ⑤ ㄷ, ㄹ

정답 ⑥ | 유럽인(에스파냐인, 포르투갈인)은 식민 지배를 목적으로 라틴 아메리카로 이주하였고, 아프리카계는 부족한 노동력을 충당하기 위해서 강제 이주되었다. 이 과정에서 원주민, 유럽계, 아프리카계 간의 혼혈이 이루어져 민족(인종) 구성이 다양해졌다.

13 밑줄 친 ㉠으로 옳지 않은 것은?

아메리카의 문화는 아메리카 원주민의 전통문화와 유럽계, 아프리카계 이주민의 문화 요소가 상호 작용하며 발전하였다. 이처럼 다른 문화가 섞여 여러 가지 정체성을 지닌 새로운 문화를 만드는 현상을 문화 혼종성이라고 한다. 아메리카의 예술 작품, 축제, 음식, 건축 경관 등에서 다양한 문화가 융합된 ㉠ 문화 혼종성의 사례를 찾아볼 수 있다.

- ① 미국의 재즈
- ② 미국의 청바지
- ③ 아르헨티나의 탱고
- ④ 과달루페의 성모상
- ⑤ 브라질의 리우 카니발

정답 ② | 미국의 청바지는 세계화로 인해 전 세계로 전파된 문화 획일화의 사례에 해당한다.

14 ㉠의 발달 배경으로 옳은 것을 <보기>에서 고른 것은?

오늘날 세계는 여러 지역의 사람들이 협력하여 다양한 상품과 서비스를 생산하는 글로벌 생산체제를 이루고 있다. 이러한 글로벌 생산체제를 주도하며 국경을 넘어 제품을 생산하고 판매하는 기업을 (㉠)이라고 한다.

- 보기**
- ㄱ. 국경 통제 강화
 - ㄴ. 교통·통신의 발달
 - ㄷ. 세계 무역 기구(WTO)의 등장
 - ㄹ. 자국의 산업 보호를 위한 보호 무역주의 정책

- ① ㄱ, ㄴ ② ㄱ, ㄷ ③ ㄴ, ㄷ
- ④ ㄴ, ㄹ ⑤ ㄷ, ㄹ

정답 ③ | ㉠은 초국적 기업이다. 초국적 기업은 교통과 통신의 발달, 세계 무역 기구(WTO)의 등장으로 국경을 초월한 물건, 노동, 자본 등의 이동이 활발해지면서 빠르게 성장하였다.

정답 ② | 초국적 기업의 경영과 관리를 하는 본사는 자국의 대도시에 입지하고, 기술 개발을 하는 연구소는 전문 인력이 풍부한 선진국의 대도시에 입지한다. 반면 제품을 생산하는 생산 공장은 저임금 노동력이 풍부한 개발도상국에 입지한다.

15 밑줄 친 ㉠에 해당하는 입지 시설과 특징을 연결한 것으로 옳은 것은?

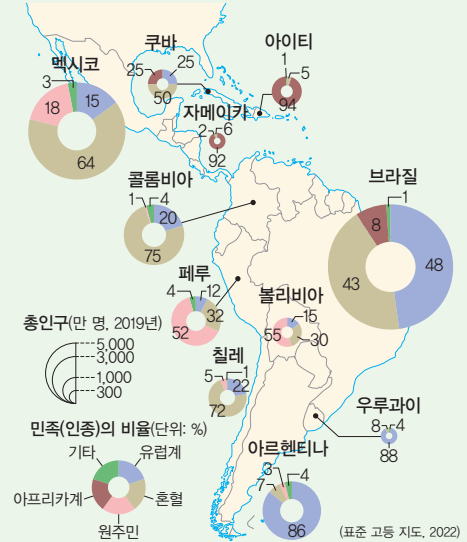
초국적 기업은 이윤을 최대한 창출하기 위해 기업의 기획·관리·연구·생산·판매 등의 기능을 기업 활동에 도움이 되는 최적의 지역에 분산하여 배치하는데, 이를 ㉠ 공간적 분업이라고 한다.



- | 시설 | 특징 |
|---------|-----------|
| ① 본사 | 기술 개발 |
| ② 본사 | 경영과 의사 결정 |
| ③ 연구소 | 제품의 대량 생산 |
| ④ 생산 공장 | 기술 개발 |
| ⑤ 생산 공장 | 경영과 의사 결정 |

서술형 문제

16 지도는 라틴 아메리카의 민족(인종)별 구성을 나타낸 것이다. 아르헨티나와 우루과이에서 유럽계 백인의 인구 비율이 높게 나타나는 원인을 서술하시오.



예시 답안 | 아르헨티나와 우루과이는 거주에 유리한 온대 기후가 나타나기 때문에 유럽계 백인의 인구 비율이 높게 나타난다.

구분	채점 기준
상	유럽계 백인의 인구 비율이 높은 원인을 정확히 서술한 경우
하	유럽계 백인의 인구 비율이 높은 원인을 서술하였으나 미흡한 경우

구분	채점 기준
상	인도에서 나타날 수 있는 지역 변화를 정확히 서술한 경우
하	인도에서 나타날 수 있는 지역 변화를 서술하였으나 미흡한 경우

17 다음 글을 읽고 인도에서 나타날 수 있는 지역 변화를 서술하시오.

스마트폰, 태블릿 컴퓨터 등 스마트 기기를 제작하는 미국의 초국적 기업 A 사는 제품을 안정적으로 확보하고 중국에 대한 의존도를 낮추기 위해 새로운 제품을 인도에서 생산하기로 하였다. 미국의 한 투자 은행은 A 사가 올해 말까지 전체 스마트 기기 생산량의 5%를 인도로 이전할 것으로 전망했고, 2025년에는 인도 내 생산이 전체의 4분의 1에 이를 것이라고 보았다.

예시 답안 | 초국적 기업의 유입으로 일자리가 증가하고 실업률이 감소하여 지역 경제가 발전할 것이다. 그러나 환경 오염 문제 등이 발생할 수 있다.



오세아니아와 극지방

- 01 오세아니아의 지리적 특성과 상호연계성
- 02 태평양 지역의 환경 문제와 해결 방안
- 03 극지방의 지리적 중요성과 지역 개발

배울 내용 확인하기

오스트레일리아는 어느 지역과 교류가 활발하나요?


태평양 지역은 어떤 환경 문제가 발생하나요?

극지방의 중요성은 무엇이 있나요?

생태계와 지구 기후에 큰 영향을 미치고 있어요.

해양 쓰레기 문제와 해수면 상승 문제가 발생해요.

최근에는 지리적으로 인접한 아시아 국가와의 교류가 활발해요.



오세아니아의 지리적 특성과 상호연계성

1 오세아니아의 국가와 도시

1. 오세아니아의 위치

우리가 사는 대륙과 대륙이 반대야.

- (1) 대륙의 대부분이 남반구에 위치
- (2) 인도양과 태평양 사이에 위치
- (3) 날짜 변경선이 지나가는 곳에 위치

2. 오세아니아의 국가와 주요 도시

자료 1

경도 180°를 기준으로 삼아 인위적으로 날짜를 구분하는 선이야.

오스트레일리아	<ul style="list-style-type: none"> 오세아니아에서 국토 면적이 가장 넓음. 캔버라: 오스트레일리아의 수도 멜버른: 유럽의 영향을 많이 받은 옛 수도 시드니: 오스트레일리아에서 인구가 가장 많음.
뉴질랜드	<ul style="list-style-type: none"> 북섬과 남섬으로 이루어짐. 웰링턴: 뉴질랜드의 수도 오클랜드: 뉴질랜드에서 인구가 가장 많음.
태평양 섬 국가	파푸아뉴기니, 피지, 솔로몬 제도, 투발루 등



▲ 시드니(오스트레일리아)



▲ 오클랜드(뉴질랜드)

3. 오세아니아의 자연환경

(1) 오세아니아의 지형

자료 2

동부 산지에 내린 빙물이 지하로 스며들어 지하수층을 이루면 건조 지역에서 찬정을 개발하여 이 물을 사용한다.

오스트레일리아	서부	고원과 사막이 넓게 분포
	중앙	<ul style="list-style-type: none"> 대찬정 분지: 찬정 개발로 농목업이 가능한 건조 지역의 넓은 분지 넓은 평원이 분포
	동부	그레이트디바이딩산맥: 오랜 기간 침식을 받아 비교적 낮고 완만함.
	북동부 해안	대보초 해안: 세계 최대 규모의 산호초 지역
뉴질랜드	북섬	화산 지형, 온천 등 발달
	남섬	높은 산지, 다양한 빙하 지형 발달
태평양 섬 국가	대부분	<ul style="list-style-type: none"> 화산섬: 환태평양 조산대 산호초: 바닷물이 따뜻한 열대 기후 지역

자료 1

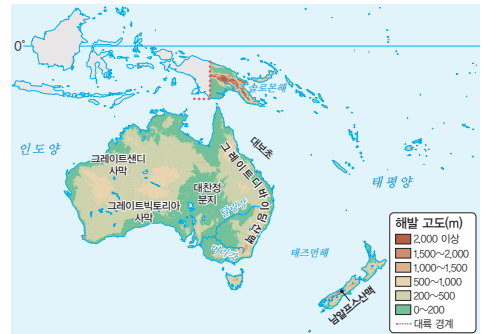
교과서 확인: 동아, 미래엔, 비상, 아침나라, 천재
자료 1 오세아니아의 국가와 주요 도시



오세아니아는 오스트레일리아와 뉴질랜드를 비롯해 태평양의 작은 섬나라들로 이루어져 있다. 오스트레일리아와 뉴질랜드를 제외한 다른 국가들은 인구가 적어 대도시가 발달하지 않았다.

교과서 확인: 동아, 미래엔, 비상, 아침나라, 천재

자료 2 오세아니아의 지형



▲ 와이랑구 화산 계곡 (뉴질랜드 북섬)



▲ 폭스 빙하 계곡 (뉴질랜드 남섬)

오스트레일리아는 지각 형성이 오래되어 대체로 낮고 평탄한 지형이 나타난다. 서부에는 사막이 넓게 분포하고, 중앙에는 대찬정 분지와 넓은 평원이 분포한다. 동부의 그레이트디바이딩산맥은 오랜 기간 침식을 받아 비교적 낮고 완만하다. 환태평양 조산대가 지나가는 뉴질랜드의 북섬에는 화산 지형이 발달하였으며, 남섬에서는 다양한 빙하 지형을 볼 수 있다.

용어 풀단지

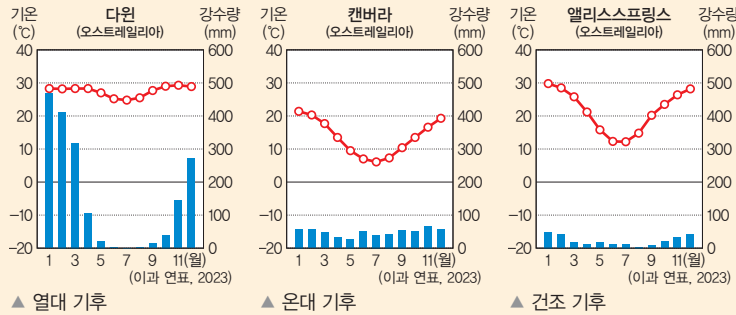
- ▶ **찬정** 오스트레일리아의 건조 지대에서 지하수를 끌어올려 사용하는 대규모의 우물
- ▶ **산호초** 산호의 유해인 탄산칼슘이 쌓여서 만들어진 암초
- ▶ **환태평양 조산대** 태평양 주변의 지진과 화산 활동이 자주 일어나는 지역들을 가리키는 말이며 '불의 고리'라고도 불림.

(2) 오세아니아의 기후 **자료 3**

① 오세아니아의 기후 유형

오스트레일리아	열대 기후	<ul style="list-style-type: none"> • 분포: 적도와 가까운 북부 지역 • 기후 특징: 연중 기온이 높고 강수량의 계절 차이가 큼.
	건조 기후	분포: 중앙 평원, 서부 지역
	온대 기후	<ul style="list-style-type: none"> • 분포: 남동부 지역, 남서부 지역 • 사람이 살기 좋아 대도시 발달
뉴질랜드	온대 기후	<ul style="list-style-type: none"> • 분포: 뉴질랜드 대부분 지역 • 기후 특징: 바다의 영향을 받아 기온의 연교차가 작고 연중 강수량이 고름.
태평양 섬 국가	열대 기후	<ul style="list-style-type: none"> • 분포: 태평양 섬 국가 대부분 지역 • 기후 특징: 연중 기온이 높고 강수량이 많음.

② 오세아니아의 기후 그래프



2 오세아니아와 다른 지역과의 상호연계성

1. 오세아니아의 자원 **자료 4**

(1) 오스트레일리아

- ① 철광석, 석탄, 금 등 지하자원이 풍부하여 광물 수출이 활발함.
- ② 밀 농사, 양과 소 등의 육류와 유제품을 생산하는 기업적 농목업 발달

(2) 뉴질랜드: 육류와 치즈, 버터 등 유제품을 주로 수출 세계 시장에 팔기 위해 대규모로 이루어지는 농업이나 목축업을 말해.

2. 오세아니아와 다른 지역과의 상호연계성 **자료 5**

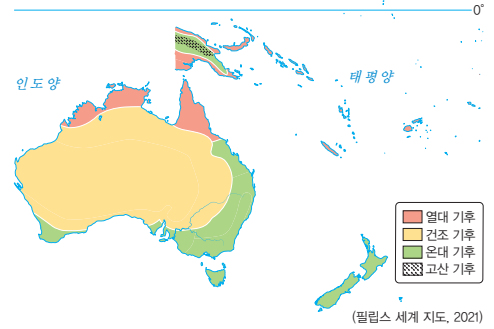
- (1) 인구가 적은 오세아니아 국가들은 국내 소비 시장의 규모가 작아 제조업 성장이 상대적으로 취약함.
- (2) 주로 공산품은 수입하고, 지하자원 및 농·축산품을 수출
- (3) 과거 영국과의 교류가 활발하였지만, 최근 우리나라, 중국, 일본 등 지리적으로 인접한 아시아 국가와의 교류가 활발함.
- (4) 원활한 무역을 위한 자유 무역 협정(FTA) 체결 추진

용어 풀단지

- ◆ **유제품** 일반적으로 우유를 비롯한 젖에서 얻는 식품군으로, 농축, 건조, 발효, 응고, 분리와 같은 과정을 거쳐 만든 우유 가공품
- ◆ **공산품** 공장에서 생산된 제품으로, 소비자가 별도의 가공 없이 사용할 수 있는 최종 제품 또는 그 부분품이나 부속품

자료 풀단지

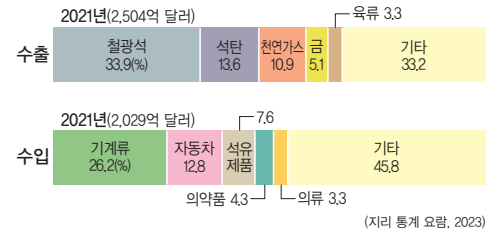
교과서 확인 : 동아, 미래엔, 비상, 아침나라, 천재
자료 3 오세아니아의 기후



땅이 넓은 오스트레일리아는 위치에 따라 다양한 기후가 나타난다. 적도와 가까운 오스트레일리아 북부 지역은 열대 기후가, 중앙 평원과 서부 지역은 건조 기후가, 남동부 지역과 남서부 지역은 온대 기후가 나타난다. 뉴질랜드는 대부분 온대 기후가 나타나고, 적도와 가까운 대부분의 태평양 섬 국가는 열대 기후가 나타난다.

교과서 확인 : 동아, 미래엔

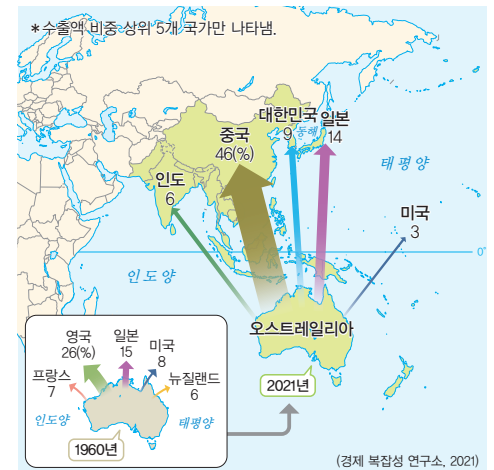
자료 4 오스트레일리아의 주요 수출입 품목



오스트레일리아는 주로 광물 자원, 농·축산품 등을 수출하고 각종 공산품을 수입한다.

교과서 확인 : 동아, 미래엔, 비상, 아침나라, 천재

자료 5 오스트레일리아의 수출 상대국 변화

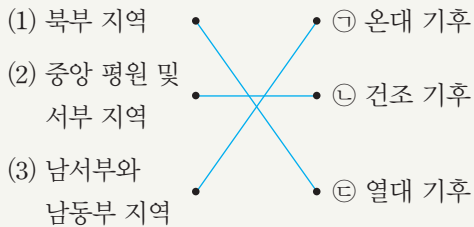


오스트레일리아는 1960년 영국과 수출 비중이 가장 높았으나, 최근에는 우리나라, 중국, 일본 등 지리적으로 인접한 아시아 국가의 수출 비중이 높게 나타난다.

1 빈칸에 들어갈 알맞은 말을 쓰시오.

- (1) 오세아니아 대륙의 대부분은 우리나라와 계절이 반대인 (남반구)에 위치한다.
- (2) 오세아니아의 주요 도시는 오스트레일리아에서 가장 인구가 많은 도시 (시드니)과/와 뉴질랜드에서 가장 인구가 많고 경제 중심 도시인 (오클랜드)이/가 있다.

2 오스트레일리아의 지역과 기후를 바르게 연결하시오.



3 ㉠, ㉡ 중 알맞은 것을 고르시오.

- (1) 오스트레일리아 서부에는 (㉠ 사막, ㉡ 산지)이/가 분포한다.
- (2) 오스트레일리아 중앙에는 (㉠ 산지, ㉡ 분지)가 발달하였다.
- (3) 뉴질랜드는 북섬에서는 (㉠ 화산 지형, ㉡ 빙하 지형)을 볼 수 있다.
- (4) 뉴질랜드 남섬에서는 (㉠ 화산 지형, ㉡ 빙하 지형)을 볼 수 있다.

4 오스트레일리아의 주요 수출품만을 <보기>에서 있는 대로 골라 기호를 쓰시오. ㄱ, ㄴ, ㄷ

보기

ㄱ. 밀	ㄴ. 반도체
ㄷ. 유제품	ㄹ. 석탄 및 철광석

5 밑줄 친 곳을 바르게 고쳐 쓰시오.

- (1) 오스트레일리아의 수도는 시드니이다.
- (2) 뉴질랜드의 수도는 오클랜드이다.
- (3) 오스트레일리아는 주로 지하자원 및 공산품을 수출한다.

01 오세아니아에 위치하는 국가만을 <보기>에서 있는 대로 고른 것은?

보기

ㄱ. 피지	ㄴ. 뉴질랜드
ㄷ. 아이슬란드	ㄹ. 오스트레일리아

- ① ㄱ, ㄴ ② ㄷ, ㄹ ③ ㄱ, ㄴ, ㄷ
- ④ ㄱ, ㄴ, ㄹ ⑤ ㄴ, ㄷ, ㄹ

정답 ④ | 아이슬란드는 북부 유럽에 위치한 국가이다.

중요

02 오세아니아의 위치와 특징에 대한 설명으로 옳은 것은?

- ① 대부분 북반구에 위치하고 있다.
- ② 우리나라와 낮과 밤이 반대이다.
- ③ 대서양과 인도양 사이에 위치한다.
- ④ 대부분의 지역에서 우리나라와 계절이 반대이다.
- ⑤ 본초 자오선(경도 0°)이 지나가는 곳에 위치한다.

정답 ④ | 오세아니아 대륙의 대부분이 남반구에 위치하고 있어 우리나라와 계절이 반대이다.

03 다음에서 설명하는 국가로 옳은 것은?

- 남반구에 위치
- 북섬과 남섬으로 이루어짐.
- 수도는 웰링턴, 인구가 가장 많은 도시는 오클랜드
- 화산 지형과 빙하 지형을 볼 수 있음.

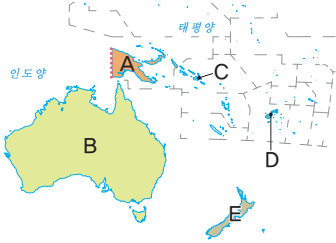
- ① 피지
- ② 뉴질랜드
- ③ 솔로몬 제도
- ④ 파푸아뉴기니
- ⑤ 오스트레일리아

정답 ② | 뉴질랜드는 남반구에 위치하고 북섬과 남섬으로 이루어져 있으며, 수도는 웰링턴, 인구가 가장 많은 도시는 오클랜드이다. 이곳에서는 화산 지형과 빙하 지형을 볼 수 있다.

04 사진과 같은 경관을 볼 수 있는 국가를 지도의 A~E에서 고른 것은?



▲ 시드니

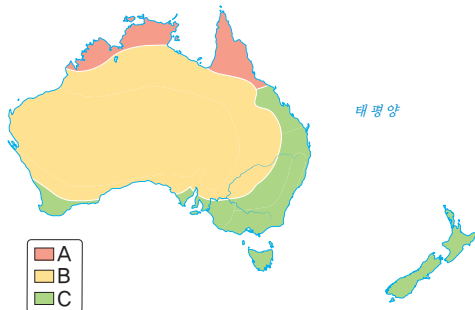


- ① A ② B ③ C ④ D ⑤ E

정답 ② | 사진의 오페라하우스는 오스트레일리아 시드니에 있다. A는 파푸아뉴기니, B는 오스트레일리아, C는 솔로몬 제도, D는 사모아, E는 뉴질랜드이다.

중요

05 지도의 A~C 기후로 옳은 것은?



- | | | | |
|---|-------|-------|-------|
| | A | B | C |
| ① | 열대 기후 | 온대 기후 | 건조 기후 |
| ② | 열대 기후 | 건조 기후 | 온대 기후 |
| ③ | 온대 기후 | 열대 기후 | 건조 기후 |
| ④ | 온대 기후 | 건조 기후 | 열대 기후 |
| ⑤ | 건조 기후 | 온대 기후 | 열대 기후 |

정답 ② | 오스트레일리아의 북부 지역은 열대 기후, 가장 넓은 부분을 차지하는 중앙은 건조 기후, 남동부 지역과 남서부 지역, 뉴질랜드는 온대 기후가 나타난다.

06 오세아니아의 지형에 대한 설명으로 옳은 것을 <보기>에서 고른 것은?

보기

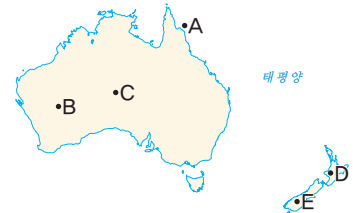
- ㄱ. 오스트레일리아 서부는 사막이 발달하였다.
- ㄴ. 오스트레일리아 중앙은 높은 산맥이 발달하였다.
- ㄷ. 태평양의 환태평양 조산대 부근에는 화산섬이 발달하였다.
- ㄹ. 뉴질랜드 북섬에서는 빙하 지형, 남섬에서는 화산 지형을 볼 수 있다.

- ① ㄱ, ㄴ ② ㄱ, ㄷ ③ ㄴ, ㄷ
 ④ ㄴ, ㄹ ⑤ ㄷ, ㄹ

정답 ② | 오스트레일리아의 서부에는 건조 지형, 중앙에는 분지와 평원, 동부에는 낮은 산지가 분포한다. 환태평양 조산대가 지나가는 뉴질랜드의 북섬에는 화산 지형, 남섬에는 빙하 지형이 나타난다.

중요

07 사진과 같은 지형을 볼 수 있는 지역을 지도의 A~E에서 고른 것은?

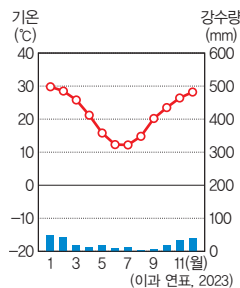


- ① A ② B ③ C ④ D ⑤ E

정답 ⑤ | 빙하 지형을 볼 수 있는 곳은 뉴질랜드의 남섬이다.

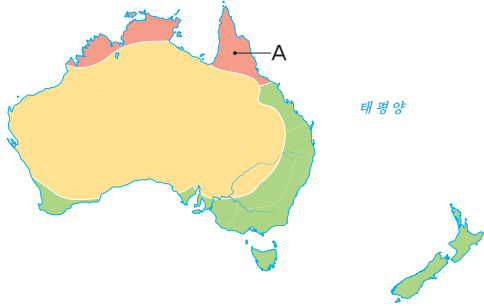
고난도

08 다음과 같은 기후 그래프가 나타나는 오스트레일리아의 지역에 대한 설명으로 옳은 것은?



- ① 해발 고도가 높다.
- ② 연중 강수량이 많다.
- ③ 산호초 해안이 발달한다.
- ④ 나무가 울창한 숲이 발달한다.
- ⑤ 주변에 나무가 없고 모래와 자갈이 많다.

09 지도의 A 지역의 기후 특징에 대한 설명으로 옳은 것을 <보기>에서 고른 것은?



보기

- ㄱ. 연 증발량이 연 강수량보다 많다.
- ㄴ. 사계절의 변화가 뚜렷하게 나타난다.
- ㄷ. 연 강수량이 다른 기후 지역보다 많은 편이다.
- ㄹ. 최한월 평균 기온이 18℃ 이상으로 높게 나타난다.

- ① ㄱ, ㄴ ② ㄱ, ㄷ ③ ㄴ, ㄷ
- ④ ㄴ, ㄹ ⑤ ㄷ, ㄹ

정답 ⑤ | A 지역은 열대 기후에 해당한다. 이 지역은 최한월 평균 기온이 18℃ 이상으로 기온이 높고, 강수량의 계절 차이가 있으나 건조 기후, 온대 기후 지역보다 연 강수량이 많다.

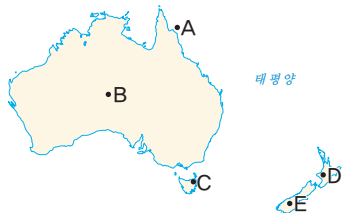
정답 ② | B 지역에 위치한 울루루는 오스트레일리아 대륙의 가운데 위치하여 지구의 배꼽이라는 별칭을 가지고 있다.

10 다음은 오세아니아의 어느 지역을 여행하면서 작성한 여행기의 일부이다. 이 지역을 지도의 A~E에서 고른 것은?

지구의 배꼽을 만나다
2024년 ○○월 ○○일

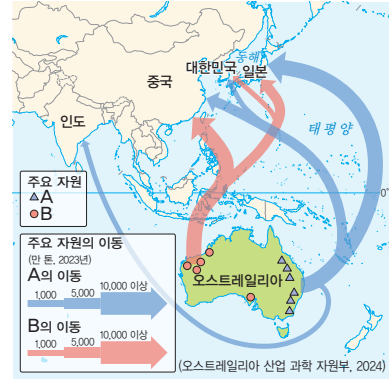


지구의 배꼽이라는 별칭을 가진 곳을 여행하였다. 약 5억 년 전 거대한 지각 운동에 의해 융기한 모래바위로 세계에서 가장 큰 단일 바위로 알려져 있다. 이곳 원주민의 성지로도 알려진 울루루의 이름에는 '그들이 지난 장소'라는 의미가 담겨 있다.



- ① A ② B ③ C ④ D ⑤ E

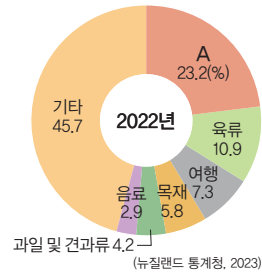
11 지도는 오스트레일리아의 주요 자원 이동을 나타낸 것이다. A, B 자원으로 옳은 것은?



- | | | | | | |
|---|-----|----|---|----|-----|
| | A | B | | A | B |
| ① | 금 | 석탄 | ② | 금 | 철광석 |
| ③ | 석탄 | 석유 | ④ | 석탄 | 철광석 |
| ⑤ | 철광석 | 석유 | | | |

정답 ④ | A는 석탄, B는 철광석이다. 오스트레일리아의 동부 산지에는 석탄이 많이 매장되어 있고, 서부 지역에는 철광석이 많이 매장되어 있다.

12 그래프는 뉴질랜드의 주요 수출 품목을 나타낸 것이다. A 수출 품목으로 옳은 것은?



- ① 석유 ② 유제품 ③ 철광석
- ④ 천연가스 ⑤ 교육 서비스

정답 ② | A는 유제품이다. 뉴질랜드는 국토의 약 40%가 목초지로 낙농업에 유리하여 유류와 치즈, 버터 등 유제품을 주로 수출하고 있다.

중요

13 오스트레일리아의 세계 다른 지역과의 상호연계성에 대한 설명으로 옳은 것을 <보기>에서 고른 것은?

보기

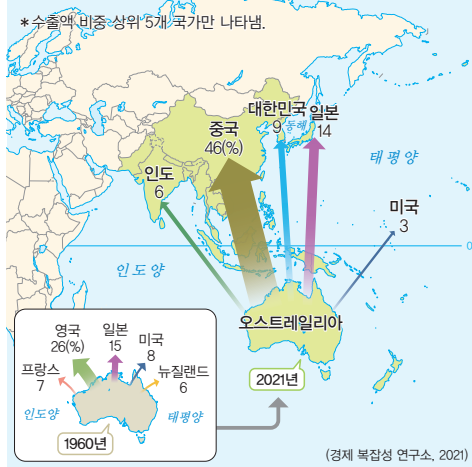
- ㄱ. 아시아 국가에는 주로 첨단 제품을 수출한다.
- ㄴ. 석탄, 철광석, 밀, 소고기 등을 주로 수출한다.
- ㄷ. 지하자원은 수입에 의존하고 공산품을 주로 수출한다.
- ㄹ. 최근 지리적으로 인접한 아시아 국가와의 교류가 활발하다.

- ① ㄱ, ㄴ ② ㄱ, ㄷ ③ ㄴ, ㄷ
- ④ ㄴ, ㄹ ⑤ ㄷ, ㄹ

정답 ④ | 오스트레일리아는 지하자원이 풍부하고, 기업적 농업이 발달하여 석탄, 철광석, 밀, 소고기 등을 주로 수출한다. 최근에는 지리적으로 인접한 우리나라, 중국, 일본 등 아시아 국가와의 교류를 확대하고 있다.

★★★
관단
14

지도는 오스트레일리아의 1960년과 2021년 수출 현황을 나타낸 것이다. 이에 대한 설명으로 옳은 것을 <보기>에서 고른 것은?



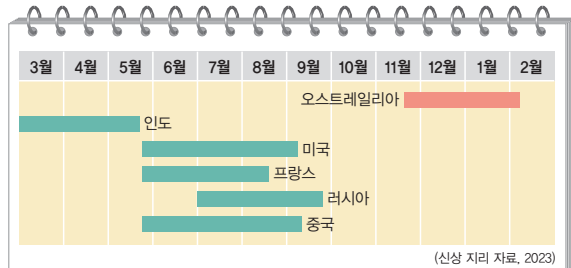
보기

- ㄱ. 주요 수출 제품은 공산품일 것이다.
- ㄴ. 최근 가장 비중이 높은 교역국은 중국이다.
- ㄷ. 1960년 주요 수출국은 아시아 국가가 대부분이다.
- ㄹ. 최근 교역 비중 상위 5개국 중 4개 국가는 아시아에 있다.

- ① ㄱ, ㄴ ② ㄱ, ㄷ ③ ㄴ, ㄷ
- ④ ㄴ, ㄹ ⑤ ㄷ, ㄹ

정답 ④ | 오스트레일리아의 1960년 주요 수출국은 영국, 일본, 미국, 프랑스 였으나, 2021년 주요 수출국은 중국이 46%로 가장 높고, 일본, 대한민국, 인도, 미국 순이다.

15 다음은 여러 국가의 밀 수확 시기를 나타낸 것이다. 오스트레일리아에서 밀 수확 시기가 다른 원인으로 옳은 것은?

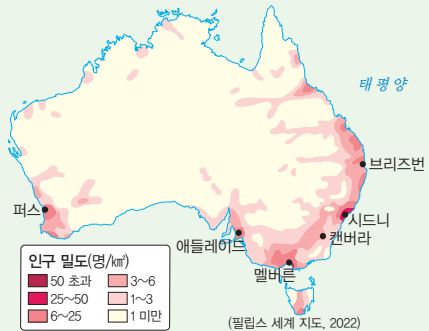
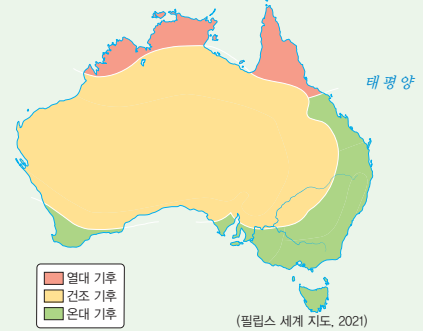


- ① 계절의 반대
- ② 높은 해발 고도
- ③ 넓고 평탄한 지형 발달
- ④ 연중 온화한 기후 발달
- ⑤ 많은 하천으로 인한 평야의 발달

정답 ① | 오스트레일리아는 남반구에 위치하고 있어 북반구와 계절이 반대이다. 따라서 밀 수확 시기가 달라 높은 가격으로 밀을 수출하기에 유리하다.

서술형 문제

16 지도는 오스트레일리아의 기후와 인구 밀도를 나타낸 것이다. 인구 밀도가 높은 지역과 그 이유를 기후와 관련지어 서술하시오.

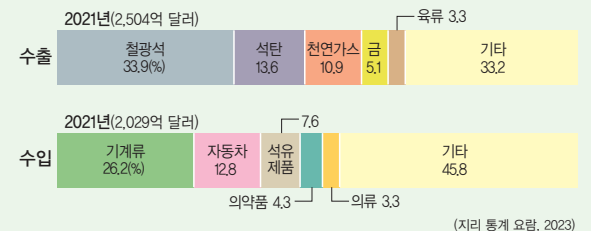


예시 답안 | 오스트레일리아의 인구 밀도는 남동부 및 남서부 해안 지역에서 높게 나타난다. 이 지역은 상대적으로 인간이 거주하기에 유리한 온대 기후가 나타나기 때문이다.

구분	채점 기준
상	인구 밀도가 높은 지역과 그 이유를 기후와 관련지어 정확히 서술한 경우
중	인구 밀도가 높은 지역과 그 이유를 기후와 관련지어 서술하였으나 미흡한 경우
하	인구 밀도가 높은 지역만 서술한 경우

구분	채점 기준
상	오스트레일리아가 제조업 상품의 수입이 많은 이유를 정확히 서술한 경우
하	오스트레일리아가 제조업 상품의 수입이 많은 이유를 서술하였으나 미흡한 경우

17 그래프는 오스트레일리아의 주요 수출 및 수입품을 나타낸 것이다. 오스트레일리아가 제조업 상품의 수입이 많은 이유를 서술하시오.



예시 답안 | 인구가 적은 오스트레일리아는 국내 소비 시장의 규모가 작아 제조업 성장이 상대적으로 취약하기 때문이다.



태평양 지역의 환경 문제와 해결 방안

1 태평양 지역의 환경 문제

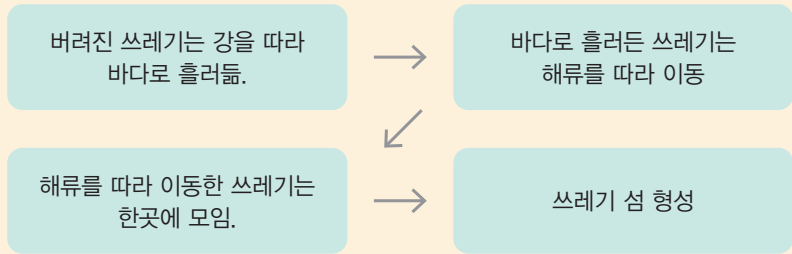
1. 태평양 지역

- (1) 태평양은 세계에서 가장 큰 해양이며 많은 국가가 분포
- (2) 다양한 해양 생물의 서식지이자 사람들의 중요한 삶의 터전
- (3) 해양 쓰레기, 해수면 상승 등 여러 가지 환경 문제 발생

2. 해양 쓰레기 문제

- (1) 해양 쓰레기: 바다에 유입된 쓰레기로 해안, 바다 표면, 바닷속의 모든 쓰레기를 말함.

(2) 쓰레기 섬 형성 **자료 1**

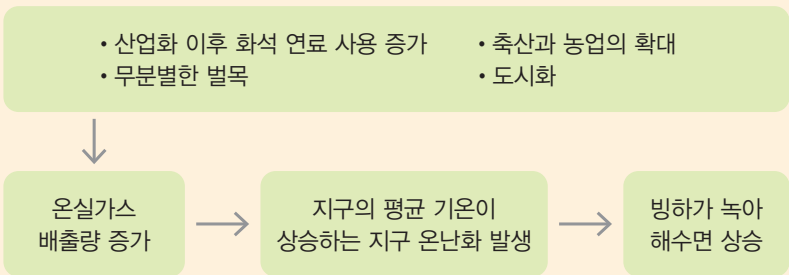


(3) 해양 쓰레기로 인한 문제 **자료 2**

- ① 바다 오염
- ② 해양 생태계 위협: 해양 생물이 먹이로 오인해 섭취
- ③ 미세 플라스틱으로 인한 피해: 먹이 사슬을 타고 인간에 영향

3. 해수면 상승 문제

(1) 해수면 상승 원인



(2) 해수면 상승에 따른 문제 **자료 3**

- ① 태평양의 저지대 섬과 해안의 침수 위기
- ② 해수 온도의 상승으로 산호의 백화 현상 등 생태계 파괴
- ③ 해수면 상승으로 지하수에 염분이 스며들어 식수가 부족해지고 농작물이 염해를 입음.

가물이나 해수면 상승 등으로 인해 농작물, 토양 등이 염분에 의해 피해를 입는 것을 말한다.

용어 풀단지

- ◆ **미세 플라스틱** 5mm 미만의 플라스틱 조각으로, 그 크기가 작아 하수 처리 시설에서 걸러 내지 못하고 바다와 강으로 그대로 유입됨.
- ◆ **산호의 백화 현상** 지구 온난화로 해수 온도가 상승하면서 산호에 붙어 공생하는 조류가 사라지고 산호의 표면이 하얗게 변하는 현상으로, 바다의 사막화라고도 함.

자료 풀단지

교과서 확인: 동아, 미래엔, 비상, 아침나라, 천재

자료 1 태평양의 쓰레기 섬



태평양으로 흘러든 쓰레기는 해류를 타고 이동하다가 해류가 약한 곳에 모여 거대 쓰레기 지대를 이룬다.

교과서 확인: 동아, 미래엔, 비상, 아침나라, 천재

자료 2 해양 쓰레기 문제



사람이 버린 비닐, 그물, 플라스틱 등 해양 쓰레기로 인해 해양 생물이 고통을 받고 있다.

교과서 확인: 동아, 미래엔, 비상, 아침나라, 천재

자료 3 해수면 상승 문제



지구 온난화로 인한 해수면 상승으로 투발루, 키리바시 등 해발 고도가 낮은 태평양의 섬나라들은 국토가 바닷물에 잠겨 사라질 위기에 놓여 있다.

2 태평양 지역의 환경 문제 해결 방안

해양 쓰레기뿐만 아니라 플라스틱의 생산부터 폐기까지 전 생애 주기에 걸친 규칙을 만든 국제 협약으로 플라스틱 국제 협약이 있다.

구분	해양 쓰레기	해수면 상승
국제 사회의 노력	플라스틱이 유발하는 환경 오염 방지를 위한 플라스틱 규제 국제 협약 마련	온실가스를 단계적으로 감축하기 위한 국제 협약 체결 예) 파리 협정
국가의 노력	• 해양 폐기물 관련 법 제정 • 플라스틱 사용을 줄이기 위한 플라스틱세 부과	• 탄소중립 정책 • 신재생 에너지 보급 확대
기업의 노력	• 자원 순환 기술 개발 • 친환경 제품 생산	제품 생산 시 에너지 소비 줄이기
개인의 노력	• 쓰레기 줍기 • 장바구니, 다회용 컵 사용하기	• 에너지 절약 • 대중교통 이용 • 저탄소 제품 구매하기

용어 끝단지

- ◆ **온실가스** 지구 표면의 온도를 상승시키는 역할을 하는 특정 기체를 말하며, 대표적으로 이산화탄소, 메테인 등이 있음.
- ◆ **파리 협정** 2015년 국제연합 기후변화 회의에서 195개국이 채택한 조약으로, 온실가스 배출량을 단계적으로 줄이기로 약속한 국제 협약

자료 끝단지

교과서 확인 : 동아 미래에 비상, 아침나라, 천재

자료 4 태평양의 환경 문제를 해결하기 위한 노력



▲ 파리 협정(2015년)



▲ 해안가 쓰레기 줍기 활동

환경 문제를 해결하기 위해서 국제 사회의 노력, 국가의 노력, 기업의 노력, 개인의 노력 등이 다양한 곳에서 이루어지고 있다.

STEP 1

개념 IN

1 다음 설명이 맞으면 ○표, 틀리면 ×표를 하시오.

- (1) 태평양은 지구에서 가장 큰 해양이다. (○)
 (2) 태평양 지역에서 발생하는 대표적인 환경 문제는 산성비 문제이다. (×)

2 다음은 해양 쓰레기 섬의 형성 과정이다. 빈칸에 들어갈 알맞은 말을 쓰시오.

버려진 쓰레기는 (강)을/를 따라 바다로 흘러들.
 ↓
 바다로 흘러든 쓰레기는 (해류)을/를 따라 이동
 ↓
 (해류)을/를 따라 이동한 쓰레기는 한곳에 모임.
 ↓
 쓰레기 섬 형성

3 태평양 지역의 환경 오염과 문제점을 바르게 연결하시오.

- (1) 해양 쓰레기 • ㉠ 해안 저지대 침수
 (2) 해수면 상승 • ㉡ 해양 생태계 위협

4 해수면 상승의 원인으로 옳은 것만을 <보기>에서 있는 대로 골라 기호를 쓰시오. ㄱ, ㄴ, ㄷ, ㄹ

보기

- ㄱ. 무분별한 벌목 ㄴ. 지속적인 가뭄
 ㄷ. 화석 연료 사용 증가 ㄹ. 축산과 농경지 확대

5 ㉠, ㉡ 중 알맞은 것을 고르시오.

- (1) 파리 협정에서 온실가스를 단계적으로 감축하기 위한 노력은 (㉠ 개인적, ㉡ 국제적) 노력에 해당한다.
 (2) 에너지 절약과 대중교통 이용, 일회용 컵 사용 줄이기는 (㉠ 개인적, ㉡ 국제적) 노력으로 볼 수 있다.

01 태평양 지역의 대표적인 환경 문제로 옳은 것을 <보기>에서 고른 것은?

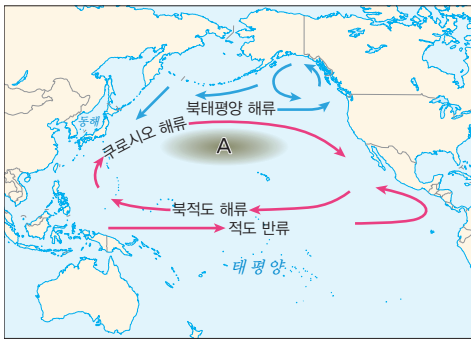
보기

- ㄱ. 해수면 상승 ㄴ. 해양 쓰레기
- ㄷ. 산성비 피해 ㄹ. 사막화 현상

- ① ㄱ, ㄴ ② ㄱ, ㄷ ③ ㄴ, ㄷ
- ④ ㄴ, ㄹ ⑤ ㄷ, ㄹ

정답 ① | 태평양 지역의 대표적인 환경 문제로는 해양 쓰레기, 해수면 상승, 해수 온도 상승으로 인한 산호의 백화 현상 등이 있다.

[02-03] 지도를 보고 물음에 답하십시오.



02 지도에 표현된 태평양 지역의 환경 문제로 옳은 것은?

- ① 적조 현상
- ② 해수면 상승
- ③ 쓰나미 피해
- ④ 해양 쓰레기
- ⑤ 산호의 백화 현상

정답 ④ | A는 태평양에 나타나는 거대한 쓰레기 섬이다. 해양 쓰레기 섬은 육지에서 버려진 쓰레기가 강을 따라 바다로 흘러든 후 해류를 타고 이동하다가 해류가 약한 곳에 모여 형성된다.

정답 ④ | 해양 쓰레기로 인한 문제로는 바다 오염, 해양 생태계 위협, 미세 플라스틱으로 인한 인간의 피해 등이 있다.


03 지도의 A로 인한 문제로 옳은 것만을 <보기>에서 있는 대로 고른 것은?

보기

- ㄱ. 바다 오염
- ㄴ. 해양 생태계 위협
- ㄷ. 해안 저지대의 침수
- ㄹ. 미세 플라스틱으로 인한 인간의 피해

- ① ㄱ, ㄴ ② ㄷ, ㄹ ③ ㄱ, ㄴ, ㄷ
- ④ ㄱ, ㄴ, ㄹ ⑤ ㄴ, ㄷ, ㄹ

04 사진과 같은 현상이 나타난 주요 원인으로 옳은 것은?



- ① 사막화
- ② 산성비
- ③ 해양 쓰레기
- ④ 오존층 파괴
- ⑤ 해수 온도의 상승

정답 ⑤ | 산호의 백화 현상은 해수 온도가 상승하면서 산호에 붙어 공생하는 조류가 사라져 산호의 표면이 하얗게 변하는 현상이다.

고난도

05 밑줄 친 ㉠의 원인으로 옳은 것만을 <보기>에서 있는 대로 고른 것은?

투발루는 오스트레일리아에서 북동쪽으로 4,000km 떨어진 곳에 위치한 작은 섬나라다. 울릉도 3분의 1 크기인 투발루는 국토의 평균 해발 고도가 2m 미만이기 때문에 ㉠ 해수면 상승의 영향을 크게 받는다. 이르면 50년, 늦어도 100년 안에 국토의 대부분이 사라질 것이라는 관측도 나온다.

보기

- ㄱ. 삼림 파괴 ㄴ. 농업의 확대
- ㄷ. 온실가스 증가 ㄹ. 해양 쓰레기 증가

- ① ㄱ, ㄴ ② ㄷ, ㄹ ③ ㄱ, ㄴ, ㄷ
- ④ ㄱ, ㄴ, ㄹ ⑤ ㄴ, ㄷ, ㄹ

정답 ③ | 해수면 상승은 산업 혁명 이후 화석 연료의 사용 증가로 인한 온실가스 증가와 삼림 파괴, 도시화, 과도한 농경지의 확대 등으로 인해 지구의 평균 기온이 상승하여 나타난 현상이다.

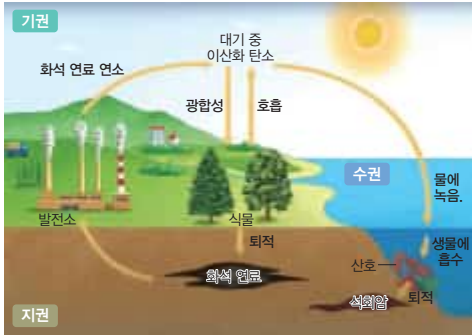
중요

06 태평양 지역의 환경 문제에 대한 설명으로 옳지 않은 것은?

- ① 해류를 따라 쓰레기 섬이 형성되었다.
- ② 해수면 상승, 해양 쓰레기 문제가 대표적이다.
- ③ 해수면 상승으로 수몰 위기에 처한 국가가 있다.
- ④ 해수 온도 상승으로 산호의 백화 현상이 나타난다.
- ⑤ 이 지역의 환경 문제가 전 세계에 영향을 미치는 것은 아니다.

정답 ⑤ | 태평양 지역에서 나타나는 환경 문제는 전 세계에 영향을 미친다.

07 그림에 나타난 환경 문제로 옳은 것은?



- ① 사막화 ② 물 부족
- ③ 열대림 파괴 ④ 지구 온난화
- ⑤ 해양 쓰레기

정답 ④ | 화석 연료의 연소로 인해 대기 중 이산화 탄소가 증가하여 지구 온난화가 발생한다.

08

㉠, ㉡에 들어갈 말로 옳은 것은?

태평양 지역의 환경 문제

태평양은 세계에서 가장 큰 해양으로, 지구의 모든 육지 면적을 합한 것보다 넓다. 최근 이 지역에서는 여러 가지 환경 문제가 나타난다.

- 해양 쓰레기: 육지로 흘러나온 쓰레기는 (㉠)을/를 타고 한 곳에 모여 거대한 쓰레기 섬을 형성한다.
- 해수면 상승: (㉡)의 증가로 지구의 기온이 상승하여 극지방의 빙하가 녹으면서 해수면이 상승한다.

- ① 바람 해류 ② 바람 산성비
- ③ 해류 바람 ④ 해류 산성비
- ⑤ 해류 온실가스

정답 ⑤ | 해양 쓰레기는 해류를 타고 한 곳에 모여 거대한 쓰레기 섬을 형성한다. 온실가스의 증가로 인해 지구의 기온이 상승하면서 나타나는 해수면 상승으로 태평양의 저지대 섬과 해안은 수몰 위기에 처하였다.

09 지구상의 환경 문제를 해결하기 위한 국제적 노력으로 옳지 않은 것은?

- ① 저탄소 제품을 구매한다.
- ② 국가 간 탄소세를 부과하는 협약을 체결한다.
- ③ 온실가스 단계적 감축을 위한 협약을 체결한다.
- ④ 국제연합을 중심으로 플라스틱 사용 줄이기를 한다.
- ⑤ 플라스틱 쓰레기의 국가 간 이동을 금지하는 협약을 체결한다.

정답 ① | 저탄소 제품 구매하기는 개인적 노력에 해당한다.

10 (가), (나)에 해당하는 태평양 지역의 환경 문제로 옳은 것은?

구분	(가)	(나)
국제 사회의 노력	플라스틱이 유발하는 환경 오염 방지를 위한 플라스틱 규제 국제 협약 마련	온실가스를 단계적으로 감축하기 위한 국제 협약 체결 예) 파리 협정
국가의 노력	• 해양 폐기물 관련 법 제정 • 플라스틱 사용을 줄이기 위한 플라스틱세 부과	• 탄소중립 정책 • 신재생 에너지 보급 확대
개인의 노력	• 쓰레기 줍기 • 장바구니, 다회용 컵 사용하기	• 에너지 절약 • 대중교통 이용 • 저탄소 제품 구매하기

(가) (나)

- ① 해양 쓰레기 산성비
- ② 해양 쓰레기 해수면 상승
- ③ 해수면 상승 산성비
- ④ 해수면 상승 해양 쓰레기
- ⑤ 해수면 상승 오존층 파괴

정답 ② | (가)는 플라스틱 사용 줄이기, 해양 폐기물 관련법 제정 등 해양 쓰레기 문제를 해결하기 위한 노력이다. (나)는 온실가스 감축, 탄소중립 정책 등 지구 온난화로 인한 해수면 상승 문제를 해결하기 위한 노력이다.

구분	채점 기준
상	여권과 화폐 속 그림이 의미하는 것을 정확히 서술한 경우
하	여권과 화폐 속 그림이 의미하는 것을 서술하였으나 미흡한 경우

서술형 문제

11 사진은 태평양의 어느 국가의 여권과 화폐이다. 여권과 화폐 속 그림이 의미하는 것이 무엇인지 서술하시오.



예시 답안 | 여권과 화폐의 그림은 물개의 목에 사람이 버린 폐그루이 걸려 있고, 갈매기가 바다에 떠다니는 쓰레기 위에 앉아 있는 모습으로 해양 쓰레기 문제의 심각성을 이야기하고 있다.

3

극지방의 지리적 중요성과 지역 개발

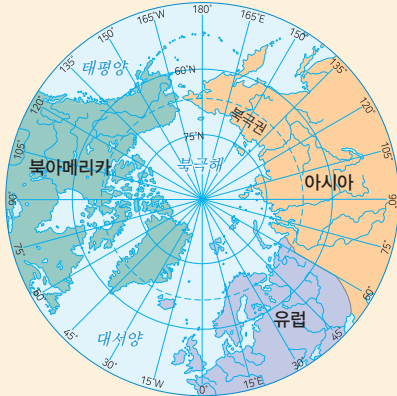
1 극지방의 지리적 중요성

1. 극지방의 위치와 특성

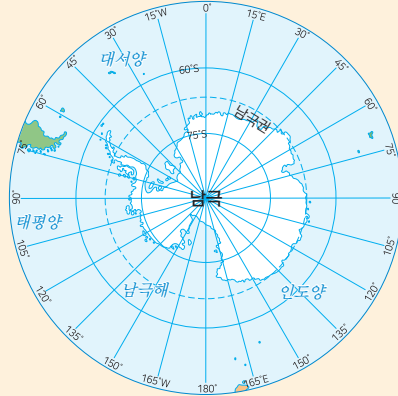
지구의 가장 북쪽으로 북위 90° 지점이다.

지구의 가장 남쪽으로 남위 90° 지점이다.

구분	북극 지방	남극 지방
위치	북극점을 중심으로 북극해가 펼쳐져 있고 유라시아, 북아메리카, 그린란드에 둘러싸여 있음.	남극점을 중심으로 남극 대륙과 이를 둘러싼 남극해로 이루어져 있음.
특성	<ul style="list-style-type: none"> • 과거: 인간이 접근하기 어려운 미지의 영역, 탐험과 개척의 대상 • 오늘날: 기후변화로 개발 가능성이 높아지면서 중요성이 커짐. 	
기후	<ul style="list-style-type: none"> • 가장 따뜻한 달의 평균 기온이 10°C 미만인 한대 기후 • 나무가 자라지 못하고 이끼류가 있는 초원이 나타나거나 일 년 내내 눈과 얼음으로 덮여 있음. 	
중요성	생태계와 지구 기후에 큰 영향을 미치는 등 중요성이 커짐.	



▲ 북극의 위치



▲ 남극의 위치

2. 극지방의 지리적 중요성

생물 다양성	<ul style="list-style-type: none"> • 다양한 생물종의 서식 • 생물학적 연구와 보전에 중요한 자료 제공
환경과 기후변화 연구	<ul style="list-style-type: none"> • 환경 변화와 기후변화 예측과 관련한 연구에 중요한 역할 • 많은 국가에서 연구 기지를 설치
풍부한 자원 자료 1	<ul style="list-style-type: none"> • 주변 해역의 풍부한 수산 자원 • 지하자원: 철, 구리, 니켈 등 • 에너지 자원: 석탄, 석유, 천연가스 등
지리적 연결성 자료 2	<ul style="list-style-type: none"> • 북극권은 항공이나 선박 운항에 중요한 역할을 함. • 항공 교통의 중심지: 북극권은 북반구 주요 도시를 최단 거리로 연결 • 북동 항로: 선박이 북극해를 지날 수 있게 되면 현재 항로보다 운송 거리와 시간이 크게 줄어들.

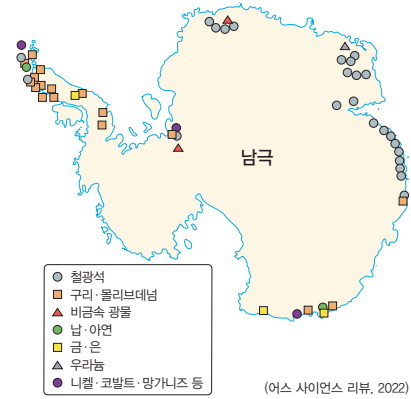
용어 풀단지

◆ 생태계 서로 상호 작용을 하며 영향을 주고받는 환경을 묶어서 부르는 말이며, 모든 자연환경 상에 있어 모든 생물이 그물처럼 연계되어 있음.

자료 풀단지

교과서 확인 : 아침나라

자료 1 남극의 지하자원 분포



(어스 사이언스 리뷰, 2022)

극지방에는 석유, 천연가스 등 화석 에너지뿐만 아니라 다양한 지하자원이 풍부하게 매장되어 있다.

교과서 확인 : 동아, 미래엔, 비상, 아침나라, 천재

자료 2 현재 항로와 북동 항로



(대한민국 국가 지도집, 2023)

북극의 빙하가 녹아 선박이 북극해를 통과하여 항해할 수 있게 되면 기존의 항로보다 가까워 시간을 단축할 수 있다.

2 극지방의 지역 개발을 둘러싼 이해관계

1. 북극해를 둘러싼 이해관계

- (1) 북극해에 매장된 석유와 천연가스, 광물 자원의 개발을 위한 주변 국가들의 경쟁이 심화
- (2) 주변 국가들은 북극해 공해를 더 차지하기 위한 영유권 주장을 함. **자료 3**
- (3) 북극 개발로 북극해의 빙하가 녹는 속도가 빨라져 해수면 상승 가속화 등 북극 생태계 변화

2. 남극 대륙을 둘러싼 이해관계

- (1) 남극 조약에 따라 자원 탐사와 군사 활동을 금지하고 평화적 과학 연구를 허용
- (2) 과학적인 연구와 남극이 개발될 것을 대비한 목적으로 많은 국가에서 연구 기지 설치
- (3) 남극 대륙의 연구 기지에 사람들의 출입이 잦아지고, 불법 어업 등으로 남극 생태계 위협

용어 풀단지

- ◆ 공해 영유권이나 배타권이 특정 국가에 속하지 않는 바다
- ◆ 영유권 일정한 영토에 대한 해당 국가의 관할권
- ◆ 남극 조약 1959년에 12개국이 참가하여 남극 대륙의 국제법상 지위를 정하고 남극의 평화적 이용 원칙을 확립한 조약으로, 2023년 기준 56개국이 가입되어 있음.

자료 풀단지

교과서 확인 : 동아, 미래엔, 비상, 아침나라, 천재

자료 3 북극해 영유권 주장 지역



북극해 주변의 국가들은 각국 해안 200해리 선까지 자원 개발의 권리를 인정받고 있는데, 그 범위에 속하지 않은 북극해 공해를 더 많이 차지하기 위한 영유권 주장을 하고 있다.

STEP 1

개념 IN

1 다음 설명이 맞으면 ○표, 틀리면 ×표를 하시오.

- (1) 북극 지방은 북극점을 중심으로 북극해가 펼쳐져 있다. (○)
- (2) 남극 지방은 남극점을 중심으로 유라시아, 그린란드에 둘러싸여 있다. (×)

2 ㉠, ㉡ 중 알맞은 것을 고르시오.

- (1) (㉠ 과거, ㉡ 오늘날) 극지방은 인간이 접근하기 어려운 미지의 영역, 탐험과 개척의 대상이었다.
- (2) 극지방의 기후는 가장 따뜻한 달의 평균 기온이 (㉠ 0℃, ㉡ 10℃) 미만인 한대 기후이다.
- (3) 극지방은 (㉠ 나무, ㉡ 이끼)가 자라지 못하고 일 년 내내 눈과 얼음이 존재한다.
- (4) 극지방은 생태계와 지구 기후에 큰 영향을 미치는 등 중요성이 (㉠ 커지고, ㉡ 작아지고) 있다.

3 극지방의 지리적 중요성과 해당 내용을 바르게 연결하십시오.

- | | | | |
|-------------|---|---|----------------|
| (1) 생물 다양성 | ● | ● | ㉠ 선박의 운송 거리 단축 |
| (2) 지리적 연결성 | ● | ● | ㉡ 생물학적 연구와 보전 |
| (3) 풍부한 자원 | ● | ● | ㉢ 석유와 천연가스 매장 |

4 북극해 주변 국가들이 영유권을 주장하는 이유로 옳은 것만을 <보기>에서 있는 대로 골라 기호를 쓰시오. ㄱ, ㄴ

보기

- | | |
|-------------|-------------|
| ㄱ. 공해의 확보 | ㄴ. 풍부한 삼림 |
| ㄷ. 지속가능한 발전 | ㄹ. 풍부한 지하자원 |

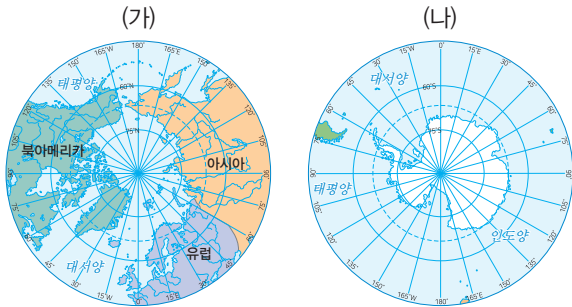
01 극지방에 대한 설명으로 옳은 것은?

- ① 인구 밀도가 높은 도시가 많다.
- ② 기후변화로 중요성이 커지고 있다.
- ③ 남극은 육지로 둘러싸인 바다이다.
- ④ 인간 거주에 유리한 기후 조건이다.
- ⑤ 북극은 넓은 대륙으로 이루어져 있다.

정답 ② | 기후변화로 인해 지구 기온이 상승하여 극지방의 빙하가 녹아 전 세계 환경 문제에 영향을 미치고 있다.

중요

02 (가), (나) 지역권에 대한 설명으로 옳은 것만을 <보기>에서 있는 대로 고른 것은?



보기

- ㄱ. (가)에는 인간이 거주하지 않는다.
- ㄴ. (나)는 지구의 가장 북쪽 지역이다.
- ㄷ. (가)에는 각 국가의 연구 기지가 건설되어 있다.
- ㄹ. (나)는 평화적 이용 원칙을 확립한 조약이 있다.

- ① ㄱ, ㄴ ② ㄷ, ㄹ ③ ㄱ, ㄴ, ㄷ
- ④ ㄱ, ㄴ, ㄹ ⑤ ㄴ, ㄷ, ㄹ

정답 ② | (가)는 북극권, (나)는 남극권이다. 북극권은 지구의 가장 북쪽 지역이며, 짧은 여름철이 존재하는 지역에서는 인간이 거주하고 있다. 남극권은 과학 연구를 위해 각 국가의 연구 기지가 건설되어 있고, 평화적 이용을 원칙으로 하는 남극 조약이 체결되어 있다.

정답 ④ | 북극 지방은 그린란드, 유라시아 대륙, 북아메리카 대륙으로 둘러싸여 있다.

03 북극권 주변 지역만을 <보기>에서 있는 대로 고른 것은?

보기

- ㄱ. 그린란드 ㄴ. 유라시아
- ㄷ. 오세아니아 ㄹ. 북아메리카

- ① ㄱ, ㄴ ② ㄷ, ㄹ ③ ㄱ, ㄴ, ㄷ
- ④ ㄱ, ㄴ, ㄹ ⑤ ㄴ, ㄷ, ㄹ

04 다음에서 설명하는 국제 협약으로 옳은 것은?

1959년 12개국이 모여 체결한 국제 협약으로 이곳의 평화적 이용 및 연구의 자유 보장, 영토권 주장의 유예를 명시하였다. 우리나라는 1989년 23번째로 해당 협의 당사국 자격을 획득하였다.

- ① 바젤 협약 ② 런던 협약
- ③ 북극 조약 ④ 남극 조약
- ⑤ 적도 조약

정답 ④ | 남극 조약은 평화적 이용 및 연구의 자유 보장, 영토권 주장의 유예를 명시한 것이다.

중요

05 다음에서 설명하는 북극 지방의 지리적 중요성으로 옳은 것은?

북극권은 항공이나 선박 운항에서 중요한 역할을 한다. 선박이 북극해를 지날 수 있게 되면 현재 항로보다 운송 거리와 시간이 크게 줄어든다.

- ① 생물 다양성 ② 기후변화 연구
- ③ 지리적 연결성 ④ 풍부한 지하자원
- ⑤ 풍부한 수산 자원

정답 ③ | 북극의 빙하가 녹으면서 선박이 북극해를 지나갈 수 있게 되어 운송 시간이 단축되었다. 이는 북극 지방의 지리적 연결성에 해당한다.

고난도

06 남극 지방에 대한 설명으로 옳지 않은 것은?

- ① 자원 탐사와 군사 활동이 금지되었다.
- ② 많은 국가에서 연구 기지를 설치하였다.
- ③ 수산 자원과 지하자원이 풍부하게 매장되어 있다.
- ④ 주변 국가들의 영유권 주장과 갈등이 나타나고 있다.
- ⑤ 남극점을 중심으로 남극 대륙과 이를 둘러싼 바다로 구성되었다.

정답 ④ | 남극 지방은 남극 조약으로 인해 과학 연구와 같이 평화적으로만 이용되고 있으며, 현재는 주변 국가들의 영유권 주장과 갈등이 나타나고 있지 않다.

07 다음에서 설명하는 대륙으로 옳은 것은?

대륙 전체 면적의 약 98%가 얼음으로 덮여있는 지역이다. 이러한 환경 속에서도 세계 여러 국가에서는 이곳에 연구 기지를 세우고 다양한 활동을 하고 있다.

- ① 유럽 ② 남극
- ③ 아프리카 ④ 아메리카
- ⑤ 오세아니아

정답 ② | 남극 지방은 면적의 약 98%가 얼음과 눈으로 덮여있으며, 과학 연구를 위해 세계 여러 국가에서 연구 기지를 건설하고 있다.

08 북극해의 영유권을 주장하는 국가로 옳지 않은 것은?

- ① 미국 ② 덴마크
- ③ 캐나다 ④ 러시아
- ⑤ 브라질

정답 ⑤ | 브라질은 남반구에 위치한 국가이다.

09 극지방의 개발과 보존에 대한 설명으로 옳은 것을 <보기>에서 고른 것은?

보기

- ㄱ. 남극은 영유권 분쟁이 나타나고 있다.
- ㄴ. 남극에는 우리나라 과학 연구 기지가 있다.
- ㄷ. 북극은 많은 국가에서 방사능 폐기물 처리장을 건설하고 있다.
- ㄹ. 북극은 주변 국가들의 영유권 주장으로 갈등이 나타나고 있다.

- ① ㄱ, ㄴ ② ㄱ, ㄷ ③ ㄴ, ㄷ
- ④ ㄴ, ㄹ ⑤ ㄷ, ㄹ

정답 ④ | 남극에는 우리나라의 과학 연구 기지가 설치되어 있으며, 북극은 주변 국가들의 영유권 주장으로 갈등이 나타나고 있다.

중요

10 북극해 주변 국가들이 영유권을 주장하는 이유로 옳은 것을 <보기>에서 고른 것은?



보기

- ㄱ. 환경 문제 해결 ㄴ. 풍부한 지하자원
- ㄷ. 넓은 농경지의 확보 ㄹ. 항로 및 어로의 개척

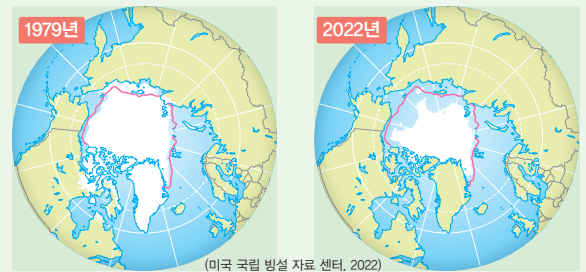
- ① ㄱ, ㄴ ② ㄱ, ㄷ ③ ㄴ, ㄷ
- ④ ㄴ, ㄹ ⑤ ㄷ, ㄹ

정답 ④ | 북극해에는 지하자원이 풍부하며, 빙하가 녹아 선박이 북극해를 지날 수 있게 되면 운송 거리와 시간이 크게 줄어든다.

구분	채점 기준
상	문제점과 긍정적인 측면을 모두 정확히 서술한 경우
중	문제점과 긍정적인 측면 중 한 가지만 정확히 서술한 경우
하	문제점과 긍정적인 측면을 서술하였으나 미흡한 경우

서술형 문제

11 다음은 북극 지방의 빙하 면적의 감소를 나타낸 것이다. 이를 보고 물음에 답하시오.



(1) 빙하 면적의 감소로 인해 나타날 수 있는 문제점을 서술하시오.

예시 답안 | 빙하 면적이 감소하면 해수면이 상승하여 해안 저지대가 침수될 것이다.

(2) 빙하 면적의 감소로 인해 나타날 수 있는 긍정적인 측면을 서술하시오.

예시 답안 | 선박이 북극해를 지날 수 있어 현재 항로를 이용할 때보다 운항 거리와 시간이 단축된다.

01 다음에서 설명하는 국가로 옳은 것은?

- 남반구에 위치
- 주요 수출품은 유제품
- 화산 지형과 빙하 지형이 모두 나타남.

- ① 영국 ② 덴마크
- ③ 뉴질랜드 ④ 파푸아뉴기니
- ⑤ 오스트레일리아

정답 ③ | 남반구에 위치하고 주요 수출품이 유제품이며, 화산 지형과 빙하 지형을 모두 볼 수 있는 국가는 뉴질랜드이다.

중요

02 오세아니아에 대한 설명으로 옳은 것을 <보기>에서 고른 것은?

보기

- ㄱ. 대부분 북반구에 위치하고 있다.
- ㄴ. 서쪽으로 대서양과 접하고 있다.
- ㄷ. 주요 국가는 오스트레일리아, 뉴질랜드 등이 있다.
- ㄹ. 인구가 적어 다른 대륙에 비해 대도시가 적은 편이다.

- ① ㄱ, ㄴ ② ㄱ, ㄷ ③ ㄴ, ㄷ
- ④ ㄴ, ㄹ ⑤ ㄷ, ㄹ

정답 ⑥ | 오세아니아의 주요 국가는 가장 면적이 넓은 오스트레일리아와 두 개의 섬으로 이루어진 뉴질랜드가 있다. 오세아니아의 국가들은 인구가 적어 다른 대륙에 비해 대도시가 적은 편이다.

03 오세아니아의 국가와 주요 도시를 연결한 것으로 옳은 것은?

- ① 뉴질랜드 - 나우루
- ② 뉴질랜드 - 시드니
- ③ 오스트레일리아 - 웰링턴
- ④ 오스트레일리아 - 캔버라
- ⑤ 오스트레일리아 - 오클랜드

정답 ④ | 오스트레일리아의 수도는 캔버라이다.

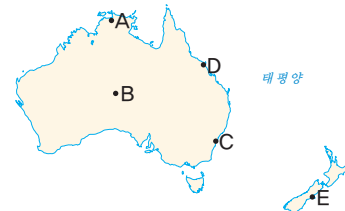
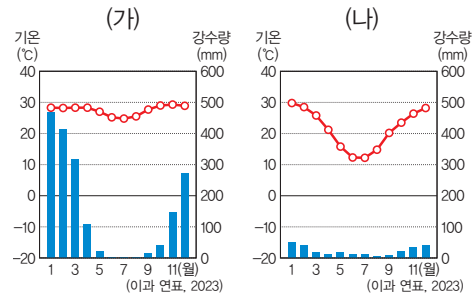
04 오세아니아의 위치와 특징에 대한 설명으로 옳지 않은 것은?

- ① 대부분 남반구에 위치하고 있다.
- ② 우리나라와 낮과 밤이 반대이다.
- ③ 인도양과 태평양 사이에 위치한다.
- ④ 날짜 변경선이 지나가는 곳에 위치한다.
- ⑤ 남반구에 위치하여 우리나라와 계절이 반대이다.

정답 ② | 우리나라와 낮과 밤은 동일하고 계절이 반대이다.

관단

05 (가), (나) 기후 그래프가 나타나는 지역을 지도의 A~E에서 고른 것은?



- | | | | | | |
|---|-----|-----|---|-----|-----|
| | (가) | (나) | | (가) | (나) |
| ① | A | B | ② | B | C |
| ③ | C | D | ④ | D | A |
| ⑤ | D | E | | | |

정답 ① | (가)는 가장 추운 달의 평균 기온이 18°C 이상으로 열대 기후, (나)는 연중 강수량이 매우 적으므로 건조 기후에 해당한다. A는 열대 기후, B는 건조 기후, C, D, E는 온대 기후가 나타난다.

중요

06 오스트레일리아의 지형에 대한 설명으로 옳은 것은?

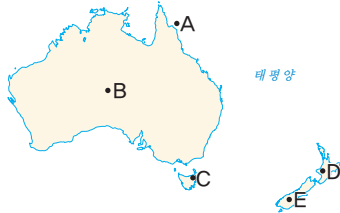
- ① 동부에는 사막이 넓게 분포한다.
- ② 서부에는 낮고 완만한 산지가 형성되어 있다.
- ③ 중앙에는 높은 고원과 대찬정 분지가 발달하였다.
- ④ 북동부 해안에는 거대한 산호초 해안이 발달하였다.
- ⑤ '울루루'라고 하는 거대한 암석은 그레이트디언딩산맥의 일부이다.

정답 ④ | 오스트레일리아는 서부에는 사막, 중부에는 분지와 평원, 동부에는 낮은 산지가 발달하였고, 북동부 해안 지역에는 거대한 산호초 해안이 발달하였다.

07 (가), (나) 지형을 볼 수 있는 지역을 지도의 A~E에서 고른 것은?



▲ 뜨거운 물이 치솟는 간헐천 ▲ 거대한 바위산 울루루



- | | | | |
|-----|-----|-----|-----|
| (가) | (나) | (가) | (나) |
| ① A | B | ② B | C |
| ③ C | D | ④ D | B |
| ⑤ E | C | | |

정답 ④ | (가)는 간헐천으로 화산 지형이고, (나)는 오스트레일리아 대륙의 가운데 위치한 울루루이다. 따라서 화산 지형이 발달한 뉴질랜드 북섬의 D 지역에서 간헐천을 볼 수 있고, 오스트레일리아 대륙의 가운데인 B 지역에서 울루루를 볼 수 있다.

08 뉴질랜드의 자연환경에 대한 설명으로 옳은 것만을 <보기>에서 있는 대로 고른 것은?

보기

- ㄱ. 북섬은 화산 지형이 발달하였다.
- ㄴ. 남섬은 건조 지형이 발달하였다.
- ㄷ. 열대, 건조, 온대 등 다양한 기후가 나타난다.
- ㄹ. 남섬의 남부 해안에는 거대한 산호초 해안이 발달하였다.

- | | | |
|--------|-----------|--------|
| ① ㄱ | ② ㄷ | ③ ㄱ, ㄴ |
| ④ ㄱ, ㄹ | ⑤ ㄴ, ㄷ, ㄹ | |

정답 ① | 뉴질랜드의 북섬에서는 화산 지형, 남섬에서는 빙하 지형을 볼 수 있다.

09 오스트레일리아의 주요 수출품으로 옳지 않은 것은?

- | | |
|-------|-------|
| ① 석탄 | ② 육류 |
| ③ 양모 | ④ 철광석 |
| ⑤ 반도체 | |

정답 ⑤ | 반도체는 주로 수입한다.

중요

10 오세아니아와 다른 지역과의 상호연계성에 대한 설명으로 옳은 것을 <보기>에서 고른 것은?

보기

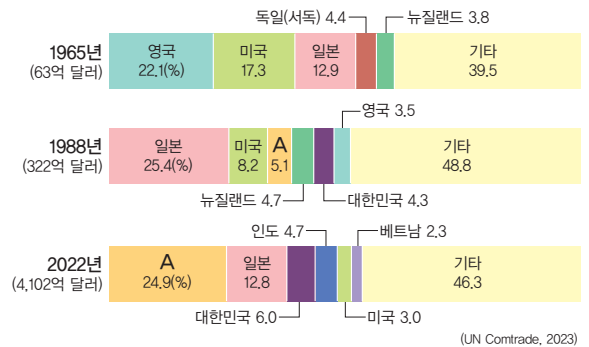
- ㄱ. 주요 수출품은 지하자원, 농·축산물 등이다.
- ㄴ. 제조업 성장이 취약하여 공산품을 주로 수입한다.
- ㄷ. 과거부터 인접한 아시아 국가와의 교류가 활발하였다.
- ㄹ. 자국 산업 보호 정책으로 인적, 물적 교류가 감소하고 있다.

- | | | |
|--------|--------|--------|
| ① ㄱ, ㄴ | ② ㄱ, ㄷ | ③ ㄴ, ㄷ |
| ④ ㄴ, ㄹ | ⑤ ㄷ, ㄹ | |

정답 ① | 오스트레일리아는 제조업 성장이 취약하여 공산품을 주로 수입에 의존하며 주요 수출품은 석탄, 철광석, 밀, 소고기, 양모 등 지하자원과 농·축산물 등이다.

정답 ③ | 1965년 오스트레일리아의 최대 무역 상대국은 영국이었으나 최근에는 지리적으로 인접한 아시아 국가와의 무역이 활발하며, 그중 중국과의 무역이 가장 많다.

11 그래프는 오스트레일리아의 무역 상대국 변화를 나타낸 것이다. A 국가로 옳은 것은?



- | | |
|---------|--------|
| ① 영국 | ② 독일 |
| ③ 중국 | ④ 뉴질랜드 |
| ⑤ 인도네시아 | |

12 그래프는 오스트레일리아의 주요 수출품 변화를 나타낸 것이다. A 수출품으로 옳은 것은?



(오스트레일리아 통계청, 2021)

- ① 말 ② 양모 ③ 소고기
- ④ 유제품 ⑤ 철광석

정답 ⑤ | 오스트레일리아는 1960년 최대 수출 품목이 양모였으나, 최근의 최대 수출 품목은 철광석이다.

중요

13 ① 국가에 대한 설명으로 옳은 것은?

오스트레일리아의 무역 상대국 변화

오스트레일리아는 일찍부터 제조업의 원료가 되는 지하자원을 수출하고 제조업 제품은 수입에 의존해 왔기 때문에, (㉠)과/와 미국과의 무역 비중이 높았다. 최근 아시아 국가들의 경제 성장에 따라 이들 국가와의 교류가 잦아지면서 아시아와의 무역 비중이 점차 커지고 있다. 특히 우리나라를 비롯하여 일본, 중국과의 경제적 교류 및 협력이 활발하다.

- ① 유럽에 위치하고 있다.
- ② 우리나라와 계절이 반대인 국가이다.
- ③ 세계에서 인구가 가장 많은 국가이다.
- ④ 대부분의 지역에서 열대 기후가 나타난다.
- ⑤ 세계에서 국토 면적이 가장 넓은 국가이다.

정답 ① | ㉠은 영국이다. 과거 오스트레일리아의 최대 무역 상대국은 유럽에 위치한 영국이었으나, 최근에는 지리적으로 인접한 아시아 국가와의 무역이 활발하다.

14 (가), (나)에 해당하는 환경 문제로 옳은 것은?

(가) 주로 플라스틱으로 이루어져 있으며, 해양 생물들이 먹이로 착각해 먹을 수 있어 해양 생태계에 심각한 영향을 미칠 수 있다.

(나) 지구의 평균 기온이 상승하면서 해발 고도가 낮은 지역들이 물에 잠기게 된다. 삶의 터전을 잃는 사람들이 생길 수 있다.

- | | |
|----------|--------|
| (가) | (나) |
| ① 해수면 상승 | 산성비 |
| ② 해수면 상승 | 해양 쓰레기 |
| ③ 해양 쓰레기 | 산성비 |
| ④ 해양 쓰레기 | 오존층 파괴 |
| ⑤ 해양 쓰레기 | 해수면 상승 |

정답 ⑤ | (가)는 해양 쓰레기 문제, (나)는 해수면 상승 문제이다. 개념풀 중학 사회 ①

15 다음에서 설명하는 문제가 나타난 원인으로 옳은 것은?

투발루는 오스트레일리아에서 북동쪽으로 4,000km 떨어진 곳에 위치한 작은 섬나라이다. 올릉도의 3분의 1 크기인 투발루는 국토의 평균 해발 고도가 2m 미만이기 때문에 해수면 상승의 영향을 크게 받는다. 이르면 50년, 늦어도 100년 안에 국토의 대부분이 사라질 것이라는 관측도 나온다.

- ① 해양 쓰레기 ② 지구 온난화
- ③ 오존층 파괴 ④ 열대림 파괴
- ⑤ 사막화 확대

정답 ② | 해수면 상승은 공장과 자동차에 나오는 이산화 탄소와 메테인 등과 같은 온실가스 증가로 지구의 평균 기온이 상승하여 나타나는 지구 온난화 때문에 발생한다.

창의 융합

16 밑줄 친 ㉠의 형성 과정에 영향을 준 요소를 <보기>에서 고른 것은?



북태평양에는 '태평양 거대 쓰레기 지대(GPPG, Great Pacific Garbage Patch)'라고 불리는 ㉠ 쓰레기 섬이 있다. 면적은 약 160만 km² 이상으로, 한반도 면적의 약 7배에 달하는 넓이이다. 한 환경 단체의 연구 결과에 따르면 이곳에서 발견된 플라스틱 개체의 94% 이상은 0.5cm보다 작은 크기의 미세 플라스틱이다. 이 미세 플라스틱이 일부 커다란 플라스틱이나 어망 등의 해양 쓰레기와 결합하여 지도에서는 보이지 않는 섬을 이루게 된 것이다.

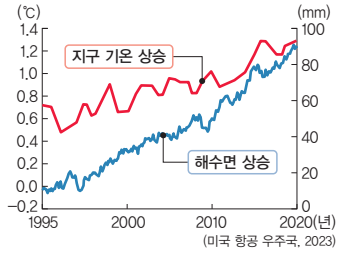
보기

- | | |
|-----------|--------------|
| ㄱ. 바람 | ㄴ. 해류 |
| ㄷ. 해수면 상승 | ㄹ. 해수 온도의 상승 |

- ① ㄱ, ㄴ ② ㄱ, ㄷ ③ ㄴ, ㄷ
- ④ ㄴ, ㄹ ⑤ ㄷ, ㄹ

정답 ① | 쓰레기 섬은 육지에서 버려진 쓰레기가 강으로 흘러들어 강을 따라 바다로 흘러든 후, 바다에서 바람 및 해류를 타고 이동하다가 해류가 약한 곳에 모여 형성된다.

17 그래프와 같은 현상이 나타나는 원인으로 옳은 것은?



- ① 지하수 개발 ② 오존층 파괴
- ③ 플라스틱 증가 ④ 온실가스 증가
- ⑤ 해양 쓰레기 증가

정답 ④ | 그래프는 지구 기온 상승으로 해수면 상승이 나타나는 현상을 보여 주고 있다. 해수면 상승은 공장과 자동차에 나오는 이산화 탄소와 메테인 등과 같은 온실가스 증가로 지구의 평균 기온이 상승하여 나타난다.

18 극지방에 대한 설명으로 옳지 않은 것은?

- ① 북극과 남극 부근에 위치한 고위도 지역이다.
- ② 남극은 넓은 바다로 둘러싸여 있는 대륙이다.
- ③ 가장 따뜻한 달의 평균 기온이 10℃ 미만이다.
- ④ 나무가 자라지 못하고 이끼류가 자라거나 눈과 얼음으로 덮여 있다.
- ⑤ 거주하는 인간이 적어 생태계와 지구 기후에 큰 영향을 미치지 않는다.

정답 ⑤ | 최근에는 빙하가 빠르게 녹으면서 생태계와 지구 기후 환경에 큰 영향을 미치고 있다.

과반도

19 지도는 북극해 주변의 석유 매장량을 나타낸 것이다. 이를 보고 추론한 내용으로 옳은 것을 <보기>에서 고른 것은?



보기

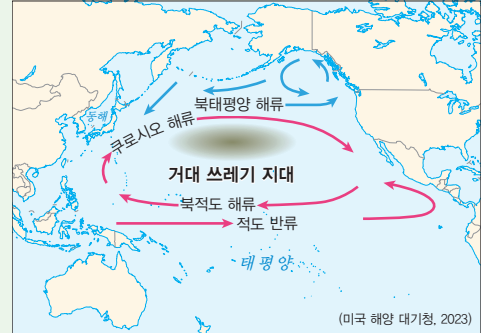
- ㄱ. 생태계 파괴 및 오염 물질이 감소한다.
- ㄴ. 원주민의 생활 방식에 변화가 나타난다.
- ㄷ. 선진국보다 개발 도상국의 경제적 부가 창출된다.
- ㄹ. 주변 국가들의 영유권 주장으로 갈등이 나타난다.

- ① ㄱ, ㄴ ② ㄱ, ㄷ ③ ㄴ, ㄷ
- ④ ㄴ, ㄹ ⑤ ㄷ, ㄹ

정답 ④ | 북극권 지역의 개발이 이루어지면서 외래문화가 유입되어 유목과 사냥 등을 행하던 원주민의 생활 방식에 많은 변화가 나타나고 있다. 또한 석유 자원의 매장량이 확인되면서 주변 국가 간의 영유권 주장으로 갈등이 빚어지고 있다.

서술형 문제

20 지도는 해양 쓰레기 섬의 형성 과정을 나타낸 것이다. 이를 보고 물음에 답하시오.



(1) 쓰레기 섬이 형성되는 과정을 서술하시오.

예시 답안 | 육지에서 버려진 쓰레기가 강으로 흘러들어 강을 따라 바다로 흘러든 후, 바다에서 바람 및 해류를 타고 이동하다가 해류가 약한 곳에 모여 형성된다.

(2) 쓰레기 섬으로 인한 문제점을 서술하시오.

예시 답안 | 바다 오염, 해양 생태계 위험, 미세 플라스틱으로 인한 피해 등이 발생한다.

구분	채점 기준
상	쓰레기 섬의 형성 과정과 문제점을 모두 정확히 서술한 경우
중	쓰레기 섬의 형성 과정과 문제점 중 한 가지만 정확히 서술한 경우
하	쓰레기 섬의 형성 과정과 문제점을 서술하였으나 미흡한 경우

구분	채점 기준
상	북극해 영유권을 주장하는 이유를 정확히 서술한 경우
하	북극해 영유권을 주장하는 이유를 서술하였으나 미흡한 경우

21 지도는 북극 지역의 영유권 주장 지역을 나타낸 것이다. 주변 국가들이 북극해 영유권을 주장하는 이유에 대해 서술하시오.



예시 답안 | 석유, 천연가스 등과 같은 자원이 풍부하고, 빙하가 녹아 선박이 북극해를 지날 수 있게 되면 현재 항로보다 운송 거리와 시간이 크게 줄어 들기 때문이다.




7





인간과 사회생활

- 01 사회화와 자아 정체성
- 02 사회적 지위와 역할
- 03 우리 사회의 갈등과 차별

배울 내용 확인하기

 직장에서도 사회화가 이루어지나요?

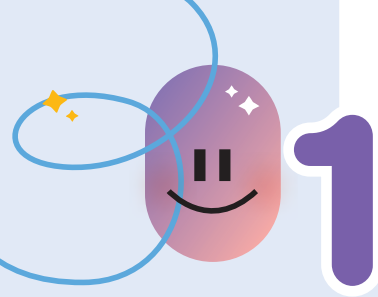
 역할 갈등이 무엇일까요?

 차별의 문제점은 무엇일까요?

직장은 성인의 중요한 사회화 기관으로 업무 수행에 대해 배워요.

사회 갈등을 유발하고, 인권 침해의 문제가 발생할 수 있어요.

개인이 가지는 사회적 지위에 따른 역할이 서로 충돌하는 것이에요.



사회화와 자아 정체성

1 사회화

1. 사회화의 의미와 기능

인간은 사회화를 거치면서 사회적 존재로 성장한다.

(1) 의미: 한 사회의 구성원들에게 요구되는 행동 양식과 규칙 등을 배우는 과정 **자료 1**

(2) 기능

- ① 개인적 측면: 다른 사람들과의 상호작용을 통하여 다양한 감정, 생활양식, 규범, 가치관 등을 습득하면서 자신만의 개성과 정체성을 형성함.
- ② 사회적 측면: 사회의 규범이나 관습, 문화적 유산과 가치 등을 학습하게 하여 사회를 유지하고, 이를 다음 세대로 전달하며 사회 발전에 기여함.

2. 사회화 기관

구분	특징
가정	<ul style="list-style-type: none"> 가장 기초적인 사회화 기관 자료 2 유아기와 아동기에 인성의 기본 틀을 형성하는 데 큰 영향을 미침. 언어, 예절을 비롯한 기본적인 생활 방식 습득
또래 집단	<ul style="list-style-type: none"> 비슷한 나이의 친구들과 상호 작용하면서 집단 생활에 필요한 규칙, 질서 등을 습득 청소년기에 개인의 인성, 자아 정체성을 형성하는 데 큰 영향을 미침.
학교	<ul style="list-style-type: none"> 체계적인 교육을 목적으로 하는 사회화 기관 교육을 통해 전문화된 지식, 기술 등을 습득하고 사회생활에 필요한 규범, 태도 등을 학습
직장	<ul style="list-style-type: none"> 성인기의 사회화에 중요한 사회화 기관 업무 수행에 필요한 지식과 행동 양식을 학습
대중 매체	<ul style="list-style-type: none"> 현대 사회에서 영향력이 커지고 있는 사회화 기관 새로운 지식, 정보, 가치관 등을 습득

대중 매체는 현대 사회에서 개인이 자신의 행동 양식을 결정하고 가치 판단을 내리는 데 중요한 역할을 한다.

3. 재사회화

(1) 의미: 급속한 사회 변화에 적응하기 위하여 새로운 생활양식과 지식, 기술, 규범 등을 지속적으로 습득해 가는 과정 **예** 노인들의 디지털 매체 사용법 학습

(2) 기능: 사회화는 평생 동안 지속된다는 것을 보여 줌. **자료 3**

(3) 특징: 재사회화는 넓은 의미의 사회화에 속하며, 변화하는 사회에서 지속적인 재사회화가 이루어지지 않으면 사회 구성원으로서 생활하는 데 어려움을 겪게 됨.

기존에 습득한 생활양식이나 규범 또는 가치관을 고집하면 변화하는 사회에 적응하기 어렵고 사회 구성원과 갈등을 빚을 수 있다.

용어 풀단지

- 상호 작용: 둘 이상의 물체나 대상이 서로 영향을 주고 받는 것
- 또래 집단: 비슷한 나이로 구성된 무리
- 규범: 인간이 행동이나 판단할 때 따르고 지켜야 할 가치 판단의 기준

자료 풀단지

교과서 확인: 동아, 아침나라, 천재

자료 1 본능에 따른 행동과 사회화된 행동

(가) 하품하는 것



(나) 배고픈 것



(다) 이불을 펴고 잠자는 것



(라) 수저를 이용해서 식사하는 것



(가), (나)는 인간의 본능적인 행동으로 사회화의 결과가 아니다. (다), (라)는 사회화의 결과로 나타난 행동이다. 따라서 인간의 모든 행동을 사회화의 결과라고 볼 수 없다.

교과서 확인: 아침나라

자료 2 초기 사회화의 중요성

1800년 프랑스 남부 지방 생시랑 마을에서 12세 정도의 벌거숭이 소년이 발견되었다. 이 소년의 생김새는 사람이 분명하지만 들짐승과 비슷하게 날것을 먹고 사람들이 접근하면 날카로운 소리를 내며 이빨을 드러냈다. 소년은 근처 고아원에 맡겨졌지만 끊임없이 탈출하려고 하였고, 결국 사회에 적응하지 못하였다.

인간은 사회화를 통해 사회적 존재로 성장하는데, 어렸을 때 기초적인 사회화를 경험하지 못하면 사회에 적응하여 살아가기 어렵다.

교과서 확인: 동아, 미래엔, 아침나라, 천재

자료 3 평생에 걸쳐 이루어지는 사회화

유아기	가정에서 기본적인 생활 습관과 언어 등을 배움.
아동기	주로 또래 집단에서 놀이를 통해 규칙이나 공동체 의식을 학습함.
청소년기	일반적으로 학교에서 사회생활에 필요한 지식과 규범을 전문적으로 배움.
성인기	직장에서 업무에 필요한 전문적 지식과 정보를 학습함.
노년기	급속한 사회 변화 속에서 새로운 지식과 기술을 배움.

인간은 태어나서 평생 동안 다양한 사회화 기관을 통해 끊임없이 학습한다. 이처럼 사회화는 평생에 걸쳐 이루어진다.

2 자아 정체성

1. 자아 정체성의 의미와 형성 과정 자료 4

- (1) **의미:** 자신만이 가진 독특한 개성이나 모습에 대한 주체적 인식
- (2) **형성 과정:** 자아를 찾으려는 개인적 노력과 다른 사람과의 사회적 상호 작용이 결합되면서 사회화를 통해 자아 정체성이 형성됨.

2. 자아 정체성 형성 요인

- (1) **개인적 요인:** 외모, 성별, 성격 등
- (2) **사회적 요인:** 성장 과정, 가정 환경, 또래 집단, 미디어 등

↳ 자아 정체성이 형성되면 자신의 존재에 대한 안정감을 가지게 되어 행동, 사고, 감정이 변하더라도 자신이 누구인가를 일관되게 인식할 수 있다.

3. 자아 정체성의 발달과 변화

- (1) **자아 정체성 확립의 중요성:** 스스로를 존중할 수 있게 되며, 명확한 삶의 목표와 가치관을 지니게 됨.
- (2) **청소년기와 자아 정체성:** 자신의 모습을 바로 알고, 삶의 목표와 가치관을 명확히 하여 긍정적인 삶의 자세를 지닐 수 있도록 노력해야 함.
- (3) **사회 변화와 자아 정체성**
 - ① 급격한 사회 변화로 기존 사회 규범이 약화되면서 혼란이 발생함.
 - ② 가상 공간에서의 자아 정체성 문제에 대한 관심이 높아지고 있음.

↳ 사회 관계망 서비스(SNS)에서 이루어지는 상호 작용은 청소년의 자아 정체성 형성에 큰 영향을 미친다.

자료 풀단지

교과서 확인 : 아침나라, 천재

자료 4 거울 자아와 자아 정체성



'거울 자아'는 미국의 사회학자 콜리가 말한 개념으로 사람들이 거울에 비친 모습처럼 다른 사람의 눈에 비친 자신의 모습을 상상하고, 이를 바탕으로 자아 정체성을 형성한다는 의미이다. 즉, 자아 정체성은 다른 사람들의 반응에 영향을 받으며 형성된다. 사람들이 자신을 어떻게 생각하느냐에 대한 평가가 자아 정체성에 영향을 준다.

용어 풀단지

- ◆ **정체성** 한 개인의 사회화의 결과로 형성되는 자아 인식
- ◆ **가치관** 인간이 삶이나 세계에 대하여 옳고 그름, 좋고 나쁨 등의 가치를 매기는 관점이나 기준

STEP 1

개념 IN

1 빈칸에 들어갈 알맞은 말을 쓰시오.

- (1) (**사회화**)은/는 인간이 사회생활에 필요한 지식, 가치, 규범 등을 학습하는 과정을 의미한다.
- (2) (**재사회화**)은/는 급속한 사회 변화에 적응하기 위하여 새로운 생활양식과 지식, 기술, 규범 등을 다시 배우는 과정을 의미한다.

2 다음 설명이 맞으면 ○표, 틀리면 ×표를 하시오.

- (1) 인간은 태어나서 평생 동안 주변 사람들과 영향을 주고 받는 사회적 존재이다. (○)
- (2) 자아 정체성은 다른 사람의 기대나 평가와 무관하게 형성된다. (×)
- (3) 자아 정체성은 사회의 문화적 환경, 타인과의 관계에 따라 달라질 수 있다. (○)

3 ㉠, ㉡ 중 알맞은 것을 고르시오.

- (1) 인간이 접하는 최초의 사회화 기관인 (㉠ 가정, ㉡ 직장)에서 기본적인 생활 방식을 습득한다.
- (2) 자신의 성격, 가치관 등에 대한 주체적 인식을 (㉠ 자아 정체성, ㉡ 상호 작용)이라고 한다.

4 다음 설명에 해당하는 사회화 기관을 <보기>에서 골라 기호를 쓰시오.

보기

ㄱ. 학교 ㄴ. 직장 ㄷ. 대중 매체

- (1) 텔레비전, 인터넷 등을 통해 정보를 습득한다. (ㄷ)
- (2) 업무 수행에 필요한 지식과 행동 양식을 배운다. (ㄴ)
- (3) 사회생활에 필요한 지식, 기술, 규범 등을 체계적으로 배운다. (ㄱ)

중요

07 표는 사회화 기관과 그 특징을 정리한 것이다. ㉠~㉥에 들어갈 내용으로 옳은 것은?

사회화 기관	특징
가정	㉠
또래 집단	㉡
학교	㉢
직장	㉣
대중 매체	㉤

- ① ㉠ - 전문적인 지식과 기술을 체계적으로 배운다.
- ② ㉡ - 직업과 관련된 지식을 습득한다.
- ③ ㉢ - 인간이 접하는 최초의 사회화 기관이다.
- ④ ㉣ - 성인기의 자아 정체성 형성에 영향을 주지 않는다.
- ⑤ ㉤ - 현대 사회에서 영향력이 커지고 있다.

정답 ⑤ | 대중 매체는 다양한 지식과 정보를 제공하는 사회화 기관으로 현대 사회에서 영향력이 커지고 있다.

08 교사의 질문에 대한 학생의 답변으로 가장 적절한 것은?

교사: '나는 누구인가?', '나는 무엇을 할 것인가?', '나는 어떻게 살아가야 하는가?'라는 질문에 대한 답을 찾는 과정에서 달성할 수 있는 목표는 무엇일까요?

- ① 사회 규범을 학습합니다.
- ② 기본적인 생활 습관을 습득합니다.
- ③ 자신만의 자아 정체성을 형성합니다.
- ④ 다른 사람과 똑같은 모습을 갖추니다.
- ⑤ 사회생활에 필요한 지식을 학습합니다.

정답 ③ | '나는 어떻게 살아가야 하는가?'라는 질문에 대한 답을 찾는 과정에서 자아 정체성을 형성할 수 있다.

09 밑줄 친 ㉠, ㉡에 해당하는 내용을 옳게 연결한 것은?

이것은 내가 누구인지, 어떻게 살아가야 하는지에 관한 일관적인 태도를 말한다. 이를 결정하는 요인에는 ㉠ 개인적 요인과 ㉡ 사회적 요인이 있다.

- | | |
|---------|-------|
| ㉠ | ㉡ |
| ① 성격 | 성별 |
| ② 성별 | 외모 |
| ③ 외모 | 가정 환경 |
| ④ 가정 환경 | 또래 집단 |
| ⑤ 또래 집단 | 성장 과정 |

정답 ③ | 자아 정체성을 형성하는 요인 중 개인적 요인에는 성격, 외모, 성별 등이 있고, 사회적 요인에는 가정 환경, 성장 과정, 또래 집단 등이 있다.

10 수업 시간에 수행한 활동 내용이다. ㉠에 대한 설명으로 옳은 것은?

- 활동 주제: 자신의 (㉠) 파악하기
- 활동 내용
 1. 자신이 누구인지 그림으로 표현하기
 2. 자신이 잘하는 것과 좋아하는 것 작성하기
 3. 자신이 중요하게 생각하는 가치 작성하기
 4. 자신의 삶의 목표 작성하기

- ① 성인이 되면 완성된다.
- ② 선천적으로 타고나는 것이다.
- ③ 다른 사람의 평가에 영향을 받기도 한다.
- ④ 개인의 가치관 형성에 영향을 주지 않는다.
- ⑤ 형성과 발달에 가정과 학교는 영향을 주지 않는다.

정답 ③ | ㉠은 자아 정체성이다. 사람들이 자신을 어떻게 생각하느냐에 대한 평가가 자아 정체성에 영향을 준다.

11 청소년기의 자아 정체성 형성에 대한 설명으로 옳은 것은?

- ① 자아 정체성이 확립되어 변하지 않는다.
- ② 미디어가 자아 정체성 형성에 미치는 영향은 적다.
- ③ 다른 사람과의 교류 없이 자신만의 정체성을 형성한다.
- ④ 사회화 과정에서 자아 정체성의 변화가 나타날 수 있다.
- ⑤ 긍정적 자아 개념보다 부정적 자아 개념의 형성이 중요하다.

정답 ④ | 사회화가 활발하게 이루어지는 청소년기에는 자아 정체성의 변화가 크다.

구분	채점 기준
상	자신을 객관적으로 성찰하여 성인이 되어서도 능동적이고 적극적인 삶의 자세를 가질 수 있기 때문이라고 서술한 경우
하	바람직한 모습의 성인이 될 수 있기 때문이라고 서술한 경우

서술형 문제

12 다음 글을 읽고 청소년기에 올바른 자아 정체성을 형성하는 것이 중요한 까닭을 서술하시오.

청소년기는 자아 정체성 형성에 중요한 시기이다. 청소년기에는 사회화 과정에서 큰 변화를 경험하며, 자아 정체성을 확립하려는 욕구가 강하게 일어난다. 청소년은 자신이 어떤 사람인지, 어떻게 살아야 하는지에 관한 답을 찾는 과정에서 자아 정체성을 형성한다.

예시 답안 | 청소년기에 명확하고 긍정적인 자아 정체성을 형성한 사람은 자신을 객관적으로 성찰함으로써 성인이 되어서도 능동적이고 적극적인 삶의 자세를 가질 수 있기 때문이다.

2 사회적 지위와 역할

1 사회적 지위와 역할

1. 사회적 지위

(1) 의미: 한 개인이 자신이 속한 사회 집단이나 사회적 관계 속에서 차지하고 있는 위치 **자료 1**

둘 이상의 사람들이 소속감을 느끼고 지속적으로 상호 작용하는 모임을 말해.

(2) 특징

- ① 개인은 동시에 여러 가지 지위를 가질 수 있고, 시간이 흐르면서 개인이 갖는 지위는 달라지기도 함.
- ② 현대 사회에서는 귀속 지위보다 성취 지위의 중요성이 커지고 있고, 개인이 가지는 사회적 지위의 수가 많아짐.

(3) 종류

귀속 지위는 태어나면서부터 가지는 선천적인 지위일 뿐만 아니라 일정한 나이가 되었을 때 자연적으로 얻게 되는 지위도 포함된다.

지위	의미와 특징	예
귀속 지위	<ul style="list-style-type: none"> • 의미: 개인의 의지와 노력과는 관계없이 태어나면서 자연적으로 얻게 되는 지위 • 특징: 전통적인 신분제 사회에서 중시함. 	남자, 여자, 청소년, 노인, 자녀 등
성취 지위	<ul style="list-style-type: none"> • 의미: 개인의 노력이나 능력에 따라 후천적으로 얻게 되는 지위 • 특징: 개인의 능력이 중요해진 현대 사회에서 중요성이 커짐. 	부모, 대학생, 교사, 과장 등

2. 역할

(1) 역할의 의미: 사회적 지위에 따라 기대되는 행동 양식

예 학교에서 학생이 공부하는 행위, 의사가 환자를 치료하는 행위

(2) 역할 행동

① 의미: 사회적 지위에 따른 역할을 수행하는 구체적인 행동

② 특징 **개인의 성격이나 습관 등에 따라 자신의 지위에 따른 역할을 판단하기 때문에 역할 행동은 사람마다 다양하게 나타난다.**

- 동일한 지위를 가지고 있더라도 역할을 수행하는 역할 행동은 개인마다 다르게 나타날 수 있음.
- 역할을 잘 수행하면 보상을 받지만, 잘 수행하지 못할 경우 비난 등의 제재를 받을 수 있음. **자료 2**

2 역할 갈등과 해결

1. 역할 갈등

개인의 고민이나 갈등이 무조건 역할 갈등이 되는 것은 아니다. 반드시 지위에 따른 역할의 충돌과 관련된 갈등이어야 한다.

(1) 의미: 개인이 가지는 여러 가지 사회적 지위에 따른 역할이 서로 충돌하는 것 **자료 3**

개인은 여러 개의 지위를 가지고 있기 때문에 동시에 여러 가지 역할을 수행해야 하는 상황이 많이 발생해.

자료 1

교과서 확인: 아침나라, 천재
자료 1 개인이 갖는 다양한 지위



한 개인은 여러 사회 집단에 속해 있어 다양한 사회적 지위를 갖는다. 중학교에서는 학생이고, 동아리에서는 동아리 부원이며, 가정에서는 자녀와 동생이라는 사회적 지위를 갖는다.

개인이 사회적으로 기대되는 역할을 잘 수행하도록 하는 기능을 한다.

자료 2 역할 행동에 따른 보상과 제재

○○중학교 1학년인 갑은 수업을 열심히 듣고 교칙을 잘 지키고 있어 선생님들과 주변 사람들로부터 칭찬을 받았다.

□□대학교 학생인 을은 수업에 자주 빠져 F학점을 받아 성적 기준에 부합하지 못해 국가 장학금을 받지 못했다.

동일한 사회적 지위를 가지더라도 개인마다 역할을 다르게 수행하기도 한다. 갑은 학생으로서의 역할을 잘 수행하여 보상을 받았지만, 을은 학생으로서의 역할을 잘 수행하지 못하여 제재를 받았다.

교과서 확인: 동아, 미래엔, 비상, 아침나라, 천재

자료 3 역할 갈등

회사에서 과장인 갑은 오후에 중요한 회의에서 발표를 해야 한다. 그런데 아파서 병원에 입원한 자녀가 그 시간에 수술을 해야 한다고 한다. 갑은 이러한 상황에서 마음이 너무 불안하고 편치 않았다.

갑은 회사에서 과장이라는 성취 지위에 따른 역할과 가정에서 부모라는 성취 지위에 따른 역할을 동시에 요구받고 있다. 갑은 두 가지 지위에 따른 역할이 서로 충돌하는 역할 갈등 상황에 처하여 심리적 불안을 겪고 있다.

용어 풀단지

- ◆ **보상** 어떠한 행동에 관해 긍정적 대가를 주는 것
- ◆ **제재** 정해진 규칙을 위반하는 행동을 제한하거나 금지하는 것

01 밑줄 친 '지위'의 예로 적절한 것은?

이 지위는 개인의 능력과 노력에 따라 후천적으로 획득하는 지위이다.

- ① 청소년 ② 남동생
- ③ 첫째 딸 ④ 둘째 언니
- ⑤ 학급 회장

정답 ⑤ | 개인의 능력과 노력에 따라 후천적으로 획득하는 지위는 성취 지위이다. 학급 회장은 성취 지위에 해당하고, 나머지는 귀속 지위에 해당한다.

중요

02 지위의 의미를 구분한 것이다. A, B에 대한 설명으로 옳은 것은?

A	후천적으로 획득한 지위를 의미한다.
B	선천적으로 타고난 지위를 의미한다.

- ① A의 예로 회사원, 가수를 들 수 있다.
- ② 한 개인에게 A의 수는 한정되어 있다.
- ③ B는 개인마다 한 개만 가질 수 있다.
- ④ B는 개인의 노력과 의지로 획득된다.
- ⑤ 현대 사회에서는 B가 A보다 중요해지고 있다.

정답 ① | A는 성취 지위이고, B는 귀속 지위이다. 회사원과 가수는 성취 지위이다.

정답 ⑥ | 교사, 학생, 친구, 부모는 성취 지위에 해당하고, 청소년은 귀속 지위에 해당한다.

03 밑줄 친 ㉠~㉥ 중 지위의 성격이 나머지와 다른 것은?

갑은 ○○ 중학교에서 근무하는 ㉠ 교사이다. 여름 방학을 앞두고 자신의 학급 ㉡ 학생들에게 안전사고 유의 사항을 안내하였다. 특히 물놀이를 할 경우에는 ㉢ 친구들끼리만 하지 말고 ㉣ 부모님과 함께 하도록 강조하였다. 또한 ㉤ 청소년 유해 장소에 출입하지 않도록 강조하였다.

- ① ㉠ ② ㉡
- ③ ㉢ ④ ㉣
- ⑤ ㉤

04 ㉠에 대한 설명으로 옳지 않은 것은?

(㉠)의 사례로 학교에서 학생이라는 지위에 기대되는 행위, 병원에서 의사라는 지위에 기대되는 행위 등을 들 수 있다.

- ① 사회적 지위에 따라 기대되는 행동 양식을 의미한다.
- ② 각 개인별로 수행하는 방식은 차이가 없고 항상 같다.
- ③ 기대에 맞게 제대로 수행할 경우에는 보상을 받을 수 있다.
- ④ 기대되는 행동을 제대로 수행하지 못할 경우에는 제재를 받을 수 있다.
- ⑤ 여러 개의 지위를 가진 한 개인이 각 지위에 따른 행동 양식을 동시에 요구받으면 갈등이 발생할 수 있다.

정답 ② | ㉠은 역할이다. 역할이 같더라도 개인이 실제로 역할을 수행하는 방식인 역할 행동은 개인마다 다를 수 있다.

05 ㉠에 해당하는 사회학적 개념은?

(㉠)은/는 개인이 실제로 주어진 역할을 수행하는 방식으로, 개인마다 다르게 나타날 수 있다. 그래서 (㉠)에 따라 보상과 제재가 주어진다.

- ① 역할 ② 귀속 지위
- ③ 성취 지위 ④ 역할 행동
- ⑤ 역할 갈등

정답 ④ | 개인이 실제로 주어진 역할을 수행하는 방식을 역할 행동이라 한다.

중요

06 역할과 역할 행동에 대한 질문에 모두 옳은 응답을 한 학생은?

질문	학생	갑	을	병	정	무
개인에게는 하나의 역할만 주어지는가?		○	○	×	×	×
역할을 수행하는 방식은 모든 사람이 같은가?		○	×	○	×	×
역할 행동은 지위에 따라 기대되는 일정한 행동 양식을 의미하는가?		×	○	×	○	×
역할에 맞는 역할 행동을 잘 수행하면 칭찬이나 보상을 받을 수 있는가?		○	×	○	○	○

(○: 예, ×: 아니요)

- ① 갑 ② 을 ③ 병 ④ 정 ⑤ 무

정답 ⑤ | 역할은 지위에 기대되는 행동 양식이며, 역할 행동은 개인이 실제로 주어진 역할을 구체적으로 수행하는 방식이다.

07 갑이 처한 상황을 설명하기에 가장 적절한 사회학적 개념은?

갑은 중학교에 근무하는 교사이다. 갑은 학급 학생들과 함께 수학여행을 가야 하는데, 하필 그 기간에 자신이 회장인 지역 합창부 공연이 계획되었다. 갑은 학급 담임 교사로서 수학여행을 가야 할지, 지역 합창부 회장으로서 공연을 해야 할지 둘 중 하나를 선택해야 하는 상황에서 고민을 하고 있다.

- ① 지위 ② 역할 ③ 재사회화
- ④ 역할 갈등 ⑤ 역할 행동

정답 ④ | 갑의 고민은 개인이 가지는 여러 가지 사회적 지위에 따른 역할들이 서로 충돌하는 역할 갈등에서 비롯된다.

08 역할 갈등에 대한 설명으로 옳은 것은?

- ① 과거와 달리 현대 사회에서는 나타나지 않는다.
- ② 사회 제도를 통해서 역할 갈등을 해결할 수 없다.
- ③ 사회적 지위에 따라 기대되는 개인의 행동 양식을 의미한다.
- ④ 한 개인이 여러 지위를 가지면서 그에 따른 역할들이 서로 충돌할 때 나타날 수 있다.
- ⑤ 역할 갈등으로 인해 개인은 심리적 불안을 겪지만, 이로 인해 사회 혼란을 초래하지는 않는다.

정답 ④ | 한 개인이 여러 지위를 가지면서 그에 따른 역할들이 서로 충돌할 때 역할 갈등이 나타날 수 있다.

과년도

09 밑줄 친 ㉠~㉣에 대한 설명으로 옳은 것은?

중학생인 갑은 ㉠ 부모님, 동생과 함께 살고 있다. 방과 후에는 ㉡ 회장을 맡고 있는 치어리딩 동아리에서 ㉢ 매일 1시간씩 치어리딩 연습을 하는데, 얼마 전에는 치어리딩 대회에서 ㉣ 수상을 하기도 하였다. 그런데 부모님이 모두 해외 출장을 가신 날, ㉤ 동생이 아프다고 집에 있는데, 누나로서 아픈 동생을 집에 두고 치어리딩 연습 시간에 나가야 할지 ㉥ 고민이다.

- ① ㉠은 귀속 지위에 해당한다.
- ② ㉡과 ㉣은 모두 후천적인 노력으로 얻을 수 있는 지위이다.
- ③ ㉢은 갑의 ㉡으로서 역할에 해당한다.
- ④ ㉣은 갑의 역할에 대한 보상이다.
- ⑤ ㉤은 갑의 역할 갈등이다.

정답 ⑤ | 갑은 누나로서의 역할과 치어리딩 동아리 회장으로서의 역할이 동시에 요구되어 역할 갈등을 겪고 있다.

중요
10

밑줄 친 ㉠~㉣에 대한 설명으로 옳은 것은?

갑은 낮에는 도시락 가게에서 일을 하고, 저녁부터는 집에서 ㉠ 초등학교에 다니는 ㉡ 자녀를 돌보고 있다. 그런데 자녀의 운동회 참석을 요청받고, ㉢ 고민하다가 도시락 가게 ㉣ 사장님께 말씀드려 휴가를 내고 ㉤ 자녀의 초등학교 운동회에 참석하였다.

- ① ㉠은 사회화를 체계적으로 수행하지 않는다.
- ② ㉡은 후천적 노력으로 얻게 되는 지위이다.
- ③ ㉢은 갑의 역할 갈등에 해당한다.
- ④ ㉣은 '청소년'과 성격이 같은 지위이다.
- ⑤ ㉤은 갑의 역할에 해당한다.

정답 ③ | ㉢은 부모로서의 역할과 직원으로서의 역할이 충돌한 역할 갈등에서 비롯되었다.

11 갑의 상황을 해결하기 위한 사회적 차원의 노력으로 가장 적절한 것은?

맞벌이 부부인 갑은 부부가 모두 출근을 해야 하므로 유치원이 방학일 때 자녀를 돌보는 것이 어려운 상황이다. 부모와 직장인의 역할을 동시에 수행해야 하기에 갑과 갑의 배우자는 마음이 편치 않다.

- ① 한 지위에 따른 역할을 포기하도록 한다.
- ② 보육 시설의 방학 및 휴가 제도를 폐지한다.
- ③ 부모와 직장인의 역할 중에 우선순위를 정한다.
- ④ 맞벌이를 위한 보육 시설을 국가적으로 지원한다.
- ⑤ 어떤 역할을 수행할 것인지에 대해 개인의 선택에 맡긴다.

정답 ④ | 맞벌이를 위한 보육 시설을 국가적으로 지원하는 것은 역할 갈등을 해결하기 위한 사회적 차원의 노력에 해당한다.

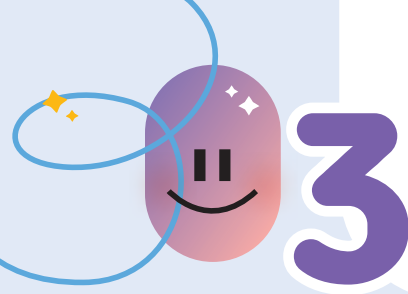
구분	채점 기준
상	역할 갈등 상황에 처해 심리적 압박을 받고 있음을 정확하게 서술한 경우
하	두 가지 지위에 따른 역할 사이에서 고민하고 있다는 내용만 서술한 경우

서술형 문제

12 밑줄 친 ㉠ 상황이 발생한 원인을 서술하시오.

막내딸인 갑은 중학교에서 봉사 동아리 회장을 맡고 있다. 다가올 주말에 봉사 동아리 행사와 할아버지 생신 잔치가 같은 시간에 예정되어 있다. 그래서 ㉠ 갑은 어떤 선택을 해야 할지 마음이 편치 않다.

예시 답안 | 갑은 동아리 회장으로서의 지위에 따른 역할과 손녀로서의 지위에 따른 역할을 동시에 수행해야 하는 상황에 처해 역할 갈등을 겪고 있다. 역할 갈등이 심할 경우 개인은 심리적 압박을 받을 수 있다.



3 우리 사회의 갈등과 차별

1 사회적 갈등과 차별

1. 갈등 **자료 1**

(1) **의미:** 서로의 이익과 가치, 신념, 목표나 이해관계의 차이로 부딪치며 충돌하는 현상 **예** 성별, 지역, 계층 등 다양한 기준에 따라 구분되는 집단들의 내·외부에서 계층 갈등, 세대 갈등, 지역 갈등 등이 나타남.

서로 이익과 손해가 미치는 사이의 관계를 말해.

(2) 특징

같은 시대에 사는 비슷한 연령층의 사람 전체를 말해.

① 사회나 집단 간 갈등은 한 사회 내, 한 집단 내의 결속을 강화할 수 있음.

② 갈등이 원만히 해결될 때 사회 통합이나 발전에 기여할 수 있음.

(3) **문제점:** 사회 갈등이 지속될 경우 사회 혼란을 가져올 수 있음.

2. 차이와 차별

(1) 차이

① **의미:** '다르다', '동일하지 않다'와 같이 서로 같지 않고, 다름을 의미함.

② **특징:** 차이는 선천적으로 타고날 수도 있고, 후천적 요인에 따라 발생할 수도 있음. **예** 남자와 여자, 백인과 흑인 등

(2) 차별 **자료 2** **자료 3**

① **의미:** 사회에서 특정인이나 특정 집단을 차이를 근거로 정당한 이유 없이 불합리하게 대우하는 것

② **유형:** 성차별, 장애인 차별, 외국인이나 이주민에 대한 차별, 외모나 연령에 따른 차별 등

외국인 근로자들이 낮은 인급을 받거나 열악한 환경에서 일하는 등의 부당한 대우를 받기도 한다.

③ **특징:** 사회적 편견이나 고정 관념에서 비롯되는 경우가 많고, 사회 집단 내·사회 집단 간 모두 발생이 가능하며, 지속될 경우 사회적 갈등 및 혼란을 유발함.

④ **문제점:** 인간의 존엄성 훼손, 인권 침해 유발

어떤 사회 집단에 부정적인 편견을 가지고 있으면 그 집단에 속한다는 이유만으로 어떤 개인을 부정적으로 평가하며 부당하게 대우하는 차별이 나타날 수 있다.

2 갈등과 차별에 대한 대처

1. 다양한 갈등에 대처하는 방안

(1) **개인적 측면:** 대화와 토론을 통해 상대방 이해, 다양한 생활 방식과 가치 존중, 서로의 이익을 조금씩 양보하는 태도 등

(2) **사회적 측면:** 갈등 방지를 위한 공정한 제도 마련, 다양한 갈등을 해소할 수 있는 법과 제도의 정비

용어 낱단지

- ◆ **대우** 어떤 사회적 관계에서 대하는 태도나 방식
- ◆ **편견** 공정하지 못하고 한쪽으로 치우친 견해나 생각
- ◆ **고정 관념** 굳은 생각 또는 지나치게 당연한 것처럼 알려진 생각
- ◆ **인권** 인간이 인간답게 살아가기 위해 누구나 누려야 할 기본적인 보편적인 권리

자료 끝단지

교과서 확인 : 미래엔

자료 1 갈등의 어원



갈등은 한자어 '취 갈(葛)', '등나무 등(藤)'이 결합한 단어이다. 취는 시계 반대 방향으로 감고 올라가고, 등나무는 시계 방향으로 감고 올라간다. 결국 취와 등나무는 서로 상반되게 감고 올라가면서 엉키게 된다.

'취'와 '등나무'가 서로 반대 방향으로 감고 올라가며 엉키듯이 다양한 생각을 가진 개인이나 집단이 부딪치는 일이 생길 수 있다.

교과서 확인 : 동아, 아침나라

자료 2 일상 언어 속 '먼지 차별'

우리가 무심코 쓰는 말에도 차별이 나타나는데 우리는 이를 잘 인식하지 못한 채 사용하기도 한다. 이처럼 '먼지 차별'은 일상적으로 널리 사용하는 말과 행동이지만 미세한 먼지처럼 사회 구성원이 잘 인식하지 못하는 차별을 의미한다.

먼지 차별은 직접 외닿는 것이 아니기 때문에 당한 사람이 바로 대처하기가 어렵다. 이러한 상황을 별것 아니라고 생각하여 그냥 방치하면 먼지처럼 쌓이고 쌓여 더 심각한 차별과 혐오로 이어질 수 있다.

교과서 확인 : 천재

자료 3 차별의 유형



다양한 유형의 차별은 다른 사람의 인권이나 인간의 존엄성을 침해하고, 사회 통합을 어렵게 하거나 사회 혼란을 유발할 수 있다.

2. 편견과 차별을 개선하기 위한 노력

서로 다름을 인정하지 않는 것에서 편견과 차별이 생기기 돼.

- (1) **개인적 차원:** 서로의 차이를 인정하고, 다른 사람에 대한 고정 관념이나 편견을 버리고 존중하는 태도 함양
- (2) **사회·제도적 차원:** 차별의 원인이 되는 사회 제도 개선, 차별을 해소하기 위한 법과 정책 마련 **자료 4**

3. 차이와 차별에 대처하기 위한 시민의 자질

- (1) 서로 다른 집단을 이해할 수 있는 경험을 쌓아 차이를 이해하고 공감하려고 노력함.
서로 다른 집단을 이해할 수 있는 경험이 많아질수록 다른 집단에 속한 사람에 대해 편견이 줄어들어.
- (2) 부당한 차별을 거부함으로써 스스로의 권리를 지켜야 함.
- (3) 다른 사람의 권리를 배려하고 관용하며, 존중하는 마음을 갖도록 함.
- (4) 일상에서 나타나는 차별을 찾아내고 문제를 제기할 수 있는 시민 의식을 가짐.
- (5) 갈등을 해결하거나 차별을 개선할 수 있는 방안을 제안하거나 법과 제도의 개선을 적극적으로 요구함.

자료 끝단지

교과서 확인 : 미래엔

자료 4 장애인 차별 금지 및 권리 구제 등에 관한 법률

제1조(목적) 이 법은 모든 생활 영역에서 장애를 이유로 한 차별을 금지하고 장애를 이유로 차별받은 사람의 권익을 효과적으로 구제함으로써 장애인의 완전한 사회 참여와 평등권 실현을 통하여 인간으로서의 존엄과 가치를 구현함을 목적으로 한다.

적극적 우대 조치는 차별을 받아온 사회적 소수자나 사회적 약자에게 혜택을 더 주는 제도나 정책을 의미한다. 「장애인 차별 금지 및 권리 구제 등에 관한 법률」은 장애인의 차별을 금지하고 장애인에 대한 의무 고용을 명시하여 적극적 우대 조치를 실천하려는 법률이다.

용어 끝단지

- ◆ **자질** 어떤 분야의 일에 대한 능력이나 실력의 정도
- ◆ **공감** 남의 의견·주장·감정 등에 대하여 자기도 그렇다고 느낌.
- ◆ **관용** 남의 잘못을 너그럽게 받아들이거나 용서함.

STEP 1

개념 IN

1 빈칸에 들어갈 알맞은 말을 쓰시오.

- (1) (**갈등**)은/는 서로의 이익과 가치, 신념, 목표나 이해관계의 차이로 부딪치며 충돌하는 현상이다.
- (2) (**차이**)은/는 ‘다르다’, ‘동일하지 않다’와 같이 서로 같지 않고, 다름을 의미한다.
- (3) (**고정 관념**)은/는 굳은 생각 또는 지나치게 당연한 것처럼 알려진 생각을 말한다.

2 다음 설명이 맞으면 ○표, 틀리면 ×표를 하시오.

- (1) 사회 갈등이 지속될 경우 사회 혼란을 가져올 수 있으므로 해결해야 한다. (○)
- (2) 차별은 사회 집단 간에만 발생하며, 사회 집단 내에서는 발생하지 않는다. (×)
- (3) 사회적 차별을 해결하기 위해서는 서로의 차이를 부정하고, 다른 사람에 대한 고정 관념이나 편견을 버리고 존중하는 태도가 필요하다. (×)

3 ㉠, ㉡ 중 알맞은 것을 고르시오.

- (1) 한 사회 내에서 갈등이 원만히 해결되면 (㉠ 사회 혼란, ㉡ 사회 통합)에 기여할 수 있다.
- (2) 인권 침해를 유발하고, 인간의 존엄성을 훼손하는 문제를 가져오는 것은 (㉠ 차별, ㉡ 차이)이다.
- (3) 적극적 우대 조치와 같은 정책 마련은 사회적 차별을 개선하기 위한 (㉠ 개인적 차원, ㉡ 사회·제도적 차원)의 방안이다.

4 다음 설명에 해당하는 개념을 <보기>에서 골라 기호를 쓰시오.

보기

ㄱ. 공감 ㄴ. 차별 ㄷ. 차이 ㄹ. 편견

- (1) 개인이 가진 특징들이 서로 다르게 나타나 서로를 구분할 수 있는 특성을 의미한다. (ㄷ)
- (2) 사회에서 특정인이나 특정 집단을 차이를 근거로 정당할 이유 없이 불합리하게 대우하는 것을 의미한다. (ㄴ)

01 교사의 질문에 대한 답변으로 옳은 것은?

교사: 다음 힌트를 듣고 해당하는 사회학적 개념을 말해 보세요.

힌트 1. 이 말은 칩과 등나무가 서로 반대 방향으로 감아 올라가며 엉키고 마는 상황에서 유래되었습니다.

힌트 2. 이 말은 서로의 이해관계가 부딪치며 충돌하는 현상을 말합니다.

- ① 갈등입니다. ② 차별입니다.
- ③ 편견입니다. ④ 차이입니다.
- ⑤ 고정 관념입니다.

정답 ① | 갈등의 어원은 칩과 등나무가 서로 반대 방향으로 감아 올라가며 엉키고 마는 상황에서 유래되었다.

02 차이와 차별에 대해 옳은 내용을 발표한 학생만을 고른 것은?

갑: 개인적 특성이 서로 다른 것을 차이라고 합니다.
 을: 차이와 차별은 모두 사회의 다양성에 기여합니다.
 병: 정당한 이유 없이 불합리하게 대우하면 차별이 될 수 있습니다.
 정: 사회 구성원 간의 차이를 인정하면 차별이 증가하게 됩니다.

- ① 갑, 을 ② 갑, 병 ③ 을, 병
- ④ 을, 정 ⑤ 병, 정

정답 ② | 개인적 특성이 서로 다른 것은 차이이고, 정당한 이유 없이 불합리하게 대우하면 차별이다.

정답 ② | 나. 취업 규칙에 규정된 정년은 정당한 퇴직 사유이다. 다. 업무에 필요한 자격증이 없는 병은 인사 자격을 갖추지 못하였다.

03 사회적 차별을 받은 사람을 <보기>에서 고른 것은?

보기

ㄱ. 장애인이라는 이유로 살 집에 대한 계약을 거부당한 갑
 ㄴ. 정년 퇴직이라는 이유로 다니던 직장을 그만둔 외국인 을
 ㄷ. 업무에 필요한 자격증이 반드시 필요한 회사에 자격증이 없어 입사하지 못한 병
 ㄹ. 정해진 노동 시간을 넘겨서 일하지만 노인이라는 이유로 젊은 사람보다 낮은 임금을 받는 정

- ① ㄱ, ㄴ ② ㄱ, ㄷ ③ ㄴ, ㄷ
- ④ ㄴ, ㄹ ⑤ ㄷ, ㄹ

04 ㉠에 들어갈 사회학적 개념은?

(㉠)은/는 사회에서 특정인이나 특정 집단에 대해 차이를 근거로 정당한 이유 없이 불합리하게 대우하는 것을 의미한다.

- ① 갈등 ② 차별
- ③ 편견 ④ 지위
- ⑤ 고정 관념

정답 ② | 차별은 사회에서 특정인이나 특정 집단에 대해 차이를 근거로 정당한 이유 없이 불합리하게 대우하는 것을 의미한다.

05 차이와 차별에 대한 설명으로 옳은 것은?

- ① 차이란 합리적인 이유 없이 불리하게 대우하는 것을 의미한다.
- ② 차별은 성별, 나이, 인종 등 개인적인 특성이 서로 다른 것을 의미한다.
- ③ 차별은 사회 집단 간 및 사회 집단 내에서 모두 발생할 가능성이 있다.
- ④ 개인적으로는 사회 집단 간 대립과 갈등으로 사회 안정이 저해될 수 있다.
- ⑤ 사회적으로는 심리적 불안, 사회 부적응 등의 문제 점들이 발생할 수 있다.

정답 ③ | 차별은 차이를 이유로 정당한 이유 없이 불합리하게 대우하는 것으로, 집단 내에서도 발생할 수 있고, 집단 간에도 발생할 수 있다.

06 사회적 차별에 대한 설명으로 옳은 것은?

- ① 타인의 인권을 보호해 준다.
- ② 사회의 안정과 발전에 기여한다.
- ③ 사회 집단 간에는 발생하지 않는다.
- ④ 사회 집단 간의 대립을 유발할 수 있다.
- ⑤ 차별을 받는 개인에게 심리적 혼란은 생기지 않는다.

정답 ④ | 사회적 차별이 지속될 경우 사회 구성원 간에 갈등이 발생하여 사회 집단 간 대립이 생겨난다.

01 다음 사례를 통해 내린 결론으로 가장 적절한 것은?

어렸을 때 숲에 버려져 동물과 함께 자란 소년이 사람들에게 발견되어 구조되었다. 그러나 그 소년은 사회생활에 필요한 언어와 행동 양식, 지식 등을 어렸을 때부터 배우지 못하였고, 숲에서 동물에게 배운 행동만을 계속하여 사회에 적응하지 못하였다.

- ① 인간은 본능적으로 학습한다.
- ② 사회적 갈등 해소가 중요하다.
- ③ 인간의 특성은 선천적으로 결정된다.
- ④ 인간은 사회화를 통해 인간다운 삶을 살 수 있다.
- ⑤ 인간은 혼자서도 사회생활에 필요한 기술을 학습할 수 있다.

정답 ④ | 인간은 사회화를 통해 사회생활에 필요한 기본적인 태도 등을 배우며 인간다운 삶을 살 수 있다.

02 밑줄 친 '이것'에 대한 설명으로 옳은 것은?

이것은 새로운 환경에 적응하기 위해 이전과 다른 새로운 지식, 규범과 가치 등을 배우는 과정을 의미한다. 이것의 사례로 북한에서 이탈한 사람이 우리나라에서 적응하기 위해 우리나라의 가치관과 지식 등의 새로운 생활양식을 배우는 것을 들 수 있다.

- ① 주로 유아기에 필요하다.
- ② 노인들에게는 요구되지 않는다.
- ③ 일반적으로 가정을 통해 이루어진다.
- ④ 다른 사람들과의 상호 작용과는 관계없이 나타난다.
- ⑤ 급속히 변화하는 현대 사회에서 중요성이 커지고 있다.

정답 ⑤ | 재사회화는 급속히 변화하는 현대 사회에서 그 중요성이 커지고 있다.

중요

03 (가), (나)에 해당하는 사회화 기관을 바르게 연결한 것은?

(가) 사회생활에 필요한 다양한 정보와 지식을 전달하는 사회화 기관으로, 빠르게 변화하는 현대 사회에서 그 영향력이 커지고 있다.

(나) 주로 놀이를 통해 집단의 규칙과 질서를 배우는 비슷한 나이와 사회적 특징을 가진 사람들로 구성된 사회화 기관으로, 청소년기의 가치관 형성에 많은 영향을 준다.

- | | | | | | |
|---|-------|-------|---|-------|-----|
| | (가) | (나) | | (가) | (나) |
| ① | 가정 | 학교 | ② | 학교 | 직장 |
| ③ | 또래 집단 | 대중 매체 | ④ | 대중 매체 | 직장 |
| ⑤ | 대중 매체 | 또래 집단 | | | |

144 정답 ⑥ | 다양한 정보와 지식을 전달하는 사회화 기관은 대중 매체이고, 비슷한 나이와 사회적 특징을 가진 사람들로 구성된 사회화 기관은 또래 집단이다.

관

04 다음 자료에 대한 설명으로 옳은 것은?

A는 한 개인이 자신이 속한 사회의 언어, 규범, 가치관 등을 배워 나가는 과정을 의미한다. A는 ㉠ 개인적 측면과 ㉡ 사회적 측면에서 다양한 기능을 수행한다.

- ① A는 일정 기간이 지나면 완성된다.
- ② A는 자아 정체성 형성에 기여하지 못한다.
- ③ ㉠으로 '본능에 따라 행동하게 한다.'를 들 수 있다.
- ④ ㉡으로 '사회를 유지하고 발전시킨다.'를 들 수 있다.
- ⑤ '사회의 문화를 다음 세대에 전달한다.'는 ㉡이 아닌 ㉠에 해당한다.

정답 ④ | A는 사회화이다. 사회의 유지 및 발전은 사회적 측면에서 사회화의 기능에 해당한다.

05 교사의 질문에 대한 답변으로 옳지 않은 것은?

교사: 사회화를 담당하는 기관은 다양합니다. 사회화 기관으로서 학교에 대해 설명해 볼까요?

- ① 청소년기의 사회화에 도움을 줍니다.
- ② 체계적인 사회화가 이루어지는 기관입니다.
- ③ 한 개인의 자아 정체성 형성에 영향을 미칩니다.
- ④ 기초적인 언어, 행동 양식을 처음으로 배우는 곳입니다.
- ⑤ 사회생활에 필요한 규칙과 질서 의식을 배우는 곳입니다.

정답 ④ | 기초적인 언어, 행동 양식을 처음으로 배우는 곳은 가정이다.

06 ㉠에 대한 설명으로 옳은 것은?

'나는 누구인가?', '나는 어떻게 살아야 하는가?'라는 물음에 대한 답을 찾아가는 과정에서 (㉠)을/를 형성해 나간다.

- ① 개인의 외모는 성격과 달리 영향을 주지 않는다.
- ② 주변 사람들의 평가를 거울 삼아 파악할 수도 있다.
- ③ 사회에는 큰 영향을 주지 않고 개인의 삶에만 영향을 미친다.
- ④ 자신만의 고유한 특징이 아니라 다른 사람과 같은 특징을 말한다.
- ⑤ 가정에서 한번 형성되면 학교나 직장에서의 영향으로 변하지 않는다.

정답 ② | ㉠은 자아 정체성이다. 자아 정체성은 상호 작용 과정에서 다른 사람의 평가를 거울 삼아 형성되기도 한다.

07 ㉠~㉣ 중 사회적 지위의 성격이 나머지와 다른 것은?

복지 센터에서 ㉠ 사회 복지사로 근무하는 갑은 퇴근 후에는 ㉡ 남편, 자녀와 함께 탁구하는 것을 좋아한다. 하지만 올해 ㉢ 대학생이 된 갑의 ㉣ 아들이 대학 생활로 바빠 함께 탁구를 칠 수 있는 시간이 줄어들었다. 그래도 남편과 ㉤ 중학생인 막내딸이 갑과 함께 매일 탁구를 하면서 가족이 즐거운 시간을 보낸다.

- ① ㉠ ② ㉡ ③ ㉢ ④ ㉣ ⑤ ㉤

정답 ④ | 아들은 귀속 지위에 해당하고 사회 복지사, 남편, 대학생, 중학생은 성취 지위에 해당한다.

[08-09] 표는 질문을 통해 사회적 지위를 A와 B로 구분한 것이다. 이를 보고 물음에 답하시오.

질문	A	B
자신의 의지와 관계없이 자연스럽게 얻게 되는 지위인가?	예	아니요
개인의 노력이나 능력에 따라 후천적으로 획득하는 지위인가?	아니요	예

08 A, B에 해당하는 사회적 지위의 예를 바르게 연결한 것은?

- | | | | | | |
|---|-----|-----|---|-----|----|
| | A | B | | A | B |
| ① | 남성 | 아버지 | ② | 청소년 | 노인 |
| ③ | 노인 | 남성 | ④ | 대학생 | 여성 |
| ⑤ | 어머니 | 간호사 | | | |

정답 ① | A는 귀속 지위이고, B는 성취 지위이다. 남성은 귀속 지위이고, 아버지는 성취 지위이다.

중요

09 사회적 지위 A, B에 대한 설명으로 옳은 것은?

- ① A는 성취 지위이다.
- ② B는 귀속 지위이다.
- ③ A는 B와 달리 한 개인에게 한 개만 주어진다.
- ④ B는 A보다 현대 사회에 오면서 중요성이 커지고 있다.
- ⑤ A, B는 모두 일정 연령이 되면 더 이상 늘어나지 않고 확정된다.

정답 ④ | 성취 지위는 개인의 의지나 노력에 따라 후천적으로 획득하는 지위로, 현대 사회에 오면서 중요성이 커지고 있다.

10 ㉠에 해당하는 사회적 개념은?

(㉠)은/는 사회적 지위에 따라 기대되는 일정한 행동 방식으로, 이를 수행하는 방식은 능력 차이 등으로 인해 개인마다 다르다. 그래서 (㉠)을/를 수행한 결과에 따라 사회적 보상이나 제재를 받는다.

- ① 역할 ② 위치 ③ 지위
④ 사회화 ⑤ 역할 갈등

정답 ① | 사회적 지위에 따라 기대되는 일정한 행동 방식은 역할이다.

11 갑이 처한 상황을 나타낼 수 있는 사회학적 개념은?

갑: 토요일에 동아리 활동과 학급 모듬 활동 발표 준비가 겹치네, 둘 다 중요한 행사인데 말이야.

요일	중요 일정
토	14:00 동아리 발표회 행사 연습 14:00 학급 모듬 활동 발표 준비
일	09:00 지역 봉사 활동

- ① 지위 ② 역할 ③ 역할 갈등
④ 재사회화 ⑤ 역할 행동

정답 ③ | 갑은 동아리 발표회 행사 연습과 학급 모듬 활동 발표 준비가 겹쳐 고민하는데, 이는 역할 갈등 상황이다.

정답 ② | 역할 갈등 상황에서는 자신의 가치관이나 목표에 따라 역할의 우선순위를 정하여 합리적으로 대응할 수 있다.

12 다음과 같은 상황을 해결할 수 있는 방안으로 가장 적절한 것은?

아이돌 그룹의 팬클럽 회장인 나는 주말 공연을 예매하였다. 그런데 콘서트를 보러 가는 길에 다리를 다친 학급 친구를 보았는데, 그 친구가 병원에 같이 가달라고 한다. 친구의 부탁으로 병원에 가면 공연을 보러 가지 못한다. 그렇다고 친구를 그냥 놔두고 갈 수 없어 이리저도 저러지도 못하고 있다.

- ① 주변 친구들의 조언을 그대로 따른다.
- ② 우선순위를 정하여 중요한 것부터 먼저 수행한다.
- ③ 개인의 이익만 생각하는 가치를 우선하여 선택한다.
- ④ 역할이 충돌하지 않기 위해 되도록 지위를 갖지 않는다.
- ⑤ 다른 사람들에게 부정적 평가를 받지 않을 수 있는 선택을 한다.

13 밑줄 친 ㉠~㉣에 대한 설명으로 옳은 것은?

㉠ 농구 선수인 갑은 ㉡ 매일 슈팅을 1,500개씩 연습하였다. 그 결과 갑은 ㉢ 최우수 선수상을 수상하였다. 그런데 갑은 경기 직전에 ㉣ 아버지께서 위독하시다는 연락을 받았다. 그는 농구 경기를 할 것인지 병원에 갈 것인지 ㉤ 고민에 빠졌다.

- ① ㉠은 귀속 지위이다.
- ② ㉡은 갑의 역할이다.
- ③ ㉢은 갑의 역할에 대한 보상이다.
- ④ ㉣은 전통 사회에서 중요한 사회적 지위이다.
- ⑤ ㉤은 두 개의 지위에 대해 기대되는 역할들이 서로 충돌하는 상황 때문이다.

정답 ⑤ | 갑은 농구 선수라는 지위에 따른 역할과 아버지라는 지위에 따른 역할이 동시에 요구되어 역할 갈등을 겪고 있다.

14 역할 갈등 해결 사례 (가)~(다)를 개인적 측면과 사회적 측면으로 바르게 연결한 것은?

(가) 법원의 판사는 본인과 관련 있는 사람에 대한 재판을 맡지 못하는 제도를 둔다.
 (나) 긴급하게 가족을 돌보기 위한 휴가를 신청한 경우 이를 허용하는 제도를 둔다.
 (다) 여러 역할이 충돌하면 자신이 우선적으로 추구하는 가치에 따라 역할을 수행한다.

개인적 측면 사회적 측면

- ① (가) (나), (다)
- ② (나) (가), (다)
- ③ (다) (가), (나)
- ④ (가), (나) (다)
- ⑤ (가), (다) (나)

정답 ③ | 개인적 측면에서는 자신의 가치관을 바탕으로 우선순위를 정하여 역할 갈등을 해결할 수 있고, 사회적 측면에서는 제도적 지원 방안을 마련하여 역할 갈등을 해결할 수 있다.

중요

15 역할 갈등에 대한 질문에 모두 옳은 응답을 한 학생은?

질문	학생	갑	을	병	정	무
역할 갈등은 사회 혼란을 가져오는 요인이 되는가?		○	○	○	×	×
역할의 우선순위 정하기는 역할 갈등 해결 방안 중 하나인가?		○	○	×	○	×
요리사가 될 것인지 회사원이 될 것인지 고민하는 것은 역할 갈등에 해당하는가?		○	×	×	○	×

(○: 예, ×: 아니요)

- ① 갑 ② 을 ③ 병 ④ 정 ⑤ 무

정답 ② | 진로에 대한 고민은 역할 갈등에 해당하지 않는다.

16 갑~정 중 사회적 차별을 경험한 사람만을 고른 것은?

- 갑은 여성이라는 이유로 회사에서 승진 기회를 얻지 못하였다.
- 을은 비정규직이라는 이유로 같은 업무를 하는 정규직보다 월급을 적게 받았다.
- 병은 수능 성적이 낮아 자신이 들어가고 싶은 대학 입학 전형에 합격하지 못하였다.
- 정은 국가대표 선발전 성적이 좋지 않다는 이유로 국가대표에 선발되지 못하였다.

- ① 갑, 을 ② 갑, 정 ③ 을, 병
- ④ 을, 정 ⑤ 병, 정

정답 ① | 정당한 이유 없이 단지 여성이라는 이유로 기회를 얻지 못하는 것과 비정규직이라는 이유로 같은 업무를 하는 정규직보다 월급을 적게 받는 것은 차별에 해당한다.

중요

17 (가)~(다)에 대한 설명으로 옳은 것은?

(가) 사원 모집 공고에 키와 용모 등을 제한하는 조건이 있다.
 (나) 공무원을 채용할 때 일정 비율을 장애인에게 할당한다.
 (다) 회사에서 성과급을 지급할 때 영업 실적에 따라 차등 지급한다.

- ① (가)는 사회적 차별에 해당한다.
- ② (나)는 차이를 인정하지 않은 경우이다.
- ③ (다)는 학력 차별에 해당한다.
- ④ (가)는 (나)와 달리 사회 통합에 기여한다.
- ⑤ (나)는 (다)와 달리 사회적 약자를 차별하는 것이다.

정답 ① | 사원 모집 시 키와 용모에 대한 제한 조건을 두는 것은 사회적 차별에 해당한다.

18 사회적 차별에 대한 설명으로 옳은 것은?

- ① 인권을 침해하기도 한다.
- ② 인정해야 할 자연스러운 현상이다.
- ③ 사회 혼란보다 사회 통합에 기여한다.
- ④ 합당한 차이를 인정하여 대우하는 것이다.
- ⑤ 편견이나 고정 관념 때문에 발생하지는 않는다.

정답 ① | 사회적 차별은 특정인이나 특정 집단을 불합리하게 대우하는 것으로 인권을 침해할 수 있다.

19 ㉠에 들어갈 용어로 가장 적절한 것은?

사회적 갈등과 차별을 해결하기 위한 시민적 자질 중 모든 인간이 평등한 존재라는 생각을 바탕으로 너그럽게 용서하고 받아들이는 것을 의미하는 (㉠) 의 자세를 지녀야 한다.

- ① 편견 ② 역할 ③ 관용
- ④ 대립 ⑤ 고정 관념

정답 ③ | 인간이 평등한 존재라는 생각을 바탕으로 너그럽게 용서하고 받아들이는 것은 관용이다.

20 사회적 차별로 인해 나타날 문제점에 대해 옳게 설명한 학생만을 고른 것은?

갑: 문화적 주체성이 상실될 수 있습니다.
 을: 역할 갈등을 해결하지 못할 수 있습니다.
 병: 차별받는 사람의 인권이 침해될 수 있습니다.
 정: 집단 간 갈등을 일으켜 사회 질서를 해칠 수 있습니다.

- ① 갑, 을 ② 갑, 병 ③ 을, 병
- ④ 을, 정 ⑤ 병, 정

정답 ⑥ | 사회적 차별은 차별받는 사람의 인권을 침해할 수 있고, 집단 간 갈등을 일으켜 사회 질서를 해칠 수 있다.

21 밑줄 친 '적극적 우대 조치'의 사례로 가장 적절한 것은?

사회적 차별을 해결하기 위한 방안에는 개인의 의식 변화와 같은 개인적 차원과 법과 제도의 마련과 같은 사회적 차원이 있다. 이 중에서 차별당하는 사람을 보호하는 적극적 우대 조치는 사회적 차원에서의 해결 방안이다.

- ① 대기업에서 장애인을 일정 비율 이상 고용하도록 한다.
- ② 외국인도 대학 수학 능력 시험에 응시할 수 있도록 한다.
- ③ 일정 연령의 시민은 누구나 공무원 시험을 볼 수 있도록 한다.
- ④ 동일한 업무를 하는 정규직과 비정규직의 월급을 동일하게 한다.
- ⑤ 일정 성적 이상을 달성한 학생만 학급 회장 후보에 나올 수 있도록 한다.

정답 ① | 대기업에서 장애인을 일정 비율 이상 고용하도록 하는 것은 장애인의 취업을 보장하기 위한 적극적 우대 조치이다.

서술형 문제

22 다음 글을 읽고 물음에 답하시오.

청소년기에는 급격한 성장을 경험하면서 자신의 성격이나 능력 등에 관해 고민을 하기도 한다. '나는 누구인가?', '나는 앞으로 무엇을 할 것인가?'에 대한 답을 찾아가며 (㉠)을/를 형성해 나간다.

(1) ㉠에 들어갈 사회학적 개념을 쓰시오.

자아 정체성


(2) ㉠에 영향을 주는 주요 사회화 기관을 두 가지 이상 서술하시오.

예시 답안 | 청소년기의 자아 정체성 형성에 영향을 주는 사회화 기관에는 또래 집단, 대중 매체, 학교 등이 있다.

구분	채점 기준
상	청소년기의 자아 정체성 형성에 영향을 주는 사회화 기관을 두 가지 이상 서술한 경우
중	청소년기의 자아 정체성 형성에 영향을 주는 사회화 기관을 한 가지만 제시한 경우

구분	채점 기준
상	우선순위에 따라 더 중요한 역할을 선택하여 행동한다고 서술한 경우
하	두 역할이 서로 충돌하지 않도록 잘 조정한다고 서술한 경우

23 다음 사례를 보고 물음에 답하시오.




대학생인 갑은 중요한 시험이 있다. 그런데 할머니께서 건강이 좋지 않아 시험이 있는 주말에 만나자고 전화를 하셨다. 갑은 손자로서 할머니를 뵈러 가야 하지만, 그렇다고 시험을 포기할 수도 없는 상황이다.

(1) 위 사례와 같은 상황을 나타내는 사회학적 개념을 쓰시오.

역할 갈등

(2) 위 사례와 같은 상황을 해결하기 위한 방법을 서술하시오.

예시 답안 | 대학생으로서의 역할과 손자로서의 역할 중 자신이 생각하는 우선순위에 따라 더 중요한 역할을 선택하여 행동한다.




다양한 문화의 이해


01 문화의 의미와 특징


02 미디어를 통해 경험하는 문화


03 다양한 문화를 이해하는 태도

배울 내용 확인하기

 문화의 속성에는 무엇이 있나요?

 뉴 미디어의 특징은 무엇인가요?

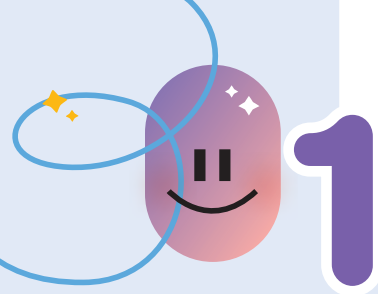
 문화를 이해하는 바람직한 태도는 무엇일까요?



문화의 속성으로는 학습성, 공유성, 축적성, 변동성, 전체성이 있어요.

뉴 미디어는 인터넷을 기반으로 쌍방향 의사소통이 가능해요.

문화 상대주의를 통해 사회적 맥락과 배경을 고려하여 그 사회의 문화를 이해해야 해요.



문화의 의미와 특징

1 문화의 의미

넓은 의미로 문화를 이해하는 것은 문화가 사회 구성원의 전반적인 삶에 미치는 영향력을 파악하는 데 유리하다.

1. 좁은 의미의 문화와 넓은 의미의 문화 자료 1 자료 2

좁은 의미의 문화	고급스럽고 세련된 것, 교양 있는 것, 예술과 관련한 것 예 문화인, 문화 공연, 문화생활, 문화 시설, 문화 상품권 등에서의 문화
넓은 의미의 문화	<ul style="list-style-type: none"> 의식주를 비롯하여 인간이 환경에 적응하고 극복해 가는 과정에서 만들어 낸 생활양식의 총체 예 주거 문화, 대중문화, 청소년 문화, 민족 문화 등에서의 문화 넓은 의미에서 문화를 이해하면 다양한 사람들의 일상생활을 편견 없이 바라볼 수 있음.

2. 문화의 구성 요소

문화를 구성하는 요소들은 별개로 떨어져 있는 것이 아니라 하나의 전체 혹은 체계를 이루고 있어.

물질문화	인간의 기본적 욕구를 충족하고 생존하는 데 필요한 도구나 기술 예 음식, 옷, 주택, 기계, 자동차, 휴대 전화 등
비물질문화	<ul style="list-style-type: none"> 제도문화: 인간이 공동생활을 하면서 사회 질서를 유지하고 사회 구성원의 행동을 규제하는 규범 및 기준 예 정치 제도, 경제 제도, 가족 제도, 교육 제도 등 관념 문화: 삶의 방향을 제시하고 인간의 정신적 삶을 풍요롭게 해 주는 것 예 종교, 음악, 언어, 철학 등

3. 문화의 특징 자료 3

문화는 보편성과 특수성을 동시에 가지고 있다. 다양한 문화를 객관적으로 이해하기 위해서는 서로 다른 문화 간의 유사성과 차이점을 분석해 보편성과 특수성을 밝히는 과정이 필요하다.

(1) 문화의 보편성

- ① 의미: 어느 사회에나 공통적인 생활양식이 나타남.
- ② 이유: 인간은 신체적·심리적으로 공통된 특징을 가지기 때문
- ③ 사례: 아는 사람을 만나면 인사를 하는 풍습, 사람이 죽으면 장례를 치르는 풍습

(2) 문화의 특수성

문화의 특수성으로 인해 문화의 다양성이 나타나.

- ① 의미: 사회마다 문화의 구체적인 모습은 서로 다르게 나타남.
- ② 이유: 자연환경, 역사적 배경, 사회적 상황에 인간이 적응하는 과정에서 각기 다른 고유한 문화를 만들어 내기 때문
- ③ 사례: 장례를 치르는 구체적인 모습이 사회마다 다른 것, 나라 혹은 지역마다 새해맞이 풍습이 다른 것

2 문화의 속성 자료 4

학습성	<ul style="list-style-type: none"> • 의미: 문화는 후천적 학습을 통해 형성됨. • 특징: 사회화를 통해 사회적 존재로서의 역할을 수행함. 예 숟가락과 젓가락으로 식사하는 것을 배워 익숙해지는 것
-----	--

용어 풀단지

- ◆ **교양** 학문, 지식, 사회생활을 바탕으로 이루어지는 품위 또는 문화에 대한 폭넓은 지식
- ◆ **생활양식** 사람들이 살아가는 방법으로 의식주를 포함한 관습, 예절, 가치관, 정치, 경제, 법, 규범 등을 의미함.
- ◆ **후천적** 경험적인 노력을 통해서 얻어진, 태어난 이후에 생겨난 것

자료 풀단지

교과서 확인 : 미래엔

자료 1 문화인 것과 문화가 아닌 것



문화는 사회 구성원에게 공통으로 나타나는 학습된 것, 즉 사회화의 결과이다. 이와 달리 선천적이거나 본능적인 것, 한 개인의 독특한 버릇은 문화가 아니다. 예를 들면 졸릴 때 하품이 나오는 것은 문화가 아니지만, 하품을 할 때 입을 가리는 행위는 문화에 해당한다.

교과서 확인 : 동아, 천재

자료 2 문화의 의미



오케스트라 공연은 음악과 같은 예술을 포함하는 좁은 의미의 문화 사례이고, 김장은 우리나라 사람들이 공유하는 생활양식이므로 넓은 의미의 문화 사례이다.

교과서 확인 : 동아

자료 3 지역마다 다른 새해맞이 풍습

- 그리스: 씨앗이 많은 석류는 그리스에서 풍요와 복을 상징한다. 새해가 되면 집에 들어가기 전에 석류를 밟아 그 기운이 널리 퍼지기를 기원한다.
- 수단: 물이 부족한 수단에서는 나일강에 큰 의미를 부여한다. 강가에서 진흙을 서로 던진 후 더러워진 몸을 강물에 씻어 깨끗한 몸과 마음으로 새해를 맞이하며 복을 기원한다.
- 타이: 열대 지역인 타이에서는 건기에서 우기로 넘어가는 4월에 새해맞이 행사를 한다. 이 축제에서 서로 물을 뿌려 액운을 씻고, 행복과 건강을 기원한다.

어느 지역에서나 새해맞이 풍습이 나타난다는 것에서 문화의 보편성을 알 수 있다. 새해를 맞이하는 구체적인 방법은 각 지역의 자연환경, 사회적 상황, 문화적 배경 등에 따라 다르다는 것에서 문화의 특수성을 알 수 있다.

공통의 행동과 사고방식은 사회 구성원들이 서로의 행동을 예측하고 이해할 수 있게 함으로써 안정적인 사회생활을 하는 데 바탕이 된다.

공유성	<ul style="list-style-type: none"> • 의미: 문화는 한 사회의 구성원 다수가 공통적으로 가지는 생활양식임. • 특징: 타인의 행동을 예측함으로써 원활한 상호 작용에 기여함. 예) 외국인은 우리나라 사람이 새해에 세배하는 의미를 알지 못함.
축적성	<ul style="list-style-type: none"> • 의미: 문화는 새로운 요소가 추가되어 점점 더 풍부해짐. • 특징: 문화가 발전할 수 있는 원동력이 됨. 예) 소금에 절인 형태였던 김치가 고추 등이 추가되어 지금의 형태가 됨.
변동성	<ul style="list-style-type: none"> • 의미: 문화는 시간이 지나면서 형태나 의미가 변화함. • 특징: 인간이 새로운 환경에 적응하기 위해 변화를 추구하면서 나타남. 예) 한글 모음 아래아(·)가 현재는 사용되지 않음.
전체성	<ul style="list-style-type: none"> • 의미: 문화는 여러 구성 요소가 유기적으로 연결되어 전체로서 의미를 가짐. • 특징: 문화 요소의 한 부분이 변화하면 연쇄적으로 변동이 일어남. 예) 정보 통신 기술의 발달로 일상생활의 모습 등이 변화함.

총체성이라고도 해.

따라서 문화의 한 요소를 이해하려면 다른 문화 요소들과의 연관성을 살펴보아야 한다.

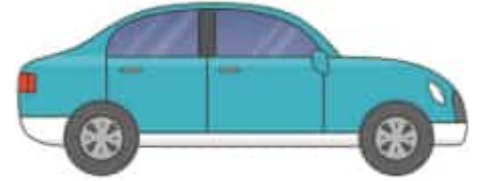
용어 풀단지

- ◆ **유기적** 생물체처럼 전체를 구성하고 있는 각 부분이 서로 밀접하게 관련을 가지고 있어서 떼어 낼 수 없는 것
- ◆ **연쇄적** 서로 연결되어 관련이 있는 것

자료 풀단지

교과서 확인 : 동아

자료 4 자동차로 알아보는 문화의 속성



- **학습성**: 자동차를 타면 안전벨트를 착용해야 한다는 것을 어려서부터 배운다.
- **공유성**: 사이렌 소리를 내며 다가오는 자동차를 보면 응급 상황인 자동차임을 알 수 있다.
- **축적성**: 기술의 축적과 발전으로 바퀴 달린 탈 것에서 마차, 엔진을 장착한 자동차까지 발전하였다.
- **변동성**: 자가용을 구입하여 소유하던 것에서 자동차가 필요할 때 대여해서 사용하는 차량 공유 서비스가 일반화되고 있다.
- **전체성**: 자동차의 증가는 교통 신호 체계, 도로 확장, 교통 법규 정비 등 다양한 분야에서 연쇄적 변화를 가져왔다.

STEP 1

개념 IN

1 빈칸에 들어갈 알맞은 말을 쓰시오.

- (1) 한 사회의 구성원이 공통으로 가지는 의식주, 가치, 규범 등의 전반적인 생활양식을 (**문화**) (이)라고 한다.
- (2) 문화의 구성 요소 중에서 삶의 방향을 제시하고 인간의 정신적 삶을 풍요롭게 해 주는 종교, 음악 등은 (**관념 문화**)이다.
- (3) 각 사회의 문화는 고유한 특성을 가지며 서로 다른 모습으로 나타나는데, 이를 문화의 (**특수성**) (이)라고 한다.

2 다음 설명이 맞으면 ○표, 틀리면 ×표를 하시오.

- (1) 좁은 의미의 문화는 교양 있고 세련된 것을 뜻한다. (**○**)
- (2) 대중문화, 청소년 문화에서의 문화는 좁은 의미의 문화에 해당한다. (**×**)
- (3) 인간의 기본적 욕구를 충족하고 생존하는 데 필요한 도구나 기술은 비물질문화이다. (**×**)

3 ㉠, ㉡ 중 알맞은 것을 고르시오.

- (1) 어느 사회에나 공통적인 생활양식이 나타나는 것을 문화의 (보편성, 특수성) 이라 한다.
- (2) 한국에 온 외국인이 한국어를 배워 익숙해진 것은 문화의 속성 중 (학습성, 축적성) 의 사례이다.
- (3) 한 사회의 구성원 다수가 공통적으로 가지고 있는 생활양식이라는 문화의 속성은 (변동성, 공유성) 이다.

4 다음 사례에 나타난 문화의 속성을 <보기>에서 골라 기호를 쓰시오.

보기

ㄱ. 공유성 ㄴ. 전체성 ㄷ. 학습성

- (1) 우리나라에 유학을 온 외국인이 젓가락질을 배워 익숙해졌다. (**ㄷ**)
- (2) 외국인은 우리나라 사람들이 설날에 떡국을 먹고 '한살 먹었네.'라고 하는 말을 이해하지 못한다. (**ㄱ**)
- (3) 정보 통신 기술의 발달은 원격 수업, 온라인 쇼핑, 재택 근무 등 사회 여러 부문에 영향을 주었다. (**ㄴ**)

01 밑줄 친 ㉠, ㉡의 문화에 관한 설명으로 옳은 것은?

음악, 미술과 같은 ㉠ 문화생활을 즐기는 사람이 많아지고 있다. 세계화 과정에서 다양한 국적의 사람들이 이동하면서 우리나라에는 다양한 ㉡ 문화가 공존하고 있다.

- ① ㉠은 넓은 의미의 문화에 해당한다.
- ② ㉠의 문화는 모든 사회에서 공통적으로 나타나는 생활양식을 의미한다.
- ③ ㉡의 문화는 좁은 의미의 문화에 해당한다.
- ④ ㉡의 문화는 인간의 생활양식의 총체를 의미한다.
- ⑤ ㉠의 문화의 의미는 ㉡의 문화의 의미를 포함하는 개념이다.

정답 ④ | ㉠은 좁은 의미의 문화이고, ㉡은 넓은 의미의 문화이다. 넓은 의미의 문화는 인간의 생활양식의 총체를 의미한다.

02 (가)~(라)의 밑줄 친 문화를 좁은 의미의 문화와 넓은 의미의 문화로 옳게 구분한 것은?

(가) 문화인 (나) 대중문화
(다) 문화 시설 (라) 청소년 문화

	좁은 의미의 문화	넓은 의미의 문화
①	(가), (나)	(다), (라)
②	(가), (다)	(나), (라)
③	(나), (다)	(가), (라)
④	(나), (라)	(가), (다)
⑤	(다), (라)	(가), (나)

정답 ② | 좁은 의미의 문화는 고급스럽고 세련된 것을 의미하고, 넓은 의미의 문화는 생활양식의 총체를 의미한다.

03 교사의 질문에 옳은 답변을 한 학생을 고른 것은?

교사: 문화에 해당하는 사례를 발표해 볼까요?
 갑: 콧속에 먼지가 들어가 재채기를 하는 것을 들 수 있습니다.
 을: 배가 고파서 배에서 꼬르륵 소리가 들리는 것을 들 수 있습니다.
 병: 가뭄이 계속되자 비가 오기를 기원하는 기우제를 지내는 것을 들 수 있습니다.
 정: 명절에 교통 혼잡에도 불구하고 사람들이 고향으로 가려는 것을 들 수 있습니다.

- ① 갑, 을 ② 갑, 병 ③ 을, 병
- ④ 을, 정 ⑤ 병, 정

04 밑줄 친 문화의 의미가 나머지와 다른 것은?

- ① 공공장소에서 기본예절을 잘 지키는 문화인이 되자.
- ② '문화가 있는 날'에는 미술관, 공연장 등이 사람들로 붐빈다.
- ③ 피아노 연주회와 같은 문화계 소식을 신문에서 찾아볼까?
- ④ 외국에 한국의 전통 음식과 전통놀이 등을 체험할 수 있는 한국 문화관이 설립되었다.
- ⑤ 학교에서 장구, 소고, 단소 등의 국악기를 연주하는 문화생활을 체험할 수 있는 기회가 늘고 있다.

정답 ④ | 한국 문화관에서의 '문화'는 넓은 의미로 사용되었다.

05 밑줄 친 '두 사람'에 해당하는 사람을 고른 것은?

교사: 문화의 의미는 좁은 의미의 문화와 넓은 의미의 문화로 구분할 수 있습니다. 이에 대한 사례를 발표해 볼까요?
 갑: '문화인'의 문화는 넓은 의미의 문화에 해당합니다.
 을: '문화생활'의 문화는 좁은 의미의 문화에 해당합니다.
 병: '청소년 문화'의 문화는 좁은 의미의 문화에 해당합니다.
 정: '음식 문화'의 문화는 넓은 의미의 문화에 해당합니다.
 교사: 두 사람을 제외하고 모두 옳게 발표했네요.

- ① 갑, 을 ② 갑, 병 ③ 을, 병
- ④ 을, 정 ⑤ 병, 정

정답 ② | '문화인'에서의 문화는 좁은 의미의 문화이고, '청소년 문화'에서의 문화는 넓은 의미의 문화이다.

중요

06 문화에 관한 설명으로 옳은 것은?

- ① 한 개인의 버릇은 문화에 해당한다.
- ② 졸려서 하품하는 행위는 문화에 해당한다.
- ③ 유전적인 요인에 따른 행동은 문화에 해당하지 않는다.
- ④ 고급스럽고 세련된 것만을 한정된 문화의 의미는 넓은 의미의 문화에 해당한다.
- ⑤ 환경에 적응하여 만들어 낸 인간의 생활양식의 총체는 좁은 의미의 문화에 해당한다.

정답 ③ | 유전적인 요인에 따른 행동은 사회화의 결과가 아니므로 문화에 해당하지 않는다.

07 밑줄 친 ㉠, ㉡에 나타난 문화의 특징을 바르게 연결한 것은?

㉠ 모든 사회에는 공통으로 나타나는 문화 현상이 존재한다. 예를 들면 거의 모든 사회에는 혼인 제도가 존재한다. 하지만 사회마다 혼인의 형식이나 내용이 다른 것처럼 ㉡ 문화는 사회마다 각기 다른 모습으로 나타난다.

- | | | | |
|-------|-----|-------|-----|
| ㉠ | ㉡ | ㉠ | ㉡ |
| ① 공유성 | 상대성 | ② 다양성 | 보편성 |
| ③ 특수성 | 공유성 | ④ 보편성 | 특수성 |
| ⑤ 총체성 | 보편성 | | |

정답 ④ | 공통으로 나타나는 문화 현상은 문화의 보편성을 보여 주고, 문화가 사회마다 각기 다른 모습으로 나타나는 것은 문화의 특수성을 보여 준다.

08 ㉠에 들어갈 문화의 속성은?

교사: 문화의 속성 중 (㉠)의 사례에 대해 발표해 볼까요?
 갑: 과거에는 통이 좁은 바지가 유행했는데, 요즘에는 통이 넓은 바지가 유행하는 것을 들 수 있습니다.
 을: 한글의 자음과 모음 중에는 과거에는 사용되었지만 현재에는 사용되지 않는 것이 있습니다.
 교사: 갑, 을 모두 문화의 속성 중 (㉠)의 사례에 대해 옳게 발표했네요.

- ① 학습성 ② 공유성 ③ 축적성
 ④ 변동성 ⑤ 전체성

정답 ④ | 문화는 시간이 지나면서 형태나 의미가 변화하는데, 이러한 문화의 속성은 변동성이다.



09 다음 사례에서 공통적으로 부각되는 문화의 속성에 대한 설명으로 옳은 것은?

• 우리나라 사람 대부분은 시험 날에 미역국을 먹지 않는다.
 • 기성세대와 달리 청소년들은 자음만 이용해 채팅을 하는데도 소통이 잘 이루어진다.

- ① 문화는 고정적이지 않고 항상 변동한다.
 ② 문화의 각 요소가 긴밀하게 연결되어 있다.
 ③ 문화는 세대 간 전승되면서 점점 풍부해진다.
 ④ 문화는 전체 속에서 다른 요소와 관련을 맺으며 형성된다.
 ⑤ 문화는 한 사회 구성원들이 공통으로 가지는 생활양식이다.

정답 ⑤ | 문화의 공유성은 문화가 한 사회 구성원들이 공통으로 가지는 생활양식을 의미한다.

10 ㉠에 해당하는 문화의 속성은?

(㉠)은/는 문화가 후천적 학습에 의해 습득되는 생활양식을 의미한다. 한국에서 태어났지만 어렸을 때부터 외국에서 생활하여 인사 및 식사 습관도 외국인처럼 행동하는 것을 예로 들 수 있다.

- ① 학습성 ② 공유성 ③ 축적성
 ④ 변동성 ⑤ 전체성

정답 ① | 문화가 후천적 학습에 의해 습득되는 생활양식을 의미하는 것은 학습성과 관련이 있다.



11 문화의 속성 (가), (나)에 대한 설명으로 옳은 것은?

문화의 속성	내용
(가)	문화는 한 사회 구성원 다수가 공통적으로 가지고 있는 생활양식이다.
(나)	문화는 여러 요소들이 관련을 맺으면서 하나의 체계를 형성하고 있다.

- ① (가)를 통해 구성원의 사고와 행동을 예측할 수 있다.
 ② (가)는 세대 간 전승 과정에서 새로운 요소가 추가되어 문화가 풍부해지는 현상을 설명하기 용이하다.
 ③ (나)는 문화가 선천적인 것임을 나타낸다.
 ④ (나)를 통해 이전 세대의 문화는 현대 사회의 문화와 별개라고 본다.
 ⑤ (가)는 (나)와 달리 문화의 변동은 다른 부분에도 영향을 준다는 것을 설명할 수 있다.

정답 ① | (가)는 문화의 공유성, (나)는 문화의 전체성이다. 문화의 공유성을 통해 구성원의 사고와 행동을 예측할 수 있고 원활한 상호 작용을 할 수 있다.


구분	채점 기준
상	문화의 공유성을 쓰고, 공유성의 기능을 서술한 경우
하	문화의 공유성을 썼으나 공유성의 기능을 서술하지 못한 경우

서술형 문제

12 다음 사례에서 공통적으로 부각되는 문화의 속성을 쓰고, 그 기능을 서술하시오.

• 갑국 사람들은 흰색 옷을 입고 슬퍼하는 사람을 보면, 그 사람의 가족 중 누군가가 돌아가셨다고 생각한다.
 • 을국 사람들은 다른 사회 사람들과 달리 왼손을 사용하는 행위를 불경한 것으로 여긴다.

예시 답안 | 제시된 사례에 공통적으로 부각되어 있는 문화의 속성은 공유성이다. 문화의 공유성으로 인해 다른 문화와 구분할 수 있고, 사회 구성원이 타인의 행동을 예측하여 원활한 상호 작용을 할 수 있다.



미디어를 통해 경험하는 문화

1 미디어의 의미와 특징

1. 미디어의 의미와 유형

오늘날 미디어는 단순히 정보 전달 수단에 그치지 않고 사회·문화적으로 많은 영향을 미치고 있으며, 이에 따라 미디어의 중요성은 더욱 커지고 있어,

- (1) **의미:** 정보를 주고받거나 공유하는 수단
- (2) **특징:** 다수의 사람에게 정보를 광범위하게 전달할 수 있고, 문화의 생산 및 확산에 기여함. **자료 1**
- (3) **유형** **자료 2** 산업화 시기에 형성된 대중 사회가 기존보다 거대하고 복잡해지나 더 많은 사람에게 대량의 정보를 빠르게 전달할 필요성이 커졌다. 여기에 기술의 발전이 뒷받침되면서 미디어가 급격하게 발달하였다.

유형	의미 및 특징
인쇄 매체	<ul style="list-style-type: none"> 신문, 책 등과 같이 활자를 통해 정보를 전달 깊이 있는 정보 전달 가능 정보 전달 속도는 상대적으로 느림.
음성 매체	<ul style="list-style-type: none"> 라디오 등과 같이 소리를 통해 정보를 전달 정보를 반복적으로 제공 가능 시각 정보를 제공하기 어려움.
영상 매체	<ul style="list-style-type: none"> 텔레비전 등 시청각 정보를 전달 현장감 있는 정보 전달 가능
뉴 미디어	<ul style="list-style-type: none"> 인터넷을 기반으로 하여 정보를 전달 쌍방향 의사소통이 가능하고, 정보 전달 속도가 빠름. 정보 왜곡의 우려가 있음.

뉴 미디어는 보이는 라디오, 웹사이트 기사 등과 같이 소리, 영상, 문자, 채팅이 융합된 형태로 나타나기도 해.

2. 미디어의 종류

- (1) **전통적 미디어:** 일방적으로 정보를 전달하는 매체
- (2) **새로운 미디어(뉴 미디어):** 정보 통신 기술을 바탕으로 쌍방향 소통을 할 수 있는 새로운 유형의 미디어 **자료 3**

일방향 매체	쌍방향 매체
<ul style="list-style-type: none"> 정보의 일방향 전달 규격화·획일화된 정보 생산 정보 생산자와 소비자 간의 경계가 뚜렷함. 인쇄 매체(신문 등), 음성 매체(라디오 등), 영상 매체(텔레비전 등) 	<ul style="list-style-type: none"> 정보의 쌍방향 소통 다양하고 차별화된 정보 생산 정보 생산자와 소비자 간의 경계가 모호함. 뉴 미디어(인터넷, 사회 관계망 서비스(SNS), 블로그 등)

뉴 미디어는 댓글과 같은 방법으로 정보 생산자와 소통할 수 있다는 점에서 쌍방향성의 특징을 가진다.

(3) 정보 전달 방식

- ① **일방향 전달:** 정보 생산자가 정보 소비자에게 정보를 제공하는 방식으로 정보 소비자는 정보 생산자로부터 주어진 정보를 소비함.
- ② **쌍방향 전달:** 정보 소비자와 정보 생산자는 자신의 의견을 직접 만들어 전달하거나 소비하는 등 상호 교류를 통해 정보를 공유하고 생산함.

자료 끝단지

교과서 확인 : 천재

자료 1 미디어를 통해 형성되는 문화



미디어를 통해 춤 챌린지와 같은 영상을 찍는 새로운 문화가 만들어지기도 하고, 가수나 연예인을 좋아하는 팬클럽이 함께 하는 팬덤 문화 등이 만들어지기도 한다. 이처럼 미디어는 새로운 문화를 형성하는 하나의 수단이 된다.

교과서 확인 : 아침나라

자료 2 미디어의 종류와 발달

신문과 잡지	문자와 사진을 통해 정보를 전달함.
라디오	소리를 이용하여 정보를 전달함.
텔레비전	소리와 영상을 통해 정보를 전달. 최근에는 인터넷 기술을 결합하여 스마트 텔레비전으로 변화함.
인터넷과 스마트폰	쌍방향으로 정보를 전달하고, 누구나 정보의 생산자이자 소비자가 될 수 있음.

미디어는 책, 잡지, 신문 등의 인쇄 매체를 시작으로 라디오, 음반 등의 음성 매체를 거쳐 텔레비전, 영화 등의 영상 매체로 발달하였다. 이후 인터넷과 스마트폰 등 뉴 미디어가 등장하였다.

교과서 확인 : 동아

자료 3 뉴 미디어의 영향



뉴 미디어의 발달로 시공간적 제약이 극복되면서 언제 어디서나 미디어 콘텐츠를 소비할 수 있게 되었다. 또한 쌍방향 의사소통이 활성화되면서 사회 관계망 서비스(SNS)를 통해 공통의 관심사에 대해 국경을 넘어서 활발하게 교류하고 있다.

용어 끝단지

- ◆ **활자** 글을 인쇄하기 위해 만든 글자판
- ◆ **왜곡** 사실과 다르게 해석하거나 그릇되게 함.

2 미디어 속 문화와 정보 수용

1. 미디어의 기능 **자료 4**

(1) 긍정적 기능

- ① 지식과 정보 제공: 사회 현상에 대한 다양한 지식 및 정보를 제공하여 사람들의 지적 수준을 높임.
- ② 여론 형성: 사회 문제에 대한 정보를 제공하여 여론을 형성하고 정책 반영에 기여함. 미디어에서 다루거나 소개하는 인건은 사람들이 중요하다고 생각하게 되고 정책 의제로 설정된다.
- ③ 오락 및 여가 활동 제공: 오락이나 연예, 스포츠 등의 프로그램을 통해 사람들에게 여가 활동의 기회를 제공함.
- ④ 문화적 수준의 향상: 사람들에게 다양한 문화를 접할 기회를 제공하여 문화적 수준을 높이고, 다양한 문화를 형성함.

(2) 부정적 기능

- ① 문화 및 사고방식의 획일화: 똑같은 정보나 문화를 제공하여 사람들의 문화나 사고방식을 획일화함. 누구나 미디어를 통해 정보를 생산할 수 있게 되면서 검증되지 않은 허위 정보가 만들어진다.
- ② 거짓 및 왜곡된 정보 유통: 사실이 아니거나 왜곡된 정보를 제공하여 특정 관점에서 사람들의 관심을 유도함. **자료 5**
- ③ 대중 조작: 권력 집단이 자신의 목적 달성을 위해 사람들의 관심을 일정한 방향으로 유도하거나 무비판적으로 동조하도록 함.
- ④ 상업주의와 문화의 질적 저하: 이윤을 극대화하기 위해 사람들의 관심을 끌고자 선정적이거나 자극적인 정보와 문화를 제공하여 문화의 질적 저하를 초래함.

2. 미디어 리터러시 **자료 6**

(1) 의미: 미디어가 생산하는 문화와 정보를 비판적으로 이해하고, 자신의 생각을 미디어로 표현하며 소통하는 능력

(2) 필요성

- ① 미디어를 통해 검증되지 않은 정보가 일방적으로 제공되어 사회에 부정적 영향을 끼칠 수 있음.
- ② 미디어가 객관적이고 중립적이지만은 않음.
- ③ 미디어를 통해 경험하는 문화와 정보를 비판적으로 검토하여 정보에 숨겨진 의도를 파악하고 잘못된 정보를 판단해야 함.

(3) 미디어에 대한 바람직한 태도

- ① 비판적 수용: 미디어가 제공하는 정보를 비판적으로 검토하고 선별하여 수용하는 태도가 필요함. 만저 정보의 출처를 확인하고 사실임을 뒷받침하는 근거가 타당하지 살펴봐야 함.
- ② 종합적 검토: 같은 정보라도 다양한 미디어를 종합적으로 비교·검토한 후 수용하는 자세가 필요함.
- ③ 능동적이고 창의적인 참여: 미디어가 제공하는 잘못된 정보에 대해 수정을 요구하고, 스스로 정보와 문화를 창조하려는 태도가 필요함.



용어 풀단지

- ◆ **동조** 남의 주장에 자기의 의견을 일치시키거나 보조를 맞춤.
- ◆ **비판** 현상이나 사물에 대해 자세히 따져 옳고 그름을 밝히거나 평가하는 것

자료 풀단지

교과서 확인 : 아침나라

자료 4 미디어의 두 얼굴

(가) 온라인 기부 문화 확산

사회 관계망 서비스를 활용한 기부 문화가 유행하고 있다. 도움이 필요한 개인이나 단체를 사회 관계망에 소개하면 댓글이 달린 정도에 따라 후원금 또는 기부 물품을 지원하는 것을 '소셜 기부'라고 한다.

(나) 온라인 기부 사기 극성

사회 관계망 서비스를 통해 '가짜 모금 활동' 사례가 확산하고 있다. A 단체는 재난 피해 사진, 구조 작업 영상 등을 보여 주며 사람들에게 공감을 이끈 뒤 가상 계좌를 통해 기부를 유도하는 사기 행위를 하였다.

(가)의 소셜 기부 사례처럼 미디어를 통해 정보를 공유하고 도움이 필요한 사람을 도와줄 수 있다. 하지만 (나)의 온라인 기부 사기처럼 미디어를 통해 거짓된 정보를 유통하거나 상업적으로 이용할 수도 있다.

교과서 확인 : 비상

자료 5 잘못된 정보와 허위 정보

잘못된 정보	사용자가 사실이라고 믿고 공유하지만 틀린 정보
허위 정보	경제적 이익을 얻거나 대중을 속이려고 만들어진 진실이 아닌 정보

미디어에서 잘못된 정보나 허위 정보가 확산하기도 하므로 사실 여부를 확인한 후 다른 사람과 공유하는 것이 바람직하다. 사실 확인을 하기 어려울 때는 한국 언론 진흥 재단과 같은 공공 기관의 도움을 받을 수 있다.

교과서 확인 : 천재

자료 6 청소년을 위한 미디어 리터러시 실천 가이드

1. 미디어에는 정보가 담겨 있다는 것 기억하기
2. 미디어에서 보여 주는 외모 지상주의 경계하기
3. 미디어 속 '정보 검색' 활용하기
4. 미디어 속 정보로 문제 해결 능력을 키우는 것이 중요하다는 것 인식하기
5. 스마트폰 현명하게 사용하기
6. 온라인 게임 및 1인 미디어의 특성 이해하기
7. 가짜 뉴스 구별하기
8. 온라인상에서 예의 지키기
9. 개인 정보 보호를 위해 노력하기
10. 저작권 보호하기

- 한국 언론 진흥 재단, 2018

미디어를 올바르게 활용하려면 미디어가 전달하는 정보가 사실인지, 치우친 시각에서 정보를 전달하고 있지 않은지 비판적으로 검토해야 한다. 또한 미디어의 문제점을 발견하면 이를 개선하는 과정에 적극적으로 참여하는 것도 중요하다.

★★★
과반도

04 밑줄 친 ㉠~㉣에 관한 설명으로 옳은 것을 <보기>에서 고른 것은?

갑은 아침에 일어나자마자 학급 ㉠ 사회 관계망 서비스(SNS)를 통해 학급 알림을 확인한다. 학교에 등교하고 나서 수업 시간에는 ㉡ 책과 교과서를 보며 공부한다. 수업이 끝나고 집으로 돌아와 저녁 식사 후 ㉢ 텔레비전 방송을 보면서 휴식을 취한다.

보기
 가. ㉠은 ㉣에 비해 정보 전달 속도가 빠르다.
 나. ㉠은 ㉡과 달리 뉴 미디어로 분류할 수 있다.
 다. ㉢은 ㉠에 비해 정보 전달의 시공간적 제약이 많다.
 라. ㉠, ㉡은 정보의 쌍방향 소통이 이루어지고, ㉢은 정보의 일방향 전달이 이루어진다.

- ① 가, 나 ② 가, 다 ③ 나, 다
 ④ 나, 라 ⑤ 다, 라

정답 ② | 사회 관계망 서비스(SNS)는 뉴 미디어로서 영상 매체보다 정보 전달 속도가 빠르고, 시공간적 제약이 적다.

05 (가)~(다)에 대한 설명으로 옳은 것은?

(가) 서적 (나) 텔레비전 (다) 스마트폰

- ① (가)는 시청각 정보를 제공한다.
 ② (나)는 인쇄 매체이다.
 ③ (다)는 쌍방향 소통이 가능하다.
 ④ 등장 순서는 (가) - (다) - (나)이다.
 ⑤ (나)는 (가), (다)보다 정보 전달 속도가 빠르다.

정답 ③ | (가) 서적은 인쇄 매체, (나) 텔레비전은 영상 매체, (다) 스마트폰 뉴미디어이다. 뉴 미디어는 인터넷을 기반으로 하므로 쌍방향 소통이 가능하다.

06 (가)~(라)의 공통점에 해당하지 않는 것은?

(가) 인터넷
 (나) 웹 게시판
 (다) 동영상 공유 플랫폼
 (라) 사회 관계망 서비스(SNS)

- ① 쌍방향 의사소통이 가능하다.
 ② 사람들이 직접 정보를 만들고 제공할 수 있다.
 ③ 정보 제공의 시공간적 제약을 극복할 수 있다.
 ④ 정보 제공자와 정보 수용자의 경계가 모호하다.
 ⑤ 사람들이 정보 수용자로서만 역할을 할 수 있다.

정답 ⑤ | (가)~(라)는 모두 뉴 미디어이다. 뉴 미디어는 정보 수용자가 정보 창조자의 역할을 할 수 있다.

07 밑줄 친 '1인 미디어'에 대한 설명으로 옳은 것을 <보기>에서 고른 것은?

과거와 달리 문자·사진·동영상 등을 다양한 형태로 만들어 사회 관계망 서비스(SNS)와 같은 1인 미디어를 통해 제공할 수 있지만, 한편으로는 가짜 뉴스 등을 퍼뜨리기도 한다.

보기
 가. 항상 객관적이면서 중립적인 정보를 제공한다.
 나. 정보가 전달되는 속도가 인쇄 매체보다 빠르다.
 다. 미디어의 생산자와 소비자 간의 구분이 모호하다.
 라. 정보의 생산과 소비에 많은 시간과 비용이 든다.

- ① 가, 나 ② 가, 다 ③ 나, 다
 ④ 나, 라 ⑤ 다, 라

정답 ③ | 1인 미디어는 인터넷을 기반으로 하는 뉴 미디어로서 정보 전달 속도가 빠르고 쌍방향적 소통을 하며, 미디어의 생산자와 소비자 간 구분이 모호하다.

중요

08 다음 표에 대한 설명으로 옳은 것은? (단, A, B는 각각 인쇄 매체, 뉴 미디어 중 하나임.)

구분	A	B
정보 소비자의 정보 생산 참여 가능성	높음	낮음
정보 전달 방향	㉠	㉡
정보 전달 속도	㉢	㉣

- ① A는 인쇄 매체, B는 뉴 미디어이다.
 ② A는 B와 달리 시청각 정보를 전달할 수 없다.
 ③ B는 A보다 정보 제공의 시공간적 제약이 많다.
 ④ ㉠은 '일방향적', ㉡은 '쌍방향적'이 적절하다.
 ⑤ ㉢은 '느림', ㉣은 '빠름'이 적절하다.

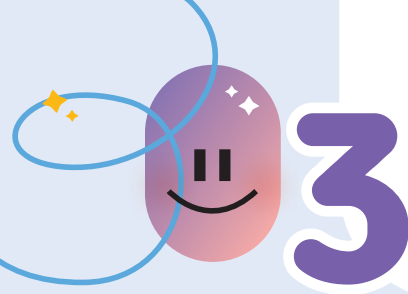
정답 ③ | A는 뉴 미디어, B는 인쇄 매체이다. 인쇄 매체는 뉴 미디어보다 정보 제공의 시공간적 제약이 많다.

09 ㉠에 들어갈 내용으로 가장 적절한 것은?

미디어 중 텔레비전과 같은 영상 매체는 사회 관계망 서비스(SNS)와 같은 뉴 미디어처럼 시청각 정보 제공이 가능하다. 하지만 영상 매체와 달리 뉴 미디어는 (㉠)는 특징이 있다.

- ① 정보 속도가 느리다
 ② 여론을 형성할 수 없다
 ③ 정보 전달 방향이 일방향적이다
 ④ 정보 제공의 시공간적 제약이 많다
 ⑤ 정보 소비자가 정보를 제공할 수 있다

정답 ⑤ | 뉴 미디어는 인터넷을 기반으로 쌍방향 소통을 하므로 영상매체와 달리 정보 소비 자가 정보를 생산 8. 다양한 문화의 이해 157 할 수 있다.



3 다양한 문화를 이해하는 태도

1 여러 집단의 다양한 문화

1. 다문화 사회

자료 1 우리나라도 취업이나 결혼, 유학 등을 이유로 국내에 거주하고 있는 외국인이 늘어나면서 사회 전반에 다문화적 변화가 나타나고 있다.

- (1) **형성 배경:** 교통과 통신의 발달로 국가 간 인구 이동과 미디어를 통한 교류가 활성화되어 세계의 다양한 문화를 쉽게 접할 수 있게 됨.
- (2) **의미:** 다양한 인종, 민족의 문화가 함께 공존하는 사회
- (3) **영향**
 - ↳ 우리나라도 다문화 사회가 되어 강에 따라 언어, 종교, 민족 등 배경이 서로 다른 집단의 사람을 주변에서 쉽게 만날 수 있어.
 - ① **긍정적 영향:** 우리 사회의 문화 다양성에 기여하고, 새로운 문화 창조 및 문화 발전의 원동력이 됨.
 - ② **부정적 영향:** 언어, 문화 등의 차이로 의사소통의 어려움이 생기고, 이주민에 대한 차별과 오해로 인한 갈등이 유발됨.

2. 다양한 문화를 바라보는 태도

- (1) **문화를 바라보는 태도의 중요성:** 국가 간에 교류가 활발하게 이루어지는 과정에서 다양한 문화를 받아들여 조화롭게 살아가기 위해서는 다른 사회의 문화를 바라보는 태도의 중요성이 커짐.

(2) 문화의 우열을 가리는 태도 **자료 2** **자료 3**

① 자문화 중심주의

↳ 문화에는 나옴과 맞음, 즉 우열이 있으며 특정 문화가 더 우월하거나 열등하다고 생각하는 태도야.

의미	자기 문화의 우수성을 지나치게 강조한 나머지 다른 문화를 열등하다고 평가하는 태도
특징	문화에 우열이 있다고 생각하고 문화를 평가함.
순기능	<ul style="list-style-type: none"> • 자기 문화에 대한 자부심을 유발함. • 집단 내의 일체감을 강화시켜 사회 통합에 기여함. • 고유의 전통문화 계승 및 보전에 유리함.
역기능	<ul style="list-style-type: none"> • 국수주의에 빠져 국제적 고립을 초래할 수 있음. • 문화 제국주의를 정당화할 우려가 있음. • 다양한 문화의 가치를 인정하지 않음.
사례	중국의 중화(中華)사상, 독일의 나치즘 등

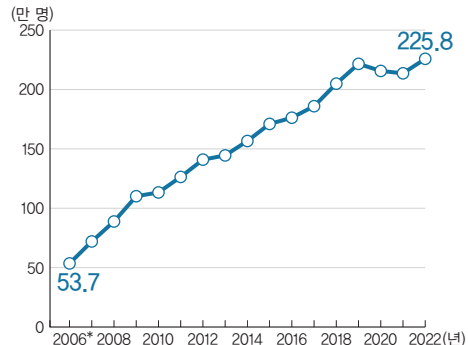
② 문화 사대주의

의미	다른 문화가 우수하다고 평가하면서 자기 문화의 가치를 지나치게 열등하다고 평가하는 태도
특징	문화에 우열이 있다고 생각하고 문화를 평가함.
순기능	<ul style="list-style-type: none"> • 자기 문화의 낙후성을 개선하는 데 기여할 수 있음. • 선진 문물을 수용하기에 용이함.
역기능	<ul style="list-style-type: none"> • 자기 문화의 주체성이나 정체성을 상실할 우려가 있음. • 자기의 고유문화가 소멸될 수 있음. • 외래문화에 종속될 수 있음. <p>↳ 자신의 문화를 열등하다고 여겨서 자라려는 노력을 소홀히 하기 때문이야.</p>

자료 끝단지

교과서 확인: 천재

자료 1 2021년 국내 거주 외국인 주민 지역별 현황



*한국 국적을 갖지 않은 사람 중 외국인 근로자, 결혼 이민자만 대상으로 조사 (행정안전부, 2023/통계청, 2023)

'2022 지방 자치 단체 외국인 주민 현황'에 따르면 2022년 11월 1일 기준 국내 거주 외국인 주민 수는 약 225만여 명으로 총인구 대비 4.4%를 차지한다.

교과서 확인: 아침나라

자료 2 자문화 중심주의와 문화 사대주의 비교

구분	자문화 중심주의	문화 사대주의
공통점	특정 문화를 우월하게 생각함.	
차이점	자기 문화는 우수하고 다른 문화는 열등하다고 봄.	다른 문화는 우수하고 자기 문화는 열등하다고 봄.

문화에 우열이 있다고 여기므로 자문화와 타 문화를 있는 그대로 이해할 수 없어 바람직한 문화 이해 태도로 볼 수 없다.

교과서 확인: 아침나라

자료 3 문화의 우열을 가리는 태도

- (가) 서양에서 제작한 공연이나 영화 등 예술 작품을 보다 보면 종종 동양에 관한 고정된 시선을 발견할 수 있다. 예를 들어 오페라 「나비 부인」에서 동양은 나약하므로 보호받아야 하는 존재로 그려진다. 이러한 시선은 서양이 동양을 지배하는 것을 정당화하는 명분이 되었다.
- (나) 최근 건축된 아파트들의 이름을 살펴보면 외국어가 많다. 우리말만으로 아파트 이름을 지으면 아파트의 품격이 떨어져 보인다는 인식 때문에 아파트 건설사들은 소비자에게 고급스러운 명품 아파트라는 인식을 주려고 아파트 이름에 외국어를 쓰는 실정이다.

(가)는 서양인들의 자문화 중심주의 태도가 드러난 사례이다. (나)에서 아파트 이름을 외국어로 쓰는 것은 문화 사대주의 태도에서 비롯되었다.

용어 끝단지

- ◆ **우열** 우수함과 열등함
- ◆ **국수주의** 자문화를 가장 우수한 것으로 생각하여 다른 문화를 배척하거나 파괴하는 태도

사례

우리나라에서의 영어 지상주의 태도, 외국의 사상이나 상품을 맹목적으로 선호하는 태도 등

2 문화를 이해하는 바람직한 태도

1. 문화 상대주의

문화 상대주의를 통해 자신의 문화와 다른 문화를 있는 그대로 이해할 수 있을 뿐만 아니라 다양한 문화가 공존할 수 있는 기초를 마련할 수 있다.

- (1) 의미: 어떤 사회의 특수한 자연환경과 사회적 맥락, 역사적 배경 등을 고려하여 그 사회의 문화를 이해하는 태도
- (2) 전제: 문화 간에 우열을 가릴 수 없다고 봄.
- (3) 필요성: 세계화 시대에서 다양한 문화를 이해하는 올바른 태도임.

문화 간의 교류가 활발한 오늘날에 더욱 필요한 태도라고 할 수 있어.

2. 극단적 문화 상대주의 지양 **자료 4**

- (1) 극단적 문화 상대주의: 인간의 존엄성이나 생명을 비롯한 인류의 보편적 가치를 훼손하는 문화까지 문화 상대주의로 이해하려는 태도 **예** 이슬람의 명예 살인, 중국의 전족 풍습 등을 문화로 여겨 이해하려는 태도
- (2) 극단적 문화 상대주의의 문제점: 각 문화의 특수성을 지나치게 강조하다 보면 인류의 보편적 가치를 부정하는 결과를 가져옴.

사람의 생명은 소중하다. 도둑질은 나쁘다 등과 같이 인간의 존엄성, 자유, 평등처럼 언제나 존중되어야 할 가치이다.

용어 풀단지

- ◆ 맥락 사물이 서로 이어져있는 관계
- ◆ 보편적 가치 사람이 사는 곳이라면 어느 곳에서도 통용되는 공통된 가치나 기준

자료 풀단지

교과서 확인 : 아침나라

자료 4 보편적 가치를 훼손하는 문화 사례



▲ 중국의 전족 풍습

과거 중국에는 여자아이의 발을 형겅으로 동여매는 '전족'이라는 관습이 있었다. 전족을 한 아이들은 발이 기형적으로 변해 제대로 걷지 못하였다. 각 사회의 문화를 존중한다고 해서 인권 침해를 정당화하는 문화까지 존중할 수는 없다. 사람이 사는 곳이라면 어느 곳에서도 통용되는 공통된 가치나 기준인 보편적 가치를 훼손하는 것은 문화로 인정할 수 없다.

STEP 1

개념 IN

1 빈칸에 들어갈 알맞은 말을 쓰시오.

- (1) (문화 상대주의)은/는 자신이 속한 문화를 무시하고 낮게 평가하는 문화 이해 태도이다.
- (2) 어떤 사회의 특수한 자연환경과 사회적 맥락, 역사적 배경 등을 고려하여 그 사회의 문화를 이해하려는 태도는 (문화 상대주의)이다.

2 다음 설명이 맞으면 ○표, 틀리면 ×표를 하시오.

- (1) 우리나라는 다문화 사회가 되어 감에 따라 언어, 종교, 민족 등 배경이 서로 다른 집단의 사람을 주변에서 쉽게 볼 수 있다. (○)
- (2) 오늘날 여러 나라의 문화를 접하게 되면서 문화를 바라보는 태도의 중요성이 강조되고 있다. (○)
- (3) 인간의 존엄성을 훼손하는 문화라도 그 가치를 인정해 주어야 한다. (×)

3 ㉠, ㉡ 중 알맞은 것을 고르시오.

- (1) 자신의 문화를 우수하다고 보고 다른 사회의 문화를 부정적으로 평가하는 문화 이해 태도는 (㉠ 문화 상대주의, ㉡ 자문화 중심주의)이다.
- (2) 문화 상대주의는 자기 문화를 열등하게 여기므로 자문화의 정체성을 (㉠ 상실, ㉡ 유지)할 수 있다.

4 다음 설명에 해당하는 문화 이해의 태도를 <보기>에서 골라 기호를 쓰시오.

보기

- ㉠. 문화 상대주의 ㉡. 문화 상대주의
- ㉢. 자문화 중심주의 ㉣. 극단적 문화 상대주의

- (1) 타 문화 집단에 대하여 제국주의적 태도를 보인다. (㉢)
- (2) 인간의 존엄성을 해치는 문화까지도 무조건 이해하려고 한다. (㉣)

01 갑, 을이 공통으로 가진 문화 이해 태도는?

갑: 문화는 평가할 수 있는 대상이야. 우월한 문화가 있으면 열등한 문화도 있어.
 을: 맞아. 미개한 문화는 우월한 문화에 흡수될 필요가 있어.

- ① 문화 독립주의 ② 문화 보편주의
- ③ 문화 상대주의 ④ 문화 절대주의
- ⑤ 문화 제국주의

정답 ④ | 문화 절대주의는 문화의 우열이 있다고 생각하고 문화를 평가하는 태도이다.

02 다음 내용에 해당하는 문화 이해 태도에 대한 설명으로 옳은 것을 <보기>에서 고른 것은?

자기 문화가 가장 우수하다고 믿으며 다른 문화를 부정적으로 평가하는 태도이다.

보기

- ㄱ. 타 문화 수용에 적극적이다.
- ㄴ. 자문화 정체성 강화에 기여할 수 있다.
- ㄷ. 문화를 우열 평가의 대상으로 간주한다.
- ㄹ. 해당 사회의 맥락에서 문화를 이해한다.

- ① ㄱ, ㄴ ② ㄱ, ㄷ ③ ㄴ, ㄷ
- ④ ㄴ, ㄹ ⑤ ㄷ, ㄹ

정답 ③ | 자문화 중심주의는 타 문화 수용에 부정적이며, 해당 사회의 맥락에서 문화를 이해하는 태도는 문화 상대주의이다.

정답 ④ | 국수주의를 초래하는 것은 자문화 중심주의이며, 문화를 해당 사회의 맥락에서 이해하는 것은 문화 상대주의이다.

03 다음 사례에서 공통적으로 부각되는 문화 이해 태도에 대한 설명으로 옳은 것을 <보기>에서 고른 것은?

- 자국의 언어보다 영어를 사용하는 것이 더 세련돼 보인다고 생각하는 것
- 전통 악기보다 외국의 악기를 연주하는 것이 더 고상하고 우수하다고 생각하는 것

보기

- ㄱ. 국수주의를 초래할 수 있다.
- ㄴ. 문화적 정체성을 상실할 수 있다.
- ㄷ. 문화를 해당 사회의 맥락에서 이해한다.
- ㄹ. 외래문화의 비판적 수용이 어려울 수 있다.

- ① ㄱ, ㄴ ② ㄱ, ㄷ ③ ㄴ, ㄷ
- ④ ㄴ, ㄹ ⑤ ㄷ, ㄹ

04 갑, 을의 문화 이해 태도를 <보기>에서 골라 바르게 연결한 것은?

갑: 우리의 전통 음악은 다른 어느 국가보다도 우월해, 외국의 음악은 천박하고 미개해.
 을: 난 그렇게 생각하지 않아. 우리의 전통 음악은 낙후되어 있어. 다른 사회의 선진 음악을 적극 수용해야만 우리 전통 음악이 발전할 수 있어.

보기

- ㄱ. 문화 상대주의 ㄴ. 문화 상대주의
- ㄷ. 자문화 중심주의 ㄹ. 극단적 문화 상대주의

- | | | | |
|-----|---|-----|---|
| 갑 | 을 | 갑 | 을 |
| ① ㄱ | ㄹ | ② ㄴ | ㄷ |
| ③ ㄷ | ㄴ | ④ ㄹ | ㄱ |
| ⑤ ㄹ | ㄴ | | |

정답 ③ | 갑은 자문화를 우수하다고 여기고 타 문화를 열등하다고 평가하므로 자문화 중심주의 태도를, 을은 타 문화를 맹목적으로 추종하므로 문화 상대주의 태도를 가지고 있다.

05 을이 가진 문화 이해 태도에 대한 설명으로 옳은 것은?

갑: 요즘 정체 불명의 외국어를 사용하는 미개한 사람이 많아. 우수한 우리 고유의 언어를 사용해야 하는데, 왜 외국어를 사용하는지 모르겠어.
 을: 난 그렇게 생각하지 않아. 외국어로 표현하면 더 고상하고 세련돼 보여. 우리 고유의 언어는 시대에 뒤떨어진 낙후된 언어야.

- ① 사회 내부의 통합에 기여한다.
- ② 국수주의를 초래할 우려가 있다.
- ③ 다른 문화와의 갈등을 일으킬 우려가 있다.
- ④ 자기 문화의 정체성과 정체성을 상실할 우려가 있다.
- ⑤ 자기 문화에 대한 자부심과 자긍심을 키울 수 있다.

정답 ④ | 문화 상대주의는 자문화의 정체성과 정체성을 상실할 우려가 크다.

06 갑국 국민의 문화 이해 태도에 대한 비판으로 적절한 것은?

갑국 국민은 자신들의 사상과 문화가 세계 중심이라고 생각하고 자랑스러워 한다. 이러한 태도를 가지고 있는 갑국 국민들은 타민족을 배척하는 경향이 있다.

- ① 문화 제국주의를 초래할 수 있다.
- ② 자문화 정체성을 약화시킬 수 있다.
- ③ 다른 문화를 무비판적으로 수용한다.
- ④ 문화의 우열을 평가할 수 없다고 본다.
- ⑤ 한 사회 내부의 통합과 단합에 기여하지 못한다.

정답 ① | 자문화 중심주의는 다른 사회에 자문화를 강제로 이식하려는 문화 제국주의를 초래할 수 있다.

07 ㉠에 들어갈 내용으로 가장 적절한 것은?

자신의 문화만을 우수하게 여기거나 다른 사회의 문화를 일방적으로 추종하는 것은 바람직한 문화 이해 태도가 아니다. 다른 사회의 문화를 이해할 때는 문화의 상대성을 인정하는 (㉠)의 태도를 가져야 한다.

- ① 문화 보편주의 ② 문화 독립주의
- ③ 문화 제국주의 ④ 문화 절대주의
- ⑤ 문화 상대주의

정답 ㉠ | 문화의 상대성을 인정하고 어떤 사회의 특수한 자연환경과 사회적 맥락, 역사적 배경 등을 고려하여 그 사회의 문화를 이해하는 태도는 문화 상대주의이다.

08 글쓴이의 문화 이해 태도로 가장 적절한 것은?

과거 중국에서는 여성의 발을 형겁으로 동여매어 자라지 못하게 하여 발을 작게 하는 전족 풍습이 있었다. 이는 부유한 계층이 자신의 신분이나 여성미를 과시하는 상징으로 나타난 것이다. 이러한 맥락에서 살펴본다면 인간에게 신체적 고통을 가하는 전족 풍습도 나름대로 그 가치를 인정받아야 하는 문화이다.

- ① 문화 제국주의 ② 문화 상대주의
- ③ 문화 사대주의 ④ 자문화 중심주의
- ⑤ 극단적 문화 상대주의

정답 ㉡ | 전족 풍습과 같은 인권을 침해하는 문화까지 인정하는 것은 극단적 문화 상대주의에 해당한다.



09 극단적 문화 상대주의에 대한 설명으로 옳은 것은?

- ① 국제적 고립을 초래할 수 있다.
- ② 인류의 보편적 가치를 훼손할 수 있다.
- ③ 자기 문화의 독창적인 발전을 방해한다.
- ④ 문화를 평가하는 절대적 기준이 있다고 여긴다.
- ⑤ 세계화 시대에 꼭 필요한 문화 이해 태도이다.

정답 ㉢ | 극단적 문화 상대주의는 인간의 존엄성을 훼손하는 문화까지 인정하여 보편적 가치를 훼손할 수 있다.

10 갑과 달리 을의 문화 이해 태도에 대한 설명으로 가장 적절한 것은?

갑: 텔레비전에서 손으로 밥을 먹는 사람들을 봤어. 그 사람들은 정말 미개한 식사 문화를 가지고 있어.
 을: 난 그렇게 생각하지 않아. 수저를 사용하거나 손을 사용하거나 단지 식사 방법이 다를 뿐이야. 문화는 상황이나 환경에 적응하는 과정에서 나타나므로 모든 문화가 나름대로 가치가 있어.

- ① 문화의 우열을 평가할 수 있다고 본다.
- ② 문화를 그 사회의 입장에서 이해해야 한다고 본다.
- ③ 자문화의 정체성이 상실될 수 있다는 한계가 있다.
- ④ 문화를 평가할 수 있는 절대적 기준이 있다고 본다.
- ⑤ 낙후된 자국 문화를 개선하기 위해 외래문화 수용에 적극적이다.

정답 ㉡ | 갑은 자문화 중심주의 태도를, 을은 문화 상대주의 태도를 가지고 있다. 문화 상대주의는 문화를 그 사회의 입장에서 이해하는 태도이다.

구분	채점 기준
상	문화의 상대성을 존중하고 문화의 다양성을 인정해야 한다고 서술한 경우
하	문화의 상대성 존중과 문화의 다양성 인정 중 하나만 서술한 경우

서술형 문제

11 다음 대화를 읽고 물음에 답하십시오.

갑: 벌레를 산 채로 먹는 A 국의 부족들은 미개하므로 우리나라의 선진 문화를 배워야 합니다.
 을: 저는 B 국의 우아한 음식 문화를 동경합니다. 우리나라도 B 국의 음식 문화를 적극적으로 받아들여야 합니다.
 병: 다른 문화를 함부로 비난해서도, 무조건 동경해서도 안 된다고 생각합니다. 각자 그런 문화가 발달한 까닭이 있습니다.

(1) 갑~병이 지니고 있는 문화 이해 태도를 각각 쓰시오.

갑 : 자문화 중심주의

을 : 문화 사대주의

병 : 문화 상대주의

(2) 다른 사회의 문화를 접할 때, 가져야 할 바람직한 문화 이해 태도에 대해 서술하십시오.

예시 답안 | 다른 사회의 문화를 접할 때는 그 사회의 상황과 맥락에 따라 문화의 상대성을 존중하고 문화의 다양성을 인정하는 문화 이해 태도가 필요하다.

01 밑줄 친 '문화'와 같은 의미로 사용된 것은?

성별, 직업 등을 초월하여 즉 대중들이 공유하며 향유하는 문화를 대중문화라고 한다.

- ① 생일에 음악회에 가서 문화생활을 즐겼다.
- ② 서점에서 문화 상품권으로 음악 CD를 샀다.
- ③ 기본적인 공중도덕을 지키는 문화 시민이 됩시다.
- ④ 우리 지역에 공연 관람과 전시를 할 수 있는 문화 예술 센터가 생겼다.
- ⑤ 교통과 통신이 원활하지 않았던 때에 지역마다 독특한 방언 문화가 발생하였다.

정답 ⑥ | '대중문화'의 문화와 '방언 문화'의 문화는 넓은 의미의 문화이다.

02 문화의 속성에 대해 바르게 말한 학생은?

갑: 공유성은 문화가 후천적으로 학습됨을 의미합니다.
 을: 축적성은 문화가 세대 간에 전승되어 더욱 풍부해지는 것을 의미합니다.
 병: 학습성은 문화의 요소가 일부분이 아니라 전체로서 관련을 맺고 있음을 의미합니다.
 정: 전체성은 문화가 한 사회 구성원들이 공통적으로 가지는 생활양식임을 의미합니다.
 무: 변동성은 문화를 구성하는 여러 부분이 상호 독립적으로 분리되어 있음을 의미합니다.

- ① 갑 ② 을 ③ 병 ④ 정 ⑤ 무

정답 ② | 문화의 축적성은 문화가 세대 간에 전승되어 더욱 풍부해지는 것을 의미한다.

중요

03 두 사례에 공통적으로 부각된 문화의 속성에 대한 진술로 옳은 것은?

- 갑국 사람들은 어렸을 때부터 전통적인 식사 방식을 배워 맨손으로 음식을 집어 먹는다.
- 을국으로 이주한 외국인이 을국 사람들과 어울리며 을국의 풍습을 배워 을국의 전통 음식을 먹는다.

- ① 문화는 고정된 것이 아니라 지속적으로 변화한다.
- ② 문화는 사회 구성원 간에 원활한 상호 작용의 토대가 된다.
- ③ 문화는 여러 요소들이 관련을 맺으며 하나의 체계를 형성한다.
- ④ 문화는 선천적인 것이 아니라 후천적으로 학습되는 생활양식이다.
- ⑤ 문화는 세대 간에 전승되면서 새로운 요소가 추가되어 더욱 풍부해진다.

정답 ④ | 제시된 사례는 모두 문화가 후천적으로 학습된다는 문화의 학습성 개념을 중학 사회 ① 을 보여 준다.

04 (가), (나)에 대한 설명으로 옳은 것은?

(가) 국내에 이주한 외국인이 다양한 기관에서 우리나라의 언어와 생활양식을 배운다.
 (나) 원격 수업, 재택근무, 전자 상거래는 정보 통신 기술과 밀접하게 관련되어 있다.

- ① (가)는 문화가 구성원 간 상호 작용의 토대가 됨을 보여 준다.
- ② (가)는 문화가 이전의 문화를 토대로 점차 풍부해짐을 보여 준다.
- ③ (나)는 문화 요소들이 서로에게 영향을 미치지 않음을 보여 준다.
- ④ (나)는 문화는 학습하는 것이 아니라 타고나는 것임을 보여 준다.
- ⑤ (나)는 (가)와 달리 한 문화 요소의 변화가 다른 문화 요소의 연쇄적인 변화를 초래할 수 있음을 보여 준다.

정답 ⑤ | (가)는 문화의 학습성, (나)는 문화의 전체성을 보여 주는 사례이다. 문화의 다양한 요소들이 서로 밀접하게 연관되어 있어 한 문화 요소의 변화가 다른 문화 요소의 연쇄적인 변화를 초래할 수 있다는 것은 문화의 전체성이다.

관단 05

다음 자료에 대한 설명으로 옳은 것을 <보기>에서 고른 것은?

※ 다음 각 진술에 해당하는 문화의 속성을 쓰시오. (옳은 답을 쓰면 1점, 틀린 답을 쓰면 0점임.)

문화의 속성에 대한 진술	답란	점수
1. 문화의 각 부분은 상호 밀접한 관련을 맺고 있다.	공유성	㉠
2. 문화는 한 사회의 구성원들이 공통으로 가지는 생활양식이다.	㉡	1점
3. 문화는 세대 간에 전승되면서 새로운 요소가 추가되어 점점 더 풍부해진다.	㉢	1점
(가)	학습성	1점

보기

- ㉠. ㉠은 '0점'이다.
- ㉡. ㉡은 사회 구성원들의 원활한 사회생활에 기여할 수 있다.
- ㉢. ㉢은 문화의 연쇄적인 변동을 설명할 때 적합하다.
- ㉣. (가)에 '문화는 시간이 흐르면서 그 형태나 내용이 변화하는 생활양식이다.'가 들어갈 수 있다.

- ① ㉠, ㉡ ② ㉠, ㉢ ③ ㉡, ㉢
- ④ ㉡, ㉢ ⑤ ㉢, ㉣

정답 ① | ㉡. ㉡은 문화의 축적성이며, 문화의 연쇄적 변동은 전체성과 관련이 있다. ㉢. '문화는 시간이 흐르면서 그 형태나 내용이 변화하는 생활양식이다.'는 변동성에 대한 진술이다.

중요

06 미디어에 대한 설명으로 옳은 것은?

- ① 서적은 텔레비전보다 정보 전달 속도가 빠르다.
- ② 음성 매체는 인쇄 매체보다 등장 시기가 빠르다.
- ③ 영상 매체는 인쇄 매체와 달리 심층적인 정보 전달이 가능하다.
- ④ 뉴 미디어는 인쇄 매체보다 다양한 정보를 복합적으로 제공한다.
- ⑤ 음성 매체는 뉴 미디어와 달리 쌍방향적인 정보 전달이 가능하다.

정답 ④ | 인쇄 매체는 활자와 같은 정보만을 제공하지만, 뉴 미디어는 음성, 영상, 활자 등 다양한 정보를 복합적으로 제공한다.

07 밑줄 친 ㉠~㉥ 중 옳지 않은 것은?

㉠ 미디어는 정보를 주고받는 수단 및 매체를 의미한다. ㉡ 미디어는 라디오, 음반 등의 음성 매체가 영상 매체, 인쇄 매체보다 먼저 등장하였다. 이후 ㉢ 정보통신 기술의 발전으로 인터넷, 사회 관계망 서비스(SNS) 등의 뉴 미디어가 등장하였다. ㉣ 뉴 미디어는 쌍방향적인 정보 전달이 가능하다. 그래서 ㉤ 개인들은 뉴 미디어를 통해 다양한 정보를 직접 생산하거나 소비하기도 한다.

- ① ㉠ ② ㉡ ③ ㉢ ④ ㉣ ⑤ ㉤

정답 ② | 서적, 종이 신문 등의 인쇄 매체는 라디오, 음반 등의 음성 매체와 텔레비전과 같은 영상 매체보다 먼저 등장하였다.

08 다음 글에서 나타나는 미디어의 기능으로 가장 적절한 것은?

갑국에서는 경찰이 길거리에서 물건을 파는 행위를 폭력적으로 단속하였다. 이에 생계가 어려워진 노점상들은 경찰의 폭력적인 단속에 항의하였다. 그런데 경찰은 이 사람들을 인정사정없이 곤봉으로 제압하였고, 이러한 강압적인 모습이 사회 관계망 서비스(SNS)를 통해 알려지면서 사람들은 시위를 하게 되었다. 이러한 시위가 확대되어 결국 갑국에서는 독재정권이 붕괴되고 민주주의 정권이 수립되었다.

- ① 사회 변화의 계기를 제공한다.
- ② 불평등한 사회 구조를 정당화한다.
- ③ 사람들이 정치적으로 무관심하도록 유도한다.
- ④ 이윤만을 추구하는 상업화의 문제를 심화한다.
- ⑤ 확실적인 정보를 제공하여 문화 다양성을 약화한다.

정답 ① | 갑국 경찰의 폭력적인 행동이 미디어를 통해 전달되었고, 이것이 결국 갑국 독재 정권을 붕괴시킨 계기가 되었으므로 미디어는 사회 변화의 계기를 제공함을 알 수 있다.

09 다음 글을 통해 알 수 있는 미디어의 문제점으로 가장 적절한 것은?

미디어도 기업과 같이 이윤을 추구하는데, 미디어 수입의 대부분은 광고 수입에 의존한다. 그래서 미디어는 더 많은 광고 수입을 얻기 위해서 시청률을 끌어올리려고 자극적인 정보를 제공한다.

- ① 상업성 ② 실용성 ③ 오락성
- ④ 일방성 ⑤ 획일성

정답 ① | 미디어가 이윤 획득을 추구하기 위해 자극적인 정보를 제공하여 광고 수입을 얻으려는 것은 상업성과 관련이 있다.

10 교사의 질문에 옳게 응답한 사람을 고른 것은?

교사: 이번 시간에 배운 미디어의 긍정적인 영향에 대해 발표해 볼까요?
 갑: 미디어는 사람들의 삶을 풍요롭게 하는 문화를 창조합니다.
 을: 미디어는 사람들에게 유익한 소식과 다양한 정보를 전해 줍니다.
 병: 미디어는 같은 정보를 전달하므로 사람들의 사고와 취향을 획일화합니다.
 정: 미디어는 사람들의 사고와 행동을 일정한 방향으로 이끄는 기능을 합니다.

- ① 갑, 을 ② 갑, 병 ③ 을, 병
- ④ 을, 정 ⑤ 병, 정

정답 ① | 사람들의 사고를 획일화하는 것과 대중 조작은 미디어의 부정적 영향에 해당한다.

정답 ① | 미디어의 정보를 올바르게 수용하기 위해서는 미디어가 제공하는 정보를 비판적으로 소비할 필요가 있다.

11 ㉠에 들어갈 용어로 가장 적절한 것은?

사회 관계망 서비스(SNS)가 활발해지면서 사람들은 식당에 대한 평점을 확인하고 소비하는 경향이 있다. 그런데 일부 사람들이 특정 식당에서 일정한 수수료를 받고서 해당 식당을 맛집으로 소개하고 높은 평점을 주는 사례가 많아지고 있다. 이에 따라 사람들은 (㉠)로서 미디어가 제공하는 정보의 진위를 파악하고 올바르게 수용하려는 자세를 가져야 한다.

- ① 정보에 대한 비판적인 소비자
- ② 정보에 대한 수동적인 소비자
- ③ 정보에 대한 주체적인 생산자
- ④ 정보에 대한 수용적인 생산자
- ⑤ 정보를 이익 수단으로 활용하는 생산자

12 갑의 문화 이해 태도에 대한 설명으로 옳은 것은?

교사: '뉴욕처럼 되기', '브런치 먹기' 등 외국어를 사용하는 사람에 대해 어떻게 생각하나요?
 갑: 우리나라의 '도시인' 보다 '뉴욕'을, '아침과 점심 식사'보다 '브런치'를 사용하는 것이 더 고상하고 세련됩니다.

- ① 사회 통합에 이바지한다.
- ② 문화 제국주의와 연결된다.
- ③ 타 문화의 수용에 소극적이다.
- ④ 자기 문화에 대한 자긍심을 기를 수 있다.
- ⑤ 자기 문화의 주체성과 정체성을 잃어버릴 수 있다.

정답 ⑥ | 갑은 문화 상대주의 태도를 지니고 있다. 문화 상대주의는 자문화를 타 문화보다 열등하게 여기므로 자기 문화의 주체성과 정체성을 잃어버릴 수 있다.

13 문화 이해 태도 A, B에 대한 설명으로 옳은 것은?

A는 자신의 문화를 우월한 것으로 여기고 다른 문화를 열등하게 여기며 무시하는 태도인 B가 선진 외래 문화 수용을 거부하는 것을 비판한다. 그런데 A는 외래문화를 무비판적으로 수용한다는 비판을 받는다.

- ① A는 자문화의 주체성을 상실할 수 있다는 비판을 받는다.
- ② A는 자기 문화에 대한 자긍심을 높일 수 있다는 장점이 있다.
- ③ B는 문화의 다양성에 기여할 수 있다는 장점이 있다.
- ④ B는 국수주의가 발생할 우려를 극복할 수 있다는 장점이 있다.
- ⑤ A는 B와 달리 문화를 평가의 대상으로 본다.

정답 ① | A는 문화 상대주의, B는 자문화 중심주의이다. 문화 상대주의는 자문화의 주체성을 상실할 수 있다는 비판을 받는다.

14 글쓴이의 문화 이해 태도에 대한 설명으로 옳은 것은?

우리 사회가 발전하기 위해서는 미개한 전통적 사고 방식에서 벗어나야 한다. 그리고 선진 사회의 문물과 의식을 적극적으로 받아들여 우리 것을 선진 사회의 것으로 대체해야 한다.

- ① 자문화의 정체성을 강화하는 데 기여한다.
- ② 우수한 자기 문화를 기준으로 타 문화를 평가한다.
- ③ 문화 제국주의로 흐를 우려가 있다는 비판을 받는다.
- ④ 자기 문화의 주체성과 정체성을 상실할 위험이 있다.
- ⑤ 문화를 그 사회의 상황과 맥락을 고려하여 이해한다.

정답 ④ | 문화 상대주의는 자기 문화에 대한 주체성과 정체성을 상실할 위험이 있다.

15 ㉠에 들어갈 내용으로 가장 적절한 것은?

문화는 우열을 평가할 수 없고, 문화 상대주의 태도로 문화를 바라볼 때 해당 사회의 문화를 잘 이해할 수 있다. 그 까닭은 (㉠) 때문이다.

- ① 우리 문화를 객관적으로 바라봐야 하기
- ② 문화는 절대적 기준에서 평가할 수 있기
- ③ 자기 문화의 주체성과 정체성을 강화시켜야 하기
- ④ 한 사회의 문화를 그 사회의 맥락에서 이해할 수 있기
- ⑤ 우리 문화 발전을 위해 선진 문화를 받아들여야 하기

정답 ④ | 한 사회의 문화는 구성원들이 오랜 시간에 걸쳐 자연환경과 사회적 상황에 적응하면서 형성된 것이므로 그 사회의 맥락에서 이해해야 한다.

16 다음 대화에 나타난 을의 문화 이해 태도는?

갑: 어제 텔레비전에서 여행 프로그램을 봤는데, 외국의 어느 부족은 조리도 하지 않고 곤충을 먹더라. 그 모습이 너무 미개하다고 느껴져.
 을: 다른 나라 사람들의 음식 문화를 함부로 평가하면 안 돼. 기본 영양소를 충족할 수 없는 그 사회의 농업 환경을 고려하면 충분히 이해할 수 있어.

- ① 문화 상대주의 ② 문화 상대주의
- ③ 문화 절대주의 ④ 자문화 중심주의
- ⑤ 극단적 문화 상대주의

정답 ② | 문화 상대주의는 문화의 우열을 평가하는 것이 아니라 이해하려는 태도이다.



17 문화 이해 태도 A~C에 대한 설명으로 옳은 것을 <보기>에서 고른 것은?

A, B는 모두 문화의 우열을 평가할 수 있다고 보는데, A는 B와 달리 자기 문화만이 우월하다고 여기고, 다른 문화를 부정적으로 여긴다. 이와 달리 C는 A, B와 달리 문화는 평가의 대상이 아니라 이해의 대상이므로 문화의 우열을 가릴 수 없다고 본다.

보기

- ㄱ. A는 문화 제국주의로 변질될 가능성이 크다.
- ㄴ. B는 C에 비해 문화 정체성 상실의 우려가 작다.
- ㄷ. C는 A와 달리 각 사회의 문화가 동등한 가치를 지닌다고 본다.
- ㄹ. A, B는 모두 C와 달리 문화를 그것이 발생한 자연환경과 역사적 맥락에서 바라본다.

- ① ㄱ, ㄴ ② ㄱ, ㄷ ③ ㄴ, ㄷ
- ④ ㄴ, ㄹ ⑤ ㄷ, ㄹ

정답 ② | A는 자문화 중심주의, B는 문화 상대주의, C는 문화 상대주의이다.

18 글쓴이의 문화 이해의 태도에 대한 설명으로 옳은 것은?

어떤 외국인은 인도의 암소 숭배 문화를 미신이라며 평가 절하한다. 그러나 인도에서 소는 중요한 농경 수단이기 때문에 인도 사람들이 소를 귀하게 여기며 숭배하는 것이므로 나름의 가치가 있다고 봐야 한다.

- ① 다른 문화를 무조건 부정적으로 본다.
- ② 서로 다른 문화 간에 우열이 존재함을 전제한다.
- ③ 국수주의로 변질될 우려가 있다는 비판을 받는다.
- ④ 타 문화가 우월하다고 믿고 자문화를 평가 절하한다.
- ⑤ 각 사회의 상황과 맥락을 고려하여 문화를 이해한다.

정답 ⑤ | 글쓴이는 인도의 암소 숭배를 인도 사회의 상황과 맥락에서 이해하려는 문화 상대주의 태도를 가지고 있다.

19 갑~병의 문화 이해 태도에 대한 설명으로 옳은 것은?

갑: 들판에 시신을 두고 새가 쪼아 먹게 하는 '조장(鳥葬)' 풍습은 우리나라에 비해 미개해.
 을: 사람이 죽으면 수의를 입혀 매장하는 풍습이 좋아 보여, 우리나라도 배워야 해.
 병: 장례 풍습은 그 사회의 상황이나 환경에 적응하여 만들어진 그 사회의 문화이므로 존중해야 해.

- ① 갑은 문화 상대주의 태도를 가지고 있다.
- ② 을은 극단적 문화 상대주의 태도를 가지고 있다.
- ③ 병은 문화를 평가가 아닌 이해의 대상으로 본다.
- ④ 갑의 태도와 병의 태도는 모두 자문화의 정체성을 상실할 우려가 크다.
- ⑤ 을의 태도와 병의 태도는 모두 국수주의를 초래할 수 있다.

정답 ③ | 갑은 자문화 중심주의, 을은 문화 상대주의, 병은 문화 상대주의 태도를 가지고 있다. 문화 상대주의는 자문화의 정체성을 상실할 우려가 있고, 자문화 중심주의는 국수주의를 초래할 수 있다.

중요

20 글쓴이가 가진 문화 이해 태도에 대한 설명으로 가장 적절한 것은?

일부 국가에서 집안의 명예를 더럽혔다는 이유로 가족 구성원을 살해하는 관습이 있는데, 이는 해당 사회의 맥락을 고려한다면 충분히 존중할 수 있는 문화이다.

- ① 타 문화의 수용에 적극적이다.
- ② 보편적 가치를 훼손할 수 있다.
- ③ 자기 문화의 정체성을 약화시킨다.
- ④ 자문화에 대한 객관적 이해를 가능하게 한다.
- ⑤ 문화 제국주의를 정당화한다는 비판을 받는다.

정답 ② | 극단적 문화 상대주의는 인류의 보편적 가치를 훼손할 수 있다.

서술형 문제

21 (가), (나)에 나타난 미디어의 부정적 기능을 쓰고, 미디어를 비판적으로 활용해야 하는 까닭을 서술하시오.

(가) 방송에서 유명 연예인이 착용하는 옷이나 가방뿐만 아니라 먹는 음식 등은 소비자의 구매에 많은 영향을 준다. 미디어에 노출된 상품들은 방송 후 판매량이 급증하고, 이러한 상품을 소비하는 것이 유행에 민감하고 세련된 행동으로 여겨진다.
 (나) 가짜 뉴스는 허위 사실을 의도적으로 유포하기 위해 기사 형식을 빌려 작성한 것이다. 이러한 가짜 뉴스는 인터넷을 통해 빠르게 전파되어 어디에서 시작되었는지 찾아내기 어렵다. 사람들을 현혹하여 오해를 만들고, 누군가를 비난하거나 공격하는 수단으로 가짜 뉴스가 사용된다.

예시 답안 | (가)는 미디어를 통해 전달되는 문화와 정보로 인해 사람들의 생각과 행동이 획일화될 수 있음을 보여 주고, (나)는 미디어가 제공하는 거짓 정보로 인해 사회 혼란과 갈등이 나타날 수 있음을 보여 준다. 따라서 미디어를 비판적으로 활용하는 태도를 가져야만 미디어가 제공하는 다양한 문화와 정보를 균형 있게 받아들일 수 있다.

구분	채점 기준
상	(가), (나)에 나타난 미디어의 부정적 기능을 제시하고, 미디어를 비판적으로 활용해야 하는 까닭을 적절하게 서술한 경우
하	(가), (나)에 나타난 미디어의 부정적 기능을 제시하지 못하고, 미디어를 비판적으로 활용해야 하는 까닭을 서술한 경우

구분	채점 기준
상	각 문화의 특수성을 지나치게 강조하다 보면 인류의 보편적 가치를 부정할 수 있다고 서술한 경우
하	모든 문화를 이해하려는 태도는 바람직하지 않다고 서술한 경우

22 다음 글을 읽고 물음에 답하시오.

과거 중국에서는 여성의 발을 작게 하기 위해 형겅으로 동여매고, 작은 신발을 신겨서 발이 자라지 못하게 하는 전족 풍습이 있었다. 이러한 풍습도 그 사회에서는 나름대로 가치가 있으므로 문화로 이해하고 존중해야 한다.

(1) 글쓴이가 가지고 있는 문화 이해 태도를 쓰시오.

극단적 문화 상대주의

(2) (1)의 문화 이해 태도가 가지는 문제점을 서술하시오.


예시 답안 | 각 문화의 특수성을 지나치게 강조하다 보면 인류의 보편적 가치를 부정하는 결과를 가져올 수 있다.





민주주의와 시민

- 01 정치와 민주주의
- 02 민주주의의 발전 과정과 원리
- 03 현대 민주주의의 특징과 과제

배울 내용 확인하기

 정치의 역할은 무엇일까요?

 민주주의의 기본 원리로는 무엇이 있을까요?

 현대 민주주의의 한계는 무엇일까요?

정치적 무관심과 대표성의 한계가 있어요.

국민 주권의 원리, 국민 자치의 원리, 입헌주의의 원리, 권력 분립의 원리가 있어요.

사회 질서 유지, 사회 통합, 사회 발전을 도모할 수 있어요.

1 정치와 민주주의

1 정치의 의미와 역할

1. 정치의 의미 **자료 1** **자료 2** 사회 속에서 사람들이 저마다 자신이 원하는 바를 얻으려고 행동하다 보면 대립과 갈등이 발생할 수밖에 없다.
- (1) 정치: 사회 구성원 간의 대립과 갈등을 조정하여 의사를 결정하고 공동체의 문제를 해결해 나가는 모든 활동을 의미함.
- (2) 좁은 의미의 정치와 넓은 의미의 정치

<p>좁은 의미의 정치</p> <ul style="list-style-type: none"> 정치권력을 획득하고 유지하며 행사하는 활동 국회에서 법률을 제정·개정하고, 정부가 정책을 마련·집행하는 등 국가와 관련한 일을 하는 것 사회 질서 유지를 위한 물리적 강제력은 국가만 지님. 예 국무 회의에서 국가의 주요 정책을 논의하는 활동, 정부가 정책을 수립하여 집행하는 활동 	<p>넓은 의미의 정치</p> <ul style="list-style-type: none"> 국가를 포함하여 개인이나 집단 사이에 발생하는 이해관계를 둘러싼 대립과 갈등을 조정하고 해결하는 과정 부, 권력, 명예 등과 같은 사회적 희소가치를 권위적으로 배분하는 활동 국가도 사회 집단의 하나이며, 사회 집단이 존재하는 곳에는 어디서나 정치 현상이 나타남. 예 노사 간 갈등을 해결하기 위한 협상, 휴가 계획을 세우는 가족 회의
---	---

2. 정치의 역할 **자료 3**

- (1) 사회 질서 유지
- 집단 의사 결정과 권력 행사가 정당하게 이루어지도록 하여 공동체를 유지함.
 - 의견 차이와 이해관계를 조정하여 대립과 갈등을 완화함.
- (2) 사회 통합 갈등을 내버려두면 사회가 큰 혼란에 빠지므로 정치를 통해 대립과 갈등을 해결해야 해.
- 정치과정에서 사회 구성원의 다양한 요구가 충족되어 사회 통합에 이바지함.
 - 집단 의사 결정과 권력 행사가 정당하게 이루어지면 공동체의 결속력이 높아짐. 집단 의사 결정과 권력행사가 정당하게 이루어지면 구성원들은 정치를 신뢰하게 되어 공동체가 잘 유지되고 서로 결속하게 된다.
- (3) 사회 발전 도모
- 여러 가지 사회문제를 해결함.
 - 공동체가 나아가야 할 방향을 사회가 함께 합의하여 사회 발전의 계기가 됨. 정치를 통해 개인이나 노력만으로는 해결할 수 없는 여러 가지 사회문제를 해결할 수 있어.

용어 낱단지

- ▶ **정치권력** 국가의 중요한 일들을 결정할 수 있는 강제성을 가진 힘
- ▶ **정책** 공익을 실현하기 위해 정부나 공공 기관이 수행하는 활동 방향이나 계획
- ▶ **이해관계** 서로 이익과 손해가 걸려 있는 관계
- ▶ **사회 통합** 이해관계나 가치관의 차이 때문에 발생하는 구성원 간의 갈등이 해소되어 서로 화합하는 상태

자료 낱단지

교과서 확인: 동아, 비상, 아침나라

자료 1 좁은 의미의 정치와 넓은 의미의 정치의 예



▲ 급훈을 정하는 학교 회의는 넓은 의미의 정치에 해당한다.



▲ 국회 의원이 법률안을 의결하는 것은 좁은 의미의 정치에 해당한다.

교과서 확인: 동아

자료 2 권위와 권력

<p>권위</p>	<p>다른 사람을 지휘하거나 통솔할 때 그들로 하여금 자발적으로 복종하게 하는 힘</p>
<p>권력</p>	<p>개인이나 집단이 다른 사람이나 집단에 영향력을 미쳐 그들을 복종시키고 자기의 의지를 관철시킬 수 있는 힘</p>

권위는 시민들이 합당하다고 생각하는 정당성을 획득한 권력이라고 할 수 있다. 권력이 국민의 동의와 지지를 얻지 못한다면 정당성을 갖추지 못하고, 시민들의 저항을 받을 수 있다.

교과서 확인: 아침나라, 천재

자료 3 정치의 역할

- (가) ○○ 중학교 학생회에서 학생들끼리의 사소한 갈등이 학교 폭력으로 번지는 것을 보고 갈등을 원만하게 해결하는 것이 중요하다고 생각하였다. 이를 위해 편지 쓰기, 사과 전달하기 등의 행사를 진행하는 '사과하는 날' 주간을 운영하였다. 행사 후 학교 폭력이 전보다 줄어들어 학교 구성원들의 만족도가 높았다.
- (나) 저출산·고령화 현상으로 여러 사회문제가 발생하면서 이를 해결해야 한다는 목소리가 높아지고 있다. 이에 정부는 '저출산 고령 사회 위원회'를 조직하여 출산 가구에 대한 주택 지원, 육아 휴직 지원 등 다양한 정책을 마련하고 있다.

(가)에는 학생들 간의 대립과 갈등을 조정하고 해결하여 학교 공동체의 질서를 유지하는 정치의 기능이 나타나 있다. (나)에는 사회문제 해결을 위해 공동체가 나아가야 할 방향을 합의하여 사회 발전의 계기를 마련하는 정치의 기능이 나타나 있다.

2 민주주의의 의미와 필요성

1. 민주주의의 의미

자료 4 자료 5

진정한 민주주의를 실현하려면 정치 형태로서의 민주주의와 생활양식으로서의 민주주의가 함께 정착되어야 한다.

정치 형태로서의 민주주의	<ul style="list-style-type: none"> 민주주의를 뜻하는 '데모크라시(Democracy)'는 민중을 뜻하는 '데모스(Demos)'와 지배를 뜻하는 '크라티아(Kratia)'의 합성어임. 민주주의는 다수가 지배하는 정치 형태로서의 성격을 지님. 다양한 의견의 표출과 수렴을 통해 국민 다수의 의견에 따라 이루어지는 정치 형태를 의미함. 특정 소수 집단에 의한 지배가 아닌 시민에 의한 지배를 의미함.
생활 양식으로서의 민주주의	<ul style="list-style-type: none"> 현대 사회의 민주주의는 생활양식의 성격도 지님. 합리적 문제 해결 능력, 대화와 타협, 관용, 다수결의 원리, 소수 의견 존중, 공동체 의식, 타인에 대한 배려, 주인 의식 등

2. 민주주의의 필요성

민주주의에 따라 국민이 직접 또는 간접적으로 국가의 중요한 의사 결정에 참여하면 국민의 뜻에 따른 정치를 실현할 수 있다.

- 한 사람 또는 소수가 국가 권력을 독점하지 못하도록 제한함.
- 민주주의를 통해 시민 개개인을 존중함으로써 개인의 자유와 권리를 보호함.
- 대화와 토론을 통해 공동체의 문제를 해결함으로써 공동체 의식과 주인의식을 함양함.

용어 풀단지

- 표출 걸로 나타내는 것
- 수렴 의견, 주장, 여론 등을 한데 모으는 것
- 관용 너그럽게 용서하고 받아들이는 것

자료 풀단지

교과서 확인 : 비상

자료 4 민주적 생활양식

비판	타인의 의사를 존중하되 좋고 나쁨, 옳고 그름을 따질 수 있는 태도
타협	각자의 입장과 이해를 조정함으로써 대립 관계를 해소하는 자세
관용	자기와 다른 가치나 사고방식을 용인하고 포용하는 정신과 태도
다수결의 원리	다수의 의사에 따라 집단의 의사를 결정해야 한다는 원리

민주주의는 일상생활에서 발생하는 문제를 모든 사람이 자유롭고 평등한 입장에서 민주적으로 해결하려는 생활 방식을 의미하기도 한다.

교과서 확인 : 동아

자료 5 명언을 통해 보는 민주주의의 의미

“우리는 민주주의를 성취하려는 목표로 여기지 않아야 한다. 민주주의는 과정, 그 자체이다.”

- 메리 파커 폴렛

“민주주의는 국민의 의사를 알아보는 절차 또는 방식이다.”

- 김구

“국민의, 국민에 의한, 국민을 위한 정부가 지구상에서 영원히 사라지지 않도록 해야 한다.”

- 링컨

시민들은 민주주의를 통해 개개인의 고유한 존재로서 존중받을 수 있고, 다양한 생각을 가진 시민 모두가 주인으로서 공동체 운영에 참여 할 수 있다.

STEP 1

개념 IN

1 빈칸에 들어갈 알맞은 말을 쓰시오.

- (정치)은/는 사회 구성원 간의 대립과 갈등을 조정하여 문제를 해결해 가는 모든 활동을 의미한다.
- 정치 형태로서의 민주주의는 특정 소수 집단에 의한 지배가 아닌 (시민)에 의한 지배를 의미한다.

2 다음 설명이 맞으면 ○표, 틀리면 ×표를 하시오.

- 넓은 의미의 정치는 정치인의 활동만을 가리킨다. (×)
- 좁은 의미의 정치에는 학급 회의를 통해 갈등을 해결하는 것이 포함된다. (×)
- 정치는 이해관계를 조정하여 대립과 갈등을 완화하는 기능을 한다. (○)
- 정치는 사회 구성원의 다양한 요구를 충족시켜 사회 질서 유지에 이바지할 수 있다. (○)

3 ㉠, ㉡ 중 알맞은 것을 고르시오.

- 학급 회의는 (㉠ 좁은, ㉡ 넓은) 의미의 정치이다.
- 대화와 타협은 (㉠ 정치 형태, ㉡ 생활양식)으로서의 민주주의이다.

4 다음 내용에 해당하는 민주적 생활양식을 <보기>에서 골라 기호를 쓰시오.

보기

ㄱ. 비판 ㄴ. 관용 ㄷ. 다수결의 원리

- 다수의 의사에 따라 집단의 의사를 결정해야 한다는 원리 (ㄷ)
- 자기와 다른 가치나 사고 방식을 용인하고 포용하는 정신과 태도 (ㄴ)
- 타인의 의사를 존중하되 좋고 나쁨, 옳고 그름을 따질 수 있는 태도 (ㄱ)

01 정치에 대한 설명으로 옳은 것은?

- ① 국가 이외의 집단에서는 넓은 의미의 정치가 이루어지지 않는다.
- ② 1인 1역할을 정하는 학급 회의는 넓은 의미의 정치에 해당하지 않는다.
- ③ 정치인들이 국가와 관련한 일을 하는 것은 좁은 의미의 정치에 해당한다.
- ④ 정치권력을 획득하기 위한 활동은 넓은 의미의 정치에는 해당하지 않는다.
- ⑤ 노동자와 사용자 간의 대립과 갈등을 해결하는 과정은 좁은 의미의 정치에만 해당한다.

정답 ③ | 좁은 의미의 정치는 정치인들이 정책을 만드는 것과 같이 국가와 관련한 일을 하는 것을 의미한다.

02 좁은 의미의 정치에 해당하는 사례를 <보기>에서 고른 것은?

보기

- ㄱ. 국회 의원의 법률안 의결
- ㄴ. 임금 인상을 둘러싼 노사 간 합의
- ㄷ. 물가 안정을 위한 대통령의 정책 결정
- ㄹ. 체육 대회 대표 선수 결정을 위한 학급 회의

- ① ㄱ, ㄴ ② ㄱ, ㄷ ③ ㄴ, ㄷ
- ④ ㄴ, ㄹ ⑤ ㄷ, ㄹ

정답 ② | ㄱ. 임금 인상을 둘러싼 노사 간 합의, ㄹ. 체육 대회 대표 선수 결정을 위한 학급 회의는 넓은 의미의 정치 사례에 해당한다.

03 교사의 질문에 옳게 응답한 학생을 모두 고른 것은?

교사: 국민의 대표를 선출하는 선거와 같이 국가가 지향하는 목표를 달성하기 위한 활동만을 정치로 보는 관점의 사례를 발표해 볼까요?

갑: 휴가에 어디로 여행을 갈 것인지를 결정하는 가족회의를 들 수 있습니다.

을: 부동산 가격 안정 대책을 논의하기 위한 국무회의를 들 수 있습니다.

병: 학교 체육 대회 때 입을 학급 티셔츠를 정하기 위한 학급 회의를 들 수 있습니다.

정: 농촌 지역 주민들의 교통 복지를 위한 무료 버스 운영을 지방 의회에서 의결한 것을 들 수 있습니다.

- ① 갑, 을 ② 갑, 병 ③ 을, 병
- ④ 을, 정 ⑤ 병, 정

정답 ④ | 가족회의와 학급 회의는 넓은 의미의 정치 사례에 해당한다. 개념풀 중학 사회 ①

04 정치의 역할에 대한 설명으로 옳은 것은?

- ① 정치를 통해 사회문제를 해결할 수는 없다.
- ② 정치는 이해관계가 다른 사람들 간의 의견을 조정하여 갈등을 해결할 수 있다.
- ③ 정치는 사회적 대립과 갈등 해소에 기여하지만 사회 통합에는 기여하지 못한다.
- ④ 정치는 정치인이 국가와 관련된 일을 하는 것이므로 사회 질서 유지와는 무관하다.
- ⑤ 정치는 사회 질서를 유지하는 기능을 하지만 공동체가 나아가야 할 방향을 모색하지는 못한다.

정답 ② | 정치는 이해관계가 다른 사람들 간의 의견을 조정하여 갈등을 해결함으로써 사회를 통합한다.

과난도

05 밑줄 친 정치에 해당하는 신문 기사의 제목을 <보기>에서 고른 것은?

A는 정치권력을 획득하고 유지하며 행사하는 활동만을 정치라고 본다.

보기

- ㄱ. 정부, 다양한 돌봄 서비스 정책 실행
- ㄴ. ★★시, 새로운 교통 시설 건설 결정
- ㄷ. ○○ 기업, 노사 협상으로 내년도 임금 인상 결정
- ㄹ. △△ 중학교, 전교생 회의에서 학교 폭력 예방을 위한 캠페인 활동 결정

- ① ㄱ, ㄴ ② ㄱ, ㄷ ③ ㄴ, ㄷ
- ④ ㄴ, ㄹ ⑤ ㄷ, ㄹ

정답 ① | 밑줄 친 정치는 좁은 의미의 정치이다. ㄷ. 노사 협상으로 임금 인상을 결정된 것과 ㄹ. 전교생 회의는 넓은 의미의 정치에 해당한다.

06 다음 글을 통해 알 수 있는 정치의 역할로 가장 적절한 것은?

정부는 최저 임금과 관련하여 서로 다른 주장을 하는 경영자 단체와 노동자 단체의 입장을 모두 반영하여 최저 임금을 결정하였다.

- ① 일부 집단의 이익을 추구한다.
- ② 정치권력을 통해 구성원을 통제한다.
- ③ 집단 간의 이해관계 대립을 조정한다.
- ④ 특정 집단의 이익을 위한 정책을 추진한다.
- ⑤ 사회 질서와 안정을 해치는 행위를 제재한다.

정답 ③ | 제시된 자료에는 노사 두 집단이 각각 추구하는 다양한 이해관계를 조정하는 정치의 역할이 나타난다.

07 밑줄 친 '한 사람'에 해당하는 학생은?

교사: 민주적 생활양식에 해당하는 태도를 발표해 볼까요?
 갑: 소수의 의견을 존중하며, 다수결의 원리로 문제를 해결하는 것을 들 수 있습니다.
 을: 다른 사람의 의견을 존중하고 받아들이는 것을 들 수 있습니다.
 병: 공동체 구성원 간에 자유로운 비판과 함께 토론을 허용하는 태도를 들 수 있습니다.
 정: 구성원 간에 대화를 통해 의견을 조정·합의하여 문제를 해결하는 태도를 들 수 있습니다.
 무: 다수가 지배하는 것은 비효율적이므로 소수의 정치인에 의해 정책이 결정되도록 하는 것을 들 수 있습니다.
 교사: 한 사람을 제외하고 모두 옳은 답을 했습니다.

- ① 갑 ② 을 ③ 병 ④ 정 ⑤ 무

정답 ⑤ | 다수가 지배하는 것은 비효율적이므로 소수의 정치인에 의해 정책이 결정되도록 하는 태도는 민주적 생활양식에 해당하지 않는다.

중요

08 밑줄 친 ㉠, ㉡에 해당하는 내용으로 옳은 것을 <보기>에서 고른 것은?

오늘날 국가의 운영 방식을 규정하는 ㉠ 정치 형태로서의 민주주의와 함께 ㉡ 생활 양식으로서의 민주주의도 강조되고 있다.

보기

- ㄱ. 다수에 의한 지배
 ㄴ. 주권을 가진 국민의 참여
 ㄷ. 타인에 대한 배려와 관용
 ㄹ. 다수결의 원리와 소수 의견 존중

- ㉠ ㉡ ㉠ ㉡
 ① ㄱ, ㄴ ㄷ, ㄹ ② ㄱ, ㄷ ㄴ, ㄹ
 ③ ㄴ, ㄷ ㄱ, ㄹ ④ ㄴ, ㄹ ㄱ, ㄷ
 ⑤ ㄷ, ㄹ ㄱ, ㄴ

정답 ① | 정치 형태의 민주주의는 국민의 합의에 의해 국가의 중요한 의사를 결정하는 것이고, 생활양식으로서의 민주주의는 공동체 생활을 영위하는 행동 양식이나 사회 생활 실천 원리를 의미한다.

09 다음 글에 나타난 민주주의의 의미에 해당하는 사례를 <보기>에서 고른 것은?

민주주의는 주권을 가진 국민의 뜻에 따라 이루어지는 정치 형태이다.

보기

- ㄱ. 시민에 의한 지배
 ㄴ. 다수결의 원리를 적용하여 학급 회의 진행
 ㄷ. 국민이 선거에서 자유롭게 후보자에게 투표
 ㄹ. 합리적인 근거를 바탕으로 타인의 의견을 비판

- ① ㄱ, ㄴ ② ㄱ, ㄷ ③ ㄴ, ㄷ
 ④ ㄴ, ㄹ ⑤ ㄷ, ㄹ

정답 ② | ㄴ. 다수결의 원리를 적용하여 학급 회의를 진행하는 것과 ㄹ. 합리적인 근거를 바탕으로 타인의 의견을 비판하는 것은 생활양식으로서의 민주주의에 해당한다.

중요

10 (가)~(다)에 대해 바르게 설명한 학생은?

(가) 가족회의에서 여행 장소를 다수결로 정하는 것
 (나) 노사 간의 갈등을 대화와 타협을 통해 해결하는 것
 (다) 학급 회장이 학급의 중요한 사안을 일방적으로 결정하는 것

- ① 갑: (가)는 민주주의에 위배됩니다.
 ② 을: (나)는 민주주의에 위배되지 않습니다.
 ③ 병: (다)는 민주주의에 위배되지 않습니다.
 ④ 정: (가)는 (나)와 달리 생활양식으로서의 민주주의에 해당합니다.
 ⑤ 무: (나)는 (다)와 달리 정치 형태로서의 민주주의에 해당합니다.

정답 ② | (가)와 (나)는 생활양식으로서의 민주주의에 해당하고, (다)는 민주주의에 위배된다.


구분	채점 기준
상	구성원 간의 대립과 갈등을 조정하여 사회를 통합하고 사회 질서를 유지한다는 내용을 모두 서술한 경우
하	구성원 간의 대립과 갈등을 조정한다는 내용만 서술한 경우

서술형 문제

11 다음 사례를 통해 알 수 있는 정치의 역할을 서술하시오.

쓰레기 소각장 건설을 두고 ○○ 지역 주민과 △△ 지역 주민의 대립이 심각해졌다. 이에 지방 자치 단체에서는 두 지역 주민과 관련 담당자가 모여 의견을 나눌 수 있는 자리를 만들었고, 대화와 토론을 통해 합의를 이루었다.

예시 답안 | 정치는 공동체 구성원 간의 대립과 갈등을 조정하여 합리적으로 해결함으로써 사회를 통합하고 사회 질서를 유지한다.



민주주의의 발전 과정과 원리

1 민주주의의 발전 과정

민주주의의 역사는 인간으로서 존엄과 가치를 지닌 시민들이 공동체의 주인으로서 평등하게 누려야 할 자유와 원리가 확대되어 온 과정이다.

1. 고대 아테네 민주주의 **자료 1**

(1) 배경: 당시 아테네는 영토가 작고 인구가 적은 도시 국가였으며, 노예가 대부분의 노동을 담당함.

기원전 5세기 중반에 아테네 시민은 대략 6만 명 정도였다고 해.

(2) 특징

여기서 다스리는 자와 다스림을 받는 자가 일치한다는 민주주의의 본모습을 찾을 수 있다.

- ① 직접 민주주의 실시: 모든 시민이 민회를 통해 국가의 주요 정책을 결정하고, 추첨제·윤번제 등을 적용하여 공직에 참여함.
- ② 노예, 외국인, 여성을 제외한 자국의 성인 남성에게만 시민의 지위를 부여했다는 한계가 존재함.

(3) 주요 정치 기관

민회	시민이 참석하는 입법·행정·군사에 관한 최고 의결 기관
평의회	최고 행정 기관으로 일상적인 행정 업무 전담

(4) 의의: 민주주의의 기본 원리인 자치의 원리에 충실

고대 아테네 이후 역사에서 사라졌던 민주주의는 근대 시민 혁명을 거치면서 다시 등장하였다.

2. 근대 민주주의

(1) 시민 혁명의 발생 배경 **자료 2**

① 시민 혁명에 영향을 준 사상

천부 인권 사상	모든 인간은 태어나면서부터 누구에게도 빼앗길 수 없는 기본적인 권리를 부여 받았다는 사상
계몽사상	신이 아닌 인간의 이성을 강조하여 사회를 개혁하려는 사상
사회 계약설	국가는 개인의 계약에 의해 구성되었으므로 국민의 기본권을 보장해야 한다는 사상

② 상공업과 무역의 발달로 부를 축적한 시민 계급의 성장

(2) 3대 시민 혁명

영국 명예혁명	영국의 전제 정치에 대한 시민 혁명
프랑스 혁명	왕과 귀족의 지배에 대항하여 시민들이 자유와 권리를 지키기 위한 혁명 자료 3
미국 독립 혁명	영국의 부당한 식민 지배에 저항하여 영국으로부터 독립을 하기 위한 혁명

(3) 시민 혁명의 의의: 시민의 대표로 이루어진 의회를 중심으로 한 간접 민주주의(대의제) 시행, 자유와 평등 이념의 확산 등

(4) 시민 혁명의 한계: 재산, 성별 등에 따른 참정권 제한(여성, 노동자, 농민은 제외되어 보통 선거 제도가 확립되지 못함.)

자료 풀단지

교과서 확인: 동아, 아침나라

자료 1 민회와 도편 추방제



고대 아테네는 민회를 통해 시민이 직접 참여하여 정책을 결정하는 직접 민주주의를 시행하였다. 이 과정에서 민주주의에 위협이 되는 인물의 이름을 조개껍질이 나 도자기 파편에 적어 10년 동안 국외로 추방하는 도편 추방제를 실시하였다.

교과서 확인: 동아, 미래엔, 비상, 아침나라

자료 2 시민 혁명



▲ 프랑스 혁명의 발단이 된 파리 시민의 바스티유 감옥 습격 ▲ 미국 독립 혁명의 계기가 된 보스턴 차 사건

미국에서는 부당한 식민 지배에 저항하며, 프랑스에서는 왕과 귀족의 지배에 대항하여 시민들이 자신의 자유와 권리를 지키기 위한 혁명을 일으켰다. 시민 혁명 과정에서 인간의 존엄성, 자유와 평등과 같은 민주주의의 이념이 확산되었다.

교과서 확인: 동아

자료 3 프랑스 인권 선언

- 제1조 모든 인간은 태어나면서부터 자유롭고 평등한 권리를 지닌다. ...
- 제2조 모든 정치적 결사의 목적은 자연적이고 소멸될 수 없는 인간의 권리를 보장하는데 있다. 이러한 권리는 자유, 재산, 안전, 그리고 억압에 대한 저항이다.
- 제3조 모든 주권은 본질적으로 국민에게 있다. ...
- 제6조 ... 모든 시민은 직접 또는 대표를 통해 법률 제정에 참여할 권리를 가진다. ...

프랑스 혁명 중 선포된 프랑스 인권 선언에는 천부 인권, 저항권, 자유와 평등권 보장이 명시되어 있다.

용어 풀단지

- ◆ 윤번제 돌아가며 차례로 일을 담당하는 방법이나 제도
- ◆ 자치 자신이나 자신들에 관한 것을 스스로 책임지고 처리하는 것 또는 그 과정
- ◆ 전제 정치 지배자가 국가의 모든 권력을 장악하여 마음대로 행사하려는 정치
- ◆ 보통 선거 제도 일정 연령이 되면 모든 사람에게 차별 없이 선거권을 부여하는 제도

3. 현대 민주주의

- (1) **배경:** 시민 혁명 이후에도 여전히 정치에서 배제된 노동자, 여성, 흑인들을 중심으로 지속적인 **참정권 확대 운동**이 전개됨. **자료 4**
- (2) **결과:** 20세기 중반에는 대부분의 민주 국가에서 보통 선거 제도가 확립되고, 이에 따라 모든 사회 구성원이 정치에 참여하는 현대 민주주의가 시작됨.

영국에서 여성들이 여성 사회 정치 동맹을 결성하여 거리 시위, 연설, 행진 등을 했어.

2 민주주의의 이념과 기본 원리

1. 민주주의의 이념

인간의 존엄성이 실현하려면 개인의 자유와 평등이 보장되어야 해.

인간의 존엄성	<ul style="list-style-type: none"> 인간은 인간이라는 그 자체만으로 존엄한 존재이며 존중받아야 함. 민주주의의 근본 이념
자유	<ul style="list-style-type: none"> 외부로부터의 구속을 당하지 않고 자신의 의지와 판단에 따라 생각하고 행동할 수 있는 것 근대 시민 혁명 당시에는 신체의 자유, 사상의 자유, 재산 소유의 자유 등 기본적인 자유권을 인정 현대 사회에서는 정치과정에 참여할 자유와 국가에 인간다운 삶을 요구할 자유 등 적극적 의미로 자유권의 범위 확대
평등	<ul style="list-style-type: none"> 모든 사람이 성별, 종교, 신분 등에 따라 차별받지 않고 동등하게 대우받는 것 법 앞의 평등, 기회의 균등, 능력과 업적에 따른 대우를 중시 개개인이 가지는 선천적·후천적 차이를 고려하는 실질적 평등 실현을 중시

현대 사회에서는 모두가 실질적 평등을 누릴 수 있도록 다양한 제도를 마련하고 있다.

2. 민주주의의 기본 원리 **자료 5**

국민 주권의 원리	<ul style="list-style-type: none"> 국가의 의사를 최종적으로 결정하는 최고 권력인 주권이 국민에게 있다는 원리 모든 국가 권력의 행사는 국민의 동의와 합의에 의해서만 가능함. 헌법 제1조 2항은 “대한민국의 주권은 국민에게 있고, 모든 권력은 국민으로부터 나온다.”라고 하며 국민 주권의 원리를 명문으로 규정하고 있음.
국민 자치의 원리	<ul style="list-style-type: none"> 주권을 가진 국민이 스스로 국가를 다스린다는 원리 국민이 직접 정치에 참여하여 주권을 행사하는 직접 민주주의와 국민이 대표를 선출하여 간접적으로 주권을 행사하는 대의 민주주의 방식이 있음.
입헌주의의 원리	<ul style="list-style-type: none"> 최고법인 헌법에 따라 국가를 운영해야 한다는 원리 국가 권력의 자의적 행사와 남용을 막고, 국민의 자유와 권리를 보장하기 위함.
권력 분립의 원리	<ul style="list-style-type: none"> 국가 권력을 서로 다른 기관에 맡겨 견제와 균형을 이루도록 하는 원리 법을 제정하는 권한은 입법부에, 법을 집행하는 권한은 행정부에, 법을 적용하는 권한은 사법부에 맡김. 권력 남용을 방지하여 국민의 기본권을 보장하기 위함.

용어 풀단지

- ◆ **주권** 국가 구성의 요소로서 국가의 의사를 최종적으로 결정하는 최고·독립·절대의 권력
- ◆ **명문** 글로 명백히 기록된 문구나 조문
- ◆ **자의적** 일정한 질서를 무시하고 제멋대로 하는 것
- ◆ **남용** 함부로 사용하는 것

자료 풀단지

교과서 확인 : 동아

자료 4 선거권 획득을 위한 차티스트 운동



시민 혁명 이후에도 정치에 참여할 권리를 갖지 못했던 영국 노동자들은 성인 남성의 보통 선거권, 인구 비례에 따른 평등한 선거구, 비밀 투표 등을 요구하였다. 하지만 차티스트 운동은 여성은 제외하고 남성의 보통 선거권만 주장하였다는 점에서 한계가 있다.

교과서 확인 : 아침나라

자료 5 우리나라 역사적 사건에 담겨 있는 민주주의의 이념과 원리



4·19 혁명은 학생과 시민들이 주도해서 부정 선거를 규탄하는 등 국민 주권의 원리를 실현하고자 하였다.



5·18 민주화 운동은 신군부의 비상계엄 해제를 요구하며 권력이 헌법에 근거하여 행사되어야 하고, 권력 분립의 원리를 철저히 지켜야 함을 보여 주고자 하였다.



6월 민주 항쟁은 시민들이 대통령 직선제를 요구하는 등 국민 주권의 행사를 가능하게 하고, 자유, 평등과 같은 민주주의의 이념을 확대시켰다.

1 빈칸에 들어갈 알맞은 말을 쓰시오.

- (1) (**대의 민주주의**)은/는 시민이 대표를 선출하여 그들로 하여금 공공의 의사를 결정하게 하는 민주주의를 의미한다.
- (2) 영국 노동자들이 성인 남성의 보통 선거권, 인구 비례에 따른 평등한 선거구, 비밀 투표 등을 요구한 운동은 (**차티스트 운동**)이다.
- (3) '대한민국의 주권은 국민에게 있고, 모든 권력은 국민으로부터 나온다.'라는 헌법 규정을 통해 실현하고자 하는 민주주의의 기본 원리는 (**국민 주권의 원리**)이다.

2 다음 설명이 맞으면 ○표, 틀리면 ×표를 하시오.

- (1) 고대 아테네 민주주의에서는 외국인이 정치에 참여할 수 없었다. (○)
- (2) 근대 민주주의에서는 정치에 참여할 수 있는 신분, 재산상의 제한이 없었다. (×)
- (3) 헌법에 따라 국가기관을 구성하고 권력을 행사해야 한다는 것은 국민 주권의 원리이다. (×)

3 ㉠, ㉡ 중 알맞은 것을 고르시오.

- (1) 고대 아테네 시대 이후 사라졌던 민주주의가 (㉠ 산업 혁명, ㉡ 시민 혁명)으로 다시 등장하였다.
- (2) 현대 사회에서는 일정한 나이 이상의 모든 국민에게 선거권을 부여하는 (㉠ 보통 선거 제도, ㉡ 평등 선거 제도)가 확립되었다.
- (3) 외부의 간섭을 받지 않고 스스로 판단하여 행동하는 것을 (㉠ 자유, ㉡ 평등)이라고 한다.

4 다음 내용에 해당하는 민주주의의 기본 원리를 <보기>에서 골라 기호를 쓰시오.

보기

- ㉠. 국민 주권의 원리 ㉡. 국민 자치의 원리
- ㉢. 입헌주의의 원리 ㉣. 권력 분립의 원리

- (1) 헌법에 따라 국가를 운영해야 한다는 원리 (㉡)
- (2) 주권을 가진 국민이 스스로 국가를 다스린다는 원리 (㉠)
- (3) 국가의 의사를 최종적으로 결정하는 주권이 국민에게 있다는 원리 (㉠)
- (4) 국가 권력을 서로 다른 기관에 맡겨 견제와 균형을 이루도록 하는 원리 (㉣)

01 다음 글을 통해 파악할 수 있는 고대 아테네 민주주의에 대한 설명으로 옳은 것을 <보기>에서 고른 것은?

고대 아테네 민주주의는 모든 시민이 국가의 운영과 관련된 중요한 일을 토의하여 결정하는 방식으로 운영되었다. 하지만 여성, 외국인, 노예 등은 시민에 포함되지 않았다.

보기

- ㉠. 대의 민주주의 ㉡. 직접 민주주의
- ㉢. 간접 민주주의 ㉣. 제한적 민주주의

- ① ㉠, ㉡ ② ㉠, ㉢ ③ ㉡, ㉢
- ④ ㉡, ㉣ ⑤ ㉢, ㉣

정답 ④ | 고대 아테네 민주주의는 시민이 직접 국가의 중요 정책을 결정하는 직접 민주주의이고, 여성, 노예, 외국인 시민에서 배제된 제한적 민주주의이다.

02 다음 사건의 공통적인 특징으로 옳은 것은?

- 영국 명예혁명
- 미국 독립 혁명
- 프랑스 혁명

- ① 계몽사상의 영향을 받았다.
- ② 소수의 사람이 참여하였다.
- ③ 직접 민주주의의 확립을 가져왔다.
- ④ 모든 사람이 정치에 참여할 권리를 확보하였다.
- ⑤ 자유와 달리 평등의 이념은 실현되지 못하였다.

정답 ① | 영국 명예혁명, 미국 독립 혁명, 프랑스 혁명은 모두 시민 혁명이 다. 시민 혁명은 계몽사상의 영향을 받았다.

중요

03 다음 교사의 질문에 옳은 답변을 한 사람을 <보기>에서 고른 것은?

교사: 오늘 배운 영국 명예혁명, 미국 독립 혁명, 프랑스 혁명과 같은 시민 혁명의 결과에 대해 발표해 볼까요?

보기

- 갑: 보통 선거 제도가 확립되었어요.
- 을: 자유와 평등의 이념이 널리 확산되었어요.
- 병: 의회를 중심으로 하는 민주주의가 등장했어요.
- 정: 여성, 노동자도 정치에 참여할 수 있게 되었어요.

- ① 갑, 을 ② 갑, 병 ③ 을, 병
- ④ 을, 정 ⑤ 병, 정

정답 ③ | 시민 혁명의 결과 자유와 평등의 이념이 널리 확산되었고, 의회를 중심으로 하는 대의 민주주의가 등장하였다.

중요

04 다음 역사적 사건들의 영향으로 가장 적절한 것은?

- 차티스트 운동
- 여성과 흑인의 참정권 운동

- ① 직접 민주주의가 확립되었다.
- ② 제한적 민주주의를 확산하였다.
- ③ 보통 선거의 확립에 기여하였다.
- ④ 사람들의 정치 참여를 제한하였다.
- ⑤ 전제 정치를 전 세계로 확산하였다.

정답 ③ | 차티스트 운동은 노동자들의 참정권 확대 운동이다. 차티스트 운동, 여성과 흑인의 참정권 운동은 모두 보통 선거 확립에 기여하였다.

05 (가)~(다)를 시대순으로 옳게 나열한 것은?

- (가) 시민 계급이 전제 정치에 대항하여 시민 혁명을 주도하였다.
- (나) 시민권이 성인 남성에게만 있었고 여성, 외국인, 노예 등은 정치에서 배제되었다.
- (다) 대부분의 민주 국가에서 일정한 나이 이상의 모든 국민에게 선거권을 부여하였다.

- ① (가) - (나) - (다)
- ② (가) - (다) - (나)
- ③ (나) - (가) - (다)
- ④ (다) - (가) - (나)
- ⑤ (다) - (나) - (가)

정답 ③ | (가)는 근대 민주주의, (나)는 고대 아테네 민주주의, (다)는 현대 민주주의에 대한 내용이다.

관

06 밑줄 친 ㉠, ㉡에 대한 설명으로 옳은 것은?

㉠ 고대 아테네 민주주의는 자유민인 성인 남성이 직접 정치에 참여하여 국가의 중요한 일을 토의하여 결정하는 민주주의이다. ㉡ 근대 민주주의는 재산이 있는 성인 남성들만이 선거에 참여할 수 있었고, 시민들이 선출한 대표가 국가 정책을 결정하는 민주주의이다.

- ① ㉠에서는 ㉡과 달리 대의 민주주의가 이루어졌다.
- ② ㉠에서는 ㉡과 달리 보통 선거 제도가 확립되었다.
- ③ ㉡에서는 ㉠과 달리 직접 민주주의가 이루어졌다.
- ④ ㉡에서는 ㉠과 달리 시민의 정치 참여를 보장하였다.
- ⑤ ㉠과 ㉡에서는 모두 제한된 민주주의가 이루어졌다.

정답 ⑤ | 고대 아테네 민주주의에서 시민은 성인 남성만 해당하고, 근대 민주주의에서는 노동자, 여성은 선거에 참여할 수 없으므로 제한된 민주주의가 이루어졌다.

07 다음 내용이 말하는 고대 아테네 민주주의와 현대 민주주의의 공통점으로 가장 적절한 것은?

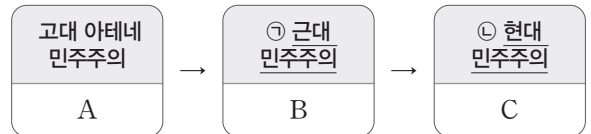
- 고대 아테네에서는 일정한 연령 이상의 남자만 정치에 참여할 권리를 가지고 있었다. 즉, 여자와 노예는 시민으로서의 권리를 부여받지 못하였다.
- 오늘날 대부분 민주주의 국가에서는 보통 선거를 통해 대표를 선출하고 대표가 정책을 결정한다. 하지만 정책 결정 과정에서 시민들의 자유로운 정치 참여를 보장하고 있다.

- ① 시민의 자격 제한이 없다.
- ② 직접 민주주의가 적용된다.
- ③ 누구나 정치에 참여할 수 있다.
- ④ 시민은 정치과정에 참여할 수 있다.
- ⑤ 자유와 평등의 민주주의 이념을 실현한다.

정답 ④ | 고대 아테네 민주주의의 시민과 현대 민주주의의 시민은 모두 정책을 결정하는 데 영향을 미친다.

중요

08 그림은 민주주의 발전 과정을 보여 준다. 이에 대한 설명으로 옳은 것은? (단, A~C는 각 시기의 시민임.)



- ① ㉠에서는 보통 선거 제도가 확립되었다.
- ② ㉡에서는 직접 민주주의가 처음 등장하였다.
- ③ A는 여성, 노예, 외국인이 아닌 성인 남자이다.
- ④ B에는 소득 수준이 낮은 노동자도 포함된다.
- ⑤ C는 일정 연령에 도달한 성인 남성이다.

정답 ③ | 고대 아테네 민주주의에서의 시민은 여성, 노예, 외국인을 제외한 성인 남성만이 해당된다.

09 밑줄 친 '다양한 노력'에 해당하는 것을 <보기>에서 고른 것은?

시민 혁명 이후에도 민주주의를 위한 시민들의 노력은 계속되었다. 오늘날과 달리 시민 혁명 이후에는 성별, 신분, 재산 등에 따라 정치 참여를 할 수 있는 자유가 제한되었다. 이에 그들의 권리를 찾기 위한 다양한 노력이 진행되었다.

보기

- ㄱ. 차티스트 운동 ㄴ. 도편 추방 제도
- ㄷ. 여성 참정권 운동 ㄹ. 직접 민주주의 시행

- ① ㄱ, ㄴ ② ㄱ, ㄷ ③ ㄴ, ㄷ ④ ㄴ, ㄹ ⑤ ㄷ, ㄹ

정답 ② | 시민 혁명 이후에도 선거에 참여할 수 있는 권리를 얻지 못한 사람들은 참정권 확대 운동을 전개하였다. 9. 민주주의와 시민 177

10 (가), (나)에 해당하는 민주주의 기본 원리를 바르게 연결한 것은?

- (가) 헌법에 따라 국가기관을 구성하고 권력을 행사해야 한다.
- (나) 국가가 권력을 행사할 때는 반드시 주권을 가진 국민의 동의와 지지를 얻어야 한다.

- | | |
|-------------|-----------|
| (가) | (나) |
| ① 입헌주의의 원리 | 국민 주권의 원리 |
| ② 국민 주권의 원리 | 권력 분립의 원리 |
| ③ 국민 주권의 원리 | 입헌주의의 원리 |
| ④ 국민 자치의 원리 | 국민 주권의 원리 |
| ⑤ 권력 분립의 원리 | 입헌주의의 원리 |

정답 ① | 헌법에 따라 국가 기관을 구성하고 권력을 행사해야 한다는 것은 입헌주의의 원리이고, 국가가 권력을 행사할 때는 반드시 주권을 가진 국민의 동의와 지지를 얻어야 한다는 것은 국민 주권의 원리이다.

11 (가), (나)에 대한 설명으로 옳은 것은?

- (가) 국가나 다른 사람에게 구속받지 않고 자신의 뜻에 따라 의견을 표현하고 행동할 수 있는 것
- (나) 모든 사람이 성별, 인종, 재산, 종교 등에 따라 부당하게 차별받지 않고 기회를 균등하게 부여 받으며, 법 앞에서 동등하게 대우받는 것

- ① (가)는 평등, (나)는 자유이다.
- ② (가)는 (나)와 달리 민주주의 이념에 해당한다.
- ③ (나)는 (가)를 실현하기 위한 도구이다.
- ④ (가), (나)의 실현은 독재 정치를 발생시킨다.
- ⑤ (가), (나)는 모두 인간의 존엄성 실현을 위한 전제 조건이다.

정답 ⑤ | (가)는 자유, (나)는 평등이다. 자유와 평등은 민주주의의 이념인 인간의 존엄성 실현을 위한 전제 조건이다.

중요

12 다음 내용이 공통으로 추구하는 궁극적 목적은?

- 헌법에 국민의 기본권과 국가 운영 원리를 규정하고 헌법에 따라 나라를 다스려야 한다.
- 국가의 권력 중 법을 제정하는 권한은 입법부에, 법을 집행하는 권한은 행정부에, 법을 적용하는 권한은 사법부에 맡겨야 한다.

- ① 대의 민주주의를 실현한다.
- ② 다수결의 원리를 실천한다.
- ③ 인간의 존엄성을 실현한다.
- ④ 사회 갈등을 해결하고 통합한다.
- ⑤ 정치 참여에 대한 제한을 철폐한다.

정답 ③ | 헌법에 따라 나라를 다스려야 한다는 것은 입헌주의의 원리이고, 국가의 개념을 중학 사회 ① 권력을 입법부, 행정부, 사법부에 나눠 맡겨야 한다는 것은 권력 분립의 원리이다. 민주주의의 기본 원리는 모두 인간의 존엄성을 실현하기 위한 것이다.

13 밑줄 친 '민주주의의 기본 원리'에 대한 설명으로 옳은 것은?

절대적인 권력은 부패하기 쉽다. 이는 무제한의 권력을 소유하는 사람의 마음이 부패하기 쉽기 때문이다. 따라서 국가 권력을 서로 다른 기관에 맡겨 견제와 균형을 이루도록 하는 민주주의의 기본 원리가 필요하다.

- ① 국민의 자유와 권리를 보장하고자 한다.
- ② 국가 권력의 자의적 행사를 가능하게 한다.
- ③ 정치과정의 효율성을 높이는 데 이바지한다.
- ④ 일부 집단의 이익을 극대화하기 위한 것이다.
- ⑤ 국민의 자유를 강력하게 통제하기 위한 것이다.

정답 ① | 권력 분립의 원리는 국가기관 간에 견제와 균형을 통해 권력의 남용을 방지하여 국민의 자유와 권리를 보장하는 데 목적이 있다.

14 다음 사례에 나타난 문제점을 개선하기 위한 주장으로 가장 적절한 것은?

갑은 불의의 사고로 휠체어를 타야 하는 신체적 장애를 가지게 되었다. 그런데 갑이 공부하는 교실은 휠체어를 타고 이동할 수 없고 계단으로만 올라갈 수 있어 수업을 받는 것이 너무 어렵다.

- ① 정치에 참여할 수 있어야 한다.
- ② 실질적 평등이 이루어져야 한다.
- ③ 대의 민주주의가 확립되어야 한다.
- ④ 권력이 남용되지 않도록 해야 한다.
- ⑤ 시민에 대한 자격 제한이 철폐되어야 한다.

정답 ② | 갑은 학교를 다닐 수 있는 기회가 있지만 실제 학교에서 교육을 받을 수 있는 조건이 제대로 갖춰지지 않았다. 따라서 이를 개선하기 위해서는 실질적 평등이 이루어져야 한다.

15 민주주의의 기본 원리에 대한 내용의 맞고 틀림을 순서대로 바르게 나타낸 것은? (단, ○는 맞음, ×는 틀림을 의미함)

- (가) 헌법에 따라 국가를 운영해야 한다는 원리는 국민 주권의 원리이다. ()
- (나) 주권을 가진 국민이 스스로 국가를 다스린다는 원리는 국민 자치의 원리이다. ()
- (다) 국가의 의사를 최종적으로 결정하는 주권이 국민에게 있다는 원리는 입헌주의의 원리이다. ()
- (라) 국가 권력을 서로 다른 기관에 맡겨 견제와 균형을 이루도록 하는 원리는 권력 분립의 원리이다. ()

- | | |
|--------------|--------------|
| ① ○, ○, ○, ○ | ② ○, ○, ×, ○ |
| ③ ○, ×, ×, ○ | ④ ×, ○, ×, ○ |
| ⑤ ×, ×, ○, ○ | |

정답 ④ | (가)는 입헌주의의 원리, (다)는 국민 주권의 원리이다.

중요

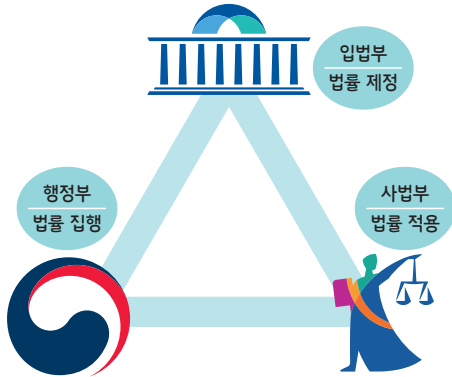
16 민주주의 이념에 대해 옳게 설명한 학생을 고른 것은?

- 갑: 인간의 존엄성은 민주주의가 추구하는 궁극적 목표입니다.
 을: 개인은 타인의 권리를 침해하는 자유를 실현할 수 있습니다.
 병: 장애인 의무 고용 제도는 실질적 평등을 보장하기 위한 사회 제도입니다.
 정: 현대 사회에서는 소극적 자유만 인정하고, 적극적 자유는 인정하지 않는다.

- ① 갑, 을 ② 갑, 병 ③ 을, 병
 ④ 을, 정 ⑤ 병, 정

정답 ② | 인간의 존엄성은 민주주의가 추구하는 궁극적 목표이고, 자유와 평등의 보장은 인간의 존엄성 실현을 위한 전제 조건이다.

17 다음 그림을 통해 알 수 있는 민주주의의 기본 원리는?



- ① 법치주의의 원리 ② 국민 자치의 원리
 ③ 입헌주의의 원리 ④ 권력 분립의 원리
 ⑤ 국민 주권의 원리

정답 ④ | 법률을 제정하는 권한은 입법부에, 법률을 집행하는 권한은 행정부에, 법률을 적용하는 권한은 사법부에 맡겨야 한다는 것은 권력 분립의 원리이다.

중요

18 다음 사건들의 공통적인 특징으로 가장 적절한 것은?

- 4·19 혁명(1960년)
- 5·18 민주화 운동(1980년)
- 6월 민주 항쟁(1987년)

- ① 경제성장의 계기이다.
 ② 평등의 이념을 실현하였다.
 ③ 특정 집단의 이익을 추구하였다.
 ④ 일부 시민이 정부에 저항하였다.
 ⑤ 국민이 스스로 주권을 지키려는 노력이다.

정답 ⑥ | 4·19 혁명, 5·18 민주화 운동, 6월 민주 항쟁은 모두 독재나 국가 권력의 자의적 행사에 저항하여 국민이 스스로 주권을 지키려는 노력이다.

서술형 문제

19 다음 자료를 보고 물음에 답하시오.

(가)



(나)



(1) (가), (나)와 관련이 있는 시민 혁명을 각각 쓰시오.
 (가) : 프랑스 혁명 (나) : 미국 독립 혁명

(2) (1)의 시민 혁명이 가지는 의의를 서술하시오.

예시 답안 | 시민 혁명을 통해 인간의 존엄성, 자유와 평등 같은 민주주의의 이념이 확산되었다.

구분	채점 기준
상	시민 혁명을 통해 인간의 존엄성, 자유와 평등 같은 민주주의의 이념이 확산되었다고 서술한 경우
하	시민 혁명을 통해 민주주의의 이념이 확산되었다고만 서술한 경우

구분	채점 기준
상	권력 분립의 원리는 국민의 자유와 권리를 보장하는 것을 목적으로 함을 명확히 서술한 경우
하	권력 분립의 원리는 권력을 분산시켜 권력 남용을 막는 것을 목적으로 한다고 서술한 경우

20 다음 헌법 조항을 보고 물음에 답하시오.

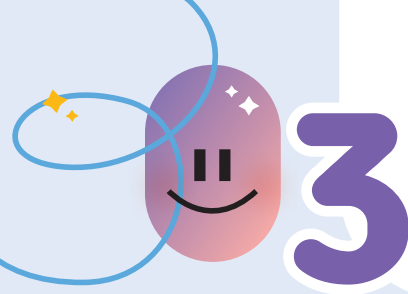
- 제40조 입법권은 국회에 속한다.
 제66조 ④ 행정권은 대통령을 수반으로 하는 정부에 속한다.
 제101조 ① 사법권은 법관으로 구성된 법원에 속한다.

(1) 위 헌법 조항을 통해 파악할 수 있는 민주주의의 기본 원리를 쓰시오.

권력 분립의 원리

(2) (1)의 민주주의의 기본 원리가 추구하는 바를 서술하시오.

예시 답안 | 국가 권력을 서로 다른 기관에 맡겨 견제와 균형을 이루도록 함으로써 권력 남용을 막고 국민의 자유와 권리를 보장하는 것을 목적으로 한다.



현대 민주주의의 특징과 과제

1 현대 민주주의의 특징

1. 간접 민주주의의 일반화

- (1) **배경:** 영토의 확대 및 인구의 증가, 사회의 복잡화·전문화 **자료 1**
- (2) **장점:** 국민의 뜻을 대변하여 국민 주권과 국민 자치의 원리를 실현할 수 있는 현실적인 대안임.

간접 민주주의에서는 국민이 대표자를 선출하는 과정에서 영향력을 행사하여 국가 권력을 형성한다는 점에서 국민을 위한 정치가 가능하다는 의의가 있다.

2. 직접 민주주의의 요소 도입

간접 민주주의의 한계를 극복하기 위해 직접 민주주의의 요소를 일부 도입하기도 했다.

국민 투표	투표를 통해 국민의 의사를 물어 헌법 개정이나 국가의 주요 정책을 결정하는 제도
국민 발안	일정한 수의 국민이 헌법 개정이나 법률안 등을 의회에 직접 발의하는 제도
국민 소환	선거에 의해 선출된 공직자를 임기 만료 전에 투표를 통해 직위에서 물러나게 하는 제도

3. 전자 민주주의 등장 및 확산

- (1) **전자 민주주의:** 정보 통신 기술이 발달하여 인터넷 등을 통해 국민이 정치과정에 참여하는 형태의 민주주의
- (2) **배경:** 인터넷 보급, 정보 통신 기술과 뉴 미디어의 발달에 따라 시공간적 제약 극복한 시민의 정치 참여가 가능해짐.

2 현대 민주주의의 한계

대의제의 한계점을 보완하면서 국민의 뜻에 충실한 민주주의를 실현해 나가는 것이 현대 민주주의의 과제이다.

1. 정치적 무관심 발생 **자료 2** **자료 3**

- (1) **정치적 무관심:** 민주주의에서 주권자로서 국민이 정치 참여에 부정적이고, 정치적 문제와 현상에 관심을 보이지 않는 것
- (2) **정치적 무관심의 폐해:** 시민의 의사에 반하는 정책이 결정될 우려가 있고, 국민 주권의 원리와 국민 자치의 원리 실현이 방해됨.

2. 대표성의 한계 발생

- (1) **대표성의 한계:** 시민들이 선출한 대표가 시민의 의사를 충실히 반영하지 못하는 경우 시민의 의사가 왜곡되는 현상
- (2) **대표성의 한계를 나타내는 문제:** 시민의 뜻이 간접적으로 전달되므로 모든 직업, 지역, 계층, 세대별 의견을 고르게 대표하기 어려움.

3. 바람직하지 않은 정치 참여

- (1) 공공의 이익과 가치보다 자신의 이익만을 추구하려는 정치 참여
- (2) 대화와 토론을 거치지 않은 정치 참여

자료 끝단지

교과서 확인: 동아

자료 1 간접 민주주의를 채택한 이유



영토와 인구 규모가 확대되어 모든 시민이 한자리에 모이기 어렵다.



모든 시민이 직접 참여한 토론과 결정 과정에 많은 시간과 비용이 든다.



사회가 복잡해지고 전문 화됨에 따라 전문적인 지식을 가진 사람이 정책 결정에 필요해졌다.

교과서 확인: 아침나라

자료 2 정치적 무관심

갑: 투표해도 달라지지 않아. 투표를 해도 소용이 없으니 앞으로 투표하지 않을 거야.
 을: 정치 말고도 연예, 패션, 스포츠 등 관심 가질 게 많아. 정치에 관심을 가질 여유가 없어.
 병: 우리가 정치에 대해 얼마나 알겠어. 정치는 정치인들이 알아서 하는 거지.

정치적 무관심은 시민의 비판과 감시를 소홀하게 하여 대표자를 제대로 검증하지 못함으로써 결국 대의 민주주의의 이념을 달성하지 못하는 결과를 낳는다.

교과서 확인: 미래엔

자료 3 정치 참여를 강조하는 명언

“사람들이 자신의 지도자는 자기 자신임을 깨닫는 것이 바로 자유의 정의다.” - 다이앤 내시
 “투표권을 뺏은 유일한 방법은 스스로 투표하지 않는 것이다.” - 루스벨트
 “참여하는 사람은 주인이요, 그렇지 않은 사람은 손님이다.” - 안창호

명언들은 공통적으로 정치에 참여하는 것이 자신의 권리를 보호하고, 자신의 의견을 직접 정책에 반영할 수 있는 수단임을 강조하고 있다.

용어 끝단지

- 공직자 공무원이나 국회 의원처럼 공직에 종사하는 사람
- 폐해 폐단으로 생기는 해

3 우리나라 민주주의의 발전 과제

1. 제도적 보완

- (1) 직접 민주주의 요소 도입: 국민 투표, 주민 발안, 주민 소환, 주민 참여 예산제 등
- (2) 시민 참여의 제도적 보장: 언론의 자유와 집회·결사의 자유 보장, 속의 민주주의 방식으로 여러 사람이 토론할 수 있는 공청회, 공론장 마련

자료 4 사회적으로 충분한 합의가 요구되는 중요한 문제에 대해 의사 결정을 할 때 다양한 분야의 사람이 모여 그에 대해 깊이 생각하고 충분히 의논하여 결정하는 방식이다.

2. 시민 참여의 확대


- (1) 시민 참여의 의의: 시민의 적극적인 정치 참여는 민주주의의 이념을 실현하는 데 기여함.
 - ↳ 시민은 사회적 쟁점의 해결 과정에 참여하여 여론 형성 및 전달, 입법 요구, 정책 대안 제시, 국가권력의 남용 감시 및 비판 등의 역할을 할 수 있다.
- (2) 시민의 역할
 - ① 주인의식을 바탕으로 한 자발적이고 적극적인 참여
 - ② 시민단체 활동 등을 통해 정치권력에 대해 감시와 견제
 - ③ 사익과 공익의 조화 추구
 - ④ 대표자를 선출하는 선거에 관심을 가지고 참여

용어 풀단지

- ◆ 속의 깊이 생각하고 충분히 의사를 주고받는 과정
- ◆ 공청회 국가나 공공 기관이 국민에게 영향을 미치는 정책을 시행하기 전에 이해 당사자 및 전문가, 일반 시민들의 의견을 듣는 제도

자료 풀단지

교과서 확인 : 아침나라
자료 4 공론장을 통한 속의 과정



공론은 대화와 토론을 통해 다양한 정보와 이해를 바탕으로 형성된 의견이다. 시민들이 공론장에서 깊이 있게 생각하고 대화와 토론을 통해 공론을 형성하여 정책을 결정하는 과정을 통해 시민 참여를 기반으로 하는 민주주의의 발전에 기여할 수 있다.

STEP 1

개념 IN

1 빈칸에 들어갈 알맞은 말을 쓰시오.

- (1) (국민 투표)은/는 국가의 중대한 사항을 국민이 직접 투표로 결정하는 제도를 말한다.
- (2) (정치적 무관심)은/는 주권자인 시민이 정치 현상에 관심을 보이지 않고 정치 참여에 부정적인 태도를 갖는 것을 말한다.

2 다음 설명이 맞으면 ○표, 틀리면 ×표를 하시오.

- (1) 현대 민주 국가의 대다수는 직접 민주주의를 기반으로 한다. (×)
- (2) 다원화된 현대 사회에서는 대표가 시민의 의사를 충분히 반영하지 못하는 대표성의 한계가 나타난다. (○)
- (3) 개인이나 집단은 최대한 자신의 이익을 얻기 위한 목적으로 정치에 참여해야 한다. (×)

3 ㉠, ㉡ 중 알맞은 것을 고르시오.

- (1) 국민 투표, 주민 참여 예산제는 (㉠ 대의 민주주의, 직접 민주주의) 요소이다.
- (2) 민주주의 발전을 위해 시민은 주인의식을 가지고 정치에 적극적으로 (㉠ 방관, 참여)해야 한다.

4 다음 내용에 해당하는 것을 <보기>에서 골라 기호를 쓰시오.

보기

ㄱ. 공론장 ㄴ. 국민 발안 ㄷ. 국민 소환

- (1) 일정한 수의 국민이 헌법 개정이나 법률안 등을 의회에 직접 발의하는 제도 (ㄴ)
- (2) 주요 사안에 관해 시민, 전문가 등이 참여하여 충분한 토론과 합의를 가질 수 있는 장 (ㄱ)
- (3) 선거에 의해 선출된 공직자를 임기 만료 전에 투표를 통해 직위에서 물러나게 하는 제도 (ㄷ)

07 현대 민주주의의 발전을 위한 시민의 역할로 옳은 것은?

- ① 정부가 수립한 정책에 대해 비판하지 않는다.
- ② 일부 집단의 이익만을 위해 정치과정에 참여한다.
- ③ 국가 권력에 대해서는 항상 동의와 지지를 보낸다.
- ④ 정치 참여 제도가 확립되어 있으면 시민의 역할은 없다.
- ⑤ 시민은 주인의식을 바탕으로 적극적으로 정치에 참여한다.

정답 ⑤ | 시민은 국가 권력과 정부의 정책을 감시·비판하고, 공익을 위해 정치에 참여해야 한다.

중요

08 밑줄 친 '다양한 제도 및 방법'에 해당하는 것을 <보기>에서 고르면 몇 개인가?

현대 민주주의는 대의 민주 정치를 기본으로 하고 있기 때문에 시민의 의견이 정책에 정확하게 반영되기 어렵다는 한계가 있다. 이를 보완하기 위해 오늘날 많은 민주주의 국가에서는 시민의 정치 참여를 확대하기 위해 다양한 제도 및 방법을 보장하고 있다.

보기

- 청원 활동 • 시민단체 활동
- 국민 투표 제도 • 주민 참여 예산 제도

- ① 0개 ② 1개 ③ 2개 ④ 3개 ⑤ 4개

정답 ⑤ | 청원 활동, 시민단체 활동, 국민 투표 제도, 주민 참여 예산 제도는 모두 시민들이 정치에 참여할 수 있는 수단이다.

관

09 밑줄 친 ㉠~㉣에 대한 설명으로 옳은 것은?

현대 대부분의 민주 국가에서는 투표를 통해 대표를 선출하고, 대표들이 모여 중요한 정책을 결정하는 ㉠ 대의제를 기본으로 하고 있다. 하지만 대의제의 ㉡ 한계가 나타남에 따라 ㉢ 직접 민주주의 요소의 도입과 ㉣ 바람직한 시민의 역할을 통해 대의제의 ㉤ 한계를 보완하고 있다.

- ① ㉠은 규모가 큰 사회보다 작은 사회에서 효율성이 높다.
- ② 시민의 정치적 무관심 발생은 ㉡에 해당하지 않는다.
- ③ 국민 투표와 달리 국민 발안은 ㉢에 해당한다.
- ④ 공익과 충돌하는 일부 이익 집단의 이익 추구는 ㉣로 적절하다.
- ⑤ 공론장 제도 마련과 시민 참여의 활성화는 ㉤에 기여할 수 있다.

정답 ⑤ | 대의제는 규모가 큰 사회에서 효율성이 높으며, 국민 투표와 국민 발안은 모두 직접 민주주의 요소에 해당한다.

10 민주주의 발전을 위한 바람직한 시민의 역할을 <보기>에서 있는 대로 고른 것은?

보기

- ㄱ. 지방 자치 단체에 주민 안전을 위한 정책을 제안
- ㄴ. 정부의 정책에 대한 반대 의견으로 가짜 뉴스 제작
- ㄷ. 국정 감시를 위해 여러 모니터링단에 참여하여 의견을 게시
- ㄹ. 지역 주민의 의견을 수렴하는 공론장에서 자신의 의견을 개진

- ① ㄱ, ㄴ ② ㄱ, ㄹ ③ ㄴ, ㄷ
 ④ ㄱ, ㄷ, ㄹ ⑤ ㄴ, ㄷ, ㄹ

정답 ④ | ㄴ. 정부의 정책에 대한 반대 의견으로 가짜 뉴스를 제작하는 것은 시민의 바람직한 역할로 볼 수 없다.

11 다음 사례를 통해 추론할 수 있는 시민의 바람직한 정치적 역할로 가장 적절한 것은?

쓰레기 소각장 건설과 관련한 공청회에 소각장 건설에 찬성하는 시민들만 참석하면서 소각장 건설에 반대하는 시민들의 의견이 제대로 반영되지 못하였다.

- ① 대표자 선출을 위한 선거에만 참여한다.
- ② 언론에 국가 정책을 비판하는 의견만을 표현한다.
- ③ 자신과 관련이 없는 사안에 대해서는 관심을 갖지 않는다.
- ④ 정부 정책에 무조건 찬성하여 정책이 빠르게 집행되도록 한다.
- ⑤ 주인의식을 가지고 공동체의 문제 해결에 적극적으로 참여한다.

정답 ⑤ | 시민은 공동체의 문제에 주인의식을 가지고 적극적으로 참여하는 자세가 필요하다.

구분	채점 기준
상	정치적 무관심과 대표성의 한계를 모두 서술한 경우
하	정치적 무관심과 대표성의 한계 중 하나만 서술한 경우

서술형 문제

12 밑줄 친 '간접 민주주의의 한계'에 대해 서술하시오.

오늘날 대부분의 민주 국가에서는 간접 민주주의를 적용하고 있지만, 직접 민주주의 요소를 도입하여 간접 민주주의의 한계를 극복하고자 한다.

예시 답안 | 간접 민주주의에서는 정치적 무관심이 발생할 수 있고, 시민들이 선출한 대표가 시민의 의사를 충실히 반영하지 못하는 대표성의 한계가 나타날 수 있다.

01 정치를 바라보는 관점 A의 사례를 <보기>에서 고른 것은?

정치를 바라보는 관점 중 A는 정치권력을 획득·유지·행사하는 과정과 관련된 국가 고유의 활동만을 정치로 본다.

보기

- ㄱ. 국회에서 법률안을 의결하는 것
- ㄴ. 국무 회의에서 국가 정책을 논의하는 것
- ㄷ. 학급 회의에서 학급 규칙을 정하는 것
- ㄹ. 노동자와 사용자 간에 임금 협상을 하는 것

- ① ㄱ, ㄴ ② ㄱ, ㄷ ③ ㄴ, ㄷ
- ④ ㄴ, ㄹ ⑤ ㄷ, ㄹ

정답 ① | A는 좁은 의미의 정치이다. ㄷ, ㄹ의 사례는 넓은 의미의 정치에 해당한다.

중요

02 정치의 의미를 구분한 (가), (나)에 대한 설명으로 옳은 것은?

(가) 정치는 정치인들이 정치권력을 획득하고 행사하는 활동이다.
(나) 정치는 일상생활에서 발생하는 개인이나 집단 간의 이해관계 갈등을 조정하고 해결하는 것이다.

- ① (가)는 넓은 의미의 정치이다.
- ② 국회의 입법 활동은 (가)의 사례에 해당하지 않는다.
- ③ (나)는 대통령의 국무 회의 주재를 정치로 보지 않는다.
- ④ (나)는 (가)와 달리 학급 회의를 통한 규칙 제정 과정을 정치로 본다.
- ⑤ (가)와 (나) 모두 다양한 갈등의 해결을 정치로 본다.

정답 ④ | (가)는 좁은 의미의 정치, (나)는 넓은 의미의 정치에 해당한다. 국회의 입법 활동은 (가)에 해당하고, 학급 회의는 (나)에 해당한다.

03 넓은 의미의 정치에 해당하는 사례를 <보기>에서 고르면 몇 개인가?

보기

- 선거로 대통령을 선출하였다.
- 국회에서 소비자 보호 관련 법률을 의결하였다.
- 아파트 주민 회의에서 단지 내에 꽃길을 조성하기로 결정하였다.
- 학급 회의를 통해 체육 대회에서 각 종목에 출전할 선수를 정하였다.

- ① 0개 ② 1개 ③ 2개 ④ 3개 ⑤ 4개

정답 ⑥ | 넓은 의미에서 정치는 일상생활에서 발생하는 구성원 간 대립과 개념풀 중학 사회 ① 갈등을 조정하여 해결해 나가는 모든 활동을 의미하므로 제시된 모든 사례가 정치에 해당한다.

04 다음 사례를 종합하여 도출할 수 있는 정치의 역할로 가장 적절한 것은?

- ○○시는 공청회를 통해 쓰레기 소각장 건설에 반대하는 주민 의견을 수렴하여 절충안을 마련하였다.
- □□ 기업은 노동조합과 지속적인 임금 협상을 하였고, 임금을 전년 대비 5% 인상하기로 합의하였다.

- ① 정치권력을 통제한다.
- ② 법을 통해 삶의 질을 개선한다.
- ③ 구성원들 간의 이해관계를 조정한다.
- ④ 사회 질서 유지를 위해 법률을 제정한다.
- ⑤ 특정 계층의 이익만을 정책 결정에 반영한다.

정답 ③ | 정치를 통해 사회 구성원들의 다양한 의견과 이해관계를 조정하여 의사를 결정하고 공동체의 문제를 해결한다.

고난도

05 민주주의 의미에 대한 (가), (나)에 관한 설명으로 옳은 것을 <보기>에서 고른 것은?

(가) 민주주의는 시민이 권력을 가지고 스스로 그 권리를 행사하는 것이다.
(나) 민주주의는 관용 정신, 다수결의 원리와 같은 가치와 태도를 일상생활에서 실천하는 것이다.

보기

- ㄱ. (가)는 정치 형태로서의 민주주의이다.
- ㄴ. (나)는 다수의 의견이라면 무조건 따르는 것을 민주주의로 여긴다.
- ㄷ. (가)보다 (나)의 민주주의의 의미가 더 넓게 사용된다.
- ㄹ. (나)보다 (가)에서 대화와 타협을 통해 문제를 해결하는 것을 민주주의로 본다.

- ① ㄱ, ㄴ ② ㄱ, ㄷ ③ ㄴ, ㄷ ④ ㄴ, ㄹ ⑤ ㄷ, ㄹ

정답 ② | ㄴ. 다수의 의견을 무조건 따르는 것은 민주주의가 아니다. ㄹ. 대화와 타협을 통한 문제 해결은 생활양식으로서의 민주주의에 해당한다.

06 민주주의의 필요성에 대한 질문에 모두 옳게 응답한 학생은?

질문	학생	갑	을	병	정	무
민주주의는 사회 통합을 어렵게 하는가?		○	○	○	×	×
민주주의는 개인의 자유와 권리를 보장하는가?		○	○	×	○	×
민주주의는 공동체 의식과 주인 의식 함양에 기여하는가?		○	×	×	○	×

(○ : 예, × : 아니요)

- ① 갑 ② 을 ③ 병 ④ 정 ⑤ 무

정답 ④ | 민주주의는 사회 통합을 가능하게 하며, 개인의 자유와 권리를 보장하고, 공동체 의식과 주인의식 함양에 기여한다.

07 고대 아테네의 민회에 참석할 수 없는 사람을 <보기>에서 있는 대로 고른 것은?

보기

- ㄱ. 외국인 ㄴ. 성인 여성
- ㄷ. 성인 노예 ㄹ. 미성년 남성

- ① ㄱ, ㄴ ② ㄱ, ㄷ ③ ㄴ, ㄹ
- ④ ㄱ, ㄷ, ㄹ ⑤ ㄱ, ㄴ, ㄷ, ㄹ

정답 ⑤ | 고대 아테네에서는 자유민인 성인 남성만이 민회에 참석하여 주요 정책을 결정할 수 있다.



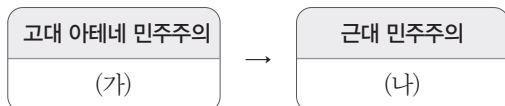
08 다음 역사적 사건이 가져온 결과로 적절한 것은?

- 영국 명예혁명
- 프랑스 혁명
- 미국 독립 혁명

- ① 보통 선거 제도가 확립되었다.
- ② 직접 민주주의가 보편화되었다.
- ③ 민주주의의 이념이 확산되었다.
- ④ 평등한 소득 분배 제도가 확립되었다.
- ⑤ 정치에 참여할 수 있는 자격 제한이 철폐되었다.

정답 ③ | 영국 명예혁명, 미국 독립 혁명, 프랑스 혁명은 모두 시민 혁명이 고, 시민 혁명의 결과 민주주의의 이념이 확산되었다.

09 (가), (나)에 들어갈 내용으로 옳은 것은?



- ① (가) - 보통 선거가 확립되었다.
- ② (가) - 차티스트 운동으로 선거권이 확대되었다.
- ③ (나) - 간접 민주주의가 보편화되었다.
- ④ (나) - 성인 남성만 정치에 참여할 수 있다.
- ⑤ (나) - 국가의 정책을 시민이 직접 결정하였다.

정답 ① | 시민 혁명 이후 등장한 근대 민주주의는 국민의 대표를 선출하여 그들이 정책을 결정하게 하는 간접 민주주의(대의제)이다.

10 다음과 같은 역사적 사건으로 인한 영향으로 가장 적절한 것은?

- 영국에서 노동자 계급이 주도하여 성인 남성에게 선거권 부여, 무기명 투표, 의원의 재산 자격 철폐 등을 요구하는 차티스트 운동이 발생하였다.
- 남성과 여성은 동등하게 태어났으므로 여성에게도 참정권이 주어져야 한다는 사회 운동이 전 세계적으로 나타났다.

- ① 간접 민주주의가 등장하였다.
- ② 직접 민주주의가 정착되었다.
- ③ 보통 선거 제도가 확립되었다.
- ④ 경제 활동의 자유가 보장되었다.
- ⑤ 대표자를 선출하는 선거 제도가 등장하였다.

정답 ③ | 시민 혁명 이후에도 여성, 농민, 노동자, 흑인 등은 선거에 참여할 수 없었고, 이에 노동자 선거권 확대 운동, 여성 참정권 운동 등이 나타나며 보통 선거 제도가 확립되었다.



11 민주주의의 이념 A, B에 대한 설명으로 옳은 것은?

민주주의의 이념 중 A는 균등한 기회 속에서 능력에 따라 동등한 대우를 받는 것을 의미하고, B는 외부의 구속과 강제를 받지 않고 자신의 자유로운 의사에 따라 결정할 수 있는 것을 의미한다.

- ① 평등 선거 보장은 A에 해당하지 않는다.
- ② B는 고대 그리스 아테네에서부터 확립되었다.
- ③ A는 B와 달리 국가 운영에 적극적으로 참여할 수 있는 권리를 보장하는 데 기여하였다.
- ④ B는 A와 달리 법 앞에서 모든 사람을 동등하게 대우해야 함을 의미한다.
- ⑤ A, B를 모두 보장하는 것은 인간의 존엄성을 실현하는 데 기여할 수 있다.

정답 ⑤ | A는 평등이고, B는 자유이다. 고대 그리스 아테네에서 모든 사람에게 자유가 주어진 것은 아니며, 법 앞에서 모든 사람을 동등하게 대우해야 함을 의미하는 것은 평등이다.

12 ㉠에 들어갈 민주주의의 기본 원리는?

(㉠)는 주권자인 국민이 스스로 국가를 다스려야 함을 의미한다. 이를 위해 우리나라에서는 국민 투표, 주민 소환 등의 제도를 실시하고 있다.

- ① 입헌주의의 원리 ② 국민 주권의 원리
- ③ 국민 복지의 원리 ④ 국민 자치의 원리
- ⑤ 권력 분립의 원리

정답 ④ | 국민 자치의 원리는 국민 투표, 주민 소환 등과 같은 제도를 통해 실현할 수 있다.

13 민주주의의 기본 원리 A와 관련된 헌법 조항을 <보기>에서 고른 것은?

A는 국가 권력을 서로 다른 독립된 기관이 나누어 맡도록 하여 견제와 균형을 이루도록 한다.

보기

- ㄱ. 입법권은 국회에 속한다.
- ㄴ. 행정권은 대통령을 수반으로 하는 정부에 속한다.
- ㄷ. 대한민국의 주권은 국민에게 있고, 모든 권력은 국민으로부터 나온다
- ㄹ. 대통령은 필요하다고 인정할 때에는 외교·국방·통일 등 기타 국가 안위에 관한 중요 정책을 국민 투 표에 붙일 수 있다.

- ① ㄱ, ㄴ ② ㄱ, ㄷ ③ ㄴ, ㄷ ④ ㄴ, ㄹ ⑤ ㄷ, ㄹ

정답 ① | A는 권력 분립의 원리이다. ㄷ은 국민 주권의 원리, ㄹ은 국민 자치의 원리를 담은 헌법 조항이다.

중요

14 민주주의 원리와 그 실현 모습을 바르게 연결한 것을 <보기>에서 고른 것은?

보기

- ㄱ. 국민 주권의 원리: 국민이 선거를 통하여 대표를 선출한다.
- ㄴ. 국민 자치의 원리: 지역문제와 관련하여 주민 투표를 실시한다.
- ㄷ. 권력 분립의 원리: 대통령이 국민 앞에 헌법을 준수할 것임을 선서한다.
- ㄹ. 입헌주의의 원리: 국가가 권력을 행사할 때는 반드시 국민의 동의와 지지를 얻어야 한다.

- ① ㄱ, ㄴ ② ㄱ, ㄷ ③ ㄴ, ㄷ ④ ㄴ, ㄹ ⑤ ㄷ, ㄹ

정답 ① | ㄷ은 입헌주의의 원리를, ㄹ은 국민 주권의 원리를 실현하는 방안이다.

15 밑줄 친 시위를 벌인 공통적인 이유로 가장 적절한 것은?

- 1960년 4월 19일 전국적으로 시민들은 부정 선거를 무효화하고 이승만의 퇴진을 요구하는 시위를 벌였다.
- 1987년 6월 전국에서 시민들은 대통령 직선제와 전두환 정부의 퇴진을 요구하는 시위를 벌였다.

- ① 보통 선거를 하기 위해서
- ② 민주주의의 이념을 지키기 위해서
- ③ 국회 의원을 직접 선출하기 위해서
- ④ 대화와 타협의 태도를 함양하기 위해서
- ⑤ 다수결의 원리에 따른 의사 결정 제도의 도입을 위해서

정답 ② | (가)는 4·19 혁명, (나)는 6월 민주 항쟁이다. 이는 모두 자유와 평등 개념을 중학 사회 ① 등, 인간의 존엄성 실현과 같은 민주주의 이념을 지키기 위한 노력이다.

관

16 교사의 질문에 옳게 답한 학생을 고른 것은?

교사: 근대 민주주의와 다른 현대 민주주의의 특징을 말해 볼까요?

갑: 대의 민주주의가 등장하였습니다.

을: 모든 국민이 국가의 중요한 일을 직접 결정합니다.

병: 성별, 신분, 재산 등에 관계없이 정치에 참여할 수 있습니다.

정: 정보 통신 기술의 발달로 국민의 정치 참여 기회가 확대되었습니다.

- ① 갑, 을 ② 갑, 병 ③ 을, 병
④ 을, 정 ⑤ 병, 정

정답 ⑥ | 대의 민주주의는 근대 민주주의와 현대 민주주의의 공통점이며, 모든 국민이 국가의 중요한 일을 직접 결정하는 것은 고대 아테네 민주주의의 특징이다.

17 다음 대화에서 '을'의 견해를 뒷받침할 수 있는 내용을 <보기>에서 고른 것은?

갑: 대의제를 채택하게 된 이유는 거대하고 복잡한 현대 사회에서 국민이 선출한 대표에 의해 국가의 의사를 결정하는 것이 효율적이기 때문이야.
을: 그렇지만 대의제에도 한계가 있어.

보기

- ㄱ. 정치적 무관심이 초래될 수 있다.
- ㄴ. 국민 주권의 원리를 실현할 수 없다.
- ㄷ. 국민의 의견이 정치에 정확히 반영되지 못할 수 있다.
- ㄹ. 인간의 존엄성과 같은 민주주의의 이념을 실현할 수 없다.

- ① ㄱ, ㄴ ② ㄱ, ㄷ ③ ㄴ, ㄷ
④ ㄴ, ㄹ ⑤ ㄷ, ㄹ

정답 ② | ㄴ. 대의제에서는 주권을 가진 국민이 대표를 선출하므로 국민 주권의 원리를 실현할 수 있다. ㄹ. 대의제는 인간의 존엄성과 같은 민주주의의 이념을 실현할 수 있다.

중요

18 다음 설명에 해당하는 정치 현상에 대한 설명으로 옳은 것은?

주권자인 시민이 정치 현상에 관심을 보이지 않는 태도를 의미한다.

- ① 민주주의의 발전에 기여한다.
- ② 대의제의 한계를 보완할 수 있다.
- ③ 신속한 정책 결정에 혼란을 초래한다.
- ④ 국민 자치의 원리를 훼손시킬 수 있다.
- ⑤ 민주주의 사회에서 시민이 가져야 할 바람직한 태도이다.

정답 ④ | 정치적 무관심이 만연하면 시민의 의사에 반하는 정책이 결정될 수 있으므로 국민 자치의 원리가 훼손될 수 있다.

19 밑줄 친 '모습'으로 적절한 것은?

정보 통신 기술과 인터넷 및 뉴 미디어의 발달에 따라 현대 민주주의는 기존과는 다른 모습이 나타나고 있다.

- ① 보통 선거 제도가 확립되었다.
- ② 직접 민주주의의 한계가 나타났다.
- ③ 시민의 정치 참여 기회가 점차 축소되었다.
- ④ 정치 참여에 대한 시공간적 제약을 극복할 수 있게 되었다.
- ⑤ 시민의 선거로 선출된 대표에 의한 대의 민주 정치가 확립되었다.

정답 ④ | 정보 통신 기술과 인터넷 및 뉴 미디어의 발달로 정치 참여에 대한 시공간적 제약을 극복할 수 있게 되면서 정치 참여가 더 용이해졌다.

20 밑줄 친 주장에 대한 비판으로 옳지 않은 것은?

시민의 참여가 민주주의의 이념 실현에 항상 기여하는 것은 아니다. 정치를 잘 알지 못하는 시민으로 인해 정치에 대한 참여가 오히려 사회 혼란을 가져다 주기도 한다. 따라서 정치에 무관심하는 것이 정치 발전에 도움이 된다.

- ① 시민의 정치 참여가 권력 남용을 견제할 수 있다.
- ② 시민이 정치에 참여하지 않으면 사회적 갈등이 확산된다.
- ③ 시민이 참여하지 않은 의사는 시민을 대표할 수 없게 된다.
- ④ 시민이 정치에 무관심하면 권력자들이 부패할 가능성이 커진다.
- ⑤ 시민이 정치에 참여하지 않으면 정치인은 시민에 대해 무책임해질 수 있다.

정답 ② | 정치를 통해 사회적 갈등을 해결할 수 있지만, 시민이 정치에 참여하지 않는다고 해서 사회적 갈등이 확산된다고 보기 어렵다.

21 ㉠에 대한 설명으로 옳은 것은?

(㉠)은/는 시민이 합리적 토론을 통해 공동체의 문제에 관해 사회적 합의를 도출하는 자리이다. (㉠)을/를 통해 공동체의 문제를 해결하는 과정은 민주주의 발전에 기여한다.

- ① 시민들의 참여가 필수적인 것은 아니다.
- ② 일반적으로 특정 집단의 이익 실현에 기여한다.
- ③ 사회적 갈등과 대립의 해결에 기여하지 못한다.
- ④ 충분한 대화와 토론의 과정이 요구되지 않는다.
- ⑤ 시민들의 의견이 정책 결정 과정에 반영될 수 있다.

정답 ⑤ | ㉠은 공론장이다. 공론장에서 시민들이 대화와 토론을 통해 형성한 공론은 정책에 반영되어 시민 참여를 실현한다.

서술형 문제

22 (가)~(다) 민주화 운동이 우리나라 민주주의 발전에 끼친 영향을 각각 서술하시오.

(가)



▲ 4·19 혁명

(나)



▲ 5·18 민주화 운동

(다)



▲ 6월 민주 항쟁

예시 답안 | (가)는 학생과 시민들이 주도해서 국민 주권의 원리를 실현하였고, (나)는 광주 시민이 군사 독재 정권에 맞서 민주주의를 지켜 낸 운동이다. (다)는 대통령 직선제를 이루어 우리 사회에 민주적인 제도가 자리 잡을 수 있게 하였다.


구분	채점 기준
상	(가)~(다) 민주화 운동이 우리나라 민주주의 발전에 끼친 영향을 모두 정확하게 서술한 경우
하	(가)~(다) 민주화 운동이 우리나라 민주주의 발전에 기여하였다는 내용만 서술한 경우

구분	채점 기준
상	대의제의 한계를 극복하기 위해 직접 민주주의 제도와 전자 민주주의 등을 통해 시민 참여를 확대해야 한다고 서술한 경우
하	대의제의 한계를 극복하기 위해 시민 참여를 유도해야 한다고만 서술한 경우

23 밑줄 친 '대의제의 한계'를 극복할 수 있는 방안을 서술하시오.

대의제에서는 선거를 통해 국민의 대표자를 선출하여 국가의 중요한 정책을 대표자들이 모여 결정함으로써 효율적인 국정 운영이 가능하다. 그런데 국민의 의사를 정확히 반영하지 못하거나, 국민이 직접 정책을 제시하거나 법률을 만들 수 없으므로 대의제의 한계가 나타난다.

예시 답안 | 국민 투표와 같은 직접 민주주의 제도를 도입하거나 인터넷을 활용한 전자 민주주의를 실현하여 시민의 정치 참여 기회를 확대해야 한다.





10


정치과정과 시민 참여

- 01 선거와 정치 참여
- 02 정치 주체와 정치 과정
- 03 지방 자치와 시민 참여

배울 내용 확인하기

 선거의 기본 원칙에는 무엇이 있을까요?

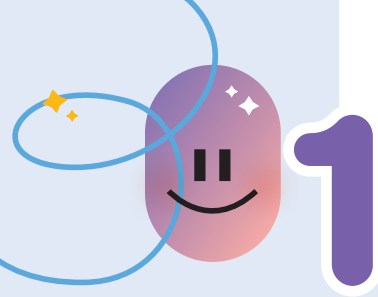
 시민단체란 무엇일까요?

 지역 사회 문제 해결을 위해 시민은 무엇을 할 수 있나요?

공익 실현을 위해 시민들이 자발적으로 만든 단체로, 정부 활동을 감시하기도 해요.

보통 선거, 평등 선거, 직접 선거, 비밀 선거가 있어요.

지방 선거에서 투표하고 공청회에 참석할 수 있어요.



선거와 정치 참여

1 선거의 기능과 기본 원칙

1. 선거의 의미와 기능 **자료 1**

의미	대의제에서 시민을 대신하여 나라의 일을 담당할 대표를 선출하는 과정 <small>어떤 대표를 선출하느냐에 따라 국가 운영 방향과 정책이 달라지므로 대의제에서 선거는 가장 중요한 요소야.</small>
기능	<ul style="list-style-type: none"> 대표 선출: 시민의 뜻에 따라 국정을 담당할 대표를 선출함. 정당성 확보: 시민의 지지와 동의를 얻어 선출된 대표는 권위를 인정받음. 정치권력 통제: 대표가 맡은 일을 제대로 수행하지 않을 경우 시민은 다음 선거에서 그 책임을 물어 다른 대표로 교체함. 주권자로서의 권리 행사: 시민이 의사를 표현하고 정책을 평가하면서 자연스럽게 정치에 참여할 기회를 제공함.

2. 선거의 기본 원칙 **자료 2**

보통 선거	일정한 연령 이상의 시민이라면 성별, 재산, 학력 등에 상관없이 누구나 선거권을 가진.
평등 선거	모든 유권자는 동등한 가치의 투표권을 행사할 수 있음.
직접 선거	유권자는 대리인을 거치지 않고 직접 투표해야 함.
비밀 선거	어느 후보나 정당에 투표하였는지 다른 사람이 알지 못하도록 함.

3. 우리나라 선거의 종류

→ 우리나라는 국외에 거주 및 체류하는 유권자가 해외에서 선거에 참여할 수 있도록 재외 선거를 도입하였다.

- 대통령 선거:** 우리나라의 국가 원수이자 행정부 수반인 대통령을 선출하는 선거로, 5년마다 실시함.
- 국회 의원 선거:** 국민의 대표 기관인 국회를 구성하는 국회 의원을 선출하는 선거로, 4년마다 실시함.
- 지방 선거 및 교육감 선거:** 지방 선거에서는 지방 자치 단체장과 지방의회 의원을, 교육감 선거에서는 시·도 교육청의 장인 교육감을 선출하며, 모두 4년마다 실시함.

2 선거 과정에서 유권자와 정당의 활동

1. 유권자의 활동 **자료 3**

- 선거에 참여하여 주권을 행사함.
- 후보자들이 내세우는 공약을 살펴보고 자신이 투표할 후보자를 선택함.
- 선거 기간에 정당과 후보자의 불법적인 선거 활동을 감시하고 통제함.
- 자신도 선거 질서를 해치는 행위를 하고 있지 않은지를 점검해야 함.

용어 풀단지

- 유권자 선거에 참여할 권리를 가진 사람으로, 우리나라에서는 18세 이상의 시민이라면 누구나 유권자가 될 수 있음.
- 공약 선거에서 후보자가 유권자에게 제시하는 공적인 약속

자료 풀단지

교과서 확인 : 미래엔

자료 1 투표용지의 의미



투표용지에 찍힌 점 복(卜)자는 유권자가 새로운 당선자를 점친다는 뜻이 담겨 있다.

교과서 확인 : 미래엔, 비상, 아침나라

자료 2 선거의 기본 원칙 위반 사례



(가)는 보통 선거의 원칙, (나)는 평등 선거의 원칙, (다)는 직접 선거의 원칙, (라)는 비밀 선거의 원칙을 위반하고 있다.

교과서 확인 : 동아, 미래엔

자료 3 유권자의 선거 운동



(5) 자신이 지지하는 후보가 있다면, 다양한 방법을 통해 선거 운동에 참여할 수도 있음.

2. 정당의 활동 자료 4

정당은 정치권력 획득을 목적으로 하기 때문에 각종 선거에 후보자를 공천하여 대표자로 당선시키고자 노력하는 거야.

- (1) 선거에 후보자를 공천하여 당선시키려고 노력함.
- (2) 자신들의 정치적 견해와 여론을 바탕으로 공약을 개발함.
- (3) 유권자들이 소속 후보자의 성향을 판단할 수 있도록 기본적인 정보를 제공함.
- (4) 선거에서의 승리를 위해 홍보물이나 캠페인 등을 통해 유권자들의 투표 참여를 독려함.
- (5) 정치에 대한 국민의 관심과 참여를 유도함으로써 정치 사회화의 기능을 함.

자료 끝단지

교과서 확인 : 동아, 미래엔, 아침나라, 천재
자료 4 정당의 활동



정당은 선거에서 승리하기 위해 시민들의 다양한 요구를 반영한 정책을 만들고 공약을 수립한다.

용어 끝단지

- ◆ **공천** 대통령 선거나 국회 의원 선거 등에서 정당이 후보자를 추천하는 일
- ◆ **여론** 사회 현상이나 정치적 문제 등에 관한 대중의 공통된 의견
- ◆ **정치 사회화** 자신이 속한 사회의 정치적 가치관, 신념, 태도를 습득하는 과정

STEP 1

개념 IN

1 빈칸에 들어갈 알맞은 말을 쓰시오.

- (1) 대의제에서 시민을 대신하여 나라의 일을 담당할 대표를 선출하는 과정을 (선거)이라고 한다.
- (2) 선거는 시민의 뜻에 따라 국정을 담당할 (대표)을/를 선출하는 기능을 한다.
- (3) 우리나라에서는 국가 원수이자 행정부 수반인 대통령을 선출하는 대통령 선거를 (5)년마다 실시한다.
- (4) (정당)은/는 정치적 견해를 같이하는 사람들이 정치권력을 얻기 위해 조직한 단체이다.

2 ㉠, ㉡ 중 알맞은 것을 고르시오.

- (1) 유권자는 선거에 참여할 권리를 가진 사람이며, 우리나라에서는 (㉠ 18세, ㉡ 19세) 이상의 시민이라면 누구나 유권자가 된다.
- (2) 유권자는 평상시에 선거와 관련한 내용의 영상을 인터넷에 올릴 수 (㉠ 있다, ㉡ 없다).
- (3) (㉠ 공약, ㉡ 공천)은 선거에서 후보자가 유권자에게 제시하는 공적인 약속으로, 후보자의 정치적 신념이나 시민의 요구를 반영한 정책을 기반으로 한다.

3 다음 내용에 해당하는 선거의 기본 원칙을 <보기>에서 골라 기호를 쓰시오.

보기

- | | |
|----------|----------|
| ㄱ. 보통 선거 | ㄴ. 평등 선거 |
| ㄷ. 직접 선거 | ㄹ. 비밀 선거 |

- (1) 투표용지를 한 장씩 가져가세요. (ㄴ)
- (2) 기표소 안에 들어가서 투표하세요. (ㄹ)
- (3) 18세 이상 시민은 투표할 수 있어요. (ㄱ)
- (4) 본인 여부를 확인하고 선거인 명부에 서명하세요. (ㄷ)

4 밑줄 친 곳을 바르게 고쳐 쓰시오.

- (1) 유권자는 정치권력 획득을 목적으로 하기 때문에 각종 선거에 후보자를 공천하여 대표자로 당선시키고자 노력한다.
- (2) 대표가 맡은 일을 제대로 수행하지 않을 경우 시민들은 다음 선거에서 그 책임을 물어 다른 대표로 교체할 수 있다. 이는 대표자를 선출하는 선거의 기능이다.
- (3) 국회 의원 선거는 국민의 대표 기관인 국회를 구성하는 국회 의원을 선출하는 선거로, 5년마다 실시한다.

01 다음에서 설명하는 선거의 기능에 해당하지 않는 것은?



선거는 대의제에서 국민이 정치에 참여하는 가장 기본적이고 중요한 방법이기 때문에 '민주주의의 꽃'이라고 불린다.

- ① 정치권력에 정당성을 부여한다.
- ② 시민들의 주권 의식을 높여 준다.
- ③ 직접 민주주의를 실현할 수 있게 한다.
- ④ 올바른 후보자가 대표로 선출되게 한다.
- ⑤ 책임 정치를 실현하도록 권력을 통제한다.

정답 ③ | 선거는 대의제에서 시민을 대신하여 나라의 일을 담당할 대표를 선출하는 과정을 의미한다.

중요

02 학급 임원 선거에서 갑과 을이 각각 위반하고 있는 선거 원칙을 <보기>에서 골라 바르게 연결한 것은?

갑: 성적순으로 1등에서 15등까지만 투표하게 함시다.
 을: 시간 절약을 위해 손을 드는 방법으로 투표합시다.

보기

- | | |
|----------|----------|
| ㄱ. 보통 선거 | ㄴ. 평등 선거 |
| ㄷ. 직접 선거 | ㄹ. 비밀 선거 |

- | | | | |
|-----|---|-----|---|
| 갑 | 을 | 갑 | 을 |
| ① ㄱ | ㄴ | ② ㄱ | ㄹ |
| ③ ㄴ | ㄷ | ④ ㄴ | ㄹ |
| ⑤ ㄷ | ㄹ | | |

정답 ② | 갑은 학급 구성원 누구에게나 선거권을 주어야 하는 보통 선거 원칙을 위반하였고, 을은 투표의 내용을 다른 사람이 알지 못하게 해야 하는 비밀 선거 원칙을 위반하였다.

03 다음 법률 조항의 취지를 민주 선거 원칙과 관련하여 옳게 설명한 것은?

공직 선거법 제166조의2(투표지 등의 촬영 행위 금지)

① 누구든지 기표소 안에서 투표지를 촬영하여서는 아니 된다.

- ① 유권자가 행사하는 표의 가치는 동등해야 한다.
- ② 일정한 연령 이상인 국민은 모두 선거권을 갖는다.
- ③ 유권자 본인이 직접 투표소에 가서 투표해야 한다.
- ④ 누구에게 투표하였는지 다른 사람이 알지 못하게 한다.
- ⑤ 후보자들의 정보가 유권자에게 공개되지 않도록 해야 한다.

정답 ④ | 제시된 법률 조항은 어느 후보나 정당에 투표하였는지 다른 사람이 알지 못하도록 해야 한다는 비밀 선거 원칙을 위해 만들어졌다.

04 다음과 같은 혜택을 제공하여 달성하고자 하는 궁극적인 목적으로 가장 적절한 것은?

제22대 국회 의원 선거 투표 인증 혜택 총정리

- 선거 관리 위원회: 선거 사진 공모전 당선 작품 총상금 1,000만 원
- □□ 사진관: 부모님, 자녀, 지인과 함께 투표 인증 사진 촬영 시 상품권 5만 원권 증정(15명 추첨)
- ○○ 공방: 투표 인증 사진 촬영 시 반지 만들기 체험료 50% 할인
- △△ 영화관: 투표 인증 사진 촬영 시 관람료 20~30% 할인

- ① 직접 선거를 실현한다.
- ② 공정한 선거가 실시되도록 한다.
- ③ 선거 방식의 다양성을 확보한다.
- ④ 선거 운동의 기회균등을 보장한다.
- ⑤ 선거를 통해 정치권력의 정당성을 확보한다.

정답 ⑤ | 선거에 참여할 경우 다양한 혜택을 주려고 하는 것은 시민들의 투표를 높여 당선된 대표자의 정당성을 확보하려는 목적이 있다.

05 다음 사례가 공통으로 위반하고 있는 선거의 기본 원칙은?

- 1949년 이전 영국에서는 재산 정도에 따라 각각의 선거구에서 중복 투표가 가능하였다.
- 벨기에에는 1893년에서 1922년까지 특별히 세금을 많이 내거나 교육을 많이 받은 사람에게 2~3표의 투표권을 행사할 수 있도록 하였다.

- ① 보통 선거 ② 간접 선거 ③ 비밀 선거
- ④ 직접 선거 ⑤ 평등 선거

정답 ⑤ | 투표권에 차등을 두는 것은 모든 유권자는 동등한 가치의 투표권을 행사할 수 있다는 평등 선거의 원칙에 어긋난다.

06 다음 사례를 통해 얻을 수 있는 교훈으로 가장 적절한 것은?

1839년 미국의 매사추세츠 주지사 선거에서 마커스 몰튼은 한 표 차이로 당선되었고, 우리나라에서도 2008년 ○○군수 선거에서 재검표 결과 한 표 차이로 당선자가 결정되었다.

- ① 부정 선거를 예방해야 한다.
- ② 후보자의 난립을 막아야 한다.
- ③ 당선자의 공약 실천을 감시해야 한다.
- ④ 지역주의 정치 문화를 탈피해야 한다.
- ⑤ 유권자의 권리를 소중하게 행사해야 한다.

정답 ⑤ | 한 표 차이로 당선 결정되는 사례를 통해 시민은 선거에 꼭 참여하여 유권자로서의 권리를 소중하게 행사해야 한다는 교훈을 얻을 수 있다.

07 (가), (나)가 공통적으로 강조하는 선거의 기능에 해당하는 것은?

(가) 국민은 자질이 부족한 대표자를 다음 선거에서 책임을 물어 교체할 수 있다.
 (나) 부정적인 요소를 많이 갖고 있는 정치권력은 계속해서 국민의 신임을 받기 어렵고 선거를 통해 정권 교체가 이루어진다.

- ① 대표자를 통제하는 기능을 수행한다.
- ② 대표자에게 공권력 행사의 정당성을 부여한다.
- ③ 국민을 하나로 통합하여 정국의 안정을 꾀한다.
- ④ 특정 지역이나 계층의 이익을 국가 정치에 반영한다.
- ⑤ 국민이 직접 민주 정치 활동을 하는 기회를 제공한다.

정답 ① | 자질이 부족한 대표자나 부정적인 요소를 많이 갖고 있는 정치권력을 선거에서 책임을 물어 교체할 수 있다는 내용으로 선거가 대표자를 통제하는 기능을 수행하고 있음을 알 수 있다.



그림에 나타난 정당의 활동에 해당하는 것은?



- ① 시민의 의견을 대변할 수 있는 후보자를 추천한다.
- ② 선거 과정을 통해 시민의 다양한 요구를 정책으로 만든다.
- ③ 유권자들의 지지를 얻기 위해 시민의 요구가 무엇 인지를 파악한다.
- ④ 유권자가 소속 후보자의 성향을 판단할 수 있도록 후보자에 관한 기본 정보를 제공한다.
- ⑤ 선거에서의 승리를 위해 홍보물이나 캠페인 등을 통해 유권자들의 투표 참여를 독려한다.

정답 ① | 정당은 정치권력 획득을 목적으로 하기 때문에 각종 선거에 후보자를 공천하여 대표자로 당선시키고자 노력한다.

09 선거 과정에서의 유권자의 활동에 해당하는 것을 <보기>에서 고른 것은?

보기

- ㄱ. 각종 선거에 후보자를 공천한다.
- ㄴ. 선거에 참여하여 주권을 행사한다.
- ㄷ. 후보자들이 내세우는 공약을 살펴본다.
- ㄹ. 시민의 다양한 요구를 정책으로 만든다.

- ① ㄱ, ㄴ ② ㄱ, ㄷ ③ ㄴ, ㄷ
- ④ ㄴ, ㄹ ⑤ ㄷ, ㄹ

정답 ③ | ㄱ. 각종 선거에 후보자를 공천하는 것은 정당의 활동이다. ㄹ. 시민의 다양한 요구를 정책으로 만드는 것은 정당의 활동이다.

10 국회 의원 선거에 출마한 후보들의 선거 공약이다. 각 후보가 당선 후에 취할 행동으로 가장 적절한 것은?

- 갑: 지역 개발에 힘쓰겠습니다.
- 을: 소외된 이들의 목소리를 들겠습니다.
- 병: 부정부패를 완전히 쓸어버리겠습니다.
- 정: 우리 지역 토박이를 국회로 보내 주십시오.
- 무: 지난 4년 동안 우리 서민은 너무 힘들었습니다.

- ① 갑 - 환경과 개발의 조화를 추구할 것이다.
- ② 을 - 소외 계층 지원 정책을 지지할 것이다.
- ③ 병 - 무거운 형벌 제도를 개선할 것이다.
- ④ 정 - 연고주의를 단호히 배격할 것이다.
- ⑤ 무 - 부자들의 세금 감면을 추진할 것이다.

정답 ② | 을은 소외된 이들의 목소리를 들겠다고 하였으므로 소외 계층 지원 정책을 지지할 것이다.

11 밑줄 친 ㉠을 극복하기 위한 자세로 옳은 것은?

각종 사회 관계망 서비스(SNS)를 활용하여 국민의 판단에 직접 호소하는 시대가 되었다. 그러나 ㉠ 정보 사회에서 왜곡된 정보 및 여론 조작으로 인한 미디어 선거의 부작용도 있다.

- ① 선거법 위반자는 법률보다 여론에 따라 처벌한다.
- ② 선거 운동 기간 중 사회 관계망 서비스를 차단한다.
- ③ 정부가 정보 검열 제도를 통해 후보자의 주장을 검증한다.
- ④ 유권자가 비판적인 사고로 후보자들이 주장하는 정보를 검증한다.
- ⑤ 사회 관계망 서비스를 통해 이루어지는 각 정당의 홍보 활동을 금지하는 법을 만든다.

정답 ④ | 정보 사회에서 왜곡된 정보도 있으므로 유권자는 비판적 관점에서 후보자들이 제공하는 정보를 검증해야 한다.

구분	채점 기준
상	선거가 권력을 통제하는 기능을 하고 있음을 정확하게 서술한 경우
하	권력 통제라는 용어를 사용하지 않고 서술한 경우

서술형 문제

12 다음 글에서 파악할 수 있는 선거의 기능을 서술하시오.

지난 국회 의원 선거 결과는 A 정당의 참패로 끝났다. 언론의 평가를 보면 이 결과는 당연한 것이었다. 경제 위기와 민생 외면 등은 분명 A 정당으로부터 민심을 돌리게 한 요인이었을 것이다.

예시 답안 | 선출된 대표자가 국민의 뜻에 어긋나는 행위를 하거나 역할을 제대로 수행하지 않을 경우, 유권자는 다음 선거에서 해당 대표자나 정당을 지지하지 않으므로써 권력을 통제하고 정치인이 책임 있는 정치를 실현할 수 있도록 한다.

2 정치 주체와 정치과정

1 다양한 정치 주체

현대 민주주의 사회에서는 다양한 정치 주체들이 정치 활동에 참여하고 있다.

1. 정치 주체

- (1) 의미: 정치 활동에 참여하여 영향력을 행사하는 개인이나 집단
- (2) 종류: 시민, 국가기관, 정당, 언론, 시민단체, 이익 집단 등

2. 정치 주체의 역할 자료 1 자료 2

가장 기본적인 정치 주체라고 할 수 있어.

시민	<ul style="list-style-type: none"> • 선거나 국민 투표를 통해 정치적 영향력을 행사하거나, 행정 기관에 청원이나 민원을 제출할 수 있음. • 정당, 시민단체, 이익 집단 등에 가입하여 활동하거나 언론을 통해 자신의 생각을 표현함.
국가 기관	<ul style="list-style-type: none"> • 헌법에 따라 공식적으로 정책을 결정하고 집행하는 정치 주체 <ul style="list-style-type: none"> - 국회: 시민의 의견을 반영하여 법률을 제정·개정 및 폐지함. - 정부: 법률을 기반으로 정책을 수립하고 집행함. - 법원: 법률이나 정책과 관련된 분쟁을 해결함으로써 정책의 결정 및 집행에 영향을 줌.
정당	<ul style="list-style-type: none"> • 정치적 의견이 같은 사람들이 정치권력을 획득하기 위해 만든 집단 • 정치권력을 얻기 위해 시민의 다양한 의견을 모아 여론을 형성하고, 이를 국회나 정부에 전달하여 정책에 반영하려고 노력함.
언론	<ul style="list-style-type: none"> • 신문, 방송, 인터넷 등의 매체를 통해 정치에 관한 전반적인 정보를 제공함. • 정책에 대한 해설이나 비판을 제시함으로써 여론을 형성하는 데 중요한 역할을 함.
시민 단체	<ul style="list-style-type: none"> • 공익을 실현하기 위해 시민들이 자발적으로 만든 단체 • 시민의 정치 참여를 유도하고 여론을 형성함. • 정부 활동을 감시하고 문제 해결을 위한 대안을 제시함.
이익 집단	<ul style="list-style-type: none"> • 이해관계를 같이하는 사람들이 자신들의 특수한 이익을 실현하고자 결성한 단체 • 전문성을 바탕으로 정책 결정에 도움을 줌. • 특정 집단의 이익을 추구하는 과정에서 공익과 충돌하기도 함.

지나치게 자기 집단의 이익을 추구하면 사회 혼란을 가져올 수도 있어.

2 민주 사회의 정치과정

현대 민주주의 사회에서는 정치 과정을 통해 다양한 가치와 이익을 조정하고 있다.

1. 정치과정의 의미 자료 3

- (1) 오늘날 사회가 다원화되면서 사람들의 가치관과 요구가 다양해지고 있으며, 이 과정에서 구성원 간의 의견이 부딪쳐 충돌하기도 함.
- (2) 구성원들의 의견을 조정하고 갈등을 해결하기 위해 시민들이 표출한 다양한 요구와 이익을 집약하여 정책을 만들고 집행함.

용어 끝단지

- ◆ 청원 국민이 정부나 시청, 구청 등의 행정 기관에 어떤 행정 처리를 요구하는 일
- ◆ 이해관계 서로의 이익이나 손해에 영향을 미치는 관계
- ◆ 다원화 다양한 근원을 뜻하는 말로, 사회적인 의미로는 사회에 영향을 미치는 제도적·의식적 근원이 다양해짐을 뜻함.

자료 끝단지

교과서 확인: 동아 천재

자료 1 국가기관의 역할

(가)

국회 본회의에서 고등학교 무상 교육의 근거를 명시한 「초·중등 교육법」 개정안이 표결에 참석한 의원 218명 중 144명의 찬성으로 통과되었다.

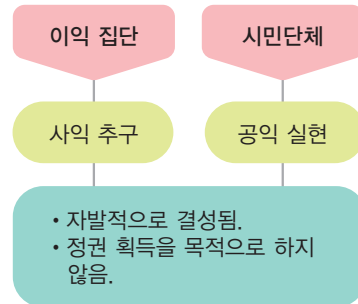
(나)

교육부는 가계의 교육비 부담을 덜 수 있도록 고등학교 무상 교육을 단계적으로 확대하여 2021년부터 전면 실시한다고 밝혔다.

정치 주체 중 국가기관은 공식적으로 정책을 결정하고 집행한다. (가)에서 국회는 법률을 통과시켜 정책을 집행하도록 정부에 요구하고, (나)에서 정부는 법에 따라 정책을 집행한다.

교과서 확인: 미래엔

자료 2 이익 집단과 시민단체



시민단체와 이익 집단은 모두 정치에 참여하는 정치 주체이나 시민단체는 공익 실현을, 이익 집단은 자기 집단의 특수한 사익 실현을 목적으로 한다는 점에서 차이가 있다.

교과서 확인: 아침나라

자료 3 정치과정과 정치 주체

정치과정	정치 주체
이익 표출	개인, 집단
이익 집약	정당, 이익 집단, 시민단체, 언론
정책 결정	국회, 정부
정책 집행	정부
정책 평가	시민

현대 민주주의 사회에서는 정치과정을 통해 다양한 가치와 이익을 조정한다. 정치과정이란 다양하게 표출된 이익을 집약하여 정책으로 결정하고 이를 집행하는 과정을 말한다.

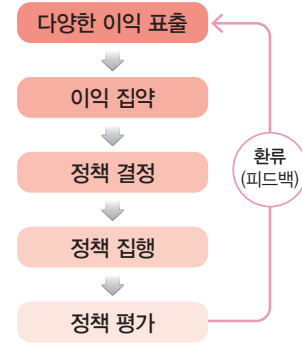
(3) 시민은 정치과정을 통해 의견을 정치에 반영하고, 정치과정이 타당하지 않다면 정치권력을 견제 및 감시하여 민주주의를 발전시킴.

2. 정치과정의 단계 자료 4

- (1) **이익 표출**: 개인이나 집단이 다양한 의견과 요구를 자유롭게 표현함.
- (2) **이익 집약**: 표출된 이익을 정당, 이익 집단, 시민단체, 언론 등이 요약하고 대안을 제시함.
- (3) **정책 결정**: 국회와 정부가 여론을 바탕으로 정책을 결정함.
- (4) **정책 집행**: 정부는 결정된 정책을 실제로 집행함.
- (5) **정책 평가**: 정책이 집행된 후에는 시민이 정책을 평가하며, 그 결과는 다시 정치과정에 반영됨. → 이미 시행되고 있는 정책이라도 시민의 평가를 받아 수정되거나 보완되는 판류가 이루어지는 경우가 많아.

자료 끝단지

교과서 확인 : 동아, 미래엔, 비상, 아침나라, 천재
자료 4 정치과정의 단계



정치과정을 통해 시민은 자신의 의견을 정책에 반영하고, 정책 결정 및 집행 과정이 타당하지 않다면 정치권력을 견제하고 감시하면서 민주주의를 발전시켜 나간다.

용어 끝단지

- ◆ **표출** 걸로 드러나는 것
- ◆ **집약** 한데 모아서 요약하는 것
- ◆ **정책** 공익을 이룰 목적으로 정부나 공공 기관에서 수행하는 활동 방향 또는 계획

STEP 1

개념 IN

1 빈칸에 들어갈 알맞은 말을 쓰시오.

- (1) (언론)은/는 사회문제와 쟁점에 대한 정보를 전달하며 정책에 대한 비판과 해설을 제공하여 여론 형성을 주도한다.
- (2) (정치과정)(이)란 시민들이 표출한 다양한 요구와 이익을 집약하여 정책으로 만들고 집행하는 과정이다.
- (3) 민주주의의 국가에서는 개인이나 집단이 자신들의 요구와 이익을 자유롭게 (표출)한다.

2 ㉠, ㉡ 중 알맞은 것을 고르시오.

- (1) (정당, 언론)은 선거를 통해 대표자를 배출하여 정치적 이념을 실현하고자 한다.
- (2) (시민단체, 이익 집단)은/는 이해관계를 같이 하는 사람들이 자신의 특수한 이익을 실현하기 위해 만든 단체이다.
- (3) 정치과정에서 개인이나 집단이 다양한 의견과 요구를 자유롭게 표현하는 것을 (이익 표출, 이익 집약)이라고 한다.

3 다음 내용에 해당하는 정치과정의 단계를 <보기>에서 골라 기호를 쓰시오.

보기

- | | |
|----------|----------|
| ㄱ. 이익 집약 | ㄴ. 정책 결정 |
| ㄷ. 정책 집행 | ㄹ. 정책 평가 |

- (1) 결정된 정책을 정부가 집행함. ()
- (2) 시민의 평가로 정책이 수정됨. ()
- (3) 국회와 정부가 여론을 바탕으로 결정함. ()
- (4) 표출된 이익을 요약하고 대안을 제시함. ()

4 밑줄 친 곳을 바르게 고쳐 쓰시오.

- (1) 법원은 국민의 의견을 모아 법률을 만들고 고치거나 폐지함으로써 정치과정에 참여한다.
- (2) 시민단체는 집단의 전문 지식으로 사회문제를 해결하는데 도움이 되기도 하지만, 지나치게 자기 집단의 이익을 추구하면 사회 혼란을 가져올 수도 있다.
- (3) 정책이 집행된 후에는 국가기관이 정책을 평가하고, 그 결과는 다시 정치과정에 반영된다.

01 밑줄 친 '이것'에 대한 설명으로 옳지 않은 것은?

이것은 대개 직업인들의 모임, 지역 주민들의 모임, 또는 특정 동호회 회원들의 모임 등으로 나타난다. 정부의 정책에 압력을 행사하나 정치적 책임을 지지 않으며, 주로 몇 개의 쟁점이나 특수한 영역의 문제에만 관심을 가진다.

- ① 자신들에게 유리한 여론을 형성하려고 한다.
- ② 특수 이익과 공익 간의 충돌을 초래하기도 한다.
- ③ 집회·결사의 자유는 이들 집단의 활성화에 기여한다.
- ④ 입법부와 행정부를 연결해 주는 매개적 역할을 수행한다.
- ⑤ 특정한 이해관계를 같이하는 사람들이 모여 정부 정책에 압력을 행사한다.

정답 ④ | 제시문의 밑줄 친 '이것'은 이익 집단이다. 입법부와 행정부를 연결해 주는 매개적 역할을 수행하는 정치 주체는 정당이다.

중요

02 시민단체에 대한 설명으로 옳은 것을 <보기>에서 고른 것은?

보기

- ㄱ. 선거에 참여하여 대표자를 선출한다.
- ㄴ. 시민의 자발적인 정치 참여를 유도한다.
- ㄷ. 사회문제를 해결하기 위한 대안을 제시한다.
- ㄹ. 사회 현안을 공정하고 객관적으로 보도한다.

- ① ㄱ, ㄴ ② ㄱ, ㄷ ③ ㄴ, ㄷ
- ④ ㄴ, ㄹ ⑤ ㄷ, ㄹ

정답 ③ | ㄱ. 선거에 참여하여 대표자를 선출하는 정치 주체는 시민이다. ㄹ. 사회 현안을 공정하고 객관적으로 보도하는 정치 주체는 언론이다.

정답 ③ | 언론인이 객관성과 공정성이 결여된 주관적 보도를 하면 여론 자체가 비판과 질책을 가할 수 있다는 주장에서 언론은 공정하고 객관적인 보도를 해야 함을 알 수 있다.

03 글쓴이의 주장에 부합하는 것은?

기자의 판단이 언론의 판단이 되고, 언론의 판단이 전체 여론을 반영하는 것으로 받아들여지는 현실은 우려할 일이다. 언론인이 비록 자기의 주관에 가지고 있다 하더라도 객관성과 공정성이 결여된 주관적 보도를 할 경우에는 여론 자체가 이에 대해 비판과 질책을 가할 수 있다.

- ① 언론은 사실 그대로만 보도해야 한다.
- ② 언론은 개인의 사생활을 침해해서는 안 된다.
- ③ 언론은 공정하고 객관적인 보도를 해야 한다.
- ④ 언론은 여론 변화를 주도적으로 이끌어야 한다.
- ⑤ 언론은 권력에 대해 비판적인 태도를 가져야 한다.

04 밑줄 친 정치 주체 'A'에 대한 설명으로 옳은 것은?



정책 개발을 위해 학생의 대학 수학 능력 시험 성적을 시군구 단위까지 100% 공개한다는 교육부의 방침에 대해 시민들이 자발적으로 만든 단체인 A는 “학교 줄 세우기로 입시 경쟁 교육을 부추기지 말라.”라며 수능 점수와 교육 자료 공개 방침 철회를 요구하였다.

- ① 정권 창출과 유지를 목표로 삼는다.
- ② 개별 집단의 이익을 실현하고자 한다.
- ③ 법률을 기반으로 정책을 수립하고 집행한다.
- ④ 공공 문제를 해결하기 위한 대안을 제시한다.
- ⑤ 정책에 관한 해설 등을 통해 여론을 형성한다.

정답 ④ | 정치 주체 A는 시민단체이다. 시민단체는 시민의 자발적인 정치 참여를 유도하고, 여론을 형성하여 사회문제를 해결하기 위한 대안을 제시한다.

고난도

05 정치 주체 A~C에 대한 설명으로 옳은 것은? (단, A~C는 각각 정당, 이익 집단, 시민단체 중 하나임.)

- ‘특수 이익보다 공익의 실현을 중시하는가?’라는 질문으로 A와 B를 구분할 수 없다.
- ‘공직 선거에 후보자를 공천하는가?’라는 질문으로 A와 C를 구분할 수 있다.

- ① A는 정권 획득을 목적으로 한다.
- ② C는 사회문제와 쟁점에 대한 정보를 전달한다.
- ③ A와 달리 B는 개별적인 특수 이익을 추구한다.
- ④ A와 B는 모두 자신의 활동에 대해 정치적 책임을 진다.
- ⑤ C와 달리 B는 정치권력을 감시하고 견제하는 기능을 한다.

정답 ① | A는 정당, B는 시민단체, C는 이익 집단이다. 정당은 정치적 의견이 같은 사람들이 정치권력을 획득하기 위해 만든 집단이다.

06 동일한 사건을 보도하는 두 신문의 기사를 통해 추론할 수 있는 내용을 <보기>에서 고른 것은?

○○ 신문 A 회사 노조 파업, 경제 회복에 찬물 끼얹어	△△ 신문 A 회사 노조 파업, 생존을 위한 최후의 몸부림
------------------------------------	-------------------------------------

보기

- ㄱ. 언론은 국민의 일반적 의견을 반영한다.
- ㄴ. 상업적 보도 태도는 사회에 해가 될 수 있다.
- ㄷ. 언론이 완전히 객관적인 시각을 가지는 것은 아니다.
- ㄹ. 대중 매체의 내용을 비판적인 태도로 수용해야 한다.

- ① ㄱ, ㄴ ② ㄱ, ㄷ ③ ㄴ, ㄷ
④ ㄴ, ㄹ ⑤ ㄷ, ㄹ

정답 ⑤ | ㄱ. 언론사마다 특정 입장에서 각기 다른 의견을 제시한다. ㄴ. 제 시된 기사 내용에서 상업적 보도 태도를 찾기 어렵다.

중요

07 그림은 정치과정의 단계이다. ㉠~㉤에 대한 설명으로 옳은 것은?



- ① 개인이 아닌 집단만이 ㉠을 할 수 있다.
- ② 언론은 정당과 달리 ㉡의 역할을 수행한다.
- ③ 시민단체와 이익 집단은 ㉢의 주체이다.
- ④ 시민의 온라인 서명 활동은 ㉣에 해당한다.
- ⑤ 이해 당사자의 수정 요구를 통해 ㉤이 이루어질 수 있다.

정답 ⑤ | 정책이 집행되고 있더라도 문제가 있다면 이해 당사자의 수정 요구를 통해 정책 평가가 이루어질 수 있다.

08 정치과정 중 이익 집약 단계에 대한 설명으로 옳은 것을 <보기>에서 고른 것은?

보기

- ㄱ. 정부나 국회가 주체가 된다.
- ㄴ. 표출된 이익을 모아 대안을 제시한다.
- ㄷ. 정당이나 언론 등이 여론을 형성한다.
- ㄹ. 새로운 문제를 제기하여 정책을 수정한다.

- ① ㄱ, ㄴ ② ㄱ, ㄷ ③ ㄴ, ㄷ
④ ㄴ, ㄹ ⑤ ㄷ, ㄹ

정답 ③ | 정치과정 중 이익 집약 단계는 표출된 이익을 모아 요약하고 대안을 제시하는 단계로, 정당이나 언론 등이 여론을 형성하는 방식으로 이루어진다.

09 밑줄 친 ㉠~㉤의 사례로 적절하지 않은 것은?

㉠ 다양한 요구와 이익을 표출하면, 이는 ㉡ 몇 개의 안(案)으로 집약되어 여론으로 형성된다. 이를 바탕으로 ㉢ 정책 결정이 이루어지고, 결정된 ㉣ 정책이 집행된다. 집행된 정책은 ㉤ 국민의 평가를 받아 수정되거나 새로운 정책으로 변화할 수 있다.

- ① ㉠ - 학교 앞 교통사고가 많으며 학부모 단체가 민원을 제기하였다.
- ② ㉡ - 주요 언론에서 이 문제를 다루기 시작하면서 대책을 촉구하는 여론이 높아졌다.
- ③ ㉢ - △△당에서 학교 앞 차량 속도를 줄이는 규정을 만들라고 정부에 촉구하였다.
- ④ ㉣ - 학교 앞 차량 속도를 줄이는 규정이 만들어졌고 경찰이 단속에 나섰다.
- ⑤ ㉤ - 시민들이 공휴일에는 차량 서행 의무를 해제할 것을 요구하여 정책을 수정하였다.

정답 ③ | 특정 정당에서 학교 앞 차량 속도를 줄이는 규정을 만들라고 정부에 촉구한 것은 이익 표출이나 이익 집약 단계이다.

10 (가), (나)에 해당하는 정치과정의 단계로 옳은 것은?

(가) 시민단체는 자원 낭비를 최소화하기 위해 소비기한 표시제 도입을 요구하였다.
(나) 국회는 소비 기한 표시제 도입을 반영한 식품 등의 표시 광고에 관한 법률 개정안을 의결하였다.

- | | | | |
|---------|-------|---------|-------|
| (가) | (나) | (가) | (나) |
| ① 이익 표출 | 이익 집약 | ② 이익 표출 | 정책 결정 |
| ③ 이익 집약 | 정책 집행 | ④ 이익 집약 | 정책 평가 |
| ⑤ 정책 평가 | 정책 집행 | | |

정답 ② | 이익 표출은 개인이나 집단이 다양한 의견과 요구를 표현하는 단계이고, 정책 결정은 국회와 정부가 여론을 바탕으로 정책을 결정하는 단계이다.

구분	채점 기준
상	노동조합이 이익 집단임을 제시하고, 이익 집단의 역할을 정확하게 서술한 경우
하	노동조합이 이익 집단임을 제시하였지만, 이익 집단의 역할에 대한 서술이 미흡한 경우

서술형 문제

11 밑줄 친 '△△ 노동조합'이 속하는 정치 주체를 쓰고, 정치과정에서 이 주체가 어떤 역할을 하는지 서술하십시오.

저희 △△ 노동조합은 위험한 환경에서 일하다 다치는 노동자의 상황을 알리고 대책을 요구합니다.

예시 답안 | 노동조합은 정치 주체 중 이익 집단에 해당한다. 이익 집단은 집단 구성원의 요구를 모아서 정책 결정자에게 제시하거나 압력을 행사하여 자신들의 이익을 실현하고자 한다.

3 지방 자치와 시민 참여

1 민주주의와 지방 자치

지방 자치는 지역 주민의 자발적인 참여를 바탕으로 민주주의의 기초를 만들어 간다는 의미에서 풀뿌리 민주주의라고도 불려.

1. 지방 자치의 의미와 중요성

(1) **지방 자치의 의미:** 일정한 지역에 살고 있는 주민들이 지방 자치 단체를 구성하여 그 지역의 일을 자율적으로 처리하는 제도

(2) **지방 자치의 중요성** 지역마다 처한 상황이나 해결해야 할 문제가 다르므로 지역의 일을 지역 주민이 스스로 처리하는 것이 바람직하며, 지방 자치를 통해 이를 실현할 수 있다.

- ① 국가 권력이 중앙 정부에 집중되는 것을 막아 중앙 정부와 지방 정부 간에 권력을 분립하는 데 이바지함.
- ② 지역 주민이 스스로 지역의 문제를 해결하는 과정에서 민주주의를 직접 체험하고 배울 수 있는 기회를 제공함.
- ③ 해당 지역뿐만 아니라 국가 전체의 민주주의가 발전하는 데 기여함.

2. 우리나라의 지방 자치

우리나라는 제헌 헌법에서부터 지방 자치를 규정하고 있으나, 전쟁과 독재로 시행되지 못하다가 1995년 제1회 전국 동시 지방 선거부터 본격적으로 시행하였다.

지방 의회 (의결 기관)	<ul style="list-style-type: none"> • 지역 정책을 결정하며, 법률과 명령의 범위 안에서 조례를 제정·개정 및 폐지함. • 지방 자치 단체가 사용할 예산안을 심의하고 확정함. • 집행 기관을 견제하고 감시함.
지방 자치 단체장 (집행 기관)	<ul style="list-style-type: none"> • 지방 의회의 의결 사항을 실행하며, 법령과 조례의 범위 안에서 규칙을 제정함. • 그 지역의 재산을 관리하고 예산을 집행함. • 지역 내의 이해관계를 조정하고 지역 행정 업무를 처리함.

2 지역 사회의 문제 해결을 위한 시민 참여

1. 지방 자치와 주민 참여

지방 자치 제도의 발전은 시민의 적극적인 관심과 참여에 달려 있으므로 시민은 지역의 문제 해결과 지역 발전에 관심을 갖고 자발적으로 참여해야 한다.

- (1) 지방 자치 제도가 잘 운영되려면 지역의 일이 지역의 주인인 주민들의 적극적인 참여에 의해 이루어지는 것이 바람직함.
- (2) 지방 의회와 지방 자치 단체장은 주민의 요구와 필요를 반영한 정책을 만들고 추진함.

2. 주민 참여 방법

시민은 지방 선거에 참여하여 지역의 일을 담당할 주민의 대표를 선출해.

- (1) **지방 선거 참여:** 지역 주민으로서 시민이 지역 사회의 문제를 해결하는 가장 기본적인 방법임. **자료 2**
- (2) **공청회 참석:** 주민은 공청회에 참석하여 지역문제에 관해 의견을 나누고 해결 방안을 모색할 수 있음. **자료 3**

용어 풀단지

- ◆ **중앙 정부** 지방 자치 제도가 있는 국가에서 주로 지방 정부와 비교하여 사용하는 말로, 국방과 외교를 비롯하여 국가 전체의 일을 처리하는 행정부를 말함.
- ◆ **조례** 법령의 범위 내에서 지방 의회의 의결로 제정되어 해당 지역의 일에 적용되는 법
- ◆ **규칙** 법령과 조례의 범위 내에서 조례를 시행하기 위한 구체적인 사무에 관하여 제정한 법

자료 풀단지

교과서 확인 : 동아, 미래엔, 비상, 아침나라, 천재
자료 1 지방 자치 단체의 구성



우리나라의 지방 자치 단체는 광역 자치 단체와 기초 자치 단체로 나뉘며, 각 지방 자치 단체에는 의결 기관과 집행 기관이 있다.

교과서 확인 : 아침나라

자료 2 지방 선거



지방 자치 단체는 4년마다 실시하는 별도의 지방 선거를 통해 구성된다. 유권자는 기초 자치 단체장, 광역 자치 단체장, 기초 의회 지역구 의원, 광역 의회 지역구 의원, 기초 의회 비례 대표 의원, 광역 의회 비례 대표 의원, 교육감 등 모두 7명을 선출한다.

교과서 확인 : 아침나라

자료 3 주민 공청회



공청회는 중요 정책의 결정을 위해 주민과 전문가를 모아 놓고 공식 석상에서 의견을 듣는 제도이다. 주민 공청회를 통해 지역문제를 해결하는 과정에 해당 지역 주민의 의사가 반영된다.

01 교사의 질문에 옳지 않은 답변을 한 학생은?

교사: 지방 자치의 중요성에 대해 발표해 볼까요?
 갑: 주민의 참여가 확대되어 지방 자치 능력을 기를 수 있습니다.
 을: 지역의 일을 효율적으로 처리하여 지역 주민의 편의를 높일 수 있습니다.
 병: 국가의 힘이 중앙 정부에 집중되는 것을 막아서 권력 분립의 원리를 실현할 수 있습니다.
 정: 국가 전체의 통일성과 효율성이 높아져 민주주의 발전의 기초를 마련할 수 있습니다.
 무: 지역 주민이 스스로 지역의 문제를 해결하는 과정에서 민주주의를 직접 체험할 수 있습니다.

- ① 갑 ② 을 ③ 병 ④ 정 ⑤ 무

정답 ④ | 국가 전체의 통일성과 효율성이 높아지는 것은 중앙 정부에 권력이 집중될 경우에 나타나는 현상이다.

중요

02 다음 글에서 설명한 지방 자치의 의의로 옳지 않은 것은?

지방 자치는 주민 스스로 주민 가까이 있는 구체적이고 일상적인 문제를 직접 해결하거나, 지역문제에 관한 정책을 결정하고 집행하는 것을 말한다. 이 과정에서 주민의 정치에 대한 참여 의식이 높아지고, 나아가 정치적 체험을 바탕으로 민주 정치가 발전할 수 있는 토대가 마련된다.

- ① 국가 권력이 효율적으로 집중된다.
 ② 지역 특성에 맞는 정책이 추진된다.
 ③ 지역 주민의 정치 참여가 증가한다.
 ④ 간접 민주 정치의 한계를 극복할 수 있다.
 ⑤ 다양한 지역 문화를 계승·발전시킬 수 있다.

정답 ① | 지방 자치는 국가 권력이 중앙 정부에 집중되는 것을 막아 권력 분립의 원리를 실현한다.

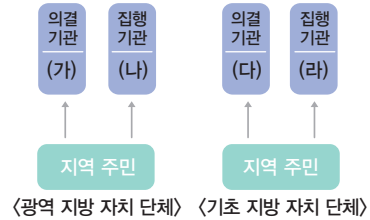
03 다음 내용이 설명하는 제도가 가져올 효과로 보기 어려운 것은?

일정한 지역의 주민이 스스로 선출한 기관을 통하여 그 지역의 사무를 자율적으로 처리한다.

- ① 국가 행정의 독주와 남용을 억제할 수 있다.
 ② 국가 전체에 통일적인 정책이 실시될 수 있다.
 ③ 지역 특성에 맞는 발전 계획을 수립할 수 있다.
 ④ 지역 행정에 대한 주민의 참여가 활성화될 수 있다.
 ⑤ 지역 특수성에 기반한 독특한 지방 문화를 꽃피울 수 있다.

정답 ② | 국가 전체에 통일적인 정책 실시는 지방 자치보다는 중앙 정부의 개념풀 중학 사회 ① 권력 집중이 강화될 때에 나타난다.

04 다음은 우리나라의 지방 자치 조직을 모형화한 것이다. (가)~(라)에 대한 설명으로 옳은 것을 <보기>에서 고른 것은?



보기

- ㄱ. (가)와 (나)는 시, 구, 군 단위로 조직된다.
 ㄴ. (가)와 (다)는 조례를 제정할 수 있다.
 ㄷ. (나)와 (라)는 규칙을 제정할 수 있다.
 ㄹ. (나)와 (라)는 중앙 정부에서 임명한다.

- ① ㄱ, ㄴ ② ㄱ, ㄷ ③ ㄴ, ㄷ
 ④ ㄴ, ㄹ ⑤ ㄷ, ㄹ

정답 ③ | ㄱ. (가)와 (나)는 광역 자치 단체이므로 특별시, 광역시, 특별자치시, 도, 특별자치도로 구성된다. 시, 구, 군 단위로 조직되는 것은 기초 자치 단체이다. ㄹ. (나) 광역 자치 단체장과 (라) 기초 자치 단체장은 모두 주민의 선거에 의해 선출된다.

05 밑줄 친 ㉠~㉣에 대한 설명으로 옳지 않은 것은?

㉠ □□도 ㉡ ○○시 의회는 22일 제6차 본회의를 끝으로 15일간 진행된 제278회 ㉢ ○○시 의회 임시회를 폐회했다. 이날 본회의에서는 의원 갑이 대표 발의한 조례안 3건 및 ㉣ ○○시장이 제출한 2024년도 제2회 추가 경정 예산안 등 모두 11건의 안건을 의결했다. ㉤ 의원 을은 5분 자유 발언을 통해 “폐교는 지역의 중요한 자산이므로 주민과 지역 사회가 공존·상생하는 공간으로 활용하기 위한 전략과 로드맵을 마련해 줄 것”을 주문했다.

- ① ㉠은 광역 자치 단체이다.
 ② ㉡은 기초 자치 단체이다.
 ③ ㉢은 ㉠의 의결 기관이다.
 ④ ㉣은 ㉡의 사무를 집행한다.
 ⑤ ㉤은 주민의 선거로 선출된다.

정답 ③ | ○○시 의회는 ○○시의 의결 기관이다. □□도는 광역 자치 단체이고, ○○시는 기초 자치 단체이다. 지방 의회 의원과 지방 자치 단체장은 모두 주민의 선거로 선출된다.

06 밑줄 친 '이것'에 대한 설명으로 옳은 것은?

이것은 지방 자치 단체장이나 지방 의회 의원이 임기 중 위법·부당 행위와 직무 유기, 직권 남용 등을 저지를 경우 정해진 절차에 따라 주민들이 주민 투표를 거쳐 해임할 수 있는 제도이다.

- ① 지역구 국회 의원에게도 적용할 수 있다.
- ② 직접 민주 정치의 한계를 보완할 수 있다.
- ③ 지방 행정의 전문성을 향상시키기 위한 것이다.
- ④ 선거 부정을 원천적으로 봉쇄하기 위한 수단이다.
- ⑤ 선출직 지방 공직자의 책무성을 강화하는 데 기여한다.

정답 ⑥ | 밑줄 친 '이것'은 주민 소환제이다. 주민 소환으로 선출직 지방 공직자가 해임될 수 있으므로 선출직 지방 공직자의 책무성을 강화하는 데 기여한다.

중요

07 밑줄 친 ㉠, ㉡에 대한 설명으로 옳은 것은?

- ○○군 주민들은 인사 비리를 저질렀다는 의혹을 받고 있는 ㉠ ○○군수를 임기 중에 주민 투표로 해임할 수 있는 절차를 밟고 있다.
- □□시 의회는 △△당 의원이 발의한 동물 장모 시설에 관한 ㉡ 조례 제정을 하였다.

- ① ㉠은 주민 소환제이다.
- ② ㉠은 선출직 공직자의 자율권을 확대한다.
- ③ ㉡은 주민 투표로 확정된다.
- ④ ㉡의 권한은 집행 기관이 독점적으로 가진다.
- ⑤ ㉠, ㉡은 모두 중앙 정부의 감독을 받는다.

정답 ① | 주민 소환제는 지방 의회 의원(비례 대표 제외)이나 지방 자치 단체장 및 교육감이 직무를 잘 수행하지 못할 때 주민들의 투표를 통해 해임시킬 수 있도록 하는 제도이다.

08 우리나라 지방 자치 제도의 주민 참여 방법을 <보기>에서 고른 것은?

보기

- ㄱ. 지방 자치 단체장 선거에 참여할 수 있다.
- ㄴ. 일정 수 이상의 주민들이 조례를 직접 제정할 수 있다.
- ㄷ. 주민 참여 예산제를 통해 예산안을 직접 의결할 수 있다.
- ㄹ. 주민 투표를 통해 주민에게 중대한 영향을 미치는 주요 사항을 결정할 수 있다.

- ① ㄱ, ㄴ ② ㄱ, ㄹ ③ ㄴ, ㄷ
- ④ ㄴ, ㄹ ⑤ ㄷ, ㄹ

정답 ② | ㄴ. 주민은 조례를 직접 제정할 수 없고, 제정·개정·폐지를 청구할 수 있다. ㄷ. 주민은 예산안 편성 과정에 참여할 수는 있지만 예산안을 직접 의결할 수 없다.

09 밑줄 친 ㉠에 대한 설명으로 옳지 않은 것은?

○○군은 내년도 예산 편성을 위한 ㉠ 주민 참여 예산 제안 사업 공모를 실시한다고 밝혔다.

- ① 주민의 주인의식이 강화된다.
- ② 정책 결정의 책임성을 높일 수 있다.
- ③ 대표자에 대한 주민의 통제가 가능해진다.
- ④ 예산 편성에서 대표자의 재량권이 강화된다.
- ⑤ 주민의 의사에 어긋나는 정책 결정을 줄일 수 있다.

정답 ④ | 예산 편성 과정에 주민이 참여하면 대표자가 마음대로 예산 배정을 하기가 어려워지므로 예산 편성에서 대표자의 재량권이 약화된다.

고난도

10 다음 글에 대한 설명으로 옳은 것은?

우리나라의 지방 자치 단체를 구성하는 A는 ㉠ 지역구 의원과 ㉡ 비례 대표 의원으로 구성되며, B는 지방 자치 단체의 대표이다. 한편 우리나라에서는 자치의 원리에 충실하기 위해 ㉢ 주민 투표, ㉣ 주민 발안 등의 주민 참여 제도를 실시하고 있다.

- ① A는 집행 기관이다.
- ② B는 규칙 제정권을 갖는다.
- ③ ㉠과 달리 ㉡은 소속 정당이 선출한다.
- ④ ㉢은 그 지역의 모든 의사 결정에 적용된다.
- ⑤ ㉣에 따라 주민은 조례를 직접 제정한다.

정답 ② | A는 지방 의회이고, B는 지방 자치 단체장이다. 지방 자치 단체장은 규칙 제정권을 갖는다.

구분	채점 기준
상	지역 특성에 맞는 정책 결정이 가능하다는 내용을 정확하게 서술한 경우
하	지역 특성을 잘 파악할 수 있다고만 서술한 경우

서술형 문제

11 두 사례에서 공통적으로 파악할 수 있는 지방 자치의 중요성을 서술하시오.

- △△시는 지역 경제가 침체되는 문제를 극복하고자 지역 화폐를 도입하였다.
- □□군은 장애인과 노인이 많은 지역 특성을 반영해 교통 약자들이 편리하게 이동할 수 있도록 장애인 복지관 앞 육교에 승강기를 설치하였다.

예시 답안 | 제시된 사례는 공통적으로 지역의 특성에 맞는 정책이 실행된 경우이다. 지방 자치 단체는 중앙 정부보다 지역의 상황을 잘 알고 있어 지역 특성에 적합한 정책 결정이 가능하다.

01 선거의 기능에 해당하지 않는 것은?

- ① 대표자를 선출한다.
- ② 시민들의 주권 의식을 높인다.
- ③ 대표자에게 정당성을 부여한다.
- ④ 공직자들의 도덕심을 함양한다.
- ⑤ 정치권력을 심판하고 통제할 수 있다.

정답 ④ | 선거가 공직자들의 도덕심을 함양한다고 보기는 어렵다.

02 다음 두 사례에서 공통적으로 위반하고 있는 민주 선거의 원칙은?

- 1948년 이전까지의 독일은 유대인에게 선거권을 주지 않기 위해 투표 참여자를 크리스트교도로 제한하였다.
- 미국은 건국 초기에 흑인을 선거에서 배제하기 위해 문자와 헌법 해독 능력, 영어 독서 및 작문 능력이 있는 사람만 투표할 수 있도록 제한하였다.

- ① 보통 선거 ② 평등 선거 ③ 직접 선거
- ④ 비밀 선거 ⑤ 공개 선거

정답 ① | 보통 선거의 원칙은 일정한 연령 이상의 시민이라면 성별, 재산, 학력 등에 상관없이 누구나 선거권을 가지는 것을 말한다.

중요

03 다음은 학급 임원 선출에 대한 학생들의 의견이다. 이에 대한 옳은 설명을 <보기>에서 고른 것은?

- 갑: 세 번 이상 지각한 사람에게는 투표권을 주지 않아야 합니다.
- 을: 성적이 우수한 사람은 두 표를 행사할 수 있도록 해야 합니다.
- 병: 선거 날 아파서 결석하는 사람은 친구가 대신 투표할 수 있도록 해야 합니다.
- 정: 차례대로 앞으로 나가 자신이 지지하는 후보자 이름 옆에 붙임 딱지를 붙이는 투표 방식이 좋겠습니다.

보기

- ㄱ. 갑은 평등 선거 원칙의 중요성을 모르고 있다.
- ㄴ. 을은 표의 가치가 동등해야 함을 인식하지 못하고 있다.
- ㄷ. 병은 학급 구성원 모두가 투표권을 행사해야 한다는 원칙을 강조한다.
- ㄹ. 정은 자신의 투표 내용을 다른 사람이 알지 못하도록 해야 한다는 원칙을 무시하고 있다.

- ① ㄱ, ㄴ ② ㄱ, ㄷ ③ ㄴ, ㄷ
- ④ ㄴ, ㄹ ⑤ ㄷ, ㄹ

정답 ④ | 을은 평등 선거의 원칙을 위반하였고, 정은 비밀 선거의 원칙을 위반하였다.

04 다음 글에서 설명하는 선거의 기능으로 가장 적절한 것은?

최근 실시한 갑국의 총선에서 집권 여당인 ○○당이 참패하였다. 그 원인으로서는 두 달 전에 갑국에서 발생한 홍수에 대한 정부의 미숙한 대응이 거론되고 있다. 특히 홍수 발생을 충분히 예측할 수 있었음에도 불구하고, 정부와 집권당의 안일한 대처로 인해 피해 규모가 커졌다는 사실이 국민들의 분노를 불러일으켰다는 분석이다.

- ① 정치권력을 심판하고 통제한다.
- ② 대의 민주제의 한계를 보완한다.
- ③ 사회를 통합하는 기능을 수행한다.
- ④ 사회 구성원 간의 갈등을 해소한다.
- ⑤ 국민에게 정치 교육의 기회를 제공한다.

정답 ① | 갑국의 사례를 통해 선거는 정치권력을 심판하고 통제하는 기능이 있음을 알 수 있다.

05 그림과 같은 선거 제도의 긍정적 효과로 옳은 것은?



- ① 지역주의 타파 ② 흑색 선전 방지
- ③ 금권 선거 척결 ④ 후보자 난립 예방
- ⑤ 선거 참여 기회 확대

정답 ⑤ | 사전 투표를 통해 선거일에 투표하기 어려운 유권자가 선거일 이전에 미리 투표를 할 수 있으므로 투표에 참여하는 사람이 늘어나고, 선거 연령을 18세로 하향하여 유권자가 늘어나면서 선거 참여 기회가 확대된다.

06 선거 과정에서 유권자의 활동을 <보기>에서 고른 것은?

보기

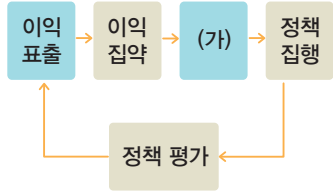
- ㄱ. 후보자의 공약과 자질을 비교하여 투표한다.
- ㄴ. 후보자를 추천한 정당의 정책과 공약을 파악한다.
- ㄷ. 선거가 끝나면 당선자를 믿고 정치에 관심을 갖지 않는다.
- ㄹ. 시민들의 다양한 요구를 반영한 정책을 만들고 공약을 수립한다.

- ① ㄱ, ㄴ ② ㄱ, ㄷ ③ ㄴ, ㄷ
- ④ ㄴ, ㄹ ⑤ ㄷ, ㄹ

정답 ① | ㄱ. 후보자의 공약과 자질을 비교하여 책임감 있고 성실한 후보자에게 투표해야 한다. ㄴ. 유권자는 후보자를 추천한 정당이 내세우는 정책과 공약을 살펴봐야 한다.

중요

13 정치과정의 (가) 단계에 해당하는 내용으로 옳은 것은?



- ① 국무 회의 심의와 국회의 의결 절차를 거친다.
- ② 필요한 예산과 인력을 확보하고 현실에 적용한다.
- ③ 정당이나 언론 등에서 쟁점을 확인하고 분석한다.
- ④ 문제가 해결되고 정책 목표가 달성되었는지를 점검한다.
- ⑤ 공공 문제 해결을 위한 정책 수립의 필요성을 인식한다.

정답 ① | (가)는 정책 결정 단계이다. 국무 회의 심의와 국회의 의결 절차 등은 정책 결정 단계에서 행해질 수 있다.

정답 ③ | 밑줄 친 '이것'은 지방 자치이다. 지방 자치는 지방 자치 단체에 많은 권한을 부여하므로 국정 운영의 통일성 유지나 국정의 효율성 신장과는 거리가 멀다.

14 밑줄 친 '이것'의 의미로 적절하지 않은 것은?

이것은 일정한 지역을 기초로 하여 주민이 스스로 선출한 기관을 통해 지역의 사무를 자율적으로 처리하는 제도이며 원리이다. 주민들은 자발적인 참여와 협조를 통해 그 지역 공동의 관심사를 자율적으로 해결함으로써 국민 주권주의와 자유 민주주의의 실현을 경험할 수 있다.

- ① 민주주의를 체험하고 학습하는 장(場)을 제공한다.
- ② 중앙 정부와 지방 정부 간에 권력을 분립하는 데 이바지한다.
- ③ 국정 운영의 통일성 유지를 통해 국정의 효율성을 높일 수 있다.
- ④ 주민들의 참여 의식이 높아지고 주민 자치 역량을 키울 수 있다.
- ⑤ 지역의 특성을 반영하는 정책을 수립함으로써 주민의 복지가 증진될 수 있다.

관단
15

밑줄 친 ㉠~㉢에 대한 설명으로 옳은 것은?

헌법 제118조

- ① 지방 자치 단체에 의회를 둔다.
- ② ㉠ 지방 의회의 조직, 권한, 의원 선거와 ㉡ 지방 자치 단체의 장의 선임 방법, 기타 지방 자치 단체의 조직과 운영에 관한 사항은 법률로 정한다.

지방 자치법 제2조(지방 자치 단체의 종류)

- ① 지방 자치 단체는 다음의 두 가지 종류로 구분한다.
 1. ㉢ 특별시, 광역시, 특별자치시, 도, 특별자치도
 2. ㉠ 시, 군, 구

- ① ㉠은 집행 기관, ㉡은 의결 기관이다.
- ② ㉠은 조례 제정권, ㉡은 규칙 제정권이 있다.
- ③ ㉠과 달리 ㉡은 주민 소환의 대상이 된다.
- ④ ㉢의 ㉡은 ㉠의 ㉡을 임명한다.
- ⑤ ㉢의 ㉠은 ㉢의 ㉡에 대한 사무 감독권을 가진다.

정답 ② | 지방 의회는 법령의 범위 내에서 조례를 제정할 수 있고, 지방 자치 단체장은 법령과 조례의 범위 내에서 규칙을 제정할 수 있다.

16 우리나라 지방 자치의 주민 참여 제도 (가)~(다)에 대한 설명으로 옳은 것은?

구분	의미
(가)	지방 자치 단체의 예산 편성 과정에 주민이 직접 참여하는 제도
(나)	선거로 선출된 지역 공직자의 직무 수행에 심각한 문제가 있을 때 주민이 투표로 해임할 수 있는 제도
(다)	주민에게 중대한 영향을 미치는 주요 사항을 주민이 직접 투표로 결정하는 제도

- ① (가)를 통해 주민이 지방 자치 단체 예산을 의결한다.
- ② (나)는 지방 자치 단체장의 소신 있는 정책 추진을 강화시킨다.
- ③ (다)는 대의제를 보완하는 직접 민주 정치 요소를 가진 제도이다.
- ④ (나)는 (다)와 달리 지방 행정의 민주성을 높이기 위한 제도이다.
- ⑤ (다)는 (가)와 달리 지역 사무에 관한 주민들의 관심과 참여를 증가시키는 효과를 기대할 수 있다.

정답 ③ | (가)는 주민 참여 예산제, (나)는 주민 소환제, (다)는 주민 투표이다. 주민 투표는 대의제를 보완하는 직접 민주 정치 요소를 가진 제도이다.



11




일상생활과 법


01 법의 의미와 목적


02 법의 종류

03 재판의 종류와 공정한 재판

배울 내용 확인하기

 법의 특징은 무엇일까요?

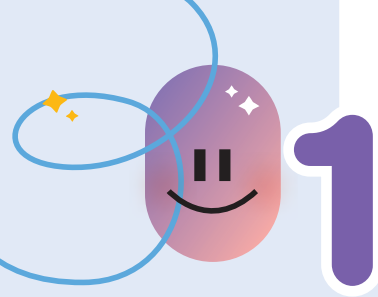
 개인 간의 사적인 관계를 규율하는 법은 무엇일까요?

 공정한 재판의 요건에는 무엇이 있나요?

법의 특징으로는 강제성, 명확성, 결과를 중시한다는 것이 있어요.

사법권의 독립, 공개 재판주의, 증거 재판주의, 심급 제도가 있어요.

사법으로, 민법, 상법 등을 예로 들 수 있어요.



법의 의미와 목적

1 법의 의미와 특징

→ 우리의 일상생활은 법과 밀접하게 관련되어 있어.

1. 일상생활과 법 **자료 1**

식품 위생법	음식에 소비 기한을 표기함.
도로 교통법	학교 주변 도로 중 일부 구간을 어린이 보호 구역으로 지정함.
청소년 보호법	청소년에게 나쁜 영향을 미치는 매체를 규제함.
학교 급식법	학생의 건강을 위해 학교 급식을 다양한 식품으로 구성함.
학교 폭력 예방 및 대책에 관한 법률	학교에서는 교사와 학생을 대상으로 학교 폭력 예방 교육을 실시함.

2. 사회 규범으로서의 법 **자료 2**

→ 갈등과 분쟁을 해결하고 사회 질서를 유지하기 위해 사회 구성원들이 합의하여 만든 규칙이다.

사회 규범	사람들이 사회생활에서 지켜야 할 행동의 기준
사회 규범의 종류	<ul style="list-style-type: none"> 관습: 한 사회에서 오랫동안 지켜져 내려온 풍습 도덕: 인간이 마땅히 지켜야 할 도리 법: 사회 구성원의 합의에 따라 국가가 정한 규범

→ '관경에 처한 사람을 도와야 한다.', '어른을 공경해야 한다.', '부모에게 효도해야 한다.' 등이 도덕이야.

3. 법의 특징

강제성	사회 구성원이 지키지 않으면 국가로부터 제재를 받음.
명확성	해야 할 일과 하지 말아야 할 일을 분명하게 규정함.
결과 중시	겉으로 드러나는 행위와 그 결과를 중시함.

2 법의 목적과 기능

1. 법의 목적

→ 아리스토텔레스는 정의의 본질을 평등에 두고, 평균적 정의와 차등적 정의로 구분하였다.

- 법의 궁극적인 목적은 정의를 실현하는 것
- 정의는 모든 사람에게 각자의 정당한 몫을 주는 것 **자료 3**
- 법은 개인의 노력과 능력에 따라 정당한 보상과 대우를 받게 하고, 다른 사람의 권리를 침해하거나 사회 질서를 어지럽힌 사람을 제재함으로써 정의를 실현함.

→ 남의 물건을 훔쳤다면 그 사람이 어떤 사람인지 상관없이 도둑질에 합당한 처벌을 받게 하고, 열심히 일한 사람에게는 그렇지 않은 사람보다 더 많은 임금을 주는 것이 정의에 부합한다.
- 법을 통한 정의 실현 사례
 - 다른 사람을 폭행한 사람은 형법에 따라 처벌을 받음.
 - 휴일에 근무한 사람은 근로 기준법에 따라 추가 임금을 제공받음.
 - 가수의 콘서트 장면을 허락 없이 촬영하여 그 영상물을 판매하는 행위를 저작권법에 따라 금지함으로써 저작자의 권리를 보호함.

자료 풀단지

☞ 교과서 확인 : 동아, 미래엔, 아침나라, 천재

자료 1 어린이 보호 구역



어린이 보호 구역에서 자동차의 운행 속도를 늦춰야 하는 것은 교통안전을 위해 법에서 규정하고 있기 때문이다. 도로 교통법에 어린이 보호 구역에서는 시속 30km 이하로 서행해야 한다는 규정이 있다.

☞ 교과서 확인 : 미래엔, 비상, 아침나라

자료 2 법과 도덕의 비교

구분	법	도덕
특징	강제성	자율성
판단 기준	행위의 결과	행위의 동기
위반할 경우	국가에 의한 제재	사회적 비난

법은 강제성을 지니고 있어서 사회 구성원이 지키지 않으면 국가로부터 제재를 받는다. 그리고 인간 내면의 양심이나 동기를 중시하는 도덕과 달리, 법은 겉으로 드러나는 행위의 결과를 중시한다.

☞ 교과서 확인 : 미래엔, 비상, 아침나라, 천재

자료 3 정의의 여신상



정의의 여신상 오른손의 칼은 엄정하게 법을 집행하겠다는 의미를 지니고, 왼손의 저울은 평등하게 판단을 하겠다는 뜻이다. 두 눈의 안대는 편견에 치우치지 않고 공평한 판결을 하겠다는 의미이다.

용어 풀단지

- ◆ **학교 폭력** 학교 안이나 밖에서 학생 사이에 발생하는 신체·정신 또는 재산의 피해를 수반하는 행위
- ◆ **저작자** 예술이나 학문에 관한 책이나 작품 따위를 짓는 것을 직업으로 하는 사람

2. 법의 기능 **자료 4** 법은 국민을 처벌하거나 규제하기 위해 존재하는 것이 아니라 국민의 권리를 보호하고 분쟁을 해결함으로써 궁극적으로 정의를 실현하는 역할을 하고 있어.

(1) 개인의 권리 보호

- ① 법은 개인이 어떤 권리를 갖는지, 권리를 침해당했을 때는 어떻게 구제받을 수 있는지를 규정하고 있음.
- ② 국가나 다른 사람이 함부로 개인의 권리를 침해하지 못하게 하고, 침해당했을 때는 구제함으로써 개인의 권리를 보호함.

(2) 분쟁의 해결과 예방

- ① 법은 다툼이 생겼을 때 공정하고 객관적인 판단 기준을 제공하여 분쟁 해결에 도움을 줌.
- ② 사람들이 지켜야 할 행위나 판단의 기준을 제시하여 다툼을 예방하기도 함.

(3) 공공복리 추구: 소수 집단이나 개인의 이익이 아니라 사회 전체의 이익을 실현하려고 함.

자료 끝단지

교과서 확인 : 천재
자료 4 교통 신호등의 기능



교통 신호등은 도로의 통행 방법을 법으로 정함으로써 분쟁을 예방하거나 해결하는 역할을 한다.

용어 끝단지

- ◆ 권리 자기의 이익을 관철할 수 있도록 법이 부여한 힘
- ◆ 구제 자연적인 재해나 사회적 피해를 당하여 어려운 처지에 있는 사람을 도와줌.
- ◆ 공공복리 사회 구성원 전체에 공통되는 이익이나 복지

STEP 1

개념 IN

1 빈칸에 들어갈 알맞은 말을 쓰시오.

- (1) (**사회 규범**)은/는 사람들이 사회생활에서 지켜야 할 행동의 기준으로 관습, 도덕, 법 등이 있다.
- (2) 법은 다른 사회 규범과 달리 지키지 않으면 국가에 의해 제재를 받는다는 점에서 (**강제성**)이/가 있다.
- (3) 사회에 존재하는 다양한 법은 저마다 다른 내용을 담고 있지만, 그 목적이 (**정의**)을/를 추구한다는 점에서 공통점이 있다.

2 ㉠, ㉡ 중 알맞은 것을 고르시오.

- (1) (㉠ 관습, ㉡ 도덕)은 인간이 마땅히 지켜야 할 도리이다.
- (2) (㉠ 정의, ㉡ 복지)는 모든 사람에게 각자가 받아야 할 정당한 몫을 주는 것으로, 법이 추구하는 궁극적인 목적이다.
- (3) (㉠ 학교 급식법, ㉡ 어린이 식생활 안전 관리 특별법)에 따라 학교와 학교 200m 범위 안에서는 어린이의 건강을 해칠 수 있는 식품을 판매할 수 없다.

3 다음 사례에 해당하는 사회 규범을 <보기>에서 골라 기호를 쓰시오.


보기		
ㄱ. 법	ㄴ. 도덕	ㄷ. 관습

- (1) 돌잔치, 결혼식, 장례 의식 (**ㄷ**)
- (2) 노인에게 자리 양보, 인사 잘하기 (**ㄴ**)
- (3) 장애인 전용 주차 구역, 안전띠 착용 의무 (**ㄱ**)

4 밑줄 친 곳을 바르게 고쳐 쓰시오.

- (1) 관습은 개인의 권리를 명시하고, 이를 침해하는 행위를 제재함으로써 개인의 권리를 보호한다.
- (2) 도덕은 공정하고 객관적인 판단 기준을 제시하여 사회에서 발생하는 분쟁을 예방하거나 해결한다.
- (3) 법은 개인의 노력과 능력에 따라 정당한 보상과 대우를 받게 하고, 다른 사람의 권리를 침해하거나 사회 질서를 어지럽힌 사람을 제재함으로써 공공복리를 실현한다.

01 다음 그림에 나타난 사회 규범 (가), (나)에 대한 설명으로 옳지 않은 것은?



- ① (가)는 도덕이다.
- ② (나)는 법에 해당한다.
- ③ (가)에 비해 (나)는 명확하다.
- ④ (나)는 (가)와 달리 강제성을 가진다.
- ⑤ (가)와 (나)는 모두 행위의 외면성을 중시한다.

정답 ⑥ | 도덕은 양심과 같은 행위의 내면성을 중시하고, 법은 행위의 결과인 외면성을 중시한다.

02 다음 중 일상생활에서 법의 적용을 받는다고 보기 어려운 것은?

- ① 수업 중 다치면 보상을 받을 수 있다.
- ② 감염병에 걸린 학생은 등교를 금지한다.
- ③ 아이가 태어나서 1년이 되면 돌잔치를 한다.
- ④ 어린이 보호 구역에서는 자동차 운행 속도를 늦춰야 한다.
- ⑤ 학교 주변에는 학습과 교육 환경에 나쁜 영향을 주는 시설을 설치할 수 없다.

정답 ③ | 아이가 태어나서 1년이 되면 돌잔치를 하는 것은 우리나라의 관습이다.

관 **단** 정답 ① | **다**, 사회의 다원화에 따라 법의 적용을 받는 영역이 늘어나고 있다. **르**, 어떤 행위가 오랜 세월 동안 반복되면서 굳어진 것은 관습이다.

03 사회 규범으로서 법에 대한 설명으로 옳은 것을 <보기>에서 고른 것은?

보기

- ㄱ. 어길 경우에는 국가의 제재를 받는다.
- ㄴ. 행위의 동기보다는 그 결과를 중시한다.
- ㄷ. 사회의 다원화에 따라 그 영역이 줄어들고 있다.
- ㄹ. 어떤 행위가 오랜 세월 동안 반복되면서 굳어진 것이다.

- ① ㄱ, ㄴ ② ㄱ, ㄷ ③ ㄴ, ㄷ
- ④ ㄴ, ㄹ ⑤ ㄷ, ㄹ

04 다음 사례를 통해 알 수 있는 법의 특징으로 옳은 것은?

갑은 며칠째 먹을 것이 없어서 굶고 있었다. 그런데 더 위험한 것은 갑에게는 영양실조 직전의 세 살 난 어린 딸이 있다는 것이다. 갑은 근처 빵집에 가서 팔다 남은 빵이라도 달라고 사정했으나 거절당하였다. 절망에 빠진 갑은 그날 밤 빵집에 침입하여 빵을 훔쳐 딸을 살렸지만, 다음날 빵집 주인의 신고로 경찰에 체포되었다.

- ① 공공복리를 증진한다.
- ② 행위의 동기를 중시한다.
- ③ 인간의 양심에 바탕을 둔다.
- ④ 개인 간의 분쟁을 해결해 준다.
- ⑤ 위반 시 국가가 제재를 가한다.

정답 ⑤ | 아무리 딱한 사정이 있다 하더라도 법은 행위의 결과를 중시하므로 갑은 형법의 절도죄를 범한 것이 되어 처벌을 받게 된다.

중요

정답 ⑥ | 제시문은 법에 대한 설명이다. ㄱ, 노인에게 자리 양보는 도덕의 영역이다. ㄴ, 정월 대보름날에 행하는 풍년 기원 쥐불놀이는 관습에 해당한다.

05

다음 글에서 설명하는 사회 규범의 사례로 적절한 것을 <보기>에서 고른 것은?

- 사회 구성원의 합의에 따라 국가가 정한 규범이다.
- 다른 사회 규범과 달리 지키지 않으면 국가에 의해 제재를 받는다.

보기

- ㄱ. 버스나 지하철에서는 노인에게 자리를 양보해야 한다.
- ㄴ. 매년 정월 대보름날에는 쥐불놀이를 하면서 그해의 풍년을 기원한다.
- ㄷ. 초·중등학교에서는 아무리 문제를 일으킨 학생이라 하더라도 퇴학 처분을 내릴 수 없다.
- ㄹ. 음주 운전을 하다가 적발되면 혈중 알콜 농도 수치에 따라 면허 정지, 면허 취소, 구속 등의 처벌을 받게 된다.

- ① ㄱ, ㄴ ② ㄱ, ㄷ ③ ㄴ, ㄷ
- ④ ㄴ, ㄹ ⑤ ㄷ, ㄹ

06 밑줄 친 ㉠이 추구하는 목적으로 가장 적절한 것은?

범죄가 발생한 후 일정한 기간이 지나면 처벌할 수 있는 권한이 사라지는 제도가 있다. 이를 공소 시효 제도라고 한다. 공소 시효 제도 때문에 예전에는 살인죄를 저질렀어도 25년이 지나면 처벌할 수 없었다. 그러나 지금은 ㉠ 법이 개정되어 사형에 해당하는 살인죄를 저지른 사람에게는 공소 시효 제도를 적용하지 않고 있다.

- ① 법의 궁극적 이념인 정의를 실현한다.
- ② 법에 의해 보장된 기득권을 보호한다.
- ③ 억울한 범죄 피해자가 발생하지 않도록 한다.
- ④ 사회 혼란을 방지하여 공동체 안정을 실현한다.
- ⑤ 개인의 이익보다는 사회 전체의 이익을 우선한다.

정답 ① | 공소 시효 제도가 법의 목적인 정의에 어긋난다는 여론에 따라 법이 개정되었다. 이를 통해 법은 옳고 그름을 판단하여 모든 사람에게 각자가 받아야 할 정당한 몫을 주는 정의를 실현함을 알 수 있다.



07 다음 법률 조항을 통해 유추할 수 있는 법의 기능으로 적절하지 않은 것은?

공동 주택 관리법 제20조 (충간 소음의 방지 등)
 ② 제1항에 따른 충간 소음으로 피해를 입은 입주자들은 관리 주체에게 충간 소음 발생 사실을 알리고, 관리 주체가 충간 소음 피해를 끼친 해당 입주자 등에게 충간 소음 발생을 중단하거나 소음 차단 조치를 권고하도록 요청할 수 있다.

- ① 분쟁을 조정한다.
- ② 정의를 실현한다.
- ③ 개인의 권리를 보호한다.
- ④ 침해된 권리를 구제한다.
- ⑤ 통치의 효율성을 강화한다.

정답 ⑤ | 통치의 효율성을 강화한다는 것은 법의 기능에 해당하지 않는다.

08 법의 목적인 정의에 부합하는 사례를 <보기>에서 고른 것은?

보기

- ㄱ. 성과에 따라 임금을 차등 지급한다.
- ㄴ. 범죄를 저지른 사람에게 형벌을 부과한다.
- ㄷ. 노동조합 간부 자녀에게는 취업 시 특혜를 준다.
- ㄹ. 세금을 많이 낸 사람에게는 국회 의원 선거에서 두 표를 행사하도록 한다.

- ① ㄱ, ㄴ ② ㄱ, ㄷ ③ ㄴ, ㄷ
- ④ ㄴ, ㄹ ⑤ ㄷ, ㄹ

정답 ① | 법의 목적인 정의는 모든 사람에게 각자의 정당한 몫을 주는 것이다. 노동조합 간부 자녀에게 취업 특혜를 주는 것과 많은 세금을 납부한 사람에게 두 표를 행사할 권리를 주는 것은 정의에 부합하지 않는다.

09 다음 글을 통해 파악할 수 있는 법의 기능으로 옳은 것은?

A 회사는 과자를 개발하여 상표를 등록하였다. B 회사도 같은 이름의 상표를 사용한 제품을 등록하였다. A 회사는 B 회사가 자신의 회사와 동일한 상표를 사용하여 부당한 이익을 얻었다며 특허 법원에 B 회사의 상표 등록 무효화 소송을 청구하였다. 이에 대해 특허 법원은 B 회사의 행위가 상표법의 동일 상표 사용 금지 규정에 위반된다고 판결하였다.

- ① 공공복리를 증진시킨다.
- ② 국가의 안전을 보장한다.
- ③ 사회적 약자를 배려한다.
- ④ 개인 간의 분쟁을 해결해 준다.
- ⑤ 국민의 인간다운 생활을 보장해 준다.

정답 ④ | 상표법에 동일한 상표를 사용해서는 안 된다는 규정이 있으며, 이 규정에 따라 개인 간의 분쟁이 해결되었다.

10 다음 두 사례에서 공통적으로 추구하는 법의 목적으로 가장 적절한 것은?

- 다른 사람을 폭행한 사람은 형법에 따라 처벌을 받는다.
- 야간이나 휴일에 근무한 사람은 근로 기준법에 따라 추가 임금을 받는다.

- ① 정의를 실현한다.
- ② 공공복리를 실현한다.
- ③ 국가의 안전을 보장한다.
- ④ 사회의 불안 요소를 제거한다.
- ⑤ 국민의 인간다운 생활을 보장한다.

정답 ① | 법은 열심히 노력한 사람에게는 정당한 보상을 주고, 타인에게 피해를 준 사람에게는 제재를 가함으로써 정의를 실현한다.

구분	채점 기준
상	우리의 일상생활은 법과 밀접한 관련을 맺고 있다고 서술한 경우
하	우리 생활을 규율하는 법이 많다는 내용만 서술한 경우

서술형 문제

11 다음 글을 통해 유추할 수 있는 일상생활과 법의 관련성을 서술하시오.

아이가 태어나면 법에 따라 출생 신고를 하고, 법으로 정한 일정한 나이가 되면 학교에서 기본적인 교육을 받는다. 일생의 마지막 단계에서 이루어지는 유언이나 상속도 법에 정해진 기준을 따라야 한다.

예시 답안 | 우리의 일상생활은 법과 밀접한 관련을 맺고 있다. 우리는 누구나 법의 영향을 받으며 법과 함께 살아간다.

2 법의 종류

1 규율하는 생활 영역에 따른 법의 구분

공법	국가와 개인 간 또는 국가기관 간의 공적인 관계를 규율하는 법 예 헌법, 형법 등
사법	개인 간의 사적인 관계를 규율하는 법 예 민법, 상법 등
사회법	국가가 개인 간의 관계에 개입하는 중간적인 성격의 법 예 노동법, 경제법, 사회 보장법 등

2 일상을 규율하는 다양한 법

헌법은 국가의 최고법으로 법률이나 명령, 조례, 규칙 등은 모두 헌법에 위배되어서는 안 됨.

1. 국가의 기틀이 되는 헌법 **자료 1**

- (1) 국민의 권리와 의무, 국가기관의 구성과 운영 등을 규정한 우리나라의 최고법
- (2) 국가 운영의 바탕이 되고, 모든 법 제정의 근거가 됨.
- (3) 대통령 등 국가기관의 권한도 헌법에 따라 주어짐.

2. 개인 사이의 문제를 해결하는 민법 **자료 2**

- (1) 개인의 재산 관계 및 가족 관계에 관한 권리와 의무 등을 다루는 법
- (2) 재산권과 계약, 손해 배상 등의 재산 관계와 친족과 혼인, 상속 등 가족 생활에 관한 내용으로 구성됨.
- (3) 개인이 일상생활에서 마주하는 다양한 분쟁 해결의 기준을 제공함.

3. 공공질서를 지키는 형법 **자료 2**

형법에 범죄와 형벌을 명확하게 규정하여 법관이 강제력을 자의적으로 행사하는 것을 막고, 국민이 금지되는 행위와 그에 대한 형벌을 예측할 수 있다.

- (1) 범죄의 종류와 그에 따른 형벌을 정한 법
- (2) 범죄와 형벌의 내용을 명확히 하여 공공질서를 유지함.
- (3) 범죄를 저지른 경우에도 형벌의 범위 안에서만 처벌함으로써 국민의 자유와 권리를 보호함.

3 사회법

사회법은 공법과 사법의 중간적 성격으로 사회·경제적 약자를 보호하고, 국민의 인간다운 생활 보장을 목적으로 하는 법으로, 현대 복지 국가에서는 그 중요성이 더욱 커지고 있어.

1. 사회법의 등장 배경과 목적 **자료 3**

자본가와 노동자의 빈부 격차가 심해지고, 근로 조건과 임금 등을 둘러싼 갈등과 대립이 증가하였다.

- (1) 사회법의 등장 배경: 근대 사회에서 개인의 자유를 중시하고 국가의 간섭은 최소화하였으나, 산업화 시기에 빈부 격차, 노동 문제 등 사회문제가 심각해지면서 국가의 적극적 역할이 요구됨.
- (2) 사회법의 목적: 사회·경제적 약자를 보호하고, 모든 국민이 인간답게 살 권리를 보장하는 것을 목적으로 함.

용어 풀단지

- ◆ **규율** 규칙에 따라 행동하도록 다스리는 것
- ◆ **최고법** 헌법은 법 체계에서 가장 상위에 있는 법으로서 법률, 명령, 조례, 규칙 제정의 최종적인 근거가 됨.

자료 풀단지

교과서 확인 : 천재

자료 1 헌법의 구성



헌법은 국민의 권리와 의무, 국가의 통치 조직과 운영 원리를 규정하고 있다.

교과서 확인 : 아침나라

자료 2 민법과 형법

민법 제807조	18세가 된 사람은 혼인할 수 있다.
형법 제307조 ②	공연히 허위의 사실을 적시하여 사람의 명예를 훼손한 자는 5년 이하의 징역, 10년 이하의 자격 정지 또는 1천만 원 이하의 벌금에 처한다.

민법은 개인의 권리를 보호하고, 가족생활을 유지하는 역할을 한다. 형법은 어떠한 행위가 범죄인지, 범죄를 저지르면 어떠한 형벌을 받게 되는지를 규정하여 범죄를 예방하고, 사회 질서를 유지한다.

교과서 확인 : 아침나라

자료 3 사회법의 목적



사회법의 목적은 근로자, 소비자, 장애인, 저소득층 등과 같은 사회·경제적 약자를 보호하고, 나아가 사회 구성원의 인간다운 생활을 보장하는 것이다.

2. 사회법의 종류 자료 4

노동법	근로자의 권리를 보호하기 위해 근로자의 권리와 근로 조건을 규정하고, 노사 간의 이해관계를 조정하기 위한 법 예) 근로기준법, 노동조합 및 노동관계조정법, 최저임금법 등
경제법	공정한 경제 질서를 유지하여 기업 간 자유로운 경쟁을 보장하고 소비자의 권익을 보호하기 위한 법 예) 소비자 기본법, 독점 규제 및 공정 거래에 관한 법률 등
사회보장법	실업, 빈곤, 질병, 고령 등으로 어려움을 겪고 있는 사람을 돕고, 모든 국민의 인간다운 생활을 보장하기 위한 법 예) 국민 기초생활보장법, 국민건강보험법, 국민연금법 등

용어 풀단지

- ◆ **최저임금제** 국가가 임금의 최저 수준을 정하고 사용자에게 이 수준 이상의 임금을 지급하도록 강제함으로써 저임금 근로자를 보호하고자 하는 제도
- ◆ **국민연금** 국민 개개인이 소득 활동을 할 때 납부한 보험료를 기반으로 하여 나이가 들거나 갑작스런 사고나 질병으로 사망 또는 장애를 입어 소득 활동이 중단된 경우 본인이나 유족에게 연금을 지급함으로써 기본 생활을 유지할 수 있도록 하기 위해 운영됨.

자료 풀단지

교과서 확인 : 동아

자료 4 사회법의 내용



▲ 국민연금 공단



▲ 최저임금 위원회

평소에 보험료를 납부하면 노령, 장애, 사망 등을 이유로 소득이 없어졌을 때 연금을 받아 안정된 생활을 할 수 있다. 또한 국가는 근로자의 생활 안정을 위해 근로자의 최저 임금을 법으로 보장하며, 최저 임금 위원회를 통해 매해 최저 임금을 결정한다.

STEP 1

개념 IN

1 빈칸에 들어갈 알맞은 말을 쓰시오.

- (1) (**사법**)은/는 개인 간의 사적인 관계를 규율하는 법으로, 민법과 상법이 있다.
- (2) (**헌법**)은/는 국민의 권리와 의무, 국가기관의 구성과 운영 등을 규정한 우리나라의 최고법이다.
- (3) 국가가 개인의 사적 영역에 적극 개입하여 사회·경제적 약자를 보호해야 한다는 요구가 커지면서 (**사회법**)이/가 등장하였다.
- (4) 사회법 중 (**경제법**)은/는 기업 간의 공정하고 자유로운 경쟁을 보장하고 소비자의 권리와 이익을 보호하기 위한 법이다.

2 ㉠, ㉡ 중 알맞은 것을 고르시오.

- (1) (공법, ㉠ 사법)은 국가와 개인 또는 국가기관 간의 관계를 규율하는 법으로, 대표적으로 헌법과 형법이 있다.
- (2) 개인의 재산 관계 및 가족 관계에 관한 권리와 의무 등을 규율하는 법은 (㉡ 형법, 민법)이다.
- (3) (㉠ 사법, 사회법)은 근로자, 장애인, 저소득층과 같은 사회·경제적 약자를 보호하고, 모든 국민의 최소한의 인간다운 생활을 보장하는 것을 목적으로 한다.

3 다음 내용에 해당하는 법을 <보기>에서 골라 기호를 쓰시오.

보기

- | | |
|-------|--------|
| ㄱ. 헌법 | ㄴ. 민법 |
| ㄷ. 형법 | ㄹ. 사회법 |

- (1) 국민의 권리와 의무 규율 (**ㄱ**)
- (2) 범죄의 종류와 형벌의 정도를 규정 (**ㄷ**)
- (3) 근로자, 소비자, 저소득층 등을 보호 (**ㄹ**)
- (4) 개인의 재산 관계와 가족 관계를 규율 (**ㄴ**)

4 밑줄 친 곳을 바르게 고쳐 쓰시오.

- (1) 사회법은 개인의 재산 관계와 가족 관계를 규율하는 법으로, 재산권과 계약, 혼인, 친족, 유언, 상속 등을 다룬다.
- (2) 헌법은 어떠한 행위가 범죄인지, 범죄를 저지르면 어떠한 형벌을 받게 되는지를 규정하여 범죄를 예방하고, 사회 질서를 유지한다.
- (3) 근대 시민 사회에서는 개인의 자유로운 경제활동을 최대한 보장하기 위해 국가의 개입을 최대화하였다.
- (4) 사회법은 개인 간의 생활 영역에 국가가 개입하기 때문에 사법과 공법의 중간적인 성격을 가지며, 근대 민주 국가에서 그 중요성이 더 커지고 있다.

01 밑줄 친 ㉠과 ㉡에 해당하는 법의 영역은?

갑은 2년 전 오랜 친구인 을에게 다급한 사정이 발생하여 1년 후에 받기로 하고 ㉠ 1억 원을 빌려주었다. 하지만 을이 상당한 재산이 있음에도 불구하고 2년이 지난 지금까지 빌린 돈을 갚지 않자 갑은 을을 상대로 ㉡ 소송을 제기하였다.

- ㉠ ㉡
- ① 공법 사법 ② 공법 사회법
- ③ 사법 공법 ④ 사법 사회법
- ⑤ 사회법 공법

정답 ③ | 개인 간 돈거래는 민법에 근거하고, 소송은 소송법에 근거한다. 민법은 사법에, 소송법은 공법에 해당한다.

02 밑줄 친 ㉠~㉤ 중 공법이 규율하는 영역은?

중학생 갑은 아침에 ㉠ 버스를 타고 학교에 등교하여 수업을 들었다. 점심시간에는 매점에서 ㉡ 간식을 사 먹었고, 하교 후에는 ㉢ 학원에서 강의를 들었다. 저녁에는 내일 ㉣ 군대에 입대하는 형을 격려하기 위해 가족 모두 ㉤ 음식점에 가서 식사를 했다.

- ① ㉠ ② ㉡ ③ ㉢ ④ ㉣ ⑤ ㉤

정답 ④ | 군대에 입대하는 것은 공법인 병역법에 근거한다.

중요

03 규율하는 생활 영역에 따라 법을 (가)~(다)와 같이 분류할 때, (가)~(다)에 해당하는 적절한 사례를 <보기>에서 고른 것은?

(가) 개인 간의 사적인 관계를 규율하는 법
 (나) 국가와 개인 또는 국가기관 간의 관계를 규율하는 법
 (다) 사회·경제적 약자 보호를 위해 개인 간의 생활 영역에 국가가 개입한 법

보기

- ㄱ. 인터넷 중고 시장에서 마음에 드는 옷을 구입하였다.
 ㄴ. 사용자와의 단체 협상에서 노동조합은 임금 인상을 요구하였다.
 ㄷ. 무죄 판결을 받은 형사 피고인이 국가를 상대로 형사 보상을 청구하였다.

- (가) (나) (다)
- ① ㄱ ㄴ ㄷ ② ㄱ ㄷ ㄴ
- ③ ㄴ ㄱ ㄷ ④ ㄷ ㄱ ㄴ
- ⑤ ㄷ ㄴ ㄱ

정답 ② | (가)는 사법, (나)는 공법, (다)는 사회법이다.

04 다음의 규정을 가진 법에 대한 설명으로 옳지 않은 것은?

- 모든 국민은 종교의 자유를 가진다.
- 대통령은 국가의 원수이며 외국에 대하여 국가를 대표한다.
- 모든 국민은 능력에 따라 균등하게 교육을 받을 권리를 가진다.
- 법관은 헌법과 법률에 의하여 그 양심에 따라 독립하여 심판한다.

- ① 국가의 최고법이다.
 ② 사회법의 영역에 해당한다.
 ③ 국가 운영의 근거로 작용한다.
 ④ 국민의 기본권을 규정하고 있다.
 ⑤ 국가기관의 조직에 대해 규정하고 있다.

정답 ② | 헌법은 공적인 관계를 규율하는 공법에 해당한다.

과년도

05 다음 조항을 규정한 법의 특징으로 옳은 것은?

제156조 타인으로 하여금 형사 처분 또는 징계 처분을 받게 할 목적으로 …… 허위의 사실을 신고한 자는 10년 이하의 징역 또는 1천500만원 이하의 벌금에 처한다.
 제329조 타인의 재물을 절취한 자는 6년 이하의 징역 또는 1천만원 이하의 벌금에 처한다.

- ① 결과보다 동기를 중시한다.
 ② 사적 생활 관계를 규율한다.
 ③ 개인 간의 분쟁을 해결한다.
 ④ 사적 관계에 국가가 개입한다.
 ⑤ 사회 질서 유지를 목적으로 한다.

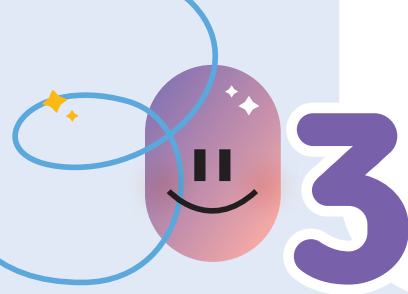
정답 ⑤ | 형법은 범죄의 종류와 그에 따른 형벌을 정한 법으로, 범죄를 예방함으로써 사회 질서를 유지한다.

06 다음은 법의 종류와 관련해서 작성된 학습지의 일부이다. 답변의 내용을 모두 충족하는 법에 해당하는 것은?

질문	답변
개인 간의 사적인 관계를 규율하는 법인가?	예
사회 질서 유지가 가장 큰 목적에 해당하는가?	아니요
개인의 재산 관계 및 가족 관계에 관한 권리와 의무 등을 다루는 법인가?	예

- ① 헌법 ② 형법 ③ 민법
 ④ 국민연금법 ⑤ 근로기준법

정답 ③ | 민법은 개인의 재산 관계 및 가족 관계에 관한 권리와 의무 등을 다루는 법으로, 사법에 해당한다.



재판의 종류와 공정한 재판

1 재판의 의미와 종류

1. 재판의 의미와 기능 자료 1

재판은 소송과 구별되는 개념이다. 재판은 법원이 내리는 판단으로 가장 일반적인 형태가 판결이다. 반면 소송은 소 제기나 기소, 변론, 증거 조사 등의 절차를 말한다.

- (1) **재판의 의미:** 분쟁 사건에 대해 법원이 법을 적용하여 옳고 그름을 가려 판단하는 과정
- (2) **재판의 기능:** 사람들 사이의 분쟁을 원만하게 해결하고, 범죄자에게 형벌을 부과함으로써 사회 질서를 유지함.

2. 재판의 종류

같은 사건에 대해 민사 재판과 형사 재판이 모두 가능해, 타인으로부터 폭행을 당했을 때 손해 배상을 요구하는 것은 민사 재판으로 하고, 가해자를 고소하여 형벌을 받게 하는 것은 형사 재판으로 할 수 있어.

민사 재판	<ul style="list-style-type: none"> • 개인과 개인 사이에 일어난 분쟁을 해결하기 위한 재판 • 개인 간 금전 거래 문제, 계약을 어기는 문제 등이 발생할 경우 민사 재판을 청구할 수 있음.
형사 재판	<ul style="list-style-type: none"> • 사회 질서를 위협하는 범죄 사건에 적용되는 재판 • 폭행이나 절도와 같은 범죄가 발생하였을 때 국가는 범죄 사실을 밝히고 형벌의 종류와 정도를 결정함.

3. 재판의 절차

(1) 민사 재판의 과정 자료 2

- ① **분쟁의 발생:** 갑과 을은 결혼식을 위해 △△ 예식장을 예약하면서 이때 결혼식 과정 영상 촬영을 약속하고 예약금을 지불하였는데, 사진 기사의 실수로 촬영이 되지 않았고, △△ 예식장 대표 병을 상대로 손해 배상을 청구하였으나 병이 이를 거절함.
- ② **원고의 소장 제출:** 갑과 을은 법원에 △△ 예식장 대표 병을 피고로 하여 손해 배상을 청구하는 소장을 제출함.
- ③ **법원은 소장 복사본을 피고에게 전달:** △△ 예식장 대표 병은 원고의 청구에 반박할 자료를 준비함.
- ④ **피고의 답변서 제출:** △△ 예식장 대표 병은 법원에 갑과 을의 주장에 대한 답변서를 제출함.
- ⑤ **재판:** 원고(갑과 을)와 피고(병)는 재판에서 증거를 제출하고 변론함.
- ⑥ **판결:** 판사는 증거와 변론을 토대로 판결을 선고함.

(2) 형사 재판의 과정 자료 3

- ① **사건의 발생:** 갑은 을에게 전화를 걸어 자신을 금융 감독원 직원이라고 속이고 을의 통장이 범죄에 이용되었으니 계좌를 없애야 한다고 그 통장에 있는 돈을 자신이 알려 주는 계좌에 송금해야 한다고 설득한 후 을이 송금한 5천만 원을 가지고 달아남.

자료 끝단지

교과서 확인 : 비상

자료 1 재판과 관련된 헌법 조항

헌법 제27조

- ① 모든 국민은 헌법과 법률이 정한 법관에 의하여 법률에 의한 재판을 받을 권리를 가진다.

우리나라는 헌법 제27조를 통해 공정한 재판을 받을 권리를 명시하고 있다.

교과서 확인 : 동아, 미래엔, 비상, 아침나라, 천재

자료 2 민사 재판정의 모습



민사 재판에서 원고는 재판을 청구한 사람이고, 피고는 소송을 당한 사람이다. 소송 대리인(변호사)은 원고나 피고에게 법률적인 도움을 주는 사람이다. 판사는 양쪽의 증거와 변론을 통해 판결을 내린다.

교과서 확인 : 동아, 미래엔, 비상, 아침나라, 천재

자료 3 형사 재판정의 모습



형사 재판에서는 검사가 기소한 사람을 피고인이라고 한다. 피고인은 변호인의 도움을 받으며, 검사는 피고인의 유죄 입증 책임을 진다. 판사는 관련된 법 조항을 적용하여 범죄의 유무와 형벌의 정도에 대한 판결을 내린다.

용어 끝단지

- ◆ **소장** 소송을 제기하기 위해 1심 법원에 제출하는 서류로 당사자, 법정 대리인, 청구의 취지, 청구의 원인을 적어야 함.
- ◆ **변론** 소송 당사자가 법정에서 주장하거나 진술하는 일

- ② 피해자의 고소: 을은 갑을 사기 혐의로 경찰에 고소함.
- ③ 경찰의 수사: 경찰이 갑과 을을 불러 사실 관계를 확인하고 갑에게 범죄 혐의가 있다고 판단하여 검찰에 송치함.
- ④ 검사의 기소: 검사는 갑의 행위가 형법상 사기죄에 해당한다고 판단하여 재판을 받도록 기소함.
- ⑤ 재판: 원고인 검사가 증거를 토대로 범죄 혐의자인 피고인 갑의 범죄를 입증하기 위해 신문하고 갑의 변론 과정을 거친 후 검사가 구형함.
- ⑥ 판결: 판사는 증거와 변론, 검사의 구형을 참고하여 유죄 또는 무죄 판결을 내림.

2. 공정한 재판의 요건

공정한 재판이 보장되지 않을 경우 인권을 보호하기 어렵고, 사회 질서 유지와 정의 실현도 어려워진다. 따라서 우리나라는 재판의 과정이 공정하게 이루어질 수 있도록 여러가지 제도를 마련하고 있다.

1. 사법권 독립 **자료 4**

- (1) 공정한 재판을 위해서는 재판 과정이 외부의 압력에 흔들리지 않도록 사법권의 독립이 필요함.
- (2) 법원의 조직과 운영이 다른 국가기관의 간섭이나 영향을 받지 않도록 헌법으로 보장하고 있음.
- (3) 법관이 헌법과 법률, 양심에 따라 심판할 수 있도록 법관의 신분을 보장하고 있음.

2. 공개 재판주의와 증거 재판주의 **자료 5**

공개 재판주의	재판 당사자 이외에 일반 시민에게도 재판의 심리와 판결을 공개해야 함.
증거 재판주의	법원은 구체적인 증거를 바탕으로 판결함.

재판의 심리는 국가 안전 보장 또는 공공질서를 방해하거나 선량한 풍속을 해할 염려가 있을 때는 예외적으로 법원의 결정에 따라서 공개하지 않을 수 있다.

3. 심급 제도 **자료 6**

- (1) 의미: 소송(재판) 당사자가 재판 결과에 승복하지 않을 때 급을 달리하는 법원에서 여러 번 재판을 받을 수 있게 하는 제도
- (2) 의의: 법원이 잘못된 판결을 내릴 가능성을 최소화하고, 공정한 재판을 실현하여 국민의 기본권을 보장할 수 있음.
- (3) 원칙: 우리나라는 기본적으로 3심제를 운영하고 있음.
- (4) 상소 제도
 - ① 항소: 1심 법원의 판결에 불복해 2심 재판을 청구함.
 - ② 상고: 2심 법원의 판결에 불복해 대법원에 3심 재판을 청구함.

용어 풀단지

- ◆ **심리** 재판의 기초가 되는 사실 관계 및 법률관계를 명확히 하기 위해 법원이 증거나 방법 등을 심사하는 행위를 말함.
- ◆ **소송(재판) 당사자** 재판에서 자기 이름으로 법원에 대하여 재판권 행사를 요구하는 사람 및 그 상대방으로 민사 소송의 원고와 피고, 형사 소송의 검사와 피고인이 이에 해당함.
- ◆ **상소 제도** 재판의 당사자가 하급 법원의 판결에 불만이 있을 경우 상급 법원에 다시 재판을 청구할 수 있는 제도

자료 풀단지

교과서 확인 : 동아, 미래엔, 비상, 아침나라

자료 4 사법권의 독립과 관련한 헌법 조항

제101조 ① 사법권은 법관으로 구성된 법원에 속한다.
제103조 법관은 헌법과 법률에 의하여 그 양심에 따라 독립하여 심판한다.

우리나라는 헌법에 사법권의 독립을 보장하여 재판이 국가기관이나 여론 등의 영향을 받지 않고 공정하게 이루어질 수 있도록 하고 있다.

교과서 확인 : 동아, 아침나라, 천재

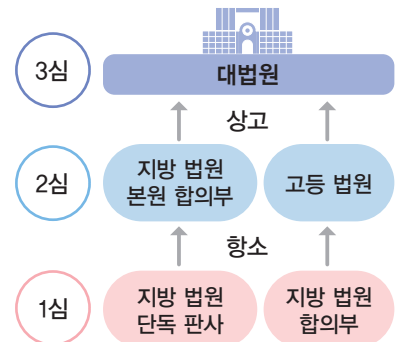
자료 5 국민 참여 재판



국민 참여 재판은 일반 국민이 배심원으로서 피고인의 유무죄 여부를 판단하는 것으로 주로 죄가 무거운 형사 사건을 대상으로 이루어진다. 판사는 배심원의 의견을 무조건 반영해야 하는 것은 아니지만, 이를 참고하여 판결할 수 있다. 다만, 국민 참여 재판은 피고인이 원하지 않으면 시행되지 않는다. 국민 참여 재판은 재판의 공정성과 투명성을 높일 수 있다는 데 의의가 있다.

교과서 확인 : 동아, 미래엔, 비상, 아침나라, 천재

자료 6 우리나라의 심급 제도



1심은 지방 법원 단독 판사 또는 지방 법원 합의부가 담당하고, 2심은 지방 법원 본원 합의부 또는 고등 법원이 맡는다. 3심은 대법원에서 이루어진다. 이때 단독 판사는 1명의 판사가 재판하는 것이고, 합의부는 3명의 판사가 재판하는 것을 의미한다.

1 빈칸에 들어갈 알맞은 말을 쓰시오.

- (1) 분쟁 사건에 대해 법원이 법을 적용하여 옳고 그름을 가려 판단하는 과정을 (재판) (이)라고 한다.
- (2) 우리나라는 헌법에 (사법권의 독립) 을/를 보장하여 재판이 다른 국가기관이나 여론 등의 영향을 받지 않고 공정하게 이루어질 수 있도록 하고 있다.
- (3) (증거 재판주의) 은/는 법원이 구체적인 증거를 바탕으로 판결해야 한다는 원칙이다.

2 ㉠, ㉡ 중 알맞은 것을 고르시오.

- (1) (㉠ 민사 재판, ㉡ 형사 재판) 은 개인과 개인 사이에 일어난 분쟁을 해결하기 위한 재판이다.
- (2) 민사 재판은 분쟁이 발생하였을 때 피해를 입었다고 생각하는 사람이 (㉠ 원고, ㉡ 피고) 가 되어 법원에 소장을 제출함으로써 시작된다.
- (3) 형사 재판의 법정에서 (㉠ 판사, ㉡ 검사) 는 증거를 제시하면서 피고인의 범죄 사실을 밝힌다.
- (4) 1심 법원의 판결에 불복하여 2심 재판을 청구하는 것을 (㉠ 상고, ㉡ 항소) 라고 한다.

3 다음 설명에 해당하는 형사 재판 참여자를 <보기>에서 골라 기호를 쓰시오.

보기

- ㄱ. 검사 ㄴ. 판사 ㄷ. 피고인

- (1) 범죄 혐의가 있어 형사 재판을 받는 사람 (ㄷ)
- (2) 피고인의 죄의 유무, 형벌의 종류와 양을 판결하는 사람 (ㄴ)
- (3) 범죄를 수사하고 법을 위반한 점에 대해 처벌을 요구하는 사람 (ㄱ)

4 밑줄 친 곳을 바르게 고쳐 쓰시오.

- (1) 판사 검사는 당사자들의 주장을 듣고 관련 자료를 검토한 후 공정하게 법을 적용하여 누구의 말이 맞는지, 누가 잘못된 것인지를 공식적으로 판단한다.
- (2) 민사 재판은 사회 질서를 위협하는 범죄 사건에 적용되는 재판이다.
- (3) 형사 재판은 판사가 피의자를 대상으로 공소를 제기(기소)하면서 시작된다.
- (4) 우리나라는 모든 국민이 공정한 재판을 받을 수 있도록 급을 달리하는 법원에서 여러 번 재판을 받을 수 있게 하는 심급 제도를 두고 있다.

01 다음 글을 통해 파악할 수 있는 재판의 기능으로 가장 적절한 것은?

원숭이가 사진작가의 카메라로 자신의 얼굴을 찍었다면, 이 사진의 저작권은 원숭이와 사진작가 중 누구에게 있을까? 2011년 원숭이 사진의 저작권을 놓고 동물 권리 단체와 사진작가가 재판에서 맞붙었다. 동물 권리 단체 측은 사진작가의 도움 없이 스스로를 찍은 사진의 저작권은 원숭이에게 있다고 주장하였다. 반면에 사진작가는 자신의 카메라로 이루어진 행위임을 강조하며 자신에게 저작권이 있다고 주장하였다. 2016년 미국 연방 법원은 자연, 동물, 식물이 만든 작품은 저작권의 보호를 받을 수 없다는 판결을 내렸고, 원숭이 사진은 누구의 소유도 아니라고 판결하였다.

- ① 사회 질서를 유지한다.
- ② 사회적 약자를 보호한다.
- ③ 공공복리의 증진을 도모한다.
- ④ 사람들 사이의 분쟁을 해결한다.
- ⑤ 잘못을 저지른 사람을 처벌한다.

정답 ④ | 원숭이 사진의 소유권이 누구에게 있는지에 대해 동물 권리 단체와 사진작가 간의 분쟁을 재판을 통해 해결한 사례이다.

02 그림과 같은 법정 모습에 해당하는 재판은?



- ① 민사 재판 ② 형사 재판 ③ 선거 재판
- ④ 가사 재판 ⑤ 헌법 재판

정답 ② | 그림에 피고인과 검사가 있으므로 형사 재판의 모습이다. 형사 재판은 범죄 행위의 유무죄를 판단하고 형벌의 종류와 형량을 결정한다.

03 민사 재판에 대한 설명으로 옳지 않은 것은?

- ① 개인 간 분쟁을 해결한다.
- ② 소송을 제기한 사람을 원고라고 한다.
- ③ 소송을 당한 사람을 피고인이라고 한다.
- ④ 대체로 손해 배상에 대한 내용의 판결이 많다.
- ⑤ 재판에서 원고와 피고는 각자의 주장을 펼친다.

정답 ③ | 민사 재판에서 소송을 당한 사람을 피고라고 한다. 피고인은 형사 재판에서 범죄 혐의가 있어 재판을 받는 사람이다.

중요

04 자료에 대한 설명으로 옳은 것을 <보기>에서 고른 것은?

<상황> 갑이 을을 폭행하여 전치 4주의 상해를 입혔다.
 (가) 을은 손해 배상을 받기 위해 법원에 소장을 제출하였다.
 (나) 을은 관할 경찰서에 고소장을 제출하였고, 한 달 후 재판이 개시되었다.

보기

- ㄱ. (가)에서 원고는 을이고, 피고는 갑이다.
- ㄴ. (나)에서 원고는 검사이고, 피고인은 갑이다.
- ㄷ. (나)에서 을의 기소에 의해 재판이 개시된다.
- ㄹ. (가)의 재판이 끝난 후에 (나)의 판결이 내려진다.

- ① ㄱ, ㄴ ② ㄱ, ㄷ ③ ㄴ, ㄷ
- ④ ㄴ, ㄹ ⑤ ㄷ, ㄹ

정답 ① | (가)는 민사 재판, (나)는 형사 재판이다. ㄷ, 형사 재판은 검사의 기소로 개시된다. ㄹ, 같은 사건에 대한 민사 재판과 형사 재판은 따로 진행된다.

05 형사 재판에 대한 설명으로 옳은 것은?

- ① 원고의 소장 제출에 의해 시작된다.
- ② 범죄자에게 형벌을 가하기 위한 재판이다.
- ③ 피고인은 구속된 상태로 재판받는 것이 원칙이다.
- ④ 증거가 명확하지 않으면 국민 여론에 따라 재판한다.
- ⑤ 개인 간의 법률 관계에 대한 분쟁을 해결하고자 한다.

정답 ② | 형사 재판은 범죄 혐의가 충분한 사람에 대해 검사가 공소를 제기하여 형벌을 가하기 위한 재판이다.

06 다음 사례에 대한 설명으로 옳지 않은 것은?

갑과 을은 결혼식을 준비하면서 △△ 예식장을 예약하였다. 이때 결혼식의 전 과정을 영상으로 촬영한다는 조건을 넣어 계약하고 예약금을 지불하였다. 그런데 사진작가의 실수로 결혼식 영상이 전혀 촬영되지 않았다. 갑과 을은 △△ 예식장 대표 병을 상대로 손해 배상을 청구하였으나 병은 이를 거절하였다. 이에 갑과 을은 병을 상대로 법원에 손해 배상 청구 소송을 제기하였다.

- ① 민사 재판에 해당한다.
- ② 원고는 갑과 을이 된다.
- ③ 병은 재판 전에 답변서를 법원에 보낸다.
- ④ 재판에서 검사는 병에게 형벌을 구형한다.
- ⑤ 판사는 증거와 변론을 토대로 판결을 내린다.

정답 ④ | 제시된 사례는 손해 배상을 청구하는 민사 재판이므로 검사가 관여하지 않는다. 검사가 형벌을 구형하는 것은 형사 재판이다.

고난도

07 다음 사례와 관련된 재판의 절차에 대한 설명으로 옳은 것을 <보기>에서 고른 것은?

갑은 을에게 전화를 걸어 자신을 금융 감독원 직원이라고 속였다. 그리고 을의 통장이 범죄에 이용되었으니 계좌를 없애야 한다며 그 통장에 있는 돈을 자신이 알려 주는 계좌에 송금해야 한다고 설득하였다. 이에 을이 5천만 원을 송금하였고, 갑은 이 돈을 가지고 달아났다. 을의 고소에 의해 갑은 경찰에 체포되었다.

보기

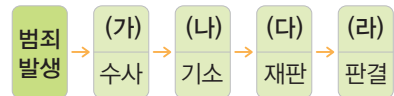
- ㄱ. 갑이 을에게 돈을 돌려주면 수사가 종료된다.
- ㄴ. 수사 후 검사가 기소하면 판사가 재판을 통해 판결한다.
- ㄷ. 재판 도중에 갑과 을이 합의하면 갑은 무죄를 선고받는다.
- ㄹ. 갑은 수사 과정에서는 피의자, 재판 과정에서는 피고인이 된다.

- ① ㄱ, ㄴ ② ㄱ, ㄷ ③ ㄴ, ㄷ
- ④ ㄴ, ㄹ ⑤ ㄷ, ㄹ

정답 ④ | ㄱ, 갑의 을에 대한 사기 혐의는 이미 성립하였으므로 나중에 갑이 을에게 돈을 돌려주더라도 수사가 종료되는 것은 아니다. ㄷ, 형사 재판은 범죄 혐의에 대한 형벌 부과를 목적으로 하므로 재판 도중에 갑과 을이 합의하더라도 갑이 무죄를 선고받는 것은 아니다.

중요

08 다음은 형사 재판 절차를 나타낸 것이다. (가)~(라)에 대한 설명으로 옳지 않은 것은?



- ① (가)는 고소, 고발 등에 의해 시작된다.
- ② (나)에 의해 피의자는 피고인이 된다.
- ③ (다)는 증거 재판, 공개 재판의 원칙에 따른다.
- ④ (라)에 불복하는 피고인은 2심 법원에 항소할 수 있다.
- ⑤ (라)에 대해 피고인이 항소하지 않으면 판결이 확정된다.

정답 ⑤ | 1심 법원의 판결에 대해 검사가 항소하면 2심 법원에서 재판이 진행된다. 피고인이 항소하지 않더라도 판결이 확정되지 않을 수 있다.

09 형사 재판의 참여자에 관한 설명으로 옳은 것은?

- ① 원고 - 소송을 제기한 사람이다.
- ② 판사 - 법원에 재판을 요구하는 사람이다.
- ③ 피고인 - 기소되어 재판을 받는 사람이다.
- ④ 변호인 - 피고인의 처벌을 요구하는 사람이다.
- ⑤ 검사 - 피고인의 유무죄 여부를 가리고 형벌을 정하는 사람이다.

정답 ③ | 형사 재판에서 피고인의 처벌을 요구하는 사람은 검사이고, 기소되어 재판을 받는 사람은 피고인이다. 11. 일상생활과 법 219 피고인의 유무죄 여부를 가리고 형벌을 정하는 사람은 판사이다.

10 그림에 해당하는 재판에 대한 설명으로 옳은 것은?



- ① 검사의 공소 제기로 시작된다.
- ② 개인 사이의 분쟁을 해결한다.
- ③ 배심원이 재판 과정에 참여한다.
- ④ 판사는 유죄 또는 무죄 판결을 내린다.
- ⑤ 법률이 헌법에 위반되는지를 판단한다.

정답 ② | 그림에 원고와 피고가 있으므로 민사 재판이다. 민사 재판은 개인과 개인 간의 법률 관계에서 다툼이 발생했을 경우 분쟁을 해결하기 위한 재판이다.

11 민사 재판의 절차를 바르게 나열한 것은?

- (가) 분쟁의 발생
- (나) 재판과 판결
- (다) 원고의 소장 제출
- (라) 피고인의 답변서 제출
- (마) 법원은 소장 복사본을 피고에게 전달

- ① (가) - (나) - (다) - (라) - (마)
- ② (가) - (다) - (마) - (라) - (나)
- ③ (가) - (다) - (라) - (마) - (나)
- ④ (가) - (마) - (라) - (다) - (나)
- ⑤ (가) - (마) - (다) - (라) - (나)

정답 ② | 민사 재판은 분쟁의 발생 - 원고의 소장 제출 - 법원은 소장 복사본을 피고에게 전달 - 피고의 답변서 제출 - 재판과 판결 순으로 이루어진다.

중요

12 사법권의 독립을 보장하는 목적으로 가장 적절한 것은?

- ① 공정한 재판을 위해
- ② 신속한 재판을 위해
- ③ 사회적 약자를 보호하기 위해
- ④ 무죄 판결을 이끌어내기 위해
- ⑤ 국민 여론에 따라 재판하기 위해

13 공정한 재판을 실현하기 위한 요건으로 옳은 것을 <보기>에서 고른 것은?

보기

- ㄱ. 재판의 심리와 판결을 소송 당사자에게만 공개한다.
- ㄴ. 법원의 조직이나 운영을 다른 국가기관으로부터 독립시킨다.
- ㄷ. 신속한 재판 진행을 위하여 증거보다는 증인의 증언을 중시한다.
- ㄹ. 법관이 헌법과 법률에 의거하여 그 양심에 따라 판결할 수 있도록 한다.

- ① ㄱ, ㄴ ② ㄱ, ㄷ ③ ㄴ, ㄷ
- ④ ㄴ, ㄹ ⑤ ㄷ, ㄹ

정답 ④ | ㄱ. 재판의 심리와 판결은 공개 재판주의에 따라 일반 시민에게도 공개한다. ㄷ. 증거 재판주의에 따라 법원은 구체적인 증거를 바탕으로 판결해야 한다.

14 다음 대화의 밑줄 친 ㉠에 대한 설명으로 옳은 것은?

갑: 어제 결근했는데 어디 아팠어요?
을: 법원에 다녀왔어요. 배심원으로 ㉠ 국민 참여 재판에 참여했어요.

- ① 모든 종류의 재판에 적용된다.
- ② 일정한 법적 지식을 갖추어야 배심원이 된다.
- ③ 판사는 배심원의 의견을 반드시 따라야 한다.
- ④ 배심원은 피고인의 유무죄에 대한 의견을 제시한다.
- ⑤ 재판 과정에서 범죄 피해자를 보호하기 위한 제도이다.

정답 ④ | 국민 참여 재판에서 배심원은 피고인의 유무죄에 대한 의견을 제시한다.

중요

15 다음과 같은 재판 제도에 대한 옳은 설명을 <보기>에서 고른 것은?



보기

- ㄱ. 재판의 신속성과 효율성을 높인다.
- ㄴ. 민사 재판과 달리 형사 재판에 적용된다.
- ㄷ. 재판의 공정성을 확보하는 데 도움을 준다.
- ㄹ. 법관이 잘못된 판결을 내릴 가능성을 최소화한다.

- ① ㄱ, ㄴ ② ㄱ, ㄷ ③ ㄴ, ㄷ
- ④ ㄴ, ㄹ ⑤ ㄷ, ㄹ

정답 ⑤ | 그림은 삼급 제도를 나타낸다. 우리나라는 일반적으로 하나의 사건에 대해 급을 달리하는 법원에서 세 번까지 재판을 받을 수 있도록 하는 3심제를 원칙으로 한다.

16 심급 제도에 대한 옳은 설명을 <보기>에서 고른 것은?

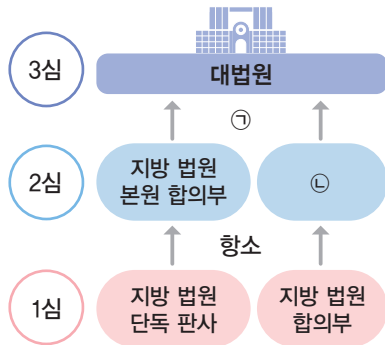
보기

- ㄱ. 우리나라는 모든 사건에 대해 2심제를 적용한다.
- ㄴ. 하나의 사건에 대해서 여러 번 재판을 받을 수 있도록 한다.
- ㄷ. 판결이 확정된 사건이라도 국민 여론에 따라 다시 재판할 수 있다.
- ㄹ. 법관의 잘못된 판결로 발생할 수 있는 피해를 최소화하기 위한 제도이다.

- ① ㄱ, ㄴ ② ㄱ, ㄷ ③ ㄴ, ㄷ
- ④ ㄴ, ㄹ ⑤ ㄷ, ㄹ

정답 ④ | ㄱ. 우리나라는 3심제가 원칙이다. ㄷ. 판결이 확정된 사건의 경우 원칙적으로 다시 재판하지는 않는다.

17 ㉠, ㉡에 들어갈 용어로 옳은 것은?



- ㉠ ㉡
- ① 항고 지방 법원 단독 판사
- ② 상고 지방 법원 단독 판사
- ③ 상고 고등 법원
- ④ 항소 고등 법원
- ⑤ 항고 지방 법원 본원 합의부

정답 ⑤ | 1심 법원이 지방 법원 합의부일 경우 항소하면 2심 법원은 고등 법원이 된다. 2심 법원의 판결에 불복하여 대법원에 재판을 다시 청구하는 것을 상고라고 한다.

서술형 문제

18 다음 사례에 적용되는 재판의 종류를 쓰고, 누가 무엇을 함으로써 재판이 시작되는지를 서술하시오.

갑의 과실로 을의 자동차가 파손되어 을이 갑에게 손해 배상액 500만 원을 요구했으나 갑이 거절하였다.

예시 답안 | 민사 재판이며, 을이 갑을 상대로 법원에 손해 배상을 청구한다는 내용의 조장을 제출함으로써 재판이 시작된다.

구분	채점 기준
상	을이 갑을 상대로 법원에 손해 배상 청구 소송을 제기하면 민사 재판이 시작된다고 서술한 경우
하	민사 재판만을 쓴 경우

구분	채점 기준
상	사법권의 독립과 공정한 재판을 모두 서술한 경우
하	사법권의 독립 보장을 위함이라고만 서술한 경우

19 다음은 우리나라 헌법 조항이다. 이 조항들이 공통적으로 추구하는 목적을 서술하시오.

- 사법권은 법관으로 구성된 법원에 속한다.
- 법관은 헌법과 법률에 의하여 그 양심에 따라 독립하여 심판한다.

예시 답안 | 우리나라는 헌법에 사법권의 독립을 보장하여 재판이 다른 국가 기관이나 여론 등의 영향을 받지 않고 공정하게 이루어질 수 있도록 한다.

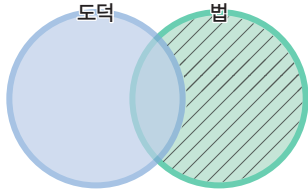
구분	채점 기준
상	인간의 존엄성 보장, 사회 질서와 안정 유지, 정의 실현이 불가함을 서술한 경우
하	인간의 존엄성 보장, 사회 질서와 안정 유지, 정의 실현 중 하나만 포함하여 서술한 경우

20 다음 글을 읽고 공정한 재판이 중요한 까닭을 서술하시오.

1894년에 프랑스군 장교 드레퓔스는 군사 정보를 독일에 넘긴 혐의로 체포되어 비공개로 군사 재판을 받았다. 유출된 문서의 글씨체가 드레퓔스의 글씨체와 유사하다는 것 이외에는 별 다른 증거가 없었다. 언론은 드레퓔스를 반역자로 규정했고, 7명의 판사는 만장일치로 드레퓔스에게 유죄 판결을 내렸다. 그러나 유출된 문서의 글씨체가 다른 장교의 것이었음이 드러나면서, 1906년 재심에서 드레퓔스는 무죄를 선고받았다.

예시 답안 | 재판이 공정하게 이루어지지 않으면 국민의 자유와 권리가 침해되어 인간의 존엄성을 보장받기 어렵고, 사회 질서와 안정도 유지할 수 없으며 정의를 실현할 수 없다.

01 빗금 친 부분에 해당하는 사례로 가장 적절한 것은?



- ① 음주 운전을 하면 안 된다.
- ② 집을 갖고 있으면 세금을 내야 한다.
- ③ 설날에는 산소에 가서 성묘해야 한다.
- ④ 어른께는 공손한 말씨로 대답해야 한다.
- ⑤ 남을 때리거나 상해를 입혀서는 안 된다.

정답 ② | 집을 갖고 있으면 세금을 내야 하는 것은 법에만 해당한다. 음주 운전은 도덕과 법에서 모두 금지한다. 법은 사회 구성원의 합의에 따라 국가가 정한 규범으로, 지방세법에 집을 소유한 사람은 재산세를 납부해야 한다는 규정이 있다.

중요

02 다음 두 사례에서 공통적으로 유추할 수 있는 법의 기능으로 가장 적절한 것은?

- 학교 급식은 학교 급식법에 의해 엄격히 관리되므로 상한 음식을 먹을 염려는 없다.
- 수업 중 부상이 발생하면 학교 안전사고 예방 및 보상에 관한 법률에 근거하여 보상을 받을 수 있다.

- ① 사회 정의를 실현한다.
- ② 국가의 안전을 보장한다.
- ③ 개인의 권리를 보호한다.
- ④ 개인 간의 분쟁을 해결한다.
- ⑤ 저소득층의 최저 생활을 보장한다.

정답 ③ | 학교 급식법이 있어 안심하고 학교 급식을 먹을 수 있으며, 학교 안전사고 예방 및 보상에 관한 법률에 따라 수업 중에 부상을 입더라도 보상을 받을 수 있다. 따라서 법은 개인의 권리를 보호해 주는 기능을 한다는 것을 알 수 있다.

03 밑줄 친 ㉠~㉣의 법 중 잘못 적용된 것은?

사람은 태어나서 죽을 때까지 법의 울타리 내에서 보호와 규제를 받는다. 결혼을 하면 혼인 신고를 해야 ㉠ 민법상 법적인 부부로 인정을 받는다. 아이가 태어나 일정한 나이가 되면 ㉡ 교육 기본법에 따라 학교에 가서 중학교까지 의무 교육을 받는다. 학교에서는 ㉢ 학교 급식법에 의해 엄격하게 관리되는 급식을 먹는다. 등·하굣길에서는 ㉣ 도로 교통법에 따라 교통 신호를 지켜야 하고, 청소년은 ㉤ 형법에 의해 술, 담배 등을 구입할 수 없다.

- ① ㉠ ② ㉡ ③ ㉢ ④ ㉣ ⑤ ㉤

정답 ⑤ | 청소년은 청소년 보호법에 의해 술, 담배 등을 구입할 수 없다. 개념풀 중학 사회 ①

04 사회 규범 (가)~(다)에 대한 설명으로 옳은 것은?

- (가) 살인을 한 자는 징역 5년 이상 또는 사형에 처한다.
- (나) 버스나 지하철에서는 어른에게 자리를 양보해야 한다.
- (다) 제사상의 과일은 홍동백서(紅東白西)의 순으로 차린다.

- ① (가)의 비중이 커지면 개인의 자율성이 높아진다.
- ② (나)는 권리와 의무를 규정하고 있다.
- ③ (다)는 양심에 바탕을 두고 있다.
- ④ 사회가 다양화됨에 따라 (가)에 비해 (나)의 역할이 커졌다.
- ⑤ 사회의 변화에 따라 (나)가 (가)로 변할 수도 있다.

정답 ⑤ | (가)는 법, (나)는 도덕, (다)는 관습이다. 사회의 변화에 따라 양심에 의존하던 도덕이 강제성을 가진 법으로 변할 수도 있다.

05 자료에서 파악할 수 있는 법의 목적으로 가장 적절한 것은?



정의의 여신상 왼손의 저울은 평등하게 판단을 하겠다는 의미이다. 오른손의 칼은 법과 질서를 어긴 사람에 대해 엄정하게 법을 집행하겠다는 의미이다.

- ① 질서 유지 ② 정의의 실현
- ③ 국가 안전 보장 ④ 공공복리의 증진
- ⑤ 민주주의의 실현

정답 ② | 정의는 모든 사람에게 각자가 받아야 할 정당한 몫을 주는 것으로 정의의 실현은 법이 추구하는 궁극적인 목적이다.

06 다음 글을 통해 파악할 수 있는 법의 기능으로 옳지 않은 것은?

일상생활에서 학교 폭력은 심각한 문제이다. 이와 관련하여 우리나라에서는 2004년에 학교 폭력 예방 및 대책에 관한 법률을 제정하여 시행하고 있다. 이 법은 학교 폭력이 무엇인지를 명확히 제시하고 있으며, 피해 학생의 보호, 가해 학생에 대한 조치 등을 규정하고 있다.

- ① 분쟁을 예방한다.
- ② 다툼을 해결한다.
- ③ 사회 질서를 유지한다.
- ④ 개인의 권리를 보호한다.
- ⑤ 사회 전체의 복지를 도모한다.

정답 ⑤ | 학교 폭력 예방 및 대책에 관한 법률에 따라 학교 폭력 가해자를 처벌하고 피해자를 구제하며, 이 법에 근거하여 학교 폭력을 방지하는 교육을 하여 사회 질서를 유지한다.

중요

07 (가)~(다)의 경우에 해당하는 법 영역으로 옳은 것은?

(가) 갑은 아버지가 사망하자 재산을 상속받았다.
 (나) 을은 퇴직 후 매달 국민연금을 받아 생활한다.
 (다) 병은 이번 대통령 선거에서 처음으로 투표권을 행사하였다.

- | | | | |
|---|-----|-----|-----|
| | (가) | (나) | (다) |
| ① | 공법 | 사법 | 사회법 |
| ② | 공법 | 사회법 | 사법 |
| ③ | 사법 | 공법 | 사회법 |
| ④ | 사법 | 사회법 | 공법 |
| ⑤ | 사회법 | 공법 | 사법 |

정답 ④ | 갑은 민법에 의해 상속을 받았고, 을은 국민연금법에 의해 국민연금을 받았으며, 병은 공직 선거법에 의해 선거권을 행사하였다.

08 다음 내용을 규정하고 있는 법은?

• 18세의 미성년자는 부모의 동의를 얻어 혼인할 수 있다.
 • 남에게 피해를 입힌 사람은 손해 배상을 해 주어야 한다.

- | | |
|-----------|----------|
| ① 민법 | ② 형법 |
| ③ 헌법 | ④ 근로 기준법 |
| ⑤ 소비자 보호법 | |

정답 ① | 혼인이나 손해 배상에 대한 내용은 민법에 규정되어 있다. 민법은 개인의 재산 관계 및 가족 관계에 대한 권리와 의무 등을 규정한 법이다.

09 A, B에 대한 설명으로 옳은 것을 <보기>에서 고른 것은? (단, A와 B는 각각 공법, 사법 중 하나임.)

법은 규율하는 생활 관계에 따라 A, B로 구분할 수 있다. 범죄자의 처벌과 관련된 법은 A로, 상속인의 순위를 규정한 법은 B로 분류된다.

보기

ㄱ. 민법은 A에 해당한다.
 ㄴ. 국민의 기본권을 규정한 법은 B에 해당한다.
 ㄷ. A는 국가와 개인 간의 관계를 다룬다.
 ㄹ. B는 사적인 생활 관계를 다룬다.

- | | | |
|--------|--------|--------|
| ① ㄱ, ㄴ | ② ㄱ, ㄷ | ③ ㄴ, ㄷ |
| ④ ㄴ, ㄹ | ⑤ ㄷ, ㄹ | |

정답 ⑤ | A는 공법, B는 사법이다. ㄱ. 민법은 사법에 해당한다. ㄴ. 국민의 기본권을 규정한 법은 헌법으로 공법에 해당한다.

10 다음은 어느 법의 일부 조항이다. 이 법에 대한 설명으로 옳은 것은?

제172조 ① 보일러, 고압가스 기타 폭발성 있는 물건을 파열시켜 사람의 생명, 신체 또는 재산에 대하여 위험을 발생시킨 자는 1년 이상의 유기 징역에 처한다.

- ① 개인의 양심을 강조하고 있다.
- ② 공적인 생활 관계를 다루고 있다.
- ③ 자본주의 모순을 극복하기 위한 것이다.
- ④ 의무보다는 주로 권리를 규율하고 있다.
- ⑤ 사회적 약자의 복지 증진에 목적이 있다.

정답 ② | 제시된 법률 조항은 범죄와 형벌이 규정되어 있으므로 형법임을 알 수 있다. 형법은 공적인 생활 관계를 다루는 공법에 해당한다.

[11-12] 다음 자료를 보고 물음에 답하십시오.

A법

- 등장 배경: 빈부 격차, 노동 문제, 독점 기업의 횡포, 환경 오염 등의 사회문제 발생
- 특징: 국가의 적극 개입, 사법과 공법의 중간적 성격
- 종류: 노동법, 경제법, 사회 보장법 등

과년도

11 A법에 대한 설명으로 옳은 것은?

- ① 자유로운 경쟁을 강조한다.
- ② 사적인 관계를 규율하는 사법이다.
- ③ 위반 시 형사상 처벌을 받을 수 있다.
- ④ 소유권의 절대적 보장을 주요 내용으로 한다.
- ⑤ 작은 정부를 지향할수록 목표 달성에 유리하다.

정답 ③ | A법은 사회법이다. 사회법은 원래는 사적인 생활 영역이지만 국가가 개입하여 강제성을 띤 것이므로 위반 시 형사상 처벌을 받을 수 있다.

12 A법이 적용된 사례로 적절한 것을 <보기>에서 고른 것은?

보기

ㄱ. 순찰 중인 경찰관이 보이스 피싱 현행범을 체포하였다.
 ㄴ. 18세의 미성년자가 부모의 동의를 얻어 결혼을 하였다.
 ㄷ. 갑자기 수술을 받게 되었지만 국민 건강 보험 덕분에 큰 비용이 들지 않았다.
 ㄹ. 고용 노동부는 근로자에게 초과 수당을 지급하지 않은 업체에 대한 사실 조사에 착수하였다.

- | | | |
|--------|--------|--------|
| ① ㄱ, ㄴ | ② ㄱ, ㄷ | ③ ㄴ, ㄷ |
| ④ ㄴ, ㄹ | ⑤ ㄷ, ㄹ | |

정답 ⑤ | ㄱ. 국민 건강 보험은 국민 건강 보험법에 근거한 것으로서 사회법의 영역이다. ㄷ. 근로자에게 초과 수당을 지급하는 것은 근로 기준법에 규정된 것으로서 사회법의 영역이다.

13 다음 내용이 설명하는 법에 해당하지 않는 것은?

- 공법과 사법의 중간적 성격을 띠고 있는 제3의 법 영역이다.
- 자본주의의 문제점을 해결하기 위해 근래에 등장한 법이다.
- 사법의 규율 대상에 공적인 요소가 가미되어 사법의 공법화 현상을 유발하고 있다.

- ① 민법
- ② 근로 기준법
- ③ 국민연금법
- ④ 소비자 기본법
- ⑤ 독점 규제 및 공정 거래에 관한 법률

정답 ① | 제시문은 사회법과 관련된 내용이다. 사회법은 크게 노동법, 경제법, 사회 보장법으로 구분한다. 민법은 개인 간의 생활 관계를 규율하는 사법에 해당한다.

정답 ③ | (가)는 민사 재판, (나)는 형사 재판이다. ③ 피고는 민사 재판에서 소송을 당한 사람이다. 범죄 혐의자가 기소되어 형사 재판을 받고 있을 경우에는 피고인이라고 한다.



14 (가), (나)는 서로 다른 유형의 소송 절차를 나타낸 것이다. 이에 대한 설명으로 옳지 않은 것은?

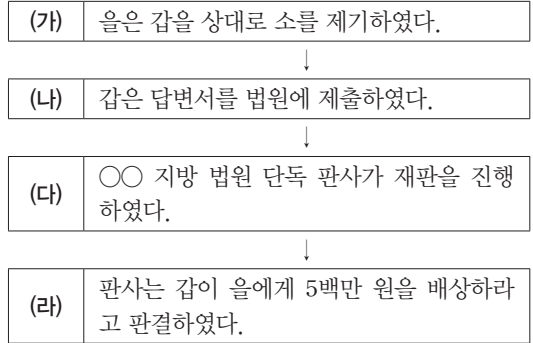


- ① ㉠에 대해 법원은 소장의 복사본을 피고에게 전달한다.
- ② ㉡에 불복하는 경우에는 상소할 수 있다.
- ③ ㉣에서 범죄 혐의자는 피고가 된다.
- ④ ㉢은 검사에 의해 이루어진다.
- ⑤ (가)에서 원고는 소송을 제기한 자이고, (나)에서 원고는 검사이다.

관단 15

다음 사례에 대한 설명으로 옳은 것은?

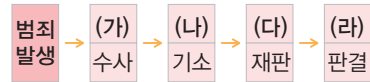
음식점을 운영하는 갑은 실수로 뜨거운 국물을 쏟아 손님 을에게 화상을 입혔다. 이에 을은 갑에게 5백만 원의 손해 배상을 요구하였고, 을은 배상액이 너무 많이라며 거부하였다. 결국 을은 갑을 상대로 손해 배상 청구 소송을 제기하였다. 재판은 다음과 같이 진행되었다.



- ① (가)에 대해 법원은 을의 소장 복사본을 갑에게 전달한다.
- ② (나)에 대해 검사가 기소해야 재판이 진행된다.
- ③ (다)에서 갑은 원고, 을은 피고가 된다.
- ④ (라)에 대해 을이 상소하지 않으면 판결은 확정된다.
- ⑤ 을이 상소할 경우 2심 법원은 고등 법원이 된다.

정답 ① | 을이 소장을 제출하면 법원은 을의 소장 복사본을 갑에게 전달하면서 재판이 시작되었음을 알린다.

16 다음은 형사 재판 절차를 나타낸 것이다. (가)~(라)에 대한 설명으로 옳은 것을 <보기>에서 고른 것은?



보기

- ㄱ. (가)는 원고의 소 제기에 의해 시작된다.
- ㄴ. (나)에 의해 피의자는 피고인이 된다.
- ㄷ. (다)에서는 증거 재판의 원칙과 공개 재판의 원칙에 따른다.
- ㄹ. (라)에 불복하는 피해자는 상소할 수 있다.

- ① ㄱ, ㄴ
- ② ㄱ, ㄷ
- ③ ㄴ, ㄷ
- ④ ㄴ, ㄹ
- ⑤ ㄷ, ㄹ

정답 ③ | ㄱ. 형사 재판에서 수사는 고소, 고발, 자수 등에 의해 시작된다. ㄹ. 피해자는 형사 재판의 당사자가 아니므로 판결에 불복하더라도 상소할 수 없다.

17 다음 내용을 실현하기 위한 조건을 <보기>에서 고른 것은?

사법권은 권력 분립의 차원에서 입법권 및 행정권으로부터의 독립성을 유지해야 하고, 더 나아가 구체적인 재판 과정에 외부 기관의 간섭이나 압력을 받지 않아야 한다.

보기

- ㄱ. 법관의 신분을 보장하고 있다.
- ㄴ. 법관은 검사와 협의하여 재판한다.
- ㄷ. 사법권을 분리하여 법원에 부여한다.
- ㄹ. 국민의 여론을 재판에 적극 반영한다.

- ① ㄱ, ㄴ ② ㄱ, ㄷ ③ ㄴ, ㄷ
- ④ ㄴ, ㄹ ⑤ ㄷ, ㄹ

정답 ② | 사법권의 독립을 보장하기 위해 법관의 신분을 보장하고, 법원의 조직이나 운영을 다른 국가기관으로부터 독립시켜 외부의 간섭이나 압력을 받지 않도록 운영한다.

중요

18 심급 제도에 관한 설명으로 옳은 것은?

- ① 모든 재판은 3심제를 거쳐야 한다.
- ② 3심 법원은 대법원 또는 헌법재판소이다.
- ③ 1심이 지방 법원 단독 판사이면 2심은 고등 법원이다.
- ④ 1심 법원의 판결에 불복하여 2심 법원에 재판을 청구하는 것은 항소이다.
- ⑤ 2심 법원의 판결에 불복하여 3심 법원에 재판을 청구하는 것은 항고이다.

정답 ④ | ① 특허 재판은 2심제, 대통령과 국회 의원의 선거 소송은 1심제가 적용된다. ② 헌법재판소는 헌법 재판을 담당한다. ③ 1심이 지방 법원 단독 판사이면 2심은 지방 법원 합의부이다. ⑤ 2심 법원의 판결에 불복하여 3심 법원에 재판을 청구하는 것은 상고이다.

19 다음은 1심 법원의 판결문이다. 이에 대한 설명으로 옳은 것을 <보기>에서 고른 것은?

피고인 갑의 행위는 형법에 규정된 폭행에 해당하므로 피고인을 유죄로 인정하고 징역 6개월에 처한다.
판사 갑, 판사 을, 판사 병

보기

- ㄱ. 갑은 검사에 의해 기소되었다.
- ㄴ. 이 재판에서 소송 당사자는 갑과 피해자이다.
- ㄷ. 갑이 항소할 경우 고등 법원이 2심 법원이 된다.
- ㄹ. 갑이 항소하지 않더라도 피해자가 항소할 수 있다.

- ① ㄱ, ㄴ ② ㄱ, ㄷ ③ ㄴ, ㄷ
- ④ ㄴ, ㄹ ⑤ ㄷ, ㄹ

정답 ㉠ | ㄴ. 형사 재판이므로 재판 당사자는 검사와 갑이다. ㄹ. 피해자는 재판 당사자가 아니므로 항소할 수 없다.

서술형 문제

20 사회 변화에 따라 B가 A로 변화된 사례를 두 가지 서술하시오.

- A는 국가가 제정한 행위 규범으로 행위의 결과에 중점을 두는 것인 데 반해, B는 인격적 생활을 하는 데 필요한 행위의 기준을 표시한 것이다.
- A는 준수할 것을 외부로부터 강제받지만, B는 지킬 것을 사람의 양심에 호소하고 외부로부터 강제받지 않는다.

예시 답안 | 청소년이 담배를 피우지 못하는 것은 과거에는 도덕의 영역이었지만 청소년 보호법에 청소년은 담배를 구입할 수 없도록 규정하였다. 옷을 단정하게 입는 것은 도덕의 영역이었지만 공공장소에서 노출이 심한 옷을 입으면 경범죄 처벌법에 의해 처벌을 받는다.

구분	채점 기준
상	도덕이 법으로 변한 사례를 두 가지 모두 서술한 경우
하	도덕이 법으로 변한 사례를 하나만 서술한 경우

구분	채점 기준
상	제시어를 모두 사용하여 사회법의 등장 배경을 옳게 서술한 경우
하	제시어를 1개만 사용하여 사회법의 등장 배경을 옳게 서술한 경우

21 자료의 법이 등장하게 된 배경을 다음 제시어를 사용하여 서술하시오.

노동법	근로 기준법, 노동조합 및 노동 관계 조정법, 최저 임금법 등
경제법	독점 규제 및 공정 거래에 관한 법률, 소비자 기본법 등
사회 보장법	국민 기초 생활 보장법, 국민연금법, 국민 건강 보험법, 장애인 복지법 등

자본주의, 사회문제, 최소한의 인간다운 생활 보장

예시 답안 | 자본주의가 발달하면서 빈부 격차, 노사 갈등과 같은 여러 사회 문제가 발생하자 국가가 사회적 약자를 보호하여 모든 국민의 최소한의 인간다운 생활을 보장하도록 하는 사회법이 등장하였다.




12





인권과 기본권


- 01 인권 보장과 헌법
- 02 기본권의 제한과 침해 구제
- 03 근로자의 권리와 노동권 침해 구제

배울 내용 확인하기

 우리 헌법에
보장된 기본권에는
무엇이 있나요?

 기본권은
항상 보장받을 수
있나요?

 노동 3권에는
무엇이 있나요?



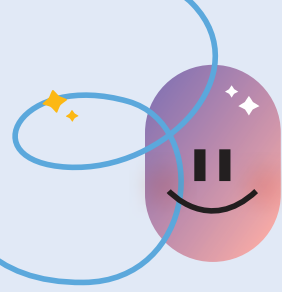
인간으로서의 존엄과
가치, 행복 추구권, 자
유권, 평등권, 참정권,
사회권, 청구권 등이 있
어요.



국가 안전 보장, 질서
유지, 공공복리를 위
해 필요한 경우에 한
하여 기본권을 제한할
수 있어요.



단결권, 단체 교섭권,
단체 행동권이 있어요.



1 인권 보장과 헌법

1 인권의 의미와 인권 침해

인권은 '인간이라면 누구나 가지고 있는 권리'이고, 자연법적 성격이 강한 권리이다.

1. 인권의 의미와 특징

인권의 의미	인간이 인간답게 살아가기 위해 마땅히 누려야 할 기본적인 권리
인권의 특징	<ul style="list-style-type: none"> • 천부 인권: 인권은 인간이 태어나면서 가지는 하늘이 준 권리 • 자연적 권리: 인권은 국가가 법으로 보장하기 이전에 이미 인간에게 주어진 권리 • 보편적 권리: 인권은 국적, 성별, 인종, 나이 등과 상관없이 모든 사람에게 주어진 권리

2. 인권의 발전 과정

- (1) 고대의 노예나 중세의 농노는 지배층과는 달리 인간으로서 존중받지 못하고 차별을 받음. **자료 1**
- (2) 절대 군주의 억압에 맞서 자유와 평등을 보장받기 위한 시민 혁명이 일어났고, 이를 계기로 인권이 제도적으로 보장되기 시작함.
- (3) 시민 혁명 이후에도 여성과 노동자의 참정권 획득을 위한 투쟁이 있었으며, 산업 혁명 이후 인간다운 생활이 강조되면서 사회권이 보장됨.
- (4) 세계 대전이 일어나면서 전쟁으로 많은 사람이 인권을 침해받게 되자 국제 연합(UN)에서는 모든 인간이 보편적으로 누려야 할 인권의 기준을 제시한 세계 인권 선언을 발표함.

세계 인권 선언은 인권 실현을 위한 전 세계의 공동된 기준이다.

3. 일상생활 속 인권 침해 **자료 2**

인권 침해의 원인	사회 구성원의 편견이나 고정 관념, 사회의 관습, 국가의 잘못된 법률과 제도 등
인권 침해 예방	인권의 소중함을 인식하고 인권 보장을 지향하는 관점에서 일상을 바라보려는 인권 감수성이 필요함.

인권 감수성이 높은 사람은 나뿐만 아니라 다른 사람의 권리도 소중하게 여기며 인권 침해에 민감하게 반응하는 사람이라고 할 수 있어.

2 기본권의 종류

기본권은 '국가가 국민에게 부여하는 권리'이고, 실정법적 성격이 강한 권리이다.

1. 헌법과 기본권 **자료 3**

- (1) **헌법**: 민주 국가를 운영하는 모든 법과 제도의 기초가 되는 최고법
- (2) **기본권**: 헌법을 통해 국가가 반드시 보장하겠다고 선언한 기본적인 인권
- (3) **우리 헌법의 기본권 보장**
 - ① 헌법 제10조: '국가는 개인이 가지는 불가침의 기본적 인권을 확인하고 이를 보장할 의무를 진다.'라고 명시함.
 - ② 국가가 국민의 자유와 권리를 함부로 침해해서는 안 되고, 국민의 기본권 보장 의무를 다해야 함을 선언함.


용어 풀단지

- ◆ **인권 감수성** 어떤 상황을 인권 관련 상황으로 인식하고, 그 상황에서 가능한 행동이 관련 당사자에게 어떠한 영향을 미칠지를 알며, 그 상황을 해결하기 위한 책임이 자신에게 있다고 인식하는 것

자료 풀단지

교과서 확인: 아침나라

자료 1 역사 속 인권 침해 사례




▲ 18세기 노예선의 모습

18세기 흑인 노예들은 배 밑바닥에 위치한 짐칸에 짐처럼 포개져 아메리카 대륙으로 보내졌다. 노예에게는 하루 식사로 죽 한 사발과 약간의 물이 주어졌다.

교과서 확인: 동아, 천재

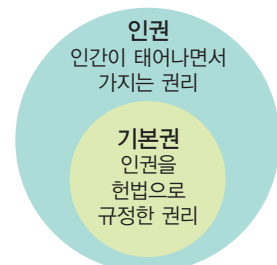
자료 2 뉴욕시의 장애인 마크



뉴욕시는 기존 장애인 마크의 뾰뾰하고 수동적인 움직임의 앞으로 나아가는 역동적인 움직임으로 변경하였다. 이처럼 일상생활에서 만나는 다양한 자극이나 사건의 매우 사소한 요소에서도 인권을 고려하는 인권 감수성을 가져야 한다.

교과서 확인: 아침나라

자료 3 인권과 기본권의 관계



인권은 국가가 존재하기 전부터 인간이라면 당연히 가지는 자연적 권리이다. 기본권은 인권을 헌법으로 보장하여 인권 보장을 위한 국가의 의무와 시민의 권리를 강조한 것이다.

2. 우리 헌법에 보장된 기본권 **자료 4** 인간의 존엄과 가치를 실현하는 데 필요한 기본적인 권리라면 헌법에 명시되지 않아도 보장돼.

인간으로서의 존엄과 가치	인간이라는 이유만으로 존중받아야 할 존재이므로 다른 목적을 위한 수단으로 이용하거나 그 사람의 인격을 훼손하는 행위를 해서는 안 된다는 의미
행복 추구권	행복을 추구함으로써 인간다운 삶을 누릴 수 있는 권리
자유권	국가 권력의 간섭을 받지 않고 자유롭게 생활할 수 있는 권리 예) 신체의 자유, 정신적 자유, 재산권 행사의 자유 등
평등권	부당한 차별을 받지 않고 동등하게 대우받을 권리
참정권	국민이 국가의 정치적 의사 결정 및 국가기관의 형성 과정에 참여할 수 있는 권리 예) 선거권, 공무 부담권, 국민 투표권 등
사회권	인간다운 생활 보장을 국가에 요구할 수 있는 권리 예) 교육을 받을 권리, 쾌적한 환경에서 살 권리 등
청구권	국가에 일정한 행위를 요구하거나 기본권이 침해당했을 때 구제를 요청할 수 있는 권리 예) 청원권, 재판 청구권, 국가 배상 청구권 등

자료 끝단지
 교과서 확인 : 동아, 미래엔, 비상, 아침나라, 천재
자료 4 평등권과 청구권



▲ 근로관계에서의 남녀 평등 ▲ 재판을 청구할 권리
 우리 헌법은 모든 국민이 법 앞에 평등하며, 누구든지 성별, 종교, 사회적 신분 등에 의해 차별받지 않는다고 규정하고 있다. 청구권은 기본권 침해 시 국가에 대해 일정한 행위를 요구할 수 있는 권리이다.

용어 끝단지

◆ **청원권** 국민이 국가기관에 자신의 의견이나 희망을 문서로 제출할 수 있는 권리

STEP 1 개념 IN

1 빈칸에 들어갈 알맞은 말을 쓰시오.

- (1) (**인권**)은/는 인간이 인간답게 살아가기 위해 마땅히 누려야 기본적인 권리로, 태어날 때부터 누구에게나 차별 없이 부여된다.
- (2) 인권 침해를 예방하려면 인권의 소중함을 인식하고 인권 보장을 지향하는 관점에서 일상을 바라보려는 (**인권 감수성**)이/가 필요하다.
- (3) 헌법 제10조에서는 인권을 국민의 (**기본권**)(으)로 규정하고, 국가에 국민의 기본권을 보장할 의무를 부여하였다.

2 ㉠, ㉡ 중 알맞은 것을 고르시오.

- (1) 인권은 모든 사람에게 차별 없이 부여되는 (㉠ 보편적인, ㉡ 형식적인) 권리이다.
- (2) 선거권, 공무 부담권, 국민 투표권 등은 (㉠ 사회권, ㉡ 참정권)에 해당한다.
- (3) (㉠ 자유권, ㉡ 청구권)은 기본권 침해 시 국가에 대해 일정한 행위를 요구할 수 있는 권리이다.

3 다음 내용에 해당하는 기본권을 <보기>에서 골라 기호를 쓰시오.

보기

ㄱ. 자유권	ㄴ. 평등권
ㄷ. 사회권	ㄹ. 청구권

- (1) 부당한 차별을 받지 않음. (**ㄴ**)
- (2) 국가 권력의 간섭을 받지 않음. (**ㄱ**)
- (3) 인간다운 생활의 보장을 국가에 요구함. (**ㄷ**)
- (4) 기본권이 침해당했을 때 구제를 요청함. (**ㄹ**)

4 밑줄 친 곳을 바르게 고쳐 쓰시오.

- (1) 인권은 인간이 태어나면서 가지는 것으로 하늘이 준 권리라는 뜻에서 자연 인권이라고 한다. 전부 인권
- (2) 근대에 이르러서 인권의 중요성을 깨닫기 시작한 사람들은 절대 군주의 억압에 맞서 자유와 평등을 보장 받고자 산업 혁명을 일으켰다. 시민 혁명
- (3) 우리 헌법에는 교육을 받을 권리, 근로의 권리, 쾌적한 환경에서 살 권리 등을 자유권으로 규정하고 있다. 사회권

01 밑줄 친 '이것'의 특징으로 옳은 것은?

모든 인간은 성별, 인종, 종교, 사회적 신분 등에 관계없이 존중받으며 인간답고 평등하게 살아갈 권리가 있다. 이처럼 인간이라면 누구나 누려야 할 권리를 이것이라고 한다.

- ① 태어나면서부터 얻는 권리이다.
- ② 헌법에 의해서만 보장되는 권리이다.
- ③ 국가가 성립해야 인정되는 권리이다.
- ④ 사회적 약자에게만 주어지는 권리이다.
- ⑤ 최대한의 복지를 보장받아야 할 권리이다.

정답 ① | '이것'은 인권으로, 인권은 인간이 태어나면서부터 갖게 되는 자연적인 권리이다. 또한 인권은 모든 사람에게 차별 없이 부여되는 보편적인 권리이며, 다른 사람이나 국가기관이 함부로 침해할 수 없는 권리이다.

02 ㉠에 대한 설명으로 옳은 것은?

17~18세기에 이르러 사람들은 점차 인권 의식에 눈을 뜨게 되었고, 군주가 절대 권력을 행사하였던 신분제 사회에서 인권을 보장받으려 노력하게 되었다. 이러한 노력은 (㉠)으로 이어졌고, 결국 절대 왕정이 무너지고 민주주의 체제가 수립되었다.

- ① 세계 인권 선언이 발표되었다.
- ② 의회와 행정부가 엄격히 분리되었다.
- ③ 인권이 제도적으로 보장되기 시작하였다.
- ④ 영국에서는 독립 전쟁의 형태로 나타났다.
- ⑤ 국제 연합(UN)이 인권 기구로서 역할을 하였다.

정답 ③ | ㉠은 시민 혁명이다. 시민 혁명의 결과 각종 인권 선언이 발표되면서 인권이 제도적으로 보장되기 시작하였다.


정답 ④ | 1948년 국제 연합 총회에서 채택한 세계 인권 선언은 인권의 국제적 기준을 최초로 정했다는 데 의의가 있다.

03 밑줄 친 '이 문서'에 해당하는 것은?

제2차 세계 대전이 끝난 후 1948년 12월 10일 제3차 국제 연합 총회에서 채택된 이 문서는 개인의 자유와 권리를 상세히 기록하고, 인권과 근본적인 자유가 모든 사람과 모든 장소에서 적용된다고 밝히고 있다.

- ① 대헌장
- ② 권리 장전
- ③ 바이마르 헌법
- ④ 세계 인권 선언
- ⑤ 프랑스 인권 선언

04 밑줄 친 ㉡과 관련된 인권 용어는?



뉴욕의 디자이너 사라 핸드레이 제작한 픽토그램은 능동적이고 역동적인 장애인의 모습을 보여 준다. 그는 기존의 픽토그램이 장애를 가진 사람들을 수동적이고 소극적으로 표현하였다고 생각하여 ㉡ 이에 관심을 가지고 개선책을 마련하고 노력하였다. 그 결과 장애인이 세상을 향해 스스로 직접 움직이는 모습으로 픽토그램을 만들게 되었다.

- ① 기본권
- ② 천부 인권
- ③ 인권 감수성
- ④ 인간 존엄성
- ⑤ 행복 추구권

정답 ③ | 인권 침해를 예방하기 위해서는 인권의 소중함을 인식하고 인권 보장을 지향하는 관점에서 일상을 바라보려는 인권 감수성이 필요하다.

정답 ⑤ | 지나친 사생활 침해, 안내견 탑승 금지 등은 인권을 침해하는 행위에 해당한다. ㄱ. 연령에 따른 영화 관람 제한은 인권 침해에 해당하지 않는다. ㄴ. 야간 근로는 주간 근로에 비해 힘들기 때문에 더 많은 임금을 받는 것은 정의에 부합한다.

05 일상생활 속에서 발생하는 인권 침해 사례에 해당하는 것을 <보기>에서 고른 것은?

보기

- ㄱ. 갑은 영화를 매우 좋아한다. 그런데 나이가 어리다는 이유로 특정 영화의 관람이 불가능한 경우가 있다.
- ㄴ. 을은 택배업에 종사하고 있다. 그런데 밤에 일하는 사람이 낮에 일하는 사람에 비해 임금을 더 많이 받아 불공평하다고 생각한다.
- ㄷ. 병은 가수를 꿈꾸며 데뷔를 준비하고 있다. 그런데 강제 합숙 생활과 휴대 전화 사용 금지, 무리한 연습 등으로 어려움을 겪고 있다.
- ㄹ. 정은 시각 장애인이다. 안내견을 데리고 ○○공원에 있는 케이블카를 타려고 했는데 제지당했다. 개를 데리고 케이블카를 탈 수 없다는 것이었다.

- ① ㄱ, ㄴ
- ② ㄱ, ㄷ
- ③ ㄴ, ㄷ
- ④ ㄴ, ㄹ
- ⑤ ㄷ, ㄹ

06 다음 헌법 조항에 대한 분석으로 옳은 것을 <보기>에서 고른 것은?

제10조 모든 국민은 인간으로서의 존엄과 가치를 가지며, 행복을 추구할 권리를 가진다. 국가는 개인이 가지는 불가침의 기본적 인권을 확인하고 이를 보장할 의무를 진다.

보기

- ㄱ. 기본권 남용을 경계하고 있다.
- ㄴ. 우리 헌법이 지향하는 최고의 가치 규범이다.
- ㄷ. 국가의 의무로서 국민의 기본권 수호를 중시하고 있다.
- ㄹ. 기본권은 필요한 경우에 국가가 제한할 수 있음을 밝히고 있다.

- ① ㄱ, ㄴ ② ㄱ, ㄷ ③ ㄴ, ㄷ
- ④ ㄴ, ㄹ ⑤ ㄷ, ㄹ

정답 ③ | ㄱ. 헌법 제10조는 국민의 기본권 보장의 원칙을 규정하고 있다. ㄹ. 기본권 제한 규정은 헌법 제7조 2항에 규정되어 있다.

중요

07 다음에 제시된 헌법상의 기본권이 가지는 공통된 속성으로 가장 적절한 것은?

- 모든 국민은 법률이 정하는 바에 의하여 선거권을 가진다.
- 모든 국민은 법률이 정하는 바에 의하여 공무 담임권을 가진다.

- ① 가장 최근에 인정된 기본권이다.
- ② 오늘날 외국인에게도 널리 인정된다.
- ③ 권리의 성격은 가지나 의무의 성격은 없다.
- ④ 국가의 의사 결정에 참여할 수 있는 권리이다.
- ⑤ 이 권리를 최초로 인정한 것은 세계 인권 선언이다.

정답 ④ | 참정권은 국민이 국가의 정치적 의사 결정 및 국가기관의 형성과정에 참여할 수 있는 권리이다.

08 사회권에 해당하는 기본권을 <보기>에서 고른 것은?

보기

- ㄱ. 신체의 자유
- ㄴ. 국가 배상 청구권
- ㄷ. 교육을 받을 권리
- ㄹ. 깨끗한 환경에서 살 권리

- ① ㄱ, ㄴ ② ㄱ, ㄷ ③ ㄴ, ㄷ
- ④ ㄴ, ㄹ ⑤ ㄷ, ㄹ

정답 ⑥ | 사회권은 인간다운 생활을 보장해 달라고 국가에 요구할 수 있는 권리이다. ㄱ. 신체의 자유는 자유권. ㄴ. 국가 배상 청구권은 청구권에 해당한다.

고난도

09 (가)~(라)에 나타난 헌법 규정과 관련된 기본권에 대한 설명으로 옳은 것은?

- (가) 모든 국민은 통신의 자유를 가진다.
- (나) 모든 국민은 인간다운 생활을 할 권리를 가진다.
- (다) 모든 국민은 법률이 정하는 바에 의하여 공무 담임권을 가진다.
- (라) 모든 국민은 법률이 정하는 바에 의하여 국가기관에 문서로 청원할 권리를 가진다.

- ① (가)는 국가 권력의 간섭으로부터 벗어나고자 한다.
- ② (나)는 누구든지 부당한 차별을 받지 않아야 함을 강조한다.
- ③ (다)는 현대 복지 국가의 이념에 부합하는 권리이다.
- ④ (라)는 국가의 의사 결정에 참여할 권리이다.
- ⑤ (가)~(라) 중 가장 최근에 등장한 권리는 (가)이다.

정답 ① | (가)는 자유권, (나)는 사회권, (다)는 참정권, (라)는 청구권이다. 자유권은 국가 권력의 간섭을 받지 않고 자유롭게 생활할 수 있는 권리이다. 국가 의사 결정에 참여할 권리는 참정권이며, 가장 최근에 등장한 권리는 사회권이다.

10 다음의 헌법 조항에 위배되는 사례는?

모든 국민은 법 앞에 평등하다. 누구든지 성별, 종교, 사회적 신분,에 의하여 정치적, 경제적, 사회적, 문화적 생활 영역에서 차별을 받지 아니한다.

- ① 청소년의 유흥업소 출입을 금지하는 것
- ② 공무원에게만 아파트 청약권을 주는 것
- ③ 아이를 낳은 부부에게 지원금을 주는 것
- ④ 국가 유공자에게 특별 연금을 지급하는 것
- ⑤ 시각 장애인에게 점자 문제지를 제공하는 것

정답 ② | 공무원에게만 아파트 청약권을 주는 것은 부당한 특혜에 해당하므로 평등권을 규정한 헌법 조항에 위배된다.

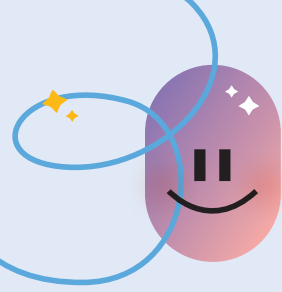
구분	채점 기준
상	인권 감수성의 의미를 활용하여 정확하게 서술한 경우
하	인권 감수성의 의미를 활용하지 않고 일반적으로 서술한 경우

서술형 문제

11 다음과 같은 일상생활 속 인권 침해를 예방하기 위해 가져야 할 자세를 인권 감수성의 의미를 활용하여 서술하시오.

- 허락 없이 친구의 휴대 전화 기록을 보았다.
- 휠체어를 탄 승객의 버스 탑승을 거부하였다.
- 학생의 수행 평가 점수를 칠판에 게시하였다.

예시 답안 | 일상생활 속에서 발생하는 인권 침해를 예방하려면 인권 감수성을 가져야 한다. 인권 감수성이란 인권의 소중함을 인식하고 인권 보장을 지향하는 관점에서 일상을 바라보려는 자세를 말한다.



2 기본권의 제한과 침해 구제

1 기본권 제한의 요건과 한계

1. 기본권 제한의 필요성

- (1) 헌법이 국민의 기본권을 보장하고 있다고 해서 개인이 자신의 기본권을 무제한으로 행사할 수 있는 것은 아님.
- (2) 자신의 권리를 행사하는 과정에서 다른 사람의 기본권을 침해하거나 공공의 이익을 해치는 경우가 발생할 수 있음.
- (3) 우리 헌법에서는 기본권 제한의 요건과 한계를 명시함으로써 국가 권력에 의한 과도한 기본권 제한을 방지하고자 함.

국민의 기본권을 지나치게 제한하면

2. 기본권 제한의 요건과 한계 **자료 1** 인간의 존엄과 가치가 침해될 수 있어.

기본권 제한의 요건	<ul style="list-style-type: none"> • 국가 안전 보장, 질서 유지, 공공복리를 위해 필요한 경우에 한하여 기본권을 제한할 수 있음. • 국가가 제정한 법률에 의해서 제한할 수 있음.
기본권 제한의 한계	<ul style="list-style-type: none"> • 기본권을 제한하는 경우에도 자유와 권리의 본질적인 내용을 침해할 수 없음. • 국가 권력의 남용을 방지하여 국민의 자유와 권리를 최대한 보장하기 위함.

기본권을 제한할 때에도 과잉 금지 원칙에 따라 목적이 정당하고, 방법이 적절해야 하며, 피해를 최소화하고, 피해와 공익의 균형을 이루어야 한다.

2 기본권 침해 시 구제 방법

1. 법원을 통한 구제 방법

- (1) 재판을 통해 시민의 침해된 기본권을 구제함.
- (2) 다른 사람이 나의 권리를 침해했을 경우 민사 재판으로 분쟁을 해결하고 손해 배상을 받을 수 있음.
- (3) 범죄로 기본권이 침해된 경우 형사 재판을 통해 기본권을 침해한 사람을 처벌할 수 있음.

2. 국가 인권 위원회를 통한 구제 방법 **자료 2**

- (1) 국가기관 또는 제삼자로부터 기본권을 침해당했을 때 이를 구제함.
- (2) 국민이 기본권 침해 내용을 국가 인권 위원회에 진정하면 사실 관계를 조사하여 해당 기관에 시정할 사항을 권고함.
- (3) 개인이 일상생활에서 마주하는 다양한 분쟁 해결의 기준을 제공함.

3. 헌법재판소를 통한 구제 방법 **자료 3**

- (1) **헌법재판소**: 헌법 질서를 수호하고 국민의 기본권을 구제하는 국가기관
헌법재판소가 어떤 법률의 내용이 기본권을 침해했다고 판단하여 위헌 결정을 내리면 그 법률의 내용은 즉시 효력을 상실해.

용어 풀단지

- ◆ **공공복리** 사회 구성원 전체에 두루 관계되는 이익이나 복지
- ◆ **진정** 개인이나 단체가 국가나 공공 기관 등에 일정한 조치를 해 달라고 진정서를 제출하는 것으로 국민 신문고 민원, 국민 청원, 임금 체불 진정, 국가 인권 위원회에의 진정 등이 있음.

자료 풀단지

교과서 확인 : 미래엔 비상

자료 1 헌법의 기본권 제한 규정

헌법 제37조 ② 국민의 모든 자유와 권리는 국가 안전 보장·질서 유지 또는 공공복리를 위하여 필요한 경우에 한하여 법률로써 제한할 수 있으며, 제한하는 경우에도 자유와 권리의 본질적인 내용을 침해할 수 없다.

개발 제한 구역처럼 공공복리를 목적으로 토지 이용을 일부 제한할 수는 있지만, 개인의 재산을 보상 없이 빼앗는 등 기본권의 본질적인 내용까지 침해할 수 없다.

교과서 확인 : 동아, 미래엔, 비상, 천재

자료 2 국가 인권 위원회의 구제



인권 침해를 당한 국민이 국가 인권 위원회에 침해 내용을 진정하면 국가 인권 위원회는 사실 관계를 조사하여 해당 기관에 시정할 사항을 권고한다.

교과서 확인 : 동아, 미래엔, 비상, 아침나라, 천재

자료 3 헌법재판소의 구제



헌법재판소는 헌법 질서를 수호하고 국민의 기본권을 보장하는 국가기관이다. 국민이 헌법 소원을 청구하면 헌법재판소는 헌법 소원 심판을 통해 기본권을 보장한다. 헌법 소원 심판은 공권력의 행사 또는 불행사로 기본권이 침해된 국민이 권리 구제를 요청하면 헌법재판소에서 이를 심판하는 제도이다.

01 다음 사례에서 기본권을 제한한 사유에 해당하는 것은?

코로나바이러스감염증-19 확진자가 급격히 증가하자 정부는 감염병의 예방 및 관리에 관한 법률에 따라 감염자를 강제 격리 조치하였다. 확진자는 정해진 기간에 격리 장소에서 벗어날 수 없으며, 이를 어기면 법적인 제재를 받았다.

- ① 공공복리 ② 질서 유지 ③ 경제 안정
- ④ 행정의 편리 ⑤ 국가 안전 보장

정답 ① | 감염병 확진자를 격리 수용하는 것은 사회 구성원 전체의 이익인 공공복리를 이유로 기본권을 제한한 경우에 해당한다.

02 기본권 제한에 대한 설명으로 옳은 것을 <보기>에서 고른 것은?

보기

ㄱ. 공공복리를 위해서 기본권을 제한할 수 있다.
 ㄴ. 법률, 명령, 조례 등의 성문법으로만 제한할 수 있다.
 ㄷ. 제한하는 경우에도 자유와 권리의 본질적인 내용을 침해할 수 없다.
 ㄹ. 양심의 자유, 행복 추구권, 사생활의 자유, 재산권 행사의 자유 등을 제한할 수 없다.

- ① ㄱ, ㄴ ② ㄱ, ㄷ ③ ㄴ, ㄷ
- ④ ㄴ, ㄹ ⑤ ㄷ, ㄹ

정답 ② | ㄴ. 기본권은 국회가 제정한 법률에 의해서만 제한할 수 있다. ㄹ. 필요한 경우에 한하여 양심의 자유, 행복 추구권, 사생활의 자유, 재산권 행사의 자유 등을 제한할 수 있다.

중요

03 ㉠에 들어갈 말로 가장 적절한 것은?

갑: 고위 공직자들 중에 군대를 면제받은 사람이 너무 많아. 앞으로 군대를 면제받은 사람은 일체의 공직을 맡지 못하도록 법으로 정해야 돼.
 을: 아니야. 그건 우리나라의 헌법 정신에 위배돼. 아무리 국가 안보가 중요하더라도 (㉠).

- ① 인간의 존엄성과 가치를 포기할 수는 없어.
- ② 국가 발전을 위해서는 그들의 능력을 활용해야 해.
- ③ 자유와 권리의 본질적인 내용을 침해할 수는 없어.
- ④ 고위 공직자에 대해서는 예외를 인정해 주어야 해.
- ⑤ 기본권에 대한 제한은 명령에 의해서만 이루어져야 해.

04 다음 헌법 조항에 부합하는 사례를 <보기>에서 고른 것은?

국민의 모든 자유와 권리는 국가 안전 보장, 질서 유지 또는 공공복리를 위하여 필요한 경우에 한하여 법률로써 제한할 수 있으며, 제한하는 경우에도 자유와 권리의 본질적인 내용을 침해할 수 없다.

보기

ㄱ. 성범죄자의 교육 기관 취업을 일정 기간 제한한다.
 ㄴ. 정부 청사 근처의 집회 및 시위는 절대적으로 불가능하다.
 ㄷ. 부동산 투기가 심한 지역에 대해 주택 매매 요건을 까다롭게 한다.
 ㄹ. 학교 시험에서 부정행위를 한 학생에 대해서는 대학 입시 자격을 주지 않는다.

- ① ㄱ, ㄴ ② ㄱ, ㄷ ③ ㄴ, ㄷ
- ④ ㄴ, ㄹ ⑤ ㄷ, ㄹ

정답 ② | ㄴ은 집회 및 시위의 자유를, ㄹ은 교육을 받을 권리를 본질적으로 침해한 경우이다.

05 다음 헌법재판소 결정에 대한 분석으로 적절하지 않은 것은?

일정 면적 이상의 식당에서 담배를 피우지 못하도록 하는 내용의 국민 건강 증진법이 영업의 자유를 침해한다며 일부 식당 운영 업주들이 제기한 헌법 소원 사건에서 헌법재판소는 다음과 같이 결정하였다.
 “이 법은 식당 영업 자체를 금지한 것이 아니라 영업 방식을 한정적으로 제한한 것일 뿐이다. 또한 흡연 금지로 인한 국민 건강 증진이라는 공익 효과가 흡연자의 불편함보다 훨씬 크므로 기본권을 침해한다고 볼 수 없다.”

- ① 기본권 제한 방법이 적절하다고 본다.
- ② 기본권 제한의 목적이 공공복리에 있다고 본다.
- ③ 공익을 위한 기본권 제한은 한계가 없다고 본다.
- ④ 달성되는 공익이 침해되는 사익보다 크다고 본다.
- ⑤ 영업의 자유에 대한 본질적인 부분을 침해하지 않는다고 본다.

정답 ③ | 공익을 위해 기본권을 제한하더라도, 기본권의 본질적인 내용은 침해할 수 없다.

중요

06 다음 사례에서 갑이 취할 수 있는 구제 수단으로 가장 적절한 것은?

갑은 자원봉사를 위하여 A 국을 방문하려고 하였으나, ○○부 장관 을은 그 지역이 내란과 테러로 인하여 치안 상태가 불안하다는 이유로 ◇◇법 관련 규정에 의거하여 갑의 여행을 금지하는 조치를 취하였다. 그러자 갑은 을의 조치로 인하여 해외여행의 자유를 침해당했다고 주장하고 있다.

- ① 을을 형사 고소한다.
- ② 을을 상대로 손해 배상을 청구한다.
- ③ ◇◇법이 위헌이므로 지키지 않는다.
- ④ 헌법재판소에 헌법 소원을 청구한다.
- ⑤ 국민 권익 위원회에 진정을 제기한다.

정답 ④ | 갑은 ◇◇법 관련 규정에 의거한 ○○부 장관 을의 여행 금지 조처라는 공권력에 의해 여행의 자유를 침해당했다고 주장하므로 헌법재판소에 헌법 소원을 청구할 수 있다.

07 다음과 같은 역할을 하는 국가기관은?

국가기관 또는 제3자로부터 기본권을 침해당했을 때 이를 구제하는 역할을 한다. 국민이 기본권 침해 내용을 진정하면 이를 조사하여 해당 기관에 시정할 사항을 권고한다. 주로 인권 침해와 차별 행위에 대한 구제 조치를 한다.

- ① 국회
- ② 법원
- ③ 헌법재판소
- ④ 국가 인권 위원회
- ⑤ 국민 권익 위원회

정답 ④ | 국가 인권 위원회는 어느 국가기관에도 소속되지 않은 독립 기구로, 인권 침해나 차별 행위가 발생한 경우 이를 조사하고 구제한다.

08 밑줄 친 '관련 기관'으로 가장 적절한 것은?

갑은 인터넷 쇼핑몰에서 노트북을 구입했는데, 배달된 제품을 보니 여기저기 흠집이 나 있고, 최근까지 사용한 흔적이 뚜렷했다. 이에 반환을 요구했지만 거부당했다. 갑은 우선 관련 기관에 상담을 의뢰하였다.

- ① 법원
- ② 헌법재판소
- ③ 한국 소비자원
- ④ 국민 권익 위원회
- ⑤ 국가 인권 위원회

정답 ③ | 물건을 구입한 소비자가 피해를 입었을 경우에는 한국 소비자원에 피해 구제를 요청할 수 있다.

고난도

09 A를 청구할 수 있는 사례로 가장 적절한 것은?

A는 국가나 지방 자치 단체의 공권력 행사 또는 불행사로 인해 헌법상 보장된 기본권이 침해되는 경우에 국민이 헌법재판소에 자신의 기본권을 구제해 줄 것을 청구하는 제도이다.

- ① 국세청에서 세금을 잘못 계산하여 고지하였다.
- ② 방송국의 실수로 사실이 아닌 내용이 보도되었다.
- ③ 인터넷 실명제 때문에 정치적 의사 표현의 자유를 침해당했다.
- ④ 공원을 산책하다가 다른 사람과 말다툼 끝에 상대방으로부터 폭행을 당했다.
- ⑤ 여행사의 추천으로 해외여행을 갔지만 너무 부실한 내용이어서 여행사에 항의하였다.

정답 ③ | A는 헌법 소원이다. 국가 공권력의 행사로 인해 자신의 기본권이 침해당했다고 판단될 경우에는 헌법재판소에 헌법 소원을 청구할 수 있다.

10 A에 해당하는 기관은?

○○ 항공사 승무원은 기내 비상 상황을 대비해야 하는 승무원이 치마만 착용하도록 한 것은 인권 침해라며 A에 진정을 제기하였다. 이에 따라 A 기관은 ○○ 항공사에 여성 승무원의 유니폼 선택권을 주는 것을 권고하였다.

- ① 국회
- ② 법원
- ③ 헌법재판소
- ④ 국가 인권 위원회
- ⑤ 국민 권익 위원회

정답 ④ | A는 국가 인권 위원회이다. 국가 인권 위원회는 인권 침해와 차별 행위에 대한 진정을 접수하여 사실 관계를 확인한 후 시정 권고를 내린다.

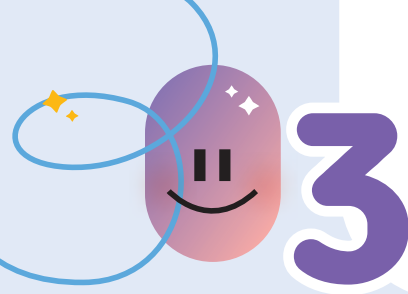
구분	채점 기준
상	헌법재판소에 헌법 소원을 청구할 수 있다는 내용을 정확하게 서술한 경우
하	헌법재판소에 구제 요청을 할 수 있다고만 서술한 경우

서술형 문제

11 다음과 같은 상황에서 갑이 최종적으로 취할 수 있는 권리 구제 방법을 서술하십시오.

갑은 자신의 주민 등록 번호가 도용되어 주민 등록 번호를 변경하고자 하였다. 하지만 구청에서는 주민 등록법에 주민 등록 번호 변경에 관한 규정이 없다며 거부하였다. 갑은 현재의 주민 등록법이 개인 정보 자기 결정권을 침해한다고 생각하였다.

예시 답안 | 주민 등록법은 국가의 입법 활동에 의한 공권력 행사에 해당하고, 갑은 이로 인해 기본권을 침해받았으므로 최종적으로 헌법재판소에 헌법 소원을 청구하여 기본권을 구제받을 수 있다.



3 근로자의 권리와 노동권 침해 구제

1 헌법에 보장된 근로자의 권리

1. 근로자와 근로자의 권리

- (1) **근로자의 의미:** 직업의 종류와 근로 기간에 관계 없이 사용자에게 임금을 받고 일하는 모든 사람
국가기관에서 일하는 공무원이나 일정한 기간만 일하는 사람 등도 근로자에 포함돼.
- (2) **근로자의 권리** 자료 1 자료 2
 - ① 우리 헌법은 근로의 권리를 기본권으로 보장하고, 근로 조건의 기준을 법률로 정하도록 함.
 - ② 「근로 기준법」에 근로 조건의 최저 기준을 제시하여 근로자의 기본적인 생활을 보장함. 우리나라는 1986년 12월 31일에 최저 임금법이 제정·시행되었다.
 - ③ 법으로 보장된 근로 조건

임금	최저 임금 이상의 금액을 원칙적으로 매달 1회 이상 일정한 날짜에 본인에게 직접 현금으로 전액 지급해야 함.
근로 시간	원칙적으로 휴식 시간을 제외하고 1일 8시간, 1주 40시간을 초과할 수 없음.
휴식 시간	원칙적으로 근로 시간이 4시간이면 30분 이상, 8시간이면 1시간 이상의 휴식 시간을 가져야 함.
해고	정당한 이유 없이 근로자를 해고할 수 없고, 원칙적으로 근로자를 해고하려면 적어도 30일 전에 알려 주어야 함.

2. 노동 3권

- (1) **노동 3권의 보장:** 우리 헌법은 경제적 약자인 근로자가 서로 단결하여 사용자와 대등한 위치에서 근로 조건을 협의하고 결정할 수 있도록 노동 3권을 보장하고 있음.

헌법 제35조 ① 근로자는 근로 조건의 향상을 위하여 자주적인 단결권·단체 교섭권 및 단체 행동권을 가진다.

(2) 노동 3권의 내용

근로 조건의 개인과 근로자의 지위 향상 등을 목적으로 근로자들이 조직한 단체야.

단결권	근로자가 근로 조건의 유지·개선을 위해 노동조합을 조직 또는 가입하여 단결할 수 있는 권리
단체 교섭권	근로자가 노동조합을 통해 사용자와 근로 조건을 협의할 수 있는 권리 자료 3
단체 행동권	근로자가 단체 교섭권을 행사하여 사용자와 협의를 진행하였으나 협의를 원만하게 이루어지지 않았을 때 일정한 절차를 거쳐 쟁의 행위를 할 수 있는 권리

자료 끝단지

교과서 확인 : 미래엔

자료 1 헌법의 근로권 규정

제32조 ① 모든 국민은 근로의 권리를 가진다. 국가는 사회적·경제적 방법으로 근로자의 고용의 증진과 적정 임금의 보장에 노력하여야 하며, 법률이 정하는 바에 의하여 최저 임금제를 시행하여야 한다.
 ③ 근로 조건의 기준은 인간의 존엄성을 보장하도록 법률로 정한다.

우리 헌법은 근로자가 최소한의 인간다운 생활을 할 수 있도록 최저 임금제를 시행하고, 근로 조건의 기준을 법률로 정하도록 규정하고 있다.

교과서 확인 : 미래엔, 아침나라

자료 2 연소 근로자의 보호

최저 연령 15세 미만이거나 중학교에 재학 중인 18세 미만의 청소년은 일할 수 없음.	근로 계약 친권자 또는 후견인의 동의를 받아 청소년 본인이 직접 맺어야 함.
연소자 증명서 나이를 증명하는 서류와 친권자 또는 후견인 동의서를 사업장에 갖추어 두어야 함.	최저 임금제 청소년도 성인과 동일한 최저 임금제를 적용받아야 함.
임금 청구 청소년도 임금을 직접 청구할 수 있으며, 친권자 또는 후견인이 대신 임금을 받을 수 없음.	근로 시간 1일 7시간, 1주 35시간을 초과하여 근무할 수 없음.

근로 기준법에서는 18세 미만의 근로자를 연소 근로자라 하여 특별히 보호하고 있다. 연소 근로자는 유해하거나 위험한 일에 종사할 수 없고, 원칙적으로 야간 근로를 할 수 없도록 한다.

교과서 확인 : 미래엔, 비상, 아침나라

자료 3 단체 교섭권



근로자는 노동조합을 통해 사용자와 근로 조건을 협의할 수 있는 단체 교섭권을 가진다.

용어 끝단지

- ◆ **교섭** 어떤 일을 이루기 위해 서로 의논하고 절충하는 것
- ◆ **쟁의 행위** 특정한 목적을 이루기 위해 노동조합 또는 사용자가 정상적인 업무 운영을 저해하는 것

2 노동권 침해 자료 4

노동권 침해 문제는 개인적인 문제를 넘어 국가와 시민 사회가 노동의 의미와 가치를 고려하면서 함께 대처해야 하는 문제야.

1. 노동권 침해 유형

- (1) 임금을 제때 주지 않거나 최저 임금보다 낮은 임금을 주는 경우
- (2) 근로 기준법에 정해진 노동 시간이나 휴식 시간을 지키지 않는 등 근로 조건을 어기는 경우
- (3) 결혼 및 출산 등을 이유로 퇴직을 강요하거나 정당한 이유 없이 근로자를 해고(부당 해고)하는 경우 정당한 이유가 없거나 해고의 요건을 갖추지 못한 해고를 말한다.
- (4) 사용자가 노동조합의 정당한 활동을 방해(부당 노동 행위)하는 경우

노동조합을 결성했거나 이에 가입하였다는 이유로 불이익을 주고 노동조합 탈퇴를 강요하거나, 정당한 이유 없이 단체 교섭을 거부하는 것 등이 있다.

2. 노동권 침해 시 대처

- (1) 개인은 고용 노동부에 진정서를 제출하거나 노동 위원회에 구제를 신청할 수 있고, 법원에 소송을 제기하여 피해를 구제받을 수 있음.
- (2) 시민은 주변에서 노동권 침해 상황이 발생하거나 침해가 예상될 경우 이를 방지하기 위한 법이나 제도의 보완을 국가에 요구할 수 있음.
- (3) 국가는 근로자의 권리 침해를 방지하는 제도를 마련하여 노동권 침해 문제를 개선하기 위해 노력해야 함.

자료 끝단지

교과서 확인 : 미래엔, 아침나라, 천재

자료 4 부당 노동 행위

- 노동조합 결성을 감시하는 행위
- 노동조합에 가입한 근로자에게 불이익을 주는 행위
- 노동조합의 정당한 단체 교섭 제안을 거부하는 행위
- 노동조합에 가입하지 않는 것을 전제로 고용 계약을 맺는 행위

부당 노동 행위란 헌법으로 보장된 노동 3권을 침해하거나 그 행사를 방해하는 행위를 말한다. 부당 노동 행위를 당했을 경우에는 노동 위원회에 구제 신청을 하거나 법원의 도움을 받을 수 있다.

용어 끝단지

- ◆ **노동 위원회** 근로자와 사용자 간에 발생하는 분쟁을 조정하고 부당 해고를 구제하며, 부당 노동 행위를 제한하는 행정 기관

STEP 1

개념 IN

1 빈칸에 들어갈 알맞은 말을 쓰시오.

- (1) (근로자)은/는 직업의 종류와 근로 기간에 관계없이 사용자에게 임금을 받고 일하는 모든 사람을 말한다.
- (2) 우리 헌법은 근로자의 최소한의 인간다운 생활을 위해 일정 금액 이상을 임금으로 지급하도록 하는 (최저 임금제)을/를 시행할 것을 규정하고 있다.
- (3) 부당 해고를 당하거나 노동조합의 활동을 방해받은 경우 (노동 위원회)에 구제 신청을 할 수 있다.

2 ㉠, ㉡ 중 알맞은 것을 고르시오.

- (1) 사용자가 노동조합의 정당한 활동을 방해하는 (부당 노동 행위, 부당 해고)는 노동권 침해 사례이다.
- (2) 임금을 제때 받지 못했을 경우 (고용 노동부, 대검찰청)에 진정을 제기할 수 있다.
- (3) 근로 시간은 원칙적으로 휴식 시간을 제외하고 1일 8시간, 1주 (35, 40)시간을 초과할 수 없다.

3 다음 내용에 해당하는 노동 3권을 <보기>에서 골라 기호를 쓰시오.

보기

ㄱ. 단결권 ㄴ. 단체 교섭권 ㄷ. 단체 행동권

- (1) 노동조합을 만들 수 있음. (ㄱ)
- (2) 사용자와 근로 조건을 협의할 수 있음. (ㄴ)
- (3) 단체 교섭이 원만하게 진행되지 못했을 때 일정한 절차를 거쳐 쟁의 행위를 할 수 있음. (ㄷ)

4 밑줄 친 곳을 바르게 고쳐 쓰시오.

- (1) 원칙적으로 근로 시간이 4시간이면 30분 이상, 8시간이면 2시간 이상의 휴식 시간을 가져야 한다.
- (2) 근로 기준법에서는 근로 조건의 최고 기준을 제시하여 근로자의 기본적인 생활을 보장하고 있다.
- (3) 노동 조합 위원회는 근로 조건의 개선과 근로자의 지위 향상 등을 목적으로 근로자들이 조직한 단체이다.

01 다음 글에서 말하는 근로자에 해당하지 않는 사람은?

오늘날 많은 사람은 일을 하고 받은 임금으로 생계를 유지한다. 이처럼 사용자에게 노동을 제공하고 임금을 받는 사람을 근로자라고 한다. 근로자는 회사나 공장에서 일하는 사람만을 의미하는 것이 아니라 직업의 종류와 근로 기간에 관계없이 사용자에게 임금을 받고 일하는 모든 사람을 뜻한다.

- ① 회사 직원 ② 중학교 교사
- ③ 공기업 직원 ④ 음식점 사장
- ⑤ 종합 병원 의사

정답 ④ | 근로자는 직업의 종류와 근로 기간에 관계없이 사용자에게 임금을 받고 일하는 모든 사람을 뜻한다. ④ 음식점 사장은 사용자이다. 사용자는 근로자를 고용하여 노동에 대한 보수를 지급하는 사람을 의미한다.

중요

02 (가)~(다)에 해당하는 노동 3권을 옳게 연결한 것은?

(가) 근로자가 자주적으로 노동조합을 설립할 수 있는 권리
 (나) 근로 조건을 유지·개선하기 위하여 조합원이 단결하여 사용자와 교섭할 수 있는 권리
 (다) 노동조합이 근로자의 주장을 관철하기 위해 업무의 정상적인 운영을 저해하는 쟁의 행위를 할 수 있는 권리

- | | (가) | (나) | (다) |
|---|--------|--------|--------|
| ① | 단결권 | 단체 교섭권 | 단체 행동권 |
| ② | 단결권 | 단체 행동권 | 단체 교섭권 |
| ③ | 단체 교섭권 | 단결권 | 단체 행동권 |
| ④ | 단체 교섭권 | 단체 행동권 | 단결권 |
| ⑤ | 단체 행동권 | 단체 교섭권 | 단결권 |

정답 ① | 우리 헌법은 경제적 약자인 근로자가 서로 단결하여 사용자와 대등한 위치에서 근로 조건을 협의하고 결정할 수 있도록 노동 3권을 보장하고 있다. (가)는 단결권, (나)는 단체 교섭권, (다)는 단체 행동권이다.

정답 ② | 국가는 국민의 일할 기회를 보장하는 노력을 해야 할 의무는 있지만, 근로자의 취업을 보장할 의무는 없다.

03 근로자의 권리에 대한 설명으로 옳지 않은 것은?

- ① 모든 국민은 근로의 권리를 가진다.
- ② 국가는 근로자의 취업을 보장할 의무를 진다.
- ③ 근로 조건의 기준은 근로 기준법에서 규정한다.
- ④ 연소자의 근로는 특별한 보호를 받도록 하고 있다.
- ⑤ 우리 헌법은 최저 임금제를 시행하도록 규정하고 있다.

중요

04 다음 사례에 대한 법적 판단으로 옳은 것을 <보기>에서 고른 것은?

16세인 고등학생 갑은 겨울 방학을 맞아 편의점에서 아르바이트를 하려고 한다.

보기

- ㄱ. 미성년자인 갑은 최저 임금제를 적용받지 않는다.
- ㄴ. 갑은 친권자인 부모의 동의를 얻어야 취업할 수 있다.
- ㄷ. 갑이 취업할 경우 하루에 일할 수 있는 시간은 최대 7시간이다.
- ㄹ. 사용자는 갑의 친권자인 부모에게 갑이 일한 대가인 임금을 지급해야 한다.

- ① ㄱ, ㄴ ② ㄱ, ㄷ ③ ㄴ, ㄷ
- ④ ㄴ, ㄹ ⑤ ㄷ, ㄹ

정답 ③ | ㄱ. 18세 미만의 연소자도 최저 임금제를 적용받는다. ㄹ. 연소 근로자는 임금을 직접 청구할 수 있다.

고난도

05 밑줄 친 ㉠, ㉡에 대한 설명으로 옳은 것은?

• 최근 A가 다니는 회사에서 새로운 근로 조건을 제시하였고, 직원들은 이를 부당하다고 느꼈다. A는 ㉠ 노동조합의 대표로서 회사와 협상하여 근로 조건을 개선하였다.
 • 대학생인 B는 겨울 방학 동안 식당에서 아르바이트를 하였다. 방학 중 짧은 기간에만 하는 일이라 임금을 적게 받지 않을까 걱정하였지만, ㉡ 법에 정해진 일정 금액 이상의 임금을 받을 수 있었다.

- ① ㉠은 단체 행동권이다.
- ② ㉠을 침해한 경우 부당 노동 행위에 해당한다.
- ③ ㉡은 청소년 근로자에게는 인정되지 않는다.
- ④ ㉡은 5년마다 국가가 일정 금액을 정한다.
- ⑤ ㉠과 달리 ㉡은 헌법에 명시되어 있다.

정답 ② | 사용자가 근로자의 노동 3권을 침해한 경우 부당 노동 행위에 해당하므로 근로자는 노동 위원회를 통해 구제받을 수 있다.

06 밑줄 친 '한 사람'에 해당하는 사람은?

교사: 우리 헌법은 노동권을 보장하고 있지만, 일상 생활에서는 노동권이 침해되는 경우가 종종 발생합니다. 우리 주변에서 노동권이 침해되는 사례를 발표해 볼까요?
 갑: 저희 고모부는 일요일도 없이 하루 10시간 이상 일하고 있습니다.
 을: 제가 아는 아저씨는 8시간 일하는데 휴식 시간이 1시간뿐이라고 합니다.
 병: 우리 삼촌 회사에서는 월급을 2~3개월에 한 번씩 수시로 주고 있습니다.
 정: 저희 누나는 편의점에서 일하는데 근로 계약서를 작성하지 않았다고 합니다.
 무: 옆집 고등학생 형은 미성년자라는 이유로 최저 임금보다 낮은 임금을 받고 있습니다.
 교사: 한 사람을 제외하고는 모두 적절한 사례를 들었군요.

- ① 갑 ② 을 ③ 병 ④ 정 ⑤ 무

정답 ② | 하루 8시간 이내 근로가 원칙이며, 근로 시간이 8시간이면 1시간 이상의 휴식 시간을 주도록 규정되어 있다.

07 임금을 제때 받지 못했을 때 구제 방법으로 적절한 것은?

- ① 사용자의 재산을 압류한다.
 ② 국가 인권 위원회에 진정한다.
 ③ 고용 노동부에 진정을 제기한다.
 ④ 한국 소비자원에 상담 신청을 한다.
 ⑤ 헌법재판소에 헌법 소원을 청구한다.

정답 ③ | 임금을 제때 받지 못했을 경우 고용 노동부에 진정을 제기할 수 있다.

08 밑줄 친 '이 기관'에 대한 설명으로 옳은 것은?

이 기관은 노사 문제를 처리하기 위해 설치한 행정 기관으로 근로자, 사용자, 공익 위원들로 구성된다.

- ① 최저 임금을 정한다.
 ② 근로 기준법을 개정한다.
 ③ 부당 해고에 대한 구제 조치를 한다.
 ④ 사용자와 근로자 간 소송을 진행한다.
 ⑤ 임금 체불 사용자에게 대한 수사를 진행한다.

정답 ③ | 노동 위원회는 근로자와 사용자 간에 발생하는 분쟁을 조정하고, 부당 해고를 구제하며, 부당 노동 행위를 제한한다.

09 밑줄 친 '이 행위'에 해당하지 않는 것은?

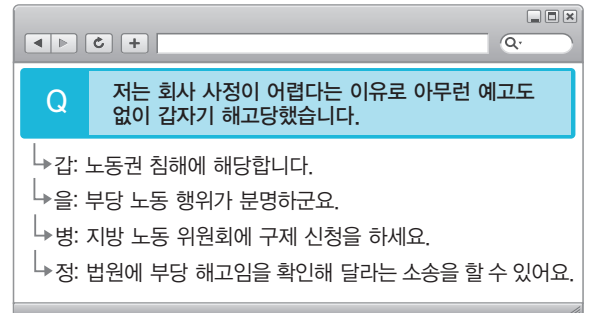
이 행위는 사용자가 근로자의 노동조합 활동을 방해하거나 억압하는 행위로서, 근로자나 노동조합은 노동 위원회에 구제를 신청할 수 있다.

- ① 노동조합 결성을 방임하는 것
 ② 노동조합 활동을 이유로 징계하는 것
 ③ 정당한 이유 없이 단체 교섭을 거부하는 것
 ④ 노동조합에 가입하지 않을 것을 조건으로 고용하는 것
 ⑤ 노동조합에 가입하였다는 이유로 근로자를 해고하는 것

정답 ① | 노동조합 결성을 방임하는 것은 노동 3권을 방해하는 행위가 아니므로 부당 노동 행위로 볼 수 없다.



10 다음은 인터넷 법률 상담 코너에 올라온 내용이다. 법적으로 옳은 댓글을 단 사람을 모두 고른 것은?



- ① 갑, 을 ② 갑, 정 ③ 을, 정
 ④ 갑, 병, 정 ⑤ 을, 병, 정

정답 ④ | 사용자가 질문자의 노동 3권을 방해한 것은 아니므로 이는 부당 노동 행위로 볼 수 없다.

구분	채점 기준
상	부당 노동 행위를 쓰고, 구제 방법을 적절하게 서술한 경우
하	부당 노동 행위라고만 쓴 경우

서술형 문제

11 다음 사례에서 갑의 노동권 침해 유형을 쓰고, 갑이 취할 수 있는 구제 방법을 서술하시오.

갑은 ○○ 회사 면접을 볼 때 강압적 분위기에 마지 못해서 노동조합에 가입하지 않겠다고 하였다. 그러나 입사 후 노동조합에 가입하였고, 회사는 이를 이유로 갑을 해고하였다.

예시 답안 | 갑은 노동조합 가입을 이유로 해고당했는데, 이는 부당 노동 행위이다. 이에 대해 갑은 노동 위원회에 구제를 신청할 수 있고, 이와 별도로 법원에 해고 무효 소송을 제기할 수 있다.

01 인권에 대한 설명으로 옳은 것을 <보기>에서 고른 것은?

보기

- ㄱ. 태어나면서부터 갖는 권리이다.
- ㄴ. 남이 침해할 수 없는 권리이다.
- ㄷ. 사회적 약자만이 갖는 권리이다.
- ㄹ. 법으로 정해야 보장받을 수 있는 권리이다.

- ① ㄱ, ㄴ ② ㄱ, ㄷ ③ ㄴ, ㄷ
- ④ ㄴ, ㄹ ⑤ ㄷ, ㄹ

정답 ① | 인권은 태어나면서부터 당연히 갖는 권리이다. 남이 침해할 수 없는 권리이다. ㄷ, ㄹ. 인권은 법으로 정하기 전에 누구나 보장받을 수 있는 권리이다.

중요

02 인권 보장의 역사에 대한 설명으로 옳지 않은 것은?

- ① 근대 이전에는 차별받는 사람이 많았다.
- ② 근대에 인권 의식이 성장하면서 시민 혁명이 일어났다.
- ③ 시민 혁명의 결과 인권을 제도적으로 보장하게 되었다.
- ④ 1948년에 채택된 세계 인권 선언에서 사회권을 처음으로 규정하였다.
- ⑤ 오늘날 우리가 누리는 인권은 수많은 사람의 희생으로 얻어진 것이다.

정답 ④ | 세계 인권 선언은 인권의 국제적 기준을 처음으로 제시하였다. 사회권을 처음으로 규정한 것은 1919년의 바이마르 헌법이다.

정답 ⑥ | 밑줄 친 '이것'은 인권 감수성이다. 정당한 권리 행사라도 남에게 피해를 주는 행위라면 인권 침해로 생각해야 한다.

03 밑줄 친 '이것'을 기르는 방법으로 적절하지 않은 것은?

인권 침해가 일어나지 않으려면 사회 구성원들이 이것을 길러야 한다. 이것이 높은 사람은 나쁜만 아니라 다른 사람의 권리도 소중하게 여기며 인권 침해에 민감하게 반응하는 사람이라고 할 수 있다.

- ① 인권의 소중함을 인식한다.
- ② 인간은 누구나 소중한 존재임을 인식한다.
- ③ 다른 사람이 인권 침해를 겪고 있는지 살펴본다.
- ④ 인권 보장을 지향하는 관점에서 일상을 바라본다.
- ⑤ 정당한 권리 행사라면 인권 침해로 생각하지 않는다.

04 다음 설명에 해당하는 기본권은?

- 인간다운 생활의 보장을 국가에 요구할 수 있는 권리이다.
- 교육을 받을 권리, 근로의 권리, 사회 보장을 받을 권리 등이 있다.

- ① 자유권 ② 청구권 ③ 사회권
- ④ 참정권 ⑤ 평등권

정답 ③ | 인간다운 생활의 보장을 국가에 요구할 수 있는 권리는 사회권이다. 사회권에는 교육을 받을 권리, 근로의 권리, 사회 보장을 받을 권리 등이 있다.

고난도

05 기본권 A~C에 대한 설명으로 옳은 것은? (단, A~C는 각각 자유권, 사회권, 참정권 중 하나임.)

A, B와 달리 C는 국가의 간섭과 제한을 배제함으로써 보장되는 권리이다. 한편 B는 현대 사회에서 국가가 개인의 인간다운 삶과 실질적 평등을 보장하기 위해 노력해야 한다는 이념에 바탕을 둔 권리이다.

- ① A는 다른 기본권 보장을 위한 수단적 권리이다.
- ② B는 합리적 이유 없이 차별받지 않을 권리이다.
- ③ C는 국가의 정치과정에 참여할 수 있는 권리이다.
- ④ A와 달리 B는 복지 국가와 밀접한 연관이 있는 권리이다.
- ⑤ 신체의 자유는 A에, 선거권은 B에, 교육을 받을 권리는 C에 해당한다.

정답 ④ | A는 참정권, B는 사회권, C는 자유권이다. 사회권은 사회 보장을 받을 권리를 포함하므로 복지 국가와 밀접한 관련이 있다.

06 오늘날 대부분의 국가에서 인권을 헌법에 규정한 이유를 <보기>에서 고른 것은?

보기

- ㄱ. 헌법은 그 나라의 최고법이기 때문이다.
- ㄴ. 국가가 함부로 침해할 수 없기 때문이다.
- ㄷ. 인권은 문서로 규정해야 보장되기 때문이다.
- ㄹ. 외국에서 헌법만을 그 나라의 법으로 인정하기 때문이다.

- ① ㄱ, ㄴ ② ㄱ, ㄷ ③ ㄴ, ㄷ
- ④ ㄴ, ㄹ ⑤ ㄷ, ㄹ

정답 ① | ㄷ. 인권은 문서로 규정하지 않더라도 보장된다. ㄹ. 외국에서 헌법만을 그 나라의 법으로 인정하는 것은 아니다.

중요

07 다음 사례에서 갑이 침해받은 기본권에 대한 설명으로 옳은 것은?

갑은 출근하던 중 경찰에 체포되었다. 이 과정에서 경찰은 영장을 제시하지 않았고, 체포 이유와 변호인의 조력을 받을 권리 등에 대해서도 고지하지 않았다.

- ① 가장 최근에 등장한 현대적 권리이다.
- ② 국민이 정치에 참여할 수 있는 권리이다.
- ③ 국가의 간섭이나 배제를 받지 않을 권리이다.
- ④ 국가에 특정 행위를 요구할 수 있는 권리이다.
- ⑤ 다른 기본권을 보장하기 위한 수단적 권리이다.

정답 ③ | 갑은 신체의 자유를 침해받았다. 신체의 자유는 자유권에 해당한다. 자유권은 국가의 간섭이나 배제를 받지 않고 자유롭게 생활할 권리이다.

08 (가), (나)를 통해 알 수 있는 기본권을 바르게 연결한 것은?



- | | | | |
|-------|-----|-------|-----|
| (가) | (나) | (가) | (나) |
| ① 자유권 | 참정권 | ② 사회권 | 참정권 |
| ③ 평등권 | 사회권 | ④ 자유권 | 사회권 |
| ⑤ 사회권 | 평등권 | | |

정답 ② | (가) 사회권은 인간다운 생활을 국가에 요구할 수 있는 권리이다. (나) 참정권은 국가의 의사 결정에 참여할 수 있는 권리이다.

09 다음 주장을 종합하여 내릴 수 있는 결론으로 가장 적절한 것은?

- 직업 선택의 자유가 있지만 마약 유통업에 종사할 수 없다.
- 문화재 보호 구역에서는 집을 신축하려고 해도 관청에서 허가를 해주지 않는 경우가 많다.

- ① 기본권은 천부 인권이다.
- ② 기본권은 절대적 권리이다.
- ③ 기본권은 필요한 경우에 제한할 수 있다.
- ④ 기본권을 침해받더라도 구제 수단이 없다.
- ⑤ 국가 안보를 위해서는 인권을 침해받을 수 있다.

정답 ③ | 마약 유통업은 타인에게 피해를 주는 범죄 행위이므로 직업 선택의 자유가 제한된다. 문화재 보호 구역에서는 문화재 보호가 우선이므로 개인의 재산권 행사의 자유가 제한된다.


10 ㉠에 들어갈 내용으로 옳은 것은?

우리나라 헌법은 국민의 기본권 보장을 핵심 원칙으로 하지만 국가 안전 보장, 질서 유지, 공공복리를 목적으로 하는 경우에 한하여 기본권 제한을 허용하고 있다. 또한 반드시 (㉠)에 근거해야 하며, 기본권을 제한하더라도 자유와 권리의 본질적인 내용을 침해해서는 안 된다고 규정하고 있다.

- ① 조례와 규칙 ② 대통령의 명령
- ③ 국무 회의의 결정 ④ 국민 다수의 여론
- ⑤ 국회에서 제정한 법률

정답 ⑤ | 기본권은 국회에서 만든 법률을 통해서만 제한할 수 있으며, 기본권을 제한하더라도 국민의 자유와 권리의 본질적인 내용을 침해해서는 안 된다.

11 다음 자료를 토대로 추론한 수업 주제로 가장 적절한 것은?



개발 제한 구역에서 토지를 이용할 때 토지 소유자의 권리가 일부 제한된다. 이는 환경을 보호하고 공공의 이익을 위한 것으로, 국토의 계획 및 이용에 관한 법률에 근거한다.

- ① 인권 발전의 역사를 살펴보자.
- ② 기본권 제한의 요건을 알아보자.
- ③ 인권과 헌법의 관계를 알아보자.
- ④ 자유권이 천부 인권인 근거를 살펴보자.
- ⑤ 소유권이 어떤 기본권에 해당하는지를 알아보자.

정답 ② | 개발 제한 구역에서 토지를 이용할 때 토지 소유자의 권리가 일부 제한되는데, 이것은 공공복리를 위한 이유 때문이다.

12 다음과 같은 질문에 대해 옳은 내용의 댓글을 단 사람은?

Q 저는 백화점 직원인데, 비정규직 근로자라서 통근 버스를 이용하지 못합니다.

- ↳ 갑: 사장님을 형사 고소하세요.
- ↳ 을: 법원에 민사 재판을 청구하세요.
- ↳ 병: 헌법재판소에 헌법 소원을 청구하세요.
- ↳ 정: 국가 인권 위원회에 진정을 제기하세요.
- ↳ 무: 사장님을 상대로 손해 배상을 청구하세요.

- ① 갑 ② 을 ③ 병 ④ 정 ⑤ 무

정답 ④ | 질문자는 비정규직 근로자라는 이유로 통근 버스 탑승을 못하는 등 차별을 당하고 있다. 이런 경우에는 12. 인권과 기본권 241 국가 인권 위원회에 진정을 제기할 수 있다.

중요

13 국가기관 A에 대한 설명으로 옳은 것은?

A는 3년 내에 정당의 당원 경력이 있을 경우 법원에 임용될 수 없도록 한 법원 조직법 제43조 제1항에 대해 헌법에 규정된 공무 담임권을 침해한다며 위헌 결정하였다.

- ① 인권 보장과 관련된 법률을 제정한다.
- ② 정부 정책을 신속하고 효율적으로 집행한다.
- ③ 사법부에 소속되어 공정한 재판을 담당한다.
- ④ 인권 침해나 차별 행위를 조사하여 구제한다.
- ⑤ 공권력 행사로 인한 기본권 침해를 구제한다.

정답 ⑤ | A는 헌법재판소이다. 헌법재판소는 법률 조항이 헌법의 기본권을 침해하는지를 심판하여 공권력의 행사 또는 불행사로 기본권을 침해받은 국민을 구제한다.

정답 ⑤ | ㄱ. (가)는 단결권이다. ㄴ. (나)는 단체 교섭권으로 사용자는 정당한 이유가 없다면 노동조합의 단체 협약 요구에 응해야 한다.

14 (가)~(다)에 대한 설명으로 옳은 것을 <보기>에서 고른 것은?

- (가) 근로자가 자주적으로 노동조합을 설립할 수 있는 권리
- (나) 근로 조건을 유지·개선하기 위하여 조합원이 단결하여 사용자와 교섭할 수 있는 권리
- (다) 노동 쟁의가 발생한 경우, 근로자의 주장을 관철하기 위해 업무의 정상적인 운영을 저해하는 쟁의 행위를 할 수 있는 권리

보기

- ㄱ. (가)는 단체 행동권이다.
- ㄴ. (나)에 근거하여 노동자는 노동조합의 단체 협약 요구에 응해야 한다.
- ㄷ. (다)가 합법적으로 행사되면 근로자에게 민사상·형사상 책임을 물을 수 없다.
- ㄹ. (가)~(다) 중 어느 하나라도 사용자가 위반하면 부당 노동 행위가 된다.

- ① ㄱ, ㄴ ② ㄱ, ㄷ ③ ㄴ, ㄷ
- ④ ㄴ, ㄹ ⑤ ㄷ, ㄹ

15 다음 그림에 대한 법적 판단으로 옳지 않은 것은?



- ① 사용자의 부당 노동 행위에 해당한다.
- ② 노동 위원회에 구제 신청을 할 수 있다.
- ③ 근로자의 노동 3권을 침해하는 행위이다.
- ④ 법원에 부당 해고를 확인하는 소송을 제기할 수 있다.
- ⑤ 국가 인권 위원회에 인권 침해를 이유로 진정할 수 있다.

정답 ⑤ | 사용자의 행위가 부당 노동 행위이지 인권 침해 사안은 아니므로 국가 인권 위원회에 진정하는 것은 적절하지 않다.

과년도

16 다음 사례와 관련한 법적 판단으로 옳은 것은?

- 갑(16세)은 고등학생인데 여름 방학에 아르바이트를 하려고 한다.
- 을(19세)이 다니는 ○○ 회사의 사용자는 노동조합을 해산시킬 목적으로 이번 달부터 노동조합을 탈퇴하기로 한 사람에게만 상여금을 지급하고 있다.

- ① 갑은 부모의 동의 없이 독자적으로 임금을 청구할 수 없다.
- ② 갑은 미성년자이므로 부모가 대신 근로 계약을 체결해야 한다.
- ③ 을은 하루 7시간 이내에서 근로해야 한다.
- ④ ○○ 회사 사용자의 행위는 부당 노동 행위에 해당한다.
- ⑤ 을이 고용 노동부에 진정서를 제출하는 것은 쟁의 행위에 해당한다.

정답 ④ | ○○ 회사 사용자의 행위는 근로자의 노동 3권을 침해하는 부당 노동 행위에 해당한다.

17 부당 노동 행위에 해당하는 사례를 <보기>에서 고른 것은?

보기

- ㄱ. 노동조합에 가입하지 않을 것을 조건으로 고용하였다.
- ㄴ. 파업 기간 중에 회사 기물을 파손한 노동조합 간부를 해고하였다.
- ㄷ. 노동조합의 정당한 단체 교섭 요구를 뚜렷한 이유 없이 거절하였다.
- ㄹ. 근무 시간에 인터넷 도박을 상습적으로 행한 근로자를 징계하였다.

- ① ㄱ, ㄴ ② ㄱ, ㄷ ③ ㄴ, ㄷ
- ④ ㄴ, ㄹ ⑤ ㄷ, ㄹ

정답 ② | ㄷ. 회사 기물 파손 행위를 한 행위자를 해고한 것은 노동조합의 활동을 방해한 것이 아니므로 부당 노동 행위로 볼 수 없다. ㄹ. 근무 시간에 상습적인 인터넷 도박을 한 행위는 근로 계약에 어긋나므로 해당 근로자를 징계한 것은 부당 노동 행위에 해당하지 않는다.

중요

18 근로 기준법에서 정하고 있는 근로 조건으로 옳지 않은 것은?

- ① 최저 임금 이상의 금액을 지급해야 한다.
- ② 임금은 매달 1회 이상 일정한 날짜에 지급해야 한다.
- ③ 임금은 원칙적으로 전액을 현금으로 본인에게 지급해야 한다.
- ④ 근로 시간은 휴식 시간을 포함하여 1일 8시간을 초과할 수 없다.
- ⑤ 근로 시간이 8시간이면 1시간 이상의 휴식 시간을 가져야 한다.

정답 ④ | 근로 시간은 휴식 시간을 제외하고 1일 8시간을 초과할 수 없다.

19 밑줄 친 ㉠~㉣ 중 옳지 않은 것은?

헌법 제32조 ① ㉠ 모든 국민은 근로의 권리를 가진다. 국가는 사회적·경제적 방법으로 근로자의 고용의 증진과 ㉡ 적정 임금의 보장에 노력하여야 하며, 법률이 정하는 바에 의하여 ㉢ 최저 임금을 시행하여야 한다.
 ③ ㉣ 근로 조건의 기준은 인간의 존엄성을 보장하도록 법률로 정한다.
 ⑤ ㉠ 이주 외국인의 근로는 특별한 보호를 받는다.

- ① ㉠ ② ㉡ ③ ㉢ ④ ㉣ ⑤ ㉠

정답 ⑤ | ㉠ 우리 헌법은 여자와 연소 근로자의 근로가 특별한 보호를 받는다 고 명시하고 있다.

서술형 문제

20 다음 자료를 보고 물음에 답하시오.

(가)



(나)



(1) (가), (나)에 해당하는 기본권을 각각 쓰시오.

(가) : 자유권 (나) : 참정권

(2) (가), (나)에 해당하는 기본권의 의미를 각각 서술하시오.

예시 답안 | 자유권은 국가 권력의 간섭을 받지 않고 자유롭게 생활할 수 있는 권리이다. 참정권은 국민이 국가의 정치적 의사 결정 및 국가기관의 형성 과정에 참여할 수 있는 권리이다.

구분	채점 기준
상	자유권과 참정권의 의미를 모두 적절하게 서술한 경우
하	자유권과 참정권의 의미 중 하나만 옳게 서술한 경우

구분	채점 기준
상	단결권과 단체 행동권의 의미를 모두 적절하게 서술한 경우
하	단결권과 단체 행동권의 의미 중 하나만 옳게 서술한 경우

21 다음 자료를 보고 물음에 답하시오.

(가)



(나)



(1) (가), (나)에 해당하는 근로의 권리를 각각 쓰시오.

(가) : 단결권 (나) : 단체 행동권

(2) (가), (나)에 해당하는 권리의 의미를 각각 서술하시오.

예시 답안 | 단결권은 근로자가 근로 조건의 유지 및 개선을 위해 노동조합과 같은 단체를 만들고 활동할 수 있는 권리이다. 단체 행동권은 단체 교섭이 원만하게 진행되지 못했을 때 노동조합을 통해 일정한 절차를 거쳐 쟁의 행위를 할 수 있는 권리이다.

