

개념풍

중학 사회

1



실전책



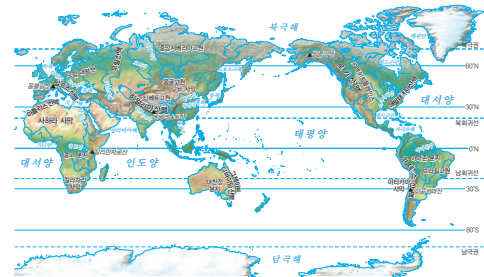
01 세계 여러 지역의 다양한 특성

1. 지역 특성에 영향을 미치는 위치

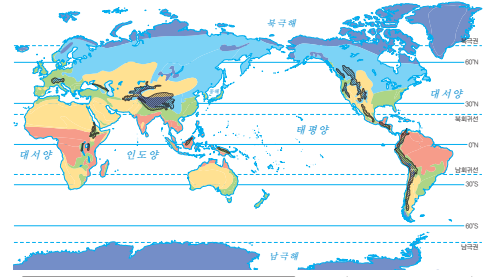
위치의 의미와 종류	<ul style="list-style-type: none"> • 의미: 지역이 일정한 장소에 차지하고 있는 자리 • 종류: 절대적 위치와 상대적 위치로 분류 <ul style="list-style-type: none"> - ①) 위치: 어떤 지역의 변하지 않는 고정적인 정보 - ②) 위치: 고정되어 있는 대륙, 해양, 산맥으로 설명 - ③) 위치: 위도와 경도 등으로 설명 - ④) 위치: 주변 지역과의 관계에 따라 결정
위치의 중요성	<ul style="list-style-type: none"> • 지역은 위치에 따라 기후, 지형 등 ⑤) 환경이 다르게 나타남. • 자연환경의 특성은 인구, 문화 등 지역의 ⑥) 환경에 영향을 줌. • 위치를 파악함으로써 지역성을 알 수 있음.

2. 서로 다른 세계 여러 지역의 특성

지형	<ul style="list-style-type: none"> • 산지: 해발 고도가 높고 대체로 경사가 급하여 인간 거주에 불리 • 평야: 넓고 평탄하여 기후 조건이 적절하면 농업이 발달 • 하천: 하천 유역의 평야 지대는 물을 구하기 쉬워 농업이 발달 • 해안: 바다가 가까이 있어 항구와 수산업이 발달
기후	<ul style="list-style-type: none"> • ⑦) 기후 <ul style="list-style-type: none"> - 분포: 적도 중심 - 특징: 연중 기온이 높고 강수량이 많음. • 건조 기후 <ul style="list-style-type: none"> - 분포: 남·북위 23.5° 일대와 중위도 대륙 내부 지역 - 특징: 연 강수량보다 ⑧) 이 많고, 강수량이 매우 적어 식생이 빈약함. • ⑨) 기후 <ul style="list-style-type: none"> - 분포: 중위도 지역 - 특징: 기온이 온화하며 연 강수량이 풍부함. • 냉대 기후 <ul style="list-style-type: none"> - 분포: 고위도 지역 - 특징: 겨울이 길고 추움, ⑩) 분포 • ⑪) 기후 <ul style="list-style-type: none"> - 분포: 극지방 주변 지역 - 특징: 연중 기온이 매우 낮음. • 고산 기후 <ul style="list-style-type: none"> - 분포: ⑫) 가 높은 곳 - 특징: 저위도 고산 지역은 연중 기온이 온화함.



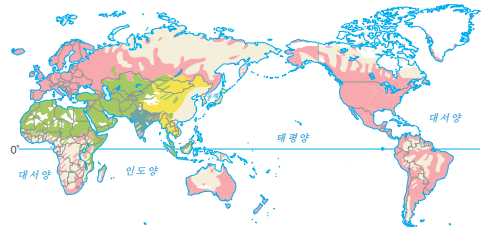
▲ 세계의 지형 분포



(필립스 세계 지도, 2021)

▲ 세계의 기후 분포

종교	<ul style="list-style-type: none"> • 지역별로 일상생활과 밀접한 관련을 맺음. • 음식·결혼·장례 문화에 영향
언어	언어 경관 및 교류 모습에 영향
산업	<ul style="list-style-type: none"> • 전통 농경 지역: 작물을 기르는 정착 생활 • 유목 지역: 식량과 물을 찾아 이동하는 이동 생활 • 제조업, 서비스업 등 발달 지역: 도시적인 생활



(디르게 세계 지도, 2023)

▲ 세계의 종교 분포

3. 지역의 다양성

사례	<ul style="list-style-type: none"> • 베트남: 벼농사가 발달 → ⑬) 을 이용한 문화 • 이집트: 사막이 발달 → 길고 혈령한 의복 문화 • 몽골: 유목이 발달 → ⑭) 가 나타남. • 페루: 높은 해발 고도 → 연중 온화한 고산 기후
우리가 가져야 할 자세	각 지역의 다양성을 이해하고 고유성을 존중하는 ⑮) 으로서의 태도를 가져야 함.

정답

리키리아 ㉞ 리키 ㉟
 류 ㉠ 오근 류익 ㉡ 비로 ㉢ 문수류문 ㉣ 비궁 ㉤ 유류문 ㉥ 비로 ㉦ 품궁 ㉧ 리노 ㉨ 비리유 ㉩ 비리수 ㉪ 비리노 ㉫ 비리류 ㉬

02 세계의 공간적 상호 작용

1. 세계 여러 지역의 연결

교통의 발달	<ul style="list-style-type: none"> 자동차, 고속 철도, 항공기 등 새로운 교통수단의 등장 전 세계를 연결하는 교통망의 형성 결과 <ul style="list-style-type: none"> - 사람과 물자의 빠른 이동 - 지역의 접근성 향상, 생활공간의 범위 (㉠)) - 지역 간 상호 작용이 활발해짐.
통신의 발달	<ul style="list-style-type: none"> 인터넷, 컴퓨터, 스마트폰의 보편화 결과 <ul style="list-style-type: none"> - 실시간 소통과 다양한 정보 공유 - 지역의 (㉡)) 제약 극복 - 지역 간 상호 작용이 활발해짐.

2. 세계 여러 지역의 공간적 상호 작용

공간적 상호 작용	<ul style="list-style-type: none"> 의미: 사람과 물자, 자본, 정보 등의 지역 간 교류 발달 배경: 교통·통신의 발달에 따른 시공간의 압축 발달 결과 <ul style="list-style-type: none"> - 인간의 활동 범위 확대 - 지역 또는 국가 간에 (㉢))과 (㉣)) 강화 - 지역 간 연결의 확대 - 자유 무역 협정, 유럽연합, 국제연합 등 다양한 형태로 지역 결합
네트워크 세계	<ul style="list-style-type: none"> 의미: 세계 여러 지역이 하나로 연결되어 있는 현상 형성 원인: 국경을 초월한 지역 간의 활발한 공간적 상호 작용 다양한 규모의 네트워크 <ul style="list-style-type: none"> - (㉤)) 규모 네트워크: 주변 지역과 같이 생활권 규모에서 이루어지는 상호 작용 - (㉥)) 규모 네트워크: 국가 내에서 지역과 지역 간에 이루어지는 상호 작용 - (㉦)) 규모 네트워크: 국가 간 이루어지는 세계 규모의 상호 작용
인식의 중요성	<ul style="list-style-type: none"> (㉧))으로서 우리의 삶이 세계와 긴밀하게 연결되어 있다는 사실을 인식해야 함. 세계 여러 지역의 다양한 현상에 관심을 가진. 세계 모든 구성원을 이해하고 상호 협력하는 데 중요한 역할을 함.

03 지역의 변화와 역동성

1. 세계화가 지역에 미치는 영향

세계화	<ul style="list-style-type: none"> 의미: 사회 전반에 걸쳐 세계가 하나의 공동체로 통합되어 가는 현상 배경: 교통·통신의 발달로 상호 작용 범위가 전 세계로 (㉨)) 결과: 국경의 의미와 역할이 점차 줄어들고 있음.
경제의 세계화	<ul style="list-style-type: none"> 의미: 세계가 거대한 하나의 시장을 형성하는 현상 배경: 세계화에 따른 상품, 서비스, 자본 등의 활발한 교류 및 (㉩))와 초국적 기업의 등장 영향 <ul style="list-style-type: none"> - 기업: 여러 국가에서 상품을 생산 및 판매 - 소비자: 세계 각국의 다양한 상품 구입 사례: S사와 A사의 스마트폰 보급, N사와 A사의 신발 보급 등 문제점 <ul style="list-style-type: none"> - 국가 및 기업 간 경쟁이 더욱 치열해짐. - (㉪))가 더욱 커짐.
문화의 세계화	<ul style="list-style-type: none"> 의미: 세계 각 지역의 문화를 국경을 초월하여 경험할 수 있는 현상 배경: 세계화로 문화 요소의 활발한 교류 및 사회 관계망 서비스(SNS)의 발달 영향: 세계 각국의 다양한 문화를 쉽게 누릴 수 있음. 사례: 전 세계에 분포하는 같은 브랜드의 패스트푸드점, 세계 각지에서 일상복이 된 청바지 등 문제점 <ul style="list-style-type: none"> - 문화 교류로 특정 문화가 변형·약화·소멸되는 문제 발생 - (㉫)) 현상이 발생

2. 지역의 변화가 세계에 미친 영향

지역화	<ul style="list-style-type: none"> 의미: 한 지역이 세계적 차원에서 독자적인 가치를 지니는 현상 배경: 세계화 속에서 지역 문화의 전통과 정체성을 살리고자 함.
지역화 전략	<ul style="list-style-type: none"> (㉬)): 특정 지역의 지리적 요인과 관련 있는 상품에 지역명을 표시한 제도 (㉭)): 지역 상품과 서비스 등을 특별한 상표로 인식 (㉮)): 지역의 특정 장소를 매력적인 상품으로 발전
사례	<ul style="list-style-type: none"> 브라질의 쿠리치바: 도시 교통 정책 모델 영국 가스탕: 세계 최초 공정 무역 도시

정답

답례문 주요 ㉠ ㉡ ㉢ ㉣ ㉤ ㉥ ㉦ ㉧ ㉨ ㉩ ㉪ ㉫ ㉬ ㉭ ㉮ ㉯ ㉰ ㉱ ㉲ ㉳ ㉴ ㉵ ㉶ ㉷ ㉸ ㉹ ㉺ ㉻ ㉼ ㉽ ㉾ ㉿ ㊀ ㊁ ㊂ ㊃ ㊄ ㊅ ㊆ ㊇ ㊈ ㊉ ㊊ ㊋ ㊌ ㊍ ㊎ ㊏ ㊐ ㊑ ㊒ ㊓ ㊔ ㊕ ㊖ ㊗ ㊘ ㊙ ㊚ ㊛ ㊜ ㊝ ㊞ ㊟ ㊠ ㊡ ㊢ ㊣ ㊤ ㊥ ㊦ ㊧ ㊨ ㊩ ㊪ ㊫ ㊬ ㊭ ㊮ ㊯ ㊰ ㊱ ㊲ ㊳ ㊴ ㊵ ㊶ ㊷ ㊸ ㊹ ㊺ ㊻ ㊼ ㊽ ㊾ ㊿

문제로 복습하기

중요

01 (가)~(다)가 나타내는 위치를 연결한 것으로 옳은 것은?

- (가) 대한민국은 아시아의 동쪽, 태평양의 북쪽에 위치하고 있다.
 (나) 대한민국은 북위 33~43°, 동경 123~132°에 위치하고 있다.
 (다) 대한민국은 최근 한반도 주변 4대 강국과 우호 관계를 맺으면서 동아시아의 중심적 위치에 위치하고 있다.

	(가)	(나)	(다)
① 상대적 위치	수리적 위치	지리적 위치	지리적 위치
② 수리적 위치	지리적 위치	상대적 위치	상대적 위치
③ 수리적 위치	상대적 위치	지리적 위치	지리적 위치
④ 지리적 위치	수리적 위치	상대적 위치	상대적 위치
⑤ 지리적 위치	상대적 위치	수리적 위치	수리적 위치

02 지역성이 형성된 요인이 다른 것은?

- 베트남은 고온 다습한 환경으로 인해 벼농사가 발달하였다.
- 인도는 힌두교의 영향으로 소를 신성시하는 문화가 발달하였다.
- 이집트는 건조한 환경으로 인해 길고 혈령한 의복 문화가 발달하였다.
- 이탈리아는 고온 건조한 환경으로 인해 여름철에는 수목 농업이 발달하였다.
- 시베리아 지역은 한랭한 환경으로 인해 순록을 기르는 유목 문화가 발달하였다.

03 다음에서 설명하고 있는 국가로 옳은 것은?

적도 근처에 위치하여 덥고 습한 열대 기후가 나타나며, 음식이 쉽게 상하는 것을 막기 위해 향신료를 많이 사용한다. 또한 중국과의 교류 빈도가 잦다.

- ① 몽골 ② 멕시코 ③ 프랑스
 ④ 핀란드 ⑤ 인도네시아

중요

04 공간적 상호 작용의 발달 배경으로 옳은 것을 <보기>에서 고른 것은?

보기

- ㄱ. 자동차
 ㄴ. 고속 철도
 ㄷ. 동영상 공유 플랫폼
 ㄹ. 세계 해저 인터넷 연결망
 ㅁ. 사회 관계망 서비스(SNS)

	교통의 발달	통신의 발달
①	ㄱ, ㄴ	ㄷ, ㄹ, ㅁ
②	ㄱ, ㅁ	ㄴ, ㄷ, ㄹ
③	ㄴ, ㄷ	ㄱ, ㄹ, ㅁ
④	ㄱ, ㄹ, ㅁ	ㄴ, ㄷ
⑤	ㄷ, ㄹ, ㅁ	ㄱ, ㄴ

05 지도는 어느 초국적 기업의 조직 분포를 나타낸 것이다. 이를 보고 추론한 내용으로 옳지 않은 것은?



- 초국적 기업은 세계 규모 네트워크를 이용한다.
- 세계 규모 네트워크가 활성화될수록 경제의 세계화는 더욱 강화된다.
- 초국적 기업이 발달할수록 지역 및 국가 간 상호연계성과 상호의존성은 약화된다.
- 초국적 기업은 세계 규모 네트워크뿐만 아니라, 지역 규모, 국가 규모 네트워크도 함께 사용한다.
- 세계 규모 네트워크를 이용하는 다른 사례로는 전 세계에서 제작, 유통되는 의류 산업이 있다.

중요

06 경제의 세계화에 대한 설명으로 옳은 것을 <보기>에서 고른 것은?

보기

- ㄱ. 대표적인 사례로는 S사와 A사의 스마트폰 보급이 있다.
- ㄴ. 경제의 세계화로 인해 각 지역의 지역성이 더욱 강화되었다.
- ㄷ. 기업은 경제의 세계화로 이득을 볼 수 있지만, 소비자는 이득을 얻을 수 없다.
- ㄹ. 세계 무역 기구(WTO) 및 초국적 기업의 등장 이 경제의 세계화의 배경이 되었다.

- ① ㄱ, ㄴ ② ㄱ, ㄹ ③ ㄴ, ㄷ
- ④ ㄴ, ㄹ ⑤ ㄷ, ㄹ

07 사진은 세계의 다양한 형태의 햄버거이다. 사진과 관련된 문화의 세계화에 대한 설명으로 옳지 않은 것은?



▲ 소시지를 넣은 독일 햄버거 ▲ 케밥 형태의 튀르키예 햄버거

- ① 세계화와 지역화 현상은 서로 함께 일어날 수 없다.
- ② 우리나라에서는 쌀을 활용한 라이스 버거를 예시로 들 수 있다.
- ③ 초국적 기업의 발달로 다양한 문화를 쉽게 누릴 수 있게 되었다.
- ④ 세계화 현상 속에서 지역 문화의 전통과 정체성을 살리고자 하였다.
- ⑤ 햄버거 문화가 전 세계에 나타나는 것은 문화의 세계화 현상에 해당한다.

08 지역화 전략과 사례를 연결한 것으로 옳은 것은?

- ① 장소 마케팅 - 브라질의 리우 카니발
- ② 장소 마케팅 - 콜롬비아의 콜롬비안 커피
- ③ 지역 브랜드화 - 프랑스의 카망베르 치즈
- ④ 지리적 표시제 - 타이의 송크란 축제
- ⑤ 지리적 표시제 - 미국 뉴욕의 I♥NY

09 다음에서 설명하는 쿠리치바의 도시 교통 정책이 다른 도시에 미치는 영향으로 옳은 것은?



인구 급증으로 인한 교통 체증, 환경 오염 등의 문제가 나타난 쿠리치바는 버스 중심의 교통 체계를 마련하여 교통 문제를 해결하였다.

- ① 교통 혼잡을 해결할 수 있는 모델이 되었다.
- ② 인구 밀집에 따른 인구 분산 정책을 제시하였다.
- ③ 대중교통 이용을 줄이기 위한 정책을 강화하였다.
- ④ 대기 오염의 증가로 환경 규제 정책을 강화하였다.
- ⑤ 버스가 다닐 수 있는 고속 도로 건설을 촉진하였다.

서술형 문제

10 다음 글에서 나타나는 세계화의 문제점에 대해 서술하십시오.

2000년대 후반부터 글로벌 브랜드들이 전 세계적으로 빠르게 확산하면서 유명 도시 중심가에서 동일한 패스트푸드 매장과 커피 체인점이 자리 잡고 있다. 이로 인해 각 도시의 독특한 상업적 풍경과 문화는 사라지고, 여행객은 더 이상 그 도시의 전통적인 매력이나 개성을 경험하기가 어려워지고 있다.

01 아시아의 위치와 자연환경

1. 아시아의 국가와 도시

위치	<ul style="list-style-type: none"> • 유라시아 대륙의 동쪽에 위치 • 지리적 범위 <ul style="list-style-type: none"> - 서쪽으로 유럽, 서남쪽으로 아프리카, 동쪽으로 태평양, 남쪽으로 인도양과 접하고 있음. - 유럽과는 ①)을 기준으로 구분함. - 아프리카와는 ②)를 사이에 두고 이웃함.
국가와 주요 도시	<ul style="list-style-type: none"> • 동아시아: 우리나라(서울), ③) (베이징) 등 • 동남아시아: 타이(방콕), 필리핀(마닐라) 등 • 남부 아시아: 인도(뉴델리), 네팔(카트만두) 등 • 서남아시아: 이라크(바그다드), 사우디아라비아(리야드) 등 • 중앙아시아: ④) (타슈켄트) 등

2. 아시아의 자연환경

지형	<ul style="list-style-type: none"> • 산지, 고원 <ul style="list-style-type: none"> - ⑤) 산맥: 아시아 대륙의 중앙에 위치, 높고 험준함. - 티베트고원, 파미르고원: 히말라야산맥 북쪽에 위치 • 사막 <ul style="list-style-type: none"> - ⑥) 사막: 유라시아 대륙 내부에 위치 - 룬알할리 사막: 아라비아반도에 위치 • 하천 <ul style="list-style-type: none"> - 티그리스-유프라테스강, 인더스강, 황허강 등 주요 하천 유역의 평야 지대는 고대 문명의 중심지를 이룸. - 갠지스강, 메콩강, 창장강 등: 세계적인 곡창 지대 • 화산 지형: 일본, 필리핀 등 환태평양 조산대
열대 기후	<ul style="list-style-type: none"> • 분포: 적도와 가까운 동남아시아, 남부 아시아 일부 • 연중 기온이 높고 강수량이 많음. • 연중 강수량이 풍부하여 열대림이 분포 • ⑦) 가옥이 나타나고, 플랜테이션이 이루어짐.
온대 기후	<ul style="list-style-type: none"> • 분포: 중위도에 위치한 동아시아, 남부 아시아 일부 • 여름에 덥고 비가 많이 내리며, 겨울에는 춥고 건조함. • ⑧)의 영향으로 벼농사 발달
냉대 기후	<ul style="list-style-type: none"> • 분포: 고위도 지역 • 겨울이 춥고 길. • 침엽수림 지대인 ⑨)가 넓게 분포
한대 기후	<ul style="list-style-type: none"> • 분포: 북극과 가까운 지역 • 기온이 낮아 식생이 자라기 어려움. • 순록을 키우며 이동 생활을 하는 유목이 이루어짐.
건조 기후	<ul style="list-style-type: none"> • 분포: 서남아시아, 중앙아시아 • 강수량이 매우 적고, 연 강수량보다 연 증발량이 많음. • 사막이나 초원이 넓게 분포 • 대부분 온몸을 감싸는 긴 옷을 입고, ⑩)이 발달

02 아시아의 종교와 문화 다양성

1. 아시아의 종교

불교	<ul style="list-style-type: none"> • 분포: 동아시아 및 동남아시아 • 문화경관: 불상과 탑 등이 있는 불교 사원 • 사례: 슈웨다곤 파고다(미얀마), 왓 프라싱 사원(타이) • 생활양식 <ul style="list-style-type: none"> - 개인의 명상과 수행을 통한 깨달음을 중시 - 살생을 금지하여 채식을 선호 - 이른 아침 승려에게 음식을 공양하기도 함.
이슬람교	<ul style="list-style-type: none"> • 분포: 서남·중앙아시아, 남부·동남아시아 일부 • 문화경관: 둥근 돔과 첨탑 등이 있는 ⑪) • 사례: 카바 신전(사우디아라비아), 셰이크 자이드 그랜드 모스크(아랍 에미리트) • 생활양식 <ul style="list-style-type: none"> - 쿠란(경전), 할랄 푸드(음식), 히잡(전통 의상) - 돼지고기와 술을 금기시함. - 하루에 다섯 번 메카를 향해 기도를 함. - 성지 순례와 금식 기간 준수 등의 의무가 있음.
크리스트교	<ul style="list-style-type: none"> • 분포: ⑫)에서 가장 영향력이 높음. • 문화경관: 십자가와 종탑이 있는 성당이나 교회 • 사례: 마닐라 대성당(필리핀), 성모 교회(이스라엘) • 생활양식 <ul style="list-style-type: none"> - 성경의 가르침을 따름. - 성당이나 교회에서 예배하고, 결혼·장례 등을 치름.
힌두교	<ul style="list-style-type: none"> • 분포: 인도와 그 주변 • 문화경관: 다양한 신을 표현한 조각상과 그림이 있는 힌두교 사원 • 사례: 스리미낙시 사원(인도) • 생활양식 <ul style="list-style-type: none"> - 여러 신을 섬기며, 인도의 카스트 제도에 영향 - 소를 신성한 동물로 여겨 소고기를 먹지 않음. - ⑬)을 성스럽게 여겨 강물에 목욕을 함.

2. 아시아의 종교 갈등과 공존

종교 갈등	<ul style="list-style-type: none"> • ⑭): 힌두교(인도), 이슬람교(파키스탄) • 이스라엘-팔레스타인: 유대교(이스라엘), 이슬람교(팔레스타인) • 스리랑카: 불교(신할리족), 힌두교(타밀족) • 미얀마 라카인주: 불교(버마족), 이슬람교(로힝아족)
종교 공존	<ul style="list-style-type: none"> • 싱가포르, 말레이시아, 인도네시아에서는 여러 종교의 공존을 위해 노력함. • 개인은 ⑮)의 관점에서 다양한 문화를 존중하고 수용하는 세계시민의 자질을 길러야 함.

정답

① 북반구 ② 아프리카 ③ 중국 ④ 중앙아시아 ⑤ 히말라야 ⑥ 티베트고원 ⑦ 열대림 ⑧ 몬순 ⑨ 북반구 ⑩ 털모자 ⑪ 성당 ⑫ 동아시아 ⑬ 소 ⑭ 파키스탄 ⑮ 다문화

03 아시아의 인구 특징과 지역 변화

1. 아시아의 인구 특징

인구 성장	<ul style="list-style-type: none"> • 자연적 요인: 온화한 기후로 인해 인구 부양력이 높은 ①)을 재배하여 인구 증가 • 인문적 요인: 산업 혁명 이후, 경제·교통·산업이 발달한 도시로 인구 집중
인구 분포	<ul style="list-style-type: none"> • 동아시아: 최근 인구 성장이 정체되고 있음. <ul style="list-style-type: none"> - 중국(세계 2위), 아시아에서 두 번째로 인구가 많음. • 동남아시아: 최근 인구가 증가하는 추세 <ul style="list-style-type: none"> - 지역 내 인구는 ②) (세계 4위)의 인구가 가장 많음. • 남부 아시아: 아시아에서 인구가 가장 많은 지역 <ul style="list-style-type: none"> - 인도(세계 1위), 파키스탄(세계 5위), 방글라데시(세계 8위) • 서남아시아, 중앙아시아: 건조 기후의 영향으로 상대적으로 인구가 적음. <ul style="list-style-type: none"> - 최근 일부 ③) 중심으로 인구 유입이 많아짐.
인구 이동	<ul style="list-style-type: none"> • 의미: 인구가 한 장소에서 다른 장소로 옮겨 가는 것 • ④) 이동: 소득이 비교적 낮고 고용 기회가 적은 곳 → 고임금 일자리가 있는 곳 • ⑤) 이동: 내전 등 정치적인 이유로 인한 난민의 이동

2. 아시아 인구 구조와 지역 변화

인구 증가 지역	<ul style="list-style-type: none"> • 인구 구조: 전체 인구에서 유소년층의 비율이 높아 중위 연령이 낮음. • 분포: 파키스탄, 필리핀 등 남부 및 ⑥) 아시아 지역 • 원인 <ul style="list-style-type: none"> - 남부 아시아, 동남아시아 국가들의 높은 합계 출산율 - 생활 수준의 향상과 의학 기술 발달로 기대 수명 증가 • 문제점: 식량 및 자원 부족, 환경 오염, 높은 실업률 등 • 현황: ⑦) 비중이 커지면서 국가의 경제 성장 잠재력 확보
저출산 고령화 지역	<ul style="list-style-type: none"> • 인구 구조: 전체 인구에서 유소년층 비율은 줄고 노년층 비율이 늘어나 중위 연령이 높음. • 분포: 경제 발전 수준이 높은 우리나라, 일본 등의 국가 • 원인 <ul style="list-style-type: none"> - 결혼과 자녀에 대한 가치관의 변화 등으로 합계 출산율 ⑧) - 생활 수준의 향상과 의학 기술의 발달로 기대 수명 증가 • 문제점: 생산 가능 인구 비중이 줄어들어 ⑨) 부족 현상 발생, 경제 성장 둔화, 노인 복지 비용 증가 • 해결책: 연금 제도 등 사회 보장 제도 정비, 출산 장려 정책과 양육 및 보육 지원 시설 확충 등

04 아시아의 산업 특징과 변화

1. 아시아의 산업 특징과 변화

천연자원 생산	<ul style="list-style-type: none"> • 다양한 천연자원을 보유하고 있어, 생산량이 많음. • ⑩) 자원: 석탄(중국), 석유, 천연가스(서남아시아) 등 • 광물 자원: 철광석, 주석, 희토류(중국, 인도) 등 • 곡물 자원: 쌀, 밀(동남·남부 아시아) 등 • 기타 자원: 천연고무, 팜유(동남·남부 아시아) 등
제조업	<ul style="list-style-type: none"> • 중화학 공업: 자동차, 철강(우리나라, 일본) 등 • ⑪) 제조업: 의류, 신발(중국, 인도) 등 • 첨단 제조업: 최근 기술 혁신을 바탕으로 육성
첨단 산업 문화 산업	<ul style="list-style-type: none"> • 첨단 산업: 반도체, 디스플레이(우리나라, 일본) 등 • 정보 통신 분야 성장: 베트남, 싱가포르 등 • 문화 산업: K-pop(우리나라), 애니메이션(일본) 등
산업 변화	<ul style="list-style-type: none"> • 산업 구조의 ⑫) : 아시아의 여러 국가에서는 제조업과 서비스업의 비중이 높아짐. • 특정 산업에 의존하기보다는 다양한 산업을 발전시키기 위해 노력함. • 아시아의 대표적인 산업 변화 지역 <ul style="list-style-type: none"> - 중국: 과거에는 '⑬)'이라고 불리며 노동 집약적 제조업을 주도하였으나 기존의 노동 집약적 제조업은 저임금 지역으로 이전 - 일본: 부품·소재 산업, 로봇 산업 등 첨단 산업 투자 - 인도: 농업, 제조업, 첨단 산업 등 다양한 산업 발달 - 동남아시아: 저임금 노동력과 풍부한 자원을 이용한 제조업 성장 - 서남아시아: 석유 자원을 바탕으로 관광·문화·물류 산업에 투자

2. 아시아의 산업 변화가 우리나라 산업에 미치는 영향

제조업	⑭)이 풍부하고 인건비가 저렴한 남부 및 동남아시아에 우리나라 기업의 생산 공장을 세워 협력
첨단 산업	<ul style="list-style-type: none"> • 아시아의 첨단 산업 발전으로 우리나라 기업의 기술 혁신에 영향 • 경쟁 및 협력을 통한 새로운 기술 확보
기반 시설 구축	서남아시아의 관광, 제조업 등에 필요한 기반 시설 구축에 우리나라 기업이 참여
문화 산업	<ul style="list-style-type: none"> • 아시아의 여러 국가에서는 경제 성장 이후 소비가 늘어나면서 문화 콘텐츠에 대한 수요가 증가 • 우리나라의 영화, 드라마, 음악, 인터넷 만화 등 문화 콘텐츠가 ⑮) 국가를 중심으로 인기 • 우리나라 문화 및 상품 수출 증가, 우리나라를 방문하는 관광객 증가

정답

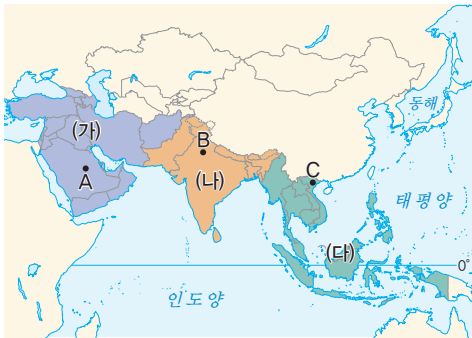
① 인도네시아 ② 동남아시아 ③ 중동 ④ 해외 ⑤ 미국 ⑥ 동남아시아 ⑦ 동남아시아 ⑧ 2.1 ⑨ 저임금 ⑩ 석유 ⑪ 의류 ⑫ 서비스업 ⑬ 중국 ⑭ 천연가스 ⑮ 동남아시아

문제로 복습하기

01 아시아에 대한 설명으로 옳은 것은?

- ① 세계에서 인구가 가장 많은 대륙이다.
- ② 아프리카와는 우랄산맥을 기준으로 구분한다.
- ③ 크리스티교와 이슬람교 경관은 나타나지 않는다.
- ④ 저임금 노동력이 풍부하여 첨단 산업은 발전하지 못하였다.
- ⑤ 종교 갈등이 모두 해결되어 종교의 공존이 이루어지고 있는 대륙이다.

[02-03] 지도를 보고 물음에 답하십시오.




02 지도의 (가)~(다) 지역에 대한 설명으로 옳은 것은?

- ① (가) - 일찍이 제조업이 발달하였다.
- ② (가) - 열대작물을 상업적으로 재배하고 있다.
- ③ (나) - 세계에서 인구가 가장 많은 국가가 위치한다.
- ④ (다) - 주로 건조 기후가 나타난다.
- ⑤ (다) - 다양한 신을 표현한 조각상과 그림이 있는 힌두교 사원이 주로 분포한다.

03 지도의 A~C 도시로 옳은 것은?

- | | A | B | C |
|---|-----|-----|-----|
| ① | 뉴델리 | 리야드 | 하노이 |
| ② | 뉴델리 | 하노이 | 리야드 |
| ③ | 리야드 | 뉴델리 | 하노이 |
| ④ | 리야드 | 하노이 | 뉴델리 |
| ⑤ | 하노이 | 리야드 | 뉴델리 |

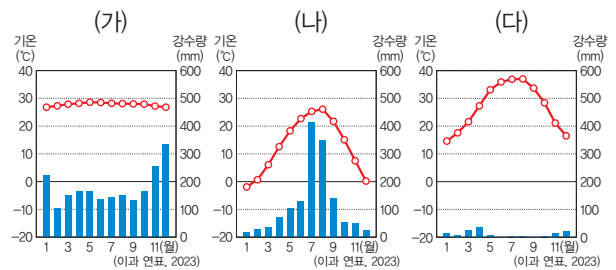
04 (가), (나) 경관이 나타나는 지역에 대한 설명으로 옳지 않은 것은?



- ① (가) 지역은 연중 기온이 높고, 강수량이 많다.
- ② (가) 지역은 차, 커피 등 열대작물을 상업적으로 재배하는 플랜테이션이 이루어진다.
- ③ (나) 지역은 기온이 낮아 식생이 자라기 어렵다.
- ④ (나) 지역은 이동 생활을 하는 유목이 이루어진다.
- ⑤ (가) 지역에 비해 (나) 지역의 위도가 낮을 것이다.

중요

05 (가)~(다) 기후 그래프가 나타나는 지역에 대한 설명으로 옳은 것을 <보기>에서 고른 것은?



보기

- ㄱ. (가) 지역에는 열대림이 분포한다.
- ㄴ. (나) 지역은 강수량이 적어 식생이 빈약하다.
- ㄷ. (다) 지역은 침엽수림인 타이가가 넓게 분포한다.
- ㄹ. (다) 지역에서는 대부분 온몸을 감싸는 긴 옷을 입는다.

- ① ㄱ, ㄴ
- ② ㄱ, ㄹ
- ③ ㄴ, ㄷ
- ④ ㄴ, ㄹ
- ⑤ ㄷ, ㄹ

중요

06 ㉠에 들어갈 종교에 대한 설명으로 옳지 않은 것은?



(㉠)을/를 주로 믿는 지역에는 둥근 돔과 첨탑 등이 있는 사원인 모스크가 나타난다.

- ① 알라를 유일신으로 섬긴다.
- ② 종교 경전인 쿠란을 바탕으로 생활한다.
- ③ 하루에 다섯 번 메카를 향해 기도를 한다.
- ④ 개인의 수행과 명상을 통한 깨달음을 중시한다.
- ⑤ 성지 순례와 금식 기간 준수 등 의무 사항이 있다.

07 아시아의 인구 구조와 지역 변화에 대한 설명으로 옳은 것은?

- ① 인구 증가 지역의 대표적인 국가는 우리나라, 일본이 있다.
- ② 인구 증가 지역은 가치관의 변화로 합계 출산율이 감소하고 있다.
- ③ 저출산·고령화 지역의 대표적인 국가는 파키스탄, 필리핀이 있다.
- ④ 인구 증가 지역은 생산 가능 인구가 많아져 경제가 발전할 가능성이 커진다.
- ⑤ 저출산·고령화를 해결하기 위해서는 출산 및 육아에 필요한 지원을 중단하는 정책이 필요하다.

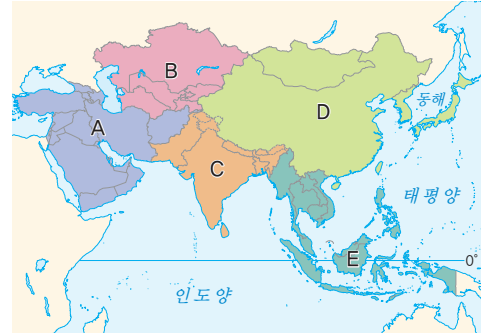
08 최근 저임금 노동력을 바탕으로 제조업이 성장하고 있는 국가를 지도의 A~D에서 고른 것은?



- ① A, C ② A, D ③ B, C
- ④ B, D ⑤ C, D

중요

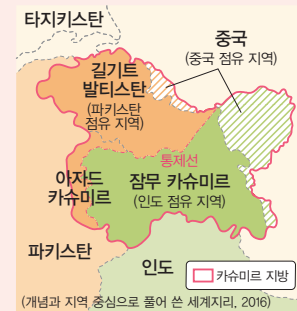
09 지도의 A~E 지역의 인구 특징에 대한 설명으로 옳은 것은?



- ① A, B 지역은 최근 산유국을 중심으로 인구 유입이 많아지고 있다.
- ② C 지역은 건조 기후의 영향으로 상대적으로 인구가 적다.
- ③ D 지역은 아시아에서 인구가 가장 많은 지역이다.
- ④ E 지역은 가치관의 변화 등으로 최근 인구 성장이 정체되고 있다.
- ⑤ 아시아에서는 경제적 이동만 나타날 뿐, 정치적 이동은 나타나지 않는다.

서술형 문제

10 지도는 인도와 파키스탄의 종교 갈등을 나타낸 것이다. 이를 보고 물음에 답하십시오.



- (1) 위 종교 갈등과 관련된 종교를 쓰시오.

- (2) 위 사례 이외에 아시아에서 나타나는 종교 갈등 지역과 관련된 종교를 한 가지 이상 서술하십시오.

01 유럽의 위치와 자연환경

1. 유럽의 국가와 도시

위치	<ul style="list-style-type: none"> 북반구의 중위도~고위도에 걸쳐 있음. 유라시아 대륙의 서쪽에 위치 지리적 범위 <ul style="list-style-type: none"> - 서쪽으로 대서양, 북쪽으로 북극해, 남쪽으로 지중해, 동쪽으로 아시아와 접하고 있음. - 아시아와는 ①) 산맥을 기준으로 구분함.
국가와 주요 도시	<ul style="list-style-type: none"> 서부 유럽 <ul style="list-style-type: none"> - 세계의 근대화와 산업화를 주도 - 영국(런던), 프랑스(파리), 독일(베를린), 벨기에(브뤼셀), ②) (로테르담), 오스트리아(빈) 등 북부 유럽 <ul style="list-style-type: none"> - 사회 복지 제도가 잘 갖추어짐. - ③) (스톡홀름), 노르웨이(오슬로), 핀란드(헬싱키), 아이슬란드(레이카비크) 등 남부 유럽 <ul style="list-style-type: none"> - 역사가 오래된 유적지, 따뜻한 기후 등 관광 산업 발달 - 에스파냐(마드리드, 바르셀로나), ④) (로마), 그리스(아테네), 포르투갈(리스본) 등 동부 유럽 <ul style="list-style-type: none"> - 농업 발달, 최근 빠르게 경제 성장 - ⑤) (모스크바), 폴란드(바르샤바), 체코(프라하), 헝가리(부다페스트), 우크라이나(키이우) 등



▲ 유럽의 지역 구분

2. 유럽의 지형

북부	<ul style="list-style-type: none"> ⑥) 산맥, 영국 북부의 산지: 비교적 형성 시기가 오래되어 침식을 많이 받아 낮고 완만함. 피오르 해안(송네 피오르), 빙하호 등 빙하 지형 발달
중부	<ul style="list-style-type: none"> 프랑스 평원, 북독일 평원, 동유럽 평원: 오랜 기간 침식을 받아 형성된 평야 ⑦) (다뉴브강), 라인강, 센강: 수운(운하) 발달 인구 밀도가 높고 하천을 따라 주요 도시 분포

남부	<ul style="list-style-type: none"> ⑧) 산맥(마터호른), 피레네산맥: 비교적 형성 시기가 오래되지 않아 높고 험준함. 산악 열차 등의 교통 발달로 관광 산업 발달
화산 지형	아이슬란드, 이탈리아 등에 다양한 화산 지형 분포

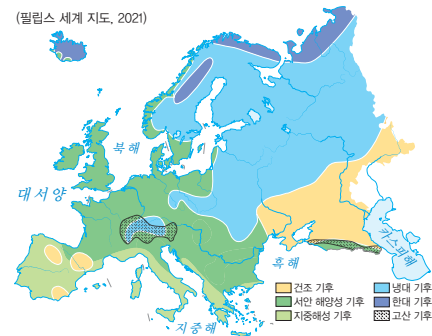


▲ 유럽의 지형

3. 유럽의 기후

서안 해양성 기후	<ul style="list-style-type: none"> 분포: ⑨) 유럽 비슷한 위도의 대륙 동안보다 겨울이 따뜻하여 기온의 연교차가 작고 강수량이 연중 고름. 난류(북대서양 난류)와 ⑩)의 영향을 받음. ⑪) 농업(식량 작물, 사료 작물 재배+가축 사육), 낙농업(유제품 생산, 원예 농업(꽃, 채소 등))
지중해성 기후	<ul style="list-style-type: none"> 분포: ⑫) 유럽 여름이 덥고 건조하며, 겨울이 따뜻하고 비가 자주 내림. 여름철에 ⑬) 농업(포도, 올리브, 오렌지 등), 겨울철에 ⑭) 농업(밀, 보리 등) 전통 음식에 올리브, 토마토 등을 많이 활용
냉대 기후	<ul style="list-style-type: none"> 분포: 동부 유럽, 북부 유럽 겨울이 추위 기온의 연교차가 ⑮) . 침엽수림이 넓게 분포 북부 유럽을 포함한 고위도 지역에서는 여름철에 백야 현상이 나타나며 겨울철에 오로라를 볼 수 있음.

(필립스 세계 지도, 2021)



▲ 유럽의 기후

정답

문 9) 롬 ㉞) 늑 ㉟) 습 ㉠) 룬 ㉡) 울 ㉢) ㉣) 습 ㉤) ㉥) 룬 ㉦) ㉧) 습 ㉨) ㉩) 습 ㉪) 룬 ㉫) 습 ㉬) 룬 ㉭) 습 ㉮) 룬 ㉯) 습 ㉺) 룬 ㉻) 습 ㉼) 룬 ㉽) 습 ㉾) 룬 ㉿) 습 ㊀) 룬 ㊁) 습 ㊂) 룬 ㊃) 습 ㊄) 룬 ㊅) 습 ㊆) 룬 ㊇) 습 ㊈) 룬 ㊉) 습 ㊊) 룬 ㊋) 습 ㊌) 룬 ㊍) 습 ㊎) 룬 ㊏) 습 ㊐) 룬 ㊑) 습 ㊒) 룬 ㊓) 습 ㊔) 룬 ㊕) 습 ㊖) 룬 ㊗) 습 ㊘) 룬 ㊙) 습 ㊚) 룬 ㊛) 습 ㊜) 룬 ㊝) 습 ㊞) 룬 ㊟) 습 ㊠) 룬 ㊡) 습 ㊢) 룬 ㊣) 습 ㊤) 룬 ㊥) 습 ㊦) 룬 ㊧) 습 ㊨) 룬 ㊩) 습 ㊪) 룬 ㊫) 습 ㊬) 룬 ㊭) 습 ㊮) 룬 ㊯) 습 ㊰) 룬 ㊱) 습 ㊲) 룬 ㊳) 습 ㊴) 룬 ㊵) 습 ㊶) 룬 ㊷) 습 ㊸) 룬 ㊹) 습 ㊺) 룬 ㊻) 습 ㊼) 룬 ㊽) 습 ㊾) 룬 ㊿) 습 ㊀) 룬 ㊁) 습 ㊂) 룬 ㊃) 습 ㊄) 룬 ㊅) 습 ㊆) 룬 ㊇) 습 ㊈) 룬 ㊉) 습 ㊊) 룬 ㊋) 습 ㊌) 룬 ㊍) 습 ㊎) 룬 ㊏) 습 ㊐) 룬 ㊑) 습 ㊒) 룬 ㊓) 습 ㊔) 룬 ㊕) 습 ㊖) 룬 ㊗) 습 ㊘) 룬 ㊙) 습 ㊚) 룬 ㊛) 습 ㊜) 룬 ㊝) 습 ㊞) 룬 ㊟) 습 ㊠) 룬 ㊡) 습 ㊢) 룬 ㊣) 습 ㊤) 룬 ㊥) 습 ㊦) 룬 ㊧) 습 ㊨) 룬 ㊩) 습 ㊪) 룬 ㊫) 습 ㊬) 룬 ㊭) 습 ㊮) 룬 ㊯) 습 ㊰) 룬 ㊱) 습 ㊲) 룬 ㊳) 습 ㊴) 룬 ㊵) 습 ㊶) 룬 ㊷) 습 ㊸) 룬 ㊹) 습 ㊺) 룬 ㊻) 습 ㊼) 룬 ㊽) 습 ㊾) 룬 ㊿) 습 ㊀) 룬 ㊁) 습 ㊂) 룬 ㊃) 습 ㊄) 룬 ㊅) 습 ㊆) 룬 ㊇) 습 ㊈) 룬 ㊉) 습 ㊊) 룬 ㊋) 습 ㊌) 룬 ㊍) 습 ㊎) 룬 ㊏) 습 ㊐) 룬 ㊑) 습 ㊒) 룬 ㊓) 습 ㊔) 룬 ㊕) 습 ㊖) 룬 ㊗) 습 ㊘) 룬 ㊙) 습 ㊚) 룬 ㊛) 습 ㊜) 룬 ㊝) 습 ㊞) 룬 ㊟) 습 ㊠) 룬 ㊡) 습 ㊢) 룬 ㊣) 습 ㊤) 룬 ㊥) 습 ㊦) 룬 ㊧) 습 ㊨) 룬 ㊩) 습 ㊪) 룬 ㊫) 습 ㊬) 룬 ㊭) 습 ㊮) 룬 ㊯) 습 ㊰) 룬 ㊱) 습 ㊲) 룬 ㊳) 습 ㊴) 룬 ㊵) 습 ㊶) 룬 ㊷) 습 ㊸) 룬 ㊹) 습 ㊺) 룬 ㊻) 습 ㊼) 룬 ㊽) 습 ㊾) 룬 ㊿) 습 ㊀) 룬 ㊁) 습 ㊂) 룬 ㊃) 습 ㊄) 룬 ㊅) 습 ㊆) 룬 ㊇) 습 ㊈) 룬 ㊉) 습 ㊊) 룬 ㊋) 습 ㊌) 룬 ㊍) 습 ㊎) 룬 ㊏) 습 ㊐) 룬 ㊑) 습 ㊒) 룬 ㊓) 습 ㊔) 룬 ㊕) 습 ㊖) 룬 ㊗) 습 ㊘) 룬 ㊙) 습 ㊚) 룬 ㊛) 습 ㊜) 룬 ㊝) 습 ㊞) 룬 ㊟) 습 ㊠) 룬 ㊡) 습 ㊢) 룬 ㊣) 습 ㊤) 룬 ㊥) 습 ㊦) 룬 ㊧) 습 ㊨) 룬 ㊩) 습 ㊪) 룬 ㊫) 습 ㊬) 룬 ㊭) 습 ㊮) 룬 ㊯) 습 ㊰) 룬 ㊱) 습 ㊲) 룬 ㊳) 습 ㊴) 룬 ㊵) 습 ㊶) 룬 ㊷) 습 ㊸) 룬 ㊹) 습 ㊺) 룬 ㊻) 습 ㊼) 룬 ㊽) 습 ㊾) 룬 ㊿) 습 ㊀) 룬 ㊁) 습 ㊂) 룬 ㊃) 습 ㊄) 룬 ㊅) 습 ㊆) 룬 ㊇) 습 ㊈) 룬 ㊉) 습 ㊊) 룬 ㊋) 습 ㊌) 룬 ㊍) 습 ㊎) 룬 ㊏) 습 ㊐) 룬 ㊑) 습 ㊒) 룬 ㊓) 습 ㊔) 룬 ㊕) 습 ㊖) 룬 ㊗) 습 ㊘) 룬 ㊙) 습 ㊚) 룬 ㊛) 습 ㊜) 룬 ㊝) 습 ㊞) 룬 ㊟) 습 ㊠) 룬 ㊡) 습 ㊢) 룬 ㊣) 습 ㊤) 룬 ㊥) 습 ㊦) 룬 ㊧) 습 ㊨) 룬 ㊩) 습 ㊪) 룬 ㊫) 습 ㊬) 룬 ㊭) 습 ㊮) 룬 ㊯) 습 ㊰) 룬 ㊱) 습 ㊲) 룬 ㊳) 습 ㊴) 룬 ㊵) 습 ㊶) 룬 ㊷) 습 ㊸) 룬 ㊹) 습 ㊺) 룬 ㊻) 습 ㊼) 룬 ㊽) 습 ㊾) 룬 ㊿) 습 ㊀) 룬 ㊁) 습 ㊂) 룬 ㊃) 습 ㊄) 룬 ㊅) 습 ㊆) 룬 ㊇) 습 ㊈) 룬 ㊉) 습 ㊊) 룬 ㊋) 습 ㊌) 룬 ㊍) 습 ㊎) 룬 ㊏) 습 ㊐) 룬 ㊑) 습 ㊒) 룬 ㊓) 습 ㊔) 룬 ㊕) 습 ㊖) 룬 ㊗) 습 ㊘) 룬 ㊙) 습 ㊚) 룬 ㊛) 습 ㊜) 룬 ㊝) 습 ㊞) 룬 ㊟) 습 ㊠) 룬 ㊡) 습 ㊢) 룬 ㊣) 습 ㊤) 룬 ㊥) 습 ㊦) 룬 ㊧) 습 ㊨) 룬 ㊩) 습 ㊪) 룬 ㊫) 습 ㊬) 룬 ㊭) 습 ㊮) 룬 ㊯) 습 ㊰) 룬 ㊱) 습 ㊲) 룬 ㊳) 습 ㊴) 룬 ㊵) 습 ㊶) 룬 ㊷) 습 ㊸) 룬 ㊹) 습 ㊺) 룬 ㊻) 습 ㊼) 룬 ㊽) 습 ㊾) 룬 ㊿) 습 ㊀) 룬 ㊁) 습 ㊂) 룬 ㊃) 습 ㊄) 룬 ㊅) 습 ㊆) 룬 ㊇) 습 ㊈) 룬 ㊉) 습 ㊊) 룬 ㊋) 습 ㊌) 룬 ㊍) 습 ㊎) 룬 ㊏) 습 ㊐) 룬 ㊑) 습 ㊒) 룬 ㊓) 습 ㊔) 룬 ㊕) 습 ㊖) 룬 ㊗) 습 ㊘) 룬 ㊙) 습 ㊚) 룬 ㊛) 습 ㊜) 룬 ㊝) 습 ㊞) 룬 ㊟) 습 ㊠) 룬 ㊡) 습 ㊢) 룬 ㊣) 습 ㊤) 룬 ㊥) 습 ㊦) 룬 ㊧) 습 ㊨) 룬 ㊩) 습 ㊪) 룬 ㊫) 습 ㊬) 룬 ㊭) 습 ㊮) 룬 ㊯) 습 ㊰) 룬 ㊱) 습 ㊲) 룬 ㊳) 습 ㊴) 룬 ㊵) 습 ㊶) 룬 ㊷) 습 ㊸) 룬 ㊹) 습 ㊺) 룬 ㊻) 습 ㊼) 룬 ㊽) 습 ㊾) 룬 ㊿) 습 ㊀) 룬 ㊁) 습 ㊂) 룬 ㊃) 습 ㊄) 룬 ㊅) 습 ㊆) 룬 ㊇) 습 ㊈) 룬 ㊉) 습 ㊊) 룬 ㊋) 습 ㊌) 룬 ㊍) 습 ㊎) 룬 ㊏) 습 ㊐) 룬 ㊑) 습 ㊒) 룬 ㊓) 습 ㊔) 룬 ㊕) 습 ㊖) 룬 ㊗) 습 ㊘) 룬 ㊙) 습 ㊚) 룬 ㊛) 습 ㊜) 룬 ㊝) 습 ㊞) 룬 ㊟) 습 ㊠) 룬 ㊡) 습 ㊢) 룬 ㊣) 습 ㊤) 룬 ㊥) 습 ㊦) 룬 ㊧) 습 ㊨) 룬 ㊩) 습 ㊪) 룬 ㊫) 습 ㊬) 룬 ㊭) 습 ㊮) 룬 ㊯) 습 ㊰) 룬 ㊱) 습 ㊲) 룬 ㊳) 습 ㊴) 룬 ㊵) 습 ㊶) 룬 ㊷) 습 ㊸) 룬 ㊹) 습 ㊺) 룬 ㊻) 습 ㊼) 룬 ㊽) 습 ㊾) 룬 ㊿) 습 ㊀) 룬 ㊁) 습 ㊂) 룬 ㊃) 습 ㊄) 룬 ㊅) 습 ㊆) 룬 ㊇) 습 ㊈) 룬 ㊉) 습 ㊊) 룬 ㊋) 습 ㊌) 룬 ㊍) 습 ㊎) 룬 ㊏) 습 ㊐) 룬 ㊑) 습 ㊒) 룬 ㊓) 습 ㊔) 룬 ㊕) 습 ㊖) 룬 ㊗) 습 ㊘) 룬 ㊙) 습 ㊚) 룬 ㊛) 습 ㊜) 룬 ㊝) 습 ㊞) 룬 ㊟) 습 ㊠) 룬 ㊡) 습 ㊢) 룬 ㊣) 습 ㊤) 룬 ㊥) 습 ㊦) 룬 ㊧) 습 ㊨) 룬 ㊩) 습 ㊪) 룬 ㊫) 습 ㊬) 룬 ㊭) 습 ㊮) 룬 ㊯) 습 ㊰) 룬 ㊱) 습 ㊲) 룬 ㊳) 습 ㊴) 룬 ㊵) 습 ㊶) 룬 ㊷) 습 ㊸) 룬 ㊹) 습 ㊺) 룬 ㊻) 습 ㊼) 룬 ㊽) 습 ㊾) 룬 ㊿) 습 ㊀) 룬 ㊁) 습 ㊂) 룬 ㊃) 습 ㊄) 룬 ㊅) 습 ㊆) 룬 ㊇) 습 ㊈) 룬 ㊉) 습 ㊊) 룬 ㊋) 습 ㊌) 룬 ㊍) 습 ㊎) 룬 ㊏) 습 ㊐) 룬 ㊑) 습 ㊒) 룬 ㊓) 습 ㊔) 룬 ㊕) 습 ㊖) 룬 ㊗) 습 ㊘) 룬 ㊙) 습 ㊚) 룬 ㊛) 습 ㊜) 룬 ㊝) 습 ㊞) 룬 ㊟) 습 ㊠) 룬 ㊡) 습 ㊢) 룬 ㊣) 습 ㊤) 룬 ㊥) 습 ㊦) 룬 ㊧) 습 ㊨) 룬 ㊩) 습 ㊪) 룬 ㊫) 습 ㊬) 룬 ㊭) 습 ㊮) 룬 ㊯) 습 ㊰) 룬 ㊱) 습 ㊲) 룬 ㊳) 습 ㊴) 룬 ㊵) 습 ㊶) 룬 ㊷) 습 ㊸) 룬 ㊹) 습 ㊺) 룬 ㊻) 습 ㊼) 룬 ㊽) 습 ㊾) 룬 ㊿) 습 ㊀) 룬 ㊁) 습 ㊂) 룬 ㊃) 습 ㊄) 룬 ㊅) 습 ㊆) 룬 ㊇) 습 ㊈) 룬 ㊉) 습 ㊊) 룬 ㊋) 습 ㊌) 룬 ㊍) 습 ㊎) 룬 ㊏) 습 ㊐) 룬 ㊑) 습 ㊒) 룬 ㊓) 습 ㊔) 룬 ㊕) 습 ㊖) 룬 ㊗) 습 ㊘) 룬 ㊙) 습 ㊚) 룬 ㊛) 습 ㊜) 룬 ㊝) 습 ㊞) 룬 ㊟) 습 ㊠) 룬 ㊡) 습 ㊢) 룬 ㊣) 습 ㊤) 룬 ㊥) 습 ㊦) 룬 ㊧) 습 ㊨) 룬 ㊩) 습 ㊪) 룬 ㊫) 습 ㊬) 룬 ㊭) 습 ㊮) 룬 ㊯) 습 ㊰) 룬 ㊱) 습 ㊲) 룬 ㊳) 습 ㊴) 룬 ㊵) 습 ㊶) 룬 ㊷) 습 ㊸) 룬 ㊹) 습 ㊺) 룬 ㊻) 습 ㊼) 룬 ㊽) 습 ㊾) 룬 ㊿) 습 ㊀) 룬 ㊁) 습 ㊂) 룬 ㊃) 습 ㊄) 룬 ㊅) 습 ㊆) 룬 ㊇) 습 ㊈) 룬 ㊉) 습 ㊊) 룬 ㊋) 습 ㊌) 룬 ㊍) 습 ㊎) 룬 ㊏) 습 ㊐) 룬 ㊑) 습 ㊒) 룬 ㊓) 습 ㊔) 룬 ㊕) 습 ㊖) 룬 ㊗) 습 ㊘) 룬 ㊙) 습 ㊚) 룬 ㊛) 습 ㊜) 룬 ㊝) 습 ㊞) 룬 ㊟) 습 ㊠) 룬 ㊡) 습 ㊢) 룬 ㊣) 습 ㊤) 룬 ㊥) 습 ㊦) 룬 ㊧) 습 ㊨) 룬 ㊩) 습 ㊪) 룬 ㊫) 습 ㊬) 룬 ㊭) 습 ㊮) 룬 ㊯) 습 ㊰) 룬 ㊱) 습 ㊲) 룬 ㊳) 습 ㊴) 룬 ㊵) 습 ㊶) 룬 ㊷) 습 ㊸) 룬 ㊹) 습 ㊺) 룬 ㊻) 습 ㊼) 룬 ㊽) 습 ㊾) 룬 ㊿) 습 ㊀) 룬 ㊁) 습 ㊂) 룬 ㊃) 습 ㊄) 룬 ㊅) 습 ㊆) 룬 ㊇) 습 ㊈) 룬 ㊉) 습 ㊊) 룬 ㊋) 습 ㊌) 룬 ㊍) 습 ㊎) 룬 ㊏) 습 ㊐) 룬 ㊑) 습 ㊒) 룬 ㊓) 습 ㊔) 룬 ㊕) 습 ㊖) 룬 ㊗) 습 ㊘) 룬 ㊙) 습 ㊚) 룬 ㊛) 습 ㊜) 룬 ㊝) 습 ㊞) 룬 ㊟) 습 ㊠) 룬 ㊡) 습 ㊢) 룬 ㊣) 습 ㊤) 룬 ㊥) 습 ㊦) 룬 ㊧) 습 ㊨) 룬 ㊩) 습 ㊪) 룬 ㊫) 습 ㊬) 룬 ㊭) 습 ㊮) 룬 ㊯) 습 ㊰) 룬 ㊱) 습 ㊲) 룬 ㊳) 습 ㊴) 룬 ㊵) 습 ㊶) 룬 ㊷) 습 ㊸) 룬 ㊹) 습 ㊺) 룬 ㊻) 습 ㊼) 룬 ㊽) 습 ㊾) 룬 ㊿) 습 ㊀) 룬 ㊁) 습 ㊂) 룬 ㊃) 습 ㊄) 룬 ㊅) 습 ㊆) 룬 ㊇) 습 ㊈) 룬 ㊉) 습 ㊊) 룬 ㊋) 습 ㊌) 룬 ㊍) 습 ㊎) 룬 ㊏) 습 ㊐) 룬 ㊑) 습 ㊒) 룬 ㊓) 습 ㊔) 룬 ㊕) 습 ㊖) 룬 ㊗) 습 ㊘) 룬 ㊙) 습 ㊚) 룬 ㊛) 습 ㊜) 룬 ㊝) 습 ㊞) 룬 ㊟) 습 ㊠) 룬 ㊡) 습 ㊢) 룬 ㊣) 습 ㊤) 룬 ㊥) 습 ㊦) 룬 ㊧) 습 ㊨) 룬 ㊩) 습 ㊪) 룬 ㊫) 습 ㊬) 룬 ㊭) 습 ㊮) 룬 ㊯) 습 ㊰) 룬 ㊱) 습 ㊲) 룬 ㊳) 습 ㊴) 룬 ㊵) 습 ㊶) 룬 ㊷) 습 ㊸) 룬 ㊹) 습 ㊺) 룬 ㊻) 습 ㊼) 룬 ㊽) 습 ㊾) 룬 ㊿) 습 ㊀) 룬 ㊁) 습 ㊂) 룬 ㊃) 습 ㊄) 룬 ㊅) 습 ㊆) 룬 ㊇) 습 ㊈) 룬 ㊉) 습 ㊊) 룬 ㊋) 습 ㊌) 룬 ㊍) 습 ㊎) 룬 ㊏) 습 ㊐) 룬 ㊑) 습 ㊒) 룬 ㊓) 습 ㊔) 룬 ㊕) 습 ㊖) 룬 ㊗) 습 ㊘) 룬 ㊙) 습 ㊚) 룬 ㊛) 습 ㊜) 룬 ㊝) 습 ㊞) 룬 ㊟) 습 ㊠) 룬 ㊡) 습 ㊢) 룬 ㊣) 습 ㊤) 룬 ㊥) 습 ㊦) 룬 ㊧) 습 ㊨) 룬 ㊩) 습 ㊪) 룬 ㊫) 습 ㊬) 룬 ㊭) 습 ㊮) 룬 ㊯) 습 ㊰) 룬 ㊱) 습 ㊲) 룬 ㊳) 습 ㊴) 룬 ㊵) 습 ㊶) 룬 ㊷) 습 ㊸) 룬 ㊹) 습 ㊺) 룬 ㊻) 습 ㊼) 룬 ㊽) 습 ㊾) 룬 ㊿) 습 ㊀) 룬 ㊁) 습 ㊂) 룬 ㊃) 습 ㊄) 룬 ㊅) 습 ㊆) 룬 ㊇) 습 ㊈) 룬 ㊉) 습 ㊊) 룬 ㊋) 습 ㊌) 룬 ㊍) 습 ㊎) 룬 ㊏) 습 ㊐) 룬 ㊑) 습 ㊒) 룬 ㊓) 습 ㊔) 룬 ㊕) 습 ㊖) 룬 ㊗) 습 ㊘) 룬 ㊙) 습 ㊚) 룬 ㊛) 습 ㊜) 룬 ㊝) 습 ㊞) 룬 ㊟) 습 ㊠) 룬 ㊡) 습 ㊢) 룬 ㊣) 습 ㊤) 룬 ㊥) 습 ㊦) 룬 ㊧) 습 ㊨) 룬 ㊩) 습 ㊪) 룬 ㊫) 습 ㊬) 룬 ㊭) 습 ㊮) 룬 ㊯) 습 ㊰) 룬 ㊱) 습 ㊲) 룬 ㊳) 습 ㊴) 룬 ㊵) 습 ㊶) 룬 ㊷) 습 ㊸) 룬 ㊹) 습 ㊺) 룬 ㊻) 습 ㊼) 룬 ㊽) 습 ㊾) 룬 ㊿) 습 ㊀) 룬 ㊁) 습 ㊂) 룬 ㊃) 습 ㊄) 룬 ㊅) 습 ㊆) 룬 ㊇) 습 ㊈) 룬 ㊉) 습 ㊊) 룬 ㊋) 습 ㊌) 룬 ㊍) 습 ㊎) 룬 ㊏) 습 ㊐) 룬 ㊑) 습 ㊒) 룬 ㊓) 습 ㊔) 룬 ㊕) 습 ㊖) 룬 ㊗) 습 ㊘) 룬 ㊙) 습 ㊚) 룬 ㊛) 습 ㊜) 룬 ㊝) 습 ㊞) 룬 ㊟) 습 ㊠) 룬 ㊡) 습 ㊢) 룬 ㊣) 습 ㊤) 룬 ㊥) 습 ㊦) 룬 ㊧) 습 ㊨) 룬 ㊩) 습 ㊪) 룬 ㊫) 습 ㊬) 룬 ㊭) 습 ㊮) 룬 ㊯) 습 ㊰) 룬 ㊱) 습 ㊲) 룬 ㊳) 습 ㊴) 룬 ㊵) 습 ㊶) 룬 ㊷) 습 ㊸) 룬 ㊹) 습 ㊺) 룬 ㊻) 습 ㊼) 룬 ㊽) 습 ㊾) 룬 ㊿) 습 ㊀) 룬 ㊁) 습 ㊂) 룬 ㊃) 습 ㊄) 룬 ㊅) 습 ㊆) 룬 ㊇) 습 ㊈) 룬 ㊉) 습 ㊊) 룬 ㊋) 습 ㊌) 룬 ㊍) 습 ㊎) 룬 ㊏) 습 ㊐) 룬 ㊑) 습 ㊒) 룬 ㊓) 습 ㊔) 룬 ㊕) 습 ㊖) 룬 ㊗) 습 ㊘) 룬 ㊙) 습 ㊚) 룬 ㊛) 습 ㊜) 룬 ㊝) 습 ㊞) 룬 ㊟) 습 ㊠) 룬 ㊡) 습 ㊢) 룬 ㊣) 습 ㊤) 룬 ㊥) 습 ㊦) 룬 ㊧) 습 ㊨) 룬 ㊩) 습 ㊪) 룬 ㊫) 습 ㊬) 룬 ㊭) 습 ㊮) 룬 ㊯) 습 ㊰) 룬 ㊱) 습 ㊲) 룬 ㊳) 습 ㊴) 룬 ㊵) 습 ㊶) 룬 ㊷) 습 ㊸) 룬 ㊹) 습 ㊺) 룬 ㊻) 습 ㊼) 룬 ㊽) 습 ㊾) 룬 ㊿) 습 ㊀) 룬 ㊁) 습 ㊂) 룬 ㊃) 습 ㊄) 룬 ㊅) 습 ㊆) 룬 ㊇) 습 ㊈) 룬 ㊉) 습 ㊊) 룬 ㊋) 습 ㊌) 룬 ㊍) 습 ㊎) 룬 ㊏) 습 ㊐) 룬 ㊑) 습 ㊒) 룬 ㊓) 습 ㊔) 룬 ㊕) 습 ㊖) 룬 ㊗) 습 ㊘) 룬 ㊙) 습 ㊚) 룬 ㊛) 습 ㊜) 룬 ㊝) 습 ㊞) 룬 ㊟) 습 ㊠) 룬 ㊡) 습 ㊢) 룬 ㊣) 습 ㊤) 룬 ㊥) 습 ㊦) 룬 ㊧) 습 ㊨) 룬 ㊩) 습 ㊪) 룬 ㊫) 습 ㊬) 룬 ㊭) 습 ㊮) 룬 ㊯) 습 ㊰) 룬 ㊱) 습 ㊲) 룬 ㊳) 습 ㊴) 룬 ㊵) 습 ㊶) 룬 ㊷) 습 ㊸) 룬 ㊹) 습 ㊺) 룬 ㊻) 습 ㊼) 룬 ㊽) 습 ㊾) 룬 ㊿) 습 ㊀) 룬 ㊁) 습 ㊂) 룬 ㊃) 습 ㊄) 룬 ㊅) 습 ㊆) 룬 ㊇) 습 ㊈) 룬 ㊉) 습 ㊊) 룬 ㊋) 습 ㊌) 룬 ㊍) 습 ㊎) 룬 ㊏) 습 ㊐) 룬 ㊑) 습 ㊒) 룬 ㊓) 습 ㊔) 룬 ㊕) 습 ㊖) 룬 ㊗) 습 ㊘) 룬 ㊙) 습 ㊚) 룬 ㊛) 습 ㊜) 룬 ㊝) 습 ㊞) 룬 ㊟) 습 ㊠) 룬 ㊡) 습 ㊢) 룬 ㊣) 습 ㊤) 룬 ㊥) 습 ㊦) 룬 ㊧) 습 ㊨) 룬 ㊩) 습 ㊪) 룬 ㊫) 습 ㊬) 룬 ㊭) 습 ㊮) 룬 ㊯) 습 ㊰) 룬 ㊱) 습 ㊲) 룬 ㊳) 습 ㊴) 룬 ㊵) 습 ㊶) 룬 ㊷) 습 ㊸) 룬 ㊹) 습 ㊺) 룬 ㊻) 습 ㊼) 룬 ㊽) 습 ㊾) 룬 ㊿) 습 ㊀) 룬 ㊁) 습 ㊂) 룬 ㊃) 습 ㊄) 룬 ㊅) 습 ㊆) 룬 ㊇) 습 ㊈) 룬 ㊉) 습 ㊊) 룬 ㊋) 습 ㊌) 룬 ㊍) 습 ㊎) 룬 ㊏) 습 ㊐) 룬 ㊑) 습 ㊒) 룬 ㊓) 습 ㊔) 룬 ㊕) 습 ㊖) 룬 ㊗) 습 ㊘) 룬 ㊙) 습 ㊚) 룬 ㊛) 습 ㊜) 룬 ㊝) 습 ㊞) 룬 ㊟) 습 ㊠) 룬 ㊡) 습 ㊢) 룬 ㊣) 습 ㊤) 룬 ㊥) 습 ㊦) 룬 ㊧) 습 ㊨) 룬 ㊩) 습 ㊪) 룬 ㊫) 습 ㊬) 룬 ㊭) 습 ㊮) 룬 ㊯) 습 ㊰) 룬 ㊱) 습 ㊲) 룬 ㊳) 습 ㊴) 룬 ㊵) 습 ㊶) 룬 ㊷) 습 ㊸) 룬 ㊹) 습 ㊺) 룬 ㊻) 습 ㊼) 룬 ㊽) 습 ㊾) 룬 ㊿) 습 ㊀) 룬 ㊁) 습 ㊂) 룬 ㊃) 습 ㊄) 룬 ㊅) 습 ㊆) 룬 ㊇) 습 ㊈) 룬 ㊉) 습 ㊊) 룬 ㊋) 습 ㊌) 룬 ㊍) 습 ㊎) 룬 ㊏) 습 ㊐) 룬 ㊑) 습 ㊒) 룬 ㊓) 습 ㊔) 룬 ㊕) 습 ㊖) 룬 ㊗) 습 ㊘) 룬 ㊙) 습 ㊚) 룬 ㊛) 습 ㊜) 룬 ㊝) 습 ㊞) 룬 ㊟) 습 ㊠) 룬 ㊡) 습 ㊢) 룬 ㊣) 습 ㊤) 룬 ㊥) 습 ㊦) 룬 ㊧) 습 ㊨) 룬 ㊩) 습 ㊪) 룬 ㊫) 습 ㊬) 룬 ㊭) 습 ㊮) 룬 ㊯) 습 ㊰) 룬 ㊱) 습 ㊲) 룬 ㊳) 습 ㊴) 룬 ㊵) 습 ㊶) 룬 ㊷) 습 ㊸) 룬 ㊹) 습 ㊺) 룬 ㊻) 습 ㊼) 룬 ㊽) 습 ㊾) 룬 ㊿) 습 ㊀) 룬 ㊁) 습 ㊂) 룬 ㊃) 습 ㊄) 룬 ㊅) 습 ㊆) 룬 ㊇) 습 ㊈) 룬 ㊉) 습 ㊊) 룬 ㊋) 습 ㊌) 룬 ㊍) 습 ㊎) 룬 ㊏) 습 ㊐) 룬 ㊑) 습 ㊒) 룬 ㊓) 습 ㊔) 룬 ㊕) 습 ㊖) 룬 ㊗) 습 ㊘) 룬 ㊙) 습 ㊚) 룬 ㊛) 습 ㊜) 룬 ㊝) 습 ㊞) 룬 ㊟) 습 ㊠) 룬 ㊡) 습 ㊢) 룬 ㊣) 습 ㊤) 룬 ㊥) 습 ㊦) 룬 ㊧) 습 ㊨) 룬 ㊩) 습 ㊪) 룬 ㊫) 습 ㊬) 룬 ㊭) 습 ㊮) 룬 ㊯) 습 ㊰) 룬 ㊱) 습 ㊲) 룬 ㊳) 습 ㊴) 룬 ㊵) 습 ㊶) 룬 ㊷) 습 ㊸) 룬 ㊹) 습 ㊺) 룬 ㊻) 습 ㊼) 룬 ㊽) 습 ㊾) 룬 ㊿) 습 ㊀) 룬 ㊁) 습 ㊂) 룬 ㊃) 습 ㊄) 룬 ㊅) 습 ㊆) 룬 ㊇) 습 ㊈) 룬 ㊉) 습 ㊊) 룬 ㊋) 습 ㊌) 룬 ㊍) 습 ㊎) 룬 ㊏) 습 ㊐) 룬 ㊑) 습 ㊒) 룬 ㊓) 습 ㊔) 룬 ㊕) 습 ㊖) 룬 ㊗) 습 ㊘) 룬 ㊙) 습 ㊚) 룬 ㊛) 습 ㊜) 룬 ㊝) 습 ㊞) 룬 ㊟) 습 ㊠) 룬 ㊡) 습 ㊢) 룬 ㊣) 습 ㊤) 룬 ㊥) 습 ㊦) 룬 ㊧) 습 ㊨) 룬 ㊩) 습 ㊪) 룬 ㊫) 습 ㊬) 룬 ㊭) 습 ㊮) 룬 ㊯) 습 ㊰) 룬 ㊱) 습 ㊲) 룬 ㊳) 습 ㊴) 룬 ㊵) 습 ㊶) 룬 ㊷) 습 ㊸) 룬 ㊹) 습 ㊺) 룬 ㊻) 습 ㊼) 룬 ㊽) 습 ㊾) 룬 ㊿) 습 ㊀) 룬 ㊁) 습 ㊂)

02 유럽의 다양한 도시

1. 다양한 기능과 특징을 가진 유럽의 도시

세계 도시	<ul style="list-style-type: none"> • 세계의 중심 도시 역할을 하며, 기업의 본사, 금융 기관 등이 모여 있음. - 런던(영국), 브뤼셀(벨기에), ① (프랑스) 등
역사 문화 도시	<ul style="list-style-type: none"> • 역사 도시 - 긴 역사를 바탕으로 다양한 문화 유산을 간직하고 있음. - ② (그리스), 로마(이탈리아), 프라하(체코) 등 • 문화 도시 - 음악, 미술, 건축, 축제, 영화제 등 다양한 문화적 자산 보유 - 빈(오스트리아), 바르셀로나(에스파냐), 베네치아(이탈리아) 등
관광 도시	<ul style="list-style-type: none"> • ③ () 지역: 인터라켄(스위스), 체어마트(스위스) 등 • 해안 지역: 니스(프랑스), 두브로브니크(크로아티아) 등 • 화산 지역: 레이카비크(아이슬란드) 등
산업 도시	<ul style="list-style-type: none"> • 산업 발달 - 제조업 발달 및 교역의 중심지 - 밀라노(이탈리아), ④ (네덜란드) 등 • 산업 구조 변화 - 산업 쇠퇴 후 ⑤ ()을 통해 관광·서비스업 중심 도시로 변화 - 에센(독일), 맨체스터(영국), 빌바오(에스파냐) 등 • 첨단 산업 - 고부가 가치의 첨단 산업 클러스터 형성 - 소피아 앙티폴리스(프랑스), 시스타 사이언스 시티(스웨덴), 오울루 테크노폴리스(핀란드) 등

2. 기후위기에 대응한 지속가능한 도시

기후 위기 대처	<ul style="list-style-type: none"> • 기후위기에 대응하는 지속가능한 도시의 건설 • ⑥ ()을 목표로 친환경 도시 건설 • 주요 정책: 탄소 국경 조정 제도, 핏 포 55, 배출권 거래제 등
유럽의 지속가능한 도시	<ul style="list-style-type: none"> • 코펜하겐(덴마크) - 풍부한 바람을 활용하여 전력 생산 - ⑦ () 전용 도로 운영 등 친환경 교통 체계 운영 • ⑧ (독일) - 독일의 환경 수도로 불리며, 태양광 에너지 활용 - 자동차 진입 금지 거리 운영, 트램과 자전거 이용 • 말뫼(스웨덴): 해상 풍력, 조력, 태양광 등 재생 에너지를 활용한 친환경 도시 • 밀라노(이탈리아): 수직 정원 조성으로 탄소 배출량 감축, 도시 기온 조절 • 암스테르담(네덜란드) - 교통수단 공유, 자전거에 최적화된 도시 구조 - 플라스틱 제품 최소화, 도시 내 넓은 녹지 조성

03 유럽의 통합과 분리

1. 유럽의 통합

유럽 연합	<ul style="list-style-type: none"> • 배경 - 두 차례의 세계 대전 이후 경제 발전과 평화 기원 - 세계 시장에서 유럽의 경쟁력 확보 • 과정 - 유럽석탄철강공동체(ECSC, 1952년) 결성 - 유럽공동체(EC, 1967년): 경제 통합 - 유럽연합(EU, 1993년): 경제 및 정치 통합 지향 - 2000년대 동부 유럽 국가의 가입 • 현황 - 2020년 영국 탈퇴, 2023년 기준 ⑨ ()개 회원국 - 가입 희망국: 우크라이나, 튀르키예 등 - 본부: 벨기에의 수도 ⑩ ()에 위치함.
유럽의 통합에 따른 변화	<ul style="list-style-type: none"> • 외교·안보·사법·행정 등 여러 분야에 걸쳐 협력 • 회원국 간 노동력, 자본, 상품, 서비스의 자유로운 이동 보장 • 공동 화폐인 ⑪ ()화 사용 • ⑫ () 조약 체결: 입국 및 출국 수속 없이 자유롭게 국가를 이동하고, 관세를 내지 않고도 물건을 사고팔 수 있음. • 통합에 따른 다양한 문제 - 경제적 문제: 경제적 격차, 재정 부담 증가, 저임금 노동자 유입으로 인한 일자리 경쟁 - 문화적 문제: 다양한 문화, 종교, 언어 등으로 인해 주민들 간의 갈등 발생

2. 유럽의 분리 움직임

영국의 유럽연합 탈퇴 (브렉시트)	<ul style="list-style-type: none"> • 배경 - 유럽연합에 지불하는 분담금 부담이 큼. - 이민자 수 급증으로 자국민 일자리 감소, 이주민과의 문화적 갈등 • 과정: 2016년 국민 투표 → 2020년 유럽연합 탈퇴 • 결과: 노동력 부족, 유럽연합과 자유로운 무역 불가, 물가 상승, 런던의 위상 저하 등
국가 내 분리·독립 움직임	<ul style="list-style-type: none"> • 배경: 문화적 다양성과 서로 다른 역사적 배경으로 뚜렷한 지역 정체성을 가진 공동체가 분리·독립을 주장 • 주요 분리·독립 주장 지역: 스코틀랜드(영국), ⑬ (에스파냐), ⑭ (벨기에), ⑮ (이탈리아) • 주민들에 미치는 영향: 정치적 불안, 문화적 갈등, 지역 내 주민 간 갈등 발생

정답


101가르프 ⑨ 르크를름 ⑩ 타를르르 ⑪ 르르 ⑫ (으르)르르 ⑬ 르르르 ⑭ 르 르르르 ⑮ 르르르 ⑯ 르르르 ⑰ 르르르 ⑱ 르르르 ⑲ 르르르 ⑳ 르르르 ㉑ 르르르 ㉒ 르르르 ㉓ 르르르 ㉔ 르르르 ㉕ 르르르 ㉖ 르르르 ㉗ 르르르 ㉘ 르르르 ㉙ 르르르 ㉚ 르르르 ㉛ 르르르 ㉜ 르르르 ㉝ 르르르 ㉞ 르르르 ㉟ 르르르 ㊱ 르르르 ㊲ 르르르 ㊳ 르르르 ㊴ 르르르 ㊵ 르르르 ㊶ 르르르 ㊷ 르르르 ㊸ 르르르 ㊹ 르르르 ㊺ 르르르 ㊻ 르르르 ㊼ 르르르 ㊽ 르르르 ㊾ 르르르 ㊿ 르르르

문제로 복습하기

01 유럽에 대한 설명으로 옳은 것은?

- ① 북부 유럽에는 우랄산맥이 있다.
- ② 세계에서 인구 밀도가 가장 높은 대륙이다.
- ③ 지중해를 사이에 두고 아프리카와 접하고 있다.
- ④ 유럽의 모든 국가가 유럽연합으로 통합되어 있다.
- ⑤ 유럽의 모든 국가는 쟁쟁 조약에 가입되어 있어 국가 간 이동이 자유롭다.

02 (가), (나) 지형에 대한 설명으로 옳은 것을 <보기>에서 고른 것은?



보기

- ㄱ. (가)는 (나)보다 북쪽에 위치한다.
- ㄴ. (가)는 서부 유럽, (나)는 동부 유럽에 위치한다.
- ㄷ. (가)와 (나)는 모두 빙하 지형을 관광 자원으로 활용한다.
- ㄹ. (나)에서 시작되어 남쪽으로 흐르는 하천은 대서양으로 흘러간다.

- ① ㄱ, ㄴ
- ② ㄱ, ㄷ
- ③ ㄴ, ㄷ
- ④ ㄴ, ㄹ
- ⑤ ㄷ, ㄹ

03 유럽의 자연환경에 대한 설명으로 옳지 않은 것은?

- ① 중부에는 평원이 넓게 발달하였다.
- ② 큰 하천들은 대부분 알프스 산지에서 시작된다.
- ③ 영국의 산지는 스위스의 산지보다 침식을 오랫동안 받았다.
- ④ 대체로 해안에서 내륙으로 갈수록 기온의 연교차가 작아진다.
- ⑤ 프랑스는 서안 해양성 기후와 지중해성 기후가 모두 나타난다.

[04-05] 표를 보고 물음에 답하십시오. (단, (가)~(다)는 각각 서부 유럽, 북부 유럽, 남부 유럽 중 하나임.)

지역 구분	주요 국가의 수도
(가)	런던, 파리, 베를린, (㉠)
(나)	리스본, 마드리드, 아테네, (㉡)
(다)	스톡홀름, 헬싱키, 오슬로, (㉢)
동부 유럽	모스크바, 바르샤바, 부다페스트

중요

04 (가)~(다)에 대한 설명으로 옳은 것은?

- ① (가)는 비슷한 위도의 대륙 동안보다 겨울이 춥다.
- ② (나)는 일 년 내내 편서풍의 영향을 받는다.
- ③ (다)에는 유럽에서 가장 높은 산은 있다.
- ④ (다)의 고위도 지역에서는 백야 현상을 관찰할 수 있다.
- ⑤ 알프스산맥을 기준으로 대체로 (가)는 남쪽, (나)는 북쪽에 위치한다.

05 ㉠~㉢에 들어갈 도시로 옳은 것은?

- | | ㉠ | ㉡ | ㉢ |
|---|-------|-------|-------|
| ① | 로마 | 브뤼셀 | 레이카비크 |
| ② | 로마 | 레이카비크 | 브뤼셀 |
| ③ | 브뤼셀 | 로마 | 레이카비크 |
| ④ | 브뤼셀 | 레이카비크 | 로마 |
| ⑤ | 레이카비크 | 로마 | 브뤼셀 |

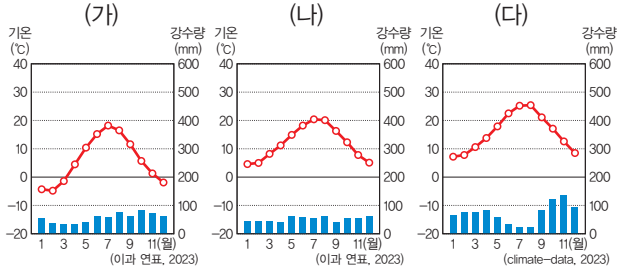
중요

06 ㉠에 들어갈 도시로 옳은 것은?

세계 도시는 기업의 본사, 금융 기관, 국제기구의 본부가 상대적으로 많아 세계적으로 중심 도시 역할을 한다. 런던의 '시티 오브 런던', (㉠)의 '라데팡스' 등에는 세계 도시로서의 기능과 특징이 잘 나타나 있다.

- ① 로마
- ② 파리
- ③ 브뤼셀
- ④ 오을루
- ⑤ 스톡홀름

07 (가)~(다) 기후 그래프가 나타나는 지역에 대한 설명으로 옳은 것은?



- ① (가)는 겨울철이 온화하여 곡물 재배가 이루어진다.
- ② (나)에서는 여름철에 수목 농업이 이루어진다.
- ③ (다)는 여름철에 비가 자주 내린다.
- ④ (나)는 (다)보다 일 년 동안 편서풍의 영향을 받는 기간이 길다.
- ⑤ (다)는 (가)보다 기온의 연교차가 크다.

[08-09] 다음 글을 읽고 물음에 답하시오.

유럽은 기후위기에 대응하기 위해 탄소중립을 목표로 하는 (㉠) 등의 정책을 펼치고 있으며, ㉡ 국가별로 지속가능한 친환경 도시를 건설하고 있다.

08 ㉠에 들어갈 유럽의 정책을 <보기>에서 있는 대로 고른 것은?

보기
 가. 배출권 거래제
 나. 탄소 국경 조정 제도
 다. 핏 포 55(Fit for 55)
 르. 첨단 산업 클러스터 조성

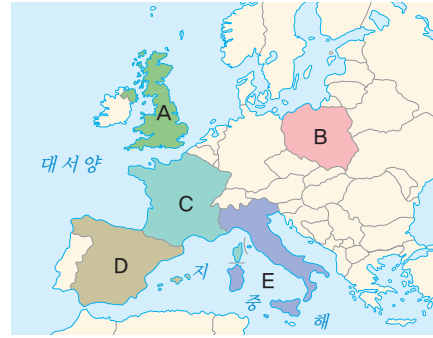
- ① 가, 르 ② 나, 다 ③ 가, 나, 다
- ④ 가, 다, 르 ⑤ 나, 다, 르

09 밑줄 친 ㉢에 해당하는 국가와 도시를 연결한 것으로 옳은 것은?

국가	친환경 도시
① 독일	프라이부르크
② 덴마크	말피
③ 스웨덴	코펜하겐
④ 네덜란드	제네바
⑤ 이탈리아	암스테르담

중요

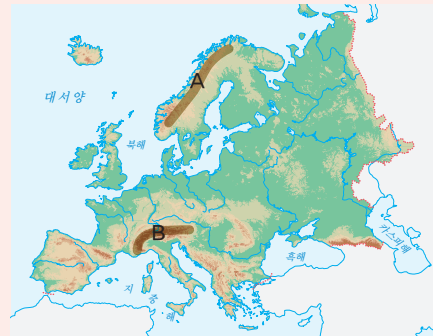
10 지도의 A~E 국가에 대한 설명으로 옳은 것은?



- ① A는 2023년 기준 유럽연합의 회원국이다.
- ② E는 북부 지역보다 남부 지역의 경제적 수준이 높다.
- ③ B는 C보다 유럽연합에 가입한 시기가 이른다.
- ④ C와 D는 서부 유럽에 속한다.
- ⑤ A, D, E에는 자국 내 특정 지역에서 분리·독립의 움직임이 있다.

서술형 문제

11 지도는 유럽의 지형을 나타낸 것이다. 이를 보고 물음에 답하시오.



(1) A, B 산맥의 명칭을 쓰시오.

A : _____ B : _____

(2) B 산맥과 비교한 A 산맥의 특징을 다음에 제시된 내용을 포함하여 서술하시오.

해발 고도 형성 시기 침식 기간

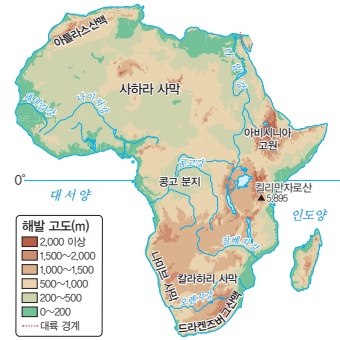
01 아프리카의 위치와 자연환경

1. 아프리카의 국가와 도시

위치	<ul style="list-style-type: none"> • ① () 사막을 기준으로 북부 아프리카와 중·남부 아프리카로 구분함. • 지리적 범위 <ul style="list-style-type: none"> - 서쪽으로 대서양, 동쪽으로 인도양과 접하고 있음. - 북동쪽으로 홍해를 사이에 두고 아시아와 이웃함. - 북쪽으로 지중해를 사이에 두고 유럽과 마주함.
	<ul style="list-style-type: none"> • 북부 <ul style="list-style-type: none"> - 이슬람교의 영향, 이집트 문명 유적지(나일강), 지중해 연안에 도시 발달 - ② (카이로), 모로코(카사블랑카), 알제리(알제) 등 • 서부 <ul style="list-style-type: none"> - 해안 지역은 자원 개발로 경제활동이 활발하며 도시 발달 - ③ (라고스), 코트디부아르(아비장), 세네갈(다카르) 등 • 중앙 <ul style="list-style-type: none"> - 열대 우림 발달, 풍부한 생태계로 환경적 가치가 높음. - 콩고 민주 공화국(킨샤사), 카메룬(야운데) 등 • 동부 <ul style="list-style-type: none"> - 다양한 야생 동물의 서식지, 기온이 선선한 고원 지역의 인구 밀도가 높음. - ④ (아디스아바바), 케냐(나이로비), 탄자니아(다르에스살람), 소말리아(모가디슈) 등 • 남부 <ul style="list-style-type: none"> - 해안 지역은 온대 기후가 나타나 일찍부터 유럽인이 진출 - ⑤ (요하네스버그, 케이프타운) 등
국가와 주요 도시	

2. 아프리카의 지형

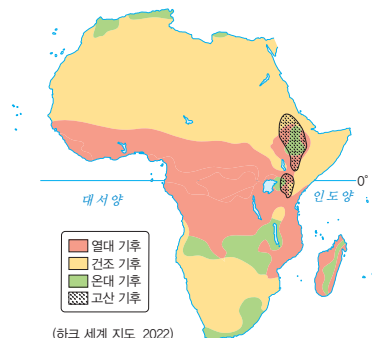
북부	<ul style="list-style-type: none"> • ⑥ () 산맥: 북서부에 위치, 높고 험준함. • ⑦ () 사막: 세계에서 가장 넓은 사막 • 지중해 연안, 나일강 유역: 평야 발달
서부	<ul style="list-style-type: none"> • 기니만 연안: 평야 발달
중앙	<ul style="list-style-type: none"> • 콩고강 유역: 분지 발달
동부	<ul style="list-style-type: none"> • 아비시니아고원: 저지대보다 온화한 날씨로 인간 거주에 유리 • ⑧ () 지구대: 거대한 골짜기를 이루며, 주변에서 지진과 화산 활동이 일어남. • ⑨ () 산(아프리카 최고봉), 케냐산 등 화산 분포 • 빅토리아호, 탕가니카호 등 큰 호수 분포
남부	<ul style="list-style-type: none"> • 전체적으로 해발 고도가 높은 고원 지대 • ⑩ () 산맥: 남부에 위치, 비교적 낮고 완만함. • 잠베지강: 고원 지대에서 발원하며, 빅토리아 폭포가 있음. • 칼라하리 사막, 나미브 사막 등 사막 분포



▲ 아프리카의 지형

3. 아프리카의 기후

열대 기후	<ul style="list-style-type: none"> • 분포: 적도 주변의 중앙아프리카 • 연중 기온이 높고 강수량이 많음. • 콩고 분지, 기니만 연안 등 일 년 내내 비가 많이 내리는 지역은 빽빽한 숲인 ⑪ ()이 나타남. • 열대 우림 주변 등 우기와 건기가 뚜렷하게 구분되는 지역은 초원인 ⑫ ()가 나타남. • 이동식 ⑬ () 농업(옥수수, 카사바 등 식량 작물), 플랜테이션(커피, 카카오 등 상품 작물), 관광 산업(사파리 관광)
건조 기후	<ul style="list-style-type: none"> • 분포: 사하라 사막과 그 주변 지역, 남서부 해안 지역 • 대체로 연 강수량이 500mm 미만이며, 연 증발량이 연 강수량보다 많음. • 대체로 연 강수량이 250mm 미만인 지역은 사막이 발달 • 사막의 주변에는 짧은 풀이 자라는 초원이 발달 • 대부분 온몸을 감싸는 긴 옷을 입고, 창문이 작고 두꺼운 ⑭ ()을 지음. • 밀, 대추야자 등 재배(오아시스나 하천 주변), 관개 농업(물 부족 지역)
온대 기후	<ul style="list-style-type: none"> • 분포: 지중해 연안 지역, 남부 해안 지역 • ⑮ () 연안 지역은 일찍부터 유럽과 교류하며 도시가 발달 • 남부 해안 지역은 유럽인들의 이주가 활발하였음.
고산 기후	<ul style="list-style-type: none"> • 분포: 아비시니아고원 등 일부 산지 지역



▲ 아프리카의 기후

정답

① 북아프리카 ② 카이로 ③ 라고스 ④ 아디스아바바 ⑤ 요하네스버그 ⑥ 아틀라스산맥 ⑦ 사하라 사막 ⑧ 아프리카 지구대 ⑨ 케냐산 ⑩ 남아프리카 ⑪ 열대 우림 ⑫ 초원 ⑬ 이동식 농업 ⑭ 모자 ⑮ 알제리 연안

02 아프리카의 문화와 지역 잠재력

1. 아프리카의 문화 다양성

종교	<ul style="list-style-type: none"> • 부족을 중심으로 ①)이 발달하였고, 그리스교와 이슬람교가 유입됨. • 북부 아프리카: 서남아시아로부터 전파된 ②)가 일상생활에 영향 • 중·남부 아프리카: 유럽의 식민 지배로 전파된 ③)와 토속 신앙이 주를 이룸.
전통 가옥	<ul style="list-style-type: none"> • 건조 기후 지역: 흙벽돌집, 두꺼운 벽, 작은 창문, 좁은 골목 • 고온 다습한 지역: 풀과 나무를 이용, 큰 창문, 급경사인 지붕
주식 재료	<ul style="list-style-type: none"> • 덥고 비가 많이 내리는 지역: ④) (마다가스카르 등) • 건조 기후 지역: ⑤) (오아시스나 하천 주변 등) • 쌀, 밀을 재배하기 어려운 지역: 옥수수, 카사바, 감자
전통 의복	<ul style="list-style-type: none"> • 건조 기후 지역: 강한 햇빛과 모래바람을 막기 위한 온몸을 감싸는 형태의 옷 • 중·남부 아프리카: 자연에서 얻을 수 있는 화려한 색상과 무늬의 옷(마사이족, 줄루족 등)
예술	<ul style="list-style-type: none"> • 음악: 삼바(브라질), 재즈와 블루스(미국), 탱고(아르헨티나) 등 전통 음악의 다양한 분야로의 발전 • 미술 <ul style="list-style-type: none"> - 여러 부족의 독특한 문양과 그림, 가면 등: 유럽으로 전파되어 서양 미술에 영향, 입체주의(피카소), 팝 아트 등 현대 미술에 영향 - 아프리카의 화려한 색과 기하학적 모양: 패션 산업에 영향

2. 아프리카의 지역 잠재력

풍부한 자원	<ul style="list-style-type: none"> • 지하자원 <ul style="list-style-type: none"> - 에너지 자원: ⑥) (북부 아프리카, 기니만 연안), ⑦) (남아프리카 공화국) - 광물 자원: 구리, 코발트, 다이아몬드, 망간 등 • 상품 작물 <ul style="list-style-type: none"> - ⑧): 동부 고원 지대(에티오피아, 케냐) - ⑨): 기니만 연안(코트디부아르, 가나) • 신재생 에너지 <ul style="list-style-type: none"> - 수력: 나일강, 잠베지강, 콩고강 등 - 태양광(열), 풍력 등이 풍부함.
인적 자원	<ul style="list-style-type: none"> • 인적 자원 <ul style="list-style-type: none"> - 세계에서 가장 젊은 대륙: 세계 인구의 약 17% 차지, 30세 이하 인구 비율 약 70% - 세계에서 가장 빠른 인구 증가 대륙: 아프리카는 다른 대륙보다 합계 출산율이 높아 지속적인 인구 증가가 예상됨. - 아시아 다음으로 면적이 넓고 인구가 많은 대륙: 경제 성장과 함께 구매력 증대로 이어짐.

첨단 산업	<ul style="list-style-type: none"> • 이집트, 남아프리카 공화국, 케냐 등을 중심으로 첨단 산업 육성 • 2차 전기 제조에 필수적인 리튬이나 휴대 전화 생산에 필요한 코발트 등 희토류 매장량과 생산량이 많음.
기타	<ul style="list-style-type: none"> • 영화 산업: 세계에서 두 번째로 많은 영화를 생산하는 ⑩) (나이지리아) • 스포츠 산업: 마라톤(에티오피아, 케냐), 축구 등

03 아프리카의 지속가능한 발전을 위한 노력

1. 지속가능한 발전을 위한 아프리카의 노력

아프리카 연합	<ul style="list-style-type: none"> • 아프리카의 사회적·경제적 통합을 촉진하기 위해 설립한 기구 • 본부는 ⑪)의 아디스아바바에 위치 • 지속가능한 발전을 위한 노력: 어젠다 2063 프로젝트, 새로운 산업 육성, 정치 및 사회 환경 개선 등
아프리카대륙 자유무역지대	<ul style="list-style-type: none"> • 자원을 저렴하게 수출하고 공산품을 싸게 수입하는 불공정 무역 구조 개선 • 아프리카 내 관세나 무역 규제 철폐
다양한 노력	<ul style="list-style-type: none"> • 기후변화 대응 <ul style="list-style-type: none"> - 화석 연료 감축, 신재생 에너지 보급 확대 - 그랜드 잉카 프로젝트(콩고 민주 공화국) 등 • 환경 문제 해결 <ul style="list-style-type: none"> - 일회용 비닐봉지 사용 금지(케냐, 탄자니아 등) - 일회용 플라스틱 사용 금지(르완다 등) • 국립 공원 지정: 생태적으로 중요한 가치가 있는 지역(⑫) 국립 공원 등) • 농업 기술 혁신: 관개 기술 개발(잠비아 등) • 아동의 교육 개선: 솔라 카우 프로젝트(케냐 등)

2. 아프리카의 지속가능한 발전을 위한 협력

세계적 차원의 협력	<ul style="list-style-type: none"> • 국제연합: 식량 보급, 난민 지원 등 • ⑬): 빈곤 퇴치, 환경 보호 운동, 저개발 지역 의료 지원 서비스 등 • 공적 개발 원조: 교육, 의료, 사회 기반 시설 등 다양한 분야에서 원조가 이루어짐. • 식량 작물 재배 기술 전수: 작물 재배 기술 전수를 통해 기아 문제 해결을 도움. • 그레이트 그린 월 프로젝트: ⑭)를 막기 위한 대규모 숲 조성 사업
세계 시민 참여	<ul style="list-style-type: none"> • 아프리카를 교류와 협력의 동반자로 인식 • 지역 주민에게 정당한 대가가 돌아가는 공정 무역 제품 이용 • 아프리카의 생태계를 보호하는 공정 여행 참여 • 지역 주민들의 더 나은 생활을 위한 ⑮) 개발 노력

정답

북극 지역 ㉑, 북극권 ㉒, 북극권 ㉓, 북극권 ㉔, 북극권 ㉕, 북극권 ㉖, 북극권 ㉗, 북극권 ㉘, 북극권 ㉙, 북극권 ㉚, 북극권 ㉛, 북극권 ㉜, 북극권 ㉝, 북극권 ㉞, 북극권 ㉟, 북극권 ㊱, 북극권 ㊲, 북극권 ㊳, 북극권 ㊴, 북극권 ㊵, 북극권 ㊶, 북극권 ㊷, 북극권 ㊸, 북극권 ㊹, 북극권 ㊺, 북극권 ㊻, 북극권 ㊼, 북극권 ㊽, 북극권 ㊾, 북극권 ㊿

문제로 복습하기

01 아프리카의 위치와 특징에 대한 설명으로 옳은 것은?

- ① 세계에서 가장 넓은 대륙이다.
- ② 홍해를 사이에 두고 유럽과 마주하고 있다.
- ③ 사우디아라비아와의 사이에는 지중해가 있다.
- ④ 적도를 기준으로 남쪽이 북쪽보다 면적이 넓다.
- ⑤ 사하라 사막을 기준으로 북부 아프리카와 중·남부 아프리카로 구분한다.

중요

02 아프리카의 지역 구분에 대한 설명으로 옳은 것을 <보기>에서 고른 것은?

보기

- ㄱ. 북부와 서부 아프리카에는 석유 자원이 풍부하다.
- ㄴ. 동부 아프리카의 사바나 초원에는 다양한 야생 동물이 서식한다.
- ㄷ. 남부 아프리카의 여러 국가에서는 카카오를 재배하는 플랜테이션이 활발하다.
- ㄹ. 서부 아프리카에는 일찍부터 유럽인이 진출하여 크리스티교를 믿는 사람이 많다.

- ① ㄱ, ㄴ ② ㄱ, ㄷ ③ ㄴ, ㄷ
- ④ ㄴ, ㄹ ⑤ ㄷ, ㄹ

03 ㉠~㉣에 들어갈 도시로 옳은 것은?

아프리카는 아시아 다음으로 인구가 많다. 주로 해안과 고원에 인구가 도시가 집중되어 있는데, 이집트의 카이로, 나이지리아의 (㉠), 콩고 민주 공화국의 킨샤사는 인구가 1,000만 명이 넘는다. 고원에 위치한 대표적인 도시로는 에티오피아의 수도 (㉡), 케냐의 수도 (㉢)가 있다. 이중 (㉣)에는 아프리카연합(AU)의 본부가 있다.

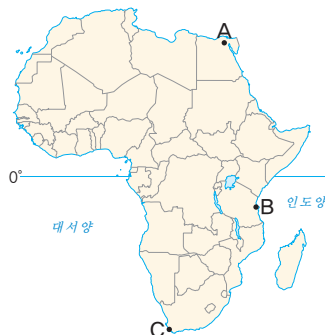
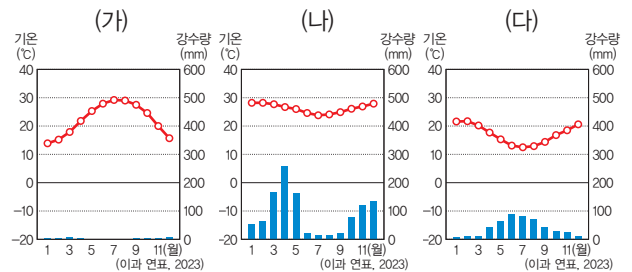
- | | | | |
|---|--------|--------|--------|
| | ㉠ | ㉡ | ㉢ |
| ① | 라고스 | 나이로비 | 아디스아바바 |
| ② | 라고스 | 아디스아바바 | 나이로비 |
| ③ | 나이로비 | 라고스 | 아디스아바바 |
| ④ | 나이로비 | 아디스아바바 | 라고스 |
| ⑤ | 아디스아바바 | 나이로비 | 라고스 |

04 다음은 초성으로 제시한 아프리카의 하천이다. (가)~(다) 하천에 대한 설명으로 옳지 않은 것은?

구분	하천	지나는 주요 국가	흘러가는 바다
(가)	니오강	수단, (㉠)	지중해
(나)	코기강	앙골라, (㉡)	대서양
(다)	즈바스강	잠비아, 모잠비크	인도양

- ① (가)는 아프리카에서 가장 긴 하천이다.
- ② (나)는 사하라 사막을 지난다.
- ③ (다)의 상류에는 세계 3대 폭포 중 하나인 빅토리아 폭포가 있다.
- ④ (가), (나)는 동부 아프리카의 고원에서 발원한다.
- ⑤ ㉠에는 이집트, ㉡에는 콩고 민주 공화국이 들어갈 수 있다.

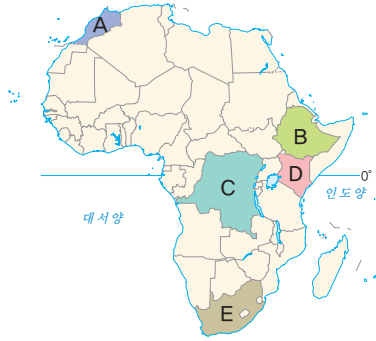
05 (가)~(다) 기후 그래프가 나타나는 지역을 지도의 A~C에서 고른 것은?



- | | | | |
|---|-----|-----|-----|
| | (가) | (나) | (다) |
| ① | A | B | C |
| ② | A | C | B |
| ③ | B | A | C |
| ④ | B | C | A |
| ⑤ | C | A | B |

중요

06 지도의 A~E 국가에 대한 설명으로 옳지 않은 것은?



- ① A와 E에는 여름이 건조한 온대 기후가 나타난다.
- ② A는 E보다 국가 내 이슬람교 신자 수 비율이 높다.
- ③ C는 B보다 커피 생산량이 많다.
- ④ C는 D보다 구리 생산량이 많다.
- ⑤ 동아프리카 지구대는 B와 D를 지난다.

중요

07 ㉠, ㉡에 들어갈 에너지 자원으로 옳은 것은?

아프리카는 지구 온난화와 같은 전 지구적인 환경 문제를 해결하고 지속가능한 발전의 토대를 마련하기 위해 주체적으로 노력하고 있다. 특히, (㉠)의 사용을 줄이고, (㉡)의 생산량을 늘리는 등 친환경 정책을 추진하는 국가가 늘어나고 있다.

- | | | | |
|------|----|------|----|
| ㉠ | ㉡ | ㉠ | ㉡ |
| ① 석유 | 석탄 | ② 석탄 | 수력 |
| ③ 석탄 | 석유 | ④ 수력 | 석유 |
| ⑤ 수력 | 석탄 | | |

08 아프리카의 지역 잠재력에 대한 설명으로 옳지 않은 것은?

- ① 세계에서 석유를 가장 많이 생산하는 대륙이다.
- ② 세계에서 가장 젊은 대륙으로 노동력이 풍부하다.
- ③ 첨단 산업의 원료인 콜탄이 풍부하게 매장되어 있다.
- ④ 태양광(열), 수력, 풍력 등 신재생 에너지 자원이 풍부하다.
- ⑤ 나이지리아는 헐리우드를 중심으로 영화 산업이 성장하고 있다.

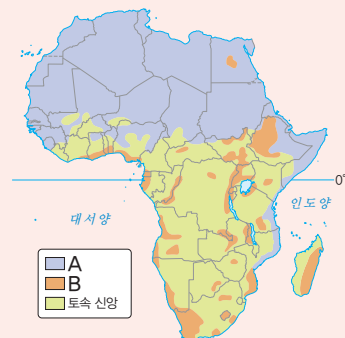
09 다음은 아프리카 내 주요 신재생 에너지 발전량 상위 4개 국가를 나타낸 것이다. (가)~(다)에 대한 설명으로 옳은 것은? (단, (가)~(다)는 각각 수력, 태양광(열), 풍력 중 하나임.)

순위	(가)	(나)	(다)
1	이집트	잠비아	남아프리카 공화국
2	모로코	모잠비크	이집트
3	에티오피아	에티오피아	모로코
4	튀니지	이집트	알제리

- ① (가)는 물의 낙차를 이용하여 전력을 생산한다.
- ② (나)는 지속적으로 바람이 강하게 부는 지역이 전력 생산에 유리하다.
- ③ (나)의 상위 4개 국가는 모두 큰 하천 유역에 위치한다.
- ④ (다)는 비가 많은 지역에서 전력 생산이 유리하다.
- ⑤ (가)는 풍력, (나)는 태양광(열), (다)는 수력이다.

서술형 문제

10 지도는 아프리카의 종교 분포를 나타낸 것이다. 이를 보고 물음에 답하시오.



(1) A, B 종교를 쓰시오.
A : _____ B : _____

(2) A, B 종교가 아프리카에 전파된 과정을 서술하시오.

02 미국의 다양한 민족(인종)과 문화

1. 미국의 다양한 민족(인종)

앵글로 아메리카	<ul style="list-style-type: none"> • 미국 <ul style="list-style-type: none"> - 아메리카 원주민 거주 - 16세기 이후 (①) 이주민들의 정착 - 노동력을 충당하기 위한 아프리카계의 강제 이주 - 20세기 이후 라틴 아메리카에서 이주한 (②) 의 급증 - 아시아계 이주민 증가 • 캐나다 <ul style="list-style-type: none"> - 전체 인구 중 영국계, 프랑스계 백인의 비율이 높음. - (③) 주는 프랑스계 주민 비율이 높아 프랑스 전통문화 유지 - 북극해 주변에는 원주민인 이누이트가 거주 - 개방적인 이주 정책으로 전체 인구 중 20% 이상이 해외 이주자
라틴 아메리카	<ul style="list-style-type: none"> • 원주민에 의한 마야 문명, 아스테카 문명, 잉카 문명 등 고대 문명 발달 • 유럽의 식민 지배 <ul style="list-style-type: none"> - 16세기 (④) 인이 브라질을 제외한 대부분 지역을 식민 지배 - 브라질은 (⑤) 인의 식민 지배를 받음. - 노동력을 충당하기 위한 아프리카계의 강제 이주 • 민족(인종)별 주요 분포 지역 <ul style="list-style-type: none"> - (⑥): 라틴 아메리카 전역에 분포, 멕시코와 콜롬비아에서 인구 비율이 높음. - (⑦): 볼리비아, 페루 등 안데스산맥에 위치한 국가에서 인구 비율이 높음. - 유럽계 백인: 거주에 유리한 (⑧) 기후 지역에 주로 분포, 우루과이와 아르헨티나에서 인구 비율이 높음. - 아프리카계 흑인: 아이티, 자메이카 등 카리브해 연안 국가에서 인구 비율이 높음.

2. 아메리카 문화의 특징

문화 혼종성	<ul style="list-style-type: none"> • 의미: 서로 다른 문화가 섞여 여러 가지 정체성을 지닌 새로운 문화를 만드는 현상 • 아메리카의 새로운 문화: 아메리카 원주민 문화+유럽계, 아프리카계 등 이주민 문화 • 사례: 과달루페의 성모상, 미국의 재즈, 아르헨티나의 탱고, 브라질의 리우 카니발 등
-------------------	---

03 미국의 초국적 기업

1. 초국적 기업의 글로벌 생산체제

초국적 기업의 의미와 특징	<ul style="list-style-type: none"> • 의미: 한 국가에 본사를 두고 세계 여러 국가에서 자회사와 공장 등을 운영하며 상품을 생산, 판매하는 기업 • 발달 배경 <ul style="list-style-type: none"> - 교통·통신의 발달: 국가 간 교류가 늘어나면서 생산과 소비 활동의 범위 확대 - (⑨) 의 등장: 자유 무역 협정(FTA)이 확대되면서 초국적 기업의 활동 범위와 영향력 증가 • 아메리카의 초국적 기업 <ul style="list-style-type: none"> - 넓은 영토와 풍부한 자원, 자본과 기술을 바탕으로 세계적인 기업이 많아 세계 경제에 많은 영향을 줌. - 농업, 제조업, 서비스업, 금융업 등 다양한 분야에 초국적 기업이 많음. - (⑩) 은 현재 세계 경제를 주도하고 있으며 세계 주요 초국적 기업의 본사가 가장 많이 입지한 국가임.
초국적 기업의 공간적 분업	<ul style="list-style-type: none"> • 공간적 분업: 경영 효율성과 이윤을 높이기 위해 본사, 연구소, 생산 공장 등을 서로 다른 국가와 지역에 나누어 배치 • 초국적 기업의 기능별 입지 <ul style="list-style-type: none"> - (⑪) (주요 의사 결정): 자국의 핵심 도시에 입지 - (⑫) (기술 개발, 연구·디자인): 지식과 기술을 갖춘 고급 인력이 풍부한 지역에 입지 - (⑬) (제품 생산): 주로 임금이 낮고 노동력이 풍부한 지역에 입지, 무역 장벽을 피하거나 시장을 확대하고자 선진국에 입지하기도 함. • 초국적 기업의 본사와 자회사는 전문화된 핵심 자산을 각자 보유하고 있어 상호의존적이며 수평적으로 연결

2. 초국적 기업이 가져온 지역의 변화

해외 이전 이유	<ul style="list-style-type: none"> • (⑭) 을 줄이기 위해 노동비가 저렴한 국가로 이전 • 상품 판매 시장을 확보하기 위해 제품 수요가 많은 국가로 이전 • 세금 혜택이나 정부 지원 등 기업 활동에 유리한 국가로 이전
이전에 따른 지역 변화	<ul style="list-style-type: none"> • 초국적 기업이 입지하는 지역 <ul style="list-style-type: none"> - 일자리 창출, 기술 이전으로 지역 경제 발전 - 비슷한 제품을 생산하는 국내 기업의 경쟁력 상실 - 환경 오염 문제 발생 • 초국적 기업이 나가는 지역 <ul style="list-style-type: none"> - 실업률이 높아지고 인구가 감소하여 지역 경제 침체 - 산업이 이전하면서 생산 능력이 떨어지고 산업이 쇠퇴하여 (⑮) 현상 발생

정답

해설문 13단 ⑨, 14단 14단 ⑭, 15단 15단 ⑮, 16단 16단 ⑯, 17단 17단 ⑰, 18단 18단 ⑱, 19단 19단 ⑲, 20단 20단 ⑳, 21단 21단 ㉑, 22단 22단 ㉒, 23단 23단 ㉓, 24단 24단 ㉔, 25단 25단 ㉕, 26단 26단 ㉖, 27단 27단 ㉗, 28단 28단 ㉘, 29단 29단 ㉙, 30단 30단 ㉚, 31단 31단 ㉛, 32단 32단 ㉜, 33단 33단 ㉝, 34단 34단 ㉞, 35단 35단 ㉟, 36단 36단 ㊱, 37단 37단 ㊲, 38단 38단 ㊳, 39단 39단 ㊴, 40단 40단 ㊵, 41단 41단 ㊶, 42단 42단 ㊷, 43단 43단 ㊸, 44단 44단 ㊹, 45단 45단 ㊺, 46단 46단 ㊻, 47단 47단 ㊼, 48단 48단 ㊽, 49단 49단 ㊾, 50단 50단 ㊿

문제로 복습하기

중요

01 밑줄 친 ㉠~㉣ 중 옳지 않은 것은?

아메리카는 문화적으로 ㉠ 리오그란데강을 경계로 ㉡ 앵글로아메리카와 라틴 아메리카로 구분한다. ㉢ 앵글로아메리카에는 캐나다, 미국, 멕시코 등이 있고, ㉣ 라틴 아메리카에는 페루, 브라질, 아르헨티나, 칠레 등이 있다. 지리적으로는 ㉤ 파나마 지협을 경계로 북아메리카와 남아메리카로 구분한다.

- ① ㉠ ② ㉡ ③ ㉢ ④ ㉣ ⑤ ㉤

02 북아메리카에서 볼 수 있는 지형을 <보기>에서 고른 것은?

보기

- ㄱ. 로키산맥 ㄴ. 아마존강
ㄷ. 미시시피강 ㄹ. 안데스산맥

- ① ㄱ, ㄴ ② ㄱ, ㄷ ③ ㄴ, ㄷ
④ ㄴ, ㄹ ⑤ ㄷ, ㄹ

03 ㉠, ㉡에 들어갈 민족(인종)으로 옳은 것은?

미국의 민족(인종) 구성은 다양하다. 유럽계는 미국 건국 초기에 영국, 아일랜드 등에서 이주하여 미국 문화의 주류를 형성하였다. (㉠)은/는 멕시코와 국경을 접하고 있는 남서부 지역에, 아프리카계는 남동부 지역에, (㉡)은/는 태평양 연안의 대도시 에 집중적으로 분포한다.

- ㉠ ㉡
- ① 아시아계 원주민
② 아시아계 히스패닉
③ 히스패닉 혼혈
④ 히스패닉 원주민
⑤ 히스패닉 아시아계

04 (가), (나) 도시가 있는 국가를 지도의 A~E에서 고른 것은?

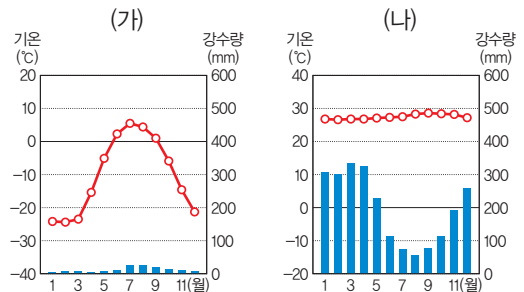
(가) 에스파냐어로 '적도'라는 뜻을 가진 국가에 있는 수도로 해발 고도가 높아 일 년 내내 온화한 기온이 나타난다.
(나) 세계 경제의 중심 역할을 하고, 국제연합(UN) 본부가 있는 도시이다.



- (가) (나)
- ① A C
② B D
③ C B
④ D E
⑤ E A

중요

05 (가), (나) 기후 그래프가 나타나는 지역을 지도의 A~F에서 고른 것은?



- (가) (나)
- ① A C
② B E
③ D B
④ E A
⑤ F D

중요

06 지도의 A~C 국가에서 인구 비율이 가장 높게 나타나는 민족(인종)으로 옳은 것은?



- | | A | B | C |
|---|-------|-------|-------|
| ① | 원주민 | 유럽계 | 아프리카계 |
| ② | 유럽계 | 원주민 | 아프리카계 |
| ③ | 유럽계 | 아프리카계 | 원주민 |
| ④ | 아프리카계 | 원주민 | 유럽계 |
| ⑤ | 아프리카계 | 유럽계 | 원주민 |

07 밑줄 친 ㉠을 적절하게 설명할 수 있는 사례만을 <보기>에서 있는 대로 고른 것은?

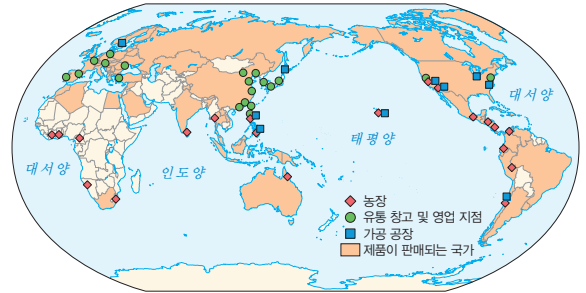
아메리카 다문화 사회의 특징은 하나의 문화가 또 다른 문화로 편입·수용·동화되는 것이 아니라 서로 영향을 주고받아 새로운 모습의 문화를 창조한다는 점이다. 외형적으로는 ㉠ 유럽 문화에 동화된 것처럼 보이지만, 유럽 문화의 요소를 선택적으로 수용하고 그들 고유의 문화와 접합하여 새로운 문화를 창조하고 있다.

보기

- ㄱ. 갈색 피부를 가진 과달루페의 성모상
- ㄴ. 유럽의 프로 리그에서 활동하는 남미 출신 축구 선수들
- ㄷ. 아프리카 전통 음악과 미국 남북 전쟁 이후 군악대 연주 기법이 결합한 재즈
- ㄹ. 아프리카의 음악적 전통과 크리스티교의 사순절을 앞두고 열리는 축제가 결합한 삼바 축제

- ① ㄱ, ㄴ ② ㄷ, ㄹ ③ ㄱ, ㄴ, ㄷ
 ④ ㄱ, ㄷ, ㄹ ⑤ ㄴ, ㄷ, ㄹ

08 지도는 미국의 어느 과일 기업의 해외 주요 사업망을 나타낸 것이다. 이에 대한 설명으로 옳은 것만을 <보기>에서 있는 대로 고른 것은?



보기

- ㄱ. 초국적 기업이다.
- ㄴ. 공간적 분업이 나타나고 있다.
- ㄷ. 유통 창고 및 영업 지점은 주로 선진국에 위치한다.
- ㄹ. 아프리카는 유럽보다 제품이 판매되는 국가가 많다.

- ① ㄱ, ㄴ ② ㄷ, ㄹ ③ ㄱ, ㄴ, ㄷ
 ④ ㄱ, ㄷ, ㄹ ⑤ ㄴ, ㄷ, ㄹ

서술형 문제

09 다음 글을 읽고 물음에 답하십시오.

A 기업(본사: 미국 캘리포니아주)
 A 기업은 전 세계 90개국에 진출해 있는데, 이 기업의 높은 매출은 여러 국가에 걸친 농장의 분포와 뛰어난 가공 기술 덕분이다. 바나나 농장은 온두라스와 콜롬비아, 에콰도르, 필리핀 등에 있고, 파인애플 농장은 하와이와 온두라스, 필리핀, 타이 등에 있다. 판매는 전 세계를 대상으로 하고 있다.

(1) A 기업과 같이 한 국가에 본사를 두고 세계 여러 국가에서 상품을 생산, 판매하는 기업을 무엇이라고 하는지 쓰시오.

(2) A 기업이 발달하게 된 배경을 서술하십시오.

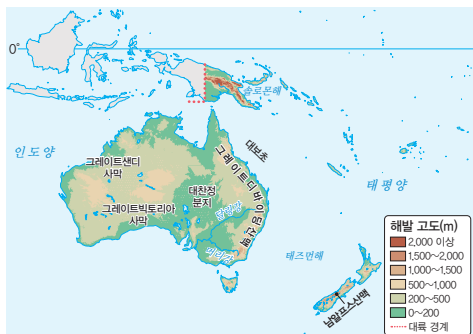
01 오세아니아의 지리적 특성과 상호연계성

1. 오세아니아의 국가와 도시

위치	<ul style="list-style-type: none"> • 대륙의 대부분이 (㉠)에 위치 • 인도양과 태평양 사이에 위치 • 날짜 변경선이 지나가는 곳에 위치
국가와 주요 도시	<ul style="list-style-type: none"> • (㉡) - 오세아니아에서 국토 면적이 가장 넓은. - 캔버라(수도), 멜버른(옛 수도), (㉢) (인구가 가장 많음.) • (㉣) - 북섬과 남섬으로 이루어짐. - 웰링턴(수도), (㉤) (인구가 가장 많음.) • 태평양 섬 국가: 파푸아뉴기니, 피지, 솔로몬 제도 등

2. 오세아니아의 지형

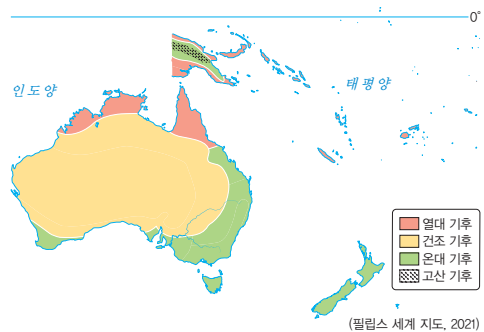
오스트레일리아	서부	고원과 사막이 넓게 분포
	중앙	<ul style="list-style-type: none"> • (㉥) 분지: 찬정 개발로 농목업이 가능해진 건조 지역의 넓은 분지 • 넓은 평원이 분포
	동부	그레이트디바이딩산맥: 오랜 기간 침식을 받아 비교적 낮고 완만함.
뉴질랜드	북동부 해안	(㉦) 해안: 세계 최대 규모의 산호초 지역
	북섬	(㉧) 지형, 온천 등 발달
태평양 섬 국가	남섬	높은 산지, 다양한 (㉨) 지형 발달
	대부분	<ul style="list-style-type: none"> • 화산성: 환태평양 조산대 • 산호초: 바닷물이 따뜻한 열대 기후 지역



▲ 오세아니아의 지형

3. 오세아니아의 기후

오스트레일리아	열대 기후	<ul style="list-style-type: none"> • 분포: 적도와 가까운 (㉩) 지역 • 연중 기온이 높고, 강수량의 계절 차이가 큼.
	건조 기후	<ul style="list-style-type: none"> • 분포: 중앙 평원, (㉪) 지역
뉴질랜드	온대 기후	<ul style="list-style-type: none"> • 분포: 남동부 지역, 남서부 지역 • 사람이 살기 좋아 대도시 발달
	온대 기후	<ul style="list-style-type: none"> • 분포: 뉴질랜드 대부분 지역 • 바다의 영향을 받아 기온의 연교차가 작고 연중 강수량이 고름.
태평양 섬 국가	열대 기후	<ul style="list-style-type: none"> • 분포: 태평양 섬 국가 대부분 지역 • 연중 기온이 높고 강수량이 많음.



▲ 오세아니아의 기후

4. 오세아니아와 다른 지역과의 상호연계성

자원	<ul style="list-style-type: none"> • 오스트레일리아 <ul style="list-style-type: none"> - 철광석, 석탄, 금 등 지하자원이 풍부하여 광물 수출이 활발함. - (㉫) 농사, 양과 소 등의 육류와 유제품을 생산하는 기업적 농목업 발달 • 뉴질랜드: 육류와 유제품을 주로 수출
다른 지역과의 상호연계성	<ul style="list-style-type: none"> • 인구가 적은 오세아니아 국가들은 국내 소비 시장의 규모가 작아 제조업 성장이 상대적으로 취약함. • 주로 (㉬)은 수입하고, 지하자원 및 농·축산품을 수출 • 과거 (㉭)과의 교류가 활발하였지만, 최근 우리나라, 중국, 일본 등 지리적으로 인접한 (㉮) 국가와의 교류가 활발함. • 원활한 무역을 위한 자유 무역 협정 체결 추진

정답

㉠ 뉴기니 ㉡ 오스트레일리아 ㉢ 시드니 ㉣ 웰링턴 ㉤ 오클랜드 ㉥ 대륙성 ㉦ 산호초 ㉧ 화산성 ㉨ 온천 ㉩ 적도 ㉪ 중앙 ㉫ 농업 ㉬ 미국 ㉭ 유럽 ㉮ 중국

02 태평양 지역의 환경 문제와 해결 방안

1. 태평양 지역의 환경 문제

태평양 지역	<ul style="list-style-type: none"> • ①)은 세계에서 가장 큰 해양이며 많은 국가가 분포 • 다양한 해양 생물의 서식지이자 사람들의 중요한 삶의 터전 • 해양 쓰레기, 해수면 상승 등 여러 가지 환경 문제 발생
해양 쓰레기 문제	<ul style="list-style-type: none"> • 해양 쓰레기: 바다에 유입된 쓰레기로 해안, 바다 표면, 바닷속의 모든 쓰레기를 말함. • 쓰레기 섬 형성 <ol style="list-style-type: none"> 1. 버려진 쓰레기는 강을 따라 바다로 흘러들. 2. 바다로 흘러든 쓰레기는 해류를 따라 이동 3. 해류를 따라 이동한 쓰레기는 한곳에 모임. 4. 쓰레기 섬 형성 • 해양 쓰레기로 인한 문제 <ul style="list-style-type: none"> - 바다 오염 - 해양 생태계 위협 - ②) 플라스틱으로 인한 피해
해수면 상승 문제	<ul style="list-style-type: none"> • 해수면 상승 원인 <ol style="list-style-type: none"> 1. 산업화 이후 ③) 사용 증가, 축산과 농업의 확대, 무분별한 벌목, 도시화 2. 온실가스 배출량 증가 3. 지구의 평균 기온이 상승하는 지구 온난화 발생 4. ④)가 녹아 해수면 상승 • 해수면 상승에 따른 문제 <ul style="list-style-type: none"> - 태평양의 저지대 섬과 해안의 침수 위기 - 해수 온도의 상승으로 산호의 ⑤) 등 생태계 파괴 - 해수면 상승으로 지하수에 염분이 스며들어 식수가 부족해지고 농작물이 염해를 입음.

2. 태평양 지역의 환경 문제 해결 방안

해양 쓰레기	<ul style="list-style-type: none"> • ⑥) : 플라스틱이 유발하는 환경 오염 방지를 위한 플라스틱 규제 국제 협약 마련 • 국가: 해양 폐기물 관련 법 제정, 플라스틱 사용을 줄이기 위한 플라스틱세 부과 • 기업: 자원 순환 기술 개발, 친환경 제품 생산 • ⑦) : 쓰레기 줍기, 장바구니와 다회용 컵 사용하기
해수면 상승	<ul style="list-style-type: none"> • 국제 사회: 온실가스를 단계적으로 감축하기 위한 국제 협약 체결 • 국가: 탄소중립 정책, 신재생 에너지 보급 확대 • 기업: 제품 생산 시 에너지 소비 줄이기 • 개인: 에너지 절약, 대중교통 이용, 저탄소 제품 구매하기

03 극지방의 지리적 중요성과 지역 개발

1. 극지방의 지리적 중요성

위치	<ul style="list-style-type: none"> • 북극 지방: 북극점을 중심으로 북극해가 펼쳐져 있고 유라시아, 북아메리카, 그린란드에 둘러싸여 있음. • 남극 지방: 남극점을 중심으로 남극 대륙과 이를 둘러싼 남극 해로 이루어져 있음.
특성	<ul style="list-style-type: none"> • 과거: 인간이 접근하기 어려운 미지의 영역, 탐험과 개척의 대상 • 오늘날: 기후변화로 개발 가능성이 높아지면서 중요성이 커짐 • 기후 <ul style="list-style-type: none"> - 가장 따뜻한 달의 평균 기온이 10°C 미만인 ⑧) 기후 - 나무가 자라지 못하고 ⑨)가 있는 초원이 나타나거나 일 년 내내 눈과 얼음으로 덮여 있음.
지리적 중요성	<ul style="list-style-type: none"> • 생물 다양성 <ul style="list-style-type: none"> - 다양한 생물종의 서식 - 생물학적 연구와 보전에 중요한 자료 제공 • 환경과 기후변화 연구 <ul style="list-style-type: none"> - 환경 변화와 기후변화 예측과 관련한 연구에 중요한 역할 - 많은 국가에서 ⑩)를 설치 • 풍부한 자원 <ul style="list-style-type: none"> - 주변 해역의 풍부한 ⑪) 자원 - 지하자원: 철, 구리, 니켈 등 - 에너지 자원: 석탄, 석유, 천연가스 등 • 지리적 연결성 <ul style="list-style-type: none"> - 북극권은 항공이나 선박 운항에 중요한 역할 - ⑫) 교통의 중심지; 북극권은 북반구 주요 도시를 최단 거리로 연결 - ⑬) 항로: 선박이 북극해를 지날 수 있게 되면 현재 항로보다 운송 거리와 시간이 크게 줄어듦.

2. 극지방의 지역 개발을 둘러싼 이해관계

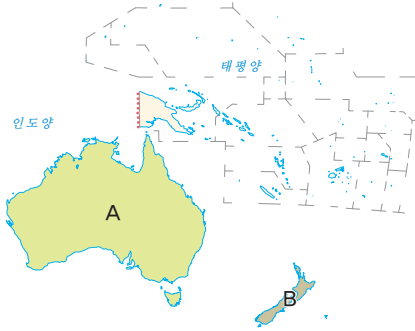
북극해	<ul style="list-style-type: none"> • 북극해에 매장된 석유와 천연가스, 광물 자원의 개발을 위한 주변 국가들의 경쟁이 심화 • 주변 국가들은 북극해 공해를 더 차지하기 위한 ⑭) 주장을 함. • 북극 개발로 북극해의 빙하가 녹는 속도가 빨라져 해수면 상승 가속화 등 북극 생태계 변화
남극 대륙	<ul style="list-style-type: none"> • ⑮)에 따라 자원 탐사와 군사 활동을 금지하고 평화적 과학 연구를 허용 • 과학적인 연구와 남극이 개발될 것을 대비한 목적으로 많은 국가에서 연구 기지 설치 • 남극 대륙의 연구 기지에 사람들의 출입이 잦아지고, 불법 어업 등으로 남극 생태계 위협

정답

운송 ㉒, 거주 ㉔, 의료 산업 ㉕, 범죄 ㉖, 관광 ㉗, 경제 ㉘, 정치 ㉙, 유류 자원 ㉚, 자원 ㉛, 환경 ㉜, 기후 ㉝, 해양 ㉞, 에너지 ㉟, 자원 ㊱, 환경 ㊲, 기후 ㊳, 해양 ㊴, 에너지 ㊵, 자원 ㊶

문제로 복습하기

[01-02] 지도를 보고 물음에 답하십시오.



01 지도의 A, B 국가로 옳은 것은?

- | | | |
|---|---------|---------|
| | A | B |
| ① | 뉴질랜드 | 오스트레일리아 |
| ② | 아이슬란드 | 아일랜드 |
| ③ | 오스트레일리아 | 뉴질랜드 |
| ④ | 오스트레일리아 | 아일랜드 |
| ⑤ | 오스트레일리아 | 아이슬란드 |

02 A, B 국가의 주요 도시로 옳은 것은?

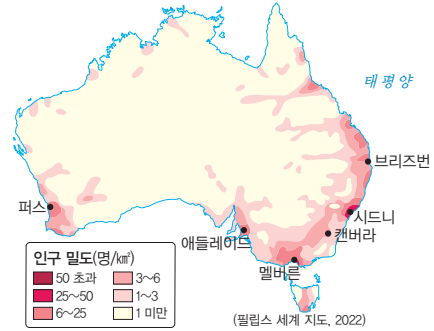
- | | | |
|---|------|------|
| | A | B |
| ① | 멜버른 | 웰링턴 |
| ② | 시드니 | 캔버라 |
| ③ | 웰링턴 | 오클랜드 |
| ④ | 캔버라 | 멜버른 |
| ⑤ | 오클랜드 | 시드니 |

03 밑줄 친 ㉠~㉥에서 옳지 않은 것은?

다른 대륙에 비해 ㉠ 인구가 적은 오세아니아의 국가들은 국내 소비 시장의 규모가 작아 ㉡ 제조업 성장이 상대적으로 취약하다. 그래서 대부분의 ㉢ 공산품은 수입에 의존하고, 농·축산품을 주로 수출한다. 과거에는 언어와 문화적 공통점을 가진 ㉣ 영국 등과 교류하였지만, 최근에는 지리적으로 가까운 ㉤ 아메리카 국가와의 교류가 활발하다.

- ① ㉠ ② ㉡ ③ ㉢ ④ ㉣ ⑤ ㉤

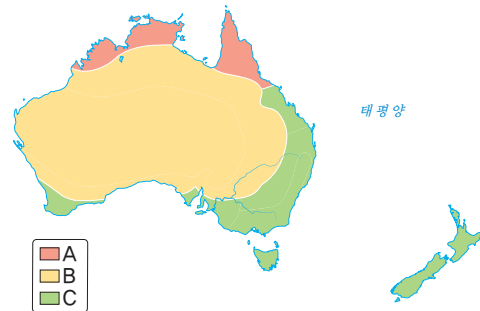
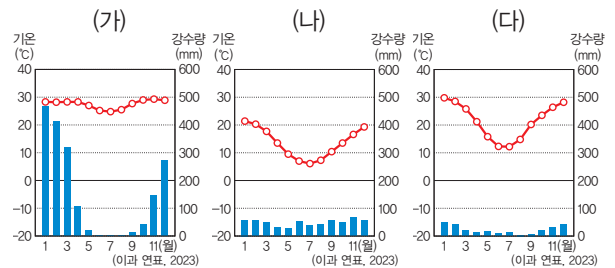
04 지도는 오스트레일리아의 인구 밀도를 나타낸 것이다. 인구 밀도가 높은 지역에서 나타나는 기후로 옳은 것은?



- ① 열대 기후 ② 건조 기후
 ③ 온대 기후 ④ 냉대 기후
 ⑤ 고산 기후

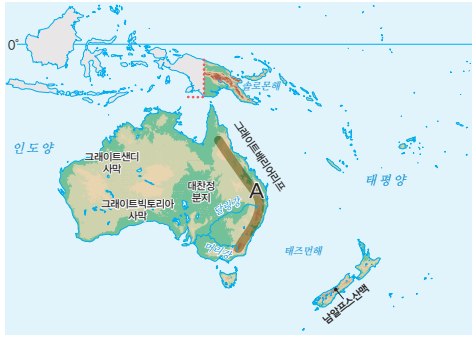
중요

05 (가)~(다) 기후 그래프가 나타나는 지역을 지도의 A~C에서 고른 것은?



- | | | | | | | | |
|---|-----|-----|-----|---|-----|-----|-----|
| | (가) | (나) | (다) | | (가) | (나) | (다) |
| ① | A | B | C | ② | A | C | B |
| ③ | B | A | C | ④ | B | C | A |
| ⑤ | C | A | B | | | | |

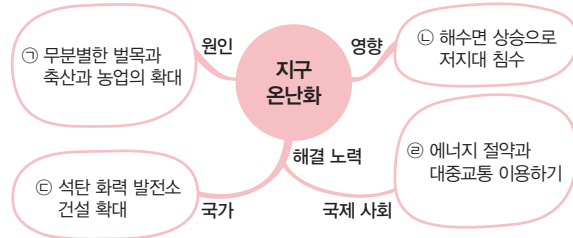
06 지도의 A 지형에 대한 설명으로 옳은 것은?



- ① 강수량이 적은 사막이다.
- ② 높은 산으로 둘러싸인 분지이다.
- ③ 화산 작용으로 형성된 높은 산지이다.
- ④ 해발 고도가 높아 빙하가 만든 지형이다.
- ⑤ 오랜 기간 침식을 받아 비교적 낮은 산지이다.

중요

07 ㉠~㉣에서 옳은 것을 고른 것은?



- ① ㉠, ㉡
- ② ㉠, ㉢
- ③ ㉡, ㉣
- ④ ㉡, ㉣
- ⑤ ㉢, ㉣

08 ㉠으로 인해 태평양 지역에서 나타나고 있는 문제로 옳은 것은?

바누아투, 이산화 탄소 배출 기업·국가 제소 검토
태평양의 섬나라 바누아투는 전례가 없는 초대형 사이클론으로 큰 피해를 입었다. 바누아투 정부는 대형 사이클론의 발생 원인을 (㉠)으로 간주하고, 그 원인을 초래한 이산화 탄소 배출 기업들과 이들을 지원한 국가를 상대로 소송을 고려하고 있다. 국제연합에 따르면 (㉠) 관련 소송은 2017년까지 약 900여 건이 제기되었다고 한다.

- ① 사막화 현상
- ② 오존층 파괴
- ③ 해수면 상승
- ④ 해양 쓰레기
- ⑤ 미세 플라스틱

중요

09 북극해 주변 국가들이 영유권을 주장하는 이유로 옳은 것을 <보기>에서 고른 것은?



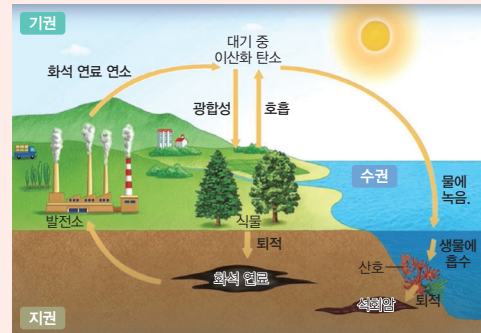
보기

- ㄱ. 석유, 천연가스 등 지하자원이 풍부하다.
- ㄴ. 빙하가 녹아 선박이 북극해를 지나갈 수 있다.
- ㄷ. 농경지의 확대에 의한 농업 생산량이 증가한다.
- ㄹ. 환경 보호를 통한 다양한 생물종 보존이 가능하다.

- ① ㄱ, ㄴ
- ② ㄱ, ㄷ
- ③ ㄴ, ㄷ
- ④ ㄴ, ㄹ
- ⑤ ㄷ, ㄹ

서술형 문제

10 그림에 나타난 환경 문제로 인해 태평양 지역에서 발생하는 문제점과 이를 해결하기 위한 개인의 노력을 서술하시오.



01 사회화와 자아 정체성

1. 사회화

<p>사회화의 의미와 기능</p>	<ul style="list-style-type: none"> • 의미: 인간이 다른 사람들과 상호 작용을 하면서 사회생활에 필요한 지식, 기능, 행동 양식, 규범, 가치 등을 내면화하는 과정 • 기능 <ul style="list-style-type: none"> - 개인적 측면: 사회생활을 하는 데 필요한 생활양식을 습득하여 사회에 적응하고, 개성과 ①) 형성 - 사회적 측면: 사회 질서 유지 및 문화 전승
<p>사회화 기관</p>	<ul style="list-style-type: none"> • ②) <ul style="list-style-type: none"> - 가장 기초적이며 중요한 사회화 기관 - 언어, 예절 등 기본적인 생활 방식 습득 • ③) <ul style="list-style-type: none"> - 비슷한 나이의 친구들과 상호 작용하면서 규칙, 질서 등을 습득 - 개인의 인성, 자아 정체성 형성에 큰 영향 • 학교 <ul style="list-style-type: none"> - 체계적인 교육을 목적으로 하는 사회화 기관 - 교육을 통해 사회생활에 필요한 지식, 기술, 규범, 태도 등을 학습 • 직장 <ul style="list-style-type: none"> - ④)의 사회화에 중요한 사회화 기관 - 업무 수행에 필요한 지식과 행동 양식 학습 • 대중 매체 <ul style="list-style-type: none"> - 현대 사회에서 영향력이 커지고 있는 사회화 기관 - 새로운 지식, 정보, 가치관 등을 습득
<p>⑤)</p>	<ul style="list-style-type: none"> • 의미: 급속한 사회 변화에 적응하기 위하여 새로운 지식, 기술 등을 지속적으로 습득하는 과정 • 기능: 사회화는 평생동안 지속된다는 것을 보여 줌.

• 본능에 따른 행동



▲ 하품하는 것



▲ 배고픈 것

• 사회화된 행동



▲ 이불을 펴고 잠을 자는 것



▲ 수저를 이용해서 식사하는 것


2. 자아 정체성

<p>의미와 형성 과정</p>	<ul style="list-style-type: none"> • 의미: 자신만의 독특한 모습에 대한 ⑥) 인식 • 형성 과정: 다른 사람과 상호 작용을 하며 '나는 누구인가'라는 질문에 답을 찾아가는 과정에서 형성
<p>형성 요인</p>	<ul style="list-style-type: none"> • 개인적 요인: 외모, 성별, 성격 등 • 사회적 요인: 성장 과정, 가정 환경, 또래 집단, 미디어 등
<p>발달과 변화</p>	<ul style="list-style-type: none"> • 자아 정체성 확립의 중요성: 스스로를 존중하고, 명확한 삶의 목표와 가치관을 지니게 됨. • 청소년기와 자아 정체성: 자신의 모습을 바로 알고 긍정적인 삶의 자세를 지닐 수 있도록 노력해야 함. • 사회 변화와 자아 정체성: 가상 공간에서의 자아 정체성 문제에 대한 관심이 높아짐.

02 사회적 지위와 역할

1. 사회적 지위와 역할

<p>사회적 지위</p>	<ul style="list-style-type: none"> • 의미: 개인이 사회 집단이나 사회적 관계 속에서 차지하고 있는 위치 <ul style="list-style-type: none"> - 개인은 동시에 여러 지위를 가질 수 있음. - 현대 사회에서는 성취 지위의 중요성이 커짐. • ⑦) : 태어날 때부터 선천적으로 타고난 지위 <ul style="list-style-type: none"> 예) 남자, 여자, 청소년, 노인, 자녀 • ⑧) : 개인의 능력이나 노력에 따라 후천적으로 얻게 되는 지위 <ul style="list-style-type: none"> 예) 부모, 대학생, 교사, 과장
<p>역할</p>	<ul style="list-style-type: none"> • ⑨)에 따라 기대되는 행동 양식 예) 학교에서 학생이 공부하는 행위
<p>⑩)</p>	<ul style="list-style-type: none"> • 의미: 사회적 지위에 따른 역할을 수행하는 구체적인 행동 • 동일한 지위를 가지고 있더라도 역할 행동은 개인마다 다르게 나타날 수 있음. • 역할을 잘 수행하면 보상을 받고, 잘 수행하지 못할 경우 제재를 받을 수 있음.



▲ 개인이 갖는 다양한 지위

정답

몸을 흔들 ⑩ 비요 놀이 ⑥ 비요 놀이 ⑧ 비요 놀이 ② 놀이 ⑨ 놀이 ⑤ 비요 놀이 ④ 놀이 ③ 놀이 ⑤ 놀이 ⑦ 놀이 ⑧ 놀이 ⑨ 놀이 ⑩ 놀이

2. 역할 갈등

의미	개인이 가지는 여러 가지 사회적 지위에 따른 ①) 이 서로 충돌하는 것
특징	<ul style="list-style-type: none"> • 다원화된 현대 사회에서 개인의 지위와 역할이 다양해지면서 역할 갈등이 많아짐. • 역할 갈등이 심할 경우 심리적 압박감, 사회에 대한 부정적 반응을 겪을 수 있음.
유형	<ul style="list-style-type: none"> • 개인이 가진 하나의 지위에서 상반된 역할이 요구되면서 발생하는 역할 갈등 예) 선생님의 수업 방식 • 개인이 가진 두 가지 이상의 지위에서 서로 다른 역할이 요구되면서 발생하는 역할 갈등 예) 학생으로서 시험공부를 할지, 동아리 회장으로서는 동아리 행사에 참석할지를 두고 고민하는 것
해결 방안	<ul style="list-style-type: none"> • 개인적 측면: 자신의 가치관을 명확히 정립하고 역할들 중 ②)를 정하여 중요한 것부터 처리 • 사회적 측면: 사회 구성원 대다수가 겪는 역할 갈등을 해결할 수 있는 ③) 지원 방안 마련 예) 가족 돌봄 휴가, 직장 내 어린이집

03 우리 사회의 갈등과 차별

1. 사회적 갈등과 차별

사회적 갈등	<ul style="list-style-type: none"> • 의미: 서로의 이익과 가치, 신념, 목표나 이해관계의 차이로 부딪치며 충돌하는 현상으로 성별, 지역, 계층 등 다양한 기준에 따른 집단의 내부 및 외부에서 발생함. • 유형: 세대 갈등, 지역 갈등, 성별 갈등, 노사 갈등 등 • 특징: 한 사회 내, 한 집단 내의 ④)을 강화시킬 수 있으며, 갈등이 원만히 해결될 때 사회 통합이나 발전에 기여할 수 있음. • 문제점: 사회 갈등이 지속될 경우 ⑤)을 가져올 수 있음.
⑥)	<ul style="list-style-type: none"> • 의미: 서로 같지 않고 다름. 예) 남자와 여자, 백인과 흑인 등 • 특징: 선천적일 수도 있고, 후천적 요인에 의해 발생할 수도 있음.
⑦)	<ul style="list-style-type: none"> • 의미: 사회에서 특정인, 특정 집단을 차이를 근거로 정당한 이유 없이 불합리하게 대우하는 것 • 유형: 성차별, 장애인 차별, 외국인이나 이주민에 대한 차별 등 • 특징: 사회 집단 내, 사회 집단 간 모두 발생 가능하며 지속될 경우 사회적 갈등 유발 • 문제점: 인간의 존엄성 훼손, 인권 침해

2. 갈등과 차별에 대한 대처

갈등 대처 방안	<ul style="list-style-type: none"> • 개인적 측면 <ul style="list-style-type: none"> - 대화와 ⑧)을 통해 상대방 이해 - 다양한 생활 방식과 가치 존중 • 사회적 측면 <ul style="list-style-type: none"> - 갈등 방지를 위한 공정한 제도 마련 - 다양한 갈등을 해소할 수 있는 법과 제도의 정비
편견과 차별 개선 노력	<ul style="list-style-type: none"> • 개인적 차원 <ul style="list-style-type: none"> - 서로의 ⑨)를 인정 - 고정 관념과 편견을 버리고 타인을 존중하는 태도 함양 • 사회·제도적 차원 <ul style="list-style-type: none"> - 차별의 원인이 되는 사회 제도 개선 - 차별을 해소하기 위한 법과 정책 마련
차이와 차별에 대처하기 위한 시민의 자질	<ul style="list-style-type: none"> • 서로 다른 집단을 이해할 수 있는 경험을 쌓아 차이를 이해하고 ⑩)하려고 노력 • 부당한 차별을 거부하고, 스스로의 권리를 지키려는 노력 • 다른 사람의 권리를 배려하고 관용하며, 존중하는 마음 • 일상에서 나타나는 차별을 찾고, 문제를 제기할 수 있는 시민 의식 • 갈등을 해결하거나 차별을 개선할 수 있는 방안 제안



▲ 장애인 체험



▲ 임산부 배려석



▲ 차별의 유형

정답

문운 ⑩ | 아옌 ⑥ | 굴프 ⑧ | 뽀뽀 ④ | 아옌 ⑨ | 군굴 | 할Y ⑤ | 누른 ⑦ | 뽀뽀 ⑧ | 흥궁궁 ② | 뽀뽀 ①

문제로 복습하기

01 A에 해당하는 사회화 기관은?

A는 인간이 접하는 최초의 사회화 기관이다. A에서는 우리가 살아가는 데 필요한 언어, 식습관 등 기본적으로 기초적인 내용의 사회화가 이루어진다.

- ① 가정 ② 학교 ③ 직장
- ④ 대중 매체 ⑤ 또래 집단

중요

02 (가)~(다)에 대한 설명으로 옳은 것은?

학습 주제: (가)

(1) 의미
인간이 성장하면서 자신이 속한 사회의 행동 양식, 규범, 가치관 등을 배우는 과정

(2) 기능
 • 개인적 측면: (나)
 • 사회적 측면: (다)

- ① (가)는 일정 시기에 완성된다.
- ② 졸려서 하품을 하는 행위는 (가)에 해당한다.
- ③ (나)에는 '사회 질서 유지'가 들어갈 수 있다.
- ④ (다)에는 '개인의 개성 형성'이 들어갈 수 있다.
- ⑤ '한 개인의 자아 정체성 형성'은 (다)와 달리 (나)에 들어갈 수 있다.

03 ㉠에 대한 설명으로 옳은 것은?

(㉠)은/는 다른 사람과 구별되는 자기 자신에 대한 인식, 자신만의 고유한 특성이나 모습을 의미한다. 이는 자아를 찾으려는 개인적 노력과 다른 사람과의 상호작용이 결합되면서 형성된다.

- ① 태어날 때부터 선천적으로 형성된다.
- ② '나는 누구인가'라는 질문은 영향을 주지 않는다.
- ③ 개인의 외모나 성격은 형성 요인에 해당하지 않는다.
- ④ 청소년기에 한번 형성되면 성인기에는 바뀌지 않는다.
- ⑤ 다른 사람의 평가는 ㉠의 형성 과정에 영향을 줄 수 있다.

04 밑줄 친 '이 시기'로 가장 적절한 것은?

사회화는 인간의 생애 동안 이루어지는데, 이 시기에는 가정에서 기본적인 생활 습관과 언어 등을 배운다.

- ① 유아기 ② 아동기 ③ 청소년기
- ④ 성인기 ⑤ 노년기

05 다음 교사의 질문에 대한 학생의 응답으로 옳은 것은?

교사: 오늘 우리가 배운 사회적 지위의 의미, 종류, 특징에 대해 설명해 볼까요?

- ① 개인은 동시에 여러 개의 지위를 가질 수 없습니다.
- ② 후천적인 노력을 통해서만 지위를 얻을 수 있습니다.
- ③ 과거 신분제 사회에서는 지위가 존재하지 않았습니다.
- ④ 현대 사회에서는 귀속 지위보다 성취 지위가 더 강조되고 있습니다.
- ⑤ 태어나면서부터 자연적으로 주어지는 지위를 성취 지위라고 합니다.

06 다음 자료는 학생의 수행 평가에 대한 교사의 평가를 정리한 것이다. A, B와 ㉠으로 옳은 것은?

사회적 지위의 종류와 사례 알아보기

질문: 사회적 지위는 크게 A와 B로 구분됩니다. A에 해당하는 지위의 사례 세 가지를 쓰시오.

답: 아들, 청소년, 영화배우

※ 교사 평가: ㉠ 한 가지만 제외하고 A에 해당하는 지위를 작성함.

- | | A | B | ㉠ |
|---|-------|-------|------|
| ① | 귀속 지위 | 성취 지위 | 아들 |
| ② | 귀속 지위 | 성취 지위 | 청소년 |
| ③ | 귀속 지위 | 성취 지위 | 영화배우 |
| ④ | 성취 지위 | 귀속 지위 | 청소년 |
| ⑤ | 성취 지위 | 귀속 지위 | 영화배우 |

07 역할 행동에 관한 설명으로 옳은 것은?

- ① 심리적인 불안과 사회 혼란을 초래한다.
- ② 기대에 맞게 수행하면 보상을 받을 수 있다.
- ③ 지위에 대해 기대되는 행동 양식을 의미한다.
- ④ 한 사회 집단 내에서 차지하는 위치를 의미한다.
- ⑤ 모든 개인이 각자의 역할을 수행한 결과는 같다.

중요

08 밑줄 친 ㉠~㉣에 대한 설명으로 옳은 것은?

나는 ㉠ 중학교에 입학하여 가입한 동아리에서 ㉡ 회장을 맡고 있다. 오늘은 동아리 축제 때문에 중요한 회의가 있어 학교에 가려고 하는데, 집에서 ㉢ 동생이 내일까지 제출해야 할 학교 숙제하는 것을 도와달라고 한다. ㉣ 직장에 다니는 부모님은 동생을 도와줄 수 없고, 나는 동아리 회의가 늦게 끝날 수 있어서 회의에 참여하면 동생의 숙제를 도와줄 수 없어 어떻게 해야 할지 ㉤ 고민이다.

- ① ㉠은 가장 기초적인 것을 배우는 사회화 기관이다.
- ② ㉡은 귀속 지위이다.
- ③ ㉢은 '막내 사원'과 같은 성격의 지위이다.
- ④ ㉣을 통해 사회화가 완성된다.
- ⑤ ㉤은 역할 갈등이다.

중요

09 역할 갈등에 대한 설명으로 옳은 것은?

- ① 역할 갈등으로 인해 개인은 심리적으로 불안감을 느낄 수 있다.
- ② 사회적 제도 마련은 역할 갈등을 해결하는 데 기여하지 못한다.
- ③ 한 지위에 대해 서로 다른 역할이 요구될 때에는 발생하지 않는다.
- ④ 역할 갈등이 빈번해지면 사회 혼란보다 사회가 안정적인 모습을 가진다.
- ⑤ 한 개인이 다양한 사회 집단에 속하게 되더라도 역할 갈등은 발생하지 않는다.

10 사회적 갈등 사례로 적절하지 않은 것은?

- ① 케이블카 건설을 둘러싼 시민단체와 정부 간 갈등
- ② 가족 여행 장소에 대한 부모님과 자녀의 의견 차이
- ③ 임금 인상과 관련한 노동조합과 사업주 간의 갈등
- ④ 지역 상권을 둘러싼 대형 마트 사업주와 재래 시장 상인 간의 갈등
- ⑤ 고속 철도역 설치를 둘러싼 지방 자치 단체 간의 갈등

11 다음 행위의 공통점으로 옳지 않은 것은?

- 장애인을 대상으로 한 차별 행위
- 종교가 다르다는 이유로 한 차별 행위
- 특정 지역 출신의 사람에게 부당한 대우를 하는 행위

- ① 합당한 이유 없이 부당하게 대우하는 행위이다.
- ② 집단 간에 대립과 갈등을 일으키는 요인이 된다.
- ③ 법과 정책 마련은 문제 해결에 이바지할 수 있다.
- ④ 잘못된 편견이나 고정 관념 등에 의해 나타날 수 있다.
- ⑤ '학생들이 수학보다 사회를 더 좋아하는 행위'도 같은 유형의 행위이다.

서술형 문제

12 다음 글을 읽고 물음에 답하십시오.

A는 각기 다른 외모, 성격, 취향, 종교 등을 가진 다양한 사람들을 서로 구분할 수 있는 특성을 말한다. B는 사회에서 특정인이나 특정 집단을 차이를 근거로 정당한 이유 없이 불합리하게 대우하는 것을 의미한다.

(1) A, B에 해당하는 개념을 쓰시오.

A : _____ B : _____

(2) B로 인해 나타날 문제점을 서술하십시오.

2. 미디어 속 문화와 정보 수용

미디어의 기능	<ul style="list-style-type: none"> • 미디어의 긍정적 기능 <ul style="list-style-type: none"> - 지식과 정보의 제공 - ①) 형성 - 오락 및 여가 활동 제공 - 문화적 수준의 향상 • 미디어의 부정적 기능 <ul style="list-style-type: none"> - 문화 및 사고방식의 ②) - 거짓 및 왜곡된 정보 유통 - 대중 조작 - 상업주의와 문화의 질적 저하
미디어 리터러시	<ul style="list-style-type: none"> • 의미: 미디어가 생산하는 문화와 정보를 비판적으로 이해하고, 자신의 생각을 미디어로 표현하며 소통하는 능력 • 필요성 <ul style="list-style-type: none"> - 검증되지 않은 정보가 미디어를 통해 일방적으로 제공되어 사회에 부정적 영향을 줄 수 있음. - 미디어가 객관적이고 중립적이지만은 않음. - 미디어를 통해 경험하는 문화와 정보를 비판적으로 검토하여 잘못된 정보를 판단해야 함. • 미디어에 대한 바람직한 태도 <ul style="list-style-type: none"> - ③) 수용: 미디어가 제공하는 정보의 사실성, 객관성 등을 비판적으로 검토하고 선별하여 수용하는 태도가 필요함. - 종합적 검토: 같은 정보라도 다양한 미디어를 종합적으로 비교 검토한 후 수용하는 태도가 필요함. - ④)이고 창의적인 참여: 미디어의 잘못된 정보에 대한 수정 요구, 스스로 정보와 문화를 창조하려는 태도가 필요함.

03 다양한 문화를 이해하는 태도

1. 여러 집단의 다양한 문화

⑤)	<ul style="list-style-type: none"> • 형성 배경: 교통 및 통신 발달로 교류가 활발해지면서 세계의 다양한 문화를 쉽게 접할 수 있음. • 의미: 다양한 민족과 문화가 함께 공존하는 사회 • 긍정적 영향: 우리 사회의 ⑥)에 기여하고 새로운 문화 창조 및 문화 발전의 원동력이 됨. • 부정적 영향: 언어, 문화 등의 차이로 의사소통의 어려움이 생기고, 이주민에 대한 차별과 오해로 인한 갈등이 유발됨.
문화를 바라보는 태도의 중요성	국가 간에 교류가 활발하게 이루어지는 과정에서 다양한 문화를 받아들여 조화롭게 살아가기 위해서는 다른 사회의 문화를 바라보는 태도의 중요성이 커짐.

2. 문화의 우열을 가리는 태도

⑦)	<ul style="list-style-type: none"> • 의미: 자기 문화의 우수성을 지나치게 강조한 나머지 다른 문화를 열등하다고 평가하는 태도 • 특징: 문화의 우열이 있다고 생각하고 문화를 평가함. • 순기능 <ul style="list-style-type: none"> - 자기 문화에 대한 자부심을 유발함. - 집단 내의 일체감을 강화시켜 사회 통합에 기여함. - 고유의 전통문화 계승 및 보전에 유리함.
⑧)	<ul style="list-style-type: none"> • 의미: 다른 문화가 우수하다고 평가하면서 자기 문화의 가치를 지나치게 열등하다고 평가하는 태도 • 문화의 우열이 있다고 생각하고 문화를 평가함. • 순기능 <ul style="list-style-type: none"> - 자기 문화의 낙후성을 개선하는 데 기여할 수 있음. - 선진 문물을 수용하기에 용이함. • 역기능 <ul style="list-style-type: none"> - 자기 문화의 주체성이나 정체성을 상실할 우려가 있음. - 자기의 고유문화가 소멸될 수 있음. - 외래문화에 종속될 수 있음.

3. 문화를 이해하는 바람직한 태도

⑨)	<ul style="list-style-type: none"> • 의미: 어떤 사회의 특수한 자연환경과 사회적 맥락, 역사적 배경 등을 고려하여 그 사회의 문화를 이해하는 태도 • 전제: 문화 간에 우열을 가릴 수 없다고 봄. • 필요성: 오늘날과 같은 세계화 시대에서 다양한 문화를 이해하는 올바른 태도임.
극단적 문화 상대주의 지양	<ul style="list-style-type: none"> • 극단적 문화 상대주의: 인간의 존엄성이나 생명을 비롯한 인류의 ⑩)를 훼손하는 문화까지 문화 상대주의로 이해하려는 태도 예) 이슬람의 명예 살인, 중국의 전족 풍습 등을 문화로 여겨 이해하려는 태도 • 극단적 문화 상대주의의 문제점: 각 문화의 특수성을 지나치게 강조하다 보면 인류의 보편적 가치를 부정하는 결과를 가져옴.

정답

① ㉠ ② ㉡ ③ ㉢ ④ ㉣ ⑤ ㉤ ⑥ ㉥ ⑦ ㉦ ⑧ ㉧ ⑨ ㉨ ⑩ ㉩

문제로 복습하기

01 문화에 대한 질문에 모두 옳게 답변한 학생은?

질문	갑	을	병	정	무
좁은 의미의 문화는 교양 있고, 세련된 것처럼 한정된 문화를 의미하는가?	○	○	○	×	×
넓은 의미의 문화는 한 사회의 공통된 생활양식을 의미하는가?	○	○	×	○	×
인간의 모든 행위는 문화에 속하는가?	○	×	×	×	×

(○: 예, ×: 아니요)

- ① 갑 ② 을 ③ 병 ④ 정 ⑤ 무

02 ㉠~㉣에 대한 설명으로 옳은 것은?

문화의 속성	설명
공유성	㉠
학습성	㉡
변동성	㉢
㉣	문화는 새로운 문화 요소가 추가되면서 전승된다.
㉤	문화는 부분들이 모여 전체로서 하나의 체계를 이룬다.

- ① ㉠에는 '상대방의 행동을 예측할 수 있다.'가 들어갈 수 있다.
 ② ㉡에는 '한 부분에 변동이 생기면 다른 부분에 연쇄적인 변동이 생긴다.'가 들어갈 수 있다.
 ③ ㉢에는 '문화가 구성원 간 상호 작용의 토대가 됨을 보여 준다.'가 들어갈 수 있다.
 ④ ㉣은 전체성이다.
 ⑤ ㉤은 축적성이다.

중요

03 (가), (나)에서 부각된 문화의 속성에 대한 설명으로 옳은 것을 <보기>에서 고른 것은?

- (가) A 국은 새해 전에 나쁜 기운을 없앤다는 의미로 이웃, 친척 집의 현관문에 접시 등을 던져 깨뜨리는 풍습이 있는데 다른 나라 사람들은 이러한 행동을 이해하지 못한다.
 (나) 세탁기의 발명으로 여성들의 가사 노동 시간이 줄어들어 여성의 사회 진출이 증가하고 사회적 지위가 향상되었다.

보기

- ㄱ. (가): 문화는 고정되어 있지 않고 끊임없이 변화한다.
 ㄴ. (가): 문화는 구성원 간 사고와 행동의 동질성을 형성한다.
 ㄷ. (나): 문화는 세대를 거치면서 점차 복잡하고 풍부해진다.
 ㄹ. (나): 문화는 여러 요소가 유기적으로 결합한 하나의 총체이다.

- ① ㄱ, ㄴ ② ㄱ, ㄷ ③ ㄴ, ㄷ
 ④ ㄴ, ㄹ ⑤ ㄷ, ㄹ

중요

04 밑줄 친 ㉠~㉣에 대한 설명으로 옳은 것을 <보기>에서 고른 것은?

우리는 일상생활에서 다양한 ㉠ 미디어를 통해 정보를 접하고 있다. ㉡ 서적, 텔레비전, ㉢ 사회 관계망 서비스(SNS) 등 우리가 접하는 미디어는 다양하다.

보기

- ㄱ. ㉠은 상업화를 거부하며 이익만을 추구한다.
 ㄴ. ㉡은 시청각 정보를 제공한다.
 ㄷ. ㉢은 쌍방향적 정보 전달이 가능하다.
 ㄹ. ㉣은 ㉢보다 먼저 등장하였다.

- ① ㄱ, ㄴ ② ㄱ, ㄷ ③ ㄴ, ㄷ
 ④ ㄴ, ㄹ ⑤ ㄷ, ㄹ

05 다음 글을 통해 추론할 수 있는 미디어를 대하는 바람직한 태도로 가장 적절한 것은?

인터넷을 통한 개인 방송에서 욕설, 비속어를 사용하는 사례가 늘고 있다. 이는 청소년들이 많이 시청하는 방송에서도 나타나고 있다. 문제는 인터넷 방송에서 방송 진행자가 차별적 표현, 인격 모독 표현 등을 사용하면서 청소년들의 언어생활에 부정적인 영향을 끼치고 있다는 것이다.

- ① 정보를 있는 그대로 받아들인다.
- ② 미디어의 정보를 비교하지 않는다.
- ③ 전달되는 정보가 지적 수준을 높인다고 본다.
- ④ 자신의 믿음을 확인해 주는 정보만 수용한다.
- ⑤ 미디어가 전달하는 내용을 비판적으로 수용한다.

06 다음 내용이 설명하는 문화 이해 태도에 대한 설명으로 옳은 것은?

외국의 문화를 기준으로 자신의 문화를 열등하다고 평가하고, 우수한 외국의 문화를 자기 사회에 적극적으로 수용해야만 자기 사회가 발전할 수 있다고 보는 문화 이해 태도이다.

- ① 문화 주체성을 상실할 우려가 크다.
- ② 국수주의로 변질될 우려가 있다는 비판을 받는다.
- ③ 문화 향유자의 입장에서 문화를 이해하고자 한다.
- ④ 문화를 평가의 대상이 아닌 이해의 대상으로 인식한다.
- ⑤ 각 사회의 문화가 나름대로 존중받을 가치가 있다고 본다.

07 값이 가진 문화 이해의 태도에 대한 설명으로 옳은 것은?

값: A 국 사람들은 그 지역의 강에서 목욕을 하면 죄를 씻을 수 있다고 믿는데, 이런 생각은 A 국 사람들이 미개하다는 것을 보여 줘. A 국 사람들은 우리의 우수한 사고방식을 받아들여야 해.

- ① 문화의 다양성 보존에 기여한다.
- ② 문화를 평가하는 절대적 기준을 부정한다.
- ③ 모든 문화가 동등한 가치를 지닌다고 본다.
- ④ 문화를 사회적 상황 및 맥락과 연결시켜 이해한다.
- ⑤ 타 문화를 배척하는 국수주의로 흐를 우려가 있다는 비판을 받는다.

중요

08 다음 글에 나타난 문화 이해 태도에 대한 설명으로 옳은 것을 <보기>에서 고른 것은?

A 국 사람들은 자녀가 미인의 기준을 충족할 수 있도록 딸에게 어렸을 때부터 많은 음식을 먹인다. 이는 A 국의 전통과 사회적 맥락에서 본다면 충분히 이해할 수 있는 문화이다.

보기

- ㄱ. 자기 문화의 가치를 폄하한다.
- ㄴ. 문화의 다양성 보존에 기여한다.
- ㄷ. 문화 간의 우열을 인정하지 않는다.
- ㄹ. 타 문화를 열등하게 평가하여 배제한다.

- ① ㄱ, ㄴ ② ㄱ, ㄷ ③ ㄴ, ㄷ
- ④ ㄴ, ㄹ ⑤ ㄷ, ㄹ

09 ㉠에 들어갈 답변으로 옳은 것은?

교사: 일부 국가에서는 가족의 명예를 더럽혔다고 생각하는 가족 구성원을 살해하는 풍습이 있습니다. 이러한 풍습을 어떻게 생각나요?
 값: 그런 풍습은 바람직하지 않다고 생각합니다. 왜냐하면 (㉠) 때문입니다.

- ① 타 문화 수용에 적극적이지 않기
- ② 인류의 보편적 가치를 훼손하고 있기
- ③ 집단 구성원의 결속력을 높이는 데 기여하기
- ④ 자기 문화에 대한 객관적 이해를 가능하게 하기
- ⑤ 다른 문화를 편견 없이 받아들이는 태도가 부족하기

서술형 문제

10 다음 글에 나타난 문화 이해 태도를 쓰고, 이러한 문화 이해 태도를 가질 때 나타날 수 있는 문제점을 서술하십시오.

우리나라 길거리의 간판을 보면 우리말보다 외국어가 더 많다. 사람들은 상품을 굿즈(Goods)라고 표현하는 것이 더 고급스럽고 멋있다고 여긴다.

01 정치와 민주주의

1. 정치의 의미와 역할

정치 의 의 미	<ul style="list-style-type: none"> • 좁은 의미의 정치 <ul style="list-style-type: none"> - (㉠)을 획득하고 유지하며 행사하는 활동 - 정치인들이 정책을 만드는 것과 같이 국가와 관련한 일을 하는 것 예) 국무 회의에서 국가 정책을 논의하는 활동, 정부가 정책을 수립하여 집행하는 활동 • 넓은 의미의 정치 <ul style="list-style-type: none"> - 일상생활에서 발생하는 다양한 대립과 갈등을 (㉡)으로 조정하고 해결하는 모든 과정 - 사회적 희소가치(부, 권력, 명예 등)를 권위적으로 배분하는 활동 예) 노사 간 갈등을 해결하기 위한 협상, 휴가 계획을 세우는 가족회의
정치 의 역 할	<ul style="list-style-type: none"> • (㉢) 유지 <ul style="list-style-type: none"> - 집단 의사 결정과 권력 행사가 정당하게 이루어지도록 하여 공동체를 유지함. - 의견 차이와 이해관계를 조정하여 대립과 갈등을 완화함. • (㉣) <ul style="list-style-type: none"> - 정치과정에서 사회 구성원의 다양한 요구가 충족되어 사회 통합에 이바지함. - 집단 의사 결정과 권력 행사가 정당하게 이루어지면 공동체의 결속력이 높아짐. • 사회 발전 도모 <ul style="list-style-type: none"> - 여러 사회문제를 해결함. - 공동체가 나아가야 할 방향을 사회가 함께 합의하여 사회 발전의 계기가 됨.

2. 민주주의의 의미와 필요성

(5) 로 서 의 민 주 주 의	<ul style="list-style-type: none"> • 어원: 민주주의를 뜻하는 '데모크라시(Democracy)'는 민중을 뜻하는 '데모스(Demos)'와 지배를 뜻하는 '크라티아(Kratia)'의 합성어임. • 모든 국민이 국가의 주인으로서 권리를 가지고 국민 스스로 국가를 다스리는 정치 형태 • 특정 소수 집단에 의한 지배가 아닌 시민에 의한 지배를 의미
(6) 으 로 서 의 민 주 주 의	<ul style="list-style-type: none"> • 일상생활에서 실현하는 민주적인 가치관이나 생활 태도를 의미 • 합리적 문제 해결 능력, 대화와 타협, 관용, 다수결의 원리, 소수 의견 존중, 공동체 의식, 타인에 대한 배려, 주인 의식 등

민주 적 생 활 양 식	<ul style="list-style-type: none"> • 비판: 타인의 의사를 존중하되 좋고 나쁨, 옳고 그름을 따질 수 있는 태도 • 타협: 각자의 입장과 이해를 조정함으로써 대립 관계를 해소하는 자세 • 관용: 자기와 다른 가치나 사고방식을 용인하고 포용하는 정신과 태도 • 다수결의 원리: 다수의 의사에 따라 집단의 의사를 결정해야 한다는 원리
민주 주의 의 필 요 성	<ul style="list-style-type: none"> • 소수가 국가 권력을 독점하지 못하도록 제한함. • 개인의 자유와 권리를 보호함. • 공동체 의식과 주인 의식을 함양함.

02 민주주의의 발전 과정과 원리

1. 민주주의의 발전 과정

고 대 아 테 네 민 주 주 의	<ul style="list-style-type: none"> • 배경: 영토가 작고 인구가 적은 도시 국가 형태 • (7) 민주주의 실시 • 노예, 외국인, 여성은 시민에서 제외되었다는 한계 • 주요 정치 기관 <ul style="list-style-type: none"> - 민회: 시민이 참석하는 입법·행정·군사에 관한 최고 의결 기관 - 평의회: 최고 행정 기관으로 일상적인 행정 업무를 전담
근 대 민 주 주 의	<ul style="list-style-type: none"> • 배경: 상공업과 무역의 발달로 부를 축적한 시민 계급의 성장 • 시민 혁명에 영향을 준 사상 <ul style="list-style-type: none"> - (8) 사상: 모든 인간은 태어나면서부터 빼앗길 수 없는 기본적 권리를 부여받았다는 사상 - 계몽사상: 인간의 이성을 강조하여 사회를 개혁하려는 사상 - (9): 국가는 개인 간의 계약에 의해 구성되었으므로 국민의 기본권을 보장해야 한다는 사상 • 3대 시민 혁명 <ul style="list-style-type: none"> - 영국 (10): 영국 전제 정치에 대항한 시민 혁명 - (11): 영국의 부당한 식민 지배에 저항한 독립 혁명 - 프랑스 혁명: 왕과 귀족의 지배에 대항하여 시민들이 자유와 권리를 지키기 위한 혁명 • 시민 혁명의 의의: 시민의 대표로 이루어진 의회를 중심으로 한 간접 민주주의 시행, 자유와 평등 이념의 확산 • 시민 혁명의 한계: 재산, 성별 등에 따른 참정권 제한
현 대 민 주 주 의	<ul style="list-style-type: none"> • 배경: 근대 시민 혁명 이후에도 여전히 정치에서 배제된 사람들을 중심으로 지속적인 참정권 확대 운동 전개 • 예) (12), 여성 참정권 운동 등 • 의의: 보통 선거 제도 확립, 대의 민주주의 실시

정답

우공 37734 ㉠ 666 666 666 ㉡ ㉢ ㉣ ㉤ ㉥ ㉦ ㉧ ㉨ ㉩ ㉪ ㉫ ㉬ ㉭ ㉮ ㉯ ㉺ ㉻ ㉼ ㉽ ㉾ ㉿ ㊀ ㊁ ㊂ ㊃ ㊄ ㊅ ㊆ ㊇ ㊈ ㊉ ㊊ ㊋ ㊌ ㊍ ㊎ ㊏ ㊐ ㊑ ㊒ ㊓ ㊔ ㊕ ㊖ ㊗ ㊘ ㊙ ㊚ ㊛ ㊜ ㊝ ㊞ ㊟ ㊠ ㊡ ㊢ ㊣ ㊤ ㊦ ㊧ ㊨ ㊩ ㊪ ㊫ ㊬ ㊭ ㊮ ㊯ ㊰ ㊱ ㊲ ㊳ ㊴ ㊵ ㊶ ㊷ ㊸ ㊹ ㊺ ㊻ ㊼ ㊽ ㊾ ㊿ ㊿

2. 민주주의의 이념과 기본 원리

민주주의의 이념	<ul style="list-style-type: none"> • 인간의 존엄성: 인간은 인간이라는 그 자체만으로 존엄한 존재이며 존중받아야 함. - 인간의 존엄성은 민주주의의 근본이념임. • ①): 외부의 간섭을 받지 않고 스스로 판단하여 행동하는 것 - 근대 시민 혁명 당시 기본적 자유권을 인정, 현대 사회에서 적극적 의미로 자유권의 범위가 확대됨. • ②): 모든 사람이 성별, 종교, 신분 등에 따라 차별받지 않고 동등하게 대우받는 것 - 법 앞의 평등, 기회의 균등, 능력과 업적에 따른 대우를 중시하는 것
③)의 원리	<ul style="list-style-type: none"> • 국가의 의사를 최종적으로 결정하는 최고 권력인 주권이 국민에게 있다는 원리 • 국가 권력의 행사는 국민의 동의와 합의에 의해서만 가능함.
④)의 원리	<ul style="list-style-type: none"> • 주권을 가진 국민이 스스로 국가를 다스린다는 원리 • 직접 민주주의 방식과 대의 민주주의 방식이 존재함.
⑤)의 원리	<ul style="list-style-type: none"> • 헌법에 따라 국가를 운영해야 한다는 원리 • 국민의 자유와 권리를 보장하기 위해 국가 권력의 자의적 행사와 남용을 방지함.
⑥)의 원리	<ul style="list-style-type: none"> • 국가 권력을 서로 다른 기관에 맡겨 견제와 균형을 이루도록 하는 원리 • 입법부(법 제정 및 개정), 행정부(법 집행), 사법부(법 적용)

03 현대 민주주의의 특징과 과제

1. 현대 민주주의의 특징

간접 민주주의	<ul style="list-style-type: none"> • 배경: 영토의 확대, 인구 증가, 사회의 복잡화·전문화 • 장점: 국민 주권과 국민 자치의 원리를 실현할 수 있는 현실적인 대안임.
직접 민주주의 요소 도입	<ul style="list-style-type: none"> • 국민 투표: 투표를 통해 국민의 의사를 물어 국가의 주요 정책을 결정하는 제도 • ⑦): 일정한 수의 국민이 헌법 개정이나 법률안 등을 의회에 직접 발의하는 제도 • 국민 소환: 선출된 공직자를 임기 만료 전에 투표를 통해 직위에서 물러나게 하는 제도
전자 민주주의	<ul style="list-style-type: none"> • 의미: 정보 통신 기술이 발달하여 인터넷을 통해 국민이 정치과정에 참여할 수 있는 민주주의 • 배경: 정보 통신 기술과 뉴 미디어의 발달에 따라 시공간적 제약을 극복한 시민의 정치 참여가 가능해짐.

2. 현대 민주주의의 한계

⑧)	<ul style="list-style-type: none"> • 민주주의에서 주권자로서 국민이 정치 참여에 부정적이고, 정치적 문제와 현상에 관심을 보이지 않는 현상 발생 • 시민의 의사에 반하는 정책이 결정될 우려가 있고, 국민 주권의 원리와 국민 자치의 원리 실현이 방해됨.
⑨)	<ul style="list-style-type: none"> • 시민들이 선출한 대표가 시민의 의사를 충실히 반영하지 못하는 경우 시민의 의사가 왜곡되는 현상 • 시민의 뜻이 대표를 통해 간접적으로 전달되므로 모든 분야의 의견을 고르게 대표하기 어려움.
바람직하지 않은 정치 참여	<ul style="list-style-type: none"> • 공공의 이익과 가치보다 자신의 이익만을 추구하려는 정치 참여 • 대화와 토론을 거치지 않은 정치 참여

3. 우리나라 민주주의의 발전 과제

제도적 보완	<ul style="list-style-type: none"> • 직접 민주주의 요소 도입: 국민 투표, 주민 발안, 주민 소환, 주민 참여 예산제 등 • 시민 참여의 제도적 보장: 언론의 자유와 집회·결사의 자유 보장, 숙의 민주주의 방식으로 여러 사람이 토론할 수 있는 ⑩), 공론장 마련
시민 참여의 확대	<ul style="list-style-type: none"> • 시민 참여의 의의: 시민의 적극적인 정치 참여는 민주주의의 이념을 실현하는 데 기여함. • 시민의 역할 <ul style="list-style-type: none"> - 주인의식을 바탕으로 한 자발적이고 적극적인 참여 - 시민단체 활동 등을 통해 정치권력에 대해 감시와 견제 - 사익과 공익의 조화 추구 - 선거에 관심을 가지고 참여



▲ 4·19 혁명



▲ 5·18 민주화 운동



▲ 6월 민주 항쟁

정답

해설은 ⑩) 1. 2. 3. 4. 5. 6. 7. 8. 9. 10. 11. 12. 13. 14. 15. 16. 17. 18. 19. 20. 21. 22. 23. 24. 25. 26. 27. 28. 29. 30. 31. 32. 33. 34. 35. 36. 37. 38. 39. 40. 41. 42. 43. 44. 45. 46. 47. 48. 49. 50. 51. 52. 53. 54. 55. 56. 57. 58. 59. 60. 61. 62. 63. 64. 65. 66. 67. 68. 69. 70. 71. 72. 73. 74. 75. 76. 77. 78. 79. 80. 81. 82. 83. 84. 85. 86. 87. 88. 89. 90. 91. 92. 93. 94. 95. 96. 97. 98. 99. 100.

문제로 복습하기

01 정치의 의미를 말한 갑, 을의 관점에 대한 설명으로 옳은 것은?

갑: 정치는 다양한 사회 구성원 사이의 이해관계와 갈등을 해결하는 과정이다.
 을: 정치는 정치권력을 획득, 유지, 행사하는 것과 관련된 활동을 의미한다.

- ① 갑의 관점은 정치인의 정치 활동을 정치로 보지 않는다.
- ② 갑의 관점은 공용 전기 절감을 위한 아파트 주민 회의를 정치로 본다.
- ③ 을의 관점은 정부의 정책 수립 과정을 정치로 보지 않는다.
- ④ 을의 관점은 학교에서 교사와 학생, 학부모 간의 합의안 마련 과정을 정치로 본다.
- ⑤ 갑의 관점과 을의 관점 모두 학급 회의를 통해 학급 규칙을 제정하는 것을 정치로 본다.

중요

02 민주주의의 의미 A, B에 대한 설명으로 옳은 것은?

A는 국가 의사를 국민의 합의에 의해 결정하는 정치 형태로서 시민에 의한 지배를 의미한다. B는 공동체 생활을 운영하는 원리로서의 생활 태도나 행동 양식을 의미한다.

- ① A는 생활양식으로서의 민주주의를 의미한다.
- ② B는 대화와 타협을 통해 대립과 갈등을 해결해 나가는 것을 포함한다.
- ③ A에는 B와 달리 나와 다른 사고방식을 인정하지 않고 비난하는 태도를 포함한다.
- ④ B는 A와 달리 인간의 존엄성 실현에 기여하지 못한다.
- ⑤ A, B 모두 소수에 의해 국가의 의사 결정이 이루어지는 것을 중시한다.

03 민주주의의 발달 과정에 나타난 A에 대한 설명으로 옳은 것은?

A는 국가의 주요 의제에 대한 최고 의결 권한을 가지는 민회가 있었고, 모든 시민은 이 기구에 참가하여 중요한 정치 문제를 토의하고 결정하였다.

- ① 간접 민주주의이다.
- ② 시민 혁명을 통해 등장하였다.
- ③ 여성도 시민으로서의 지위를 인정받았다.
- ④ 대표자를 선출하여 국민의 의사를 대신하였다.
- ⑤ 국가의 중요한 문제를 시민들이 직접 결정할 수 있는 기회가 보장되었다.

04 다음 시기의 민주주의에 대한 설명으로 옳은 것은?

대헌장 (영국, 1215년) 권리 장전 (영국, 1689년) 독립 선언서 (미국, 1776년) 인권 선언 (프랑스, 1789년)

- ① 여성의 참정권이 보장되었다.
- ② 보통 선거 제도가 확립되었다.
- ③ 직접 민주주의 제도가 정착되었다.
- ④ 모든 사회 구성원이 정치에 직접 참여할 수 있었다.
- ⑤ 정치 참여 기회가 모든 사회 구성원에게 보장되지는 않았다.

중요

05 민주주의의 발전 과정을 시대순으로 바르게 나열한 것은?

(가) 시민 혁명 이후 의회를 중심으로 하는 대의 민주주의가 나타났다.
 (나) 참정권 확대 운동을 통해 일정 연령 이상의 모든 국민이 정치에 참여할 수 있게 되었다.
 (다) 성인 남성으로만 구성된 시민을 중심으로 민회에서 국가의 중요한 일을 직접 결정하였다.

- ① (가) - (나) - (다) ② (나) - (가) - (다)
- ③ (나) - (다) - (가) ④ (다) - (가) - (나)
- ⑤ (다) - (나) - (가)

06 다음 헌법 규정에서 알 수 있는 민주주의의 기본 원리는?

제40조 입법권은 국회에 속한다.
 제66조 ④ 행정권은 대통령을 수반으로 하는 정부에 속한다.
 제101조 ① 사법권은 법관으로 구성된 법원에 속한다.

- ① 입헌주의의 원리
- ② 국민 주권의 원리
- ③ 국민 복지의 원리
- ④ 국민 자치의 원리
- ⑤ 권력 분립의 원리



07 민주주의의 이념에 대한 설명으로 옳은 것은?

- ① 현대 민주주의에서는 적극적인 자유를 보장받는다.
- ② 민주주의 실현을 위해서는 소수의 희생이 필요하다.
- ③ 자유는 평등과 달리 인간의 존엄성 실현에 필수적이다.
- ④ 자유는 누구나 능력에 관계없이 똑같이 대우받아야 한다는 것이다.
- ⑤ 평등은 외부의 부당한 간섭 없이 자유롭게 판단하고 행동할 수 있는 상태를 의미한다.

08 민주주의의 이념 A에 대한 설명으로 옳은 것은?

A는 현대 사회에서 모든 사람에게 균등한 기회를 보장할 뿐만 아니라 개개인이 가지는 선천적·후천적 차이를 고려하는 것까지 포함한다.

- ① 특정한 계층의 사람만 보장받는다.
- ② 인간의 존엄성 실현에 기여하지 못한다.
- ③ 근대 사회가 아닌 현대 사회에서 요구되었다.
- ④ 법 앞에서 구성원 모두를 동등하게 대하는 것이다.
- ⑤ 다른 사람의 권리보다 우선적으로 무제한 보장된다.

09 밑줄 친 ㉠에 해당하는 제도를 <보기>에서 고른 것은?

대의제에서는 대표자가 국민의 여론을 대표하지 않고 왜곡할 수 있는 우려가 있다. 따라서 국가의 중대한 사항에 대해 ㉠ 주권자의 의사를 직접 물어 정책에 반영할 수 있는 방법을 통해 보완되어야 한다.

보기
 가. 다수결의 원리 나. 보통 선거 제도
 다. 국민 투표 제도 리. 주민 소환 제도

- ① 가, 나 ② 가, 다 ③ 나, 다
- ④ 나, 리 ⑤ 다, 리

10 다음과 같은 현상이 지속될 때 나타날 수 있는 결과로 가장 적절한 것은?

최근 지방 자치 단체에서 추진하는 공청회에 참여하는 사람이 없어 공청회가 제 역할을 하지 못하고 있다. 또한 지방에서 열리는 재보궐 선거의 투표율이 30%가 되지 않는 등 정치에 대한 관심이 줄어들고 있다.

- ① 직접 민주주의를 실현할 수 있다.
- ② 권력 남용과 부정부패가 나타날 수 있다.
- ③ 대의 민주주의의 한계를 극복할 수 있다.
- ④ 다양한 의견이 정책 결정에 반영될 수 있다.
- ⑤ 시민의 다양한 의견이 정치과정에 반영될 수 있다.

서술형 문제

11 다음 민주주의의 기본 원리가 공통적으로 추구하는 궁극적인 목적을 서술하십시오.

• 입헌주의의 원리 • 국민 자치의 원리
 • 권력 분립의 원리 • 국민 주권의 원리

2. 민주 사회의 정치과정

정치 과정의 의미	<ul style="list-style-type: none"> • 오늘날 사회가 다원화되면서 사람들의 가치관과 요구가 다양해지고 있으며, 이 과정에서 구성원 간의 의견이 부딪쳐 충돌하기도 함. • 현대 민주주의 국가에서는 정치과정을 통해 구성원들의 다양한 가치와 요구를 조정하고 갈등을 해결함. • ① : 시민들이 표출한 다양한 요구와 이익을 집약하여 정책으로 만들고 집행하는 과정임.
정치 과정의 단계	<div style="text-align: center;"> </div> <ul style="list-style-type: none"> • ② : 개인이나 집단이 다양한 의견과 요구를 자유롭게 표현함. • ③ : 표출된 이익을 정당, 이익 집단, 시민단체, 언론 등이 요약하고 대안을 제시함. • 정책 결정: 국회와 정부가 여론을 바탕으로 정책을 결정함. • 정책 집행: 정부는 결정된 정책을 실제로 집행함. • ④ : 정책이 집행된 후에는 시민이 정책을 평가하며, 그 결과가 다시 정치과정에 반영됨.

03 지방 자치와 시민 참여

1. 민주주의와 지방 자치

⑤)의 의미	일정한 지역에 살고 있는 주민들이 지방 자치 단체를 구성하여 그 지역의 일을 자율적으로 처리하는 제도
지방 자치의 중요성	<ul style="list-style-type: none"> • 국가 권력이 중앙 정부에 집중되는 것을 막아 중앙 정부와 지방 정부 간에 권력을 ⑥)하는 데 이바지함. • 지역 주민이 스스로 지역의 문제를 해결하는 과정에서 ⑦)를 직접 체험하고 배울 수 있는 기회를 제공함. • 해당 지역뿐만 아니라 국가 전체의 민주주의가 발전하는 데 기여함.
우리나라의 지방 자치	<ul style="list-style-type: none"> • ⑧) : 의결 기관 <ul style="list-style-type: none"> - 지역 정책을 결정하며, 법률과 명령의 범위 안에서 ⑨)를 제정·개정 및 폐지함. - 지역의 살림살이 계획인 예산안을 심의하고 확정함. • ⑩) : 집행 기관 <ul style="list-style-type: none"> - 지방 의회의 의결 사항을 실행하며, 법령과 조례의 범위 안에서 ⑪)를 제정함. - 지방의 각종 사무를 처리하며, 그 지역의 재산을 관리하고 예산을 집행함.



2. 지역 사회의 문제 해결을 위한 시민 참여

지방 선거 참여	지역 주민으로서 시민이 지역 사회의 문제를 해결하는 가장 기본적인 방법임.
공청회 참석	공청회에 참석하여 지역문제에 관해 의견을 나누고 해결 방안을 모색할 수 있음.
의견 제시	인터넷이나 언론을 통해 지역문제에 관한 자신의 의견을 밝힐 수 있음.
민원, 청원	지역에 관한 민원을 제출하거나 청원할 수 있음.
⑫)	지역의 중요 사안이나 정책에 대해 투표를 통해 자신의 의사를 표시할 수 있음.
⑬)	지방 의회에 조례를 제정하거나 개정 또는 폐지할 것을 청구할 수 있음.
주민 참여 예산제	주민이 지방 자치 단체의 예산 편성 과정에 참여하기도 함.
주민 소환제	선출된 지역의 대표를 소환하여 주민 투표로 해임을 결정할 수 있음.
주민 감사 청구제	지방 자치 단체의 업무와 관련하여 감사를 청구할 수 있음.



▲ 지방선거



▲ 주민 공청회

정답

① ㉠ ② ㉡ ③ ㉢ ④ ㉣ ⑤ ㉤ ⑥ ㉥ ⑦ ㉦ ⑧ ㉧ ⑨ ㉨ ⑩ ㉩ ⑪ ㉪ ⑫ ㉫ ⑬ ㉬ ⑭ ㉭ ⑮ ㉮ ⑯ ㉯ ⑰ ㉺ ⑱ ㉻ ⑲ ㉼ ⑳ ㉽ ㉾ ㉿ ㊀ ㊁ ㊂ ㊃ ㊄ ㊅ ㊆ ㊇ ㊈ ㊉ ㊊ ㊋ ㊌ ㊍ ㊎ ㊏ ㊐ ㊑ ㊒ ㊓ ㊔ ㊕ ㊖ ㊗ ㊘ ㊙ ㊚ ㊛ ㊜ ㊝ ㊞ ㊟ ㊠ ㊡ ㊢ ㊣ ㊤ ㊥ ㊦ ㊧ ㊨ ㊩ ㊪ ㊫ ㊬ ㊭ ㊮ ㊯ ㊰ ㊱ ㊲ ㊳ ㊴ ㊵ ㊶ ㊷ ㊸ ㊹ ㊺ ㊻ ㊼ ㊽ ㊾ ㊿ ① ㉠ ㉡ ㉢ ㉣ ㉤ ㉥ ㉦ ㉧ ㉨ ㉩ ㉪ ㉫ ㉬ ㉭ ㉮ ㉯ ㉰ ㉱ ㉲ ㉳ ㉴ ㉵ ㉶ ㉷ ㉸ ㉹ ㉺ ㉻ ㉼ ㉽ ㉾ ㉿ ㊀ ㊁ ㊂ ㊃ ㊄ ㊅ ㊆ ㊇ ㊈ ㊉ ㊊ ㊋ ㊌ ㊍ ㊎ ㊏ ㊐ ㊑ ㊒ ㊓ ㊔ ㊕ ㊖ ㊗ ㊘ ㊙ ㊚ ㊛ ㊜ ㊝ ㊞ ㊟ ㊠ ㊡ ㊢ ㊣ ㊤ ㊥ ㊦ ㊧ ㊨ ㊩ ㊪ ㊫ ㊬ ㊭ ㊮ ㊯ ㊰ ㊱ ㊲ ㊳ ㊴ ㊵ ㊶ ㊷ ㊸ ㊹ ㊺ ㊻ ㊼ ㊽ ㊾ ㊿

문제로 복습하기

중요

01 선거의 기본 원칙 A, B에 대한 설명으로 옳은 것을 <보기>에서 고른 것은?

- 갑국은 재산에 따라 투표권을 차등적으로 부여하였다. 이는 A에 어긋난다.
- 을국은 국회 의원 선거에서 일정 금액 이상의 세금을 납부한 국민에게만 선거권을 부여하였다. 이는 B에 어긋난다.

보기

- ㄱ. A는 유권자의 투표 가치를 동등하게 해야 한다는 원칙이다.
- ㄴ. B는 성별, 재산, 신분 등에 따른 차별 없이 모든 사람에게 선거권을 부여해야 한다는 원칙이다.
- ㄷ. 유권자 본인이 아닌 대리인이 투표하는 것은 A에 위배된다.
- ㄹ. 투표용지에 기표한 유권자의 이름을 쓰는 것은 B에 위배된다.

- ① ㄱ, ㄴ ② ㄱ, ㄷ ③ ㄴ, ㄷ
- ④ ㄴ, ㄹ ⑤ ㄷ, ㄹ

02 선거 과정에서 정당이 수행하는 활동으로 옳은 것을 <보기>에서 고른 것은?

보기

- ㄱ. 국가 운영을 책임질 대표자를 선출한다.
- ㄴ. 후보자 선택에 필요한 정보를 수집한다.
- ㄷ. 여론을 반영한 공약과 정책을 개발한다.
- ㄹ. 유권자가 선호하는 사람을 후보자로 공천한다.

- ① ㄱ, ㄴ ② ㄱ, ㄷ ③ ㄴ, ㄷ
- ④ ㄴ, ㄹ ⑤ ㄷ, ㄹ

03 밑줄 친 'A 단체'의 성격으로 옳은 것은?

올바른 교육을 추구하기 위해 시민들이 자발적으로 만든 A 단체는 국민의 기본적 인권이 보장되려면 고등학교까지 무상 교육이 전면 시행되어야 한다고 주장하였다.

- ① 정권 창출과 유지를 목표로 삼는다.
- ② 사회 전체의 공익 증진을 추구한다.
- ③ 이익을 집약하여 정책으로 결정한다.
- ④ 개별 집단의 이익을 실현하고자 한다.
- ⑤ 정책에 대한 해설이나 비판을 제시한다.

04 ㉠에 들어갈 내용으로 가장 적절한 것은?

수업 주제: (㉠)

- 국민 전체의 공익과 충돌할 가능성이 있음.
- 특수한 영역의 문제에만 관심을 가짐.
- 정치권력과 결탁할 경우 부정부패가 발생할 가능성이 있음.

- ① 시민단체의 특징
- ② 이익 집단의 특징
- ③ 전자 민주주의의 문제점
- ④ 지방 자치 제도의 문제점
- ⑤ 오늘날 정당 정치의 문제점

중요

05 정치과정의 단계 ㉠~㉤에 관한 설명으로 옳지 않은 것은?



- ① 시민의 입법 청원 활동은 ㉠의 예이다.
- ② 언론이 일정한 방향으로 여론을 형성하는 것은 ㉡의 예이다.
- ③ 정당은 ㉢을 실행하는 대표적인 정치 주체이다.
- ④ ㉣의 구체적인 방안은 정부가 담당한다.
- ⑤ ㉤에 의해 기존의 정책이 수정되기도 한다.

중요

06 다음 자료에 대한 설명으로 옳은 것은?

○○일보

<지방 소식>

㉠ △△군 A, 어제 열린 본회의에서 황톳길 조성 활성화 사업 조례안 의결

㉡ ○○○도 B, 내년 예산안을 C에 제출, ㉢ 주민 참여 예산제 시행할 듯

- ① A는 집행 기관이다.
- ② B는 대통령이 임명한다.
- ③ C는 규칙 제정권을 가진다.
- ④ ㉠은 기초 자치 단체, ㉡은 광역 자치 단체이다.
- ⑤ ㉢에 의해 ○○○도 내년 예산은 주민들이 결정한다.

07 다음 자료에 나타난 A 제도의 의의로 가장 적절한 것은?

○○시장은 ○○시에 쓰레기 매립장을 유치하기로 했다. 그러나 쓰레기 매립장 유치에 반대하는 ○○시 주민들은 ○○시장이 독단적으로 이 사업을 추진한다며 ○○시장을 해임하기 위해 A를 추진하고 있다. 현재 일정 수 이상 주민의 서명을 받아 A 실시 요건을 충족하였으므로 조만간 주민 투표를 실시할 예정이다.

- ① 지방 행정에 대한 주민 통제를 강화한다.
- ② 중앙 정부의 권력 남용을 예방할 수 있다.
- ③ 지방 의회 의원의 대표성을 강화할 수 있다.
- ④ 주민 투표 실시에 소요되는 비용을 줄일 수 있다.
- ⑤ 지방 자치 단체장의 소신 있는 정책 수행을 촉진할 수 있다.

08 지방 자치 단체 기관 A, B에 대한 설명으로 옳지 않은 것은?

지방 자치 단체의 자치 법규에는 크게 조례와 규칙이 있다. 조례는 A가 제정하는 법규이고, 규칙은 B가 제정하는 법규이다.

- ① A는 지방 자치 단체 예산의 심의·확정권을 가진다.
- ② B는 지방 자치 단체를 대표한다.
- ③ A는 의결 기관, B는 집행 기관이다.
- ④ A는 지방 의회, B는 지방 자치 단체장이다.
- ⑤ A는 주민의 선거로 구성되고, B는 중앙 정부에 의해 임명된다.

09 다음 글에 나타난 각종 제도가 가져올 효과로 가장 적절한 것은?

시민은 지방 자치 단체에 민원 또는 청원을 제기하거나 공청회, 주민 설명회 등에 참가하여 지역 사회의 문제와 관련된 의견을 제시할 수 있다. 또한 지방 선거에 참여하여 지역의 일을 담당할 주민의 대표를 선출하고, 주민 투표에서 지역의 중요 사안이나 정책에 대해 자신의 의사를 표시할 수 있다. 주민 발언을 이용하여 지방 의회에 조례를 제정하거나 개정 또는 폐지할 것을 청구할 수도 있다.

- ① 지방 의회의 권한이 강화된다.
- ② 정책 결정의 전문성이 높아진다.
- ③ 지방 자치 단체장의 자율성이 강화된다.
- ④ 지역문제를 주민 스스로 해결할 수 있다.
- ⑤ 정치적 의사 결정 과정에서 시간과 비용이 절약된다.

서술형 문제

10 다음 자료를 읽고 물음에 답하십시오.

○○구에서 세 아이를 키우며 사는 김 씨는 “○○구에서 아이 키우기 어끌세요?”라는 질문을 받고 지역에 아이를 위한 시설이 턱없이 부족하다는 사실을 깨달았다. ○○구의 18세 미만 아동 비율은 시에서 세 번째로 높은 반면, 정작 아동 돌봄을 위한 지원이나 시설은 부족하다는 문제의식을 가진 주민들은 ‘○○구 아동 돌봄 지원 조례’ 발안에 적극적으로 참여하였다. 주민들의 목소리를 담은 조례안은 의회를 통과하였고, ○○구에 아동 돌봄 시설이 만들어졌다.

- (1) 위 사례에 나타난 주민 참여 제도의 명칭을 쓰시오.

- (2) (1)의 제도가 가져올 수 있는 효과를 서술하십시오.

01 법의 의미와 목적

1. 법의 의미와 특징

일상 생활과 법	<ul style="list-style-type: none"> • 식품 위생법: 음식에 소비 기한을 표기함. • 도로 교통법: 학교 주변 도로 중 일부 구간을 어린이 보호 구역으로 지정함. • ㉑) : 청소년에게 나쁜 영향을 미치는 매체를 규제함. • 학교 급식법: 학생의 건강을 위해 학교 급식을 다양한 식품으로 구성함. • 학교 폭력 예방 및 대책에 관한 법률: 학교에서는 교사와 학생을 대상으로 학교 폭력 예방 교육을 실시함.
사회 규범으로서의 법	<ul style="list-style-type: none"> • 사회 규범: 사람들이 사회생활에서 지켜야 할 행동의 기준 • 사회 규범의 종류 <ul style="list-style-type: none"> - 관습: 한 사회에서 오랫동안 지켜져 내려온 풍습 - ㉒) : 인간이 마땅히 지켜야 할 도리 예) 효도, 배려 등 - ㉓) : 사회 구성원의 합의에 따라 국가가 정한 규범
법의 특징	<ul style="list-style-type: none"> • ㉔) : 사회 구성원이 지키지 않으면 국가로부터 제재를 받음. • ㉕) : 해야 할 일과 하지 말아야 할 일을 분명하게 규정함. • 결과 중사: 겉으로 드러나는 행위와 그 결과를 중시함.



▲ 도덕의 사례



▲ 법의 사례

2. 법의 목적과 기능

법의 목적	<ul style="list-style-type: none"> • 법의 궁극적인 목적은 ㉖)를 실현하는 것임. • 정의는 모든 사람에게 각자의 정당한 몫을 주는 것 • 법은 개인의 노력과 능력에 따라 정당한 보상과 대우를 받게 하고, 다른 사람의 권리를 침해하거나 사회 질서를 어지럽힌 사람을 제재함으로써 정의를 실현함.
법의 기능	<ul style="list-style-type: none"> • 개인의 ㉗) 보호: 법은 개인이 어떤 권리를 갖는지, 권리를 침해당했을 때는 어떻게 구제받을 수 있는지를 규정하고 있음. • ㉘)의 예방: 법은 다툼이 생겼을 때 공정하고 객관적인 판단 기준을 제공하여 분쟁 해결에 도움을 줌.

02 법의 종류

1. 규율하는 생활 영역에 따른 법의 구분

㉙)	<p>국가와 개인 간 또는 국가기관 간의 공적인 관계를 규율하는 법</p> <p>예) 헌법, 형법 등</p>
㉚)	<p>개인 간의 사적인 관계를 규율하는 법</p> <p>예) 민법, 상법 등</p>
사회법	<p>국가가 개인 간의 관계에 개입하는 중간적인 성격의 법</p> <p>예) 노동법, 경제법, 사회 보장법 등</p>

2. 일상을 규율하는 다양한 법

㉛)	<ul style="list-style-type: none"> • 국민의 권리와 의무, 국가기관의 구성과 운영 등을 규정한 우리나라의 최고법 • 국가 운영의 바탕이 되는 가장 근본적인 법 • 모든 법 제정의 근거가 되며, 대통령 등 국가기관의 권한도 헌법에 따라 주어짐.
㉜)	<ul style="list-style-type: none"> • 개인의 재산 관계 및 가족 관계에 관한 권리와 의무 등을 다루는 법 • 재산권과 계약, 손해 배상 등의 재산 관계와 친족과 혼인, 상속 등 가족생활에 관한 내용으로 구성됨. • 개인이 일상생활에서 마주하는 다양한 분쟁 해결의 기준을 제공함.
㉝)	<ul style="list-style-type: none"> • 범죄의 종류와 그에 따른 형벌을 정한 법 • 범죄와 형벌의 내용을 명확히 하여 공공질서를 유지함. • 범죄를 저지른 경우에도 형벌의 범위 안에서만 처벌함으로써 국민의 자유와 권리를 보호함.



▲ 헌법이 규율하는 사례



▲ 민법이 규율하는 사례



▲ 형법이 규율하는 사례



▲ 사회법이 규율하는 사례

정답

1. ㉑ ㉒ ㉓ ㉔ ㉕ ㉖ ㉗ ㉘ ㉙ ㉚ ㉛ ㉜ ㉝ ㉞ ㉟ ㊱ ㊲ ㊳ ㊴ ㊵ ㊶ ㊷ ㊸ ㊹ ㊺ ㊻ ㊼ ㊽ ㊾ ㊿


3. 사회법

등장 배경	<ul style="list-style-type: none"> • 근대 이후 급속한 경제 성장 과정에서 빈부 격차 등의 각종 사회문제가 더욱 심각해짐. • 자유로운 개인 간의 관계에서 사회·경제적 약자는 불평 등한 계약을 맺게 되는 경우가 많음. • 국가의 적극적인 역할이 요구되었고, 사적 생활 영역인 개인 간의 법률관계에 국가가 개입하는 사회법이 등장함.
종류	<ul style="list-style-type: none"> • ① : 근로자의 권리를 보호하기 위해 근로자의 권리와 근로 조건을 규정하고, 노사 간의 이해관계를 조정하기 위한 법 • ② : 공정한 경제 질서를 유지하여 기업 간 자유로운 경쟁을 보장하고 소비자의 권익을 보호하기 위한 법 • ③ : 실업, 빈곤, 질병, 고령 등으로 어려움을 겪고 있는 사람들을 돕고, 모든 국민의 인간다운 생활을 보장하기 위한 법

03 재판의 종류와 공정한 재판

1. 재판의 의미와 종류

재판의 의미	분쟁 사건에 대해 법원이 법을 적용하여 옳고 그름을 가려 판단하는 과정
재판의 기능	사람들 사이의 분쟁을 원만하게 해결하고, 범죄자에게 ④)을 부과함으로써 사회 질서를 유지함.
⑤) 재판	<ul style="list-style-type: none"> • 의미: 개인과 개인 사이에 일어난 분쟁을 해결하기 위한 재판 • 적용: 다른 사람에게 돈을 빌려주고 받지 못해 다툼이 발생하거나 상대방이 계약을 어겨 손해를 입는 일이 발생할 수 있는데, 이때 민사 재판을 청구할 수 있음. • 민사 재판에서 원고는 재판을 청구한 사람이고, 피고는 그 상대방이며, 소송 대리인은 원고나 피고에게 법률적인 도움을 주는 사람임. • 절차: ⑥)의 소장 제출 → 법원은 소장 복사본을 피고에게 전달 → ⑦)의 답변서 제출 → 원고와 피고의 증거 제출 및 변론 → 판사의 판결 선고
⑧) 재판	<ul style="list-style-type: none"> • 의미: 사회 질서를 위협하는 범죄 사건에 적용되는 재판 • 적용: 폭행이나 절도와 같은 범죄가 발생하였을 때 국가가 범죄 사실을 밝히고 형벌의 종류와 정도를 결정함. • 형사 재판에서는 원고가 검사이며, 범죄 혐의가 있다고 인정하여 검사가 기소한 사람을 피고인이라고 함. • 절차: 범죄 발생 → 수사 기관의 수사 → ⑨)의 공소 제기(기소) → 공판(검사의 심문, 변호인의 변론, 증거 조사 및 증인 심문) → ⑩)의 판결



2. 공정한 재판의 요건

사법권의 독립	<ul style="list-style-type: none"> • 공정한 재판을 위해서는 재판 과정이 외부 압력에 흔들리지 않도록 사법권의 독립이 필요함. • 법원의 조직과 운영이 다른 국가기관의 간섭이나 영향을 받지 않도록 ⑪)을 통해 보장하고 있음. • 법관이 헌법과 법률, 양심에 따라 심판할 수 있도록 법관의 신분을 보장하고 있음.
⑫)	재판 당사자 이외에 일반 시민에게도 재판의 심리와 판결을 공개해야 함.
증거 재판주의	법원은 구체적인 증거를 바탕으로 판결함.
국민 참여 재판	<ul style="list-style-type: none"> • 일반 국민이 형사 재판에 배심원으로 참여할 수 있는 제도로, 재판의 공정성과 투명성을 높이고자 도입됨. • 배심원은 피고인의 유무죄 여부와 형량과 관련한 의견을 제시할 수 있음.
⑬)	<ul style="list-style-type: none"> • 의미: 소송 당사자가 재판 결과에 승복하지 않을 때 급을 달리하는 법원에서 여러 번 재판을 받을 수 있게 하는 제도 • 의의: 법원이 잘못된 판결을 내릴 가능성을 최소화하고, 공정한 재판을 실현하여 국민의 기본권을 보장할 수 있음. • 원칙: 우리나라는 기본적으로 3심제를 운영하고 있음. • 상소 제도 <ul style="list-style-type: none"> - ⑭): 1심 법원의 판결에 불복해 2심 재판을 청구함. - ⑮): 2심 법원의 판결에 불복해 대법원에 3심 재판을 청구함.



▲ 공개 재판주의



▲ 증거 재판주의

정답

① ㉠ ② ㉡ ③ ㉢ ④ ㉣ ⑤ ㉤ ⑥ ㉥ ⑦ ㉦ ⑧ ㉧ ⑨ ㉨ ⑩ ㉩ ⑪ ㉪ ⑫ ㉫ ⑬ ㉬ ⑭ ㉭ ⑮ ㉮ ⑯ ㉯ ⑰ ㉺ ⑱ ㉻ ㉼ ㉽ ㉾ ㉿

문제로 복습하기

01 사회 규범 (가)~(다)에 대한 설명으로 옳은 것은?

- (가) 남의 물건을 훔치면 형사 처벌을 받는다.
 (나) 설날에는 조상들의 산소에 가서 성묘한다.
 (다) 부모님께 효도하는 것은 자식의 도리이다.

- ① (가)는 강제적이고 내면적인 성격을 갖는다.
 ② (나)는 행위의 합법성을 따진다.
 ③ (다)는 주로 의무 이행에 큰 비중을 둔다.
 ④ (가)와 (나)는 시대와 장소에 따라 변하지 않는다.
 ⑤ (가)~(다)는 모두 내용이 명문화되어 있다.

중요

02 다음 글이 강조하는 내용의 사례에 해당하는 것을 <보기>에서 고른 것은?

진정한 의미의 '정의'란 전체와 그 구성원 사이의 관계를 조화시키는 것이다. 개인은 제각기 다른 능력과 가치를 가지고 있기 때문에 개인의 능력 및 공적에 상응하는 명예나 재화, 기타 이익을 배분받을 수 있어야 한다.

보기

- ㄱ. 국가 유공자와 그 유족에게 연금을 지급한다.
 ㄴ. 공공장소에 장애인 전용 주차 공간을 확보한다.
 ㄷ. 연말 성과급을 성과와 관계없이 누구에게나 같은 금액을 지급한다.
 ㄹ. 주간 노동과 야간 노동에 대해 시간당 임금을 동일하게 지급한다.

- ① ㄱ, ㄴ ② ㄱ, ㄷ ③ ㄴ, ㄷ
 ④ ㄴ, ㄹ ⑤ ㄷ, ㄹ

03 법에 대한 설명으로 옳지 않은 것은?

- ① 정의 실현을 목적으로 한다.
 ② 다른 사회 규범에 비해 내용이 명확하다.
 ③ 어길 경우에는 국가가 제재를 가함으로써 지키도록 강제한다.
 ④ 어떤 행위가 오랜 세월 반복되면서 사회적 행위 기준이 된 것이다.
 ⑤ 국가 권력에 의해 제정된 규범으로, 사람들의 외적인 행동을 규제한다.

04 다음 글에서 파악할 수 있는 법의 기능으로 가장 적절한 것은?

중증 지체 장애인인 갑은 변호사 시험 원서를 접수하면서 장애인은 법무부가 지정하는 일부 시험장에서만 응시할 수 있다는 것을 알게 되었다. 갑은 이에 대해 장애인 복지법에 따른 차별 행위라며 국가 인권 위원회에 진정을 제기하였다. 국가 인권 위원회는 법무부에 변호사 시험에서 중증 장애인 모두 자신이 희망하는 시험장에서 응시할 수 있도록 권고하였다.

- ① 개인의 권리를 보호한다.
 ② 개인 간 분쟁을 해결한다.
 ③ 개인의 도덕심을 함양한다.
 ④ 권리 침해 당사자를 처벌한다.
 ⑤ 국가 통치의 기준을 제시한다.

05 사회법이 적용되는 사례를 <보기>에서 고른 것은?

보기

- ㄱ. 법원은 산불 방화범에게 징역형을 선고하였다.
 ㄴ. 소득이 전혀 없는 사람에게 국가가 생활 보조금을 지급하였다.
 ㄷ. 할아버지가 사망하자 아버지는 할아버지의 재산을 상속받았다.
 ㄹ. 사용자와의 단체 협상에서 노동조합은 임금 인상을 요구하였다.

- ① ㄱ, ㄴ ② ㄱ, ㄷ ③ ㄴ, ㄷ
 ④ ㄴ, ㄹ ⑤ ㄷ, ㄹ

06 갑, 을이 말하는 법이 옳게 연결된 것은?



음주 운전을 할 경우 이 법에 의해서 처벌을 받는 것으로 알고 있어.

갑

주택 매매 계약을 할 때에는 이 법에 따라 진행되곤 해.



을

- | | | | |
|-------|----|------|-----|
| 갑 | 을 | 갑 | 을 |
| ① 사법 | 공법 | ② 사법 | 사회법 |
| ③ 공법 | 사법 | ④ 공법 | 사회법 |
| ⑤ 사회법 | 공법 | | |

07 다음과 같은 제도를 두고 있는 궁극적인 목적으로 가장 적절한 것은?

- 법관의 자격과 법원의 조직은 법률로 정한다.
- 재판에서 사실의 인정은 증거에 의해서 판단해야 한다.
- 재판 과정과 결과는 일반인에게 공개하는 것이 원칙이다.
- 재판의 결과에 만족하지 않을 경우 세 번까지 재판할 수 있다.

- ① 공정한 재판을 하고자 한다.
- ② 재판을 신속하게 진행하고자 한다.
- ③ 재판에 드는 비용을 줄이고자 한다.
- ④ 법관의 전문성을 향상시키고자 한다.
- ⑤ 재판 과정에 국민 참여를 보장하고자 한다.

중요

08 다음은 어떤 재판 과정에서의 모습이다. 이 재판에 대한 설명으로 옳은 것을 <보기>에서 고른 것은?

갑: 을이 저에게 천만 원을 빌려갔는데, 갚지 않아서 재판을 청구하였습니다.
 을: 저는 갑에게 돈을 빌린 적이 없습니다. 따라서 저는 갚아야 할 의무가 없습니다.

- 보기**
- ㄱ. 갑이 원고, 을이 피고이다.
 - ㄴ. 검사의 공소 제기로 재판이 시작된다.
 - ㄷ. 개인과 개인 사이의 권리 다툼을 다루고 있다.
 - ㄹ. 검사의 구형과 변호인의 변론, 판사의 형벌 선고로 진행된다.

- ① ㄱ, ㄴ ② ㄱ, ㄷ ③ ㄴ, ㄷ
- ④ ㄴ, ㄹ ⑤ ㄷ, ㄹ

09 형사 재판에 대한 설명으로 옳은 것은?

- ① 원고는 범죄 피해자이다.
- ② 검사의 공소 제기로 재판이 시작된다.
- ③ 검사의 구형이 있으면 재판이 종료된다.
- ④ 수사 단계에서는 범죄 혐의자를 피고인이라고 한다.
- ⑤ 모든 범죄 사건은 피해자의 고소가 있어야 재판할 수 있다.

중요

10 밑줄 친 ㉠~㉣에 대한 설명으로 옳지 않은 것은?

㉠ 갑은 친구가 사는 아파트에 방문하여 차를 주차시키는 도중에 옆에서 나오던 을의 차와 가볍게 충돌했다. 대수롭지 않게 생각하고 지나가던 갑에게 을은 항의하였다. 갑과 을은 흥분하여 말다툼을 벌였고, 급기야 ㉡ 갑이 을을 때려 상해를 입혔다. 을은 갑을 고소하였고, 갑은 ㉢ 경찰의 수사를 받았다. 이후 갑은 ㉣ 기소되어 ㉤ 재판을 받게 되었다.

- ① ㉠은 이 재판에서 재판 당사자에 해당한다.
- ② ㉡과 관련해서 민사 재판을 청구할 수 있다.
- ③ ㉢의 단계에서 갑은 피의자이다.
- ④ ㉣의 주체는 판사이다.
- ⑤ ㉤은 형사 재판을 의미한다.

서술형 문제

11 다음 자료를 읽고 물음에 답하십시오.

갑이 근무하고 있는 할인점에 화재가 발생하였다. 수사 기관은 폐쇄 회로 텔레비전(CCTV)을 통해 갑의 흡연 모습이 확인되었다며 갑을 화재 용의자로 지목하였다. 1심 재판부는 갑이 실수로 화재를 냈다고 판단하여 벌금 500만 원을 선고하였다. 갑은 아이스크림을 먹으면서 종이 상자를 정리한 것이라며 항소하였다. 항소심 재판부는 갑이 아이스크림을 먹는 모습을 흡연하는 것으로 잘못 보았다고 판단하여 갑에게 무죄를 선고하였다.

(1) 위의 사례에 해당하는 재판의 종류를 쓰시오.

(2) 위의 사례를 통해 심급 제도가 어떤 의미를 갖는지를 서술하십시오.

01 인권 보장과 헌법

1. 인권의 의미와 인권 침해

(1) 의미와 특징	<ul style="list-style-type: none"> • 의미: 인간이 인간답게 살아가기 위해 마땅히 누려야 할 기본적인 권리 • (2): 인권은 인간이 태어나면서 가지는 하늘이 준 권리 • 자연적 권리: 인권은 국가가 법으로 보장하기 이전에 이미 인간에게 주어진 권리 • (3) 권리: 인권은 국적, 성별, 인종, 나이 등과 상관없이 모든 사람에게 주어진 권리
인권의 발전 과정	<ul style="list-style-type: none"> • 근대 이전: 고대의 노예나 중세의 농노들은 귀족 등의 지배층과는 달리 인간으로서 존중받지 못하고 차별을 받음. • 근대: 시민들은 절대 군주의 억압에 맞서 자유와 평등을 보장받고자 (4)을 일으켰고, 이를 계기로 인권이 제도적으로 보장되기 시작함. • 시민 혁명 이후: 시민 혁명 이후에도 여성과 노동자의 참정권 획득을 위한 투쟁이 있었으며, 산업 혁명 이후 사회권이 보장되기 시작함. • 세계 대전 이후: 세계 대전이 일어나면서 많은 사람이 사망, 부상, 빈곤 등으로 인권을 침해받게 되자 국제연합(UN)에서는 모든 인간이 보편적으로 누려야 할 인권의 기준을 제시한 (5)을 발표함.
일상생활 속 인권 침해	<ul style="list-style-type: none"> • 인권 침해의 원인: 사회 구성원의 편견이나 고정 관념, 사회의 관습, 국가의 잘못된 법률과 제도 등 • 인권 침해 예방: 인권의 소중함을 인식하고 인권 보장을 지향하는 관점에서 일상을 바라보려는 (6)이 필요함.

2. 기본권의 종류

(7)	민주 국가를 운영하는 모든 법과 제도의 기초인 최고법
(8)	헌법을 통해 국가가 반드시 보장하겠다고 선언한 기본적인 인권
우리 헌법의 기본권 보장	<ul style="list-style-type: none"> • 헌법 제10조: '국가는 개인이 가지는 불가침의 기본적 인권을 확인하고 이를 보장할 의무를 진다.'라고 명시함. • 국가가 국민의 자유와 권리를 함부로 침해해서는 안 되고, 국민의 기본권 보장 의무를 다해야 함을 선언함.
인권과 기본권의 관계	인권은 국가가 존재하기 전부터 인간이라면 당연히 가지는 자연적 권리이고, 기본권은 인권을 헌법으로 보장하여 인권 보장을 위한 국가의 의무와 시민의 권리를 강조한 것임.

우리 헌법에 보장된 기본권	<ul style="list-style-type: none"> • 인간으로서의 존엄과 가치: 인간이라는 이유만으로 존중받아야 할 존재이므로 다른 목적을 위한 수단으로 이용하거나 그 사람의 인격을 훼손하는 행위를 해서는 안 된다는 의미 • 행복 추구권: 행복을 추구함으로써 인간다운 삶을 누릴 수 있는 권리 • (9): 국가 권력의 간섭을 받지 않고 자유롭게 생활할 수 있는 권리 예 신체적 자유, 정신적 자유, 사생활의 자유, 재산권 행사의 자유 등 • 평등권: 부당한 (10)을 받지 않고 동등하게 대우받을 권리 • (11): 국민이 국가의 정치적 의사 결정 및 국가기관의 형성 과정에 참여할 수 있는 권리 예 선거권, 공무 부담권, 국민 투표권 등 • (12): 인간다운 생활 보장을 국가에 요구할 수 있는 권리 예 교육을 받을 권리, 쾌적한 환경에서 살 권리 등 • (13): 국가에 일정한 행위를 요구하거나 기본권이 침해당했을 때 구제를 요청할 수 있는 권리 예 청원권, 재판 청구권, 국가 배상 청구권 등
----------------	---

02 기본권의 제한과 침해 구제

1. 기본권 제한의 요건과 한계

필요성	<ul style="list-style-type: none"> • 헌법이 국민의 기본권을 보장하고 있다고 해서 개인이 자신의 기본권을 무제한으로 행사할 수 있는 것은 아님. • 자신의 권리를 행사하는 과정에서 다른 사람의 기본권을 침해하거나 공공의 이익을 해치는 경우가 발생할 수 있음. • 우리 헌법에서는 기본권 제한의 요건과 한계를 명시함으로써 국가 권력에 의한 과도한 기본권 제한을 방지하고자 함.
요건	<ul style="list-style-type: none"> • (14), 질서 유지, 공공복리를 위해 필요한 경우에 한하여 기본권을 제한할 수 있음. • 국회가 제정한 (15)에 의해서만 제한할 수 있음.
한계	<ul style="list-style-type: none"> • 기본권을 제한하는 경우에도 자유와 권리의 본질적인 내용을 침해할 수 없음. 예 개발 제한 구역처럼 공공복리를 목적으로 토지 이용을 일부 제한할 수 있지만, 개인의 재산을 보상 없이 빼앗는 등 기본권의 본질적인 내용까지 침해할 수는 없음. • 국가 권력의 남용을 방지하여 국민의 자유와 권리를 최대한 보장하기 위함.

정답

틀림 ㉔ 옳지 않음 ㉕ ㉖ ㉗ ㉘ ㉙ ㉚ ㉛ ㉜ ㉝ ㉞ ㉟ ㊱ ㊲ ㊳ ㊴ ㊵ ㊶ ㊷ ㊸ ㊹ ㊺ ㊻ ㊼ ㊽ ㊾ ㊿ ㉠ ㉡ ㉢ ㉣ ㉤ ㉥ ㉦ ㉧ ㉨ ㉩ ㉪ ㉫ ㉬ ㉭ ㉮ ㉯ ㉰ ㉱ ㉲ ㉳ ㉴ ㉵ ㉶ ㉷ ㉸ ㉹ ㉺ ㉻ ㉼ ㉽ ㉾ ㉿ ㊀ ㊁ ㊂ ㊃ ㊄ ㊅ ㊆ ㊇ ㊈ ㊉ ㊊ ㊋ ㊌ ㊍ ㊎ ㊏ ㊐ ㊑ ㊒ ㊓ ㊔ ㊕ ㊖ ㊗ ㊘ ㊙ ㊚ ㊛ ㊜ ㊝ ㊞ ㊟ ㊠ ㊡ ㊢ ㊣ ㊤ ㊦ ㊧ ㊨ ㊩ ㊪ ㊫ ㊬ ㊭ ㊮ ㊯ ㊰ ㊱ ㊲ ㊳ ㊴ ㊵ ㊶ ㊷ ㊸ ㊹ ㊺ ㊻ ㊼ ㊽ ㊾ ㊿ ㉠ ㉡ ㉢ ㉣ ㉤ ㉥ ㉦ ㉧ ㉨ ㉩ ㉪ ㉫ ㉬ ㉭ ㉮ ㉯ ㉰ ㉱ ㉲ ㉳ ㉴ ㉵ ㉶ ㉷ ㉸ ㉹ ㉺ ㉻ ㉼ ㉽ ㉾ ㉿ ㊀ ㊁ ㊂ ㊃ ㊄ ㊅ ㊆ ㊇ ㊈ ㊉ ㊊ ㊋ ㊌ ㊍ ㊎ ㊏ ㊐ ㊑ ㊒ ㊓ ㊔ ㊕ ㊖ ㊗ ㊘ ㊙ ㊚ ㊛ ㊜ ㊝ ㊞ ㊟ ㊠ ㊡ ㊢ ㊣ ㊤ ㊦ ㊧ ㊨ ㊩ ㊪ ㊫ ㊬ ㊭ ㊮ ㊯ ㊰ ㊱ ㊲ ㊳ ㊴ ㊵ ㊶ ㊷ ㊸ ㊹ ㊺ ㊻ ㊼ ㊽ ㊾ ㊿

2. 기본권 침해 시 구제 방법

법원	<ul style="list-style-type: none"> • ㉠)을 통해 시민의 침해된 기본권을 구제함. • 다른 사람이 나의 권리를 침해했을 경우 민사 재판으로 분쟁을 해결하고 손해 배상을 받을 수 있음. • 범죄로 기본권이 침해된 경우 형사 재판을 통해 기본권을 침해한 사람을 처벌할 수 있음.
②)	<ul style="list-style-type: none"> • 국가기관 또는 제삼자로부터 기본권을 침해당했을 때 이를 구제함. • 국민이 기본권 침해 내용을 진정하면 사실 관계를 조사하여 해당 기관에 시정할 사항을 권고함. • 개인이 일상생활에서 마주하는 다양한 분쟁 해결의 기준을 제공함.
③)	<ul style="list-style-type: none"> • 헌법 질서를 수호하고 국민의 기본권을 구제하는 국가기관 • 국가 권력 행사나 법률의 내용이 기본권을 침해하는 경우 국민이 직접 ㉡)을 제기할 수 있음. • 원칙적으로 다른 구제 수단을 모두 거친 후에 최종적으로 권리 구제를 요청함.
기타	<ul style="list-style-type: none"> • 국민 권익 위원회를 통한 고충 민원 처리 • 한국 소비자원을 통한 소비자 피해 구제 요청 • 언론 보도로 인한 권리 침해 시 언론 중재 위원회에 도움 요청

03 근로자의 권리와 노동권 침해 구제

1. 헌법에 보장된 근로자의 권리

근로자	<ul style="list-style-type: none"> • 의미: 직업의 종류와 근로 기간에 관계 없이 사용자에게 임금을 받고 일하는 모든 사람 • 권리: 우리 헌법은 근로의 권리를 기본권으로 보장하고, 근로 조건의 기준을 법률로 정하도록 함. • ㉢)에 근로 조건의 최저 기준을 제시하여 근로자의 기본적인 생활을 보장함.
법으로 보장된 근로 조건	<ul style="list-style-type: none"> • 임금: 최저 임금 이상의 금액을 원칙적으로 매달 1회 이상 일정한 날짜에 본인에게 직접 현금으로 전액 지급해야 함. • 근로 시간: 원칙적으로 휴식 시간을 제외하고 1일 8시간, 1주 40시간을 초과할 수 없음. • 휴식 시간: 원칙적으로 근로 시간이 4시간이면 30분 이상, 8시간이면 1시간 이상의 휴식 시간을 가져야 함. • 해고: 정당한 이유 없이 근로자를 해고할 수 없고, 원칙적으로 근로자를 해고하려면 적어도 30일 전에 알려 주어야 함.

연소 근로자 보호	<ul style="list-style-type: none"> • 최저 연령: 원칙적으로 15세 미만이거나 중학교에 재학 중인 18세 미만의 청소년은 근로자로 일할 수 없음. • 근로 계약: 친권자 또는 후견인(㉣)을 받아 청소년 본인이 직접 맺어야 함. • 연소자 증명서: 나이를 증명하는 서류와 친권자 또는 후견인 동의를 사업장에 갖춰 두어야 함. • 최저 임금제: 청소년도 성인과 동일하게 최저 임금제를 적용받아야 함. • 임금 청구: 청소년도 임금을 직접 청구할 수 있으며, 친권자 또는 후견인이 대신 임금을 받을 수 없음. • 근로 시간: 1일 7시간, 1주 35시간을 초과하여 근무할 수 없음.
노동 3권	<ul style="list-style-type: none"> • ㉤): 근로자가 근로 조건의 유지·개선을 위해 노동조합을 조직 또는 가입하여 단결할 수 있는 권리 • 단체 교섭권: 근로자가 노동조합을 통해 사용자와 근로 조건을 협의할 수 있는 권리 • ㉥): 근로자가 단체 교섭권을 행사하여 사용자와 협의를 진행하였으나 협이가 원만하게 이루어지지 않았을 때 일정한 절차를 거쳐 쟁의 행위를 할 수 있는 권리

2. 노동권 침해

노동권 침해 유형	<ul style="list-style-type: none"> • 임금을 제때 주지 않거나 최저 임금보다 낮은 임금을 주는 경우 • 근로 기준법에 정해진 노동 시간이나 휴식 시간을 지키지 않는 등 근로 조건을 어기는 경우 • 결혼 및 출산 등을 이유로 퇴직을 강요하거나 정당한 이유 없이 근로자를 해고(부당 해고)하는 경우 • 사용자가 노동조합의 정당한 활동을 방해(부당 노동 행위)하는 경우 <ul style="list-style-type: none"> ㉦ 노동조합 결성을 감시하는 행위, 노동조합에 가입한 근로자에게 불이익을 주는 행위, 노동조합의 정당한 단체 교섭 제안을 거부하는 행위, 노동조합에 가입하지 않는 것을 전제로 고용 계약을 맺는 행위
노동권 침해 시 대처	<ul style="list-style-type: none"> • 개인은 고용 노동부에 진정서를 제출하거나 ㉧)에 구제를 신청할 수 있고, 법원에 소송을 제기하여 피해를 구제받을 수 있음. • ㉨)은 주변에서 노동권 침해 상황이 발생하거나 침해가 예상될 경우 이를 방지하기 위한 법이나 제도의 보완을 국가에 요구할 수 있음. • ㉩)는 근로자의 권리 침해를 방지하는 제도를 마련하여 노동권 침해 문제를 개선하기 위해 노력해야 함.

정답

㉠는 ㉠ ㉡는 ㉡ ㉢는 ㉢ ㉣는 ㉣ ㉤는 ㉤ ㉥는 ㉥ ㉦는 ㉦ ㉧는 ㉧ ㉨는 ㉨ ㉩는 ㉩ ㉪는 ㉪ ㉫는 ㉫ ㉬는 ㉬ ㉭는 ㉭ ㉮는 ㉮ ㉯는 ㉯ ㉺는 ㉺ ㉻는 ㉻ ㉼는 ㉼ ㉽는 ㉽ ㉾는 ㉾ ㉿는 ㉿ ㊱는 ㊱ ㊲는 ㊲ ㊳는 ㊳ ㊴는 ㊴ ㊵는 ㊵ ㊶는 ㊶ ㊷는 ㊷ ㊸는 ㊸ ㊹는 ㊹ ㊺는 ㊺ ㊻는 ㊻ ㊼는 ㊼ ㊽는 ㊽ ㊾는 ㊾ ㊿는 ㊿

문제로 복습하기

01 다음 제도적 장치가 공통적으로 실현하려고 하는 목적으로 가장 적절한 것은?

- 헌법에 국민의 자유와 권리를 명확하게 규정한다.
- 기본권을 침해받은 국민은 법원, 국가 인권 위원회, 헌법재판소 등을 통해 구제받을 수 있다.

- ① 기본적 인권 보장
- ② 보편적 복지 달성
- ③ 사회 질서의 유지
- ④ 국가 안보 능력 향상
- ⑤ 경제적 생산성의 극대화

중요

02 (가)와 (나)에 대한 옳은 설명을 <보기>에서 고른 것은?

- (가) 시민 혁명에 의해 비로소 사람들은 국가의 권위나 억압으로부터 자신의 생명과 재산을 안전하게 지킬 수 있게 되었다.
- (나) 산업 혁명 이후 빈부 격차가 커지는 등 자본주의의 모순이 나타나자 시민들은 국가에 대해 모든 국민의 인간다운 생활 보장을 요구하여 이를 실현해야 한다고 생각하였다.

보기

- ㄱ. (가)에서는 자유와 평등을 가장 중시하였다.
- ㄴ. (가)에서 사람들은 인권이 보편적인 권리임을 인식하게 되었다.
- ㄷ. (나)는 참정권 획득 운동과 밀접한 관련이 있다.
- ㄹ. (나)로 인해 모든 사람이 선거권을 갖게 되었다.

- ① ㄱ, ㄴ
- ② ㄱ, ㄷ
- ③ ㄴ, ㄷ
- ④ ㄴ, ㄹ
- ⑤ ㄷ, ㄹ

03 자유권에 대한 설명으로 옳은 것은?

- ① 20세기에 처음 강조되었다.
- ② 국가 권력으로부터의 간섭을 배제한다.
- ③ 기본권 침해에 대한 구제 절차와 관련된다.
- ④ 노동자, 농민, 여성의 투쟁으로 획득되었다.
- ⑤ 복지 국가의 이념을 실현하기 위한 권리이다.

04 다음 사례에서 갑이 취할 수 있는 구제 조치로 가장 적절한 것은?

갑은 ○○도 지방 의회 사무 보조원 선발 시험에 지원하였는데, 면접 시험에서 면접 위원 을이 “이 직무는 비서인데, 비서 직무에 여성과 남성 중에서 누가 더 적당할까요?”라고 질문하였다. 갑은 이 질문이 성차별적 질문이라고 생각되어 매우 불쾌했다.

- ① 경찰에 을을 고소한다.
- ② 국가 인권 위원회에 진정한다.
- ③ 법원에 손해 배상 소송을 제기한다.
- ④ 한국 소비자원에 피해 구제를 요청한다.
- ⑤ 헌법재판소에 위헌 법률 심판을 청구한다.

05 국가기관 A에 대한 설명으로 옳은 것은?

의료인이 임신 32주 이전까지 태아의 성별을 알려 주는 것을 금지한 현행 의료법이 헌법에 어긋난다는 A의 결정이 나왔다. A의 결정에 따라 해당 조항이 즉시 무효가 되면서 임신부나 가족 등은 태아의 성별을 의료진에게 물어볼 수 있게 되었다.

- ① 소비자 피해와 관련된 상담을 담당한다.
- ② 언론 보도로 인한 피해 구제를 담당한다.
- ③ 사법부에 소속되어 공정한 재판을 담당한다.
- ④ 인권 침해나 차별 행위를 조사하여 구제한다.
- ⑤ 공권력 행사로 인한 기본권 침해를 구제한다.

중요

06 기본권의 제한에 대한 설명으로 옳은 것을 <보기>에서 고른 것은?

보기

- ㄱ. 국가의 효율적인 통치를 위해서 제한할 수 있다.
- ㄴ. 반드시 국회에서 제정한 법률에 의해서만 제한이 가능하다.
- ㄷ. 어떠한 경우에도 기본권의 본질적인 내용을 침해할 수 없다.
- ㄹ. 법률에 명시되어 있지 않더라도 국민 대다수가 원할 경우에는 제한할 수 있다.

- ① ㄱ, ㄴ
- ② ㄱ, ㄷ
- ③ ㄴ, ㄷ
- ④ ㄴ, ㄹ
- ⑤ ㄷ, ㄹ

07 (가), (나)에 해당하는 권리를 옳게 연결한 것은?

(가) 근로 조건 및 경제 조건의 유지·개선을 위하여 자주적으로 노동조합을 설립할 자유는 누구에게나 또 어떠한 직업에 있어서도 보장된다.
 (나) 노동조합과 사용자 또는 사용자 단체는 신의에 따라 성실히 교섭하고 단체 협약을 체결하여야 하며 그 권한을 남용하여서는 안 된다. 또한 노동조합과 사용자 또는 사용자 단체는 정당한 이유 없이 교섭 또는 단체 협약의 체결을 거부하거나 이를 게을리하여서는 안 된다.

- | | | |
|---|--------|--------|
| | (가) | (나) |
| ① | 단결권 | 단체 행동권 |
| ② | 단결권 | 단체 교섭권 |
| ③ | 단체 교섭권 | 단결권 |
| ④ | 단체 행동권 | 단결권 |
| ⑤ | 단체 행동권 | 단체 교섭권 |

08 ㉠에 해당하는 사례를 <보기>에서 고른 것은?

사용자가 노동조합의 대표자 또는 노동조합으로부터 위임을 받은 자와의 단체 협약 체결, 기타의 단체 교섭을 정당한 이유 없이 거부하거나 자꾸 연기하는 것은 (㉠)로서 금지한다.

보기
 가. 노동조합 가입을 이유로 해고하는 행위
 나. 근로자가 노동조합의 정당한 파업에 참여했다는 이유로 징계하는 행위
 다. 쟁의 행위 도중 회사 기물을 파손했다는 이유로 노동조합 간부를 해고하는 행위
 라. 근무 시간에 상사의 허락을 받지 않고 작업장을 무단 이탈한 직원에게 징계를 내린 행위

- | | | |
|--------|--------|--------|
| ① 가, 나 | ② 가, 다 | ③ 나, 다 |
| ④ 나, 라 | ⑤ 다, 라 | |

중요

09 연소 근로자의 근로에 대한 설명으로 옳은 것은?

- ① 13세 미만자도 취업이 가능하다.
- ② 근로 계약의 체결은 친권자가 대리한다.
- ③ 1일 근로 시간은 9시간을 초과할 수 없다.
- ④ 친권자의 동의를 받아 근로 계약을 체결한다.
- ⑤ 임금은 법정 대리인에게 현금으로 지급해야 한다.

10 다음 헌법 조항에서 규정하고 있는 권리에 대한 설명으로 옳은 것을 <보기>에서 고른 것은?

- 모든 국민은 근로의 권리를 가진다.
- 근로자는 근로 조건의 향상을 위하여 자주적인 단결권, 단체 교섭권 및 단체 행동권을 가진다.

보기

- 가. 근로자가 서로 단결할 수 있도록 한다.
- 나. 근로자의 인간다운 생활 보장을 목표로 한다.
- 다. 국가로부터의 간섭과 규제에서 벗어나기 위한 것이다.
- 라. 노동조합에 의한 쟁의 행위를 적극 장려하고자 한다.

- | | | |
|--------|--------|--------|
| ① 가, 나 | ② 가, 다 | ③ 나, 다 |
| ④ 나, 라 | ⑤ 다, 라 | |

서술형 문제

11 다음 자료를 보고 물음에 답하십시오.



(1) (가), (나)에서 행사하고 있는 기본권을 쓰시오.

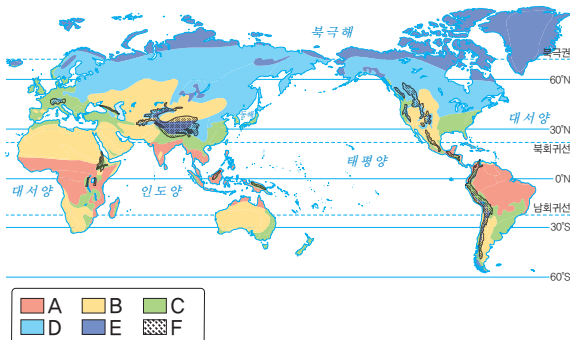
(가): _____ (나): _____

(2) (가), (나) 기본권의 의미를 서술하십시오.

01 위치에 따른 자연환경과 지역성의 관계에 대한 설명으로 옳은 것은?

- ① 자연환경이 지역의 인문환경에 미치는 영향은 일시적이다.
- ② 위도가 비슷한 지역이라면 동일한 지역성이 나타날 것이다.
- ③ 지역성은 자연환경과 무관하며 산업 및 인구 등 인문 현상에 의해 형성된다.
- ④ 자연환경은 지역 주민의 문화적 가치와 생활 방식을 형성하는 데 중요한 역할을 수행한다.
- ⑤ 자연환경은 지역의 문화적 다양성에만 영향을 주고 지역의 산업 등에는 영향을 주지 않는다.

[02-03] 지도는 세계의 기후 분포를 나타낸 것이다. 이를 보고 물음에 답하십시오.



02 지도의 A~F 기후와 세계의 주요 지역을 연결한 것으로 옳은 것은?

- ① A - 남·북위 23.5° 일대
- ② B - 적도에 걸쳐 있거나 그 주변
- ③ C - 해발 고도가 높은 지역
- ④ E - 극지방 주변 지역
- ⑤ F - 중위도 대륙 내부 지역

03 지도의 A~F 기후에서 나타나는 특징으로 옳지 않은 것은?

- ① A - 연중 기온이 높고 강수량이 많다.
- ② B - 건조한 기후로 인해 식생이 풍부하다.
- ③ D - 침엽수림이 널리 분포하고 있다.
- ④ E - 연중 기온이 낮아 영구 동토층이 분포한다.
- ⑤ F - 저위도 고산 지역은 기온이 연중 온화하다.

04 (가)~(다)와 지도에 표시된 국가를 연결한 것으로 옳은 것은?

(가) 사막이 발달하였고 길고 험령한 의복 문화가 나타난다.
 (나) 벼농사가 발달하여 쌀을 이용한 음식 문화가 나타난다.
 (다) 해발 고도가 높아 일 년 내내 온화한 고산 기후가 나타난다.



- | | (가) | (나) | (다) |
|---|-----|-----|-----|
| ① | 몽골 | 페루 | 이집트 |
| ② | 몽골 | 베트남 | 페루 |
| ③ | 베트남 | 몽골 | 이집트 |
| ④ | 이집트 | 몽골 | 베트남 |
| ⑤ | 이집트 | 베트남 | 페루 |

05 다음 사례와 관련된 공간적 상호 작용에 대한 설명으로 옳지 않은 것은?

아세안(ASEAN)은 동남아시아 국가 연합이라는 뜻으로 동남아시아에 있는 10개의 국가가 모여 만든 국제기구이다. 회원국의 경제 및 문화 교류와 안전을 보장하기 위해 만들어졌으며, 우리나라, 중국, 일본을 포함하여 아세안+3이라고도 불린다.

- ① 교통·통신의 발달에 따라 세계 규모 네트워크가 만들어진 사례이다.
- ② 상호 협력의 필요성에 따라 다양한 형태로 결합된 사례 중 하나이다.
- ③ 세계 규모 네트워크의 확장으로 지역 규모, 국가 규모 네트워크는 축소된다.
- ④ 아세안의 설립으로 지역 또는 국가 간에 상호연계성과 상호의존성은 강화될 것이다.
- ⑤ 이와 비슷한 사례로는 유럽의 정치, 경제 통합을 위한 국제기구인 유럽연합(EU)이 있다.

06 다음에서 설명하는 축제가 열리는 국가로 옳은 것은?



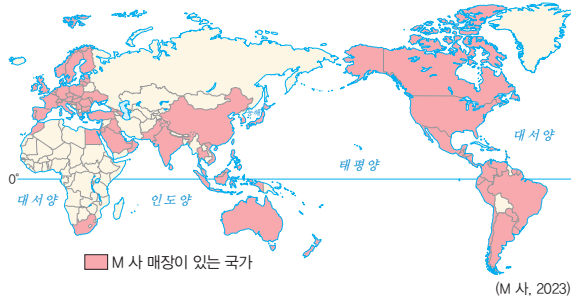
송크란 축제는 우기 직전인 4월에 열리는 축제로 서로에게 물을 뿌리며 더운 날씨를 식히고 서로에게 축복을 기원하는 축제이다.

- ① 미국 ② 타이 ③ 브라질
- ④ 프랑스 ⑤ 에스파냐

07 세계화가 지역에 미치는 긍정적인 영향으로 옳은 것은?

- ① 국가 간 경제적 격차가 작아진다.
- ② 기업 간 경쟁이 더욱 치열해져 경제적 격차가 커진다.
- ③ 지역 고유문화의 정체성 강화로 인해 문화가 다양해진다.
- ④ 전 세계의 문화가 비슷하게 형성되어 지역 고유문화가 사라지게 되었다.
- ⑤ 기업이 여러 국가에서 생산 및 판매가 가능해져 소비자에게 다양한 상품을 제공할 수 있다.

08 지도는 국가별 패스트푸드점 분포를 나타낸 것이다. 이를 보고 세계화의 영향을 추론한 내용으로 옳은 것은?



- ① 경제의 세계화만을 보여 주는 사례이다.
- ② 문화가 다양해져 지역의 전통 음식이 보존되고 있다.
- ③ 패스트푸드 매장의 증가로 문화 획일화 현상이 발생한다.
- ④ 세계 각국의 음식 문화가 서로 교류되어 전통 음식의 다양성이 증가한다.
- ⑤ 패스트푸드 매장의 증가로 고유문화의 정체성이 강화되고 전통 음식의 소비가 증가한다.

09 다음에서 설명하는 국가로 옳은 것은?

- 수도는 리야드이다.
- 이슬람교의 성지인 메카가 있다.
- 석유 자원을 바탕으로 다양한 산업 분야에 투자하고 있다.

- ① 중국 ② 필리핀
- ③ 베트남 ④ 아랍 에미리트
- ⑤ 사우디아라비아

10 ㉠에 들어갈 말로 옳은 것은?

수많은 지각판의 움직임에 따라 태평양 주변의 지진과 화산 활동이 자주 일어나는 지역을 띠 모양으로 묶을 수 있는데 이를 (㉠)이라고 한다.

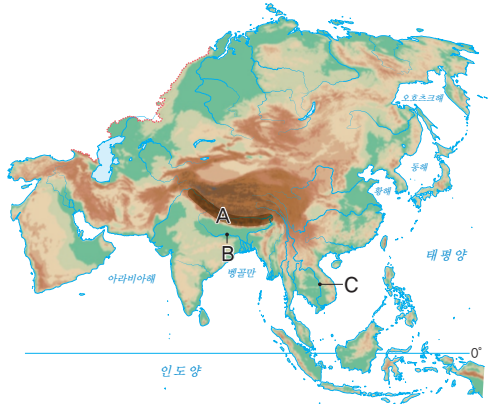
- ① 파미르고원 ② 히말라야산맥
- ③ 룬알할리 사막 ④ 환태평양 조산대
- ⑤ 티그리스-유프라테스강

11 지도의 A~E 국가에 대한 설명으로 옳지 않은 것은?



- ① A는 고임금 일자리가 있는 곳으로의 경제적 이동이 주로 나타난다.
- ② B는 세계에서 인구가 제일 많은 국가이다.
- ③ C는 과거에 '세계의 공장'이라고 불리며, 노동 집약적 제조업을 주도하였다.
- ④ D는 열대 기후로 인해 쌀을 바탕으로 하는 음식 문화가 주로 나타난다.
- ⑤ E는 크리스티교 종교 경관이 주로 나타난다.

12 지도는 아시아의 지형을 나타낸 것이다. 이에 대한 설명으로 옳은 것을 <보기>에서 고른 것은?



보기

- ㄱ. A에는 세계에서 가장 높은 산이 존재한다.
- ㄴ. B는 힌두교에서 성스럽게 여기는 하천이다.
- ㄷ. C는 세계 4대 문명을 이룩하였던 강이다.
- ㄹ. 아시아 지역에서 사막은 존재하지 않는다.

- ① ㄱ, ㄴ ② ㄱ, ㄷ ③ ㄴ, ㄷ
- ④ ㄴ, ㄹ ⑤ ㄷ, ㄹ

13 (가), (나) 경관이 나타나는 종교를 연결한 것으로 옳은 것은?



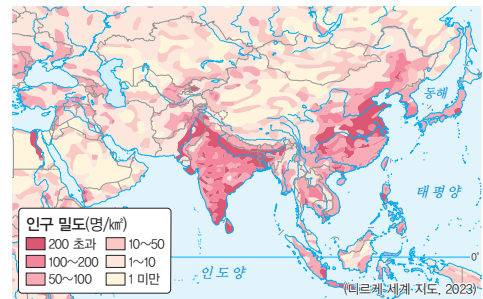
- | | |
|---------|-------|
| (가) | (나) |
| ① 힌두교 | 불교 |
| ② 힌두교 | 이슬람교 |
| ③ 이슬람교 | 불교 |
| ④ 이슬람교 | 크리스토교 |
| ⑤ 크리스토교 | 불교 |

14 다음은 인도네시아의 종교와 관련된 어느 해의 일부 공휴일을 나타낸 것이다. 이를 보고 추론한 내용으로 옳은 것은?

2월 8일	무함마드 승천일
3월 11일	힌두력의 새해 첫날
3월 29일	성 금요일
3월 31일	부활절
5월 23일	석가탄신일
7월 7일	이슬람교 신년

- ① 다양한 종교로 인한 갈등이 있음을 보여 주고 있다.
- ② 비슷한 사례를 보이는 지역으로 인도의 카슈미르가 있다.
- ③ 종교의 자유를 헌법에 기재하여 종교의 공존을 꾀하고 있다.
- ④ 타 종교를 존중하기 위해서는 종교 관련 공휴일을 모두 없애는 것이 바람직하다.
- ⑤ 종교별로 하나 이상의 공휴일을 지정해 종교가 조화롭게 공존하고 있음을 보여 주고 있다.

15 지도는 아시아의 인구 분포를 나타낸 것이다. 이에 대한 설명으로 옳지 않은 것은?



- ① 인도와 중국은 세계 인구수 1, 2위 국가이다.
- ② 아시아에서 인구가 가장 많은 지역은 남부 아시아이다.
- ③ 동아시아는 남부 아시아 다음으로 아시아에서 인구가 많다.
- ④ 서남아시아는 건조 기후의 영향으로 상대적으로 인구가 적다.
- ⑤ 동남아시아는 저출산·고령화로 인해 최근 인구가 점차 감소하고 있다.

16 다음은 아시아의 인구이동을 정리한 것이다. ㉠~㉣에 들어갈 말로 옳은 것은?

이동 유형	이동 특성
(㉠)	소득이 비교적 낮고 고용 기회가 적은 곳 → 고임금 일자리가 있는 곳
(㉣)	내전 등 정치적인 이유로 (㉡)의 이 동이 발생

- | | | |
|----------|--------|-----|
| ㉠ | ㉡ | ㉢ |
| ① 경제적 이동 | 정치적 이동 | 난민 |
| ② 경제적 이동 | 종교적 이동 | 이주민 |
| ③ 정치적 이동 | 종교적 이동 | 난민 |
| ④ 정치적 이동 | 경제적 이동 | 이주민 |
| ⑤ 종교적 이동 | 경제적 이동 | 난민 |

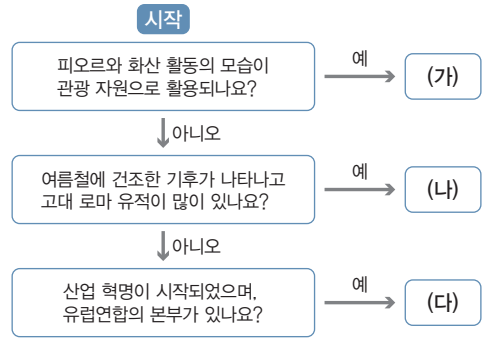
17 아시아의 산업 특징에 대한 설명으로 옳지 않은 것은?

- ① 우리나라, 일본은 첨단 산업에 많은 투자를 하고 있다.
- ② 노동 집약적 제조업은 고임금 노동력이 풍부한 곳으로 이전하고 있다.
- ③ 서남아시아는 석유 자본을 바탕으로 산업의 다양화를 추진하고 있다.
- ④ 아시아의 국가들은 산업화 시기와 발달 과정이 서로 달라 산업 구조에서 차이가 있다.
- ⑤ 아시아는 천연자원 생산, 제조업, 첨단 산업 및 문화 산업 전반에 걸쳐 산업이 발달하였다.

18 아시아의 산업 변화가 우리나라 산업에 미치는 영향에 대한 설명으로 옳지 않은 것은?


- ① 일본, 중국, 인도와의 경쟁과 협력을 통해 첨단 산업이 성장하고 있다.
- ② 아시아의 첨단 산업 발전으로 우리나라 기업의 기술 혁신에 영향을 주었다.
- ③ 아시아의 문화 산업 성장으로 우리나라를 방문하는 관광객이 증가하였다.
- ④ 우리나라 기업은 저임금 노동력이 풍부한 서남아시아에 생산 공장을 세웠다.
- ⑤ 서남아시아의 관광, 제조업 등에 필요한 기반 시설 구축에 우리나라 기업이 많이 참여하였다.

19 (가)~(다)에 들어갈 유럽의 지역으로 옳은 것은?



- | | | |
|---------|-------|-------|
| (가) | (나) | (다) |
| ① 남부 유럽 | 북부 유럽 | 서부 유럽 |
| ② 북부 유럽 | 남부 유럽 | 서부 유럽 |
| ③ 북부 유럽 | 서부 유럽 | 남부 유럽 |
| ④ 서부 유럽 | 남부 유럽 | 북부 유럽 |
| ⑤ 서부 유럽 | 북부 유럽 | 남부 유럽 |

20 그림과 같은 현상을 볼 수 있는 지역에 대한 설명으로 옳은 것을 <보기>에서 고른 것은?

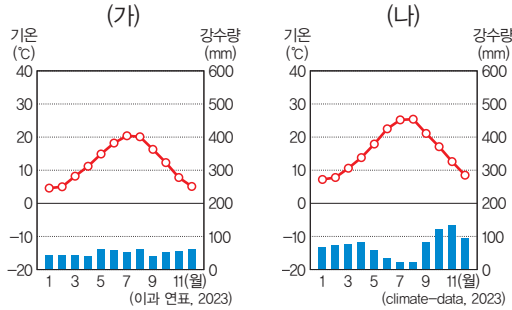


보기

- ㄱ. 여름철에 수목 농업이 이루어진다.
- ㄴ. 겨울철 밤에 오로라 현상을 관찰할 수 있다.
- ㄷ. 냉대 기후 또는 한대 기후가 주로 나타난다.
- ㄹ. 여름철에 지중해 연안의 국가에서 위 현상을 흔히 볼 수 있다.

- | | | |
|--------|--------|--------|
| ① ㄱ, ㄴ | ② ㄱ, ㄷ | ③ ㄴ, ㄷ |
| ④ ㄴ, ㄹ | ⑤ ㄷ, ㄹ | |

21 지도는 (가), (나) 기후 그래프가 나타나는 두 지역을 표시한 것이다. (가), (나) 지역에 대한 설명으로 옳은 것은?



- ① (나) 지역에는 템스강이 흐른다.
- ② (가) 지역은 (나) 지역보다 여름 기온이 높다.
- ③ (가) 지역은 (나) 지역보다 연 강수량에서 여름 강수량이 차지하는 비율이 높다.
- ④ (나) 지역은 서부 유럽, (가) 지역은 남부 유럽에 속한다.
- ⑤ (나) 지역은 (가) 지역보다 대서양과의 최단 거리가 가깝다.

22 사진은 유럽에서 나타나는 농업 경관이다. (가), (나) 농업이 이루어지는 대표적인 국가로 옳은 것은?



- | | |
|--------|------|
| (가) | (나) |
| ① 독일 | 영국 |
| ② 영국 | 독일 |
| ③ 영국 | 에스파냐 |
| ④ 에스파냐 | 독일 |
| ⑤ 에스파냐 | 영국 |

23 다음에서 설명하는 국가로 옳은 것은?

- 서부 유럽에 위치한다.
 - 수도에는 빅벤, 버킹엄 궁전 등이 있다.
 - 북부 지역 주민들은 분리·독립을 주장하고 있다.
 - 세계 시간대의 기준이 되는 본초 자오선이 지난다.
- ① 독일 ② 영국 ③ 프랑스
 ④ 벨기에 ⑤ 네덜란드

24 유럽의 다양한 도시에 대한 설명으로 옳지 않은 것은?

- ① 파리는 예술 및 문화적 특징이 강한 세계 도시이다.
- ② 빈은 많은 음악가의 흔적을 가지고 있는 문화 도시이다.
- ③ 베네치아는 세계 3대 영화제가 개최되는 축제의 도시이다.
- ④ 빌바오는 산업 쇠퇴 후 도시 재생을 통해 새롭게 변화한 관광 도시이다.
- ⑤ 맨체스터는 석탄을 기반으로 제조업이 빠르게 성장하고 있는 산업 도시이다.

25 ㉠, ㉡에 들어갈 도시로 옳은 것은?

유럽에는 독특한 자연 경관을 관광 자원으로 활용하는 도시가 많다. 알프스 산지의 아름다운 풍경과 만년설을 볼 수 있는 (㉠), 지중해 해변에서 푸른 바다와 시원한 바람을 즐길 수 있는 (㉡) 등은 많은 사람이 찾는 대표적인 휴양 도시이다.

- | | |
|---------|-------|
| (가) | (나) |
| ① 니스 | 인터라켄 |
| ② 니스 | 레이카비크 |
| ③ 인터라켄 | 니스 |
| ④ 인터라켄 | 레이카비크 |
| ⑤ 레이카비크 | 니스 |

26 다음은 2023년 기준 유럽연합의 회원국 현황을 나타낸 것이다. 이에 대한 설명으로 옳지 않은 것은? (단, (가), (나)는 각각 최초 회원국, 추가 가입한 회원국 중 하나임.)

국가군	주요 국가
(가)	벨기에, 독일, 프랑스 등 12개국
(나)	핀란드, 루마니아, 그리스, (㉠) 등
비회원국	스위스, 아이슬란드, 노르웨이, (㉡) 등

- ① (가)는 (나)보다 국가 수가 많다.
- ② (가)는 (나)보다 가입 시기가 이른다.
- ③ ㉠에는 주로 동부 유럽 국가들이 포함된다.
- ④ ㉡에는 영국이 들어갈 수 있다.
- ⑤ 유럽연합의 본부는 (가)에 속한 국가의 수도에 있다.

27 지도는 유럽의 분리·독립 움직임이 있는 지역을 나타낸 것이다. A~D 지역에 대한 설명으로 옳은 것을 <보기>에서 고른 것은?



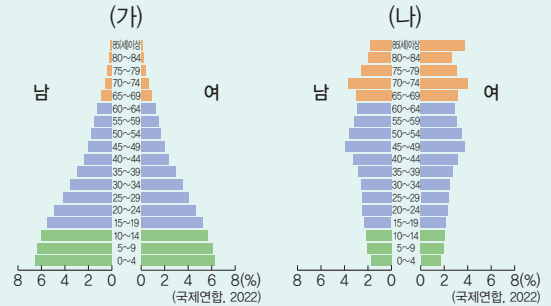
보기

- ㄱ. A 지역이 분리·독립을 요구하는 이유는 주로 종교 차이 때문이다.
- ㄴ. B 지역의 주민들은 대부분 네덜란드어 사용한다.
- ㄷ. C 지역은 독자적인 언어가 없으며, 에스파냐어를 주로 사용한다.
- ㄹ. B, C, D 지역은 모두 자국 내 다른 지역보다 경제적 수준이 높다.

- ① ㄱ, ㄴ ② ㄱ, ㄷ ③ ㄴ, ㄷ
- ④ ㄴ, ㄹ ⑤ ㄷ, ㄹ

서술형 문제

28 그래프는 아시아에 있는 두 국가의 인구 구조를 보여 주는 인구 피라미드이다. 이를 보고 물음에 답하시오.



(1) (가), (나) 인구 피라미드가 나타나는 국가를 한 가지 이상 쓰시오.

(가): _____ (나): _____

(2) (가), (나) 인구 피라미드가 나타나는 지역의 인구 특징을 서술하시오.

29 다음 글을 읽고 물음에 답하시오.

유럽에는 해안과 내륙 등에 위치한 약 50개의 국가가 있다. 이 중에는 ㉠ 대서양과 지중해 연안 모두에 접해 있는 국가도 있다. 한편 유럽은 거대하고 웅장한 빙하 지형, 살아있는 지구를 눈앞에서 확인할 수 있는 화산 지형, ㉡ 신비로운 오로라 등 국가마다 가지고 있는 독특한 자연환경을 관광 자원으로 활용한다.

(1) ㉠에 해당하는 국가를 한 가지 이상 쓰시오.

(2) ㉡을 볼 수 있는 국가와 그 이유를 서술하시오.

01 ㉠~㉣에 들어갈 말로 옳은 것은?

아프리카는 사하라 사막을 기준으로 북쪽과 남쪽이 기후와 종교적으로 큰 차이가 있다. 북쪽은 건조 기후와 (㉠)의 영향이 크며, 남쪽은 열대 기후와 (㉡)의 영향이 크다. 한편 아프리카에는 남북에 공통적으로 (㉢)도 나타나는데, 북쪽과 남쪽의 해안 지역을 중심으로 여름철이 건조한 (㉣)가 나타나며 올리브, 포도 등을 재배하는 수목 농업이 이루어진다.

- | | | | |
|---------|-------|-------|---|
| | ㉠ | ㉡ | ㉢ |
| ① 이슬람교 | 토속 신앙 | 고산 기후 | |
| ② 이슬람교 | 크리스트교 | 고산 기후 | |
| ③ 이슬람교 | 크리스트교 | 온대 기후 | |
| ④ 크리스트교 | 이슬람교 | 고산 기후 | |
| ⑤ 크리스트교 | 이슬람교 | 온대 기후 | |

03 아프리카의 자연환경에 대한 설명으로 옳은 것을 <보기>에서 고른 것은?

보기

- ㄱ. 아프리카에서 가장 긴 하천은 대서양으로 흘러간다.
- ㄴ. 드라켄즈버그산맥은 아틀라스산맥보다 높고 험준하다.
- ㄷ. 아프리카에서 해발 고도가 가장 높은 산은 화산 활동으로 형성되었다.
- ㄹ. 북부 아프리카에서 건조 기후 지역은 온대 기후 지역보다 범위가 넓다.

- | | | |
|--------|--------|--------|
| ① ㄱ, ㄴ | ② ㄱ, ㄷ | ③ ㄴ, ㄷ |
| ④ ㄴ, ㄹ | ⑤ ㄷ, ㄹ | |

04 사진과 같은 경관을 볼 수 있는 국가로 옳은 것은?



▲ 거대한 바오바브나무

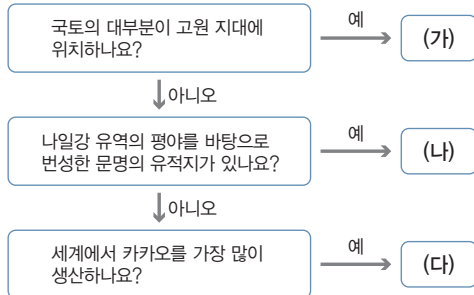


▲ 벼농사를 하는 사람들

- | | |
|-------------|----------|
| ① 말리 | ② 알제리 |
| ③ 나이지리아 | ④ 마다가스카르 |
| ⑤ 남아프리카 공화국 | |

02 (가)~(다)에 들어갈 아프리카의 국가로 옳은 것은?

시작



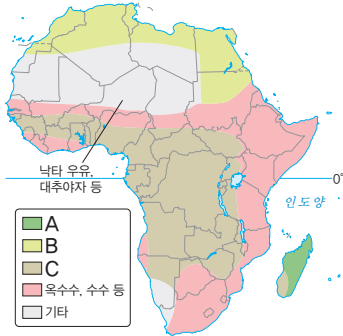
- | | | | |
|----------|--------|--------|-----|
| | (가) | (나) | (다) |
| ① 이집트 | 에티오피아 | 코트디부아르 | |
| ② 이집트 | 코트디부아르 | 에티오피아 | |
| ③ 에티오피아 | 이집트 | 코트디부아르 | |
| ④ 에티오피아 | 코트디부아르 | 이집트 | |
| ⑤ 코트디부아르 | 에티오피아 | 이집트 | |

05 ㉠, ㉡에 들어갈 작물로 옳은 것은?

아프리카의 열대 기후 지역에서는 전통적으로 삼림을 불태워 경지를 조성한 후 (㉠) 등을 재배하다가 토양이 황폐해지면 다른 지역으로 이동하여 같은 방식으로 농사를 지었다. 또한 선진국의 기술과 자본과 현지의 저임금 노동력을 활용하여 (㉡)와 같은 작물을 재배하고 있다.

- | | | | |
|-------|-----|-------|-----|
| ㉠ | ㉡ | ㉠ | ㉡ |
| ① 감자 | 카카오 | ② 커피 | 카사바 |
| ③ 옥수수 | 카사바 | ④ 카사바 | 옥수수 |
| ⑤ 카카오 | 감자 | | |

06 지도는 아프리카의 지역별 주요 주식의 재료를 나타낸 것이다. A~C에 대한 설명으로 옳은 것을 <보기>에서 고른 것은? (단, A~C는 각각 밀, 쌀, 감자와 카사바 중 하나임.)



보기

- ㄱ. A는 주로 빵의 재료로 이용된다.
- ㄴ. C는 주로 이동식 화전 농업 방식으로 재배된다.
- ㄷ. B는 A보다 재배 과정에서 물을 많이 소비한다.
- ㄹ. A, B는 열매, C는 뿌리를 주식 재료로 이용한다.

- ① ㄱ, ㄴ ② ㄱ, ㄷ ③ ㄴ, ㄷ
- ④ ㄴ, ㄹ ⑤ ㄷ, ㄹ

07 다음에서 설명하는 국가로 옳은 것은?

- 서부 아프리카에 속한다.
- 대서양 연안에 위치하고 있다.
- K-라이스 벨트가 추진되고 있다.
- 그레이트 그린 월(Great Green Wall) 프로젝트에 참여하여 숲이 복원되고 있다.

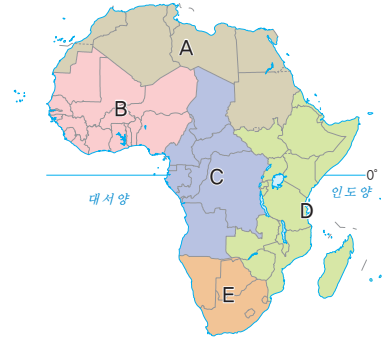
- ① 수단 ② 말리 ③ 니제르
- ④ 모로코 ⑤ 세네갈

08 지속가능한 발전을 위한 아프리카의 주체적 노력으로 옳지 않은 것은?

- ① 불공정 무역 구조를 개선하기 위한 움직임이 있다.
- ② 신재생 에너지 보급을 확대하면서 기후변화에 대응하고 있다.
- ③ 교육, 의료 등 다양한 부분에서 공적 개발 원조가 이루어지고 있다.
- ④ 생태적으로 중요한 가치가 있는 지역은 국립 공원을 지정하여 관리하고 있다.
- ⑤ 어젠다 2063 프로젝트를 추진하면서 지속가능한 발전을 위한 노력을 하고 있다.

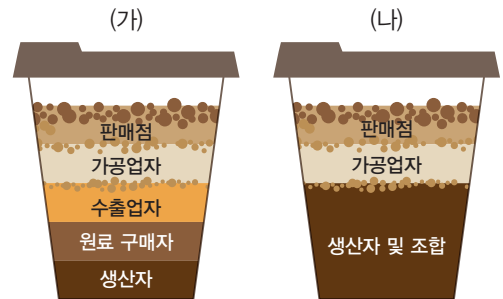
09 ㉠~㉥에 들어갈 지역을 지도의 A~E에서 고른 것은?

잠비아, 콩고 민주 공화국 일대에는 세계적인 생산량을 자랑하는 구리 광산이 있고, (㉠)의 리비아, (㉡)의 나이지리아 등에는 석유가 풍부하게 매장되어 있다. (㉢)의 고원 지역에서는 커피, (㉣)의 기니만 연안에서는 초콜릿의 원료인 카카오 등 상품 작물 재배가 활발하다.



- | | | | | | |
|-----|---|---|-----|---|---|
| ㉠ | ㉡ | ㉢ | ㉣ | ㉤ | |
| ① A | B | D | ② A | C | D |
| ③ B | A | E | ④ B | C | E |
| ⑤ C | D | E | | | |

10 그림은 커피의 생산과 판매 과정을 통한 이익 배분 구조를 나타낸 것이다. 이에 대한 설명으로 옳은 것을 <보기>에서 고른 것은? (단, (가), (나)는 각각 일반 커피, 공정 무역 커피 중 하나임.)



보기

- ㄱ. (나)는 (가)보다 유통 구조가 복잡하다.
- ㄴ. (나)는 (가)보다 거래되는 커피의 양이 많다.
- ㄷ. (나)는 (가)보다 생산자에게 더 많은 이익을 가져다 준다.
- ㄹ. 아프리카의 지속가능한 발전을 위해서는 (가)보다 (나)의 사례가 권장되어야 한다.

- ① ㄱ, ㄴ ② ㄱ, ㄷ ③ ㄴ, ㄷ
- ④ ㄴ, ㄹ ⑤ ㄷ, ㄹ

11 아메리카의 위치에 대한 설명으로 옳은 것은?

- ① 우리나라와 계절이 반대이다.
- ② 대부분 남반구에 위치하고 있다.
- ③ 남북보다 동서로 길게 늘어져 있는 대륙이다.
- ④ 서쪽으로 대서양, 동쪽으로 태평양과 접하고 있다.
- ⑤ 지리적으로 북아메리카와 남아메리카로 구분한다.

12 지도는 아메리카의 지역 구분을 나타낸 것이다. A, B에 들어갈 내용으로 옳은 것은?



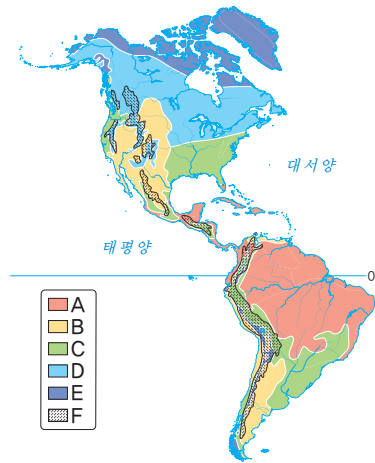
- | A | B |
|----------|--------|
| ① 미시시피강 | 아마존강 |
| ② 미시시피강 | 파나마 지협 |
| ③ 파나마 지협 | 리오그란데강 |
| ④ 리오그란데강 | 아마존강 |
| ⑤ 리오그란데강 | 파나마 지협 |

13 남아메리카에 위치하는 도시로 옳지 않은 것은?

- ① 키토
- ② 보고타
- ③ 멕시코시티
- ④ 리우데자네이루
- ⑤ 부에노스아이레스

14 (가), (나)에 해당하는 지역을 지도의 A~F에서 고른 것은?

- (가) 연중 기온이 온화하며, 원주민들은 야마와 알파카 털로 짠 망토를 돌려 기온이 낮아지는 밤에 보온용으로 사용하기도 한다.
- (나) 연중 기온이 높고 강수량이 많으며, 세계 최대의 열대 우림이 분포한다.



- | | (가) | (나) |
|---|-----|-----|
| ① | A | C |
| ② | B | F |
| ③ | C | D |
| ④ | D | E |
| ⑤ | F | A |

15 (가), (나)에 해당하는 지형을 지도의 A~E에서 고른 것은?

- (가) 밀과 옥수수를 비롯한 농산물의 생산량이 매우 많으며, 대규모 목축업이 발달하였다.
- (나) 오랜 기간 침식을 받아 비교적 낮고 완만한 산맥이다.

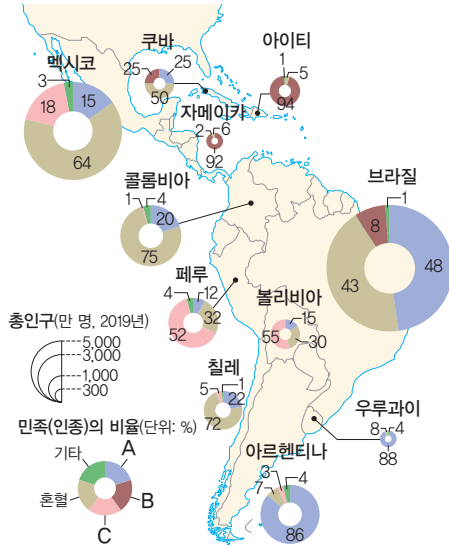


- | | (가) | (나) |
|---|-----|-----|
| ① | B | A |
| ② | B | C |
| ③ | B | E |
| ④ | D | A |
| ⑤ | D | C |

16 앵글로아메리카 민족(인종)에 대한 설명으로 옳은 것은?

- ① 미국은 아프리카계 인구 비율이 가장 높다.
- ② 캐나다의 퀘벡주는 프랑스계 주민 비율이 높다.
- ③ 캐나다는 전체 인구 중 절반 이상이 원주민이다.
- ④ 미국의 원주민은 백인 다음으로 인구 비율이 높게 나타난다.
- ⑤ 미국의 아프리카계는 과거 일자리를 찾아온 이주민들이 대부분이다.

17 지도는 라틴 아메리카의 민족(인종) 구성을 나타낸 것이다. A~C 민족(인종)에 대한 설명으로 옳은 것을 <보기>에서 고른 것은?



보기

- ㄱ. A는 원주민과 유럽계 간의 혼혈인이다.
- ㄴ. B는 미국에서 유럽계, 히스패닉 다음으로 인구 비율이 높다.
- ㄷ. B는 노동력을 충당하기 위해 아프리카로부터 강제 이주되었다.
- ㄹ. C는 주로 일자리를 찾기 위해 이주하였다.

- ① ㄱ, ㄴ ② ㄱ, ㄷ ③ ㄴ, ㄷ
- ④ ㄴ, ㄹ ⑤ ㄷ, ㄹ

18 초국적 기업의 특징에 대한 설명으로 옳지 않은 것은?

- ① 세계 무역 기구(WTO)의 등장이 영향을 주었다.
- ② 초국적 기업의 본사와 자회사는 수직적으로 연결되어 있다.
- ③ 경영 효율성과 이윤을 높이기 위해 공간적 분업이 나타난다.
- ④ 미국에는 세계 주요 초국적 기업의 본사가 가장 많이 입지하였다.
- ⑤ 국가 간 교류가 늘어나면서 생산과 소비 활동의 범위가 확대되어 발달하였다.

19 ㉠에 들어갈 말로 옳은 것은?

초국적 기업은 이윤을 최대한 창출하기 위해 기업의 기획·관리·연구·생산·판매 등의 기능을 기업 활동에 도움이 되는 최적의 지역에 분산하여 배치하는데, 이를 (㉠) (이)라고 한다.



- ① 공간적 분업 ② 집적의 불이익
- ③ 첨단 산업의 입지 ④ 최소 운송비 입지
- ⑤ 공업의 입지와 요인

20 초국적 기업이 해외로 이전하는 이유로 옳은 것을 <보기>에서 고른 것은?

보기

- ㄱ. 생산 비용 절감 ㄴ. 고급 기술 이전
- ㄷ. 상품 판매 시장 확보 ㄹ. 자국 보호 무역의 확대

- ① ㄱ, ㄴ ② ㄱ, ㄷ ③ ㄴ, ㄷ
- ④ ㄴ, ㄹ ⑤ ㄷ, ㄹ

21 오세아니아에 위치하는 국가만을 <보기>에서 있는 대로 고른 것은?

보기

- ㄱ. 피지 ㄴ. 투발루
- ㄷ. 뉴질랜드 ㄹ. 솔로몬 제도

- ① ㄱ, ㄴ ② ㄱ, ㄷ ③ ㄱ, ㄴ, ㄷ
- ④ ㄴ, ㄷ, ㄹ ⑤ ㄱ, ㄴ, ㄷ, ㄹ

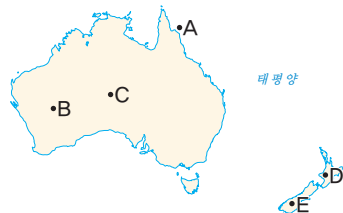
22 오세아니아의 기후에 대한 설명으로 옳지 않은 것은?

- ① 뉴질랜드의 북섬은 대부분 온대 기후가 나타난다.
- ② 뉴질랜드의 남섬은 대부분 한대 기후가 나타난다.
- ③ 오스트레일리아의 서부 지역에는 건조 기후가 나타난다.
- ④ 적도와 가까운 오스트레일리아의 북부 지역에는 열대 기후가 나타난다.
- ⑤ 오스트레일리아의 남동부 지역에는 온대 기후가 나타나 대도시가 발달하였다.

23 사진과 같은 지형을 볼 수 있는 지역을 지도의 A~E에서 고른 것은?



▲ 와이망구 화산 계곡



- ① A ② B ③ C ④ D ⑤ E

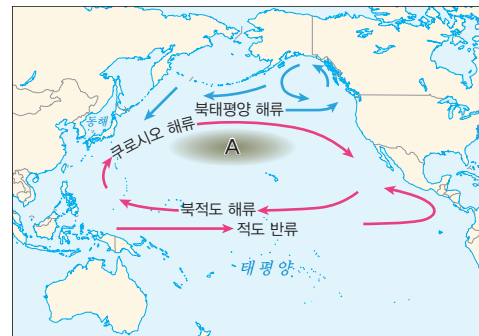
24 오스트레일리아의 세계 다른 지역과의 상호연계성에 대한 설명으로 옳은 것만을 <보기>에서 있는 대로 고른 것은?

보기

- ㄱ. 원활한 무역을 위한 자유 무역 협정 체결을 추진하고 있다.
- ㄴ. 철광석, 석탄, 금 등 지하자원이 풍부하여 광물 수출이 활발하다.
- ㄷ. 높은 기술력을 바탕으로 제조업이 발달하여 공산품을 수출하고 있다.
- ㄹ. 과거 영국과의 교류가 활발하였지만, 최근 지리적으로 인접한 아시아 국가와의 교류가 활발하다.

- ① ㄱ, ㄴ ② ㄴ, ㄷ ③ ㄱ, ㄴ, ㄹ
- ④ ㄴ, ㄷ, ㄹ ⑤ ㄱ, ㄴ, ㄷ, ㄹ

25 지도의 A로 인한 문제로 옳은 것을 <보기>에서 고른 것은?



보기

- ㄱ. 해양 생물을 위협한다.
- ㄴ. 인간의 식탁을 위협할 수 있다.
- ㄷ. 해수면 상승으로 저지대가 침수된다.
- ㄹ. 자외선의 양이 증가하여 피부병이 발생한다.

- ① ㄱ, ㄴ ② ㄱ, ㄷ ③ ㄴ, ㄷ
- ④ ㄴ, ㄹ ⑤ ㄷ, ㄹ

26 (가), (나)에 해당하는 태평양 지역의 환경 문제로 옳은 것은?

구분	(가)	(나)
국제 사회의 노력	온실가스를 단계적으로 감축하기 위한 국제 협약 체결 예) 파리 협정	플라스틱이 유발하는 환경 오염 방지를 위한 플라스틱 규제 국제 협약 마련
국가 및 기업의 노력	• 탄소중립 정책 • 신재생 에너지 보급 확대	• 해양 폐기물 관련 법 제정 • 플라스틱 사용을 줄이기 위한 플라스틱세 부과
개인의 노력	• 에너지 절약 • 대중교통 이용 • 저탄소 제품 구매하기	• 쓰레기 줄기 • 장바구니, 다회용 컵 사용하기

- | | (가) | (나) |
|---|--------|--------|
| ① | 산성비 | 해양 쓰레기 |
| ② | 산성비 | 해수면 상승 |
| ③ | 해수면 상승 | 해양 쓰레기 |
| ④ | 해양 쓰레기 | 해수면 상승 |
| ⑤ | 오존층 파괴 | 해수면 상승 |

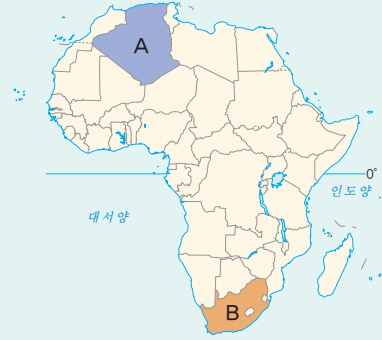
27 다음 설명과 같이 북극해 주변 국가들이 영유권을 주장하는 이유로 옳지 않은 것은?

‘인류 공동의 자산’이라는 북극해를 두고 지도가 새로 그려지고 있다. 캐나다와 덴마크, 러시아가 북극해 영유권을 주장하고 있으며, 중국도 북극해에 투자하고 있다. 수백만 년간 인간을 거부하면서 ‘평화의 바다’였던 북극해가 영유권 주장으로 뜨거워지고 있다.

- ① 풍부한 삼림자원의 확보
- ② 주변 해역의 풍부한 수산 자원
- ③ 해양 생태 및 환경 연구를 위한 장소
- ④ 막대한 양의 화석 연료와 광물 자원 매장
- ⑤ 항공 교통 및 아시아와 유럽을 잇는 해운 교통의 이점

서술형 문제

28 지도를 보고 물음에 답하십시오.

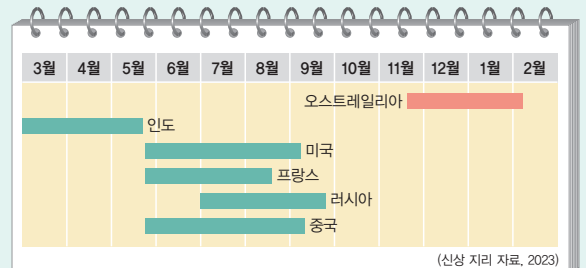


(1) A, B 국가를 쓰시오.

A : _____ B : _____

(2) A, B 국가에서 나타나는 기후의 공통점과 종교의 차이점을 서술하십시오.

29 다음은 여러 국가의 밀 수확 시기를 나타낸 것이다. 다른 국가와 오스트레일리아의 밀 수확 시기가 다른 이유와 수확 시기가 달라 유리한 점을 서술하십시오.



01 사회화의 기능 (가)~(라)를 개인적 측면과 사회적 측면으로 옳게 분류한 것은?

(가) 사회를 유지하고 발전시킨다.
 (나) 자신만의 독특한 개성과 자아를 형성한다.
 (다) 상호 작용을 통해 필요한 행동 양식을 익힌다.
 (라) 문화적 가치 등을 학습하게 하여 다음 세대로 전달한다.

- | 개인적 측면 | 사회적 측면 |
|------------|----------|
| ① (가), (나) | (다), (라) |
| ② (가), (다) | (나), (라) |
| ③ (나), (다) | (가), (라) |
| ④ (나), (라) | (가), (다) |
| ⑤ (다), (라) | (가), (나) |

02 자아 정체성에 대한 설명으로 옳은 것은?

- ① 한번 형성된 이후에는 변하지 않는다.
- ② 대중 매체와 달리 또래 집단에 의해 형성된다.
- ③ 후천적으로 형성되지 않고 선천적으로 결정된다.
- ④ 다른 사람의 반응과 평가가 형성 과정에 영향을 줄 수 있다.
- ⑤ 청소년기에 형성된 자아 정체성은 성인기에 영향을 미치지 못한다.

03 ㉠에 들어갈 사회학적 개념은?

인간은 혼자서 살아갈 수 없으므로 다양한 사회적 관계를 맺으며 살아간다. 이 과정에서 개인은 여러 집단이나 사회 속에서 일정한 위치를 차지한다. 이처럼 한 개인이 자신이 속한 집단 내에서 차지하는 사회적 위치를 (㉠)이라고 한다.

- | | |
|---------|--------|
| ① 지위 | ② 역할 |
| ③ 사회화 | ④ 재사회화 |
| ⑤ 사회 집단 | |

04 ㉡에 들어갈 내용으로 가장 적절한 것은?

개인이 사회적 지위에 따른 역할을 제대로 수행한 경우에는 보상을 받을 수 있지만, 제대로 수행하지 못한 경우에는 제재를 받는다. 이러한 이유는 사회적 지위에 따른 역할을 수행하는 방식이 (㉡) 때문이다.

- ① 모두 같기
- ② 개인마다 다르기
- ③ 사회에 따라 변화하였기
- ④ 사회화를 통해 학습되기
- ⑤ 자아 정체성에 따라 같은 모습으로 나타나기

05 교사의 질문에 대한 답변으로 가장 적절한 것은?

교사: 현대 사회에서는 역할 갈등이 많이 발생합니다. 역할 갈등과 이에 대한 해결 방안을 설명해 볼까요?

- ① 역할 갈등은 사회 제도를 통해 해결할 수 없습니다.
- ② 하나의 지위에 대해서는 역할 갈등이 나타나지 않습니다.
- ③ 개인의 역할 갈등으로 인해 사회 혼란이 발생하지는 않습니다.
- ④ 현대 사회와 달리 전통 사회에서는 역할 갈등을 겪는 사람이 없었습니다.
- ⑤ 자신의 가치관에 따라 역할의 우선순위를 정하고 차례로 수행하면 역할 갈등을 해결할 수 있습니다.

06 사회적 갈등에 대한 설명으로 옳은 것은?

- ① 계층 간에는 갈등이 발생하지 않는다.
- ② 사회가 다원화되면 사회적 갈등은 감소한다.
- ③ 다양한 이해관계가 충돌하여 나타날 수 있다.
- ④ 서로 다른 정치적 신념은 사회적 갈등에 영향을 주지 않는다.
- ⑤ 사회의 가치를 하나로 통일하는 것이 근본적인 해결 방안이다.

07 다음과 같은 현상에 관한 설명으로 옳은 것은?

- 성차별
- 학력 차별
- 장애인 차별

- ① 차이에 대한 배려로 인해 발생한다.
- ② 고정 관념이 아닌 편견에 의해 발생한다.
- ③ 인권 침해와 사회 혼란을 유발할 수 있다.
- ④ 개인 간의 합당한 차이에 따른 대우를 의미한다.
- ⑤ 개인 간의 차이를 인정하지 않는 법 제정이 해결 방안이다.

08 문화에 해당하는 행동을 경험하지 않은 사람은?

- ① 갑: 나는 설날에 한복 입고 세배를 했어.
- ② 을: 나는 감기에 걸려 재채기와 기침을 했어.
- ③ 병: 나는 지난 광복절에 태극기를 문 앞에 달았어.
- ④ 정: 나는 추석에 어머니께 송편 빚는 방법을 배웠어.
- ⑤ 무: 나는 미국 여행 기간 동안 식당에서 음식값과 함께 봉사료를 지불했어.

09 문화의 의미와 특징에 관한 질문에 모두 옳은 답변을 한 학생은?

질문	갑	을	병	정	무
문화는 사회에 따라 독특한 모습으로 나타나는가?	○	○	○	○	×
문화는 인간이 환경에 적응하는 과정에서 형성되는가?	○	○	○	×	×
문화의 구성 요소들은 서로 영향을 주는가?	○	○	×	×	×
문화는 시대 변화에 따라 변동하는가?	○	×	×	×	×

(○: 예, ×: 아니요)

- ① 갑 ② 을 ③ 병 ④ 정 ⑤ 무

10 다음 사례에 부각되어 있는 문화의 속성에 대한 설명으로 옳은 것은?

갑국에서의 '○○ 데이'는 갑국 여러 기업의 마케팅과 사람들의 놀이 문화가 결합하여 생겨났다.

- ① 문화는 시간의 흐름에 따라 변화한다.
- ② 인간의 행동은 사회적 환경에 따라 달라진다.
- ③ 한 사회의 구성원들은 그 사회의 문화를 공유한다.
- ④ 문화는 새로운 문화 요소가 추가되어 점점 더 풍부해진다.
- ⑤ 문화를 구성하는 여러 부분들은 서로 밀접하게 연결되어 있다.

11 (가), (나)에 대한 설명으로 옳은 것은?

(가) 갑은 사회 관계망 서비스(SNS)를 통해 학급 친구들과 학교 소식을 주고 받는다.
 (나) 을은 텔레비전에서 방송하는 뉴스를 보고 하루 동안 발생한 다양한 사건을 알게 된다.

- ① (가)에서는 일방향으로 정보를 제공하는 미디어가 나타난다.
- ② (나)에서는 일부 특정 계층만을 위한 미디어가 나타난다.
- ③ (가)에서 나타나는 미디어는 (나)에서 나타나는 미디어보다 정보 제공 속도가 빠르다.
- ④ (나)에서는 (가)와 달리 미디어에 의한 정보 제공 내용이 나타나지 않는다.
- ⑤ (가), (나) 모두에서 정보 생산자와 소비자의 경계가 명확한 미디어가 나타난다.

12 밑줄 친 ㉠, ㉡에 대한 설명으로 옳은 것은?

사람들은 ㉠ 뉴 미디어의 등장으로 ㉡ 전통적인 미디어의 영향력이 약화될 것이라 생각한다. 하지만 전통적인 미디어는 사람들이 가만히 있어도 정보를 제공하지만, 뉴 미디어는 사람들이 정보를 찾아내야 하므로 전통적인 미디어의 영향력이 아직 크다.

- ① ㉠은 쌍방향적 정보 제공이 가능하다.
- ② ㉠은 정보 소비자와 생산자의 경계가 명확하다.
- ③ ㉡의 예로 동영상 공유 플랫폼을 들 수 있다.
- ④ ㉡은 정보 제공의 시공간적 제약이 없다.
- ⑤ ㉠은 ㉡보다 정보 전달 속도가 느리다.

13 다음 글을 통해 도출할 수 있는 미디어의 기능으로 가장 적절한 것은?

○○ 지역에서는 노숙자 문제가 10년 이상 지속되었다. 하지만 어디에서도 이 문제에 관심이 없었는데, 1인 미디어부터 지역 언론사까지 노숙자 문제의 원인과 해결 방안 등을 9개월 동안 지속적으로 다루기 시작하였다. 이후 지역의 한 기업이 노숙자 보호소 건립 기금을 내고, 지방 자치 단체에서도 노숙자 문제 해결을 위한 다양한 방안을 제시하면서 변화가 나타나기 시작하였다.

- ① 여가 활동의 기회를 제공한다.
- ② 사회문제에 대한 관심을 이끌어 낸다.
- ③ 지배 집단을 옹호하는 가치를 전달한다.
- ④ 사람들의 지적 수준을 높여 여론을 조작한다.
- ⑤ 사람들이 쉽게 다양한 문화를 접할 수 있도록 한다.

14 다음 글에 대한 설명으로 옳은 것을 <보기>에서 고른 것은?

문화 이해 태도 A는 자문화를 우수하다고 보고 다른 사회의 문화를 부정적으로 평가하는 태도이다. 이 태도는 자기 문화에 대한 자부심을 강화할 수 있는 반면, 지나칠 경우 (㉠)는 비판을 받는다.

보기

- ㄱ. A는 문화의 우열을 평가할 수 있다고 본다.
- ㄴ. A는 타 문화에 대한 맥락적 이해를 강조한다.
- ㄷ. ㉠에는 '문화 제국주의를 정당화한다'가 들어갈 수 있다.
- ㄹ. ㉠에는 '타 문화를 무비판적으로 수용한다'가 들어갈 수 있다.

- ① ㄱ, ㄴ ② ㄱ, ㄷ ③ ㄴ, ㄷ
- ④ ㄴ, ㄹ ⑤ ㄷ, ㄹ

15 문화 이해 태도 A~C에 대한 설명으로 옳은 것은?

A와 B는 C와 달리 문화 간 우열이 존재한다고 본다. 그리고 A는 B, C와 달리 다른 사회의 문화에 대해 배타적 태도를 취할 가능성이 높다.

- ① A는 타 문화 수용에 적극적이다.
- ② B는 자문화를 다른 사회에 이식하는 것을 당연시한다.
- ③ C는 타 문화와 마찰을 일으킬 가능성이 높다.
- ④ B는 C와 달리 문화 다양성 보존에 이바지한다.
- ⑤ A는 B, C와 달리 국수주의를 초래할 우려가 있다.

16 글쓴이가 가진 정치에 대한 관점의 설명으로 옳은 것은?

일회용품을 사용하지 말자는 캠페인을 하거나 학급 회의를 통해 급식 잔반 남기지 않기 규칙을 결정하는 것은 정치에 해당한다.

- ① 정치는 국가 특유의 현상이라고 본다.
- ② 정치는 정치인들의 전유물이라고 본다.
- ③ 정치는 정치권력을 획득·행사하는 활동이라고 본다.
- ④ 정치는 일상생활에서 구성원 간의 문제를 해결하는 과정이라고 본다.
- ⑤ 국회에서 사회 복지 관련 법률을 제정하는 것은 정치라고 보지 않는다.

17 정치의 역할에 대한 설명으로 옳지 않은 것은?

- ① 시민들의 의견을 정책에 반영한다.
- ② 구성원의 다양한 요구를 충족시킨다.
- ③ 공익보다 일부 집단의 문제를 해결한다.
- ④ 이해관계를 조정하여 사회 통합에 기여한다.
- ⑤ 대립과 갈등을 해결하여 사회 질서를 유지한다.

18 밑줄 친 ㉠, ㉡에 대한 설명으로 옳은 것은?

민주주의의 의미에는 ㉠ 정치 형태로서의 민주주의와 ㉡ 생활양식으로서의 민주주의가 있다.

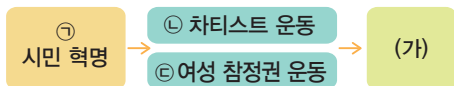
- ① 정치권력이 한 사람에게 집중되는 것은 ㉠에 부합한다.
- ② 만 19세 이상의 모든 시민에게 투표권을 부여하는 것은 ㉠에 해당하지 않는다.
- ③ 상대방과 나의 차이를 인정하는 관용의 자세는 ㉡에 해당한다.
- ④ 동호회 회장이 동호회 일을 일방적으로 결정하는 행동은 ㉡에 부합한다.
- ⑤ 학급 회의에서 다수결로 자리 배치 방식을 결정하는 것은 ㉡에 해당하지 않는다.

19 ㉠에서 이루어진 민주주의에 대한 설명으로 옳은 것은?

(㉠)에서는 국가의 주요 일에 대한 결정이 왕이나 귀족이 아닌 시민들에 의해 이루어졌다. 여자와 노예, 외국인을 제외한 모든 성인 남성은 외국과 전쟁을 하는 일과 같은 국가의 주요 정책을 스스로 결정하였다.

- ① 직접 민주 정치가 실시되었다.
- ② 시민의 자격에 제한이 없었다.
- ③ 보통 선거가 시행되어 확산되었다.
- ④ 소수 권력자에 의한 지배가 이루어졌다.
- ⑤ 시민이 뽑은 대표자에 의한 정치가 이루어졌다.

20 민주주의의 발전 과정을 나타낸 다음 자료에 대한 설명으로 옳은 것은?



- ① ㉠은 보통 선거 제도 정착에 기여하였다.
- ② ㉡은 노동자들이 정치에 참여할 권리를 획득하기 위해 싸운 것이다.
- ③ ㉢으로 대의 민주주의가 확립되었다.
- ④ ㉡, ㉢은 ㉠과 달리 신분제 철폐가 목적이었다.
- ⑤ (가)에는 '직접 민주 정치 등장'이 들어갈 수 있다.

21 ㉠, ㉡에 들어갈 내용이 옳은 것을 <보기>에서 고른 것은?

근대 시민 혁명의 한계와 극복 노력
 • 한계: (㉠)
 • 한계 극복 노력: (㉡)

보기
 가. ㉠-자유와 평등의 이념 확산
 나. ㉠-사회 구성원 중 일부만 참정권 행사
 다. ㉡-노동자를 중심으로 한 차티스트 운동 전개
 르. ㉡-계몽사상을 기반으로 대의 민주주의 정착

- ① 가, 나 ② 가, 다 ③ 나, 다
- ④ 나, 르 ⑤ 다, 르

22 (가), (나)에 해당하는 민주주의의 기본 원리로 옳은 것은?

(가) 국가의 의사를 결정하는 최고의 권력이 국민에게 있다.
 (나) 국가 권력의 상호 견제를 통해 국민의 기본권을 보장한다.

- | (가) | (나) |
|-------------|-----------|
| ① 권력 분립의 원리 | 입헌주의의 원리 |
| ② 권력 분립의 원리 | 국민 주권의 원리 |
| ③ 국민 주권의 원리 | 권력 분립의 원리 |
| ④ 국민 주권의 원리 | 입헌주의의 원리 |
| ⑤ 국민 자치의 원리 | 권력 분립의 원리 |

23 ㉠에 들어갈 내용으로 적절하지 않은 것은?

교사: 4·19 혁명, 5·18 민주화 운동, 6월 민주 항쟁이 우리나라 민주주의의 발전 과정에 미친 영향은 무엇일까요?
 학생: (㉠)

- ① 국민 주권의 원리를 실현하고자 했습니다.
- ② 자유, 평등과 같은 민주주의의 이념을 확대시켰습니다.
- ③ 국가 권력은 헌법에 근거하여 행사되어야 함을 보여 주었습니다.
- ④ 권력 분립의 원리를 철저히 지켜야 함을 보여 주고자 하였습니다.
- ⑤ 소수 엘리트에 의한 정치가 바람직하다는 것을 보여 주었습니다.

24 밑줄 친 ㉠의 내용으로 옳은 것을 <보기>에서 고른 것은?

정보 통신 기술, 인터넷의 발달, 뉴 미디어의 등장으로 대의제 중심의 현대 민주주의가 ㉠ 시민 참여 측면에서 변화된 양상이 나타난다.

보기

- ㄱ. 선거 참여에 대한 신분상 차별을 철폐한다.
- ㄴ. 시민의 의사를 정치과정에 명확히 반영한다.
- ㄷ. 시민 참여에 대한 시공간적 제약을 극복한다.
- ㄹ. 국가 권력에 대한 감시와 견제가 어려워진다.

- ① ㄱ, ㄴ ② ㄱ, ㄷ ③ ㄴ, ㄷ
- ④ ㄴ, ㄹ ⑤ ㄷ, ㄹ

25 다음 제도의 공통적인 목적으로 가장 적절한 것은?

- 청원 제도
- 국민 투표 제도
- 주민 참여 예산 제도

- ① 사회 질서를 확립할 수 있다.
- ② 정책을 신속하게 결정할 수 있다.
- ③ 보통 선거 제도를 확립할 수 있다.
- ④ 다양한 이해관계를 조정할 수 있다.
- ⑤ 국민 자치의 원리를 실현할 수 있다.

26 밑줄 친 공론장 운영의 목적으로 가장 적절한 것은?

- ○○시에서는 쓰레기 소각장 운영 결정을 위한 공청회를 시행하는 등의 공론장을 운영하였다.
- ★★군청에서는 통학하는 아동·청소년의 버스 요금을 무료화하기 위한 공청회를 시행하는 등의 공론장을 운영하였다.

- ① 대의 민주주의를 정착시킨다.
- ② 정치적 무관심을 확대시킨다.
- ③ 시민의 정치 참여를 지양한다.
- ④ 시민들의 자유를 무제한으로 보장한다.
- ⑤ 시민들의 다양한 의견을 정책에 반영한다.

66 개념풀 중학 사회 ①

서술형 문제

27 다음 글을 읽고 물음에 답하시오.

영업 팀장인 갑은 오후에 외국 기업 관계자와 수출 계약에 관한 중요한 회의를 앞두고 있었다. 그런데 어린이집에서 아이가 아프다는 연락을 받아 급히 아이를 병원에 데리고 가야 하는 일이 생겼다. 갑은 이러지도 저러지도 못하는 상황에서 어떻게 해야 할지 고민을 하고 있다.

- (1) 갑이 하는 고민을 가리키는 사회학적 개념을 쓰시오.

- (2) 갑의 고민과 관련된 사회적 지위 두 가지를 서술하시오.

28 밑줄 친 '대의제의 한계'를 극복할 수 있는 방안을 서술하시오.

선거를 통해 국민의 대표자를 선출하는 대의제 하에서는 대표자들이 모여 국가의 중요한 정책을 결정함으로써 효율적인 운영이 가능하다. 그런데 대표자가 국민의 의사를 정확히 반영하지 못하는 경우가 생기고, 국민이 직접 정책을 제시하거나 법률을 만들 수 없으므로 대의제의 한계가 나타난다.

01 A, B에 해당하는 민주 선거의 원칙으로 옳은 것은?

- 일정 나이에 도달한 모든 국민에게 선거권을 부여하는 것은 A를 실현하기 위한 것이다.
- 기표한 투표지를 공개된 장소에서 후보자별로 색깔이 다른 투표함에 넣도록 하는 것은 B에 어긋난다.

- | A | B |
|---------|-------|
| ① 보통 선거 | 평등 선거 |
| ② 보통 선거 | 비밀 선거 |
| ③ 평등 선거 | 보통 선거 |
| ④ 평등 선거 | 비밀 선거 |
| ⑤ 직접 선거 | 보통 선거 |

02 우리나라의 선거 과정에 대한 설명으로 옳지 않은 것은?

- ① 시·군·구의 장은 관할 구역의 주민 등록이 되어 있는 사람을 조사하여 투표할 수 있는 사람들의 명단을 만든다.
- ② 대표가 되기를 원하는 사람은 관할 선거구 선거 관리 위원회에 서면으로 신청한다.
- ③ 후보자는 정해진 기간에 거리 유세, 후보자 토론 등의 방법으로 선거 운동을 한다.
- ④ 유권자는 사전 투표소에서 투표한 후 본 투표소에서 정정 투표를 할 수 있다.
- ⑤ 투표함을 개표소로 옮겨 투표용지를 확인하고, 후보자나 정당별로 득표수를 계산하여 당선인을 결정한다.

03 다음 내용에 해당하는 선거의 기능으로 옳은 것은?

국민은 선출된 국회 의원이 공약을 이행하지 않고, 국정 운영을 잘못한다면 다음 선거에서 그 책임을 물어 다른 대표로 교체할 수 있다.

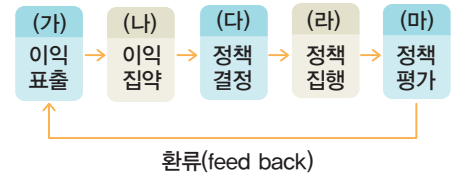
- ① 정치권력을 심판하고 통제한다.
- ② 대표자에게 정당성을 부여한다.
- ③ 사회를 통합하는 기능을 수행한다.
- ④ 사회 구성원 간의 갈등을 해소한다.
- ⑤ 국민에게 정치 교육의 기회를 제공한다.

04 정치 참여 주체에 대한 설명으로 옳지 않은 것은?

- ① 정당은 법률을 바탕으로 구체적인 정책을 만들고 집행한다.
- ② 법원은 재판을 통해 정책 집행 과정에서 발생한 갈등과 문제를 해결한다.
- ③ 언론은 정치과정 전반에 대한 정보를 제공하여 시민들의 정치 참여에 도움을 준다.
- ④ 국회는 국민의 의견을 모아 법률을 만들고 고치거나 폐지함으로써 정책을 결정한다.
- ⑤ 시민단체는 시민의 정치 참여를 유도하고 사회문제를 해결하기 위한 대안을 제시한다.

05 A, B의 사례를 (가)~(마)의 단계와 옳게 연결한 것은?

A: 회사 내에서 직장 상사에 의한 갑질 문제가 심하다는 뉴스가 보도되었다.
 B: 국회는 직장에서의 갑질을 금지하는 법률을 만들어 통과시켰다.



- | A | B | A | B |
|-------|-----|-------|-----|
| ① (가) | (나) | ② (가) | (다) |
| ③ (가) | (마) | ④ (나) | (라) |
| ⑤ (나) | (마) | | |

06 (가), (나)의 사회 집단에 대한 설명으로 옳은 것은?

(가) 대한 의사 협회, 전국 건설 근로자 노동조합
 (나) 환경 보호 시민 연대, 고운말 쓰기 운동 연대

- ① (가)는 정권 획득을 목표로 한다.
- ② (나)는 특수 집단의 이익 실현을 추구한다.
- ③ (가)와 (나) 모두 정치과정에서 대안을 제시한다.
- ④ (가)와 달리 (나)는 정치과정의 투입 단계에서 활동한다.
- ⑤ (나)와 달리 (가)는 시민에 대해 정치적 책임을 지지 않는다.

07 우리나라의 지방 자치 제도에 대한 설명으로 옳은 것을 <보기>에서 고른 것은?

보기

- ㄱ. 강원도는 광역 자치 단체이다.
- ㄴ. 부산광역시 금정구청장은 조례 제정권을 가진다.
- ㄷ. 서울특별시의 의결 기관은 서울특별시 의회이다.
- ㄹ. 전라남도 순천시 의회는 순천시의 규칙 제정권을 가진다.

- ① ㄱ, ㄴ ② ㄱ, ㄷ ③ ㄴ, ㄷ
- ④ ㄴ, ㄹ ⑤ ㄷ, ㄹ

08 ㉠에 해당하는 제도로 옳은 것은?

○○시와 △△군은 행정 구역을 통합하기로 하고 이를 (㉠)을/를 통하여 확정하기로 하였다.

- ① 주민 소환 ② 주민 발의 ③ 주민 자치
- ④ 주민 소송 ⑤ 주민 투표

09 (가), (나) 제도의 공통적인 도입 취지로 가장 적절한 것은?

- (가) 지역에 필요한 조례를 주민이 직접 제안할 수 있는 제도
- (나) 주민이 지역의 예산 편성 과정에 참여하여 예산의 우선순위 등을 결정하는 제도

- ① 지방 의회의 입법 전문성을 높인다.
- ② 중앙 정부와 지방 정부의 갈등을 해소한다.
- ③ 지역 사회의 문제를 주민이 직접 해결한다.
- ④ 지방 자치 단체 간 재정 자립도 격차를 해소한다.
- ⑤ 지방 자치 단체장에 대한 지방 의회의 견제를 활성화한다.

10 사회 규범 (가), (나)에 대한 설명으로 옳은 것은?

- (가) 지하철에서 노인에게 자리를 양보해야 한다.
- (나) 남을 폭행하여 상해를 입힌 자는 징역이나 벌금에 처한다.

- ① (가)는 강제성과 명확성을 특징으로 한다.
- ② (나)는 개인의 양심에 바탕을 두고 있다.
- ③ (가)가 (나)로 제정되는 경우가 종종 있다.
- ④ (가)와 (나)는 모두 국가가 제정한다.
- ⑤ (가)는 (나)와 달리 행위의 결과를 중시한다.

11 다음 법에 대한 설명으로 옳은 것은?

- 제8조 ① 정당의 설립은 자유이며, 복수 정당제는 보장된다.
- 제16조 모든 국민은 주거의 자유를 침해받지 아니한다. 주거에 대한 압수나 수색을 할 때에는 검사의 신청에 의하여 법관이 발부한 영장을 제시하여야 한다.
- 제49조 국회는 헌법 또는 법률에 특별한 규정이 없는 한 재적 의원 과반수의 출석과 출석 의원 과반수의 찬성으로 의결한다. 가부 동수인 때에는 부결된 것으로 본다.

- ① 사법의 일종이다.
- ② 국가의 최고법이다.
- ③ 재판의 절차를 다룬다.
- ④ 범죄의 종류와 형벌을 다룬다.
- ⑤ 사적 권리와 의무에 관해 규정되어 있다.

12 다음 내용을 바탕으로 파악할 수 있는 법의 목적으로 보기 어려운 것은?

제조(목적) 이 법은 학교 폭력의 예방과 대책에 필요한 사항을 규정함으로써 피해 학생의 보호, 가해 학생의 선도·교육 및 피해 학생과 가해 학생 간의 분쟁 조정을 통하여 학생의 인권을 보호하고 학생을 건전한 사회 구성원으로 육성함을 목적으로 한다.

- ① 정의를 실현한다.
- ② 개인의 권리를 보호한다.
- ③ 분쟁을 예방하거나 해결한다.
- ④ 공정한 판단 기준을 제공한다.
- ⑤ 국민의 인간다운 생활을 보장한다.

13 밑줄 친 'A법'에 해당하지 않는 것은?

근대 사회에서는 개인의 자유를 중시하고 국가의 간섭이나 개입을 최소화하였다. 그러나 산업화가 진행되고 개인의 자유로운 경제 활동을 보장하는 과정에서 빈부 격차, 노동 문제, 독점 기업의 횡포, 환경 오염 등 여러 가지 사회문제가 심각해졌다. 이에 국가가 개인의 사적 영역에 적극 개입하여 사회·경제적 약자를 보호해야 한다는 요구가 커지면서 A법이 등장하였다.

- ① 근로 기준법
- ② 국가 공무원법
- ③ 소비자 기본법
- ④ 국민 기초 생활 보장법
- ⑤ 독점 규제 및 공정 거래에 관한 법률

14 민법이 적용되는 사례를 <보기>에서 고른 것은?

보기
 ㄱ. 고의로 산불을 낸 사람이 경찰에 체포되었다.
 ㄴ. 국회가 ○○사건에 대한 국정 조사를 의결하였다.
 ㄷ. 할아버지가 사망하자 아버지는 할아버지의 재산을 상속받았다.
 ㄹ. 식당 종업원이 손님 차를 주차하다가 실수로 상처를 내자 사장이 배상해 주었다.

- ① ㄱ, ㄴ ② ㄱ, ㄷ ③ ㄴ, ㄷ
- ④ ㄴ, ㄹ ⑤ ㄷ, ㄹ

15 다음 사례에 적용할 수 있는 재판은?

을은 갑에게 1,000만 원을 빌리고, 1년 후에 갚기로 하였다. 그러나 약속한 날짜가 지나도 을은 갑에게 돈을 갚지 않았다. 갑은 을을 상대로 소송을 제기하였다.

- ① 민사 재판 ② 형사 재판 ③ 선거 재판
- ④ 가사 재판 ⑤ 헌법 재판

16 그림에 나타난 재판에 대한 설명으로 옳은 것을 <보기>에서 고른 것은?



보기
 ㄱ. 검사의 공소 제기로 시작된다.
 ㄴ. 반드시 변호인이 참여해야 한다.
 ㄷ. 손해 배상액을 산정하기도 한다.
 ㄹ. 법률이 헌법에 위반되는지를 판단한다.

- ① ㄱ, ㄴ ② ㄱ, ㄷ ③ ㄴ, ㄷ
- ④ ㄴ, ㄹ ⑤ ㄷ, ㄹ

17 공정한 재판을 위한 제도적 장치로 옳지 않은 것은?

- ① 재판의 심리와 판결을 공개한다.
- ② 법원이 외부의 간섭을 받지 않도록 한다.
- ③ 한 사건에 대해 여러 번 재판을 받도록 한다.
- ④ 모든 재판에 일반 시민이 배심원으로 참여한다.
- ⑤ 위법한 절차로 수집된 증거는 인정하지 않는다.

18 A의 특징으로 옳지 않은 것은?

인간은 인간이라는 이유만으로 누구나 존중받으며 행복하게 살 권리가 있다. 인간이 인간답게 살아가기 위해 마땅히 누려야 할 기본적인 권리를 A라고 한다.

- ① 태어나면서부터 얻는다.
- ② 사회적 약자에게만 주어진다.
- ③ 다른 사람에게 양도할 수 없다.
- ④ 헌법에 규정되지 않아도 보장된다.
- ⑤ 한시적이 아니라 영구히 보장받는다.

19 ㉠에 대한 설명으로 옳은 것은?

고대의 노예나 중세의 농노는 귀족 등의 지배층과는 달리 인간으로 존중받지 못하고 차별을 당하였다. 근대에 이르러서야 인권의 중요성을 깨닫기 시작한 사람들은 절대 군주의 억압에 맞서 자유와 평등을 보장 받고자 (㉠)을/를 일으켰다.

- ① 모든 사람이 정치에 참여할 수 있게 되었다.
- ② 미국은 의회 정치가 자리 잡게 되는 계기가 되었다.
- ③ 인간 이성에 대한 신뢰를 바탕으로 전개된 사건이었다.
- ④ 인권의 국제적 기준을 제시한 세계 인권 선언이 발표되었다.
- ⑤ 사람들은 의회와 행정부가 융합하는 정치 형태를 요구하였다.

20 다음 대화의 ㉠에 들어갈 말로 가장 적절한 것은?

갑: 정치인들의 집회와 시위 때문에 나라가 너무 혼란스러워. 집회와 시위는 반드시 행정 당국의 허가를 받도록 해야 해.

을: 아니야. 그건 우리나라의 헌법 정신에 위배되는 것이라고 생각해. 아무리 질서 유지가 중요하더라도 (㉠)

- ① 집회와 시위는 제한할 수 없는 절대적인 권리야.
- ② 집회와 시위가 국가 발전에 도움이 되는 경우가 많아.
- ③ 기본권에 대한 제한은 명령에 의해서만 이루어져야 해.
- ④ 정치인들의 행동에 대해서는 예외를 인정해 주어야 해.
- ⑤ 집회와 시위에 대한 허가는 기본권의 본질적인 내용을 침해하는 거야.

21 (가)~(다)에 대한 설명으로 옳은 것을 <보기>에서 고른 것은?

기본권	관련 헌법 규정
(가)	모든 국민은 신체의 자유를 가진다.
(나)	모든 국민은 인간다운 생활을 할 권리를 가진다.
(다)	모든 국민은 법률이 정하는 바에 의하여 공무원 담임권을 가진다.

보기

ㄱ. (가)는 국가 권력의 간섭으로부터 벗어나고자 한다.
 ㄴ. (나)는 현대 복지 국가의 이념에 부합하는 권리이다.
 ㄷ. (다)는 실질적 평등을 실현하기 위한 목적이 강하다.
 ㄹ. (가)와 (나)는 반드시 국가가 성립되어야 인정되는 권리이다.

- ① ㄱ, ㄴ ② ㄱ, ㄷ ③ ㄴ, ㄷ
- ④ ㄴ, ㄹ ⑤ ㄷ, ㄹ

22 ㉠에 해당하는 국가기관은?

A 항공사는 여성 승무원 유니폼으로 반드시 치마만 입도록 했다. 여성 승무원들은 이러한 규정이 성차별이라고 생각하여 (㉠)에 진정을 제기했다. 이에 (㉠)은/는 기내 비상 상황을 대비해야 하는 승무원이 치마만 착용하는 것은 여성에 대한 성차별적인 인식 때문이라고 판단하였다. 이에 따라 A 항공사에 여성 승무원이 바지 유니폼도 선택할 수 있도록 하라고 권고했고, 이후 A 항공사는 바지 유니폼을 새롭게 제작하여 선택할 수 있도록 하였다.

- ① 법원
- ② 헌법재판소
- ③ 한국 소비자원
- ④ 국가 인권 위원회
- ⑤ 국민 권익 위원회

23 연소 근로자의 근로에 대한 설명으로 옳지 않은 것은?

- ① 1일 7시간, 1주 35시간을 초과하여 근무할 수 없다.
- ② 연소 근로자도 성인과 동일하게 최저 임금을 적용 받는다.
- ③ 근로 계약은 연소 근로자를 대리하여 친권자 또는 후견인이 사용자와 체결해야 한다.
- ④ 연소 근로자도 임금을 직접 청구할 수 있으며, 친권자 또는 후견인이 대신 임금을 받아 갈 수 없다.
- ⑤ 사용자는 연소 근로자의 나이를 증명하는 서류와 친권자 또는 후견인 동의서를 갖추어 두어야 한다.

24 다음 사례에 대한 구제 방법으로 옳은 것을 <보기>에서 고른 것은?

갑은 ○○ 회사의 취업 면접을 볼 때 강압적 분위기에 마지못해서 노동조합에 가입하지 않겠다고 약속하였다. 그러나 입사 후 노동조합에 가입하였고, 회사는 약속을 어겼다는 이유로 갑을 해고하였다.

보기

- ㄱ. 헌법재판소에 헌법 소원 심판을 청구할 수 있다.
- ㄴ. 국가 권익 위원회에 고충 민원을 제기할 수 있다.
- ㄷ. 노동 위원회에 부당 노동 행위 구제 신청을 할 수 있다.
- ㄹ. 법원에 부당 해고를 확인하는 소송을 제기할 수 있다.

- ① ㄱ, ㄴ ② ㄱ, ㄷ ③ ㄴ, ㄷ
- ④ ㄴ, ㄹ ⑤ ㄷ, ㄹ

서술형 문제

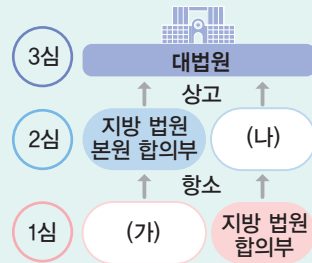
25 다음 글을 읽고 물음에 답하시오.

지역마다 실정이 다르고 해결해야 할 문제도 다르다. 이 때문에 지역에서 일어나는 일을 중앙 정부를 중심으로 처리하면 각 지역의 여건이나 지역 주민의 다양한 요구를 반영하기 어려워서 지역문제를 제대로 해결할 수 없다. 그래서 지역 주민과 그들이 직접 뽑은 지역 대표들로 구성된 지방 정부가 지역의 일을 해결할 수 있도록 하는데, 이를 A라고 한다.

(1) A에 해당하는 용어를 쓰시오.

(2) A의 중요성을 서술하시오.

26 다음은 우리나라의 심급 제도이다. 물음에 답하시오.



(1) (가)와 (나)에 들어갈 내용을 쓰시오.

(가): _____ (나): _____

(2) 심급 제도의 의미와 도입 취지를 서술하시오.

